

J

(2)
PART - I
(1) GENERAL ENGLISH

Directions (1 - 2) : From each of the following groups of words choose the one which can be substituted for the given definition.

1. Medicine that will cure all the diseases
 - (1) placebo
 - ~~(2)~~ antibiotic
 - (3) panacea
 - (4) analgesic

2. A person who is liked by all
 - ~~(1)~~ famous
 - (2) popular
 - (3) genteel
 - (4) genius

Directions (3 - 4) : Choose the word which is closest to the OPPOSITE meaning of the underlined word in each sentence.

3. He was found guilty.
 - ~~(1)~~ innocent
 - (2) useful
 - (3) smug
 - (4) isolated

4. The windshield of my car is quite opaque.
 - (1) translucent
 - (2) transparent
 - (3) restrictive
 - (4) insulated

Directions (5 - 6) : Choose the option which best expresses the meaning of each underlined idiom/phrase.

5. The police left no stone unturned to solve the crime.
 - ~~(1)~~ used all available means
 - (2) searched everywhere
 - ~~(3)~~ interrogated all the suspects
 - (4) turned all the stones

6. Ram is one person who can put two and two together.
 - (1) draw an incorrect inference
 - ~~(2)~~ add the two situations
 - (3) do sums in maths
 - (4) reason logically

Directions (7 - 8) : Choose the word which best expresses the meaning of the underlined word in each of the following sentences.

7. Who is going to foot the bill for the meal ?
 - (1) tear
 - (2) recover
 - ~~(3)~~ pay
 - (4) debit

8. We should eradicate poverty from our country.

- (1) remove
- (2) control
- (3) decrease
- (4) condemn

Directions (9 - 10) : In each of the following groups of words only one word is incorrectly spelt. Identify the correct one.

9. (1) Accent
 (2) Ascent
 (3) Adiction
 (4) Absolve
10. (1) Illegal
 (2) Insolvent
 (3) Immitation
 (4) Immigration

(3)

Directions (11 - 13) : Each of the following sentences has been divided into four parts. There is an error in one of these parts. Identify the part which has the error.

11. If you want / to get a first class /
 (1) (2)
you will have / to work very hard.
 (3) (4)

12. An airline pilot / earns a lot of
 (1) (2)
money in a / foreign country.
 (3) (4)

13. I thought / the children would be /
 (1) (2)
unhappy about / clearing out their toys.
 (3) (4)

Directions (14-15) : Complete each sentence with the appropriate word chosen from the given alternatives.

14. Once he has made up his mind it is _____ to argue with him.
 (1) contradictory *Determination*
 (2) futile *real*
 (3) better
 (4) useful
15. Ram applied for financial aid. He was _____ the same.
 (1) granted
 (2) awarded
 (3) permitted
 (4) got

(2) सामान्य हिन्दी

16. 'बाइज्जत' में प्रयुक्त उपसर्ग को निम्नलिखित विकल्पों में से पहचानिए :

- (1) बाइ
- (2) बा
- (3) जत
- (4) इज

17. 'यद्यपि' शब्द का सन्धि-विच्छेद नीचे दिए गए विकल्पों में से चुनिए :

- (1) यद्य + अपि
- (2) यदि + अपि
- (3) याद + अपि
- (4) यम् + अपि

18. निम्नांकित में से कौन सा शब्द स्त्रीलिंग नहीं है ? सही विकल्प पहचानिए ।

- (1) दही
- (2) पुस्तक
- (3) अँगूठी
- (4) अंगीठी

19. 'विद्यालय' शब्द में निम्नलिखित में से कौन सी संधि है ?

- (1) गुण संधि
- (2) दीर्घ स्वर संधि
- (3) विसर्ग संधि
- (4) व्यंजन संधि

20. निम्नांकित विकल्पों में से कौन-सा 'सूर्य' का पर्याय नहीं है ? सही विकल्प बताइए ।

- (1) दिवाकर
- (2) रश्मिस्थी
- (3) निशाकर
- (4) कमलाकर

21. निम्नलिखित में से किस शब्द में 'नीय' प्रत्यय नहीं है ? सही विकल्प चुनिए ।

- (1) पूजनीय
- (2) पानीय
- (3) आदरणीय
- (4) शोचनीय

22. 'सदैव' शब्द में कौन सी सन्धि है ? सही विकल्प चुनिए ।

- (1) अयादि सन्धि + इत
- (2) गुण
- (3) वृद्धि
- (4) यण

23. 'आकाश और जमीन के मिलने का जहाँ आभास हो' - के लिए निम्नांकित विकल्पों में से सही विकल्प बताइए :

- (1) गोधूली
- (2) धुँधलका
- (3) क्षीरसागर
- (4) क्षितिज

24. 'क्ष' वर्ण किन वर्णों के संयोग से बना है ? निम्नांकित विकल्पों में से सही विकल्प की पहचान कीजिए :

- (1) क् + श
- (2) क् + छ
- (3) छ् + ह
- (4) च् + प

25. 'अब्दुल्ला ने नमाज पढ़ी।' इस वाक्य में कौन सा काल है ? सही विकल्प बताइए।

- (1) वर्तमान काल
- (2) भविष्यत् काल
- (3) भूतकाल
- (4) भूताभूत काल

26. निम्नलिखित शब्दों में से कौन सा शब्द 'घर' का पर्यायवाची है ? सही विकल्प बताइए।

- (1) गृह
- (2) जटिल
- (3) साधु
- (4) वनिता

27. 'सुख' शब्द का विलोम नीचे दिए गए विकल्पों में से बताइए :

- (1) कष्ट
- (2) परेशानी
- (3) दुःख
- (4) आँसू

28. निम्नांकित शब्दों में से कौन सा शब्द बहुवचन है ? सही विकल्प चुनिए।

- (1) वह
- (2) सब
- (3) मैं
- (4) तुम

29. 'ढ' वर्ण किस वर्ग का है ? दिए गए विकल्पों में से सही विकल्प छाँटिए।

- (1) क वर्ग
- (2) च वर्ग
- (3) प वर्ग
- (4) ट वर्ग

30. निम्नांकित शब्दों में से किस शब्द की वर्तनी ठीक है ? सही विकल्प चुनिए।

- (1) पारिचित
- (2) प्रचार
- (3) परचार
- (4) परिचार

PART - II / भाग - II

(I) CURRENT AFFAIRS / सामयिक घटनायें

31. Where was the National Biodiversity Congress (NBC) held in 2017 ?
 (1) Chennai
 (2) Bangalore
 (3) Thiruvananthapuram
 (4) Mumbai
32. Recently a protest took place in Kathiramanthalam in Thanjavur District regarding which of the following issue ?
 (1) Protest of farmers against oil and natural gas exploration activities.
 (2) Protest of farmers against suicides in rural area.
 (3) Protest of women against liquor shops.
 (4) Protect of labourers against child exploitation.
33. Who among the following has authored the book 'In to the water' in 2017 ?
 (1) Neil Gaiman
 (2) Paula Hawkins
 (3) Sarah J. Maas
 (4) Victoria Aveyard
34. Which of the following active volcano in North Eastern Tanzania is showing imminent signs of eruption ?
 (1) The Himalayas
 (2) Mountain of God
 (3) Mount Pinatubo
 (4) Krakatoa
35. Which of the following has become the first country to ban deforestation ?
 (1) United States of America
 (2) India
 (3) Japan
 (4) Norway
31. सन् 2017 की राष्ट्रीय जैव-विविधता कांग्रेस कहाँ पर आयोजित हुई थी ?
 (1) चेन्नई
 (2) बैंगलोर
 (3) तिरुवनंतपुरम
 (4) मुंबई
32. तंजौर जिले में हाल ही में किया गया कादिरमंगलम विरोध का निम्नलिखित में से कौन सा मुद्दा था ?
 (1) किसानों द्वारा तेल और प्राकृतिक गैस अन्वेषण गतिविधियों के खिलाफ विरोध।
 (2) किसानों द्वारा ग्रामीण क्षेत्र में किये जा रहे आत्महत्या के खिलाफ विरोध।
 (3) महिलाओं द्वारा शराब की दुकानों के खिलाफ विरोध।
 (4) मजदूरों द्वारा बाल शोषण के खिलाफ विरोध।
33. निम्नलिखित में से 'इन टू द वाटर' नामक पुस्तक को 2017 में किसने लिखा है ?
 (1) नील गेमैन
 (2) पॉला हॉकिंस
 (3) साराह जे. मास
 (4) विक्टोरिया एवयार्ड
34. उत्तर-पूर्वी तंजानिया में कौन से सक्रिय ज्वालामुखी में विस्फोट के आसन्न लक्षण दिखाई दे रहे हैं ?
 (1) हिमालय
 (2) माऊंटेन ऑफ गॉड
 (3) माऊंट पीनाटूबो
 (4) क्राकाटा
35. वनों की कटाई पर प्रतिबंध लगाने वाला पहला देश निम्नलिखित में से कौन है ?
 (1) अमरीका
 (2) भारत
 (3) जापान
 (4) नॉर्वे

36. Which of the following Indian organization has received the prestigious Library of Congress Literacy Award of 2017 for promoting literacy and reading?

- (1) Pradan
- (2) Vidya
- (3) Teach for India
- (4) Pratham Books

37. Which of the following country hosted the 2017 BRICS National Security Advisors Meeting?

- (1) China
- (2) India
- (3) Russia
- (4) South Africa

38. Which of the following city has been listed as the most liveable city in the world by Global Liveability report of EIU, 2017?

- | | |
|---------------|-------------|
| (1) Delhi | (2) Vietnam |
| (3) Melbourne | (4) Mumbai |

39. Which of the following book has been authored by Angie Thomas in 2017?

- (1) Caraval
- (2) Norse Mythology
- (3) The Girl Before
- (4) The Hate U Give

40. Who among the following has authored the book named 'My Not So Perfect Life'?

- (1) Gail Honeyman
- (2) Maxine Beneba Clarke
- (3) Sophie Kinsella
- (4) Sarah A. Denzil

36. 2017 में निम्नलिखित भारतीय संगठनों में से साक्षरता और पढ़ाई को बढ़ावा देने के लिए लाइब्रेरी ऑफ कांग्रेस साक्षरता पुरस्कार किसे मिला है ?

- (1) प्रदान
- (2) विद्या
- (3) टीच फॉर इंडिया
- (4) प्रथम बुक्स

37. इनमें से किस देश ने 2017 के BRICS राष्ट्रीय सुरक्षा सलाहकार बैठक की मेज़बानी की थी ?

- (1) चीन
- (2) भारत
- (3) रूस
- (4) दक्षिण अफ्रीका

38. EIU (2017) द्वारा दिये गये वैश्विक जीवंतता रिपोर्ट में निम्न में से कौन सा शहर सबसे जीवंत शहर की श्रेणी में सर्वप्रथम रखा गया है ?

- | | |
|--------------|-------------|
| (1) दिल्ली | (2) वियतनाम |
| (3) मेलबोर्न | (4) मुंबई |

39. सन् 2017 में एंजी थोमस ने निम्न में से कौन सी पुस्तक लिखी है ?

- (1) कारावल
- (2) नॉर्स माइथोलोजी
- (3) द गर्ल बिफोर
- (4) द हेट यू गिव

40. निम्न विकल्पों में से 'माई नॉट सो परफेक्ट लाइफ' नामक पुस्तक को किसने लिखा है ?

- (1) गेल हनीमैन
- (2) मैक्सीन बेनेबा क्लार्क
- (3) सोफी किनसेला
- (4) साराह ए. डेनज़िल

- J .
41. Which of the following country has launched the world's longest pedestrian suspension bridge in 2017 ?
 (1) Japan (2) India
 (3) America (4) Switzerland
42. Which of the following organization has recently developed low cost, sensitive carbon monoxide sensor ?
 (1) World Agroforestry Center
 (2) Indian Institute of Science
 (3) International Center for Research in Agroforestry
 (4) National Environmental Center
43. Which of the following app has recently been launched by army for the soldiers to track details like posting and promotions ?
 (1) Soldier App
 (2) Track App
 (3) Humraaz App
 (4) Humtum App
44. In August 2017, the Union Cabinet approved MoU between India and Sweden regarding which of the following issue ?
 (1) Intellectual Property Rights
 (2) Travel and Tourism
 (3) Medical Services
 (4) Foreign Trade
45. The United Nations Ocean Conference was held in June 2017 in which of the following city ?
 (1) London (2) New York
 (3) Sydney (4) Hamburg
41. निम्नलिखित में से किस देश ने 2017 में विश्व के सबसे लंबे पैदल यात्री पुल को आरंभ किया ?
 (1) जापान (2) भारत
 (3) अमरीका (4) स्विट्जरलैंड
42. निम्नलिखित में से किस संगठन ने हाल ही में कम लागत वाली संवेदनशील कार्बन मोनो ऑक्साइड सेंसर का विकास किया है ?
 (1) विश्व एग्रोफोरेस्ट्री सेंटर
 (2) भारतीय विज्ञान संस्थान
 (3) इंटरनेशनल सेंटर फॉर रिसर्च इन एग्रोफोरेस्ट्री
 (4) राष्ट्रीय पर्यावरण केंद्र
43. हाल ही में भारतीय सेना ने निम्नलिखित में से कौन सा एप शुरू किया है, जिसके द्वारा भारतीय सैनिक अपने वेतन तथा पदोन्नति से संबंधित जानकारी पा सकते हैं ?
 (1) सैनिक एप
 (2) ट्रेक एप
 (3) हमराज एप
 (4) हमतुम एप
44. अगस्त, 2017 में निम्नलिखित में से किस मुद्दे के लिए केंद्रीय कैबिनेट ने भारत और स्वीडन के बीच एम.ओ.यू. की स्वीकृति दी ?
 (1) बौद्धिक संपदा अधिकार
 (2) यात्रा एवं पर्यटन
 (3) चिकित्सा सेवा
 (4) विदेशी व्यापार
45. जून 2017 में संयुक्त राष्ट्र ओशन कॉन्फरेंस निम्नलिखित में से किस शहर में हुई थी ?
 (1) लंदन (2) न्यूयॉर्क
 (3) सिडनी (4) हैमबर्ग

46. Who among the following was conferred the Kirti Chakra Award posthumously on 15th August 2017?

- (1) Major Rishi Kumar Ray
- (2) Major David Manlun
- (3) Major Shabir Ahmed
- (4) Major Deepak Ale

47. Which of the following CBI Officer was conferred the Presidents' police medal on 15 August 2017?

- (1) Veer Savarkar
- (2) Anand Mohan
- (3) S.K. Giri
- (4) Nand Kumar Nair

48. Which of the following won the Best Short Film in Fiction Award in the 62nd Filmfare Awards held in January 2017?

- (1) Matitali Kusti
- (2) Chutney
- (3) Taandav
- (4) The Virgins

49. Which of the following satellite has been recently launched by an amateur group of Russians and has potentials of becoming the brightest shooting star in the sky?

- (1) Gayak
- (2) Mayak
- (3) Nayak
- (4) Triyak

50. Which of the following is the recently discovered smallest star?

- (1) Kepler 48 B
- (2) KOI 78545
- (3) EBLM JO 555-57 Ab
- (4) KOI 8698

46. 15 अगस्त, 2017 के दिन निम्नलिखित में से किन्हें मरणोपरांत कीर्ति चक्र पुरस्कार द्वारा सम्मानित किया गया ?

- (1) मेजर ऋषि कुमार राय
- (2) मेजर डेविड मानलुन
- (3) मेजर शाबिर अहमद
- (4) मेजर दीपक आले

47. 15 अगस्त, 2017 को निम्नलिखित में से किस सी बी आई अफसर को राष्ट्रपति के पुलिस पदक के द्वारा सम्मानित किया गया था ?

- (1) वीर सावरकर
- (2) आनंद मोहन
- (3) एस.के. गिरी
- (4) नंद कुमार नायर

48. जनवरी 2017 के 62वें फिल्म फेयर पुरस्कार समारोह में निम्नलिखित में से किसको सर्वश्रेष्ठ लघु फिल्म (काल्पनिक में) का पुरस्कार मिला है ?

- (1) मैतीतली कुस्ती
- (2) चटनी
- (3) तांडव
- (4) द बरजिन्स

49. हाल ही में निम्नलिखित में से किस उपग्रह का प्रक्षेपण रूस के एक शौकिया समूह ने किया जिसकी क्षमता आसमान के सबसे चमकदार उल्का की है ?

- (1) गायक
- (2) मयक
- (3) नायक
- (4) त्रियक

50. हाल ही में खोजा गया सबसे छोटा तारा निम्नलिखित में से कौन है ?

- (1) Kepler 48B
- (2) KOI 78545
- (3) EBLM JO 555-57 Ab
- (4) KOI 8698

J

51. Who among the following was conferred the Padma Vibhushan Award in 2017?

- (1) Basanti Bisht (Public Affairs)
- (2) Nitish Kumar (Public Affairs)
- (3) Sharad Pawar (Public Affairs)
- (4) Sushma Swaraj (Public Affairs)

52. Which of the following option is the correct match of Padma Awardees (2017)?

- | | |
|------------------------|---------------------|
| a. Murlī Monohar Joshi | i. Art-Music |
| b. Vishwa Mohan Bhatt | ii. Civil Service |
| c. Arun Mohanty | iii. Public Affairs |
| d. T.K. Vishwanathan | iv. Art-Dance |

- | | | | | |
|-----|-----|-----|-----|----|
| | a | b | c | d |
| (1) | i | ii | iii | iv |
| (2) | iv | iii | ii | i |
| (3) | iii | ii | i | iv |
| (4) | iii | i | iv | ii |

53. Which of the following film won the award for the 'Best picture' in Oscars 2017?

- (1) Manchester by the Sea
- (2) La La Land
- (3) Moonlight
- (4) Fences

54. Which of the following animated feature film received Oscar Award in 2017?

- (1) Zootopia
- (2) Baba Yaga
- (3) Beast of Burden
- (4) Birds Like Us

51. निम्नलिखित में से पद्म विभूषण (2017) पुरस्कार से किसे सम्मानित किया गया है ?

- (1) बसन्ती बिष्ट (जन संबंधित मामलों में)
- (2) नीतिश कुमार (जन संबंधित मामलों में)
- (3) शरद पवार (जन संबंधित मामलों में)
- (4) सुषमा स्वराज (जन संबंधित मामलों में)

52. 2017 के पद्म पुरस्कार से संबंधित सही मेल-मिलान कौन सा है ?

- | | |
|---------------------|-----------------|
| a. मुरली मनोहर जोशी | i. कला-संगीत |
| b. विश्व मोहन भट्ट | ii. सिविल सेवा |
| c. अरुण मोहंती | iii. जन संबंधित |
| d. टी.के. विश्वनाथन | iv. कला-नृत्य |

- | | | | | |
|-----|-----|-----|-----|----|
| | a | b | c | d |
| (1) | i | ii | iii | iv |
| (2) | iv | iii | ii | i |
| (3) | iii | ii | i | iv |
| (4) | iii | i | iv | ii |

53. ऑस्कर 2017 के समारोह में निम्नलिखित में से किस फिल्म को 'सर्वश्रेष्ठ चित्र' पुरस्कार मिला है ?

- (1) मैंचेस्टर बाय द सी
- (2) ला ला लैंड
- (3) मूनलाईट
- (4) फेंसेस

54. 2017 के ऑस्कर पुरस्कार समारोह में निम्नलिखित में से किस फिल्म ने सर्वश्रेष्ठ एनिमेटेड फीचर फिल्म का पुरस्कार जीता ?

- (1) जूटोपिया
- (2) बाबा यागा
- (3) बीस्ट ऑफ बर्डन
- (4) बर्ड्स लाइक अस

55. Which of the following is the new pension scheme for senior citizens being implemented by LIC, India ?

- (1) Pradhan Mantri Vyaya Vandana
- (2) Senior Citizens Yojana
- (3) Silver Scheme
- (4) Life Insurance Citizens Policy

56. Which of the following statement regarding Rashtriya Vayoshri Yojna launched in 2017 is not correct ?

- (1) It is a scheme launched by the Ministry of Social Justice.
- (2) It is a scheme for providing physical aids and assisted-living devices.
- (3) It is a scheme for senior citizens belonging to BPL category.
- (4) It is a pension scheme.

57. Which of the following option is not part of the newly developed Pradhan Mantri Schemes ?

- (1) AMRUT
- (2) BAL SWACHHTA MISSION
- (3) SILVER BOND SCHEME
- (4) eNAM

58. Which of the following option best describes the Pradhan Mantri Gram Parivahan Yojana ?

- (1) Commercial vehicle loan for senior citizens.
- (2) Interest free commercial vehicle loan for women.
- (3) Personal vehicle loan for rural inhabitants.
- (4) All purpose vehicle loan.

55. निम्न चयनों में से एल आई सी, भारत द्वारा वरिष्ठ नागरिकों के लिये नई पेंशन योजना कौन सी है ?

- (1) प्रधानमंत्री व्यय वंदना
- (2) वरिष्ठ नागरिक योजना
- (3) सिल्वर स्कीम

~~(4)~~ जीवन बीमा नागरिक नीति

56. 2017 में शुरू की गई राष्ट्रीय वयोश्री योजना के बारे में इनमें से कौन सा कथन सही नहीं है ?

- (1) यह योजना सामाजिक न्याय मंत्रालय द्वारा जारी की गई है।
- (2) यह भौतिक एड्स और सहायक जीवित उपकरणों को उपलब्ध कराने की एक योजना है।
- (3) यह योजना बी.पी.एल. श्रेणी के वरिष्ठ नागरिकों के लिए है।
- (4) यह एक पेंशन स्कीम है।

57. निम्न में से कौन सा विकल्प नवविकसित प्रधानमंत्री योजना का हिस्सा नहीं है ?

- (1) अमृत
- (2) बाल स्वच्छता मिशन
- (3) सिल्वर बॉड स्कीम
- ~~(4)~~ ई नाम

58. निम्न में से कौन सा विकल्प प्रधानमंत्री ग्राम परिवहन योजना का सर्वश्रेष्ठ वर्णन करता है ?

- (1) वरिष्ठ नागरिकों के लिये वाणिज्यिक वाहन ऋण।
- (2) महिलाओं के लिये ब्याज मुक्त वाणिज्यिक वाहन ऋण।
- ~~(3)~~ ग्रामीणों के लिये निजी वाहन ऋण।
- (4) सर्व उद्देश्य वाहन ऋण।

J

59. Which of the following contestant won the St. Louis Rapid and Blitz (Rapid) chess tournament held in 2017 ?
- (1) Vishwanathan Anand
(2) Sergey Karjakin
(3) Levon Aronian
(4) Fabiano Caruana
60. In which of the following country will the ICC under 19 World Cup Tournament take place in January 2018 ?
- (1) India (2) Australia
(3) New Zealand (4) Africa
61. When is Kargil Vijay Diwas celebrated every year ?
- (1) June 26 (2) July 26
(3) August 26 (4) May 26
62. In which year is India going to host the men's world boxing championship for the first time ?
- (1) 2018 (2) 2019
(3) 2020 (4) 2021
63. The 2017 Santosh Trophy was won by which of the following states ?
- (1) Bengal (2) Goa
(3) Kerala (4) Assam
64. Who among the following won the Australian Open Tennis Men's Doubles in 2017 ?
- (1) Jamie Murray and Bruno Soares
(2) Bob Bryan and Mike Bryan
(3) John Peers and Mike Bryan
(4) John Peers and Henri Kontinen

59. निम्नलिखित प्रतियोगियों में से 2017 में आयोजित संत लुइस रैपिड एण्ड ब्लिस (रैपिड) चैस टूर्नामेंट को किसने जीता है ?
- ~~(1)~~ विश्वनाथन आनंद
(2) सर्गे करजाकिन
~~(3)~~ लेवोन आरोनिएन
~~(4)~~ फेबिआनो क्यूरुआना
60. निम्न में से किस देश में आई सी सी अंडर 19 वर्ल्ड कप का आयोजन जनवरी 2018 में किया जा रहा है ?
- ~~(1)~~ भारत (2) ऑस्ट्रेलिया
(3) न्यूजीलैंड (4) अफ्रीका
61. प्रत्येक वर्ष कारगिल विजय दिवस कब मनाया जाता है ?
- ~~(1)~~ जून 26 (2) जुलाई 26
(3) अगस्त 26 (4) मई 26
62. भारत में पहली बार पुरुषों की विश्व मुक्केबाजी चैम्पियनशिप किस वर्ष में आयोजित की जाएगी ?
- (1) 2018 ~~(2)~~ 2019
(3) 2020 (4) 2021
63. निम्नलिखित में से किस राज्य ने 2017 की संतोष ट्रॉफी जीती है ?
- ~~(1)~~ बंगाल (2) गोआ
(3) केरल (4) असम
64. निम्नलिखित में से किसने 2017 का ऑस्ट्रेलियाई ओपन टेनिस के पुरुषों का डबल्स का खिताब जीता है ?
- (1) जैमी मुर्रे और ब्रूनो सोएर्स
(2) बॉब ब्रायन और माइक ब्रायन
~~(3)~~ जॉन पीयर्स और माइक ब्रायन
(4) जॉन पीयर्स और हेनरी कोंटीनेन

65. Who among the following is recipient of 2017 Rajiv Gandhi Khel Ratna Award in Hockey ?

- (1) Heera Nand
- (2) R. Gandhi
- (3) Sardar Singh
- (4) Bhushan Mohanty

66. Which of the following is the correct matching ?

- | | |
|------------------|--------------|
| a. V.J. Surekha | i. Athletics |
| b. Khushbir Kaur | ii. Hockey |
| c. Pujara | iii. Archery |
| d. S.V. Sunil | iv. Cricket |

- | | | | | |
|-----|-----|-----|-----|----|
| | a | b | c | d |
| (1) | ii | iii | i | iv |
| (2) | iii | i | iv | ii |
| (3) | i | ii | iii | iv |
| (4) | iv | iii | ii | i |

67. Who has received the 2017 Dhyan Chand Award in athletics ?

- (1) P.N. Prakash
- (2) Saketh Myneni
- (3) Bhupender Singh
- (4) Jasvir Singh

68. Who among the following has been recently appointed as Goodwill Ambassador for physical activity by World Health Organization in 2017 ?

- (1) Milkha Singh
- (2) Krishna Poonia
- (3) Otis Davis
- (4) Carl Kaufmann

69. When was the World Humanitarian Day ?

- (1) August 15
- (2) August 19
- (3) September 19
- (4) September 15

70. On which of the following day will the International Youth Day be celebrated in 2018 ?

- (1) August 2
- (2) August 14
- (3) August 12
- (4) August 22

65. निम्नलिखित विकल्पों में से हॉकी के क्षेत्र में राजीव गाँधी खेल रत्न पुरस्कार (2017) किसने प्राप्त किया है ?

- (1) हीरा नंद
- (2) आर. गाँधी
- (3) सरदार सिंह
- (4) भूषण मोहंती

66. निम्नलिखित में से सही मेल मिलान कौन सा है ?

- | | |
|------------------|---------------|
| a. वी.जे. सुरेखा | i. एथलीट |
| b. खुशबीर कौर | ii. हॉकी |
| c. पुजारा | iii. तीरंदाजी |
| d. एस. वी. सुनील | iv. क्रिकेट |

- | | | | | |
|-----|-----|-----|-----|----|
| | a | b | c | d |
| (1) | ii | iii | i | iv |
| (2) | iii | i | iv | ii |
| (3) | i | ii | iii | iv |
| (4) | iv | iii | ii | i |

67. एथलेटिक्स में ध्यान चंद पुरस्कार (2017) किसने प्राप्त किया है ?

- (1) पी.एन. प्रकाश
- (2) साकेत माइनेनी
- (3) भूपेंदर सिंह
- (4) जसवीर सिंह

68. सन् 2017 में विश्व स्वास्थ्य संगठन ने शारीरिक गतिविधि के लिये सद्भावना राजदूत के रूप में किसे चुना है ?

- (1) मिल्खा सिंह
- (2) कृष्णा पूनिया
- (3) ओटिस डेविस
- (4) कार्ल कॉफमैन

69. विश्व मानवता दिवस कब मनाया मनाया गया ?

- (1) अगस्त 15
- (2) अगस्त 19
- (3) सितंबर 19
- (4) सितंबर 15

70. निम्नलिखित में से किस दिन 2018 का विश्व युवा दिवस मनाया जाएगा ?

- (1) अगस्त 2
- (2) अगस्त 14
- (3) अगस्त 12
- (4) अगस्त 22

(2) REASONING ABILITY / तर्क संगत क्षमता

71. A and B are cousins. C is B's sister and D is A's father. How is C related to D?

- (1) Niece (2) Daughter
(3) Sister (4) Mother

72. Which of the following does not belong to others in the group?

XZ, MN, PQ, BC, ST

- (1) BC (2) MN
(3) ST (4) XZ

73. 15% of $15 + 16\%$ of $16 - 17\%$ of $17 = ?$

- (1) 1.92 (2) 2.25
(3) 2.56 (4) 2.89

74. Six friends A, B, C, D, E and F are sitting around a round table in such a way that A is between E and F, E is opposite to D, and C is not on either side of E. The person opposite to D is

- (1) A (2) B
(3) C (4) E

75. All odd numbers from 1 - 50 which are divisible by 3, are arranged in an ascending order. The number at the median point is

- (1) 27 (2) 24
(3) 33 (4) 32

71. A और B चचेरे भाई हैं। C, B की बहन है और D, A के पिता हैं। C का D से क्या संबंध है ?

- (1) भतीजी (2) पुत्री
(3) बहन (4) माता

72. निम्नलिखित में से कौन समूह में अन्य से भिन्न है ?
XZ, MN, PQ, BC, ST

- (1) BC (2) MN
(3) ST (4) XZ



15 का 15 प्रतिशत + 16 का 16 प्रतिशत - 17 का 17 प्रतिशत = ?

- (1) 1.92 (2) 2.25
(3) 2.56 (4) 2.89

74. छः दोस्त A, B, C, D, E और F एक गोल मेज के इर्द-गिर्द इस प्रकार बैठे हैं कि A, E तथा F के बीच में है, E, D के सामने है तथा C, E के किसी भी तरफ नहीं है। D के सामने कौन है ?

- (1) A (2) B
(3) C (4) E

75. 1-50 तक की सभी विषम संख्याओं, जो 3 से विभाजित होती हैं, को आरोही क्रम में व्यवस्थित किया गया है। मध्य में कौन सी संख्या होगी ?

- (1) 27 (2) 24
(3) 33 (4) 32

SPACE FOR ROUGH WORK / रफ कार्य के लिए जगह

Handwritten rough work including:

- Relationship diagram: A - B → भाई (चचेरे), D (पिता), C → बहन
- Arithmetic calculations: $15 \times 15 / 100 = 2.25$, $16 \times 16 / 100 = 2.56$, $17 \times 17 / 100 = 2.89$, $2.25 + 2.56 - 2.89 = 2.56$
- Diagram of a round table with 6 seats labeled A, B, C, D, E, F.

PRNE-II

76. One term in the number series is wrong. Find out the wrong term :

- 1, 5, 5, 9, 7, 11, 11, 15, 12, 17
 (1) 11 (2) 12
 (3) 17 (4) 15

77. Find the next three terms of the series :

- 1, 2, 3, 5, 8, 13, 21, ?, ?, ?
 (1) 30, 51, 81 (2) 31, 50, 81
 (3) 33, 56, 89 (4) 34, 55, 89

78. In the series 3, 9, 15, what will be the 21st term ?

- (1) 117 (2) 121
 (3) 123 (4) 129

79. Write the missing term of the series :

- BAC, CBD, DCE, ?, FEG
 (1) DFE (2) FED
 (3) EDF (4) DCF

80. A car runs from city P to city Q at an average speed of 50 km/hr and reaches Q in 44 minutes. If speed is increased by 5 km/hr, how much time would be saved ?

- (1) 10 minutes (2) 8 minutes
 (3) 6 minutes (4) 4 minutes

81. Find the two missing terms in the series :

- 8, 4, 12, 6, ?, 9, ?
 and select the answer from the following :
 (1) (12, 18) (2) (18, 27)
 (3) (12, 27) (4) (15, 36)

(15)

76. संख्या श्रृंखला में एक पद गलत है। गलत खोजिए :

- 1, 5, 5, 9, 7, 11, 11, 15, 12, 17
 (1) 11 (2) 12
 (3) 17 (4) 15

77. श्रृंखला में अगले तीन पद ज्ञात कीजिए :

- 1, 2, 3, 5, 8, 13, 21, ?, ?, ?
 (1) 30, 51, 81 (2) 31, 50, 81
 (3) 33, 56, 89 (4) 34, 55, 89

78. 3, 9, 15, की श्रृंखला में 21वाँ पद क्या होगा ?

- (1) 117 (2) 121
 (3) 123 (4) 129

79. श्रृंखला में लुप्त पद लिखिए :

- BAC, CBD, DCE, ?, FEG
 (1) DFE (2) FED
 (3) EDF (4) DCF

80. एक कार P शहर से Q शहर तक 50 कि.मी./घंटे की औसत गति से दौड़ती है और 44 मिनट में Q शहर पहुँचती है। यदि गति को 5 कि.मी./घंटा बढ़ा दिया जाए, तो कितना समय बचेगा ?

- (1) 10 मिनट (2) 8 मिनट
 (3) 6 मिनट (4) 4 मिनट

81. श्रृंखला में दो लुप्त पद ज्ञात कीजिए :

8, 4, 12, 6, ?, 9, ?
 और निम्नलिखित में से उत्तर का चयन कीजिए :

- (1) (12, 18) (2) (18, 27)
 (3) (12, 27) (4) (15, 36)

SPACE FOR ROUGH WORK / रफ कार्य के लिए जगह

$\frac{22 \times 5}{3} =$

$r = 3 \quad d = 6$

$3 + 20 \times 6$
 123
 $\times = 50 \times \frac{11}{15}$

$60 = \frac{50 \times 44}{22}$
 $1 = \frac{50}{3}$

82. Which number is different from others in the group in some way?
27, 64, 100, 125, 216, 343
(1) 27 (2) 100
(3) 125 (4) 343

83. Pipe A can fill a tank in 20 minutes and pipe B can fill it in 16 minutes. If both are opened together, the time taken to fill the tank would be approximately
(1) 4 minutes (2) 9 minutes
(3) 12 minutes (4) 13 minutes

84. Ramesh can do a work in 10 days. His sister can do the same work in 12 days. They worked together for 5 days. How much work was left unfinished?
(1) $\frac{7}{12}$ th part (2) $\frac{5}{12}$ th part
(3) $\frac{3}{12}$ th part (4) $\frac{1}{12}$ th part

85. Find the missing letter in the adjoining pattern :

N	O	?
P	Q	R
R	S	T

- (1) M (2) L
(3) P (4) R

86. Which number does not belong to the class of others?
11, 21, 51, 81, 91, 111
(1) 11 (2) 81
(3) 91 (4) 111

82. कौन सा अंक समूह के अन्य अंकों से किसी रूप में भिन्न है ? 5 6 7
27, 64, 100, 125, 216, 343
(1) 27 (2) 100
(3) 125 (4) 343

83. पाइप A एक टैंक को 20 मिनट में भरता है और पाइप B उसे 16 मिनट में भरता है। यदि दोनों पाइपों को एक साथ खोल दिया जाए, तो टैंक भरने में लगने वाला अनुमानित समय होगा
(1) 4 मिनट (2) 9 मिनट
(3) 12 मिनट (4) 13 मिनट

84. रमेश एक काम को 10 दिनों में करता है। उसकी बहन इसी काम को 12 दिनों में करती है। उन दोनों ने मिलकर 5 दिन काम किया। कितना काम अधूरा रहा ?

- (1) $\frac{7}{12}$ भाग (2) $\frac{5}{12}$ भाग
(3) $\frac{3}{12}$ भाग (4) $\frac{1}{12}$ भाग

85. निम्नलिखित पैटर्न में लुप्त वर्ण ज्ञात कीजिए :

N	O	?
P	Q	R
R	S	T

- (1) M (2) L
(3) P (4) R

86. निम्नलिखित में से कौन सा अंक अन्य से भिन्न है ?
11, 21, 51, 81, 91, 111
(1) 11 (2) 81
(3) 91 (4) 111

SPACE FOR ROUGH WORK / रफ कार्य के लिए जगह

Handwritten calculations:
 $\frac{1}{20} + \frac{1}{16} = \frac{4+5}{80} = \frac{9}{80}$
 $\frac{16 + 20}{320} = \frac{36}{320} = \frac{9}{80}$
 $\frac{10}{3} = 3.33$
 $4 \times 5 = 20 \rightarrow 9$
 $1.6 + 5 = 6.6$

PRNE-II

87. The cost of a pen is five times the cost of a pencil. I bought 8 pens and 4 pencils for ₹ 132. Find the cost of 5 pens and 5 pencils.

- (1) ₹ 120 (2) ₹ 105
(3) ₹ 100 (4) ₹ 90

88. If 5th of a month falls 2 days after Monday. What day will precede 23rd of the month ?

- (1) Sunday (2) Saturday
(3) Friday (4) Monday

89. If $3 \times 4 = 916$ and $4 \times 5 = 1625$, find the value of 6×5 .

- (1) 2536 (2) 2036
(3) 3625 (4) 3265

90. In an examination 20% students failed in Mathematics and 15% failed in English. If 10% failed in both and those who passed in both, numbered 300, then total number of students who appeared in the examination was

- (1) 350 (2) 400
(3) 450 (4) 500

91. A fruit seller sold 72% of the apples that he had. He found that he still had 70 apples in his shop. The total number of apples that he initially had was

- (1) 140 (2) 250
(3) 280 (4) 320

(17)

87. एक पेन की कीमत पेंसिल की कीमत की 5 गुना है। मैंने 8 पेन और 4 पेंसिल ₹ 132 में खरीदे। 5 पेन और 5 पेंसिलों की कीमत बताइए।

- (1) ₹ 120 (2) ₹ 105
(3) ₹ 100 (4) ₹ 90

88. यदि माह का पाँचवाँ दिन सोमवार के दो दिन बाद आता है तो महीने के 23^{वें} दिन से पहले कौन सा दिन आएगा ?

- (1) रविवार (2) शनिवार
(3) शुक्रवार (4) सोमवार

89. यदि $3 \times 4 = 916$ और $4 \times 5 = 1625$ तो 6×5 का मान होगा

- (1) 2536 (2) 2036
(3) 3625 (4) 3265

90. किसी परीक्षा में 20 प्रतिशत छात्र गणित में फेल हुए और 15 प्रतिशत छात्र अंग्रेजी में फेल हुए। यदि 10 प्रतिशत छात्र दोनों विषयों में फेल हुए और दोनों विषयों में 300 छात्र पास हुए तो कुल कितने छात्र परीक्षा में बैठे ?

- (1) 350 (2) 400
(3) 450 (4) 500

91. एक फल विक्रेता ने अपने पास उपलब्ध सेब में से 72 प्रतिशत सेब बेचे। उसने पाया कि उसकी दुकान में अभी भी 70 सेब बचे हैं। उसके पास आरंभ में कितने सेब थे ?

- (1) 140 (2) 250
(3) 280 (4) 320

SPACE FOR ROUGH WORK / रफ कार्य के लिए जगह

Pencil ₹ 3
Pen ₹ 15
 $40 \times 3 + 4 \times 15 = 120 + 60 = 180$

320
340
660
40

- J
92. Find the missing number in the adjoining pattern ?

6	20	7
16	13	4
11	?	22

- (1) 0 (2) 2
(3) 3 (4) 5

93. Which is the next letter in the series ?

A C F J O ?

- (1) S (2) U
(3) W (4) Z

94. Find the missing term in the series :

3 5 9 17 ? 65 129

- (1) 30 (2) 31
(3) 32 (4) 33

95. Which of the following terms is the next term in the series given below :

ABZ CDX EFV GHT ?

- (1) IKR (2) IKP
(3) IJR (4) JGR

96. Which of the following fills up the missing term in the series ?

1, 2, 4, 7, 11, ?, 22

- (1) 13 (2) 15
(3) 16 (4) 18

(18)

92. निम्नलिखित पैटर्न में रिक्त स्थान पर कौन सी संख्या आएगी ?

6	20	7
16	13	4
11	?	22

- (1) 0 (2) 2
(3) 3 (4) 5

93. श्रृंखला में अगला वर्ण कौन सा होगा ?

A C F J O ?

- (1) S (2) U
(3) W (4) Z

94. श्रृंखला में रिक्त स्थान पर कौन सी संख्या आएगी ?

3 5 9 17 ? 65 129

- (1) 30 (2) 31
(3) 32 (4) 33

95. नीचे दी गई श्रृंखला में अगला पद निम्न में से कौन सा होगा ?

ABZ CDX EFV GHT ?

- (1) IKR (2) IKP
(3) IJR (4) JGR

96. श्रृंखला में रिक्त स्थान पर कौन सी संख्या आएगी ?

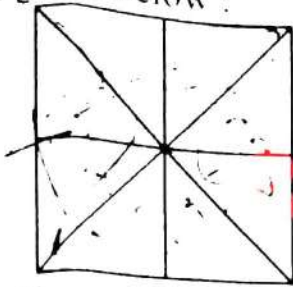
1, 2, 4, 7, 11, ?, 22

- (1) 13 (2) 15
(3) 16 (4) 18

SPACE FOR ROUGH WORK / रफ कार्य के लिए जगह

PRNE-II

97. Find the number of triangles in the figure given below :



- (1) 18 (2) 16
(3) 12 (4) 8

98. If ACEG : BDF then LNPR : ?

- (1) PRT (2) MPR
(3) LMP (4) MOQ

99. Find the missing letter in the given pattern :

A	D	G
?	F	I
E	H	K

- (1) A (2) B
(3) C (4) D

100. Find the missing term in the pattern given below :

4	36	9
24	?	2
6	3	18

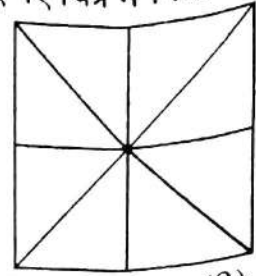
- (1) 10 (2) 12
(3) 13 (4) 17

101. If SEAT is coded as 4321 and STORM is coded as 41675, then MASTER would be coded as :

- (1) 534137 (2) 54327
(3) 57654 (4) 524137

(19)

97. नीचे दिए गए चित्र में कितने त्रिभुज हैं :

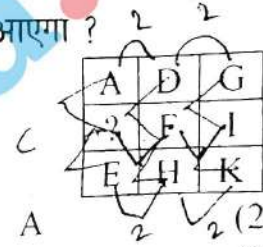


- (1) 18 (2) 16
(3) 12 (4) 8

98. यदि ACEG : BDF तो LNPR : ?

- (1) PRT (2) MPR
(3) LMP (4) MOQ

99. नीचे दिए गए पैटर्न में रिक्त स्थान पर कौन सा वर्ण आएगा ?



- (1) A (2) B
(3) C (4) D

100. नीचे दिए गए पैटर्न में रिक्त स्थान पर कौन सी संख्या आएगी ?

4	36	9
24	?	2
6	3	18

- (1) 10 (2) 12
(3) 13 (4) 17

101. यदि SEAT का कोड 4321 है और STORM का कोड 41675 है, तो MASTER का कोड क्या होगा ?

- (1) 534137 (2) 54327
(3) 57654 (4) 524137

SPACE FOR ROUGH WORK / रफ कार्य के लिए जगह

102. Which of the following numbers does not belong to the class of others ?

3, 5, 11, 14, 17, 21

- (1) 11 (2) 17
(3) 14 (4) 21

103. DARK : LIGHT as COLD : ?

- (1) HOT (2) BULB
(3) FIRE (4) ICE

104. FIRE is coded as 3542 and SOAP is coded as 1768, then PREPARE would be coded as

- (1) 8446827 (2) 8428642
(3) 8464872 (4) 8648724

105. The mean age of 10 children is 13 years. One new child joins the group and mean age is increased by one year. The age of new child is

- (1) 14 years (2) 20 years
(3) 24 years (4) 27 years

106. In an examination, the rank of child is 15th from the top and 16th from the bottom. The number of children tested is

- (1) 28 (2) 29
(3) 30 (4) 31

102. निम्नलिखित में से कौन सी संख्या अन्य की श्रेणी से भिन्न है?

3, 5, 11, 14, 17, 21

- (1) 11 (2) 17
(3) 14 (4) 21

103. यदि अंधकार : प्रकाश तो ठंडा : ?

- (1) गर्म (2) बल्ब
(3) आग (4) बर्फ

104. यदि FIRE का कोड 3542 और SOAP का कोड 1768 है, तो PREPARE का कोड होगा

- (1) 8446827 (2) 8428642
(3) 8464872 (4) 8648724

105. 10 बालकों की औसत आयु 13 वर्ष है। समूह में एक नए बालक के शामिल हो जाने पर औसत आयु एक वर्ष बढ़ जाती है। नए बालक की आयु है

- (1) 14 वर्ष (2) 20 वर्ष
(3) 24 वर्ष (4) 27 वर्ष

106. किसी परीक्षा में एक बालक का रैंक ऊपर से 15वाँ और नीचे से 16वाँ है। परीक्षा देने वाले बालकों की संख्या है :

- (1) 28 (2) 29
(3) 30 (4) 31

SPACE FOR ROUGH WORK / रफ कार्य के लिए जगह

182

130

14
154
130
24

14
154
130
24

30

PRNE-II

107. Among all the numbers from 0 to 99, how many times the digit 3 appears?

- (1) 18 (2) 19
(3) 20 (4) 21

108. A man walks 14 km toward West from his house and then turns right. He again walks 14 km and turns left and further walks 10 km. Then, he again turns left and walks 14 km. Now, how far is he from his house and in which direction?

- (1) 28 km North
(2) 24 km West
(3) 24 km South
(4) 28 km East

109. In a code language DOG was coded as CENPFH, then WOLF would be coded as

- (1) VXNPKMEG
(2) VZLRPN DH
(3) UXMPSLCI
(4) UZMSRNDJ

110. Which of the following numbers does not belong to the class of others?

- 19, 13, 27, 37, 17
(1) 27 (2) 19
(3) 17 (4) 13

(21)

107. 0 से लेकर 99 तक की सभी संख्याओं में 3 अंक कितनी बार आएगा ?

- (1) 18 (2) 19
(3) 20 (4) 21

108. एक व्यक्ति अपने घर से 14 कि.मी. पश्चिम की ओर चलकर दाएँ मुड़ता है। फिर वह 14 किमी. चलकर बाएँ मुड़ता है और फिर 10 कि.मी. और आगे चलता है। तत्पश्चात वह फिर बाएँ मुड़ता है और 14 कि.मी. चलता है। अब वह अपने घर से कितनी दूर और किस दिशा में है ?

- (1) 28 कि.मी. उत्तर
(2) 24 कि.मी. पश्चिम
(3) 24 कि.मी. दक्षिण
(4) 28 कि.मी. पूरब

109. यदि कूट भाषा में DOG को ^DCEN^E^F^GPFH के रूप में कूटबद्ध किया गया है, तो WOLF को किस रूप में कूटबद्ध किया जाएगा ?

- (1) VXNPKMEG
(2) VZLRPN DH
(3) UXMPSLCI
(4) UZMSRNDJ

110. निम्नलिखित में से कौन सी संख्या अन्य की श्रेणी से भिन्न है ?

- 19, 13, 27, 37, 17
(1) 27 (2) 19
(3) 17 (4) 13

SPACE FOR ROUGH WORK / रफ कार्य के लिए जगह

21, 22, 23, 24, 25, 26, 27, 28, 29, 30, 31, 32, 33, 34, 35, 36, 37, 38, 39, 40, 41, 42, 43, 44, 45

10
11

10 30
4 5

J

PART - II / भाग - II

(3) TEACHING METHODOLOGY / शिक्षण पद्धति

111. Teachers make use of Teaching-Learning Material to
- (1) motivate students
 - (2) make learning meaningful
 - (3) follow teaching methodology
 - (4) evaluate students' progress
112. A Committee's report titled 'Learning without burden' was authored by
- (1) Yash Pal
 - (2) Sri Prakash
 - (3) Tara Chand
 - (4) Melcom Adisheshaiya
113. Which philosophy of education condemns enforced discipline and advocates social discipline based on child's interests ?
- (1) Naturalism
 - (2) Idealism
 - (3) Pragmatism
 - (4) Realism
114. Maturation is a
- (1) developmental process
 - (2) experiential process
 - (3) socialization process
 - (4) adjustment process
115. If the coding is done as under :
- | | |
|---------------|-------------------|
| Knowledge (a) | Comprehension (b) |
| Analysis (d) | Application (c) |
| Synthesis (f) | Evaluation (g) |
- Identify the correct sequence in Bloom's Taxonomy in cognitive domain.
- (1) a, c, g, f, b, d
 - (2) b, c, d, g, f, a
 - (3) a, d, b, c, g, f
 - (4) a, b, c, d, f, g
111. शिक्षक, शिक्षण-अधिगम सामग्री का प्रयोग किस लिए करते हैं ?
- (1) विद्यार्थियों को अभिप्रेरित करने के लिए
 - (2) अधिगम को अर्थपूर्ण बनाने के लिए
 - (3) शिक्षण विधि का अनुसरण करने के लिए
 - (4) विद्यार्थियों की प्रगति के मूल्यांकन के लिए
112. 'लर्निंग विदाउट बर्देन' के नाम से प्रकाशित एक समिति के प्रतिवेदन के लेखक थे
- (1) यशपाल
 - (2) श्री प्रकाश
 - (3) तारा चन्द
 - (4) मेल्कम आदिशेशय्या
113. कौन सा शिक्षा-दर्शन प्रवर्तित अनुशासन की भर्त्सना करता है और बच्चों की रुचि पर आधारित सामाजिक अनुशासन की हिमायत करता है ?
- (1) प्रकृतिवाद
 - (2) आदर्शवाद
 - (3) प्रयोजनवाद
 - (4) यथार्थवाद
114. परिपक्वन है एक -
- (1) विकासात्मक प्रक्रिया
 - (2) अनुभवात्मक प्रक्रिया
 - (3) सामाजीकरण प्रक्रिया
 - (4) समायोजन प्रक्रिया
115. यदि कूट निम्न प्रकार दिए गए हैं :
- ज्ञान (a), समझ (b), विश्लेषण (d), अनुप्रयोग (c), संश्लेषण (f), मूल्यांकन (g)
- ज्ञानात्मक पक्ष के लिए ब्लूम के वर्गीकरण में सही क्रम पहचानिए।
- (1) a, c, g, f, b, d
 - (2) b, c, d, g, f, a
 - (3) a, d, b, c, g, f
 - (4) a, b, c, d, f, g

116. Which one of the following is not a performance test of intelligence ?

- (1) Cattell's culture fair test
- (2) The Cornell-Cox scale
- (3) Bhatia Battery test
- (4) Koh's Block Design test

117. Which one of the following is a projective test of personality ?

- (1) Minnesota Multiphasic Personality Inventory
- (2) Sociometric test
- (3) Word Association Test
- (4) Bell's Adjustment Inventory

118. Remedial teaching can be properly conducted on the basis of the outcomes of

- (1) Achievement test
- (2) Cumulative record
- (3) Diagnostic test
- (4) Norms

119. A child centred curriculum of primary stage should not focus on

- (1) harmonious adjustment with community life
- (2) harmonious development of child's individuality
- (3) children's natural interests, aptitudes and capacities
- (4) children's abilities for monetary gains

120. Which of the following learning theories has the greatest potential for bringing change in the habits of children ?

- (1) Trial and Error
- (2) Classical conditioning
- (3) Operant conditioning
- (4) Reinforcement

116. निम्नांकित में से कौन सा बुद्धि का निष्पादन परीक्षण नहीं है ?

- (1) कैटल का संस्कृति निरपेक्ष परीक्षण
- (2) कॉर्नेल कॉक्स स्केल
- (3) भाटिया बैटरी परीक्षण
- (4) कोह का ब्लॉक डिजाइन परीक्षण

117. निम्नांकित में से कौन सा व्यक्तित्व मापन का प्रक्षेपण परीक्षण है ?

- (1) मिनीसोटा बहुपक्षीय व्यक्तित्व तालिका
- (2) समाजमिति परीक्षण
- (3) शब्द साहचर्य परीक्षण
- (4) बैल समायोजन तालिका

118. निम्नांकित में से किसके परिणामों के आधार पर उपचारात्मक शिक्षण भली-भाँति संचालित किया जा सकता है ?

- (1) संप्राप्ति परीक्षण
- (2) संचयी अभिलेख
- (3) निदानात्मक परीक्षण
- (4) मानक

119. प्राथमिक स्तर पर एक बाल केन्द्रित पाठ्यक्रम का केन्द्र बिन्दु नहीं होना चाहिए

- (1) समुदाय जीवन से सुसंगत समायोजन
- (2) बालक की वैयक्तिकता का सुसंगत विकास
- (3) बच्चों की स्वाभाविक रुचियाँ, अभिरुचियाँ और क्षमताएँ
- (4) बच्चों की आर्थिक लाभ संबंधी योग्यताएँ

120. निम्नांकित में से कौन सा अधिगम सिद्धान्त बच्चों की आदतों में परिवर्तन के लिए सर्वाधिक सामर्थ्यपूर्ण है ?

- (1) अभ्यास एवं त्रुटि
- (2) शास्त्रीय (क्लासिकीय) अनुकूलन
- (3) क्रियाप्रसून अनुकूलन
- (4) पुनर्बलन

121. Schools are considered centres for socialization as they help children

- (1) grow as citizens
- (2) acquire values and traditions
- (3) become aware of their role in society
- (4) acquire knowledge to understand society

122. Right to free and compulsory education presently placed as Article 21A instead of Article 45. Now the Article 45 provides for

- (1) Education and care for children upto 6 years of age
- (2) Education and care for children 0 to 14 years
- (3) Education and care for children above 14 years
- (4) Education and care of dropout children upto 14 years

123. In a classroom students are not told anything but are led to see the solution through carefully worded questions. They may consult books and material provided around.

The teaching method used is

- (1) Laboratory Method
- (2) Heuristic Method
- (3) Problem Solving Method
- (4) Project Method

124. The NCF 2005 has recommended no homework upto class II and how many hours a week as from class III ?

- | | |
|-----------|----------|
| (1) One | (2) Two |
| (3) Three | (4) Four |

121. विद्यालयों को सामाजीकरण के केन्द्र के रूप में मानते हैं क्योंकि ये बच्चों की सहायता करते हैं

- (1) नागरिकों के रूप में विकसित होने में -
- (2) मूल्यों और परंपराओं को ग्रहण करने में
- (3) समाज में अपनी भूमिका के प्रति सजग होने में
- (4) ऐसा ज्ञान प्राप्त करने में जिससे वह समाज को समझ सकते हैं

122. निःशुल्क और अनिवार्य शिक्षा का अधिकार अनुच्छेद 45 से हटाकर अनुच्छेद 21 A में रखा गया है। अब अनुच्छेद 45 किससे संबंधित है ?

- (1) छः वर्ष तक की आयु के बच्चों की शिक्षा और देखभाल
- (2) शून्य से 14 वर्ष तक की आयु के बच्चों की शिक्षा और देखभाल
- (3) 14 वर्ष से अधिक आयु के बच्चों की शिक्षा और देखभाल
- (4) 14 वर्ष तक के विद्यालय छोड़ देने वाले बच्चों की शिक्षा और देखभाल

123. एक कक्षाकक्ष में विद्यार्थियों को कुछ नहीं बताया जाता है और उन्हें सावधानीपूर्वक बनाए गए प्रश्नों के माध्यम से हल तक पहुँचाया जाता है। वे पास में उपलब्ध पुस्तकों और अन्य सामग्री उपयोग में ला सकते हैं।

प्रयोग में लाई गई शिक्षण विधि है -

- (1) प्रयोगशाला विधि ×
- (2) ह्यूरिस्टिक विधि
- (3) समस्या समाधान विधि ✓
- (4) प्रोजेक्ट विधि ×

124. राष्ट्रीय पाठ्यचर्या की रूपरेखा 2005 में कक्षा II तक गृहकार्य की अनुशंसा नहीं की गई है। कक्षा III से प्रति सप्ताह कितने घण्टे के गृहकार्य की अनुशंसा की है ?

- | | |
|---------|-----------|
| (1) एक | (2) दो |
| (3) तीन | (4) चार ✓ |

125. Objective tests are not apt for
- (1) providing and organizing ideas
 - (2) cost-reduction
 - (3) ease in construction
 - (4) avoiding guessing factor
126. Idea of neighbourhood schools was advocated by
- (1) University Education Commission (1948-49)
 - (2) Secondary Education Commission (1952-53)
 - (3) Indian Education Commission (1964-1966)
 - (4) National Policy on Education 1986
127. All round development of personality of children becomes meaningful only when they
- (1) are physically healthy
 - (2) are emotionally stable
 - (3) are active
 - (4) are fully aware of their strengths and weaknesses
128. Physical punishment and mental harassment of children in schools has now been
- (1) partially prohibited
 - (2) totally prohibited
 - (3) allowed only under very special circumstances
 - (4) allowed in unaided, fully private schools
129. Which of the following is not a part of Herbart's formal steps of teaching ?
- (1) Presentation of new material
 - (2) Comparison and abstraction
 - (3) Generalization
 - (4) Assessment & Evaluation

125. वस्तुनिष्ठ परीक्षण उपयुक्त नहीं है
- (1) विचारों के विकास और संगठन में
 - (2) लागत कम करने में ✓
 - (3) निर्माण की सुगमता हेतु ✓
 - (4) अनुमान तत्वों से बचाव में ✓

~~126.~~ पड़ोसी विद्यालय के विचार की वकालत की थी

- (1) विश्वविद्यालय शिक्षा आयोग (1948-49) ने
- (2) माध्यमिक शिक्षा आयोग (1952-53) ने
- (3) भारतीय शिक्षा आयोग (1964-66) ने
- (4) राष्ट्रीय शिक्षा नीति 1986 ने

127. बच्चों के व्यक्तित्व का सर्वांगीण विकास तभी अर्थपूर्ण होता है जब वे
- (1) शारीरिक रूप से स्वस्थ होते हैं
 - (2) सांवेगिक रूप से स्थिर होते हैं
 - (3) सक्रिय होते हैं
 - (4) अपनी कमियों और शक्तियों के बारे में पूर्णतः सजग होते हैं -

128. विद्यालय में बच्चों को शारीरिक दण्ड और मानसिक उत्पीड़न अब
- (1) आंशिक रूप से प्रतिबंधित है
 - (2) पूर्णतः प्रतिबंधित है -
 - (3) अत्यन्त विशेष परिस्थितियों में ही दिया जा सकता है
 - (4) गैर सहायता प्राप्त, पूर्णतः निजी विद्यालयों में दिया जा सकता है

129. निम्नांकित में से कौन सा हर्बर्ट के औपचारिक शिक्षण के पदों का भाग नहीं है ?
- (1) नई सामग्री का प्रस्तुतीकरण
 - (2) तुलना और संक्षिप्तीकरण
 - (3) सामान्यीकरण -
 - (4) आकलन और मूल्यांकन

J

130. What is a demerit of education for Nationalism ?

- (1) Development of hate and fear
- (2) Political unity
- (3) Stimulation of self interest
- (4) Socio-economic development

131. The curriculum at primary stage, as suggested by Sir Aurobindo, did not have

- (1) Mother-tongue and French
- (2) Physiology and Health education
- (3) General Science and Social Studies
- (4) Art and Painting

132. An effective supervision is one which promotes greater

- (1) Punctuality among teachers
- (2) Community satisfaction
- (3) Pupil progress
- (4) Involvement in co-curricular activities

133. Main goal of home-school relations is

- (1) fostering a good understanding between teachers and parents about children
- (2) resolving homework issues
- (3) seeking parental co-operation in co-curricular activities
- (4) recognizing parents' role in school matters.

134. Which should get precedence over video simulations and demonstrations at primary stage ?

- (1) Reading
- (2) Writing
- (3) Hands on experience
- (4) Mental work

130. राष्ट्रीयता के लिए शिक्षा का एक अवगुण क्या है ?

- (1) घृणा और भय का विकास
- (2) राजनैतिक एकता
- (3) स्वार्थपरता को प्रेरण
- (4) सामाजिक-आर्थिक विकास

131. प्राथमिक स्तर पर श्री अरविन्द द्वारा सुझाए गए पाठ्यक्रम में निम्नांकित में से क्या नहीं था ?

- (1) मातृभाषा और फ्रेंच
- (2) शरीरविज्ञान और स्वास्थ्य शिक्षा
- (3) सामान्य विज्ञान और सामाजिक अध्ययन
- (4) कला और चित्रकला

132. एक अच्छे पर्यवेक्षण के प्रभाव से किसमें वृद्धि होती है ?

- (1) शिक्षकों में समय की अनुपालना
- (2) सामुदायिक संतोष
- (3) शिक्षार्थियों की प्रगति
- (4) पाठ्य-सहगामी क्रियाओं में भागीदारी

133. घर-विद्यालय संबंधों का मुख्य लक्ष्य है

- (1) शिक्षकों और अभिभावकों के मध्य बच्चों के बारे में अच्छी समझ विकसित करना
- (2) गृहकार्य संबंधी मुद्दों को सुलझाना
- (3) पाठ्य सहगामी क्रियाओं में अभिभावकों का सहयोग प्राप्त करना
- (4) विद्यालय के मामलों में अभिभावकों की भूमिका को पहचान देना

134. प्राथमिक स्तर पर वीडियो अनुरूपण और प्रदर्शन की अपेक्षा किसे तरजीह दी जानी चाहिए ?

- (1) पठन
- (2) लेखन
- (3) हस्त अनुभव
- (4) मानसिक कार्य

135. A good head teacher should primarily be

- (1) a good teacher.
- (2) a good administrator
- (3) a good athlete
- (4) a good human being sensitive to the needs of children

136. Sex Education may be introduced at primary stage through

- (1) a separate subject
- (2) knowledge about hygiene
- (3) integration with physical education
- (4) lessons on nature study

137. What is not a characteristics of counselling ?

- (1) Environment building
- (2) Opportunity for free expression
- (3) Counsellor's involvement
- (4) Personal interview

138. Teacher's first duty is towards

- (1) the subject taught by him/her
- (2) students
- (3) school administration
- (4) community

139. In your class a student very often disturbs peers in the class. What would you do ? I will

- (1) get him/her out of class
- (2) change his/her seat
- (3) ask him/her to keep quite
- (4) call him/her and assign some extra work

135. एक अच्छा मुख्याध्यापक प्राथमिक रूप में होना चाहिए

- (1) एक अच्छा शिक्षक
- (2) एक अच्छा प्रशासक
- (3) एक अच्छा खिलाड़ी
- (4) एक अच्छा मानव जो बच्चों की आवश्यकताओं के प्रति संवेदनशील हो -

136. प्राथमिक स्तर पर यौन शिक्षा किस रूप में प्रस्तावित की जा सकती है ?

- (1) एक पृथक विषय के रूप में
- (2) स्वास्थ्य रक्षा विज्ञान के बारे में ज्ञान देकर
- (3) शारीरिक शिक्षा के साथ समन्वित करके
- (4) प्रकृति-अध्ययन पाठों द्वारा -

137. निम्नांकित में से क्या परामर्श की विशिष्टता नहीं है ?

- (1) वातावरण निर्माण
- (2) स्वतंत्र अभिव्यक्ति के अवसर -
- (3) परामर्शदाता का आवेष्टन
- (4) व्यक्तिगत साक्षात्कार -

138. शिक्षक का प्रथम दायित्व किसके प्रति होता है ?

- (1) उसके द्वारा पढाए जाने वाला विषय
- (2) विद्यार्थी -
- (3) विद्यालय प्रशासन
- (4) समुदाय

139. आपकी कक्षा में एक विद्यार्थी प्रायः सहपाठियों में व्यवधान उत्पन्न करता है। आप क्या करेंगे ? मैं

- (1) उसे कक्षा से निकाल दूंगा / दूँगी
- (2) उसकी बैठने की जगह बदल दूंगा. / दूँगी
- (3) उसे शान्त रहने को कहूँगा / कहूँगी
- (4) उसे बुलाकर कुछ अतिरिक्त कार्य दूंगा / दूँगी

140. Which one of the following is not a social-personal quality assessed under Continuous and Comprehensive Evaluation (CCE) ?

- (1) Cleanliness (2) Painting
(3) Co-operation (4) Discipline

141. In absolute grading the reference point for assessment of students' performance happens to be a

- (1) pre-determined standard
(2) standard determined on the basis of normal probability curve
(3) standard determined on the basis of dividing equal percentage of cases from top to bottom
(4) standard determined on the basis of arbitrarily chosen percentages of cases for various grading groups

142. A multilingual approach to schooling from the very beginning is mainly helpful in countering the ill-effect of

- (1) weak communication skills
(2) school drop outs
(3) learning disabilities
(4) losing one's own language

143. As per RTE Act, 2009, how many teachers will be provided in a school having classes 1 to 5 and a total of 62 students?

- (1) One (2) Two
(3) Three (4) Four

144. For a teacher in a primary school for teaching including preparation, what minimum number of working hours per week have been prescribed in RTE Act, 2009?

- (1) 40 (2) 45
(3) 50 (4) 55

140. सतत् और व्यापक मूल्यांकन के अन्तर्गत मूल्यांकित किए जाने वाले सामाजिक-व्यक्तिगत गुणों में, निम्नांकित में से क्या नहीं आता है ?

- (1) स्वच्छता (2) चित्रकला
(3) सहयोग (4) अनुशासन

141. निरपेक्ष श्रेणीकरण में बच्चों की निष्पत्ति के आकलन का संदर्भ बिन्दु होता है

- (1) पूर्व निर्धारित मानक
(2) सामान्य संभावना वक्र के आधार पर निर्धारित मानक
(3) अंकों के आधार पर ऊपर से नीचे तक बराबर प्रतिशत श्रेणी में बाँट कर निर्धारित मानक
(4) विभिन्न ग्रेडिंग समूहों के लिए स्वेच्छा से चुने गए प्रतिशत श्रेणी के आधार पर निर्धारित मानक

142. विद्यालयी शिक्षा में अत्यन्त प्रारंभ से बहुभाषिक उपागम का प्रयोग मुख्यतः किस दुष्प्रभाव का प्रतिकरण करने में सहायक होता है ?

- (1) कमजोर संप्रेषण कौशल
(2) विद्यालय छोड़ना
(3) अधिगम अशक्तता
(4) अपनी स्वयं की भाषा की क्षति

143. एक कक्षा 1 से 5 के विद्यालय में कुल 62 विद्यार्थी हैं, शिक्षा का अधिकार अधिनियम, 2009 के अनुसार वहाँ कितने शिक्षक उपलब्ध कराने होंगे ?

- (1) एक (2) दो
(3) तीन (4) चार

144. एक प्राथमिक शिक्षक को शिक्षण और तैयारी के लिए कितने कार्य घण्टे प्रति सप्ताह, शिक्षा का अधिकार अधिनियम, 2009 के अन्तर्गत, विहित किए गए हैं ?

- (1) 40 (2) 45
(3) 50 (4) 55

145. Major drawback of multigrade teaching is _____

- (1) it puts more responsibility on learners
- (2) it may create indiscipline
- (3) it allows less individual attention
- (4) it makes teachers inactive

146. Gandhiji's basic education was greatly influenced by _____ for educational settings.

- (1) Naturalism
- (2) Idealism
- (3) Pragmatism
- (4) Realism

147. Which one of the following was not an important characteristics of Minimum Levels of Learning (MLLs)?

- (1) Mastery learning
- (2) Small steps
- (3) Individual differences
- (4) Continuous and Comprehensive Evaluation (CCE)

148. Which of the following fixing devices is useful for long term retention?

- (1) Questioning
- (2) Participation
- (3) Practice
- (4) Evaluation

149. According to NCF 2005 which one of the following is not a major shift?

- (1) Teacher centric to Learner centric
- (2) Learner autonomy to Teacher direction
- (3) Passive to active reception in learning
- (4) Learning within four walls of the classroom to learning in the wider social context

150. Book titled 'Diwa Swapna' was written by

- (1) Gijubhai Badheka
- (2) Kaka Kalelkar
- (3) Taraben
- (4) Kishorilal Mashruwala

145. बहुकक्षा शिक्षण की सबसे बड़ी कमी होती है

- (1) यह अध्येताओं के दायित्व में वृद्धि करती है।
- (2) इससे अनुशासनहीनता पनप सकती है।
- (3) इसमें व्यक्तिगत ध्यान की प्रक्रिया में कमी आती है।
- (4) यह शिक्षकों को निष्क्रिय बनाती है।

146. गाँधीजी की बेसिक शिक्षा में विद्यालयी परिवेश पर सर्वाधिक प्रभाव किसका था ?

- (1) प्रकृतिवाद
- (2) आदर्शवाद
- (3) प्रयोजनवाद
- (4) यथार्थवाद

147. निम्नांकित में से कौन सा तत्त्व न्यूनतम अधिगम स्तर (एम.एल.एल.) की महत्त्वपूर्ण विशिष्टता नहीं था ?

- (1) अधिगम निपुणता
- (2) लघु पद
- (3) व्यक्तिगत विभिन्नताएँ
- (4) सतत एवं व्यापक मूल्यांकन (सी.सी.ई.)

148. निम्नांकित में से कौन सी स्थायीकरण युक्ति दीर्घकालिक धारणाशक्ति के लिए उपयोगी है ?

- (1) प्रश्न पूछना
- (2) सहभागिता
- (3) अभ्यास
- (4) मूल्यांकन

149. राष्ट्रीय पाठ्यचर्या की रूपरेखा 2005 के अनुसार निम्नांकित में से कौन सा प्रमुख बदलाव नहीं है ?

- (1) अध्यापक केन्द्रित से अध्येता केन्द्रित की ओर
- (2) अध्येता स्वायत्तता से अध्यापक अभिदेश की ओर
- (3) निष्क्रिय से सक्रिय अधिगम अधिग्रहण की ओर
- (4) कक्षा-कक्ष की चहारदीवारी में अधिगम से विस्तृत सामाजिक परिप्रेक्ष्य की ओर

150. पुस्तक 'दिवास्वप्न' के लेखक थे

- (1) गीजूभाई बधेका
- (2) काका कालेलकर
- (3) ताराबेन
- (4) किशोरीलाल मशरूवाला