

PART - I

(1) GENERAL ENGLISH

Directions (1 - 2) : In each group of words given below only **one** word is spelt correctly. Choose the one.

1. (1) Nutritous
(2) Nutrishus
(3) Nutritius
(4) Nutritious
2. (1) Magnificent
(2) Magnificent
(3) Magneficient
(4) Megnifecient

Directions (3 - 5) : Each of the following sentences has been divided into **four** parts. There is an error in one of the parts. Identify the part which has the error.

3. No sooner did / the thief see /
(1) (2)
the policeman when / he ran away.
(3) (4)
4. Ram is / anxious to see / you for the /
(1) (2) (3)
last one week.
(4)
5. I asked / my father / if I can /
(1) (2) (3)
take his pen.
(4)

Directions (6 - 7) : Each of the following idioms is followed by four meanings of which only one is correct. Choose the correct one.

6. to take away one's breath
(1) to surprise one
(2) to hit one badly
(3) to kill one
(4) to take away one's money
7. a dead letter
(1) one which has not been posted
(2) one of rejection
(3) no longer in use
(4) one that has not reached its destination

Directions (8 - 9) : Choose the correct alternative to complete each of the following sentences :

8. You _____ be mad if you think I am going to lend you more money.
(1) might
(2) ought to
(3) should
(4) must

9. Eating sweets _____ be bad for your teeth.

- (1) should
- (2) would
- (3) ought to
- (4) may

Directions (10 – 11) : In each of the following items choose the words opposite in meaning to the given word.

10. SACRED

- (1) Unholy
- (2) Open
- (3) False
- (4) Inauspicious

11. SOBER

- (1) Crooked
- (2) Drunk
- (3) Unwise
- (4) Cruel

(3)

Z

Directions (12 – 13) : Out of the given alternatives, choose the word which most closely fits each definition.

12. One who has vowed not to marry

- (1) Spinster
- (2) Bachelor
- (3) Celibate
- (4) Callous

13. A self-centred person

- (1) Arrogant
- (2) Profane
- (3) Egoist
- (4) Clever

Directions (14 – 15) : Choose the word from the given options which best expresses the meaning of the given word :

14. RADIANT

- (1) Famous
- (2) Bright
- (3) Just
- (4) Timely

15. STRICTURE

- (1) Criticism
- (2) Harshness
- (3) Despot
- (4) Passion

(2) सामान्य हिन्दी

16. निम्नलिखित में से कौन सा शब्द सर्वनाम है ? नीचे दिए गए विकल्पों में से चुनिए :
- (1) राधा
 - (2) वह
 - (3) सुन्दर
 - (4) विभीषण
17. 'उन्मूलन' का विपरीतार्थक शब्द निम्नलिखित विकल्पों में से छाँटिए :
- (1) रोपण
 - (2) विलोमन
 - (3) अनुकूलन
 - (4) विनाशन
18. निम्नलिखित वाक्यों में से अशुद्ध वाक्य का चयन कीजिए :
- (1) लड़की दौड़ती है ।
 - (2) शहर अच्छा है ।
 - (3) बादशाह खाँसती है ।
 - (4) होटल ठीक है ।
19. 'दोपहर का समय' - के लिए निम्नलिखित शब्दों में से कौन सा उपयुक्त है ? चिह्नित कीजिए ।
- (1) रात
 - (2) सन्ध्या
 - (3) अपराह्न
 - (4) मध्याह्न
20. 'आँखें चार होना' - मुहावरे के अर्थ का दिए गए विकल्पों में से चयन कीजिए ।
- (1) प्रेम होना
 - (2) दृष्टि गिनना
 - (3) रतौंधी होना
 - (4) परेशान होना
21. 'अक्ल पर पत्थर पड़ना' - मुहावरे के अर्थ का निम्नांकित विकल्पों में से चयन कीजिए :
- (1) चोट लगना
 - (2) बुद्धि भ्रष्ट होना
 - (3) कठिन वाक्य
 - (4) मुसीबत
22. 'शीला आई और अंधे को सहारा दिया ।'
यह वाक्य किस वाक्य-भेद का उदाहरण है ? सही विकल्प बताइए ।
- (1) संयुक्त वाक्य
 - (2) मिश्र वाक्य
 - (3) नकारात्मक वाक्य
 - (4) प्रश्नवाचक वाक्य
23. निम्नलिखित विकल्पों में से 'देवालय' शब्द का सन्धि-विच्छेद चिह्नित कीजिए :
- (1) देवा + लय
 - (2) देवा: + लय
 - (3) देव + आलय
 - (4) दे + वालय

24. 'फ' वर्ण का उच्चारण स्थान बताइए।

- (1) मूर्धा
- (2) तालु
- (3) कंठ
- (4) ओष्ठ

25. सही विकल्प को चुनकर निम्नलिखित वाक्य के रिक्त स्थान की पूर्ति कीजिए :

नाच न आवे _____ टेढ़ा

- (1) उंगली
- (2) पैर
- (3) आंगन
- (4) घड़ा

26. निम्नलिखित में से किस शब्द में 'अ' उपसर्ग है ? सही विकल्प बताइए।

- (1) अनेक
- (2) अमर
- (3) अतिशय
- (4) अधिभार

27. 'छात्रावास' में कौन सी सन्धि है ? सही विकल्प बताइए।

- (1) दीर्घ
- (2) गुण
- (3) वृद्धि
- (4) अयादि

28. 'ने' किस कारक की विभक्ति है ? सही विकल्प चुनिए।

- (1) कर्म
- (2) सम्बन्ध
- (3) कर्ता
- (4) अधिकरण

29. निम्नलिखित शब्दों में से अशुद्ध वर्तनी वाले शब्द का चयन कीजिए :

- (1) महीना
- (2) अनुगृह
- (3) क्रिया
- (4) सप्ताह

30. 'शक्ति की उपासना करने वाले' को क्या कहते हैं ? सही विकल्प बताइए।

- (1) शैव
- (2) वैष्णव
- (3) शाक्त
- (4) नाथपंथी

(1) CURRENT AFFAIRS / सामयिक घटनायें

31. Where among the following is the current headquarters of UNESCO located ?

- (1) New York
- (2) Geneva
- (3) Switzerland
- (4) Paris

32. Where among the following is the International Court of Justice located ?

- (1) Berlin
- (2) The Hague
- (3) Barcelona
- (4) New York

33. Which among the following country won the Women's Rugby World Cup held in 2017 ?

- (1) England
- (2) New Zealand
- (3) Canada
- (4) Australia

34. Which of the following is the correct match of books and authors of 2017 ?

- | | |
|---------------------------------|------------------------|
| a. First Love | i. Sara Baume |
| b. A Line Made by Walking | ii. Gwendoline Riley |
| c. The Heart's Invisible Furies | iii. Viet-Thanh Nguyen |
| d. The Refugees | iv. John Boyne |

- | | a | b | c | d |
|-----|----|-----|-----|-----|
| (1) | iv | iii | ii | i |
| (2) | ii | iii | i | iv |
| (3) | ii | i | iv | iii |
| (4) | i | ii | iii | iv |

35. Where is the headquarters of World Health Organisation located ?

- | | |
|--------------|-------------|
| (1) Geneva | (2) Madrid |
| (3) New York | (4) Germany |

31. निम्नलिखित जगहों में से यू.एन.ई.एस.सी.ओ. (यूनेस्को) का वर्तमान मुख्यालय कहाँ पर स्थित है ?

- (1) न्यूयॉर्क
- (2) जेनेवा
- (3) स्विट्ज़रलैंड
- (4) पेरिस

32. निम्नलिखित में से अंतर्राष्ट्रीय न्यायालय कहाँ पर स्थित है ?

- (1) बर्लिन
- (2) द हेग
- (3) बार्सिलोना
- (4) न्यूयॉर्क

33. 2017 में खेले गये महिला रग्बी विश्व कप को निम्नलिखित में से किस देश ने जीता है ?

- (1) इंग्लैंड
- (2) न्यूज़ीलैंड
- (3) कनाडा
- (4) ऑस्ट्रेलिया

34. 2017 के संदर्भ में पुस्तकों और उनके लेखकों का निम्न में से सही मेल-मिलान कौन सा है ?

- | | |
|-------------------------------|------------------------|
| a. फर्स्ट लव | i. सारा बॉम |
| b. ए लाइन मेड बाय वाकिंग | ii. ग्वेन्डोलिन राइले |
| c. द हार्ट्स इनविजिबल फ्यूरिस | iii. वियत थन्न ग्यूयेन |
| d. द रिफ्यूजीस | iv. जॉन बॉयने |

- | | a | b | c | d |
|-----|----|-----|-----|-----|
| (1) | iv | iii | ii | i |
| (2) | ii | iii | i | iv |
| (3) | ii | i | iv | iii |
| (4) | i | ii | iii | iv |

35. विश्व स्वास्थ्य संगठन का मुख्यालय कहाँ पर स्थित है ?

- | | |
|---------------|-------------|
| (1) जेनेवा | (2) मेड्रिड |
| (3) न्यूयॉर्क | (4) जर्मनी |

36. Which of the following option is correct with reference to the tally of gold medals won in Asian Athletics Championship, 2017 ?

- (1) China, India, Kazakhstan, Iran
- (2) India, Kazakhstan, China, Iran
- (3) Iran, India, China, Kazakhstan
- (4) India, China, Kazakhstan, Iran

37. Which of the following Act was amended by the U.S. house of representatives to facilitate defence co-operation in India recently ?

- (1) National Defence Act, 2017
- (2) National Defence Authorisation Act, 2018
- (3) National Defence Act, 1980
- (4) National Defence Authority Act, 2020

38. Which of the following refers to the maiden search and rescue exercise scheduled in November 2017 in Bay of Bengal ?

- (1) IMMESAREX
- (2) IMSAAREX
- (3) IMMASAREX
- (4) TIMASAREX

39. What was the mascots for the 2017 FIFA Under 17 World Cup Football Tournament played in India ?

- (1) SHERA
- (2) BHOLU
- (3) KHELEO
- (4) APPU

36. निम्नलिखित में से कौन सा विकल्प एशियन एथलेटिक्स चैंपियनशिप, 2017 में विभिन्न देशों द्वारा जीते गये स्वर्ण पदक का क्रमानुसार हिसाब बताता है ?

- (1) चीन, भारत, कजाकिस्तान, ईरान
- (2) भारत, कजाकिस्तान, चीन, ईरान
- (3) ईरान, भारत, चीन, कजाकिस्तान
- (4) भारत, चीन, कजाकिस्तान, ईरान

37. हाल ही में, अमरीका की प्रतिनिधि सभा ने भारत के सुरक्षा में सहयोग देने के लिये निम्नलिखित में से किस अधिनियम का संशोधन किया है ?

- (1) नेशनल डिफेंस एक्ट, 2017
- (2) नेशनल डिफेंस ऑथोरिटी एक्ट, 2018
- (3) नेशनल डिफेंस एक्ट, 1980
- (4) नेशनल डिफेंस ऑथोरिटी एक्ट, 2020

38. 2017 के नवम्बर माह में निर्धारित बंगाल की खाड़ी में पहला खोज एवं बचाव अभ्यास का निम्नलिखित में से क्या नाम है ?

- (1) आई एम एम ई एस ए आर ई एक्स
- (2) आई एम एस ए ए आर ई एक्स
- (3) आई एम एम ए एस ए आर ई एक्स
- (4) टी आई एम ए एस ए आर ई एक्स

39. भारत में खेले गए अंडर 17 फीफा विश्व कप 2017 फुटबॉल प्रतियोगिता का मैस्कॉट क्या था ?

- (1) शेरा
- (2) भोलू
- (3) खेलइयो
- (4) अप्पू

40. Where is the headquarters of International Union for Conservation of Nature located ?

- (1) Paris, France
- (2) Gland, Switzerland
- (3) Vienna, Austria
- (4) New York, U.S.A.

41. Which of the following city hosted 'A festival of India' in 2017 ?

- (1) Delhi
- (2) Amsterdam
- (3) Rotterdam
- (4) Hague

42. Under which Article of the Constitution of India did the Union Government setup a Commission to examine the sub-categorization of the other Backward Classes in August 2017 ?

- (1) Article 338
- (2) Article 338A
- (3) Article 340
- (4) Article 341

43. Which of the following city hosted the 2017 Asian Athletics Championship ?

- (1) Delhi
- (2) Bengaluru
- (3) Bhubaneswar
- (4) Chandigarh

44. Who among the following won the gold medal in 10,000 metres race in Asian Athletics Championship, 2017 ?

- (1) Govindan Lakshmanan
- (2) Adilet Kyshtabekov
- (3) Gopi Thonakal
- (4) Chen Chich

45. Which of the following country won the men's gold medal in Javelin throw event of the Asian Athletics Championship in 2017 ?

- (1) Qatar
- (2) India
- (3) China
- (4) Thailand

(8)

40. प्राकृतिक संरक्षण के अंतर्राष्ट्रीय संघ का मुख्यालय कहाँ पर स्थित है ?

- (1) पेरिस, फ्रांस
- (2) ग्लैंड, स्विट्ज़रलैंड
- (3) वियन्ना, ऑस्ट्रिया
- (4) न्यूयॉर्क, यू.एस.ए.

41. 2017 में निम्नलिखित में से किस शहर ने 'भारत का त्योहार' की मेज़बानी की थी ?

- (1) दिल्ली
- (2) एमस्टर्डम
- (3) रोट्टरडम
- (4) द हेग

42. भारतीय संविधान के किस अनुच्छेद के अंतर्गत, केंद्र सरकार ने अगस्त 2017 में अन्य पिछड़े वर्गों के उपवर्गीकरण के परीक्षण के लिए आयोग का गठन किया ?

- (1) अनुच्छेद 338
- (2) अनुच्छेद 338A
- (3) अनुच्छेद 340
- (4) अनुच्छेद 341

43. 2017 के एशियन एथलेटिक्स चैंपियनशिप की मेज़बानी निम्नलिखित में से किस शहर ने की थी ?

- (1) दिल्ली
- (2) बेंगलुरु
- (3) भुवनेश्वर
- (4) चंडीगढ़

44. 2017 में खेले गये एशियन एथलेटिक्स चैंपियनशिप के 10,000 मीटर की दौड़ में निम्नलिखित में से किसने स्वर्ण पदक जीता था ?

- (1) गोविंदन लक्ष्मनन
- (2) अदिलत किश्टाबेकोव
- (3) गोपी थोनाकल
- (4) चैन चीक

45. 2017 में खेले गए एशियन एथलेटिक्स चैंपियनशिप में पुरुषों के वर्ग में जेवलीन थ्रो की प्रतियोगिता में किस देश ने स्वर्ण पदक जीता ?

- (1) कतर
- (2) भारत
- (3) चीन
- (4) थाइलैंड

TGNE

TGNE

46. Which of the following day was observed as 'World Teachers Day' in 2017?

- (1) June, 24 (2) May, 24
(3) September, 5 (4) October, 5

47. Which among the following refers to the National Electric Mobility Mission Plan, 2020?

- (1) To achieve national fuel security by promoting hybrid and electric vehicles in the country.
(2) To replace diesel engines with electric engines and achieve fuel security.
(3) To replace coal engines with electric engines and achieve fuel security.
(4) To replace petrol engines by diesel engines and achieve fuel security.

48. Which of the following day was observed as the 'World Cancer Day' this year?

- (1) February, 1
(2) January, 26
(3) February, 4
(4) February, 14

49. Which of the following day was observed on March 1st this year?

- (1) Self Injury Awareness Day
(2) Blood Cancer Awareness Day
(3) Anti-terrorism Day
(4) National Youth Day

50. Which of the following day was observed as the International Day of Happiness in 2017?

- (1) March, 25
(2) February, 14
(3) January, 1
(4) March, 20

51. Which of the following day was observed as the 'World Nature Conservation Day' this year?

- (1) 15, August (2) 28, July
(3) 27, June (4) 25, March

(9)

46. 2017 में निम्नलिखित में से किस दिन 'अंतर्राष्ट्रीय शिक्षक दिवस' मनाया गया था ?

- (1) जून, 24 (2) मई, 24
(3) सितंबर, 5 (4) अक्टूबर, 5

47. निम्नलिखित में से राष्ट्रीय विद्युत गतिशीलता मिशन योजना, 2020 कौन सी है ?

- (1) राष्ट्रीय ईंधन के सुरक्षा के लिये हाइब्रिड और इलेक्ट्रिक वाहनों को बढ़ावा देना।
(2) राष्ट्रीय ईंधन के सुरक्षा के लिये डीजल इंजन को इलेक्ट्रिक इंजन से बदलना।
(3) राष्ट्रीय ईंधन के सुरक्षा के लिये कोयला इंजन को इलेक्ट्रिक इंजन से बदलना।
(4) राष्ट्रीय ईंधन सुरक्षा के लिये पेट्रोल इंजन को डीजल इंजन से बदलना।

48. इस वर्ष 'विश्व कैंसर दिवस' निम्नलिखित में से किस दिन मनाया गया था ?

- (1) फरवरी, 1
(2) जनवरी, 26
(3) फरवरी, 4
(4) फरवरी, 14

49. इस वर्ष, 1 मार्च को निम्नलिखित में से कौन सा दिवस मनाया गया था ?

- (1) आत्म चोट जागरूकता दिवस
(2) रक्त कैंसर जागरूकता दिवस
(3) आतंकवाद विरोधी दिवस
(4) राष्ट्रीय युवा दिवस

50. 2017 में निम्नलिखित में से किस दिन अंतर्राष्ट्रीय प्रसन्नता दिवस मनाया गया था ?

- (1) मार्च, 25
(2) फरवरी, 14
(3) जनवरी, 1
(4) मार्च, 20

51. इस वर्ष निम्नलिखित में से, कौन से दिन को 'अंतर्राष्ट्रीय प्रकृति संरक्षण दिवस' के रूप में मनाया गया था ?

- (1) 15, अगस्त (2) 28, जुलाई
(3) 27, जून (4) 25, मार्च

52. Who among the following has recently authored the book named, 'The Ministry of Utmost Happiness' ?

- (1) C.M. Pokhriyal
- (2) Arundhati Roy
- (3) David Grossman
- (4) Michael Clarke

53. Which of the legendary poet was conferred with 4th Kalinga Literary Award in 2017 ?

- (1) Hemant Mohapatra
- (2) Anil Chavda
- (3) Haraprasad Das
- (4) Tapan Kumar Pradhan

54. Who is the author of 'Indira Gandhi : A Life in Nature', published recently ?

- (1) Jai Ram Ramesh
- (2) M. Veerappa Moily
- (3) D.G. Tendulkar
- (4) Kiren Rijiju

55. Which of the following book has been authored by Ashwini Kumar in 2017 ?

- (1) The Rise of Sivagami
- (2) Gandhi in Champaran
- (3) Hope in a Challenged Democracy : An Indian Narrative
- (4) The Flaming Tresses of Draupadi

52. हाल ही में 'द मिनिस्ट्री ऑफ अटमोस्ट हैपिनेस' नामक पुस्तक को निम्नलिखित में से किसने लिखा है ?

- (1) सी.एम. पोखरीयाल
- (2) अरुंधति रॉय
- (3) डेविड ग्रॉसमेन
- (4) माइकल क्लार्क

53. निम्नलिखित में से किस प्रसिद्ध कवि को 2017 में आयोजित चौथा कलिंगा साहित्य पुरस्कार प्रदान किया गया ?

- (1) हेमंत मोहापात्रा
- (2) अनिल चावड़ा
- (3) हरप्रसाद दास
- (4) तपन कुमार प्रधान

54. हाल ही में प्रकाशित 'इंदिरा गांधी : ए लाइफ इन नेचर' को किसने लिखा है ?

- (1) जयराम रमेश
- (2) एम. वीरप्पा मौइली
- (3) डी.जी. तेंदुलकर
- (4) किरिन रिजिजू

55. 2017 में अश्विनी कुमार ने निम्नलिखित में से किस पुस्तक को लिखा है ?

- (1) द राइज़ ऑफ सिवागामी
- (2) गांधी इन चंपारन
- (3) होप इन ए चैलेंज्ड डेमोक्रेसी : एन इंडियन नैरेटिव
- (4) द फ्लेमिंग ट्रेसस ऑफ द्रोपदी

56. With reference to the books published in 2017 and its authors, which among the following is the correct match ?

- | | |
|--|---------------------------------------|
| a. Istanbul : A Tale of Three Cities | i. Pankaj Mishra |
| b. Age of Anger : A History of the Present | ii. Paul Auster |
| c. 4321 : A Novel | iii. Sarah Crossan and Brian Conaghan |
| d. We Come Apart | iv. Bettany Hughes |
- | | | | | |
|-----|-----|-----|-----|-----|
| | a | b | c | d |
| (1) | iv | iii | ii | i |
| (2) | iv | i | ii | iii |
| (3) | i | ii | iii | iv |
| (4) | iii | iv | ii | i |

57. Which is the correct statement with reference to the recently launched e-RAKAM portal ?

- (1) A digital platform for exchanging currencies.
- (2) A digital platform for buying and selling agricultural products.
- (3) A digital platform for paying taxes.
- (4) A digital platform for imports and exports.

58. Which of the following statement is correct about the recently launched mobile app called 'Aarambh' by the Government of India ?

- (1) An app for performance based maintenance of roads.
- (2) An app for performance based maintenance of buildings.
- (3) An app for performance based maintenance of reservoirs.
- (4) An app for performance based maintenance of cleanliness.

59. Which of the following institution has recently launched the 'Mentor India' initiative ?

- (1) SHRAM Aayog
- (2) NITI Aayog
- (3) NAMO GANGE Aayog
- (4) Make in India Campaign

56. 2017 में प्रकाशित किताबों और उनके लेखकों का निम्नलिखित में से सही मेल-मिलान कौन सा है ?

- | | |
|--|------------------------------------|
| a. इस्तानबुल : ए टेल ऑफ थ्री सीटीज़ | i. पंकज मिश्रा |
| b. एज ऑफ एंगर : ए हिस्ट्री ऑफ द प्रेजेंट | ii. पॉल ऑस्टर |
| c. 4321 : ए नॉवल | iii. साराह क्रॉसन और ब्रायन कोनागन |
| d. वी कम अपार्ट | iv. बेटनी ह्यूस |
- | | | | | |
|-----|-----|-----|-----|-----|
| | a | b | c | d |
| (1) | iv | iii | ii | i |
| (2) | iv | i | ii | iii |
| (3) | i | ii | iii | iv |
| (4) | iii | iv | ii | i |

57. हाल ही में लांच किये गए ई-रकम पोर्टल के संबंध में कौन सा कथन सही है ?

- (1) मुद्राओं का आदान-प्रदान करने का डिजिटल प्लेटफॉर्म।
- (2) कृषि उत्पादों को खरीदने और बेचने का डिजिटल प्लेटफॉर्म।
- (3) कर चुकाने का डिजिटल प्लेटफॉर्म।
- (4) आयात और निर्यात का डिजिटल प्लेटफॉर्म।

58. निम्नलिखित में से कौन सा कथन भारतीय सरकार द्वारा लांच किये गये 'आरंभ' नामक मोबाइल एप्स के लिए सही है ?

- (1) यह एप्स सड़कों के रखरखाव के अनुपालन के लिये है।
- (2) यह एप्स इमारतों के रखरखाव के अनुपालन के लिये है।
- (3) यह एप्स जलाशयों के रखरखाव के अनुपालन के लिये है।
- (4) यह एप्स स्वच्छता के रखरखाव के अनुपालन के लिये है।

59. निम्नलिखित में से कौन से संस्थान ने हाल ही में 'मेंटर इंडिया' प्रोग्राम की पहल की है ?

- (1) श्रम आयोग
- (2) नीति आयोग
- (3) नमो गंगे आयोग
- (4) मेक इन इंडिया अभियान

Z

60. Which of the following State Government has recently launched the India's first student startup and innovation policy ?

- (1) Gujarat Government
- (2) Delhi Government
- (3) Haryana Government
- (4) Tamil Nadu Government

61. Which of the following is the correct statement regarding the 'Navika Sagar Parikrama Project', 2017 ?

- (1) First Indian Circumnavigation of the globe by an all women crew.
- (2) First global navigation of oceans by Indian men.
- (3) First navigation of seas and oceans by Indians.
- (4) First international circumnavigation.

62. What is the theme of the 2017 National Girl Child Day ?

- (1) Child Marriage Prohibition
- (2) Girl Child Safety
- (3) Beti Bachao, Beti Padhao
- (4) Beti Bachao, Beti Badhao

63. Which of the following is the correct statement regarding the new Open Acreage Licensing Policy for Oil and Gas Exploration ?

- (1) It prohibits licensing policy for oil exploration.
- (2) It allows bidders to carve out areas where they want to drill.
- (3) It prohibits licensing policy for gas exploration.
- (4) It allows oil and gas exportation.

(12)

TGNE

60. निम्नलिखित में से कौन सी राज्य सरकार ने हाल ही में भारत की सर्वप्रथम छात्र स्टार्टअप और नवाचार नीति की शुरुआत की है ?

- (1) गुजरात सरकार
- (2) दिल्ली सरकार
- (3) हरियाणा सरकार
- (4) तमिलनाडु सरकार

61. 2017 के 'नविका सागर परिक्रमा परियोजना' के बारे में निम्नलिखित में से कौन सा कथन सही है ?

- (1) केवल महिला चालक द्वारा सबसे पहली भारतीय समस्त भूमंडल की परिधि नौयात्रा।
- (2) भारतीय पुरुषों द्वारा महासागर की प्रथम यात्रा।
- (3) भारतीयों द्वारा समुद्रों और महासागरों की प्रथम नौयात्रा।
- (4) पहली अंतर्राष्ट्रीय परिधि नौयात्रा।

62. 2017 के राष्ट्रीय बालिका दिवस का विषय कौन सा है ?

- (1) बाल विवाह निषेध
- (2) लड़कियों की सुरक्षा
- (3) बेटी बचाओ, बेटी पढ़ाओ
- (4) बेटी बचाओ, बेटी बढ़ाओ

63. निम्नलिखित में से कौन सा कथन नवीनतम "ओपन एक्वीएज लाइसेंसिंग पॉलेसी फॉर ऑयल एण्ड गैस एक्सप्लोरेशन" के बारे में सही है ?

- (1) यह तेल अन्वेषण लाइसेंसिंग नीति को अनुबंधित करता है।
- (2) यह बोलीदाताओं को उन क्षेत्रों को उत्कीर्ण करने की अनुमति देता है जहाँ वे ड्रिल करना चाहते हैं।
- (3) यह गैस अन्वेषण लाइसेंसिंग नीति को अनुबंधित करता है।
- (4) यह तेल और गैस के निर्यात की अनुमति देता है।

TGNE

(13)

Z

64. Which of the following country is hosting the G7 Interior Minister's Summit on security in 2017 ?
(1) Canada (2) Italy
(3) France (4) Japan
65. Which of the following day was observed as International Literacy Day in 2017 ?
(1) August, 15 (2) January, 26
(3) September, 8 (4) April, 24
66. Where is the headquarters of the North Atlantic Treaty Organisation (NATO) located ?
(1) Brussels, Belgium
(2) Berlin, Germany
(3) Kathmandu, Nepal
(4) Paris, France
67. Which of the following day was observed as the National Girl Child Day in 2017 ?
(1) August, 15 (2) August, 24
(3) January, 26 (4) January, 24
68. In which country was the Women's Rugby World Cup held in 2017 ?
(1) Ireland (2) England
(3) Canada (4) France
69. Who among the following won the UEFA Men's Player of the year award for the 2016/17 session ?
(1) Paulo Dybala
(2) Cristiano Ronaldo
(3) Lionel Messi
(4) Casemiro
70. Which of the following country is still showing records of polio according to WHO ?
(1) Somalia (2) India
(3) Pakistan (4) Bangladesh
64. 2017 में निम्नलिखित में से कौन सा देश सुरक्षा पर G7 इंटरियर मिनिस्टर्स शिखर सम्मेलन की मेज़बानी कर रहा है ?
(1) कनाडा (2) इटली
(3) फ्रांस (4) जापान
65. 2017 में निम्नलिखित में से किस दिन को अंतर्राष्ट्रीय साक्षरता दिवस के रूप में मनाया गया ?
(1) अगस्त, 15 (2) जनवरी, 26
(3) सितंबर, 8 (4) अप्रैल, 24
66. निम्नलिखित में से उत्तरी अटलांटिक संधि संगठन (नाटो) का मुख्यालय कहाँ पर स्थित है ?
(1) ब्रुसेल्स, बेल्जियम
(2) बर्लिन, जर्मनी
(3) काठमांडू, नेपाल
(4) पेरिस, फ्रांस
67. 2017 में निम्नलिखित में से किस दिन को राष्ट्रीय बालिका दिवस के रूप में मनाया गया था ?
(1) अगस्त, 15 (2) अगस्त, 24
(3) जनवरी, 26 (4) जनवरी, 24
68. 2017 की महिला रग्बी विश्व कप प्रतियोगिता किस देश में आयोजित हुई थी ?
(1) आयरलैंड (2) इंग्लैंड
(3) कनाडा (4) फ्रांस
69. निम्नलिखित में से किसने पुरुषों के UEFA वार्षिक खिलाड़ी पुरस्कार को 2016/17 सत्र में जीता है ?
(1) पाउलो डिबोला
(2) क्रिस्टियानो रोनाल्डो
(3) लियोनल मेस्सी
(4) केसमीरो
70. विश्व स्वास्थ्य संगठन के अनुसार निम्नलिखित में से किस देश में अभी भी पोलियो पाया जा रहा है ?
(1) सोमालिया (2) भारत
(3) पाकिस्तान (4) बांग्लादेश

(2) REASONING ABILITY / तर्क संगत क्षमता

71. If first and the last day of the month are Sundays and the month has 5 Sundays, then the number of days in the month are

- (1) 28 (2) 29
(3) 30 (4) 31

72. Find the missing term in the series given below :

0, 4, 18, 48, ?, 180, 294

- (1) 72 (2) 90
(3) 100 (4) 142

73. Which number does not belong to the class ?

125, 343, 512, 476, 216

- (1) 476 (2) 343
(3) 216 (4) 125

74. Which of the numbers does not belong to the group ?

325, 473, 246, 583, 684

- (1) 684 (2) 583
(3) 473 (4) 325

75. If the 3rd of a month is Sunday and the month has 5 Sundays, then the month consists of how many days ?

- (1) 31 days (2) 30 days
(3) 29 days (4) 28 days

71. यदि किसी महीने का पहला और अन्तिम दिन रविवार हो, तथा महीने में 5 रविवार हों, तो वह महीना कितने दिन का होगा ?

- (1) 28 (2) 29
(3) 30 (4) 31

72. निम्नलिखित श्रेणी में छूटा हुआ पद ज्ञात कीजिए :

0, 4, 18, 48, ?, 180, 294

- (1) 72 (2) 90
(3) 100 (4) 142

73. निम्न अंकों में से कौन सा अंक दूसरे अंकों से मेल नहीं खाता ?

125, 343, 512, 476, 216

- (1) 476 (2) 343
(3) 216 (4) 125

74. दिये गये अंकों में से कौन सा अंक अन्य से भिन्न है ?

325, 473, 246, 583, 684

- (1) 684 (2) 583
(3) 473 (4) 325

75. यदि किसी महीने की तीसरी तारीख को रविवार हो तथा महीने में 5 रविवार हों, तो उस महीने में कुल कितने दिन होंगे ?

- (1) 31 दिन (2) 30 दिन
(3) 29 दिन (4) 28 दिन

TGNE

76. If 253 is coded as 352 and 475 is coded as 574, then 2317 would be coded as

- (1) 7321
- (2) 7231
- (3) 7123
- (4) 7132

77. If the 25th of July in a year is Thursday, the number of Tuesdays in that month will be _____

- (1) 3
- (2) 4
- (3) 5
- (4) 6

78. Which of the following is the next term of the series given below ?

ACX, BDU, CER, DFO, ?

- (1) FHN
- (2) EGL
- (3) DHN
- (4) DGM

79. Which of the following is the missing term of the series given below ?

1, 8, ?, 64, 25, 216

- (1) 4
- (2) 9
- (3) 27
- (4) 49

(15)

76. यदि एक सांकेतिक भाषा में 253 को 352 तथा 475 को 574 लिखा जाता है, तो 2317 को लिखा जायेगा :

- (1) 7321
- (2) 7231
- (3) 7123
- (4) 7132

77. यदि किसी वर्ष के जुलाई माह में 25 तारीख को बृहस्पतिवार है, तो उस माह में कितने मंगलवार होंगे ?

- (1) 3
- (2) 4
- (3) 5
- (4) 6

78. निम्नलिखित पदों में से कौन सा पद दी हुई श्रेणी का अगला पद है ?

ACX, BDU, CER, DFO, ?

- (1) FHN
- (2) EGL
- (3) DHN
- (4) DGM

79. निम्नलिखित में से कौन सा अंक दी गई श्रेणी के छूटे हुए पद को पूरा करेगा ?

1, 8, ?, 64, 25, 216

- (1) 4
- (2) 9
- (3) 27
- (4) 49

Z

80. From the given alternatives, select the word which cannot be formed using the letters of the given word.

MANUFACTURER

- (1) CURRENT
(2) NATURE
(3) FRACTURE
(4) MANNER

81. The word RACE is coded as 3124 and LEARN is coded as 54136, then CLEAR would be coded as

- (1) 25413 (2) 21354
(3) 25431 (4) 24135

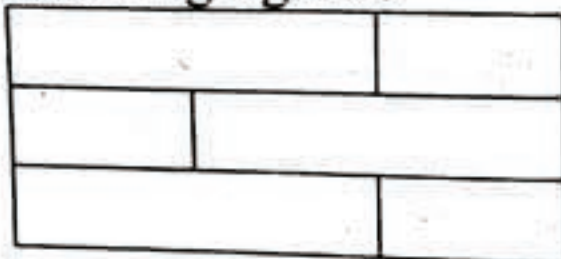
82. A student ranks 9th from top and 24th from the bottom in his class. The total number of children in the class is

- (1) 30
(2) 31
(3) 32
(4) 33

83. Which of the following words appears last of all the other three in the English dictionary?

- (1) Opportune (2) Opponent
(3) Oppress (4) Opposite

84. How many rectangles are there in the following figure?



- (1) 6 (2) 9
(3) 12 (4) 15

80. दिए गए विकल्पों में से उस शब्द को चुनिए जिसे दिए गए शब्द के अक्षरों के प्रयोग द्वारा नहीं बनाया जा सकता :

MANUFACTURER

- (1) CURRENT
(2) NATURE
(3) FRACTURE
(4) MANNER

81. एक सांकेतिक भाषा में RACE को लिखा जाता है 3124 तथा LEARN को लिखा जाता है 54136, तो CLEAR को लिखा जायेगा :

- (1) 25413 (2) 21354
(3) 25431 (4) 24135


82. अपनी कक्षा में एक छात्र का स्थान ऊपर से 9वाँ तथा नीचे से 24वाँ है। कक्षा में कुल बच्चों की संख्या है :

- (1) 30
(2) 31
(3) 32
(4) 33

83. निम्नलिखित शब्दों में कौन सा अन्य तीनों शब्दों के अंत में अंग्रेजी शब्दकोष में आता है?

- (1) Opportune (2) Opponent
(3) Oppress (4) Opposite

84. नीचे दी गई आकृति में कितने आयत हैं ?



- (1) 6 (2) 9
(3) 12 (4) 15

TGNE

(17)

Z

85. If 'new school' is coded as '23', 'school and teacher' as '304' and 'good teacher' is coded as 14, then 'good new teacher and school' would be coded as

- (1) 12403 (2) 21034
(3) 20431 (4) 14320

86. Some equations are solved on the basis of a certain system. On the same basis, find out the correct answer from amongst the four alternatives for the unsolved equation.

$$4 \Delta 5 = 29, 6 \Delta 7 = 55, 7 \Delta 8 = ?$$

- (1) 35
(2) 44
(3) 63
(4) 71

87. Which of the following fills the gap in the series?

$$11, 31, 41, \underline{\quad}, 71, 91$$

- (1) 43
(2) 47
(3) 51
(4) 61

88. If $121 : 1331$ and $169 : 2197$, then $289 : ?$

- (1) 2057 (2) 2873
(3) 4913 (4) 6859

89. In a certain code language PARK is coded as RCTM and SPARE is coded as URCTG, then BUCKET would be coded as

- (1) CVDLFU (2) FXEMGZ
(3) EXFNHW (4) DWEMGV

85. यदि एक कूट भाषा में 'new school' को '23' लिखा जाये, 'school and teacher' को '304' लिखा जाये, और 'good teacher' को '14' लिखा जाये। तो 'good new teacher and school' को लिखेंगे :

- (1) 12403 (2) 21034
(3) 20431 (4) 14320

86. कुछ समीकरण किसी विशेष प्रणाली के आधार पर हल किए गए हैं। इसी आधार पर, हल न किए गए समीकरण का सही उत्तर दिए गए चार विकल्पों में से ज्ञात कीजिए।

$$4 \Delta 5 = 29, 6 \Delta 7 = 55, 7 \Delta 8 = ?$$

- (1) 35
(2) 44
(3) 63
(4) 71

87. निम्नलिखित में से कौन सा अंक दी गई श्रेणी के खाली स्थान को भरता है?

$$11, 31, 41, \underline{\quad}, 71, 91$$

- (1) 43
(2) 47
(3) 51
(4) 61

88. यदि $121 : 1331$ तथा $169 : 2197$, तो $289 : ?$

- (1) 2057 (2) 2873
(3) 4913 (4) 6859

89. एक सांकेतिक भाषा में PARK को RCTM तथा SPARE को URCTG लिखा जाता है, तो BUCKET को लिखा जायेगा :

- (1) CVDLFU (2) FXEMGZ
(3) EXFNHW (4) DWEMGV

SPACE FOR ROUGH WORK / रफ कार्य के लिए जगह

$$Sch = 3 \quad NEW = 2$$

$$Teach = 4 \quad good = 1$$

$$And \dots = \dots$$

$$\dots = ?$$

Z

90. A man walks 6 m towards south and then turns right. After walking 4 m, he again turns right and walks 6 m. In which direction is he now from the starting point ?


- (1) West (2) East
(3) North (4) South

91. What will be the order of appearance of following words in English dictionary ?

- i. Breath ii. Breast
iii. Breadth iv. Breach

- (1) i, ii, iii, iv
(2) iv, ii, i, iii
(3) iv, iii, ii, i
(4) iii, i, iv, ii

92. What is the number of triangles in the following figure ?



- (1) 12 (2) 16
(3) 20 (4) 24

93. Five students are sitting in a row. Tushant is on the right of Ravi. Manoj is on the left of Ravi but on the right of Lokesh. Tushant is on the left of Kunal. Who is sitting in the middle ?

- (1) Ravi (2) Tushant
(3) Lokesh (4) Manoj

(18)

TGNE

90. एक व्यक्ति 6 मीटर दक्षिण की ओर चलकर दायें मुड़ जाता है। फिर 4 मीटर चलने के बाद दायें मुड़ जाता है और 6 मीटर चलता है। अब वह अपने आरम्भिक स्थान से किस दिशा में है ?

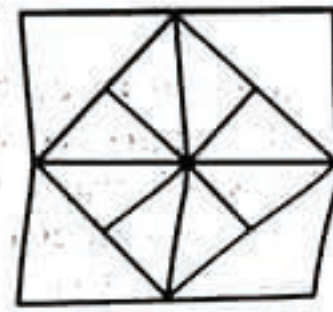
- (1) पश्चिम (2) पूर्व
(3) उत्तर (4) दक्षिण

91. अंग्रेजी शब्दकोश में निम्नलिखित शब्दों का क्रम क्या होगा ?

- i. Breath ii. Breast
iii. Breadth iv. Breach

- (1) i, ii, iii, iv
(2) iv, ii, i, iii
(3) iv, iii, ii, i
(4) iii, i, iv, ii

92. नीचे दी गई आकृति में त्रिभुजों की संख्या क्या होगी ?



- (1) 12 (2) 16
(3) 20 (4) 24

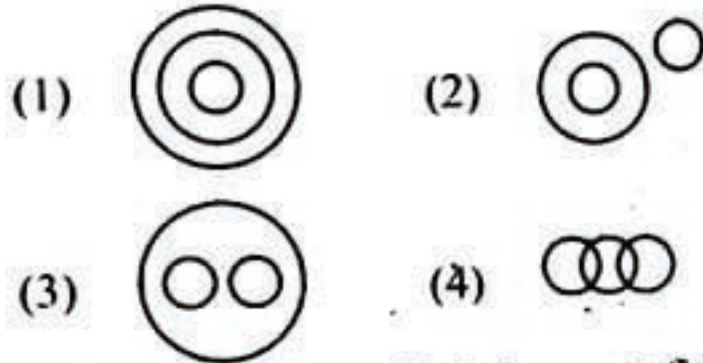
93. पाँच विद्यार्थी एक पंक्ति में बैठे हैं। तुशान्त, रवि के दाहिनी ओर बैठा है। मनोज, रवि के बायीं ओर किन्तु लोकेश के दाहिनी ओर बैठा है। तुशान्त, कुणाल के बायीं ओर बैठा है। सबके बीच में कौन बैठा है ?

- (1) रवि (2) तुशान्त
(3) लोकेश (4) मनोज

TGNE

94. Identify the diagram that best represents the relationship among classes given below :

Liquids, Milk, Oil



95. Find the number which does not fit in the series :

2, 3, 5, 7, 9, 11, 13

- (1) 5 (2) 7
(3) 9 (4) 13

96. Which two numbers do not fit in the series ?

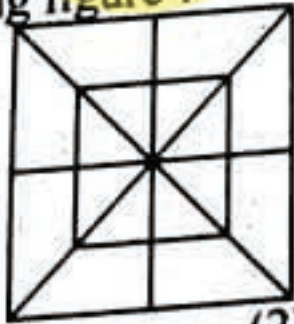
13, 23, 33, 43, 53, 63, 73

- (1) (23, 43) (2) (33, 63)
(3) (13, 53) (4) (53, 73)

97. The sum of ages of three brothers born at intervals of 5 years, is 36 years. The difference between the ages of eldest and the youngest brother is

- (1) 5 years (2) 10 years
(3) 12 years (4) 15 years

98. How many triangles are there in the following figure ?



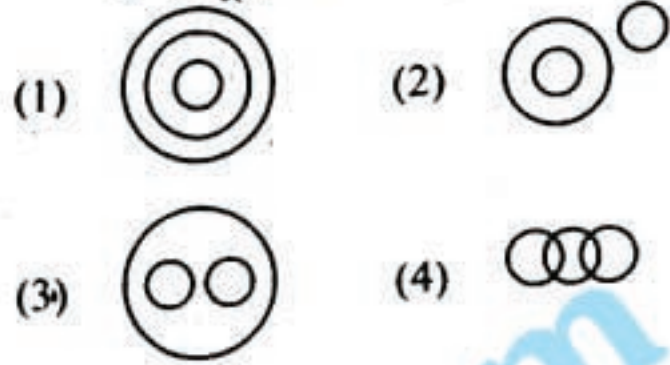
- (1) 12 (2) 20
(3) 28 (4) 32

(19)

Z

94. वह आरेख चुनिए जो नीचे दिए गए वर्गों के बीच सम्बन्ध का सही निरूपण करता है :

द्रव्य, दूध, तेल



95. निम्नलिखित श्रेणी में वह अंक बताइये जो इस श्रेणी में उचित नहीं है :

2, 3, 5, 7, 9, 11, 13

- (1) 5 (2) 7
(3) 9 (4) 13

96. निम्नलिखित श्रेणी में कौन से दो पद अन्य से मेल नहीं खाते ?

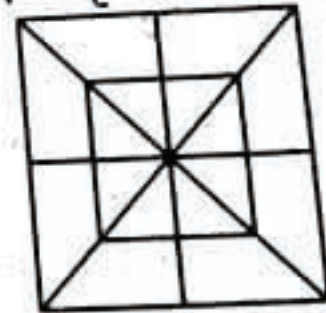
13, 23, 33, 43, 53, 63, 73

- (1) (23, 43) (2) (33, 63)
(3) (13, 53) (4) (53, 73)

97. प्रत्येक पाँच वर्ष के अन्तराल पर पैदा हुए तीन भाइयों की वर्तमान आयु का योगफल 36 वर्ष है। सबसे बड़े और सबसे छोटे की वर्तमान उम्र में अन्तर है :

- (1) 5 वर्ष (2) 10 वर्ष
(3) 12 वर्ष (4) 15 वर्ष

98. नीचे दी गई आकृति में कितने त्रिभुज हैं ?



- (1) 12 (2) 20
(3) 28 (4) 32

SPACE FOR ROUGH WORK / रफ कार्य के लिए जगह

Z

99. CAPE is coded as 1243 and HOLD is coded as 5867, then HEAD would be coded as

- (1) 7632 (2) 5327
(3) 8247 (4) 5627

100. If 312 is written as 6 and 654 is written as 15, then 978 would be written as

- (1) 17 (2) 19
(3) 24 (4) 27

101. A man walks 3 km towards north of his house and turns left and walks 2 km. Then he turns right and walks 1 km. Then he again turns right and walks 5 km. How far is he now from his house?

- (1) 4 km (2) 5 km
(3) 8 km (4) 11 km

102. Mukesh is the brother of Satish. Deepti is the sister of Saurabh. Satish is the son of Deepti. How is Mukesh related to Deepti?

- (1) Nephew (2) Son
(3) Brother (4) Father

103. Which of the following is the next term in the series?

ABZ, CDX, EFV, GHT, ?

- (1) JLT (2) IKS
(3) JKR (4) IJR

104. STOP : POTS and RATS : STAR, then START : ?

- (1) TRATS (2) RATTs
(3) STRTA (4) TRTSA

(20)

TGNE

99. एक सांकेतिक भाषा में CAPE को 1243 तथा HOLD को 5867 लिखा जाता है। उसी सांकेतिक भाषा में HEAD को लिखा जायेगा :

- (1) 7632 (2) 5327
(3) 8247 (4) 5627

100. यदि 312 को 6 और 654 को 15 लिखा जाये, तो 978 को क्या लिखा जाएगा ?

- (1) 17 (2) 19
(3) 24 (4) 27

101. एक व्यक्ति अपने घर से 3 किमी. उत्तर की ओर चलता है और उसके बाद बायीं तरफ मुड़कर 2 किमी. चलता है। उसके बाद वह दायीं ओर मुड़कर 1 किमी. चलता है और फिर दायीं ओर मुड़कर 5 किमी. चलता है। अब वह अपने घर से कितनी दूर है ?

- (1) 4 किमी. (2) 5 किमी.
(3) 8 किमी. (4) 11 किमी.

102. मुकेश, सतीश का भाई है। दीप्ति, सौरभ की बहिन है। सतीश, दीप्ति का पुत्र है। मुकेश दीप्ति से किस प्रकार सम्बन्धित है ?

- (1) भतीजा (2) पुत्र
(3) भाई (4) पिता

103. निम्नलिखित में से कौन सा पद दी गई श्रेणी का अगला पद है ?

ABZ, CDX, EFV, GHT, ?

- (1) JLT (2) IKS
(3) JKR (4) IJR

104. STOP : POTS तथा RATS : STAR, तो START : ?

- (1) TRATS (2) RATTs
(3) STRTA (4) TRTSA

TGNE

(21)

Z

105. What is related to 'Hockey' in the same way as 'Umpire' is related to 'Cricket'?

- (1) Captain (2) Player
(3) Spectator (4) Referee

105. 'हॉकी' से कौन उसी प्रकार सम्बन्धित है, जिस प्रकार 'अम्पायर' सम्बन्धित है 'क्रिकेट' से?

- (1) कैप्टेन (2) खिलाड़ी
(3) दर्शक (4) रैफरी

106. Find the missing number '?'

7	9	8
12	2	?
5	13	6

- (1) 14 (2) 12
(3) 10 (4) 9

106. लुप्त संख्या ज्ञात कीजिए :

7	9	8
12	2	?
5	13	6

- (1) 14 (2) 12
(3) 10 (4) 9

107. Find the missing term in the series given below :

5374261, 537426, 37426, ?, 742, 74,

- (1) 5374 (2) 4261
(3) 3742 (4) 7426

107. निम्नलिखित श्रेणी में लुप्त पद ज्ञात कीजिए।

5374261, 537426, 37426, ?, 742, 74,

- (1) 5374 (2) 4261
(3) 3742 (4) 7426

108. Find the missing terms in the given series in their natural order :

2, 4, 3, ?, 5, 25, ?, 49, 11, ?

- (1) 9, 7, 121 (2) 9, 6, 144
(3) 6, 36, 121 (4) 5, 125, 144

108. निम्नलिखित श्रेणी में छूटे हुए पदों को उनके स्वाभाविक क्रम में ज्ञात कीजिए :

2, 4, 3, ?, 5, 25, ?, 49, 11, ?

- (1) 9, 7, 121 (2) 9, 6, 144
(3) 6, 36, 121 (4) 5, 125, 144

109. Which of the following numbers continues the series given below ?

0, 7, 26, 63, 124, ?

- (1) 192 (2) 200
(3) 208 (4) 215

109. निम्नलिखित में से कौन सा अंक दी गई श्रेणी को आगे बढ़ायेगा ?

0, 7, 26, 63, 124, ?

- (1) 192 (2) 200
(3) 208 (4) 215

110. Which number does not belong to the class of other three ?

- (1) 5202 (2) 3411
(3) 2431 (4) 1413

110. निम्नलिखित में से कौन सा अंक दूसरों से मेल नहीं खाता ?

- (1) 5202 (2) 3411
(3) 2431 (4) 1413

SPACE FOR ROUGH WORK / रफ कार्य के लिए जगह

(3) TEACHING METHODOLOGY / शिक्षण पद्धति

111. If it is said that students of class VII are not able to read and write, what could be the most important reason for this situation ?

- (1) Less intelligent children
- (2) Carelessness of parents
- (3) No detention policy
- (4) Insensitive implementation of CCE

112. In Educational technology, application of psychology is known as _____.

- (1) Software approach
- (2) Hardware approach
- (3) Pedagogic approach
- (4) Systems analysis

113. Moral values can be best inculcated amongst students by

- (1) arranging lectures of eminent persons
- (2) co-curricular activities
- (3) relevant literature
- (4) teacher as a role model

114. Operation Black Board was initiated as a follow up of recommendations of

- (1) NPE 1986
- (2) CABE
- (3) Kothari Commission (1964-66)
- (4) National Curriculum for Elementary and Secondary Education - A Framework 1988

115. In the modern era of fast technological advancement, what could be its most serious side effect ?

- (1) Role of teachers would vanish
- (2) Class-rooms would become smart
- (3) Learning would become easier
- (4) Moral values would get eroded

111. यदि यह कहा जाए कि कक्षा 7 के बच्चे लिखना-पढ़ना नहीं जानते, तो इस परिस्थिति का सबसे महत्वपूर्ण कारण क्या रहा होगा ?

- (1) विद्यार्थियों का मंद बुद्धि होना
- (2) अभिभावकों की लापरवाही
- (3) अवरोध रहित नीति
- (4) सतत एवं व्यापक मूल्यांकन का असंवेदनशील प्रयोग

112. शैक्षिक तकनीकी में मनोविज्ञान के प्रयोग को क्या कहते हैं ?

- (1) नरम उपागम
- (2) कठोर उपागम
- (3) शिक्षाशास्त्रीय उपागम
- (4) प्रणाली विश्लेषण

113. विद्यार्थियों में नैतिक मूल्यों की श्रेष्ठतम स्थापना की जा सकती है

- (1) लब्ध प्रतिष्ठ व्यक्तियों के भाषणों से
- (2) पाठ्य-सहगामी क्रियाओं से
- (3) प्रासंगिक साहित्य से
- (4) शिक्षक के अनुकरणीय व्यक्तित्व से

114. ऑपरेशन ब्लैक बोर्ड को निम्नांकित में से किसकी अनुशंसाओं की अनुवर्ती कार्यवाही के रूप में प्रारंभ किया गया था ?

- (1) राष्ट्रीय शिक्षा नीति, 1986
- (2) केन्द्रीय शिक्षा सलाहकार बोर्ड
- (3) कोठारी कमीशन (1964-66)
- (4) प्रारंभिक और माध्यमिक शिक्षा का पाठ्यक्रम - एक रूपरेखा (1988)

115. वर्तमान तीव्र प्रौद्योगिकी विकास काल में सबसे बड़ा अवांति-प्रभाव होगा

- (1) शिक्षकों की भूमिका समाप्त हो जाएगी
- (2) कक्षा-कक्ष प्रखर होंगे
- (3) अधिगम सुगमतर होगा
- (4) नैतिक मूल्यों का हास होगा

116. Teacher should begin a new topic or lesson with

- (1) teacher's own experiences
- (2) some interests already possessed by students
- (3) an overview of the subject
- (4) explaining the importance of the subject

117. Which measure of central tendency represents a point and not a value ?

- (1) Mean
- (2) Median
- (3) Mode
- (4) Average

118. If the students are classified on the basis of intelligence level, the average group will comprise of middle _____.

- (1) 33.33 percent
- (2) 40.00 percent
- (3) 50.00 percent
- (4) 68.26 percent

119. A good 'Head of School' is one who

- (1) understands educational administration and applies its principles in toto
- (2) does not compromise with misconduct
- (3) is flexible in approach and works co-operatively with human touch
- (4) allows freedom to teachers and students in their affairs

120. Best way to monitor progress is

- (1) monitoring by superiors
- (2) self monitoring
- (3) monitoring by peers
- (4) societal monitoring

116. शिक्षक को नया उपविषय या पाठ प्रारंभ करना चाहिए

- (1) शिक्षक स्वयं के अनुभवों से
- (2) शिक्षार्थियों में उपलब्ध कुछ रुचियों से
- (3) विषय के सिंहावलोकन से
- (4) विषय के महत्त्व की व्याख्या से

117. कौन सा केन्द्रीय प्रवृत्ति का माप मूल्य नहीं, बिन्दु को दर्शाता है ?

- (1) मध्यमान
- (2) माध्यिका
- (3) बहुलांक
- (4) औसत

118. यदि विद्यार्थियों को बुद्धि स्तर के अनुसार वर्गीकृत किया जाए तो सामान्य समूह में मध्य के कितने प्रतिशत बच्चे आएँगे ?

- (1) 33.33 प्रतिशत
- (2) 40.00 प्रतिशत
- (3) 50.00 प्रतिशत
- (4) 68.26 प्रतिशत

119. एक शैक्षिक संस्था का अच्छा 'प्रधान' वह है, जो

- (1) शैक्षिक प्रशासन को समझता है और उसके सिद्धान्तों को अक्षरशः लागू करता है
- (2) अनुशासनहीनता को सहन नहीं करता है
- (3) लचीला रुख अपनाता है और मानवीय व्यवहार के साथ सहयोगपूर्वक कार्य करता है
- (4) शिक्षकों और विद्यार्थियों को उनके कार्य-कलापों में स्वतंत्रता देता है

120. प्रगति के अनुवीक्षण का श्रेष्ठतम तरीका क्या होता है ?

- (1) वरिष्ठों द्वारा अनुवीक्षण
- (2) स्व-अनुवीक्षण
- (3) सहकर्मियों द्वारा अनुवीक्षण
- (4) समाज द्वारा अनुवीक्षण

Z

121. As per RTE Act 2009, preparation of the school development plan is the responsibility of

- (1) School Head Teacher
- (2) School Management Committee
- (3) Block Education Officer
- (4) Cluster Resource Person

122. As per RTE Act 2009, a full time head-teacher is provided in a school having classes sixth to eighth where admission of children is above

- (1) 80
- (2) 100
- (3) 120
- (4) 130

123. Continuous and Comprehensive Evaluation (CCE) in the school context, implies

- (1) continuous monitoring of teachers' performance
- (2) assessment not to be spread over the total instructional time
- (3) assessment of both scholastic and co-scholastic aspects of children's learning
- (4) making teacher accountable to both parents and school authorities

124. The corporal punishment in schools has been prohibited by the

- (1) Child Labour Prohibition Act
- (2) National Policy on Education 1986
- (3) National Curriculum Framework 2005
- (4) RTE Act, 2009

(24)

TGNE

121. निःशुल्क एवं अनिवार्य शिक्षा अधिनियम, 2009 के अनुसार विद्यालय विकास योजना का निर्माण किसका दायित्व है ?

- (1) विद्यालय मुख्याध्यापक
- (2) विद्यालय प्रबन्धन समिति
- (3) खण्ड शिक्षा अधिकारी
- (4) समूह स्रोत व्यक्ति

122. निःशुल्क एवं अनिवार्य शिक्षा अधिनियम, 2009 के अनुसार छठी से आठवीं कक्षा तक के विद्यालय के लिए एक पूर्णकालिक मुख्याध्यापक उपलब्ध कराया जाएगा जहाँ बच्चों की प्रवेश संख्या होगी

- (1) 80 से अधिक
- (2) 100 से अधिक
- (3) 120 से अधिक
- (4) 130 से अधिक

123. विद्यालय के संदर्भ में सतत् एवं व्यापक मूल्यांकन से आशय है

- (1) शिक्षकों की कार्यक्षमता का सतत् अनुवीक्षण
- (2) मूल्यांकन को पूर्ण अनुदेशन समय में न फैलाना
- (3) बालक अधिगम के पाठ्यचर्या एवं सह-पाठ्यचर्या, दोनों पक्षों का मूल्यांकन
- (4) अध्यापक को माता-पिता और विद्यालयी अधिकारी वर्ग के प्रति उत्तरदायी बनाना

124. विद्यालयों में शारीरिक दण्ड पर रोक लगी है

- (1) बाल श्रम निरोधक अधिनियम द्वारा
- (2) राष्ट्रीय शिक्षा नीति, 1986 द्वारा
- (3) राष्ट्रीय पाठ्यचर्या की रूपरेखा 2005 द्वारा
- (4) आर.टी.ई. अधिनियम, 2009 द्वारा

125. Critical pedagogy does not entail the following :

- (1) acceptance of multiple views on social issues
- (2) supremacy of role models to follow
- (3) democracy as a way of life
- (4) collective decision making through open discussion

126. Behaviour indications are used in the learning theory given by

- (1) Kohler (2) Hull
- (3) Thorndike (4) Skinner

127. Conditions of learning were given by

- (1) Skinner (2) Robert Gagne
- (3) Watson (4) Maslow

128. The concept of primary mental abilities was given by

- (1) Guilford (2) Thurstone
- (3) Spearman (4) Vernon

129. Children take more interest in classroom activities when

- (1) teacher behaves in a friendly manner
- (2) subject matter is very easy to comprehend
- (3) teacher commands a good personality
- (4) classroom activities closely relate to their own experiences

130. Which one of the following constitutes first step in the sequence of concept formation ?

- (1) Abstraction
- (2) Experiencing
- (3) Differentiation
- (4) Generalization

131. Students respect their teacher primarily owing to his/her

- (1) legal authority
- (2) personal integrity and goodwill
- (3) popularity and influence
- (4) adult status

125. विवेचित शिक्षा-शास्त्र के लिए अपरिहार्य नहीं है

- (1) सामाजिक मामलों में विविध विचारों की स्वीकृति
- (2) अनुकरण हेतु आदर्श व्यक्तित्व की प्रवृत्ता
- (3) लोकतंत्र जीवनचर्या के रूप में
- (4) खुली चर्चा द्वारा सामूहिक निर्णय लेना

126. व्यवहार संकेतों का प्रयोग किसके द्वारा दिए गए अधिगम सिद्धान्त में होता है ?

- (1) कोहलर (2) हल
- (3) थॉर्नडाइक (4) स्किनर

127. अधिगम की शर्तें दी गई थीं

- (1) स्किनर द्वारा (2) रॉबर्ट गैने द्वारा
- (3) वाटसन द्वारा (4) मॉस्लो द्वारा

128. प्राथमिक मानसिक योग्यताओं की संकल्पना को किसने दिया था ?

- (1) गिलफोर्ड (2) थर्स्टन
- (3) स्पीयरमैन (4) वर्नन

129. बच्चे कक्षा में अधिक रुचि लेते हैं, जब :

- (1) शिक्षक मैत्रीपूर्ण व्यवहार करता है
- (2) विषयवस्तु समझने में बहुत सरल होती है
- (3) अध्यापक अच्छे व्यक्तित्व का धनी है
- (4) कक्षा-कक्ष क्रियाएँ बच्चों के अपने अनुभवों से निकट सम्बन्ध रखती है

130. निम्नांकित में से कौन सा पद अवधारणा निर्माणक्रम में पहले आता है ?

- (1) सारांशीकरण
- (2) अनुभूतिकरण
- (3) अन्तरीकरण
- (4) सामान्यीकरण

131. विद्यार्थी अपने शिक्षक को आदर मुख्यतः उसकी किस विशेषता के कारण देते हैं ?

- (1) कानूनी अधिकार
- (2) व्यक्तिगत सत्यनिष्ठा और सद्भाव
- (3) लोकप्रियता और प्रभाव
- (4) प्रौढ़ता स्तर

Z

132. Social mobility does not promote
- (1) higher positions to deserving persons
 - (2) welfare and happiness
 - (3) pride and snobbery
 - (4) remedy for maladjustment

133. Which of the following information about the child need not be emphasized in guidance ?

- (1) Child's previous experiences and examination results
- (2) Child's interest, aspiration and other qualities
- (3) Parents' religion, caste and Social status
- (4) Parental aspirations

134. Which one of the following is not an element of creativity ?

- (1) Frequency
- (2) Conservation
- (3) Flexibility
- (4) Elaboration

135. Which of the following was not the main consideration of Rabindranath Tagore while conceptualizing a World University - Viswa Bharti ?

- (1) Going beyond aggressive nationalism
- (2) Building friendship with all nations
- (3) Emphasize co-operation between east and west
- (4) Emphasizing oriental philosophy

136. Kilpatrick's Project method is an outcome of

- (1) Pragmatism alone
- (2) Pragmatism and Realism
- (3) Realism alone
- (4) Realism and Idealism

(26)

TGNE

132. सामाजिक गतिशीलता किसे बढ़ावा नहीं देती है ?

- (1) सुयोग्य व्यक्तियों को उच्च पद
- (2) कल्याण एवं प्रसन्नता
- (3) अभिमान और वर्गदम्भ
- (4) कुसमायोजन का उपचार

133. शैक्षिक निर्देशन के समय निम्नांकित में से किस पर जोर नहीं देना चाहिए ?

- (1) बालक के पूर्व अनुभव और परीक्षा परिणाम
- (2) बालक की रुचियाँ, आकांक्षाएँ और अन्य गुण
- (3) अभिभावकों का धर्म, जाति और सामाजिक स्तर
- (4) अभिभावकों की आकांक्षाएँ

134. निम्नांकित में से कौन सा सृजनात्मकता का तत्त्व नहीं है ?

- (1) आवृत्ति
- (2) संरक्षण
- (3) नम्यता
- (4) विस्तरण

135. निम्नांकित में से कौन सा एक मुख्य विचार बिन्दु नहीं था जब रबीन्द्रनाथ टैगोर एक वैश्विक विश्वविद्यालय - विश्व भारती को संकल्पित कर रहे थे ?

- (1) आक्रामक राष्ट्रीयता से परे जाना
- (2) सभी राष्ट्रों से मित्रता बनाना
- (3) पूर्व व पश्चिम के मध्य सहयोग पर जोर
- (4) प्राच्य दर्शन पर जोर

136. किलपैट्रिक की प्रोजेक्ट विधि प्रतिफल है

- (1) केवल प्रयोजनवाद
- (2) प्रयोजनवाद और यथार्थवाद
- (3) केवल यथार्थवाद
- (4) यथार्थवाद और आदर्शवाद

137. In a good school time-table, which one of the following is not desirable ?

- (1) Assignment of subjects as per qualification of teachers
- (2) Fixed provision of time and place for activities by teachers and students
- (3) Opportunity for equipment utilization
- (4) Provision for both longer and shorter periods

138. Which one of the following is not a projective test of personality ?

- (1) Personality inventories
- (2) Sentence completion test
- (3) Rorschach Ink Block test
- (4) Thematic Apperception test

139. Minimum Levels of Learning (MLLs) (1991) were identified to

- (1) combine quality with equity
- (2) help every child pass the class
- (3) make aware the parents about children's learning levels
- (4) reduce the work load of teachers

140. Role of teacher in Front Line Curriculum happens to be of a/an

- (1) Academic Leader
- (2) Pace Setter
- (3) Neutral person
- (4) Co-learner

141. Identify the correct sequence in the Taxonomy Affective Domain given by Bloom, Krathwohl and Masiz (1964) :

- (1) Receiving, valuing, responding, characterization and organization
- (2) Receiving, responding, valuing, organization and characterization
- (3) Receiving, valuing, organization, characterization and responding
- (4) Receiving, responding, organization, valuing and characterization

137. एक अच्छी समय-सारणी में निम्नांकित में से क्या अवांछनीय है ?

- (1) शिक्षकों को योग्यतानुसार विषय देना
- (2) शिक्षकों और शिक्षार्थियों के लिए निश्चित समय और स्थान का आबंटन
- (3) उपकरणों के प्रयोग के अवसर
- (4) दोनों छोटे और बड़े कालांशों की व्यवस्था

138. निम्नांकित में से कौन सा व्यक्तित्व का प्रक्षेपण परीक्षण नहीं है ?

- (1) व्यक्तित्व मापन सूचियाँ
- (2) वाक्य-पूर्ति परीक्षण
- (3) रोशा स्याही धब्बा परीक्षण
- (4) थेमेटिक अपरसेप्शन टेस्ट

139. न्यूनतम अधिगम स्तर (एम.एल.एल.) (1991) स्थापित किए गए थे

- (1) समता और गुणवत्ता के संयोजन हेतु
- (2) प्रत्येक बालक को कक्षा उत्तीर्ण करने में सहायता हेतु
- (3) अभिभावकों को बच्चों के अधिगम स्तरों की जानकारी देने हेतु
- (4) शिक्षकों का कार्य बोझ कम करने के लिए

140. अग्रिम पंक्ति पाठ्यक्रम में शिक्षक किस भूमिका में होता है ?

- (1) शैक्षिक नेता
- (2) प्रगति निर्धारक
- (3) तटस्थ व्यक्ति
- (4) सह-अध्येता

141. ब्लूम, क्रैथवाल और मासिज (1964) द्वारा दिए गए भावात्मक क्षेत्र के वर्गीकरण का सही क्रम पहचानिए ।

- (1) ग्रहण, अनुमूल्यन, प्रतिक्रिया, चारित्रीकरण और संगठन
- (2) ग्रहण, प्रतिक्रिया, अनुमूल्यन, संगठन और चारित्रीकरण
- (3) ग्रहण, अनुमूल्यन, संगठन, चारित्रीकरण और प्रतिक्रिया
- (4) ग्रहण, प्रतिक्रिया, संगठन, अनुमूल्यन और चारित्रीकरण

142. What is the main reason for programmes like Sarva Shiksha Abhiyan not being able to yield desired educational outcomes ?

- (1) Teachers are in short supply
- (2) Inspection and supervision is weak
- (3) Quality dimensions are not monitored properly
- (4) Children come from impoverished backgrounds

143. Which one of the following is not an aim of Sarva Shiksha Abhiyan ?

- (1) All children to be in school
- (2) Most of the children get vocational education
- (3) Bridging all gender and social category gaps
- (4) All children complete eight years of schooling

144. If the steps in an institutional planning are assigned codes as under :

- | | |
|--------------------------|-----|
| Formulation of objective | - a |
| Activities planned | - b |
| Situational analysis | - c |
| Monitoring mechanisms | - d |
| Evaluation and feedback | - e |

What is the correct sequence of events ?

- (1) b, a, c, e, d
- (2) c, a, b, d, e
- (3) a, b, c, d, e
- (4) c, b, a, e, d

145. Action Research is done by

- (1) Scholars for a degree
- (2) Social workers for implementing projects
- (3) Practitioners for improving their practices
- (4) Educational planners and administrators

142. क्या प्रमुख कारण हैं कि सर्व शिक्षा अभियान जैसे कार्यक्रमों से वांछित शैक्षिक परिणाम उपलब्ध नहीं हो पाते हैं ?

- (1) शिक्षक कम संख्या में हैं
- (2) निरीक्षण और पर्यवेक्षण कमजोर है
- (3) गुणवत्ता के आयामों का उचित अनुवीक्षण नहीं हो रहा है
- (4) बच्चे अभावग्रस्त परिवेश से आते हैं

143. निम्नांकित में से कौन सा सर्व शिक्षा अभियान का उद्देश्य नहीं है ?

- (1) सभी बच्चे विद्यालय में हों
- (2) अधिकांश बच्चे व्यावसायिक शिक्षा प्राप्त कर सकें
- (3) सभी लिंग व सामाजिक वर्ग विभेद मिट सकें
- (4) सभी बच्चे आठ वर्ष की शिक्षा प्राप्त करें

144. यदि संस्थागत नियोजन के पदों को निम्न प्रकार संकेतित किया गया है :

- | | |
|------------------------|-----|
| उद्देश्य निर्धारण | - a |
| नियोजित क्रियाकलाप | - b |
| परिस्थिति विश्लेषण | - c |
| अनुश्रवण प्रणालियाँ | - d |
| मूल्यांकन और पृष्ठपोषण | - e |

घटनाओं का सही क्रम क्या होगा ?

- (1) b, a, c, e, d
- (2) c, a, b, d, e
- (3) a, b, c, d, e
- (4) c, b, a, e, d

145. क्रियात्मक अनुसंधान किनके द्वारा किया जाता है ?

- (1) कृतविद्य व्यक्तियों द्वारा उपाधि हेतु
- (2) सामाजिक कार्यकर्ताओं द्वारा परियोजनाओं को लागू करने के लिए
- (3) व्यवसायकर्ताओं द्वारा अपनी कार्यप्रणाली में सुधार हेतु
- (4) शैक्षिक नियोजकों और प्रशासकों द्वारा

146. Which one is not considered a theory of motivation ?

- (1) Self Actualization Theory
- (2) Psychoanalytic Theory
- (3) Interference Theory
- (4) Achievement Motivation Theory

147. If one of your students complains of injustice that she/he has been awarded less marks, you would

- (1) justify the evaluation done.
- (2) ask him/her to mind his/her business.
- (3) ask her to report to the principal as per rules.
- (4) allow comparison of her/his script with others.

148. How can reliability of a test be increased ?

- (1) By seeking experts' agreement
- (2) By increasing the test length
- (3) By shortening the test length
- (4) By arranging items in order of difficulty

149. A good Diagnostic test tells us about

- (1) the level of accomplishment of children
- (2) the quality of classroom instruction
- (3) the areas of child's weakness and the plausible reasons
- (4) the effectiveness of the teacher

150. Which philosophy of education termed the role of a teacher as mere guide and observer ?

- (1) Naturalism
- (2) Idealism
- (3) Realism
- (4) Pragmatism

146. निम्नांकित में से कौन सा अभिप्रेरणा का सिद्धान्त नहीं है ?

- (1) स्व कार्यान्वयन सिद्धान्त
- (2) मनोविश्लेषणात्मक सिद्धान्त
- (3) व्यतिकरण सिद्धान्त
- (4) उपलब्धि अभिप्रेरण सिद्धान्त

147. यदि कोई विद्यार्थी उसके साथ हुए अन्याय की शिकायत करता है कि उसे कम अंक मिले हैं, तो आप

- (1) मूल्यांकन को न्यायसंगत बताएँगे
- (2) उसे अपने काम से काम रखने के लिए कहेंगे
- (3) उसे नियमानुसार प्राचार्य से शिकायत करने के लिए कहेंगे
- (4) उसकी उत्तर पुस्तिका का मिलान दूसरों के साथ करा देंगे

148. एक परीक्षण की विश्वसनीयता कैसे बढ़ाई जा सकती है ?

- (1) विशेषज्ञों की सहमति प्राप्त करके
- (2) परीक्षण की लम्बाई बढ़ाकर
- (3) परीक्षण को छोटा करके
- (4) पदों को कठिनाई स्तर के अनुसार क्रमबद्ध करके

149. एक अच्छा निदानात्मक परीक्षण हमें बताता है कि

- (1) बच्चों का उपलब्धि का स्तर क्या है
- (2) कक्षा में अनुदेशन की गुणवत्ता क्या है
- (3) बच्चे की कमजोरी के क्षेत्र और उसके संभावित कारण क्या हैं
- (4) शिक्षक की प्रभावशीलता क्या है

150. किस शिक्षा दर्शन के अनुसार शिक्षक की भूमिका मात्र पथप्रदर्शक और प्रेक्षक की बताई गई ?

- (1) प्रकृतिवाद
- (2) आदर्शवाद
- (3) यथार्थवाद
- (4) प्रयोजनवाद