



A

संच क्र.

2022

जाहिरात क्रमांक 994/2022
परीक्षा दि. 08/03/2022

प्रश्नपुस्तिका - II

D17

306385

प्रश्नपुस्तिका क्रमांक
BOOKLET NO.

सामान्य क्षमता चाचणी व
पदासंबंधीचे/विषयासंबंधीचे ज्ञान

एकूण प्रश्न : 100

वेळ : 1 (एक) तास

एकूण गुण : 100

सूचना

- (1) सदर प्रश्नपुस्तिकेत 100 अनिवार्य प्रश्न आहेत. उमेदवारांनी प्रश्नांची उत्तरे लिहिण्यास सुरुवात करण्यापूर्वी या प्रश्नपुस्तिकेत सर्व प्रश्न आहेत किंवा नाहीत याची खात्री करून घ्यावी. तसेच अन्य काही दोष आढळल्यास ही प्रश्नपुस्तिका समवेक्षकांकडून लगेच बदलून घ्यावी.

परीक्षा-क्रमांक									

केंद्राची संकेताक्षरे

शेवटचा अंक

- (2) आपला परीक्षा-क्रमांक ह्या चौकोनात न विसरता बॉलपेनने लिहावा.

- (3) वर छापलेला प्रश्नपुस्तिका क्रमांक तुमच्या उत्तरपत्रिकेवर विशिष्ट जागी उत्तरपत्रिकेवरील सूचनेप्रमाणे न विसरता नमूद करावा.
- (4) (अ) या प्रश्नपुस्तिकेतील प्रत्येक प्रश्नाला 4 पर्यायी उत्तरे सुचविली असून त्यांना 1, 2, 3 आणि 4 असे क्रमांक दिलेले आहेत. त्या चार उत्तरांपैकी सर्वात योग्य उत्तराचा क्रमांक उत्तरपत्रिकेवरील सूचनेप्रमाणे तुमच्या उत्तरपत्रिकेवर नमूद करावा. अशा प्रकारे उत्तरपत्रिकेवर उत्तर-क्रमांक नमूद करताना तो संबंधित प्रश्न-क्रमांकासमोर छायांकित करून दर्शविला जाईल याची काळजी घ्यावी. ह्याकरिता फक्त काळ्या शाईचे बॉलपेन वापरावे, पेन्सिल वा शाईचे पेन वापरू नये.
- (ब) आयोगाने ज्या विषयासाठी मराठी बरोबर इंग्रजी माध्यम विहित केलेले आहे. त्या विषयाचा प्रत्येक प्रश्न मराठी बरोबर इंग्रजी भाषेत देखील छापण्यात आला आहे. त्यामधील इंग्रजीतील किंवा मराठीतील प्रश्नामध्ये मुद्रणदोषांमुळे अथवा अन्य कारणांमुळे विसंगती निर्माण झाल्याची शंका आल्यास, उमेदवाराने संबंधित प्रश्न पर्यायी भाषेतील प्रश्नाशी ताडून पहावा.
- (5) सर्व प्रश्नांना समान गुण आहेत. यास्तव सर्व प्रश्नांची उत्तरे द्यावीत. घाईमुळे चुका होणार नाहीत याची दक्षता घेऊनच शक्य तितक्या वेगाने प्रश्न सोडवावेत. क्रमाने प्रश्न सोडविणे श्रेयस्कर आहे पण एखादा प्रश्न कठीण वाटल्यास त्यावर वेळ न घालविता पुढील प्रश्नांकडे वळावे. अशा प्रकारे शेवटच्या प्रश्नापर्यंत पोहोचल्यानंतर वेळ शिल्लक राहिल्यास कठीण म्हणून वगळलेल्या प्रश्नांकडे परतणे सोईस्कर ठरेल.
- (6) उत्तरपत्रिकेत एकदा नमूद केलेले उत्तर खोडता येणार नाही. नमूद केलेले उत्तर खोडून नव्याने उत्तर दिल्यास ते तपासले जाणार नाही. एकापेक्षा जास्त उत्तरे नमूद केल्यास ते उत्तर चुकीचे धरले जाईल व त्या चुकीच्या उत्तराचे गुण वजा केले जातील.
- (7) प्रस्तुत परीक्षेच्या उत्तरपत्रिकांचे मूल्यांकन करताना उमेदवाराच्या उत्तरपत्रिकेतील योग्य उत्तरांनाच गुण दिले जातील. तसेच "उमेदवाराने वस्तुनिष्ठ बहुपर्यायी स्वरूपाच्या प्रश्नांची दिलेल्या चार उत्तरांपैकी सर्वात योग्य उत्तरेच उत्तरपत्रिकेत नमूद करावीत. अन्यथा त्यांच्या उत्तरपत्रिकेत सोडविलेल्या प्रत्येक चुकीच्या उत्तरांसाठी 25% किंवा 1/4 गुण वजा/कमी करण्यात येतील."

ताकीद

ह्या प्रश्नपत्रिकेसाठी आयोगाने विहित केलेली वेळ संपेपर्यंत ही प्रश्नपुस्तिका आयोगाची मालमत्ता असून ती परीक्षाकक्षात उमेदवाराला परीक्षेसाठी वापरण्यास देण्यात येत आहे. ही वेळ संपेपर्यंत सदर प्रश्नपुस्तिकेची प्रत/प्रती, किंवा सदर प्रश्नपुस्तिकेतील काही आशय कोणत्याही स्वरूपात प्रत्यक्ष वा अप्रत्यक्षपणे कोणत्याही व्यक्तीस पुरविणे, तसेच प्रसिद्ध करणे हा गुन्हा असून अशी कृती करणाऱ्या व्यक्तीवर शासनाने जारी केलेल्या "परीक्षांमध्ये होणाऱ्या गैरप्रकारांना प्रतिबंध करण्याबाबतचा अधिनियम-82" यातील तरतुदीनुसार तसेच प्रचलित कायद्याच्या तरतुदीनुसार कारवाई करण्यात येईल व दोषी व्यक्ती कमाल एक वर्षाच्या कारावासाच्या आणि/किंवा रुपये एक हजार रकमेच्या दंडाच्या शिक्षेस पात्र होईल.

तसेच ह्या प्रश्नपत्रिकेसाठी विहित केलेली वेळ संपण्याआधी ही प्रश्नपुस्तिका अनधिकृतपणे बाळगणे हा सुद्धा गुन्हा असून तसे करणारी व्यक्ती आयोगाच्या कर्मचारीवृंदापैकी, तसेच परीक्षेच्या पर्यवेक्षकीयवृंदापैकी असली तरीही अशा व्यक्तीविरुद्ध उक्त अधिनियमानुसार कारवाई करण्यात येईल व दोषी व्यक्ती शिक्षेस पात्र होईल.

पुढील सूचना प्रश्नपुस्तिकेच्या अंतिम पृष्ठावर पहा.

पर्यवेक्षकांच्या सूचनेविना हे सील उघडू नये



2023/03/08

कच्च्या कामासाठी जागा / SPACE FOR ROUGH WORK

A



1. खालीलपैकी कोणते मूलभूत कर्तव्ये आहेत ?

- सार्वजनिक मालमत्तेचे रक्षण करणे
- भारताच्या सार्वभौमत्व, अखंडतेचे आणि ऐक्याचे रक्षण करणे
- वैज्ञानिक स्वभाव व मानवतावाद विकसित करणे

(1) i आणि ii (2) ii आणि iii (3) iii आणि i (4) i, ii आणि iii

Which of the following are Fundamental Duties ?

- Safeguarding Public Property
- Protecting the Sovereignty, Integrity and Unity of India
- Developing scientific temper and humanism

(1) i and ii (2) ii and iii (3) iii and i (4) i, ii and iii

2. महाराष्ट्र राज्य निवडणूक आयोगाच्या निर्मितीस कारणीभूत ठरलेल्या दोन घटनादुरुस्त्या कोणत्या ?

- 73 व 74 वी दुरुस्ती
- 71 व 72 वी दुरुस्ती
- 77 व 78 वी दुरुस्ती
- यापैकी कोणत्याही नाहीत

Which two Amendments were responsible for the formation of the Maharashtra State Election Commission ?

- 73rd and 74th Amendment
- 71st and 72nd Amendment
- 77th and 78th Amendment
- None of these

3. भारतीय संघवाद _____ संघवादाशी मिळता-जुळता आहे.

- नाईजीरियाचे
- आस्ट्रेलियाचे
- कॅनेडाचे
- संयुक्त राज्य अमेरिकाचे

Indian Federalism is similar to _____ federalism.

- Nigerian
- Australian
- Canadian
- United States of American



4. 73 वी घटनादुरुस्ती अधिनियम, 1992 शी संबंधित पुढील विधानावर विचार करा :
- A. ग्राम पंचायत, पंचायत समिती आणि जिल्हा परिषद मिळून बनलेली त्रिस्तरीय रचना.
 - B. ग्राम स्तरावर ग्रामसभा स्थापन करणे.
 - C. महिलांसाठी एक-तृतीयांश जागांचे आरक्षण.
 - D. दर 3 वर्षांनी पंचायतीची नियमित निवडणूक.
- (1) सर्व विधाने योग्य आहेत.
(2) विधान A आणि C बरोबर आहे आणि विधान B व D चुकीचे आहे.
(3) केवळ A, B आणि C ही विधाने योग्य आहेत.
(4) सर्व विधाने चुकीचे आहेत.

Consider the following statements regarding the 73rd Constitutional Amendment Act, 1992 :

- A. 3 tier structures which include the Gram Panchayat, Panchayat Samiti, Zilha Parishad.
 - B. To establish Gram Sabha at village level.
 - C. Reservation of one-third seats for women.
 - D. Regular elections of Panchayats in every 3 years.
- (1) All statements are true
(2) Statements A and C are true, B and D are false
(3) Only statements A, B and C are true
(4) All statements are false

5. राज्याच्या महाधिवक्ता संबंधी खालील विधानांपैकी योग्य विधाने पुढील पर्यायातून निवडा.

- अ. राज्यशासनाला कायदेविषयक सल्ला देणे.
- ब. राज्य विधिमंडळाच्या कामकाजात भाग घेणे.
- क. तो राष्ट्रपतीची मर्जी असेपर्यंत पदधारण करतो.
- ड. राज्य विधिमंडळात मतदान करणे.

- (1) 'अ' आणि 'क' (2) 'ब' आणि 'क' (3) 'ब' आणि 'ड' (4) 'अ' आणि 'ब'

Choose the correct statements related to State Advocate General from below.

- a. To give legal advice to the State Government.
- b. To take part in the proceedings of the State Legislature.
- c. He holds office during the pleasure of the President.
- d. To vote in State Legislature.

- (1) 'a' and 'c' (2) 'b' and 'c' (3) 'b' and 'd' (4) 'a' and 'b'

कच्च्या कामासाठी जागा / SPACE FOR ROUGH WORK

A



6. जिल्हा व सत्र न्यायाधीशांवर कोणाचे नियंत्रण असते ?

- (1) राज्याचे राज्यपाल
- (2) राज्याचे कायदा मंत्री
- (3) राज्याचे उच्च न्यायालय
- (4) जिल्हाधिकारी

The District and Sessions judge works directly under the control of

- (1) Governor of the State
- (2) Law Minister of the State
- (3) High Court of the State
- (4) District Collector

7. घटनापरिषदेचे घटनात्मक सल्लागार किंवा कायदेशीर सल्लागार म्हणून खालीलपैकी कोणाची नियुक्ती करण्यात आली होती ?

- | | |
|------------------------------|--------------------|
| (1) एन. गोपालस्वामी अय्यंगार | (2) सर बी. एन. राव |
| (3) टी. टी. कृष्णम्माचारी | (4) एन. माधवराव |

Who was appointed as the constitutional advisor/legal advisor to the Constituent Assembly ?

- | | |
|----------------------------|--------------------|
| (1) N. Gopalswamy Ayyangar | (2) Sir B. N. Rau |
| (3) T. T. Krishnamachari | (4) N. Madhava Rau |

8. निवडणूक लढवणाऱ्या उमेदवाराने निवडणूकीचा अधिकृत निकाल जाहीर झाल्यानंतर _____ दिवसांच्या आत निवडणूक खर्चाचा हिशेब निवडणूक आयोगास सादर करावा लागतो.

- | | | | |
|----------------|----------------|----------------|----------------|
| (1) 30 दिवसांत | (2) 15 दिवसांत | (3) 45 दिवसांत | (4) 20 दिवसांत |
|----------------|----------------|----------------|----------------|

The candidate who contested the election has to submit statement of election expenditure to the Election Commission within _____ days after the official declaration of election results.

- | | | | |
|-------------|-------------|-------------|-------------|
| (1) 30 days | (2) 15 days | (3) 45 days | (4) 20 days |
|-------------|-------------|-------------|-------------|

कच्च्या कामासाठी जागा / SPACE FOR ROUGH WORK

P.T.O.

A



9. मार्गदर्शक तत्त्वे घटनेत समाविष्ट करण्याचा घटनाकारांचा कोणता उद्देश होता ?

- (1) कल्याणकारी राज्याची स्थापना करणे
- (2) केंद्र सरकारला मार्गदर्शन करणे
- (3) घटकराज्याला मार्गदर्शन करणे
- (4) सामाजिक व आर्थिक न्याय प्रस्थापित करणे

What was the objective of the constitutionists to include the Directive Principles of State Policy ?

- (1) To establish a Welfare State
- (2) To guide the Central Government
- (3) To guide the States
- (4) To establish the social and economic justice

10. न्यायव्यवस्थेची रचना, क्षेत्र आणि अधिकार ठरविण्याचे अधिकार खालीलपैकी कोणाला आहेत ?

- | | |
|-------------------------|---------------|
| (1) राष्ट्रपती | (2) पंतप्रधान |
| (3) भारताचे सरन्यायाधीश | (4) संसद |

Who of the following have the power to determine the structure, jurisdiction and rights of the judiciary ?

- | | |
|----------------------------|--------------------|
| (1) President | (2) Prime Minister |
| (3) Chief Justice of India | (4) Parliament |

11. लोकायुक्ताची संस्था प्रथमच कोणत्या राज्याने निर्माण केली ?

- | | |
|----------------|-----------|
| (1) महाराष्ट्र | (2) पंजाब |
| (3) बिहार | (4) ओडिशा |

Which amongst the following States first created the institution of Lokayukta ?

- | | |
|-----------------|------------|
| (1) Maharashtra | (2) Punjab |
| (3) Bihar | (4) Odisha |

कच्च्या कामासाठी जागा / SPACE FOR ROUGH WORK

A





12. खालीलपैकी कोणता महानगरपालीकेचा राजस्वचा स्रोत नाही ?

- (1) महानगरपालिकेच्या मालकीच्या मार्केट, घरे, प्लाझा इ.चे भाडे
- (2) शहरांतील नोंदणीकृत व्यावसायिक वाहनांकडून कर
- (3) संबंधित राज्यसंस्थांना दिलेले अनुदान
- (4) यापैकी नाही

Which of the following is not a Municipal Corporation's source of revenue ?

- (1) Rents from Municipal Corporation – owned markets, houses, plazas etc.
- (2) Taxes from commercial vehicles registered in the city
- (3) Grants provided by the respective State Governments
- (4) None of these

13. खालीलपैकी कोणत्या तरतुदीनुसार प्रत्येक पंचायतीमध्ये अनुसूचित जाती आणि अनुसूचित जमातीसाठी आरक्षण आहे ?

- (1) भारतीय राज्यघटनेचे कलम 243 (ई)
- (2) भारतीय राज्यघटनेचे कलम 243 (व्ही)
- (3) भारतीय राज्यघटनेचे कलम 243 (एस)
- (4) भारतीय राज्यघटनेचे कलम 243 (डी)

Under which one of the following provisions is the reservation for Scheduled Castes and Scheduled Tribes made in every Panchayat ?

- (1) Article 243 (E) of the Constitution of India
- (2) Article 243 (V) of the Constitution of India
- (3) Article 243 (S) of the Constitution of India
- (4) Article 243 (D) of the Constitution of India

कच्च्या कामासाठी जागा / SPACE FOR ROUGH WORK

P.T.O.

A



14. खालीलपैकी कोणत्या मार्गाने एखादी व्यक्ति भारतीय नागरीकत्व प्राप्त करू शकते ?

- a. जन्माद्वारे
- b. वंशाद्वारे
- c. नोंदणीद्वारे
- d. विनंतीद्वारे

- (1) a, b आणि c
(3) a, c आणि d

- (2) a, b आणि d
(4) सर्व बरोबर आहेत

By which of the following modes a person can acquire citizenship of India ?

- a. By birth
- b. By descent
- c. By registration
- d. By request

- (1) a, b and c
(3) a, c and d

- (2) a, b and d
(4) All are correct

15. भारतीय राज्यघटनेच्या 42 व्या घटनादुरुस्तीने 4 थ्या भागातील कलम _____ मध्ये मूलभूत कर्तव्यांचा समावेश करण्यात आला.

- (1) 51 अ (2) 51 ब (3) 51 क (4) 51 ड

Fundamental Duties have been included in Article _____ of 4th Section of the Constitution of India by 42nd Amendment.

- (1) 51 A (2) 51 B (3) 51 C (4) 51 D

16. आठव्या पंचवार्षिक योजनेचा कालावधी _____ होता.

- (1) 1991-96 (2) 1982-87 (3) 1992-97 (4) 1962-67

The period of VIII Five Year Plan was

- (1) 1991-96 (2) 1982-87 (3) 1992-97 (4) 1962-67

कच्च्या कामासाठी जागा / SPACE FOR ROUGH WORK

A



17. पहिल्या पंचवार्षिक योजनेत _____ साठी सर्वाधिक वाटप करण्यात आले होते.

- (1) जलसिंचन आणि पूर नियंत्रण (2) कुटिर आणि लघुउद्योग
(3) वाहतूक आणि दळणवळण (4) ऊर्जा क्षेत्र

The highest allocation was provided for _____ in First Five Year Plan.

- (1) Irrigation and flood control (2) Cottage and small scale industries
(3) Transport and communication (4) Energy sector

18. भारतातील स्थूल राष्ट्रीय उत्पादन वाढीचा दर _____ योजनेत सर्वात कमी होता.

- (1) पहिली पंचवार्षिक योजना (2) चौथी पंचवार्षिक योजना
(3) तीसरी पंचवार्षिक योजना (4) पाचवी पंचवार्षिक योजना

The GDP growth rate was lowest during _____ plan in India.

- (1) First five year plan (2) Fourth five year plan
(3) Third five year plan (4) Fifth five year plan

19. पाचव्या पंचवार्षिक योजनेचा प्रमुख उद्देश _____ हा होता.

- (1) अवजड उद्योगांची वाढ (2) सामाजिक न्यायासह वाढ
(3) कुटिर उद्योगांची वाढ (4) लघुउद्योगांची वाढ

The main aim of fifth five year plan was

- (1) Growth of heavy industries (2) Growth with social justice
(3) Growth of cottage industries (4) Growth of small industries

20. आठव्या पंचवार्षिक योजनेमध्ये पुढीलपैकी कोणत्या उद्दिष्टांवर भर देण्यात आला ?

अ. रोजगारनिर्मिती

ब. आरोग्य सुविधा

क. लोकसंख्या वृद्धीमध्ये घट

- (1) फक्त अ आणि क (2) फक्त अ आणि ब (3) फक्त ब आणि क (4) वरील सर्व

Which of the following objectives were focused in VIII Five Year Plan ?

a. Employment generation

b. Health facilities

c. Reducing population growth

- (1) Only a and c (2) Only a and b (3) Only b and c (4) All of the above



21. 'पेनिन्स्युलर रॉक अगामा' कशाशी संबंधित आहे ?

- (1) सरडा
- (2) समुद्री खडकाचा प्रकार
- (3) बिन-विषारी साप
- (4) एक आदिवासी समाज

To what 'Peninsular Rock Agama' is related ?

- (1) Lizard
- (2) Type of sea rock
- (3) Non-poisonous snake
- (4) A tribal community

22. खालीलपैकी योग्य कथन/ने ओळखा.

- अ. जपानने आपल्या काण्यो शहरात मिनिबस प्रमाणे दिसणारे जगातील पहिले ड्यूल-मोड वाहन सादर केले आहे.
- ब. ड्यूल-मोड वाहन रेल्वे ट्रॅकवर 60 किमी/ता. वेगाने धावू शकते आणि सार्वजनिक रस्त्यावर सुमारे 100 किमी/ता. वेगाने जाऊ शकते.

- | | |
|------------------|-------------------|
| (1) फक्त अ | (2) फक्त ब |
| (3) अ व ब दोन्ही | (4) वरीलपैकी नाही |

Select the correct statement/s from the following.

- A. Japan has introduced a minibus lookalike world's first dual-mode vehicle in its town of Kaiyo.
- B. The dual-mode vehicle can run at a speed of 60 km/h on rail tracks and can go as fast as around 100 km/h on public roads.

- | | |
|------------------|-----------------------|
| (1) Only A | (2) Only B |
| (3) Both A and B | (4) None of the above |

23. भारतातून आशिया पैसिफिक फोरम (APF) च्या गव्हर्नन्स कमिटीचे सदस्य म्हणून कोणाची निवड झाली आहे ?

- | | |
|-----------------------------------|-------------------------------|
| (1) न्यायमूर्ती रंजन गोगोई | (2) न्यायमूर्ती सदाशिवन |
| (3) न्यायमूर्ती अरुण कुमार मिश्रा | (4) न्यायमूर्ती एन.व्ही. रमणा |

Who has been elected as a member of the Governance Committee of the Asia Pacific Forum (APF) from India ?

- | | |
|-------------------------------|-------------------------|
| (1) Justice Ranjan Gogoi | (2) Justice Sadasivan |
| (3) Justice Arun Kumar Mishra | (4) Justice N.V. Ramana |

कच्च्या कामासाठी जागा / SPACE FOR ROUGH WORK

A



24. ब्रिटनच्या पंतप्रधानपदी लिझ ट्रस यांची निवड झाली. खालील विधानांपैकी कोणते विधान/विधाने त्यांच्या संदर्भात चुकीचे आहे/त ?
- त्या हुजूर पक्षाचे प्रतिनिधीत्व करतात.
 - त्या ब्रिटनच्या दुसऱ्या महिला पंतप्रधान आहेत.
 - भारतीय वंशाच्या ऋषि सुनक यांचा त्यांनी पराभव केला.
- (1) फक्त a आणि b (2) फक्त b आणि c
(3) फक्त a (4) फक्त b

Liz Truss was elected as the Prime Minister of Britain. Which of the following statements is/are incorrect about her ?

- She represents conservative party.
 - She is the second female Prime Minister of Britain.
 - She defeated Rishi Sunak who is of Indian origin.
- (1) Only a and b (2) Only b and c
(3) Only a (4) Only b

25. INCOVACC, ज्याला कोविडसाठी इंटरनासल बूस्टर डोस म्हणून मान्यता देण्यात आली होती, ती कोणत्या संस्थेद्वारे उत्पादित केली जाते ?
- (1) सीरम इन्स्टिट्यूट ऑफ इंडिया (2) बायोलॉजिकल ई लिमिटेड
(3) भारत बायोटेक (4) बायोकॉन

INCOVACC, which was approved as an intranasal booster dose for COVID, is manufactured by which institution ?

- (1) Serum Institute of India (2) Biological E Ltd.
(3) Bharat BioTech (4) Biocon

26. 2022 च्या राष्ट्रकुल स्पर्धेमध्ये भारतासाठी पहिले सुवर्णपदक खालीलपैकी कोणी जिंकले ?
- (1) निखत झरीन (2) मीराबाई चानू
(3) अचिंता शेऊली (4) साक्षी मलिक

Who won the first gold medal for India in Commonwealth Games, 2022 ?

- (1) Nikhat Zareen (2) Meerabai Chanu
(3) Achinta Sheuli (4) Sakshi Malik



27. भारतीय रोखे आणि विनिमय मंडळ अर्थात सेबीच्या पहिल्या महिला अध्यक्ष होण्याचा मान कोणास मिळाला आहे ?

- (1) अरुंधती भट्टाचार्य (2) शिखा शर्मा
(3) माधवी पुरी बुच (4) शांती एकांबरम

Who is the first Woman Chairperson of the Securities and Exchange Board of India (SEBI) ?

- (1) Arundhati Bhattacharya (2) Shikha Sharma
(3) Madhavi Puri Buch (4) Shanti Ekambaram

28. श्रीहरिकोटाहून पी.एस.एल.व्ही. - सी54 रॉकेट कोणी प्रक्षेपित केले ?

- (1) नासा (2) इस्रो (3) डी.आर.डी.ओ. (4) बी.ए.आर.सी.

Who among the following launched the PSLV – C54 rocket from Sriharikota ?

- (1) NASA (2) ISRO (3) DRDO (4) BARC

29. यू.एन. जैवविविधता परिषद COP 15 (2022) चे यजमान देश कोणता आहे ?

- (1) चीन (2) स्वीडन (3) कॅनडा (4) ऑस्ट्रेलिया

Which country is the host of the UN Biodiversity Conference COP 15 (2022) ?

- (1) China (2) Sweden (3) Canada (4) Australia

30. योग्य विधान/ने ओळखा.

अ. शेख हमदान बिन मोहम्मद यांनी 100% पेपर विरहित करणारे दुबई हे जगातील पहिले सरकार ठरले आहे, अशी घोषणा केली.

ब. डिजिटलायझेशनमुळे ग्राहकांना सर्व सरकारी सेवा उपलब्ध होतील आणि दुबई मध्ये 336 मिलीयन पेक्षा जास्त कागदाचा वापर कमी होईल.

- (1) फक्त अ योग्य आहे.
(2) फक्त ब योग्य आहे.
(3) विधान अ व ब दोन्ही योग्य आहेत.
(4) विधान अ व ब दोन्ही अयोग्य आहेत.

Select the correct statement/s.

A. Sheikh Hamdan bin Mohammad announced that Dubai became the world's first government to turn 100% paperless.

B. The digitalization will provide all Govt. services to customers and reduce paper consumption by more than 336 million papers in Dubai.

- (1) Only A is correct.
(2) Only B is correct.
(3) Both the statements A and B are correct.
(4) Both the statements A and B are incorrect.

कच्च्या कामासाठी जागा / SPACE FOR ROUGH WORK

A



31. पुढील आकृतीच्या रकान्यात क्रमशः 6 ते 14 या संख्यांची अशी मांडणी करा की, रकान्यांची उभी, आडवी, तिरकस बेरीज समान येते, तर कोपऱ्यातील रकान्यात कोणत्या संख्या येतील ?

- (1) 4, 6, 10, 8 (2) 7, 9, 13, 11
(3) 6, 8, 14, 12 (4) 7, 12, 6, 8

Filled the numbers from 6 to 14 sequentially in the columns of the following figure in such a way that their vertical, horizontal, diagonal sums are equal, then what will be the numbers in columns at corners ?

- (1) 4, 6, 10, 8 (2) 7, 9, 13, 11
(3) 6, 8, 14, 12 (4) 7, 12, 6, 8

32. वडील हे आईपेक्षा 6 वर्षांनी मोठे आहेत व आईचे आजचे वय मुलीच्या वयाच्या तिप्पट आहे. मुलीचे आजचे वय 12 वर्षे आहे, तर मुलीच्या जन्मावेळी वडीलांचे वय काय होते ?

- (1) 30 वर्षे (2) 32 वर्षे
(3) 42 वर्षे (4) 36 वर्षे

Father is 6 years older to mother and mother's today's age is thrice the age of the daughter. The daughter is now 12 years old, what was the father's age when the daughter was born ?

- (1) 30 yrs. (2) 32 yrs.
(3) 42 yrs. (4) 36 yrs.



33. खालील माहिती काळजीपूर्वक अभ्यासा आणि दिलेल्या प्रश्नाचे उत्तर द्या :

बीना, मीना, टीना, रीना, करीना, हीना आणि डायना या रेल्वेने 'तीन स्तरीय शयनासनाच्या' डब्यात प्रवास करीत आहेत. यापैकी प्रत्येक जण अभियंता, डॉक्टर, वास्तुविद्याविशारद, औषध निर्माता, वकील, पत्रकार आणि रोगचिकित्सातज्ज्ञ असे विविध व्यावसायिक आहेत. त्यांची 'सर्वात खालील दोन शयनासने', 'मधली तीन शयनासने' आणि 'सर्वात वरील दोन शयनासने' अशी शयनासने आहेत. बीना ही अभियंता 'वरील शयनासनावर' नाही. वास्तुविद्याविशारद ही अशी व्यक्ती आहे की, जिच्या शयनासनाचा प्रकार हा बीनाच्या शयनासनासारखाच आहे. मीना आणि हीना या 'मधली शयनासनावर' नसून त्यांचे व्यवसाय अनुक्रमे रोगचिकित्सातज्ज्ञ व वकील असे आहेत. टीना ही औषधनिर्माती आहे. डायना पत्रकार नाही आणि वास्तुविद्याविशारदही नाही. करीनाच्या शयनासनाचा प्रकार हा डॉक्टरच्या शयनासनासारखाच आहे, तर खालीलपैकी कोणत्या समूहाची शयनासने मधली आहेत ?

- (1) डायना – करीना – टीना
- (2) हीना – करीना – टीना
- (3) डायना – करीना – रीना
- (4) डायना – हीना – टीना

Study the following information carefully and answer the given question :

Beena, Meena, Teena, Reena, Karina, Heena and Daina are travelling in a train compartment with 'III- tier sleeper berth'. Each of them has different profession of engineer, doctor, architect, pharmacist, lawyer, journalist and pathologist. They occupied 'two lower berths', 'three middle berths' and 'two upper berths'. Beena, the engineer is not on the 'upper berth'. The architect is the only person who occupies the same type of berth as that of Beena. Meena and Heena are not on the 'middle berth' and their professions are pathologist and lawyer respectively. Teena is pharmacist. Daina is neither a journalist nor a architect. Karina occupies the same type of berth as that of doctor, then which of the following groups occupies the middle berth ?

- (1) Daina – Karina – Teena
- (2) Heena – Karina – Teena
- (3) Daina – Karina – Reena
- (4) Daina – Heena – Teena

कच्च्या कामासाठी जागा / SPACE FOR ROUGH WORK

A



34. ज्यांच्यापैकी एक अपराधी आहे अशा चार संशयितांची पोलीसांकडून कसून चौकशी चालू आहे. जर फक्त एकच विधान सत्य असेल तर अपराधी निवडा.

अनी : ते दादूने केले.

चानी : ईनी निरपराध आहे.

दादू : अनी माझ्यावर आरोप करत खोटं बोलतेय.

ईनी : चानी खरं बोलतेय.

- (1) ईनी (2) दादू (3) अनी (4) चानी

Four suspects, one of whom is the guilty party, are being interrogated by the police. Select the culprit if just only one of the statements is true.

Ani : Dadu did it.

Chani : Eni is innocent.

Dadu : Ani is lying when she accuses me.

Eni : Chani is telling the truth.

- (1) Eni (2) Dadu (3) Ani (4) Chani

35. पुढील प्रश्नाचे उत्तर देण्याच्या संदर्भात सर्वात योग्य पर्याय निवडा :

तुमच्या वर्गातील विद्यार्थ्यांची एकूण संख्या किती ?

a. वर्गातील पुरुष विद्यार्थ्यांची संख्या स्त्री विद्यार्थ्यांच्या संख्येच्या दुप्पट आहे.

b. वर्गातील सर्व विद्यार्थ्यांच्या वयाची एकूण बेरीज 323 आहे आणि त्यांचे सरासरी वय 17 आहे.

- (1) माहिती "a" व "b" एकत्रितपणे पुरेशी नाही.
(2) माहिती "a" व "b" एकत्रितपणे गरजेची आहे पण पुरेशी नाही.
(3) फक्त माहिती "a" पुरेशी आहे तर फक्त माहिती "b" पुरेशी नाही.
(4) फक्त माहिती "b" पुरेशी आहे तर फक्त माहिती "a" पुरेशी नाही.

Select the most appropriate option with respect to answer the following question :

What is the total number of pupils in your class ?

a. The number of male students in the class is twice as much as the number of female students in the class.

b. The sum of ages of all the pupils in class is 323 and their average age is 17.

- (1) Information "a" and "b" together are not sufficient.
(2) Information "a" and "b" together is necessary but not sufficient.
(3) Information "a" alone is sufficient while information "b" alone is not sufficient.
(4) Information "b" alone is sufficient while information "a" alone is not sufficient.



36. एका सांकेतिक भाषेनुसार,

1 2 4 म्हणजे fresh and juicy

5 4 6 म्हणजे eat juicy fruits

6 7 8 म्हणजे fruit is ripe

तर 'eat' या शब्दाशी निगडित चिह्न कोणते ?

(1) 4

(2) 6

(3) 5

(4) 7

As per a code language,

1 2 4 means fresh and juicy

5 4 6 means eat juicy fruits

6 7 8 means fruit is ripe

Then what is the sign associated with 'eat' ?

(1) 4

(2) 6

(3) 5

(4) 7

37. एका सांकेतिक भाषेत APTITUDE हा शब्द ELXEXQHA असा लिहितात, तर त्याच सांकेतिक भाषेत ELEPHANT हा शब्द कसा लिहाल ?

(1) IHILLWRP

(2) IHINNWRP

(3) IOILLWRP

(4) IHITLWRP

The word APTITUDE is written as ELXEXQHA in a code language, how the word ELEPHANT will be written in the same code language ?

(1) IHILLWRP

(2) IHINNWRP

(3) IOILLWRP

(4) IHITLWRP

38. पुढील प्रश्न सोडविण्याच्या संदर्भात तार्किक दृष्ट्या उचित पर्याय निवडा :

M चे N शी नाते काय ?

a. R ची बहीण J हिने M चा भाऊ L याच्याशी लग्न केलेले आहे, जो स्वतःच्या आई-वडिलांचा एकटा मुलगा आहे.

b. N ही L आणि J यांची एकटी मुलगी आहे.

(1) सामग्री a गरजेची आहे परंतु फक्त तेवढीच पुरेशी नाही.

(2) सामग्री b गरजेची आहे परंतु फक्त तेवढीच पुरेशी नाही.

(3) सामग्री a व b एकत्रितपणे गरजेची आणि पुरेशी आहे.

(4) सामग्री a व b एकत्रितपणे गरजेची आहे पण अपुरी आहेत.

Select the logically appropriate option with respect to answer the following question :

How is M related to N ?

a. R's sister J has married M's brother L, who is the only son of his parents.

b. N is the only daughter of L and J.

(1) Data a is needed but not sufficient alone.

(2) Data b is needed but not sufficient alone.

(3) Data a and b together are needed and sufficient.

(4) Data a and b together are needed but they are insufficient.

कच्च्या कामासाठी जागा / SPACE FOR ROUGH WORK

A



39. आशियातील गरीब देशांत मुलांचा स्वस्त मजूर म्हणून इलेक्ट्रॉनिक्स, तयार कपडे, पादत्राणे, आणि खेळणे निर्मिती उद्योगातील वापराला प्रतिबंध करण्यासाठी कायदेशीर कारवाई करण्याची गरज आहे. यावर बंदी आणण्याखेरीज अन्य काहीही करणे मान्य होण्यासारखे नाही. मालकांना बालश्रमिक ही आकर्षक योजना वाटते कारण मुलांची बोटे चटपट हलतात, त्यांची दृष्टी उत्तम असते, अनेकदा ती प्रौढांपेक्षा अधिक उत्पादन करतात आणि त्यांना जास्त पगार देण्याची गरज नसते. त्यांचा पुरवठा तयारच असतो आणि याबद्दल शिक्षणातून होणाऱ्या मुलांच्या गळतीचे आभार मानायला हवेत कारण त्यांच्या पालकांना त्यांना शिकवणे परवडत नाही. जर मुलांनी काम करणे भाग असेल तर त्यांना बाल्यापासून आणि शिक्षणापासून वंचित ठेवले जाते.

पुढील पर्यायांपैकी सत्य असणारा आणि वरील युक्तिवाद सर्वात जास्त दुबळा करणारा पर्याय निवडा.

- (1) फार पूर्वीपासून आंतरराष्ट्रीय संस्था सर्वांना शिक्षण निःशुल्क करण्यासाठी दबाव आणत आहेत.
- (2) नोकरीसाठी वयाच्या किमान मर्यादेचे पालन करण्याचे कायदे सर्वत्र अस्तित्वात नाहीत.
- (3) प्रौढांपेक्षा मुले अधिक सातत्याने काम करतात हे सर्वश्रुत आहे.
- (4) तसेही कुटुंबाला मुलांच्या रोजीशिवाय त्यांना शिक्षण देणे परवडणारे नाही.

Legal action should be taken to prevent the use of children as low cost labour in poor Asian countries in industries such as electronics, garments, shoe, and toy manufacturers. Nothing short of a ban on child labour is acceptable. Child labour is an attractive proposition for employers because children have quick fingers, good eye sights and are often more productive than adults and do not have to be paid very much. And there is a ready supply, thanks to the number of children dropping out of education because their parents cannot afford to educate them. If children have to work they are denied their childhood and education.

Select one of the following options that is true and most weakens the above arguments.

- (1) International agencies have long been pressing for free education for all.
- (2) Laws governing the minimum age for employment do not exist everywhere.
- (3) It is well known that children work more consistently than adults.
- (4) Without the children's wages, the family could not afford to educate them anyway.



40. जेव्हा व्यक्ती अन्य देशात जाते तेव्हा त्याने किंवा तिने अल्पावधीत भाषा आत्मसात करणे कठीण असले तरीही किमान त्या देशाची भाषा थोड्या प्रमाणात शिकायला हवी. देशाची भाषा थोड्या प्रमाणात आत्मसात झाली तरी ती तुम्हाला त्या देशासंबंधी व तेथील लोकांच्या चालीरीतीविषयी अधिक माहिती मिळवायला मदत करते. त्याचप्रमाणे एखाद्या गोष्टीकडे अंगुलीनिर्देश करून वा हातवारे करण्याऐवजी माहिती, पत्ता विचारणे, दुकानात किंवा विश्रांतीगृहात स्वतःला काय हवे ते मागवणे इत्यादी गोष्टी तुम्ही अधिक सोपेपणाने करू शकता हे निश्चितच कमी पेचात टाकणारे आहे असाही त्याचा अर्थ होतो.

वरील युक्तिवादाचा प्रमुख निष्कर्ष ठरेल अशी सर्वात उचित अभिव्यक्ती पुढील पर्यायांतून निवडा.

- (1) परदेशाला भेट देणाऱ्या व्यक्तींनी परदेशी भाषेचा थोडा परिचय करून घेण्याचा प्रयत्न केला पाहिजे.
- (2) जर देशाच्या भाषेशी तुम्ही परिचित असाल तर त्या देशात जीवन जगणे तुम्हाला सोपे जाते.
- (3) जर तुमचा देशाच्या भाषेशी परिचय असेल तर त्याबद्दल अधिक माहिती मिळवणे तुम्हाला शक्य होते.
- (4) संप्रेषणासाठी खुणांची भाषा वापरण्यापेक्षा परदेशी भाषा बोलणे सोपे आहे.

When persons go to other country, he or she should try to learn at least some of the language of that country, though it is difficult to pick up unfamiliar language in a short time. Learning just a little about a country's language helps you to find out more about itself and its people's customs. Similarly it means that you can do things more easily by being able to ask for information, addresses, order what you want at a shop or restaurant that is less embracing than pointing and arm waving.

Select from the following options most appropriate expression as main conclusion of above argument.

- (1) Persons visiting foreign country should try to get some acquaintance with its language.
- (2) If you are familiar with language of the country it is easier for you to lead a life in that country.
- (3) It is possible to find out more about the country if you are familiar with its language.
- (4) Speaking foreign language is easier than using sign language for communication.

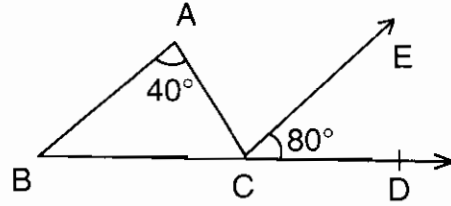
कच्च्या कामासाठी जागा / SPACE FOR ROUGH WORK

A



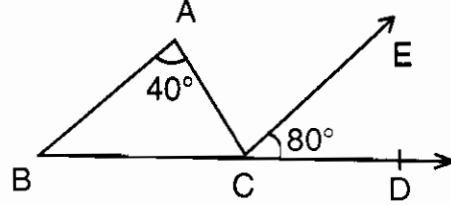


41. सोबतच्या आकृतीत रेषा $BA \parallel$ किरण CE , तर $\angle ACB$ चे माप किती ?



- (1) 60° (2) 80° (3) 70° (4) 45°

In following figure, seg $BA \parallel$ ray CE , then $m \angle ACB = ?$



- (1) 60° (2) 80° (3) 70° (4) 45°

42. शाळेतील 768 विद्यार्थ्यांना रांगेत उभे राहण्यास सांगितले. प्रत्येक रांगेत जेवढे विद्यार्थी आहेत त्याच्या $\frac{1}{3}$ रांगांची संख्या आहे, तर प्रत्येक रांगेत किती विद्यार्थी आहेत ?

- (1) 32 (2) 48 (3) 27 (4) 54

In the school, 768 students were told to stand in rows. The number of rows are $\frac{1}{3}$ the number of students in each row. Then how many students are in each row ?

- (1) 32 (2) 48 (3) 27 (4) 54

43. यश उत्तरेकडे 5 किमी चालत गेला, नंतर उजवीकडे वळून 8 किमी गेला, पुन्हा उजवीकडे वळून 3 किमी गेला आणि पुन्हा उजवीकडे 5 किमी जाऊन डावीकडे वळून 2 किमी गेल्यास, यश सुरुवातीच्या ठिकाणापासून किती अंतरावर आहे ?

- (1) 23 किमी (2) 19 किमी (3) 21 किमी (4) 3 किमी

Yash travels to the North 5 km, turns right and travel 8 km and then turns right and cover 3 km and then again turns right travel another 5 km and then turns left and travel 2 km. How far is Yash from the starting point ?

- (1) 23 km (2) 19 km (3) 21 km (4) 3 km

44. 8, 11, 20, 29 या संख्यांमधून कोणती संख्या कमी करावी म्हणजे या संख्या प्रमाणात येतील ?

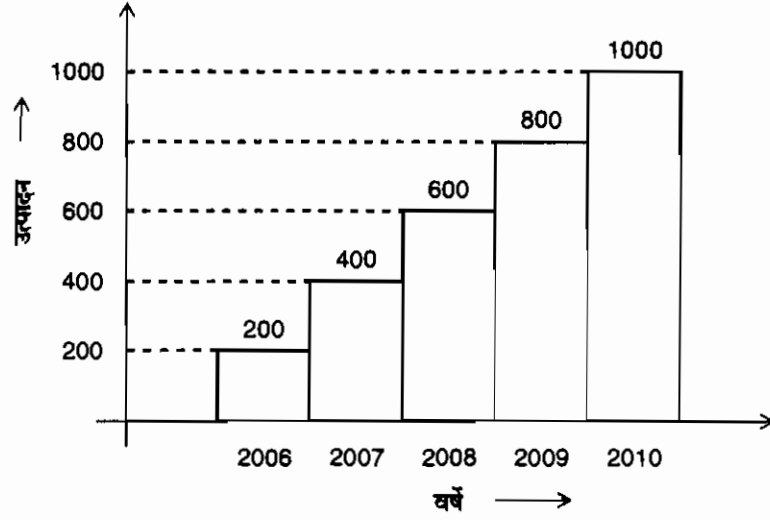
- (1) 1 (2) 2 (3) 3 (4) 4

Which of the following number is to be subtracted from 8, 11, 20, 29, then we will get these numbers in proportion ?

- (1) 1 (2) 2 (3) 3 (4) 4

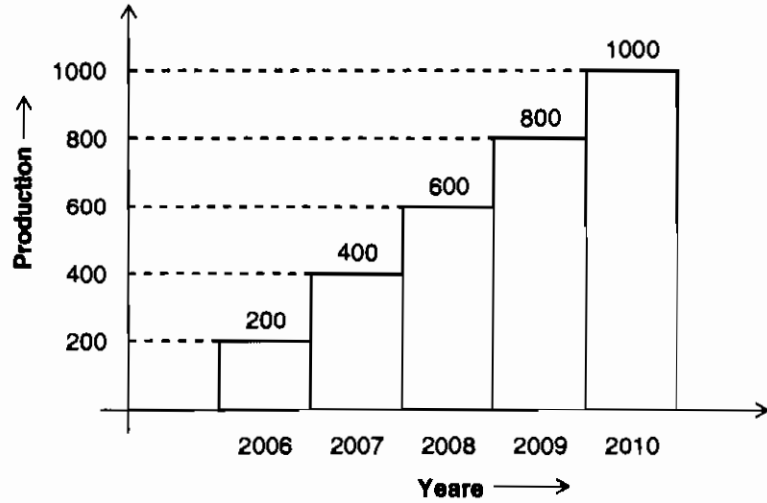


45. खालील आलेखावरून 2006 ते 2010 पर्यंत उत्पादन किती टक्क्यांनी वाढले ?



- (1) 800 (2) 600 (3) 400 (4) 300

In following graph, what is the percentage of increase in production from year 2006 to 2010 ?



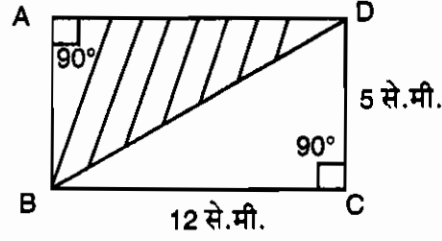
- (1) 800 (2) 600 (3) 400 (4) 300

कच्च्या कामासाठी जागा / SPACE FOR ROUGH WORK

A

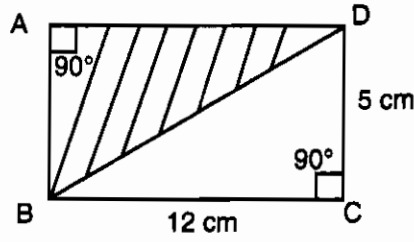


46. खालील आयताचे निरीक्षण करून, ΔABD ची परिमिती काढा.



- (1) 36 से.मी. (2) 30 से.मी. (3) 24 से.मी. (4) 17 से.मी.

Observe the following rectangle, find perimeter of ΔABD .



- (1) 36 cm (2) 30 cm (3) 24 cm (4) 17 cm

47. पाच संख्यांची सरासरी 25 आहे. जर त्यांच्यातील चार संख्या 30, 29, 25 व 20 असतील तर त्यांच्यातील तीन मोठ्या संख्यांची सरासरी किती ?

- (1) 26 (2) 29 (3) 27 (4) 28

The average of five numbers is 25. If four of these numbers are 30, 29, 25 and 20, then what is average of larger three numbers ?

- (1) 26 (2) 29 (3) 27 (4) 28

48. पवन एक काम पूर्ण करण्यास 12 दिवस लावतो तर तेच काम जिवन 6 दिवसात पूर्ण करतो तर मग दोघे मिळून ते काम किती दिवसात पूर्ण करतील ?

- (1) 4 (2) 6 (3) 8 (4) 10

Pawan can complete one work within 12 days but Jiwan completes same work within 6 days, then how many days it requires to complete this work together ?

- (1) 4 (2) 6 (3) 8 (4) 10

फक्त्या कामासाठी जागा / SPACE FOR ROUGH WORK

P.T.O.

A



49. जर $484 \times 144 = 69696$, तर $\sqrt{\frac{69.696}{14.4}} = ?$

- (1) 48.4 (2) 4.84 (3) 2.22 (4) 2.2

If $484 \times 144 = 69696$, then $\sqrt{\frac{69.696}{14.4}} = ?$

- (1) 48.4 (2) 4.84 (3) 2.22 (4) 2.2

50. एका मोटारगाडीने 80 कि.मी. प्रति तास या सरासरी वेगाने पुणे ते नागपूर हे अंतर कापण्यास 9 तास लागतात. जर त्याच गाडीने तेच अंतर 8 तासात कापले तर गाडीचा सरासरी वेग किती ?

- (1) 80 किमी/तास (2) 66.66 किमी/तास
(3) 90 किमी/तास (4) 120 किमी/तास

A car takes 9 hours to travel from Pune to Nagpur at an average speed 80 km/hr. If the same car has to cover the same distance in 8 hrs., what should be the average speed of the car ?

- (1) 80 km/hr. (2) 66.66 km/hr.
(3) 90 km/hr. (4) 120 km/hr.

51. एका महाविद्यालयात एकूण 600 विद्यार्थी आहेत. प्रत्येकास एक तर इंग्रजी किंवा हिंदी किंवा दोन्ही विषय दिले. जर 75% विद्यार्थ्यांना इंग्रजी व 45% विद्यार्थ्यांना हिंदी विषय दिला असेल तर दोन्ही विषय घेणाऱ्या विद्यार्थ्यांची संख्या काढा.

- (1) 48 (2) 60 (3) 80 (4) 120

There were 600 students in a college. Each was offered either English or Hindi or both. If 75% students offered English and 45% Hindi, how many students offered both ?

- (1) 48 (2) 60 (3) 80 (4) 120

52. 8 मुले व 12 पुरुष एक काम 9 दिवसात पूर्ण करतात. प्रत्येक मुलाला एकाच काम पूर्ण करण्यास पुरुषांच्या दुप्पट वेळ लागतो. तर तेच काम 12 पुरुषांना पूर्ण करण्यास किती दिवस लागतील ?

- (1) 8 (2) 15 (3) 9 (4) 12

8 children and 12 men complete a certain piece of work in 9 days. If each child takes twice the time taken by a man to finish the work, in how many days will 12 men finish the same work ?

- (1) 8 (2) 15 (3) 9 (4) 12

कच्च्या कामासाठी जागा / SPACE FOR ROUGH WORK

A



53. नऊच्या पटीत येणाऱ्या पहिल्या पाच अंकांची सरासरी काढा.

- (1) 20 (2) 27 (3) 28 (4) 30

Find the average of the first five multiples of 9.

- (1) 20 (2) 27 (3) 28 (4) 30

54. दोन वृक्षलागवडीतील अंतर 3.5 मी. इतके असल्यास 140 मी. लांबीच्या रस्त्यावर एकूण किती वृक्ष लावावी लागतील ?

- (1) 30 (2) 31 (3) 40 (4) 41

If distance between two tree plantations is 3.5 meters, then how many trees will be planted on the road of length 140 meters ?

- (1) 30 (2) 31 (3) 40 (4) 41

55. निरजने सायकल घेण्यासाठी बँकेकडून 6,000 रु. चे कर्ज घेतले व 3 वर्षांनंतर बँकेला 9,240 रु. परत करून कर्जमुक्त झाला, तर त्या कर्जाचा द.सा.द.शे. सरळ व्याजाचा दर किती ?

- (1) 18 (2) 16 (3) 12.5 (4) 20

Niraj obtained a loan of Rs. 6,000 from the bank to purchase a bicycle. After 3 years he returned an amount of Rs. 9,240 and freed from his loan. What is the rate of simple interest p.c.p.a. of that loan ?

- (1) 18 (2) 16 (3) 12.5 (4) 20

56. X आणि Y या दोन स्थानकातील अंतर 500 कि.मी. आहे. एक रेल्वे X या स्थानकापासून Y कडे ताशी 20 कि.मी. वेगाने धावते. त्याच वेळी दुसरी रेल्वे Y या स्थानकातून X कडे ताशी 30 कि.मी. वेगाने धावते. तर X या स्थानकापासून किती अंतरावर दोन्ही रेल्वे एकमेकाला पार करतील ?

- (1) 200 कि.मी. (2) 300 कि.मी. (3) 120 कि.मी. (4) 40 कि.मी.

X and Y are two stations 500 Km apart. A train starts from X and moves towards Y at 20 Km/hr. Another train starts from Y at the same time and moves towards X at 30 Km/hr. How far from X will both trains cross each other ?

- (1) 200 Km (2) 300 Km (3) 120 Km (4) 40 Km

कच्च्या कामासाठी जागा / SPACE FOR ROUGH WORK

P.T.O.

A



57. जर 6 कागदी पुट्ट्यांचे वजन 45 ग्रॅम असेल, तर 1500 ग्रॅम वजनाच्या त्याच प्रकारच्या कागदापासून किती कागदी पुट्टे बनविता येतील ?

- (1) 45 (2) 90 (3) 200 (4) 180

If weight of 6 sheets of paper be 45 gram, how many sheets of same paper would weigh 1500 gram ?

- (1) 45 (2) 90 (3) 200 (4) 180

58. सलमा अर्ध्या तासामध्ये 540 शब्द टाईप करते. तर सहा मिनिटांमध्ये ती किती शब्द टाईप करेल ?

- (1) 108 (2) 180 (3) 36 (4) 60

Salama types 540 words in 30 minutes. How many words will she type in 6 minutes ?

- (1) 108 (2) 180 (3) 36 (4) 60

59. $\frac{3.65 \times 3.65 + 2.35 \times 2.35 - 2 \times 2.35 \times 3.65}{1.69} = ?$

- (1) 1.69 (2) 2.35 (3) 3.65 (4) 1

$\frac{3.65 \times 3.65 + 2.35 \times 2.35 - 2 \times 2.35 \times 3.65}{1.69} = ?$

- (1) 1.69 (2) 2.35 (3) 3.65 (4) 1

60. एका मोटारगाडीने 50 किमी प्रति तास या सरासरी वेगाने पुणे ते मुंबई हे अंतर कापण्यास 6 तास लागतात. जर त्याच मोटारगाडीने तेच अंतर 4 तासात कापले तर गाडीचा सरासरी वेग किती ?

- (1) 60 किमी/तास (2) 45 किमी/तास (3) $33\frac{1}{3}$ किमी/तास (4) 75 किमी/तास

A car takes 6 hours to travel from Pune to Mumbai at an average speed 50 Km/h. If the same car covers the same distance in 4 hours, what should be the average speed of the car ?

- (1) 60 Km/h (2) 45 Km/h (3) $33\frac{1}{3}$ Km/h (4) 75 Km/h

कच्च्या कामासाठी जागा / SPACE FOR ROUGH WORK

A



61. योग्य पर्यायाचा वापर करून खालील वाक्य पूर्ण करा.
गोपनीय राखीव निधी _____.

- (1) ताळेबंद पत्रकामध्ये दर्शविला जातो.
- (2) ताळेबंद पत्रकामध्ये दर्शविला जात नाही.
- (3) नफा-तोटा पत्रकामध्ये दर्शविला जात नाही.
- (4) व्यापारी पत्रकामध्ये दर्शविला जातो.

Complete the following statement using appropriate option.

Secret Reserve _____.

- (1) Appears in the Balance Sheet
- (2) Does not appear in Balance Sheet
- (3) Does not appear in Profit and Loss Account
- (4) Appears in the Trading A/c

62. येणी व देणी खात्यात सर्व रोकड व बँकेत जमा होणारी येणी व देणी _____ ती दर्शविली जातात.

- (1) जी विशिष्ट वर्षाशी संबंधित असतात
- (2) जी मागील वर्ष, चालू वर्ष व पुढील वर्षाशी संबंधित असतात
- (3) जी पुढील वर्षाशी संबंधित असतात
- (4) जी फक्त मागील वर्षाशी संबंधित असतात

Receipts and Payment Account shows all cash and bank receipts and payments, _____.

- (1) Related to particular accounting year
- (2) Related to current, past or future periods
- (3) Related to next accounting year
- (4) Related to previous accounting year only

63. 'दुहेरी स्वरूपावर आधारित' नोंद करण्याच्या प्रणालीला _____ असे म्हणतात.

- | | |
|----------------------|-------------------------|
| (1) एकल खाते प्रणाली | (2) दुहेरी खाते प्रणाली |
| (3) एकल नोंद प्रणाली | (4) दुहेरी नोंद प्रणाली |

The system of recording 'dual aspect concept' is called

- | | |
|---------------------------|---------------------------|
| (1) Single Account System | (2) Double Account System |
| (3) Single Entry System | (4) Double Entry System |



64. नफा न कमविणाऱ्या संस्थांचे उत्पन्न हे उत्पन्न व खर्च खात्याच्या _____ बाजूला व खर्च हे उत्पन्न व खर्च खात्याच्या _____ बाजूला नोंदविले जाते.

- (1) उजव्या, डाव्या (2) डाव्या, उजव्या
(3) खर्च, उत्पन्न (4) विरुद्ध, योग्य

The income of non-profit making organisation is recorded on _____ side of Income and Expenditure Account and expenditure is recorded on _____ side of Income and Expenditure Account.

- (1) Right hand, left hand (2) Left hand, right hand
(3) Expenditure, income (4) Opposite, correct

65. निव्वळ विक्री 25,00,000 रुपये आहे, विक्री केलेल्या वस्तूचा खर्च 18,00,000 रुपये आहे, मजुरी खर्च 3,00,000 रुपये आहे, तर ढोबळ नफा _____ राहिल.

- (1) रु. 7,00,000 (2) रु. 22,00,000
(3) रु. 4,00,000 (4) वरीलपैकी नाही

Net sales are Rs. 25,00,000, cost of goods sold is Rs. 18,00,000, wages paid is Rs. 3,00,000, then gross profit will be

- (1) Rs. 7,00,000 (2) Rs. 22,00,000
(3) Rs. 4,00,000 (4) None of the above

66. खालीलपैकी कोणते विधान बरोबर नाही ?

- (1) लेखाकर्म ही संकल्पना पुस्तपालनापेक्षा विस्तृत आहे.
(2) जेथे पुस्तपालन पूर्ण होते तेव्हा लेखाकर्म सुरू होते.
(3) लेखाकर्म करताना विशेष कौशल्य व ज्ञानाची गरज असते.
(4) पुस्तपालन हा लेखाकर्माचा भाग नसून, पुस्तपालनामुळे उद्योगधंद्याच्या आर्थिक परिस्थितीची समग्र कल्पना येते.

Which of the following statements is not correct ?

- (1) The concept of accounting is broader than book-keeping.
(2) Accounting begins where book-keeping ends.
(3) Accounting requires special skill and knowledge.
(4) Book-keeping which is not a part of accounting, gives complete picture of the financial condition of a business unit.

कच्च्या कामासाठी जागा / SPACE FOR ROUGH WORK

A



67. खालील माहितीच्या आधारे व्यवसायाला झालेला ढोबळ नफा (gross profit) काढा.
आरंभीचा मालसाठा रु. 20,000, एकूण खरेदी रुपये 2,00,000, मजुरी खर्च रु. 30,000, अखेरीचा शिल्लक मालसाठा रुपये 50,000, एकूण माल विक्री रु. 3,00,000, कार्यालय भाडे खर्च रु. 2,000.
- (1) रुपये 1,02,000
 - (2) रुपये 1,30,000
 - (3) रुपये 98,000
 - (4) रुपये 1,00,000

Find out Gross profit earned by business on the basis of following information.

Opening stock Rs. 20,000, Purchases Rs. 2,00,000, Wages Rs. 30,000, Closing stock Rs. 50,000, Sales Rs. 3,00,000, Office rent Rs. 2,000.

- (1) Rs. 1,02,000
- (2) Rs. 1,30,000
- (3) Rs. 98,000
- (4) Rs. 1,00,000

68. लेखाकर्माचे मूळ उद्दिष्ट _____ आहे.

- (1) उद्योगधंद्याच्या फक्त नफ्याची माहिती देणे
- (2) उद्योगधंद्याच्या तोट्याविषयी माहिती देणे
- (3) उद्योगधंद्याच्या सर्वसाधारण मिळकत/उत्पन्न व खर्च याविषयीची माहिती देणे
- (4) उद्योगधंद्याचा नफा किंवा तोटा तसेच आर्थिक परिस्थितीविषयी माहिती देणे

The main objective of accounting is _____.

- (1) To provide information about only profit of the business
- (2) To provide information about the loss of the business
- (3) To provide information about the general income and expenses of the business
- (4) To provide information about the profit or loss and the financial position of a business



69. रोख रक्कम देवून घोडा खरेदी केला असता _____ नावे (Debit) करण्यात यावे.

- (1) पशुधन खाते
- (2) माल खाते
- (3) रोख खाते
- (4) बँक खाते

A horse purchased by making cash payment shall be debited to

- (1) Livestocks Account
- (2) Goods Account
- (3) Cash Account
- (4) Bank Account

70. 1-1-2022 ला 'ए लिमिटेडने' 10,00,000 रुपयांची नवीन मशिनरी खरेदी केली.

कंपनीने मशिनरी घेताना 50,000 रु.चा वाहन खर्च दिला.

नवीन मशिनरी व्यवस्थित ठेवण्यासाठी कंपनीने 75,000 रु. मजुरी दिली.

खालीलपैकी _____ रकमेवर कंपनी 31-12-2022 या वर्षाअखेर घसारा गणना करेल.

- (1) रु. 10,00,000
- (2) रु. 10,50,000
- (3) रु. 11,25,000
- (4) रु. 10,75,000

On 1-1-2022, A Ltd., purchased new machinery for Rs. 10,00,000.

The company paid carriage expenses for machinery Rs. 50,000.

The company also paid wages for the installation of new machinery Rs. 75,000/-

The depreciation on machinery at the year end of 31-12-2022 will be computed on _____ of the following amounts by the company.

- (1) Rs. 10,00,000
- (2) Rs. 10,50,000
- (3) Rs. 11,25,000
- (4) Rs. 10,75,000

कच्च्या कामासाठी जागा / SPACE FOR ROUGH WORK

A



71. _____ धनादेशाची रक्कम सरळ आदात्याच्या बँक खात्यातच जमा होते.

- (1) वाहक
- (2) आदेश
- (3) रेखांकित
- (4) रेखांकित अकाउंट पेयी

Amount of the _____ cheque is directly credited to payee's bank account only.

- (1) Bearer
- (2) Order
- (3) Crossed
- (4) Crossed account payee

72. खालीलपैकी कोणते खाते हे 'नफा न कमविणाऱ्या संस्थांच्या वार्षिक पत्रकांमध्ये' समाविष्ट केले जात नाही ?

- (1) येणी व देणी खाते
- (2) उत्पन्न व खर्च खाते
- (3) नफा व तोटा खाते
- (4) रोकड खाते

Which of the following accounts is not a part of 'annual accounts of non-profit making organisation' ?

- (1) Receipts and Payment Account
- (2) Income and Expenditure Account
- (3) Profit and Loss Account
- (4) Cash Account



73. जेव्हा एखाद्या संस्थेचे विसर्जन केले जाते, तेव्हा सर्व मालमत्ता व देयता-देणी ह्या _____ खात्यात _____ मूल्यावर वर्ग केली जातात.

- (1) अधिकोश खाते - खरेदी किंमती
- (2) सर्व भागीदारांचे भांडवली खाते - विक्री किंमती
- (3) परिपूर्ती खाते - बाजार किंमती
- (4) परिपूर्ती खाते - पुस्तकी मूल्य किंमती

In case of dissolution of a firm, all assets and liabilities are transferred to _____ A/c at _____ value.

- (1) Bank A/c – Purchased price
- (2) All Partner's Capital A/c – Sales price
- (3) Realisation A/c – Market price
- (4) Realisation A/c – Book value price

74. जर रमेशने एका बँकेत ₹ 2,000/- दरसाल 6% दराने 5 वर्षासाठी गुंतविल्यास त्यास पाच वर्षांनंतर एकूण किती रक्कम मिळेल ?

- i. साध्या व्याज दराने.
 - ii. वार्षिक चक्रवाढ व्याज दराने.
- (1) (i) 2,600, (ii) 2,676.45
 - (2) (i) 2,550, (ii) 2,766.54
 - (3) (i) 2,600, (ii) 2,345.30
 - (4) (i) 12,000, (ii) 10,600.00

If Ramesh invested Rs. 2,000/- in a Bank at 6% p.a. for 5 years. Find out the total amount received by him after 5 years.

- i. At Simple Interest Method.
 - ii. At Compound Interest Method (Yearly).
- (1) (i) 2,600, (ii) 2,676.45
 - (2) (i) 2,550, (ii) 2,766.54
 - (3) (i) 2,600, (ii) 2,345.30
 - (4) (i) 12,000, (ii) 10,600.00

कच्च्या कामासाठी जागा / SPACE FOR ROUGH WORK

A



75. अंतिम लेख तयार करण्यासाठी आवश्यक असणाऱ्या खालील नमूद कलेब्या कृतींचा योग्य क्रम लावा.

- अ. तैरीज पत्रक तयार करणे
- ब. खात्यांची जुळवणी करणे
- क. वार्षिक वित्तीय पत्रक तयार करणे
- ड. नोंदी समाप्तोजित करणे

- (1) अ ब क ड
- (2) ड क ब अ
- (3) ब अ ड क
- (4) क ड अ ब

What is the correct sequence of the following actions required for the preparation of the final accounts ?

- A. Preparation of trial balance
- B. Balancing of accounts
- C. Preparation of annual financial statements
- D. Making adjusting entries

- (1) A B C D
- (2) D C B A
- (3) B A D C
- (4) C D A B

76. गुंतवणूकीवरील व्याज हे व्यवसाय संस्थेचे _____ होय.

- (1) नफा
- (2) तोटा
- (3) खर्च
- (4) उत्पन्न

Interest on investments is _____ for a business organisation.

- (1) Profit
- (2) Loss
- (3) Expenditure
- (4) Income

कच्च्या कामासाठी जागा / SPACE FOR ROUGH WORK

P.T.O.

A



77. तेरीज पत्रकामध्ये खालील बाबी समाविष्ट आहेत.

- I. 15% बँकेचे कर्ज रु. 4,00,000
- II. प्रत्यक्षात अदा केलेले व्याज रु. 45,000

तर यानुसार नफा-तोटा पत्रकांत व्याज खात्यावर नावे (Debit) एकूण रक्कम _____ असेल.

- (1) रुपये 60,000 (2) रुपये 30,000 (3) रुपये 45,000 (4) रुपये 15,000

Trial Balance contains the following information :

- I. 15% Bank Loan Amount Rs. 4,00,000
- II. Actual interest paid Rs. 45,000.

In this case Interest A/c debit to Profit and Loss A/c for total amount _____.

- (1) Rs. 60,000 (2) Rs. 30,000 (3) Rs. 45,000 (4) Rs. 15,000

78. व्यापार किंवा उत्पादनासंबंधीचे सर्व प्रत्यक्ष खर्च (Direct Expenses) हे _____ मध्ये वर्ग केले जातात.

- | | |
|------------------|--------------------|
| (1) ताळेबंद | (2) नफा-तोटा पत्रक |
| (3) व्यापार खाते | (4) यापैकी नाही |

All the direct expenses of trading or manufacturing are charged to

- | | |
|---------------------|-----------------------------|
| (1) Balance Sheet | (2) Profit and Loss Account |
| (3) Trading Account | (4) None of these |

79. श्री प्रसाद यांनी रुपये 30,000 चा माल खरेदी केला, ह्याचे वर्गीकरण _____ मध्ये होईल.

- | | |
|-----------------------|------------------------|
| (1) एक घटना | (2) व्यवहार |
| (3) व्यवहार तसेच घटना | (4) ना व्यवहार ना घटना |

Mr. Prasad purchased goods worth Rs. 30,000. This is classified as

- | | |
|---------------------------------------|-----------------------------------|
| (1) An event | (2) Transaction |
| (3) A transaction as well as an event | (4) Neither transaction nor event |

कच्च्या कामासाठी जागा / SPACE FOR ROUGH WORK

A



80. लेखापालाला दिले जाणारे वेतन _____ खात्यामध्ये जमा केले जाते.

- (1) वेतन (2) रोख
(3) कमिशन (4) यापैकी नाही

Payment of salary to the Accountant is debited to _____ account.

- (1) Salary (2) Cash
(3) Commission (4) None of these

81. भारत जागतिक व्यापार संघटनेत समाविष्ट झाल्यानंतर, खालीलपैकी कोणत्या वस्तूविषयीच्या पारंपरिक ज्ञानासाठी भारताला बौद्धिक संपदा अधिकार प्रदान झाला नाही ?

- (1) हळद (2) बासमती तांदूळ
(3) नीम (कडुलिंब) (4) बटाटा

After India signed into WTO, India's traditional knowledge of which of the following commodities was not granted a patent ?

- (1) Turmeric (2) Basmati Rice
(3) Neem (4) Potato

82. _____ हे 1991 च्या संकटाचे प्रमुख कारण होते.

- (1) मोठी निर्यात (2) कर दरात मोठी वाढ
(3) मोठी वित्तीय तूट (4) कमी व्याजाचा दर

The _____ was the major cause of crisis in 1991.

- (1) Large export (2) High tax rate
(3) Large fiscal deficit (4) Low interest rate

83. _____ रोजी WTO चा अंतिम कायदा स्थापित झाला.

- (1) 1 एप्रिल 1995 (2) 1 जानेवारी 1995
(3) 1 जानेवारी 1993 (4) 1 एप्रिल 1993

The final act of WTO was established on

- (1) 1st April 1995 (2) 1st January 1995
(3) 1st January 1993 (4) 1st April 1993



84. WTO च्या _____ फेरित विकसनशील देशांनी त्यांचे शुल्क 40 टक्क्यांनी कमी करण्याचे मान्य केले.
- (1) दोहा (2) उरुग्वे
(3) अर्जेन्टिना (4) जिनेव्हा

The developing countries agreed to reduce their tariffs by 40 per cent in _____ round of WTO.

- (1) Doha (2) Uruguay
(3) Argentina (4) Geneva

85. 1980 – 81 ते 2011 – 12 या काळात कच्चा माल व अंतर्गत उत्पादने गटात (विभागात) भारताच्या आयातीमध्ये कोणता वस्तुगट सर्वोच्च स्थानी होता ?

- (1) अन्नदाने (2) पेट्रोलियम उत्पादने
(3) भांडवली वस्तु (4) खते

Which of the following items is highest in Indian import during 1980 – 81 to 2011 – 12 in raw material and intermediate manufactures group ?

- (1) foodgrains (2) petroleum products
(3) capital goods (4) fertilizers

86. खाजगीकरणाच्या संकल्पनेत खालीलपैकी कोणत्या बाबींचा समावेश होतो ?

- अ. व्यवसाय भाडेपट्ट्याने देणे
ब. स्वायत्तता प्रदान करणे
क. व्यवसाय समापन
ड. संपूर्ण वि-राष्ट्रीयीकरण (denationalization)
- (1) केवळ अ (2) केवळ ड
(3) वरील सर्व (4) वरीलपैकी कोणतीही नाही

Which of the following is/are included in the concept of privatisation ?

- a. Leasing of business
b. Grant of autonomy
c. Liquidation of business
d. Total denationalization
- (1) Only a (2) Only d
(3) All of the above (4) None of the above

कच्च्या कामासाठी जागा / SPACE FOR ROUGH WORK

A



87. 1991 च्या व्यवहारतोल अरिष्टासाठी खालीलपैकी कोणता घटक प्राथमिक कारण होता ?

- (1) स्फिती (भाववाढ) दर कमी (2) उच्च व्याज दर
(3) तेल किंमतीत वाढ आणि प्रेषण कमी (4) वाढाव्याचे अंदाजपत्र

Which of the following factors was one of the primary cause of the balance of payment crisis in 1991 ?

- (1) Low rate of inflation (2) High interest rate
(3) Rising oil price and lower remittances (4) Surplus budget

88. मिस्टर पॉल या संगणक व्यापाऱ्याने "कॉम्प्युटर पॉइंट" या नावाने संगणक व्यापाराचा व्यवसाय सुरू केला. या व्यवसायासाठी त्याने डेल कॉम्प्युटर्स लि. कडून 10 संगणक प्रत्येकी 30,000 रुपये या दराने उधारी तत्वावर खरेदी केले. या व्यवहाराची 'रोजकीर्द' या पुस्तकात खालीलपैकी कोणत्या प्रकारे नोंद केली जाईल ?

- (1) खरेदी खाते - नावे 3,00,000
डेल कॉम्प्युटर्स लि. खात्याला 3,00,000
(2) संगणक खाते - नावे 3,00,000
डेल कॉम्प्युटर्स लि. खात्याला 3,00,000
(3) व्यापार खाते - नावे 3,00,000
डेल कॉम्प्युटर्स लि. खात्याला 3,00,000
(4) संगणक खाते - नावे 3,00,000
रोकड खात्याला 3,00,000

Mr. Paul commences business as computer merchant, trading under the name of "Computer Point". He purchases on credit, 10 computers @ Rs. 30,000 each from Dell Computers Ltd. The correct journal entry to record above transaction will be

- (1) Purchases A/c - Dr. 3,00,000
To Dell Computers Ltd. A/c 3,00,000
(2) Computers A/c - Dr. 3,00,000
To Dell Computers Ltd. A/c 3,00,000
(3) Trading A/c - Dr. 3,00,000
To Dell Computers Ltd. A/c 3,00,000
(4) Computers A/c - Dr. 3,00,000
To Cash A/c 3,00,000



89. खालीलपैकी कोणते जागतिक व्यापार संघटनेशी संबंधित नाही ?

- (1) वाद निवारण विभाग
- (2) व्यापार धोरण पुनरावलोकन विभाग
- (3) विनिमय दर व्यवस्थापन विभाग
- (4) सेवांच्या व्यापारासाठी परिषद

Which of the following is not related to WTO ?

- (1) Dispute Settlement Body
- (2) Trade Policy Review Body
- (3) Exchange Rate Management Body
- (4) Council for Trade in Services

90. वस्तू आणि सेवा करामध्ये खालीलपैकी कशाचा समावेश नाही ?

- | | |
|---------------|---------------|
| (1) खनिज पाणी | (2) खाद्य तेल |
| (3) पेट्रोल | (4) शीतपेय |

Which of the following is not covered under GST ?

- | | |
|-------------------|-----------------|
| (1) Mineral water | (2) Edible oil |
| (3) Petrol | (4) Cold drinks |

91. मुल्य वर्धित कर (VAT) हा ह्या _____ तारखेपासून भारतात लागू झाला.

- | | |
|-------------------|-------------------|
| (1) 1 मार्च 2008 | (2) 1 एप्रिल 2005 |
| (3) 31 मार्च 2008 | (4) 1 ऑगस्ट 2010 |

Value Added Tax (VAT) has been introduced from _____ in India.

- | | |
|---------------------------------|---------------------------------|
| (1) 1 st March 2008 | (2) 1 st April 2005 |
| (3) 31 st March 2008 | (4) 1 st August 2010 |

कच्च्या कामासाठी जागा / SPACE FOR ROUGH WORK

A



92. GST च्या सुरुवातीच्या टप्प्यावर अन्न यावरचा दर _____ टक्के होता.

- (1) 5% (2) शून्य
(3) 12% (4) 1%

At initial stage of GST rate was _____ percent on food.

- (1) 5% (2) zero
(3) 12% (4) 1%

93. WTO च्या _____ घोषणेतून कृषी अनुदान बंद करण्याबाबत विचार विनिमय झाला.

- (1) अर्जेन्टिना (2) जिनेव्हा
(3) दोहा (4) मॉरिशियस

The agriculture subsidy phase out was discussed in _____ declaration of WTO.

- (1) Argentina (2) Geneva
(3) Doha (4) Mauritius

94. रचनात्मक सुधारणा म्हणजे

- (1) दीर्घकालीन उपाय
(2) अर्थव्यवस्थेच्या पुरवठ्याच्या बाजूत सुधारणा
(3) आर्थिक वाढीतील अडथळे दूर करणे
(4) वरील सर्व

Structural reforms mean _____.

- (1) Long term measures
(2) Improvement in the supply side of the economy
(3) Removal of growth bottlenecks
(4) All the above



95. 1991 मध्ये _____ यांच्या अध्यक्षतेखाली कर सुधारणा समिती स्थापन करण्यात आली.

- | | |
|-----------------|-----------------|
| (1) राजा चेलैया | (2) अबीद हुसेन |
| (3) मनमोहन सिंग | (4) एम. नरसिंहम |

The Tax Reforms Committee was constituted under the Chairmanship of _____ in 1991.

- | | |
|--------------------|-------------------|
| (1) Raja Chelliah | (2) Abid Hussain |
| (3) Manmohan Singh | (4) M. Narasimham |

96. ब्लू बॉक्स अनुदान हे अन्न सुरक्षा, रोग नियंत्रण आणि _____ शी संबंधित होत्या.

- | | |
|-----------------------|-----------------|
| (1) उद्योजकांशी | (2) अवजड उद्योग |
| (3) शेतकऱ्यांची कर्जे | (4) संशोधन |

The Blue box subsidies were related with food security, disease control and _____

- | | |
|------------------------|----------------------|
| (1) Entrepreneurs | (2) Heavy industries |
| (3) Farmers borrowings | (4) Research |

97. कृषी अनुदाने कमी करण्याची जागतिक व्यापार संघटनेची सूचना बाजूला सारून विकसित देश त्यांच्या कृषी क्षेत्राला पाठिंबा देण्यासाठी शेतकऱ्यांना _____ अनुदाने देत आहेत.

- | | |
|----------------|----------------|
| (1) काळा खोका | (2) हिरवा खोका |
| (3) पिवळा खोका | (4) लाल खोका |

The developed countries are offering _____ subsidies to support their agriculture, trying to circumvent the stipulation of WTO to keep the agricultural subsidies at lower level.

- | | |
|----------------|---------------|
| (1) Black box | (2) Green box |
| (3) Yellow box | (4) Red box |

कच्च्या कामासाठी जागा / SPACE FOR ROUGH WORK

A



98. सद्य स्थितीत भारतातील फक्त सार्वजनिक क्षेत्रासाठी राखीव असलेली उद्योग क्षेत्रे _____ आहेत.

- | | |
|--------------------------|---------------------------------|
| (1) शस्त्रे आणि दारूगोळा | (2) हवाई वाहतूक आणि शस्त्रात्रे |
| (3) रेल्वे आणि दारूगोळा | (4) अणु उर्जा |

At present the industrial sectors of India reserved only for the public sector are _____.

- | | |
|----------------------------|----------------------------|
| (1) Arms and ammunition | (2) Air transport and arms |
| (3) Railway and ammunition | (4) Atomic energy |

99. नवीन आर्थिक धोरणात _____ ह्या उद्योगाचा आयात परवाना रद्द करण्यात आला.

- | | |
|--------------------------|------------------------------|
| (1) कापड उद्योग | (2) माहिती-तंत्रज्ञान उद्योग |
| (3) उपभोग्य वस्तू उद्योग | (4) वरील सर्व |

Under the New Economic Policy import licensing was abolished in case of _____ industries.

- | | |
|-------------------------------|---------------------|
| (1) Textile industries | (2) I.T. industries |
| (3) Consumer goods industries | (4) All the above |

100. सुधारणा नंतरच्या दहा वर्षांत जीडीपी वाढीचा दर वार्षिक _____ टक्के होता.

- | | | | |
|---------|---------|---------|---------|
| (1) 3.6 | (2) 5.6 | (3) 7.6 | (4) 7.9 |
|---------|---------|---------|---------|

The rate of growth of GDP was _____ per cent per annum during the ten years since reforms.

- | | | | |
|---------|---------|---------|---------|
| (1) 3.6 | (2) 5.6 | (3) 7.6 | (4) 7.9 |
|---------|---------|---------|---------|

**सूचना - (पृष्ठ 1 वरून पुढे.....)**

- (8) प्रश्नपुस्तिकेमध्ये विहित केलेल्या विशिष्ट जागीच कच्चे काम (रफ वर्क) करावे. प्रश्नपुस्तिकेव्यतिरिक्त उत्तरपत्रिकेवर वा इतर कागदावर कच्चे काम केल्यास ते काँपी करण्याच्या उद्देशाने केले आहे, असे मानले जाईल व त्यानुसार उमेदवारावर शासनाने जारी केलेल्या “परीक्षांमध्ये होणाऱ्या गैरप्रकारांना प्रतिबंध करण्याबाबतचे अधिनियम-82” यातील तरतुदीनुसार कारवाई करण्यात येईल व दोषी व्यक्ती कमाल एक वर्षाच्या कारावासाच्या आणि/किंवा रुपये एक हजार रकमेच्या दंडाच्या शिक्षेस पात्र होईल.
- (9) सदर प्रश्नपत्रिकेसाठी आयोगाने विहित केलेली वेळ संपल्यानंतर उमेदवाराला ही प्रश्नपुस्तिका स्वतःबरोबर परीक्षा कक्षाबाहेर घेऊन जाण्यास परवानगी आहे. मात्र परीक्षा कक्षाबाहेर जाण्यापूर्वी उमेदवाराने आपल्या उत्तरपत्रिकेचा भाग-1 समवेक्षकाकडे न विसरता परत करणे आवश्यक आहे.

नमुना प्रश्न

प्र. क्र. 201. सतीची चाल नष्ट करण्यासाठी कोणी मूलतः प्रयत्न केले ?

- (1) स्वामी दयानंद सरस्वती (2) ईश्वरचंद्र विद्यासागर
(3) राजा राममोहन रॉय (4) गोपाळकृष्ण गोखले

ह्या प्रश्नाचे योग्य उत्तर “(3) राजा राममोहन रॉय” असे आहे. त्यामुळे या प्रश्नाचे उत्तर “(3)” होईल. यास्तव खालीलप्रमाणे प्रश्न क्र. 201 समोरील उत्तर-क्रमांक “(3)” हे वर्तुळ पूर्णपणे छायांकित करून दाखविणे आवश्यक आहे.

प्र. क्र. 201.

- ① ② ● ④

अशा पद्धतीने प्रस्तुत प्रश्नपुस्तिकेतील प्रत्येक प्रश्नाचा तुमचा उत्तर-क्रमांक हा तुम्हाला स्वतंत्ररीत्या पुरविलेल्या उत्तरपत्रिकेवरील त्या त्या प्रश्न-क्रमांकासमोरील संबंधित वर्तुळ पूर्णपणे छायांकित करून दाखवावा. ह्याकरिता फक्त काळ्या शाईचे बॉलपेन वापरावे, पेन्सिल वा शाईचे पेन वापरू नये.

कच्च्या कामासाठी जागा / SPACE FOR ROUGH WORK

A