



adda247



GOVT. OF NCT OF DELHI
Delhi Subordinate Services Selection Board
FC-18, Institutional Area, Karkardooma, Delhi – 110092.
www.dsssb.delhigovt.nic.in

Participant ID	
Participant Name	
Test Center Name	iON Digital Zone iDZ 2 Sector 62
Test Date	30/03/2022
Test Time	12:30 PM - 2:30 PM
Subject	Assistant Teacher (Primary)

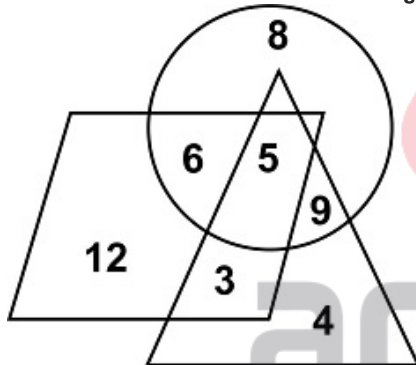
Section : Mental Ability

Q.1 Three of the given options are alike in a certain way. However, one option is not like the other three. Select the option which is different from the others.

- Ans
- A. SJC : RIB
 - B. WFC : VGB
 - C. RIA : QHZ
 - D. RAT : QZS

Question ID : 75322914573

Q.2 Find the number common to all three digits.



- Ans
- A. 9
 - B. 12
 - C. 5
 - D. 6

Question ID : 75322914584

Q.3 Three of the given options are alike in a certain way. However, one option is not like the other three. Select the option which is different from the others.

- Ans
- A. 35
 - B. 23
 - C. 29
 - D. 41

Question ID : 75322914582

Q.4 Aman is standing facing a tree in his garden at sunset. He sees that the shadow of a tree falls on his right. In which direction is Aman facing?

- Ans A. South
 B. West
 C. Answer
 D. East

Question ID : 75322914585

Q.5 उस विकल्प का चयन करें जो तीसरे पद से उसी प्रकार से संबंधित है जिस प्रकार से दूसरा पद पहले पद से संबंधित है।

PAPER : SDSHU :: MOTHER : ?

- Ans A. PRWKHU
 B. PQVHUK
 C. PUVQKH
 D. PRQUKW

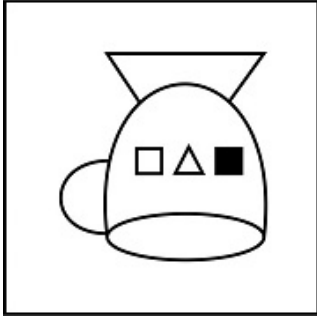
Question ID : 75322914574




Q.6 यदि एक दर्पण को रेखा XY पर रखा जाता है, तो उत्तर आकृति में से कौन सी दी गई आकृति की सही छवि है?



Ans A. छवि D



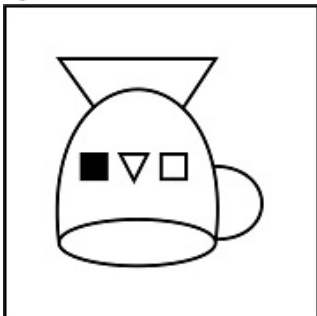
B. छवि C



C. छवि A



D. छवि B



Question ID : 75322914589

Q.7 श्रृंखला से लुप्त संख्या ज्ञात करें।
0, 1, 9, 36, 100, ____, 441

- Ans A. 361
 B. 235
 C. 225
 D. 289

Question ID : 75322914583

Q.8 रश्मि, सुनीता, मोना और साक्षी एक वर्गाकार मेज के चारों ओर बैठी हैं। रश्मि सुनीता के दाएं ओर है। मोना साक्षी के बाएं ओर है। विकल्पों में उल्लिखित व्यक्तियों में से कौन एक दूसरे के सामने बैठा है?

- Ans A. मोना - रश्मि
 B. रश्मि - सुनीता
 C. सुनीता - साक्षी
 D. रश्मि - साक्षी

Question ID : 75322914579

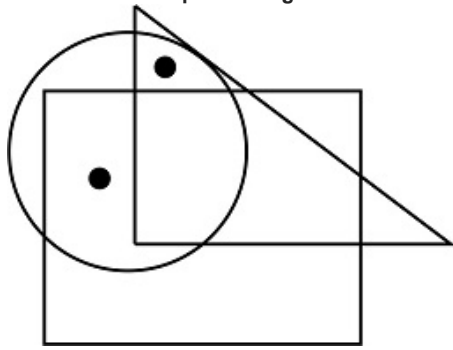
Q.9 सात खिलाड़ी मनोज, नितिन, ओसामा, पीयूष, क्राज़ी, राहुल और सैम एक बेंच पर बैठे हैं। सैम प्रतीक के ठीक दाएं और नितिन के ठीक बाएं में है। मनोज ओसामा के ठीक दाएं में है। मनोज और प्रतीक के बीच में एक खिलाड़ी है। नितिन और क्राज़ी के बीच दो खिलाड़ी हैं। प्रतीक और राहुल के बीच दो खिलाड़ी हैं। ठीक बीच में कौन है?

- Ans A. सैम
 B. प्रतीक
 C. क्राज़ी
 D. राहुल

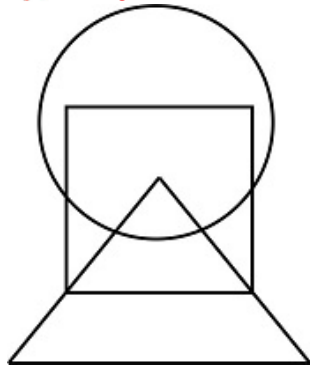
Question ID : 75322914578

adda247

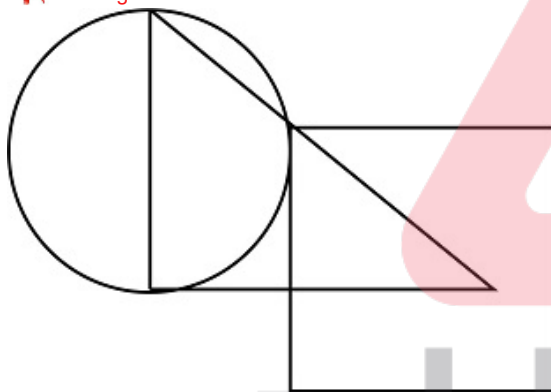
Q.10 In the given question, find the option which satisfies the same condition of placement of dots as in the question figure.



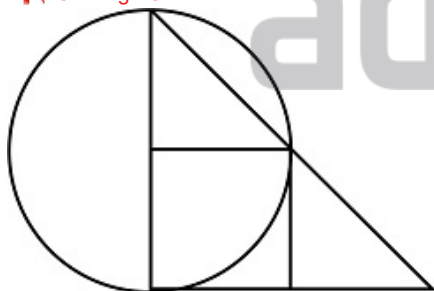
Ans A. Image B



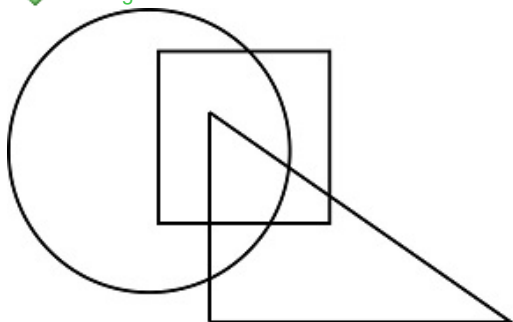
B. Image D



C. Image C

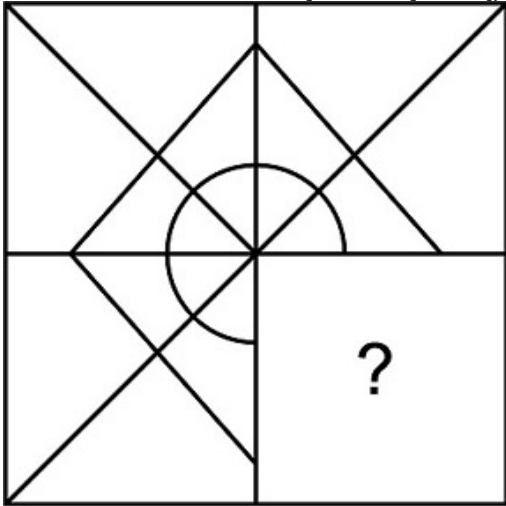


D. Image A

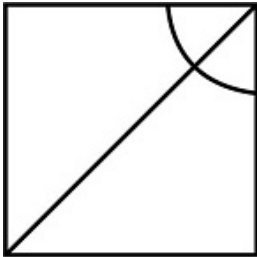


Question ID : 75322914588

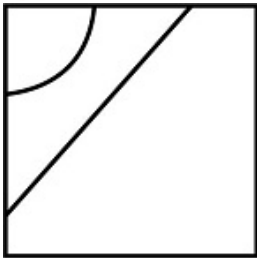
Q.11 निम्नलिखित में से कौन सी उत्तर आकृति प्रश्न आकृति को पूरा करती है?



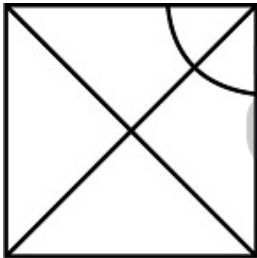
Ans A. छवि B



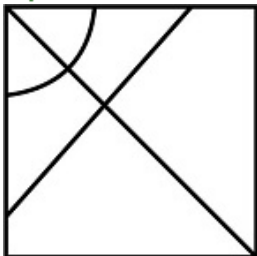
B. छवि A



C. छवि C



D. छवि D



Question ID : 75322914587

Q.12 प्रश्न में, एक कथन दिया गया है, जिसके बाद दो धारणाएं I और II दी गई हैं। आपको उन कथनों को सत्य मानना है, भले ही यह सामान्यतः ज्ञात तथ्य से भिन्न प्रतीत हो। आपको यह निर्णय लेना है कि दी गई धारणाओं में से कौन सा, यदि कोई हो, निहित है।

कथन: कंपनी MNO के किसी भी A.C को खरीदने के लिए, जयपुर शहर के लिए कंपनी MNO के A.C के एकमात्र एजेंट 'X' से संपर्क करें।" - एक विज्ञापन

धारणा I: लोग आम तौर पर एकमात्र एजेंटों से उत्पाद खरीदना पसंद करते हैं।

धारणा II: कंपनी MNO ने जयपुर शहर में A.C बेचने के लिए X को एकाधिकार एजेंसी अधिकार दिए हैं।

- Ans
- A. न तो I और न ही II निहित है
 - B. I और II दोनों निहित हैं
 - C. केवल II निहित है
 - D. केवल I निहित है

Question ID : 75322914580

Q.13 200 लोग एक रौ में बैठे हैं। आशा बाएं से 20वें स्थान पर है और एन्ना दाएं से 31वें स्थान पर है। उनके बीच कितने लोग बैठे हैं?

- Ans
- A. 149
 - B. 151
 - C. 150
 - D. 159

Question ID : 75322914577

Q.14 निम्नलिखित श्रृंखला में लुप्त पद ज्ञात करें।
QJ, SH, UF, WD, _____

- Ans
- A. YB
 - B. ZA
 - C. BY
 - D. AZ

Question ID : 75322914571

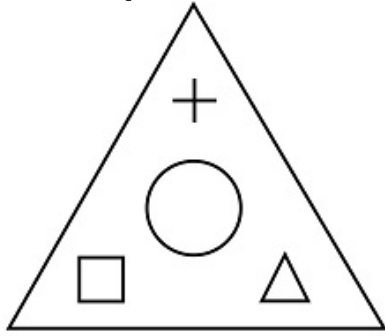
Q.15 दिए गए शब्दों को उस क्रम में व्यवस्थित करें जिस क्रम में वे शब्दकोश में होते हैं।

1. Talent
2. Tales
3. Tall
4. Tangle
5. Tangent

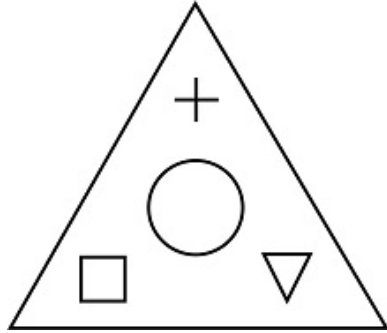
- Ans
- A. 5, 2, 3, 4, 1
 - B. 1, 2, 3, 4, 5
 - C. 1, 2, 3, 5, 4
 - D. 1, 3, 2, 4, 5

Question ID : 75322914572

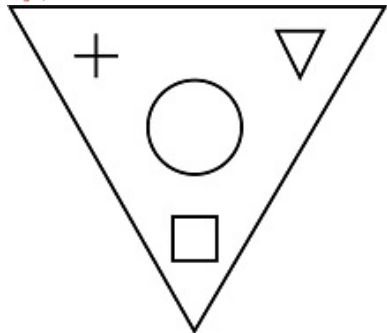
Q.16 निम्नलिखित आकृति की जल छवि ज्ञात करें।



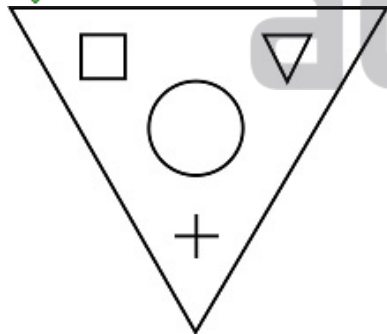
Ans A. छवि D




B. छवि B



C. छवि C



D. छवि A



Question ID : 75322914590

Q.17 इस प्रश्न में, तीन कथन दिए गए हैं, जिसके बाद दो निष्कर्ष I और II दिए गए हैं। यह मानते हुए कि कथन में सभी जानकारी सत्य है, दो निष्कर्षों का एक साथ विश्लेषण करें और निर्धारित करें कि क्या कथन में दी गई जानकारी में से कोई भी तार्किक रूप से और निश्चित रूप से अनुसरण करता (करते) है।

कथन I: सभी घड़ियाँ ब्रेसलेट हैं।
कथन II: सभी ब्रेसलेट परफ्यूम हैं।
कथन III: सभी परफ्यूम घड़ियाँ हैं।

निष्कर्ष I: सभी ब्रेसलेट घड़ियाँ हैं।
निष्कर्ष II: कुछ परफ्यूम घड़ियाँ हैं।

- Ans A. न तो I और न ही II अनुसरण करता है
 B. केवल I अनुसरण करता है
 C. I और II दोनों अनुसरण करते हैं
 D. केवल II अनुसरण करता है

Question ID : 75322914581

Q.18 एक व्यक्ति सुबह में घंटाघर की ओर चल रहा है। जब वह मीनार पर पहुँचता है, तो वह पाता है कि मीनार की छाया उसके बाएँ ओर गिरती है। व्यक्ति का मुख किस दिशा में है?

- Ans A. पूर्व
 B. दक्षिण
 C. उत्तर
 D. पश्चिम

Question ID : 75322914586

Q.19 उस विकल्प का चयन करें जो तीसरे पद से उसी प्रकार से संबंधित है जिस प्रकार से दूसरा पद पहले पद से संबंधित है।
दूध : गाय :: ? : भेड़

- Ans A. उन
 B. चमड़ा
 C. रबर
 D. कपास

Question ID : 75322914575

Q.20 एक निश्चित कोड में यदि '859' का अर्थ 'cab de tas' है, '684' का अर्थ 'tor tas rot' है और '471' का अर्थ 'tor be for' है, तो 'rot' का कोड क्या होगा?

- Ans A. 6
 B. 4
 C. 8
 D. 7

Question ID : 75322914576

Section : General Awareness

Q.1 भारत और श्रीलंका _____ बनाते टापुओं के एक समूह से जुड़े हुए हैं।

- Ans A. भूपेन हाजरिका सेतु
 B. शरवती ब्रिज
 C. रामसेतु
 D. सिसेरी नदी सेतु

Question ID : 75322914598

Q.2 किसने पटना, बिहार में पत्थर की मस्जिद का निर्माण करवाया था?

- Ans
- A. फ़िरोज़ शाह तुग़लक़
 - B. अलाउद्दीन खिलजी
 - C. परवेज़ शाह
 - D. औरंगज़ेब

Question ID : 75322914592

Q.3 भागीरथी नदी की प्रमुख सहायक नदी कौन-सी है?

- Ans
- A. धौलीगंगा
 - B. भीलांगना
 - C. बिशनगंगा
 - D. पिंडर

Question ID : 75322914600

Q.4 2021 तक सबसे लंबे समय तक सेवा करने वाले भारतीय प्रधान मंत्री कौन थे?

- Ans
- A. नरेन्द्र मोदी
 - B. मनमोहन सिंह
 - C. जवाहरलाल नेहरू
 - D. इंदिरा गांधी

Question ID : 75322914606

Q.5 निम्नलिखित में से कौन सा उपकरण एक माध्यम में उत्पन्न होने वाली अल्ट्रासोनिक तरंगों का पता लगाने के लिए उपयोग किया जाता है?

- Ans
- A. सोनोमीटर
 - B. रेज़नन्स ट्यूब
 - C. कुंट की नली
 - D. स्वरित्र

Question ID : 75322914597

Q.6 निम्नलिखित में से कौन सा शहर सिंधु घाटी सभ्यता का हिस्सा था?

- Ans
- A. साँची
 - B. द्वारका
 - C. मुज़िरिस
 - D. हड़प्पा

Question ID : 75322914601

Q.7 पिट का भारत अधिनियम किस वर्ष में पारित किया गया था?

- Ans
- A. 1819
 - B. 1784
 - C. 1901
 - D. 1857

Question ID : 75322914603

Q.8 Which among the following is an indirect tax in India?

- Ans A. Corporation Tax
 B. Wealth Tax
 C. Service tax
 D. Income Tax

Question ID : 75322914593

Q.9 निम्नलिखित में से कौन भारत की राजकोषीय नीति के संबंध में पूंजीगत प्राप्ति नहीं है?

- Ans A. ऋण वसूली
 B. विनिवेश
 C. लाइसेंस और परमिट
 D. उधार

Question ID : 75322914594

Q.10 भारत में नागरिकता अधिनियम किस वर्ष में पारित किया गया था?

- Ans A. 1964
 B. 1951
 C. 1955
 D. 1959

Question ID : 75322914608

Q.11 किरण का _____, परावर्तित किरण से सामान्य सतह तक मापा जाने वाला कोण है।

- Ans A. विसरण कोण
 B. परावर्तन कोण
 C. अपवर्तन कोण
 D. घटना का कोण

Question ID : 75322914595

Q.12 टोक्यो ओलंपिक 2020 में भाला फेंक में भारत का पहला स्वर्ण पदक किस एथलीट ने जीता?

- Ans A. नीरज चोपड़ा
 B. एम. सी. मैरी कॉम
 C. दीपिका कुमारी
 D. लिअंडर पेस

Question ID : 75322914609

Q.13 Which among the following is not a type of Right to freedom in the Indian Constitution?

- Ans A. Freedom of armed assembly
 B. Freedom of speech
 C. Freedom of expression
 D. Freedom of association

Question ID : 75322914607

Q.14 Which of the following disease is not caused by a mosquito bite?

- Ans A. Dengue
 B. Malaria
 C. Elephantiasis
 D. Hepatitis

Question ID : 75322914596

Q.15 भारत गणराज्य के किस नागरिक को नोबल शांति पुरस्कार से सम्मानित किया गया था?

- Ans A. कैलाश सत्यार्थी
 B. अमर्त्य सेन
 C. रबीन्द्रनाथ टैगोर
 D. सी. वी. रमन

Question ID : 75322914605

Q.16 भारत में एकमात्र सक्रिय ज्वालामुखी द्वीप कौन सा है?

- Ans A. अमेंडीवी द्वीप
 B. बंजर द्वीप
 C. लक्षद्वीप द्वीप
 D. मलिक द्वीप

Question ID : 75322914599

Q.17 किस विश्व कप U19 विजेता भारत के कप्तान ने अगस्त 2021 में भारत में क्रिकेट से निवृत्ति की घोषणा की?

- Ans A. शुबमन गिल
 B. विराट कोहली
 C. ऋषभ पंत
 D. उन्मुक्त चन्द

Question ID : 75322914610

Q.18 भारत में विज़ार्ड ऑफ़ हॉकी के नाम से किसे जाना जाता है?

- Ans A. ध्यान चन्द
 B. कुंवर दिग्विजय सिंह
 C. बलबीर सिंह सीनियर
 D. रूप सिंह

Question ID : 75322914604

Q.19 भारत में स्थित राजा नरसिंह देव । का सूर्य मंदिर कहाँ स्थित है?

- Ans A. दुर्गापुर
 B. भरतपुर
 C. अजमेर
 D. कोणार्क

Question ID : 75322914591

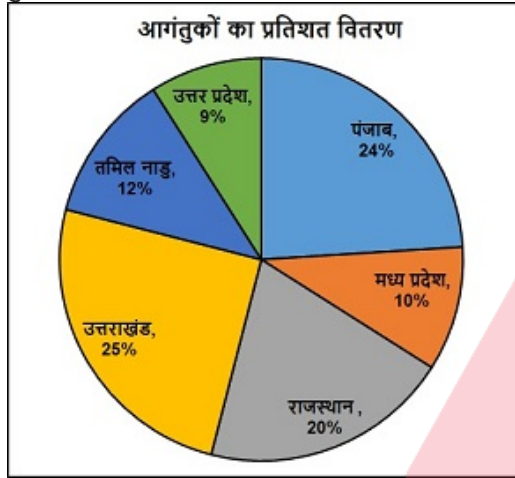
Q.20 भारतीय उपमहाद्वीप की पहली महिला मुस्लिम शासक कौन थी?

- Ans A. जहाँआरा
 B. ज़ेब-उन-निसा
 C. चांद बीबी
 D. रज़िया सुल्तान

Question ID : 75322914602

Section : Arithmetic Ability

Q.1 दिया गया पाई-चार्ट 2021 में छह अलग-अलग राज्यों का दौरा करने वाले आगंतुकों की कुल संख्या के प्रतिशत वितरण को दर्शाता है।
 यदि 2020 में राजस्थान का दौरा करने वाले आगंतुकों की संख्या 4500 है जो 2021 में पंजाब में आने वाले आगंतुकों की संख्या से 25% अधिक है, तो 2021 में सभी छह राज्यों में आने वाले आगंतुकों की कुल संख्या क्या है?



- Ans A. 18000
 B. 15000
 C. 17200
 D. 16500

Question ID : 75322914628

Q.2 एक आदमी कार 120 km/hr की गति से पहले 160 km, 56 km/hr की गति से अगले 70 km, 180 km/hr की गति से अगले 240 km चलाता है। कुल यात्रा के दौरान उसकी औसत गति ज्ञात करें।

- Ans A. 120 km/hr
 B. 90 km/hr
 C. 150 km/hr
 D. 60 km/hr

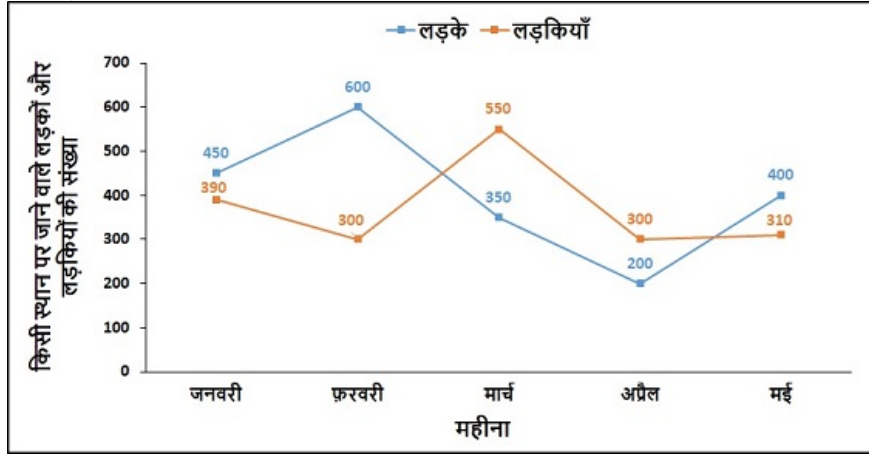
Question ID : 75322914623

Q.3 निम्नलिखित प्रश्न में प्रश्नवाचक चिन्ह (?) के स्थान पर क्या आएगा?
 $14(3/5) + 17(5/6) + 7(1/3) = ?/6 + 20$

- Ans A. 141
 B. 118.6
 C. 171
 D. 161

Question ID : 75322914615

- Q.4 नीचे दिया गया रेखा ग्राफ जनवरी से मई तक एक स्थान पर जाने वाले लड़कों और लड़कियों की संख्या को दर्शाता है।
यदि जून में लड़कों की संख्या और लड़कियों की संख्या में अप्रैल की तुलना में क्रमशः 21.5% और 16(2/3)% की वृद्धि हुई, तो जून में स्थान पर एक साथ दौरा करने गए लड़के और लड़कियों की कुल संख्या ज्ञात करें।



- Ans A. 457
 B. 573
 C. 569
 D. 593

Question ID : 75322914630

- Q.5 सुखी और दिलजीत की वर्तमान आयु क्रमशः 6 : 7 के अनुपात में है। दो वर्षों बाद, दिलजीत और गुरु की आयु क्रमशः 11 : 8 के अनुपात में होगी। गुरु की वर्तमान आयु ज्ञात करें, यदि सुखी, दिलजीत और गुरु की वर्तमान औसत आयु 36 वर्ष है।

- Ans A. 33 वर्ष
 B. 26 वर्ष
 C. 28 वर्ष
 D. 30 वर्ष

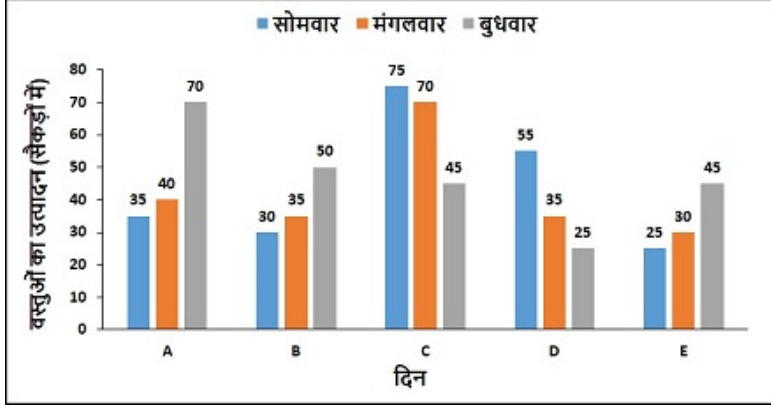
Question ID : 75322914621

- Q.6 पाइप A एक टंकी को 20 लीटर प्रति मिनट की दर से भरता है और पाइप B अकेले एक टंकी को 10 घंटे में भरता है। यदि दोनों पाइपों को एक साथ खोल दिया जाए तो टंकी 6 घंटे में भर जाती है। टंकी की क्षमता ज्ञात करें।

- Ans A. 18000 लीटर
 B. 7500 लीटर
 C. 9000 लीटर
 D. 6000 लीटर

Question ID : 75322914625

Q.7 नीचे दिया गया बार ग्राफ 5 अलग-अलग दिनों में एक निर्माण फर्म द्वारा विभिन्न वस्तुओं (सैकड़ों में) के उत्पादन को दर्शाता है।
बुधवार को वस्तु A के उत्पादन का सोमवार को वस्तु C के उत्पादन से अनुपात क्या है?



- Ans
- A. 15:14
 - B. 13:12
 - C. 12:13
 - D. 14:15

Question ID : 75322914629

Q.8 एक आयताकार बक्से का विमा $3.2 \text{ m} \times 2 \text{ m} \times 1.2 \text{ m}$ हैं। आयताकार बक्से के अंदर 40 cm भुजा वाले कितने घनाभ बक्से रखे जा सकते हैं?

- Ans
- A. 160
 - B. 60
 - C. 240
 - D. 120

Question ID : 75322914627

Q.9 Simple Interest for the sum of Rs. 2460 for two years is Rs. 68 more than the SI for Rs. 2290 for the same duration. Find the Rate of Interest.

- Ans
- A. 15%
 - B. 25%
 - C. 20%
 - D. 18%

Question ID : 75322914622

Q.10 रविन्द्र और नुसरत ने मिलकर क्रमशः 8400 रुपए और 6500 रुपए के निवेश से साथ व्यवसाय शुरू किया। 6 महीने के बाद, रविन्द्र और नुसरत ने अपने निवेश में क्रमशः 10% और 20% की वृद्धि की। यदि एक वर्ष के अंत में, व्यापार में कुल लाभ 6388 रुपए था, तो रविन्द्र के लाभ का हिस्सा है:

- Ans
- A. 3528 रुपए
 - B. 5720 रुपए
 - C. 7056 रुपए
 - D. 2860 रुपए

Question ID : 75322914619

Q.11 0.42, 0.14 और 0.35 का महत्तम समापवर्तक है:

- Ans A. 1.4
 B. 0.14
 C. 0.7
 D. 0.07

Question ID : 75322914613

Q.12 एक घनाभ बक्से की ऊंचाई, लंबाई और चौड़ाई क्रमशः 18 cm, 12 cm और 16 cm है। इसका क्षेत्रफल ज्ञात करें।

- Ans A. 1392 sq. cm
 B. 1192 sq. cm
 C. 596 sq. cm
 D. 696 sq. cm

Question ID : 75322914626

Q.13 मीना, शीना और रीता तीन मित्र हैं और उनकी आयु क्रमशः $(a + 4)$, $(a - 4)$ और $(a - 8)$ वर्ष है। मीना और शीना की मिलाकर औसत आयु 24 वर्ष है। रीता की वर्तमान आयु क्या है?

- Ans A. 24 वर्ष
 B. 12 वर्ष
 C. 18 वर्ष
 D. 16 वर्ष

Question ID : 75322914616

Q.14 तीन संख्याएँ 3 : 4 : 9 के अनुपात में हैं और उनका लघुतम समापवर्तक 1800 है। सबसे बड़ी संख्या ज्ञात करें।

- Ans A. 150
 B. 200
 C. 550
 D. 450

Question ID : 75322914614

Q.15 निम्नलिखित प्रश्न में प्रश्नवाचक चिन्ह (?) के स्थान पर लगभग कितना मान आएगा?
 799.92 का $3599.98 \div 8.92 + 74.98\% = ?$

- Ans A. 1000
 B. 1250
 C. 950
 D. 1400

Question ID : 75322914611

Q.16 दो संख्याओं का गुणनफल 3645 है। यदि इन संख्याओं का महत्तम समापवर्तक 27 है, तो बड़ी संख्या है:

- Ans A. 125
 B. 115
 C. 145
 D. 135

Question ID : 75322914612

Q.17 राम की आय में क्रमशः 30% और 20% की वृद्धि होती है। उसकी आय में प्रभावी प्रतिशत परिवर्तन ज्ञात करें।

- Ans A. 50%
 B. 56%
 C. 46%
 D. 66%

Question ID : 75322914617

Q.18 एक आदमी A से B तक जाता है और फिर B से A तक जाता है। A से B तक, उसकी गति 8 km/h थी और B से A तक, उसकी गति 20 km/h थी। आदमी द्वारा पूरी यात्रा को तय करने में लिया गया कुल समय (63/8) घंटा है, तो A से B की दूरी ज्ञात करने।

- Ans A. 78.5 km
 B. 45 km
 C. 90 km
 D. 36 km

Question ID : 75322914624

Q.19 सुरेश की वर्तमान आय उसके पिता की वर्तमान आय की 2/5 है। कुछ वर्षों के बाद, सुरेश की आय उस समय अपने पिता की आय की 75% हो जाएगी। इस अवधि में पिता की आय में कितने प्रतिशत की वृद्धि होगी?

- Ans A. 120%
 B. 125%
 C. 140%
 D. 150%

Question ID : 75322914618

Q.20 दूध की एक निश्चित मात्रा के साथ 80 लीटर पानी मिश्रित किया गया है ताकि मिश्रण की लागत 40 रुपए प्रति लीटर हो। यदि शुद्ध दूध की लागत 60 रुपए प्रति लीटर है, तो मिश्रण में दूध की मात्रा है:

- Ans A. 180 लीटर
 B. 160 लीटर
 C. 100 लीटर
 D. 120 लीटर

Question ID : 75322914620

Section : General English

Q.1 Select the word that is similar in meaning (SYNONYM) to the word given below

debased

- Ans A. aggrandize
 B. amenable
 C. unamenable
 D. corrupted

Question ID : 75322914639

Q.2 Select the most appropriate meaning of the given idiom

A blessing in disguise

- Ans A. To act in a frenzied manner
- B. Something good that isn't recognized at first
- C. To politely ask for someone's full attention
- D. To share a secret that wasn't suppose to be shared

Question ID : 75322914643

Q.3 Select the most appropriate 'one word ' for the expressions given below

Impressive display or range of a particular type of thing

- Ans A. Heretic
- B. Flotilla
- C. Frivolous
- D. Array

Question ID : 75322914645

Q.4 Select the word that is opposite in meaning (ANTONYM) to the word given below

voracious

- Ans A. prodigious
- B. avid
- C. satisfied
- D. insatiable

Question ID : 75322914640

Q.5 Four words are given, out of which only one word is spelt incorrectly. Choose the incorrectly spelt word.

- Ans A. notoriety
- B. expatia
- C. paucity
- D. partisan

Question ID : 75322914642

Q.6 Fill in the blank with the most appropriate choice

Outside the court they both said they would consider mounting a case against the police for _____ prosecution.

- Ans A. mundane
- B. modest
- C. munificent
- D. malicious

Question ID : 75322914636

Q.7 Select the word segment that substitutes (replaces) the bracketed word segment correctly and completes the sentence meaningfully. Select the option 'no correction required' if the sentence is correct as given.

Incineration has been used for decades (as the magic-bullet solution to disposing otherwise) persistent waste materials.

- Ans A. as the magic-bullet solution to disposing of otherwise
 B. No correction required
 C. as the magic-bullet solution of disposing otherwise
 D. as the magic-bullet solution to disposing off otherwise

Question ID : 75322914633

Q.8 The question below consist of a set of labelled (P, Q, R, S) sentences. Out of four options given, select the most logical order of the sentences which form a paragraph.

The first ruler of the gods was Uranus, the personification of the sky.
P. He was married to Gaia, the goddess of the earth.
Q. After a prophecy that his children would overthrow him, the original ruler of the world hid his children inside their mother (earth).
R. Gaia hated him for this.
S. Uranus had twelve children with Gaia.
The children of the sky and the earth were known in the ancient sources as the Titans.

- Ans A. RPSQ
 B. PSQR
 C. RQSP
 D. PRSQ

Question ID : 75322914638

Q.9 The sentence below has been divided into three parts. Select the part of the sentence that has an error. If the sentence has no error, select the option 'No Error'.

The Indian expedition/ to the Mount Everest is/ leaving next month.

- Ans A. leaving next month.
 B. The Indian expedition
 C. No Error
 D. to the Mount Everest is

Question ID : 75322914631

Q.10 Select the word segment that substitutes (replaces) the bracketed word segment correctly and completes the sentence meaningfully. Select the option 'no correction required' if the sentence is correct as given.

Grandma (asked us, "Where were all of you last night.")

- Ans A. asked us that, "Where were all of you last night?"
 B. No correction required
 C. asked us, "Where were all of you last night?"
 D. told us, "Where were all of you last night."

Question ID : 75322914634

Q.11 The sentence below has been divided into three parts. Select the part of the sentence that has an error. If the sentence has no error, select the option 'No Error'.

Neither of them have/ any idea how long the/ body has been entombed.

- Ans A. any idea how long the
 B. Neither of them have
 C. body has been entombed.
 D. No Error

Question ID : 75322914632

Q.12 Four words are given, out of which only one word is spelt correctly. Choose the correctly spelt word.

- Ans A. simultaneous
 B. simulteneous
 C. simultenaous
 D. simultanous

Question ID : 75322914641

Q.13 Some parts of a sentence have been jumbled up, and labelled P, Q, R and S. Select the option that gives the correct sequence in which these parts can be rearranged to form a meaningful and grammatically correct sentence.

Novelists have proved
P. impressionable, quick studies,
Q. recalibrating their aesthetic
R. objectives to reflect those of
S. the critical theorists
they emulate.

- Ans A. SPQR
 B. PQRS
 C. SRQP
 D. RQPS

Question ID : 75322914637

Q.14 Fill in the blank with the most appropriate choice

In his hand he produced a worn scroll depicting several pictograms and _____ passages.

- Ans A. ambivalent
 B. archaic
 C. amenable
 D. ambiguous

Question ID : 75322914635

Q.15 Select the most appropriate idiom of the given meaning

To keep quiet, To say nothing

- Ans A. Mum's the word
 B. Hit the sack
 C. Hit below the belt
 D. Hush money

Question ID : 75322914644

Comprehension:

Read the passage carefully and choose the best answer to each question out of the four alternatives

A group of researchers has demonstrated that pleasure and positive states of mind are better for our health. This new intellectual approach to health is not only more powerful, but also has no side effects. Central to this claim are recent findings that even getting an education may add as much as 10 years to your health. That is why National Geographic featured John de Rosen in its book *The Incredible Machine*, which discussed old age. De Rosen, an artist, continued to paint until the week he died at age 91. The book notes: "Some scientists believe that retirement to a sedentary lifestyle initiates or aggravates medical problems, thus shortening life. According to a study of retired people, adults over 65 can learn a creative skill, like oil painting, as readily as younger students." So retiring from a job in a sense means retiring from life unless supplemented by some other, preferably new activity.

SubQuestion No : 16

Q.16 What/who was the primary subject of the National Geographic premiered book "The Incredible Machine"?

- Ans A. Old Age
- B. Positive effects of a healthy state of mind.
- C. John de Rosen
- D. Education

Question ID : 75322914649

Comprehension:

Read the passage carefully and choose the best answer to each question out of the four alternatives

A group of researchers has demonstrated that pleasure and positive states of mind are better for our health. This new intellectual approach to health is not only more powerful, but also has no side effects. Central to this claim are recent findings that even getting an education may add as much as 10 years to your health. That is why National Geographic featured John de Rosen in its book *The Incredible Machine*, which discussed old age. De Rosen, an artist, continued to paint until the week he died at age 91. The book notes: "Some scientists believe that retirement to a sedentary lifestyle initiates or aggravates medical problems, thus shortening life. According to a study of retired people, adults over 65 can learn a creative skill, like oil painting, as readily as younger students." So retiring from a job in a sense means retiring from life unless supplemented by some other, preferably new activity.

SubQuestion No : 17

Q.17 It is stated in the passage that retired people _____.

- Ans A. are an incredible machine that can pick up any skills as quick as any young adult.
- B. essentially retire from their life.
- C. can learn creative skills just quick a young adult.
- D. can add as much as 10 years to their life by getting education.

Question ID : 75322914648

Comprehension:

Read the passage carefully and choose the best answer to each question out of the four alternatives

A group of researchers has demonstrated that pleasure and positive states of mind are better for our health. This new intellectual approach to health is not only more powerful, but also has no side effects. Central to this claim are recent findings that even getting an education may add as much as 10 years to your health. That is why National Geographic featured John de Rosen in its book *The Incredible Machine*, which discussed old age. De Rosen, an artist, continued to paint until the week he died at age 91. The book notes: "Some scientists believe that retirement to a sedentary lifestyle initiates or aggravates medical problems, thus shortening life. According to a study of retired people, adults over 65 can learn a creative skill, like oil painting, as readily as younger students." So retiring from a job in a sense means retiring from life unless supplemented by some other, preferably new activity.

SubQuestion No : 18**Q.18 What was John de Rosen profession?**

- Ans A. Artist
 B. Librarian
 C. Painter
 D. Antique collector

Question ID : 75322914647

Comprehension:

Read the passage carefully and choose the best answer to each question out of the four alternatives

A group of researchers has demonstrated that pleasure and positive states of mind are better for our health. This new intellectual approach to health is not only more powerful, but also has no side effects. Central to this claim are recent findings that even getting an education may add as much as 10 years to your health. That is why National Geographic featured John de Rosen in its book *The Incredible Machine*, which discussed old age. De Rosen, an artist, continued to paint until the week he died at age 91. The book notes: "Some scientists believe that retirement to a sedentary lifestyle initiates or aggravates medical problems, thus shortening life. According to a study of retired people, adults over 65 can learn a creative skill, like oil painting, as readily as younger students." So retiring from a job in a sense means retiring from life unless supplemented by some other, preferably new activity.

SubQuestion No : 19**Q.19 According to the passage, which of the following option is incorrect? Choose one option.**

- Ans A. Positive state of mind is a powerful tool to improve health of an individual drastically but also has some side effects.
 B. John De Rosen died at the age of 91.
 C. According to recent findings getting an education may add as much as 10 years to your health.
 D. According to the book *Incredible Machine* retiring from a job in a sense means retiring from life unless supplemented by some other, preferably new activity.

Question ID : 75322914650

Comprehension:

Read the passage carefully and choose the best answer to each question out of the four alternatives

A group of researchers has demonstrated that pleasure and positive states of mind are better for our health. This new intellectual approach to health is not only more powerful, but also has no side effects. Central to this claim are recent findings that even getting an education may add as much as 10 years to your health. That is why National Geographic featured John de Rosen in its book The Incredible Machine, which discussed old age. De Rosen, an artist, continued to paint until the week he died at age 91. The book notes: "Some scientists believe that retirement to a sedentary lifestyle initiates or aggravates medical problems, thus shortening life. According to a study of retired people, adults over 65 can learn a creative skill, like oil painting, as readily as younger students." So retiring from a job in a sense means retiring from life unless supplemented by some other, preferably new activity.

SubQuestion No : 20

Q.20 What is considered as a "new intellectual approach to health"?

- Ans A. Health benefits of a clean diet.
 B. Engaging in Physical activities everyday.
 C. Mentally challenging activities.
 D. Positive state of mind.

Question ID : 75322914651

Section : General Hindi

Q.1 निम्नलिखित प्रश्न में, चार विकल्पों में से, उस विकल्प का चयन करें जो कोष्ठक में दिए गए शब्द के अनुसार विशेषण के भेद वाला विकल्प हो।
सोहम तुमसे (चौगुना) काम करता है।

- Ans A. गुणवाचक विशेषण
 B. संख्यावाचक विशेषण
 C. सार्वनामिक विशेषण
 D. परिमाणवाचक विशेषण

Question ID : 75322914653

Q.2 निम्नलिखित प्रश्न में, चार विकल्पों में से, उस विकल्प का चयन करें जो कोष्ठक में दिए गए शब्द के अनुसार अव्यय के भेद का सही विकल्प हो।
धन (के बिना) व्यवसाय चलाना कठिन है।

- Ans A. संबंधबोधक अव्यय
 B. विस्मयादिबोधक अव्यय
 C. क्रिया विशेषण अव्यय
 D. समुच्चयबोधक अव्यय

Question ID : 75322914655

Q.3 निम्नलिखित प्रश्न में, चार विकल्पों में से, उस विकल्प का चयन करें जो देशज शब्द का सही विकल्प हो।

- Ans A. झंझट
 B. फैसला
 C. पैदावार
 D. चेहरा

Question ID : 75322914652

Q.4 निम्नलिखित प्रश्न में, चार विकल्पों में से, उस विकल्प का चयन करें जो दिए गए वाक्य के काल का सही विकल्प हो।
पवन गेंद से खेल रहा है।

- Ans A. संदिग्ध वर्तमान काल
 B. अपूर्ण वर्तमान काल
 C. संदिग्ध भूतकाल
 D. आसन्न भूतकाल

Question ID : 75322914659

Q.5 निम्नलिखित प्रश्न में, चार विकल्पों में से, उस विकल्प का चयन करें जो सही वाक्य भेद का विकल्प हो।
उसके मोन से प्रमाणित होता है कि वह अपराधी है।

- Ans A. संयुक्त वाक्य
 B. सरल वाक्य
 C. मिश्र वाक्य
 D. विधानवाचक वाक्य

Question ID : 75322914661

Q.6 निम्नलिखित प्रश्न में, चार विकल्पों में से, उस विकल्प का चयन करें जो दी गई मुहावरे का सही अर्थ वाला विकल्प है।
उलटी गंगा बहाना

- Ans A. मूर्ख बनाना
 B. प्रचलन के विपरीत काम करना
 C. बहुत अनुभवी होना
 D. वश में करना

Question ID : 75322914665

Q.7 निम्नलिखित प्रश्न में, चार विकल्पों में से, उस सही विकल्प का चयन करें जो दिए गए शब्द के सही अर्थ का उचित विकल्प हो।
सेना

- Ans A. संत
 B. हेम
 C. वाहिनी
 D. तारा

Question ID : 75322914656

Q.8 निम्नलिखित प्रश्न में, चार विकल्पों में से, उस विकल्प का चयन करें जो दिए गए लोकोक्ति का सही अर्थ वाला विकल्प है।
घर बैठे गंगा आना

- Ans A. झूठा दिखावा करना
 B. अपना काम होते रहना
 C. बिना प्रयत्न के लाभ मिलना
 D. बहुत कंजूस होना

Question ID : 75322914664

Q.9 निम्नलिखित प्रश्न में, चार विकल्पों में से, उस विकल्प का चयन करें जो भाववाचक संज्ञा का सही विकल्प नहीं है।

- Ans A. सरलता
 B. चालाक
 C. राष्ट्रीय
 D. मिठास

Question ID : 75322914654

Q.10 निम्न विकल्पों में से उस विकल्प का चयन कीजिए जो शुद्ध वाक्य का सही विकल्प है।

- Ans A. मुझे यह अच्छा नहीं लगता की आहिस्ता बोला जाए।
 B. मुझे यह अच्छा नहीं लगता कि आहिस्ता बोला जाए।
 C. मेको यह अच्छा नहीं लगता कि आहिस्ता बोला जाए।
 D. मेरे को यह अच्छा नहीं लगता कि आहिस्ता बोलू जाए।

Question ID : 75322914662

Q.11 निम्नलिखित प्रश्न में, चार विकल्पों में से, उस सही विकल्प का चयन करें जो दिए गए शब्द-युग्म के सही अर्थ का उचित विकल्प हो।
 प्रवाल-प्रवार

- Ans A. मूँगा-वस्त
 B. पत्थर-फैलाव
 C. यथार्थ-वस्त
 D. फैलाव-मूँगा

Question ID : 75322914658

Q.12 निम्नलिखित प्रश्न में, चार विकल्पों में से, उस विकल्प का चयन करें जो दिए गए वाक्य के लिए वृत्ति के भेद का सबसे अच्छा विकल्प है।
 कृपया पुस्तकालय जाने का रास्ता बताइए।

- Ans A. संकेतार्थ
 B. विध्यर्थ
 C. सम्भावनार्थ
 D. संदेहार्थ

Question ID : 75322914660

Q.13 निम्नलिखित प्रश्न में, चार विकल्पों में से, उस विकल्प का चयन करें जो विराम चिह्न युक्त वाक्य का सही विकल्प हो।

- Ans A. संत ने कहा- विद्या पूर्ण करने के बाद, तुमने गुरुदक्षिणा देनी चाही थी, तब मैंने कहा था, फिर कभी ले लूँगा।
 B. संत ने कहा विद्या पूर्ण करने के बाद तुमने गुरुदक्षिणा देनी चाही थी। तब मैंने कहा था, फिर कभी ले लूँगा।
 C. संत ने कहा, "विद्या पूर्ण करने के बाद तुमने गुरुदक्षिणा देनी चाही थी, तब मैंने कहा था, फिर कभी ले लूँगा।"
 D. संत ने कहा विद्या पूर्ण करने के बाद तुमने गुरुदक्षिणा देनी चाही थी तब मैंने कहा था फिर कभी ले लूँगा।

Question ID : 75322914663

Q.14 निम्नलिखित प्रश्न में, चार विकल्पों में से, उस विकल्प का चयन करें जो दी गई मुहावरे का सही अर्थ वाला विकल्प है।
एक आँख से देखना

- Ans A. भेदभाव न करना
 B. सही रास्ते पर न चलना
 C. बदल जाना
 D. ज़िम्मेदारी लेना

Question ID : 75322914666

Q.15 निम्नलिखित प्रश्न में, चार विकल्पों में से, उस विकल्प का चयन करें जो शुद्ध शब्द का सही विकल्प है।

- Ans A. अभीष्ट
 B. अभिष्ट
 C. अभीष्ट
 D. आभीष्ट

Question ID : 75322914657

Comprehension:

नीचे दिए गये गद्यांश को ध्यानपूर्वक पढ़ें और चार विकल्पों में से प्रत्येक प्रश्न का सर्वोत्तम उत्तर चुनें।

कार्य का महत्त्व और उसकी सुंदरता उसके समय पर संपादित किए जाने पर ही है। अत्यंत सुघड़ता से किया हुआ कार्य भी यदि आवश्यकता के पूर्व न पूरा हो सके तो उसका किया जाना निष्फल ही होगा। चिड़ियों द्वारा खेत चुग लिए जाने पर यदि रखवाला उसकी सुरक्षा की व्यवस्था करे तो सर्वत्र उपहास का पात्र ही बनेगा। उसके देर से किए गए उद्यम का कोई मूल्य नहीं होगा। श्रम का गौरव तभी है जब उसका लाभ किसी को मिल सके। इसी कारण यदि बादलों द्वारा बरसाया गया जल कृषक की फ़सल को फलने-फूलने में मदद नहीं कर सकता तो उसका बरसना व्यर्थ ही है। अवसर का सदुपयोग न करने वाले व्यक्ति को इसी कारण पश्चाताप करना पड़ता है।

SubQuestion No : 16

Q.16 इनमें से कौन-सा अवसर का समानार्थी शब्द नहीं है?

- Ans A. स्थिति
 B. संभावना
 C. मौका
 D. अनवसर

Question ID : 75322914671

Comprehension:

नीचे दिए गये गद्यांश को ध्यानपूर्वक पढ़ें और चार विकल्पों में से प्रत्येक प्रश्न का सर्वोत्तम उत्तर चुनें।

कार्य का महत्त्व और उसकी सुंदरता उसके समय पर संपादित किए जाने पर ही है। अत्यंत सुघड़ता से किया हुआ कार्य भी यदि आवश्यकता के पूर्व न पूरा हो सके तो उसका किया जाना निष्फल ही होगा। चिड़ियों द्वारा खेत चुग लिए जाने पर यदि रखवाला उसकी सुरक्षा की व्यवस्था करे तो सर्वत्र उपहास का पात्र ही बनेगा। उसके देर से किए गए उद्यम का कोई मूल्य नहीं होगा। श्रम का गौरव तभी है जब उसका लाभ किसी को मिल सके। इसी कारण यदि बादलों द्वारा बरसाया गया जल कृषक की फ़सल को फलने-फूलने में मदद नहीं कर सकता तो उसका बरसना व्यर्थ ही है। अवसर का सदुपयोग न करने वाले व्यक्ति को इसी कारण पश्चाताप करना पड़ता है।

SubQuestion No : 17

Q.17 अनुच्छेद के अनुसार जीवन में समय का महत्त्व क्यों है?

- Ans A. समय पर किया गया काम सफल नहीं होता है
 B. समय का जीवन में महत्त्व कम है
 C. समय पर किया गया काम सफल होता है
 D. लोग समय की परवाह नहीं करते

Question ID : 75322914668

Comprehension:

नीचे दिए गये गद्यांश को ध्यानपूर्वक पढ़ें और चार विकल्पों में से प्रत्येक प्रश्न का सर्वोत्तम उत्तर चुनें।

कार्य का महत्त्व और उसकी सुंदरता उसके समय पर संपादित किए जाने पर ही है। अत्यंत सुघड़ता से किया हुआ कार्य भी यदि आवश्यकता के पूर्व न पूरा हो सके तो उसका किया जाना निष्फल ही होगा। चिड़ियों द्वारा खेत चुग लिए जाने पर यदि रखवाला उसकी सुरक्षा की व्यवस्था करे तो सर्वत्र उपहास का पात्र ही बनेगा। उसके देर से किए गए उद्यम का कोई मूल्य नहीं होगा। श्रम का गौरव तभी है जब उसका लाभ किसी को मिल सके। इसी कारण यदि बादलों द्वारा बरसाया गया जल कृषक की फ़सल को फलने-फूलने में मदद नहीं कर सकता तो उसका बरसना व्यर्थ ही है। अवसर का सदुपयोग न करने वाले व्यक्ति को इसी कारण पश्चाताप करना पड़ता है।

SubQuestion No : 18

Q.18 खेत का रखवाला उपहास का पात्र क्यों बनता है?

- Ans**
- A. चिड़ियों के आने का इंतज़ार करता है
 - B. समय पर खेत की रखवाली नहीं करता
 - C. खेत में पानी नहीं देता
 - D. सदैव अपना काम दूसरों को सौंप देता है

Question ID : 75322914669

Comprehension:

नीचे दिए गये गद्यांश को ध्यानपूर्वक पढ़ें और चार विकल्पों में से प्रत्येक प्रश्न का सर्वोत्तम उत्तर चुनें।

कार्य का महत्त्व और उसकी सुंदरता उसके समय पर संपादित किए जाने पर ही है। अत्यंत सुघड़ता से किया हुआ कार्य भी यदि आवश्यकता के पूर्व न पूरा हो सके तो उसका किया जाना निष्फल ही होगा। चिड़ियों द्वारा खेत चुग लिए जाने पर यदि रखवाला उसकी सुरक्षा की व्यवस्था करे तो सर्वत्र उपहास का पात्र ही बनेगा। उसके देर से किए गए उद्यम का कोई मूल्य नहीं होगा। श्रम का गौरव तभी है जब उसका लाभ किसी को मिल सके। इसी कारण यदि बादलों द्वारा बरसाया गया जल कृषक की फ़सल को फलने-फूलने में मदद नहीं कर सकता तो उसका बरसना व्यर्थ ही है। अवसर का सदुपयोग न करने वाले व्यक्ति को इसी कारण पश्चाताप करना पड़ता है।

SubQuestion No : 19

Q.19 इस अनुच्छेद का कोई उपयुक्त शीर्षक-

- Ans**
- A. किसान का पछतावा
 - B. चिड़ियों का खेत खाना
 - C. समय का सदुपयोग
 - D. बादल का बरसना

Question ID : 75322914672

Comprehension:

नीचे दिए गये गद्यांश को ध्यानपूर्वक पढ़ें और चार विकल्पों में से प्रत्येक प्रश्न का सर्वोत्तम उत्तर चुनें।

कार्य का महत्त्व और उसकी सुंदरता उसके समय पर संपादित किए जाने पर ही है। अत्यंत सुघड़ता से किया हुआ कार्य भी यदि आवश्यकता के पूर्व न पूरा हो सके तो उसका किया जाना निष्फल ही होगा। चिड़ियों द्वारा खेत चुग लिए जाने पर यदि रखवाला उसकी सुरक्षा की व्यवस्था करे तो सर्वत्र उपहास का पात्र ही बनेगा। उसके देर से किए गए उद्यम का कोई मूल्य नहीं होगा। श्रम का गौरव तभी है जब उसका लाभ किसी को मिल सके। इसी कारण यदि बादलों द्वारा बरसाया गया जल कृषक की फ़सल को फलने-फूलने में मदद नहीं कर सकता तो उसका बरसना व्यर्थ ही है। अवसर का सदुपयोग न करने वाले व्यक्ति को इसी कारण पश्चाताप करना पड़ता है।

SubQuestion No : 20

Q.20 बादल का बरसना व्यर्थ है ऐसा क्यों कहा गया है?

- Ans**
- A. चिड़ियों को पानी मिल जाए
 - B. गरमी शांत हो जाए
 - C. फ़सल को लाभ न पहुँचे
 - D. नदी-तालाब भर जाए

Question ID : 75322914670

Section : Discipline1

Q.1 _____ तब होता है जब किसी व्यवहार को दंडित किया जाता है, अर्थात कुछ करने का झुकाव शायद हो सकता है लेकिन यह सजा की प्रत्याशा से आच्छादित है।

- Ans
- A. सहूलियत
 - B. सहायता
 - C. निषेध
 - D. आत्मसात्करण

Question ID : 75322914676

Q.2 मनोलैंगिक विश्लेषण सिद्धांत ____ द्वारा प्रस्तुत किया गया था

- Ans
- A. जॉन प्याज़े
 - B. सिग्मंड फ्रायड
 - C. एरिक एरिक्सन
 - D. अल्बर्ट बंदूरा

Question ID : 75322914680

Q.3 किस अवस्था में बच्चा यह दृष्टिकोण विकसित करना शुरू कर देता है कि उसकी राय परिवार के साथ संघर्ष करती है, मित्र परिवार हैं, भाई-बहन की प्रतिद्वंद्विता, विभिन्न मिजाज विकसित होने लगते हैं।

- Ans
- A. शिक्षा-वयस (6 वर्ष-12वर्ष)
 - B. किशोरावस्था (13वर्ष-19वर्ष)
 - C. प्रारंभिक वयस्कता (13वर्ष-15वर्ष)
 - D. पूर्व-स्कूली (3वर्ष -6वर्ष)

Question ID : 75322914678

Q.4 हाइन्ज़ दुविधा (डिलेमा) जो कानून का पालन करने के सामने जीवन बचाने के विचार पर चर्चा करती है, निम्न द्वारा दी गई थी-

- Ans
- A. सिग्मंड फ्रायड
 - B. कोहलबर्ग
 - C. नोआम चाम्स्की
 - D. जॉन बाल्बी

Question ID : 75322914679

Q.5 9 महीने के बाद जब बच्चे को माता के गर्भ से वातावरण में डाला जाता है तो उस अवस्था को कहा जाता है-

- Ans
- A. अमूर्त सक्रियात्मक अवधि।
 - B. शिशु अवस्था
 - C. प्रसव-पूर्व अवधि।
 - D. मूर्त सक्रियात्मक अवधि।

Question ID : 75322914673

Q.6 बच्चे के परिवेश के बारे में उसके ज्ञान को समझने के लिए इंद्रियाँ किस अवस्था में शिक्षक के रूप में कार्य करती हैं।

- Ans
- A. पूर्व-सक्रियात्मक
 - B. संवेदिक पेशीय
 - C. अमूर्त सक्रियात्मक
 - D. मूर्त सक्रियात्मक

Question ID : 75322914692

Q.7 एक बच्चे के सामाजिक विकास को प्रभावित करने वाले प्राथमिक कारक कौन से हैं?

- Ans A. परिवार और पड़ोसी
 B. परिवार और मीडिया
 C. पड़ोसी और समकक्ष
 D. समकक्ष और मीडिया

Question ID : 75322914675

Q.8 दी गई जानकारी को समझने के लिए किस संज्ञानात्मक क्रिया का प्रयोग किया जाता है?

- Ans A. वर्णन करना
 B. आलोचना
 C. समझना
 D. लागू करना

Question ID : 75322914685

Q.9 संशोधित ब्लूम वर्गिकी 2001 में, जानकारी के बारे में निर्णय लेने के लिए राय प्रस्तुत करने और बचाव करने के लिए, मानदंडों के एक सेट के आधार पर विचारों या कार्य की गुणवत्ता को मान्य करना और समस्याओं को एक महत्वपूर्ण तरीके से देखना, ___ की श्रेणी में आता है।

- Ans A. सृजन करना
 B. याद करना
 C. लागू करने
 D. मूल्यांकन करना

Question ID : 75322914682

Q.10 Abhinav tends to act aggressive when it comes to cooperating with his peer group in games and other activities, this goes against the norms of the school. So Abhinav needs help in _____

- Ans A. Higher order thinking skills
 B. Affective domain
 C. Psychomotor domain
 D. Cognitive domain

Question ID : 75322914684

Q.11 मनोप्रेरक डोमेन को व्यवहार के प्रगतिशील स्तरों द्वारा अवलोकन से लेकर शारीरिक कौशल में महारत हासिल करने की विशेषता है। सिम्पसन ने ब्लूम और अन्य के काम पर इस वर्गीकरण का निर्माण किया। गलत विकल्प का चयन करें।

- Ans A. निर्देशित प्रतिक्रिया
 B. जटिल खुली प्रतिक्रिया
 C. अनुभूति
 D. ध्यान

Question ID : 75322914686

Q.12 वाइगोत्स्की के अनुसार, ___ और ___ शुरू में जीवन की उत्पत्ति से अलग (समानांतर चलता है) होते हैं, जो 3 वर्ष की आयु में अन्योन्याश्रित हो जाते हैं।

- Ans A. परिवार और पर्यावरण।
 B. विचार और भाषा।
 C. आनुवंशिकता और विचार।
 D. भाषा और जीन।

Question ID : 75322914691

Q.13 सामाजिक शिक्षा की _____ धारणा संज्ञानात्मक विकास के अधिक लोकप्रिय प्याजे के विचार के विपरीत है।

- Ans
- A. कोहलबर्ग
 - B. एरिक्सन
 - C. फ्रायडियन
 - D. वाइगोत्सकियन

Question ID : 75322914687

Q.14 ब्लूम वर्गिकी में वह तरीका शामिल है जिससे हम भावनात्मक रूप से चीजों से निपटते हैं, जैसे कि भावनाएं, मूल्य, प्रशंसा, उत्साह और प्रेरणा, वह है-

- Ans
- A. संज्ञानात्मक डोमेन
 - B. भावात्मक डोमेन
 - C. इच्छा परक (कॉनेटिव) डोमेन
 - D. शीर्ष-पुच्छक

Question ID : 75322914683

Q.15 3 aspects of Bloom's taxonomy does not include__

- Ans
- A. Cognitive aspect
 - B. Psychomotor aspect
 - C. Proximodistal aspect
 - D. Affective aspect

Question ID : 75322914681

Q.16 क्षमताओं की सीमा के अनुसार व्यक्ति किसी विशेषज्ञ के मार्गदर्शन में प्रदर्शन कर सकता है, लेकिन अभी तक अपने दम पर प्रदर्शन नहीं कर सकता है, उसे कहा जाता है

- Ans
- A. समीपदूराभिमुख विकास
 - B. सेफ्लोकॉडल
 - C. सकल मोटर कौशल
 - D. समीपस्थ विकास क्षेत्र

Question ID : 75322914688

Q.17 एक कक्षा में समूह का गठन किया जाता है जहां विभिन्न स्तरों और विभिन्न क्षमताओं के बच्चों को समूह कार्य के लिए एक साथ काम करने के लिए प्रोत्साहित किया जाता है, समूह के प्रकार को _____ के रूप में जाना जाता है।

- Ans
- A. समरूप
 - B. सहकारी शिक्षा
 - C. विजातीय
 - D. उच्चतर कोटि चिंतन प्रबंधन।

Question ID : 75322914690

Q.18 यह समझ आम तौर पर प्रारंभिक शिशुवस्था के दौरान विकसित होती है कि कोई वस्तु तब भी मौजूद रहती है जब वह दृष्टि या अन्य इंद्रियों से गायब हो जाती है, उसे कहा जाता है-

- Ans
- A. निषेध
 - B. वस्तु स्थाइतव
 - C. अनुरक्ति
 - D. अन्तःप्रज्ञा

Question ID : 75322914674

Q.19 Pavlov developed a theory which dictated, the bell used to rung just before the food was presented to the dog, the ringing becomes the conditioning stimulus since the dog salivated to the sound of the bell.

- Ans
- A. Observational learning
 - B. Operant conditioning
 - C. Classical conditioning
 - D. Motivational conditioning

Question ID : 75322914677

Q.20 When hints, cues, or any sort of temporary help provided by the more knowledgeable others in children is called _____

- Ans
- A. Zone of proximal development
 - B. Scaffolding
 - C. Inhibition
 - D. Cephalocaudal

Question ID : 75322914689

Section : Discipline2

Q.1 1995 की एकीकृत शिक्षा लंबे समय तक नहीं चल सकी। सही विकल्प का चयन करें जो एकीकृत शिक्षा का हिस्सा नहीं है।

- Ans
- A. अतिरिक्त सहायता के लिए, बच्चे को संसाधन कक्ष में रखा गया था।
 - B. मौजूदा व्यवस्था में बदलाव किए बिना विशेष बच्चों का नियमित विद्यालय में प्रवेश।
 - C. विद्यालय की स्थापना को बढ़ावा दिया सरकारी या निजी उन जरूरतमंद लोगों के लिए जहां विशेष बच्चों की पहुंच हो सकती है।
 - D. एक ही कक्षा में साथ-साथ सीखने वाले विविध छात्रों को सेवा देना।

Question ID : 75322914704

Q.2 29 जून 1966 को, डी. एस. कोठारी रिपोर्ट शिक्षा मंत्री को सौंपी गई, जो _____ थे।

- Ans
- A. जे. पी. नायक
 - B. एम.सी. छागला
 - C. कपिल सिब्बल
 - D. बी. आर. आम्बेडकर

Question ID : 75322914697

Q.3 निम्नलिखित में से कौन सा पाठ्यचर्या शिक्षार्थियों को अधिकतम स्वायत्तता पर जोर देता है?

- Ans
- A. गतिविधि केंद्रित उपागम।
 - B. अनुभव केंद्रित उपागम।
 - C. विषय आधारित पाठ्यचर्या।
 - D. शिक्षक केंद्रित उपागम।

Question ID : 75322914709

Q.4 भारत में शिक्षा प्रणाली में सुधार के लिए कोठारी आयोग द्वारा दी गई सिफारिशों में ___ शामिल नहीं था।

- Ans A. तीन भाषा सूत्र
 B. संस्कृत को क्षेत्रीय भाषा के रूप में बढ़ावा देना।
 C. विश्वविद्यालय स्वायत्तता
 D. शैक्षिक अवसरचना और मानक।

Question ID : 75322914700

Q.5 रेनजूलि 3 रिग मॉडल ऑफ गिफ्टेडनेस में _____ शामिल नहीं है

- Ans A. कार्य प्रतिबद्धता।
 B. औसत क्षमता से ऊपर।
 C. विश्वसनीयता।
 D. सृजन (अलग सोच)।

Question ID : 75322914705

Q.6 समावेशी शिक्षा की अवधारणा में _____ शामिल नहीं है

- Ans A. पृष्ठभूमि के आधार पर बच्चों का अलगाव।
 B. सूरज को अपनी गर्मी और रोशनी देने पर कोई रोक नहीं है, हवा इस धरती पर कभी किसी को ना नहीं कहती।
 C. अनेकता में एकता का उत्सव मनाएं।
 D. अलगाव प्रकृति के नियम के खिलाफ है।

Question ID : 75322914703

Q.7 PWD अधिनियम 1995 और RTE अधिनियम 2009 ने संयुक्त रूप से _____ तक के विशेष बच्चों और _____ तक सामान्य बच्चों को मुफ्त शिक्षा देने का प्रावधान किया।

- Ans A. 18 वर्ष और 14 वर्ष।
 B. 18 वर्ष और 16 वर्ष।
 C. 14 वर्ष 11 वर्ष।
 D. 12 वर्ष और 16 वर्ष।

Question ID : 75322914706

Q.8 भारत में जनजातीय शिक्षा के प्रसार की दिशा में प्रमुख कदम NPE 1986 से सिफारिश का अधिनियमन है, वह _____ है

- Ans A. SC, ST को अपने घर छोड़कर शहर में बसने के लिए कहना ताकि उनका बच्चा विद्यालय जा सके।
 B. आदिवासी क्षेत्रों में प्राथमिक विद्यालय खोलने को प्राथमिकता दी जाएगी।
 C. बिना कोई बदलाव किए एकीकृत शिक्षा पर ध्यान केंद्रित किया।
 D. उन क्षेत्रों का शहरीकरण जहां SC, ST बहुसंख्यक हैं।

Question ID : 75322914702

Q.9 माटेसरी शिक्षा में _____ शामिल नहीं है।

- Ans A. ज्ञान के सक्रिय साधक बनने का समर्थन करता है
 B. 19वीं सदी में अस्तित्व में आया
 C. सीमा के भीतर स्वतंत्रता के आनंद
 D. आत्म सुधार और स्व-आकलन

Question ID : 75322914708

Q.10 निम्नलिखित में से किसने 10+2+3 की अवधारणा दी?

- Ans A. कोठारी आयोग
 B. इंटर आयोग
 C. NCF 2000
 D. भोरे समिति

Question ID : 75322914698

Q.11 The teacher based curriculum least focus upon__

- Ans A. memorization is mostly encouraged.
 B. how essential knowledge is developed in various subject areas.
 C. no place for personal interest.
 D. learners where teachers put all their focus on, children talk and the teacher exclusively listen.

Question ID : 75322914707

Q.12 बालवाड़ी की अवधारणा का आधार कि बच्चों की देखभाल की जानी चाहिए और बगीचे में पौधों की तरह "बच्चों के बगीचे" में पोषण किया जाना चाहिए ___ द्वारा दिया गया था।

- Ans A. फ्रोबेल
 B. रूसो
 C. प्याज़े
 D. एरिक एरिक्सन

Question ID : 75322914711

Q.13 गलत मिलान की पहचान करें।

- Ans A. सामाजिक रचनावाद - वाइगोत्स्की।
 B. संवेगनात्मक बुद्धि- फेल्डर और सिल्वरमैन।
 C. बहु-प्रतिभा - हॉवर्ड गार्डनर।
 D. संज्ञानात्मक विकास अवस्थाएं- प्याज़े।

Question ID : 75322914712

Q.14 दूसरी भाषा सीखने में बच्चे की सामाजिक-सांस्कृतिक पृष्ठभूमि का कौन सा कारक कम प्रभावी है?

- Ans A. परिवार की आर्थिक पृष्ठभूमि।
 B. विद्यालय का माहौल।
 C. प्राप्त करने के लिए जबरदस्ती।
 D. यदि माता-पिता की शैक्षिक पृष्ठभूमि अच्छी है।

Question ID : 75322914693

Q.15 वुड कमीशन में ___ शामिल नहीं है

- Ans A. भारतीयों को पाश्चात्य ज्ञान, पाश्चात्य संस्कृति की जानकारी देना।
 B. भारत के मूल निवासियों को शिक्षित करने के लिए ताकि लोक सेवकों का एक वर्ग बनाया जा सके।
 C. प्राथमिक, मध्य और उच्च विद्यालयों पर बहुत जोर दिया गया था।
 D. विश्वविद्यालय की पढ़ाई के लिए अंतःकालीन से उत्तीर्ण होना अनिवार्य हो गया है।

Question ID : 75322914699

Q.16 What is the method in which the help needs to be given in close proximity in time to when it is needed?

- Ans A. learning
 B. motivation
 C. zone of proximal development
 D. scaffolding

Question ID : 75322914694

Q.17 किसने विश्वविद्यालय शिक्षा के मानकों में सुधार के लिए विश्वविद्यालय से माध्यमिक स्तर की शिक्षा को हटाने की सिफारिश की?

- Ans A. मुदलियार आयोग
 B. सैडलर कमीशन
 C. डी.एस.कोठारी आयोग
 D. हंटर कमीशन

Question ID : 75322914695

Q.18 किस पाठ्यचर्या में नकारात्मक और सकारात्मक दोनों तरह के अधिगम अनुभव होते हैं, जो स्पष्ट पाठ्यचर्या का हिस्सा नहीं हैं, लेकिन इसके परिणामस्वरूप छात्रों के दृष्टिकोण, विश्वास और मूल्यों में परिवर्तन होता है?

- Ans A. शून्य पाठ्यचर्या
 B. समर्थित पाठ्यचर्या
 C. गतिविधि आधारित पाठ्यचर्या
 D. प्रच्छन्न पाठ्यचर्या

Question ID : 75322914710

Q.19 भारत में _____ पर शिक्षा का मुख्य रूप से डेटा के संग्रह पर ध्यान केंद्रित किया गया है, और लिंग इकाइयों और समन्वयकों का निर्माण, दोनों ही लैंगिक समानता के मुद्दे पर अधिक दृश्यता को बढ़ावा देने की रणनीतियां हैं।

- Ans A. लैंगिक पदानुक्रम
 B. लैंगिक मुख्य धारा
 C. लिंग असमानता
 D. पितृतन्त्र

Question ID : 75322914701

Q.20 "Like the sound of sonata,like Mozart,Einstein and Whitman you too will be gone someday,But like the abstract structure of musical composition the space time coordinatnes is _____"

- Ans A. Experiment with truth.
 B. The discovery of India.
 C. Atom and self.
 D. The untouchables.

Question ID : 75322914696

Section : Discipline3

Q.1 प्राथमिक स्तर पर बच्चों को पारिवारिक कहानियों, संबंधित रुचियों और अनुभवों से परिचित कराना, इशारों का उपयोग करना ____ का एक उप-कौशल है।

- Ans
- A. लिखने
 - B. पढ़ने
 - C. सुनने
 - D. बोलने

Question ID : 75322914728

Q.2 गणित में संकीर्ण लक्ष्य निम्न उत्पन्न करने में मदद करते हैं-

- Ans
- A. सामाजिक-आर्थिक विकास में योगदान देने वाले रोजगार योग्य वयस्कों को बाहर निकालने पर जोर देना।
 - B. लाभ के लिए तार्किक निष्कर्ष ढूँढना।
 - C. गणितीय रूप से सोचें।
 - D. अमूर्तता को समझें।

Question ID : 75322914731

Q.3 दिए गए विकल्प एक को छोड़कर ICT की पृष्ठभूमि हैं। चयन करें-

- Ans
- A. कभी-कभी ICT हर जगह उपलब्ध नहीं होता है।
 - B. विशेष आवश्यकता वाले बच्चों के लिए बहुत उपयोगी नहीं है क्योंकि तकनीक बहुत विकसित नहीं है।
 - C. छात्र रतिचित्रण और ऑनलाइन बाल शोषण के शिकार हैं।
 - D. डेटा सुरक्षा और हैकिंग के लिए प्रवण।

Question ID : 75322914716

Q.4 ____ व्यवस्था (स्कीमैटिक) अरेखण जो अवधारणाओं के बीच संबंध को दर्शाता है और शिक्षक या शिक्षार्थी द्वारा बनाया जा सकता है।

- Ans
- A. अर्थ-संबंधी मानचित्रण
 - B. सार
 - C. सूत्रों
 - D. अवधारणा मानचित्रण

Question ID : 75322914732

Q.5 विद्यालय प्रबंधन के समर्थन और अधिगम के रूप में ICT की भूमिका में शामिल नहीं है।

- Ans
- A. ICT के माध्यम से पारंपरिक उपागम।
 - B. शिक्षण अधिगम के अनुभव को बढ़ाना।
 - C. ICT के शिक्षण और अधिगम के उपयोग के बीच अंतराल को पूरा करना आवश्यक है।
 - D. शिक्षार्थी केंद्रित पाठ्यचर्या उपागम।

Question ID : 75322914713

Q.6 प्राथमिक बच्चों को पठन से परिचित कराने की सबसे विश्वसनीय तकनीक ____ है।

- Ans
- A. कहानियों
 - B. चित्र पुस्तकों
 - C. ध्वन्यात्मक ध्वनियाँ
 - D. केवल अक्षर

Question ID : 75322914726

Q.7 ICT पर राष्ट्रीय नीति के अनुसार निम्नलिखित में से कौन विद्यालय में डिजिटल संसाधनों की खोज, मिलान और वर्गीकरण करेगा और उन्हें शिक्षकों और छात्रों को उपलब्ध कराएगा।

- Ans A. पुस्तकालय
 B. कक्षा
 C. विज्ञान प्रयोगशाला
 D. ए.वी.कक्ष

Question ID : 75322914717

Q.8 The study of rules that govern the ways in which words combine to form phrases, clauses, and sentences is _____

- Ans A. syntax
 B. ellipses
 C. morpheme
 D. phoneme

Question ID : 75322914723

Q.9 The method can be useful when writing a learning objective or outcome is the A. B. C. D. method (Heinich, et al., 1996). This method considers 4 things. Which of the following is not one of these 4 things?

- Ans A. Database
 B. Audience
 C. Behaviour
 D. Condition

Question ID : 75322914719

Q.10 महामारी से संबंधित लॉकडाउन के दौरान ICT के गहन उपयोग ने शिक्षण समुदाय को कैसे प्रभावित किया है?

- Ans A. इसने शिक्षण समुदाय को कक्षाओं, व्यावहारिक और मूल्यांकनों के संचालन के लिए विभिन्न ऑनलाइन उपकरणों से अधिक परिचित होने के लिए प्रोत्साहित किया है।
 B. शिक्षण समुदाय अपेक्षा के अनुरूप नई विधियों को अपनाने में विफल रहा है।
 C. इसने समुदाय शिक्षण के कार्यों को निरर्थक बना दिया है।
 D. इसने छात्रों के अध्ययन को मजेदार बनाने के लिए वीडियो और सिमुलेशन जैसे अधिक टूल का उपयोग करने की अनुमति दी है।

Question ID : 75322914715

Q.11 गणित के उद्देश्यों में शामिल नहीं है-

- Ans A. बच्चों में प्रतिस्पर्धा की प्रवृत्ति का विकास कर उच्च कोटि चिंतन कौशल का विकास करना।
 B. गणित को बच्चों के जीवन के अनुभव का हिस्सा बनाना।
 C. बच्चों में तार्किक चिंतन विकसित करना।
 D. बच्चों द्वारा गणित के मूल क्रम को समझना- यानी अंकगणित, बीजगणित, ज्यामिति और त्रिकोणमिति।

Question ID : 75322914730

Q.12 _____ ICT नेटवर्क की श्रेणी में नहीं आता है।

- Ans A. WAN(वाइड एरिया नेटवर्क)
 B. LAN(लोकल एरिया नेटवर्क)
 C. MAN(मैनपावर एरिया नेटवर्क)
 D. PAN(पर्सनल एरिया नेटवर्क)

Question ID : 75322914718

Q.13 भाषा अधिग्रहण क्या है?

- Ans A. यह भाषा के नियम में प्रत्यक्ष निर्देश का परिणाम है।
 B. इसे अवचेतन प्रक्रिया के माध्यम से प्राप्त किया जा सकता है जिसके दौरान वे व्याकरण संबंधी नियमों से अनजान होते हैं।
 C. यह एक लक्षित भाषा है, सीखने के लिए शब्दावली और व्याकरण सीखने की जरूरत है।
 D. बच्चों को इसे हासिल करने के लिए कलम और कागज़ की जरूरत होती है।

Question ID : 75322914721

Q.14 भाषा अधिगम अधिग्रहण के लिए - खराब वातावरण वह है जहां - _____

- Ans A. भाषा का प्रयोग कक्षा में और कक्षा के बाहर किया जाता है।
 B. घर में लक्षित भाषा नहीं बोली जाती है।
 C. भाषा अधिगम की सामग्री तक पहुंच उपलब्ध है।
 D. जब L2 सीखते समय L1 को महत्व दिया जाता है।

Question ID : 75322914724

Q.15 भाषा कौशल में निम्नलिखित में से किसे सुदृढीकरण कौशल के रूप में जाना जाता है और उन्हें समान रूप से महत्व दिया जाना चाहिए?

- Ans A. लिखना और पढ़ना।
 B. लिखना और बोलना।
 C. बोलना और पढ़ना।
 D. बोलना और लिखना।

Question ID : 75322914729

Q.16 Where ICT can be less useful and has its own drawback when it comes to communication -

- Ans A. enhance multisensory teaching.
 B. can access numerous books digitally.
 C. useful for differently abled children and individuals.
 D. reducing communication gap between child and parent.

Question ID : 75322914714

Q.17 दूसरी भाषा सीखने में सबसे बुनियादी क्या है?

- Ans A. रटने वाले शब्द और उनके अर्थ।
 B. तस्वीरों का विश्लेषण
 C. अभिप्रेरण
 D. कहानियाँ पढ़ना

Question ID : 75322914725

Q.18 रूपिम है-

- Ans A. ध्वनि के पैटर्न और उनके अर्थों का अध्ययन, भाषा के साथ और सभी भाषाओं में।
 B. शब्दों की सबसे छोटी इकाई- a,b,c,d।
 C. जब वाक्य के सभी शब्दों का एक अर्थ हो।
 D. भाषा का एक छोटा खंड

Question ID : 75322914722

Q.19 सुनना एक _____ इनपुट है।

- Ans
- A. उत्पादक
 - B. मौखिक
 - C. अर्थपूर्ण
 - D. श्रवण-संबंधी

Question ID : 75322914727

Q.20 शैक्षिक उद्देश्यों के कार्य दिए गए हैं, सिवाय-

- Ans
- A. कभी-कभी पाठ्यचर्या में बोझ और अराजकता पैदा करता है।
 - B. शैक्षिक गतिविधियों को वांछित दिशा प्रदान करना।
 - C. एक शैक्षिक कार्यक्रम के लिए एकता और सुसंगतता देना।
 - D. अधिगम को क्रियात्मक बनाने में मदद करता है।

Question ID : 75322914720

Section : Discipline4

Q.1 शिक्षा में कला और नाटक के उद्देश्य दिए गए हैं, गलत की पहचान करें-

- Ans
- A. कला के माध्यम से एक व्यक्तिगत दृष्टि बनाने के लिए अनुक्रमिक कौशल और चिंतन प्रक्रिया प्राप्त करना।
 - B. इतिहास में कला की भूमिका और भारतीय सभ्यता का निर्माण करने वाली विविध संस्कृतियों को समझना।
 - C. समाज में कला से संबंधित होने की श्रेष्ठता पर जोर देकर शिक्षाविदों में अति-प्रतिस्पर्धी होना।
 - D. शब्दों, छवियों, ध्वनि और गति में विचारों और संवेगनाओं को व्यक्त करने के लिए कला की भाषा सीखना।

Question ID : 75322914743

Q.2 EVS की N.C.F. सिफारिश _____ को बाहर करती है

- Ans
- A. सजीव अनुभवों से लिए गए अवलोकन और चित्रण के आधार पर समझ विकसित करना।
 - B. बच्चों को प्राकृतिक, सामाजिक और सांस्कृतिक वातावरण के बीच संबंधों का पता लगाने और समझने के लिए प्रशिक्षित करना।
 - C. बच्चे की जिज्ञासा और सृजन का पोषण करना।
 - D. बच्चों में उनकी जाति, वंश, धर्म आदि के बारे में गर्व का विकास करना।

Question ID : 75322914735

Q.3 पर्यावरण अध्ययन की उप-विषयक श्रेणी में आने वाले सही विकल्प का चयन करें?

- Ans
- A. यात्रा
 - B. खाना' परिवार में खाना पकाने, खाने के साथ।
 - C. पौधे और पशु
 - D. अपने परिवार, पड़ोसी, दोस्तों को शामिल करने के लिए बच्चे की अपनी दुनिया की समझ 'स्व' से शुरू होती है।

Question ID : 75322914737

Q.4 E.V.S में थीम वाटर शुरू करने से पहले इसे पेश करने का सबसे कारगर तरीका क्या होगा।

- Ans A. कारखाने, तालाब और पानी के बांध के पास एक यात्रा का आयोजन।
 B. जल संबंधी खतरों की आलोचना करना।
 C. उन्हें पानी को बर्बाद न करके कम उपयोग करने के लिए कहना।
 D. केवल चित्र पुस्तकें दिखाना।

Question ID : 75322914736

Q.5 Given are the aspect of healthy mentality except _____.

- Ans A. positive self-esteem.
 B. effective communication.
 C. emotional hyperactive.
 D. regular exercise and adequate amount of sleep.

Question ID : 75322914751

Q.6 यम (संयम) के पांच प्रकार हैं _____, ब्रह्मचर्य (ब्रह्मचर्य), अस्तेय (गैर-चौर्य), अपगृह (गैर-अधिकार), सत्य (सत्य)

- Ans A. अहिंसा (अहिंसा)
 B. आसन (आसन)
 C. नियम (नियम)
 D. नियम (पालन)

Question ID : 75322914749

Q.7 ऋतुराज जो 10वीं कक्षा में है, उसे कुछ गुस्से की समस्या है, वह अक्सर अपने साथियों के साथ मौखिक और शारीरिक तर्क-वितर्क में लिप्त पाया जाता है, एक शिक्षक इससे कैसे निपटेगा?

- Ans A. उसे अपनी गलती न दोहराने के लिए 1000 बार लिखने के लिए देना।
 B. पूरे विद्यालय के सामने उसे दण्डित करके।
 C. उसे उसकी संवेगनाओं और एहसास से अवगत कराकर। वह ऐसा कैसे और क्यों महसूस करता है, इस बारे में अंतर्दृष्टि प्राप्त करने का प्रयास करना।
 D. अपने साथियों को उससे बात न करने और उसे अकेला छोड़ने के लिए कहना।

Question ID : 75322914750

Q.8 तमिल नाडु के E.V.S वर्ग में राजस्थान के आवास से परिचय कराने का कम प्रभावी तरीका क्या होगा-

- Ans A. विवरण समृद्ध और विस्तृत होना चाहिए ताकि वे वहां की प्राकृतिक दुनिया का अनुभव प्राप्त कर सकें।
 B. राजस्थान पर व्याख्यान का आयोजन
 C. अपने स्थानीय समुदाय में वहां के और उनके आसपास के जीवन के बीच तुलना करना।
 D. राजस्थान की यात्रा की योजना बनाना।

Question ID : 75322914739

Q.9 उच्च प्राथमिक स्तर के लिए स्वास्थ्य और शारीरिक शिक्षा पर शिक्षक गाइड के रूप में NCERT द्वारा विकसित संसाधन सामग्री _____ नहीं है

- Ans A. स्वस्थ जीवन के लिए कौशल प्राप्त करने के लिए अनुभवात्मक शिक्षण गतिविधियों को एकीकृत किया गया है।
- B. छात्रों में अपने दैनिक जीवन के अभिन्न अंग के रूप में खेल, खेल-कूद, योग में भाग लेने की इच्छा उत्पन्न करना।
- C. शिक्षकों को कम से कम अंतर्दृष्टि दें कि कैसे छात्रों को प्रोत्साहित किया जाए और सीखने को आनंदप्रद प्रक्रिया बनाया जाए।
- D. स्वास्थ्य पर पर्यावरण के प्रभाव सहित स्वास्थ्य, शारीरिक शिक्षा, योग, फिटनेस गतिविधि की समग्र (होलिस्टिक) समझ पर ध्यान केंद्रित करना।

Question ID : 75322914746

Q.10 एक शिक्षक के रूप में संवेगनात्मक और सामाजिक रूप से प्रभावित करने वाले बच्चों में स्वस्थ आदतों का निर्माण कैसे करें?

- Ans A. बच्चे की व्यक्तिगत समस्या के बारे में खुलकर बात करते हुए।
- B. सकारात्मक आत्म-सम्मान, प्रभावी संचार के महत्व को सिखाकर और जर्नल में अपने विचार लिखकर।
- C. हमेशा मानसिक बीमारी की बात करके, इससे प्रभावित बच्चों की ओर इशारा करना।
- D. बच्चों को उनके मानसिक स्वास्थ्य के आधार पर विभाजित करके।

Question ID : 75322914752

Q.11 ज्वाला सह्याद्री पहाड़ियों में एक छोटे से गाँव में रहती है, जहाँ वह अपने माता-पिता को चावल और तुअर की खेती के मौसमी काम में मदद करती है, पर्यावरण के साथ घनिष्ठ संबंध बनाए रखते हुए, एक जैव शिक्षक के रूप में-

- Ans A. वह उसे समझाएगी कि विद्यालय विज्ञान लंबे पाठ और कठिन भाषा में कोडित कुछ अमूर्त दुनिया के बारे में है।
- B. वह उससे कहेगी कि वह अपने व्यक्तिगत अनुभव को कक्षा में न लाए, बल्कि केवल किताबी भाषा पर ध्यान केंद्रित करे।
- C. वह उसे मना लेगी कि उसे घर पर रहना चाहिए और अपने माता-पिता की मदद करनी चाहिए।
- D. वह ज्वाला की प्रकृति की समृद्ध समझ को जीव विज्ञान की औपचारिक अवधारणाओं में बदलने में मदद करेगी।

Question ID : 75322914738

Q.12 कला विद्यार्थियों को किस प्रकार प्रेरित करती है ?

- Ans A. शिक्षा और अनुभव के बीच अंतर को कम समझने योग्य बनाना।
- B. छात्रों को शिक्षाविदों से विचलित करना।
- C. भाग नहीं लेने वालों की तुलना में कला के छात्रों की ड्रॉपआउट दर को बढ़ाता है।
- D. लचीलापन, धैर्य और विकास की मानसिकता जैसे कौशल विकसित करना जिससे उन्हें अपने शिल्प में महारत हासिल करने, अकादमिक रूप से अच्छा प्रदर्शन करने और बाद के जीवन में सफल होने में मदद मिल सके।

Question ID : 75322914744

Q.13 Important teaching skills in social science are except

- Ans A. stimulus variation.
- B. fluency in questioning.
- C. writing instructional objectives.
- D. brainstorming each and every sensitive topic.

Question ID : 75322914741

Q.14 वार्तालाप गतिविधि के संबंध में कौन सा विकल्प कम महत्वपूर्ण हो सकता है?

- Ans A. उन्हें भविष्य में बेहतर विचारक, कहानीकार बनने में मदद करने और स्वस्थ संवाद में संलग्न होने के लिए उनमें आत्मविश्वास विकसित करना।
- B. छात्रों को दृश्य में विसर्जित करने और इसके सार को समझने में मदद करता है।
- C. यह केवल उन छात्रों को अवसर देता है जो अभिनय और अभिव्यक्ति में बेहतर हैं।
- D. यह छात्रों को पात्रों की मानसिकता को सीखने में सक्षम बनाता है जिसके आधार पर वे आलोचनात्मक निर्णय लेते हैं।

Question ID : 75322914745

Q.15 दल खेल शारीरिक शिक्षा के उद्देश्यों में महत्वपूर्ण योगदान दे सकता है, एक शिक्षक के रूप में आप इससे परहेज करेंगे

- Ans A. छात्रों में प्रतिस्पर्धात्मक प्रवृत्ति का विकास करना।
- B. अनुयाई, नेतृत्व, टीम भावना और सहयोग के गुणों का विकास करना।
- C. खेलों की विभिन्न मूलभूत तकनीकों को समझना और ग्रहण करना।
- D. खेल आदि में छात्र की प्रतिभा को पहचानना और उसका पोषण करना।

Question ID : 75322914747

Q.16 बच्चों को भारत की समृद्ध संस्कृति की सराहना करने में सक्षम बनाने के लिए वह विकल्प जो कम प्रभावी होगा।

- Ans A. अपनी सांस्कृतिक विरासत और स्वतंत्रता संग्राम के बारे में पढ़ने वाले विद्यार्थियों को प्रेरित करना।
- B. समकालीन सामाजिक और व्यक्तिगत समस्याओं पर चर्चा नहीं करना क्योंकि यह चर्चा करने के लिए बहुत संवेदनशील होगा।
- C. रक्षा पर सेमिनार आयोजित करके देशभक्ति की भावना विकसित करना जहां सेना के अधिकारियों को आमंत्रित किया जाएगा।
- D. अपनेपन की भावना देना।

Question ID : 75322914740

Q.17 वैन हील के सिद्धांत के अनुसार कौन सी ज्यामितीय चिंतन निगमन प्रणाली के विश्लेषण का आकलन कर सकती है?

- Ans A. कठोरता
- B. विश्लेषण
- C. कटौती
- D. समझना

Question ID : 75322914733

Q.18 शारीरिक गतिविधियों में कम भागीदारी के कारण बच्चे निष्क्रिय जीवन जी रहे हैं, एक शिक्षक के रूप में आप _____ से परहेज करेंगे। कम प्रभावी विकल्प का चयन करें।

- Ans A. शिविर का आयोजन।
- B. कक्षा का आयोजन करना और छात्रों को मनोरंजक और बाहरी गतिविधियों के महत्व के बारे में समझाना
- C. उन्हें गेमिंग जोन में ले जाएं और बच्चों को स्वयं खेलने दें।
- D. खेल गतिविधि के दौरान छात्रों के बीच स्वस्थ प्रतिस्पर्धा को बढ़ावा देना।

Question ID : 75322914748

Q.19 ___ is created when a shape is repeated over and over again covering a plane without any gaps or overlaps.

- Ans A. Sata handling
 B. Circle
 C. Asymmetric
 D. Tessellation

Question ID : 75322914734

Q.20 सामाजिक विज्ञान पढ़ाने का उद्देश्य शिक्षार्थी में विश्लेषणात्मक और वैचारिक कौशल विकसित करना है ताकि वह सक्षम हो सके -

- Ans A. सामाजिक और आर्थिक मुद्दों और गरीबी, बाल श्रम, आदि जैसी चुनौतियों की गंभीर रूप से जांच करना
 B. अपने पर्यावरण के संबंध में स्थानीय समुदायों के अधिकारों को कम करना।
 C. संवैधानिक दायित्वों की अनुपस्थिति के लिए राज्य की भूमिकाओं और जिम्मेदारियों को समझना।
 D. अन्य जीवन के आवास के रूप में पृथ्वी के बारे में समझ विकसित करना।

Question ID : 75322914742

Section : Discipline5

Q.1 RTE अधिनियम 2005 ने SMC को देश में प्रारंभिक शिक्षा में सुधार करने का अधिकार दिया है सिवाय-

- Ans A. बुनियादी ढांचागत सुविधाओं की व्यवस्था और रखरखाव।
 B. सामान्य छात्रों को प्राथमिकता देना
 C. विद्यालय विकास योजना तैयार करना।
 D. विद्यालय बच्चों को विद्यालय से बाहर लाना।

Question ID : 75322914771

Q.2 शारीरिक गतिविधि बच्चों को कक्षा में सतर्क रहने, उनके आत्म-सम्मान और आत्म-धारणा को बढ़ाने के लिए सक्षम करके _____ के प्रदर्शन को बढ़ाती है।

- Ans A. संज्ञानात्मक
 B. मनोप्रेरक
 C. विश्लेषणात्मक
 D. रचनात्मकता

Question ID : 75322914760

Q.3 ऑनलाइन शिक्षण में सुधार के तरीके निम्नलिखित दिए गए हैं, सिवाय-

- Ans A. नए अधिगम उपागम पर विचार करना।
 B. छात्र से व्यक्तिगत रूप से जुड़ना।
 C. विभिन्न प्रकार की तकनीक का उपयोग करना।
 D. पारंपरिक उपागम पर ध्यान केंद्रित करना।

Question ID : 75322914769

Q.4 कुछ बच्चों और किशोरों के मानसिक स्वास्थ्य को प्रभावित करने वाले कारक है, सिवाय-

Ans A. शैक्षणिक।

B. भेदभाव का अनुभव करना।

C. माता-पिता जो अलग या तलाकशुदा हैं।

D. गंभीर डराना-धमकाना और यौन शोषण का सामना करना।

Question ID : 75322914756

Q.5 किशोरावस्था में मिजाज में कम महत्वपूर्ण कारक _____ है

Ans A. शैक्षणिक।

B. परिवार के सदस्यों के साथ संघर्ष।

C. सहोदर प्रतिद्वंद्विता।

D. परिवार से दूरी और नए रिश्ते बनाना।

Question ID : 75322914754

Q.6 एक बच्चे को स्वावलंबी और उत्पादक नागरिक के रूप में तैयार करने के लिए एक महत्वपूर्ण साधन के रूप में कार्य शिक्षा _____ और _____ के बीच एक महत्वपूर्ण कड़ी बन गई है।

Ans A. स्वास्थ्य और शिक्षा

B. उत्पादकता और ज्ञान

C. शिक्षा और ज्ञान

D. शिक्षा और उत्पादकता

Question ID : 75322914764

Q.7 कार्य शिक्षा में भागीदारी और अवलोकन से संबंधित तरीके है, सिवाय _____

Ans A. पोस्टर

B. वाद-विवाद

C. बुद्धिशीलता

D. कविताओं

Question ID : 75322914765

Q.8 प्राथमिक स्तर पर मध्याह्न भोजन को अनिवार्य बनाने के पीछे मूल दृष्टिकोण क्या था?

Ans A. मध्याह्न भोजन कार्यक्रम की स्थापना की गई ताकि गरीब बच्चे विद्यालय आ सकें और बुनियादी शिक्षा प्राप्त कर सकें।

B. बाल श्रम के मामले चरम पर थे इसलिए इससे निपटने के लिए कार्यक्रम स्थापित किया गया था।

C. 6 वर्ष तक के बच्चों की खराब पोषण स्थिति, जो किशोरावस्था में जारी है, और भारत में 55% किशोर एनीमिक हैं, जो दुनिया में सबसे अधिक है।

D. NCF 2005 ने गरीब बच्चों के लिए अनिवार्य प्राथमिक शिक्षा की सिफारिश की।

Question ID : 75322914758

Q.9 किशोर व्यवहार संबंधी विकार दिए गए हैं, सिवाय _____

Ans A. ADHD

B. भोजन विकार

C. अनिद्रा

D. जोखिम लेने वाला व्यवहार

Question ID : 75322914755

Q.10 हमारी कार्य शिक्षा में क्रांति लानी है। मस्तिष्क को हाथ से शिक्षित किया जाना चाहिए। यदि मैं कवि होता तो मैं 5 उंगलियों की संभावनाओं पर कविता लिखता। जो अपने हाथों से दिमाग नहीं लगाते हैं, जो शिक्षा की सामान्य रट से गुजरते हैं, उनके जीवन में संगीत की कमी है।" _____ द्वारा कहा गया है।

- Ans A. महात्मा गांधी
 B. रूसो
 C. पंडिता रमाबाई
 D. सी.वी. रमन

Question ID : 75322914763

Q.11 किस समिति ने कार्य शिक्षा को उद्देश्यपूर्ण और सार्थक मैन्युअल कार्य के रूप में माना है जिसके परिणामस्वरूप समाज के लिए उपयोगी वस्तुओं या सेवाएं होती हैं?

- Ans A. राष्ट्रीय पाठ्यचर्या ढांचा 2005
 B. शिक्षा पर राष्ट्रीय नीति
 C. कोठारी आयोग
 D. भोरे समिति

Question ID : 75322914766

Q.12 WHO के अनुसार: स्वास्थ्य को बढ़ावा देने वाला विद्यालय निम्नलिखित में से एक नहीं है-

- Ans A. अपने निपटान में सभी उपायों के साथ स्वास्थ्य और अधिगम को बढ़ावा देता है।
 B. स्वास्थ्य को बढ़ावा देने के प्रयासों में स्वास्थ्य और शिक्षा अधिकारियों, शिक्षकों, छात्रों, अभिभावकों को शामिल करना।
 C. शिक्षाविदों के बजाय केवल फिटनेस को बढ़ावा देने में अच्छा है।
 D. सामुदायिक परियोजनाओं, खाद्य आपूर्ति कार्यक्रमों और मानसिक स्वास्थ्य को बढ़ावा देने के साथ-साथ एक स्वस्थ वातावरण, विद्यालय स्वास्थ्य सेवा प्रदान करने का प्रयास करता है।

Question ID : 75322914759

Q.13 स्वास्थ्य कार्यक्रम के उद्देश्यों को 4 प्रमुख विषयों को प्रतिबिंबित करना चाहिए, सिवाय

- Ans A. आंदोलन अवधारणा और प्रेरक कौशल।
 B. व्यक्तियों के बीच प्रतिस्पर्धात्मक प्रवृत्ति।
 C. स्वस्थ समुदाय और वातावरण
 D. व्यक्तिगत स्वास्थ्य, शारीरिक और मानसिक-सामाजिक विकास।

Question ID : 75322914761

Q.14 कार्य क्षमता विद्यार्थियों को _____ के विकास में मदद करती है जो पर्यावरण के लिए गहरी चिंता और समाज के प्रति अपनेपन, जिम्मेदारी और प्रतिबद्धता की भावना विकसित करती है।

- Ans A. मनोप्रेरक डोमेन
 B. भावात्मक डोमेन
 C. संज्ञात्मक डोमेन
 D. योजना

Question ID : 75322914767

Q.15 मनोवैज्ञानिक रूप से स्वस्थ व्यक्ति के लक्षण दिए गए हैं सिवाय-

- Ans A. व्यक्ति हमेशा एक ऑलराउंडर होता है और उसमें एक मजबूत प्रतिस्पर्धी प्रवृत्ति होती है।
 B. व्यक्ति लोगों के साथ रहने और साथियों के साथ स्वस्थ और घनिष्ठ संबंध बनाने में सक्षम है।
 C. व्यक्ति चीजों को करने और कार्यभार को पूरा करने के लिए पहल करता है।
 D. ऐसा व्यक्ति अपने व्यक्तिगत मूल्यों के आधार पर विचारों और कार्यों में स्वतंत्र होता है।

Question ID : 75322914753

Q.16 एक शिक्षक/गुरु के रूप में नीचे दिए गए तरीके स्वयं को/शिक्षण को चुनौती देने के तरीके हैं, सिवाय:

- Ans
- A. अपने शिक्षण का मूल्यांकन करना।
 - B. जोखिम लेना।
 - C. पुस्तक विधियों पर निर्भर रहना।
 - D. मिश्रित अधिगम का प्रयास करना।

Question ID : 75322914770

Q.17 SMC की भूमिका विद्यालय में अल्पसंख्यकों की भागीदारी सुनिश्चित करना है, सिवाय _____।

- Ans
- A. विद्यालय में सभी बच्चों, विशेष रूप से वंचित समूहों और कमजोर वर्गों के बच्चों का नामांकन और हाजिरी।
 - B. एक अच्छे परिवार, अच्छे घर, बच्चों की आर्थिक स्थिति से जुड़े शब्दों का उपयोग करना।
 - C. विद्यालय में जातियों, जनजातियों और अल्पसंख्यकों से संबंधित रूढ़ियों और भ्रांतियों को चुनौती देने के लिए।
 - D. प्राथमिक स्तर पर कक्षा की अंतःक्रिया आवश्यक रूप से स्थानीय भाषा में होनी चाहिए।

Question ID : 75322914772

Q.18 _____ प्रगति ने शिक्षक समुदाय के बीच ज्ञान को उन्नत करना आवश्यक और ज़रूरत बना दिया है।

- Ans
- A. शारीरिक
 - B. प्रौद्योगिकीय
 - C. लिंग
 - D. मनोवैज्ञानिक

Question ID : 75322914768

Q.19 विद्यालय स्वास्थ्य निर्देश के मार्गदर्शक सिद्धांत दिए गए हैं, सिवाय _____

- Ans
- A. विद्यालय स्वास्थ्य केंद्र के लिए जगह होनी चाहिए जहां खेल, व्यावहारिक शिक्षा, योग पर ही ध्यान दिया जाएगा।
 - B. पूरे विद्यालय काल में, स्वास्थ्य संवर्धन पूरे विद्यालय कार्यक्रम के उद्देश्यों में से एक होना चाहिए।
 - C. स्वास्थ्य के सकारात्मक पक्ष पर जोर दें न कि नकारात्मक पहलुओं पर।
 - D. निर्देश बच्चे की रुचियों, जरूरतों, क्षमताओं और पृष्ठभूमि पर आधारित होना चाहिए।

Question ID : 75322914757

Q.20 भारत की स्वास्थ्य स्थिति का आकलन करने के लिए _____ स्वास्थ्य समिति का गठन किया गया था।

- Ans
- A. भोरे समिति 1943
 - B. यशपाल समिति 2009
 - C. कोठारी आयोग 1964
 - D. मुदलियार समिति

Question ID : 75322914762