

OTET

Previous Year Paper
16 Aug 2019 Paper II
Shift 3




[Grievance](#)
[View response](#)
[Logout](#)
[Create](#)

Name	[REDACTED]	<h1>Paper- 2</h1> <h2>Date- 16-Aug-2019</h2> <h3>Shift- 3rd</h3>
Roll No	1 [REDACTED]	
Subject	Paper 2	

QID : 751 - According to Erik Erikson's Stages of Psychosocial Development, which one of the following basic virtues does an individual acquire during the adolescent years upon successful completion of the stage?

ଏରିକ୍ ଏରିକ୍ସନ୍‌ଙ୍କ ମାନସିକ ବିକାଶ ଚରଣ ଅନୁସାରେ, କିଶୋରବୟସା ସଫଳ ଭାବେ ସଂପୂର୍ଣ୍ଣ ହେବାପରେ କୌଣସି ବ୍ୟକ୍ତିଙ୍କ ପାଖରେ ନିମ୍ନଲିଖିତ ମଧ୍ୟରୁ କେଉଁ ମୌଳିକ ଗୁଣଗୁଡ଼ିକୁ ଦେଖିବାକୁ ମିଳିଥାଏ?

Options:

- 1) Competency
କ୍ଷମତା
- 2) Fidelity
ସତ୍ୟ ପ୍ରତି ନିଷ୍ଠା
- 3) Purpose
ଉଦ୍ଦେଶ୍ୟ
- 4) Wisdom
ବୁଦ୍ଧିମତା

Correct Answer: 2) Fidelity
ସତ୍ୟ ପ୍ରତି ନିଷ୍ଠା

Candidate Answer: 3) Purpose
ଉଦ୍ଦେଶ୍ୟ

QID : 752 - In Jean Piaget's theory of cognitive development, Concrete operational stage corresponds to ages:

ଜିନ୍ ପିଆଜେଟ୍‌ଙ୍କ ସଞ୍ଜାତକ ବିକାଶ ସିଦ୍ଧାନ୍ତରେ, ଅଧିକ କାର୍ଯ୍ୟସମ୍ପନ୍ନତା ଚରଣ _____ ବୟସ ସହିତ ମେଳ ଖାଇଥାଏ ।

Options:

- 1) 5 to 9 years
5 ରୁ 9 ବର୍ଷ
- 2) 2 to 7 years
2 ରୁ 7 ବର୍ଷ
- 3) 7 to 11 years
7 ରୁ 11 ବର୍ଷ
- 4) 12 to 18 years
12 ରୁ 18 ବର୍ଷ

Correct Answer: 3) 7 to 11 years
7 ରୁ 11 ବର୍ଷ

Candidate Answer: 4) 12 to 18 years
12 ରୁ 18 ବର୍ଷ

QID : 753 - Jean Piaget's theory of cognitive development suggests that children move through _____ different stages of mental development.

ପିଲାମାନେ ମାନସିକ ବିକାଶର _____ ବିଭିନ୍ନ ଚରଣ ଦେଇ ଗତି କରିଥାନ୍ତି ବୋଲି ଜିନ୍ ପିଆଜେଟ୍ କି ସଞ୍ଜାତ୍ମକ ବିକାଶ ସିଦ୍ଧାନ୍ତ ଦର୍ଶାଇଥାଏ?

Options:

- 1) three
ତିନି
- 2) four
ଚାରି
- 3) five
ପାଞ୍ଚ
- 4) six
ଛଅ



Correct Answer: 2) four
ଚାରି

Candidate Answer: 2) four
ଚାରି

QID : 754 - Who among the following disagreed with the idea that intelligence was a fixed trait, and regarded cognitive development as a process which occurs due to biological maturation and interaction with the environment?

ନିମ୍ନଲିଖିତ ମଧ୍ୟରୁ କିଏ ବୁଦ୍ଧିମତା ଏକ ସ୍ଥାୟୀ ଲକ୍ଷଣ ଅଟେ ବୋଲି ଅସମ୍ମତ ଥିଲେ ଏବଂ ସଞ୍ଜାତ୍ମକ ବିକାଶ ଏକ ପ୍ରକ୍ରିୟା ଭାବରେ ଯାହା ଜୈବିକ ପରିପକ୍ୱତା ଏବଂ ପରିବେଶ ସହିତ ସମ୍ପର୍କ କାରଣରୁ ଘଟିଥାଏ ବୋଲି କହିଛନ୍ତି?

Options:

1) Sigmund Freud

ସିଗମଣ୍ଡ ଫ୍ରଏଡ୍

2) Erik Erikson

ଏରିକ୍ ଏରିକ୍ସନ୍

3) Jean Piaget

ଜିନ୍ ପିଆଜେଟ୍

4) B. F. Skinner

ବି.ଏଫ୍.ସ୍କିନର୍

Correct Answer: 3) Jean Piaget

ଜିନ୍ ପିଆଜେଟ୍

Candidate Answer: 2) Erik Erikson

ଏରିକ୍ ଏରିକ୍ସନ୍

QID : 755 - Language, religion, custom, tradition etc. form a part of which one of the following?

ଭାଷା, ଧର୍ମ, ସଂସ୍କୃତି, ପରମ୍ପରା ଇତ୍ୟାଦି କାରଣରୁ ନିମ୍ନୋକ୍ତ ମଧ୍ୟରୁ କଣ ସୃଷ୍ଟି କରିଥାନ୍ତି?

Options:

1) Social environment

ସାମାଜିକ ପରିବେଶ

2) Natural environment

ପ୍ରାକୃତିକ ପରିବେଶ

3) Nature

ପ୍ରକୃତି

4) Heredity

ବଂଶାନୁକ୍ରମ

Correct Answer: 1) Social environment

ସାମାଜିକ ପରିବେଶ

Candidate Answer: 1) Social environment

ସାମାଜିକ ପରିବେଶ

QID : 756 - Why should the teacher have the knowledge of heredity and environment of his/her students?

ଜଣେ ଶିକ୍ଷକଙ୍କର ବଂଶାନୁକ୍ରମ ଓ ତାଙ୍କ ଛାତ୍ରଛାତ୍ରୀଙ୍କର ପରିବେଶ ବିଷୟରେ ଜ୍ଞାନ ରଖିବା କାହିଁକି ଆବଶ୍ୟକ?

Options:

- 1) so that the teacher knows the achievement potentials of the student
ଯାହାହାରାକି ଶିକ୍ଷକ ପିଲାଟିର ଦକ୍ଷତା ସମ୍ଭାବନାକୁ ଜାଣିପାରିବେ
- 2) so that the teacher knows the spending abilities of the student
ଯାହାହାରାକି ଶିକ୍ଷକ ପିଲାଟି କେତେ ସମୟ ଦେଇପାରିବେ ଜାଣିପାରିବେ
- 3) so that the teacher knows the varying needs and abilities of the children
ଯାହାହାରାକି ଶିକ୍ଷକ ପିଲାଟିର ବିଭିନ୍ନ ଚାହୁଁଦା ଓ ସାମର୍ଥ୍ୟତା ବିଷୟରେ ଜାଣିପାରିବେ
- 4) so that the teacher can decide whether he will be suitably compensated by the child's parents
ଯାହାହାରାକି ଶିକ୍ଷକ ପିଲାଟିକୁ ପିତାମାତାଙ୍କ ଦ୍ଵାରା ଠିକ୍ ଭାବେ ଆଶ୍ଵାସନା ଦିଆଯାଇପାରିବ ନା ନାହିଁ ତାହା ନିର୍ଣ୍ଣୟ କରିପାରିବେ

Correct Answer: 3) so that the teacher knows the varying needs and abilities of the children
ଯାହାହାରାକି ଶିକ୍ଷକ ପିଲାଟିର ବିଭିନ୍ନ ଚାହୁଁଦା ଓ ସାମର୍ଥ୍ୟତା ବିଷୟରେ ଜାଣିପାରିବେ


Candidate Answer: 1) so that the teacher knows the achievement potentials of the student
ଯାହାହାରାକି ଶିକ୍ଷକ ପିଲାଟିର ଦକ୍ଷତା ସମ୍ଭାବନାକୁ ଜାଣିପାରିବେ

QID : 757 - Who among the following was the first psychologist to make a systematic study of cognitive development?

ନିମ୍ନଲିଖିତ ମଧ୍ୟରୁ କେଉଁ ମନୋବିଜ୍ଞାନୀ ପ୍ରଥମେ ସଞ୍ଜାତ୍ଵକ ବିକାଶର ଏକ ବ୍ୟବସ୍ଥିତ ଅଧ୍ୟୟନ କରିଥିଲେ?

Options:

- 1) Sigmund Freud
ସିଗମଣ୍ଡ ଫ୍ରାୟଡ୍
- 2) Erik Erikson
ଏରିକ୍ ଏରିକ୍ସନ୍
- 3) Jean Piaget
ଜିନ୍ ପିଆଜେଟ୍
- 4) B. F. Skinner
ବି.ଏଫ୍.ସ୍କିନର



Correct Answer: 3) Jean Piaget
ଜିନ୍ ପିଆଜେଟ୍

Candidate Answer: 1) Sigmund Freud
ସିଗମଣ୍ଡ ଫ୍ରାୟଡ୍

QID : 758 - Which one of the following helps the teacher provide better learning environment in the school?

ସ୍କୁଲରେ ଶିକ୍ଷକଙ୍କୁ ନିମ୍ନଲିଖିତ ମଧ୍ୟରୁ କଣ ଏକ ଶିକ୍ଷଣୀୟ ପରିବେଶ ପ୍ରଦାନ କରିବାର ସହାୟତା କରିଥାଏ?

Options:

1) knowledge of parents' income

ଅଭିଭାବକଙ୍କ ଆୟ ଉପରେ ଜ୍ଞାନ

2) knowledge of students' heredity and environment

ଛାତ୍ରର ବଂଶ ଏବଂ ପରିବେଶ ଉପରେ ଜ୍ଞାନ

3) description of each student's height and weight

ପ୍ରତ୍ୟେକ ଛାତ୍ରର ଉଚ୍ଚତା ଏବଂ ଓଜନର ବିବରଣୀ

4) Knowledge of where each student lives and the number of rooms in his/her house

ପ୍ରତ୍ୟେକ ଛାତ୍ର କେଉଁଠାରେ ଏବଂ କେତୋଟି କୋଠରୀ ଥିବା ଘରେ ସେମାନେ ରୁହନ୍ତି

Correct Answer: 2) knowledge of students' heredity and environment

ଛାତ୍ରର ବଂଶ ଏବଂ ପରିବେଶ ଉପରେ ଜ୍ଞାନ

Candidate Answer: 2) knowledge of students' heredity and environment

ଛାତ୍ରର ବଂଶ ଏବଂ ପରିବେଶ ଉପରେ ଜ୍ଞାନ

QID : 759 - To Piaget, cognitive development was a progressive reorganization of _____ as a result of biological maturation and environmental experience.

ପିଆଜେଟ୍‌ଙ୍କ ମତରେ, ଜୈବିକ ପରିପକ୍ୱତା ଏବଂ ପରିବେଶ ସମ୍ବନ୍ଧୀୟ ଅନୁଭୂତିର ପରିଣାମସ୍ୱରୂପ ସଞ୍ଜାତ ବିକାଶ _____ ର ଏକ ପ୍ରଗତିଶୀଳ ପୁନର୍ଗଠନ ଥିଲା?

Options:

1) innate abilities

ଜନ୍ମଜାତ କ୍ଷମତା

2) cognitive skills

ସଞ୍ଜାତ କୌଶଳ

3) mental processes

ମାନସିକ ପ୍ରକ୍ରିୟା

4) socially-learned skills

ସମାଜରୁ ଶିଖିଥିବା କୌଶଳ

Correct Answer: 3) mental processes

ମାନସିକ ପ୍ରକ୍ରିୟା

Candidate Answer: 4) socially-learned skills

ସମାଜରୁ ଶିଖିଥିବା କୌଶଳ

QID : 760 - Which one of the following is **NOT** a stage of Cognitive Development as proposed by Piaget?

ନିମ୍ନଲିଖିତ ମଧ୍ୟରୁ ସଞ୍ଜାତ ବିକାଶର କେଉଁ ଚରଣ ପିଆଜେଟ୍‌ଙ୍କ ଦ୍ୱାରା ପ୍ରସ୍ତୁତ କରାଯାଇନଥିଲା?

Options:

- 1) sensorimotor
ସେନ୍ସୋରୀମୋଟର୍
- 2) preoperational
ପ୍ରିଅପରେସନାଲ୍
- 3) concrete operational
କଙ୍କ୍ରିଟ୍ ଅପରେସନାଲ୍
- 4) informal social
ଇନ୍ଫର୍ମାଲ୍ ସୋସିଆଲ୍

Correct Answer: 4) informal social
ଇନ୍ଫର୍ମାଲ୍ ସୋସିଆଲ୍

Candidate Answer: 1) sensorimotor
ସେନ୍ସୋରୀମୋଟର୍

QID : 761 - _____ ensures that pedagogical approaches meet the educational needs of each and every learner including learners learning with different paces and the learners with special educational needs group.

_____ ଏହା ସୁନିଶ୍ଚିତ କରିଥାଏ ଯେ ଶିକ୍ଷଣୀୟ ଦୃଷ୍ଟିକୋଣଗୁଡ଼ିକ ପ୍ରତ୍ୟେକ ଶିକ୍ଷକଙ୍କ ଶିକ୍ଷା ଆବଶ୍ୟକତାଗୁଡ଼ିକୁ ପୂରା କରିଥାଏ, ଯେଉଁଥିରେ ବିଭିନ୍ନ ଗତିରେ ଶିଖୁଥିବା ଶିକ୍ଷାର୍ଥୀ ଏବଂ ବିଶେଷ ଶିକ୍ଷା ଆବଶ୍ୟକତା ଥିବା ଶିକ୍ଷାର୍ଥୀଙ୍କ ଗୋଷ୍ଠୀ ଅନ୍ତର୍ଭୁକ୍ତ ।

Options:

- 1) Affirmative action
ସକାରାତ୍ମକ କାର୍ଯ୍ୟାନୁଷ୍ଠାନ
- 2) Social learning
ସାମାଜିକ ଶିକ୍ଷା
- 3) Inclusive education
ସମ୍ମିଳିତ ଶିକ୍ଷା
- 4) Discovery learning
ସନ୍ଧାନମୂଳକ ଶିକ୍ଷା

Correct Answer: 3) Inclusive education
ସମ୍ମିଳିତ ଶିକ୍ଷା

Candidate Answer: 3) Inclusive education
ସମ୍ମିଳିତ ଶିକ୍ଷା

QID : 762 - _____ is the memorization of information based on repetition.

_____ ହେଉଛି ପୁନରାବୃତ୍ତି ଆଧାରରେ ସୂଚନା ସ୍ମରଣ କରିବା ।

Options:

1) Meaningful learning

ଅର୍ଥପୂର୍ଣ୍ଣ ଶିକ୍ଷା

2) Rote learning

ମୁଖସ୍ତ କରିବା ଶିକ୍ଷା

3) Social learning

ସାମାଜିକ ଶିକ୍ଷା

4) Imitative learning

ଅନୁକରଣୀୟ ଶିକ୍ଷା

Correct Answer: 2) Rote learning

ମୁଖସ୍ତ କରିବା ଶିକ୍ଷା

Candidate Answer: 3) Social learning

ସାମାଜିକ ଶିକ୍ଷା

QID : 763 - According to the The National Curriculum Framework 2005, which of these is the characteristics of inclusive education?

ଜାତୀୟ ପାଠ୍ୟକ୍ରମ ଆଧାର (ନ୍ୟାସନାଲ୍ କରୀକୁଲମ୍ ଫ୍ରେମ୍‌ୱର୍କ) 2005 ଅନୁସାରେ, ଏଗୁଡ଼ିକ ମଧ୍ୟରୁ କଣ ସମ୍ବଳିତ ଶିକ୍ଷାର ଏକ ବୈଶିଷ୍ଟ୍ୟ ଅଟେ?

Options:

1) Make provisions - not restrictions adjust to the needs of the child

ମାନବସ୍ତ ତିଆରି କରିବା-କଟକଣା ନୁହେଁ:ପିଲାଟିର ଆବଶ୍ୟକତା ଅନୁସାରେ ବ୍ୟବସ୍ଥିତ କରିବା

2) Use a white board wherever possible

ଯେଉଁଠାରେ ସମ୍ଭବ ଏକ ଧଳା ବୋର୍ଡ ବ୍ୟବହାର କରିବା

3) Use audio-visual media in all schools

ସମସ୍ତ ସ୍କୁଲରେ ଅଡିଓ-ଭିଜୁଆଲ୍ ମିଡିଆ ବ୍ୟବହାର କରିବା

4) Make mid-day meals in school campus

ସ୍କୁଲ ପରିସରରେ ମିଡ୍-ଡେ ମିଲ୍ସ ପ୍ରସ୍ତୁତ କରିବା

Correct Answer: 1) Make provisions - not restrictions adjust to the needs of the child

ମାନବସ୍ତ ତିଆରି କରିବା-କଟକଣା ନୁହେଁ:ପିଲାଟିର ଆବଶ୍ୟକତା ଅନୁସାରେ ବ୍ୟବସ୍ଥିତ କରିବା

Candidate Answer: 4) Make mid-day meals in school campus

ସ୍କୁଲ ପରିସରରେ ମିଡ୍-ଡେ ମିଲ୍ସ ପ୍ରସ୍ତୁତ କରିବା

QID : 764 - Robert Kegan developed a theoretical framework that posited _____ levels of meaning-making

ରବର୍ଟ କେଗନ୍ ଏକ ତାତ୍ତ୍ୱିକ ଢାଞ୍ଚାର ବିକାଶ କରିଥିଲେ ଯାହା ଅର୍ଥ ନିର୍ମାଣର _____ ଟି ସ୍ତର ପ୍ରସ୍ତୁତ କରିଥାଏ ।

Options:

- 1) two
ଦୁଇଟି
2) three
ତିନୋଟି
3) four
ଚାରୋଟି
4) five
ପାଞ୍ଚଟି

Correct Answer: 4) five
ପାଞ୍ଚଟି


Candidate Answer: 3) four
ଚାରୋଟି

QID : 765 - Inclusive education is committed to _____ physical, social and attitudinal barriers.

ସମ୍ମିଳିତ ଶିକ୍ଷା _____ ଶାରୀରିକ, ସାମାଜିକ ଏବଂ ବ୍ୟବହାର ସମ୍ବନ୍ଧୀୟ ବାଧାଗୁଡ଼ିକ ପ୍ରତି ପ୍ରତିଶ୍ଳୁତିବଦ୍ଧ ଅଟେ ।

Options:

- 1) enhancing
ସୁଧାରିବା
2) multiplying
ସଂଖ୍ୟା ବୃଦ୍ଧି କରିବା
3) reducing
ହ୍ରାସ କରିବା
4) ignoring
ଅଣଦେଖା କରିବା



Correct Answer: 3) reducing
ହ୍ରାସ କରିବା

Candidate Answer: 2) multiplying
ସଂଖ୍ୟା ବୃଦ୍ଧି କରିବା

QID : 766 - Which one of these schools of thought is associated with the concept of "learning as meaning-making"?

ଏଗୁଡ଼ିକ ମଧ୍ୟରୁ କେଉଁ ଚିନ୍ତାଧାରାର "ଅର୍ଥ-ନିର୍ମାଣ ଭାବେ ଶିକ୍ଷା " ଦୃଷ୍ଟିଲେଖ ସହିତ ସଂପୃକ୍ତ ରହିଛି?

Options:

- 1) Constructivist
ଗଠନମୂଳକ
- 2) Cognitivist
ବୋଧଶକ୍ତି ସଂକ୍ରାନ୍ତୀୟ
- 3) Behaviourist
ବ୍ୟବହାର ସମ୍ବନ୍ଧୀୟ
- 4) Gestaltist
ଗେଷ୍ଟାଲିଷ୍ଟ

Correct Answer: 1) Constructivist
ଗଠନମୂଳକ


Candidate Answer: 2) Cognitivist
ବୋଧଶକ୍ତି ସଂକ୍ରାନ୍ତୀୟ

QID : 767 - Which of the following can a teacher use to address the learning needs of her visually impaired students?

ଜଣେ ଶିକ୍ଷକ ନିଜର ଦୃଷ୍ଟିହୀନ ଛାତ୍ରଙ୍କ ଆବଶ୍ୟକତା ପୂରା କରିବା ପାଇଁ ନିମ୍ନଲିଖିତ ମଧ୍ୟରୁ କଣ ବ୍ୟବହାର କରିପାରିବେ?

Options:

- 1) Hearing aids
ହିଅରିଂ ଏଡ୍
- 2) Braille equipments
ବ୍ରେଲି ଉପକରଣ
- 3) Visual boards
ଭିଜୁଆଲ୍ ବୋର୍ଡ
- 4) Assisted reading
ଆସିଷ୍ଟେଡ୍ ରିଡିଂ



Correct Answer: 2) Braille equipments
ବ୍ରେଲି ଉପକରଣ

Candidate Answer: 1) Hearing aids
ହିଅରିଂ ଏଡ୍

QID : 768 - Physical inclusion includes which one of the following?

ଶାରୀରିକ ସମ୍ମିଳନରେ ନିମ୍ନଲିଖିତ ମଧ୍ୟରୁ କଣ ଅନ୍ତର୍ଭୁକ୍ତ ରହିଥାଏ?

Options:

1) infrastructure and resources

ସଂରଚନା ଏବଂ ସମ୍ବଳଗୁଡ଼ିକ

2) social groups

ସାମାଜିକ ଗୋଷ୍ଠୀ

3) cultural groups

ସାଂସ୍କୃତିକ ଗୋଷ୍ଠୀ

4) racial groups

ଜାତିଗତ ଗୋଷ୍ଠୀ

Correct Answer: 1) infrastructure and resources

ସଂରଚନା ଏବଂ ସମ୍ବଳଗୁଡ଼ିକ

Candidate Answer: 1) infrastructure and resources

ସଂରଚନା ଏବଂ ସମ୍ବଳଗୁଡ଼ିକ

QID : 769 - According to whom "every function in the child's cultural development appears twice first, on the social level, and later, on the individual level, first, between people (interpsychological) and then inside the child (intrapsychological)"?

କାହା ଅନୁସାରେ "ପିଲାମାନଙ୍କ ସାଂସ୍କୃତିକ ବିକାଶରେ ପ୍ରତ୍ୟେକ କାର୍ଯ୍ୟ ଦୁଇଥର ଦେଖାଯାଇଥାଏ : ପ୍ରଥମ, ସାମାଜିକ ସ୍ତରରେ, ଏବଂ ପରେ ବ୍ୟକ୍ତିଗତ ସ୍ତରରେ ; ପ୍ରଥମେ ଦୁଇଜଣ ବ୍ୟକ୍ତିଙ୍କ ମଧ୍ୟରେ (ଇଣ୍ଟରସାଇକୋଲୋଜିକାଲ୍) ଏବଂ ପରେ ପିଲାଙ୍କ ଭିତରେ (ଇଣ୍ଟ୍ରାସାଇକୋଲୋଜିକାଲ୍)"?

Options:

1) Lev Vygotsky

ଲେଭ ଭାଇଗୋସ୍କି

2) David Premack

ଡେଭିଡ୍ ପ୍ରେମାକ୍

3) Josef Perner and Heinz Wimmer

ଜୋସେଫ୍ ପର୍ନର୍ ଏବଂ ହାଇଞ୍ଜି ୱିମର୍

4) E.L. Thorndike

ଇ.ଏଲ୍ ଥୋର୍ଣ୍ଡିକେ

Correct Answer: 1) Lev Vygotsky

ଲେଭ ଭାଇଗୋସ୍କି

Candidate Answer: 3) Josef Perner and Heinz Wimmer

ଜୋସେଫ୍ ପର୍ନର୍ ଏବଂ ହାଇଞ୍ଜି ୱିମର୍

QID : 770 - _____ holds that people try to determine why people do what they do, that is, interpret causes to an event or behavior.

_____ ଏହା କହିଥାଏ ଯେ ଲୋକମାନେ ଏହା ନିର୍ଦ୍ଧାରିତ କରିବାକୁ ଚେଷ୍ଟା କରିଥାନ୍ତି ଯେ ଏହାକୁ ସେମାନେ କାହିଁକି କରିଥାନ୍ତି, ଯାହାକୁ କୌଣସି ଘଟଣା କିମ୍ବା ବ୍ୟବହାର କାରଣରୁ ବ୍ୟାଖ୍ୟା କରାଯାଇଥାଏ ।

Options:

1) Classical conditioning

କ୍ଲାସିକାଲ୍ କଣ୍ଡିସନିଂ

2) Attribution theory

ଏଟ୍ରିବ୍ୟୁସନ୍ ଥିଓରୀ

3) Experiential learning

ଏକ୍ସପିରିଏନ୍ସିଆଲ୍ ଲାର୍ନିଂ

4) Operant Conditioning

ଅପେରାଣ୍ଟ କଣ୍ଡିସନିଂ

Correct Answer: 2) Attribution theory

ଏଟ୍ରିବ୍ୟୁସନ୍ ଥିଓରୀ

Candidate Answer: 2) Attribution theory

ଏଟ୍ରିବ୍ୟୁସନ୍ ଥିଓରୀ

QID : 771 - Who classified domains of human learning into three parts — cognitive, affective and psychomotor as educational objectives?

ଶିକ୍ଷା ଉଦ୍ଦେଶ୍ୟ ଭାବରେ ମାନବ ଶିକ୍ଷା ବିଭାଗକୁ ତିନୋଟି ଭାଗରେ କିଏ ବିଭକ୍ତ କରିଥିଲେ-ଯାହାକି ସଂଜ୍ଞାତ୍ମକ, ସକରାତ୍ମକ ଏବଂ ମନୋଚିକିତ୍ସା?

Options:

1) Benjamin S. Bloom

ବେଞ୍ଜାମିନ୍ ଏସ୍ ବ୍ଲୁମ୍

2) David R. Krathwohl

ଡେଭିଡ୍ କ୍ରାଥୋଲ୍

3) Lorin W. Anderson

ଲୋରିନ୍ ଡବ୍ଲ୍ୟୁ ଏଣ୍ଡରସନ୍

4) Norman L. Webb

ନର୍ମାନ୍ ଏଲ୍. ୱେବ୍

Correct Answer: 1) Benjamin S. Bloom

ବେଞ୍ଜାମିନ୍ ଏସ୍ ବ୍ଲୁମ୍

Candidate Answer: 2) David R. Krathwohl

ଡେଭିଡ୍ କ୍ରାଥୋଲ୍

QID : 772 - In which learning process are learners actively involved in the teaching-learning process?

ଶିକ୍ଷା-ଶିକ୍ଷକ ପ୍ରକ୍ରିୟାର କେଉଁ ପ୍ରକ୍ରିୟାରେ ଶିକ୍ଷାର୍ଥୀ ସକ୍ରିୟ ଭାବେ ସଂପୃକ୍ତ ରହିଥାନ୍ତି?

Options:

- 1) process-centred approach
ପ୍ରକ୍ରିୟା-କେନ୍ଦ୍ରୀୟ ଦୃଷ୍ଟିକୋଣ
- 2) content-centred approach
ବିଷୟବସ୍ତୁ-କେନ୍ଦ୍ରୀୟ ଦୃଷ୍ଟିକୋଣ
- 3) learner-centred approach
ଶିକ୍ଷାର୍ଥୀ-କେନ୍ଦ୍ରୀୟ ଦୃଷ୍ଟିକୋଣ
- 4) teacher-centred approach
ଶିକ୍ଷକ-କେନ୍ଦ୍ରୀୟ ଦୃଷ୍ଟିକୋଣ

Correct Answer: 3) learner-centred approach
ଶିକ୍ଷାର୍ଥୀ-କେନ୍ଦ୍ରୀୟ ଦୃଷ୍ଟିକୋଣ

Candidate Answer: 1) process-centred approach
ପ୍ରକ୍ରିୟା-କେନ୍ଦ୍ରୀୟ ଦୃଷ୍ଟିକୋଣ

QID : 773 - _____ is defined as a systematic process of collecting, analysing and interpreting information to determine the extent to which pupils are achieving instructional objectives.

_____ କୁ ଏହାର ନିର୍ଦ୍ଧାରଣ କରିବା, ବିଶ୍ଳେଷଣ ଏବଂ ବ୍ୟାଖ୍ୟା କରିବାର ଏକ ବ୍ୟବସ୍ଥିତ ପ୍ରକ୍ରିୟା ଭାବରେ ବାଖ୍ୟା କରାଯାଇଛି ଯେଉଁଥିରେ ଛାତ୍ରମାନେ ନିର୍ଦ୍ଦେଶାତ୍ମକ ଉଦ୍ଦେଶ୍ୟଗୁଡ଼ିକୁ ପ୍ରାପ୍ତ କରିଥାନ୍ତି ।

Options:

- 1) Education
ଶିକ୍ଷା
- 2) Evaluation
ମୂଲ୍ୟାଙ୍କନ କରିବା
- 3) Facilitation
ସୁଗମ କରିବା କାର୍ଯ୍ୟ
- 4) Curriculum designing
ପାଠ୍ୟକ୍ରମ ପ୍ରସ୍ତୁତ କରିବା

Correct Answer: 2) Evaluation
ମୂଲ୍ୟାଙ୍କନ କରିବା

Candidate Answer: 1) Education
ଶିକ୍ଷା

QID : 774 - The process of systematically gathering information as part of an evaluation is known as:

ମୂଲ୍ୟାଙ୍କନର ଅଂଶ ଭାବରେ ବ୍ୟବସ୍ଥିତ ଭାବେ ସୂଚନା ଏକତ୍ର କରିବାର ପ୍ରକ୍ରିୟାକୁ ବୋଲି କୁହାଯାଇଥାଏ?

Options:

- 1) assessment
ମୂଲ୍ୟ ନିର୍ଦ୍ଧାରଣ କରିବା
- 2) assignment
ମୂଲ୍ୟାୟନ କରିବା
- 3) verification
ଯାଞ୍ଚ କରିବା
- 4) education
ଶିକ୍ଷା

Correct Answer: 1) assessment
ମୂଲ୍ୟ ନିର୍ଦ୍ଧାରଣ କରିବା

Candidate Answer: 2) assignment
ମୂଲ୍ୟାୟନ କରିବା

QID : 775 - The purpose of _____ is necessarily to improve the teaching-learning process by being able to review the objectives that have been identified for different stages of learning?

_____ ର ଉଦ୍ଦେଶ୍ୟ ଶିକ୍ଷାବାର ବିଭିନ୍ନ ସୋପାନ ପାଇଁ ଚିହ୍ନଟ କରାଯାଇ ଥିବା ଲକ୍ଷ୍ୟର ପୁନର୍ବିଚାର ମାଧ୍ୟମରେ ଶିକ୍ଷା ଓ ଶିଖାଇବା ପ୍ରକ୍ରିୟାରେ ଉନ୍ନତି ଆଣିବା

Options:

- 1) analysis
ବିଶ୍ଳେଷଣ
- 2) assessment
ଆକଳନ
- 3) extended learning
ସମ୍ପ୍ରସାରିତ ଶିକ୍ଷା
- 4) discovery learning
ଆବିଷ୍କାର ମୂଳକ ଶିକ୍ଷା

Correct Answer: 2) assessment
ଆକଳନ

Candidate Answer: 3) extended learning
ସମ୍ପ୍ରସାରିତ ଶିକ୍ଷା

QID : 776 - Bruner's _____ stage, involves the encoding and storage of information where a direct manipulation of objects occurs without any internal representation of the objects.

ବ୍ରୁନେରଙ୍କର _____ ସୋପାନ ରେ ଆମେ ସୂଚନା କୁ କୋଡ୍ ଭୁକ୍ତ କରି ଗଠିତ ରଖି ଥାଉ ଯେଉଁଥିରେ କି ଏକ ବସ୍ତୁ ର ଅନ୍ତର୍ନିହିତ ପ୍ରତିନିଧିତ୍ୱକୁ ନ ହୋଇ ସିଧାସଳଖ ହସ୍ତକ୍ଷେପ ହୋଇଥାଏ ।

Options:

- 1) discovery
ଆବିଷ୍କାର
- 2) symbolic
ପ୍ରତୀକାତ୍ମକ
- 3) enactive
ସକ୍ରିୟ
- 4) iconic
ଜୀବନ୍ତଭରଣର ରୂପ

Correct Answer: 3) enactive
ସକ୍ରିୟ

Candidate Answer: 3) enactive
ସକ୍ରିୟ

QID : 777 - Who among the following viewed learning as the process of "meaning making"?

ଏମାନଙ୍କ ମଧ୍ୟ ରୁ କିଏ ଶିଖିବାଟାକୁ ଅର୍ଥ ବାହାର କରିବାର ଏକ ପ୍ରକ୍ରିୟା ବୋଲି ଅଭିହିତ କରିଥିଲେ ।

Options:

- 1) Jean Piaget
ଜିନ ପିଆଜେଟ
- 2) Erik Erikson
ଏରିକ ଏରିକସୋନ
- 3) Jerome Bruner
ଜେରୋମ ବ୍ରୁନର
- 4) Lev Vygotsky
ଲେବ ଭାଇଗୋଟସ୍କି

Correct Answer: 4) Lev Vygotsky
ଲେବ ଭାଇଗୋଟସ୍କି

Candidate Answer: 1) Jean Piaget
ଜିନ ପିଆଜେଟ

QID : 778 - The _____ curriculum assumes that knowledge is transmitted directly from those who have it to those who don't.

_____ ପାଠ୍ୟକ୍ରମ ଧରିନିଏ ଯେ ଜ୍ଞାନ ସବୁବେଳେ ଯେଉଁମାନେ ଜ୍ଞାନୀ ସେମାନଙ୍କ ପାଖରୁ ଯେଉଁମାନଙ୍କ ପାଖରେ ଜ୍ଞାନ ନାହିଁ ସେମାନଙ୍କ ପାଖକୁ ପ୍ରବାହିତ ହୁଏ

Options:

- 1) subject-centred
ବିଷୟ-କେନ୍ଦ୍ରିକ
- 2) teacher-centred
ଶିକ୍ଷକ-କେନ୍ଦ୍ରିକ
- 3) discovery-learning
ଆବିଷ୍କାର ମୂଳକ ଶିକ୍ଷା
- 4) learner-centred
ଶିକ୍ଷାର୍ଥୀ-କେନ୍ଦ୍ରିକ

Correct Answer: 1) subject-centred
ବିଷୟ-କେନ୍ଦ୍ରିକ

Candidate Answer: 1) subject-centred
ବିଷୟ-କେନ୍ଦ୍ରିକ

QID : 779 - Learning objectives of which one of these are observable, can provide learning evidence and can be recognised?

ଏହା ମଧ୍ୟ ରୁ କେଉଁ ଶିକ୍ଷାର ଉଦ୍ଦେଶ୍ୟଟି ଅନୁଧ୍ୟାନ କରାଯାଇପାରେ, ଶିଖିବାର ପ୍ରମାଣ ଦେଇପାରିବ, ଏବଂ ଏହାକୁ ମାନ୍ୟତା ଦିଆଯାଇ ପାରିବ ?

Options:

- 1) content-centred approach
ବିଷୟବସ୍ତୁ-କେନ୍ଦ୍ରିକ ପଦ୍ଧତି
- 2) subject-centred approach
ବିଷୟ-କେନ୍ଦ୍ରିକ ପଦ୍ଧତି
- 3) learner-centred approach
ଶିକ୍ଷାର୍ଥୀ-କେନ୍ଦ୍ରିକ ପଦ୍ଧତି
- 4) teacher-centred approach
ଶିକ୍ଷକ-କେନ୍ଦ୍ରିକ ପଦ୍ଧତି

Correct Answer: 3) learner-centred approach
ଶିକ୍ଷାର୍ଥୀ-କେନ୍ଦ୍ରିକ ପଦ୍ଧତି

Candidate Answer: 1) content-centred approach
ବିଷୟବସ୍ତୁ-କେନ୍ଦ୍ରିକ ପଦ୍ଧତି

QID : 780 - _____ refers to "the steps taken to reduce the degrees of freedom in carrying out some task so that the child can concentrate on the difficult skill she is in the process of acquiring".

_____ କେତେଗୁଡ଼ିଏ କାର୍ଯ୍ୟକୁ କରିବା ପାଇଁ ଛାତ୍ର ମାନଙ୍କୁ ଦିଆଯାଇଥିବା ସ୍ୱାଧୀନତାର ସ୍ତରରେ ହ୍ରାସ କରିବା ପାଇଁ ନିଆ ଯାଇଥିବା ପଦକ୍ଷେପକୁ ସୂଚିତ କରେ, ଯେପରିକି ଶିଖୁଛି ସେ ସିଖୁଥିବା କଷ୍ଟକର ଦକ୍ଷତା ଉପରେ ଧ୍ୟାନ ଦେଇପାରିବ

Options:

- 1) Discovering
ଅବିଷ୍କାରକରିବା
- 2) Symbolic coding
ପ୍ରତୀକାତ୍ମକ କୋଡ଼ିଙ୍ଗ କରିବା
- 3) Structuring
ସଂରଚନାତ୍ମକ
- 4) Scaffolding
ଉଚ୍ଚତ ମଞ୍ଚ

Correct Answer: 4) Scaffolding
ଉଚ୍ଚତ ମଞ୍ଚ

Candidate Answer: 4) Scaffolding
ଉଚ୍ଚତ ମଞ୍ଚ

QID : 781 - ଏକ ପଦ୍ଧତିଗତ ଦୃଷ୍ଟିରୁ, ଭାଷା ଶିକ୍ଷଣ ସମ୍ପର୍କରେ _____ ର ବ୍ୟବହାରକୁ ପ୍ରାଧାନ୍ୟ ଦିଆଯିବା ଉଚିତ ।

Options:

- 1) ଆଚରଣଗତ ଦୃଷ୍ଟିକୋଣ
- 2) ନିର୍ଦ୍ଦେଶମୂଳକ ଦୃଷ୍ଟିକୋଣ
- 3) ଗଠନମୂଳକ ଦୃଷ୍ଟିକୋଣ
- 4) ବାର୍ତ୍ତାଳାପ ସମ୍ବନ୍ଧୀୟ ଦୃଷ୍ଟିକୋଣ

Correct Answer: 4) ବାର୍ତ୍ତାଳାପ ସମ୍ବନ୍ଧୀୟ ଦୃଷ୍ଟିକୋଣ

Candidate Answer: 2) ନିର୍ଦ୍ଦେଶମୂଳକ ଦୃଷ୍ଟିକୋଣ

QID : 782 - _____, _____, ଓ _____ କଳ୍ପନାର ଭାଷା ଉପରେ ଧ୍ୟାନ ଦିଆଯିବା ଉଚିତ ନୁହେଁ ।

Options:

- 1) ସାକ୍ଷରତା, ରଙ୍ଗ, ପଦ୍ୟ ସମ୍ବନ୍ଧୀୟ
- 2) ଅଞ୍ଜତା, ରଙ୍ଗ, ପଦ୍ୟ ସମ୍ବନ୍ଧୀୟ
- 3) ଅଞ୍ଜତା, ଗଦ୍ୟ ସମ୍ବନ୍ଧୀୟ, ସାକ୍ଷରତା
- 4) ସାକ୍ଷରତା, ପଦ୍ୟ ସମ୍ବନ୍ଧୀୟ, ଗଦ୍ୟ ସମ୍ବନ୍ଧୀୟ

Correct Answer: 1) ସାକ୍ଷରତା, ରଙ୍ଗ, ପଦ୍ୟ ସମ୍ବନ୍ଧୀୟ

Candidate Answer: 4) ସାକ୍ଷରତା, ପଦ୍ୟ ସମ୍ବନ୍ଧୀୟ, ଗଦ୍ୟ ସମ୍ବନ୍ଧୀୟ

QID : 783 - _____ କହୁଛନ୍ତି ଓ ଲେଖୁଛନ୍ତି କାରଣ ଶିକ୍ଷାର୍ଥୀମାନେ ଭାଷା ଉପରେ ଧ୍ୟାନ ଦେବା ପାଇଁ ଆବଶ୍ୟକ ହେଉଥିବା ଦକ୍ଷତାଗୁଡ଼ିକୁ ପ୍ରୟୋଗ କରୁଛନ୍ତି ।

Options:

- 1) ଲେଖିବା ଦକ୍ଷତା
- 2) ଭାଷା ଦକ୍ଷତା
- 3) କହିବା ଦକ୍ଷତା
- 4) ଉପସ୍ଥାପନ କରିବା ଦକ୍ଷତା

Correct Answer: 4) ଉପସ୍ଥାପନ କରିବା ଦକ୍ଷତା

Candidate Answer: 4) ଉପସ୍ଥାପନ କରିବା ଦକ୍ଷତା

QID : 784 - ଗ୍ରୀକରୁ ଆସିଥିବା ମେଟାଫର୍ ବା ଉପମା ଶବ୍ଦର ଅର୍ଥ ହେଉଛି _____ ।

Options:

- 1) ଜଳପଥ
- 2) ବିମାନ
- 3) ରେଳପଥ
- 4) ପରିବହନ

Correct Answer: 4) ପରିବହନ

Candidate Answer: 4) ପରିବହନ

QID : 785 - “ଏକ ପ୍ରକାଶ୍ୟ ଓ ସୁସ୍ପଷ୍ଟ ଉପାୟରେ କରାଯାଇଥିବା ଦୁଇଟି ଜିନିଷ (ପଦାର୍ଥ କିମ୍ବା ଘଟଣା) ମଧ୍ୟରେ ଏକ ତୁଳନା” ପାଇଁ କେଉଁ ଚର୍ମିନୋଲୋଜି ବ୍ୟବହୃତ ହୋଇଥାଏ ।

Options:

- 1) ତୁଳନା
- 2) ଉପମା
- 3) ସାଦୃଶ୍ୟ
- 4) ବ୍ୟକ୍ତିତ୍ୱଆରୋପ

Correct Answer: 1) ତୁଳନା

Candidate Answer: 4) ବ୍ୟକ୍ତିତ୍ୱଆରୋପ

QID : 786 - ଏକ _____ ହେଉଛି ଏକ ଉଦ୍ଦେଶ୍ୟ ହାସଲ କରିବା ପାଇଁ ଭାଷାର ବ୍ୟବହାର, ସାଧାରଣତଃ ଦୁଇ ଜଣ ଲୋକଙ୍କ ଭିତରେ ବାର୍ତ୍ତାଳାପକୁ ଜଡ଼ିତ କରିଥାଏ ।

Options:

- 1) ନୋସନ
- 2) ଫଙ୍କସନ
- 3) ଏକ୍ସପୋନେଣ୍ଟ
- 4) କୋଡ୍

Correct Answer: 2) ଫଳସନ

Candidate Answer: 1) ନୋସନ

QID : 787 - ନିମ୍ନଲିଖିତ ମଧ୍ୟରୁ କେଉଁଟି ପରୀକ୍ଷା ସମ୍ପର୍କରେ ପୋର୍ଟଫୋଲିଓର ଲାଭ କଣ ଅଟେ?

Options:

- 1) ପୋର୍ଟଫୋଲିଓ କ୍ଷେତ୍ରରେ ପ୍ରମାଣ ଅଣ-ବିପଦ ସୃଷ୍ଟିକାରୀ ଅବସ୍ଥାରେ ସଂଗ୍ରହ କରାଯାଇପାରେ ।
- 2) ପୋର୍ଟଫୋଲିଓ ପ୍ରମାଣ ମାଧ୍ୟମରେ ମୂଲ୍ୟାଙ୍କନ ବାସ୍ତବ ଦୁନିଆର ଚାକ୍ଷୁଷତ୍ୱକୁ ପ୍ରଦର୍ଶନରୁ ଉଦ୍ଧୃତ ହୋଇପାରେ ।
- 3) ପୋର୍ଟଫୋଲିଓ ସାମଗ୍ରିକ ଭାବେ ବିରାଟପତି ଶିକ୍ଷାର୍ଥୀଙ୍କୁ ବହୁତ ଭଲ ପ୍ରଦର୍ଶନ ପ୍ରଦାନ କରିଥାଏ ।
- 4) ଉପରୋକ୍ତ ସମସ୍ତ

Correct Answer: 4) ଉପରୋକ୍ତ ସମସ୍ତ

Candidate Answer: 4) ଉପରୋକ୍ତ ସମସ୍ତ

QID : 788 - ମୂଲ୍ୟାଙ୍କନର ବିକଳ ପ୍ରକାର ବ୍ୟବହାର କରିବାର ଉଦ୍ଦେଶ୍ୟ କଣ ଅଟେ?

Options:

- 1) ଶିକ୍ଷାର୍ଥୀଙ୍କ ଉତ୍ସାହ ବୃଦ୍ଧି କରିବା
- 2) ଶିକ୍ଷାର୍ଥୀଙ୍କ ମନୋଭାବ ବୃଦ୍ଧି କରିବା
- 3) ଶିକ୍ଷାର୍ଥୀଙ୍କ ପ୍ରେରଣା ବୃଦ୍ଧି କରିବା
- 4) ଉପରୋକ୍ତ ସମସ୍ତ

Correct Answer: 3) ଶିକ୍ଷାର୍ଥୀଙ୍କ ପ୍ରେରଣା ବୃଦ୍ଧି କରିବା

Candidate Answer: 4) ଉପରୋକ୍ତ ସମସ୍ତ

QID : 789 - ନିମ୍ନଲିଖିତ ମଧ୍ୟରୁ କେଉଁଟି ମୂଲ୍ୟାଙ୍କନ ପ୍ରକାର ଭାବେ ବିବେଚିତ ହୋଇଥାଏ?

Options:

- 1) ପରୀକ୍ଷା
- 2) ପୋର୍ଟଫୋଲିଓ
- 3) ମଞ୍ଜୁରୀ
- 4) ଉଭୟ (ପରୀକ୍ଷା) ଏବଂ (ପୋର୍ଟଫୋଲିଓ)

Correct Answer: 4) ଉଭୟ (ପରୀକ୍ଷା) ଏବଂ (ପୋର୍ଟଫୋଲିଓ)

Candidate Answer: 4) ଉଭୟ (ପରୀକ୍ଷା) ଏବଂ (ପୋର୍ଟଫୋଲିଓ)

QID : 790 - ନିମ୍ନଲିଖିତ ମଧ୍ୟରୁ କେଉଁଟି ପରୀକ୍ଷାରେ ଆବଶ୍ୟକ ହୋଇଥାଏ?

Options:

- 1) ମଞ୍ଜୁରୀ
- 2) ପୋର୍ଟଫୋଲିଓ
- 3) ଅତିଓରେ ରେକର୍ଡ଼ିଂଗୁଡ଼ିକ
- 4) ରଚନା

Correct Answer: 1) ମଞ୍ଜୁରୀ**Candidate Answer: 2)** ପୋର୍ଟଫୋଲିଓ**QID : 791** - କେଉଁ ପ୍ରକାରର ବାଚ୍ୟ ବା ସ୍ଥିର ସୂଚନା ପ୍ରଦାନ କରିଥାଏ?**Options:**

- 1) ପ୍ରଶ୍ନ
- 2) ଘୋଷଣା
- 3) କ୍ରମ
- 4) ଅନୁରୋଧ

Correct Answer: 2) ଘୋଷଣା**Candidate Answer: 2)** ଘୋଷଣା**QID : 792** - “ସୁତ:ଧର” ଯୋଡ଼ାରେ ବିପରୀତ ଶବ୍ଦର ପ୍ରକାର ଚିହ୍ନଟୁ ।**Options:**

- 1) ସାମଞ୍ଜସ୍ୟ
- 2) ଗ୍ରହେତ୍ବୁଲ୍
- 3) ବିପରୀତ
- 4) ଉପରୋକ୍ତ ମଧ୍ୟରୁ କେଉଁଟି ନୁହେଁ

Correct Answer: 2) ଗ୍ରହେତ୍ବୁଲ୍**Candidate Answer: 3)** ବିପରୀତ**QID : 793** - ନିମ୍ନରେ ଦିଆଯାଇଥିବା ପ୍ରକାର ଚିହ୍ନଟୁ । “ବାଲିକା ଜଣକ ମାରାଥନରେ ଦୌଡ଼ିଲେ, ଏବଂ ତାଙ୍କ ସମ୍ପର୍କୀୟ ଭାଇଭଉଣୀ ମଧ୍ୟ ଦୌଡ଼ିଲେ ।”**Options:**

- 1) ସରଳ ବାକ୍ୟ
- 2) ଯୌଗିକ ବାକ୍ୟ
- 3) ଜଟିଳ ବାକ୍ୟ
- 4) ଯୌଗିକ-ଜଟିଳ ବାକ୍ୟ

Correct Answer: 2) ଯୌଗିକ ବାକ୍ୟ

Candidate Answer: 3) ଜଟିଳ ବାକ୍ୟ

QID : 794 - ନିମ୍ନଲିଖିତ ବାକ୍ୟରେ ପ୍ରକାଶ କରାଯାଇଥିବା ଭାଷାର୍ଥ ସମ୍ପର୍କର ପ୍ରକାର କଣ ଅଟେ? “ଉଡ଼ାଣ 2048 ପହଞ୍ଚିଛି ଏବଂ ସକାଳ 8.00 ରେ ପ୍ରସ୍ଥାନ କରିଥାଏ ।”

Options:

- 1) ଅନୁଭୂତି
- 2) ବିପରୀତ
- 3) ଭାଷାନୁବାଦ
- 4) ଇନଟେଲମେଣ୍ଟ

Correct Answer: 2) ବିପରୀତ

Candidate Answer: 3) ଭାଷାନୁବାଦ

QID : 795 - ରାଧାନାଥ ରାଏଙ୍କ ସହ ଜଡ଼ିତ ଉପାଧି କଣ ଅଟେ?

Options:

- 1) ଫକିର
- 2) କବିବର
- 3) ମୋହନ
- 4) ମହାନ୍ତି

Correct Answer: 2) କବିବର

Candidate Answer: 2) କବିବର

QID : 796 - କିଏ ହେଉଛନ୍ତି ଜଣେ ଓଡ଼ିଆ ତଥା ବଙ୍ଗଳା ଲେଖକ?

Options:

- 1) ରାଧାନାଥ ରାଏ
- 2) ଗଙ୍ଗାଧର ମେହର
- 3) ଗୋପିନାଥ ମହାନ୍ତି
- 4) ଫକିର ମୋହନ ସେନାପତି

Correct Answer: 1) ରାଧାନାଥ ରାଏ

Candidate Answer: 2) ଗଙ୍ଗାଧର ମେହର

QID : 797 - ପ୍ରଥମ ଓଡ଼ିଆ କ୍ଷୁଦ୍ର ଗଳ୍ପର ନାମ କୁହନ୍ତୁ ।

Options:

- 1) ଆକାଶଦୀପ
- 2) ସଭ୍ୟ ଜମିଦାର
- 3) ରେବଡ଼ି
- 4) ତିନିରି ଫୁଲ

Correct Answer: 3) ରେବଡ଼ି**Candidate Answer: 3)** ରେବଡ଼ି**QID : 798** - 'ଅଜିବକରା ଅଜହାସ୍ୟ' ଉପନ୍ୟାସର ବିଷୟବସ୍ତୁ କଣ ଅଟେ ।**Options:**

- 1) ଜୈନ ଧର୍ମ ଉପରେ ଆଧାରିତ
- 2) ବୌଦ୍ଧ ଧର୍ମ ଉପରେ ଆଧାରିତ
- 3) ଶିଖ୍ ଧର୍ମ ଉପରେ ଆଧାରିତ
- 4) ହିନ୍ଦୁ ଧର୍ମ ଉପରେ ଆଧାରିତ

Correct Answer: 2) ବୌଦ୍ଧ ଧର୍ମ ଉପରେ ଆଧାରିତ**Candidate Answer: 1)** ଜୈନ ଧର୍ମ ଉପରେ ଆଧାରିତ**QID : 799** - ଶୂନ୍ୟସ୍ଥାନ ପୂରଣ କରନ୍ତୁ । _____ ପ୍ରଥମ କେନ୍ଦ୍ର ସାହିତ୍ୟ ଏକାଡେମୀ ପୁରସ୍କାରର ପ୍ରାପ୍ତେଷୁ ଥିଲେ ।**Options:**

- 1) ଗଙ୍ଗାଧର ମୋହର
- 2) ଫକିର ମୋହନ ସେନାପତି
- 3) ସୁରେନ୍ଦ୍ର ମହାନ୍ତି
- 4) ଗୋପିନାଥ ମହାନ୍ତି

Correct Answer: 3) ସୁରେନ୍ଦ୍ର ମହାନ୍ତି**Candidate Answer: 2)** ଫକିର ମୋହନ ସେନାପତି**QID : 800** - ଫକିର ମୋହନ ସେନାପତିଙ୍କ ଦ୍ଵାରା ରଚିତ ଉପନ୍ୟାସ 'ଲକ୍ଷ୍ମୀ'ର ବିଷୟବସ୍ତୁ କଣ ଅଟେ?**Options:**

- 1) ରାଜକୀୟ ସମାଜର ଐତିହାସିକ ପ୍ରଣୟ
- 2) ସାମାଜିକ ଜୀବନର ବାସ୍ତବତା
- 3) ପୌରାଣିକ
- 4) ପ୍ରକୃତି ପ୍ରେମୀ

Correct Answer: 1) ରାଜକୀୟ ସମାଜର ଐତିହାସିକ ପ୍ରଣୟ

Candidate Answer: 2) ସାମାଜିକ ଜୀବନର ବାସ୍ତବତା

QID : 801 - ତଳେ ଦିଆଯାଇଥିବା କବିତା ପଢ଼ି ପ୍ରଶ୍ନଗୁଡ଼ିକର ଉତ୍ତର ଦିଅନ୍ତୁ ସୂର୍ଯ୍ୟଙ୍କ କିରଣରେ ମୁଁ ହେବି ସବୁଠାରୁ ଆନନ୍ଦିତ!

ମୁଁ ଶହ ଶହ ଫୁଲକୁ ଛୁଇଁବି
ଆଉ ଗୋଟେ ବି ତୋଳିବି ନାହିଁ ।
ମୁଁ ଗୀରିଶୂଙ୍ଘ ଓ ବାଦଲକୁ ଦେଖିବି
ଶାନ୍ତ ନୟନରେ,
ଘାସରେ ପବନ ବହୁଥିବାର,
ଘସ ନଇଁ ଉଠିବାର ଦେଖିବି ।
ଆଉ ଯେତେବେଳେ ଆଲୋକ ଦେଖାଯିବ।
ଆରମ୍ଭ କରିବ ସହରରୁ,
ମୁଁ ସେହି ଜିନିଷକୁ ନିର୍ଦ୍ଦିଷ୍ଟ କରିବି ଯାହାକି ମୋର ହେବା ଉଚିତ,
ଆଉ ତାପରେ ଆରମ୍ଭ କରିବି!

କବି ଯେତେବେଳେ ଖୁସି ହେବେ କଣ କରିବେ?

Options:

- 1) ସେ ଫୁଲଗୁଡ଼ିକୁ ଛୁଇଁବେ
- 2) ସେ ଫୁଲ ତୋଳିବେ
- 3) ସେ ପବନ ସହ ଧାଇଁବେ
- 4) ସେ ଖରାରେ ଶୋଇ ରହିବେ

Correct Answer: 1) ସେ ଫୁଲଗୁଡ଼ିକୁ ଛୁଇଁବେ

Candidate Answer: 1) ସେ ଫୁଲଗୁଡ଼ିକୁ ଛୁଇଁବେ

QID : 802 - ତଳେ ଦିଆଯାଇଥିବା କବିତା ପଢ଼ି ପ୍ରଶ୍ନଗୁଡ଼ିକର ଉତ୍ତର ଦିଅନ୍ତୁ ସୂର୍ଯ୍ୟଙ୍କ କିରଣରେ ମୁଁ ହେବି ସବୁଠାରୁ ଆନନ୍ଦିତ!

ମୁଁ ଶହ ଶହ ଫୁଲକୁ ଛୁଇଁବି
ଆଉ ଗୋଟେ ବି ତୋଳିବି ନାହିଁ ।
ମୁଁ ଗୀରିଶୂଙ୍ଘ ଓ ବାଦଲକୁ ଦେଖିବି
ଶାନ୍ତ ନୟନରେ,
ଘାସରେ ପବନ ବହୁଥିବାର,
ଘସ ନଇଁ ଉଠିବାର ଦେଖିବି ।
ଆଉ ଯେତେବେଳେ ଆଲୋକ ଦେଖାଯିବ।
ଆରମ୍ଭ କରିବ ସହରରୁ,
ମୁଁ ସେହି ଜିନିଷକୁ ନିର୍ଦ୍ଦିଷ୍ଟ କରିବି ଯାହାକି ମୋର ହେବା ଉଚିତ,
ଆଉ ତାପରେ ଆରମ୍ଭ କରିବି!

କବି କଣ ଦେଖିବେ?

Options:

- 1) ପବନରେ ଘାସ ଉଠିବ
- 2) ଗୀରିଶୂଙ୍ଘ
- 3) ଆକାଶରେ ବାଦଲ
- 4) ଉପରୋକ୍ତ ସମସ୍ତ

Correct Answer: 4) ଉପରୋକ୍ତ ସମସ୍ତ

Candidate Answer: 4) ଉପରୋକ୍ତ ସମସ୍ତ

QID : 803 - ତଳେ ଦିଆଯାଇଥିବା କବିତା ପଢ଼ି ପ୍ରଶ୍ନଗୁଡ଼ିକର ଉତ୍ତର ଦିଅନ୍ତୁ ସୂର୍ଯ୍ୟଙ୍କ କିରଣରେ ମୁଁ ହେବି ସବୁଠାରୁ ଆନନ୍ଦିତ!

ମୁଁ ଶହ ଶହ ଫୁଲକୁ ଛୁଇଁବି
ଆଉ ଗୋଟେ ବି ତୋଳିବି ନାହିଁ ।
ମୁଁ ଗୀରିଶୂଙ୍ଘ ଓ ବାଦଲକୁ ଦେଖିବି
ଶାନ୍ତ ନୟନରେ,
ଘାସରେ ପବନ ବହୁଥିବାର,
ଘସ ନଇଁ ଉଠିବାର ଦେଖିବି ।
ଆଉ ଯେତେବେଳେ ଆଲୋକ ଦେଖାଯିବା
ଆରମ୍ଭ କରିବ ସହରରୁ,
ମୁଁ ସେହି ଜିନିଷକୁ ନିର୍ଦ୍ଦିଷ୍ଟ କରିବି ଯାହାକି ମୋର ହେବା ଉଚିତ,
ଆଉ ତାପରେ ଆରମ୍ଭ କରିବି!

ଶେଷ ପଂକ୍ତିରେ କବି କେଉଁ ଆଲୋକକୁ ପ୍ରସଙ୍ଗାୟିତ କରୁଛନ୍ତି?

Options:

- 1) ସୂର୍ଯ୍ୟକିରଣ
- 2) ସନ୍ଧ୍ୟାର ତାରାଙ୍କର ଆଲୋକ
- 3) ସନ୍ଧ୍ୟାରେ ସହରର ଆଲୋକ
- 4) କୁଡ଼ିଆରୁ ଲକ୍ଷନର ଆଲୋକ

Correct Answer: 3) ସନ୍ଧ୍ୟାରେ ସହରର ଆଲୋକ

Candidate Answer: 1) ସୂର୍ଯ୍ୟକିରଣ

QID : 804 - ତଳେ ଦିଆଯାଇଥିବା କବିତା ପଢ଼ି ପ୍ରଶ୍ନଗୁଡ଼ିକର ଉତ୍ତର ଦିଅନ୍ତୁ ସୂର୍ଯ୍ୟଙ୍କ କିରଣରେ ମୁଁ ହେବି ସବୁଠାରୁ ଆନନ୍ଦିତ!

ମୁଁ ଶହ ଶହ ଫୁଲକୁ ଛୁଇଁବି
ଆଉ ଗୋଟେ ବି ତୋଳିବି ନାହିଁ ।
ମୁଁ ଗୀରିଶୂଙ୍ଘ ଓ ବାଦଲକୁ ଦେଖିବି
ଶାନ୍ତ ନୟନରେ,
ଘାସରେ ପବନ ବହୁଥିବାର,
ଘସ ନଇଁ ଉଠିବାର ଦେଖିବି ।
ଆଉ ଯେତେବେଳେ ଆଲୋକ ଦେଖାଯିବା
ଆରମ୍ଭ କରିବ ସହରରୁ,
ମୁଁ ସେହି ଜିନିଷକୁ ନିର୍ଦ୍ଦିଷ୍ଟ କରିବି ଯାହାକି ମୋର ହେବା ଉଚିତ,
ଆଉ ତାପରେ ଆରମ୍ଭ କରିବି!

କବିତା ପାଠକମାନଙ୍କୁ କ'ଣ କହୁଛି?

Options:

- 1) ଯେଉଁ ଜିନିଷଗୁଡ଼ିକ ଆପଣଙ୍କୁ ତାପଗ୍ରସ୍ତ କରେ ସେଠାରୁ ରକ୍ଷା ପାଇ ଯିବା ଏବଂ ଯେଉଁଠି ଶାନ୍ତି ଏବଂ ନିଶ୍ଚିନ୍ତା ପ୍ରଦାନ କରେ ସେଠାକୁ ଯିବା ଭଲ
- 2) ପୃଥିବୀର ସୌନ୍ଦର୍ଯ୍ୟର ଆନନ୍ଦ ନେବାକୁ
- 3) ଦିନର ଶେଷରେ ଜଣକୁ ନିଜ ସ୍ଥାନକୁ ଫେରିବାକୁ ହେବ କିନ୍ତୁ ଜଣକୁ ସ୍ଥିରତା ଏବଂ ଶାନ୍ତିର ସହ ସମସ୍ୟାଗୁଡ଼ିକର ସାମ୍ନା କରିବାକୁ ହେବ ।
- 4) ଉପରୋକ୍ତ ମଧ୍ୟରୁ ସମସ୍ତ

Correct Answer: 4) ଉପରୋକ୍ତ ମଧ୍ୟରୁ ସମସ୍ତ

Candidate Answer: 4) ଉପରୋକ୍ତ ମଧ୍ୟରୁ ସମସ୍ତ

QID : 805 - ତଳେ ଦିଆଯାଇଥିବା କବିତା ପଢ଼ି ପ୍ରଶ୍ନଗୁଡ଼ିକର ଉତ୍ତର ଦିଅନ୍ତୁ ସୂର୍ଯ୍ୟଙ୍କ କିରଣରେ ମୁଁ ହେବି ସବୁଠାରୁ ଆନନ୍ଦିତ!

ମୁଁ ଶହ ଶହ ଫୁଲକୁ ଛୁଇଁବି
ଆଉ ଗୋଟେ ବି ତୋଳିବି ନାହିଁ ।
ମୁଁ ଗୀରିଶୃଙ୍ଗ ଓ ବାଦଲକୁ ଦେଖିବି
ଶାନ୍ତ ନୟନରେ,
ଘାସରେ ପବନ ବହୁଥିବାର,
ଘସ ନଇଁ ଉଠିବାର ଦେଖିବି ।
ଆଉ ଯେତେବେଳେ ଆଲୋକ ଦେଖାଯିବ
ଆରମ୍ଭ କରିବ ସହରରୁ,
ମୁଁ ସେହି ଜିନିଷକୁ ନିର୍ଦ୍ଦିଷ୍ଟ କରିବି ଯାହାକି ମୋର ହେବା ଉଚିତ,
ଆଉ ତାପରେ ଆରମ୍ଭ କରିବି!

କବି କେତେବେଳେ ପାହାଡ଼ ଛାଡ଼ିବେ?

Options:

- 1) କବି ଯେତେବେଳେ ନିଜ ଅଞ୍ଚଳ ଚିହ୍ନଟ କରିପାରିବେ ।
- 2) ଯେତେବେଳେ ଆକାଶ ଅନ୍ଧାରୁଆ ହୋଇଯିବ ।
- 3) ଯେତେବେଳେ ସହର କବିଙ୍କୁ ପ୍ରକୃତି ଠାରୁ ଚାଣି ନେବ ।
- 4) ଉପରୋକ୍ତ ମଧ୍ୟରୁ ସମସ୍ତ ।

Correct Answer: 4) ଉପରୋକ୍ତ ମଧ୍ୟରୁ ସମସ୍ତ ।

Candidate Answer: 1) କବି ଯେତେବେଳେ ନିଜ ଅଞ୍ଚଳ ଚିହ୍ନଟ କରିପାରିବେ ।

QID : 806 - ତଳେ ଦିଆଯାଇଥିବା ଅନୁଛେଦ ପଢ଼ି ପ୍ରଶ୍ନଗୁଡ଼ିକର ଉତ୍ତର ଦିଅନ୍ତୁ ନାଗଫେଣୀ ବା କାକଟସ୍ ହେଉଛି ଏକ ଉଦ୍ଭିଦ ଯାହା ଅତି ଗରମ, ଶୁଷ୍କ ସ୍ଥାନରେ ବଢ଼ିଥାଏ । ସେଗୁଡ଼ିକର ପତ୍ର ନଥାଏ । ତାହା ପରିବର୍ତ୍ତେ, ଛୁଞ୍ଚି ସଦୃଶ ମେରୁଦଣ୍ଡ ରହିଥାଏ ଯାହାକି ସେଗୁଡ଼ିକର କାଣ୍ଡରୁ ବାହାରିଥାଏ । କାକଟସ୍ ଅନେକ ଆକୃତିର ହୋଇଥାଏ । କିଛି ଛୋଟ ଓ ଗୋଲାକାର ହୋଇଥାଏ । ଅନ୍ୟଗୁଡ଼ିକ ସ୍ତମ୍ଭ କିମ୍ବା କାନ୍ଥ ପରି ତେଜା ହୋଇଥାଏ । କିଛି ଚକ ପରି ଆକୃତିର ହୋଇଥାଏ । କିଛି ଗଛ କିମ୍ବା ବୁଦା ପରି ହୋଇଥାଏ । ଅନ୍ୟଗୁଡ଼ିକ ଭୂଇଁରେ ମାଡ଼ି ହୋଇ ବଢ଼ିଥାଏ । କାକଟସ୍ ଫୁଲ ବଡ଼ ହୋଇଥାଏ, ଏବଂ ସେଗୁଡ଼ିକ ମଧ୍ୟରୁ କିଛି ରାତିରେ ଫୁଟିଥାଏ । ସେଗୁଡ଼ିକର ଫୁଲ ରାତିରେ ଫୁଟିଥାଏ କାରଣ ସେଗୁଡ଼ିକ ସେହି କାଟ କିମ୍ବା ଛୋଟ ପଶୁଙ୍କ ଦ୍ଵାରା ପରାଗଫଳ ହୋଇଥାଏ ଯେଉଁମାନେ ରାତିରେ ବାହାରକୁ ବାହାରି ଥାନ୍ତି । କାଟ ଓ ଛୋଟ ପଶୁମାନେ ଗୋଟିଏ କାକଟସ୍‌ରୁ ଅନ୍ୟ କାକଟସ୍‌କୁ ପରାଗରେଣୁ ବୋହି ନେଇଥାନ୍ତି । ଅଧିକାଂଶ କାକଟସ୍ ଉତ୍ତର ଓ ଦକ୍ଷିଣ ଆମେରିକାରେ ରହିଥାଏ । ଅନ୍ୟଗୁଡ଼ିକ ଆଫ୍ରିକା, ମାଡାଗାସ୍କର, ଓ ଶ୍ରୀଲଙ୍କାରେ ରହିଥାଏ । କାକଟସ୍‌ରେ ବହୁତ ବଡ଼ ପତ୍ର ନଥାଏ କାରଣ ବଡ଼ ପତ୍ର ବାଷ୍ପୀଭୂତ କରିବାକୁ ଅନୁମତି ଦେଇଥାଏ । କିଛି କାକଟସ୍ କାଣ୍ଡରେ ମହମ ପରି କୋଟିଂ ରହିଥାଏ, ଯାହା ଫଳରେ ପାଣି କାଣ୍ଡରୁ ମୂଳ ଯାଏଁ ବୋହିଥାଏ । ଅଧିକାଂଶ କାକଟସ୍‌ରେ ଲମ୍ବା ଚେର ରହିଥାଏ ପୃଷ୍ଠ ପର୍ଯ୍ୟନ୍ତ ବିସ୍ତୃତ ହୋଇପାରିବ ଫଳରେ ସେଗୁଡ଼ିକ ଯେତେବେଳେ ବର୍ଷା ହେବ ବହୁତ ପାଣି ଅବଶୋଷଣ କରିପାରିବ ।

କାକଟସ୍ ପ୍ରଧାନତଃ କେଉଁଠାରେ ଦେଖିବାକୁ ମିଳିଥାଏ?

Options:

- 1) ମାଡାଗାସ୍କର
- 2) ଦକ୍ଷିଣ ଆମେରିକା
- 3) ଉତ୍ତର ଆମେରିକା
- 4) ଉପରୋକ୍ତ ସମସ୍ତ

Correct Answer: 4) ଉପରୋକ୍ତ ସମସ୍ତ

Candidate Answer: 4) ଉପରୋକ୍ତ ସମସ୍ତ

QID : 807 - ତଳେ ଦିଆଯାଇଥିବା ଅନୁଛେଦ ପଢ଼ି ପ୍ରଶ୍ନଗୁଡ଼ିକର ଉତ୍ତର ଦିଅନ୍ତୁ ନାଗଫେଣୀ ବା କାକଟସ୍ ହେଉଛି ଏକ ଉଦ୍ଭିଦ ଯାହା ଅତି ଗରମ, ଶୁଷ୍କ ସ୍ଥାନରେ ବଢ଼ିଥାଏ । ସେଗୁଡ଼ିକର ପତ୍ର ନଥାଏ । ତାହା ପରିବର୍ତ୍ତେ, ଛୁଞ୍ଚି ସଦୃଶ ମେରୁଦଣ୍ଡ ରହିଥାଏ ଯାହାକି ସେଗୁଡ଼ିକର କାଣ୍ଡରୁ ବାହାରିଥାଏ । କାକଟସ୍ ଅନେକ ଆକୃତିର ହୋଇଥାଏ । କିଛି ଛୋଟ ଓ ଗୋଲାକାର ହୋଇଥାଏ । ଅନ୍ୟଗୁଡ଼ିକ ସ୍ତମ୍ଭ କିମ୍ବା କାଢ଼ ପରି ତେଜା ହୋଇଥାଏ । କିଛି ଚକ ପରି ଆକୃତିର ହୋଇଥାଏ । କିଛି ଗଛ କିମ୍ବା ବୁଦା ପରି ହୋଇଥାଏ । ଅନ୍ୟଗୁଡ଼ିକ ଭୂଇଁରେ ମାଡ଼ି ହୋଇ ବଢ଼ିଥାଏ । କାକଟସ୍ ଫୁଲ ବଡ଼ ହୋଇଥାଏ, ଏବଂ ସେଗୁଡ଼ିକ ମଧ୍ୟରୁ କିଛି ରାତିରେ ଫୁଟିଥାଏ । ସେଗୁଡ଼ିକର ଫୁଲ ରାତିରେ ଫୁଟିଥାଏ କାରଣ ସେଗୁଡ଼ିକ ସେହି କାଟ କିମ୍ବା ଛୋଟ ପଶୁଙ୍କ ଦ୍ଵାରା ପରାଗସମ୍ପନ୍ନ ହୋଇଥାଏ ଯେଉଁମାନେ ରାତିରେ ବାହାରକୁ ବାହାରି ଥାନ୍ତି । କାଟ ଓ ଛୋଟ ପଶୁମାନେ ଗୋଟିଏ କାକଟସ୍‌ରୁ ଅନ୍ୟ କାକଟସ୍‌କୁ ପରାଗରେଣୁ ବୋହି ନେଇଥାନ୍ତି । ଅଧିକାଂଶ କାକଟସ୍ ଉତ୍ତର ଓ ଦକ୍ଷିଣ ଆମେରିକାରେ ରହିଥାଏ । ଅନ୍ୟଗୁଡ଼ିକ ଆଫ୍ରିକା, ମାଡାଗାସ୍କର, ଓ ଶ୍ରୀଲଙ୍କାରେ ରହିଥାଏ । କାକଟସ୍‌ରେ ବହୁତ ବଡ଼ ପତ୍ର ନଥାଏ କାରଣ ବଡ଼ ପତ୍ର ବାଷ୍ପୀଭୂତ କରିବାକୁ ଅନୁମତି ଦେଇଥାଏ । କିଛି କାକଟସ୍‌ର କାଣ୍ଡରେ ମହମ ପରି କୋଟି ରହିଥାଏ, ଯାହା ଫଳରେ ପାଣି କାଣ୍ଡରୁ ମୂଳ ଯାଏଁ ବୋହିଥାଏ । ଅଧିକାଂଶ କାକଟସ୍‌ରେ ଲମ୍ବା ଚେର ରହିଥାଏ ପୃଷ୍ଠ ପର୍ଯ୍ୟନ୍ତ ବିସ୍ତୃତ ହୋଇପାରିବ ଫଳରେ ସେଗୁଡ଼ିକ ଯେତେବେଳେ ବର୍ଷା ହେବ ବହୁତ ପାଣି ଅବଶୋଷଣ କରିପାରିବ ।

କାକଟସ୍‌ର ପତ୍ର ପରିବର୍ତ୍ତେ କଣ ରହିଥାଏ?

Options:

- 1) ଛୁଞ୍ଚି ବା କଣ୍ଠା
- 2) ମୂଳ ବା ଚେର
- 3) ନଳୀ
- 4) ଫୁଲ

Correct Answer: 1) ଛୁଞ୍ଚି ବା କଣ୍ଠା

Candidate Answer: 1) ଛୁଞ୍ଚି ବା କଣ୍ଠା

QID : 808 - ତଳେ ଦିଆଯାଇଥିବା ଅନୁଛେଦ ପଢ଼ି ପ୍ରଶ୍ନଗୁଡ଼ିକର ଉତ୍ତର ଦିଅନ୍ତୁ ନାଗଫେଣୀ ବା କାକଟସ୍ ହେଉଛି ଏକ ଉଦ୍ଭିଦ ଯାହା ଅତି ଗରମ, ଶୁଷ୍କ ସ୍ଥାନରେ ବଢ଼ିଥାଏ । ସେଗୁଡ଼ିକର ପତ୍ର ନଥାଏ । ତାହା ପରିବର୍ତ୍ତେ, ଛୁଞ୍ଚି ସଦୃଶ ମେରୁଦଣ୍ଡ ରହିଥାଏ ଯାହାକି ସେଗୁଡ଼ିକର କାଣ୍ଡରୁ ବାହାରିଥାଏ । କାକଟସ୍ ଅନେକ ଆକୃତିର ହୋଇଥାଏ । କିଛି ଛୋଟ ଓ ଗୋଲାକାର ହୋଇଥାଏ । ଅନ୍ୟଗୁଡ଼ିକ ସ୍ତମ୍ଭ କିମ୍ବା କାଢ଼ ପରି ତେଜା ହୋଇଥାଏ । କିଛି ଚକ ପରି ଆକୃତିର ହୋଇଥାଏ । କିଛି ଗଛ କିମ୍ବା ବୁଦା ପରି ହୋଇଥାଏ । ଅନ୍ୟଗୁଡ଼ିକ ଭୂଇଁରେ ମାଡ଼ି ହୋଇ ବଢ଼ିଥାଏ । କାକଟସ୍ ଫୁଲ ବଡ଼ ହୋଇଥାଏ, ଏବଂ ସେଗୁଡ଼ିକ ମଧ୍ୟରୁ କିଛି ରାତିରେ ଫୁଟିଥାଏ । ସେଗୁଡ଼ିକର ଫୁଲ ରାତିରେ ଫୁଟିଥାଏ କାରଣ ସେଗୁଡ଼ିକ ସେହି କାଟ କିମ୍ବା ଛୋଟ ପଶୁଙ୍କ ଦ୍ଵାରା ପରାଗସମ୍ପନ୍ନ ହୋଇଥାଏ ଯେଉଁମାନେ ରାତିରେ ବାହାରକୁ ବାହାରି ଥାନ୍ତି । କାଟ ଓ ଛୋଟ ପଶୁମାନେ ଗୋଟିଏ କାକଟସ୍‌ରୁ ଅନ୍ୟ କାକଟସ୍‌କୁ ପରାଗରେଣୁ ବୋହି ନେଇଥାନ୍ତି । ଅଧିକାଂଶ କାକଟସ୍ ଉତ୍ତର ଓ ଦକ୍ଷିଣ ଆମେରିକାରେ ରହିଥାଏ । ଅନ୍ୟଗୁଡ଼ିକ ଆଫ୍ରିକା, ମାଡାଗାସ୍କର, ଓ ଶ୍ରୀଲଙ୍କାରେ ରହିଥାଏ । କାକଟସ୍‌ରେ ବହୁତ ବଡ଼ ପତ୍ର ନଥାଏ କାରଣ ବଡ଼ ପତ୍ର ବାଷ୍ପୀଭୂତ କରିବାକୁ ଅନୁମତି ଦେଇଥାଏ । କିଛି କାକଟସ୍‌ର କାଣ୍ଡରେ ମହମ ପରି କୋଟି ରହିଥାଏ, ଯାହା ଫଳରେ ପାଣି କାଣ୍ଡରୁ ମୂଳ ଯାଏଁ ବୋହିଥାଏ । ଅଧିକାଂଶ କାକଟସ୍‌ରେ ଲମ୍ବା ଚେର ରହିଥାଏ ପୃଷ୍ଠ ପର୍ଯ୍ୟନ୍ତ ବିସ୍ତୃତ ହୋଇପାରିବ ଫଳରେ ସେଗୁଡ଼ିକ ଯେତେବେଳେ ବର୍ଷା ହେବ ବହୁତ ପାଣି ଅବଶୋଷଣ କରିପାରିବ ।

ଏକ କାକଟସ୍‌ରେ ଥିବା ବୈଶିଷ୍ଟ୍ୟଗୁଡ଼ିକ ଚିହ୍ନଟୁ ଯାହା ଜଳ ପ୍ରତିଧାରଣ ଓ ଅବଶୋଷଣରେ ସହାୟତା କରିଥାଏ ।

Options:

- 1) ମୋଟା ମହମଯୁକ୍ତ କ୍ୟୁଟିକଲ୍‌
- 2) ଲମ୍ବା ଚେର
- 3) ପତ୍ର ପରିବର୍ତ୍ତେ ମେରୁଦଣ୍ଡ
- 4) ଉପରୋକ୍ତ ସମସ୍ତ

Correct Answer: 4) ଉପରୋକ୍ତ ସମସ୍ତ

Candidate Answer: 2) ଲମ୍ବା ଚେର

QID : 809 - ତଳେ ଦିଆଯାଇଥିବା ଅନୁଲେଦ ପଢ଼ି ପ୍ରଶ୍ନଗୁଡ଼ିକର ଉତ୍ତର ଦିଅନ୍ତୁ ନାଗଫେଣୀ ବା କାକଟସ୍ ହେଉଛି ଏକ ଉଦ୍ଭିଦ ଯାହା ଅତି ଗରମ, ଶୁଷ୍କ ସ୍ଥାନରେ ବଢ଼ିଥାଏ । ସେଗୁଡ଼ିକର ପତ୍ର ନଥାଏ । ତାହା ପରିବର୍ତ୍ତେ, ଛୁଞ୍ଚି ସଦୃଶ ମେରୁଦଣ୍ଡ ରହିଥାଏ ଯାହାକି ସେଗୁଡ଼ିକର କାଣ୍ଡରୁ ବାହାରିଥାଏ । କାକଟସ୍ ଅନେକ ଆକୃତିର ହୋଇଥାଏ । କିଛି ଛୋଟ ଓ ଗୋଲାକାର ହୋଇଥାଏ । ଅନ୍ୟଗୁଡ଼ିକ ସ୍ତମ୍ଭ କିମ୍ବା କାନ୍ଥ ପରି ତେଜା ହୋଇଥାଏ । କିଛି ଚକ ପରି ଆକୃତିର ହୋଇଥାଏ । କିଛି ଗଛ କିମ୍ବା ବୁଦା ପରି ହୋଇଥାଏ । ଅନ୍ୟଗୁଡ଼ିକ ଭୂଇଁରେ ମାଡ଼ି ହୋଇ ବଢ଼ିଥାଏ । କାକଟସ୍ ଫୁଲ ବଡ଼ ହୋଇଥାଏ, ଏବଂ ସେଗୁଡ଼ିକ ମଧ୍ୟରୁ କିଛି ରାତିରେ ଫୁଟିଥାଏ । ସେଗୁଡ଼ିକର ଫୁଲ ରାତିରେ ଫୁଟିଥାଏ କାରଣ ସେଗୁଡ଼ିକ ସେହି କାଟ କିମ୍ବା ଛୋଟ ପଶୁଙ୍କ ଦ୍ଵାରା ପରାଗକ୍ଷମ ହୋଇଥାଏ ଯେଉଁମାନେ ରାତିରେ ବାହାରକୁ ବାହାରି ଥାନ୍ତି । କାଟ ଓ ଛୋଟ ପଶୁମାନେ ଗୋଟିଏ କାକଟସ୍‌ରୁ ଅନ୍ୟ କାକଟସ୍‌କୁ ପରାଗରେଣୁ ବୋହି ନେଇଥାନ୍ତି । ଅଧିକାଂଶ କାକଟସ୍ ଉତ୍ତର ଓ ଦକ୍ଷିଣ ଆମେରିକାରେ ରହିଥାଏ । ଅନ୍ୟଗୁଡ଼ିକ ଆଫ୍ରିକା, ମାଡାଗାସ୍କର, ଓ ଶ୍ରୀଲଙ୍କାରେ ରହିଥାଏ । କାକଟସ୍‌ରେ ବହୁତ ବଡ଼ ପତ୍ର ନଥାଏ କାରଣ ବଡ଼ ପତ୍ର ବାଷ୍ପୀଭୂତ କରିବାକୁ ଅନୁମତି ଦେଇଥାଏ । କିଛି କାକଟସ୍ କାଣ୍ଡରେ ମହମ ପରି କୋଟି ରହିଥାଏ, ଯାହା ଫଳରେ ପାଣି କାଣ୍ଡରୁ ମୂଳ ଯାଏଁ ବୋହିଥାଏ । ଅଧିକାଂଶ କାକଟସ୍‌ରେ ଲମ୍ବା ଚେର ରହିଥାଏ ପୃଷ୍ଠ ପର୍ଯ୍ୟନ୍ତ ବିସ୍ତୃତ ହୋଇପାରିବ ଫଳରେ ସେଗୁଡ଼ିକ ଯେତେବେଳେ ବର୍ଷା ହେବ ବହୁତ ପାଣି ଅବଶୋଷଣ କରିପାରିବ ।

ନିମ୍ନୋକ୍ତ ମଧ୍ୟରୁ କେଉଁଟି ସପ୍ତଫେଣୀର ଆକୃତି ନୁହେଁ?

Options:

- 1) ନଳୀ ପରି ସଂରଚନା
- 2) ଅଣ୍ଟାକୃତି ସଂରଚନା
- 3) ଘଣ୍ଟି ଆକୃତିର ସଂରଚନା
- 4) ତେଜା ଏବଂ ଗୋଲାକାର

Correct Answer: 4) ତେଜା ଏବଂ ଗୋଲାକାର

Candidate Answer: 3) ଘଣ୍ଟି ଆକୃତିର ସଂରଚନା

QID : 810 - ତଳେ ଦିଆଯାଇଥିବା ଅନୁଲେଦ ପଢ଼ି ପ୍ରଶ୍ନଗୁଡ଼ିକର ଉତ୍ତର ଦିଅନ୍ତୁ ନାଗଫେଣୀ ବା କାକଟସ୍ ହେଉଛି ଏକ ଉଦ୍ଭିଦ ଯାହା ଅତି ଗରମ, ଶୁଷ୍କ ସ୍ଥାନରେ ବଢ଼ିଥାଏ । ସେଗୁଡ଼ିକର ପତ୍ର ନଥାଏ । ତାହା ପରିବର୍ତ୍ତେ, ଛୁଞ୍ଚି ସଦୃଶ ମେରୁଦଣ୍ଡ ରହିଥାଏ ଯାହାକି ସେଗୁଡ଼ିକର କାଣ୍ଡରୁ ବାହାରିଥାଏ । କାକଟସ୍ ଅନେକ ଆକୃତିର ହୋଇଥାଏ । କିଛି ଛୋଟ ଓ ଗୋଲାକାର ହୋଇଥାଏ । ଅନ୍ୟଗୁଡ଼ିକ ସ୍ତମ୍ଭ କିମ୍ବା କାନ୍ଥ ପରି ତେଜା ହୋଇଥାଏ । କିଛି ଚକ ପରି ଆକୃତିର ହୋଇଥାଏ । କିଛି ଗଛ କିମ୍ବା ବୁଦା ପରି ହୋଇଥାଏ । ଅନ୍ୟଗୁଡ଼ିକ ଭୂଇଁରେ ମାଡ଼ି ହୋଇ ବଢ଼ିଥାଏ । କାକଟସ୍ ଫୁଲ ବଡ଼ ହୋଇଥାଏ, ଏବଂ ସେଗୁଡ଼ିକ ମଧ୍ୟରୁ କିଛି ରାତିରେ ଫୁଟିଥାଏ । ସେଗୁଡ଼ିକର ଫୁଲ ରାତିରେ ଫୁଟିଥାଏ କାରଣ ସେଗୁଡ଼ିକ ସେହି କାଟ କିମ୍ବା ଛୋଟ ପଶୁଙ୍କ ଦ୍ଵାରା ପରାଗକ୍ଷମ ହୋଇଥାଏ ଯେଉଁମାନେ ରାତିରେ ବାହାରକୁ ବାହାରି ଥାନ୍ତି । କାଟ ଓ ଛୋଟ ପଶୁମାନେ ଗୋଟିଏ କାକଟସ୍‌ରୁ ଅନ୍ୟ କାକଟସ୍‌କୁ ପରାଗରେଣୁ ବୋହି ନେଇଥାନ୍ତି । ଅଧିକାଂଶ କାକଟସ୍ ଉତ୍ତର ଓ ଦକ୍ଷିଣ ଆମେରିକାରେ ରହିଥାଏ । ଅନ୍ୟଗୁଡ଼ିକ ଆଫ୍ରିକା, ମାଡାଗାସ୍କର, ଓ ଶ୍ରୀଲଙ୍କାରେ ରହିଥାଏ । କାକଟସ୍‌ରେ ବହୁତ ବଡ଼ ପତ୍ର ନଥାଏ କାରଣ ବଡ଼ ପତ୍ର ବାଷ୍ପୀଭୂତ କରିବାକୁ ଅନୁମତି ଦେଇଥାଏ । କିଛି କାକଟସ୍ କାଣ୍ଡରେ ମହମ ପରି କୋଟି ରହିଥାଏ, ଯାହା ଫଳରେ ପାଣି କାଣ୍ଡରୁ ମୂଳ ଯାଏଁ ବୋହିଥାଏ । ଅଧିକାଂଶ କାକଟସ୍‌ରେ ଲମ୍ବା ଚେର ରହିଥାଏ ପୃଷ୍ଠ ପର୍ଯ୍ୟନ୍ତ ବିସ୍ତୃତ ହୋଇପାରିବ ଫଳରେ ସେଗୁଡ଼ିକ ଯେତେବେଳେ ବର୍ଷା ହେବ ବହୁତ ପାଣି ଅବଶୋଷଣ କରିପାରିବ ।

ଫୁଲଗୁଡ଼ିକ ରାତିରେ କାହିଁକି ଫୁଟନ୍ତି?

Options:

- 1) କାଟମାନେ ଫୁଲମାନଙ୍କର ପରାଗ ସଂଗ୍ରହରେ ସାହାଯ୍ୟ କରନ୍ତି ।
- 2) ଫୁଲଗୁଡ଼ିକ ବଡ଼ ।
- 3) ସପ୍ତଫେଣୀ ଫୁଲ ରାତିରେ ଫୁଟେ ।
- 4) ଉତ୍ତମ (କାଟମାନେ ଫୁଲମାନଙ୍କର ପରାଗ ସଂଗ୍ରହରେ ସାହାଯ୍ୟ କରନ୍ତି ।) ଏବଂ (ସପ୍ତଫେଣୀ ଫୁଲ ରାତିରେ ଫୁଟେ ।)

Correct Answer: 2) ଫୁଲଗୁଡ଼ିକ ବଡ଼ ।

Candidate Answer: 4) ଉଭୟ (କାର୍ତ୍ତମାନେ ଫୁଲମାନଙ୍କର ପରାଗ ସଂଗ୍ରହରେ ସାହାଯ୍ୟ କରନ୍ତି ।) ଏବଂ (ସପ୍ତଫେଣୀ ଫୁଲ ରାତିରେ ଫୁଟେ ।)

QID : 811 - The sentence below has been divided into three parts. Select the part of the sentence that has an error. If the sentence has no error, select the option 'No Error'.

The waiter/ waited at/ my tables.

Options:

- 1) The waiter
- 2) waited at
- 3) my tables.
- 4) No error

Correct Answer: 3) my tables.

Candidate Answer: 2) waited at

QID : 812 - Select the word segment that substitutes (replaces) the bracketed word segment correctly and completes the sentence meaningfully.

(I had studied all night), I would have aced my tests.

Options:

- 1) Would I have studied all night.
- 2) have I studied all night
- 3) Had I studied all night
- 4) Did I study all night

Correct Answer: 3) Had I studied all night

Candidate Answer: 3) Had I studied all night

QID : 813 - Choose the right passive sentence for this active sentence:

I will be working on the project.

Options:

- 1) The project will worked by me.
- 2) The project was worked on by me.
- 3) The project is going to be worked upon by me.
- 4) On the project I will be working.

Correct Answer: 3) The project is going to be worked upon by me.

Candidate Answer: 3) The project is going to be worked upon by me.

QID : 814 - Select the most appropriate word that fills in the blank correctly and completes the sentence meaningfully.

We did not have _____ slightest idea that he was a thief.

Options:

- 1) a
- 2) the
- 3) an
- 4) none of the others

Correct Answer: 2) the

Candidate Answer: 2) the

QID : 815 - Select the most appropriate word that fills in the blank correctly and completes the sentence meaningfully.

The cat climbed _____ the wall.

Options:

- 1) up/on
- 2) upon/over
- 3) up/over
- 4) over/into

Correct Answer: 1) up/on

Candidate Answer: 1) up/on

QID : 816 - Select the word that is closest in meaning (SYNONYM) to the word given below.

Irrelevant

Options:

- 1) Arduous
- 2) Reluctant
- 3) Unrelated
- 4) Unidentified

Correct Answer: 3) Unrelated

Candidate Answer: 3) Unrelated

QID : 817 - Select the word that is opposite in meaning (ANTONYM) to the word given below.

Release

Options:

- 1) Relinquish
- 2) Relieve
- 3) Captive
- 4) Rigorous

Correct Answer: 3) Captive

Candidate Answer: 3) Captive

QID : 818 - Select the word that is spelled correctly.

Options:

- 1) Auspicious
- 2) Auspitious
- 3) Auspisious
- 4) Auspictious

Correct Answer: 1) Auspicious

Candidate Answer: 1) Auspicious

QID : 819 - Select the most appropriate 'one word ' for the expressions given below.

Accorded a great deal of respect, especially because of age, wisdom, or character

Options:

- 1) Venerable
- 2) Supreme
- 3) Detest
- 4) Demean

Correct Answer: 1) Venerable

Candidate Answer: 3) Detest

QID : 820 - Select the most appropriate meaning of the given idiom with a similar Idiom.

Piece of cake

Options:

- 1) Extremely difficult
- 2) Something which is very simple
- 3) Intuition for something dangerous
- 4) Invitation for birthday

Correct Answer: 2) Something which is very simple

Candidate Answer: 4) Invitation for birthday

QID : 821 - When a teacher engages a class in role play, what are they usually assessing?

Options:

- 1) Assessment of reading
- 2) Assessment of writing
- 3) Assessment of listening and speaking
- 4) Assessment of personality

Correct Answer: 3) Assessment of listening and speaking

Candidate Answer: 4) Assessment of personality

QID : 822 - While assessing a child's written work, which one of the following should not be focused on?

Options:

- 1) Fluency
- 2) Content
- 3) Accuracy
- 4) Symbolism

Correct Answer: 4) Symbolism

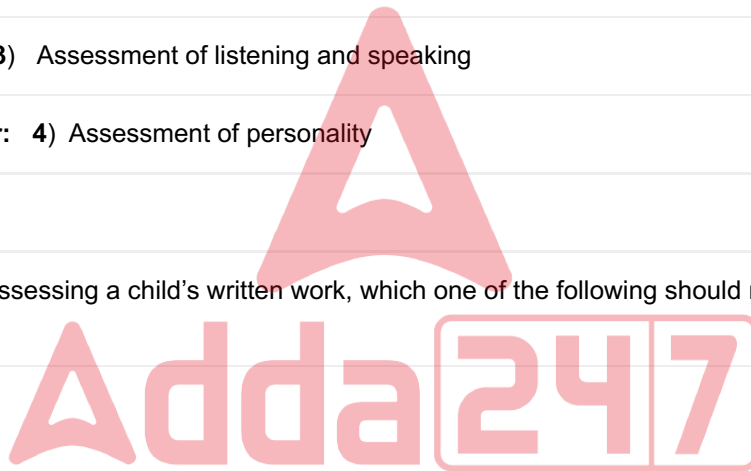
Candidate Answer: 2) Content

QID : 823 - Which of the following exercises focuses mainly on testing the vocabulary?

Options:

- 1) Match the following
- 2) True or False
- 3) Transformation
- 4) Multiple Choices

Correct Answer: 1) Match the following



Candidate Answer: 1) Match the following

QID : 824 - The exercise in which a child is given a text in which the every nth word is deleted, and is asked to complete the text by filling in the deleted words is known as _____.

Options:

- 1) Dictation
- 2) Translation
- 3) Rewriting
- 4) The Close Procedure

Correct Answer: 4) The Close Procedure

Candidate Answer: 3) Rewriting

QID : 825 - The process of giving grades or marks for a child's work is known as _____.

Options:

- 1) Recording
- 2) Assessing
- 3) Reporting
- 4) Closing

Correct Answer: 3) Reporting

Candidate Answer: 4) Closing

QID : 826 - Among the following assessments, which one of these does not help in process of Learning?

Options:

- 1) Scolding the child
- 2) Identifying the strengths of a child
- 3) Using anecdotal records
- 4) Providing timely inputs or interventions

Correct Answer: 1) Scolding the child

Candidate Answer: 2) Identifying the strengths of a child

QID : 827 - Which of the following is not essential for Language learning curriculum?

Options:

- 1) Making the class contextual
- 2) Following age appropriate pedagogy
- 3) Allowing children to discuss or talk while performing activities
- 4) Not allowing the children to get creative with their thoughts

Correct Answer: 4) Not allowing the children to get creative with their thoughts

Candidate Answer: 4) Not allowing the children to get creative with their thoughts

QID : 828 - The Smart board is a type of _____.

Options:

- 1) Visual – Activity aid
- 2) Hearing aid
- 3) Video – Audio visual aid
- 4) Speaking aid

Correct Answer: 3) Video – Audio visual aid

Candidate Answer: 1) Visual – Activity aid

QID : 829 - Which of the following is not a Learning – Teaching strategy in the case of learning English as a second language?

Options:

- 1) Confidence session
- 2) Fair play
- 3) Self and peer correction
- 4) Trouble-shooting session

Correct Answer: 2) Fair play

Candidate Answer: 3) Self and peer correction

QID : 830 - Among the following, which one of these is a characteristic of Pair Work?

Options:

- 1) Preparing learners for group work
- 2) Bringing a wider variety of language experiences in a classroom
- 3) Helping students in playing imaginary characters in a given situation
- 4) Providing an opportunity to use language, as used in real life circumstances

Correct Answer: 1) Preparing learners for group work

Candidate Answer: 1) Preparing learners for group work

QID : 831 - Read the passage carefully and answer the questions that follow choosing the correct alternatives.

The Khajuraho Group of Monuments is a group of Hindu temples and Jain temples in Chhatarpur district, Madhya Pradesh, India, about 175 kilometres southeast of Jhansi. They are a UNESCO World Heritage Site. The temples are famous for their nagara-style architectural symbolism and their erotic sculptures.

Most Khajuraho temples were built between 950 and 1050 by the Chandela dynasty. Historical records note that the Khajuraho temple site had 85 temples by the 12th century, spread over 20 square kilometres. Of these, only about 25 temples have survived, spread over six square kilometers. Of the surviving temples, the Kandariya Mahadeva Temple is decorated with a profusion of sculptures with intricate details, symbolism and expressiveness of ancient Indian art. The Khajuraho group of temples were built together but were dedicated to two religions, Hinduism and Jainism, suggesting a tradition of acceptance and respect for diverse religious views among Hindus and Jains in the region. The 10th-century Bhand Deva Temple in Rajasthan was built in the style of the Khajuraho monuments and is often referred to as 'Little Khajuraho'.

The temple site is within Vindhya mountain range in central India. An ancient local legend held that Hindu deity Shiva and other gods enjoyed visiting the dramatic hill formation in Kalinjar area. The centre of this region is Khajuraho, set amidst local hills and rivers. The temple complex reflects the ancient Hindu tradition of building temples where gods love to pray.

The temples are clustered near water, another typical feature of Hindu temples. The current water bodies include Sib Sagar, Khajur Sagar (also called Ninora Tal) and Khudar Nadi (river). Local legends state that the temple complex had 64 water bodies, of which 56 have been physically identified by archaeologists so far.

All temples, except one (Chaturbhuj) face sunrise - another symbolic feature that is predominant in Hindu temples. The relative layout of temples integrate masculine and feminine deities and symbols highlight the interdependence. The artwork symbolically highlight the four goals of life considered necessary and proper in Hinduism - dharma, kama, artha and moksha. Of the surviving temples, six are dedicated to Shiva and his consorts, eight to Vishnu and his affinities, one to Ganesha, one to Sun god, three to Jain Tirthankars. For some ruins, there is insufficient evidence to assign the temple to specific deities with confidence.

An overall examination of site suggests that the Hindu symbolic mandala design principle of square and circles is present each temple plan and design. Further, the territory is laid out in three triangles that converge to form a pentagon. Scholars suggest that this reflects the Hindu symbolism for three realms or trilokinatha, and five cosmic substances or panchbhuteshvara. The temple site highlights Shiva, the one who destroys and recycles life, thereby controlling the cosmic dance of time, evolution and dissolution.

The Khajuraho temples are dedicated to which 2 religions?

Options:

- 1) Hinduism and Jainism
- 2) Hinduism and Buddhism
- 3) Buddhism and Jainism
- 4) Jainism and Sikhism

Correct Answer: 1) Hinduism and Jainism

Candidate Answer: 1) Hinduism and Jainism

QID : 832 - Read the passage carefully and answer the questions that follow choosing the correct alternatives.

The Khajuraho Group of Monuments is a group of Hindu temples and Jain temples in Chhatarpur district, Madhya Pradesh, India, about 175 kilometres southeast of Jhansi. They are a UNESCO World Heritage Site. The temples are famous for their nagara-style architectural symbolism and their erotic sculptures.

Most Khajuraho temples were built between 950 and 1050 by the Chandela dynasty. Historical records note that the Khajuraho temple site had 85 temples by the 12th century, spread over 20 square kilometres. Of these, only about 25 temples have survived, spread over six square kilometres. Of the surviving temples, the Kandariya Mahadeva Temple is decorated with a profusion of sculptures with intricate details, symbolism and expressiveness of ancient Indian art. The Khajuraho group of temples were built together but were dedicated to two religions, Hinduism and Jainism, suggesting a tradition of acceptance and respect for diverse religious views among Hindus and Jains in the region. The 10th-century Bhand Deva Temple in Rajasthan was built in the style of the Khajuraho monuments and is often referred to as 'Little Khajuraho'.

The temple site is within Vindhya mountain range in central India. An ancient local legend held that Hindu deity Shiva and other gods enjoyed visiting the dramatic hill formation in Kalinjar area. The centre of this region is Khajuraho, set amidst local hills and rivers. The temple complex reflects the ancient Hindu tradition of building temples where gods love to pray.

The temples are clustered near water, another typical feature of Hindu temples. The current water bodies include Sib Sagar, Khajur Sagar (also called Ninora Tal) and Khudar Nadi (river). Local legends state that the temple complex had 64 water bodies, of which 56 have been physically identified by archaeologists so far.

All temples, except one (Chaturbhuja) face sunrise - another symbolic feature that is predominant in Hindu temples. The relative layout of temples integrate masculine and feminine deities and symbols highlight the interdependence. The artwork symbolically highlight the four goals of life considered necessary and proper in Hinduism - dharma, kama, artha and moksha. Of the surviving temples, six are dedicated to Shiva and his consorts, eight to Vishnu and his affinities, one to Ganesha, one to Sun god, three to Jain Tirthankars. For some ruins, there is insufficient evidence to assign the temple to specific deities with confidence.

An overall examination of site suggests that the Hindu symbolic mandala design principle of square and circles is present each temple plan and design. Further, the territory is laid out in three triangles that converge to form a pentagon. Scholars suggest that this reflects the Hindu symbolism for three realms or trilokinatha, and five cosmic substances or panchbhuteshvara. The temple site highlights Shiva, the one who destroys and recycles life, thereby controlling the cosmic dance of time, evolution and dissolution.

Which of these is not a water body located near the Khajuraho Temples?

Options:

- 1) Sib Sagar
- 2) Ganga Nadi
- 3) Khajur Sagar
- 4) Khudar Nadi

Correct Answer: 2) Ganga Nadi

Candidate Answer: 2) Ganga Nadi

QID : 833 - Read the passage carefully and answer the questions that follow choosing the correct alternatives.

The Khajuraho Group of Monuments is a group of Hindu temples and Jain temples in Chhatarpur district, Madhya Pradesh, India, about 175 kilometres southeast of Jhansi. They are a UNESCO World Heritage Site. The temples are famous for their nagara-style architectural symbolism and their erotic sculptures.

Most Khajuraho temples were built between 950 and 1050 by the Chandela dynasty. Historical records note that the Khajuraho temple site had 85 temples by the 12th century, spread over 20 square kilometres. Of these, only about 25 temples have survived, spread over six square kilometers. Of the surviving temples, the Kandariya Mahadeva Temple is decorated with a profusion of sculptures with intricate details, symbolism and expressiveness of ancient Indian art. The Khajuraho group of temples were built together but were dedicated to two religions, Hinduism and Jainism, suggesting a tradition of acceptance and respect for diverse religious views among Hindus and Jains in the region. The 10th-century Bhand Deva Temple in Rajasthan was built in the style of the Khajuraho monuments and is often referred to as 'Little Khajuraho'.

The temple site is within Vindhya mountain range in central India. An ancient local legend held that Hindu deity Shiva and other gods enjoyed visiting the dramatic hill formation in Kalinjar area. The centre of this region is Khajuraho, set amidst local hills and rivers. The temple complex reflects the ancient Hindu tradition of building temples where gods love to pray.

The temples are clustered near water, another typical feature of Hindu temples. The current water bodies include Sib Sagar, Khajur Sagar (also called Ninora Tal) and Khudar Nadi (river). Local legends state that the temple complex had 64 water bodies, of which 56 have been physically identified by archaeologists so far.

All temples, except one (Chaturbhuj) face sunrise - another symbolic feature that is predominant in Hindu temples. The relative layout of temples integrate masculine and feminine deities and symbols highlight the interdependence. The artwork symbolically highlight the four goals of life considered necessary and proper in Hinduism - dharma, kama, artha and moksha. Of the surviving temples, six are dedicated to Shiva and his consorts, eight to Vishnu and his affinities, one to Ganesha, one to Sun god, three to Jain Tirthankars. For some ruins, there is insufficient evidence to assign the temple to specific deities with confidence.

An overall examination of site suggests that the Hindu symbolic mandala design principle of square and circles is present in each temple plan and design. Further, the territory is laid out in three triangles that converge to form a pentagon. Scholars suggest that this reflects the Hindu symbolism for three realms or trilokinatha, and five cosmic substances or panchbhuteshvara. The temple site highlights Shiva, the one who destroys and recycles life, thereby controlling the cosmic dance of time, evolution and dissolution.

How many of the Khajuraho temples are dedicated to Jain Tirthankaras?

Options:

- 1) one
- 2) two
- 3) four
- 4) three

Correct Answer: 4) three

Candidate Answer: 4) three

QID : 834 - Read the passage carefully and answer the questions that follow choosing the correct alternatives.

The Khajuraho Group of Monuments is a group of Hindu temples and Jain temples in Chhatarpur district, Madhya Pradesh, India, about 175 kilometres southeast of Jhansi. They are a UNESCO World Heritage Site. The temples are famous for their nagara-style architectural symbolism and their erotic sculptures.

Most Khajuraho temples were built between 950 and 1050 by the Chandela dynasty. Historical records note that the Khajuraho temple site had 85 temples by the 12th century, spread over 20 square kilometres. Of these, only about 25 temples have survived, spread over six square kilometers. Of the surviving temples, the Kandariya Mahadeva Temple is decorated with a profusion of sculptures with intricate details, symbolism and expressiveness of ancient Indian art. The Khajuraho group of temples were built together but were dedicated to two religions, Hinduism and Jainism, suggesting a tradition of acceptance and respect for diverse religious views among Hindus and Jains in the region. The 10th-century Bhand Deva Temple in Rajasthan was built in the style of the Khajuraho monuments and is often referred to as 'Little Khajuraho'.

The temple site is within Vindhya mountain range in central India. An ancient local legend held that Hindu deity Shiva and other gods enjoyed visiting the dramatic hill formation in Kalinjar area. The centre of this region is Khajuraho, set amidst local hills and rivers. The temple complex reflects the ancient Hindu tradition of building temples where gods love to pray.

The temples are clustered near water, another typical feature of Hindu temples. The current water bodies include Sib Sagar, Khajur Sagar (also called Ninora Tal) and Khudar Nadi (river). Local legends state that the temple complex had 64 water bodies, of which 56 have been physically identified by archaeologists so far.

All temples, except one (Chaturbhuj) face sunrise - another symbolic feature that is predominant in Hindu temples. The relative layout of temples integrate masculine and feminine deities and symbols highlight the interdependence. The artwork symbolically highlight the four goals of life considered necessary and proper in Hinduism - dharma, kama, artha and moksha. Of the surviving temples, six are dedicated to Shiva and his consorts, eight to Vishnu and his affinities, one to Ganesha, one to Sun god, three to Jain Tirthankars. For some ruins, there is insufficient evidence to assign the temple to specific deities with confidence.

An overall examination of site suggests that the Hindu symbolic mandala design principle of square and circles is present each temple plan and design. Further, the territory is laid out in three triangles that converge to form a pentagon. Scholars suggest that this reflects the Hindu symbolism for three realms or trilokinatha, and five cosmic substances or panchbhuteshvara. The temple site highlights Shiva, the one who destroys and recycles life, thereby controlling the cosmic dance of time, evolution and dissolution.

Khajuraho Temples were built by which Dynasty?

Options:

- 1) Chandela
- 2) Chalukya
- 3) Maurya
- 4) Chola

Correct Answer: 1) Chandela

Candidate Answer: 1) Chandela

QID : 835 - Read the passage carefully and answer the questions that follow choosing the correct alternatives.

The Khajuraho Group of Monuments is a group of Hindu temples and Jain temples in Chhatarpur district, Madhya Pradesh, India, about 175 kilometres southeast of Jhansi. They are a UNESCO World Heritage Site. The temples are famous for their nagara-style architectural symbolism and their erotic sculptures.

Most Khajuraho temples were built between 950 and 1050 by the Chandela dynasty. Historical records note that the Khajuraho temple site had 85 temples by the 12th century, spread over 20 square kilometres. Of these, only about 25 temples have survived, spread over six square kilometers. Of the surviving temples, the Kandariya Mahadeva Temple is decorated with a profusion of sculptures with intricate details, symbolism and expressiveness of ancient Indian art. The Khajuraho group of temples were built together but were dedicated to two religions, Hinduism and Jainism, suggesting a tradition of acceptance and respect for diverse religious views among Hindus and Jains in the region. The 10th-century Bhand Deva Temple in Rajasthan was built in the style of the Khajuraho monuments and is often referred to as 'Little Khajuraho'.

The temple site is within Vindhya mountain range in central India. An ancient local legend held that Hindu deity Shiva and other gods enjoyed visiting the dramatic hill formation in Kalinjar area. The centre of this region is Khajuraho, set amidst local hills and rivers. The temple complex reflects the ancient Hindu tradition of building temples where gods love to pray.

The temples are clustered near water, another typical feature of Hindu temples. The current water bodies include Sib Sagar, Khajur Sagar (also called Ninora Tal) and Khudar Nadi (river). Local legends state that the temple complex had 64 water bodies, of which 56 have been physically identified by archaeologists so far.

All temples, except one (Chaturbhuj) face sunrise - another symbolic feature that is predominant in Hindu temples. The relative layout of temples integrate masculine and feminine deities and symbols highlight the interdependence. The artwork symbolically highlight the four goals of life considered necessary and proper in Hinduism - dharma, kama, artha and moksha. Of the surviving temples, six are dedicated to Shiva and his consorts, eight to Vishnu and his affinities, one to Ganesha, one to Sun god, three to Jain Tirthankars. For some ruins, there is insufficient evidence to assign the temple to specific deities with confidence.

An overall examination of site suggests that the Hindu symbolic mandala design principle of square and circles is present in each temple plan and design. Further, the territory is laid out in three triangles that converge to form a pentagon. Scholars suggest that this reflects the Hindu symbolism for three realms or trilokinatha, and five cosmic substances or panchbhuteshvara. The temple site highlights Shiva, the one who destroys and recycles life, thereby controlling the cosmic dance of time, evolution and dissolution.

How many Khajuraho temples were there in the 12th Century?

Options:

- 1) 25
- 2) 60
- 3) 85
- 4) 90

Correct Answer: 3) 85

Candidate Answer: 3) 85

QID : 836 - Read the poem carefully and answer the questions that follow choosing the correct alternatives.

The Song of Wandering Aengus
W. B. Yeats

I went out to the hazel wood,
Because a fire was in my head,
And cut and peeled a hazel wand,
And hooked a berry to a thread;
And when white moths were on the wing,
And moth-like stars were flickering out,
I dropped the berry in a stream
And caught a little silver trout.

When I had laid it on the floor
I went to blow the fire a-flame,
But something rustled on the floor,
And someone called me by my name:
It had become a glimmering girl
With apple blossom in her hair
Who called me by my name and ran
And faded through the brightening air.

Though I am old with wandering
Through hollow lands and hilly lands,
I will find out where she has gone,
And kiss her lips and take her hands;
And walk among long dappled grass,
And pluck till time and times are done,
The silver apples of the moon,
The golden apples of the sun.

What did the poet catch in the stream?

Options:

- 1) A silver trout
- 2) A red berry
- 3) A blue kingfish
- 4) Silver apples of the moon

Correct Answer: 1) A silver trout

Candidate Answer: 1) A silver trout

QID : 837 - Read the poem carefully and answer the questions that follow choosing the correct alternatives.

The Song of Wandering Aengus
W. B. Yeats

I went out to the hazel wood,
Because a fire was in my head,
And cut and peeled a hazel wand,
And hooked a berry to a thread;
And when white moths were on the wing,
And moth-like stars were flickering out,
I dropped the berry in a stream
And caught a little silver trout.

When I had laid it on the floor
I went to blow the fire a-flame,
But something rustled on the floor,
And someone called me by my name:
It had become a glimmering girl
With apple blossom in her hair
Who called me by my name and ran
And faded through the brightening air.

Though I am old with wandering
Through hollow lands and hilly lands,
I will find out where she has gone,
And kiss her lips and take her hands;
And walk among long dappled grass,
And pluck till time and times are done,
The silver apples of the moon,
The golden apples of the sun.

What did the girl have in her hair?

Options:

- 1) Hazel wood
- 2) Silver Stars
- 3) Apple Blossom
- 4) Blue Berries

Correct Answer: 3) Apple Blossom

Candidate Answer: 3) Apple Blossom

QID : 838 - Read the poem carefully and answer the questions that follow choosing the correct alternatives.

The Song of Wandering Aengus
W. B. Yeats

I went out to the hazel wood,
Because a fire was in my head,
And cut and peeled a hazel wand,
And hooked a berry to a thread;
And when white moths were on the wing,
And moth-like stars were flickering out,
I dropped the berry in a stream
And caught a little silver trout.

When I had laid it on the floor
I went to blow the fire a-flame,
But something rustled on the floor,
And someone called me by my name:
It had become a glimmering girl
With apple blossom in her hair
Who called me by my name and ran
And faded through the brightening air.

Though I am old with wandering
Through hollow lands and hilly lands,
I will find out where she has gone,
And kiss her lips and take her hands;
And walk among long dappled grass,
And pluck till time and times are done,
The silver apples of the moon,
The golden apples of the sun.

What did the poet use the berry for ?

Options:

- 1) to attract the girl
- 2) bait for fish
- 3) decoration on cake
- 4) grill in the fire

Correct Answer: 2) bait for fish

Candidate Answer: 4) grill in the fire

QID : 839 - Read the poem carefully and answer the questions that follow choosing the correct alternatives.

The Song of Wandering Aengus
W. B. Yeats

I went out to the hazel wood,
Because a fire was in my head,
And cut and peeled a hazel wand,
And hooked a berry to a thread;
And when white moths were on the wing,
And moth-like stars were flickering out,
I dropped the berry in a stream
And caught a little silver trout.

When I had laid it on the floor
I went to blow the fire a-flame,
But something rustled on the floor,
And someone called me by my name:
It had become a glimmering girl
With apple blossom in her hair
Who called me by my name and ran
And faded through the brightening air.

Though I am old with wandering
Through hollow lands and hilly lands,
I will find out where she has gone,
And kiss her lips and take her hands;
And walk among long dappled grass,
And pluck till time and times are done,
The silver apples of the moon,
The golden apples of the sun.

Where was the poet wandering?

Options:

- 1) lands and hills
- 2) river banks
- 3) mountain tops
- 4) forests

Correct Answer: 1) lands and hills

Candidate Answer: 1) lands and hills

QID : 840 - Read the poem carefully and answer the questions that follow choosing the correct alternatives.

The Song of Wandering Aengus
W. B. Yeats

I went out to the hazel wood,
Because a fire was in my head,
And cut and peeled a hazel wand,
And hooked a berry to a thread;
And when white moths were on the wing,
And moth-like stars were flickering out,
I dropped the berry in a stream
And caught a little silver trout.

When I had laid it on the floor
I went to blow the fire a-flame,
But something rustled on the floor,
And someone called me by my name:
It had become a glimmering girl
With apple blossom in her hair
Who called me by my name and ran
And faded through the brightening air.

Though I am old with wandering
Through hollow lands and hilly lands,
I will find out where she has gone,
And kiss her lips and take her hands;
And walk among long dappled grass,
And pluck till time and times are done,
The silver apples of the moon,
The golden apples of the sun.

Why did the poet go to the hazel wood?

Options:

- 1) to take a walk
- 2) because there was a fire in his head
- 3) to meet friends
- 4) because his head was too heavy

Correct Answer: 2) because there was a fire in his head

Candidate Answer: 2) because there was a fire in his head

QID : 841 - What should a teacher do to promote cooperative learning in social science classroom?

ସାମାଜିକ ବିଜ୍ଞାନର ଶ୍ରେଣୀକକ୍ଷରେ ସମବାୟ ଶିକ୍ଷାର ପ୍ରଚାରର ପାଇଁ ଜଣେ ଶିକ୍ଷକ କ'ଣ କରିବା ଉଚିତ?

Options:

1) Engage students in debate and discussions

ଛାତ୍ରର ବିତର୍କ ଏବଂ ଆଲୋଚନା ଜଡ଼ିତ କରନ୍ତୁ

2) Provide various source for project

ପ୍ରକଳ୍ପର ପାଇଁ ବିଭିନ୍ନ ଉତ୍ସ ସରବରାହ କରନ୍ତୁ

3) Give individual task

ସ୍ୱତନ୍ତ୍ର କାମ ଦିଅନ୍ତୁ

4) Divide the class in small groups

କ୍ଲାସକୁ ଛୋଟ ଛୋଟ ଦଳରେ ଭାଗ କରନ୍ତୁ

Correct Answer: 1) Engage students in debate and discussions

ଛାତ୍ରର ବିତର୍କ ଏବଂ ଆଲୋଚନା ଜଡ଼ିତ କରନ୍ତୁ

Candidate Answer: 1) Engage students in debate and discussions

ଛାତ୍ରର ବିତର୍କ ଏବଂ ଆଲୋଚନା ଜଡ଼ିତ କରନ୍ତୁ

QID : 842 - What is most appropriate use of end-of the text question in social science book chapters?

କଣ ସାମାଜିକ ବିଜ୍ଞାନ ଅଧ୍ୟୟନଗୁଡ଼ିକରେ ପାଠ୍ୟ ପ୍ରଶ୍ନର ଶେଷରେ ସବୁଠାରୁ ଉପଯୁକ୍ତ ବ୍ୟବହାର ଅଟେ?

Options:

1) To identify the important questions

ଗୁରୁତ୍ୱପୂର୍ଣ୍ଣ ପ୍ରଶ୍ନଗୁଡ଼ିକ ଚିହ୍ନିତ କରିବା ପାଇଁ

2) To assist teachers to summarise the chapters

ଅଧ୍ୟୟନଗୁଡ଼ିକ ସଂକ୍ଷିପ୍ତ କରିବାରେ ଶିକ୍ଷକର ସହାୟତା କରିବା ପାଇଁ

3) To enable students to understand and express in their own words

ଶିକ୍ଷାର୍ଥୀର ତାର ନିଜସ୍ୱ କଥା ବୁଝାଇବା ଏବଂ ପ୍ରକାଶ କରିବା ପାଇଁ ସକ୍ଷମ ହେବା

4) No option is correct

କୌଣସି ବିକଳ୍ପ ସଠିକ ନୁହେଁ

Correct Answer: 3) To enable students to understand and express in their own words

ଶିକ୍ଷାର୍ଥୀର ତାର ନିଜସ୍ୱ କଥା ବୁଝାଇବା ଏବଂ ପ୍ରକାଶ କରିବା ପାଇଁ ସକ୍ଷମ ହେବା

Candidate Answer: 4) No option is correct

କୌଣସି ବିକଳ୍ପ ସଠିକ ନୁହେଁ

QID : 843 - Which of the following objective is most appropriate regarding assessment in social science?

ନିମ୍ନଲିଖିତ ବିଷୟଗୁଡ଼ିକର ମଧ୍ୟରେ କେଉଁଟି ସାମାଜିକ ବିଜ୍ଞାନର ମୂଲ୍ୟାୟନ ସମ୍ପର୍କିତ ସବୁଠାରୁ ଉପଯୁକ୍ତ?

Options:

1) To motivate students by giving marks

ନମ୍ବର ଦେଇ ଶିକ୍ଷାର୍ଥୀକୁ ଉତ୍ସୁକ କରିବା ପାଇଁ

2) To check student's memory level

ଶିକ୍ଷାର୍ଥୀଙ୍କ ସ୍ମୃତି ସ୍ତର ପରୀକ୍ଷା କରିବା ପାଇଁ

3) For comparison between students

ଶିକ୍ଷାର୍ଥୀଙ୍କ ମଧ୍ୟରେ ତୁଳନା କରିବା ପାଇଁ

4) To encourage students

ଶିକ୍ଷାର୍ଥୀଙ୍କୁ ଉତ୍ସାହିତ କରିବା ପାଇଁ

Correct Answer: 4) To encourage students

ଶିକ୍ଷାର୍ଥୀଙ୍କୁ ଉତ୍ସାହିତ କରିବା ପାଇଁ

Candidate Answer: 4) To encourage students

ଶିକ୍ଷାର୍ଥୀଙ୍କୁ ଉତ୍ସାହିତ କରିବା ପାଇଁ

QID : 844 - In social science classroom, a teacher wants to assign a project on "Partition of India" based on primary sources. Which of the following is not a primary source?

ସାମାଜିକ ବିଜ୍ଞାନର ଶ୍ରେଣିକକ୍ଷେତ୍ରରେ, ଜଣେ ଶିକ୍ଷକ ପ୍ରାଥମିକ ଉତ୍ସର ଭିତ୍ତିରେ "ଭାରତର ପାର୍ଟିଶନ" ବିଷୟରେ ଏକ ପ୍ରକଳ୍ପ ଅର୍ପଣ କରିବାକୁ ଚାହାନ୍ତି। ନିମ୍ନଲିଖିତ କେଉଁଟି ପ୍ରାଥମିକ ଉତ୍ସ ନୁହେଁ?

Options:

1) Newspaper archive

ସଂବାଦପତ୍ର ସଂରକ୍ଷଣାଗାର

2) Novels

ଉପନ୍ୟାସ

3) Autobiography

ଆତ୍ମଜୀବନୀ

4) Oral history

ମୌଖିକ ଇତିହାସ

Correct Answer: 2) Novels

ଉପନ୍ୟାସ

Candidate Answer: 2) Novels

ଉପନ୍ୟାସ

QID : 845 - Which of the following is the most appropriate approach to develop an understanding of "Democratic Institution"?

"ଗଣତାନ୍ତ୍ରିକ ପ୍ରତିଷ୍ଠାନ" ବିକାଶକୁ ବୁଝାଇବା ପାଇଁ ନିମ୍ନର କେଉଁଟି ସବୁଠାରୁ ଉପଯୁକ୍ତ ପଦ୍ଧତି?

Options:

- 1) To provide national level examples
ଜାତୀୟ ସ୍ତରର ଉଦାହରଣ ପ୍ରଦାନ କରିବା
- 2) Introduce harsh realities to students
ଶିକ୍ଷାର୍ଥୀର ପାଇଁ କଠୋର ବାସ୍ତବତାର ପରିଚୟ କରିବା
- 3) Provide examples of realities with ideal situation
ଆଦର୍ଶ ପରିସ୍ଥିତି ସହିତ ବାସ୍ତବତାର ଉଦାହରଣ ପ୍ରଦାନ କରିବା
- 4) Describe ideal situations
ଆଦର୍ଶ ପରିସ୍ଥିତି ବର୍ଣ୍ଣନା କରିବା

Correct Answer: 3) Provide examples of realities with ideal situation
ଆଦର୍ଶ ପରିସ୍ଥିତି ସହିତ ବାସ୍ତବତାର ଉଦାହରଣ ପ୍ରଦାନ କରିବା

Candidate Answer: 3) Provide examples of realities with ideal situation
ଆଦର୍ଶ ପରିସ୍ଥିତି ସହିତ ବାସ୍ତବତାର ଉଦାହରଣ ପ୍ରଦାନ କରିବା

QID : 846 - If a teacher provide some clues to students and ask them to assess their projects on the basis of those clues, then which of the following assessment has been adopted by the teacher?

ଯଦି କୌଣସି ଶିକ୍ଷକ ଶିକ୍ଷାର୍ଥୀର କିଛି ସଂକେତ ପ୍ରଦାନ କରନ୍ତି ଏବଂ ସେଇ ଚିହ୍ନଗୁଡ଼ିକର ଭିତ୍ତିରେ ତାର ପ୍ରକଳ୍ପଗୁଡ଼ିକ ମୂଲ୍ୟାୟନ କରିବା ପାଇଁ କୁହନ୍ତି, ତେବେ ନିମ୍ନ କେଉଁ ମୂଲ୍ୟାୟନ ଶିକ୍ଷକ ଦ୍ୱାରା ଗୃହୀତ ହୋଇଛି?

Options:

- 1) Summative assessment
ସଂକ୍ଷିପ୍ତ ମୂଲ୍ୟାୟନ
- 2) Peer assessment
ପିଅର ମୂଲ୍ୟାୟନ
- 3) Self assessment
ସ୍ୱ ମୂଲ୍ୟାୟନ
- 4) Formative assessment
ଗଠନମୂଳକ ମୂଲ୍ୟାୟନ

Correct Answer: 3) Self assessment
ସ୍ୱ ମୂଲ୍ୟାୟନ

Candidate Answer: 2) Peer assessment
ପିଅର ମୂଲ୍ୟାୟନ

QID : 847 - In order to overcome the problems related to social science teaching and learning process, the curriculum of social science should be _____.

ସାମାଜିକ ବିଜ୍ଞାନର ପାଠ୍ୟପାଠ ଏବଂ ଶିଖିବାର ପ୍ରକ୍ରିୟା ସମ୍ପର୍କିତ ସମସ୍ତାଗୁଡ଼ିକ ବିଷୟରେ ସାମାଜିକ ବିଜ୍ଞାନର ପାଠ୍ୟକ୍ରମଟି _____ ହେବା ଉଚିତ।

Options:

1) comprehensive

ସ୍ଥାପକ

2) based upon gender concern

ଲିଙ୍ଗଗତ ଉଦ୍ବେଗ ଉପର ଭିତ୍ତି କରେ

3) Both comprehensive and based upon gender concern

ଉଭୟ ସ୍ଥାପକ ଏବଂ ଲିଙ୍ଗଗତ ଉଦ୍ବେଗ ଉପର ଭିତ୍ତି କରେ

4) No option is correct

କୌଣସି ବିକଳ୍ପ ସଠିକ ନୁହେଁ

Correct Answer: 3) Both comprehensive and based upon gender concern

ଉଭୟ ସ୍ଥାପକ ଏବଂ ଲିଙ୍ଗଗତ ଉଦ୍ବେଗ ଉପର ଭିତ୍ତି କରେ

Candidate Answer: 3) Both comprehensive and based upon gender concern

ଉଭୟ ସ୍ଥାପକ ଏବଂ ଲିଙ୍ଗଗତ ଉଦ୍ବେଗ ଉପର ଭିତ୍ତି କରେ

QID : 848 - Which of the following is an appropriate reason for assessing students through art in social science subject?

ସାମାଜିକ ବିଜ୍ଞାନର ବିଷୟରେ ଶିକ୍ଷକଳା ମାଧ୍ୟମରେ ଶିକ୍ଷାର୍ଥୀର ମୂଲ୍ୟାୟନ କରିବା ପାଇଁ ନିମ୍ନରେ କେଉଁଟି ଉପଯୁକ୍ତ କାରଣ?

Options:

1) It makes it enjoyable

ଏହା ଆନନ୍ଦ ପ୍ରଦାନ କରେ

2) It provides an opportunity for personal interpretation of concepts.

ଏହା ଧାରଣାଗୁଡ଼ିକୁ ବ୍ୟକ୍ତିଗତ ବ୍ୟାଖ୍ୟା କରିବା ପାଇଁ ଏକ ସୁଯୋଗ ପ୍ରଦାନ କରେ।

3) It improve student's artistic ability

ଏହା ଶିକ୍ଷାର୍ଥୀର କଳାତ୍ମକ ଦକ୍ଷତା ଉନ୍ନତ କରେ

4) No option is correct

କୌଣସି ବିକଳ୍ପ ସଠିକ ନୁହେଁ

Correct Answer: 2) It provides an opportunity for personal interpretation of concepts.

ଏହା ଧାରଣାଗୁଡ଼ିକୁ ବ୍ୟକ୍ତିଗତ ବ୍ୟାଖ୍ୟା କରିବା ପାଇଁ ଏକ ସୁଯୋଗ ପ୍ରଦାନ କରେ।

Candidate Answer: 3) It improve student's artistic ability

ଏହା ଶିକ୍ଷାର୍ଥୀର କଳାତ୍ମକ ଦକ୍ଷତା ଉନ୍ନତ କରେ

QID : 849 - Which of the following is not a challenge during social science teaching and learning process?

ସାମାଜିକ ବିଜ୍ଞାନର ପାଠ୍ୟଦାନ ଏବଂ ଶିଖିବାର ପ୍ରକ୍ରିୟା ସମୟରେ ନିମ୍ନଲିଖିତ କେଉଁଟି ଚ୍ୟାଲେଞ୍ଜ ନୁହେଁ?

Options:

1) Uncertainty of objective

ଉଦ୍ଦେଶ୍ୟହୀନତା

2) Unavailability of trained teachers

ପ୍ରଶିକ୍ଷିତ ଶିକ୍ଷକର ଅବିଲୁପ୍ତତା

3) Sufficient tools of evaluation

ମୂଲ୍ୟାୟନର ପର୍ଯ୍ୟାପ୍ତ ସରଞ୍ଜାମ

4) Lack of instructional material

ଶିକ୍ଷାମୂଳକ ଉପାଦାନର ଅଭାବ

Correct Answer: 3) Sufficient tools of evaluation

ମୂଲ୍ୟାୟନର ପର୍ଯ୍ୟାପ୍ତ ସରଞ୍ଜାମ

Candidate Answer: 3) Sufficient tools of evaluation

ମୂଲ୍ୟାୟନର ପର୍ଯ୍ୟାପ୍ତ ସରଞ୍ଜାମ

QID : 850 - Which of the following is correct about social science?

ସାମାଜିକ ବିଜ୍ଞାନ ସମ୍ପର୍କରେ ନିମ୍ନର କେଉଁଟି ସଠିକ?

Options:

1) Social science is not concerned with diverse concern of society

ସାମାଜିକ ବିଜ୍ଞାନ ସମାଜରେ ବିଭିନ୍ନ ଉଦ୍ଦେଶ୍ୟ ସମ୍ବନ୍ଧରେ ଉଦ୍ଦିଷ୍ଟ ନୁହେଁ

2) It doesn't emphasise on homogeneity

ଏହା ସମଜାତୀୟତାର ଉପର ଗୁରୁତ୍ୱ ଦିଏ ନାହିଁ

3) It lays foundation of analytical and creative mindset

ଏହା ବିଶ୍ଳେଷଣାତ୍ମକ ଏବଂ ସୃଜନଶୀଳ ମାନସିକତାର ଭିତ୍ତି ରଖେ

4) It is a subjective discipline

ଏହା ଏକ ବିଷୟଗତ ଶୃଙ୍ଖଳା

Correct Answer: 3) It lays foundation of analytical and creative mindset

ଏହା ବିଶ୍ଳେଷଣାତ୍ମକ ଏବଂ ସୃଜନଶୀଳ ମାନସିକତାର ଭିତ୍ତି ରଖେ

Candidate Answer: 3) It lays foundation of analytical and creative mindset

ଏହା ବିଶ୍ଳେଷଣାତ୍ମକ ଏବଂ ସୃଜନଶୀଳ ମାନସିକତାର ଭିତ୍ତି ରଖେ

QID : 851 - Ziauddin Barani was a chronicler of which of the following century?

ଜିୟାଉଦ୍ଦିନବାରାନୀ ନିମ୍ନଲିଖିତ କେଉଁ ଶତାବ୍ଦୀର ଇତିହାସକାର ଥିଲେ?

Options:

- 1) 12th century
12 ଶତକ
- 2) 13th century
13 ଶତକ
- 3) 14th century
14 ଶତକ
- 4) 16th century
16 ଶତକ

Correct Answer: 3) 14th century
14 ଶତକ

Candidate Answer: 4) 16th century
16 ଶତକ

QID : 852 - Which present day Indian State was known as Gauda in the past?

କେଉଁ ବର୍ତ୍ତମାନ ଭାରତୀୟ ରାଜ୍ୟ ଅତୀତରେ ଗୌଡ଼ ନାମରେ ପରିଚିତ ଥିଲେ?

Options:

- 1) Maharashtra
ମହାରାଷ୍ଟ୍ର
- 2) Gujarat
ଗୁଜରାଟ
- 3) Madhya Pradesh
ମଧ୍ୟପ୍ରଦେଶ
- 4) West Bengal
ପଶ୍ଚିମବଙ୍ଗ

Correct Answer: 4) West Bengal
ପଶ୍ଚିମବଙ୍ଗ

Candidate Answer: 4) West Bengal
ପଶ୍ଚିମବଙ୍ଗ

QID : 853 - Which of the following were called 'samantas' during seventh century?

ସପ୍ତମ ଶତାବ୍ଦୀର ନିମ୍ନଲିଖିତଗୁଡ଼ିକର ମଧ୍ୟରେ କାହାକୁ "ସାମନ୍ତ" କୁହା ଯାଉଥିଲା?

Options:

- 1) Pettytradors
ପେଟଳି ବ୍ଲବସାୟୀ
- 2) Bonded labour
ବୁଦ୍ଧିଭୁକ୍ତ ଶ୍ରମିକ
- 3) Big landlords
ବଡ଼ ଜମିଦାର
- 4) Artisans or craftsmen
କାରିଗର ବା ଶିଳ୍ପୀ

Correct Answer: 3) Big landlords
ବଡ଼ ଜମିଦାର

Candidate Answer: 3) Big landlords
ବଡ଼ ଜମିଦାର

QID : 854 - The struggle of which of the following is called as "tripartite struggle" by the historians?

ନିମ୍ନର କେଉଁ ସଂଗ୍ରାମକୁ ଇତିହାସକର୍ତ୍ତାମାନେ "ତ୍ରିପକ୍ଷୀୟ ସଂଗ୍ରାମ" ନାମରେ ଅଭିହିତ କରା କରିଛନ୍ତି ?

Options:

- 1) Chauhans, Gahadavalas and Chalukyas
ଚୌହାନ, ଗହାଦାବଲ୍ଲା ଏବଂ ଚାଲୁକ୍ୟ
- 2) Gurjara Pratihara, Chalukyas and Pala rulers
ଗୁଜ୍ଜାରା ପ୍ରତିହାର, ଚାଲୁକ୍ୟ ଏବଂ ପାଲ ଶାସକଗଣ
- 3) Rashtrakuta, Chauhans and Chalukyas
ରାଷ୍ଟ୍ରକୁଡ଼ା, ଚୌହାନ ଏବଂ ଚାଲୁକ୍ୟ
- 4) Gurjara-Pratihara, Rashtrakuta and Pala dynasty
ଗୁଜ୍ଜାରା-ପ୍ରତିହାର, ରାଷ୍ଟ୍ରକୁଡ଼ା ଏବଂ ପାଲ ରାଜବଂଶ

Correct Answer: 4) Gurjara-Pratihara, Rashtrakuta and Pala dynasty
ଗୁଜ୍ଜାରା-ପ୍ରତିହାର, ରାଷ୍ଟ୍ରକୁଡ଼ା ଏବଂ ପାଲ ରାଜବଂଶ

Candidate Answer: 2) Gurjara Pratihara, Chalukyas and Pala rulers
ଗୁଜ୍ଜାରା ପ୍ରତିହାର, ଚାଲୁକ୍ୟ ଏବଂ ପାଲ ଶାସକଗଣ

QID : 855 - Which ruler Constructed a new garrison town named siri for his solders?

କେଉଁ ଶାସକ ତାଙ୍କର ସୈନିକଙ୍କ ପାଇଁ ନୂତନ ଗିରିସନ ସହର ଶିରୀ ନିର୍ମାଣ କରିଥିଲେ?

Options:

- 1) Ibrahim Lodi
ଇବ୍ରାହିମ ଲୋଦି
- 2) Muhammad Tughluq
ମୁହାମ୍ମଦ ତୁଗ୍‌ଲକ
- 3) Alauddin Khalji
ଆଲାଉଦ୍ଦିନ ଖଲଜି
- 4) Ashoka
ଅଶୋକ

Correct Answer: 3) Alauddin Khalji
ଆଲାଉଦ୍ଦିନ ଖଲଜି

Candidate Answer: 4) Ashoka
ଅଶୋକ

QID : 856 - Kingdom of Garha Katanga was associated with which of the following tribes?

ସାମ୍ରାଜ୍ୟ ଗାରହା କାଟଙ୍ଗା ରାଜ୍ୟଟି ନିମ୍ନଲିଖିତ କେଉଁ ଉପଜାତିର ସହିତ ଜଡ଼ିତ?

Options:

- 1) The Ahoms
ଆହୋମସ
- 2) The Gonds
ଗୋଣ୍ଡ
- 3) The Garos
ଗାରୋସ
- 4) The Kochs
କୋଚ

Correct Answer: 2) The Gonds
ଗୋଣ୍ଡ

Candidate Answer: 3) The Garos
ଗାରୋସ

QID : 857 - Which national leader called "untouchables" as Harijan?

କେଉଁ ଜାତୀୟ ନେତା ହରିଜନ ନାମରେ "ଅସ୍ପୃଶ୍ୟ" ବୋଲି କୁହାଯାଏ ?

Options:

1) Dr. B.R. Ambedkar

ଡଃ ବି.ଆର. ଆମ୍ବେଦକର

2) Sardar Patel

ସରଦାର ପଟେଲ

3) Jawaharlal Nehru

ଜବାହରଲାଲ ନେହରୁ

4) Mahatma Gandhi

ମହାତ୍ମା ଗାନ୍ଧୀ

Correct Answer: 4) Mahatma Gandhi

ମହାତ୍ମା ଗାନ୍ଧୀ

Candidate Answer: 2) Sardar Patel

ସରଦାର ପଟେଲ

QID : 858 - During which national movement, nai-dhobi bandhs were organised by the Panchayats to deprive landlords of the services of barbers and washermen?

କେଉଁ ଜାତୀୟ ଆନ୍ଦୋଳନର ସମୟରେ, ପଞ୍ଚାୟତରେ ଜମିଦାରମାନେ ବାରିକ ଏବଂ ଧୋବା ମାନଙ୍କ ସେବା ଠାରୁ ବଞ୍ଚିତ କରିବା ପାଇଁ ନାଲ-ଧୋବି ବନ୍ଧୁ ର ଆନ୍ଦୋଳନ କରିଥିଲେ?

Options:

1) Swadeshi Movement

ସ୍ୱଦେଶୀ ଆନ୍ଦୋଳନ

2) Non-Cooperation Movement

ଅସହଯୋଗ ଆନ୍ଦୋଳନ

3) Paika Rebellion

ପାଇକ ବିଦ୍ରୋହ

4) Quit India Movement

ଭାରତ ଛାଡ଼ ଆନ୍ଦୋଳନ

Correct Answer: 2) Non-Cooperation Movement

ଅସହଯୋଗ ଆନ୍ଦୋଳନ

Candidate Answer: 3) Paika Rebellion

ପାଇକ ବିଦ୍ରୋହ

QID : 859 - Who is responsible for introducing Mahalwari settlement in India?

ଭାରତର ମହଲୱାରୀ ବନ୍ଦୋବସ୍ତ ପ୍ରବର୍ତ୍ତନର ପାଇଁ ଦାୟୀ କିଏ ?

Options:

- 1) Thomas Munro
ଥୋମାସ ମୁନରୋ
- 2) Holt Mackenzie
ହଲ୍ଟ ମ୍ଲାକେନଜି
- 3) William Bentick
ଉଇଲିୟାମ ବେନିକ୍ସ
- 4) Lord Cornwallis
ଲର୍ଡ କର୍ନଓୟାଲିସ

Correct Answer: 2) Holt Mackenzie
ହଲ୍ଟ ମ୍ଲାକେନଜି

Candidate Answer: 4) Lord Cornwallis
ଲର୍ଡ କର୍ନଓୟାଲିସ

QID : 860 - Ain-i-Akbari book was written by _____.

ଆଇନ-ଇ-ଆକବାରୀ ବହିଟି _____ ଲେଖିଥିଲେ।

Options:

- 1) Akbar
ଆକବର
- 2) Abu'l-Fazl
ଆବୁ'ଲ-ଫଜଲ
- 3) Birbal
ବୀରବଲ
- 4) Jahangir
ଜାହାଙ୍ଗୀର

Correct Answer: 2) Abu'l-Fazl
ଆବୁ'ଲ-ଫଜଲ

Candidate Answer: 2) Abu'l-Fazl
ଆବୁ'ଲ-ଫଜଲ

QID : 861 - 'Stri PurushTulana' is a book authored by _____.

'ସ୍ତ୍ରୀ ପୁରୁଷ ତୁଲନା' _____ କି ଦ୍ଵାରା ରଚିତ ଏକ ବହି।

Options:

1) Pandita Ramabai

ପଣ୍ଡିତ ରମାବାଇ

2) Tarabai Shinde

ତାରାବାଇ ସିନ୍ଦେ

3) Savitri Phule

ସାବିତ୍ରୀ ଫୁଲେ

4) Sarojini Naidu

ସରୋଜିନୀ ନାଇଡୁ

Correct Answer: 2) Tarabai Shinde

ତାରାବାଇ ସିନ୍ଦେ

Candidate Answer: 3) Savitri Phule

ସାବିତ୍ରୀ ଫୁଲେ

QID : 862 - Raja Ravi Verma was a _____.

ରାଜା ରବି ବର୍ମା ଜଣେ _____ ଥିଲେ।

Options:

1) painter

ଚିତ୍ରଶିଳ୍ପୀ

2) writer

ଲେଖକ

3) weaver

ବୁଣାକାର

4) sculptor

ମୂର୍ତ୍ତିକାର

Correct Answer: 1) painter

ଚିତ୍ରଶିଳ୍ପୀ

Candidate Answer: 1) painter

ଚିତ୍ରଶିଳ୍ପୀ

QID : 863 - In which year did Ahmedabad mill strike take place?

ଆହମଦାବାଦ ମିଲ କେଉଁ ବର୍ଷର ହରତାଳ କରିଥିଲେ?

Options:

1) 1915

2) 1920

3) 1918

4) 1922

Correct Answer: 3) 1918

Candidate Answer: 2) 1920

QID : 864 - Which of the following is called the 'house of the people' in Parliament?

ନିମ୍ନରେ କେଉଁଟି ସଂସଦର 'ଜନତାର ଘର' କୁହା ହୁଏ?

Options:

- 1) Rajya Sabha
ରାଜ୍ୟସଭା
- 2) Lok Sabha
ଲୋକସଭା
- 3) Cabinet
ମନ୍ତ୍ରିସଭା
- 4) No option is correct
କୌଣସି ବିକଳ୍ପ ସଠିକ ନୁହେଁ

Correct Answer: 2) Lok Sabha
ଲୋକସଭା

Candidate Answer: 2) Lok Sabha
ଲୋକସଭା

QID : 865 - Which of the following does not come under the Union List?

ନିମ୍ନର କେଉଁଟି ସଂଘୀୟ ତାଲିକା ଆୟତ୍ତ ଆସେ ନାହିଁ?

Options:

- 1) Railways
ରେଳ
- 2) Air Force
ବିମାନ ବାହିନୀ
- 3) Telephone
ଟେଲିଫୋନ
- 4) Fisheries
ମତ୍ସ୍ୟ

Correct Answer: 4) Fisheries
ମତ୍ସ୍ୟ

Candidate Answer: 4) Fisheries
ମତ୍ସ୍ୟ

QID : 866 - Which of the following is not a Directive Principle of State Policy?

ନିମ୍ନର କେଉଁଟି ରାଜ୍ୟ ନୀତିମାଳାର ନିର୍ଦ୍ଦେଶିକା ନୀତି ନୁହେଁ?

Options:

1) Separation of Judiciary from executive

ନିର୍ବାହୀ ଠାରୁ ବିଚାର ବିଭାଗ ପୃଥକୀକରଣ କରିବା

2) Organisation of village panchayat

ଗ୍ରାମ ପଞ୍ଚାୟତରେ ସଂଗଠନ କରି

3) Uniform civil code for the citizens

ନାଗରିକର ପାଇଁ ଅଭିନ ସିଭିଲ କୋଡ

4) Protecting the sovereignty and unity of our country

ଆମ ଦେଶର ସାର୍ବଭୌମତ୍ତ୍ୱ ଏବଂ ଏକତାକୁ ରକ୍ଷା କରିବା

Correct Answer: 4) Protecting the sovereignty and unity of our country

ଆମ ଦେଶର ସାର୍ବଭୌମତ୍ତ୍ୱ ଏବଂ ଏକତାକୁ ରକ୍ଷା କରିବା

Candidate Answer: 3) Uniform civil code for the citizens

ନାଗରିକର ପାଇଁ ଅଭିନ ସିଭିଲ କୋଡ

QID : 867 - Article 18 of the Indian constitution deals with _____.

ଭାରତୀୟ ସମ୍ବିଧାନର ଅନୁକ୍ଳେଦ 18 _____ ର ସାଙ୍ଗରେ ସମ୍ପର୍କିତ।

Options:

1) abolition of untouchability

ଅସ୍ପୃଶ୍ୟତା ବିଲୋପ

2) equality before law

ଆଇନର ଆଗରେ ସମତା

3) abolition of titles

ଜାତିର ବିଲୁପ୍ତି

4) protection from arbitrary arrest

ମାନହାନି ବିରହଦାରି ଠାରୁ ସୁରକ୍ଷା

Correct Answer: 3) abolition of titles

ଜାତିର ବିଲୁପ୍ତି

Candidate Answer: 1) abolition of untouchability

ଅସ୍ପୃଶ୍ୟତା ବିଲୋପ

QID : 868 - Who is considered as the 'Law officer of India'?

'ଭାରତର ଆଇନ କର୍ମକର୍ତ୍ତା' କିଏ ବିବେଚନା କରନ୍ତି?

Options:

1) Comptroller and Auditor General

ନିୟାମକ ଏବଂ ମହା ହିସାବରକ୍ଷକ

2) Attorney General

ଆଚାର୍ଯ୍ୟ ଜେନାରେଲ

3) Union Law Minister

କେନ୍ଦ୍ରୀୟ ଆଇନମନ୍ତ୍ରୀ

4) Judge of Supreme Court

ସୁପ୍ରିମ କୋର୍ଟର ବିଚାରକ

Correct Answer: 2) Attorney General

ଆଚାର୍ଯ୍ୟ ଜେନାରେଲ

Candidate Answer: 4) Judge of Supreme Court

ସୁପ୍ରିମ କୋର୍ଟର ବିଚାରକ

QID : 869 - Naveen Patnaik who became the chief minister of Odisha after the election of 2019 belong to which political party?

2019 ବର୍ଷର ନିର୍ବାଚନ ପରେ ଓଡ଼ିଶାର ମୁଖ୍ୟମନ୍ତ୍ରୀ ନବୀନ ପଟ୍ଟନାୟକ କେଉଁ ରାଜନୈତିକ ଦଳର ଅନ୍ତର୍ଭୁକ୍ତ?

Options:

1) Bhartiya Janata Party

ଭାରତୀୟ ଜନତା ପାର୍ଟି

2) Biju Janata Dal

ବିଜୁ ଜନତା ଦଳ

3) Indian National Congress

ଭାରତୀୟ ଜାତୀୟ କଂଗ୍ରେସ

4) No option is correct

କୌଣସି ବିକଳ୍ପ ସଠିକ ନୁହେଁ

Correct Answer: 2) Biju Janata Dal

ବିଜୁ ଜନତା ଦଳ

Candidate Answer: 2) Biju Janata Dal

ବିଜୁ ଜନତା ଦଳ

QID : 870 - In the elections to Lok Sabha, how many seats are allotted to Odisha?

ଲୋକସଭା ନିର୍ବାଚନରେ ଓଡ଼ିଶାର କେତୋଟି ଆସନ ପାଇଁ ନିର୍ବାଚନ ହୁଏ?

Options:

1) 24

2) 22

3) 21

4) 19

Correct Answer: 3) 21

Candidate Answer: 3) 21

QID : 871 - Aspects of Geography should be taught keeping in mind the need to inculcate in the child _____.

ଭୂଗୋଳର ଦିଗରେଗୁଡ଼ି ସତ୍ତାମର ମଧ୍ୟରେଅନ୍ତର୍ଭୁକ୍ତ କରିବାର ପ୍ରୟୋଜନୀୟତାର କଥା ମୁଣ୍ଡରେ ରଖି ଶିଖେଇବା ଉଚିତ _____ ।

Options:

1) a critical appreciation for conservation of environment

ପରିବେଶ ସଂରକ୍ଷଣର ପାଇଁ ଏକଟି ସମାଲୋଚନା

2) inevitable aspect of social reality

ସାମାଜିକ ବାସ୍ତବତାର ଅନିବାର୍ଯ୍ୟ ଦିଗରେ

3) about natural disaster in the country

ଦେଶେ ପ୍ରାକୃତିକ ଦୁର୍ଯ୍ୟୋଗ ସମ୍ପର୍କରେ

4) No option is correct

କୌଣସି ବିକଳ୍ପ ସଠିକ ନୁହେଁ

Correct Answer: 1) a critical appreciation for conservation of environment

ପରିବେଶ ସଂରକ୍ଷଣର ପାଇଁ ଏକଟି ସମାଲୋଚନା

Candidate Answer: 4) No option is correct

କୌଣସି ବିକଳ୍ପ ସଠିକ ନୁହେଁ

QID : 872 - In Geography, learning should involve visits to _____.

ଭୂଗୋଳରେ, ଶିଖିବାର ସାଙ୍ଗରେ _____ ର ପରିଦର୍ଶନ ଜଡ଼ିତ ହେବା ଉଚିତ।

Options:

1) Museums

ସଂଗ୍ରହାଳୟ

2) Monuments

ସ୍ମୃତିସ୍ତମ୍ଭ

3) Both Museums and Monuments

ଉଭୟ ସଂଗ୍ରହାଳୟ ଏବଂ ସ୍ମୃତିସ୍ତମ୍ଭ

4) No option is correct

କୌଣସି ବିକଳ୍ପ ସଠିକ ନୁହେଁ

Correct Answer: 3) Both Museums and Monuments

ଉଭୟ ସଂଗ୍ରହାଳୟ ଏବଂ ସ୍ମୃତିସ୍ତମ୍ଭ

Candidate Answer: 3) Both Museums and Monuments

ଉଭୟ ସଂଗ୍ରହାଳୟ ଏବଂ ସ୍ମୃତିସ୍ତମ୍ଭ

QID : 873 - In Geography, students may be asked to explore the _____.

ଭୂଗୋଳରେ ଶିକ୍ଷାର୍ଥୀର _____ ଅନୁସନ୍ଧାନ କରିବାକୁ କୁହା ଯାଇ ପାରେ।

Options:

1) local surrounding

ସ୍ଥାନୀୟ ପରିସ୍ଥିତି

2) local skills and materials

ସ୍ଥାନୀୟ ଦକ୍ଷତା ଏବଂ ଉପକରଣ

3) observe the activities of communities

ସମ୍ପ୍ରଦାୟର କ୍ରିୟାକଳାପ ପର୍ଯ୍ୟବେକ୍ଷଣ କରିବା

4) All options are correct

ସମସ୍ତ ବିକଳ୍ପ ସଠିକ

Correct Answer: 4) All options are correct

ସମସ୍ତ ବିକଳ୍ପ ସଠିକ

Candidate Answer: 4) All options are correct

ସମସ୍ତ ବିକଳ୍ପ ସଠିକ

QID : 874 - Which of the following activities can be taken up by students while learning geography?

I. Student may be taken to visit nearby museum

II. Students can be encouraged to watch the night sky

III. Students can be taken to visit historical monument

ଭୂଗୋଳ ଶିଖିବାର ସମୟରେ ନିମ୍ନଲିଖିତ କ୍ରିୟାକଳାପଗୁଡ଼ିକ ଶିକ୍ଷାର୍ଥୀମାନେ ଗ୍ରହଣ କରି ପାରନ୍ତି ?

I. ଶିକ୍ଷାର୍ଥୀଙ୍କୁ ପାଖାପାଖି ସଂଗ୍ରହାଳୟକୁ ନେଇଯିବା

II. ଶିକ୍ଷାର୍ଥୀମାନଙ୍କୁ ରାତ୍ରି ଆକାଶ ଦେଖିବାରେ ଉତ୍ସାହିତ କରାଯାଇପାରେ ।

III. ଶିକ୍ଷାର୍ଥୀମାନଙ୍କୁ ଇତିହାସିକ ସ୍ମୃତିସ୍ଥଳଟି ଦେଖିବା ପାଇଁ ନିଆଯାଇ ପାରେ।

Options:

1) Only I and II

କେବଳ I ଏବଂ II

2) I, II and III

I, II ଏବଂ III

3) Only II and III

କେବଳ II ଏବଂ III

4) Only I and III

କେବଳ I ଏବଂ III

Correct Answer: 2) I, II and III

I, II ଏବଂ III

Candidate Answer: 3) Only II and III

କେବଳ II ଏବଂ III

Adda247

QID : 875 - What kind of activities can be done outside the classroom while teaching geography?

- I. Field Trips
- II. Surveys

ଭୂଗୋଳ ଶିଖେଇବା ସମୟ ଶ୍ରେଣୀକକ୍ଷରେ ବାହାରେ କେଉଁ ଧରଣର କ୍ରିୟାକଳାପ କରା ଯାଇ ପାରେ?

- I. ବାହ୍ୟ ଯାତ୍ରା
- II. ସାର୍ଭେ

Options:

- 1) Only I
କେବଳ I
- 2) Only II
କେବଳ II
- 3) Both I and II
I ଏବଂ II ଉଭୟ
- 4) No option is correct
କୌଣସି ବିକଳ୍ପ ସଠିକ ନୁହେଁ

Correct Answer: 3) Both I and II

I ଏବଂ II ଉଭୟ

Candidate Answer: 1) Only I

କେବଳ I

QID : 876 - _____ is an order of behaviour and the process of extending an idea into text.

_____ ହେଲା ଆଚରଣର କ୍ରମ ଏବଂ ଏକ ଧାରଣାଟିରେ ପାଠ ପ୍ରସାରିତ କରିବାର ପ୍ରକ୍ରିୟା।

Options:

- 1) Discourse
ପ୍ରବଚନ
- 2) Semantic
ଶବ୍ଦାର୍ଥକ
- 3) Pragmatic
ପ୍ରଶାସନିକ
- 4) Syntactic
କୃତ୍ରିମ

Correct Answer: 1) Discourse

ପ୍ରବଚନ

Candidate Answer: 2) Semantic

ଶବ୍ଦାର୍ଥକ

QID : 877 - Teaching aid in social studies helps in illustrating natural phenomena like _____.

ସାମାଜିକ ଅଧ୍ୟୟନର କ୍ଷେତ୍ରରେ ଶିକ୍ଷାଦାନ ସହାୟତା _____ ର ଭଳିଆ ପ୍ରାକୃତିକ ଘଟଣାକୁ ଚିତ୍ରିତ କରିବା ସହାୟତା କରେ।

Options:

- 1) volcano
ଆଗ୍ନେୟଗିରି
- 2) rain
ବୃଷ୍ଟି
- 3) earthquake
ଭୂମିକମ୍ପ
- 4) All options are correct
ସମସ୍ତ ବିକଳ୍ପ ସଠିକ

Correct Answer: 4) All options are correct
ସମସ୍ତ ବିକଳ୍ପ ସଠିକ

Candidate Answer: 4) All options are correct
ସମସ୍ତ ବିକଳ୍ପ ସଠିକ

QID : 878 - _____ are helpful in reinforcing students learning when there is difficulty in creating real atmosphere.

_____ ପ୍ରକୃତ ପରିବେଶ ତିଆରିରେ ଅସୁବିଧା ହେଲେ ଶିକ୍ଷାର୍ଥୀର ଶିଖିବାର କ୍ଷେତ୍ରରେ ଶକ୍ତିଶାଳୀକରଣରେ ସହାୟକ।

Options:

- 1) Teaching Approaches
ଶିକ୍ଷଣ ପଦ୍ଧତି
- 2) Teaching Aids
ଶିକ୍ଷଣ ସହଯୋଗୀ
- 3) Teaching Remedies
ଚିତି ପ୍ରତିକାର
- 4) Diagnostic Teaching
ତାତ୍କାଳିନୀ ଚିତି

Correct Answer: 2) Teaching Aids
ଶିକ୍ଷଣ ସହଯୋଗୀ

Candidate Answer: 3) Teaching Remedies
ଚିତି ପ୍ରତିକାର

QID : 879 - _____ teaching refers to a group of teachers working together in order to optimize resources, interest and expertise.

_____ ଶିକ୍ଷାର ଅର୍ଥ ସଂଗଠନ, ଆଗ୍ରହ ଏବଂ ଦକ୍ଷତାର ଅନୁକୂଳକରଣର ପାଇଁ ଏକାଠି କାମ କରିବାପାଇଁ ଶିକ୍ଷକ ଗୁଝାଏ ।

Options:

- 1) Team
ଟୀମ
- 2) Individual
ସ୍ୱତନ୍ତ୍ର
- 3) Supportive
ସହାୟକ
- 4) Guided
ପରିଚାଳିତ

Correct Answer: 1) Team

ଟୀମ

Candidate Answer: 3) Supportive

ସହାୟକ

QID : 880 - _____ is a sequence of activities that involve a group of students to study, do research, use their experience, skills in performing the given task assigned by teacher in Geography classroom.

_____ କ୍ରିୟାକଳାପଗୁଡ଼ିର ଏକଟି କ୍ରମ ଯା ଏକଟି ଗ୍ରୁପେର ଶିକ୍ଷାର୍ଥୀର ପଢ଼ାଶୈଳୀ, ଗବେଷଣା କରା, ତାର ଅଭିଜ୍ଞତା, ଭୂଗୋଳର ଶ୍ରେଣିକକ୍ଷରେ ଶିକ୍ଷକଙ୍କ ଦ୍ୱାରା ପ୍ରଦତ୍ତ କାର୍ଯ୍ୟ ସମ୍ପାଦନ କରିବାର ଦକ୍ଷତା ବୃଦ୍ଧିପାଇଁ ସାଙ୍ଗରେ ଜଡ଼ିତ।

Options:

- 1) Survey
ସର୍ଭେ
- 2) Project
ପ୍ରକଳ୍ପ
- 3) Both Survey and Project
ସର୍ଭେ ଏବଂ ପ୍ରକଳ୍ପ ଉଭୟ
- 4) No option is correct
କୌଣସି ବିକଳ୍ପ ସଠିକ ନୁହେଁ

Correct Answer: 2) Project

ପ୍ରକଳ୍ପ

Candidate Answer: 1) Survey

ସର୍ଭେ

QID : 881 - Which two elements combine to form quartz?

କୋଇଲିଟ୍ କିମ୍ବା କ୍ୱାର୍ଟ୍ସ ଗଠନରେ କେଉଁ ଦୁଇଟି ଉପାଦାନ ଏକତ୍ରିତ ହୁଏ?

Options:

- 1) Silicon and iron
ସିଲିକନ ଏବଂ ଆଇରନ
- 2) Silicon and aluminium
ସିଲିକନ ଏବଂ ଆଲୁମିନିଅମ
- 3) Silicon and oxygen
ସିଲିକନ ଏବଂ ଅକ୍ସିଜେନ
- 4) Aluminium and iron
ଆଲୁମିନିଅମ ଏବଂ ଆଇରନ

Correct Answer: 3) Silicon and oxygen
ସିଲିକନ ଏବଂ ଅକ୍ସିଜେନ

Candidate Answer: 1) Silicon and iron
ସିଲିକନ ଏବଂ ଆଇରନ

QID : 882 - K₂ or Godwin Austin, the second highest peak of the world belong to _____.

K₂ ବା ଗଡ଼ଉଇନ ଅସ୍ଟିନ, ବିଶ୍ୱର ଦ୍ୱିତୀୟ ସର୍ବୋଚ୍ଚ ଶିଖର _____ ର ଅନ୍ତର୍ଭୁକ୍ତ।

Options:

- 1) Purvanchals
ପୂର୍ବାଞ୍ଚଳ ଗୁଡ଼ିକ
- 2) The Karakoram range
କରାକୋରାମ ରେଞ୍ଜ
- 3) The Hindukush
ହିନ୍ଦୁକୁଶ
- 4) Andes
ଆନ୍ଦିଜ

Correct Answer: 2) The Karakoram range
କରାକୋରାମ ରେଞ୍ଜ

Candidate Answer: 1) Purvanchals
ପୂର୍ବାଞ୍ଚଳ ଗୁଡ଼ିକ

QID : 883 - The country with which India shares its shortest border is _____.

ଯେଉଁ ଦେଶଟିର ସହିତ ଭାରତ ତାର ସଂକ୍ଷିପ୍ତତମ ସୀମା ଭାଗ କରେ ତାହା ହେଲା _____ ।

Options:

- 1) Pakistan
ପାକିସ୍ତାନ
- 2) Bangladesh
ବାଂଲାଦେଶ
- 3) Bhutan
ଭୁଟାନ
- 4) Afghanistan
ଆଫଗାନିସ୍ତାନ

Correct Answer: 4) Afghanistan
ଆଫଗାନିସ୍ତାନ

Candidate Answer: 2) Bangladesh
ବାଂଲାଦେଶ

QID : 884 - Which one of the following is a fibre crop?

ନିମ୍ନଲିଖିତ କେଉଁଟି ଏକଟି ତନ୍ତୁ ଜାତୀୟ ଫସଲ?

Options:

- 1) Rice
ଧାନ
- 2) Maize
ମକା
- 3) Wheat
ଗମ
- 4) Jute
ଝୋଟ



Correct Answer: 4) Jute
ଝୋଟ

Candidate Answer: 2) Maize
ମକା

QID : 885 - Which of the following planet is called the "Red planet"?

ନିମ୍ନଲିଖିତ ଗ୍ରହର କଣଟି "ଲାଲ ଗ୍ରହ" କୁହା ହୁଏ?

Options:

1) Jupiter

ବୃହସ୍ପତିଗ୍ରହ

2) Earth

ପୃଥିବୀ

3) Mars

ମଙ୍ଗଳ

4) Neptune

ନେପଚୁନର

Correct Answer: 3) Mars

ମଙ୍ଗଳ

Candidate Answer: 1) Jupiter

ବୃହସ୍ପତିଗ୍ରହ

QID : 886 - Light year is a unit of _____.

ଆଲୋକ ବର୍ଷ ର _____ ର ଏକକ।

Options:

1) Mass

ଦ୍ରବ୍ୟମାନ

2) Temperature

ତାପମାତ୍ରା

3) Pressure

ଚାପ

4) Distance

ଦୂରତ୍ୱ

Correct Answer: 4) Distance

ଦୂରତ୍ୱ

Candidate Answer: 1) Mass

ଦ୍ରବ୍ୟମାନ

QID : 887 - The instrument that is used to measure the intensity of an earthquake is _____.

ଭୂମିକମ୍ପରେ ତୀବ୍ରତା ପରିମାପ କରିବା ପାଇଁ ଯନ୍ତ୍ରଟି କ୍ୱବକ୍ୱତ ହୁଏ ତା ହେଲା _____।

Options:

- 1) Richter scale
ରିକ୍ଟର ସ୍କେଲ
- 2) Mercalli scale
ମାର୍କାଲି ସ୍କେଲ
- 3) Seismograph
ଭୂକମ୍ପନୀକ(ସେଇସ୍ମୋଗ୍ରାଫ)
- 4) Barometer
ବାରୋମିଟର

Correct Answer: 2) Mercalli scale
ମାର୍କାଲି ସ୍କେଲ

Candidate Answer: 4) Barometer
ବାରୋମିଟର

QID : 888 - Great Victoria desert is found in _____.

ଗ୍ରେଟ ଭିକ୍ଟୋରିଆ ମରୁଭୂମି _____ ରେ ମିଳି ଯାଏ।

Options:

- 1) Africa
ଆଫ୍ରିକା
- 2) Australia
ଅଷ୍ଟ୍ରେଲିଆ
- 3) USA
ଆମେରିକା
- 4) Russia
ରୁଶିଆ

Correct Answer: 2) Australia
ଅଷ୍ଟ୍ରେଲିଆ

Candidate Answer: 4) Russia
ରୁଶିଆ

QID : 889 - Which one of the following is a depositional landform?

ନିମ୍ନର କେଉଁଟି ଅବନମନୀୟ ଲ୍ୟାଣ୍ଡଫର୍ମ?

Options:

- 1) Sinkhole
ସିଙ୍କହୋଲ
- 2) Gullies
ଗୁଲିଆସ
- 3) Cave
ଗୁମ୍ଫା
- 4) Beaches
ସମୁଦ୍ର କୂଳ

Correct Answer: 4) Beaches
ସମୁଦ୍ର କୂଳ

Candidate Answer: 4) Beaches
ସମୁଦ୍ର କୂଳ

QID : 890 - Nomadic herding is practised in which of the following regions of the world?

ପୃଥିବୀର ନିମ୍ନଲିଖିତ କେଉଁ ଅଞ୍ଚଳରେ ଯାଯାବର ପାଳ ପାଳିତ ହୁଏ?

Options:

- 1) Arid and semi arid
ଶୁଷ୍କ ଏବଂ ଆଧା ଶୁକନେ
- 2) Hot and humid
ଗରମ ଏବଂ ଆର୍ଦ୍ର
- 3) Cold and wet
ଠାନ୍ଧ ଓ ଭେଜା
- 4) Swamps
ଜଳାଭୂମି

Correct Answer: 1) Arid and semi arid
ଶୁଷ୍କ ଏବଂ ଆଧା ଶୁକନେ

Candidate Answer: 1) Arid and semi arid
ଶୁଷ୍କ ଏବଂ ଆଧା ଶୁକନେ

QID : 891 - Shifting cultivation is known as Jhumming in which of the following regions of India?

ସ୍ଥାନାନ୍ତର ଚାଷାବାଦ ଭାରତ ନିମ୍ନଲିଖିତ କଣ ଅଞ୍ଚଳରେ ଝୁମିଂ ନାମରେ ପରିଚିତ?

Options:

- 1) Central India
ମଧ୍ୟ ଭାରତ
- 2) Northwest India
ଉତ୍ତର-ପଶ୍ଚିମ ଭାରତ
- 3) Southern India
ଦକ୍ଷିଣ ଭାରତ
- 4) North East India
ଉତ୍ତର ପୂର୍ବ ଭାରତ

Correct Answer: 4) North East India
ଉତ୍ତର ପୂର୍ବ ଭାରତ

Candidate Answer: 2) Northwest India
ଉତ୍ତର-ପଶ୍ଚିମ ଭାରତ

QID : 892 - Which of the following crops is a cereal crop?

ନିମ୍ନଲିଖିତ ଶସ୍ତ୍ରଗୁଡ଼ିକର ମଧ୍ୟରେ କେଉଁଟି ଶସ୍ତ୍ରଜାତୀୟ ଫସଲ?

Options:

- 1) Jute
ଝୋଟ
- 2) Wheat
ଗହମ
- 3) Coffee
କଫି
- 4) Sugarcane
ଆଖୁ

Correct Answer: 2) Wheat
ଗହମ

Candidate Answer: 4) Sugarcane
ଆଖୁ

QID : 893 - Hindon river is a tributary of _____.

ହିନ୍ଦନ ନଦୀ _____ ର ଏକଟି ଶାଖା ନଦୀ।

Options:

- 1) Ganga river
ଗଙ୍ଗା ନଦୀ
- 2) Chambal river
ଚମ୍ବଲ ନଦୀ
- 3) Yamuna river
ଯମୁନା ନଦୀ
- 4) Mahanadi river
ମହାନଦୀ ନଦୀ

Correct Answer: 3) Yamuna river
ଯମୁନା ନଦୀ

Candidate Answer: 2) Chambal river
ଚମ୍ବଲ ନଦୀ

QID : 894 - The main mineral constituents of mantle are _____.

ଆସ୍ତରଣର ମୂଳ ଖଣିଜ ଉପାଦାନଗୁଡ଼ିକ _____ ।

Options:

- 1) Silica – Alumina
ସିଲିକା - ଆଲୁମିନା
- 2) Silica – Ferrous
ସିଲିକା - ଫେରସ
- 3) Nickel – Ferrous
ନିକେଲ - ଫେରସ
- 4) Silica – Magnesium
ସିଲିକା- ମ୍ୟାଗନେସିୟମ

Correct Answer: 4) Silica – Magnesium
ସିଲିକା- ମ୍ୟାଗନେସିୟମ

Candidate Answer: 2) Silica – Ferrous
ସିଲିକା - ଫେରସ

QID : 895 - The gas that is found in abundance in air is _____.

ବାୟୁରେ ପ୍ରଚୁର ପରିମାଣରେ ଯେ ଗ୍ୟାସ ମିଳି ଯାଏ ତା ହେଲା _____ ।

Options:

1) Oxygen

ଅକ୍ସିଜେନ

2) Carbon dioxide

କାର୍ବନ - ଡାଇ - ଅକ୍ସାଇଡ

3) Nitrogen

ନାଇଟ୍ରୋଜେନ

4) Helium

ହୀଲିୟମ୍

Correct Answer: 3) Nitrogen

ନାଇଟ୍ରୋଜେନ

Candidate Answer: 1) Oxygen

ଅକ୍ସିଜେନ

QID : 896 - Ionosphere is a part of _____.

ଆୟୋନୋସ୍ଫିଅର _____ ର ଏକଟି ଅଙ୍ଗ।

Options:

1) Mesosphere

ମେସୋସ୍ଫିଅର

2) Stratosphere

ଷ୍ଟ୍ରାଟୋସ୍ଫିଅର

3) Thermosphere

ଥର୍ମୋସ୍ଫିଅର

4) Troposphere

ଟ୍ରୋପୋସ୍ଫିଅର

Correct Answer: 3) Thermosphere

ଥର୍ମୋସ୍ଫିଅର

Candidate Answer: 4) Troposphere

ଟ୍ରୋପୋସ୍ଫିଅର

QID : 897 - Low pressure is associated with _____.

ନିମ୍ନଚାପ _____ ର ସାଙ୍ଗରେ ଜଡ଼ିତ।

Options:

1) Cloudy skies and wet weather

ମେଘୁଆ ଆକାଶ ଏବଂ ଓଦା ପାଣିପାଗ

2) Clear skies and hot weather

ପରିଷ୍କାର ଆକାଶ ଏବଂ ଗରମ ପାଣିପାଗ

3) Cloudy skies and hot weather

ମେଘୁଆ ଆକାଶ ଏବଂ ଗରମ ପାଣିପାଗ

4) Clear skies and wet weather

ପରିଷ୍କାର ଆକାଶ ଏବଂ ଓଦାପାଣିପାଗ

Correct Answer: 1) Cloudy skies and wet weather

ମେଘୁଆ ଆକାଶ ଏବଂ ଓଦା ପାଣିପାଗ

Candidate Answer: 2) Clear skies and hot weather

ପରିଷ୍କାର ଆକାଶ ଏବଂ ଗରମ ପାଣିପାଗ

QID : 898 - The temperate grasslands of North America are known as _____.

ଉତ୍ତର ଆମେରିକାର ନାତିଶୀତୋଷ୍ଣ ଜୁଣଭୂମି _____ ହିସାବରେ ପରିଚିତ।

Options:

1) Praries

ପ୍ରରିବେଶ

2) Savannas

ସାଭାନା

3) Downs

ଉନ୍ନତ ବିସ୍ତୃତ ଉଚ୍ଚଭୂମି

4) Velds

ବେଲାଡର୍ସ

Correct Answer: 1) Praries

ପ୍ରରିବେଶ

Candidate Answer: 1) Praries

ପ୍ରରିବେଶ

QID : 899 - How much area of Odisha is covered by forests?

ଓଡ଼ିଶାର କେତେ ଅଞ୍ଚଳ ବନାଞ୍ଚଳ ଦ୍ୱାରା ଆବୃତ?

Options:

1) 1/2

2) 1/3

3) 1/4

4) 2/3

Correct Answer: 2) 1/3

Candidate Answer: 1) 1/2

QID : 900 - In which part of Odisha coastal plain is Chilka Lake found?

ଓଡ଼ିଶା ଉପକୂଳୀୟ ସମତଳର କଣ ଅଂଶରେ ଚିଲିକା ହ୍ରଦ ମିଳି ଯାଏ?

Options:

1) Eastern

ପୂର୍ବ

2) Western

ପଶ୍ଚିମ

3) Northern

ଉତ୍ତରାଞ୍ଚଳୀୟ

4) Southern

ଦକ୍ଷିଣ

Correct Answer: 4) Southern

ଦକ୍ଷିଣ

Candidate Answer: 4) Southern

ଦକ୍ଷିଣ

