

Education Consultant India Ltd.

Notations :

- 1.Options shown in green color and with ✓ icon are correct.
- 2.Options shown in red color and with ✖ icon are incorrect.

Question Paper Name:	Nursing Officer 28th August 2019 S3
Subject Name:	Nursing Officer
Creation Date:	2019-08-28 22:14:01
Duration:	120
Total Marks:	200
Display Marks:	Yes
Share Answer Key With Delivery Engine:	No
Actual Answer Key:	Yes
Calculator:	None
Magnifying Glass Required?:	No
Ruler Required?:	No
Eraser Required?:	No
Scratch Pad Required?:	No
Rough Sketch/Notepad Required?:	No
Protractor Required?:	No
Show Watermark on Console?:	Yes
Highlighter:	No
Auto Save on Console?:	No

Mental Ability

Group Number :	1
Group Id :	966231144
Group Maximum Duration :	0
Group Minimum Duration :	0
Revisit allowed for view? :	No
Revisit allowed for edit? :	No
Break time:	0
Group Marks:	20
Revisit allowed for group Instructions? :	Yes
Maximum Instruction Time:	0
Minimum Instruction Time:	0

Mental Ability

Section Id :	966231259
Section Number :	1
Section type :	Online
Mandatory or Optional:	Mandatory
Number of Questions:	20
Number of Questions to be attempted:	20
Section Marks:	20

Display Number Panel: Yes
Group All Questions: No

Sub-Section Number: 1
Sub-Section Id: 966231283
Question Shuffling Allowed : Yes

Question Number : 1 Question Id : 9662317025 Question Type : MCQ Option Shuffling : Yes Display Question Number : Yes
Single Line Question Option : No Option Orientation : Vertical

Correct Marks : 1 Wrong Marks : 0.25

Some letters are numbered as 1,2,3,4,5 and 6. In the options, four possible arrangements of these numbers are given. Choose the option so that the letters form a meaningful word.

L E G A N C
1 2 3 4 5 6

Options :

1. ✘ 614532
2. ✘ 546123
3. ✔ 314562
4. ✘ 312645

Question Number : 1 Question Id : 9662317025 Question Type : MCQ Option Shuffling : Yes Display Question Number : Yes
Single Line Question Option : No Option Orientation : Vertical

Correct Marks : 1 Wrong Marks : 0.25

कुछ अक्षरों को 1,2,3,4,5 और 6 क्रमांक दिए गए हैं। विकल्पों में, इन संख्याओं की चार संभावित व्यवस्थाएँ दी गई हैं। उस विकल्प का चयन करें ताकि अक्षर एक सार्थक शब्द बन सकें।

L E G A N C
1 2 3 4 5 6

Options :

1. ✘ 614532
2. ✘ 546123
3. ✔ 314562
4. ✘ 312645

Question Number : 2 Question Id : 9662317026 Question Type : MCQ Option Shuffling : Yes Display Question Number : Yes
Single Line Question Option : No Option Orientation : Vertical

Correct Marks : 1 Wrong Marks : 0.25

Out of the given options, three are similar in a certain manner. However, one option is NOT like the other three. Select the option which is different from the rest.

Options :

1. ✘ NPL
2. ✘ GIE
3. ✘ SUQ
4. ✔ WUY

Question Number : 2 Question Id : 9662317026 Question Type : MCQ Option Shuffling : Yes Display Question Number : Yes
Single Line Question Option : No Option Orientation : Vertical

Correct Marks : 1 Wrong Marks : 0.25

दिए गए विकल्पों में से, तीन एक निश्चित तरीके से समान हैं। हालाँकि, एक विकल्प अन्य तीन की तरह नहीं है। उस विकल्प का चयन करें जो बाकी से अलग है।

Options :

1. ✘ NPL
2. ✘ GIE
3. ✘ SUQ
4. ✔ WUY

Question Number : 3 Question Id : 9662317027 Question Type : MCQ Option Shuffling : Yes Display Question Number : Yes
Single Line Question Option : No Option Orientation : Vertical

Correct Marks : 1 Wrong Marks : 0.25

Out of the given options, three are similar in a certain manner. However, one option is NOT like the other three. Select the option which is different from the rest.

Options :

1. ✔ Buffalo
2. ✘ Lamb
3. ✘ Foal
4. ✘ Fawn

Question Number : 3 Question Id : 9662317027 Question Type : MCQ Option Shuffling : Yes Display Question Number : Yes
Single Line Question Option : No Option Orientation : Vertical

Correct Marks : 1 Wrong Marks : 0.25

दिए गए विकल्पों में से, तीन एक निश्चित तरीके से समान हैं। हालाँकि, एक विकल्प अन्य तीन की तरह नहीं है। उस विकल्प का चयन करें जो बाकी से अलग है।

Options :

1. ✔ भैंस
2. ✘ मेमना
3. ✘ घोड़े का बच्चा
4. ✘ हिरन का बच्चा

Question Number : 4 Question Id : 9662317028 Question Type : MCQ Option Shuffling : Yes Display Question Number : Yes
Single Line Question Option : No Option Orientation : Vertical

Correct Marks : 1 Wrong Marks : 0.25

Select the option that is related to the third term on the same basis as the second term is related to the first term.

TOD : VQF :: MPR : ?

Options :

1. ✘ PQS
2. ✔ ORT
3. ✘ NFR
4. ✘ NQS

Question Number : 4 Question Id : 9662317028 Question Type : MCQ Option Shuffling : Yes Display Question Number : Yes
Single Line Question Option : No Option Orientation : Vertical

Correct Marks : 1 Wrong Marks : 0.25

उस विकल्प का चयन करें जो तीसरे पद से उसी प्रकार से संबंधित है जिस प्रकार से पहला पद दूसरे पद से संबंधित है।

TOD : VQF :: MPR : ?

Options :

1. ✘ PQS
2. ✔ ORT
3. ✘ NFR
4. ✘ NQS

Question Number : 5 Question Id : 9662317029 Question Type : MCQ Option Shuffling : Yes Display Question Number : Yes
Single Line Question Option : No Option Orientation : Vertical

Correct Marks : 1 Wrong Marks : 0.25

In a certain code language, BEE = 9, TREE = 12, FIRST = 15, then what will be RAINBOW coded as?

Options :

1. ✘ 18
2. ✔ 21
3. ✘ 6
4. ✘ 12

Question Number : 5 Question Id : 9662317029 Question Type : MCQ Option Shuffling : Yes Display Question Number : Yes
Single Line Question Option : No Option Orientation : Vertical

Correct Marks : 1 Wrong Marks : 0.25

एक निश्चित कोड भाषा में, BEE = 9, TREE = 12, FIRST = 15 है, तो RAINBOW का कोड क्या होगा?

Options :

1. ✘ 18
2. ✔ 21
3. ✘ 6
4. ✘ 12

Question Number : 6 Question Id : 9662317030 Question Type : MCQ Option Shuffling : Yes Display Question Number : Yes
Single Line Question Option : No Option Orientation : Vertical

Correct Marks : 1 Wrong Marks : 0.25

In a certain code language 56789 is coded as 13579, then what will 78365 be coded as?

Options :

1. ✘ 36996
2. ✔ 35155
3. ✘ 23476
4. ✘ 12548

Question Number : 6 Question Id : 9662317030 Question Type : MCQ Option Shuffling : Yes Display Question Number : Yes
Single Line Question Option : No Option Orientation : Vertical

Correct Marks : 1 Wrong Marks : 0.25

एक निश्चित कोड भाषा में 56789 को 13579 के रूप में कोडित किया जाता है, तो 78365 कैसे कोडित किया जाएगा?

Options :

1. ✘ 36996
2. ✔ 35155
3. ✘ 23476
4. ✘ 12548

Question Number : 7 Question Id : 9662317031 Question Type : MCQ Option Shuffling : Yes Display Question Number : Yes
Single Line Question Option : No Option Orientation : Vertical

Correct Marks : 1 Wrong Marks : 0.25

Five boys Ashish, Bijay, Raj, Shubham and Mohit read a novel. The one who reads first gives it to Raj. The one who reads last had taken the novel from Ashish. Mohit was not the first or last to read. There were two readers between Bijay and Ashish. Whom did Bijay pass the novel to?

Options :

1. ✘ Shubham
2. ✘ Ashish
3. ✘ Mohit
4. ✔ Raj

Question Number : 7 Question Id : 9662317031 Question Type : MCQ Option Shuffling : Yes Display Question Number : Yes
Single Line Question Option : No Option Orientation : Vertical

Correct Marks : 1 Wrong Marks : 0.25

पाँच लड़के आशीष, बिजय, राज, शुभम और मोहित ने एक उपन्यास पढ़ा जिसने पहले पढ़ी उसने उसे राज को दे दी जिसने अंत में पढ़ी उसने वह उपन्यास आशीष से ली थी। मोहित पढ़ने वाला पहला या आखिरी व्यक्ति नहीं था। बिजय और आशीष के बीच दो पाठक थे। बिजय ने किसको उपन्यास दिया?

Options :

1. ✘ शुभम
2. ✘ आशीष
3. ✘ मोहित
4. ✔ राज

Question Number : 8 Question Id : 9662317032 Question Type : MCQ Option Shuffling : Yes Display Question Number : Yes
Single Line Question Option : No Option Orientation : Vertical

Correct Marks : 1 Wrong Marks : 0.25

Read the given statement and conclusions carefully. Assuming that the information in the statement is true, even if they appear to be in variance with commonly known facts, select which of the conclusions logically follow(s) from the statement beyond reasonable doubt.

Statements:-

- I. All lions are tigers.
- II. All tigers are cats.

Conclusions:-

- I. Some cats are lions.
- II. Some tigers are lions.

Options :

1. ✘ Only Conclusion I follows.
2. ✘ Only Conclusion II follows.
3. ✘ Neither of the conclusion follows.
4. ✔ Both I and II follows

Question Number : 8 Question Id : 9662317032 Question Type : MCQ Option Shuffling : Yes Display Question Number : Yes
Single Line Question Option : No Option Orientation : Vertical

Correct Marks : 1 Wrong Marks : 0.25

दिए गए कथन और निष्कर्षों को ध्यान से पढ़ें। यह मानते हुए कि कथन में दी गई जानकारी सत्य है, भले ही वे सामान्यतः ज्ञात तथ्यों के साथ विचरण करते हुए दिखाई देते हों, उस निष्कर्ष का चयन करें जो उचित संदेह से परे उस कथन का तार्किक रूप से अनुसरण करें।

कथन:-

- I. सभी शेर बाघ हैं।
- II. सभी बाघ बिल्लियाँ हैं।

निष्कर्ष:-

- I. कुछ बिल्लियाँ शेर हैं।
- II. कुछ बाघ शेर हैं।

Options :

1. ✘ केवल निष्कर्ष I अनुसरण करता है।
2. ✘ केवल निष्कर्ष II अनुसरण करता है।
3. ✘ कोई भी निष्कर्ष अनुसरण नहीं करता।
4. ✔ I और II दोनों अनुसरण करते हैं।

Question Number : 9 Question Id : 9662317033 Question Type : MCQ Option Shuffling : Yes Display Question Number : Yes
Single Line Question Option : No Option Orientation : Vertical

Correct Marks : 1 Wrong Marks : 0.25

Out of the given options, three are similar in a certain manner. However, one option is NOT like the other three. Select the option which is different from the rest.

Options :

1. ✘ 151
2. ✘ 197
3. ✔ 143
4. ✘ 137

Question Number : 9 Question Id : 9662317033 Question Type : MCQ Option Shuffling : Yes Display Question Number : Yes
Single Line Question Option : No Option Orientation : Vertical

Correct Marks : 1 Wrong Marks : 0.25

दिए गए विकल्पों में से, तीन एक निश्चित तरीके से समान हैं। हालाँकि, एक विकल्प अन्य तीन की तरह नहीं है। उस विकल्प का चयन करें जो बाकी से अलग है।

Options :

1. ✘ 151
2. ✘ 197
3. ✔ 143
4. ✘ 137

Question Number : 10 Question Id : 9662317034 Question Type : MCQ Option Shuffling : Yes Display Question Number : Yes
Single Line Question Option : No Option Orientation : Vertical

Correct Marks : 1 Wrong Marks : 0.25

Select the option that is related to the third number on the same basis as the second number is related to the first number.

-15 : 225 :: 17 : ?

Options :

1. ✔ 289
2. ✘ -289
3. ✘ 285
4. ✘ -285

Question Number : 10 Question Id : 9662317034 Question Type : MCQ Option Shuffling : Yes Display Question Number : Yes
Single Line Question Option : No Option Orientation : Vertical

Correct Marks : 1 Wrong Marks : 0.25

उस विकल्प का चयन करें जो तीसरी संख्या से उसी प्रकार से संबंधित है जिस प्रकार से दूसरी संख्या पहली संख्या से संबंधित है

$$-15 : 225 :: 17 : ?$$

Options :

1. ✓ 289
2. ✗ -289
3. ✗ 285
4. ✗ -285

Question Number : 11 Question Id : 9662317035 Question Type : MCQ Option Shuffling : Yes Display Question Number : Yes
Single Line Question Option : No Option Orientation : Vertical

Correct Marks : 1 Wrong Marks : 0.25

Which two signs should be interchanged to make the below equation mathematically correct?

$$60 + 4 \times 4 - 2 \div 2 = 57$$

Options :

1. ✗ +, -
2. ✗ +, ÷
3. ✓ x, ÷
4. ✗ -, ÷

Question Number : 11 Question Id : 9662317035 Question Type : MCQ Option Shuffling : Yes Display Question Number : Yes
Single Line Question Option : No Option Orientation : Vertical

Correct Marks : 1 Wrong Marks : 0.25

नीचे दिए गए समीकरण को गणितीय रूप से सही बनाने के लिए किन दो चिन्हों को परस्पर स्थानांतरित करना चाहिए?

$$60 + 4 \times 4 - 2 \div 2 = 57$$

Options :

1. ✗ +, -
2. ✗ +, ÷
3. ✓ x, ÷
4. ✗ -, ÷

Question Number : 12 Question Id : 9662317036 Question Type : MCQ Option Shuffling : Yes Display Question Number : Yes
Single Line Question Option : No Option Orientation : Vertical

Correct Marks : 1 Wrong Marks : 0.25

Which two numbers should be interchanged to make the below equation mathematically correct?

$$10 \div 5 \times 6 + 3 - 4 = 8$$

Options :

1. ✗ 10, 4
2. ✗ 3, 4
3. ✗ 6, 4
4. ✓ 6, 3

Question Number : 12 Question Id : 9662317036 Question Type : MCQ Option Shuffling : Yes Display Question Number : Yes
Single Line Question Option : No Option Orientation : Vertical

Correct Marks : 1 Wrong Marks : 0.25

नीचे दिए गए समीकरण को गणितीय रूप से सही बनाने के लिए किन दो संख्याओं को आपस में स्थानांतरित किया जाना चाहिए?

$$10 \div 5 \times 6 + 3 - 4 = 8$$

Options :

1. ✘ 10, 4
2. ✘ 3, 4
3. ✘ 6, 4
4. ✔ 6, 3

Question Number : 13 Question Id : 9662317037 Question Type : MCQ Option Shuffling : Yes Display Question Number : Yes
Single Line Question Option : No Option Orientation : Vertical

Correct Marks : 1 Wrong Marks : 0.25

Find the missing number in the following number series.

29, 37, 46, _____, 67

Options :

1. ✘ 55
2. ✘ 52
3. ✔ 56
4. ✘ 54

Question Number : 13 Question Id : 9662317037 Question Type : MCQ Option Shuffling : Yes Display Question Number : Yes
Single Line Question Option : No Option Orientation : Vertical

Correct Marks : 1 Wrong Marks : 0.25

निम्नलिखित संख्या श्रेणी में गायब संख्या ज्ञात करें

29, 37, 46, _____, 67

Options :

1. ✘ 55
2. ✘ 52
3. ✔ 56
4. ✘ 54

Question Number : 14 Question Id : 9662317038 Question Type : MCQ Option Shuffling : Yes Display Question Number : Yes
Single Line Question Option : No Option Orientation : Vertical

Correct Marks : 1 Wrong Marks : 0.25

Find the number which when added to itself 17 times, gives 216.

Options :

1. ✘ 17
2. ✘ 18
3. ✘ 19
4. ✔ 12

Question Number : 14 Question Id : 9662317038 Question Type : MCQ Option Shuffling : Yes Display Question Number : Yes
Single Line Question Option : No Option Orientation : Vertical

Correct Marks : 1 Wrong Marks : 0.25

वह संख्या ज्ञात करें, जो 17 बार अपने आप से जोड़े, तो 216 प्राप्त होता है।

Options :

1. ✘ 17
2. ✘ 18

3. ✘ 19



4. ✔ 12

Question Number : 15 Question Id : 9662317039 Question Type : MCQ Option Shuffling : Yes Display Question Number : Yes
Single Line Question Option : No Option Orientation : Vertical

Correct Marks : 1 Wrong Marks : 0.25

Which of the following Venn diagrams best represents the relationship between mothers, teachers and singers?

Options :




Question Number : 15 Question Id : 9662317039 Question Type : MCQ Option Shuffling : Yes Display Question Number : Yes
Single Line Question Option : No Option Orientation : Vertical

Correct Marks : 1 Wrong Marks : 0.25


निम्नलिखित वेन आरेख में से कौन सा आरेख माताओं, शिक्षकों और गायकों के बीच संबंध को सबसे अच्छा दर्शाता है?

Options :





3. ✘



4. ✔

Question Number : 16 Question Id : 9662317040 Question Type : MCQ Option Shuffling : Yes Display Question Number : Yes
Single Line Question Option : No Option Orientation : Vertical

Correct Marks : 1 Wrong Marks : 0.25

Aman walks 8 km north, then turns east and walks 2 km, then turns south and walks 5 km, then turns to his right and walks 2 km. Where is he now with respect to his starting position?

Options :

1. ✘ 5 km north
2. ✘ 5 km south
3. ✘ 3 km south
4. ✔ 3 km north

Question Number : 16 Question Id : 9662317040 Question Type : MCQ Option Shuffling : Yes Display Question Number : Yes
Single Line Question Option : No Option Orientation : Vertical

Correct Marks : 1 Wrong Marks : 0.25

अमन 8 km उत्तर की ओर चलता है, फिर पूर्व की ओर मुड़ता है और 2 km चलता है, फिर दक्षिण की ओर मुड़ता है और 5 km चलता है, फिर अपने दाईं ओर मुड़ता है और 2 km चलता है। अब वह अपनी प्रारंभिक बिंदु के संबंध से किस दिशा में है?

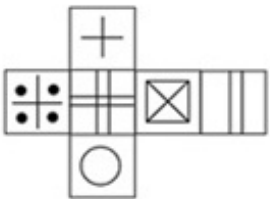
Options :

1. ✘ 5 km उत्तर
2. ✘ 5 km दक्षिण
3. ✘ 3 km दक्षिण
4. ✔ 3 km उत्तर

Question Number : 17 Question Id : 9662317041 Question Type : MCQ Option Shuffling : Yes Display Question Number : Yes
Single Line Question Option : No Option Orientation : Vertical

Correct Marks : 1 Wrong Marks : 0.25

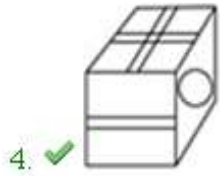
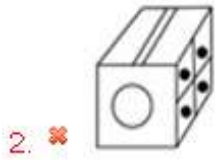
Which of the following cubes in the answer figure CANNOT be made based on the unfolded cube in the question figure?



Options :



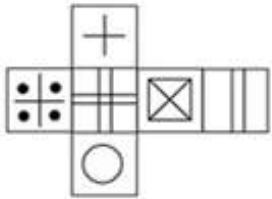
1. ✘



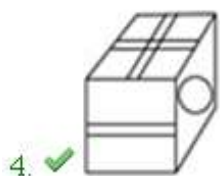
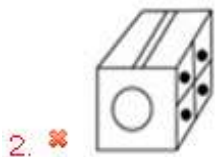
Question Number : 17 Question Id : 9662317041 Question Type : MCQ Option Shuffling : Yes Display Question Number : Yes
Single Line Question Option : No Option Orientation : Vertical

Correct Marks : 1 Wrong Marks : 0.25

उत्तर आकृति में किस घन को प्रश्न आकृति में प्रकट घन के आधार पर नहीं बनाया जा सकता है?



Options :



Question Number : 18 Question Id : 9662317042 Question Type : MCQ Option Shuffling : Yes Display Question Number : Yes
Single Line Question Option : No Option Orientation : Vertical

Correct Marks : 1 Wrong Marks : 0.25

Out of the given options, three are similar in a certain manner. However, one option is NOT like the other three. Select the option which is different from the rest.

Options :

1. ✘

H	Q	Y
N	I	X
O	S	Z

2. ✘

X	Q	Y
Z	S	H
N	O	I

3. ✘

X	I	Z
N	Q	S
H	Y	O

4. ✔

O	S	X
Y	O	N
I	H	Z

Question Number : 18 Question Id : 9662317042 Question Type : MCQ Option Shuffling : Yes Display Question Number : Yes Single Line Question Option : No Option Orientation : Vertical

Correct Marks : 1 Wrong Marks : 0.25

दिए गए विकल्पों में से तीन एक निश्चित तरीके से समान हैं। हालाँकि, एक विकल्प अन्य तीन की तरह नहीं है। उस विकल्प का चयन करें जो अन्य से अलग है।

Options :

1. ✘

H	Q	Y
N	I	X
O	S	Z

2. ✘

X	Q	Y
Z	S	H
N	O	I

3. ✘

X	I	Z
N	Q	S
H	Y	O

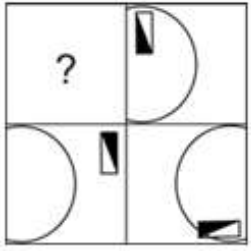
4. ✔

O	S	X
Y	O	N
I	H	Z

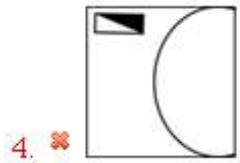
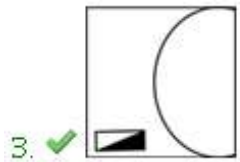
Question Number : 19 Question Id : 9662317043 Question Type : MCQ Option Shuffling : Yes Display Question Number : Yes
Single Line Question Option : No Option Orientation : Vertical

Correct Marks : 1 Wrong Marks : 0.25

कौन सी उत्तर आकृति प्रश्न आकृति में पैटर्न के पूरा करेगी?



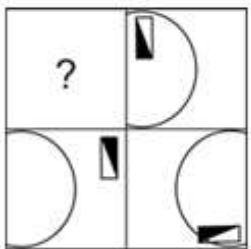
Options :



Question Number : 19 Question Id : 9662317043 Question Type : MCQ Option Shuffling : Yes Display Question Number : Yes
Single Line Question Option : No Option Orientation : Vertical

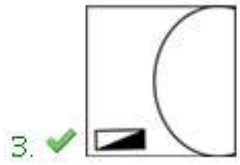
Correct Marks : 1 Wrong Marks : 0.25

Which answer figure will complete the pattern in the question figure?



Options :

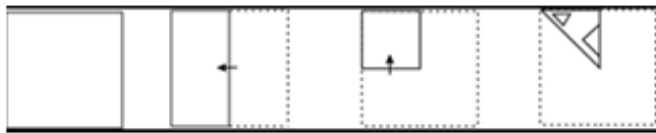




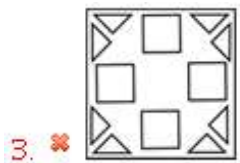
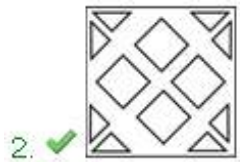
Question Number : 20 Question Id : 9662317044 Question Type : MCQ Option Shuffling : Yes Display Question Number : Yes
 Single Line Question Option : No Option Orientation : Vertical

Correct Marks : 1 Wrong Marks : 0.25

A piece of paper is folded and punched as shown below in the question figures. From the given answer figures, indicate how it will appear when opened.



Options :



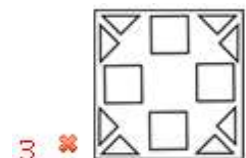
Question Number : 20 Question Id : 9662317044 Question Type : MCQ Option Shuffling : Yes Display Question Number : Yes
 Single Line Question Option : No Option Orientation : Vertical

Correct Marks : 1 Wrong Marks : 0.25

प्रश्न आकृति में नीचे दिखाए अनुसार पेपर के टुकड़े को मोड़कर उसमें छेद किए गए हैं। दी गई उत्तर आकृतियों से, इंगित करें कि इसे खोले जाने पर यह कैसा दिखाई देगा।



Options :



General Awareness

Group Number :	2
Group Id :	966231145
Group Maximum Duration :	0
Group Minimum Duration :	0
Revisit allowed for view? :	No
Revisit allowed for edit? :	No
Break time:	0
Group Marks:	20
Revisit allowed for group Instructions? :	Yes
Maximum Instruction Time:	0
Minimum Instruction Time:	0

General Awareness

Section Id :	966231260
Section Number :	1
Section type :	Online
Mandatory or Optional:	Mandatory
Number of Questions:	20
Number of Questions to be attempted:	20
Section Marks:	20

Display Number Panel: Yes
Group All Questions: No

Sub-Section Number: 1
Sub-Section Id: 966231284
Question Shuffling Allowed : Yes

Question Number : 21 Question Id : 9662317045 Question Type : MCQ Option Shuffling : Yes Display Question Number : Yes
Single Line Question Option : No Option Orientation : Vertical

Correct Marks : 1 Wrong Marks : 0.25

With which of the following states Raut Nacha dance is associated?

Options :

- ✓ Chattisgarh
- ✗ Assam
- ✗ Arunachal Pradesh
- ✗ Bihar

Question Number : 21 Question Id : 9662317045 Question Type : MCQ Option Shuffling : Yes Display Question Number : Yes
Single Line Question Option : No Option Orientation : Vertical

Correct Marks : 1 Wrong Marks : 0.25

राउत नाचा नृत्य निम्नलिखित में से किस राज्य के साथ जुड़ा है?

Options :

- ✓ छत्तीसगढ़
- ✗ असम
- ✗ अरुणाचल प्रदेश
- ✗ बिहार

Question Number : 22 Question Id : 9662317046 Question Type : MCQ Option Shuffling : Yes Display Question Number : Yes
Single Line Question Option : No Option Orientation : Vertical

Correct Marks : 1 Wrong Marks : 0.25

With which of the following state is Jhoda folk music related to?

Options :

- ✗ Himachal Pradesh
- ✗ Assam
- ✓ Uttarakhand
- ✗ Goa

Question Number : 22 Question Id : 9662317046 Question Type : MCQ Option Shuffling : Yes Display Question Number : Yes
Single Line Question Option : No Option Orientation : Vertical

Correct Marks : 1 Wrong Marks : 0.25

निम्नलिखित में से किस राज्य के साथ झोड़ा लोक संगीत संबंधित है?

Options :

- ✗ हिमाचल प्रदेश
- ✗ असम
- ✓ उत्तराखंड
- ✗ गोवा

Question Number : 23 Question Id : 9662317047 Question Type : MCQ Option Shuffling : Yes Display Question Number : Yes
Single Line Question Option : No Option Orientation : Vertical

Correct Marks : 1 Wrong Marks : 0.25

Sekrenyi festival, which is a 10 day celebration signifying purification and sanctification, is associated with which of the following states?

Options :

1. ✓ Nagaland
2. ✗ Himachal Pradesh
3. ✗ Assam
4. ✗ Manipur

Question Number : 23 Question Id : 9662317047 Question Type : MCQ Option Shuffling : Yes Display Question Number : Yes
Single Line Question Option : No Option Orientation : Vertical

Correct Marks : 1 Wrong Marks : 0.25

सेक्रेनी त्योहार, जो कि शुद्धि और पवित्रता को दर्शाने वाला 10 दिनों का उत्सव है, निम्नलिखित में से किस राज्य के साथ जुड़ा है?

Options :

1. ✓ नागालैंड
2. ✗ हिमाचल प्रदेश
3. ✗ असम
4. ✗ मणिपुर

Question Number : 24 Question Id : 9662317048 Question Type : MCQ Option Shuffling : Yes Display Question Number : Yes
Single Line Question Option : No Option Orientation : Vertical

Correct Marks : 1 Wrong Marks : 0.25

Which of the following banks primarily focuses on the development of MSME (Micro, Small and Medium Enterprise) sector?

Options :

1. ✗ SBI
2. ✓ SIDBI
3. ✗ NABARD
4. ✗ RBI

Question Number : 24 Question Id : 9662317048 Question Type : MCQ Option Shuffling : Yes Display Question Number : Yes
Single Line Question Option : No Option Orientation : Vertical

Correct Marks : 1 Wrong Marks : 0.25

निम्नलिखित में से कौन सा बैंक मुख्य रूप से MSME (सूक्ष्म, लघु और मध्यम उद्यम) क्षेत्र के विकास पर केंद्रित है?

Options :

1. ✗ स्टेट बैंक ऑफ इंडिया
2. ✓ भारतीय लघु उद्योग विकास बैंक
3. ✗ राष्ट्रीय कृषि और ग्रामीण विकास बैंक
4. ✗ भारतीय रिज़र्व बैंक

Question Number : 25 Question Id : 9662317049 Question Type : MCQ Option Shuffling : Yes Display Question Number : Yes
Single Line Question Option : No Option Orientation : Vertical

Correct Marks : 1 Wrong Marks : 0.25

Which among the following is a tax that is levied on the basis of value?

Options :

1. ✗ Specific Duty
2. ✗ Progressive tax

- ✘ Excise duty
- ✔ Ad Valorem tax

Question Number : 25 Question Id : 9662317049 Question Type : MCQ Option Shuffling : Yes Display Question Number : Yes
Single Line Question Option : No Option Orientation : Vertical

Correct Marks : 1 Wrong Marks : 0.25

निम्नलिखित में से कौन सा ऐसा कर है जो मूल्य के आधार पर लगाया जाता है?

Options :

- ✘ विशिष्ट शुल्क
- ✘ आरोही कराधान
- ✘ उत्पाद शुल्क
- ✔ एड वेलोरेम टैक्स

Question Number : 26 Question Id : 9662317050 Question Type : MCQ Option Shuffling : Yes Display Question Number : Yes
Single Line Question Option : No Option Orientation : Vertical

Correct Marks : 1 Wrong Marks : 0.25

According to Boyle's Law, which of the following is constant?

Options :

- ✔ PV
- ✘ V/T
- ✘ PT
- ✘ P/T

Question Number : 26 Question Id : 9662317050 Question Type : MCQ Option Shuffling : Yes Display Question Number : Yes
Single Line Question Option : No Option Orientation : Vertical

Correct Marks : 1 Wrong Marks : 0.25

बॉयल के नियम के अनुसार, निम्नलिखित में से कौनसा एक स्थिरांक है?

Options :

- ✔ PV
- ✘ V/T
- ✘ PT
- ✘ P/T

Question Number : 27 Question Id : 9662317051 Question Type : MCQ Option Shuffling : Yes Display Question Number : Yes
Single Line Question Option : No Option Orientation : Vertical

Correct Marks : 1 Wrong Marks : 0.25

What is the rod shaped bacteria called?

Options :

- ✘ Coccus
- ✔ Bacillus
- ✘ Vibrium
- ✘ Spirillum

Question Number : 27 Question Id : 9662317051 Question Type : MCQ Option Shuffling : Yes Display Question Number : Yes
Single Line Question Option : No Option Orientation : Vertical

Correct Marks : 1 Wrong Marks : 0.25

छड़ के आकार के जीवाणु को क्या कहा जाता है?

Options :

- ✘ कॉकस

2. ✓ बैसिलस
3. ✗ वाइब्रियम
4. ✗ स्फिरिलियम

Question Number : 28 Question Id : 9662317052 Question Type : MCQ Option Shuffling : Yes Display Question Number : Yes
Single Line Question Option : No Option Orientation : Vertical

Correct Marks : 1 Wrong Marks : 0.25

Which of the following is the longest strait of the world?

Options :

1. ✓ Strait of Malacca
2. ✗ Denmark Strait
3. ✗ Sunda Strait
4. ✗ Bering Strait

Question Number : 28 Question Id : 9662317052 Question Type : MCQ Option Shuffling : Yes Display Question Number : Yes
Single Line Question Option : No Option Orientation : Vertical

Correct Marks : 1 Wrong Marks : 0.25

निम्नलिखित में से कौन सा दुनिया का सबसे लंबा जलडमरूमध्य है?

Options :

1. ✓ मलक्का जलडमरूमध्य
2. ✗ डेनमार्क जलडमरूमध्य
3. ✗ सुंडा जलडमरूमध्य
4. ✗ बेरिंग जलडमरूमध्य

Question Number : 29 Question Id : 9662317053 Question Type : MCQ Option Shuffling : Yes Display Question Number : Yes
Single Line Question Option : No Option Orientation : Vertical

Correct Marks : 1 Wrong Marks : 0.25

In which of the following states is the Pandoh Dam located?

Options :

1. ✗ Assam
2. ✗ Maharashtra
3. ✗ Gujarat
4. ✓ Himachal Pradesh

Question Number : 29 Question Id : 9662317053 Question Type : MCQ Option Shuffling : Yes Display Question Number : Yes
Single Line Question Option : No Option Orientation : Vertical

Correct Marks : 1 Wrong Marks : 0.25

पंडोह बांध निम्नलिखित में से किस राज्य में स्थित है?

Options :

1. ✗ असम
2. ✗ महाराष्ट्र
3. ✗ गुजरात
4. ✓ हिमाचल प्रदेश

Question Number : 30 Question Id : 9662317054 Question Type : MCQ Option Shuffling : Yes Display Question Number : Yes
Single Line Question Option : No Option Orientation : Vertical

Correct Marks : 1 Wrong Marks : 0.25

In which of the following states is the Karakoram mountain range located?

Options :

1. ✓ Jammu and Kashmir
2. ✗ Meghalaya
3. ✗ Manipur
4. ✗ Assam

Question Number : 30 Question Id : 9662317054 Question Type : MCQ Option Shuffling : Yes Display Question Number : Yes
Single Line Question Option : No Option Orientation : Vertical

Correct Marks : 1 Wrong Marks : 0.25

काराकोरम पर्वत श्रृंखला निम्नलिखित में से किस राज्य में स्थित है?

Options :

1. ✓ जम्मू और कश्मीर
2. ✗ मेघालय
3. ✗ मणिपुर
4. ✗ असम

Question Number : 31 Question Id : 9662317055 Question Type : MCQ Option Shuffling : Yes Display Question Number : Yes
Single Line Question Option : No Option Orientation : Vertical

Correct Marks : 1 Wrong Marks : 0.25

When was Subash Chandra Bose elected as the president of Indian National Congress?

Options :

1. ✗ 1930
2. ✓ 1938
3. ✗ 1935
4. ✗ 1932

Question Number : 31 Question Id : 9662317055 Question Type : MCQ Option Shuffling : Yes Display Question Number : Yes
Single Line Question Option : No Option Orientation : Vertical

Correct Marks : 1 Wrong Marks : 0.25

सुभाष चंद्र बोस को भारतीय राष्ट्रीय कांग्रेस के अध्यक्ष के रूप में कब चुना गया था?

Options :

1. ✗ 1930
2. ✓ 1938
3. ✗ 1935
4. ✗ 1932

Question Number : 32 Question Id : 9662317056 Question Type : MCQ Option Shuffling : Yes Display Question Number : Yes
Single Line Question Option : No Option Orientation : Vertical

Correct Marks : 1 Wrong Marks : 0.25

Humayun was succeeded by _____.

Options :

1. ✓ Akbar
2. ✗ Jahangir
3. ✗ Babur
4. ✗ Shah Jahan

Question Number : 32 Question Id : 9662317056 Question Type : MCQ Option Shuffling : Yes Display Question Number : Yes
Single Line Question Option : No Option Orientation : Vertical

Correct Marks : 1 Wrong Marks : 0.25

हुमायूँ _____ द्वारा सफल हुआ था।

Options :

- ✓ अकबर
- ✗ जहाँगीर
- ✗ बाबर
- ✗ शाह जहाँ

Question Number : 33 Question Id : 9662317057 Question Type : MCQ Option Shuffling : Yes Display Question Number : Yes
Single Line Question Option : No Option Orientation : Vertical

Correct Marks : 1 Wrong Marks : 0.25

When was the battle of Chausa fought?

Options :

- ✗ 1535
- ✓ 1539
- ✗ 1545
- ✗ 1560

Question Number : 33 Question Id : 9662317057 Question Type : MCQ Option Shuffling : Yes Display Question Number : Yes
Single Line Question Option : No Option Orientation : Vertical

Correct Marks : 1 Wrong Marks : 0.25

चौसा का युद्ध कब लड़ा गया था?

Options :

- ✗ 1535
- ✓ 1539
- ✗ 1545
- ✗ 1560

Question Number : 34 Question Id : 9662317058 Question Type : MCQ Option Shuffling : Yes Display Question Number : Yes
Single Line Question Option : No Option Orientation : Vertical

Correct Marks : 1 Wrong Marks : 0.25

Who among the following is the secretary general of the United Nations?

Options :

- ✗ Yonov Frederick Agah
- ✗ Roberto Azevedo
- ✓ Antonio Guterres
- ✗ Karl Brauner

Question Number : 34 Question Id : 9662317058 Question Type : MCQ Option Shuffling : Yes Display Question Number : Yes
Single Line Question Option : No Option Orientation : Vertical

Correct Marks : 1 Wrong Marks : 0.25

निम्नलिखित में से कौन संयुक्त राष्ट्र के महासचिव हैं?

Options :

- ✗ योनोव फ्रेडरिक अगाह
- ✗ रॉबर्टो अजेवेडो
- ✓ एंटोनियो गुटेरेस
- ✗ कार्ल ब्रूनर

Question Number : 35 Question Id : 9662317059 Question Type : MCQ Option Shuffling : Yes Display Question Number : Yes
Single Line Question Option : No Option Orientation : Vertical

Correct Marks : 1 Wrong Marks : 0.25

Bhanu Athaiya won an oscar in 1982. She was a/an _____.

Options :

1. ✘ actress
2. ✘ filmmaker
3. ✔ costume designer
4. ✘ sound designer

Question Number : 35 Question Id : 9662317059 Question Type : MCQ Option Shuffling : Yes Display Question Number : Yes
Single Line Question Option : No Option Orientation : Vertical

Correct Marks : 1 Wrong Marks : 0.25

भानु अथैया ने 1982 में एक ऑस्कर जीता था वह एक _____ थी।

Options :

1. ✘ अभिनेत्री
2. ✘ फिल्म निर्माता
3. ✔ कॉस्ट्यूम डिजाइनर
4. ✘ ध्वनि डिजाइनर

Question Number : 36 Question Id : 9662317060 Question Type : MCQ Option Shuffling : Yes Display Question Number : Yes
Single Line Question Option : No Option Orientation : Vertical

Correct Marks : 1 Wrong Marks : 0.25

Which amendment established National Commission for Backward Classes?

Options :

1. ✘ 101
2. ✔ 102
3. ✘ 96
4. ✘ 97

Question Number : 36 Question Id : 9662317060 Question Type : MCQ Option Shuffling : Yes Display Question Number : Yes
Single Line Question Option : No Option Orientation : Vertical

Correct Marks : 1 Wrong Marks : 0.25

किस संशोधन ने पिछड़े वर्ग के लिए राष्ट्रीय आयोग की स्थापना की?

Options :

1. ✘ 101
2. ✔ 102
3. ✘ 96
4. ✘ 97

Question Number : 37 Question Id : 9662317061 Question Type : MCQ Option Shuffling : Yes Display Question Number : Yes
Single Line Question Option : No Option Orientation : Vertical

Correct Marks : 1 Wrong Marks : 0.25

The concept of Fundamental Duties of the Indian Constitution is borrowed from the constitution of _____.

Options :

1. ✘ Germany
2. ✘ USA
3. ✘ Britain
4. ✔ Union of Soviet Socialist Republics

Question Number : 37 Question Id : 9662317061 Question Type : MCQ Option Shuffling : Yes Display Question Number : Yes
Single Line Question Option : No Option Orientation : Vertical

Correct Marks : 1 Wrong Marks : 0.25

भारतीय संविधान के मौलिक कर्तव्यों की अवधारणा _____ के संविधान से ली गई है।

Options :

- ✘ जर्मनी
- ✘ संयुक्त राज्य अमेरिका
- ✘ ब्रिटेन
- ✔ सोवियत समाजवादी गणतंत्रों का संघ

Question Number : 38 Question Id : 9662317062 Question Type : MCQ Option Shuffling : Yes Display Question Number : Yes
Single Line Question Option : No Option Orientation : Vertical

Correct Marks : 1 Wrong Marks : 0.25

The _____ schedule of the Indian Constitution contains the Forms of Oaths or Affirmations.

Options :

- ✘ Fifth
- ✘ Second
- ✔ Third
- ✘ Fourth

Question Number : 38 Question Id : 9662317062 Question Type : MCQ Option Shuffling : Yes Display Question Number : Yes
Single Line Question Option : No Option Orientation : Vertical

Correct Marks : 1 Wrong Marks : 0.25

भारतीय संविधान की _____ अनुसूची में शपथ या पुष्टि के प्रपत्र शामिल हैं।

Options :

- ✘ पांचवीं
- ✘ दूसरी
- ✔ तीसरी
- ✘ चौथी

Question Number : 39 Question Id : 9662317063 Question Type : MCQ Option Shuffling : Yes Display Question Number : Yes
Single Line Question Option : No Option Orientation : Vertical

Correct Marks : 1 Wrong Marks : 0.25

Which of the following teams was the first winner of the Premier Badminton League?

Options :

- ✘ Delhi Dashers
- ✘ Mumbai Rockets
- ✘ Bengaluru Raptors
- ✔ Hyderabad Hotshots

Question Number : 39 Question Id : 9662317063 Question Type : MCQ Option Shuffling : Yes Display Question Number : Yes
Single Line Question Option : No Option Orientation : Vertical

Correct Marks : 1 Wrong Marks : 0.25

निम्नलिखित में से कौन सी टीम प्रीमियर बैडमिंटन लीग की पहली विजेता थी?

Options :

- ✘ दिल्ली डैशर्स
- ✘ मुंबई रॉकेट्स
- ✘ बेंगलुरु रैप्टरर्स
- ✔ हैदराबाद हॉटशॉट्स

Question Number : 40 Question Id : 9662317064 Question Type : MCQ Option Shuffling : Yes Display Question Number : Yes
Single Line Question Option : No Option Orientation : Vertical

Correct Marks : 1 Wrong Marks : 0.25

Merdeka Cup is associated with which of the following sports?

Options :

1. ✓ Football
2. ✗ Golf
3. ✗ Hockey
4. ✗ Badminton

Question Number : 40 Question Id : 9662317064 Question Type : MCQ Option Shuffling : Yes Display Question Number : Yes
Single Line Question Option : No Option Orientation : Vertical

Correct Marks : 1 Wrong Marks : 0.25

मर्देका कप निम्नलिखित में से किस खेल के साथ जुड़ा है?

Options :

1. ✓ फुटबॉल
2. ✗ गॉल्फ़
3. ✗ हॉकी
4. ✗ बैडमिंटन

Arithmetic Ability

Group Number :	3
Group Id :	966231146
Group Maximum Duration :	0
Group Minimum Duration :	0
Revisit allowed for view? :	No
Revisit allowed for edit? :	No
Break time:	0
Group Marks:	20
Revisit allowed for group Instructions? :	Yes
Maximum Instruction Time:	0
Minimum Instruction Time:	0

Arithmetic Ability

Section Id :	966231261
Section Number :	1
Section type :	Online
Mandatory or Optional:	Mandatory
Number of Questions:	20
Number of Questions to be attempted:	20
Section Marks:	20
Display Number Panel:	Yes
Group All Questions:	No

Sub-Section Number:	1
Sub-Section Id:	966231285
Question Shuffling Allowed :	Yes

Question Number : 41 Question Id : 9662317065 Question Type : MCQ Option Shuffling : Yes Display Question Number : Yes
Single Line Question Option : No Option Orientation : Vertical

Correct Marks : 1 Wrong Marks : 0.25

Find the value of: $\sqrt{((14.7/2.1)*14/2)}$.

Options :

1. ✓ 7
2. ✗ 8
3. ✗ 9
4. ✗ 10

Question Number : 41 Question Id : 9662317065 Question Type : MCQ Option Shuffling : Yes Display Question Number : Yes
Single Line Question Option : No Option Orientation : Vertical

Correct Marks : 1 Wrong Marks : 0.25

$\sqrt{((14.7/2.1)*14/2)}$, का मूल्य ज्ञात करें।

Options :

1. ✓ 7
2. ✗ 8
3. ✗ 9
4. ✗ 10

Question Number : 42 Question Id : 9662317066 Question Type : MCQ Option Shuffling : Yes Display Question Number : Yes
Single Line Question Option : No Option Orientation : Vertical

Correct Marks : 1 Wrong Marks : 0.25

Find the greatest number that will divide 36, 64 and 92 and so as to leave the same remainder in each case.

Options :

1. ✗ 7
2. ✗ 21
3. ✓ 28
4. ✗ 14

Question Number : 42 Question Id : 9662317066 Question Type : MCQ Option Shuffling : Yes Display Question Number : Yes
Single Line Question Option : No Option Orientation : Vertical

Correct Marks : 1 Wrong Marks : 0.25

वह सबसे बड़ी संख्या ज्ञात करें जो 36, 64 और 92 को इस तरह विभाजित करे कि प्रत्येक मामले में एक ही शेषफल बाकी रहे।

Options :

1. ✗ 7
2. ✗ 21
3. ✓ 28
4. ✗ 14

Question Number : 43 Question Id : 9662317067 Question Type : MCQ Option Shuffling : Yes Display Question Number : Yes
Single Line Question Option : No Option Orientation : Vertical

Correct Marks : 1 Wrong Marks : 0.25

What is the result when 0.36363636... is converted to a fraction?

Options :

1. ✗ 1/11

2. ✘ 1/9
3. ✔ 4/11
4. ✘ 4/9

Question Number : 43 Question Id : 9662317067 Question Type : MCQ Option Shuffling : Yes Display Question Number : Yes
Single Line Question Option : No Option Orientation : Vertical

Correct Marks : 1 Wrong Marks : 0.25

क्या परिणाम होगा जब $0.36363636\dots$ को एक अंश में परिवर्तित किया जाता है?

Options :

1. ✘ 1/11
2. ✘ 1/9
3. ✔ 4/11
4. ✘ 4/9

Question Number : 44 Question Id : 9662317068 Question Type : MCQ Option Shuffling : Yes Display Question Number : Yes
Single Line Question Option : No Option Orientation : Vertical

Correct Marks : 1 Wrong Marks : 0.25

The average monthly income of P and Q is Rs. 3200, average monthly income of Q and R is Rs. 3600 and the average monthly income of R and P is Rs. 3500. What is total monthly income of P, Q and R? (in Rs.)

Options :

1. ✘ Rs. 9,700
2. ✔ Rs. 10,300
3. ✘ Rs. 10,500
4. ✘ Rs. 10,700

Question Number : 44 Question Id : 9662317068 Question Type : MCQ Option Shuffling : Yes Display Question Number : Yes
Single Line Question Option : No Option Orientation : Vertical

Correct Marks : 1 Wrong Marks : 0.25

P और Q की औसत मासिक आय 3200 रुपये है, Q और R की औसत मासिक आय 3600 रुपये है और, R और P की औसत मासिक आय 3500 रुपये है। P, Q और R की कुल मासिक आय क्या है? (रुपये में)

Options :

1. ✘ 9,700 रुपये
2. ✔ 10,300 रुपये
3. ✘ 10,500 रुपये
4. ✘ 10,700 रुपये

Question Number : 45 Question Id : 9662317069 Question Type : MCQ Option Shuffling : Yes Display Question Number : Yes
Single Line Question Option : No Option Orientation : Vertical

Correct Marks : 1 Wrong Marks : 0.25

A good is marked up by 33.33%, at most how much discount can be allowed so as to neither have a gain nor a loss?

Options :

1. ✘ 12.5 percent
2. ✘ 33.33 percent
3. ✔ 25 percent
4. ✘ 20 percent

Question Number : 45 Question Id : 9662317069 Question Type : MCQ Option Shuffling : Yes Display Question Number : Yes
Single Line Question Option : No Option Orientation : Vertical

Correct Marks : 1 Wrong Marks : 0.25

एक वस्तु को कीमत से 33.33% ऊपर चिह्नित किया जाता है, सबसे अधिक कितने छूट की अनुमति दी जा सकती है ताकि न तो लाभ हो और न ही नुकसान हो?

Options :

1. ✘ 12.5 प्रतिशत
2. ✘ 33.33 प्रतिशत
3. ✔ 25 प्रतिशत
4. ✘ 20 प्रतिशत

Question Number : 46 Question Id : 9662317070 Question Type : MCQ Option Shuffling : Yes Display Question Number : Yes Single Line Question Option : No Option Orientation : Vertical

Correct Marks : 1 Wrong Marks : 0.25

A fruit seller had some mangoes. He sells 40% mangoes and still has 480 mangoes left. How many mangoes did he originally have?

Options :

1. ✔ 800
2. ✘ 840
3. ✘ 720
4. ✘ 750

Question Number : 46 Question Id : 9662317070 Question Type : MCQ Option Shuffling : Yes Display Question Number : Yes Single Line Question Option : No Option Orientation : Vertical

Correct Marks : 1 Wrong Marks : 0.25

एक फल विक्रेता के पास कुछ आम थे वह 40% आम बेचता है और अभी भी उसके पास 480 आम बचे हैं। मूल रूप से उसके पास कितने आम थे?

Options :

1. ✔ 800
2. ✘ 840
3. ✘ 720
4. ✘ 750

Question Number : 47 Question Id : 9662317071 Question Type : MCQ Option Shuffling : Yes Display Question Number : Yes Single Line Question Option : No Option Orientation : Vertical

Correct Marks : 1 Wrong Marks : 0.25

A student scores 82% in an examination. His scores were 69, 99, 71, 92 in 4 subjects. Find his score in the 5th subject.

Options :

1. ✘ 94
2. ✘ 96
3. ✔ 79
4. ✘ 100

Question Number : 47 Question Id : 9662317071 Question Type : MCQ Option Shuffling : Yes Display Question Number : Yes Single Line Question Option : No Option Orientation : Vertical

Correct Marks : 1 Wrong Marks : 0.25

एक छात्र एक परीक्षा में 82% अंक प्राप्त करता है। 4 विषयों में उसके अंक 69, 99, 71, 92 थे। 5 वें विषय में उसके अंक ज्ञात करें।

Options :

1. ✘ 94
2. ✘ 96
3. ✔ 79

4. ✖ 100

Question Number : 48 Question Id : 9662317072 Question Type : MCQ Option Shuffling : Yes Display Question Number : Yes
Single Line Question Option : No Option Orientation : Vertical

Correct Marks : 1 Wrong Marks : 0.25

X bought goods worth Rs. 6500. He gets a rebate of 8% on it. After getting the rebate, he pays sales tax at the rate of 10%. What is the final amount that he has to pay?

Options :

1. ✖ Rs. 6565
2. ✖ Rs. 6572
3. ✔ Rs. 6578
4. ✖ Rs. 6584

Question Number : 48 Question Id : 9662317072 Question Type : MCQ Option Shuffling : Yes Display Question Number : Yes
Single Line Question Option : No Option Orientation : Vertical

Correct Marks : 1 Wrong Marks : 0.25

X ने 6500 रुपये का सामान खरीदा। उसे इस पर 8% की छूट मिलती है। वह छूट मिलने के बाद, वह 10% पर बिक्री कर का भुगतान करता है। वह अंतिम धनराशि क्या है जिसका उसे भुगतान करना है?

Options :

1. ✖ 6565 रुपये
2. ✖ 6572 रुपये
3. ✔ 6578 रुपये
4. ✖ 6584 रुपये

Question Number : 49 Question Id : 9662317073 Question Type : MCQ Option Shuffling : Yes Display Question Number : Yes
Single Line Question Option : No Option Orientation : Vertical

Correct Marks : 1 Wrong Marks : 0.25

X bought 15 dozens of toys at Rs. 300 per dozen. Each toy was sold for Rs. 30. What is the profit percentage?

Options :

1. ✖ 12.5 percent
2. ✔ 20 percent
3. ✖ 25 percent
4. ✖ 33.33 percent

Question Number : 49 Question Id : 9662317073 Question Type : MCQ Option Shuffling : Yes Display Question Number : Yes
Single Line Question Option : No Option Orientation : Vertical

Correct Marks : 1 Wrong Marks : 0.25

X ने 300 रुपये प्रति दर्जन के भाव से 15 दर्जन खिलौने खरीदे। प्रत्येक खिलौना 30 रुपये में बेचा गया। लाभ प्रतिशत क्या है?

Options :

1. ✖ 12.5 प्रतिशत
2. ✔ 20 प्रतिशत
3. ✖ 25 प्रतिशत
4. ✖ 33.33 प्रतिशत

Question Number : 50 Question Id : 9662317074 Question Type : MCQ Option Shuffling : Yes Display Question Number : Yes
Single Line Question Option : No Option Orientation : Vertical

Correct Marks : 1 Wrong Marks : 0.25

Find the fourth proportional 192 : 176 :: 180 : ?

Options :

1. ✘ 135
2. ✘ 175
3. ✘ 190
4. ✔ 165

Question Number : 50 Question Id : 9662317074 Question Type : MCQ Option Shuffling : Yes Display Question Number : Yes
Single Line Question Option : No Option Orientation : Vertical

Correct Marks : 1 Wrong Marks : 0.25

चौथा आनुपातिक ज्ञात करें $192 : 176 :: 180 : ?$

Options :

1. ✘ 135
2. ✘ 175
3. ✘ 190
4. ✔ 165

Question Number : 51 Question Id : 9662317075 Question Type : MCQ Option Shuffling : Yes Display Question Number : Yes
Single Line Question Option : No Option Orientation : Vertical

Correct Marks : 1 Wrong Marks : 0.25

A school has 200 students with the ratio of boys and girls being 3 : 2, 60 new students were given admission and the ratio changed to 7 : 6. Find the number of girls who had taken admission.

Options :

1. ✔ 40
2. ✘ 20
3. ✘ 45
4. ✘ 25

Question Number : 51 Question Id : 9662317075 Question Type : MCQ Option Shuffling : Yes Display Question Number : Yes
Single Line Question Option : No Option Orientation : Vertical

Correct Marks : 1 Wrong Marks : 0.25

एक स्कूल में लड़कों और लड़कियों के 3 : 2 के अनुपात में 200 छात्र हैं 60 नए छात्रों को प्रवेश दिया गया और जिससे यह अनुपात 7 : 6 हो गया। उन लड़कियों की संख्या ज्ञात करें जिन्होंने प्रवेश लिया था।

Options :

1. ✔ 40
2. ✘ 20
3. ✘ 45
4. ✘ 25

Question Number : 52 Question Id : 9662317076 Question Type : MCQ Option Shuffling : Yes Display Question Number : Yes
Single Line Question Option : No Option Orientation : Vertical

Correct Marks : 1 Wrong Marks : 0.25

The sum of 3 numbers is 176. The ratio of the first to second is 5 : 6 and that of second to third is 10 : 11. Find the first number.

Options :

1. ✔ 50
2. ✘ 60
3. ✘ 65
4. ✘ 66

Question Number : 52 Question Id : 9662317076 Question Type : MCQ Option Shuffling : Yes Display Question Number : Yes
Single Line Question Option : No Option Orientation : Vertical

Correct Marks : 1 Wrong Marks : 0.25

3 संख्याओं का योग 176 है। पहली से दूसरी संख्या का अनुपात 5 : 6 है और दूसरी से तीसरी संख्याओं का अनुपात 10 : 11 है। पहली संख्या ज्ञात करें।

Options :

1. ✓ 50
2. ✗ 60
3. ✗ 65
4. ✗ 66

Question Number : 53 Question Id : 9662317077 Question Type : MCQ Option Shuffling : Yes Display Question Number : Yes
Single Line Question Option : No Option Orientation : Vertical

Correct Marks : 1 Wrong Marks : 0.25

X took a loan of Rs. 4000 with simple interest for as many years as the rate of interest. If he paid Rs. 1210 as interest at the end of the period, what was the rate of the interest?

Options :

1. ✗ 4.5 percent
2. ✓ 5.5 percent
3. ✗ 6.5 percent
4. ✗ 7.5 percent

Question Number : 53 Question Id : 9662317077 Question Type : MCQ Option Shuffling : Yes Display Question Number : Yes
Single Line Question Option : No Option Orientation : Vertical

Correct Marks : 1 Wrong Marks : 0.25

X ने ब्याज की दर के जितने वर्षों के लिए साधारण ब्याज पर 4000 रुपये का ऋण लिया। यदि उसने उस अवधि के अंत में ब्याज के रूप में 1210 रुपये का भुगतान किया, तो ब्याज की दर क्या थी?

Options :

1. ✗ 4.5 प्रतिशत
2. ✓ 5.5 प्रतिशत
3. ✗ 6.5 प्रतिशत
4. ✗ 7.5 प्रतिशत

Question Number : 54 Question Id : 9662317078 Question Type : MCQ Option Shuffling : Yes Display Question Number : Yes
Single Line Question Option : No Option Orientation : Vertical

Correct Marks : 1 Wrong Marks : 0.25

A worker travelled a distance of 81 km in 11 hours. He travelled partly by foot at the rate of 4.5 km/h and partly by bicycle at the rate of 15 km/h. What is the distance travelled on bicycle?

Options :

1. ✗ 30 km
2. ✗ 37.5 km
3. ✓ 45 km
4. ✗ 52.5 km

Question Number : 54 Question Id : 9662317078 Question Type : MCQ Option Shuffling : Yes Display Question Number : Yes
Single Line Question Option : No Option Orientation : Vertical

Correct Marks : 1 Wrong Marks : 0.25

एक कार्यकर्ता ने 11 घंटे में 81 km की दूरी तय करता है। उसने आंशिक रूप से पैदल 4.5 km/h और आंशिक रूप से साइकिल पर 15 km/h की गति से यात्रा करता है। साइकिल पर तय की गई दूरी कितनी है?

Options :

1. ✘ 30 km
2. ✘ 37.5 km
3. ✔ 45 km
4. ✘ 52.5 km

Question Number : 55 Question Id : 9662317079 Question Type : MCQ Option Shuffling : Yes Display Question Number : Yes
Single Line Question Option : No Option Orientation : Vertical

Correct Marks : 1 Wrong Marks : 0.25

A, B and C can do a job in 16, 20 and 24 days respectively. In how many days can A do the work if he is assisted by B and C every fourth day?

Options :

1. ✔ 11.7
2. ✘ 11.85
3. ✘ 12
4. ✘ 12.25

Question Number : 55 Question Id : 9662317079 Question Type : MCQ Option Shuffling : Yes Display Question Number : Yes
Single Line Question Option : No Option Orientation : Vertical

Correct Marks : 1 Wrong Marks : 0.25

A, B और C क्रमशः 16, 20 और 24 दिनों में एक काम पूरा कर सकते हैं। यदि A को हर चौथे दिन B और C द्वारा सहायता दी जाती है तो A कितने दिनों में वह कार्य कर सकता है?

Options :

1. ✔ 11.7
2. ✘ 11.85
3. ✘ 12
4. ✘ 12.25

Question Number : 56 Question Id : 9662317080 Question Type : MCQ Option Shuffling : Yes Display Question Number : Yes
Single Line Question Option : No Option Orientation : Vertical

Correct Marks : 1 Wrong Marks : 0.25

If A can do a work in 42 days and B is thrice as efficient as A. In how many days more will the work be completed if B joins A on the 22nd day?

Options :

1. ✘ 5
2. ✘ 5.125
3. ✘ 5.175
4. ✔ 5.25

Question Number : 56 Question Id : 9662317080 Question Type : MCQ Option Shuffling : Yes Display Question Number : Yes
Single Line Question Option : No Option Orientation : Vertical

Correct Marks : 1 Wrong Marks : 0.25

A, 42 दिनों में एक काम कर सकता है और B, A से तिगुना कुशल है। यदि B, 22 वें दिन A से जुड़ता है तो वह कार्य कितने दिनों में पूरा होगा?

Options :

1. ✘ 5
2. ✘ 5.125
3. ✘ 5.175
4. ✔ 5.25

Question Number : 57 Question Id : 9662317081 Question Type : MCQ Option Shuffling : Yes Display Question Number : Yes
Single Line Question Option : No Option Orientation : Vertical

Correct Marks : 1 Wrong Marks : 0.25

The diagonal of a floor of a rectangular tub is 7.5 ft. The longer side of the tub is 6 ft. What is the area of the tub?

Options :

1. ✓ 27 sq.ft.
2. ✗ 30 sq.ft.
3. ✗ 45 sq.ft.
4. ✗ 33.75 sq.ft.

Question Number : 57 Question Id : 9662317081 Question Type : MCQ Option Shuffling : Yes Display Question Number : Yes
Single Line Question Option : No Option Orientation : Vertical

Correct Marks : 1 Wrong Marks : 0.25

एक आयताकार टब के फर्श का विकर्ण 7.5 ft. है। उस टब का लंबा हिस्सा 6 ft. है। टब का क्षेत्रफल क्या होगा?

Options :

1. ✓ 27 sq.ft.
2. ✗ 30 sq.ft.
3. ✗ 45 sq.ft.
4. ✗ 33.75 sq.ft.

Question Number : 58 Question Id : 9662317082 Question Type : MCQ Option Shuffling : Yes Display Question Number : Yes
Single Line Question Option : No Option Orientation : Vertical

Correct Marks : 1 Wrong Marks : 0.25

A sphere of radius 10 cm is melted and made into a cone of height 10 cm. Find the diameter of the cone.

Options :

1. ✗ 10 cm
2. ✗ 20 cm
3. ✓ 40 cm
4. ✗ 80 cm

Question Number : 58 Question Id : 9662317082 Question Type : MCQ Option Shuffling : Yes Display Question Number : Yes
Single Line Question Option : No Option Orientation : Vertical

Correct Marks : 1 Wrong Marks : 0.25

10 cm त्रिज्या वाले एक गोले को पिघलाकर 10 cm की ऊँचाई वाला शंकु बनाया जाता है। शंकु का व्यास ज्ञात करें।

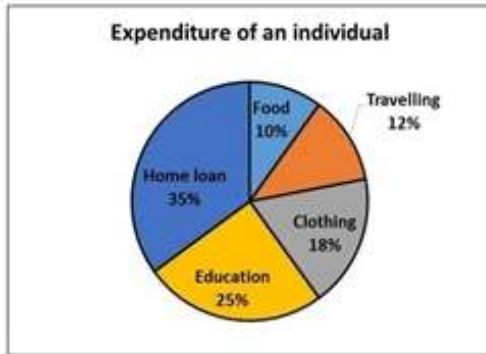
Options :

1. ✗ 10 cm
2. ✗ 20 cm
3. ✓ 40 cm
4. ✗ 80 cm

Question Number : 59 Question Id : 9662317083 Question Type : MCQ Option Shuffling : Yes Display Question Number : Yes
Single Line Question Option : No Option Orientation : Vertical

Correct Marks : 1 Wrong Marks : 0.25

The following pie chart shows the expenditure of an individual on different items. If the expenditure on home loan is Rs. 50,000 more than the expenditure on education, then what is the expenditure of the individual on clothing?



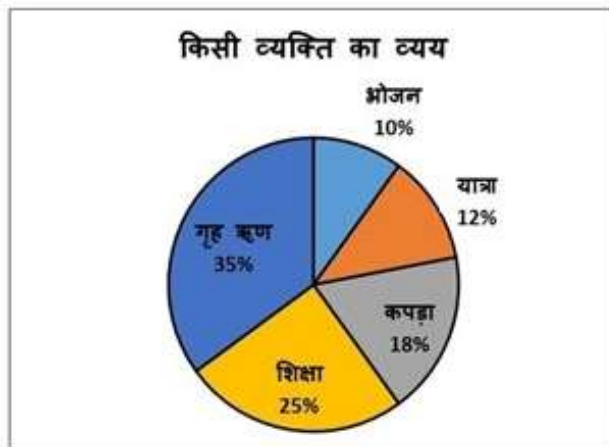
Options :

1. ✓ Rs. 90,000
2. ✗ Rs. 65,000
3. ✗ Rs. 55,000
4. ✗ Rs. 80,000

Question Number : 59 Question Id : 9662317083 Question Type : MCQ Option Shuffling : Yes Display Question Number : Yes
Single Line Question Option : No Option Orientation : Vertical

Correct Marks : 1 Wrong Marks : 0.25

निम्न पाई चार्ट एक व्यक्ति द्वारा विभिन्न मदों पर किए गए खर्च को दर्शाता है। अगर गृह ऋण पर किया खर्च शिक्षा पर किए खर्च से 50,000 रुपये अधिक है, तो वह व्यक्ति कपड़ों पर कितना खर्च करता है?



Options :

1. ✓ 90,000 रुपये
2. ✗ 65,000 रुपये
3. ✗ 55,000 रुपये
4. ✗ 80,000 रुपये

Question Number : 60 Question Id : 9662317084 Question Type : MCQ Option Shuffling : Yes Display Question Number : Yes
Single Line Question Option : No Option Orientation : Vertical

Correct Marks : 1 Wrong Marks : 0.25

The following bar graph shows the production (in million tonnes) of two companies A and B over different years. What is the percentage increase in the production of Company A and B from 2016 to 2018?



Options :

1. ✓ 150 percent and 85.71 percent
2. ✗ 125 percent and 97.5 percent
3. ✗ 115 percent and 87.5 percent
4. ✗ 105 percent and 82.51 percent

Question Number : 60 Question Id : 9662317084 Question Type : MCQ Option Shuffling : Yes Display Question Number : Yes Single Line Question Option : No Option Orientation : Vertical

Correct Marks : 1 Wrong Marks : 0.25

निम्न बार ग्राफ विभिन्न वर्षों में दो कंपनियों A और B के उत्पादन (मिलियन टन में) को दर्शाता है। 2016 से 2018 तक कंपनी A और B के उत्पादन में हुई प्रतिशत वृद्धि क्या है?



Options :

1. ✓ 150 प्रतिशत और 85.71 प्रतिशत
2. ✗ 125 प्रतिशत और 97.5 प्रतिशत
3. ✗ 115 प्रतिशत और 87.5 प्रतिशत
4. ✗ 105 प्रतिशत और 82.51 प्रतिशत

General English

Group Number :	4
Group Id :	966231147
Group Maximum Duration :	0
Group Minimum Duration :	0
Revisit allowed for view? :	No
Revisit allowed for edit? :	No
Break time:	0
Group Marks:	20

Revisit allowed for group Instructions? :	Yes
Maximum Instruction Time:	0
Minimum Instruction Time:	0

General English

Section Id :	966231262
Section Number :	1
Section type :	Online
Mandatory or Optional:	Mandatory
Number of Questions:	16
Number of Questions to be attempted:	16
Section Marks:	20
Display Number Panel:	Yes
Group All Questions:	No

Sub-Section Number:	1
Sub-Section Id:	966231286
Question Shuffling Allowed :	Yes

Question Number : 61 Question Id : 9662317085 Question Type : MCQ Option Shuffling : Yes Display Question Number : Yes
Single Line Question Option : No Option Orientation : Vertical

Correct Marks : 1 Wrong Marks : 0.25

In the following statement, one part of the sentence may have an error. Find out which part of the sentence has an error and click the button corresponding to it. If the sentence is free from error, select the "No error" option.

(A) Shailesh promised / (B) that he would do it / (C) on the next day. / (D) No error

Options :

- ✘ A
- ✘ B
- ✔ C
- ✘ D

Question Number : 61 Question Id : 9662317085 Question Type : MCQ Option Shuffling : Yes Display Question Number : Yes
Single Line Question Option : No Option Orientation : Vertical

Correct Marks : 1 Wrong Marks : 0.25

In the following statement, one part of the sentence may have an error. Find out which part of the sentence has an error and click the button corresponding to it. If the sentence is free from error, select the "No error" option.

(A) Shailesh promised / (B) that he would do it / (C) on the next day. / (D) No error

Options :

- ✘ A
- ✘ B
- ✔ C
- ✘ D

Question Number : 62 Question Id : 9662317086 Question Type : MCQ Option Shuffling : Yes Display Question Number : Yes
Single Line Question Option : No Option Orientation : Vertical

Correct Marks : 1 Wrong Marks : 0.25

The sentence below has been divided into three parts. Select the part of the sentence that has an error. If the sentence has no error, select the option 'No Error'.

Students can go through the prospectus / for additional informations about / the institution and the course of their choice. / No Error

Options :

- ✘ Students can go through the prospectus
- ✔ for additional informations about
- ✘ the institution and the course of their choice.
- ✘ No Error

Question Number : 62 Question Id : 9662317086 Question Type : MCQ Option Shuffling : Yes Display Question Number : Yes
Single Line Question Option : No Option Orientation : Vertical

Correct Marks : 1 Wrong Marks : 0.25

The sentence below has been divided into three parts. Select the part of the sentence that has an error. If the sentence has no error, select the option 'No Error'.

Students can go through the prospectus / for additional informations about / the institution and the course of their choice. / No Error

Options :

- ✘ Students can go through the prospectus
- ✔ for additional informations about
- ✘ the institution and the course of their choice.
- ✘ No Error

Question Number : 63 Question Id : 9662317087 Question Type : MCQ Option Shuffling : Yes Display Question Number : Yes
Single Line Question Option : No Option Orientation : Vertical

Correct Marks : 1 Wrong Marks : 0.25

Replace the words in the bracket from the set of options given.

You should work hard (in) weekends.

Options :

- ✘ from
- ✘ at
- ✔ during
- ✘ with

Question Number : 63 Question Id : 9662317087 Question Type : MCQ Option Shuffling : Yes Display Question Number : Yes
Single Line Question Option : No Option Orientation : Vertical

Correct Marks : 1 Wrong Marks : 0.25

Replace the words in the bracket from the set of options given.

You should work hard (in) weekends.

Options :

- ✘ from
- ✘ at
- ✔ during
- ✘ with

Question Number : 64 Question Id : 9662317088 Question Type : MCQ Option Shuffling : Yes Display Question Number : Yes
Single Line Question Option : No Option Orientation : Vertical

Correct Marks : 1 Wrong Marks : 0.25

Select the option that can correctly replace the highlighted word or phrase and make the sentence grammatically correct. Select the 'No correction required' option if the sentence is correct as it is given.

Mr. and Mrs. Singh have been married (since) thirty years.

Options :

1. ✘ from
2. ✘ till
3. ✔ for
4. ✘ until

Question Number : 64 Question Id : 9662317088 Question Type : MCQ Option Shuffling : Yes Display Question Number : Yes Single Line Question Option : No Option Orientation : Vertical

Correct Marks : 1 Wrong Marks : 0.25

Select the option that can correctly replace the highlighted word or phrase and make the sentence grammatically correct. Select the 'No correction required' option if the sentence is correct as it is given.

Mr. and Mrs. Singh have been married (since) thirty years.

Options :

1. ✘ from
2. ✘ till
3. ✔ for
4. ✘ until

Question Number : 65 Question Id : 9662317089 Question Type : MCQ Option Shuffling : Yes Display Question Number : Yes Single Line Question Option : No Option Orientation : Vertical

Correct Marks : 1 Wrong Marks : 0.25

Select the option that correctly (and most appropriately) fills in the blank and completes the sentence below.

The thief has fallen ____ with his partners.

Options :

1. ✘ in
2. ✘ on
3. ✔ out
4. ✘ off

Question Number : 65 Question Id : 9662317089 Question Type : MCQ Option Shuffling : Yes Display Question Number : Yes Single Line Question Option : No Option Orientation : Vertical

Correct Marks : 1 Wrong Marks : 0.25

Select the option that correctly (and most appropriately) fills in the blank and completes the sentence below.

The thief has fallen ____ with his partners.

Options :

1. ✘ in
2. ✘ on
3. ✔ out
4. ✘ off

Question Number : 66 Question Id : 9662317090 Question Type : MCQ Option Shuffling : Yes Display Question Number : Yes Single Line Question Option : No Option Orientation : Vertical

Correct Marks : 1 Wrong Marks : 0.25

The questions below consist of a set of labelled parts of a sentence. Out of four options given, select the most logical order of the parts which form a coherent sentence.

Suman
P : than she was today
Q : opportunities, which would
R : had missed many
S : have made her much happier

Options :

1. ✘ QSPR
2. ✘ PRSQ
3. ✔ RQSP
4. ✘ SQRP

Question Number : 66 Question Id : 9662317090 Question Type : MCQ Option Shuffling : Yes Display Question Number : Yes
Single Line Question Option : No Option Orientation : Vertical

Correct Marks : 1 Wrong Marks : 0.25

The questions below consist of a set of labelled parts of a sentence. Out of four options given, select the most logical order of the parts which form a coherent sentence.

Suman
P : than she was today
Q : opportunities, which would
R : had missed many
S : have made her much happier

Options :

1. ✘ QSPR
2. ✘ PRSQ
3. ✔ RQSP
4. ✘ SQRP

Question Number : 67 Question Id : 9662317091 Question Type : MCQ Option Shuffling : Yes Display Question Number : Yes
Single Line Question Option : No Option Orientation : Vertical

Correct Marks : 1 Wrong Marks : 0.25

Out of the four alternatives, choose the word which best expresses the meaning of the given word.

Resilient

Options :

1. ✔ Flexible
2. ✘ Silence
3. ✘ Hard
4. ✘ Smart

Question Number : 67 Question Id : 9662317091 Question Type : MCQ Option Shuffling : Yes Display Question Number : Yes
Single Line Question Option : No Option Orientation : Vertical

Correct Marks : 1 Wrong Marks : 0.25

Out of the four alternatives, choose the word which best expresses the meaning of the given word.

Resilient

Options :

1. ✔ Flexible
2. ✘ Silence

3. ✘ Hard
4. ✘ Smart

Question Number : 68 Question Id : 9662317092 Question Type : MCQ Option Shuffling : Yes Display Question Number : Yes
Single Line Question Option : No Option Orientation : Vertical

Correct Marks : 1 Wrong Marks : 0.25

Out of the four alternatives, choose the word which is OPPOSITE in meaning to the given word.

Valor

Options :

1. ✘ Implore
2. ✔ Fear
3. ✘ Bravery
4. ✘ Unattractive

Question Number : 68 Question Id : 9662317092 Question Type : MCQ Option Shuffling : Yes Display Question Number : Yes
Single Line Question Option : No Option Orientation : Vertical

Correct Marks : 1 Wrong Marks : 0.25

Out of the four alternatives, choose the word which is OPPOSITE in meaning to the given word.

Valor

Options :

1. ✘ Implore
2. ✔ Fear
3. ✘ Bravery
4. ✘ Unattractive

Question Number : 69 Question Id : 9662317093 Question Type : MCQ Option Shuffling : Yes Display Question Number : Yes
Single Line Question Option : No Option Orientation : Vertical

Correct Marks : 1 Wrong Marks : 0.25

Four words are given, out of which only one word is spelt correctly. Choose the correctly spelt word.

Options :

1. ✘ Agrandize
2. ✘ Agrandise
3. ✘ Aggrendise
4. ✔ Aggrandize

Question Number : 69 Question Id : 9662317093 Question Type : MCQ Option Shuffling : Yes Display Question Number : Yes
Single Line Question Option : No Option Orientation : Vertical

Correct Marks : 1 Wrong Marks : 0.25

Four words are given, out of which only one word is spelt correctly. Choose the correctly spelt word.

Options :

1. ✘ Agrandize
2. ✘ Agrandise
3. ✘ Aggrendise
4. ✔ Aggrandize

Question Number : 70 Question Id : 9662317094 Question Type : MCQ Option Shuffling : Yes Display Question Number : Yes
Single Line Question Option : No Option Orientation : Vertical

Correct Marks : 1 Wrong Marks : 0.25

Four words are given, out of which only one word is spelt correctly. Choose the correctly spelt word.

Options :

1. ✘ Dibelitating
2. ✘ Debeletating
3. ✘ Debelitating
4. ✔ Debilitating

Question Number : 70 Question Id : 9662317094 Question Type : MCQ Option Shuffling : Yes Display Question Number : Yes
Single Line Question Option : No Option Orientation : Vertical

Correct Marks : 1 Wrong Marks : 0.25

Four words are given, out of which only one word is spelt correctly. Choose the correctly spelt word.

Options :

1. ✘ Dibelitating
2. ✘ Debeletating
3. ✘ Debelitating
4. ✔ Debilitating

Question Number : 71 Question Id : 9662317095 Question Type : MCQ Option Shuffling : Yes Display Question Number : Yes
Single Line Question Option : No Option Orientation : Vertical

Correct Marks : 1 Wrong Marks : 0.25

Four words are given, out of which only one word is spelt correctly. Choose the correctly spelt word.

Options :

1. ✔ Commensurate
2. ✘ Comensurate
3. ✘ Comensuarte
4. ✘ Commensuarte

Question Number : 71 Question Id : 9662317095 Question Type : MCQ Option Shuffling : Yes Display Question Number : Yes
Single Line Question Option : No Option Orientation : Vertical

Correct Marks : 1 Wrong Marks : 0.25

Four words are given, out of which only one word is spelt correctly. Choose the correctly spelt word.

Options :

1. ✔ Commensurate
2. ✘ Comensurate
3. ✘ Comensuarte
4. ✘ Commensuarte

Question Number : 72 Question Id : 9662317096 Question Type : MCQ Option Shuffling : Yes Display Question Number : Yes
Single Line Question Option : No Option Orientation : Vertical

Correct Marks : 1 Wrong Marks : 0.25

What does the following idiom mean?

Kith and Kin

Options :

1. ✘ Here and there
2. ✘ Now and then
3. ✘ Hustle
4. ✔ Blood Relatives

Question Number : 72 Question Id : 9662317096 Question Type : MCQ Option Shuffling : Yes Display Question Number : Yes
Single Line Question Option : No Option Orientation : Vertical

Correct Marks : 1 Wrong Marks : 0.25

What does the following idiom mean?

Kith and Kin

Options :

1. ✘ Here and there
2. ✘ Now and then
3. ✘ Hustle
4. ✔ Blood Relatives

Question Number : 73 Question Id : 9662317097 Question Type : MCQ Option Shuffling : Yes Display Question Number : Yes
Single Line Question Option : No Option Orientation : Vertical

Correct Marks : 1 Wrong Marks : 0.25

What does the following idiom mean?

Chicken hearted man

Options :

1. ✘ A brave person.
2. ✔ A coward person.
3. ✘ An innocent person.
4. ✘ A blind person.

Question Number : 73 Question Id : 9662317097 Question Type : MCQ Option Shuffling : Yes Display Question Number : Yes
Single Line Question Option : No Option Orientation : Vertical

Correct Marks : 1 Wrong Marks : 0.25

What does the following idiom mean?

Chicken hearted man

Options :

1. ✘ A brave person.
2. ✔ A coward person.
3. ✘ An innocent person.
4. ✘ A blind person.

Question Number : 74 Question Id : 9662317098 Question Type : MCQ Option Shuffling : Yes Display Question Number : Yes
Single Line Question Option : No Option Orientation : Vertical

Correct Marks : 1 Wrong Marks : 0.25

In the following question, out of four alternatives, select the alternative which is the best substitute of the words / sentences.

An abnormal fear of heights

Options :

1. ✘ Algophobia
2. ✘ Cacophobia
3. ✘ Cellophobia
4. ✔ Altophobia

Question Number : 74 Question Id : 9662317098 Question Type : MCQ Option Shuffling : Yes Display Question Number : Yes
Single Line Question Option : No Option Orientation : Vertical

Correct Marks : 1 Wrong Marks : 0.25

In the following question, out of four alternatives, select the alternative which is the best substitute of the words / sentences.

An abnormal fear of heights

Options :

1. ✘ Algophobia
2. ✘ Cacophobia
3. ✘ Cellophobia
4. ✔ Altophobia

Question Number : 75 Question Id : 9662317099 Question Type : MCQ Option Shuffling : Yes Display Question Number : Yes
Single Line Question Option : No Option Orientation : Vertical

Correct Marks : 1 Wrong Marks : 0.25

In the following question, out of four alternatives, select the alternative which is the best substitute of the words / sentences.

A person who knows and is able to use several languages.

Options :

1. ✘ Epicure
2. ✔ Polyglot
3. ✘ Stoic
4. ✘ Debonair

Question Number : 75 Question Id : 9662317099 Question Type : MCQ Option Shuffling : Yes Display Question Number : Yes
Single Line Question Option : No Option Orientation : Vertical

Correct Marks : 1 Wrong Marks : 0.25

In the following question, out of four alternatives, select the alternative which is the best substitute of the words / sentences.

A person who knows and is able to use several languages.

Options :

1. ✘ Epicure
2. ✔ Polyglot
3. ✘ Stoic
4. ✘ Debonair

Sub-Section Number:	2
Sub-Section Id:	966231287
Question Shuffling Allowed :	Yes

Question Id : 9662317100 Question Type : COMPREHENSION Sub Question Shuffling Allowed : Yes Group Comprehension
Questions : No

Question Numbers : (76 to 80)

Question Label : Comprehension

Read the passage carefully and answer the given question:

The Olympic Games is an international multisport event subdivided into summer and winter sporting events. The summer and winter games are each held every four years. Until 1992, they are both held in the same year. Since then, they have been separated two years apart. The original Olympic Games began in 776 B.C. in Olympia, Greece, and were celebrated until A.D. 393. Evangelos Zappas sponsored the first modern International Olympic in 1859. The International Olympic Committee was founded in 1894 on the initiative of a French nobleman, Pierre Fredy Baron de Coubertin. The first of IOC's Olympic Games were 1896 Summer Olympics, held in Athens, Greece. Participation in the Olympic Games has increased to include athletes from nearly all nations worldwide. With the improvement of satellite communications and global telecasts of the events, the Olympics are consistently gaining supporters.

Sub questions

Question Number : 76 Question Id : 9662317101 Question Type : MCQ Option Shuffling : Yes Display Question Number : Yes
Single Line Question Option : No Option Orientation : Vertical

Correct Marks : 1 Wrong Marks : 0.25

The summer and winter sporting events of Olympics occurs with a gap of _____ years.

Options :

- ✘ three
- ✔ two
- ✘ five
- ✘ four

Question Number : 77 Question Id : 9662317102 Question Type : MCQ Option Shuffling : Yes Display Question Number : Yes
Single Line Question Option : No Option Orientation : Vertical

Correct Marks : 1 Wrong Marks : 0.25

When did the original Olympic Games begin?

Options :

- ✔ 776 B.C.
- ✘ 393 A.D.
- ✘ 1894
- ✘ 1896

Question Number : 78 Question Id : 9662317103 Question Type : MCQ Option Shuffling : Yes Display Question Number : Yes
Single Line Question Option : No Option Orientation : Vertical

Correct Marks : 1 Wrong Marks : 0.25

Who sponsored the first modern International Olympic?

Options :

- ✘ Pierre Fredy Baron de Coubertin
- ✘ Pierre Zappas
- ✔ Evangelos Zappas
- ✘ Michel Temer

Question Number : 79 Question Id : 9662317104 Question Type : MCQ Option Shuffling : Yes Display Question Number : Yes
Single Line Question Option : No Option Orientation : Vertical

Correct Marks : 1 Wrong Marks : 0.25

When was the International Olympic Committee founded?

Options :

- ✘ 1896
- ✘ 1859
- ✔ 1894

4. ✘ 776 B.C.

Question Number : 80 Question Id : 9662317105 Question Type : MCQ Option Shuffling : Yes Display Question Number : Yes
Single Line Question Option : No Option Orientation : Vertical

Correct Marks : 1 Wrong Marks : 0.25

Where was the first International Olympic Committee's Olympic Games held?

Options :

1. ✘ Santorini
2. ✘ France
3. ✘ Olympia
4. ✔ Athens

Question Id : 9662317100 Question Type : COMPREHENSION Sub Question Shuffling Allowed : Yes Group Comprehension
Questions : No

Question Numbers : (76 to 80)

Question Label : Comprehension

Read the passage carefully and answer the given question:

The Olympic Games is an international multisport event subdivided into summer and winter sporting events. The summer and winter games are each held every four years. Until 1992, they are both held in the same year. Since then, they have been separated two years apart. The original Olympic Games began in 776 B.C. in Olympia, Greece, and were celebrated until A.D. 393. Evangelos Zappas sponsored the first modern International Olympic in 1859. The International Olympic Committee was founded in 1894 on the initiative of a French nobleman, Pierre Fredy Baron de Coubertin. The first of IOC's Olympic Games were 1896 Summer Olympics, held in Athens, Greece. Participation in the Olympic Games has increased to include athletes from nearly all nations worldwide. With the improvement of satellite communications and global telecasts of the events, the Olympics are consistently gaining supporters.

Sub questions

Question Number : 76 Question Id : 9662317101 Question Type : MCQ Option Shuffling : Yes Display Question Number : Yes
Single Line Question Option : No Option Orientation : Vertical

Correct Marks : 1 Wrong Marks : 0.25

The summer and winter sporting events of Olympics occurs with a gap of _____ years.

Options :

1. ✘ three
2. ✔ two
3. ✘ five
4. ✘ four

Question Number : 77 Question Id : 9662317102 Question Type : MCQ Option Shuffling : Yes Display Question Number : Yes
Single Line Question Option : No Option Orientation : Vertical

Correct Marks : 1 Wrong Marks : 0.25

When did the original Olympic Games begin?

Options :

1. ✔ 776 B.C.
2. ✘ 393 A.D.
3. ✘ 1894
4. ✘ 1896

Question Number : 78 Question Id : 9662317103 Question Type : MCQ Option Shuffling : Yes Display Question Number : Yes
Single Line Question Option : No Option Orientation : Vertical

Correct Marks : 1 Wrong Marks : 0.25

Who sponsored the first modern International Olympic?

Options :

1. ✘ Pierre Fredy Baron de Coubertin
2. ✘ Pierre Zappas
3. ✔ Evangelos Zappas
4. ✘ Michel Temer

Question Number : 79 Question Id : 9662317104 Question Type : MCQ Option Shuffling : Yes Display Question Number : Yes
Single Line Question Option : No Option Orientation : Vertical

Correct Marks : 1 Wrong Marks : 0.25

When was the International Olympic Committee founded?

Options :

1. ✘ 1896
2. ✘ 1859
3. ✔ 1894
4. ✘ 776 B.C.

Question Number : 80 Question Id : 9662317105 Question Type : MCQ Option Shuffling : Yes Display Question Number : Yes
Single Line Question Option : No Option Orientation : Vertical

Correct Marks : 1 Wrong Marks : 0.25

Where was the first International Olympic Committee's Olympic Games held?

Options :

1. ✘ Santorini
2. ✘ France
3. ✘ Olympia
4. ✔ Athens

General Hindi

Group Number :	5
Group Id :	966231148
Group Maximum Duration :	0
Group Minimum Duration :	0
Revisit allowed for view? :	No
Revisit allowed for edit? :	No
Break time:	0
Group Marks:	20
Revisit allowed for group Instructions? :	Yes
Maximum Instruction Time:	0
Minimum Instruction Time:	0

General Hindi

Section Id :	966231263
Section Number :	1
Section type :	Online
Mandatory or Optional:	Mandatory
Number of Questions:	16
Number of Questions to be attempted:	16

Section Marks:	20
Display Number Panel:	Yes
Group All Questions:	No

Sub-Section Number:	1
Sub-Section Id:	966231288
Question Shuffling Allowed :	Yes

Question Number : 81 Question Id : 9662317106 Question Type : MCQ Option Shuffling : Yes Display Question Number : Yes
Single Line Question Option : No Option Orientation : Vertical

Correct Marks : 1 Wrong Marks : 0.25

निम्नलिखित प्रश्न में, चार विकल्पों में से, उस विकल्प का चयन करें जो उपसर्ग से बना है।

Options :

1. ✘ सौदागर
2. ✔ प्रतिकूल
3. ✘ लेखक
4. ✘ पत्रकार

Question Number : 81 Question Id : 9662317106 Question Type : MCQ Option Shuffling : Yes Display Question Number : Yes
Single Line Question Option : No Option Orientation : Vertical

Correct Marks : 1 Wrong Marks : 0.25

निम्नलिखित प्रश्न में, चार विकल्पों में से, उस विकल्प का चयन करें जो उपसर्ग से बना है।

Options :

1. ✘ सौदागर
2. ✔ प्रतिकूल
3. ✘ लेखक
4. ✘ पत्रकार

Question Number : 82 Question Id : 9662317107 Question Type : MCQ Option Shuffling : Yes Display Question Number : Yes
Single Line Question Option : No Option Orientation : Vertical

Correct Marks : 1 Wrong Marks : 0.25

निम्नलिखित प्रश्न में, चार विकल्पों में से, उस सही विकल्प का चयन करें जो प्रत्यय से बना शब्द है।

Options :

1. ✔ प्रकाशित
2. ✘ परदेश
3. ✘ प्रयोग
4. ✘ निर्यात

Question Number : 82 Question Id : 9662317107 Question Type : MCQ Option Shuffling : Yes Display Question Number : Yes
Single Line Question Option : No Option Orientation : Vertical

Correct Marks : 1 Wrong Marks : 0.25

निम्नलिखित प्रश्न में, चार विकल्पों में से, उस सही विकल्प का चयन करें जो प्रत्यय से बना शब्द है।

Options :

1. ✔ प्रकाशित
2. ✘ परदेश
3. ✘ प्रयोग
4. ✘ निर्यात

Question Number : 83 Question Id : 9662317108 Question Type : MCQ Option Shuffling : Yes Display Question Number : Yes
Single Line Question Option : No Option Orientation : Vertical

Correct Marks : 1 Wrong Marks : 0.25

निम्नलिखित प्रश्न में, चार विकल्पों में से, रिक्त स्थान के लिए निर्देशानुसार उचित विकल्प का चयन करें।

तुम जाकर डॉक्टर को दिखा लो, _____ भी देरी मत करो। (परिमाणवाचक क्रियाविशेषण)

Options :

1. ✓ बिलकुल
2. ✗ कहीं
3. ✗ के कारण
4. ✗ के दूर

Question Number : 83 Question Id : 9662317108 Question Type : MCQ Option Shuffling : Yes Display Question Number : Yes
Single Line Question Option : No Option Orientation : Vertical

Correct Marks : 1 Wrong Marks : 0.25

निम्नलिखित प्रश्न में, चार विकल्पों में से, रिक्त स्थान के लिए निर्देशानुसार उचित विकल्प का चयन करें।

तुम जाकर डॉक्टर को दिखा लो, _____ भी देरी मत करो। (परिमाणवाचक क्रियाविशेषण)

Options :

1. ✓ बिलकुल
2. ✗ कहीं
3. ✗ के कारण
4. ✗ के दूर

Question Number : 84 Question Id : 9662317109 Question Type : MCQ Option Shuffling : Yes Display Question Number : Yes
Single Line Question Option : No Option Orientation : Vertical

Correct Marks : 1 Wrong Marks : 0.25

निम्नलिखित प्रश्न में, चार विकल्पों में से, उस विकल्प का चयन करें जो सही द्विगु समास का विकल्प हो।

Options :

1. ✗ नीला कमल
2. ✓ तीन लोकों का समाहार
3. ✗ शक्ति के अनुसार
4. ✗ मन से चाहा

Question Number : 84 Question Id : 9662317109 Question Type : MCQ Option Shuffling : Yes Display Question Number : Yes
Single Line Question Option : No Option Orientation : Vertical

Correct Marks : 1 Wrong Marks : 0.25

निम्नलिखित प्रश्न में, चार विकल्पों में से, उस विकल्प का चयन करें जो सही द्विगु समास का विकल्प हो।

Options :

1. ✗ नीला कमल
2. ✓ तीन लोकों का समाहार
3. ✗ शक्ति के अनुसार
4. ✗ मन से चाहा

Question Number : 85 Question Id : 9662317110 Question Type : MCQ Option Shuffling : Yes Display Question Number : Yes
Single Line Question Option : No Option Orientation : Vertical

Correct Marks : 1 Wrong Marks : 0.25

निम्नलिखित प्रश्न में, चार विकल्पों में से, उस विकल्प का चयन करें जो समानार्थी शब्द का सही विकल्प नहीं है।

उद्धार

Options :

1. ✘ निस्तार
2. ✘ उत्थान
3. ✔ कृतज्ञ
4. ✘ मुक्त

Question Number : 85 Question Id : 9662317110 Question Type : MCQ Option Shuffling : Yes Display Question Number : Yes
Single Line Question Option : No Option Orientation : Vertical

Correct Marks : 1 Wrong Marks : 0.25

निम्नलिखित प्रश्न में, चार विकल्पों में से, उस विकल्प का चयन करें जो समानार्थी शब्द का सही विकल्प नहीं है।

उद्धार

Options :

1. ✘ निस्तार
2. ✘ उत्थान
3. ✔ कृतज्ञ
4. ✘ मुक्त

Question Number : 86 Question Id : 9662317111 Question Type : MCQ Option Shuffling : Yes Display Question Number : Yes
Single Line Question Option : No Option Orientation : Vertical

Correct Marks : 1 Wrong Marks : 0.25

निम्नलिखित प्रश्न में, चार विकल्पों में से, उस विकल्प का चयन करें जो विलोम शब्द का सबसे अच्छा विकल्प है।

जंगम

Options :

1. ✘ साधु
2. ✘ सम्प्रदाय
3. ✘ चर
4. ✔ स्थावर

Question Number : 86 Question Id : 9662317111 Question Type : MCQ Option Shuffling : Yes Display Question Number : Yes
Single Line Question Option : No Option Orientation : Vertical

Correct Marks : 1 Wrong Marks : 0.25

निम्नलिखित प्रश्न में, चार विकल्पों में से, उस विकल्प का चयन करें जो विलोम शब्द का सबसे अच्छा विकल्प है।

जंगम

Options :

1. ✘ साधु
2. ✘ सम्प्रदाय
3. ✘ चर
4. ✔ स्थावर

Question Number : 87 Question Id : 9662317112 Question Type : MCQ Option Shuffling : Yes Display Question Number : Yes
Single Line Question Option : No Option Orientation : Vertical

Correct Marks : 1 Wrong Marks : 0.25

निम्नलिखित प्रश्न में, चार विकल्पों में से, रिक्त स्थान के लिए निर्देशानुसार उचित विकल्प का चयन करें।

मंदिर _____ स्थित सोने का कलश उसकी सुन्दरता बढ़ा रहा था।

Options :

1. ✘ का
2. ✔ पर

3. ✖ के द्वारा

4. ✖ के

Question Number : 87 Question Id : 9662317112 Question Type : MCQ Option Shuffling : Yes Display Question Number : Yes
Single Line Question Option : No Option Orientation : Vertical

Correct Marks : 1 Wrong Marks : 0.25

निम्नलिखित प्रश्न में, चार विकल्पों में से, रिक्त स्थान के लिए निर्देशानुसार उचित विकल्प का चयन करें।

मंदिर _____ स्थित सोने का कलश उसकी सुन्दरता बढ़ा रहा था।

Options :

1. ✖ का

2. ✔ पर

3. ✖ के द्वारा

4. ✖ के

Question Number : 88 Question Id : 9662317113 Question Type : MCQ Option Shuffling : Yes Display Question Number : Yes
Single Line Question Option : No Option Orientation : Vertical

Correct Marks : 1 Wrong Marks : 0.25

निम्नलिखित प्रश्न में, चार विकल्पों में से, उस सही विकल्प का चयन करें जो वाक्यांशों के लिए एक शब्द का विकल्प हो।

संध्या और रात्रि के बीच का समय

Options :

1. ✖ अपराह्न

2. ✖ मध्यरात्रि

3. ✔ गोधूलि

4. ✖ गोपनीय

Question Number : 88 Question Id : 9662317113 Question Type : MCQ Option Shuffling : Yes Display Question Number : Yes
Single Line Question Option : No Option Orientation : Vertical

Correct Marks : 1 Wrong Marks : 0.25

निम्नलिखित प्रश्न में, चार विकल्पों में से, उस सही विकल्प का चयन करें जो वाक्यांशों के लिए एक शब्द का विकल्प हो।

संध्या और रात्रि के बीच का समय

Options :

1. ✖ अपराह्न

2. ✖ मध्यरात्रि

3. ✔ गोधूलि

4. ✖ गोपनीय

Question Number : 89 Question Id : 9662317114 Question Type : MCQ Option Shuffling : Yes Display Question Number : Yes
Single Line Question Option : No Option Orientation : Vertical

Correct Marks : 1 Wrong Marks : 0.25

निम्नलिखित प्रश्न में, चार विकल्पों में से, रिक्त स्थान के लिए निर्देशानुसार उचित विकल्प का चयन करें।

मुझसे खया _____। (भाववाच्य)

Options :

1. ✖ गया

2. ✔ जाता है

3. ✖ जायेगा

4. ✖ नहीं है

Question Number : 89 Question Id : 9662317114 Question Type : MCQ Option Shuffling : Yes Display Question Number : Yes
Single Line Question Option : No Option Orientation : Vertical

Correct Marks : 1 Wrong Marks : 0.25

निम्नलिखित प्रश्न में, चार विकल्पों में से, रिक्त स्थान के लिए निर्देशानुसार उचित विकल्प का चयन करें

मुझसे खाया _____। (भाववाच्य)

Options :

1. ✘ गया
2. ✔ जाता है
3. ✘ जायेगा
4. ✘ नहीं है

Question Number : 90 Question Id : 9662317115 Question Type : MCQ Option Shuffling : Yes Display Question Number : Yes
Single Line Question Option : No Option Orientation : Vertical

Correct Marks : 1 Wrong Marks : 0.25

निम्नलिखित प्रश्न में, चार विकल्पों में से, उस विकल्प का चयन करें जो सही वाक्य भेद का विकल्प हो

मैं आप का काम ज़रूर कर देता लेकिन क्या करूँ व्यस्त हूँ

Options :

1. ✘ सरल वाक्य
2. ✔ संयुक्त वाक्य
3. ✘ विधानसूचक वाक्य
4. ✘ मिश्र वाक्य

Question Number : 90 Question Id : 9662317115 Question Type : MCQ Option Shuffling : Yes Display Question Number : Yes
Single Line Question Option : No Option Orientation : Vertical

Correct Marks : 1 Wrong Marks : 0.25

निम्नलिखित प्रश्न में, चार विकल्पों में से, उस विकल्प का चयन करें जो सही वाक्य भेद का विकल्प हो

मैं आप का काम ज़रूर कर देता लेकिन क्या करूँ व्यस्त हूँ

Options :

1. ✘ सरल वाक्य
2. ✔ संयुक्त वाक्य
3. ✘ विधानसूचक वाक्य
4. ✘ मिश्र वाक्य

Question Number : 91 Question Id : 9662317116 Question Type : MCQ Option Shuffling : Yes Display Question Number : Yes
Single Line Question Option : No Option Orientation : Vertical

Correct Marks : 1 Wrong Marks : 0.25

निम्नलिखित प्रश्न में, चार विकल्पों में से, उस विकल्प का चयन करें जो सही वाक्य भेद का विकल्प हो

उसने बहुत मेहनत की थी इसलिए वह कक्षा में प्रथम आया।

Options :

1. ✔ संयुक्त वाक्य
2. ✘ संकेतवाचक वाक्य
3. ✘ मिश्र वाक्य
4. ✘ सरल वाक्य

Question Number : 91 Question Id : 9662317116 Question Type : MCQ Option Shuffling : Yes Display Question Number : Yes
Single Line Question Option : No Option Orientation : Vertical

Correct Marks : 1 Wrong Marks : 0.25

निम्नलिखित प्रश्न में, चार विकल्पों में से, उस विकल्प का चयन करें जो सही वाक्य भेद का विकल्प हो।

उसने बहुत मेहनत की थी इसलिए वह कक्षा में प्रथम आया।

Options :

1. ✓ संयुक्त वाक्य
2. ✗ संकेतवाचक वाक्य
3. ✗ मिश्र वाक्य
4. ✗ सरल वाक्य

Question Number : 92 Question Id : 9662317117 Question Type : MCQ Option Shuffling : Yes Display Question Number : Yes
Single Line Question Option : No Option Orientation : Vertical

Correct Marks : 1 Wrong Marks : 0.25

निम्नलिखित प्रश्न में, चार विकल्पों में से, उस विकल्प का चयन करें जो सही वाक्य भेद का विकल्प हो।

जैसे ही नाना जी आए बच्चे उनसे लिपट गए।

Options :

1. ✗ विधानवाचक वाक्य
2. ✗ सरल वाक्य
3. ✓ मिश्र वाक्य
4. ✗ संयुक्त वाक्य

Question Number : 92 Question Id : 9662317117 Question Type : MCQ Option Shuffling : Yes Display Question Number : Yes
Single Line Question Option : No Option Orientation : Vertical

Correct Marks : 1 Wrong Marks : 0.25

निम्नलिखित प्रश्न में, चार विकल्पों में से, उस विकल्प का चयन करें जो सही वाक्य भेद का विकल्प हो।

जैसे ही नाना जी आए बच्चे उनसे लिपट गए।

Options :

1. ✗ विधानवाचक वाक्य
2. ✗ सरल वाक्य
3. ✓ मिश्र वाक्य
4. ✗ संयुक्त वाक्य

Question Number : 93 Question Id : 9662317118 Question Type : MCQ Option Shuffling : Yes Display Question Number : Yes
Single Line Question Option : No Option Orientation : Vertical

Correct Marks : 1 Wrong Marks : 0.25

निम्नलिखित प्रश्न में, चार विकल्पों में से, उस विकल्प का चयन करें जो दिए गए मुहावरे का सही अर्थ वाला विकल्प है।

अंधी खोपड़ी

Options :

1. ✗ गलत कामा
2. ✓ मूर्खी
3. ✗ कुछ भी समझ न आना
4. ✗ अँधेरा दिखाना

Question Number : 93 Question Id : 9662317118 Question Type : MCQ Option Shuffling : Yes Display Question Number : Yes
Single Line Question Option : No Option Orientation : Vertical

Correct Marks : 1 Wrong Marks : 0.25

निम्नलिखित प्रश्न में, चार विकल्पों में से, उस विकल्प का चयन करें जो दिए गए मुहावरे का सही अर्थ वाला विकल्प है।

अंधी खोपड़ी

Options :

1. ✘ गलत काम
2. ✔ मूर्खी
3. ✘ कुछ भी समझ न आना
4. ✘ अँधेरा दिखाना

Question Number : 94 Question Id : 9662317119 Question Type : MCQ Option Shuffling : Yes Display Question Number : Yes
Single Line Question Option : No Option Orientation : Vertical

Correct Marks : 1 Wrong Marks : 0.25

निम्नलिखित प्रश्न में, चार विकल्पों में से, उस विकल्प का चयन करें जो दिए गए मुहावरे का सही अर्थ वाला विकल्प है।

माथा रगड़ना

Options :

1. ✔ खुशामद करना
2. ✘ खुजली होना
3. ✘ सोचना
4. ✘ सोच विचार का काम

Question Number : 94 Question Id : 9662317119 Question Type : MCQ Option Shuffling : Yes Display Question Number : Yes
Single Line Question Option : No Option Orientation : Vertical

Correct Marks : 1 Wrong Marks : 0.25

निम्नलिखित प्रश्न में, चार विकल्पों में से, उस विकल्प का चयन करें जो दिए गए मुहावरे का सही अर्थ वाला विकल्प है।

माथा रगड़ना

Options :

1. ✔ खुशामद करना
2. ✘ खुजली होना
3. ✘ सोचना
4. ✘ सोच विचार का काम

Question Number : 95 Question Id : 9662317120 Question Type : MCQ Option Shuffling : Yes Display Question Number : Yes
Single Line Question Option : No Option Orientation : Vertical

Correct Marks : 1 Wrong Marks : 0.25

निम्नलिखित प्रश्न में, चार विकल्पों में से, उस विकल्प का चयन करें जो विराम चिह्न युक्त वाक्य का सही विकल्प हो।

Options :

1. ✘ सूर्यकांत त्रिपाठी, 'निराला' हिंदी के श्रेष्ठ कवि है।
2. ✘ सूर्यकांत त्रिपाठी 'निराला' - हिंदी के श्रेष्ठ कवि है।
3. ✘ सूर्यकांत त्रिपाठी 'निराला' 'हिंदी के श्रेष्ठ कवि है'।
4. ✔ सूर्यकांत त्रिपाठी 'निराला' हिंदी के श्रेष्ठ कवि है।

Question Number : 95 Question Id : 9662317120 Question Type : MCQ Option Shuffling : Yes Display Question Number : Yes
Single Line Question Option : No Option Orientation : Vertical

Correct Marks : 1 Wrong Marks : 0.25

निम्नलिखित प्रश्न में, चार विकल्पों में से, उस विकल्प का चयन करें जो विराम चिह्न युक्त वाक्य का सही विकल्प हो।

Options :

1. ✘ सूर्यकांत त्रिपाठी, 'निराला' हिंदी के श्रेष्ठ कवि है।
2. ✘ सूर्यकांत त्रिपाठी 'निराला' - हिंदी के श्रेष्ठ कवि है।

3. ✘ सूर्यकांत त्रिपाठी 'निराला' 'हिंदी के श्रेष्ठ कवि है'

4. ✔ सूर्यकांत त्रिपाठी 'निराला' हिंदी के श्रेष्ठ कवि है

Sub-Section Number: 2
Sub-Section Id: 966231289
Question Shuffling Allowed : Yes

Question Id : 9662317121 Question Type : COMPREHENSION Sub Question Shuffling Allowed : Yes Group Comprehension Questions : No

Question Numbers : (96 to 100)

Question Label : Comprehension

दिए गए गद्यांश को ध्यानपूर्वक पढ़ें और चार विकल्पों में से प्रत्येक प्रश्न का सर्वोत्तम उत्तर चुनें:

हारा हुआ व्यक्ति वह नहीं जो अपने प्रयत्न में सफल नहीं हो पाया, हारा हुआ व्यक्ति वह है जिसने आत्म-विश्वास खो दिया। मुर्दा वह नहीं जो मर गया है मुर्दा वह है जिसका आत्मविश्वास मर गया है। शक्ति के विश्वास में ही शक्ति है। आत्मविश्वास के अंकुर से ही प्रयत्न का पौधा फूटता है और प्रयत्न के पौधे पर ही सफलता के फल लगते हैं। अपने प्रयत्न को इस आधार पर स्थापित करो कि हमें अवश्य सफल होना है। सफलता मिलकर रहेगी। अगर तुम्हें यही विश्वास नहीं कि तुम मंजिल पर पहुँच सकते हो, तो तुम चलोगे कैसे? आत्मविश्वास के क्षेत्र में शंका, संदेह, निराशा का कोई स्थान नहीं।

Sub questions

Question Number : 96 Question Id : 9662317122 Question Type : MCQ Option Shuffling : Yes Display Question Number : Yes Single Line Question Option : No Option Orientation : Vertical

Correct Marks : 1 Wrong Marks : 0.25

अनुच्छेद के अनुसार हारा हुआ व्यक्ति कौन है?

Options :

1. ✘ जो प्रयत्न करें
2. ✘ जो प्रयत्न न करें
3. ✘ जो अधिक परिश्रम करें
4. ✔ जो आत्मविश्वास खो दे

Question Number : 97 Question Id : 9662317123 Question Type : MCQ Option Shuffling : Yes Display Question Number : Yes Single Line Question Option : No Option Orientation : Vertical

Correct Marks : 1 Wrong Marks : 0.25

जिसका आत्मविश्वास मर जाए ऐसा व्यक्ति क्या कहलाता है?

Options :

1. ✘ जीवित व्यक्ति
2. ✔ मरा हुआ
3. ✘ असफल व्यक्ति
4. ✘ हारा हुआ

Question Number : 98 Question Id : 9662317124 Question Type : MCQ Option Shuffling : Yes Display Question Number : Yes Single Line Question Option : No Option Orientation : Vertical

Correct Marks : 1 Wrong Marks : 0.25

अनुच्छेद के अनुसार कोशिश करने वाले क्या प्राप्त करते हैं?

Options :

1. ✘ विफलता
2. ✘ हार
3. ✔ सफलता
4. ✘ अंकुर

Question Number : 99 Question Id : 9662317125 Question Type : MCQ Option Shuffling : Yes Display Question Number : Yes
Single Line Question Option : No Option Orientation : Vertical

Correct Marks : 1 Wrong Marks : 0.25

इनमें से कौन - सा शंका का पर्यायवाची नहीं है?

Options :

1. ✓ निस्संदेह
2. ✗ संदेह
3. ✗ आशंका
4. ✗ भय

Question Number : 100 Question Id : 9662317126 Question Type : MCQ Option Shuffling : Yes Display Question Number : Yes
Single Line Question Option : No Option Orientation : Vertical

Correct Marks : 1 Wrong Marks : 0.25

इस अनुच्छेद का कोई उपयुक्त शीर्षक:

Options :

1. ✗ परिश्रम का जीवन
2. ✓ आत्मविश्वास सफलता का मंत्र
3. ✗ प्रयत्नशील जीवन
4. ✗ सफलता की कुंजी

Question Id : 9662317121 Question Type : COMPREHENSION Sub Question Shuffling Allowed : Yes Group Comprehension
Questions : No

Question Numbers : (96 to 100)

Question Label : Comprehension

दिए गए गद्यांश को ध्यानपूर्वक पढ़ें और चार विकल्पों में से प्रत्येक प्रश्न का सर्वोत्तम उत्तर चुनें:

हारा हुआ व्यक्ति वह नहीं जो अपने प्रयत्न में सफल नहीं हो पाया, हारा हुआ व्यक्ति वह है जिसने आत्म-विश्वास खो दिया। मुर्दा वह नहीं जो मर गया है मुर्दा वह है जिसका आत्मविश्वास मर गया है। शक्ति के विश्वास में ही शक्ति है। आत्मविश्वास के अंकुर से ही प्रयत्न का पौधा फूटता है और प्रयत्न के पौधे पर ही सफलता के फल लगते हैं। अपने प्रयत्न को इस आधार पर स्थापित करो कि हमें अवश्य सफल होना है। सफलता मिलकर रहेगी। अगर तुम्हें यही विश्वास नहीं कि तुम मंजिल पर पहुँच सकते हो, तो तुम चलोगे कैसे? आत्मविश्वास के क्षेत्र में शंका, संदेह, निराशा का कोई स्थान नहीं।

Sub questions

Question Number : 96 Question Id : 9662317122 Question Type : MCQ Option Shuffling : Yes Display Question Number : Yes
Single Line Question Option : No Option Orientation : Vertical

Correct Marks : 1 Wrong Marks : 0.25

अनुच्छेद के अनुसार हारा हुआ व्यक्ति कौन है?

Options :

1. ✗ जो प्रयत्न करें
2. ✗ जो प्रयत्न न करें
3. ✗ जो अधिक परिश्रम करें
4. ✓ जो आत्मविश्वास खो दे

Question Number : 97 Question Id : 9662317123 Question Type : MCQ Option Shuffling : Yes Display Question Number : Yes
Single Line Question Option : No Option Orientation : Vertical

Correct Marks : 1 Wrong Marks : 0.25

जिसका आत्मविश्वास मर जाए ऐसा व्यक्ति क्या कहलाता है?

Options :

1. ✗ जीवित व्यक्ति
2. ✓ मरा हुआ
3. ✗ असफल व्यक्ति

4. ✘ हारा हुआ

Question Number : 98 Question Id : 9662317124 Question Type : MCQ Option Shuffling : Yes Display Question Number : Yes
Single Line Question Option : No Option Orientation : Vertical

Correct Marks : 1 Wrong Marks : 0.25

अनुच्छेद के अनुसार कोशिश करने वाले क्या प्राप्त करते हैं?

Options :

1. ✘ विफलता
2. ✘ हार
3. ✔ सफलता
4. ✘ अंकुर

Question Number : 99 Question Id : 9662317125 Question Type : MCQ Option Shuffling : Yes Display Question Number : Yes
Single Line Question Option : No Option Orientation : Vertical

Correct Marks : 1 Wrong Marks : 0.25

इनमें से कौन - सा शंका का पर्यायवाची नहीं है?

Options :

1. ✔ निस्संदेह
2. ✘ संदेह
3. ✘ आशंका
4. ✘ भय

Question Number : 100 Question Id : 9662317126 Question Type : MCQ Option Shuffling : Yes Display Question Number : Yes
Single Line Question Option : No Option Orientation : Vertical

Correct Marks : 1 Wrong Marks : 0.25

इस अनुच्छेद का कोई उपयुक्त शीर्षक:

Options :

1. ✘ परिश्रम का जीवन
2. ✔ आत्मविश्वास सफलता का मंत्र
3. ✘ प्रयत्नशील जीवन
4. ✘ सफलता की कुंजी

Discipline1

Group Number :	6
Group Id :	966231149
Group Maximum Duration :	0
Group Minimum Duration :	0
Revisit allowed for view? :	No
Revisit allowed for edit? :	No
Break time:	0
Group Marks:	20
Revisit allowed for group Instructions? :	Yes
Maximum Instruction Time:	0
Minimum Instruction Time:	0

Discipline1

Section Id :

966231264

Section Number :	1
Section type :	Online
Mandatory or Optional:	Mandatory
Number of Questions:	20
Number of Questions to be attempted:	20
Section Marks:	20
Display Number Panel:	Yes
Group All Questions:	No

Sub-Section Number:	1
Sub-Section Id:	966231290
Question Shuffling Allowed :	Yes

Question Number : 101 Question Id : 9662317127 Question Type : MCQ Option Shuffling : Yes Display Question Number : Yes
Single Line Question Option : No Option Orientation : Vertical
Correct Marks : 1 Wrong Marks : 0.25

What is at the highest level according to Maslow's hierarchy of human needs?

Options :

1. ✘ Physiological needs
2. ✔ Self-actualisation needs
3. ✘ Love and belongingness
4. ✘ Safety and security

Question Number : 101 Question Id : 9662317127 Question Type : MCQ Option Shuffling : Yes Display Question Number : Yes
Single Line Question Option : No Option Orientation : Vertical
Correct Marks : 1 Wrong Marks : 0.25

मास्लो की मानवी आवश्यकताओं के पदानुक्रम के अनुसार उच्चतम स्तर पर क्या रहता है?

Options :

1. ✘ क्रियात्मक जरूरतें
2. ✔ आत्म-बोध की जरूरतें
3. ✘ प्यार और अपनापन
4. ✘ बचाव और सुरक्षा

Question Number : 102 Question Id : 9662317128 Question Type : MCQ Option Shuffling : Yes Display Question Number : Yes
Single Line Question Option : No Option Orientation : Vertical
Correct Marks : 1 Wrong Marks : 0.25

What is value clarification?

Options :

1. ✓ Process of identifying, examining and developing one's own individual values
2. ✘ Process of identifying and examining the values of other individuals
3. ✘ Process of explaining/describing values of a person
4. ✘ Process of identifying and developing social values

Question Number : 102 Question Id : 9662317128 Question Type : MCQ Option Shuffling : Yes Display Question Number : Yes
Single Line Question Option : No Option Orientation : Vertical

Correct Marks : 1 Wrong Marks : 0.25

मूल्य स्पष्टीकरण क्या है?

Options :

1. ✓ अपने स्वयं के व्यक्तिगत मूल्यों को पहचानने, जाँचने और विकसित करने की प्रक्रिया
2. ✘ अन्य व्यक्तियों के मूल्यों को पहचानने और जाँचने की प्रक्रिया
3. ✘ किसी व्यक्ति के मूल्यों को समझाने / वर्णन करने की प्रक्रिया
4. ✘ सामाजिक मूल्यों को पहचानने और विकसित करने की प्रक्रिया

Question Number : 103 Question Id : 9662317129 Question Type : MCQ Option Shuffling : Yes Display Question Number : Yes
Single Line Question Option : No Option Orientation : Vertical

Correct Marks : 1 Wrong Marks : 0.25

Which of the following occurrences does a nurse have to observe for, in vagal nerve stimulation while removing fecal impaction?

Options :

1. ✘ Tachycardia
2. ✘ Pain
3. ✘ Elevated body temperature
4. ✓ Bradycardia

Question Number : 103 Question Id : 9662317129 Question Type : MCQ Option Shuffling : Yes Display Question Number : Yes
Single Line Question Option : No Option Orientation : Vertical

Correct Marks : 1 Wrong Marks : 0.25

निम्नलिखित में से कौन सी घटना का, फीकल इम्पैक्शन (मलीय विकार) को निकालते समय वेगल नर्व स्टिमुलेशन में, एक नर्स को निरीक्षण करना पड़ता है?

Options :

1. ✘ हृदय की धड़कन में असामान्य तेजी (हृदक्षिपता)
2. ✘ दर्द
3. ✘ शरीर का उच्च तापमान
4. ✔ मंदनाड़ी (मंदस्पंदन)

Question Number : 104 Question Id : 9662317130 Question Type : MCQ Option Shuffling : Yes Display Question Number : Yes
Single Line Question Option : No Option Orientation : Vertical

Correct Marks : 1 Wrong Marks : 0.25

Ongoing assessment process integrated with nursing care is known as:

Options :

1. ✘ initial assessment
2. ✔ problem-focussed assessment
3. ✘ emergency assessment
4. ✘ time-lapsed assessment

Question Number : 104 Question Id : 9662317130 Question Type : MCQ Option Shuffling : Yes Display Question Number : Yes
Single Line Question Option : No Option Orientation : Vertical

Correct Marks : 1 Wrong Marks : 0.25

नर्सिंग देखभाल के साथ एकीकृत जारी मूल्यांकन प्रक्रिया को क्या कहते हैं?

Options :

1. ✘ प्रारंभिक आकलन
2. ✔ समस्या-केंद्रित मूल्यांकन
3. ✘ आपातकालीन मूल्यांकन
4. ✘ समय - कालातीत मूल्यांकन

Question Number : 105 Question Id : 9662317131 Question Type : MCQ Option Shuffling : Yes Display Question Number : Yes
Single Line Question Option : No Option Orientation : Vertical

Correct Marks : 1 Wrong Marks : 0.25

Which of the following intravenous solutions can cause cellular oedema if it is administered rapidly?

Options :

1. ✘ Isotonic
2. ✘ Hypertonic
3. ✘ Isometric
4. ✔ Hypotonic

Question Number : 105 Question Id : 9662317131 Question Type : MCQ Option Shuffling : Yes Display Question Number : Yes
Single Line Question Option : No Option Orientation : Vertical

Correct Marks : 1 Wrong Marks : 0.25

तेजी से प्रशासित किये जाने पर, निम्नलिखित में से कौन सा अंतःशिरा घोल सेलुलर एडिमा का कारण बन सकता है?

Options :

1. ✘ आइसोटोनिक
2. ✘ अतिपरासारी (हाइपरटोनिक)
3. ✘ सममितीय (आइसोमेट्रिक)
4. ✔ हाइपोटोनिक

Question Number : 106 Question Id : 9662317132 Question Type : MCQ Option Shuffling : Yes Display Question Number : Yes
Single Line Question Option : No Option Orientation : Vertical

Correct Marks : 1 Wrong Marks : 0.25

Continuous musical sounds heard on expiration are called:

Options :

1. ✘ crackles
2. ✔ wheezes
3. ✘ bronchial sounds
4. ✘ pleural friction rub

Question Number : 106 Question Id : 9662317132 Question Type : MCQ Option Shuffling : Yes Display Question Number : Yes
Single Line Question Option : No Option Orientation : Vertical

Correct Marks : 1 Wrong Marks : 0.25

साँस छोड़ने पर सुनाई देने वाली लगातार संगीत ध्वनियों को क्या कहते हैं?

Options :

1. ✘ क्रैकल्स
2. ✔ वहीज़ेज
3. ✘ ब्रॉन्कायल ध्वनि
4. ✘ फुफ्फुसावरणी घर्षण रगड़

Question Number : 107 Question Id : 9662317133 Question Type : MCQ Option Shuffling : Yes Display Question Number : Yes
Single Line Question Option : No Option Orientation : Vertical

Correct Marks : 1 Wrong Marks : 0.25

If the temperature is 40° Celsius, then what is the temperature in Fahrenheit?

Options :

1. ✘ 102
2. ✘ 103
3. ✔ 104
4. ✘ 105

Question Number : 107 Question Id : 9662317133 Question Type : MCQ Option Shuffling : Yes Display Question Number : Yes
Single Line Question Option : No Option Orientation : Vertical

Correct Marks : 1 Wrong Marks : 0.25

यदि सेल्सियस में तापमान 40° है, तो फारेनहाइट में तापमान क्या है?

Options :

1. ✘ 102
2. ✘ 103
3. ✔ 104
4. ✘ 105

Question Number : 108 Question Id : 9662317134 Question Type : MCQ Option Shuffling : Yes Display Question Number : Yes
Single Line Question Option : No Option Orientation : Vertical

Correct Marks : 1 Wrong Marks : 0.25

Which of the following findings of an abdominal auscultation should a nurse report immediately to the doctor?

Options :

1. ✓ Loud bruit over the aortic area
2. ✗ Absence of arterial bruits
3. ✗ Absence of bowel sounds for 20 seconds
4. ✗ High pitched bowel sounds

Question Number : 108 Question Id : 9662317134 Question Type : MCQ Option Shuffling : Yes Display Question Number : Yes
Single Line Question Option : No Option Orientation : Vertical

Correct Marks : 1 Wrong Marks : 0.25

पेट में परिश्रवण के निम्नलिखित निष्कर्षों में से किस के लिये एक नर्स को तुरंत डॉक्टर को रिपोर्ट करना चाहिए?

Options :

1. ✓ महाधमनी क्षेत्र पर ऊंची मर्मरध्वनि
2. ✗ धमनी की ऊंची मर्मरध्वनि की अनुपस्थिति
3. ✗ 20 सेकंड के लिए आंत्र ध्वनियों की अनुपस्थिति
4. ✗ ऊंची रालदार आंत्र की आवाज़

Question Number : 109 Question Id : 9662317135 Question Type : MCQ Option Shuffling : Yes Display Question Number : Yes
Single Line Question Option : No Option Orientation : Vertical

Correct Marks : 1 Wrong Marks : 0.25

What is the purpose of a retention enema?

Options :

1. ✗ To empty the bowel
2. ✓ To soften the hardened faeces and gently stimulate the peristalsis
3. ✗ To relieve distension caused by flatus
4. ✗ To reduce bowel action

Question Number : 109 Question Id : 9662317135 Question Type : MCQ Option Shuffling : Yes Display Question Number : Yes
Single Line Question Option : No Option Orientation : Vertical

Correct Marks : 1 Wrong Marks : 0.25

अवधारण एनीमा का उद्देश्य क्या है?

Options :

1. ✘ आंते खाली करने के लिए
2. ✔ कठोर मल को नरम करने के लिए और धीरे से क्रमाकुंचन को उत्तेजित करने के लिए
3. ✘ अधोवायु की वजह से होने वाली फैलावट को दूर करने के लिए
4. ✘ आंत्र क्रिया को कम करने के लिए

Question Number : 110 Question Id : 9662317136 Question Type : MCQ Option Shuffling : Yes Display Question Number : Yes
Single Line Question Option : No Option Orientation : Vertical

Correct Marks : 1 Wrong Marks : 0.25

By performing which of the following actions can a nurse increase the base of support?

Options :

1. ✘ Leaning slightly backward
2. ✔ Spacing the feet farther apart
3. ✘ Tensing the abdominal muscles
4. ✘ Bending the knees

Question Number : 110 Question Id : 9662317136 Question Type : MCQ Option Shuffling : Yes Display Question Number : Yes
Single Line Question Option : No Option Orientation : Vertical

Correct Marks : 1 Wrong Marks : 0.25

निम्नलिखित में से कौन सी क्रिया करने से नर्स सहारे का आधार बढ़ा सकती है?

Options :

1. ✘ थोड़ा पीछे की ओर झुकना
2. ✔ पैरों को अधिक दूर फैलाना
3. ✘ पेट की मांसपेशियों को तानना
4. ✘ घुटने टेकना

Question Number : 111 Question Id : 9662317137 Question Type : MCQ Option Shuffling : Yes Display Question Number : Yes
Single Line Question Option : No Option Orientation : Vertical

Correct Marks : 1 Wrong Marks : 0.25

Clinical manifestations of dehydration include all of the following, EXCEPT:

Options :

1. ✘ headache and light headedness
2. ✘ dry mouth, eye and lips
3. ✘ small amounts of dark urine
4. ✔ dry and brittle nails

Question Number : 111 Question Id : 9662317137 Question Type : MCQ Option Shuffling : Yes Display Question Number : Yes
Single Line Question Option : No Option Orientation : Vertical

Correct Marks : 1 Wrong Marks : 0.25

निर्जलीकरण के क्लिनिकल अभिव्यक्तियों में निम्नलिखित सभी शामिल हैं सिवाय इसके:

Options :

1. ✘ सिरदर्द और चक्कर आना
2. ✘ सुखा मुँह, आँख और होंठ
3. ✘ छोटी मात्रा में गहरे रंग का मूत्र
4. ✔ सूखे और भुरभुरे नाखून

Question Number : 112 Question Id : 9662317138 Question Type : MCQ Option Shuffling : Yes Display Question Number : Yes
Single Line Question Option : No Option Orientation : Vertical

Correct Marks : 1 Wrong Marks : 0.25

How much water must be added to 150 ml of a 1 in 20 solution to make up 1% solution?

Options :

1. ✘ 30 ml
2. ✔ 60 ml
3. ✘ 90 ml
4. ✘ 120 ml

Question Number : 112 Question Id : 9662317138 Question Type : MCQ Option Shuffling : Yes Display Question Number : Yes
Single Line Question Option : No Option Orientation : Vertical

Correct Marks : 1 Wrong Marks : 0.25

1% विलयन बनाने के लिए 20 में 1 विलयन के 150 मि.ली में कितना पानी डालना होगा?

Options :

1. ✘ 30 मिलीलीटर
2. ✔ 60 मिलीलीटर
3. ✘ 90 मिलीलीटर
4. ✘ 120 मिलीलीटर

Question Number : 113 Question Id : 9662317139 Question Type : MCQ Option Shuffling : Yes Display Question Number : Yes
Single Line Question Option : No Option Orientation : Vertical

Correct Marks : 1 Wrong Marks : 0.25

What is the appropriate needle gauge for intradermal injections?

Options :

1. ✘ 19 - 23 Gauge
2. ✘ 16 - 18 Gauge
3. ✔ 24 - 26 Gauge
4. ✘ 20 - 22 Gauge

Question Number : 113 Question Id : 9662317139 Question Type : MCQ Option Shuffling : Yes Display Question Number : Yes
Single Line Question Option : No Option Orientation : Vertical

Correct Marks : 1 Wrong Marks : 0.25

इंट्राडर्मल इंजेक्शन के लिए उचित सुई गेज कितना है?

Options :

1. ✘ 19 - 23 गेज
2. ✘ 16 - 18 गेज
3. ✔ 24 - 26 गेज
4. ✘ 20 - 22 गेज

Question Number : 114 Question Id : 9662317140 Question Type : MCQ Option Shuffling : Yes Display Question Number : Yes
Single Line Question Option : No Option Orientation : Vertical

Correct Marks : 1 Wrong Marks : 0.25

What comes under category 1 of the biomedical waste segregation?

Options :

1. ✘ Microbiological and biotechnical waste
2. ✘ Animal waste
3. ✔ Human anatomical waste
4. ✘ Discarded medicines

Question Number : 114 Question Id : 9662317140 Question Type : MCQ Option Shuffling : Yes Display Question Number : Yes
Single Line Question Option : No Option Orientation : Vertical

Correct Marks : 1 Wrong Marks : 0.25

जैव चिकित्सा अपशिष्ट अलगाव की श्रेणी 1 के अंतर्गत क्या आता है?

Options :

1. ✘ माइक्रोबायोलॉजिकल और बायोटेक्निकल अपशिष्ट
2. ✘ पशु अपशिष्ट
3. ✔ मानव शरीरगत अपशिष्ट
4. ✘ निष्कासित दवाएँ

Question Number : 115 Question Id : 9662317141 Question Type : MCQ Option Shuffling : Yes Display Question Number : Yes
Single Line Question Option : No Option Orientation : Vertical

Correct Marks : 1 Wrong Marks : 0.25

Identify the proteolytic enzyme present in the gastric juice.

Options :

1. ✘ Trypsin
2. ✘ Chymotrypsin
3. ✘ Peptidase
4. ✔ Pepsin

Question Number : 115 Question Id : 9662317141 Question Type : MCQ Option Shuffling : Yes Display Question Number : Yes
Single Line Question Option : No Option Orientation : Vertical

Correct Marks : 1 Wrong Marks : 0.25

गैस्ट्रिक जूस में मौजूद प्रोटीयोलाइटिक एंजाइम कौनसा है।

Options :

1. ✘ ट्रिप्सिन
2. ✘ काइमोट्रिप्सिन
3. ✘ पेप्टिडेज़
4. ✔ पेप्सिन

Question Number : 116 Question Id : 9662317142 Question Type : MCQ Option Shuffling : Yes Display Question Number : Yes
Single Line Question Option : No Option Orientation : Vertical

Correct Marks : 1 Wrong Marks : 0.25

Cheilosis is the deficiency of:

Options :

1. ✘ vitamin-B₁
2. ✔ vitamin-B₂
3. ✘ vitamin-B₃
4. ✘ vitamin-B₆

Question Number : 116 Question Id : 9662317142 Question Type : MCQ Option Shuffling : Yes Display Question Number : Yes
Single Line Question Option : No Option Orientation : Vertical

Correct Marks : 1 Wrong Marks : 0.25

चेइलोसिस किसकी कमी के कारण होता है?

Options :

1. ✘ विटामिन -B₁
2. ✔ विटामिन -B₂
3. ✘ विटामिन - B₃
4. ✘ विटामिन -B₆

Question Number : 117 Question Id : 9662317143 Question Type : MCQ Option Shuffling : Yes Display Question Number : Yes
Single Line Question Option : No Option Orientation : Vertical

Correct Marks : 1 Wrong Marks : 0.25

Which statement is NOT true regarding kwashiorkor?

Options :

1. ✘ Silky, easily pulled hair
2. ✔ Monkey face
3. ✘ Poor appetite
4. ✘ Oedema present in the lower limbs and arms

Question Number : 117 Question Id : 9662317143 Question Type : MCQ Option Shuffling : Yes Display Question Number : Yes
Single Line Question Option : No Option Orientation : Vertical

Correct Marks : 1 Wrong Marks : 0.25

क्वाशिओरकोर के संबंध में कौन सा वक्तव्य सही नहीं है?

Options :

1. ✘ बाल जो रेशमी हैं, और जो आसानी से खींचे जाते हैं
2. ✔ बंदर जैसा चेहरा
3. ✘ अपर्याप्त भूख
4. ✘ निचले अंगों और भुजाओं में एडिमा की उपस्थिति

Question Number : 118 Question Id : 9662317144 Question Type : MCQ Option Shuffling : Yes Display Question Number : Yes
Single Line Question Option : No Option Orientation : Vertical

Correct Marks : 1 Wrong Marks : 0.25

What is the recommended dietary allowance (RDA) of calcium for a 9 year old child?

Note: For this question, discrepancy is found in question/answer. So, this question is ignored for all candidates.

Options :

1. 200 gm per day
2. 400 gm per day
3. 600 gm per day
4. 800 gm per day

Question Number : 118 Question Id : 9662317144 Question Type : MCQ Option Shuffling : Yes Display Question Number : Yes
Single Line Question Option : No Option Orientation : Vertical

Correct Marks : 1 Wrong Marks : 0.25

9 साल के बच्चे के लिए कैल्शियम का अनुशंसित आहार मात्रा (आरडीए) क्या है?

Note: For this question, discrepancy is found in question/answer. So, this question is ignored for all candidates.

Options :

1. 200 ग्राम प्रतिदिन
2. 400 ग्राम प्रतिदिन
3. 600 ग्राम प्रतिदिन
4. 800 ग्राम प्रतिदिन

Question Number : 119 Question Id : 9662317145 Question Type : MCQ Option Shuffling : Yes Display Question Number : Yes
Single Line Question Option : No Option Orientation : Vertical

Correct Marks : 1 Wrong Marks : 0.25

The first step in aerobic glycolysis pathway is:

Options :

1. ✘ Fructose 6-phosphate
2. ✘ Phospho-fructokinase
3. ✔ Glucose 6-phosphate
4. ✘ Pyruvate

Question Number : 119 Question Id : 9662317145 Question Type : MCQ Option Shuffling : Yes Display Question Number : Yes
Single Line Question Option : No Option Orientation : Vertical

Correct Marks : 1 Wrong Marks : 0.25

एरोबिक ग्लाइकोलाइसिस क्रम (पाथवे) में पहला कदम क्या है?

Options :

1. ✘ फ्रुक्टोज 6-फॉस्फेट
2. ✘ फास्फो-फरक्टोकाइनेज
3. ✔ ग्लूकोज 6-फॉस्फेट
4. ✘ पाइरूवेट

Question Number : 120 Question Id : 9662317146 Question Type : MCQ Option Shuffling : Yes Display Question Number : Yes
Single Line Question Option : No Option Orientation : Vertical

Correct Marks : 1 Wrong Marks : 0.25

The immunoglobulin that is elevated in individuals with allergy is:

Options :

1. immunoglobulin E
2. immunoglobulin A
3. immunoglobulin D
4. immunoglobulin M

Question Number : 120 Question Id : 9662317146 Question Type : MCQ Option Shuffling : Yes Display Question Number : Yes
Single Line Question Option : No Option Orientation : Vertical

Correct Marks : 1 Wrong Marks : 0.25

इम्युनोग्लोबुलिन जो एलर्जी (तीव्र प्रतिक्रिया) वाले व्यक्तियों में उन्नत होता है, वो क्या है?

Options :

1. इम्युनोग्लोबुलिन ई
2. इम्युनोग्लोबुलिन ए
3. इम्युनोग्लोबुलिन डी
4. इम्युनोग्लोबुलिन एम

Discipline2

Group Number :	7
Group Id :	966231150
Group Maximum Duration :	0
Group Minimum Duration :	0
Revisit allowed for view? :	No
Revisit allowed for edit? :	No
Break time:	0
Group Marks:	20
Revisit allowed for group Instructions? :	Yes
Maximum Instruction Time:	0
Minimum Instruction Time:	0

Discipline2

Section Id :	966231265
Section Number :	1
Section type :	Online
Mandatory or Optional:	Mandatory
Number of Questions:	20
Number of Questions to be attempted:	20
Section Marks:	20
Display Number Panel:	Yes
Group All Questions:	No

Sub-Section Number:	1
Sub-Section Id:	966231291
Question Shuffling Allowed :	Yes

Question Number : 121 Question Id : 9662317147 Question Type : MCQ Option Shuffling : Yes Display Question Number : Yes
Single Line Question Option : No Option Orientation : Vertical

Correct Marks : 1 Wrong Marks : 0.25

Which one of the following is an example of a chromoprotein?

Options :

1. ✓ Haemoglobin
2. ✗ Casein
3. ✗ Mucin
4. ✗ Glutenin

Question Number : 121 Question Id : 9662317147 Question Type : MCQ Option Shuffling : Yes Display Question Number : Yes
Single Line Question Option : No Option Orientation : Vertical

Correct Marks : 1 Wrong Marks : 0.25

निम्नलिखित में से कौन सा क्रोमोप्रोटीन का एक उदाहरण है?

Options :

1. ✓ हीमोग्लोबिन
2. ✗ कैसिन
3. ✗ म्यूसिन
4. ✗ ग्लूटेनिन

Question Number : 122 Question Id : 9662317148 Question Type : MCQ Option Shuffling : Yes Display Question Number : Yes
Single Line Question Option : No Option Orientation : Vertical

Correct Marks : 1 Wrong Marks : 0.25

In order to remember a mobile phone number, one makes it into smaller meaningful units. What is this technique of memory called?

Options :

1. ✘ Rehearsal
2. ✘ Retrieval
3. ✘ Relearning
4. ✔ Chunking

Question Number : 122 Question Id : 9662317148 Question Type : MCQ Option Shuffling : Yes Display Question Number : Yes
Single Line Question Option : No Option Orientation : Vertical

Correct Marks : 1 Wrong Marks : 0.25

मोबाइल फोन नंबर को याद रखने के लिए, व्यक्ति इसे छोटी सार्थक इकाइयों में बनाता है। याद करने की इस तकनीक को क्या कहते हैं?

Options :

1. ✘ रिहर्सल (पूर्वाभ्यास)
2. ✘ रिट्रीवल (पुनःप्राप्ति)
3. ✘ रिलर्निंग (पुनरधिगम)
4. ✔ चंकिंग (ठस)

Question Number : 123 Question Id : 9662317149 Question Type : MCQ Option Shuffling : Yes Display Question Number : Yes
Single Line Question Option : No Option Orientation : Vertical

Correct Marks : 1 Wrong Marks : 0.25

Identify the type of intelligence in which individuals have the ability to control one's body movements and handle objects skillfully.

Options :

1. ✘ Musical-rhythmic intelligence
2. ✘ Visual-spastic intelligence
3. ✔ Body-kinesthetic intelligence
4. ✘ Verbal-lingual intelligence

Question Number : 123 Question Id : 9662317149 Question Type : MCQ Option Shuffling : Yes Display Question Number : Yes
Single Line Question Option : No Option Orientation : Vertical

Correct Marks : 1 Wrong Marks : 0.25

किस प्रकार की बुद्धिमत्ता है जिसमें व्यक्तियों को अपने शरीर की गतिविधियों को नियंत्रित करने और वस्तुओं को कुशलता से संभालने की क्षमता होती है?

Options :

1. ✘ संगीत-लयबद्ध बुद्धि (म्यूजिकल रिदमिक इन्टेलजन्स)
2. ✘ दृश्य-स्पस्टी बुद्धि (विजुअल स्पास्टिक इन्टेलजन्स)
3. ✔ शरीर-परिग्रह बुद्धि (बॉडी किनएस्थेटिक इन्टेलजन्स)
4. ✘ मौखिक-भाषिक बुद्धि (वर्बल लिंगुअल इन्टेलजन्स)

Question Number : 124 Question Id : 9662317150 Question Type : MCQ Option Shuffling : Yes Display Question Number : Yes
Single Line Question Option : No Option Orientation : Vertical

Correct Marks : 1 Wrong Marks : 0.25

What is the weight of a placenta at term?

Options :

1. ✘ 100 gm
2. ✘ 250 gm
3. ✔ 500 gm
4. ✘ 1000 gm

Question Number : 124 Question Id : 9662317150 Question Type : MCQ Option Shuffling : Yes Display Question Number : Yes
Single Line Question Option : No Option Orientation : Vertical

Correct Marks : 1 Wrong Marks : 0.25

प्लेसेंटा का वजन पूर्ण अवधि पर कितना होता है?

Options :

1. ✘ 100 ग्राम
2. ✘ 250 ग्राम
3. ✔ 500 ग्राम
4. ✘ 1000 ग्राम

Question Number : 125 Question Id : 9662317151 Question Type : MCQ Option Shuffling : Yes Display Question Number : Yes
Single Line Question Option : No Option Orientation : Vertical

Correct Marks : 1 Wrong Marks : 0.25

What is the relationship of the long axis of the foetus to the long axis of the maternal spine?

Options :

1. ✘ Presentation
2. ✔ Lie
3. ✘ Denominator
4. ✘ Attitude

Question Number : 125 Question Id : 9662317151 Question Type : MCQ Option Shuffling : Yes Display Question Number : Yes
Single Line Question Option : No Option Orientation : Vertical

Correct Marks : 1 Wrong Marks : 0.25

मातृ रीढ़ की लंबी धुरी और भ्रूण की लंबी धुरी का क्या संबंध है?

Options :

1. ✘ प्रदर्शन
2. ✔ अवस्थित
3. ✘ भाजक
4. ✘ मनोवृत्ति

Question Number : 126 Question Id : 9662317152 Question Type : MCQ Option Shuffling : Yes Display Question Number : Yes
Single Line Question Option : No Option Orientation : Vertical

Correct Marks : 1 Wrong Marks : 0.25

On vaginal examination, which level +1 station of the foetal head determines the foetal presenting part?

Options :

1. ✘ 1 cm above the iliac crest
2. ✔ 1cm below the ischial spines
3. ✘ 1 inch above the symphysis pubis
4. ✘ 1 inch below the coccyx

Question Number : 126 Question Id : 9662317152 Question Type : MCQ Option Shuffling : Yes Display Question Number : Yes
Single Line Question Option : No Option Orientation : Vertical

Correct Marks : 1 Wrong Marks : 0.25

योनि जांच पर, भ्रूण के सिर का कौन सा स्तर +1 स्टेशन भ्रूण प्रस्तुति भाग को निर्धारित करता है?

Options :

1. ✘ इलियाक शिखा से 1 सेमी ऊपर
2. ✔ इसकीयल रीड के नीचे 1 सेमी
3. ✘ सिम्फिसिस पियूबिस से 1 इंच ऊपर
4. ✘ कोकसीक्स के नीचे 1 इंच

Question Number : 127 Question Id : 9662317153 Question Type : MCQ Option Shuffling : Yes Display Question Number : Yes
Single Line Question Option : No Option Orientation : Vertical

Correct Marks : 1 Wrong Marks : 0.25

What is the duration of puerperium?

Options :

1. ✘ 2 weeks
2. ✘ 4 weeks
3. ✔ 6 weeks
4. ✘ 8 weeks

Question Number : 127 Question Id : 9662317153 Question Type : MCQ Option Shuffling : Yes Display Question Number : Yes
Single Line Question Option : No Option Orientation : Vertical

Correct Marks : 1 Wrong Marks : 0.25

प्यूएरपेरियम (प्रसवोत्तरकाल) की अवधि क्या है?

Options :

1. ✘ 2 सप्ताह
2. ✘ 4 सप्ताह
3. ✔ 6 सप्ताह
4. ✘ 8 सप्ताह

Question Number : 128 Question Id : 9662317154 Question Type : MCQ Option Shuffling : Yes Display Question Number : Yes
Single Line Question Option : No Option Orientation : Vertical

Correct Marks : 1 Wrong Marks : 0.25

Identify the type of abortion where the changes progress to a state from where continuation of the pregnancy becomes impossible.

Options :

1. ✘ Threatened abortion
2. ✔ Inevitable abortion
3. ✘ Complete abortion
4. ✘ Missed abortion

Question Number : 128 Question Id : 9662317154 Question Type : MCQ Option Shuffling : Yes Display Question Number : Yes
Single Line Question Option : No Option Orientation : Vertical

Correct Marks : 1 Wrong Marks : 0.25

गर्भपात के प्रकार की पहचान करें जहाँ परिवर्तन उस स्थिति तक प्रगति करता है, जहाँ से गर्भावस्था की निरंतरता असंभव हो जाती है।

Options :

1. ✘ संभावित गर्भपात
2. ✔ अपरिहार्य गर्भपात
3. ✘ पूर्ण गर्भपात
4. ✘ विफल गर्भपात

Question Number : 129 Question Id : 9662317155 Question Type : MCQ Option Shuffling : Yes Display Question Number : Yes
Single Line Question Option : No Option Orientation : Vertical

Correct Marks : 1 Wrong Marks : 0.25

Which of the following assessment findings of a pregnant lady determine that she is in the second stage of labour?

Options :

1. ✘ Membranes have ruptured
2. ✔ Cervix is dilated completely
3. ✘ Begins to expel clear vaginal fluid
4. ✘ Contractions are regular

Question Number : 129 Question Id : 9662317155 Question Type : MCQ Option Shuffling : Yes Display Question Number : Yes
Single Line Question Option : No Option Orientation : Vertical

Correct Marks : 1 Wrong Marks : 0.25

गर्भवती महिला के निम्नलिखित आकलन निष्कर्षों में से कौन सा यह निर्धारित करता है कि वह प्रसव के दूसरे चरण में है?

Options :

1. ✘ झिल्ली का टूटना
2. ✔ गर्भाशय ग्रीवा पूरी तरह से चौड़ा होना
3. ✘ स्पष्ट योनि द्रव का बाहर निकलना
4. ✘ नियमित संकुचन

Question Number : 130 Question Id : 9662317156 Question Type : MCQ Option Shuffling : Yes Display Question Number : Yes Single Line Question Option : No Option Orientation : Vertical

Correct Marks : 1 Wrong Marks : 0.25

Which of the following assessment findings suspect the diagnosis of placenta previa?

Options :

1. ✔ Bright red coloured bleeding
2. ✘ Tender uterus
3. ✘ Placenta in the upper segment
4. ✘ Abdominal pain

Question Number : 130 Question Id : 9662317156 Question Type : MCQ Option Shuffling : Yes Display Question Number : Yes Single Line Question Option : No Option Orientation : Vertical

Correct Marks : 1 Wrong Marks : 0.25

निम्नलिखित में से कौन सा मूल्यांकन निष्कर्ष प्लेसेंटा प्रीविया के निदान पर संदेह करता है?

Options :

1. ✔ चमकीले लाल रंग का रक्तस्राव
2. ✘ कोमल गर्भाशय
3. ✘ ऊपरी खंड में प्लेसेंटा
4. ✘ पेट में दर्द

Question Number : 131 Question Id : 9662317157 Question Type : MCQ Option Shuffling : Yes Display Question Number : Yes Single Line Question Option : No Option Orientation : Vertical

Correct Marks : 1 Wrong Marks : 0.25

Which of the following is a type of hypertension with proteinuria and convulsions during pregnancy?

Options :

1. ✘ Gestational hypertension
2. ✔ Eclampsia
3. ✘ Chronic hypertension
4. ✘ Pre-eclampsia

Question Number : 131 Question Id : 9662317157 Question Type : MCQ Option Shuffling : Yes Display Question Number : Yes
Single Line Question Option : No Option Orientation : Vertical

Correct Marks : 1 Wrong Marks : 0.25

निम्न में से कौन सा गर्भावस्था के दौरान प्रोटीनमेह और ऐंठन के साथ होनेवाले उच्च रक्तचाप का एक प्रकार है?

Options :

1. ✘ गर्भकालीन उच्च रक्तचाप
2. ✔ गर्भाक्षेप
3. ✘ जीर्ण हाइपरटेंशन
4. ✘ अग्रिम गर्भाक्षेप

Question Number : 132 Question Id : 9662317158 Question Type : MCQ Option Shuffling : Yes Display Question Number : Yes
Single Line Question Option : No Option Orientation : Vertical

Correct Marks : 1 Wrong Marks : 0.25

Which of the following initial nursing actions has to be taken before performing fundal assessment on a post-partum client?

Options :

1. ✘ Ask the mother to turn to her side.
2. ✘ Ask the mother to lie flat on her back with the knees and legs flat and straight.
3. ✔ Ask the mother to empty her bladder.
4. ✘ Massage the fundus gently before determining the level of the fundus.

Question Number : 132 Question Id : 9662317158 Question Type : MCQ Option Shuffling : Yes Display Question Number : Yes
Single Line Question Option : No Option Orientation : Vertical

Correct Marks : 1 Wrong Marks : 0.25

पोस्टपार्टम क्लाइंट पर फंडल मूल्यांकन करने से पहले निम्नलिखित में से कौन सी प्रारंभिक नर्सिंग कार्रवाई की जानी चाहिए?

Options :

1. ✘ माँ को करवट मुड़ने के लिए कहें।
2. ✘ माँ को घुटनों और पैरों को सपाट और सीधे रखते हुए पीठ के बल लेटने के लिए कहें।
3. ✔ माँ को अपना मूत्राशय खाली करने के लिए कहें।
4. ✘ फंडस के स्तर को निर्धारित करने से पहले धीरे से फंडस की मालिश करें।

Question Number : 133 Question Id : 9662317159 Question Type : MCQ Option Shuffling : Yes Display Question Number : Yes
Single Line Question Option : No Option Orientation : Vertical

Correct Marks : 1 Wrong Marks : 0.25

In which type of labour, the combined duration of the first and second stage is less than two hours?

Options :

1. ✘ Normal labour
2. ✘ Prolonged labour
3. ✔ Precipitate labour
4. ✘ Trial labour

Question Number : 133 Question Id : 9662317159 Question Type : MCQ Option Shuffling : Yes Display Question Number : Yes
Single Line Question Option : No Option Orientation : Vertical

Correct Marks : 1 Wrong Marks : 0.25

किस प्रकार के प्रसव में, पहले और दूसरे चरण की संयुक्त अवधि दो घंटे से कम है?

Options :

1. ✘ सामान्य प्रसव
2. ✘ लंबे अवधि तक प्रसव
3. ✔ अनपेक्षित (प्रेसिपिटेड) प्रसव
4. ✘ परीक्षण प्रसव

Question Number : 134 Question Id : 9662317160 Question Type : MCQ Option Shuffling : Yes Display Question Number : Yes
Single Line Question Option : No Option Orientation : Vertical

Correct Marks : 1 Wrong Marks : 0.25

In which of the following malpositions there is a saucer-shaped depression observed, at or just below the umbilicus, on abdominal examination?

Options :

1. ✘ Occipitoanterior position
2. ✘ Mentoanterior position
3. ✔ Occipitoposterior position
4. ✘ Mento-posterior position

Question Number : 134 Question Id : 9662317160 Question Type : MCQ Option Shuffling : Yes Display Question Number : Yes
Single Line Question Option : No Option Orientation : Vertical

Correct Marks : 1 Wrong Marks : 0.25

निम्नलिखित में से किस दुःस्थिति में पेट की जांच पर नाभि पर या उसके नीचे एक तश्तरी के आकार का कोटर देखा गया है?

Options :

1. ✘ ओक्सिपिटोएन्टीरीअर स्थिति
2. ✘ मेंटोएन्टीरीअर स्थिति
3. ✔ ओक्सिपिटोपोस्टीरीअर स्थिति
4. ✘ मेंटोपोस्टीरीअर स्थिति

Question Number : 135 Question Id : 9662317161 Question Type : MCQ Option Shuffling : Yes Display Question Number : Yes
Single Line Question Option : No Option Orientation : Vertical

Correct Marks : 1 Wrong Marks : 0.25

Which of the following is a cause of secondary post-partum hemorrhage?

Options :

1. ✘ Laceration of the lower genital tract
2. ✘ Involution of the uterus
3. ✔ Presence of retained cotyledons
4. ✘ Presence of haematological disorders in the mother

Question Number : 135 Question Id : 9662317161 Question Type : MCQ Option Shuffling : Yes Display Question Number : Yes
Single Line Question Option : No Option Orientation : Vertical

Correct Marks : 1 Wrong Marks : 0.25

निम्न में से कौन सा द्वितीयक पोस्ट-पार्टम हेमरेज का कारण है?

Options :

1. ✘ निचले जननांग पथ की फटन
2. ✘ गर्भाशय का समावेश
3. ✔ बरकरार रखे बीजपत्र की उपस्थिति
4. ✘ माँ में हेमेटोलॉजिकल विकारों का रहना

Question Number : 136 Question Id : 9662317162 Question Type : MCQ Option Shuffling : Yes Display Question Number : Yes
Single Line Question Option : No Option Orientation : Vertical

Correct Marks : 1 Wrong Marks : 0.25

What is the immediate intervention to be performed on a mother at term gestation, who is experiencing moderate vaginal bleeding, indicating abruptio placenta?

Options :

1. ✘ Strict monitoring of intake and output
2. ✔ Delivery of the foetus
3. ✘ Weekly monitoring of coagulation studies until the time of delivery
4. ✘ Complete bed rest for remaining period of the pregnancy

Question Number : 136 Question Id : 9662317162 Question Type : MCQ Option Shuffling : Yes Display Question Number : Yes
Single Line Question Option : No Option Orientation : Vertical

Correct Marks : 1 Wrong Marks : 0.25

एक माँ जो मध्यम योनि रक्तस्राव का अनुभव कर रही है, जो अचानक से होने वाले अपरा का संकेत है, उसके लिए तत्काल इलाज क्या है?

Options :

1. ✘ सेवन और आउटपुट की सख्त निगरानी
2. ✔ भ्रूण का प्रसव होना
3. ✘ प्रसव के समय तक जमावट के अध्ययन की साप्ताहिक निगरानी
4. ✘ गर्भावस्था की शेष अवधि में संपूर्णतः विश्राम करना

Question Number : 137 Question Id : 9662317163 Question Type : MCQ Option Shuffling : Yes Display Question Number : Yes
Single Line Question Option : No Option Orientation : Vertical

Correct Marks : 1 Wrong Marks : 0.25

Which nursing intervention is a priority while caring for a woman in labour with hypertonic uterine contractions which are erratic in their frequency, duration, and intensity?

Options :

1. ✘ Prepare the client for an amniotomy
2. ✔ Provide pain relief measures
3. ✘ Promote ambulation every 30 minutes
4. ✘ Provide oxytocin augmentation

Question Number : 137 Question Id : 9662317163 Question Type : MCQ Option Shuffling : Yes Display Question Number : Yes
Single Line Question Option : No Option Orientation : Vertical

Correct Marks : 1 Wrong Marks : 0.25

हाइपरटोनिक गर्भाशय संकुचन, जो आवृत्ति, अवधि और तीव्रता में अनियमित हैं, वाली प्रसव में एक महिला की देखभाल करते समय कौन सी नर्सिंग कार्रवाई एक प्राथमिकता है?

Options :

1. ✘ गर्भवती महिला को एमनियोटॉमी के लिए तैयार करना
2. ✔ दर्द से राहत के उपाय प्रदान करें
3. ✘ हर 30 मिनट में अंग संचालन में सहायता करें
4. ✘ ऑक्सीटॉसिन वृद्धि प्रदान करें

Question Number : 138 Question Id : 9662317164 Question Type : MCQ Option Shuffling : Yes Display Question Number : Yes
Single Line Question Option : No Option Orientation : Vertical

Correct Marks : 1 Wrong Marks : 0.25

Who has developed the Theory of Emotional Development?

Options :

1. ✘ Sigmund Freud
2. ✘ James Fowler
3. ✘ Lawrence Kohlberg
4. ✔ Erik H Erikson

Question Number : 138 Question Id : 9662317164 Question Type : MCQ Option Shuffling : Yes Display Question Number : Yes
Single Line Question Option : No Option Orientation : Vertical

Correct Marks : 1 Wrong Marks : 0.25

भावनात्मक विकास का सिद्धांत किसने विकसित किया है?

Options :

1. ✘ सिगमंड फ्रायड
2. ✘ जेम्स फाउलर
3. ✘ लॉरेंस कोहलबर्ग
4. ✔ एरिक एच एरिकसन

Question Number : 139 Question Id : 9662317165 Question Type : MCQ Option Shuffling : Yes Display Question Number : Yes
Single Line Question Option : No Option Orientation : Vertical

Correct Marks : 1 Wrong Marks : 0.25

The temporary accumulation of epithelial cells formed on the hard palate in a neonate are called:

Options :

1. ✘ supernumerary teeth
2. ✔ Epstein pearls
3. ✘ retention cysts
4. ✘ sucking callosities

Question Number : 139 Question Id : 9662317165 Question Type : MCQ Option Shuffling : Yes Display Question Number : Yes
Single Line Question Option : No Option Orientation : Vertical

Correct Marks : 1 Wrong Marks : 0.25

एक नवजात में कठोर तालू पर गठित उपकला कोशिकाओं के अस्थायी संचय को क्या कहा जाता है?

Options :

1. ✘ अधिसंख्य दांत
2. ✔ एपस्टीन मोती
3. ✘ प्रतिधारण पुटी
4. ✘ चूसने की कॉलोसिटीज़

Question Number : 140 Question Id : 9662317166 Question Type : MCQ Option Shuffling : Yes Display Question Number : Yes
Single Line Question Option : No Option Orientation : Vertical

Correct Marks : 1 Wrong Marks : 0.25

Palpation of an olive-shaped mass in the epigastrium is an indication of:

Options :

1. ✘ appendicitis
2. ✘ ulcerative colitis
3. ✘ malabsorption syndrome
4. ✔ hypertrophic pyloric stenosis

Question Number : 140 Question Id : 9662317166 Question Type : MCQ Option Shuffling : Yes Display Question Number : Yes
Single Line Question Option : No Option Orientation : Vertical

Correct Marks : 1 Wrong Marks : 0.25

एपिगास्ट्रिकम में एक जैतून के आकार के द्रव्यमान का परिस्पर्शन (पैल्पेशन) किसका संकेत है?

Options :

1. ✘ आंत्रपुच्छकोप
2. ✘ अल्सरेटिव कोलाइटिस
3. ✘ कुअवशोषण सिंड्रोम
4. ✔ हाइपरट्रॉफिक पाइलोरिक स्टेनोसिस

Discipline3

Group Number :	8
Group Id :	966231151
Group Maximum Duration :	0
Group Minimum Duration :	0
Revisit allowed for view? :	No
Revisit allowed for edit? :	No
Break time:	0
Group Marks:	20
Revisit allowed for group Instructions? :	Yes
Maximum Instruction Time:	0
Minimum Instruction Time:	0

Discipline3

Section Id : 966231266
Section Number : 1
Section type : Online
Mandatory or Optional: Mandatory
Number of Questions: 20
Number of Questions to be attempted: 20
Section Marks: 20
Display Number Panel: Yes
Group All Questions: No

Sub-Section Number: 1
Sub-Section Id: 966231292
Question Shuffling Allowed : Yes

Question Number : 141 Question Id : 9662317167 Question Type : MCQ Option Shuffling : Yes Display Question Number : Yes
Single Line Question Option : No Option Orientation : Vertical

Correct Marks : 1 Wrong Marks : 0.25

The dosage of vitamin-K to be administered to a preterm neonate immediately after birth is:

Options :

1. ✓ 0.5 mg
2. ✗ 1 mg
3. ✗ 1.5 mg
4. ✗ 2.5 mg

Question Number : 141 Question Id : 9662317167 Question Type : MCQ Option Shuffling : Yes Display Question Number : Yes
Single Line Question Option : No Option Orientation : Vertical

Correct Marks : 1 Wrong Marks : 0.25

एक अपरिपक्व नवजात को जन्म के तुरंत बाद विटामिन-के की कितनी खुराक दी जाती है?

Options :

1. ✓ 0.5 मिलीग्राम
2. ✗ 1 मिलीग्राम
3. ✗ 1.5 मिलीग्राम
4. ✗ 2.5 मिलीग्राम

Question Number : 142 Question Id : 9662317168 Question Type : MCQ Option Shuffling : Yes Display Question Number : Yes
Single Line Question Option : No Option Orientation : Vertical

Correct Marks : 1 Wrong Marks : 0.25

Which condition is diagnosed using the Hess test?

Options :

1. ✘ disseminated intravascular coagulation
2. ✔ immune thrombocytopenic purpura
3. ✘ immunodeficiency syndrome
4. ✘ chronic myeloid leukaemia

Question Number : 142 Question Id : 9662317168 Question Type : MCQ Option Shuffling : Yes Display Question Number : Yes
Single Line Question Option : No Option Orientation : Vertical

Correct Marks : 1 Wrong Marks : 0.25

हेस (Hess) टेस्ट का उपयोग कर किस स्थिति का निदान किया जाता है?

Options :

1. ✘ छिन्नित अंतरा - नाड़ीय जमाव
2. ✔ इम्यून थ्रोम्बोसाइटोपेनिक परपूरा
3. ✘ इम्युनोडेफिशिएंसी सिंड्रोम
4. ✘ पुरानी माइलॉयड ल्यूकेमिया

Question Number : 143 Question Id : 9662317169 Question Type : MCQ Option Shuffling : Yes Display Question Number : Yes
Single Line Question Option : No Option Orientation : Vertical

Correct Marks : 1 Wrong Marks : 0.25

Which condition is presented by the presence of strawberry tongue?

Options :

1. ✘ Celiac disease
2. ✘ Maple syrup urine disease
3. ✔ Kawasaki disease
4. ✘ Glossitis

Question Number : 143 Question Id : 9662317169 Question Type : MCQ Option Shuffling : Yes Display Question Number : Yes
Single Line Question Option : No Option Orientation : Vertical

Correct Marks : 1 Wrong Marks : 0.25

लाल जुबान कौनसी स्थिति को दर्शाती है?

Options :

1. ✘ सीलिएक रोग
2. ✘ मेपल सिरप मूत्र रोग
3. ✔ कावासाकी रोग
4. ✘ जिहवा की सूजन

Question Number : 144 Question Id : 9662317170 Question Type : MCQ Option Shuffling : Yes Display Question Number : Yes
Single Line Question Option : No Option Orientation : Vertical

Correct Marks : 1 Wrong Marks : 0.25

How is a Blalock-Taussig shunt performed?

Options :

1. ✘ Anastomosis of the ascending aorta and right pulmonary artery
2. ✘ Anastomosis of the upper descending aorta and left pulmonary artery
3. ✘ Anastomosis of the superior venacava and left pulmonary artery
4. ✔ Anastomosis of the subclavian artery and right pulmonary artery

Question Number : 144 Question Id : 9662317170 Question Type : MCQ Option Shuffling : Yes Display Question Number : Yes
Single Line Question Option : No Option Orientation : Vertical

Correct Marks : 1 Wrong Marks : 0.25

ब्लालॉक - तौसिग शंट कैसे किया जाता है?

Options :

1. ✘ आरोही महाधमनी और दाएं फुफ्फुसीय धमनी का एनास्टोमोसिस
2. ✘ ऊपरी अवरोही महाधमनी और बाएं फुफ्फुसीय धमनी का एनास्टोमोसिस
3. ✘ बेहतर वेनेकावा और बाएं फुफ्फुसीय धमनी का एनास्टोमोसिस
4. ✔ सबक्लेवियन धमनी और दाएं फुफ्फुसीय धमनी का एनास्टोमोसिस

Question Number : 145 Question Id : 9662317171 Question Type : MCQ Option Shuffling : Yes Display Question Number : Yes
Single Line Question Option : No Option Orientation : Vertical

Correct Marks : 1 Wrong Marks : 0.25

Macewen's sign is an important diagnostic feature of which of the following conditions?

Options :

1. ✘ Birth injury
2. ✘ Choanal atresia
3. ✘ Spina bifida
4. ✔ Hydrocephalus

Question Number : 145 Question Id : 9662317171 Question Type : MCQ Option Shuffling : Yes Display Question Number : Yes Single Line Question Option : No Option Orientation : Vertical

Correct Marks : 1 Wrong Marks : 0.25

मेसवेन का चिन्ह निम्नलिखित में से किस स्थिति का एक महत्वपूर्ण नैदानिक लक्षण है?

Options :

1. ✘ जन्म के समय चोट
2. ✘ चोनल अट्रेसिया
3. ✘ स्पाइना बिफिडा
4. ✔ जलशीर्ष (दिमाग के निलयों में तरल आ जाना)

Question Number : 146 Question Id : 9662317172 Question Type : MCQ Option Shuffling : Yes Display Question Number : Yes Single Line Question Option : No Option Orientation : Vertical

Correct Marks : 1 Wrong Marks : 0.25

Administration of which contaminated vaccine may produce toxic shock syndrome?

Options :

1. ✘ DPT
2. ✘ Rabies
3. ✘ BCG
4. ✔ Measles

Question Number : 146 Question Id : 9662317172 Question Type : MCQ Option Shuffling : Yes Display Question Number : Yes Single Line Question Option : No Option Orientation : Vertical

Correct Marks : 1 Wrong Marks : 0.25

किस दूषित टीके के लगवाने से विषाक्त शॉक सिंड्रोम उत्पन्न कर सकता है?

Options :

1. ✘ डीपीटी
2. ✘ रेबीज
3. ✘ बीसीजी
4. ✔ खसरा

Question Number : 147 Question Id : 9662317173 Question Type : MCQ Option Shuffling : Yes Display Question Number : Yes
Single Line Question Option : No Option Orientation : Vertical

Correct Marks : 1 Wrong Marks : 0.25

Which of the following categories of children with mental retardation is referred to as a trainable group?

Options :

1. ✘ Mild mental retardation
2. ✔ Moderate mental retardation
3. ✘ Severe mental retardation
4. ✘ Profound mental retardation

Question Number : 147 Question Id : 9662317173 Question Type : MCQ Option Shuffling : Yes Display Question Number : Yes
Single Line Question Option : No Option Orientation : Vertical

Correct Marks : 1 Wrong Marks : 0.25

मानसिक मंदता वाले बच्चों की निम्नलिखित श्रेणियों में से किसे एक शिक्षणीय समूह के रूप में जाना जाता है?

Options :

1. ✘ हल्की मानसिक मंदता
2. ✔ मध्यम मानसिक मंदता
3. ✘ गंभीर मानसिक मंदता
4. ✘ गहन मानसिक मंदता

Question Number : 148 Question Id : 9662317174 Question Type : MCQ Option Shuffling : Yes Display Question Number : Yes
Single Line Question Option : No Option Orientation : Vertical

Correct Marks : 1 Wrong Marks : 0.25

Which drug is effective for iron chelation therapy in beta thalassemia?

Options :

1. ✓ Deferoxamine
2. ✗ Trimethoprim
3. ✗ Immunoglobins
4. ✗ Dextromethorphan

Question Number : 148 Question Id : 9662317174 Question Type : MCQ Option Shuffling : Yes Display Question Number : Yes
Single Line Question Option : No Option Orientation : Vertical

Correct Marks : 1 Wrong Marks : 0.25

बीटा थैलेसीमिया में आयरन कैलेशन थेरेपी के लिए कौन सी दवा कारगर है?

Options :

1. ✓ डेफेरोक्सामिन
2. ✗ ट्राइमैथोप्रिम
3. ✗ इम्युनोग्लोबुलिन
4. ✗ डेक्स्ट्रोमैथोर्फेन

Question Number : 149 Question Id : 9662317175 Question Type : MCQ Option Shuffling : Yes Display Question Number : Yes
Single Line Question Option : No Option Orientation : Vertical

Correct Marks : 1 Wrong Marks : 0.25

Which among the following is NOT a characteristic of down syndrome?

Options :

1. ✓ Macrocephaly
2. ✗ Pseudohypertelorism
3. ✗ Sandal gap
4. ✗ Simian crease

Question Number : 149 Question Id : 9662317175 Question Type : MCQ Option Shuffling : Yes Display Question Number : Yes
Single Line Question Option : No Option Orientation : Vertical

Correct Marks : 1 Wrong Marks : 0.25

निम्नलिखित में से कौन डाउन सिंड्रोम का लक्षण नहीं है?

Options :

1. ✓ मैक्रोसेफेली
2. ✘ सूडोहाइपरटेलोरिज्म
3. ✘ सन्दल गैप
4. ✘ सिमीयन क्रीज

Question Number : 150 Question Id : 9662317176 Question Type : MCQ Option Shuffling : Yes Display Question Number : Yes
Single Line Question Option : No Option Orientation : Vertical

Correct Marks : 1 Wrong Marks : 0.25

Which food item is advised to be included in the diet of a child with celiac disease?

Options :

1. ✘ Wheat
2. ✘ Rye
3. ✘ Barley
4. ✓ Rice

Question Number : 150 Question Id : 9662317176 Question Type : MCQ Option Shuffling : Yes Display Question Number : Yes
Single Line Question Option : No Option Orientation : Vertical

Correct Marks : 1 Wrong Marks : 0.25

सीलिएक रोग वाले बच्चे के आहार में किस खाद्य पदार्थ को शामिल करने की सलाह दी जाती है?

Options :

1. ✘ गेहूँ
2. ✘ राई
3. ✘ जौ
4. ✓ चावल

Question Number : 151 Question Id : 9662317177 Question Type : MCQ Option Shuffling : Yes Display Question Number : Yes
Single Line Question Option : No Option Orientation : Vertical

Correct Marks : 1 Wrong Marks : 0.25

Who discovered the double helix structure of deoxy ribonucleic acid?

Options :

1. ✘ David Baltimore
2. ✘ Sir Ronald Ross
3. ✔ Watson and Crick
4. ✘ Louis Pasteur

Question Number : 151 Question Id : 9662317177 Question Type : MCQ Option Shuffling : Yes Display Question Number : Yes
Single Line Question Option : No Option Orientation : Vertical

Correct Marks : 1 Wrong Marks : 0.25

डीओकसी राइबोन्यूक्लिक एसिड की दोहरी हेलिक्स संरचना की खोज किसने की थी?

Options :

1. ✘ डेविड बाल्टीमोर
2. ✘ सर रोनाल्ड रॉस
3. ✔ वाटसन और क्रिक
4. ✘ लुई पास्चर

Question Number : 152 Question Id : 9662317178 Question Type : MCQ Option Shuffling : Yes Display Question Number : Yes
Single Line Question Option : No Option Orientation : Vertical

Correct Marks : 1 Wrong Marks : 0.25

Identify the immunoglobulin responsible for an anaphylactic-type reaction.

Options :

1. ✘ I_gG
2. ✘ I_gA
3. ✘ I_gM
4. ✔ I_gE

Question Number : 152 Question Id : 9662317178 Question Type : MCQ Option Shuffling : Yes Display Question Number : Yes
Single Line Question Option : No Option Orientation : Vertical

Correct Marks : 1 Wrong Marks : 0.25

एनाफिलेक्टिक-प्रकार की प्रतिक्रिया के लिए जिम्मेदार इम्युनोग्लोबुलिन को पहचानें:

Options :

1. ✘ I_gG

2. ✘ I_gA

3. ✘ I_gM

4. ✔ I_gE

Question Number : 153 Question Id : 9662317179 Question Type : MCQ Option Shuffling : Yes Display Question Number : Yes
Single Line Question Option : No Option Orientation : Vertical

Correct Marks : 1 Wrong Marks : 0.25

Identify the type of hypersensitivity in haemolytic anemia.

Options :

1. ✘ Anaphylactic

2. ✘ Immune Complex

3. ✔ Cytotoxic

4. ✘ Delayed

Question Number : 153 Question Id : 9662317179 Question Type : MCQ Option Shuffling : Yes Display Question Number : Yes
Single Line Question Option : No Option Orientation : Vertical

Correct Marks : 1 Wrong Marks : 0.25

हेमोलाइटिक एनीमिया में अतिसंवेदनशीलता के प्रकार की पहचान करें?

Options :

1. ✘ तीव्रगाहिता संबंधी

2. ✘ इम्यून कॉम्प्लेक्स

3. ✔ साइटोटोक्सिक

4. ✘ विलंबित

Question Number : 154 Question Id : 9662317180 Question Type : MCQ Option Shuffling : Yes Display Question Number : Yes
Single Line Question Option : No Option Orientation : Vertical

Correct Marks : 1 Wrong Marks : 0.25

Which of the following organisms is responsible for Genital Warts?

Options :

1. ✘ Treponema pallidum
2. ✔ Human papillomavirus
3. ✘ Trichomonas vaginalis
4. ✘ Neisseria gonorrhoeae

Question Number : 154 Question Id : 9662317180 Question Type : MCQ Option Shuffling : Yes Display Question Number : Yes
Single Line Question Option : No Option Orientation : Vertical

Correct Marks : 1 Wrong Marks : 0.25

निम्नलिखित में से कौन सा जीव जननांग मस्सा के लिए जिम्मेदार है?

Options :

1. ✘ ट्रैपोनेमा पैलिडम
2. ✔ ह्यूमन पैपिलोमा वायरस
3. ✘ ट्राइकोमोनास वैजिनलस
4. ✘ नेइसेरिया गौनरिआ

Question Number : 155 Question Id : 9662317181 Question Type : MCQ Option Shuffling : Yes Display Question Number : Yes
Single Line Question Option : No Option Orientation : Vertical

Correct Marks : 1 Wrong Marks : 0.25

What is azotorrhea?

Options :

1. ✔ Excess discharge of nitrogenous matter in faeces or urine
2. ✘ Excretion of abnormal quantities of fat in faeces
3. ✘ Excess protein and blood loss in urine
4. ✘ Excretion of abnormal quantities of calcium and potassium in urine

Question Number : 155 Question Id : 9662317181 Question Type : MCQ Option Shuffling : Yes Display Question Number : Yes
Single Line Question Option : No Option Orientation : Vertical

Correct Marks : 1 Wrong Marks : 0.25

एजोटोरिया क्या है?

Options :

1. ✓ मल या मूत्र में नाइट्रोजनयुक्त पदार्थ का अतिरिक्त स्त्राव
2. ✘ मल में वसा की असामान्य मात्रा का उत्सर्जन
3. ✘ मूत्र में प्रोटीन की अधिकता और रक्त हानि
4. ✘ मूत्र में कैल्शियम और पोटैशियम की असामान्य मात्रा का उत्सर्जन

Question Number : 156 Question Id : 9662317182 Question Type : MCQ Option Shuffling : Yes Display Question Number : Yes
Single Line Question Option : No Option Orientation : Vertical

Correct Marks : 1 Wrong Marks : 0.25

Choose the correct statement regarding ECG changes in hyperkalemia.

Options :

1. ✘ Normal 'P' wave and 'QRS complex', rounded 'T' wave and shallow 'U' wave
2. ✘ Peak 'P' wave, 'ST' depression, shallow 'T' wave and prominent 'U' wave
3. ✓ Flat 'P' wave, prolonged 'PR' interval, widened 'QRS complex' and tall 'T' wave
4. ✘ Peak 'P' wave, absent 'QRS complex' and prominent 'U' wave

Question Number : 156 Question Id : 9662317182 Question Type : MCQ Option Shuffling : Yes Display Question Number : Yes
Single Line Question Option : No Option Orientation : Vertical

Correct Marks : 1 Wrong Marks : 0.25

हाइपरक्लेमिया में ईसीजी परिवर्तनों के संबंध में सही कथन को चुनें?

Options :

1. ✘ सामान्य 'पी' तरंग और 'क्यूआरएस कॉम्प्लेक्स', गोल 'टी' तरंग और उथले 'यू' तरंग
2. ✘ पीक पी तरंग, 'एसटी' डिप्रेशन, उथले टी' तरंग और प्रमुख 'यू' तरंग
3. ✓ फ्लैट 'पी' तरंग, लंबे समय तक 'पीआर' अंतराल, चौड़ा क्यूआरएस कॉम्प्लेक्स' और ऊंची 'टी' तरंग
4. ✘ पीक 'पी' तरंग, अनुपस्थित 'क्यूआरएस कॉम्प्लेक्स' और प्रमुख 'यू' तरंग

Question Number : 157 Question Id : 9662317183 Question Type : MCQ Option Shuffling : Yes Display Question Number : Yes
Single Line Question Option : No Option Orientation : Vertical

Correct Marks : 1 Wrong Marks : 0.25

Mr. Y is on treatment for pulmonary tuberculosis. He developed symptoms related to the eighth cranial nerve damage. Identify the drug responsible for the above side effect.

Options :

1. ✓ Streptomycin
2. ✗ Ethambutol
3. ✗ Rifampicin
4. ✗ Isoniazid

Question Number : 157 Question Id : 9662317183 Question Type : MCQ Option Shuffling : Yes Display Question Number : Yes Single Line Question Option : No Option Orientation : Vertical

Correct Marks : 1 Wrong Marks : 0.25

श्री Y फुफ्फुसीय तपेदिक के उपचार पर है। उन्होंने आठवें कपाल तंत्रिका क्षति से संबंधित लक्षण विकसित किए। उपरोक्त दुष्प्रभाव के लिए जिम्मेदार दवा को इनमें से पहचानें?

Options :

1. ✓ स्ट्रेप्टोमाइसिन
2. ✗ एथेम्ब्युटोल
3. ✗ रिफैम्पिसिन
4. ✗ आइसोनियाजिद

Question Number : 158 Question Id : 9662317184 Question Type : MCQ Option Shuffling : Yes Display Question Number : Yes Single Line Question Option : No Option Orientation : Vertical

Correct Marks : 1 Wrong Marks : 0.25

Which of the following is NOT related to Dressler syndrome?

Options :

1. ✗ Characterised by pericarditis with effusion and fever
2. ✓ Fever develops 2 to 3 days after an MI
3. ✗ Caused due to antigen antibody reaction
4. ✗ Corticosteroid therapy is used for treatment

Question Number : 158 Question Id : 9662317184 Question Type : MCQ Option Shuffling : Yes Display Question Number : Yes Single Line Question Option : No Option Orientation : Vertical

Correct Marks : 1 Wrong Marks : 0.25

निम्नलिखित में से कौन ड्रेसलर सिंड्रोम से संबंधित नहीं है?

Options :

1. ✘ स्राव और बुखार के साथ पेरिकार्डिटिस द्वारा लक्षणित
2. ✔ एक एमआई के बाद बुखार 2 से 3 दिनों में विकसित होता है
3. ✘ प्रतिजन एंटीबॉडी प्रतिक्रिया के कारण होता है
4. ✘ कॉर्टिकोस्टेराॉइड थेरेपी का उपयोग उपचार के लिए किया जाता है

Question Number : 159 Question Id : 9662317185 Question Type : MCQ Option Shuffling : Yes Display Question Number : Yes
Single Line Question Option : No Option Orientation : Vertical

Correct Marks : 1 Wrong Marks : 0.25

Identify an absolute contraindication for thrombolytic therapy.

Options :

1. ✘ Chest pain longer than 20 minutes
2. ✔ Known bleeding disorder
3. ✘ Recent administration of nitroglycerine
4. ✘ ST-segment elevation on the ECG

Question Number : 159 Question Id : 9662317185 Question Type : MCQ Option Shuffling : Yes Display Question Number : Yes
Single Line Question Option : No Option Orientation : Vertical

Correct Marks : 1 Wrong Marks : 0.25

थांबोलिटिक थेरेपी के लिए एक पूर्ण विपरीत संकेत की पहचान करें?

Options :

1. ✘ 20 मिनट से अधिक सीने में दर्द
2. ✔ ज्ञात रक्तस्राव विकार
3. ✘ हाल ही में नाइट्रोग्लिसरीन का प्रशासन
4. ✘ ईसीजी पर एसटी-सेगमेंट का बढ़ना

Question Number : 160 Question Id : 9662317186 Question Type : MCQ Option Shuffling : Yes Display Question Number : Yes
Single Line Question Option : No Option Orientation : Vertical

Correct Marks : 1 Wrong Marks : 0.25

What is biot's respiration?

Options :

1. ✘ Normal breathing pattern with proper rate and rhythm
2. ✘ Increased rate and depth of breathing
3. ✔ Normal breathing followed by periods of apnoea
4. ✘ Regular rate and depth of breathing that decreases until dyspnoea

Question Number : 160 Question Id : 9662317186 Question Type : MCQ Option Shuffling : Yes Display Question Number : Yes
Single Line Question Option : No Option Orientation : Vertical

Correct Marks : 1 Wrong Marks : 0.25

बायोट का श्वसन क्या है?

Options :

1. ✘ उचित दर और लय के साथ सामान्य श्वास पैटर्न
2. ✘ बड़ी हुई सांस लेने की दर और गहराई
3. ✔ एपनिया की अवधि के बाद सामान्य श्वास
4. ✘ श्वास की नियमित दर और गहराई जो डिस्पनिया होने तक घटती जाती है

Discipline4

Group Number :	9
Group Id :	966231152
Group Maximum Duration :	0
Group Minimum Duration :	0
Revisit allowed for view? :	No
Revisit allowed for edit? :	No
Break time:	0
Group Marks:	20
Revisit allowed for group Instructions? :	Yes
Maximum Instruction Time:	0
Minimum Instruction Time:	0

Discipline4

Section Id :

966231267

Section Number :	1
Section type :	Online
Mandatory or Optional:	Mandatory
Number of Questions:	20
Number of Questions to be attempted:	20
Section Marks:	20
Display Number Panel:	Yes
Group All Questions:	No

Sub-Section Number:	1
Sub-Section Id:	966231293
Question Shuffling Allowed :	Yes

Question Number : 161 Question Id : 9662317187 Question Type : MCQ Option Shuffling : Yes Display Question Number : Yes
Single Line Question Option : No Option Orientation : Vertical
Correct Marks : 1 Wrong Marks : 0.25

What is the common cause for urge incontinence?

Options :

- Bladder urethral outlet obstruction
- Relaxed pelvic floor musculature
- Formation of fistula during pregnancy
- Over activity of the detrusor muscle

Question Number : 161 Question Id : 9662317187 Question Type : MCQ Option Shuffling : Yes Display Question Number : Yes
Single Line Question Option : No Option Orientation : Vertical
Correct Marks : 1 Wrong Marks : 0.25

आग्रह असंयम का सामान्य कारण क्या है?

Options :

- मूत्राशय मूत्रमार्ग निकास में बाधा
- पेल्विक फ्लोर मांसलता में शिथिलता
- गर्भावस्था के दौरान नालब्रण का गठन
- मूत्राशय पेशी की अतिसक्रियता

Question Number : 162 Question Id : 9662317188 Question Type : MCQ Option Shuffling : Yes Display Question Number : Yes
Single Line Question Option : No Option Orientation : Vertical
Correct Marks : 1 Wrong Marks : 0.25

Brudzinski's sign is a feature of:

Options :

1. ✓ meningitis
2. ✗ seizures
3. ✗ cerebrovascular accident
4. ✗ endocarditis

Question Number : 162 Question Id : 9662317188 Question Type : MCQ Option Shuffling : Yes Display Question Number : Yes
Single Line Question Option : No Option Orientation : Vertical

Correct Marks : 1 Wrong Marks : 0.25

ब्रुडज़िंस्की का चिन्ह किसका लक्षण है?

Options :

1. ✓ मस्तिष्कावरण शोथ
2. ✗ दौरे
3. ✗ दिमाग का आघात
4. ✗ अन्तर्हृद्शोथ

Question Number : 163 Question Id : 9662317189 Question Type : MCQ Option Shuffling : Yes Display Question Number : Yes
Single Line Question Option : No Option Orientation : Vertical

Correct Marks : 1 Wrong Marks : 0.25

Identify an autosomal dominant disorder from the following.

Options :

1. ✗ Cystic fibrosis
2. ✗ Sickle cell anaemia
3. ✓ Huntington's disease
4. ✗ Tay-Sachs disease

Question Number : 163 Question Id : 9662317189 Question Type : MCQ Option Shuffling : Yes Display Question Number : Yes
Single Line Question Option : No Option Orientation : Vertical

Correct Marks : 1 Wrong Marks : 0.25

निम्नलिखित से एक ऑटोसोमल प्रमुख विकार की पहचान करें?

Options :

1. ✘ सिस्टिक फाइब्रोसिस
2. ✘ रक्त की लाल कोशिकाओं की कमी
3. ✔ हनटिंगटन रोग
4. ✘ टे-सैक्स (Tay-Sachs) रोग

Question Number : 164 Question Id : 9662317190 Question Type : MCQ Option Shuffling : Yes Display Question Number : Yes
Single Line Question Option : No Option Orientation : Vertical
Correct Marks : 1 Wrong Marks : 0.25

Identify the post-renal cause of acute renal failure.

Options :

1. ✘ Acute glomerulonephritis
2. ✔ Benign prostatic hyperplasia
3. ✘ Heart failure
4. ✘ Anti-hypertensive medications

Question Number : 164 Question Id : 9662317190 Question Type : MCQ Option Shuffling : Yes Display Question Number : Yes
Single Line Question Option : No Option Orientation : Vertical
Correct Marks : 1 Wrong Marks : 0.25

तीव्र गुर्दे की विफलता के पश्चवृक्क कारण की पहचान करें?

Options :

1. ✘ तीव्र ग्लोमेरुलोनेफ्राइटिस
2. ✔ पुरस्थ ग्रंथि में अतिवृद्धि
3. ✘ हृदयगति का रुकना
4. ✘ एंटी-हाइपरटेंसिव दवाएं

Question Number : 165 Question Id : 9662317191 Question Type : MCQ Option Shuffling : Yes Display Question Number : Yes
Single Line Question Option : No Option Orientation : Vertical
Correct Marks : 1 Wrong Marks : 0.25

एक नर्स ग्राहक की शारीरिक जांच कर रही है और एक्सोफ्थेल्मस को नोटिस कर रही है। ग्राहक का निदान क्या होगा?

Options :

1. ✓ अतिगलगंधिता (हाइपरथायरायडिज्म)
2. ✗ हाइपोथायरायडिज्म
3. ✗ अवटुशोथ
4. ✗ गलगंधि का कैंसर

Question Number : 165 Question Id : 9662317191 Question Type : MCQ Option Shuffling : Yes Display Question Number : Yes
Single Line Question Option : No Option Orientation : Vertical

Correct Marks : 1 Wrong Marks : 0.25

A nurse is performing physical examination of the client and notices exophthalmous. What would be the diagnosis of the client?

Options :

1. ✓ Hyperthyroidism
2. ✗ Hypothyroidism
3. ✗ Thyroiditis
4. ✗ Thyroid Cancer

Question Number : 166 Question Id : 9662317192 Question Type : MCQ Option Shuffling : Yes Display Question Number : Yes
Single Line Question Option : No Option Orientation : Vertical

Correct Marks : 1 Wrong Marks : 0.25

A nurse is caring for a patient who has undergone a tracheostomy. Identify an early complication of tracheostomy.

Options :

1. ✗ Tracheoesophageal fistula
2. ✓ Air embolism
3. ✗ Tracheal necrosis
4. ✗ Dysphagia

Question Number : 166 Question Id : 9662317192 Question Type : MCQ Option Shuffling : Yes Display Question Number : Yes
Single Line Question Option : No Option Orientation : Vertical

Correct Marks : 1 Wrong Marks : 0.25

एक नर्स एक मरीज की देखभाल कर रही है, जो एक ट्रेकियोस्टोमी से गुजरा है। ट्रेकियोस्टोमी की एक प्रारंभिक जटिलता को इनमें से पहचानें?

Options :

1. ✘ ट्रेकियोईसोफैगल फिस्टुला
2. ✔ एयर एम्बालिज़्म
3. ✘ ट्रेकिअल नेक्रोसिस
4. ✘ निगलने में कठिनाई

Question Number : 167 Question Id : 9662317193 Question Type : MCQ Option Shuffling : Yes Display Question Number : Yes
Single Line Question Option : No Option Orientation : Vertical

Correct Marks : 1 Wrong Marks : 0.25

Bouchard's nodes and Heberden's nodes are a feature of:

Options :

1. ✘ rheumatoid arthritis
2. ✘ gout arthritis
3. ✘ infective arthritis
4. ✔ osteoarthritis

Question Number : 167 Question Id : 9662317193 Question Type : MCQ Option Shuffling : Yes Display Question Number : Yes
Single Line Question Option : No Option Orientation : Vertical

Correct Marks : 1 Wrong Marks : 0.25

बुचर्ड के नोड्स और हेबर्डन के नोड्स _____ की एक विशेषता है?

Options :

1. ✘ संधिशोथ
2. ✘ गठिया रोग
3. ✘ संक्रामक गठिया
4. ✔ ऑस्टियोआर्थराइटिस

Question Number : 168 Question Id : 9662317194 Question Type : MCQ Option Shuffling : Yes Display Question Number : Yes
Single Line Question Option : No Option Orientation : Vertical

Correct Marks : 1 Wrong Marks : 0.25

Which of the following is NOT a reason for population explosion?

Options :

1. ✘ Early marriage
2. ✘ Illiteracy
3. ✘ Religious beliefs and traditions
4. ✔ Overcrowding

Question Number : 168 Question Id : 9662317194 Question Type : MCQ Option Shuffling : Yes Display Question Number : Yes
Single Line Question Option : No Option Orientation : Vertical

Correct Marks : 1 Wrong Marks : 0.25

निम्नलिखित में से कौन जनसंख्या विस्फोट का कारण नहीं है?

Options :

1. ✘ जल्दी शादी
2. ✘ निरक्षरता
3. ✘ धार्मिक मान्यताएं और परंपराएं
4. ✔ अति प्रजनन

Question Number : 169 Question Id : 9662317195 Question Type : MCQ Option Shuffling : Yes Display Question Number : Yes
Single Line Question Option : No Option Orientation : Vertical

Correct Marks : 1 Wrong Marks : 0.25

Which of the following is a characteristic of an urban community?

Options :

1. ✘ Joint family system
2. ✘ Low literacy rate
3. ✔ Heterogeneous population
4. ✘ Strong caste system

Question Number : 169 Question Id : 9662317195 Question Type : MCQ Option Shuffling : Yes Display Question Number : Yes
Single Line Question Option : No Option Orientation : Vertical

Correct Marks : 1 Wrong Marks : 0.25

निम्नलिखित में से कौन सी शहरी समुदाय की एक विशेषता है?

Options :

1. ✘ संयुक्त परिवार प्रणाली
2. ✘ कम साक्षरता दर
3. ✔ विषम जनसंख्या
4. ✘ मजबूत जाति व्यवस्था

Question Number : 170 Question Id : 9662317196 Question Type : MCQ Option Shuffling : Yes Display Question Number : Yes
Single Line Question Option : No Option Orientation : Vertical

Correct Marks : 1 Wrong Marks : 0.25

The causative organism for chicken pox is the:

Options :

1. ✘ paramyxovirus
2. ✘ myxovirus
3. ✔ varicella zoster
4. ✘ herpes zoster

Question Number : 170 Question Id : 9662317196 Question Type : MCQ Option Shuffling : Yes Display Question Number : Yes
Single Line Question Option : No Option Orientation : Vertical

Correct Marks : 1 Wrong Marks : 0.25

चिकन पॉक्स के लिए प्रेरक जीव क्या है?

Options :

1. ✘ पैरामिक्सोवायरस
2. ✘ मिक्सोवायरस
3. ✔ छोटी चेचक दाद
4. ✘ भैंसिया दाद

Question Number : 171 Question Id : 9662317197 Question Type : MCQ Option Shuffling : Yes Display Question Number : Yes
Single Line Question Option : No Option Orientation : Vertical

Correct Marks : 1 Wrong Marks : 0.25

Which committee is also known as the 'Health Survey and Planning Committee'?

Options :

1. ✘ Shrivatsav Committee
2. ✘ Jungalwalla Committee
3. ✔ Mudaliar Committee
4. ✘ Bhore Committee

Question Number : 171 Question Id : 9662317197 Question Type : MCQ Option Shuffling : Yes Display Question Number : Yes
Single Line Question Option : No Option Orientation : Vertical

Correct Marks : 1 Wrong Marks : 0.25

किस समिति को 'स्वास्थ्य सर्वेक्षण और योजना समिति' के नाम से भी जाना जाता है?

Options :

1. ✘ श्रीवास्तव समिति
2. ✘ जंगलवाला समिति
3. ✔ मुदलियार समिति
4. ✘ भोर समिति

Question Number : 172 Question Id : 9662317198 Question Type : MCQ Option Shuffling : Yes Display Question Number : Yes
Single Line Question Option : No Option Orientation : Vertical

Correct Marks : 1 Wrong Marks : 0.25

The number of new cases occurring in a defined population during a specific period of time is known as:

Options :

1. ✘ point prevalence
2. ✘ period prevalence
3. ✔ incidence
4. ✘ rate

Question Number : 172 Question Id : 9662317198 Question Type : MCQ Option Shuffling : Yes Display Question Number : Yes
Single Line Question Option : No Option Orientation : Vertical

Correct Marks : 1 Wrong Marks : 0.25

एक विशिष्ट अवधि के दौरान परिभाषित जनसंख्या में होने वाले नए मामलों की संख्या का प्रकार क्या है?

Options :

1. ✘ बिंदु प्रसार
2. ✘ अवधि का प्रसार
3. ✔ घटना
4. ✘ दर

Question Number : 173 Question Id : 9662317199 Question Type : MCQ Option Shuffling : Yes Display Question Number : Yes
Single Line Question Option : No Option Orientation : Vertical

Correct Marks : 1 Wrong Marks : 0.25

An outbreak of a disease in an animal population is known as:

Options :

1. ✔ epizootic
2. ✘ enzootic
3. ✘ exotic
4. ✘ sporadic

Question Number : 173 Question Id : 9662317199 Question Type : MCQ Option Shuffling : Yes Display Question Number : Yes
Single Line Question Option : No Option Orientation : Vertical

Correct Marks : 1 Wrong Marks : 0.25

जानवरों की आबादी में एक बीमारी का प्रकोप इनमें से कौन सा है?

Options :

1. ✔ एपिज़ोओटिक
2. ✘ स्थानिक पशु महामारी
3. ✘ इग्ज़ोटिक
4. ✘ छिटपुट (स्पोरैडिक)

Question Number : 174 Question Id : 9662317200 Question Type : MCQ Option Shuffling : Yes Display Question Number : Yes
Single Line Question Option : No Option Orientation : Vertical

Correct Marks : 1 Wrong Marks : 0.25

Which of the following is an example of a live vaccine?

Options :

1. ✘ Hepatitis B

2. ✔ Measles

3. ✘ Influenza

4. ✘ Rabies

Question Number : 174 Question Id : 9662317200 Question Type : MCQ Option Shuffling : Yes Display Question Number : Yes
Single Line Question Option : No Option Orientation : Vertical

Correct Marks : 1 Wrong Marks : 0.25

निम्नलिखित में से कौन एक जीवित टीके का उदाहरण है?

Options :

1. ✘ हेपेटाइटिस बी

2. ✔ खसरा

3. ✘ इन्फ्लुएंजा

4. ✘ रेबीज

Question Number : 175 Question Id : 9662317201 Question Type : MCQ Option Shuffling : Yes Display Question Number : Yes
Single Line Question Option : No Option Orientation : Vertical

Correct Marks : 1 Wrong Marks : 0.25

Which of the following options were recommended by the Shrivastav Committee?

Options :

1. ✔ One male and female health worker per 5,000 population

2. ✘ Employ basic health workers for implementing family planning

3. ✘ One basic worker per 10,000 population

4. ✘ One male and female health worker per 10,000 population

Question Number : 175 Question Id : 9662317201 Question Type : MCQ Option Shuffling : Yes Display Question Number : Yes
Single Line Question Option : No Option Orientation : Vertical

Correct Marks : 1 Wrong Marks : 0.25

श्रीवास्तव समिति ने निम्नलिखित में से कौन से विकल्प सुझाए थे?

Options :

1. ✓ प्रति 5,000 जनसंख्या पर एक पुरुष और महिला स्वास्थ्य कार्यकर्ता
2. ✘ परिवार नियोजन को लागू करने के लिए बुनियादी स्वास्थ्य कर्मचारियों को रोजगार दें
3. ✘ प्रति 10,000 जनसंख्या पर एक मूल कार्यकर्ता
4. ✘ 10,000 की आबादी पर एक पुरुष और महिला स्वास्थ्य कार्यकर्ता

Question Number : 176 Question Id : 9662317202 Question Type : MCQ Option Shuffling : Yes Display Question Number : Yes
Single Line Question Option : No Option Orientation : Vertical

Correct Marks : 1 Wrong Marks : 0.25

The contraceptive which causes cervical mucus thickness and stops the release of ovum from the ovary is:

Options :

1. ✓ Mala D
2. ✘ Copper T
3. ✘ Lippes Loop
4. ✘ Diaphragm

Question Number : 176 Question Id : 9662317202 Question Type : MCQ Option Shuffling : Yes Display Question Number : Yes
Single Line Question Option : No Option Orientation : Vertical

Correct Marks : 1 Wrong Marks : 0.25

इनमें से कौन गर्भनिरोधक है, जो गर्भाशय ग्रीवा श्लेष्मा के गाढ़पन का कारण बनता है और अंडाशय से डिंब की रिहाई को रोकता है?

Options :

1. ✓ माला डी
2. ✘ कॉपर टी
3. ✘ लिप्स लूप
4. ✘ डायफ्राम

Question Number : 177 Question Id : 9662317203 Question Type : MCQ Option Shuffling : Yes Display Question Number : Yes
Single Line Question Option : No Option Orientation : Vertical

Correct Marks : 1 Wrong Marks : 0.25

Infant mortality rate means the deaths among infants, and is expressed as a rate per:

Options :

1. ✘ total deaths in a year
2. ✔ 1000 live births
3. ✘ 1000 deaths
4. ✘ total mid-year population

Question Number : 177 Question Id : 9662317203 Question Type : MCQ Option Shuffling : Yes Display Question Number : Yes
Single Line Question Option : No Option Orientation : Vertical

Correct Marks : 1 Wrong Marks : 0.25

शिशु मृत्यु दर का अर्थ है शिशुओं के बीच मृत्यु, इसे प्रति दर के रूप में कैसे व्यक्त किया जाता है?

Options :

1. ✘ एक वर्ष में कुल मौतें
2. ✔ 1,000 जीवित जन्म
3. ✘ 1,000 की मौत
4. ✘ कुल मध्य वर्ष आबादी

Question Number : 178 Question Id : 9662317204 Question Type : MCQ Option Shuffling : Yes Display Question Number : Yes
Single Line Question Option : No Option Orientation : Vertical

Correct Marks : 1 Wrong Marks : 0.25

Multibacillary Leprosy refers to a person with:

Options :

1. ✘ 1 to 5 skin lesions without nerve involvement
2. ✘ more than 5 skin lesions with one nerve involvement
3. ✘ more than 6 skin lesions with more than one nerve involvement
4. ✔ more than 6 skin lesions with no nerve involvement

Question Number : 178 Question Id : 9662317204 Question Type : MCQ Option Shuffling : Yes Display Question Number : Yes
Single Line Question Option : No Option Orientation : Vertical

Correct Marks : 1 Wrong Marks : 0.25

मल्टीबैसिलरी कुष्ठ रोग में व्यक्ति किससे पीड़ित होता है?

Options :

1. ✘ एक तंत्रिका भागीदारी के बिना 1 से 5 त्वचा के घाव
2. ✘ एक तंत्रिका भागीदारी के साथ 5 से अधिक त्वचा के घाव
3. ✘ एक से अधिक तंत्रिका भागीदारी के साथ 6 से अधिक त्वचा के घाव
4. ✔ तंत्रिका भागीदारी के बिना 6 से अधिक त्वचा के घाव

Question Number : 179 Question Id : 9662317205 Question Type : MCQ Option Shuffling : Yes Display Question Number : Yes
Single Line Question Option : No Option Orientation : Vertical

Correct Marks : 1 Wrong Marks : 0.25

The food supplements in the Mid-Day Meal Scheme should provide a minimum of:

Options :

1. ✘ 300 calories with 5 gm of proteins
2. ✘ 250 calories with 5 to 10 gm of proteins
3. ✔ 300 calories with 8 to 12 gm of protein
4. ✘ 250 calories with 8 to 12 gm of protein

Question Number : 179 Question Id : 9662317205 Question Type : MCQ Option Shuffling : Yes Display Question Number : Yes
Single Line Question Option : No Option Orientation : Vertical

Correct Marks : 1 Wrong Marks : 0.25

मध्याह्न भोजन योजना में भोजन पूर्कों को न्यूनतम _____ प्रदान करनी चाहिए?

Options :

1. ✘ 5 ग्राम प्रोटीन के साथ 300 कैलोरी
2. ✘ 5 से 10 ग्राम प्रोटीन के साथ 250 कैलोरी
3. ✔ 8 से 12 ग्राम प्रोटीन के साथ 300 कैलोरी
4. ✘ 8 से 12 ग्राम प्रोटीन के साथ 250 कैलोरी

Question Number : 180 Question Id : 9662317206 Question Type : MCQ Option Shuffling : Yes Display Question Number : Yes
Single Line Question Option : No Option Orientation : Vertical

Correct Marks : 1 Wrong Marks : 0.25

Adding vitamin-D to vegetable oil is an example of:

Options :

1. ✓ food fortification
2. ✘ food additive
3. ✘ food adulteration
4. ✘ food intoxication

Question Number : 180 Question Id : 9662317206 Question Type : MCQ Option Shuffling : Yes Display Question Number : Yes
Single Line Question Option : No Option Orientation : Vertical

Correct Marks : 1 Wrong Marks : 0.25

वनस्पति तेल में विटामिन-डी को जोड़ना _____ का एक उदाहरण है?

Options :

1. ✓ खाद्य संवर्धन
2. ✘ खाद्य योगज
3. ✘ खाद्य मिलावट
4. ✘ खाद्य मादकता

Discipline5

Group Number :	10
Group Id :	966231153
Group Maximum Duration :	0
Group Minimum Duration :	120
Revisit allowed for view? :	No
Revisit allowed for edit? :	No
Break time:	0
Group Marks:	20
Revisit allowed for group Instructions? :	Yes
Maximum Instruction Time:	0
Minimum Instruction Time:	0

Discipline5

Section Id :	966231268
Section Number :	1
Section type :	Online
Mandatory or Optional:	Mandatory
Number of Questions:	20
Number of Questions to be attempted:	20
Section Marks:	20

Display Number Panel: Yes
Group All Questions: No

Sub-Section Number: 1
Sub-Section Id: 966231294
Question Shuffling Allowed : Yes

Question Number : 181 Question Id : 9662317207 Question Type : MCQ Option Shuffling : Yes Display Question Number : Yes
Single Line Question Option : No Option Orientation : Vertical
Correct Marks : 1 Wrong Marks : 0.25

Multidrug-Resistant Tuberculosis means resistance to the drugs:

Options :

1. ✘ Rifampicin and Streptomycin
2. ✘ Rifampicin and Pyrazinamide
3. ✘ Isoniazid and Pyrazinamide
4. ✔ Isoniazid and Rifampicin

Question Number : 181 Question Id : 9662317207 Question Type : MCQ Option Shuffling : Yes Display Question Number : Yes
Single Line Question Option : No Option Orientation : Vertical
Correct Marks : 1 Wrong Marks : 0.25

मल्टीड्रग-रेसिस्टेंट ट्यूबरकुलोसिस का अर्थ है _____ दवाओं के प्रति प्रतिरोध होना, इनमें से पहचाने?

Options :

1. ✘ रिफैम्पिसिन और स्ट्रेप्टोमाइसिन
2. ✘ रिफैम्पिसिन और पायाजिनमाइड
3. ✘ आइसोनियाजिड और पायाजिनमाइड
4. ✔ आइसोनियाजिड और रिफैम्पिसिन

Question Number : 182 Question Id : 9662317208 Question Type : MCQ Option Shuffling : Yes Display Question Number : Yes
Single Line Question Option : No Option Orientation : Vertical
Correct Marks : 1 Wrong Marks : 0.25

False unshakable belief is termed as:

Options :

1. ✘ illusion

2. ✘ hallucination
3. ✔ delusion
4. ✘ hypochondriasis

Question Number : 182 Question Id : 9662317208 Question Type : MCQ Option Shuffling : Yes Display Question Number : Yes
Single Line Question Option : No Option Orientation : Vertical

Correct Marks : 1 Wrong Marks : 0.25

गलत स्थिर विश्वास को क्या कहा जाता है?

Options :

1. ✘ भ्रम
2. ✘ मतिभ्रम
3. ✔ माया
4. ✘ रोगभ्रम

Question Number : 183 Question Id : 9662317209 Question Type : MCQ Option Shuffling : Yes Display Question Number : Yes
Single Line Question Option : No Option Orientation : Vertical

Correct Marks : 1 Wrong Marks : 0.25

फिंगर-टू-फिंगर परीक्षण निम्न न्यूरोलॉजिकल कार्यों में से किसका मूल्यांकन करने के लिए किया जाता है?

Options :

1. ✘ सेरिब्रल
2. ✘ मोटर
3. ✔ अनुमस्तिष्कीय
4. ✘ संवेदी

Question Number : 183 Question Id : 9662317209 Question Type : MCQ Option Shuffling : Yes Display Question Number : Yes
Single Line Question Option : No Option Orientation : Vertical

Correct Marks : 1 Wrong Marks : 0.25

Finger-to-finger test is performed to assess which of the following neurological functions?

Options :

1. ✘ Cerebral
2. ✘ Motor

3. ✓ Cerebellar

4. ✗ Sensory

Question Number : 184 Question Id : 9662317210 Question Type : MCQ Option Shuffling : Yes Display Question Number : Yes
Single Line Question Option : No Option Orientation : Vertical

Correct Marks : 1 Wrong Marks : 0.25

What is the optimal size for group therapy?

Options :

1. ✗ 5 to 7 members

2. ✓ 8 to 10 members

3. ✗ 10 to 15 members

4. ✗ 15 to 20 members

Question Number : 184 Question Id : 9662317210 Question Type : MCQ Option Shuffling : Yes Display Question Number : Yes
Single Line Question Option : No Option Orientation : Vertical

Correct Marks : 1 Wrong Marks : 0.25

समूह चिकित्सा के लिए इष्टतम आकार क्या है?

Options :

1. ✗ 5 से 7 सदस्य

2. ✓ 8 से 10 सदस्य

3. ✗ 10 से 15 सदस्य

4. ✗ 15 से 20 सदस्य

Question Number : 185 Question Id : 9662317211 Question Type : MCQ Option Shuffling : Yes Display Question Number : Yes
Single Line Question Option : No Option Orientation : Vertical

Correct Marks : 1 Wrong Marks : 0.25

Which of the following is not a clinical feature of a Catatonic Stupor?

Options :

1. ✗ Mutism

2. ✗ Echolalia

3. ✓ Incoherence

4. ✘ Posturing

Question Number : 185 Question Id : 9662317211 Question Type : MCQ Option Shuffling : Yes Display Question Number : Yes
Single Line Question Option : No Option Orientation : Vertical

Correct Marks : 1 Wrong Marks : 0.25

निम्नलिखित में से कौन सा एक कैटेटोनिक स्टूपर का एक नैदानिक लक्षण नहीं है?

Options :

1. ✘ गूंगापन
2. ✘ शब्दानुकरण
3. ✔ असंबद्धता
4. ✘ पोस्चरिंग (किसी विशेष ढंग की मुद्रा)

Question Number : 186 Question Id : 9662317212 Question Type : MCQ Option Shuffling : Yes Display Question Number : Yes
Single Line Question Option : No Option Orientation : Vertical

Correct Marks : 1 Wrong Marks : 0.25

A client is on lithium drug for 10 days. What does it indicate, if on the 10th day his serum lithium level is 1.0 mEq/L?

Options :

1. ✘ Toxic level
2. ✔ Therapeutic blood level
3. ✘ Laboratory error
4. ✘ Unusual response of the drug

Question Number : 186 Question Id : 9662317212 Question Type : MCQ Option Shuffling : Yes Display Question Number : Yes
Single Line Question Option : No Option Orientation : Vertical

Correct Marks : 1 Wrong Marks : 0.25

एक ग्राहक 10 दिनों के लिए लिथियम दवा पर है। यह क्या दर्शाता है, यदि 10 वें दिन उसका सीरम लिथियम स्तर 1.0 mEq / L है?

Options :

1. ✘ विषाक्त स्तर
2. ✔ चिकित्सीय रक्त स्तर

3. ✘ प्रयोगशाला की त्रुटि

4. ✘ दवा की असामान्य प्रतिक्रिया

Question Number : 187 Question Id : 9662317213 Question Type : MCQ Option Shuffling : Yes Display Question Number : Yes
Single Line Question Option : No Option Orientation : Vertical

Correct Marks : 1 Wrong Marks : 0.25

What is the tool used to assess alcohol abuse?

Options :

1. ✘ Global assessment of functions

2. ✔ CAGE questionnaire

3. ✘ Brief psychiatric rating scale

4. ✘ Manic-state rating scale

Question Number : 187 Question Id : 9662317213 Question Type : MCQ Option Shuffling : Yes Display Question Number : Yes
Single Line Question Option : No Option Orientation : Vertical

Correct Marks : 1 Wrong Marks : 0.25

शराब के दुरुपयोग का आकलन करने के लिए किस उपकरण का उपयोग किया जाता है?

Options :

1. ✘ कार्यो का वैश्विक मूल्यांकन

2. ✔ केज (CAGE) प्रश्नावली

3. ✘ संक्षिप्त मनोरोग रेटिंग पैमाना

4. ✘ उन्मत्त-अवस्था रेटिंग पैमाना

Question Number : 188 Question Id : 9662317214 Question Type : MCQ Option Shuffling : Yes Display Question Number : Yes
Single Line Question Option : No Option Orientation : Vertical

Correct Marks : 1 Wrong Marks : 0.25

What is the core feature of anorexia nervosa?

Options :

1. ✘ Binge eating

2. ✘ Poor impulse control

3. ✘ Tooth staining

4. ✔ Fear of becoming obese

Question Number : 188 Question Id : 9662317214 Question Type : MCQ Option Shuffling : Yes Display Question Number : Yes
Single Line Question Option : No Option Orientation : Vertical

Correct Marks : 1 Wrong Marks : 0.25

एनोरेक्सिया नर्वोसा का मुख्य लक्षण क्या है?

Options :

1. ✘ ठूस ठूस कर खाना

2. ✘ खराब आवेग अनियंत्रण

3. ✘ दाँत पर दाग

4. ✔ मोटे होने का डर

Question Number : 189 Question Id : 9662317215 Question Type : MCQ Option Shuffling : Yes Display Question Number : Yes
Single Line Question Option : No Option Orientation : Vertical

Correct Marks : 1 Wrong Marks : 0.25

When assessing the self-care abilities of a child with an IQ score of 30, the nurse would that expect the child:

Options :

1. ✘ can perform self-care somewhat independently, while being monitored

2. ✘ requires close supervision while performing certain independent activities

3. ✔ requires complete supervision but may be able to perform simple hygienic skills

4. ✘ requires constant assistance and supervision

Question Number : 189 Question Id : 9662317215 Question Type : MCQ Option Shuffling : Yes Display Question Number : Yes
Single Line Question Option : No Option Orientation : Vertical

Correct Marks : 1 Wrong Marks : 0.25

30 आईक्यू स्कोर वाले बच्चे की आत्म-देखभाल क्षमताओं का आकलन करते समय, नर्स बच्चे से क्या उम्मीद करती है?

Options :

1. ✘ निगरानी के दौरान, कुछ हद तक स्वतंत्र रूप से आत्म-देखभाल कर सकते हैं

2. ✘ कुछ स्वतंत्र गतिविधियों का प्रदर्शन करते समय नज़दीकी पर्यवेक्षण की आवश्यकता होती है
3. ✔ पूर्ण पर्यवेक्षण की आवश्यकता होती है, लेकिन सरल स्वच्छ कौशल प्रदर्शन करने में सक्षम हो सकता है
4. ✘ निरंतर सहायता और पर्यवेक्षण की आवश्यकता होती है

Question Number : 190 Question Id : 9662317216 Question Type : MCQ Option Shuffling : Yes Display Question Number : Yes
Single Line Question Option : No Option Orientation : Vertical

Correct Marks : 1 Wrong Marks : 0.25

A patient, newly diagnosed with cancer, shouts at the physician and says, 'Why me?' Which stage of grief is the patient in, according to the Kubler-Ross Theory?

Options :

1. ✘ Denial
2. ✔ Anger
3. ✘ Bargaining
4. ✘ Depression

Question Number : 190 Question Id : 9662317216 Question Type : MCQ Option Shuffling : Yes Display Question Number : Yes
Single Line Question Option : No Option Orientation : Vertical

Correct Marks : 1 Wrong Marks : 0.25

एक मरीज, जो कैंसर से पीड़ित है, चिकित्सक पर चिल्लाता है और कहता है, 'मुझे क्यों? 'कुबलर-रॉस थ्योरी' के अनुसार रोगी दुख की किस अवस्था में है?

Options :

1. ✘ इनकार
2. ✔ गुस्सा
3. ✘ सौदा
4. ✘ डिप्रेशन

Question Number : 191 Question Id : 9662317217 Question Type : MCQ Option Shuffling : Yes Display Question Number : Yes
Single Line Question Option : No Option Orientation : Vertical

Correct Marks : 1 Wrong Marks : 0.25

In which of the following treatment modalities an informed consent must be obtained?

Options :

1. ✘ Group therapy
2. ✘ Supportive psychotherapy
3. ✔ Electroconvulsive therapy
4. ✘ Behavioural therapy

Question Number : 191 Question Id : 9662317217 Question Type : MCQ Option Shuffling : Yes Display Question Number : Yes
Single Line Question Option : No Option Orientation : Vertical

Correct Marks : 1 Wrong Marks : 0.25

निम्नलिखित में से किस उपचार के तौर-तरीके में एक सूचित सहमति प्राप्त की जानी चाहिए?

Options :

1. ✘ समूह चिकित्सा
2. ✘ सहायक मनोचिकित्सा
3. ✔ विद्युत - आक्षेपी चिकित्सा
4. ✘ व्यवहार संबंधी चिकित्सा

Question Number : 192 Question Id : 9662317218 Question Type : MCQ Option Shuffling : Yes Display Question Number : Yes
Single Line Question Option : No Option Orientation : Vertical

Correct Marks : 1 Wrong Marks : 0.25

What is an expansive mood?

Options :

1. ✘ Intense elation of feelings
2. ✔ Expression of one's feelings without restriction
3. ✘ Exaggerated happiness
4. ✘ False expression of feelings

Question Number : 192 Question Id : 9662317218 Question Type : MCQ Option Shuffling : Yes Display Question Number : Yes
Single Line Question Option : No Option Orientation : Vertical

Correct Marks : 1 Wrong Marks : 0.25

एक्सपेंसिव मूड क्या है?

Options :

1. ✘ भावनाओं का गहन आनंद
2. ✔ भावनाओं की अभिव्यक्ति बिना किसी प्रतिबंध के
3. ✘ अतिरंजित सुख
4. ✘ भावनाओं की झूठी अभिव्यक्ति

Question Number : 193 Question Id : 9662317219 Question Type : MCQ Option Shuffling : Yes Display Question Number : Yes
Single Line Question Option : No Option Orientation : Vertical

Correct Marks : 1 Wrong Marks : 0.25

The objectives that are written more specifically in terms of knowledge, abilities and skills to be learnt by the students are called:

Options :

1. ✘ central objectives
2. ✔ contributory objectives
3. ✘ institutional objectives
4. ✘ general objectives

Question Number : 193 Question Id : 9662317219 Question Type : MCQ Option Shuffling : Yes Display Question Number : Yes
Single Line Question Option : No Option Orientation : Vertical

Correct Marks : 1 Wrong Marks : 0.25

छात्रों द्वारा सीखे जाने वाले ज्ञान, क्षमता और कौशल के संदर्भ में विशेष रूप से लिखे गए उद्देश्यों को क्या कहा जाता है?

Options :

1. ✘ केंद्रीय उद्देश्य
2. ✔ अंशदायी उद्देश्य
3. ✘ संस्थागत उद्देश्य
4. ✘ सामान्य उद्देश्य

Question Number : 194 Question Id : 9662317220 Question Type : MCQ Option Shuffling : Yes Display Question Number : Yes
Single Line Question Option : No Option Orientation : Vertical

Correct Marks : 1 Wrong Marks : 0.25

The philosophy which entails learning through effort by engaging in projects and experiments is called:

Options :

1. ✓ pragmatism

2. ✗ naturalism

3. ✗ idealism

4. ✗ realism

Question Number : 194 Question Id : 9662317220 Question Type : MCQ Option Shuffling : Yes Display Question Number : Yes
Single Line Question Option : No Option Orientation : Vertical

Correct Marks : 1 Wrong Marks : 0.25

दर्शन जो परियोजनाओं और प्रयोगों में संलग्न होकर प्रयास के माध्यम से सीखने को आवश्यक बनाता करता है, उसे क्या कहा जाता है?

Options :

1. ✓ व्यवहारवाद

2. ✗ प्रकृतिवाद

3. ✗ आदर्शवाद

4. ✗ यथार्थवाद

Question Number : 195 Question Id : 9662317221 Question Type : MCQ Option Shuffling : Yes Display Question Number : Yes
Single Line Question Option : No Option Orientation : Vertical

Correct Marks : 1 Wrong Marks : 0.25

Directing in nursing administration includes which of the following activities?

Options :

1. ✗ Interrelating activities for subordinates

2. ✗ Training the subordinates

3. ✗ Deciding on the jobs for subordinates

4. ✓ Guiding and supervising subordinates

Question Number : 195 Question Id : 9662317221 Question Type : MCQ Option Shuffling : Yes Display Question Number : Yes
Single Line Question Option : No Option Orientation : Vertical

Correct Marks : 1 Wrong Marks : 0.25

नर्सिंग प्रशासन में निर्देशन में निम्नलिखित में से कौन सी गतिविधियाँ शामिल हैं?

Options :

1. ✘ अधीनस्थों के लिए परस्पर संबंधित गतिविधियाँ
2. ✘ अधीनस्थों को प्रशिक्षित करना
3. ✘ अधीनस्थों के लिए कार्यों पर निर्णय लेना
4. ✔ अधीनस्थों का मार्गदर्शन और पर्यवेक्षण करना

Question Number : 196 Question Id : 9662317222 Question Type : MCQ Option Shuffling : Yes Display Question Number : Yes
Single Line Question Option : No Option Orientation : Vertical

Correct Marks : 1 Wrong Marks : 0.25

The measurement of serious, undesirable and avoidable outcomes in a hospital, like falls, is known as:

Options :

1. ✘ benchmarking
2. ✔ sentinel event indicator
3. ✘ morbidity indicator
4. ✘ standard indicator

Question Number : 196 Question Id : 9662317222 Question Type : MCQ Option Shuffling : Yes Display Question Number : Yes
Single Line Question Option : No Option Orientation : Vertical

Correct Marks : 1 Wrong Marks : 0.25

एक अस्पताल में गंभीर, अवांछनीय और परिहार्य परिणामों की माप, जैसे कि फॉल, को निम्न में से किस रूप में जाना जाता है?

Options :

1. ✘ बेंच मार्किंग
2. ✔ सैन्टिनल घटना सूचक
3. ✘ रुग्णता सूचक
4. ✘ मानक सूचक

Question Number : 197 Question Id : 9662317223 Question Type : MCQ Option Shuffling : Yes Display Question Number : Yes
Single Line Question Option : No Option Orientation : Vertical

Correct Marks : 1 Wrong Marks : 0.25

What is nursing protocol?

Options :

1. ✘ Guidelines for nurses regarding patient care
2. ✘ Step-by-step guide for a particular nursing activity
3. ✔ Nurses' authority to perform certain procedures as delegated by the physician
4. ✘ Guide to improve nurses performance

Question Number : 197 Question Id : 9662317223 Question Type : MCQ Option Shuffling : Yes Display Question Number : Yes
Single Line Question Option : No Option Orientation : Vertical

Correct Marks : 1 Wrong Marks : 0.25

नर्सिंग प्रोटोकॉल क्या है?

Options :

1. ✘ मरीजों की देखभाल के संबंध में नर्सों के लिए दिशानिर्देश
2. ✘ किसी विशेष नर्सिंग गतिविधि के लिए चरण-दर-चरण मार्गदर्शिका
3. ✔ चिकित्सक द्वारा दी गयी कुछ प्रक्रियाओं को निष्पादित करने का नर्सों को अधिकार
4. ✘ नर्सों के प्रदर्शन में सुधार के लिए गाइड

Question Number : 198 Question Id : 9662317224 Question Type : MCQ Option Shuffling : Yes Display Question Number : Yes
Single Line Question Option : No Option Orientation : Vertical

Correct Marks : 1 Wrong Marks : 0.25

Selection of every fifth patient from the list of tuberculosis patients admitted in a hospital is known as:

Options :

1. ✔ systematic random sampling
2. ✘ simple random sampling
3. ✘ stratified random sampling
4. ✘ sequential sampling

Question Number : 198 Question Id : 9662317224 Question Type : MCQ Option Shuffling : Yes Display Question Number : Yes
Single Line Question Option : No Option Orientation : Vertical

Correct Marks : 1 Wrong Marks : 0.25

अस्पताल में भर्ती तपेदिक रोगियों की सूची से हर पांचवें मरीज का चयन निम्नानुसार होता है?

Options :

1. ✓ व्यवस्थित यादृच्छिक नमूनाकरण (सैम्पलिंग)
2. ✘ सामान्य यादृच्छिक नमूनाकरण
3. ✘ स्तरीय यादृच्छिक नमूनाकरण
4. ✘ अनुक्रमिक नमूनाकरण

Question Number : 199 Question Id : 9662317225 Question Type : MCQ Option Shuffling : Yes Display Question Number : Yes
Single Line Question Option : No Option Orientation : Vertical

Correct Marks : 1 Wrong Marks : 0.25

Which of the following is a term for the scope of a particular research design that is described by setting boundaries at the beginning of the study?

Options :

1. ✘ Assumptions
2. ✘ Limitations
3. ✘ Generalisations
4. ✓ Delimitations

Question Number : 199 Question Id : 9662317225 Question Type : MCQ Option Shuffling : Yes Display Question Number : Yes
Single Line Question Option : No Option Orientation : Vertical

Correct Marks : 1 Wrong Marks : 0.25

निम्नलिखित में से कौन सा एक विशेष अनुसंधान डिजाइन के दायरे के लिए एक शब्द है जो अध्ययन की शुरुआत में सीमाएं निर्धारित करके वर्णित होता है?

Options :

1. ✘ मान्यताएं
2. ✘ सीमाएं
3. ✘ सामान्यीकरण
4. ✓ हदबंदी

Question Number : 200 Question Id : 9662317226 Question Type : MCQ Option Shuffling : Yes Display Question Number : Yes
Single Line Question Option : No Option Orientation : Vertical

Correct Marks : 1 Wrong Marks : 0.25

Which of the following is a Ratio Data?

Options :

1. ✘ 94 to 95 degrees Celsius
2. ✘ Hindu
3. ✔ 165 cm height
4. ✘ Agree and Disagree

Question Number : 200 Question Id : 9662317226 Question Type : MCQ Option Shuffling : Yes Display Question Number : Yes
Single Line Question Option : No Option Orientation : Vertical

Correct Marks : 1 Wrong Marks : 0.25

निम्नलिखित में से कौन सा एक रेशिओ डाटा है?

Options :

1. ✘ 94 से 95 डिग्री सेल्सियस
2. ✘ हिंदू
3. ✔ 165 सेमी ऊंचाई
4. ✘ सहमत और असहमत