

**National Testing Agency**

**Question Paper Name:** 07 Anthropology 4th Dec 2019 Shift 2  
**Subject Name:** 07 Anthropology  
**Creation Date:** 2019-12-04 19:04:30  
**Duration:** 180  
**Total Marks:** 300  
**Display Marks:** Yes

## 07 Anthropology

**Group Number :** 1  
**Group Id :** 61547554  
**Group Maximum Duration :** 0  
**Group Minimum Duration :** 180  
**Revisit allowed for view? :** No  
**Revisit allowed for edit? :** No  
**Break time:** 0  
**Group Marks:** 300

## PART I General Paper

**Section Id :** 615475113  
**Section Number :** 1  
**Section type :** Online  
**Mandatory or Optional:** Mandatory  
**Number of Questions:** 42  
**Number of Questions to be attempted:** 42  
**Section Marks:** 100  
**Display Number Panel:** Yes  
**Group All Questions:** No

**Sub-Section Number:** 1  
**Sub-Section Id:** 615475370  
**Question Shuffling Allowed :** Yes

**Question Id :** 6154758439 **Question Type :** COMPREHENSION **Sub Question Shuffling Allowed :** Yes **Group Comprehension Questions :** No

**Question Numbers :** (1 to 5)

**Question Label :** Comprehension

The following table presents the data on the number of vehicles of three different types (A, B and C) produced by a company during seven different years from 2012 to 2018. Based on the data in the table, answer the questions 1- 5 :

Year – wise production of three types of vehicles

Year \ Vehicle	A - Type	B - Type	C - Type
2012	5000	20000	15000
2013	15,000	10000	22500
2014	10,000	15000	30000
2015	17,500	15000	23000
2016	25,000	20,000	15000
2017	13,000	25,000	20000
2018	30,000	35,000	25000

Sub questions

Question Number : 1 Question Id : 6154758440 Question Type : MCQ Option Shuffling : No Display Question Number : Yes  
Single Line Question Option : No Option Orientation : Vertical  
Correct Marks : 2 Wrong Marks : 0

The following table presents the data on the number of vehicles of three different types (A, B and C) produced by a company during seven different years from 2012 to 2018. Based on the data in the table, answer the questions 1- 5 :

Year – wise production of three types of vehicles

Year \ Vehicle	A - Type	B - Type	C - Type
2012	5000	20000	15000
2013	15,000	10000	22500
2014	10,000	15000	30000
2015	17,500	15000	23000
2016	25,000	20,000	15000
2017	13,000	25,000	20000
2018	30,000	35,000	25000

Options :

- 61547532901. 1
- 61547532902. 2
- 61547532903. 3
- 61547532904. 4

Question Number : 2 Question Id : 6154758441 Question Type : MCQ Option Shuffling : No Display Question Number : Yes  
Single Line Question Option : No Option Orientation : Vertical  
Correct Marks : 2 Wrong Marks : 0

The number of A – type vehicles produced in the year 2014 was what percent (%) of the number of C-type vehicles produced in the year 2016?

- (1) ~ 33.33 % (2) ~ 66.67 %  
(3) 50 % (4) 15 %

Options :

61547532905. 1  
61547532906. 2  
61547532907. 3  
61547532908. 4

Question Number : 3 Question Id : 6154758442 Question Type : MCQ Option Shuffling : No Display Question Number : Yes  
Single Line Question Option : No Option Orientation : Vertical

Correct Marks : 2 Wrong Marks : 0

In how many years was the production of A – type vehicles less than its average production over the given years?

- (1) 2 (2) 4  
(3) 3 (4) 1

Options :

61547532909. 1  
61547532910. 2  
61547532911. 3  
61547532912. 4

Question Number : 4 Question Id : 6154758443 Question Type : MCQ Option Shuffling : No Display Question Number : Yes  
Single Line Question Option : No Option Orientation : Vertical

Correct Marks : 2 Wrong Marks : 0

What was the average number of B – type vehicles produced by the company over the years?

- (1) 20000 (2) 25000  
(3) 15000 (4) 30000

Options :

61547532913. 1  
61547532914. 2  
61547532915. 3  
61547532916. 4

Question Number : 5 Question Id : 6154758444 Question Type : MCQ Option Shuffling : No Display Question Number : Yes  
Single Line Question Option : No Option Orientation : Vertical

Correct Marks : 2 Wrong Marks : 0

In which of the following years was the total production of all the three types of vehicles 60000?

- (1) 2013 (2) 2014  
(3) 2015 (4) 2016

Options :

61547532917. 1  
61547532918. 2  
61547532919. 3

Question Id : 6154758439 Question Type : COMPREHENSION Sub Question Shuffling Allowed : Yes Group Comprehension Questions : No

Question Numbers : (1 to 5)

Question Label : Comprehension

निम्नलिखित तालिका में वर्ष 2012 से 2018 तक सात विभिन्न वर्षों के दौरान किसी कंपनी द्वारा उत्पादित तीन विभिन्न प्रकार (A, B और C) के वाहनों की संख्या के आँकड़ों दर्शाए गये हैं। तालिका में दिये गये आँकड़ों के आधार पर निम्नलिखित प्रश्नों (1-5) के उत्तर दीजिए :

तीन प्रकार के वाहनों का वर्षवार उत्पाद :

वर्ष \ वाहन	A - टाइप	B - टाइप	C - टाइप
2012	5000	20000	15000
2013	15,000	10000	22500
2014	10,000	15000	30000
2015	17,500	15000	23000
2016	25,000	20,000	15000
2017	13,000	25,000	20000
2018	30,000	35,000	25000

Sub questions

Question Number : 1 Question Id : 6154758440 Question Type : MCQ Option Shuffling : No Display Question Number : Yes Single Line Question Option : No Option Orientation : Vertical

Correct Marks : 2 Wrong Marks : 0

वर्ष 2016 से 2017 तक B टाइप के वाहनों के उत्पादन में कितने प्रतिशत की वृद्धि हुई?

- (1) 10 % (2) 5 %  
 (3) 20 % (4) 25 %

Options :

61547532901. 1

61547532902. 2

61547532903. 3

61547532904. 4

Question Number : 2 Question Id : 6154758441 Question Type : MCQ Option Shuffling : No Display Question Number : Yes Single Line Question Option : No Option Orientation : Vertical

Correct Marks : 2 Wrong Marks : 0

वर्ष 2014 में उत्पादित A टाइप वाहनों की संख्या वर्ष 2016 में उत्पादित C टाइप वाहनों की संख्या का कितना प्रतिशत था ?

- (1) ~ 33.33 % (2) ~ 66.67 %  
 (3) 50 % (4) 15 %

Options :

61547532905. 1  
61547532906. 2  
61547532907. 3  
61547532908. 4

Question Number : 3 Question Id : 6154758442 Question Type : MCQ Option Shuffling : No Display Question Number : Yes  
Single Line Question Option : No Option Orientation : Vertical

Correct Marks : 2 Wrong Marks : 0

कितने वर्षों में A टाइप वाहनों का उत्पादन दिये गये वर्षों में औसत उत्पादन से कम था?

- (1) 2 (2) 4  
(3) 3 (4) 1

Options :

61547532909. 1  
61547532910. 2  
61547532911. 3  
61547532912. 4

Question Number : 4 Question Id : 6154758443 Question Type : MCQ Option Shuffling : No Display Question Number : Yes  
Single Line Question Option : No Option Orientation : Vertical

Correct Marks : 2 Wrong Marks : 0

दिये गये वर्षों में कंपनी द्वारा उत्पादित B टाइप वाहनों की औसत संख्या क्या थी?

- (1) 20000 (2) 25000  
(3) 15000 (4) 30000

Options :

61547532913. 1  
61547532914. 2  
61547532915. 3  
61547532916. 4

Question Number : 5 Question Id : 6154758444 Question Type : MCQ Option Shuffling : No Display Question Number : Yes  
Single Line Question Option : No Option Orientation : Vertical

Correct Marks : 2 Wrong Marks : 0

निम्नलिखित में से किस वर्ष तीनों प्रकार के वाहनों का कुल उत्पादन 60000 था?

- (1) 2013 (2) 2014  
(3) 2015 (4) 2016

Options :

61547532917. 1  
61547532918. 2  
61547532919. 3  
61547532920. 4

Sub-Section Number: 2  
Sub-Section Id: 615475371  
Question Shuffling Allowed : Yes

Question Number : 6 Question Id : 6154758445 Question Type : MCQ Option Shuffling : No Display Question Number : Yes  
Single Line Question Option : No Option Orientation : Vertical

Correct Marks : 2 Wrong Marks : 0

By selling 70 pencils for Rs.90/- a person makes a loss of 25%. How many pencils should be sold for Rs.234 to have a profit of 30%?

- (1) 95 (2) 100  
(3) 105 (4) 110

Options :

61547532921. 1  
61547532922. 2  
61547532923. 3  
61547532924. 4

Question Number : 6 Question Id : 6154758445 Question Type : MCQ Option Shuffling : No Display Question Number : Yes  
Single Line Question Option : No Option Orientation : Vertical

Correct Marks : 2 Wrong Marks : 0

एक व्यक्ति 70 पेंसिलों को 90 रूपये में बेच कर 25% हानि उठाता है। 30% मुनाफा कमाने के लिए 234 रूपये में कितनी पेंसिल बेचनी होंगी ?

- (1) 95 (2) 100  
(3) 105 (4) 110

Options :

61547532921. 1  
61547532922. 2  
61547532923. 3  
61547532924. 4

Question Number : 7 Question Id : 6154758446 Question Type : MCQ Option Shuffling : No Display Question Number : Yes  
Single Line Question Option : No Option Orientation : Vertical

Correct Marks : 2 Wrong Marks : 0

In what ratio must a vendor mix two varieties of sugar worth Rs.60 per kg and Rs.78 per kg so that by selling the mixture at Rs.76.8 per kg, the vendor gains 20%?

- (1) 7 : 4 (2) 7 : 2  
(3) 5 : 3 (4) 5 : 2

Options :

61547532925. 1  
61547532926. 2  
61547532927. 3  
61547532928. 4

Question Number : 7 Question Id : 6154758446 Question Type : MCQ Option Shuffling : No Display Question Number : Yes  
Single Line Question Option : No Option Orientation : Vertical

Correct Marks : 2 Wrong Marks : 0

एक विक्रेता को 60 रुपये प्रति कि.ग्र. और 78 रुपये प्रति कि.ग्र. मूल्य की चीनी की दो भिन्न किस्मों को किस अनुपात में मिलाना होगा ताकि वह इस मिश्रण को 76.80 रुपये की दर से बेच कर 20% लाभ अर्जित कर सके?

(1) 7 : 4

(2) 7 : 2

(3) 5 : 3

(4) 5 : 2

Options :

61547532925. 1

61547532926. 2

61547532927. 3

61547532928. 4

Question Number : 8 Question Id : 6154758447 Question Type : MCQ Option Shuffling : No Display Question Number : Yes  
Single Line Question Option : No Option Orientation : Vertical

Correct Marks : 2 Wrong Marks : 0

Which given of the following sets of letters when sequentially placed at the gaps in the letter series below shall complete it?

bb \_\_\_ b \_\_\_ ab \_\_\_ cbba \_\_\_ bcbb \_\_\_

(1) a c b a c

(2) a c b b b

(3) c b b b a

(4) a b b b c

Options :

61547532929. 1

61547532930. 2

61547532931. 3

61547532932. 4

Question Number : 8 Question Id : 6154758447 Question Type : MCQ Option Shuffling : No Display Question Number : Yes  
Single Line Question Option : No Option Orientation : Vertical

Correct Marks : 2 Wrong Marks : 0

निम्नलिखित में से अक्षरों का वह कौन सा सेट है जिसे नीचे दी गई अक्षर श्रृंखला के रिक्त स्थानों पर क्रमानुसार लगाने से वह पूरी हो जाएगी?

bb \_\_\_ b \_\_\_ ab \_\_\_ cbba \_\_\_ bcbb \_\_\_

(1) a c b a c

(2) a c b b b

(3) c b b b a

(4) a b b b c

Options :

61547532929. 1

61547532930. 2

61547532931. 3

61547532932. 4

Question Number : 9 Question Id : 6154758448 Question Type : MCQ Option Shuffling : No Display Question Number : Yes  
Single Line Question Option : No Option Orientation : Vertical

Correct Marks : 2 Wrong Marks : 0

Out of a total of 10 students, the average weight of 9 students is 60 kg. If the weight of the 10<sup>th</sup> student is 9 kg more than the average weight of all the 10 students, then the weight of the 10<sup>th</sup> student would be :

- (1) 61 kg. (2) 69 kg.  
(3) 70 kg. (4) 71 kg.

**Options :**

61547532933. 1  
61547532934. 2  
61547532935. 3  
61547532936. 4

**Question Number : 9 Question Id : 6154758448 Question Type : MCQ Option Shuffling : No Display Question Number : Yes  
Single Line Question Option : No Option Orientation : Vertical**

**Correct Marks : 2 Wrong Marks : 0**

कुल 10 विद्यार्थियों में से 9 विद्यार्थियों का औसत वजन 60 कि.ग्रा है। यदि 10 वें विद्यार्थी का वजन सभी 10 विद्यार्थियों के औसत वजन से 9 कि.ग्र. अधिक है, तो 10वें विद्यार्थी का वजन होगा \_\_\_\_\_

- (1) 61 कि.ग्रा. (2) 69 कि.ग्रा.  
(3) 70 कि.ग्रा. (4) 71 कि.ग्रा.

**Options :**

61547532933. 1  
61547532934. 2  
61547532935. 3  
61547532936. 4

**Question Number : 10 Question Id : 6154758449 Question Type : MCQ Option Shuffling : No Display Question Number : Yes  
Single Line Question Option : No Option Orientation : Vertical**

**Correct Marks : 2 Wrong Marks : 0**

Which of the following was not a Millennium Development Goal (MDG)?

- (1) Eradicate extreme poverty and hunger  
(2) Improve maternal health  
(3) Ensure healthy lives and promote well being for all at all ages  
(4) Ensure environmental sustainability

**Options :**

61547532937. 1  
61547532938. 2  
61547532939. 3  
61547532940. 4

**Question Number : 10 Question Id : 6154758449 Question Type : MCQ Option Shuffling : No Display Question Number : Yes  
Single Line Question Option : No Option Orientation : Vertical**

**Correct Marks : 2 Wrong Marks : 0**



निम्नलिखित में से कौन सा सहस्राब्दि विकास लक्ष्य (एम डी जी) नहीं है?

- (1) अत्यधिक निर्धनता और भूख का उन्मूलन
- (2) मातृ स्वास्थ्य में सुधार
- (3) सभी आयु-वर्ग के व्यक्तियों के लिए स्वस्थ जीवन को सुनिश्चित करना और खुशहाली को बढ़ाना
- (4) पर्यावरणीय संपोषणीयता को सुनिश्चित करना

Options :

61547532937. 1

61547532938. 2

61547532939. 3

61547532940. 4

Question Number : 11 Question Id : 6154758450 Question Type : MCQ Option Shuffling : No Display Question Number : Yes  
Single Line Question Option : No Option Orientation : Vertical

Correct Marks : 2 Wrong Marks : 0

Choose the person who has control over self, mode of communication and method of delivery in class room from the following :

- (1) Student
- (2) Teacher
- (3) Audience
- (4) Visitor

Options :

61547532941. 1

61547532942. 2

61547532943. 3

61547532944. 4

Question Number : 11 Question Id : 6154758450 Question Type : MCQ Option Shuffling : No Display Question Number : Yes  
Single Line Question Option : No Option Orientation : Vertical

Correct Marks : 2 Wrong Marks : 0

निम्नलिखित में से ऐसे व्यक्ति को चुनिए जिसका कक्षा में स्वयं, संप्रेषण विधि और अभिव्यक्ति प्रदान करने के तरीके पर नियंत्रण होता है :

- (1) छात्र
- (2) शिक्षक
- (3) श्रोता
- (4) आगंतुक (विजिटर)

Options :

61547532941. 1

61547532942. 2

61547532943. 3

61547532944. 4

Question Number : 12 Question Id : 6154758451 Question Type : MCQ Option Shuffling : No Display Question Number : Yes  
Single Line Question Option : No Option Orientation : Vertical

Correct Marks : 2 Wrong Marks : 0

Select the period in which India became a centre of higher learning.

- |                   |                    |
|-------------------|--------------------|
| (1) Gupta Period  | (2) Buddha Period  |
| (3) Mughal Period | (4) British Period |

Options :

61547532945. 1  
61547532946. 2  
61547532947. 3  
61547532948. 4

Question Number : 12 Question Id : 6154758451 Question Type : MCQ Option Shuffling : No Display Question Number : Yes  
Single Line Question Option : No Option Orientation : Vertical

Correct Marks : 2 Wrong Marks : 0

निम्नलिखित से उस कालावधि को चुनिए जिसमें भारत उच्च शिक्षा का केन्द्र बना:

- |               |                 |
|---------------|-----------------|
| (1) गुप्त काल | (2) बुद्ध-काल   |
| (3) मुगल काल  | (4) ब्रिटिश काल |

Options :

61547532945. 1  
61547532946. 2  
61547532947. 3  
61547532948. 4

Question Number : 13 Question Id : 6154758452 Question Type : MCQ Option Shuffling : No Display Question Number : Yes  
Single Line Question Option : No Option Orientation : Vertical

Correct Marks : 2 Wrong Marks : 0

Which of the following groups has the components of paralanguage communication?

- (1) Voice, Emphasis and Impression
- (2) Social Space, Voice and Impression
- (3) Voice, Social Space and Expression
- (4) Emphasis, Social Space and Voice

Options :

61547532949. 1  
61547532950. 2  
61547532951. 3  
61547532952. 4

Question Number : 13 Question Id : 6154758452 Question Type : MCQ Option Shuffling : No Display Question Number : Yes  
Single Line Question Option : No Option Orientation : Vertical

Correct Marks : 2 Wrong Marks : 0

निम्नलिखित में से किस समूह के पास भाषेतर (पैरा लैंग्वेज) संप्रेषण के घटक है?

- (1) स्वर, बल और प्रभाव
- (2) सामाजिक स्थान, स्वर और प्रभाव
- (3) स्वर, सामाजिक स्थान और अभिव्यक्ति
- (4) बल, सामाजिक स्थान और स्वर

Options :

61547532949. 1

61547532950. 2

61547532951. 3

61547532952. 4

Question Number : 14 Question Id : 6154758453 Question Type : MCQ Option Shuffling : No Display Question Number : Yes  
Single Line Question Option : No Option Orientation : Vertical

Correct Marks : 2 Wrong Marks : 0

How many National Parks and Wildlife Sanctuaries were there in India till March 2011?

- (1) 8 and 421 only
- (2) 10 and 75 only
- (3) 75 and 421 only
- (4) 102 and 515 only

Options :

61547532953. 1

61547532954. 2

61547532955. 3

61547532956. 4

Question Number : 14 Question Id : 6154758453 Question Type : MCQ Option Shuffling : No Display Question Number : Yes  
Single Line Question Option : No Option Orientation : Vertical

Correct Marks : 2 Wrong Marks : 0

भारत में मार्च 2011 तक कितने राष्ट्रीय उद्यान और वन्य जीव अभयारण्य थे?

- (1) केवल 8 और 421
- (2) केवल 10 और 75
- (3) केवल 75 और 421
- (4) केवल 102 और 515

Options :

61547532953. 1

61547532954. 2

61547532955. 3

61547532956. 4

Question Number : 15 Question Id : 6154758454 Question Type : MCQ Option Shuffling : No Display Question Number : Yes  
Single Line Question Option : No Option Orientation : Vertical

Correct Marks : 2 Wrong Marks : 0

Which one of the following is signified by Udāharana of Anumāna (Inference) in Indian Logic?

- (1) Statement of reason
- (2) Proposition to be proved
- (3) Conclusion proved
- (4) Universal proposition along with an instance

Options :

61547532957. 1  
61547532958. 2  
61547532959. 3  
61547532960. 4

Question Number : 15 Question Id : 6154758454 Question Type : MCQ Option Shuffling : No Display Question Number : Yes  
Single Line Question Option : No Option Orientation : Vertical

Correct Marks : 2 Wrong Marks : 0

निम्नलिखित में से कौन-सा भारतीय तर्क शास्त्र में अनुमान के उदाहरण (अनुमिति) द्वारा संकेतित है?

- (1) कारण का कथन
- (2) प्रतिक्षप्ति को सिद्ध करना
- (3) निष्कर्ष प्रमाणित
- (4) उदाहरण के साथ सार्वभौम प्रतिक्षप्ति

Options :

61547532957. 1  
61547532958. 2  
61547532959. 3  
61547532960. 4

Question Number : 16 Question Id : 6154758455 Question Type : MCQ Option Shuffling : No Display Question Number : Yes  
Single Line Question Option : No Option Orientation : Vertical

Correct Marks : 2 Wrong Marks : 0

Devdatta is fat and he does not eat during the day. Therefore, Devadatta is eating during the night.

The above example, in classical Indian School of Logic, is a case of :

- |                |                      |
|----------------|----------------------|
| (1) Comparison | (2) Implication      |
| (3) Perception | (4) Verbal Testimony |

Options :

61547532961. 1  
61547532962. 2  
61547532963. 3  
61547532964. 4

Question Number : 16 Question Id : 6154758455 Question Type : MCQ Option Shuffling : No Display Question Number : Yes  
Single Line Question Option : No Option Orientation : Vertical

Correct Marks : 2 Wrong Marks : 0

देवदत्त मोटा है और वह दिन में भोजन नहीं करता है। अतः देवदत्त रात्रि में भोजन कर रहा है  
भारतीय तर्कशास्त्र में उपर्युक्त उदाहरण किस प्रकार का मामला है?

- |             |                 |
|-------------|-----------------|
| (1) तुलना   | (2) निहितार्थ   |
| (3) अवधारणा | (4) वाचिक साध्य |

Options :

61547532961. 1  
61547532962. 2  
61547532963. 3  
61547532964. 4

Question Number : 17 Question Id : 6154758456 Question Type : MCQ Option Shuffling : No Display Question Number : Yes  
Single Line Question Option : No Option Orientation : Vertical

Correct Marks : 2 Wrong Marks : 0

As per the classical square of opposition, if 'A' proposition is given as true, then which one of the following is correct?

- (1) "E" proposition is false, "I" proposition is true and "O" proposition is false
- (2) "E" proposition is true, "I" proposition is true and "O" proposition is true
- (3) "E" proposition is false, "I" proposition is false and "O" proposition is true
- (4) "E" proposition is true, "I" proposition is false and "O" proposition is false

Options :

61547532965. 1  
61547532966. 2  
61547532967. 3

61547532968. 4

Question Number : 17 Question Id : 6154758456 Question Type : MCQ Option Shuffling : No Display Question Number : Yes  
Single Line Question Option : No Option Orientation : Vertical

Correct Marks : 2 Wrong Marks : 0

क्लासिकल स्क्वेयर ऑफ अपोजिशन के अनुसार यदि 'A' तर्कवाक्य सच है तो निम्नलिखित में से कौन सा सही है?

- (1) "E" तर्कवाक्य गलत है, "I" तर्कवाक्य सही है और "O" तर्कवाक्य गलत है
- (2) "E" तर्कवाक्य सही है, "I" तर्कवाक्य सही है और "O" तर्कवाक्य सही है
- (3) "E" तर्कवाक्य गलत है, "I" तर्कवाक्य गलत है और "O" तर्कवाक्य सही है
- (4) "E" तर्कवाक्य सही है, "I" तर्कवाक्य गलत है और "O" तर्कवाक्य गलत है

Options :

61547532965. 1

61547532966. 2

61547532967. 3

61547532968. 4

Question Number : 18 Question Id : 6154758457 Question Type : MCQ Option Shuffling : No Display Question Number : Yes  
Single Line Question Option : No Option Orientation : Vertical

Correct Marks : 2 Wrong Marks : 0

Which one of the following propositions is a contrary to "All poets are dreamers"?

- (1) Some poets are dreamers
- (2) Some poets are not dreamers
- (3) No poets are dreamers
- (4) No dreamers are poets

Options :

61547532969. 1

61547532970. 2

61547532971. 3

61547532972. 4

Question Number : 18 Question Id : 6154758457 Question Type : MCQ Option Shuffling : No Display Question Number : Yes  
Single Line Question Option : No Option Orientation : Vertical

Correct Marks : 2 Wrong Marks : 0

निम्नलिखित में से कौन-सा तर्कवाक्य "सभी कवि स्वप्नद्रष्टा होते हैं" से विपरीत है?

- (1) कुछ कवि स्वप्नद्रष्टा होते हैं।
- (2) कुछ कवि स्वप्नद्रष्टा नहीं होते हैं।
- (3) कोई भी कवि स्वप्नद्रष्टा नहीं होता है।
- (4) कोई भी स्वप्नद्रष्टा कवि नहीं होता है।

Options :

61547532969. 1

61547532970. 2

61547532971. 3

61547532972. 4

Question Number : 19 Question Id : 6154758458 Question Type : MCQ Option Shuffling : No Display Question Number : Yes  
Single Line Question Option : No Option Orientation : Vertical

Correct Marks : 2 Wrong Marks : 0

Which among the following is NOT a component of effective teaching?

- (1) Questioning to check for the understanding of students
- (2) Providing students with feedback
- (3) Being flexible about how long it takes to learn
- (4) Reactive mode of student's behaviour

Options :

61547532973. 1  
61547532974. 2  
61547532975. 3  
61547532976. 4

Question Number : 19 Question Id : 6154758458 Question Type : MCQ Option Shuffling : No Display Question Number : Yes  
Single Line Question Option : No Option Orientation : Vertical

Correct Marks : 2 Wrong Marks : 0

निम्नलिखित में से कौन-सा प्रभावी शिक्षण का घटक नहीं है ?

- (1) छात्रों की समझदारी की जांच के लिए प्रश्न पूछना
- (2) छात्रों को प्रतिपुष्टि उपलब्ध कराना
- (3) सीखने में लगने वाली समयावधि के बारे में लचीलापन
- (4) छात्रों के व्यवहार में प्रतिक्रियात्मकता

Options :

61547532973. 1  
61547532974. 2  
61547532975. 3  
61547532976. 4

Question Number : 20 Question Id : 6154758459 Question Type : MCQ Option Shuffling : No Display Question Number : Yes  
Single Line Question Option : No Option Orientation : Vertical

Correct Marks : 2 Wrong Marks : 0

Which among the following factors doesn't contribute to assessment bias?

- (1) When language of the test and the tester is different from the languages of the students
- (2) Answers that support middle – class values
- (3) If assessment procedures are flexible and diverse to make disadvantaged students comfortable
- (4) Objective test for assessing abstract reasoning of the student.

Options :

61547532977. 1  
61547532978. 2

61547532979. 3

61547532980. 4

Question Number : 20 Question Id : 6154758459 Question Type : MCQ Option Shuffling : No Display Question Number : Yes  
Single Line Question Option : No Option Orientation : Vertical

Correct Marks : 2 Wrong Marks : 0

निम्नलिखित में से कौन सा कारक आकलन सम्बन्धी पूर्वाग्रह में योगदान नहीं करता है?

- (1) जब जाँच और जाँचकर्ता की भाषा छात्रों की भाषा से भिन्न है
- (2) मध्यवर्गीय मूल्यों का समर्थन करने वाले उत्तर
- (3) यदि आकलन पद्धति लचीली और विविधतायुक्त हो जिससे सुविधा-वंचित छात्र सहज हो सकें
- (4) छात्र की अमूर्त रूप से तर्क करने की क्षमता के आकलन हेतु वस्तुनिष्ठ परीक्षण

Options :

61547532977. 1

61547532978. 2

61547532979. 3

61547532980. 4

Question Number : 21 Question Id : 6154758460 Question Type : MCQ Option Shuffling : No Display Question Number : Yes  
Single Line Question Option : No Option Orientation : Vertical

Correct Marks : 2 Wrong Marks : 0

Which among the following is NOT related to qualitative research?

- (1) Thematic analysis
- (2) Case study
- (3) Discourse analysis
- (4) Survey method

Options :

61547532981. 1

61547532982. 2

61547532983. 3

61547532984. 4

Question Number : 21 Question Id : 6154758460 Question Type : MCQ Option Shuffling : No Display Question Number : Yes  
Single Line Question Option : No Option Orientation : Vertical

Correct Marks : 2 Wrong Marks : 0

निम्नलिखित में से कौन सा गुणात्मक शोध से संबंधित नहीं है?

- (1) प्रकरणात्मक विश्लेषण
- (2) व्यक्ति अध्ययन
- (3) प्रोक्ति विश्लेषण
- (4) सर्वेक्षण विधि

Options :

61547532981. 1

61547532982. 2

61547532983. 3



61547532984. 4

Question Number : 22 Question Id : 6154758461 Question Type : MCQ Option Shuffling : No Display Question Number : Yes  
Single Line Question Option : No Option Orientation : Vertical

Correct Marks : 2 Wrong Marks : 0

In Social Sciences, a central issue is the question of whether the social world can be studied using the methods of natural sciences. This statement refers to the issue of :

- |                  |               |
|------------------|---------------|
| (1) Ontology     | (2) Axiology  |
| (3) Epistemology | (4) Etymology |

Options :

61547532985. 1  
61547532986. 2  
61547532987. 3  
61547532988. 4

Question Number : 22 Question Id : 6154758461 Question Type : MCQ Option Shuffling : No Display Question Number : Yes  
Single Line Question Option : No Option Orientation : Vertical

Correct Marks : 2 Wrong Marks : 0

सामाजिक विज्ञान में केन्द्रीय मुद्दा यह प्रश्न है कि क्या प्राकृतिक विज्ञान की विधियों का प्रयोग कर सामाजिक दुनिया का अध्ययन किया जा सकता है। यह कथन किस विषय की ओर संकेत करता है?

- |                  |                        |
|------------------|------------------------|
| (1) सत्तामीमांसा | (2) मूल्य मीमांसा      |
| (3) ज्ञानमीमांसा | (4) व्युत्पत्ति-मूलकता |

Options :

61547532985. 1  
61547532986. 2  
61547532987. 3  
61547532988. 4

Question Number : 23 Question Id : 6154758462 Question Type : MCQ Option Shuffling : No Display Question Number : Yes  
Single Line Question Option : No Option Orientation : Vertical

Correct Marks : 2 Wrong Marks : 0

Which among the following is not the outcome of grounded theory research?

- |                |                |
|----------------|----------------|
| (1) Concepts   | (2) Narrative  |
| (3) Categories | (4) Hypotheses |

Options :

61547532989. 1  
61547532990. 2  
61547532991. 3  
61547532992. 4

Question Number : 23 Question Id : 6154758462 Question Type : MCQ Option Shuffling : No Display Question Number : Yes  
Single Line Question Option : No Option Orientation : Vertical

Correct Marks : 2 Wrong Marks : 0

निम्नलिखित में से कौन सा शोध के आधारिक (ग्राउंडिड) सिद्धांत का परिणाम नहीं है?

(1) अवधारणाएँ

(2) आख्या

(3) श्रेणी

(4) परिकल्पना

**Options :**

61547532989. 1

61547532990. 2

61547532991. 3

61547532992. 4

**Question Number : 24 Question Id : 6154758463 Question Type : MCQ Option Shuffling : No Display Question Number : Yes  
Single Line Question Option : No Option Orientation : Vertical**

**Correct Marks : 2 Wrong Marks : 0**

Identify the factors that do not contribute to the effectiveness of teaching from the options given below :

(a) Socio – economic background of Teacher

(b) Teacher's skill in pleasing the students

(c) Teacher's subject knowledge

(d) Teacher's personal contact with students

Choose the correct option :

(1) (a), (c) and (d)

(2) (b), (c) and (d)

(3) (a), (b) and (c)

(4) (a), (b) and (d)

**Options :**

61547532993. 1

61547532994. 2

61547532995. 3

61547532996. 4

**Question Number : 24 Question Id : 6154758463 Question Type : MCQ Option Shuffling : No Display Question Number : Yes  
Single Line Question Option : No Option Orientation : Vertical**

**Correct Marks : 2 Wrong Marks : 0**

नीचे दिए गए विकल्पों से ऐसे कारकों की पहचान कीजिए जो शिक्षण की प्रभाविता में योगदान नहीं करते हैं:

- (a) शिक्षक की सामाजिक-आर्थिक पृष्ठभूमि
- (b) छात्रों को प्रसन्न करने में शिक्षक का कौशल
- (c) शिक्षक का विषय-ज्ञान
- (d) छात्रों के साथ शिक्षक का व्यक्तिगत संपर्क

सही विकल्प चुनिए :

- (1) (a), (c) और (d)
- (2) (b), (c) और (d)
- (3) (a), (b) और (c)
- (4) (a), (b) और (d)

**Options :**

- 61547532993. 1
- 61547532994. 2
- 61547532995. 3
- 61547532996. 4

**Question Number : 25 Question Id : 6154758464 Question Type : MCQ Option Shuffling : No Display Question Number : Yes Single Line Question Option : No Option Orientation : Vertical**

**Correct Marks : 2 Wrong Marks : 0**

Select the alternative features from the following, which make open universities as non-traditional universities :

- (a) Innovative method of teaching and learning
- (b) Innovative method of admission, curriculum and evaluation
- (c) Modern communication techniques
- (d) Teacher's friendly approaches

Select the correct option :

- (1) (b), (c) and (d) only
- (2) (a), (b) and (c) only
- (3) (a), (c) and (d) only
- (4) (a), (b) and (d) only

**Options :**

- 61547532997. 1

61547532998. 2

61547532999. 3

61547533000. 4

**Question Number : 25 Question Id : 6154758464 Question Type : MCQ Option Shuffling : No Display Question Number : Yes  
Single Line Question Option : No Option Orientation : Vertical**

**Correct Marks : 2 Wrong Marks : 0**

निम्नलिखित में से ऐसी वैकल्पिक विशिष्टताओं को चुनिए जो मुक्त विश्वविद्यालयों को गैर पारंपरिक विश्वविद्यालय बनाती है :

- (a) शिक्षण और ज्ञानार्जन के नवाचारी तरीके
- (b) प्रवेश, पाठ्यक्रम और मूल्यांकन के नवाचारी तरीके
- (c) आधुनिक संप्रेषण तकनीक
- (d) शिक्षकों का मित्रवत व्यवहार

सही विकल्प चुनिए :

- (1) केवल (b), (c) और (d)
- (2) केवल (a), (b) और (c)
- (3) केवल (a), (c) और (d)
- (4) केवल (a), (b) और (d)

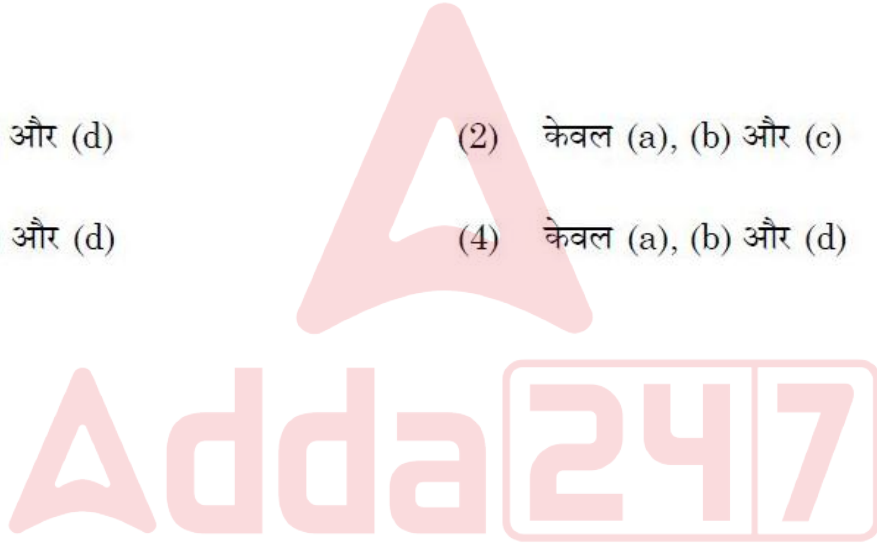
**Options :**

61547532997. 1

61547532998. 2

61547532999. 3

61547533000. 4



**Question Number : 26 Question Id : 6154758465 Question Type : MCQ Option Shuffling : No Display Question Number : Yes  
Single Line Question Option : No Option Orientation : Vertical**

**Correct Marks : 2 Wrong Marks : 0**

Regarding E-governance, which of the following statements is / are correct?

- (a) Decreasing transparency is an ICT enabled advantage of E-Governance.
- (b) E-governance is related to the implementation of ICT in the government processes and functions.
- (c) Common Service Centres (CSCs) help in providing and using E-Governance related services.

Choose the correct option :

- (1) (a), (b), and (c)
- (2) (b) and (c) only
- (3) (a) and (c) only
- (4) (a) and (b) only

Options :

- 61547533001. 1
- 61547533002. 2
- 61547533003. 3
- 61547533004. 4

Question Number : 26 Question Id : 6154758465 Question Type : MCQ Option Shuffling : No Display Question Number : Yes  
Single Line Question Option : No Option Orientation : Vertical

Correct Marks : 2 Wrong Marks : 0

ई-शासन के संबंध में निम्नलिखित में से कौन से कथन सही हैं?

- (a) हासमान पारदर्शिता ई-शासन का एक आई सी टी समर्थित लाभ है।
- (b) ई-शासन का संबंध सरकारी प्रक्रियाओं और कार्यों में आई सी टी के क्रियान्वयन से संबंधित है।
- (c) सामूहिक सेवा केन्द्र (सी एस सी) ई-शासन संबंधित सेवाओं को उपलब्ध कराने और उनके प्रयोग में सहायक है।

सही विकल्प चुनिए :

- (1) (a), (b) और (c)
- (2) केवल (b) और (c)
- (3) केवल (a) और (c)
- (4) केवल (a) और (b)

Options :

- 61547533001. 1
- 61547533002. 2

61547533003. 3

61547533004. 4

Question Number : 27 Question Id : 6154758466 Question Type : MCQ Option Shuffling : No Display Question Number : Yes  
Single Line Question Option : No Option Orientation : Vertical

Correct Marks : 2 Wrong Marks : 0

Which of the following statements is / are correct?

- (a) Software is loaded into secondary storage from RAM and is then executed by the CPU.
- (b) A search engine is a software system that is designed to search for information on the www.

Choose the correct option :

- (1) (a) only
- (2) (b) only
- (3) Both (a) and (b)
- (4) Neither (a) nor (b)

Options :

61547533005. 1

61547533006. 2

61547533007. 3

61547533008. 4

Question Number : 27 Question Id : 6154758466 Question Type : MCQ Option Shuffling : No Display Question Number : Yes  
Single Line Question Option : No Option Orientation : Vertical

Correct Marks : 2 Wrong Marks : 0

निम्नलिखित में से कौन सा/से कथन सही हैं?

- (a) सॉफ्टवेयर को आर ए एम से सेकेंडरी स्टोरेज में रखा जाता है और फिर सी पी यू द्वारा क्रियान्वित होता है।
- (b) सर्च इंजिन ऐसी सॉफ्टवेयर प्रणाली है जो विश्वव्यापी वेब (डब्ल्यू डब्ल्यू डब्ल्यू) पर सूचना तलाश करने के लिए अभिकल्पित किया गया है।

सही विकल्प चुनिए :

- (1) केवल (a)
- (2) केवल (b)
- (3) (a) और (b) दोनों
- (4) (a) और (b) दोनों में से कोई नहीं

**Options :**

61547533005. 1

61547533006. 2

61547533007. 3

61547533008. 4

**Question Number : 28 Question Id : 6154758467 Question Type : MCQ Option Shuffling : No Display Question Number : Yes  
Single Line Question Option : No Option Orientation : Vertical**

**Correct Marks : 2 Wrong Marks : 0**

Given below is a question followed by three statements. Identify the statements that are necessary to answer the question.

**Question :** What is the percentage profit gained by a vendor when he sells an article?

**Statements :**

- (a) He gives a 10% discount on the marked price.
- (b) He would have earned 25% profit if he did not give any discount.
- (c) The cost price of the article is Rs.8000.

Choose the correct option from those given below :

- (1) (a) and (b) only
- (2) (b) and (c) only
- (3) (a) and (c) only
- (4) (a), (b) and (c)

**Options :**

61547533009. 1

61547533010. 2

61547533011. 3

61547533012. 4

**Question Number : 28 Question Id : 6154758467 Question Type : MCQ Option Shuffling : No Display Question Number : Yes  
Single Line Question Option : No Option Orientation : Vertical**

**Correct Marks : 2 Wrong Marks : 0**

नीचे एक प्रश्न दिया गया है जिसके बाद तीन कथन प्रस्तुत हैं। उन कथनों की पहचान करनी है जो प्रश्न के उत्तर के लिए आवश्यक हैं:

प्रश्न: एक विक्रेता द्वारा एक वस्तु की बिक्री पर उसे कितने प्रतिशत लाभ होता है?

कथन:

- (a) वह मुद्रित मूल्य पर 10 प्रतिशत छूट देता है।
- (b) यदि वह कोई छूट नहीं देता तो उसे 25% लाभ होता।
- (c) वस्तु का लागत मूल्य 8000 रुपये है।

नीचे दिये गये विकल्पों में से सही विकल्प चुनिए :

- (1) केवल (a) और (b)
- (2) केवल (b) और (c)
- (3) केवल (a) और (c)
- (4) (a), (b) और (c)

Options :

- 61547533009. 1
- 61547533010. 2
- 61547533011. 3
- 61547533012. 4

Question Number : 29 Question Id : 6154758468 Question Type : MCQ Option Shuffling : No Display Question Number : Yes  
Single Line Question Option : No Option Orientation : Vertical

Correct Marks : 2 Wrong Marks : 0

Which of the following statements are true about a fuel cell?

- (a) It is a device that uses electrochemical reactions to produce electric current
- (b) It consists of a positive electrode and a negative electrode separated by an electrolyte
- (c) Just like batteries it needs to be recharged with an electric current

Choose the correct option from those given below :

- (1) (a) and (b) only
- (2) (b) and (c) only
- (3) (a) and (c) only
- (4) (a), (b) and (c)

Options :

- 61547533013. 1
- 61547533014. 2



61547533015. 3

61547533016. 4

Question Number : 29 Question Id : 6154758468 Question Type : MCQ Option Shuffling : No Display Question Number : Yes  
Single Line Question Option : No Option Orientation : Vertical

Correct Marks : 2 Wrong Marks : 0

ईंधन प्रकोष्ठ के बारे में निम्नलिखित कथनों में से कौन से सही हैं?

- (a) यह एक ऐसी युक्ति है जो विद्युत करंट उत्पन्न करने के लिए विद्युत-रासायनिक प्रतिक्रिया का प्रयोग करती है।
- (b) इसमें एक पाजिटिव इलेक्ट्रोड और एक नेगेटिव इलेक्ट्रोड होता है जो इलेक्ट्रोलाइट से एक दूसरे से विलग होते हैं।
- (c) बैटरी की तरह इसको भी विद्युत करंट से चार्ज किए जाने की आवश्यकता होती है।

उपर्युक्त में से कौन से कथन सही हैं?

नीचे दिये गये विकल्पों में से सही विकल्प का चयन कीजिए :

- (1) केवल (a) और (b)
- (2) केवल (b) और (c)
- (3) केवल (a) और (c)
- (4) (a), (b) और (c)

Options :

61547533013. 1

61547533014. 2

61547533015. 3

61547533016. 4



Question Number : 30 Question Id : 6154758469 Question Type : MCQ Option Shuffling : No Display Question Number : Yes  
Single Line Question Option : No Option Orientation : Vertical

Correct Marks : 2 Wrong Marks : 0

Consider the following statements with reference to the proposition "Some girls are not students"

- (a) Subject term students is distributed
- (b) Predicate term girls is undistributed
- (c) Predicate term students is distributed
- (d) Subject term girls is undistributed

Choose the correct option from those given below:

- (1) Only (a) and (c) are correct
- (2) Only (b) and (c) are correct
- (3) Only (a) and (d) are correct
- (4) Only (c) and (d) are correct

**Options :**

61547533017. 1

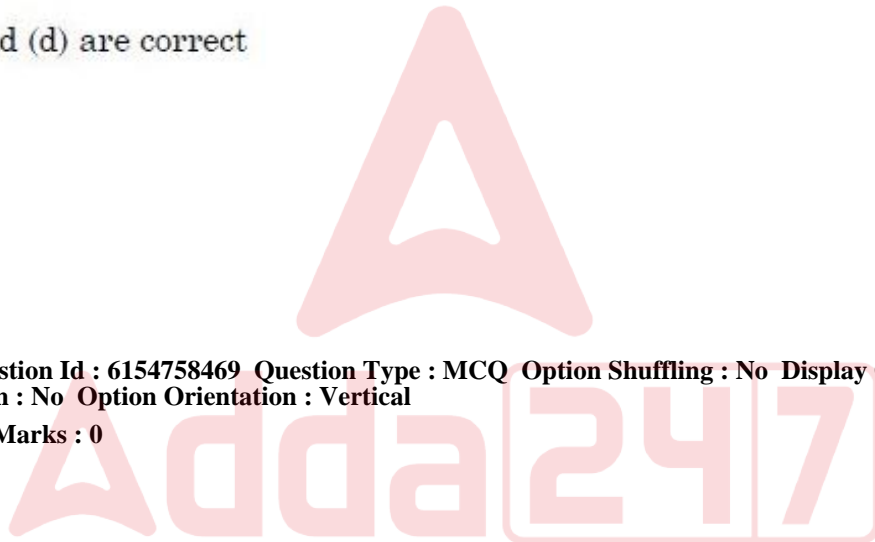
61547533018. 2

61547533019. 3

61547533020. 4

Question Number : 30 Question Id : 6154758469 Question Type : MCQ Option Shuffling : No Display Question Number : Yes  
Single Line Question Option : No Option Orientation : Vertical

Correct Marks : 2 Wrong Marks : 0



‘कुछ लड़कियाँ विद्यार्थी नहीं हैं’। तर्कवाक्य के संदर्भ में निम्नलिखित कथनों पर विचार कीजिए :

- (a) कर्ता शब्द विद्यार्थी वितरित है।
- (b) विधेय शब्द लड़कियाँ वितरित नहीं है।
- (c) विधेय शब्द विद्यार्थी वितरित है।
- (d) कर्ता शब्द लड़कियाँ वितरित नहीं है।

निम्नलिखित से सही विकल्प चुनिए :

- (1) केवल (a) और (c) सही हैं
- (2) केवल (b) और (c) सही हैं
- (3) केवल (a) और (d) सही हैं
- (4) केवल (c) और (d) सही हैं

Options :

- 61547533017. 1
- 61547533018. 2
- 61547533019. 3
- 61547533020. 4

Question Number : 31 Question Id : 6154758470 Question Type : MCQ Option Shuffling : No Display Question Number : Yes  
Single Line Question Option : No Option Orientation : Vertical

Correct Marks : 2 Wrong Marks : 0

Choose two factors that do NOT affect the academic performance of students adversely :

- (a) Low self – efficacy belief
- (b) Belief in God
- (c) Indifferent attitude towards politics
- (d) Teacher's low expectation from students

Choose the correct option :

- (1) (a) and (b) only
- (2) (b) and (c) only
- (3) (c) and (d) only
- (4) (b) and (d) only

**Options :**

61547533021. 1

61547533022. 2

61547533023. 3

61547533024. 4

**Question Number : 31 Question Id : 6154758470 Question Type : MCQ Option Shuffling : No Display Question Number : Yes  
Single Line Question Option : No Option Orientation : Vertical**

**Correct Marks : 2 Wrong Marks : 0**



निम्नलिखित कारकों की पहचान करें जो छात्रों के अकादमिक प्रदर्शन पर प्रतिकूल प्रभाव डालते हैं?

- (a) निम्न आत्म सामर्थ्य
- (b) ईश्वर में आस्था
- (c) राजनीति के प्रति उदासीन दृष्टिकोण
- (d) शिक्षकों का छात्रों से निम्न प्रत्याशा

सही विकल्प की पहचान करें -

- (1) केवल (a) और (b)
- (2) केवल (b) और (c)
- (3) केवल (c) और (d)
- (4) केवल (b) और (d)

**Options :**

- 61547533021. 1
- 61547533022. 2
- 61547533023. 3
- 61547533024. 4

Question Number : 32 Question Id : 6154758471 Question Type : MCQ Option Shuffling : No Display Question Number : Yes  
Single Line Question Option : No Option Orientation : Vertical  
Correct Marks : 2 Wrong Marks : 0

Which of the two statements from the following statements are correct?

- (a) Sampling – related error is subsumed under the category non-sampling error
- (b) Sampling error doesn't occur in multi-stage cluster sampling
- (c) Inaccurate sampling frame and non-response are examples of sampling – related error.
- (d) There is an inverse relation between heterogeneity of population and sampling error.

Choose the correct option :

- (1) (a) and (c) only
- (2) (a) and (d) only
- (3) (b) and (d) only
- (4) (b) and (c) only

**Options :**

61547533025. 1

61547533026. 2

61547533027. 3

61547533028. 4

Question Number : 32 Question Id : 6154758471 Question Type : MCQ Option Shuffling : No Display Question Number : Yes  
Single Line Question Option : No Option Orientation : Vertical

Correct Marks : 2 Wrong Marks : 0



निम्नलिखित कथनों में से कौन से दो कथन सही हैं?

- (a) प्रतिदर्श- यह उस त्रुटि से संबंधित है जो गैर-प्रतिदर्श त्रुटि की श्रेणी में आता है।
- (b) प्रतिदर्श त्रुटि बहुस्तरीय समूह प्रतिदर्श में नहीं होती है।
- (c) गलत प्रतिदर्श ढांचा और प्रतिक्रिया न देना प्रतिदर्श से जुड़ी त्रुटि के उदाहरण हैं।
- (d) जनसंख्या की विजातीयता और प्रतिदर्श त्रुटि के बीच एक प्रतिलोम सम्बन्ध होता है।

सही विकल्प चुनें :

- (1) केवल (a) और (c)
- (2) केवल (a) और (d)
- (3) केवल (b) और (d)
- (4) केवल (b) और (c)

Options :

61547533025. 1

61547533026. 2

61547533027. 3

61547533028. 4



Question Number : 33 Question Id : 6154758472 Question Type : MCQ Option Shuffling : No Display Question Number : Yes  
Single Line Question Option : No Option Orientation : Vertical

Correct Marks : 2 Wrong Marks : 0

Match the following historic places with their distinguishing discipline of learning

List I Historic places	List II Discipline
(a) Takshila	(i) Astronomy
(b) Ujjain	(ii) Buddhism
(c) Sarnath	(iii) Art, Architecture and Painting
(d) Ajanta	(iv) Medicine

Choose the correct option from those given below :

- (1) (a)-(i), (b)-(ii), (c)-(iii), (d)-(iv)
- (2) (a)-(ii), (b)-(i), (c)-(iv), (d)-(iii)
- (3) (a)-(iii), (b)-(iv), (c)-(ii), (d)-(i)
- (4) (a)-(iv), (b)-(i), (c)-(ii), (d)-(iii)

Options :

61547533029. 1  
61547533030. 2  
61547533031. 3  
61547533032. 4

Question Number : 33 Question Id : 6154758472 Question Type : MCQ Option Shuffling : No Display Question Number : Yes  
Single Line Question Option : No Option Orientation : Vertical

Correct Marks : 2 Wrong Marks : 0





निम्नलिखित स्थानों को ज्ञानार्जन के उनके विशिष्ट विषयों के साथ सुमेलित कीजिए :

I  
(ऐतिहासिक स्थान)

II  
(विद्या)

- (a) तक्षशिला  
(b) उज्जैन  
(c) सारनाथ  
(d) अजंता

- (i) खगोल शास्त्र  
(ii) बौद्धधर्म  
(iii) कला, वास्तुशास्त्र और चित्रकला  
(iv) चिकित्सा

निम्नलिखित में से सही विकल्प चुनिए :

⊕

- (1) (a)-(i), (b)-(ii), (c)-(iii), (d)-(iv)  
(2) (a)-(ii), (b)-(i), (c)-(iv), (d)-(iii)  
(3) (a)-(iii), (b)-(iv), (c)-(ii), (d)-(i)  
(4) (a)-(iv), (b)-(i), (c)-(ii), (d)-(iii)

Options :

61547533029. 1  
61547533030. 2  
61547533031. 3  
61547533032. 4

Adda247

Question Number : 34 Question Id : 6154758473 Question Type : MCQ Option Shuffling : No Display Question Number : Yes  
Single Line Question Option : No Option Orientation : Vertical

Correct Marks : 2 Wrong Marks : 0

Match the following soil orders with their descriptions

- |               |   |
|---------------|---|
| (a) Histosols | (i) Soil order that includes soils formed on volcanic ash                       |
| (b) Andisols  | (ii) Soil order of cold regions including soils underlain by permafrost         |
| (c) Gelisols  | (iii) Soil order consisting of soils of dry climates                            |
| (d) Aridisols | (iv) Soil order consisting of soils with a thick upper layer of organic matter. |

Choose the correct option from those given below :

- (1) (a)-(iv), (b)-(i), (c)-(ii), (d)-(iii)
- (2) (a)-(ii), (b)-(iv), (c)-(i), (d)-(iii)
- (3) (a)-(i), (b)-(ii), (c)-(iii), (d)-(iv)
- (4) (a)-(i), (b)-(ii), (c)-(iv), (d)-(iii)

Options :

61547533033. 1

61547533034. 2

61547533035. 3

61547533036. 4

Question Number : 34 Question Id : 6154758473 Question Type : MCQ Option Shuffling : No Display Question Number : Yes  
Single Line Question Option : No Option Orientation : Vertical

Correct Marks : 2 Wrong Marks : 0

निम्नलिखित मृदा क्रम को उनके वर्णन के अनुरूप सजाइए :

- |               |   |
|---------------|---|
| (a) हिस्टोसोल | (i) इस मृदा क्रम में ज्वालामुखी से निकली राख शामिल होती है      |
| (b) एंडीसोल   | (ii) परमाफ्रास्ट द्वारा ढकी हुई मृदा सहित शीत क्षेत्रों की मृदा |
| (c) जेलीसोल   | (iii) शुष्क जलवायु के मृदा क्रम को जोड़ने वाले मृदा क्रम        |
| (d) एरिडसोल   | (iv) मृदा क्रम जिसमें उपरी पर्त में जैविक पदार्थ हों            |

नीचे दिए गए विकल्पों में से सही विकल्प का चयन करें :

- (1) (a)-(iv), (b)-(i), (c)-(ii), (d)-(iii)
- (2) (a)-(ii), (b)-(iv), (c)-(i), (d)-(iii)
- (3) (a)-(i), (b)-(ii), (c)-(iii), (d)-(iv)
- (4) (a)-(i), (b)-(ii), (c)-(iv), (d)-(iii)

Options :

61547533033. 1

61547533034. 2

61547533035. 3

61547533036. 4

Question Number : 35 Question Id : 6154758474 Question Type : MCQ Option Shuffling : No Display Question Number : Yes  
Single Line Question Option : No Option Orientation : Vertical

Correct Marks : 2 Wrong Marks : 0

Match List – I with List - II

List I

(Digital Initiative)

- (a) UMANG
- (b) BHIM
- (c) eBiz
- (d) SWAYAM

List II

(Purpose)

- (i) G2B Services
- (ii) Learning platform
- (iii) Unified payment interface
- (iv) Single point of access to all government services.

Choose the correct option :

- (1) (a)-(ii), (b)-(i), (c)-(iii), (d)-(iv)
- (2) (a)-(iii), (b)-(ii), (c)-(iv), (d)-(i)
- (3) (a)-(iv), (b)-(iii), (c)-(i), (d)-(ii)
- (4) (a)-(i), (b)-(iv), (c)-(ii), (d)-(iii)

Options :

61547533037. 1  
61547533038. 2  
61547533039. 3  
61547533040. 4

Question Number : 35 Question Id : 6154758474 Question Type : MCQ Option Shuffling : No Display Question Number : Yes  
Single Line Question Option : No Option Orientation : Vertical

Correct Marks : 2 Wrong Marks : 0

कृपया सूची एक को सूची दो से सुमेलित कीजिए :

सूची - एक  
(डिजिटल पहल)

सूची - दो  
(प्रयोजन)

- |           |  |
|-----------|--|
| (a) उमंग  | (i) जी 2 बी सेवाएं   |
| (b) भीम   | (ii) अधिगम पलेटफार्म   |
| (c) ई बिज | (iii) यूनिफाइड पेमेंट इंटरफेस                                  |
| (d) स्वयम | (iv) सभी सरकारी सेवाओं का लाभ लेने के लिए सिंगल प्वाइंट एक्सेस |

सही विकल्प का चयन करें :

- (1) (a)-(ii), (b)-(i), (c)-(iii), (d)-(iv)  
(2) (a)-(iii), (b)-(ii), (c)-(iv), (d)-(i)  
(3) (a)-(iv), (b)-(iii), (c)-(i), (d)-(ii)  
(4) (a)-(i), (b)-(iv), (c)-(ii), (d)-(iii)

Options :

61547533037. 1  
61547533038. 2  
61547533039. 3  
61547533040. 4

Question Number : 36 Question Id : 6154758475 Question Type : MCQ Option Shuffling : No Display Question Number : Yes  
Single Line Question Option : No Option Orientation : Vertical

Correct Marks : 2 Wrong Marks : 0

Match correctly the items of Column I with the items of column II

Column I

Column II

- (a) Ontology
- (b) Epistemology
- (c) Methodolgy
- (d) Method

- (i) Ideographic
- (ii) Realism
- (iii) Survey
- (iv) Positivism

Choose the correct option :

- (1) (a)-(ii), (b)-(iv), (c)-(iii), (d)-(i)
- (2) (a)-(ii), (b)-(i), (c)-(iii), (d)-(iv)
- (3) (a)-(iv), (b)-(ii), (c)-(i), (d)-(iii)
- (4) (a)-(ii), (b)-(iv), (c)-(i), (d)-(iii)

Options :

- 61547533041. 1
- 61547533042. 2
- 61547533043. 3
- 61547533044. 4

Question Number : 36 Question Id : 6154758475 Question Type : MCQ Option Shuffling : No Display Question Number : Yes  
Single Line Question Option : No Option Orientation : Vertical

Correct Marks : 2 Wrong Marks : 0

कॉलम-एक को कॉलम-दो से सुमेलित कीजिए :

कॉलम - एक

कॉलम - दो

- (a) सत्तामीमांसा
- (b) ज्ञानमीमांसा
- (c) प्रणाली विधि
- (d) प्रणाली
- (i) अइडियोग्रैफी
- (ii) वास्तविकतावाद
- (iii) सर्वेक्षण
- (iv) सकारात्मकतावाद

सही विकल्प चुनिए :

- (1) (a)-(ii), (b)-(iv), (c)-(iii), (d)-(i)
- (2) (a)-(ii), (b)-(i), (c)-(iii), (d)-(iv)
- (3) (a)-(iv), (b)-(ii), (c)-(i), (d)-(iii)
- (4) (a)-(ii), (b)-(iv), (c)-(i), (d)-(iii)

Options :

- 61547533041. 1
- 61547533042. 2

61547533043. 3

61547533044. 4

Question Number : 37 Question Id : 6154758476 Question Type : MCQ Option Shuffling : No Display Question Number : Yes  
Single Line Question Option : No Option Orientation : Vertical

Correct Marks : 2 Wrong Marks : 0

Select the advantage of feedback in the process of communication, from the following :

- (1) It is beneficial in understanding of the subject matter
- (2) It diagnoses the defects in receiver
- (3) It clarifies the communication
- (4) It explores the defects in receiver

Options :

61547533045. 1

61547533046. 2

61547533047. 3

61547533048. 4

Question Number : 37 Question Id : 6154758476 Question Type : MCQ Option Shuffling : No Display Question Number : Yes  
Single Line Question Option : No Option Orientation : Vertical

Correct Marks : 2 Wrong Marks : 0

निम्नलिखित में से संप्रेषण की प्रक्रिया में फीडबैक के लाभ को चुनिए :

- |  |  |
|--|--|
| (1) यह विषयवस्तु को समझने में लाभकारी है | (2) यह आदाता की कमियों का निदान करता है  |
| (3) यह संप्रेषण को स्पष्ट करता है        | (4) यह आदाता की कमियों की छानबीन करता है |

Options :

61547533045. 1

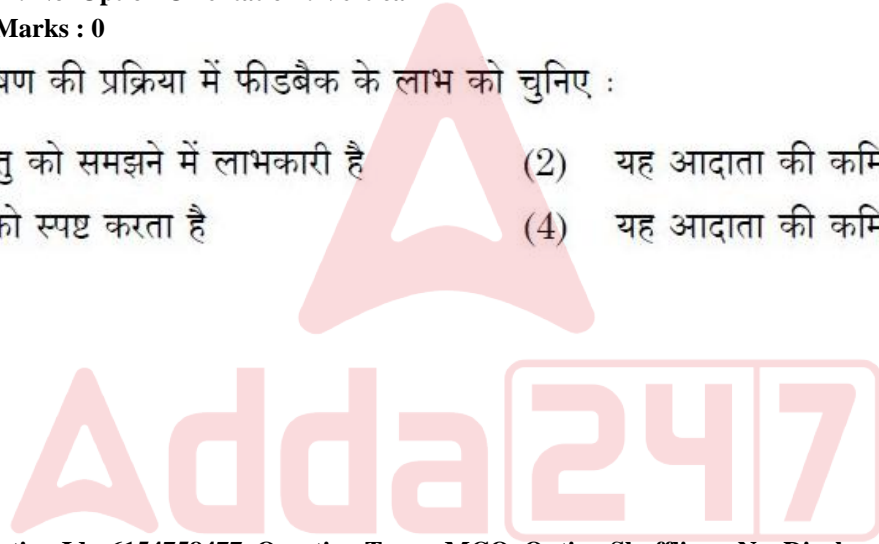
61547533046. 2

61547533047. 3

61547533048. 4

Question Number : 38 Question Id : 6154758477 Question Type : MCQ Option Shuffling : No Display Question Number : Yes  
Single Line Question Option : No Option Orientation : Vertical

Correct Marks : 2 Wrong Marks : 0



Match the following values with their distinguishing functions :

List I

List II

- |                  |   |
|------------------|---|
| (a) Sacrifice    | (i) Working in a stipulated time              |
| (b) Sincerity    | (ii) Confinement of individual mind on action |
| (c) Self control | (iii) Showing love and affection              |
| (d) Altruism     | (iv) Helping without selfish motives          |

Choose the correct option from those given below :

- (1) (a)-(ii), (b)-(i), (c)-(iv), (d)-(iii)
- (2) (a)-(iv), (b)-(i), (c)-(ii), (d)-(iii)
- (3) (a)-(iii), (b)-(iv), (c)-(i), (d)-(ii)
- (4) (a)-(i), (b)-(iii), (c)-(ii), (d)-(iv)

Options :

61547533049. 1

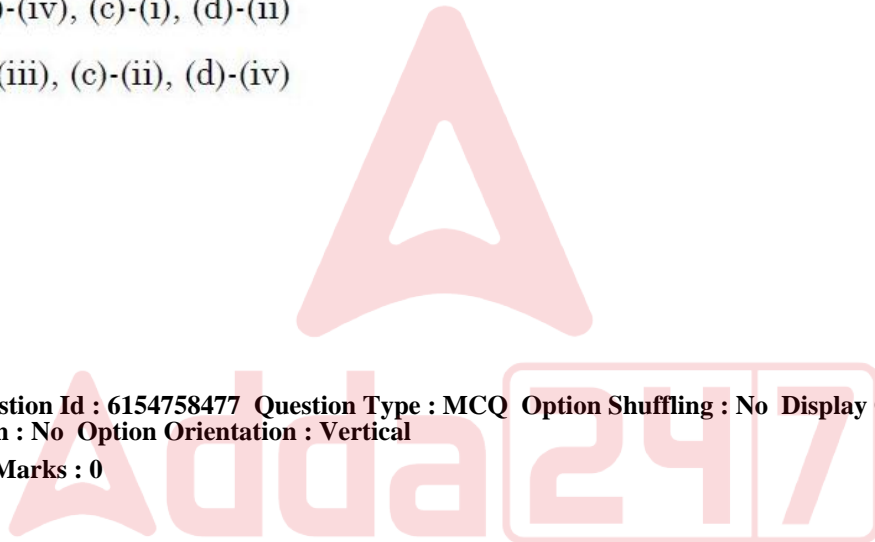
61547533050. 2

61547533051. 3

61547533052. 4

Question Number : 38 Question Id : 6154758477 Question Type : MCQ Option Shuffling : No Display Question Number : Yes  
Single Line Question Option : No Option Orientation : Vertical

Correct Marks : 2 Wrong Marks : 0



निम्नलिखित मूल्यों को उनके विशिष्ट कार्यों के साथ सुमेलित कीजिए :

- |                   |  |
|-------------------|--|
| (a) त्याग         | (i) निर्दिष्ट समय में कार्य करना                   |
| (b) सत्यनिष्ठा    | (ii) व्यक्ति के मस्तिष्क का कृत्य पर परिसीमित होना |
| (c) आत्म नियंत्रण | (iii) प्रेम और अनुराग प्रदर्शित करना               |
| (d) परोपकारिता    | (iv) स्वार्थ की मंशा के बिना सहायता करना           |

निम्नलिखित से सही विकल्प चुनिए :

- (1) (a)-(ii), (b)-(i), (c)-(iv), (d)-(iii)
- (2) (a)-(iv), (b)-(i), (c)-(ii), (d)-(iii)
- (3) (a)-(iii), (b)-(iv), (c)-(i), (d)-(ii)
- (4) (a)-(i), (b)-(iii), (c)-(ii), (d)-(iv)

Options :

61547533049. 1
61547533050. 2
61547533051. 3
61547533052. 4

Question Number : 39 Question Id : 6154758478 Question Type : MCQ Option Shuffling : No Display Question Number : Yes  
Single Line Question Option : No Option Orientation : Vertical

Correct Marks : 2 Wrong Marks : 0

Select the option that lists components for a cyberspace address (URL) in the correct order from beginning to end?

- (1) Protocol, domain name of the host, path / file
- (2) Path / file, protocol, domain name of the host
- (3) Protocol, path /file, domain name of the host
- (4) Domain name of the host, protocol, path / file

Options :

61547533053. 1
61547533054. 2
61547533055. 3
61547533056. 4

Question Number : 39 Question Id : 6154758478 Question Type : MCQ Option Shuffling : No Display Question Number : Yes  
Single Line Question Option : No Option Orientation : Vertical

Correct Marks : 2 Wrong Marks : 0



साइबर एड्रेस (यू आर एल) हेतु घटकों की सूची का विकल्प जो शुरु से अंत तक सही क्रम में हो, का चयन करें।

- (1) प्रोटोकॉल, होस्ट के डोमेन का नाम, पाथ/फाइल
- (2) पाथ/फाइल, प्रोटोकॉल, होस्ट के डोमेन का नाम
- (3) प्रोटोकॉल, पाथ/फाइल, होस्ट के डोमेन का नाम
- (4) होस्ट के डोमेन का नाम, प्रोटोकॉल, पाथ/फाइल

Options :

61547533053. 1  
61547533054. 2  
61547533055. 3  
61547533056. 4

Question Number : 40 Question Id : 6154758479 Question Type : MCQ Option Shuffling : No Display Question Number : Yes  
Single Line Question Option : No Option Orientation : Vertical

Correct Marks : 2 Wrong Marks : 0

Which of the following sequence represents the correct order of soil particles arranged in terms of particle size from the smallest to the largest?

- (1) Gravel, Silt, Clay, Sand
- (2) Silt, Clay, Gravel, Sand
- (3) Clay, Silt, Sand, Gravel
- (4) Silt, Clay, Sand, Gravel

Options :

61547533057. 1  
61547533058. 2  
61547533059. 3  
61547533060. 4

Question Number : 40 Question Id : 6154758479 Question Type : MCQ Option Shuffling : No Display Question Number : Yes  
Single Line Question Option : No Option Orientation : Vertical

Correct Marks : 2 Wrong Marks : 0

निम्नलिखित में से कौन सा अनुक्रम छोटे आकार से बड़े आकार के कणों के मृदा कण के क्रम का सही क्रम करता है?

- (1) बजरी, गाद, मिट्टी, बालू
- (2) गाद, मिट्टी, बजरी, बालू
- (3) मिट्टी, गाद, बालू, बजरी
- (4) गाद, मिट्टी, बालू, बजरी,

Options :

61547533057. 1  
61547533058. 2  
61547533059. 3  
61547533060. 4

Question Number : 41 Question Id : 6154758480 Question Type : MCQ Option Shuffling : No Display Question Number : Yes  
Single Line Question Option : No Option Orientation : Vertical

Correct Marks : 2 Wrong Marks : 0

Arrange the steps of research in the sequence in which they are presented in the thesis

- (1) Discussion, Review of Literature, Results, Conceptual Framework, Problem
- (2) Review of Literature, Problem, Conceptual Framework, Result, Discussion
- (3) Problem, Review of Literature, Conceptual Framework, Results, Discussion
- (4) Problem, Review of Literature, Conceptual Framework, Results, Discussion

**Options :**

61547533061. 1

61547533062. 2

61547533063. 3

61547533064. 4

**Question Number : 41 Question Id : 6154758480 Question Type : MCQ Option Shuffling : No Display Question Number : Yes  
Single Line Question Option : No Option Orientation : Vertical**

**Correct Marks : 2 Wrong Marks : 0**

शोध-सोपानों को शोध-प्रबन्ध में प्रस्तुत करते समय किस क्रम में दर्शाया जाता है ?

- (1) परिचर्चा, साहित्य की समीक्षा, परिणाम, अवधारणा ढांचा, समस्या
- (2) साहित्य की समीक्षा, समस्या, अवधारणा ढांचा, परिणाम, परिचर्चा
- (3) समस्या, साहित्य की समीक्षा, अवधारणा ढांचा, परिचर्चा
- (4) समस्या, साहित्य की समीक्षा, अवधारणा ढांचा, परिचर्चा

**Options :**

61547533061. 1

61547533062. 2

61547533063. 3

61547533064. 4

**Question Number : 42 Question Id : 6154758481 Question Type : MCQ Option Shuffling : No Display Question Number : Yes  
Single Line Question Option : No Option Orientation : Vertical**

**Correct Marks : 2 Wrong Marks : 0**

Adda247

Given below are two statements - one is labeled as Assertion (A) and the other is labeled as Reason (R):

Assertion (A) : Through on-line teaching a large number of students can be taught by very competent faculty.

Reason (R) : On-line teaching helps students in developing critical thinking more than the Off –line teaching can do.

In the light of the above two statements choose the correct option :

- (1) Both (A) and (R) are true and (R) is the correct explanation of (A)
- (2) Both (A) and (R) are true and (R) is not the correct explanation of (A)
- (3) (A) is true, but (R) is false
- (4) (A) is false, but (R) is true

**Options :**

61547533065. 1

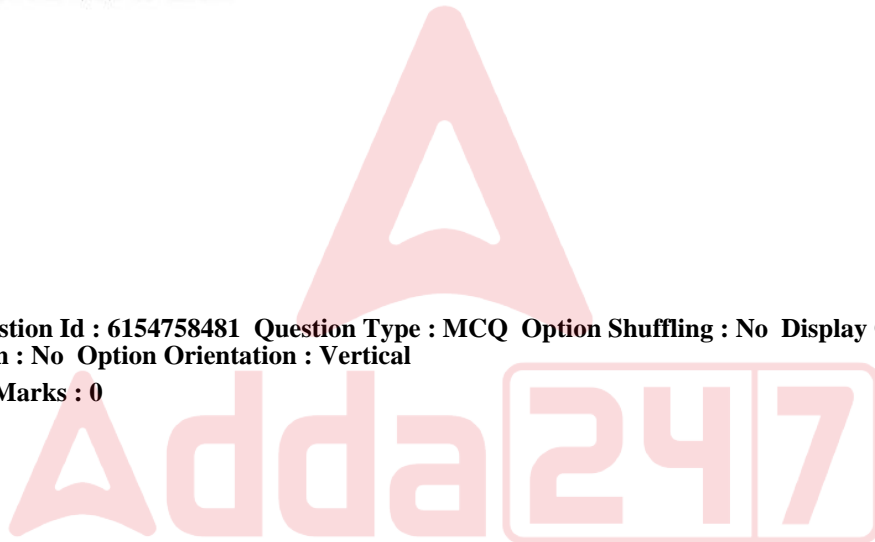
61547533066. 2

61547533067. 3

61547533068. 4

**Question Number : 42 Question Id : 6154758481 Question Type : MCQ Option Shuffling : No Display Question Number : Yes  
Single Line Question Option : No Option Orientation : Vertical**

**Correct Marks : 2 Wrong Marks : 0**



नीचे दो कथन दिए गए हैं- अभिकथन (A) और दूसरे तर्क (R) है :

अभिकथन (A) : ऑन लाइन शिक्षण के माध्यम से बहुत कुशल-वृत्तिकों द्वारा बड़ी संख्या में छात्रों को पढाया जा सकता है।

तर्क (R) : ऑन लाइन शिक्षण ऑफ लाइन शिक्षण की तुलना में छात्रों में आलोचनात्मक सोच के विकास में मदद करता है।

उपर्युक्त कथनों के आलोक में सही विकल्प का चयन करें :

- (1) (A) और (R) दोनों सही हैं और (R) (A) की सही व्याख्या है।
- (2) (A) और (R) दोनों सही हैं किंतु (R) (A) की सही व्याख्या नहीं है।
- (3) (A) सही है किंतु (R) गलत है।
- (4) (A) गलत है किंतु (R) सही है।

Options :

61547533065. 1
61547533066. 2
61547533067. 3
61547533068. 4

Question Number : 43 Question Id : 6154758482 Question Type : MCQ Option Shuffling : No Display Question Number : Yes  
Single Line Question Option : No Option Orientation : Vertical

Correct Marks : 2 Wrong Marks : 0

Given below are two statements - one is labeled as Assertion (A) and the other is labeled as Reason (R):

Assertion (A) : A blog is a form of social media.

Reason (R) : A blog allows anyone to communicate to a public audience.

In the light of the above two statements, choose the correct option :

- (1) Both (A) and (R) are true and (R) is the correct explanation of (A)
- (2) Both (A) and (R) are true and (R) is not the correct explanation of (A)
- (3) (A) is true, but (R) is false
- (4) (A) is false, but (R) is true

Options :

61547533069. 1

61547533070. 2

61547533071. 3

61547533072. 4

Question Number : 43 Question Id : 6154758482 Question Type : MCQ Option Shuffling : No Display Question Number : Yes  
Single Line Question Option : No Option Orientation : Vertical

Correct Marks : 2 Wrong Marks : 0

नीचे दो कथन दिए गए हैं- पहला अभिकथन (A) है और दूसरे तर्क (R) है :

अभिकथन (A) : ब्लॉग सोशल मीडिया का एक रूप है।

तर्क (R) : ब्लॉग के माध्यम से कोई व्यक्ति आम जनता से बात कर सकता है।

उपर्युक्त दो कथनों के आलोक में सही विकल्प का चयन करें :

- (1) (A) और (R) दोनों सही हैं और (R) (A) की सही व्याख्या है।
- (2) (A) और (R) दोनों सही हैं और (R) (A) की सही व्याख्या नहीं है।
- (3) (A) सही है किंतु (R) गलत है।
- (4) (A) गलत है किंतु (R) सही है।

Options :

61547533069. 1

61547533070. 2

61547533071. 3

61547533072. 4

Question Number : 44 Question Id : 6154758483 Question Type : MCQ Option Shuffling : No Display Question Number : Yes  
Single Line Question Option : No Option Orientation : Vertical

Correct Marks : 2 Wrong Marks : 0

Given below are two statements - one is labeled as Assertion (A) and the other is labeled as Reason (R):

Assertion (A) : Skill development is a key feature in every individual's life.

Reason (R) : An individual who wants to get employed, needs to possess good education only.

In the context of above two statements, choose the correct option :

- (1) Both (A) and (R) are true and (R) is the correct explanation of (A)
- (2) Both (A) and (R) are true but (R) is not the correct explanation of (A)
- (3) (A) is true, but (R) is false
- (4) (A) is false, but (R) is true

Options :

61547533073. 1

61547533074. 2

61547533075. 3

61547533076. 4

Question Number : 44 Question Id : 6154758483 Question Type : MCQ Option Shuffling : No Display Question Number : Yes  
Single Line Question Option : No Option Orientation : Vertical

Correct Marks : 2 Wrong Marks : 0

नीचे दो कथन दिए गए हैं- एक को अभिकथन (A) और दूसरे को तर्क (R) कहा गया है :

अभिकथन (A) : प्रत्येक व्यक्ति के जीवन में कौशल विकास एक प्रमुख अभिलक्षण है।

तर्क (R) : रोजगार प्राप्त करने की इच्छा वाले व्यक्ति को केवल अच्छी शिक्षा की आवश्यकता होती है।

उपर्युक्त दोनों कथनों के संदर्भ में, सही विकल्प चुनिए :

- (1) (A) और (R) दोनों सही हैं और (A) की सही व्याख्या (R) है।
- (2) (A) और (R) दोनों सही हैं परन्तु, (A) की सही व्याख्या (R) नहीं है।
- (3) (A) सही है, परन्तु (R) गलत है।
- (4) (A) गलत है, परन्तु (R) सही है।

Options :

61547533073. 1

61547533074. 2

61547533075. 3

61547533076. 4

**Question Number : 45 Question Id : 6154758484 Question Type : MCQ Option Shuffling : No Display Question Number : Yes  
Single Line Question Option : No Option Orientation : Vertical**

**Correct Marks : 2 Wrong Marks : 0**

Given below are two statements - one is labeled as Assertion (A) and the other is labeled as Reason (R):

Assertion (A) : Government of India established higher educational statutory bodies to ensure quality of education.

Reason (R) : There are some educational institutions in India which do not provide quality education.

In the context of above two statements, choose the correct option :

- (1) Both (A) and (R) are true and (R) is the correct explanation of (A)
- (2) Both (A) and (R) are true but (R) is not the correct explanation of (A)
- (3) (A) is true, but (R) is false
- (4) (A) is false, but (R) is true

**Options :**

61547533077. 1

61547533078. 2

61547533079. 3

61547533080. 4

**Question Number : 45 Question Id : 6154758484 Question Type : MCQ Option Shuffling : No Display Question Number : Yes  
Single Line Question Option : No Option Orientation : Vertical**

**Correct Marks : 2 Wrong Marks : 0**

नीचे दो कथन दिए गए हैं- एक को अभिकथन (A) और दूसरे को तर्क (R) कहा गया है :

अभिकथन (A) : भारत सरकार ने शिक्षा की गुणवत्ता सुनिश्चित करने के लिए उच्च शिक्षा के सांविधिक निकायों की स्थापना की है।

तर्क (R) : भारत में कुछ शैक्षणिक संस्थान ऐसे हैं जो गुणवत्तापूर्ण शिक्षा प्रदान नहीं करते हैं।

उपर्युक्त दोनों कथनों के संदर्भ में सही विकल्प चुनिए :

- (1) (A) और (R) दोनों सही हैं और (A) की सही व्याख्या (R) है।
- (2) (A) और (R) दोनों सही हैं परन्तु, (A) की सही व्याख्या (R) नहीं है।
- (3) (A) सही है परन्तु, (R) गलत है।
- (4) (A) गलत है परन्तु, (R) सही है।

Options :

61547533077. 1

61547533078. 2

61547533079. 3

61547533080. 4

Sub-Section Number: 3  
Sub-Section Id: 615475372  
Question Shuffling Allowed : Yes

Question Id : 6154758485 Question Type : COMPREHENSION Sub Question Shuffling Allowed : Yes Group Comprehension Questions : No

Question Numbers : (46 to 50)

Question Label : Comprehension



Read the following passage and answer questions which follow.

Eventhough globalisation is one of the most discussed topics in the contemporary world, it is not altogether a well defined concept. A multitude of global interactions are put under the broad heading of globalisation, varying from the expansion of cultural and scientific influences across borders to the enlargement of economic and business relations throughout the world. A wholesale rejection of globalisation would not only go against global business, it would also cut out movements of ideas, understanding, and knowledge that can help all the people of the world, including the most disadvantaged members of the world population. A comprehensive rejection of globalisation can thus be powerfully counterproductive. There is a strong need to separate out the different questions that appear merged together in the rhetoric of the antiglobalisation protests. The globalisation of knowledge deserves a particularly high profile recognition, despite all the good things that can be rightly said about the importance of "Local knowledge".

Globalisation is often seen, both in journalistic discussions and in remarkably many academic writings, as a process of westernization. Indeed, some who take an upbeat view of the phenomenon even sees it as a contribution of Western civilization to the world.

#### Sub questions

Question Number : 46 Question Id : 6154758486 Question Type : MCQ Option Shuffling : No Display Question Number : Yes  
Single Line Question Option : No Option Orientation : Vertical  
Correct Marks : 2 Wrong Marks : 0

According to the passage, which one of the following is not a well defined concept?

- (1) Multiculturalism
- (2) Identity
- (3) Globalisation
- (4) Local Knowledge

Options :

- 61547533081. 1
- 61547533082. 2
- 61547533083. 3
- 61547533084. 4

Question Number : 47 Question Id : 6154758487 Question Type : MCQ Option Shuffling : No Display Question Number : Yes  
Single Line Question Option : No Option Orientation : Vertical  
Correct Marks : 2 Wrong Marks : 0

According to the passage, which one of the following is counter productive?

- (1) Comprehensive support to globalisation
- (2) Wholesale rejection of globalisation
- (3) Comprehensive rejection of anti – globalisation protests
- (4) Recognition of local knowledge systems

Options :

- 61547533085. 1
- 61547533086. 2
- 61547533087. 3
- 61547533088. 4

**Question Number : 48 Question Id : 6154758488 Question Type : MCQ Option Shuffling : No Display Question Number : Yes**  
**Single Line Question Option : No Option Orientation : Vertical**

**Correct Marks : 2 Wrong Marks : 0**

According to the passage, globalisation is perceived often by media and academia as :

- (1) Supporting local knowledge systems
- (2) Detrimental to local knowledge systems
- (3) A process of Westernisation
- (4) A process of facilitating global bussiness

**Options :**

- 61547533089. 1
- 61547533090. 2
- 61547533091. 3
- 61547533092. 4

**Question Number : 49 Question Id : 6154758489 Question Type : MCQ Option Shuffling : No Display Question Number : Yes**  
**Single Line Question Option : No Option Orientation : Vertical**

**Correct Marks : 2 Wrong Marks : 0**

The attempt of the author in the passage is :

- (1) Unconditioned advocacy of globalisation
- (2) Unconditioned rejection of globalisation
- (3) Unconditioned rejection of local knowledge systems
- (4) Unbiased evaluation of globalisation

**Options :**

- 61547533093. 1
- 61547533094. 2
- 61547533095. 3
- 61547533096. 4

**Question Number : 50 Question Id : 6154758490 Question Type : MCQ Option Shuffling : No Display Question Number : Yes**  
**Single Line Question Option : No Option Orientation : Vertical**

**Correct Marks : 2 Wrong Marks : 0**

As per the passage, a wholesale rejection of globalisation would result in affecting

- (a) Global businesses
- (b) Movement of Ideas
- (c) Local knowledge systems

Choose the correct answer from the options given below :

- (1) (a) and (b) only
- (2) (a) and (c) only
- (3) (c) and (b) only
- (4) (a), (b) and (c)

Options :

61547533097. 1

61547533098. 2

61547533099. 3

61547533100. 4

Question Id : 6154758485 Question Type : COMPREHENSION Sub Question Shuffling Allowed : Yes Group Comprehension Questions : No

Question Numbers : (46 to 50)

Question Label : Comprehension

निम्नलिखित गद्यांश को पढ़िए और प्रश्नों के उत्तर दीजिए :

यद्यपि समकालीन विश्व में वैश्वीकरण सर्वाधिक चर्चित मुद्दों में से एक है तथापि यह लगभग पूरी तरह परिभाषित नहीं है। मोटे तौर पर वैश्विक प्रतिक्रियाओं की अनेकता को वैश्वीकरण के अंतर्गत रखा जाता है जिसमें पूरे विश्व में आर्थिक और व्यापारिक संबंधों में वृद्धि के लिए सीमाओं से परे सांस्कृतिक और व्यावहारिक प्रभाव शामिल होते हैं। वैश्वीकरण को बड़े पैमाने पर अस्वीकार्यता न केवल वैश्विक व्यापार के विरुद्ध जाएगी बल्कि इससे विचार, समझ और ज्ञानका प्रवाह कट जाएगा जिससे विश्व के सभी लोगों को, जिस में विश्व की जनसंख्या के सर्वाधिक वंचित लोग शामिल हैं, मदद मिल सकती है, वैश्वीकरण की व्यापक अस्वीकृति हलांकि शक्तिशाली हो सकती है किंतु यह हानिकारक है। हमें उन विभिन्न मुद्दों को पृथक करने की आवश्यकता है जो कि वैश्वीकरण विरोधी प्रदर्शनों से उपजे और इससे मिले हैं। ज्ञान के वैश्वीकरण में सभी अच्छी चीजें, जिन्हें 'स्थानीय ज्ञान' के महत्व के बारे में सही कहा जा सकता है, के बावजूद इसे उच्च स्तर की मान्यता मिलनी चाहिए।

वैश्वीकरण को पत्रकारिता की चर्चाओं और विशेष रूप से कई अकादमिक लेखों दोनों में पाश्चात्यीकरण की प्रक्रिया के रूप में प्रायः देखा जाता है। वस्तुतः जो लोग इसे आशावादी उन्मुख दृष्टि में लेते हैं वे भी इसे विश्व को पाश्चात्य सभ्यता की देन मानते हैं।

Sub questions

Question Number : 46 Question Id : 6154758486 Question Type : MCQ Option Shuffling : No Display Question Number : Yes Single Line Question Option : No Option Orientation : Vertical

Correct Marks : 2 Wrong Marks : 0

गद्यांश के अनुसार निम्नलिखित में से कौन सुपरिभाषित अवधारणा नहीं है?

(1) बहु-संस्कृतिवाद

(2) पहचान

(3) वैश्वीकरण

(4) स्थानीय ज्ञान

Options :

61547533081. 1

61547533082. 2

61547533083. 3

61547533084. 4

Question Number : 47 Question Id : 6154758487 Question Type : MCQ Option Shuffling : No Display Question Number : Yes  
Single Line Question Option : No Option Orientation : Vertical

Correct Marks : 2 Wrong Marks : 0

गद्यांश के अनुसार निम्नलिखित में से कौन हानिकारक है?

(1) वैश्वीकरण को व्यापक समर्थन

(2) वैश्वीकरण की व्यापक अस्वीकृति

(3) वैश्वीकरण-विरोधी प्रदर्शन की व्यापक अस्वीकृति

(4) स्थानीय ज्ञान पद्धतियों की मान्यता

Options :

61547533085. 1

61547533086. 2

61547533087. 3

61547533088. 4

Question Number : 48 Question Id : 6154758488 Question Type : MCQ Option Shuffling : No Display Question Number : Yes  
Single Line Question Option : No Option Orientation : Vertical

Correct Marks : 2 Wrong Marks : 0

गद्यांश के अनुसार वैश्वीकरण को मीडिया और अकादमिकों द्वारा किस रूप में देखा जाता है?

(1) स्थानीय ज्ञान पद्धति का समर्थन

(2) स्थानीय ज्ञान पद्धति के लिये हानिकारक

(3) पाश्चालीकरण की एक प्रक्रिया

(4) विश्व व्यापार को सुगम बनाने की एक प्रक्रिया

Options :

61547533089. 1

61547533090. 2

61547533091. 3

61547533092. 4

Question Number : 49 Question Id : 6154758489 Question Type : MCQ Option Shuffling : No Display Question Number : Yes  
Single Line Question Option : No Option Orientation : Vertical

Correct Marks : 2 Wrong Marks : 0

गद्यांश में लेखक ने निम्नलिखित में से किस पर बल दिया है?

(1) वैश्वीकरण का बिना शर्त वकालत करना

(2) वैश्वीकरण को बिना शर्त अस्वीकार करना

(3) स्थानीय ज्ञान प्रणाली को बिना शर्त अस्वीकार करना

(4) वैश्वीकरण का पक्षपात रहित मूल्यांकन करना।

**Options :**

61547533093. 1  
61547533094. 2  
61547533095. 3  
61547533096. 4

**Question Number : 50 Question Id : 6154758490 Question Type : MCQ Option Shuffling : No Display Question Number : Yes  
Single Line Question Option : No Option Orientation : Vertical**

**Correct Marks : 2 Wrong Marks : 0**

गद्यांश के अनुसार वैश्वीकरण विश्व को बड़े पैमाने पर अस्वीकार करना निम्नलिखित में से किसको प्रभावित करेगा?

- (a) वैश्विक व्यापार  
(b) विचारों के प्रवाह  
(c) स्थानीय ज्ञान पद्धति

नीचे दिये गये विकल्पों में से सही उत्तर का चयन कीजिये :

- (1) केवल (a) और (b)  
(2) केवल (a) और (c)  
(3) केवल (c) और (b)  
(4) (a), (b) और (c)

**Options :**

61547533097. 1  
61547533098. 2  
61547533099. 3  
61547533100. 4



**PART II Anthropology**

<b>Section Id :</b>	615475114
<b>Section Number :</b>	2
<b>Section type :</b>	Online
<b>Mandatory or Optional:</b>	Mandatory
<b>Number of Questions:</b>	92
<b>Number of Questions to be attempted:</b>	92
<b>Section Marks:</b>	200
<b>Display Number Panel:</b>	Yes
<b>Group All Questions:</b>	No

Question Number : 51 Question Id : 6154758491 Question Type : MCQ Option Shuffling : No Display Question Number : Yes  
Single Line Question Option : No Option Orientation : Vertical

Correct Marks : 2 Wrong Marks : 0

Which of the following recommended declaring "Scheduled Area" for tribal development?

- |                            |                            |
|----------------------------|----------------------------|
| (1) Kaka Kalekar Committee | (2) U.N. Dhebar Commission |
| (3) B.P. Mandal Commission | (4) B.D. Sharma Committee  |

Options :

61547533101. 1

61547533102. 2

61547533103. 3

61547533104. 4

Question Number : 51 Question Id : 6154758491 Question Type : MCQ Option Shuffling : No Display Question Number : Yes  
Single Line Question Option : No Option Orientation : Vertical

Correct Marks : 2 Wrong Marks : 0

निम्नलिखित में से किसने जनजातीय विकास के लिए "अनुसूचित क्षेत्र" की घोषणा करने की संस्तुति की?

- |                       |                        |
|-----------------------|------------------------|
| (1) काका केलकर समिति  | (2) यू.एन. देबर आयोग   |
| (3) बी.पी. मण्डल आयोग | (4) बी.डी. शर्मा समिति |

Options :

61547533101. 1

61547533102. 2

61547533103. 3

61547533104. 4

Question Number : 52 Question Id : 6154758492 Question Type : MCQ Option Shuffling : No Display Question Number : Yes  
Single Line Question Option : No Option Orientation : Vertical

Correct Marks : 2 Wrong Marks : 0

Which of the following can be used to display the steps or components of a process?

- |                |                |
|----------------|----------------|
| (1) Flow chart | (2) Pie chart  |
| (3) Histogram  | (4) Pictograph |

Options :

61547533105. 1

61547533106. 2

61547533107. 3

61547533108. 4

Question Number : 52 Question Id : 6154758492 Question Type : MCQ Option Shuffling : No Display Question Number : Yes  
Single Line Question Option : No Option Orientation : Vertical

Correct Marks : 2 Wrong Marks : 0

निम्नलिखित में किसका उपयोग किसी प्रक्रिया के घटक या चरणों को दर्शाने में किया जा सकता है?

- |                               |                           |
|-------------------------------|---------------------------|
| (1) प्रवाह चार्ट (Flow chart) | (2) पाई चार्ट (Pie chart) |
| (3) आयतचित्र (Histogram)      | (4) चित्रलेख (Pictograph) |

Options :

61547533105. 1  
61547533106. 2  
61547533107. 3  
61547533108. 4

Question Number : 53 Question Id : 6154758493 Question Type : MCQ Option Shuffling : No Display Question Number : Yes  
Single Line Question Option : No Option Orientation : Vertical

Correct Marks : 2 Wrong Marks : 0

Who was NOT a part of the Torres Straits expedition?

- (1) A.C. Haddon (2) C.G. Seligman  
(3) W.H.R. Rivers (4) A.R. Radcliffe Brown

Options :

61547533109. 1  
61547533110. 2  
61547533111. 3  
61547533112. 4

Question Number : 53 Question Id : 6154758493 Question Type : MCQ Option Shuffling : No Display Question Number : Yes  
Single Line Question Option : No Option Orientation : Vertical

Correct Marks : 2 Wrong Marks : 0

कौन टोरेस् स्ट्रेट्स खोज-यात्रा अभियान का हिस्सा नहीं था?

- (1) ए.सी. हैडन (2) सी.जी. सिलिगमैन  
(3) डब्ल्यू.एच.आर. रिवर्स (4) ए.आर. रेडक्लिफ़ ब्राउन

Options :

61547533109. 1  
61547533110. 2  
61547533111. 3  
61547533112. 4

Question Number : 54 Question Id : 6154758494 Question Type : MCQ Option Shuffling : No Display Question Number : Yes  
Single Line Question Option : No Option Orientation : Vertical

Correct Marks : 2 Wrong Marks : 0

Critical Ethnography refers to

- (1) A holistic description of a culture including its history, religion, politics, environment etc.  
(2) Studying a broadly defined culture such as the Khasis and Garos  
(3) Studying a narrowly-defined cultural group such as the chieftains of the Konyak Nagas  
(4) A critical approach through an advocacy perspective and purpose

Options :

61547533113. 1  
61547533114. 2  
61547533115. 3  
61547533116. 4

Question Number : 54 Question Id : 6154758494 Question Type : MCQ Option Shuffling : No Display Question Number : Yes  
Single Line Question Option : No Option Orientation : Vertical

Correct Marks : 2 Wrong Marks : 0

आलोचनात्मक नृजाति-विज्ञान उल्लेख करता है :

- (1) किसी संस्कृति का समग्र वर्णन, जिसमें इतिहास, धर्म, राजनीति, पर्यावरण आदि सम्मिलित है
- (2) व्यापक रूप से परिभाषित संस्कृति का अध्ययन जैसे खासी व गारो
- (3) संकीर्ण रूप से परिभाषित संस्कृति का अध्ययन जैसे कोन्याक नागा के चीफटेन
- (4) पक्ष-समर्थन परिप्रेक्ष्य एवं उद्देश्य के जरिये एक आलोचनात्मक उपागम

Options :

61547533113. 1
61547533114. 2
61547533115. 3
61547533116. 4

Question Number : 55 Question Id : 6154758495 Question Type : MCQ Option Shuffling : No Display Question Number : Yes  
Single Line Question Option : No Option Orientation : Vertical

Correct Marks : 2 Wrong Marks : 0

“Sapier-Whorf Hypothesis” is related to

- |                              |                              |
|------------------------------|------------------------------|
| (1) Historical particularism | (2) Structural functionalism |
| (3) Linguistic relativity    | (4) Ethnoscience             |

Options :

61547533117. 1
61547533118. 2
61547533119. 3
61547533120. 4

Question Number : 55 Question Id : 6154758495 Question Type : MCQ Option Shuffling : No Display Question Number : Yes  
Single Line Question Option : No Option Orientation : Vertical

Correct Marks : 2 Wrong Marks : 0

“सेपिर-व्होर्फ परिकल्पना” संबंधित है :

- |                           |                            |
|---------------------------|----------------------------|
| (1) ऐतिहासिक विशिष्टतावाद | (2) संरचनात्मक-प्रकार्यवाद |
| (3) भाषाई-सापेक्षता       | (4) एथनोसाइंस              |

Options :

61547533117. 1
61547533118. 2
61547533119. 3
61547533120. 4

Question Number : 56 Question Id : 6154758496 Question Type : MCQ Option Shuffling : No Display Question Number : Yes  
Single Line Question Option : No Option Orientation : Vertical

Correct Marks : 2 Wrong Marks : 0

Rappaport's book “Pigs for the Ancestors” was based on the study of

- |                     |                  |
|---------------------|------------------|
| (1) Yanomamo        | (2) Swat Pathans |
| (3) Tsembaga Maring | (4) Kwakiutl     |

Options :



61547533121. 1  
61547533122. 2  
61547533123. 3  
61547533124. 4

**Question Number : 56 Question Id : 6154758496 Question Type : MCQ Option Shuffling : No Display Question Number : Yes**  
**Single Line Question Option : No Option Orientation : Vertical**

**Correct Marks : 2 Wrong Marks : 0**

रैप्पोर्ट की पुस्तक “पिग्स फॉर द एन्सेस्टर” किस अध्ययन पर आधारित है?

- (1) यानोमामो (2) स्वाट पठान्स  
(3) तसमब्रगा मैरिंग (4) क्वाक्वेटल

**Options :**

61547533121. 1  
61547533122. 2  
61547533123. 3  
61547533124. 4

**Question Number : 57 Question Id : 6154758497 Question Type : MCQ Option Shuffling : No Display Question Number : Yes**  
**Single Line Question Option : No Option Orientation : Vertical**

**Correct Marks : 2 Wrong Marks : 0**

Major focus of French Structuralism is on

- (1) The study of human adaptation to environment  
(2) The study of level of technological advancement  
(3) The identification of mental structures underlying social behaviour  
(4) The study of political and social organisations

**Options :**

61547533125. 1  
61547533126. 2  
61547533127. 3  
61547533128. 4

Adda247

**Question Number : 57 Question Id : 6154758497 Question Type : MCQ Option Shuffling : No Display Question Number : Yes**  
**Single Line Question Option : No Option Orientation : Vertical**

**Correct Marks : 2 Wrong Marks : 0**

फ्रेन्च संरचनात्मकतावाद का मुख्य संकेन्द्रण है :

- (1) पर्यावरण के साथ मानव अनुकूलन के अध्ययन पर  
(2) प्रौद्योगिकीय प्रगति के स्तर के अध्ययन पर  
(3) सामाजिक-व्यवहार पर आधारित मानसिक संरचना की पहचान पर  
(4) राजनीतिक व सामाजिक संगठनों के अध्ययन पर

**Options :**

61547533125. 1  
61547533126. 2  
61547533127. 3  
61547533128. 4

Question Number : 58 Question Id : 6154758498 Question Type : MCQ Option Shuffling : No Display Question Number : Yes  
Single Line Question Option : No Option Orientation : Vertical

Correct Marks : 2 Wrong Marks : 0

Who among the following presented three types of kinship terminological system as Malayan, Turkanian, Aryan?

- |                  |                  |
|------------------|------------------|
| (1) L.H. Morgan  | (2) R.H. Lowie   |
| (3) A.L. Kroeber | (4) G.P. Murdock |

Options :

61547533129. 1

61547533130. 2

61547533131. 3

61547533132. 4

Question Number : 58 Question Id : 6154758498 Question Type : MCQ Option Shuffling : No Display Question Number : Yes  
Single Line Question Option : No Option Orientation : Vertical

Correct Marks : 2 Wrong Marks : 0

निम्नलिखित में से किसने पलायन, तुर्कानियन, आर्यन जैसे तीन प्रकार के नातेदारी शब्दावली प्रणाली को प्रस्तुत किया है?

- |                   |                   |
|-------------------|-------------------|
| (1) एल.एच. मॉर्गन | (2) आर.एच. लोवी   |
| (3) ए.एल. क्रोब्र | (4) जी.पी. मर्डाक |

Options :

61547533129. 1

61547533130. 2

61547533131. 3

61547533132. 4

Question Number : 59 Question Id : 6154758499 Question Type : MCQ Option Shuffling : No Display Question Number : Yes  
Single Line Question Option : No Option Orientation : Vertical

Correct Marks : 2 Wrong Marks : 0

Which of the following is not a disease of development?

- |                         |              |
|-------------------------|--------------|
| (1) High blood pressure | (2) Diabetes |
| (3) Heart disease       | (4) AIDS     |

Options :

61547533133. 1

61547533134. 2

61547533135. 3

61547533136. 4

Question Number : 59 Question Id : 6154758499 Question Type : MCQ Option Shuffling : No Display Question Number : Yes  
Single Line Question Option : No Option Orientation : Vertical

Correct Marks : 2 Wrong Marks : 0

निम्नलिखित में से कौन-सा रोग विकास में संबंधित नहीं है?

- |                   |            |
|-------------------|------------|
| (1) उच्च रक्त चाप | (2) मधुमेह |
| (3) हृदय रोग      | (4) एड्स   |

Options :

- 61547533133. 1
- 61547533134. 2
- 61547533135. 3
- 61547533136. 4

Question Number : 60 Question Id : 6154758500 Question Type : MCQ Option Shuffling : No Display Question Number : Yes  
Single Line Question Option : No Option Orientation : Vertical

Correct Marks : 2 Wrong Marks : 0

The Fox Project was started by

- |                   |                          |
|-------------------|--------------------------|
| (1) Sol Tax       | (2) Alfred Kroeber       |
| (3) Edward Spicer | (4) E.E. Evans Pritchard |

Options :

- 61547533137. 1
- 61547533138. 2
- 61547533139. 3
- 61547533140. 4

Question Number : 60 Question Id : 6154758500 Question Type : MCQ Option Shuffling : No Display Question Number : Yes  
Single Line Question Option : No Option Orientation : Vertical

Correct Marks : 2 Wrong Marks : 0

फॉक्स-परियोजना किसके द्वारा आरंभ की गई थी?

- |                    |                           |
|--------------------|---------------------------|
| (1) सोल टेक्स      | (2) एल्फ्रेड क्रोबर       |
| (3) एडवर्ड स्पाइसर | (4) ई.ई. इवान्स-प्रिचार्ड |

Options :

- 61547533137. 1
- 61547533138. 2
- 61547533139. 3
- 61547533140. 4

Question Number : 61 Question Id : 6154758501 Question Type : MCQ Option Shuffling : No Display Question Number : Yes  
Single Line Question Option : No Option Orientation : Vertical

Correct Marks : 2 Wrong Marks : 0

Which article in the Indian Constitution lays down that the President, by public notification may specify the tribes or tribal communities as Scheduled Tribes?

- |                 |                 |
|-----------------|-----------------|
| (1) Article 342 | (2) Article 142 |
| (3) Article 244 | (4) Article 275 |

Options :

- 61547533141. 1
- 61547533142. 2
- 61547533143. 3
- 61547533144. 4

Question Number : 61 Question Id : 6154758501 Question Type : MCQ Option Shuffling : No Display Question Number : Yes  
Single Line Question Option : No Option Orientation : Vertical

Correct Marks : 2 Wrong Marks : 0

भारतीय संविधान का कौन-सा अनुच्छेद अभिकथित करता है कि राष्ट्रपति जन-अधिसूचना के द्वारा जनजातियों या जन जातीय समुदायों को अनुसूचित जनजाति के रूप में निर्दिष्ट कर सकते हैं?

- |                  |                  |
|------------------|------------------|
| (1) अनुच्छेद 342 | (2) अनुच्छेद 142 |
| (3) अनुच्छेद 244 | (4) अनुच्छेद 275 |

Options :

61547533141. 1  
61547533142. 2  
61547533143. 3  
61547533144. 4

Question Number : 62 Question Id : 6154758502 Question Type : MCQ Option Shuffling : No Display Question Number : Yes  
Single Line Question Option : No Option Orientation : Vertical

Correct Marks : 2 Wrong Marks : 0

The concept of Animatism was put forward by

- |                 |                            |
|-----------------|----------------------------|
| (1) E.B. Tylor  | (2) R.R. Marett            |
| (3) E. Durkheim | (4) E.E. Evans – Pritchard |

Options :

61547533145. 1  
61547533146. 2  
61547533147. 3  
61547533148. 4

Question Number : 62 Question Id : 6154758502 Question Type : MCQ Option Shuffling : No Display Question Number : Yes  
Single Line Question Option : No Option Orientation : Vertical

Correct Marks : 2 Wrong Marks : 0

सप्राणवाद की संकल्पना (Animatism) का प्रतिपादन किया :

- |                 |                         |
|-----------------|-------------------------|
| (1) ई.बी. टाइलर | (2) आर.आर. मॉरेट        |
| (3) ई.दुर्खिम   | (4) ई. इवानस् प्रिचार्ड |

Options :

61547533145. 1  
61547533146. 2  
61547533147. 3  
61547533148. 4

Question Number : 63 Question Id : 6154758503 Question Type : MCQ Option Shuffling : No Display Question Number : Yes  
Single Line Question Option : No Option Orientation : Vertical

Correct Marks : 2 Wrong Marks : 0

The term “Economic Anthropology” was originally coined by

- |                     |                   |
|---------------------|-------------------|
| (1) B. Malinowski   | (2) K. Polanyi    |
| (3) M.J. Herskovits | (4) Raymond Firth |

Options :

61547533149. 1  
61547533150. 2  
61547533151. 3  
61547533152. 4

Question Number : 63 Question Id : 6154758503 Question Type : MCQ Option Shuffling : No Display Question Number : Yes  
Single Line Question Option : No Option Orientation : Vertical

Correct Marks : 2 Wrong Marks : 0

“आर्थिक मानव विज्ञान” शब्द को मूल रूप से किसने गढ़ा ?

- (1) बी. मैलिनोवस्की (2) के. पोलानिए  
(3) एम.जे. हर्षकोविट्स (4) रेमण्ड फर्थ

Options :

61547533149. 1  
61547533150. 2  
61547533151. 3  
61547533152. 4

Question Number : 64 Question Id : 6154758504 Question Type : MCQ Option Shuffling : No Display Question Number : Yes  
Single Line Question Option : No Option Orientation : Vertical

Correct Marks : 2 Wrong Marks : 0

Who among the following presented a four-fold classification of political organisation as Egalitarian, Rank, Stratified and State?

- (1) E.R. Service (2) Morton Fried  
(3) Phillip Kottak (4) Stephen Tylor

Options :

61547533153. 1  
61547533154. 2  
61547533155. 3  
61547533156. 4

Question Number : 64 Question Id : 6154758504 Question Type : MCQ Option Shuffling : No Display Question Number : Yes  
Single Line Question Option : No Option Orientation : Vertical

Correct Marks : 2 Wrong Marks : 0

निम्नलिखित में से किसने राजनीतिक संगठनों के चार-सतही वर्गीकरण समतावादी, श्रेणी, स्तरित व राज्य के रूप में प्रस्तुत किया है?

- (1) ई.आर. सर्विस (2) मॉर्टन फ्राइड  
(3) फिलिपस कोट्टाक (4) स्टीफन टाइलर

Options :

61547533153. 1  
61547533154. 2  
61547533155. 3  
61547533156. 4

Question Number : 65 Question Id : 6154758505 Question Type : MCQ Option Shuffling : No Display Question Number : Yes  
Single Line Question Option : No Option Orientation : Vertical

Correct Marks : 2 Wrong Marks : 0

An ideal key informant

- |                               |                                  |
|-------------------------------|----------------------------------|
| (1) is objective and unbiased | (2) is willing to communicate    |
| (3) is knowledgeable          | (4) has a formal role in society |

Options :

61547533157. 1

61547533158. 2

61547533159. 3

61547533160. 4

Question Number : 65 Question Id : 6154758505 Question Type : MCQ Option Shuffling : No Display Question Number : Yes  
Single Line Question Option : No Option Orientation : Vertical

Correct Marks : 2 Wrong Marks : 0

एक आदर्श प्रमुख सूचनादाता होता है :

- |                           |  |
|---------------------------|--|
| (1) वस्तुनिष्ठ व निष्पक्ष | (2) संप्रेषण के लिए तत्पर                        |
| (3) जानकार                | (4) समाज में औपचारिक भूमिका का निर्वहन करने वाला |

Options :

61547533157. 1

61547533158. 2

61547533159. 3

61547533160. 4

Question Number : 66 Question Id : 6154758506 Question Type : MCQ Option Shuffling : No Display Question Number : Yes  
Single Line Question Option : No Option Orientation : Vertical

Correct Marks : 2 Wrong Marks : 0

The concept of cybernetic (feedback system) was introduced in Anthropology by the school of

- |                              |                            |
|------------------------------|----------------------------|
| (1) Ecological Functionalism | (2) Cultural Materialism   |
| (3) Historical Particularism | (4) Classical Evolutionism |

Options :

61547533161. 1

61547533162. 2

61547533163. 3

61547533164. 4

Question Number : 66 Question Id : 6154758506 Question Type : MCQ Option Shuffling : No Display Question Number : Yes  
Single Line Question Option : No Option Orientation : Vertical

Correct Marks : 2 Wrong Marks : 0

साइबरनेटिक (Cybernetic) अवधारणा को (feedback system) प्रतिपुठित प्रणाली को मानव विज्ञान में किस विचार संप्रदाय ने प्रवर्तित किया :

- (1) पारिस्थितिकी प्रकार्यवाद (Ecological Functionalism)
- (2) सांस्कृतिक भौतिकवाद (Cultural Materialism)
- (3) ऐतिहासिक विशिष्टतावाद (Historical Particularism)
- (4) शास्त्रीय विकासवाद (Classical Evolutionism)

Options :

61547533161. 1
61547533162. 2
61547533163. 3
61547533164. 4

Question Number : 67 Question Id : 6154758507 Question Type : MCQ Option Shuffling : No Display Question Number : Yes  
Single Line Question Option : No Option Orientation : Vertical

Correct Marks : 2 Wrong Marks : 0

Lod scores measure

- (1) The likelihood of linkage between genes
- (2) The length of linkage group
- (3) The length of genetic distances
- (4) The relatedness of two individuals

Options :

61547533165. 1
61547533166. 2
61547533167. 3
61547533168. 4

Question Number : 67 Question Id : 6154758507 Question Type : MCQ Option Shuffling : No Display Question Number : Yes  
Single Line Question Option : No Option Orientation : Vertical

Correct Marks : 2 Wrong Marks : 0

‘लाड स्कोर्स’ (Lod scores) मापन करता है :

- |  |                                   |
|--|-----------------------------------|
| (1) जीन्स के मध्य सहलग्नता की संभावना को | (2) सहलग्न समूह की लम्बाई को      |
| (3) आनुवंशिक दूरियों की लम्बाई को        | (4) दो व्यक्तियों के संबंधिकरण को |

Options :

61547533165. 1
61547533166. 2
61547533167. 3
61547533168. 4

Question Number : 68 Question Id : 6154758508 Question Type : MCQ Option Shuffling : No Display Question Number : Yes  
Single Line Question Option : No Option Orientation : Vertical

Correct Marks : 2 Wrong Marks : 0

The DNA finger-printing process involves

- |                       |                                 |
|-----------------------|---------------------------------|
| (1) RFLP              | (2) Degenerate oligonucleotides |
| (3) Chain terminators | (4) VNTR loci                   |

Options :

61547533169. 1  
61547533170. 2  
61547533171. 3  
61547533172. 4

Question Number : 68 Question Id : 6154758508 Question Type : MCQ Option Shuffling : No Display Question Number : Yes  
Single Line Question Option : No Option Orientation : Vertical

Correct Marks : 2 Wrong Marks : 0

डी.एन.ए. (DNA) अंगुली छाप प्रक्रिया सम्मिलित करता है :

- |   |
|---|
| (1) आर.एफ.एल.पी. (RFLP)                                       |
| (2) ऑलिगोन्युक्लियोटाइड का क्षरण (Degenerate oligonucleotide) |
| (3) श्रृंखला समापक  |
| (4) वी.एन.टी.आर. लोसाइ (VNTR loci)                            |

Options :

61547533169. 1  
61547533170. 2  
61547533171. 3  
61547533172. 4

Question Number : 69 Question Id : 6154758509 Question Type : MCQ Option Shuffling : No Display Question Number : Yes  
Single Line Question Option : No Option Orientation : Vertical

Correct Marks : 2 Wrong Marks : 0

Thermostable DNA polymerase enzyme of *Thermophilus aquaticus* was reported by Saiki et al. in 1988 from

- |                |                 |
|----------------|-----------------|
| (1) River      | (2) Cold spring |
| (3) Hot spring | (4) Sea         |

Options :

61547533173. 1  
61547533174. 2  
61547533175. 3  
61547533176. 4

Question Number : 69 Question Id : 6154758509 Question Type : MCQ Option Shuffling : No Display Question Number : Yes  
Single Line Question Option : No Option Orientation : Vertical

Correct Marks : 2 Wrong Marks : 0



थर्मोस्टेबल डि.एन.ए. पॉलिमरेस एन्जाइम थर्मोफिलस एकोटिकस में 1988 में सैकी और उनके साथियों द्वारा कहाँ से प्रतिवेदित किया ?

- (1) नदी (2) ठंडे जल का स्रोत  
(3) गर्म जल का स्रोत (4) समुद्र

Options :

61547533173. 1  
61547533174. 2  
61547533175. 3  
61547533176. 4

Question Number : 70 Question Id : 6154758510 Question Type : MCQ Option Shuffling : No Display Question Number : Yes  
Single Line Question Option : No Option Orientation : Vertical

Correct Marks : 2 Wrong Marks : 0

Multiple alleles control the inheritance of

- (1) Sickle cell anaemia (2) ABO Blood groups  
(3) G6PD deficiency (4) Phenylketonuria

Options :

61547533177. 1  
61547533178. 2  
61547533179. 3  
61547533180. 4

Question Number : 70 Question Id : 6154758510 Question Type : MCQ Option Shuffling : No Display Question Number : Yes  
Single Line Question Option : No Option Orientation : Vertical

Correct Marks : 2 Wrong Marks : 0

बहुलक एलिल्स किसकी वंशागति को नियन्त्रित करता है?

- (1) सिकल सेल एनिमिया (Sickle cell anaemia) (2) ABO रक्त-समूह (Blood groups)  
(3) जी-6-पीडी (G6PD) की कमी (4) फिनाइलकीटोन्यूरिया

Options :

61547533177. 1  
61547533178. 2  
61547533179. 3  
61547533180. 4

Question Number : 71 Question Id : 6154758511 Question Type : MCQ Option Shuffling : No Display Question Number : Yes  
Single Line Question Option : No Option Orientation : Vertical

Correct Marks : 2 Wrong Marks : 0

MN blood system was discovered by

- (1) Weiner and Race (2) Landsteiner and Levine  
(3) Landsteiner and Wiener (4) Levine and Wiener

Options :

61547533181. 1  
61547533182. 2  
61547533183. 3  
61547533184. 4

**Question Number : 71 Question Id : 6154758511 Question Type : MCQ Option Shuffling : No Display Question Number : Yes  
Single Line Question Option : No Option Orientation : Vertical**

**Correct Marks : 2 Wrong Marks : 0**

एम.एन. रक्त-समूह किनके द्वारा खोजी गयी थी?

- (1) वीनर व रेस (2) लैण्डस्टीनर व लेविन  
(3) लैण्डस्टीनर व वीनर (4) लेविन व वीनर

**Options :**

61547533181. 1  
61547533182. 2  
61547533183. 3  
61547533184. 4

**Question Number : 72 Question Id : 6154758512 Question Type : MCQ Option Shuffling : No Display Question Number : Yes  
Single Line Question Option : No Option Orientation : Vertical**

**Correct Marks : 2 Wrong Marks : 0**

Albinism is inherited as a

- (1) Recessive trait (2) Dominant trait  
(3) Codominant trait (4) Polygenic trait

**Options :**

61547533185. 1  
61547533186. 2  
61547533187. 3  
61547533188. 4

**Question Number : 72 Question Id : 6154758512 Question Type : MCQ Option Shuffling : No Display Question Number : Yes  
Single Line Question Option : No Option Orientation : Vertical**

**Correct Marks : 2 Wrong Marks : 0**

रंजकहीनता किस रूप में वंशागत होती है?

- (1) अप्रभावी लक्षण (2) प्रबल लक्षण  
(3) सह-प्रभावित लक्षण (4) बहुजननिक लक्षण

**Options :**

61547533185. 1  
61547533186. 2  
61547533187. 3  
61547533188. 4

**Question Number : 73 Question Id : 6154758513 Question Type : MCQ Option Shuffling : No Display Question Number : Yes  
Single Line Question Option : No Option Orientation : Vertical**

**Correct Marks : 2 Wrong Marks : 0**

With the exception of *Homo sapiens*, which other species had the widest distribution of any hominid?

(1) *Australopithecus*

(2) *Homo neanderthalensis*

(3) *Homo erectus*

(4) *Homo ergaster*

Options :

61547533189. 1

61547533190. 2

61547533191. 3

61547533192. 4

Question Number : 73 Question Id : 6154758513 Question Type : MCQ Option Shuffling : No Display Question Number : Yes  
Single Line Question Option : No Option Orientation : Vertical

Correct Marks : 2 Wrong Marks : 0

प्राज्ञमानव (*Homo sapiens*) के अलावा किन अन्य स्पीशीज में किसी होमीनिड (*Hominid*) का सर्वाधिक वितरण था ?

(1) ऑस्ट्रेलोपिथिकस

(2) होमो निएन्डरथलेन्सिस

(3) होमो इरेक्टस

(4) होमो अरगेस्टर

Options :

61547533189. 1

61547533190. 2

61547533191. 3

61547533192. 4

Question Number : 74 Question Id : 6154758514 Question Type : MCQ Option Shuffling : No Display Question Number : Yes  
Single Line Question Option : No Option Orientation : Vertical

Correct Marks : 2 Wrong Marks : 0

Ridge of the bone originating from the superior lateral corner of the eye orbit arching posteriorly along the frontal is known as

(1) Frontal line

(2) Soleal line

(3) Popliteal line

(4) Temporal line

Options :

61547533193. 1

61547533194. 2

61547533195. 3

61547533196. 4

Question Number : 74 Question Id : 6154758514 Question Type : MCQ Option Shuffling : No Display Question Number : Yes  
Single Line Question Option : No Option Orientation : Vertical

Correct Marks : 2 Wrong Marks : 0

नेत्र गुहा के ऊपरी पार्श्विक कोने से उत्पन्न हड्डियों पर उभार (Ridge), जो अग्रिय भाग से पीछे की ओर धुमाव धार रिज बनाती, को कहा जाता है :

- |                                     |                                |
|-------------------------------------|--------------------------------|
| (1) अग्रिय रेखा (Frontal line)      | (2) तल रेखा (Soleal line)      |
| (3) जानुपृष्ठ रेखा (Popliteal line) | (4) कनपटी रेखा (Temporal line) |

Options :

61547533193. 1  
61547533194. 2  
61547533195. 3  
61547533196. 4

Question Number : 75 Question Id : 6154758515 Question Type : MCQ Option Shuffling : No Display Question Number : Yes  
Single Line Question Option : No Option Orientation : Vertical

Correct Marks : 2 Wrong Marks : 0

Denominator for calculating General Fertility Rate is

- |  |
|--|
| (1) All females                                |
| (2) Females of reproductive age (15 – 45 year) |
| (3) All females of > 50 years                  |
| (4) Mid-year population                        |

Options :

61547533197. 1  
61547533198. 2  
61547533199. 3  
61547533200. 4

Question Number : 75 Question Id : 6154758515 Question Type : MCQ Option Shuffling : No Display Question Number : Yes  
Single Line Question Option : No Option Orientation : Vertical

Correct Marks : 2 Wrong Marks : 0

सामान्य प्रजनन दर की गणना के लिए हर (Denominator) है :

- |  |  |
|--|--|
| (1) सभी महिलाएँ                        | (2) प्रजनन योग्य आयु (15-45 वर्ष) की महिलाएँ |
| (3) 50 वर्ष से अधिक आयु की सभी महिलाएँ | (4) मध्य-वर्ष का जन-समूह                     |

Options :

61547533197. 1  
61547533198. 2  
61547533199. 3  
61547533200. 4

Question Number : 76 Question Id : 6154758516 Question Type : MCQ Option Shuffling : No Display Question Number : Yes  
Single Line Question Option : No Option Orientation : Vertical

Correct Marks : 2 Wrong Marks : 0

Which of the following books was NOT written by J.M. Tanner?

- (1) Patterns of Human Growth (2) Growth at Adolescence  
(3) Fetus into Man (4) Worldwide Variation in Human Growth

Options :

61547533201. 1  
61547533202. 2  
61547533203. 3  
61547533204. 4

Question Number : 76 Question Id : 6154758516 Question Type : MCQ Option Shuffling : No Display Question Number : Yes  
Single Line Question Option : No Option Orientation : Vertical

Correct Marks : 2 Wrong Marks : 0

निम्नलिखित में से कौन-सी पुस्तक जे.एम. टैनर द्वारा नहीं लिखी गई है?

- (1) पैटर्न ऑफ ह्यूमन ग्रोथ (2) ग्रोथ एट ऐडोलेसेन्स  
(3) फीटस इन टू मेन (4) वर्ल्डवाइड वेरिएशन इन ह्यूमन ग्रोथ

Options :

61547533201. 1  
61547533202. 2  
61547533203. 3  
61547533204. 4

Question Number : 77 Question Id : 6154758517 Question Type : MCQ Option Shuffling : No Display Question Number : Yes  
Single Line Question Option : No Option Orientation : Vertical

Correct Marks : 2 Wrong Marks : 0

In finger print dermatoglyphics, "pattern intensity index" is

- (1)  $2 \times W + L/N$  (2)  $2 \times L + W/N$   
(3)  $2 \times W + A/N$  (4)  $2 \times A + W/N$

Options :

61547533205. 1  
61547533206. 2  
61547533207. 3  
61547533208. 4

Question Number : 77 Question Id : 6154758517 Question Type : MCQ Option Shuffling : No Display Question Number : Yes  
Single Line Question Option : No Option Orientation : Vertical

Correct Marks : 2 Wrong Marks : 0

अंगुली छाप त्वचा-रैखिकीय विज्ञान में "प्रतिभान तीव्रता सूचनांक" है :

- (1)  $2 \times W + L/N$  (2)  $2 \times L + W/N$   
(3)  $2 \times W + A/N$  (4)  $2 \times A + W/N$

Options :

61547533205. 1  
61547533206. 2

61547533207. 3

61547533208. 4

Question Number : 78 Question Id : 6154758518 Question Type : MCQ Option Shuffling : No Display Question Number : Yes  
Single Line Question Option : No Option Orientation : Vertical

Correct Marks : 2 Wrong Marks : 0

A genetically determined allergy to the broad beans resulting in severe anaemia is

- |                  |                     |
|------------------|---------------------|
| (1) Alkaptonuria | (2) Phenylketonuria |
| (3) Cretinism    | (4) Favism          |

Options :

61547533209. 1

61547533210. 2

61547533211. 3

61547533212. 4

Question Number : 78 Question Id : 6154758518 Question Type : MCQ Option Shuffling : No Display Question Number : Yes  
Single Line Question Option : No Option Orientation : Vertical

Correct Marks : 2 Wrong Marks : 0

वाकला-फली से होनेवाली आनुवंशिक एलर्जी का परिणाम गंभीर रक्त अल्पता (anemia) है :

- |                  |                      |
|------------------|----------------------|
| (1) एलकेटोनूरिया | (2) फिनायलकीटोनूरिया |
| (3) क्रेटिनिज्म  | (4) फाविज्म          |

Options :

61547533209. 1

61547533210. 2

61547533211. 3

61547533212. 4

Question Number : 79 Question Id : 6154758519 Question Type : MCQ Option Shuffling : No Display Question Number : Yes  
Single Line Question Option : No Option Orientation : Vertical

Correct Marks : 2 Wrong Marks : 0

“Dental Comb” is a characteristic of some

- |                       |                       |
|-----------------------|-----------------------|
| (1) Anthropoid apes   | (2) Prosimians        |
| (3) New World Monkeys | (4) Old World Monkeys |

Options :

61547533213. 1

61547533214. 2

61547533215. 3

61547533216. 4

Question Number : 79 Question Id : 6154758519 Question Type : MCQ Option Shuffling : No Display Question Number : Yes  
Single Line Question Option : No Option Orientation : Vertical

Correct Marks : 2 Wrong Marks : 0

“दंत-कंघी” निम्न से कुछ की विशेषता है :

- |                        |                            |
|------------------------|----------------------------|
| (1) एंथ्रोपॉइड वानर    | (2) प्रोसिमियन्स           |
| (3) नई दुनिया के बन्दर | (4) पुरानी दुनिया के बन्दर |

Options :

61547533213. 1  
61547533214. 2  
61547533215. 3  
61547533216. 4

Question Number : 80 Question Id : 6154758520 Question Type : MCQ Option Shuffling : No Display Question Number : Yes  
Single Line Question Option : No Option Orientation : Vertical

Correct Marks : 2 Wrong Marks : 0

The term “Osteo – donto – keratic” was coined by

- |                           |                   |
|---------------------------|-------------------|
| (1) Wilfrid Le Gros Clark | (2) John Robinson |
| (3) Raymond Dart          | (4) Robert Broom  |

Options :

61547533217. 1  
61547533218. 2  
61547533219. 3  
61547533220. 4

Question Number : 80 Question Id : 6154758520 Question Type : MCQ Option Shuffling : No Display Question Number : Yes  
Single Line Question Option : No Option Orientation : Vertical

Correct Marks : 2 Wrong Marks : 0

“ओस्टिओ-डोन्टो-केराटिक” शब्द बनाया गया था :

- |                                |                  |
|--------------------------------|------------------|
| (1) विल्फ्रिड ली ग्रॉस क्लार्क | (2) जॉन रोबिन्सन |
| (3) रेमण्ड डार्ट               | (4) रॉबर्ट ब्रूम |

Options :

61547533217. 1  
61547533218. 2  
61547533219. 3  
61547533220. 4

Question Number : 81 Question Id : 6154758521 Question Type : MCQ Option Shuffling : No Display Question Number : Yes  
Single Line Question Option : No Option Orientation : Vertical

Correct Marks : 2 Wrong Marks : 0

The concept of “Inclusive – Fitness” was given by

- |                   |                    |
|-------------------|--------------------|
| (1) W.D. Hamilton | (2) Charles Darwin |
| (3) A.R. Wallace  | (4) J.M. Tanner    |

Options :

61547533221. 1

61547533222. 2

61547533223. 3

61547533224. 4

Question Number : 81 Question Id : 6154758521 Question Type : MCQ Option Shuffling : No Display Question Number : Yes  
Single Line Question Option : No Option Orientation : Vertical

Correct Marks : 2 Wrong Marks : 0

“इन्क्लूसिव फिटनेस” की संकल्पना प्रतिपादित की गई थी :

- |                          |                     |
|--------------------------|---------------------|
| (1) डब्ल्यू.डी. हेमिल्टन | (2) चार्ल्स डार्विन |
| (3) ए.आर. वेलेस          | (4) जे.एम. टैनर     |

Options :

61547533221. 1

61547533222. 2

61547533223. 3

61547533224. 4

Question Number : 82 Question Id : 6154758522 Question Type : MCQ Option Shuffling : No Display Question Number : Yes  
Single Line Question Option : No Option Orientation : Vertical

Correct Marks : 2 Wrong Marks : 0

Ethology is

- |                                      |                                   |
|--------------------------------------|-----------------------------------|
| (1) The study of ethics              | (2) The study of ethnic groups    |
| (3) The study of origin of a disease | (4) The study of animal behaviour |

Options :

61547533225. 1

61547533226. 2

61547533227. 3

61547533228. 4

Question Number : 82 Question Id : 6154758522 Question Type : MCQ Option Shuffling : No Display Question Number : Yes  
Single Line Question Option : No Option Orientation : Vertical

Correct Marks : 2 Wrong Marks : 0

आचार शास्त्र (Ethology) है :

- |                               |                              |
|-------------------------------|------------------------------|
| (1) नीतिशास्त्र का अध्ययन     | (2) नृजातीय समूहों का अध्ययन |
| (3) रोग के उत्पत्ती का अध्ययन | (4) पशु-व्यवहार का अध्ययन    |

Options :

61547533225. 1

61547533226. 2

61547533227. 3

61547533228. 4

Question Number : 83 Question Id : 6154758523 Question Type : MCQ Option Shuffling : No Display Question Number : Yes  
Single Line Question Option : No Option Orientation : Vertical

Correct Marks : 2 Wrong Marks : 0



On a man-made flake, which one of the following will not be seen

- |                                 |                                 |
|---------------------------------|---------------------------------|
| (1) Positive bulb of percussion | (2) Negative bulb of percussion |
| (3) Erailure                    | (4) Flake scar                  |

Options :

61547533229. 1  
61547533230. 2  
61547533231. 3  
61547533232. 4

Question Number : 83 Question Id : 6154758523 Question Type : MCQ Option Shuffling : No Display Question Number : Yes  
Single Line Question Option : No Option Orientation : Vertical

Correct Marks : 2 Wrong Marks : 0

मानव-निर्मित फ्लेक में निम्नलिखित में से कौन सा दिखाई नहीं पड़ेगा :

- |   |
|---|
| (1) प्रतिधात् का धनात्मक बल्ब (Positive bulb) |
| (2) प्रतिधात का ऋणात्मक बल्ब (Negative bulb)  |
| (3) एराल्लुर (Erailure)                       |
| (4) फ्लेक क्षत चिन्ह (Flake scar)             |

Options :

61547533229. 1  
61547533230. 2  
61547533231. 3  
61547533232. 4

Question Number : 84 Question Id : 6154758524 Question Type : MCQ Option Shuffling : No Display Question Number : Yes  
Single Line Question Option : No Option Orientation : Vertical

Correct Marks : 2 Wrong Marks : 0

Which of the following sites is regarded as the richest among early farming cultures in the Near East?

- |                 |              |
|-----------------|--------------|
| (1) Jericho     | (2) Jarmo    |
| (3) Catal Huyuk | (4) Shanidar |

Options :

61547533233. 1  
61547533234. 2  
61547533235. 3  
61547533236. 4

Question Number : 84 Question Id : 6154758524 Question Type : MCQ Option Shuffling : No Display Question Number : Yes  
Single Line Question Option : No Option Orientation : Vertical

Correct Marks : 2 Wrong Marks : 0

नीयर-ईस्ट के पूर्व-कृषि संस्कृति में निम्नलिखित में से किस क्षेत्र को सम्पन्न क्षेत्र माना जाता है?

- |                |           |
|----------------|-----------|
| (1) जेरिको     | (2) जारमो |
| (3) केटल ह्यूक | (4) शनिदर |

Options :

61547533233. 1  
61547533234. 2  
61547533235. 3  
61547533236. 4

Question Number : 85 Question Id : 6154758525 Question Type : MCQ Option Shuffling : No Display Question Number : Yes  
Single Line Question Option : No Option Orientation : Vertical

Correct Marks : 2 Wrong Marks : 0

According to which scholar early hominins made "mental maps" of their territories?

- |                        |                 |
|------------------------|-----------------|
| (1) Robert Blumenshine | (2) Glynn Issac |
| (3) L.S.B. Leakey      | (4) C.K. Brain  |

Options :

61547533237. 1  
61547533238. 2  
61547533239. 3  
61547533240. 4

Question Number : 85 Question Id : 6154758525 Question Type : MCQ Option Shuffling : No Display Question Number : Yes  
Single Line Question Option : No Option Orientation : Vertical

Correct Marks : 2 Wrong Marks : 0

किस विद्वान के अनुसार पूर्व-होमिनिन्स अपने क्षेत्रों का "मानसिक चित्र" बनाते थे?

- |                      |                  |
|----------------------|------------------|
| (1) रॉबर्ट बलुमेनसीन | (2) ग्लायन इसाक  |
| (3) एल.एस.बी. लीके   | (4) सी.के. ब्रेन |

Options :

61547533237. 1  
61547533238. 2  
61547533239. 3  
61547533240. 4

Question Number : 86 Question Id : 6154758526 Question Type : MCQ Option Shuffling : No Display Question Number : Yes  
Single Line Question Option : No Option Orientation : Vertical

Correct Marks : 2 Wrong Marks : 0

Burin is popularly known as

- |           |            |
|-----------|------------|
| (1) Borer | (2) Point  |
| (3) Pick  | (4) Graver |

Options :

61547533241. 1

61547533242. 2

61547533243. 3

61547533244. 4

Question Number : 86 Question Id : 6154758526 Question Type : MCQ Option Shuffling : No Display Question Number : Yes  
Single Line Question Option : No Option Orientation : Vertical

Correct Marks : 2 Wrong Marks : 0

तक्षणी (Burin) आम तौर पर जाना जाता है :

(1) ब्रेधक (Borer)

(2) प्वाइंट (Point)

(3) पिक (Pick)

(4) छेनी (Graver)

Options :

61547533241. 1

61547533242. 2

61547533243. 3

61547533244. 4

Question Number : 87 Question Id : 6154758527 Question Type : MCQ Option Shuffling : No Display Question Number : Yes  
Single Line Question Option : No Option Orientation : Vertical

Correct Marks : 2 Wrong Marks : 0

Spouted bowls and pedastalled goblets were found in

(1) Ahar

(2) Gilund

(3) Kayatha

(4) Navdatoli

Options :

61547533245. 1

61547533246. 2

61547533247. 3

61547533248. 4

Question Number : 87 Question Id : 6154758527 Question Type : MCQ Option Shuffling : No Display Question Number : Yes  
Single Line Question Option : No Option Orientation : Vertical

Correct Marks : 2 Wrong Marks : 0

टोटीदार-कटोरे व साधार-प्याले पाये गए थे :

(1) आहर

(2) जिलुन्ड

(3) कापथा

(4) नवादाटोली

Options :

61547533245. 1

61547533246. 2

61547533247. 3

61547533248. 4

Question Number : 88 Question Id : 6154758528 Question Type : MCQ Option Shuffling : No Display Question Number : Yes  
Single Line Question Option : No Option Orientation : Vertical

Correct Marks : 2 Wrong Marks : 0

Who among the following scholars stated that pre-sohan artifacts are manufactured debitage of an early sohan industry?

- (1) H. de Terra (2) H.L. Movius  
(3) T.T. Paterson (4) F.E. Zeuner

Options :

61547533249. 1  
61547533250. 2  
61547533251. 3  
61547533252. 4

Question Number : 88 Question Id : 6154758528 Question Type : MCQ Option Shuffling : No Display Question Number : Yes  
Single Line Question Option : No Option Orientation : Vertical

Correct Marks : 2 Wrong Marks : 0

निम्नलिखित विद्वानों में से किसने कहा था कि पूर्व (pre) सोहन मानव कृति प्रारंभिक (early) सोहन उद्योग के छीजन (debitage) से बनाये गए हैं।

- (1) एच.डी. टेरा (2) एच.एल. मोवियस  
(3) टी.टी. पैटरसन (4) एफ.ई. जूनेर

Options :

61547533249. 1  
61547533250. 2  
61547533251. 3  
61547533252. 4

Question Number : 89 Question Id : 6154758529 Question Type : MCQ Option Shuffling : No Display Question Number : Yes  
Single Line Question Option : No Option Orientation : Vertical

Correct Marks : 2 Wrong Marks : 0

The first colonization of the Ganges plains took place during

- (1) Palaeolithic age (2) Mesolithic age  
(3) Neolithic age (4) Iron age

Options :

61547533253. 1  
61547533254. 2  
61547533255. 3  
61547533256. 4

Question Number : 89 Question Id : 6154758529 Question Type : MCQ Option Shuffling : No Display Question Number : Yes  
Single Line Question Option : No Option Orientation : Vertical

Correct Marks : 2 Wrong Marks : 0

गंगा के मैदानों में प्रथम आवास कब हुआ था ?

- (1) पुरा-पाषाण युग (Palaeolithic) (2) मध्य-पाषाण युग (Mesolithic)  
(3) नव-पाषाण युग (Neolithic) (4) लौह-युग (Iron age)

Options :

61547533253. 1  
61547533254. 2  
61547533255. 3  
61547533256. 4

Question Number : 90 Question Id : 6154758530 Question Type : MCQ Option Shuffling : No Display Question Number : Yes  
Single Line Question Option : No Option Orientation : Vertical

Correct Marks : 2 Wrong Marks : 0

What was the ancient name of the Indus Valley as mentioned in summerian scripts?

- (1) Bharat (2) Dilmun  
(3) Saraswati (4) Meluhha

Options :

61547533257. 1  
61547533258. 2  
61547533259. 3  
61547533260. 4

Question Number : 90 Question Id : 6154758530 Question Type : MCQ Option Shuffling : No Display Question Number : Yes  
Single Line Question Option : No Option Orientation : Vertical

Correct Marks : 2 Wrong Marks : 0

सुमेर-लिपि में उल्लेखित सिन्दु घाटी का प्राचीन नाम क्या था?

- (1) भारत (2) दिलमुन  
(3) सरस्वती (4) मेलुहा

Options :

61547533257. 1  
61547533258. 2  
61547533259. 3  
61547533260. 4

Question Number : 91 Question Id : 6154758531 Question Type : MCQ Option Shuffling : No Display Question Number : Yes  
Single Line Question Option : No Option Orientation : Vertical

Correct Marks : 2 Wrong Marks : 0

Contemporary ethnography includes :

- (a) Objectivity in approach, data collection and writing process.  
(b) Reflexivity on the part of the ethnographer.  
(c) Collaboration and multiple authorship.  
(d) Details of field work dialogue and experience.

Choose the correct option :

- (1) (a), (b) and (c) (2) (a), (c) and (d)  
(3) (a), (b) and (d) (4) (b), (c) and (d)

Options :

61547533261. 1  
61547533262. 2

61547533263. 3

61547533264. 4

Question Number : 91 Question Id : 6154758531 Question Type : MCQ Option Shuffling : No Display Question Number : Yes  
Single Line Question Option : No Option Orientation : Vertical

Correct Marks : 2 Wrong Marks : 0

समकालीन नृजातीय विज्ञान में सम्मिलित है :

- (a) उपगम में वस्तुनिष्ठता, आँकड़ा संकलन व लेखन प्रक्रिया
- (b) नृजातीय वैज्ञानिक के हिस्से पर प्रतिवेदिता
- (c) सहयोग व बहुल लेखक
- (d) क्षेत्रकार्य संवाद व अनुभव का विवरण

सही विकल्प चुने :

- (1) (a), (b) व (c)
- (2) (a), (c) व (d)
- (3) (a), (b) व (d)
- (4) (b), (c) व (d)

Options :

61547533261. 1

61547533262. 2

61547533263. 3

61547533264. 4

Question Number : 92 Question Id : 6154758532 Question Type : MCQ Option Shuffling : No Display Question Number : Yes  
Single Line Question Option : No Option Orientation : Vertical

Correct Marks : 2 Wrong Marks : 0

Choose the correct answers from the following statements :

- (a) All societies have economic systems, with or without money.
- (b) Incentives for labour vary cross – nationally.
- (c) In complex societies, work groups are informally organised.
- (d) Regulation of access to natural resources is a basic fact in all economic systems.

Choose the correct answer using the options given below :

- (1) (a), (c) and (d) are correct
- (2) (a), (b) and (d) are correct
- (3) (b), (c) and (d) are correct
- (4) (a), (b) and (c) are correct

Options :

61547533265. 1

61547533266. 2

61547533267. 3

61547533268. 4

Question Number : 92 Question Id : 6154758532 Question Type : MCQ Option Shuffling : No Display Question Number : Yes  
Single Line Question Option : No Option Orientation : Vertical

Correct Marks : 2 Wrong Marks : 0

निम्नलिखित अभिकथनों में से सही उत्तर चुनें :

- (a) सभी समाजों में अर्थव्यवस्थाएँ होती हैं, धन के साथ ही या धन के बिना
- (b) श्रम मानदेय विभिन्न देशों में भिन्न-भिन्न होते हैं
- (c) जटिल समाजों में, कार्य-समूह अनौपचारिक रूप से संगठित थे
- (d) प्राकृतिक संसाधनों के अभिगमन का नियमन सभी अर्थव्यवस्थाओं का मूल नियमन

निम्नलिखित विकल्पों में से सही उत्तर चुनें :

- (1) (a), (c) व (d) सही हैं
- (2) (a), (b) व (d) सही हैं
- (3) (b), (c) व (d) सही हैं
- (4) (a), (b) व (c) सही हैं

Options :

61547533265. 1

61547533266. 2

61547533267. 3

61547533268. 4

Question Number : 93 Question Id : 6154758533 Question Type : MCQ Option Shuffling : No Display Question Number : Yes  
Single Line Question Option : No Option Orientation : Vertical

Correct Marks : 2 Wrong Marks : 0

Which among the following positions are related to political power?

- (a) Big woman
- (b) Chieftain
- (c) Nayak
- (d) Leopard – skin chief

Choose the correct answer from the options given below :

- (1) (a), (b) and (d)
- (2) (b), (c) and (d)
- (3) (a), (c) and (d)
- (4) (a), (b) and (c)

Options :

61547533269. 1

61547533270. 2

61547533271. 3

61547533272. 4

Question Number : 93 Question Id : 6154758533 Question Type : MCQ Option Shuffling : No Display Question Number : Yes  
Single Line Question Option : No Option Orientation : Vertical

Correct Marks : 2 Wrong Marks : 0

निम्नलिखित में से कौन से पद राजनीतिक शक्ति से संबंधित हैं?

- (a) ब्रिग वुमेन (b) चीफटेन  
(c) नायक (d) लेपर्ड-स्किन चीफ

निम्नलिखित विकल्पों में से सही उत्तर चुनें :

- (1) (a), (b) व (d) (2) (b), (c) व (d)  
(3) (a), (c) व (d) (4) (a), (b) व (c)

**Options :**

61547533269. 1  
61547533270. 2  
61547533271. 3  
61547533272. 4

**Question Number : 94 Question Id : 6154758534 Question Type : MCQ Option Shuffling : No Display Question Number : Yes  
Single Line Question Option : No Option Orientation : Vertical**

**Correct Marks : 2 Wrong Marks : 0**

Who among the following anthropologists studied kinship systems?

- (a) Robin Fox  
(b) Ulf Hannarz  
(c) David Schneider  
(d) G.P. Murdock

Choose the correct answer from the options given below :

- (1) (a), (b) and (d) are correct (2) (b), (c) and (d) are correct  
(3) (a), (b) and (c) are correct (4) (a), (c) and (d) are correct

**Options :**

61547533273. 1  
61547533274. 2  
61547533275. 3  
61547533276. 4

**Question Number : 94 Question Id : 6154758534 Question Type : MCQ Option Shuffling : No Display Question Number : Yes  
Single Line Question Option : No Option Orientation : Vertical**

**Correct Marks : 2 Wrong Marks : 0**



निम्नलिखित मानव वैज्ञानिकों में से किसने नातेदारी व्यवस्था का अध्ययन किया है?

- (a) रोबिन फॉक्स (b) उल्फ हेन्नारज़  
(c) डेविड स्नेडर (d) जी.पी. मरडॉक

निम्नलिखित विकल्पों में से सही उत्तर चुनें :

- (1) (a), (b) व (d) सही हैं (2) (b), (c) व (d) सही हैं  
(3) (a), (b) व (c) सही हैं (4) (a), (c) व (d) सही हैं

Options :

61547533273. 1  
61547533274. 2  
61547533275. 3  
61547533276. 4

Question Number : 95 Question Id : 6154758535 Question Type : MCQ Option Shuffling : No Display Question Number : Yes  
Single Line Question Option : No Option Orientation : Vertical

Correct Marks : 2 Wrong Marks : 0

Who among the following analysed the ideas of Materialism?

- (a) Karl Marx  
(b) Marvin Harris  
(c) Maurice Block  
(d) J.H. Steward

Choose the correct answer from the options given below :

- (1) (a), (b) and (d) are correct (2) (b), (c) and (d) are correct  
(3) (a), (b) and (c) are correct (4) (a), (c) and (d) are correct

Options :

61547533277. 1  
61547533278. 2  
61547533279. 3  
61547533280. 4

Question Number : 95 Question Id : 6154758535 Question Type : MCQ Option Shuffling : No Display Question Number : Yes  
Single Line Question Option : No Option Orientation : Vertical

Correct Marks : 2 Wrong Marks : 0

भौतिकवाद के विचारों का निम्नलिखित में से किसने विश्लेषण किया था?

- (a) कार्ल मार्क्स (b) मार्विन हैरिस  
(c) मोरिस ब्लॉक (d) जे.एच. स्टीवर्ड

निम्नलिखित विकल्पों में से सही उत्तर चुनें :

- (1) (a), (b) व (d) सही हैं (2) (b), (c) व (d) सही हैं  
(3) (a), (b) व (c) सही हैं (4) (a), (c) व (d) सही हैं

Options :

61547533277. 1  
61547533278. 2  
61547533279. 3  
61547533280. 4

Question Number : 96 Question Id : 6154758536 Question Type : MCQ Option Shuffling : No Display Question Number : Yes  
Single Line Question Option : No Option Orientation : Vertical

Correct Marks : 2 Wrong Marks : 0

Who among the following studied culture as symbolic code?

- (a) Clifford Geertz  
(b) Marvin Harris  
(c) Victor Turner  
(d) Mary Douglas

Choose the correct answer from the options given below :

- (1) (a), (b) and (c) are correct (2) (b), (c) and (d) are correct  
(3) (a), (b) and (d) are correct (4) (a), (c) and (d) are correct

Options :

61547533281. 1  
61547533282. 2  
61547533283. 3  
61547533284. 4

Question Number : 96 Question Id : 6154758536 Question Type : MCQ Option Shuffling : No Display Question Number : Yes  
Single Line Question Option : No Option Orientation : Vertical

Correct Marks : 2 Wrong Marks : 0

निम्नलिखित में से किसने संस्कृति का अध्ययन प्रतीकात्मक कूट के रूप में किया था ?

- (a) क्लिफर्ड गीट्ज़ (b) मार्विन हैरिस  
(c) विक्टर टर्नर (d) मेरी डगलस

निम्नलिखित विकल्पों में से सही उत्तर चुनें :

- (1) (a), (b) व (c) सही हैं (2) (b), (c) व (d) सही हैं  
(3) (a), (b) व (d) सही हैं (4) (a), (c) व (d) सही हैं

Options :

61547533281. 1  
61547533282. 2  
61547533283. 3  
61547533284. 4

Question Number : 97 Question Id : 6154758537 Question Type : MCQ Option Shuffling : No Display Question Number : Yes  
Single Line Question Option : No Option Orientation : Vertical

Correct Marks : 2 Wrong Marks : 0

Which of the following statements are true about post modern thinking?

- (a) Anthropology is not a science but hermeneutics.  
(b) Ethnographies so far are incomplete, and purely subjective.  
(c) Scientific laws are valid.  
(d) Truth is fundamentally beyond the reach of all humans.

Choose the correct answer from the options given below :

- (1) (a), (c) and (d) are correct (2) (b), (c) and (d) are correct  
(3) (a), (b) and (d) are correct (4) (a), (b) and (c) are correct

Options :

61547533285. 1  
61547533286. 2  
61547533287. 3  
61547533288. 4

Question Number : 97 Question Id : 6154758537 Question Type : MCQ Option Shuffling : No Display Question Number : Yes  
Single Line Question Option : No Option Orientation : Vertical

Correct Marks : 2 Wrong Marks : 0

निम्नलिखित में से कौन सा कथन उत्तर-आधुनिक विचार के बारे में है?

- (a) मानव विज्ञान, विज्ञान नहीं बल्कि व्याख्यात्मक विषय है
- (b) नृजातीय वर्णन अभी तक अपूर्ण है, व शुद्ध रूप से विषय परक है
- (c) वैज्ञानिक नियम वैध हैं
- (d) सैद्धांतिक रूप से सच्चाई सभी मनुष्यों की पहुँच से परे होती है

निम्नलिखित विकल्पों में से सही उत्तर चुनें :

- (1) (a), (c) व (d) सही हैं
- (2) (b), (c) व (d) सही हैं
- (3) (a), (b) व (d) सही हैं
- (4) (a), (b) व (c) सही हैं

Options :

61547533285. 1

61547533286. 2

61547533287. 3

61547533288. 4

Question Number : 98 Question Id : 6154758538 Question Type : MCQ Option Shuffling : No Display Question Number : Yes  
Single Line Question Option : No Option Orientation : Vertical

Correct Marks : 2 Wrong Marks : 0

Which of the following are "culture – bound syndromes"?

- (a) Pibloktoq
- (b) Amok
- (c) Anorexia nervosa
- (d) Schizophrenia

Choose the correct option :

- (1) (a), (b) and (c)
- (2) (b), (c) and (d)
- (3) (a), (b) and (d)
- (4) (a), (c) and (d)

Options :

61547533289. 1

61547533290. 2

61547533291. 3

61547533292. 4

Question Number : 98 Question Id : 6154758538 Question Type : MCQ Option Shuffling : No Display Question Number : Yes  
Single Line Question Option : No Option Orientation : Vertical

Correct Marks : 2 Wrong Marks : 0

निम्नलिखित में से कौन से संस्कृति परिवर्ध सिंड्रोमस् हैं ?

- (a) पिब्लोकटोक (b) एमोक  
(c) एनोरेक्सिया नर्वोसा (d) सिजोफ्रेनिया

सही विकल्प चुने :

- (1) (a), (b) व (c) (2) (b), (c) व (d)  
(3) (a), (b) व (d) (4) (a), (c) व (d)

Options :

61547533289. 1  
61547533290. 2  
61547533291. 3  
61547533292. 4

Question Number : 99 Question Id : 6154758539 Question Type : MCQ Option Shuffling : No Display Question Number : Yes  
Single Line Question Option : No Option Orientation : Vertical

Correct Marks : 2 Wrong Marks : 0

Which of the following statements on Revitalization movements are correct?

- (a) They appear at moments of cultural stress.  
(b) They are usually the inspiration of one person or at most a few people.  
(c) They have anticipated and desirable consequences.  
(d) They begin as unfamiliar, often heretical or cultish phenomena.

Choose the correct option :

- (1) (a), (b) and (c) (2) (a), (b) and (d)  
(3) (a), (c) and (d) (4) (b), (c) and (d)

Options :

61547533293. 1  
61547533294. 2  
61547533295. 3  
61547533296. 4

Question Number : 99 Question Id : 6154758539 Question Type : MCQ Option Shuffling : No Display Question Number : Yes  
Single Line Question Option : No Option Orientation : Vertical

Correct Marks : 2 Wrong Marks : 0

पुनरुद्धार आंदोलन पर निम्नलिखित कथनों में से कौन से सही है?

- (a) वे सांस्कृतिक तनाव के क्षणों में दिखाई पड़ते हैं
- (b) वे सामान्यतः एक या कुछ व्यक्तियों की प्रेरणा होते हैं
- (c) इनके पूर्वाभासी व इच्छित परिणाम होते हैं
- (d) वे अपरिचित की तरह शुरू होते हैं, अक्सर विधर्मी या पंथ परिघटना होते हैं

सही विकल्प चुने :

- (1) (a), (b) व (c)
- (2) (a), (b) व (d)
- (3) (a), (c) व (d)
- (4) (b), (c) व (d)

Options :

61547533293. 1

61547533294. 2

61547533295. 3

61547533296. 4

Question Number : 100 Question Id : 6154758540 Question Type : MCQ Option Shuffling : No Display Question Number : Yes  
Single Line Question Option : No Option Orientation : Vertical

Correct Marks : 2 Wrong Marks : 0

During 1950s, different concepts have come out of studies in rural India. Some of the concepts are :

- (a) Rural cosmopolitanism.
- (b) Dominant caste
- (c) Culture of poverty.
- (d) Parochialisation and universalization.

Choose the correct answer from the options given below :

- (1) (a), (b) and (c) are correct
- (2) (a), (b) and (d) are correct
- (3) (b), (c) and (d) are correct
- (4) (a), (c) and (d) are correct

Options :

61547533297. 1

61547533298. 2

61547533299. 3

61547533300. 4

Question Number : 100 Question Id : 6154758540 Question Type : MCQ Option Shuffling : No Display Question Number : Yes  
Single Line Question Option : No Option Orientation : Vertical

Correct Marks : 2 Wrong Marks : 0

1950 के दौरान भारत के ग्रामीण क्षेत्रों के अध्ययन की विभिन्न संकल्पनाएं आईं। कुछ संकल्पनाएं हैं :

- (a) ग्रामीण कोस्मोपोलिटनिज्म (Rural cosmopolitanism)
- (b) प्रभावी जाति
- (c) निर्धनता की संस्कृति
- (d) संकीर्णीकरण व सार्वभौमिककरण

निम्नलिखित विकल्पों में से सही उत्तर चुनें :

- (1) (a), (b) व (c) सही हैं
- (2) (a), (b) व (d) सही हैं
- (3) (b), (c) व (d) सही हैं
- (4) (a), (c) व (d) सही हैं

Options :

61547533297. 1

61547533298. 2

61547533299. 3

61547533300. 4

Question Number : 101 Question Id : 6154758541 Question Type : MCQ Option Shuffling : No Display Question Number : Yes  
Single Line Question Option : No Option Orientation : Vertical

Correct Marks : 2 Wrong Marks : 0

A nucleotide is composed of :

- (a) A base
- (b) A sugar
- (c) A phosphate
- (d) A lipid

Choose the correct options :

- (1) (a), (b), (d)
- (2) (a), (c), (d)
- (3) (a), (b), (c)
- (4) (b), (c), (d)

Options :

61547533301. 1

61547533302. 2

61547533303. 3

61547533304. 4

Question Number : 101 Question Id : 6154758541 Question Type : MCQ Option Shuffling : No Display Question Number : Yes  
Single Line Question Option : No Option Orientation : Vertical

Correct Marks : 2 Wrong Marks : 0

न्यूक्लियोटाइड बना होता है :

- (a) झारक से (b) शर्करा से  
(c) फॉस्फेट से (d) लिपिड से

सही विकल्प चुने :

- (1) (a), (b), (d) (2) (a), (c), (d)  
(3) (a), (b), (c) (4) (b), (c), (d)

Options :

61547533301. 1  
61547533302. 2  
61547533303. 3  
61547533304. 4

Question Number : 102 Question Id : 6154758542 Question Type : MCQ Option Shuffling : No Display Question Number : Yes  
Single Line Question Option : No Option Orientation : Vertical

Correct Marks : 2 Wrong Marks : 0

Which of the following features are characteristic of albinism?

- (a) Altered genes cause defect in amino acid metabolism.  
(b) It is seen only in humans.  
(c) Melanin pigment is absent from the skin, hair, eyes.  
(d) Female albinos outnumber the male albinos.

Choose the most appropriate answer from the options given below :

- (1) (a) and (b) are correct (2) (a) and (c) are correct  
(3) (a), (b) and (c) are correct (4) (c) and (d) are correct

Options :

61547533305. 1  
61547533306. 2  
61547533307. 3  
61547533308. 4

Question Number : 102 Question Id : 6154758542 Question Type : MCQ Option Shuffling : No Display Question Number : Yes  
Single Line Question Option : No Option Orientation : Vertical

Correct Marks : 2 Wrong Marks : 0



निम्नलिखित में से कौन से लक्षण रंजकहीनता की विशेषता बताते हैं?

- (a) परिवर्तित जीन एमिनो एसिड के चयापचय की कमी का कारण है
- (b) यह केवल मानव में ही दिखाई पड़ता है
- (c) त्वचा, बाल, आँखों में मेलानिन पिग्मेंट नहीं होता है
- (d) रंजकहीन महिलाओं की संख्या रंजकहीन पुरुषों से अधिक है

नीचे दिए गए विकल्पों में से सबसे उपयुक्त विकल्प चुनें :

- (1) (a) व (b) सही हैं
- (2) (a) व (c) सही हैं
- (3) (a), (b) व (c) सही हैं
- (4) (c) व (d) सही हैं

Options :

61547533305. 1

61547533306. 2

61547533307. 3

61547533308. 4

Question Number : 103 Question Id : 6154758543 Question Type : MCQ Option Shuffling : No Display Question Number : Yes  
Single Line Question Option : No Option Orientation : Vertical

Correct Marks : 2 Wrong Marks : 0

Identify the correct order of the following components which are interrelated in research :

- (a) Observation
- (b) Hypothesis making
- (c) Developing concept
- (d) Method employed

Choose the correct answer using options given below :

- (1) (a), (d), (c), (b)
- (2) (a), (c), (d), (b)
- (3) (a), (c), (b), (d)
- (4) (a), (b), (c), (d)

Options :

61547533309. 1

61547533310. 2

61547533311. 3

61547533312. 4

Question Number : 103 Question Id : 6154758543 Question Type : MCQ Option Shuffling : No Display Question Number : Yes  
Single Line Question Option : No Option Orientation : Vertical

Correct Marks : 2 Wrong Marks : 0

निम्नलिखित घटक जो शोध से अन्तरसंबंधित हैं को सही क्रम में चिन्हित करें :

- |                       |                         |
|-----------------------|-------------------------|
| (a) अवलोकन            | (b) प्राक्कल्पना करना   |
| (c) संकल्पना का विकास | (d) विधि का प्रयोग करना |

नीचे दिए गये विकल्पों में से सही उत्तर चुनें :

- |                        |                        |
|------------------------|------------------------|
| (1) (a), (d), (c), (b) | (2) (a), (c), (d), (b) |
| (3) (a), (c), (b), (d) | (4) (a), (b), (c), (d) |

Options :

61547533309. 1  
61547533310. 2  
61547533311. 3  
61547533312. 4

Question Number : 104 Question Id : 6154758544 Question Type : MCQ Option Shuffling : No Display Question Number : Yes  
Single Line Question Option : No Option Orientation : Vertical

Correct Marks : 2 Wrong Marks : 0

Which of the following features best describe *Homo floresiensis*?

- (a) Taxon was erected by Brown et al.
- (b) The partial fossil sketeton dates to 16 - 18 Ka.
- (c) No stone tools were found along with it.
- (d) These fossils come from Italy.

Choose the most appropriate answer from the options given below :

- |                                  |                                  |
|----------------------------------|----------------------------------|
| (1) (a), (b) and (c) are correct | (2) (b), (c) and (d) are correct |
| (3) (b) and (c) are correct      | (4) (a) and (b) are correct      |

Options :

61547533313. 1  
61547533314. 2  
61547533315. 3  
61547533316. 4

Question Number : 104 Question Id : 6154758544 Question Type : MCQ Option Shuffling : No Display Question Number : Yes  
Single Line Question Option : No Option Orientation : Vertical

Correct Marks : 2 Wrong Marks : 0

निम्नलिखित में से कौन से लक्षण होमो फ्लोरेन्सिस का बेहतर वर्णन करते हैं?

- (a) ब्राउन व उनके सहयोगी ने टेक्सॉन को स्थापित किया था
- (b) अपूर्ण जीवाश्म कंकाल प्राप्त होने की तिथि 16-18 हजार वर्ष पूर्व है
- (c) इनके साथ पत्थर के औजार नहीं पाये गए थे
- (d) ये जीवाश्म इटली सी आये थे

नीचे दिए गए विकल्पों में से सबसे उपयुक्त उत्तर चुनें :

- (1) (a), (b) व (c) सही हैं
- (2) (b), (c) व (d) सही हैं
- (3) (b) व (c) सही हैं
- (4) (a) व (b) सही हैं

Options :

61547533313. 1

61547533314. 2

61547533315. 3

61547533316. 4

Question Number : 105 Question Id : 6154758545 Question Type : MCQ Option Shuffling : No Display Question Number : Yes  
Single Line Question Option : No Option Orientation : Vertical

Correct Marks : 2 Wrong Marks : 0

Which of the following features characterize New World Monkeys?

- (a) Their natural habitat is Australia and America.
- (b) Their teeth are always 32 in number.
- (c) They are platyrrhines.
- (d) Spider monkeys are the typical example of them.

Choose the correct answer from the options given below :

- (1) (a), (c) and (d) are correct
- (2) (a), (b) and (d) are correct
- (3) only (c) and (d) are correct
- (4) only (b) and (c) are correct

Options :

61547533317. 1

61547533318. 2

61547533319. 3

61547533320. 4

Question Number : 105 Question Id : 6154758545 Question Type : MCQ Option Shuffling : No Display Question Number : Yes  
Single Line Question Option : No Option Orientation : Vertical

Correct Marks : 2 Wrong Marks : 0

निम्नलिखित लक्षणों में से कौन सा लक्षण नई दुनिया के बन्दरों की विशेषता है?

- (a) उनका प्राकृतिक निवास आस्ट्रेलिया व अमेरिका है
- (b) उनके दाँतों की संख्या हमेशा 32 होती है
- (c) वे चपटी नाक वाले होते हैं
- (d) स्पाइडर बंदर (spider monkeys) उनके प्रतिनिधिक उदाहरण हैं

नीचे दिए गए विकल्पों में से सही उत्तर चुनें :

- (1) (a), (c) व (d) सही हैं
- (2) (a), (b) व (d) सही हैं
- (3) केवल (c) व (d) सही हैं
- (4) केवल (b) व (c) सही हैं

**Options :**

61547533317. 1

61547533318. 2

61547533319. 3

61547533320. 4

**Question Number : 106 Question Id : 6154758546 Question Type : MCQ Option Shuffling : No Display Question Number : Yes Single Line Question Option : No Option Orientation : Vertical**

**Correct Marks : 2 Wrong Marks : 0**

The features of Turner syndrome are :

- (a) 45 YO
- (b) May have heart defects
- (c) May have webbed neck
- (d) May have short stature

Choose the correct answer from the codes given below :

- (1) (a), (b) and (d) are correct
- (2) (b), (c) and (d) are correct
- (3) (a), (c) and (d) are correct
- (4) only (a) and (d) are correct

**Options :**

61547533321. 1

61547533322. 2

61547533323. 3

61547533324. 4

**Question Number : 106 Question Id : 6154758546 Question Type : MCQ Option Shuffling : No Display Question Number : Yes Single Line Question Option : No Option Orientation : Vertical**

**Correct Marks : 2 Wrong Marks : 0**

टर्नर सिन्ड्रोम के लक्षण हैं :

- |   |                         |
|---|-------------------------|
| (a) 45 YO                               | (b) हृदय दोष हो सकता है |
| (c) वेब्ड नैके (webbed neck) हो सकता है | (d) छोटा कद हो सकता है  |

निम्नलिखित विकल्पों में से सही उत्तर चुनें :

- |                            |                            |
|----------------------------|----------------------------|
| (1) (a), (b) व (d) सही हैं | (2) (b), (c) व (d) सही हैं |
| (3) (a), (c) व (d) सही हैं | (4) केवल (a) व (d) सही हैं |

Options :

61547533321. 1  
61547533322. 2  
61547533323. 3  
61547533324. 4

Question Number : 107 Question Id : 6154758547 Question Type : MCQ Option Shuffling : No Display Question Number : Yes  
Single Line Question Option : No Option Orientation : Vertical

Correct Marks : 2 Wrong Marks : 0

The features of autosomal inheritance are :

- (a) Traits tend to skip generations.
- (b) Traits appear in both sexes with equal frequency.
- (c) Affected offsprings are usually born to unaffected parents.
- (d) Unaffected persons are usually males.

Choose the correct answer from the options given below :

- |                                  |                                  |
|----------------------------------|----------------------------------|
| (1) (a), (c) and (d) are correct | (2) (b), (c) and (d) are correct |
| (3) only (c) and (d) are correct | (4) (a), (b) and (c) are correct |

Options :

61547533325. 1  
61547533326. 2  
61547533327. 3  
61547533328. 4

Question Number : 107 Question Id : 6154758547 Question Type : MCQ Option Shuffling : No Display Question Number : Yes  
Single Line Question Option : No Option Orientation : Vertical

Correct Marks : 2 Wrong Marks : 0

ऑटोसोमल आनुवंशिकता (autosomal recessive) के लक्षण होते हैं :

- (a) लक्षण किसी भी पीढ़ी में लुप्त हो जाते हैं
- (b) विशेषताएं दोनों लिंगों में समान बारम्बारता से प्रकट होते हैं
- (c) प्रभावित संताने सामान्यतः अप्रभावित माता-पिता से होती हैं
- (d) अप्रभावित व्यक्ति सामान्यतः पुरुष होते हैं

निम्नलिखित विकल्पों में से सही उत्तर चुनें :

- (1) (a), (c) व (d) सही हैं
- (2) (b), (c) व (d) सही हैं
- (3) केवल (c) व (d) सही हैं
- (4) (a), (b) व (c) सही हैं

Options :

61547533325. 1

61547533326. 2

61547533327. 3

61547533328. 4

Question Number : 108 Question Id : 6154758548 Question Type : MCQ Option Shuffling : No Display Question Number : Yes  
Single Line Question Option : No Option Orientation : Vertical

Correct Marks : 2 Wrong Marks : 0

The characteristic features of G6PD deficiency are :

- (a) It is an example of pharmacogenetic disease.
- (b) Females are more prone to suffer from this disease.
- (c) It is absent in Indian tribal groups.
- (d) It is a sex-linked recessive disease.

Choose the most appropriate answer from the option given below :

- (1) (a), (b) and (c) are correct
- (2) (a) and (d) are correct
- (3) (b) and (d) are correct
- (4) (c) and (d) are correct

Options :

61547533329. 1

61547533330. 2

61547533331. 3

61547533332. 4

Question Number : 108 Question Id : 6154758548 Question Type : MCQ Option Shuffling : No Display Question Number : Yes  
Single Line Question Option : No Option Orientation : Vertical

Correct Marks : 2 Wrong Marks : 0

जी-6-पी-डी की कमी का चारित्रिक लक्षण है :

- (a) यह फॉर्मोकोजेनेटिक रोगों का उदाहरण है
- (b) महिलाओं की इस रोग से पीड़ित होने की अधिक संभावना होती है
- (c) यह भारतीय जनजातियों में नहीं होती
- (d) यह लिंग सहलग्न अप्रभावी (sex-linked recessive) रोग है

निम्नलिखित विकल्पों में से सबसे उपयुक्त चुनें :

- (1) (a), (b) व (c) सही हैं
- (2) (a) व (d) सही हैं
- (3) (b) व (d) सही हैं
- (4) (c) व (d) सही हैं

Options :

- 61547533329. 1
- 61547533330. 2
- 61547533331. 3
- 61547533332. 4

Question Number : 109 Question Id : 6154758549 Question Type : MCQ Option Shuffling : No Display Question Number : Yes  
Single Line Question Option : No Option Orientation : Vertical

Correct Marks : 2 Wrong Marks : 0

Factors which tend to change gene frequency are

- (a) Random mating
- (b) Genetic drift
- (c) Natural selection
- (d) High altitude

Choose the correct answer from the option given below :

- (1) only (b) and (c) are correct
- (2) (a), (b) and (c) are correct
- (3) (b), (c) and (d) are correct
- (4) (a), (c) and (d) are correct

Options :

- 61547533333. 1
- 61547533334. 2
- 61547533335. 3
- 61547533336. 4

Question Number : 109 Question Id : 6154758549 Question Type : MCQ Option Shuffling : No Display Question Number : Yes  
Single Line Question Option : No Option Orientation : Vertical

Correct Marks : 2 Wrong Marks : 0

घटक जिनकी जीन आवृत्ति में परिवर्तन की प्रवृत्ति होती है, वे हैं :

- (a) याद्रेच्छिक समागम (b) आनुवंशिक संवहन  
(c) प्राकृतिक चयन (d) उच्च स्थल (हाई आल्टिट्यूड)

निम्नलिखित विकल्पों में से सही उत्तर चुनें :

- (1) केवल (b) व (c) सही हैं (2) (a), (b) व (c) सही हैं  
(3) (b), (c) व (d) सही हैं (4) (a), (c) व (d) सही हैं

Options :

61547533333. 1

61547533334. 2

61547533335. 3

61547533336. 4

Question Number : 110 Question Id : 6154758550 Question Type : MCQ Option Shuffling : No Display Question Number : Yes  
Single Line Question Option : No Option Orientation : Vertical

Correct Marks : 2 Wrong Marks : 0

Which of the following tools are geometric microliths?

- (a) Lunates  
(b) Triangles  
(c) Trancets  
(d) Trapezes

Choose the correct option :

- (1) (a), (b) and (c) (2) (a), (c) and (d)  
(3) (b), (c) and (d) (4) (a), (b) and (d)

Options :

61547533337. 1

61547533338. 2

61547533339. 3

61547533340. 4

Question Number : 110 Question Id : 6154758550 Question Type : MCQ Option Shuffling : No Display Question Number : Yes  
Single Line Question Option : No Option Orientation : Vertical

Correct Marks : 2 Wrong Marks : 0



निम्नलिखित उपकरणों में से कौन सा ज्यामितिय-माइक्रोलिथस् (geometric microliths) है?

- (a) नवचन्द्राकार (Lunates) (b) त्रिकोण (Triangle)  
(c) ट्रान्सेट (Trancets) (d) ट्रेपीज (Trapezes)

सही विकल्प चुनें :

- (1) (a), (b) व (c) (2) (a), (c) व (d)  
(3) (b), (c) व (d) (4) (a), (b) व (d)

Options :

61547533337. 1  
61547533338. 2  
61547533339. 3  
61547533340. 4

Question Number : 111 Question Id : 6154758551 Question Type : MCQ Option Shuffling : No Display Question Number : Yes  
Single Line Question Option : No Option Orientation : Vertical

Correct Marks : 2 Wrong Marks : 0

Arrange the following pioneers in the field of anthropometry in ascending order on the basis of their contribution.

- (a) Johann Friedrich Blumenbach  
(b) Peter Camper  
(c) P. Broca  
(d) Paul Topinard

Choose the correct answer from the codes given below :

- (1) (a), (b), (d), (c) (2) (a), (c), (b), (d)  
(3) (c), (d), (a), (b) (4) (a), (b), (c), (d)

Options :

61547533341. 1  
61547533342. 2  
61547533343. 3  
61547533344. 4

Question Number : 111 Question Id : 6154758551 Question Type : MCQ Option Shuffling : No Display Question Number : Yes  
Single Line Question Option : No Option Orientation : Vertical

Correct Marks : 2 Wrong Marks : 0

मानवमिति के क्षेत्र के निम्नलिखित अग्रणियों (pioneers) को उनके योगदान के अनुसार आरोही क्रमानुसार व्यवस्थित करें :

- (a) जोहान फ्रेडरिच ब्लूमेनबैक (b) पीटर केम्पर  
(c) पी. ब्रोका (d) पॉल टोपिनार्ड

निम्नलिखित विकल्प में से सही उत्तर चुनें :

- (1) (a), (b), (d), (c) (2) (a), (c), (b), (d)  
(3) (c), (d), (a), (b) (4) (a), (b), (c), (d)

Options :

- 61547533341. 1
- 61547533342. 2
- 61547533343. 3
- 61547533344. 4

Question Number : 112 Question Id : 6154758552 Question Type : MCQ Option Shuffling : No Display Question Number : Yes  
Single Line Question Option : No Option Orientation : Vertical

Correct Marks : 2 Wrong Marks : 0

Early Neolithic farming in the Near East was limited to :

- (a) Einkorn
- (b) Barley
- (c) Rice
- (d) Oats

Choose the correct options :

- (1) (a) and (b)
- (2) (a) and (c)
- (3) (a) and (d)
- (4) (b) and (d)

Options :

- 61547533345. 1
- 61547533346. 2
- 61547533347. 3
- 61547533348. 4

Question Number : 112 Question Id : 6154758552 Question Type : MCQ Option Shuffling : No Display Question Number : Yes  
Single Line Question Option : No Option Orientation : Vertical

Correct Marks : 2 Wrong Marks : 0

नियर इस्ट (Near East) में पूर्व-नवपाषाण कृषि सीमित थी :

- (a) एनकार्न (Einkorn)
- (b) जौ
- (c) धान
- (d) जई

सही विकल्प चुनें :

- (1) (a) व (b)
- (2) (a) व (c)
- (3) (a) व (d)
- (4) (b) व (d)

Options :

- 61547533345. 1
- 61547533346. 2
- 61547533347. 3
- 61547533348. 4

Question Number : 113 Question Id : 6154758553 Question Type : MCQ Option Shuffling : No Display Question Number : Yes  
Single Line Question Option : No Option Orientation : Vertical

Correct Marks : 2 Wrong Marks : 0

Primitive surgery, such as trepanning and dental surgery, is seen in which of the following sites?

- (a) Mehrgarh
- (b) Burzahom
- (c) Langhnaj
- (d) Sangankallu

Choose the correct options :

- (1) (a), (b) and (c)
- (2) (b), (c) and (d)
- (3) (a), (c) and (d)
- (4) (a), (b) and (d)

Options :

61547533349. 1

61547533350. 2

61547533351. 3

61547533352. 4

Question Number : 113 Question Id : 6154758553 Question Type : MCQ Option Shuffling : No Display Question Number : Yes  
Single Line Question Option : No Option Orientation : Vertical

Correct Marks : 2 Wrong Marks : 0

आदिम शल्य चिकित्सा जैसे कि ट्रिपैनिंग व दंत शल्य चिकित्सा निम्नलिखित में से किन क्षेत्रों में दिखाई पड़ती हैं?

- (a) मेहरगढ़
- (b) बुर्जहोम
- (c) लान्गनाज
- (d) सानगानकल्लू

सही विकल्प चुनें :

- (1) (a), (b) व (c)
- (2) (b), (c) व (d)
- (3) (a), (c) व (d)
- (4) (a), (b) व (d)

Options :

61547533349. 1

61547533350. 2

61547533351. 3

61547533352. 4

Question Number : 114 Question Id : 6154758554 Question Type : MCQ Option Shuffling : No Display Question Number : Yes  
Single Line Question Option : No Option Orientation : Vertical

Correct Marks : 2 Wrong Marks : 0

Which of the following statements about Indian rock art are correct?

- (a) Sites are usually covered with thick forests and close to water sources.
- (b) Smoothness of the rock surface was an important factor.
- (c) They are located at some height from the surrounding ground.
- (d) Dwelling places were always adorned with paintings.

Choose the correct options :

- (1) (a) and (c)
- (2) (b) and (c)
- (3) (b) and (d)
- (4) (a) and (d)

Options :

- 61547533353. 1
- 61547533354. 2
- 61547533355. 3
- 61547533356. 4

Question Number : 114 Question Id : 6154758554 Question Type : MCQ Option Shuffling : No Display Question Number : Yes  
Single Line Question Option : No Option Orientation : Vertical

Correct Marks : 2 Wrong Marks : 0

भारतीय शैल कला पर निम्नलिखित कथन में से कौन सा सही है?

- (a) सामान्यतः स्थल घने जंगलों व जल स्रोतों के निकट हैं
- (b) चट्टानों के सतह का चिकनापन एक महत्वपूर्ण घटक है
- (c) वे आसपास की भूमि से कुछ ऊँचाई पर स्थित होते हैं
- (d) निवास स्थानों को हमेशा चित्रकला से सुसज्जित किए जाते थे

सही विकल्प को चुनें :

- (1) (a) व (c)
- (2) (b) व (c)
- (3) (b) व (d)
- (4) (a) व (d)

Options :

- 61547533353. 1
- 61547533354. 2
- 61547533355. 3
- 61547533356. 4

Question Number : 115 Question Id : 6154758555 Question Type : MCQ Option Shuffling : No Display Question Number : Yes  
Single Line Question Option : No Option Orientation : Vertical

Correct Marks : 2 Wrong Marks : 0

Which of the following statements about Chalcolithic in India are correct?

- (a) All sites have been found on the banks of rivers or near them.
- (b) Each cluster of sites appear to be colonies.
- (c) There were identical structures, houses and fabric pattern.
- (d) It was a copper and lithic blade culture.

Choose the correct options :

- (1) (a), (b) and (c)
- (2) (a), (c) and (d)
- (3) (a), (b) and (d)
- (4) (b), (c) and (d)

Options :

- 61547533357. 1
- 61547533358. 2
- 61547533359. 3
- 61547533360. 4

Question Number : 115 Question Id : 6154758555 Question Type : MCQ Option Shuffling : No Display Question Number : Yes  
Single Line Question Option : No Option Orientation : Vertical

Correct Marks : 2 Wrong Marks : 0

भारत में ताम्र पाषाण पर निम्नलिखित कथनों में से कौन से सही हैं?

- (a) सभी स्थल नदियों के किनारे या उनके निकट पाये गए हैं
- (b) सभी स्थलों के समूह बास्तियों के रूप में थी
- (c) समरूप संरचनाएँ, घर व कपड़ों के नमूने थे
- (d) यह ताम्र व पत्थर ब्लेड संस्कृति है

सही विकल्प चुनें :

- (1) (a), (b) व (c)
- (2) (a), (c) व (d)
- (3) (a), (b) व (d)
- (4) (b), (c) व (d)

Options :

- 61547533357. 1
- 61547533358. 2
- 61547533359. 3
- 61547533360. 4

Question Number : 116 Question Id : 6154758556 Question Type : MCQ Option Shuffling : No Display Question Number : Yes  
Single Line Question Option : No Option Orientation : Vertical

Correct Marks : 2 Wrong Marks : 0

Match an item in List – I with the item in List – II :

List-I

- (a) Kadar
- (b) Gujjar
- (c) Bhumi
- (d) Mahali

List-I

- (i) Plains agriculturalist
- (ii) Artisan
- (iii) Hunters and Gatherers
- (iv) Pastoralist

Choose the correct answer :

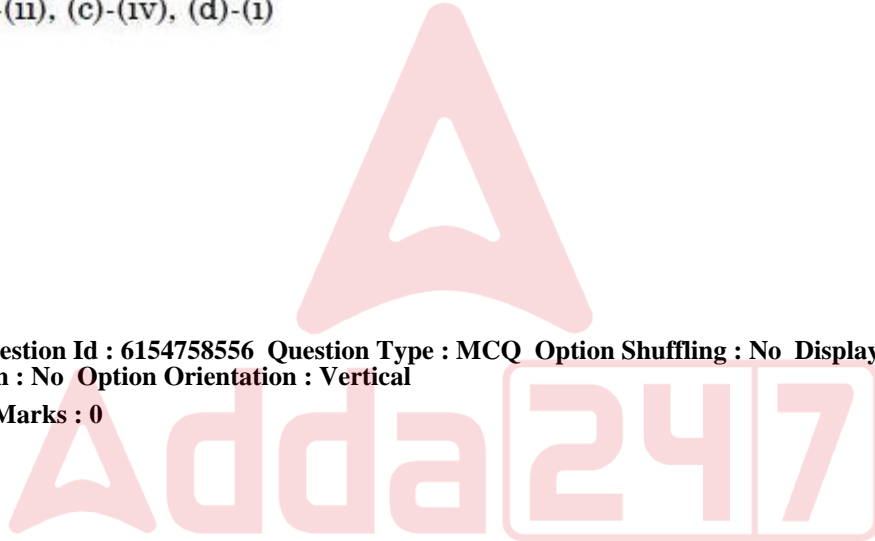
- (1) (a)-(iii), (b)-(iv), (c)-(i), (d)-(ii)
- (2) (a)-(i), (b)-(ii), (c)-(iii), (d)-(iv)
- (3) (a)-(iv), (b)-(iii), (c)-(ii), (d)-(i)
- (4) (a)-(iii), (b)-(ii), (c)-(iv), (d)-(i)

Options :

- 61547533361. 1
- 61547533362. 2
- 61547533363. 3
- 61547533364. 4

Question Number : 116 Question Id : 6154758556 Question Type : MCQ Option Shuffling : No Display Question Number : Yes  
Single Line Question Option : No Option Orientation : Vertical

Correct Marks : 2 Wrong Marks : 0



सूची-I को सूची-II से सुमेलित कीजिए :

सूची-I

सूची-II

(a) कादर

(i) मैदानी कृषक

(b) गुजर

(ii) कारीगर

(c) भूमिज

(iii) शिकारी तथा खाद्य संग्राहक

(d) महाली

(iv) पशुपालक

सही उत्तर चुनें :

(1) (a)-(iii), (b)-(iv), (c)-(i), (d)-(ii)

(2) (a)-(i), (b)-(ii), (c)-(iii), (d)-(iv)

(3) (a)-(iv), (b)-(iii), (c)-(ii), (d)-(i)

(4) (a)-(iii), (b)-(ii), (c)-(iv), (d)-(i)

Options :

61547533361. 1

61547533362. 2

61547533363. 3

61547533364. 4

Question Number : 117 Question Id : 6154758557 Question Type : MCQ Option Shuffling : No Display Question Number : Yes  
Single Line Question Option : No Option Orientation : Vertical

Correct Marks : 2 Wrong Marks : 0

Match an item in List – I with the item in List – II :

List-I	List-I
(a) M.N. Srinivas	(i) Physical Anthropology
(b) L.P. Vidyarthi	(ii) Dominant Individuals
(c) S.C. Dube	(iii) Nature-man-spirit complex
(d) B.M. Das	(iv) Sanskritization

Choose the correct answer from the options given belows :

- (1) (a)-(i), (b)-(iv), (c)-(iii), (d)-(ii)
- (2) (a)-(iv), (b)-(iii), (c)-(ii), (d)-(i)
- (3) (a)-(iii), (b)-(i), (c)-(iv), (d)-(ii)
- (4) (a)-(ii), (b)-(iii), (c)-(i), (d)-(iv)

Options :

61547533365. 1

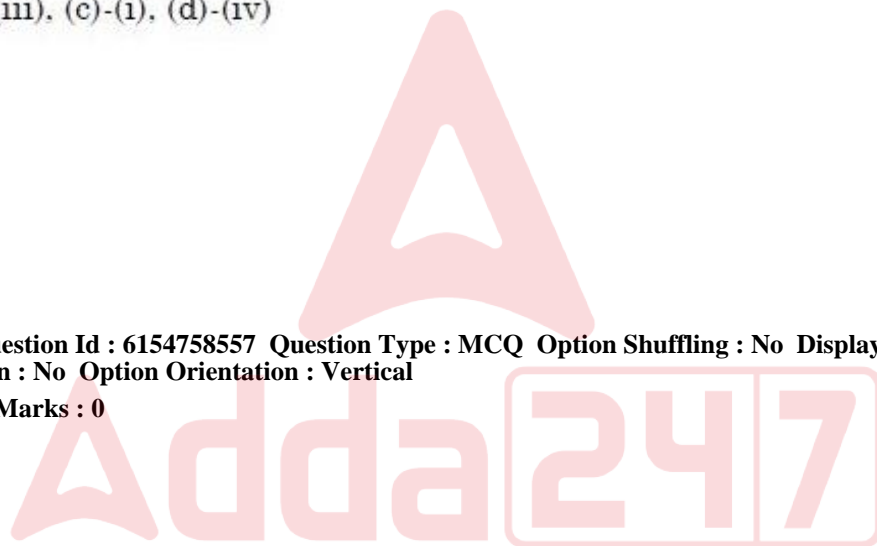
61547533366. 2

61547533367. 3

61547533368. 4

Question Number : 117 Question Id : 6154758557 Question Type : MCQ Option Shuffling : No Display Question Number : Yes  
Single Line Question Option : No Option Orientation : Vertical

Correct Marks : 2 Wrong Marks : 0





सूची-I को सूची-II से सुमेलित कीजिए :

सूची-I

सूची-II

- (a) एम.एन. श्रीनिवास
- (b) एल.पी. विद्यार्थी
- (c) एस.सी. दुबे
- (d) बी.एम. दास

- (i) फिजिकल एन्थ्रोपोलॉजी
- (ii) डोमिनेन्ट इन्डिविजुअलस्
- (iii) नेचर-मैन-स्पिरिट काम्पलेक्स
- (iv) संस्कृटाइजेशन

निम्नलिखित में से सही उत्तर चुनें :

- (1) (a)-(i), (b)-(iv), (c)-(iii), (d)-(ii)
- (2) (a)-(iv), (b)-(iii), (c)-(ii), (d)-(i)
- (3) (a)-(iii), (b)-(i), (c)-(iv), (d)-(ii)
- (4) (a)-(ii), (b)-(iii), (c)-(i), (d)-(iv)

Options :

- 61547533365. 1
- 61547533366. 2
- 61547533367. 3
- 61547533368. 4

Question Number : 118 Question Id : 6154758558 Question Type : MCQ Option Shuffling : No Display Question Number : Yes  
Single Line Question Option : No Option Orientation : Vertical  
Correct Marks : 2 Wrong Marks : 0

Match the following item in List – I with List – II :

List-I	List-I
(a) Pahariya Movement	(i) 1941
(b) Santhal Revolt	(ii) 1911
(c) Bastar Uprising	(iii) 1855
(d) Gond and Kolam Movement	(iv) 1778

Choose the correct answer from the options given below :

- (1) (a)-(i), (b)-(ii), (c)-(iv), (d)-(iii)
- (2) (a)-(ii), (b)-(i), (c)-(iii), (d)-(iv)
- (3) (a)-(iv), (b)-(iii), (c)-(ii), (d)-(i)
- (4) (a)-(iii), (b)-(iv), (c)-(i), (d)-(ii)

Options :

61547533369. 1

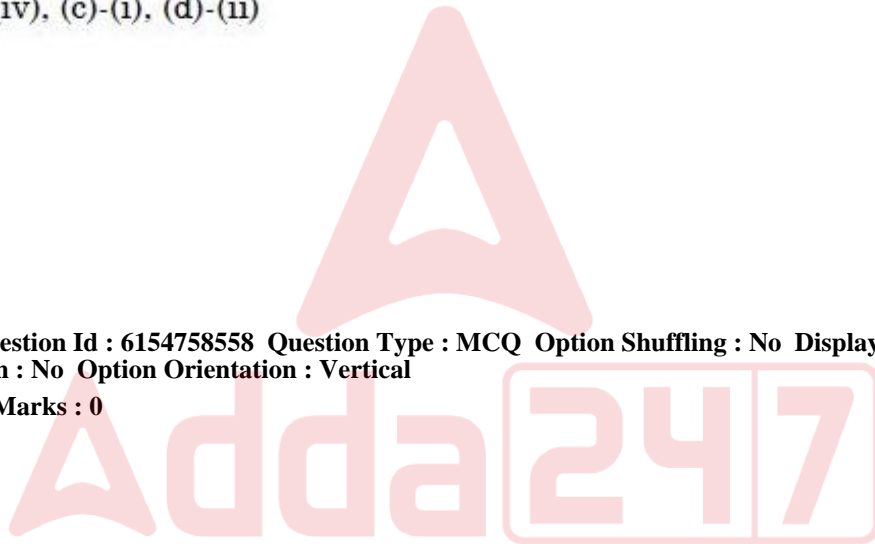
61547533370. 2

61547533371. 3

61547533372. 4

Question Number : 118 Question Id : 6154758558 Question Type : MCQ Option Shuffling : No Display Question Number : Yes  
Single Line Question Option : No Option Orientation : Vertical

Correct Marks : 2 Wrong Marks : 0



सूची-I को सूची-II से सुमेलित कीजिए :

सूची-I	सूची-II
(a) पाहड़िया आन्दोलन	(i) 1941
(b) सन्थाल विद्रोह	(ii) 1911
(c) बस्तर विप्लव	(iii) 1855
(d) गोण्ड व कोलम आन्दोलन	(iv) 1778

निम्नलिखित विकल्पों में से सही उत्तर लिखें :

- (1) (a)-(i), (b)-(ii), (c)-(iv), (d)-(iii)
- (2) (a)-(ii), (b)-(i), (c)-(iii), (d)-(iv)
- (3) (a)-(iv), (b)-(iii), (c)-(ii), (d)-(i)
- (4) (a)-(iii), (b)-(iv), (c)-(i), (d)-(ii)

Options :

61547533369. 1

61547533370. 2

61547533371. 3

61547533372. 4

Question Number : 119 Question Id : 6154758559 Question Type : MCQ Option Shuffling : No Display Question Number : Yes  
Single Line Question Option : No Option Orientation : Vertical

Correct Marks : 2 Wrong Marks : 0

Match the following types of ethnography :

- |                            |  |
|----------------------------|--|
| (a) Narrative ethnography  | (i) Turning of the ethnographic gaze inward on the self while maintaining the outward gaze |
| (b) Auto ethnography       | (ii) "Voice" of informants adverbation as they discuss what they feel and how they feel    |
| (c) Native ethnography     | (iii) Voice of the 'other' through more involvement of research participants               |
| (d) Dialogical ethnography | (iv) Ethnography by former subjects who are now authors of studies of their own group      |

Choose the correct answer :

- (1) (a)-(i), (b)-(iv), (c)-(ii), (d)-(iii)
- (2) (a)-(ii), (b)-(iii), (c)-(i), (d)-(iv)
- (3) (a)-(iii), (b)-(i), (c)-(iv), (d)-(ii)
- (4) (a)-(iv), (b)-(ii), (c)-(iii), (d)-(i)

Options :

61547533373. 1

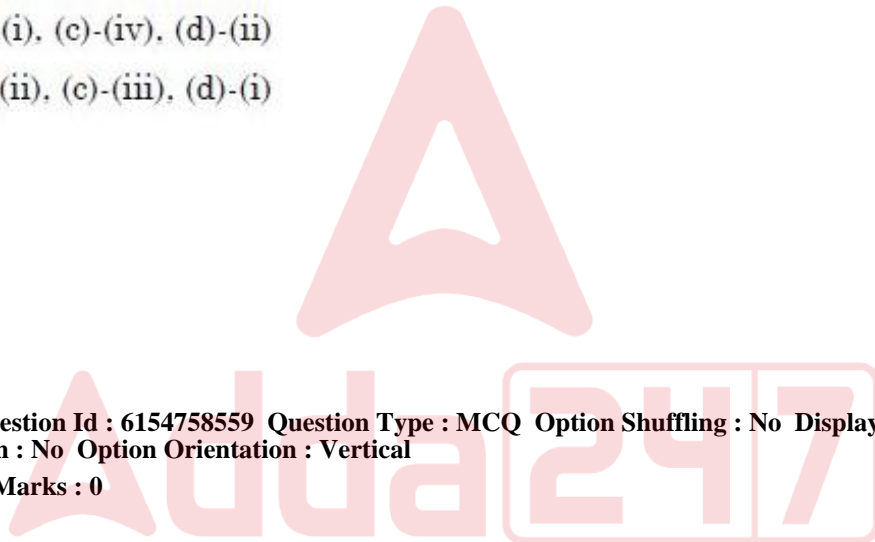
61547533374. 2

61547533375. 3

61547533376. 4

Question Number : 119 Question Id : 6154758559 Question Type : MCQ Option Shuffling : No Display Question Number : Yes  
Single Line Question Option : No Option Orientation : Vertical

Correct Marks : 2 Wrong Marks : 0



निम्नलिखित प्रकार के नृजाति विज्ञान को सुमेलित कीजिए :

- |   |  |
|---|--|
| (a) वर्णनात्मक नृजाति विज्ञान           | (i) नृजातीय नजर को भीतर स्वयं पर लगाना जबकि बाहरी नजर बरकरार रहे   |
| (b) स्व नृजाति विज्ञान                  | (ii) जब सूचनादाता चर्चा करते हैं, कि वे क्या और कैसा अनुभव कर रहे हैं, उनकी शब्दशः 'आवाज'                                  |
| (c) देशज नृजाति विज्ञान                 | (iii) शोध भागीदारों को और अधिक लिप्तता द्वारा "अन्य" की आवाज   |
| (d) वाकोपवाक (डायलॉजिकल) नृजाति विज्ञान | (iv) ऐसे भूतपूर्व विषय वस्तु (सब्जेक्ट) रहे व्यक्तियों द्वारा नृजाती अध्ययन, जो अब स्वयं अपने समूह के अध्ययनों के लेखक हैं |

सही विकल्प चुनिए :

- (1) (a)-(i), (b)-(iv), (c)-(ii), (d)-(iii)
- (2) (a)-(ii), (b)-(iii), (c)-(i), (d)-(iv)
- (3) (a)-(iii), (b)-(i), (c)-(iv), (d)-(ii)
- (4) (a)-(iv), (b)-(ii), (c)-(iii), (d)-(i)

Options :

61547533373. 1
61547533374. 2
61547533375. 3
61547533376. 4

Question Number : 120 Question Id : 6154758560 Question Type : MCQ Option Shuffling : No Display Question Number : Yes  
Single Line Question Option : No Option Orientation : Vertical  
Correct Marks : 2 Wrong Marks : 0

Match the following item in List – I with item in List – II :

List-I	List-I
(a) Arthur Fox	(i) G6PD deficiency
(b) Asbjorn Folling	(ii) PTC tasting ability
(c) A.E. Garrod	(iii) Phenylketonuria
(d) W. Cordes	(iv) Alkaptonuria

Choose the correct answer :

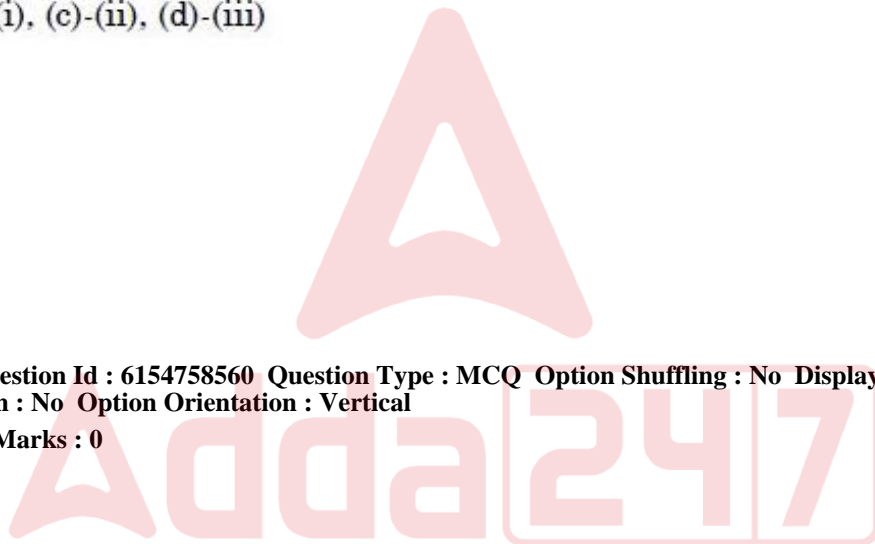
- (1) (a)-(i), (b)-(ii), (c)-(iii), (d)-(iv)
- (2) (a)-(ii), (b)-(iii), (c)-(iv), (d)-(i)
- (3) (a)-(iii), (b)-(iv), (c)-(i), (d)-(ii)
- (4) (a)-(iv), (b)-(i), (c)-(ii), (d)-(iii)

Options :

- 61547533377. 1
- 61547533378. 2
- 61547533379. 3
- 61547533380. 4

Question Number : 120 Question Id : 6154758560 Question Type : MCQ Option Shuffling : No Display Question Number : Yes  
Single Line Question Option : No Option Orientation : Vertical

Correct Marks : 2 Wrong Marks : 0



सूची-I को मर्दों को सूची-II की मर्दों के साथ सुमेलित कीजिए :

सूची-I

- (a) आर्थर फॉक्स
- (b) एस्बर्जोर्न फॉलिंग
- (c) ए.ई. गैरॉड
- (d) डबल्यू कॉर्डस

सूची-II

- (i) जी-6-पी-डी की कमी
- (ii) PTC चखने (टेस्टिंग) की क्षमता
- (iii) फिनाईलकिटोनूरिया
- (iv) एल्कैप्टोनूरिया

नीचे दिए गए विकल्पों से सही विकल्प चुनिए :

- (1) (a)-(i), (b)-(ii), (c)-(iii), (d)-(iv)
- (2) (a)-(ii), (b)-(iii), (c)-(iv), (d)-(i)
- (3) (a)-(iii), (b)-(iv), (c)-(i), (d)-(ii)
- (4) (a)-(iv), (b)-(i), (c)-(ii), (d)-(iii)

Options :

- 61547533377. 1
- 61547533378. 2
- 61547533379. 3
- 61547533380. 4

Question Number : 121 Question Id : 6154758561 Question Type : MCQ Option Shuffling : No Display Question Number : Yes  
Single Line Question Option : No Option Orientation : Vertical  
Correct Marks : 2 Wrong Marks : 0

Match the item in List – I with the item in List – II :

List-I

- (a) Cystic fibrosis
- (b) Hemophilia
- (c) Vitamin – D resistant rickets
- (d) Huntington disease

List-I

- (i) X-linked dominant
- (ii) Autosomal dominant
- (iii) X-linked recessive
- (iv) Autosomal recessive

Choose the correct option from those given below :

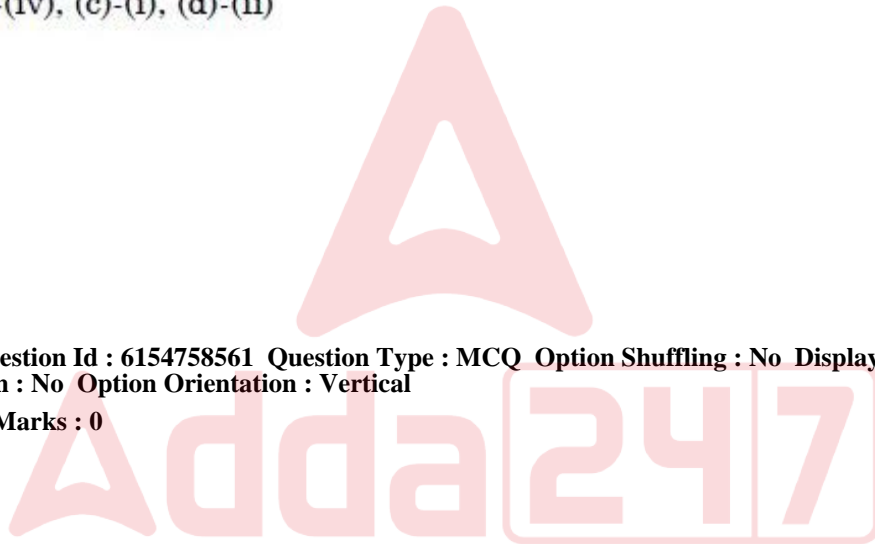
- (1) (a)-(ii), (b)-(i), (c)-(iii), (d)-(iv)
- (2) (a)-(i), (b)-(ii), (c)-(iii), (d)-(iv)
- (3) (a)-(iv), (b)-(iii), (c)-(i), (d)-(ii)
- (4) (a)-(iii), (b)-(iv), (c)-(i), (d)-(ii)

Options :

- 61547533381. 1
- 61547533382. 2
- 61547533383. 3
- 61547533384. 4

Question Number : 121 Question Id : 6154758561 Question Type : MCQ Option Shuffling : No Display Question Number : Yes  
Single Line Question Option : No Option Orientation : Vertical

Correct Marks : 2 Wrong Marks : 0





सूची-I को मर्दों को सूची-II की मर्दों के साथ सुमेलित कीजिए :

सूची-I

- (a) सिस्टिक फाईब्रोसिस
- (b) हीमोफीलिया
- (c) विटामिन-डी प्रतिरोधी रिकेटस
- (d) हांटिग्टन रोग

सूची-II

- (i) X-सहलग्न प्रभावी
- (ii) आटोसोमल प्रभावी
- (iii) X-सहलग्न अप्रभावी
- (iv) आटोसोमल अप्रभावी

नीचे दिए गए विकल्पों से सही विकल्प चुनिए :

- (1) (a)-(ii), (b)-(i), (c)-(iii), (d)-(iv)
- (2) (a)-(i), (b)-(ii), (c)-(iii), (d)-(iv)
- (3) (a)-(iv), (b)-(iii), (c)-(i), (d)-(ii)
- (4) (a)-(iii), (b)-(iv), (c)-(i), (d)-(ii)

Options :

- 61547533381. 1
- 61547533382. 2
- 61547533383. 3
- 61547533384. 4

Question Number : 122 Question Id : 6154758562 Question Type : MCQ Option Shuffling : No Display Question Number : Yes  
Single Line Question Option : No Option Orientation : Vertical  
Correct Marks : 2 Wrong Marks : 0

Match the item in List – I with the item in List – II :

List-I

List-I

- |   |                      |
|---|----------------------|
| (a) An Essay on the Principle of Population | (i) James Hutton     |
| (b) Principles of Geology                   | (ii) Charles Lyell   |
| (c) Theory of the Earth                     | (iii) T.R. Malthus   |
| (d) Natural History                         | (iv) Conte de Buffon |

Choose the correct option from those given below :

- (1) (a)-(i), (b)-(iii), (c)-(ii), (d)-(iv)
- (2) (a)-(iii), (b)-(ii), (c)-(i), (d)-(iv)
- (3) (a)-(iv), (b)-(ii), (c)-(iii), (d)-(i)
- (4) (a)-(ii), (b)-(iv), (c)-(i), (d)-(iii)

Options :

61547533385. 1

61547533386. 2

61547533387. 3

61547533388. 4

Question Number : 122 Question Id : 6154758562 Question Type : MCQ Option Shuffling : No Display Question Number : Yes  
Single Line Question Option : No Option Orientation : Vertical

Correct Marks : 2 Wrong Marks : 0



सूची-I में दी गई मदों को सूची-II की मदों के साथ सुमेलित कीजिए :

सूची-I	सूची-II
(a) एन एसे ऑन दि प्रिंसिपल्स ऑफ पापुलेशन	(i) जेम्स हट्टन
(b) प्रिंसिपल्स ऑफ जियोलॉजी	(ii) चार्ल्स लाईल
(c) थ्योरी ऑफ अर्थ	(iii) टी.आर. माल्थस
(d) नेचुरल हिस्ट्री	(iv) कान्ते डी बर्फन

नीचे दिए गए सभी विकल्पों से सही विकल्प चुनिए :

- (1) (a)-(i), (b)-(iii), (c)-(ii), (d)-(iv)
- (2) (a)-(iii), (b)-(ii), (c)-(i), (d)-(iv)
- (3) (a)-(iv), (b)-(ii), (c)-(iii), (d)-(i)
- (4) (a)-(ii), (b)-(iv), (c)-(i), (d)-(iii)

Options :

61547533385. 1
61547533386. 2
61547533387. 3
61547533388. 4

Question Number : 123 Question Id : 6154758563 Question Type : MCQ Option Shuffling : No Display Question Number : Yes  
Single Line Question Option : No Option Orientation : Vertical  
Correct Marks : 2 Wrong Marks : 0

Match the fossils in List – I with the countries in which they were first discovered in

List – II :

List-I

- (a) *Gigantopithecus*
- (b) *Homo floresiensis*
- (c) *Australopithecus*
- (d) *Dryopithecus*

List-I

- (i) *France*
- (ii) *South Africa*
- (iii) *Indonesia*
- (iv) *China*

Choose the correct option from those given below :

- (1) (a)-(i), (b)-(ii), (c)-(iv), (d)-(iii)
- (2) (a)-(ii), (b)-(iii), (c)-(i), (d)-(iv)
- (3) (a)-(ii), (b)-(i), (c)-(iv), (d)-(iii)
- (4) (a)-(iv), (b)-(iii), (c)-(ii), (d)-(i)

Options :

- 61547533389. 1
- 61547533390. 2
- 61547533391. 3
- 61547533392. 4

Question Number : 123 Question Id : 6154758563 Question Type : MCQ Option Shuffling : No Display Question Number : Yes  
Single Line Question Option : No Option Orientation : Vertical

Correct Marks : 2 Wrong Marks : 0



सूची-I में दिए गए जीवाश्मों को सूची-II में दिए गए देशों, जहाँ थे सबसे पहले खोजे गए, के साथ सुमेलित कीजिए :

सूची-I	सूची-II
(a) <u>जाइगैन्टोपिथेकस</u>	(i) <u>फ्रांस</u>
(b) <u>होमो फ्लोरसिसिस</u>	(ii) <u>दक्षिण अफ्रीका</u>
(c) <u>आस्ट्रेलोपिथेकस</u>	(iii) <u>इंडोनेशिया</u>
(d) <u>ड्रायोपिथेकस</u>	(iv) <u>चीन</u>

नीचे दिए गए विकल्पों से सही विकल्प चुनिए :

- (1) (a)-(i), (b)-(ii), (c)-(iv), (d)-(iii)
- (2) (a)-(ii), (b)-(iii), (c)-(i), (d)-(iv)
- (3) (a)-(ii), (b)-(i), (c)-(iv), (d)-(iii)
- (4) (a)-(iv), (b)-(iii), (c)-(ii), (d)-(i)

Options :

61547533389. 1

61547533390. 2

61547533391. 3

61547533392. 4

Question Number : 124 Question Id : 6154758564 Question Type : MCQ Option Shuffling : No Display Question Number : Yes  
Single Line Question Option : No Option Orientation : Vertical

Correct Marks : 2 Wrong Marks : 0

Match the items in List – I with the items in List – II :

List-I	List-I
(a) Turner syndrome	(i) Mitotic non-disjunction
(b) Mosaic	(ii) 45X
(c) Polyploidy	(iii) Extra chromosome set
(d) Tetrasomy	(iv) $2n + 2$

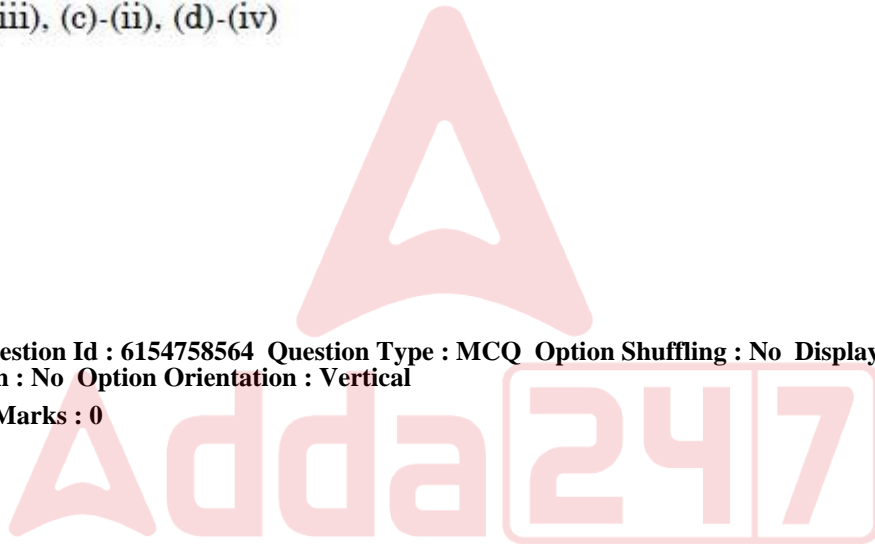
Choose the correct option from those given below :

- (1) (a)-(ii), (b)-(iii), (c)-(i), (d)-(iv)
- (2) (a)-(ii), (b)-(i), (c)-(iii), (d)-(iv)
- (3) (a)-(iv), (b)-(iii), (c)-(ii), (d)-(i)
- (4) (a)-(i), (b)-(iii), (c)-(ii), (d)-(iv)

Options :

61547533393. 1
61547533394. 2
61547533395. 3
61547533396. 4

Question Number : 124 Question Id : 6154758564 Question Type : MCQ Option Shuffling : No Display Question Number : Yes  
Single Line Question Option : No Option Orientation : Vertical  
Correct Marks : 2 Wrong Marks : 0



सूची-I की मदों को सूची-II की मदों के साथ सुमेलित कीजिए :

सूची-I	सूची-II
(a) टर्नर सिंड्रोम	(i) माइटोटिक नॉन डिस्जंक्शन
(b) मोजेक	(ii) 45 X
(c) पोलीप्लोएडी	(iii) अतिरिक्त गुण सूत्र समुच्चय
(d) टेट्रासोमी	(iv) $2n + 2$

नीचे दिए विकल्पों से सही विकल्प चुनिए :

- (1) (a)-(ii), (b)-(iii), (c)-(i), (d)-(iv)
- (2) (a)-(ii), (b)-(i), (c)-(iii), (d)-(iv)
- (3) (a)-(iv), (b)-(iii), (c)-(ii), (d)-(i)
- (4) (a)-(i), (b)-(iii), (c)-(ii), (d)-(iv)

Options :

61547533393. 1

61547533394. 2

61547533395. 3

61547533396. 4

Question Number : 125 Question Id : 6154758565 Question Type : MCQ Option Shuffling : No Display Question Number : Yes  
Single Line Question Option : No Option Orientation : Vertical

Correct Marks : 2 Wrong Marks : 0

Match the following individuals with the dating methods :

- |                   |                          |
|-------------------|--------------------------|
| (a) W.F. Libby    | (i) Seriation            |
| (b) F. Daniels    | (ii) Dendrochronology    |
| (c) A.E. Douglass | (iii) Thermoluminescence |
| (d) F. Petrie     | (iv) Radiocarbon         |

Choose the correct option from those given below :

- (1) (a)-(i), (b)-(ii), (c)-(iii), (d)-(iv)
- (2) (a)-(iv), (b)-(iii), (c)-(ii), (d)-(i)
- (3) (a)-(iv), (b)-(i), (c)-(ii), (d)-(iii)
- (4) (a)-(iv), (b)-(ii), (c)-(iii), (d)-(i)

Options :

61547533397. 1

61547533398. 2

61547533399. 3

61547533400. 4

Question Number : 125 Question Id : 6154758565 Question Type : MCQ Option Shuffling : No Display Question Number : Yes  
Single Line Question Option : No Option Orientation : Vertical

Correct Marks : 2 Wrong Marks : 0

Adda247



निम्नलिखित व्यक्तियों को काल-मापन विधियों के साथ सुमेलित कीजिए :

- |                        |                         |
|------------------------|-------------------------|
| (a) डब्ल्यु.एफ. लिब्बी | (i) क्रमबद्धता          |
| (b) एफ.डेनियल्स        | (ii) वृक्षकालानुक्रमिकी |
| (c) ए.ई. डगलस          | (iii) ताप संदीप्ति      |
| (d) एफ. पित्रे         | (iv) रेडियो कार्बन      |

नीचे दिए विकल्पों से सही विकल्प चुनिए :

- (1) (a)-(i), (b)-(ii), (c)-(iii), (d)-(iv)
- (2) (a)-(iv), (b)-(iii), (c)-(ii), (d)-(i)
- (3) (a)-(iv), (b)-(i), (c)-(ii), (d)-(iii)
- (4) (a)-(iv), (b)-(ii), (c)-(iii), (d)-(i)

Options :

61547533397. 1

61547533398. 2

61547533399. 3

61547533400. 4

Question Number : 126 Question Id : 6154758566 Question Type : MCQ Option Shuffling : No Display Question Number : Yes  
Single Line Question Option : No Option Orientation : Vertical

Correct Marks : 2 Wrong Marks : 0

Match List – I with List – II. Use the code given below :

List-I

- (a) Correlation coefficient
- (b) Standard deviation
- (c) Normal distribution
- (d) Heritability

List-II

- (i) Quantitative measures of the strength of the relationship between the variables
- (ii) Measure of dispersion around the mean
- (iii) Frequency distribution that is symmetrical around the mean and the mode, mean and median are equivalent
- (iv) Proportion of variation in a population attributable to genotypic differences among the individuals

Select the correct option:

- (1) (a)-(iii), (b)-(i), (c)-(iv), (d)-(ii)
- (2) (a)-(i), (b)-(ii), (c)-(iii), (d)-(iv)
- (3) (a)-(iv), (b)-(i), (c)-(iii), (d)-(ii)
- (4) (a)-(ii), (b)-(iii), (c)-(i), (d)-(iv)

Options :

- 61547533401. 1
- 61547533402. 2
- 61547533403. 3
- 61547533404. 4

Question Number : 126 Question Id : 6154758566 Question Type : MCQ Option Shuffling : No Display Question Number : Yes  
Single Line Question Option : No Option Orientation : Vertical  
Correct Marks : 2 Wrong Marks : 0

सूची-I को सूची-II के साथ सुमेलित करें। नीचे दिए गये कूट का प्रयोग करें :

सूची-I	सूची-II
(a) सह संबंध गुणांक	(i) चरों के बीच के संबंध की शक्ति का मात्रात्मक माप
(b) मानक विचलन	(ii) माध्य के इर्द गिर्द विसरण का माप
(c) सामान्य वितरण	(iii) आवृत्ति वितरण जो माध्य के इर्द गिर्द सममित है और बहुलक, माध्यिक और माध्य सभी समान है
(d) वंशागति (हेरिटेबिलिटी)	(iv) जन समूह में पाई जाने वाली फिनोटिपिक विविधता का अनुपात जो व्यक्तियों के मध्य आनुवंशिक अंतरों का मापक है

सही विकल्प चुनें :

- (1) (a)-(iii), (b)-(i), (c)-(iv), (d)-(ii)
- (2) (a)-(i), (b)-(ii), (c)-(iii), (d)-(iv)
- (3) (a)-(iv), (b)-(i), (c)-(iii), (d)-(ii)
- (4) (a)-(ii), (b)-(iii), (c)-(i), (d)-(iv)

Options :

61547533401. 1
61547533402. 2
61547533403. 3
61547533404. 4

Question Number : 127 Question Id : 6154758567 Question Type : MCQ Option Shuffling : No Display Question Number : Yes  
Single Line Question Option : No Option Orientation : Vertical

Correct Marks : 2 Wrong Marks : 0

Match the following List – I with List – II. Use the code given below :

List-I	List-II
(a) A line of direct descent	(i) Tethys
(b) The ancient seaway that separated Eurasia from Africa and Asia	(ii) Lineage
(c) A line of common descent	(iii) Phylytic
(d) New World Monkeys	(iv) Platyrrhine

Select the correct option:

- (1) (a)-(iv), (b)-(ii), (c)-(iii), (d)-(i)
- (2) (a)-(ii), (b)-(iii), (c)-(i), (d)-(iv)
- (3) (a)-(iii), (b)-(i), (c)-(ii), (d)-(iv)
- (4) (a)-(i), (b)-(ii), (c)-(iii), (d)-(iv)

Options :

61547533405. 1  
61547533406. 2  
61547533407. 3  
61547533408. 4

Question Number : 127 Question Id : 6154758567 Question Type : MCQ Option Shuffling : No Display Question Number : Yes  
Single Line Question Option : No Option Orientation : Vertical

Correct Marks : 2 Wrong Marks : 0

सूची-I को सूची-II के साथ सुमेलित करें। नीचे दिए गये कूट का प्रयोग करें :

- | सूची-I   | सूची-II               |
|--|-----------------------|
| (a) सीधा-वंशक्रमीय रेखा  | (i) टेथीस             |
| (b) प्राचीन समुद्री मार्ग जो अफ्रीका और भारत को यूरेशिया से पृथक करता है | (ii) वंशावली (लीनिएज) |
| (c) समान-वंशक्रमीय रेखा  | (iii) फाईलेटिक        |
| (d) नई दुनिया के बन्दर   | (iv) प्लेटीरिहीन      |

सही विकल चुनें :

- (1) (a)-(iv), (b)-(ii), (c)-(iii), (d)-(i)  
(2) (a)-(ii), (b)-(iii), (c)-(i), (d)-(iv)  
(3) (a)-(iii), (b)-(i), (c)-(ii), (d)-(iv)  
(4) (a)-(i), (b)-(ii), (c)-(iii), (d)-(iv)

Options :

61547533405. 1  
61547533406. 2  
61547533407. 3  
61547533408. 4

Question Number : 128 Question Id : 6154758568 Question Type : MCQ Option Shuffling : No Display Question Number : Yes  
Single Line Question Option : No Option Orientation : Vertical

Correct Marks : 2 Wrong Marks : 0

Identify the correct sequence of Purusharthas among the following :

- (1) *Moksha, Dharma, Kama, Artha* (2) *Dharma, Artha, Kama, Moksha*  
(3) *Artha, Dharma, Moksha, Kama* (4) *Kama, Moksha, Dharma, Artha*

Options :

61547533409. 1  
61547533410. 2  
61547533411. 3  
61547533412. 4

Question Number : 128 Question Id : 6154758568 Question Type : MCQ Option Shuffling : No Display Question Number : Yes  
Single Line Question Option : No Option Orientation : Vertical

Correct Marks : 2 Wrong Marks : 0

निम्नलिखित में से पुरुषार्थ के सही क्रम की पहचान कीजिए :

- |                            |                            |
|----------------------------|----------------------------|
| (1) मोक्ष, धर्म, काम, अर्थ | (2) धर्म, अर्थ, काम, मोक्ष |
| (3) अर्थ, धर्म, मोक्ष, काम | (4) काम, मोक्ष, धर्म, अर्थ |

Options :

61547533409. 1

61547533410. 2

61547533411. 3

61547533412. 4

Question Number : 129 Question Id : 6154758569 Question Type : MCQ Option Shuffling : No Display Question Number : Yes  
Single Line Question Option : No Option Orientation : Vertical

Correct Marks : 2 Wrong Marks : 0

Match the following sites with the archaeologists who are associated with them :

- |                   |                      |
|-------------------|----------------------|
| (a) Combe Grenal  | (i) Dorothy Garrod   |
| (b) Wadi an Natuf | (ii) Francois Bordes |
| (c) Jarmo         | (iii) Ian Hodder     |
| (d) Catal Huyuk   | (iv) Kathleen Kenyon |

Choose the correct option from those given below :

- (1) (a)-(ii), (b)-(iii), (c)-(iv), (d)-(i)  
(2) (a)-(iii), (b)-(iv), (c)-(i), (d)-(ii)  
(3) (a)-(ii), (b)-(i), (c)-(iv), (d)-(iii)  
(4) (a)-(iii), (b)-(ii), (c)-(i), (d)-(iv)

Options :

61547533413. 1

61547533414. 2

61547533415. 3

61547533416. 4

Question Number : 129 Question Id : 6154758569 Question Type : MCQ Option Shuffling : No Display Question Number : Yes  
Single Line Question Option : No Option Orientation : Vertical

Correct Marks : 2 Wrong Marks : 0

निम्नलिखित स्थलों को उनके साथ संबद्ध पुरातत्ववेत्ताओं के साथ सुमेलित कीजिए :

- |                      |                        |
|----------------------|------------------------|
| (a) कोम्ब्रे ग्रेनाल | (i) डोरोथी गेरॉड       |
| (b) वाडी एन नातूफ    | (ii) फ्रेंकोइस बोर्ड्स |
| (c) जारमो            | (iii) इयान होइडर       |
| (d) केटल हुयक        | (iv) केथलीन केन्याॉन   |

नीचे दिए विकल्पों से सही विकल्प चुनिए :

- (1) (a)-(ii), (b)-(iii), (c)-(iv), (d)-(i)
- (2) (a)-(iii), (b)-(iv), (c)-(i), (d)-(ii)
- (3) (a)-(ii), (b)-(i), (c)-(iv), (d)-(iii)
- (4) (a)-(iii), (b)-(ii), (c)-(i), (d)-(iv)

**Options :**

61547533413. 1
61547533414. 2
61547533415. 3
61547533416. 4

**Question Number : 130 Question Id : 6154758570 Question Type : MCQ Option Shuffling : No Display Question Number : Yes Single Line Question Option : No Option Orientation : Vertical**

**Correct Marks : 2 Wrong Marks : 0**

Identify the correct sequence in evolutionary order :

- (1) Hunting – Pastoralism – Agriculture – Horticulture
- (2) Hunting – Pastoralism – Horticulture – Agriculture
- (3) Agriculture – Horticulture – Pastoralism – Hunting
- (4) Pastoralism – Hunting – Horticulture – Agriculture

**Options :**

61547533417. 1
61547533418. 2
61547533419. 3
61547533420. 4

**Question Number : 130 Question Id : 6154758570 Question Type : MCQ Option Shuffling : No Display Question Number : Yes Single Line Question Option : No Option Orientation : Vertical**

**Correct Marks : 2 Wrong Marks : 0**

विकासवादी चरणों के सही क्रम की पहचान कीजिए :

- |                                     |                                     |
|-------------------------------------|-------------------------------------|
| (1) आखेट - पशुचारण - कृषि - बागबानी | (2) आखेट - पशुचारण - बागबानी - कृषि |
| (3) कृषि - बागबानी - पशुचारण - आखेट | (4) पशुचारण - आखेट - बागबानी - कृषि |

**Options :**

61547533417. 1

61547533418. 2

61547533419. 3

61547533420. 4

**Question Number : 131 Question Id : 6154758571 Question Type : MCQ Option Shuffling : No Display Question Number : Yes Single Line Question Option : No Option Orientation : Vertical**

**Correct Marks : 2 Wrong Marks : 0**

**French Social Scientist Pierre Bourdieu analysed the following types of capital :**

- (a) Cultural Capital
- (b) Knowledge Capital
- (c) Social Capital
- (d) Symbolic Capital

**Choose the correct answer from the options given below :**

- |                                  |                                  |
|----------------------------------|----------------------------------|
| (1) (a), (b) and (c) are correct | (2) (b), (c) and (d) are correct |
| (3) (a), (c) and (d) are correct | (4) (a), (b) and (d) are correct |

**Options :**

61547533421. 1

61547533422. 2

61547533423. 3

61547533424. 4

**Question Number : 131 Question Id : 6154758571 Question Type : MCQ Option Shuffling : No Display Question Number : Yes Single Line Question Option : No Option Orientation : Vertical**

**Correct Marks : 2 Wrong Marks : 0**

फ्रांसीसी वैज्ञानिक पियरे बोर्दियऊ ने निम्नलिखित प्रकार की पूंजी का विश्लेषण किया :

- |                      |                       |
|----------------------|-----------------------|
| (a) सांस्कृतिक पूंजी | (b) ज्ञान पूंजी       |
| (c) सामाजिक पूंजी    | (d) प्रतीकात्मक पूंजी |

नीचे दिए विकल्पों से सही उत्तर चुनिए :

- |                             |                             |
|-----------------------------|-----------------------------|
| (1) (a), (b) और (c) सही हैं | (2) (b), (c) और (d) सही हैं |
| (3) (a), (c) और (d) सही हैं | (4) (a), (b) और (d) सही हैं |

**Options :**

61547533421. 1

61547533422. 2

61547533423. 3

61547533424. 4

**Question Number : 132 Question Id : 6154758572 Question Type : MCQ Option Shuffling : No Display Question Number : Yes Single Line Question Option : No Option Orientation : Vertical**

**Correct Marks : 2 Wrong Marks : 0**

Identify the correct sequence of Evans Pritchard's studies in ascending chronology :

- |                            |                            |
|----------------------------|----------------------------|
| (1) Nuer – Azande – Sansui | (2) Sansui – Azande – Nuer |
| (3) Sansui – Nuer – Azande | (4) Azande – Sansui – Nuer |

**Options :**

61547533425. 1

61547533426. 2

61547533427. 3

61547533428. 4

**Question Number : 132 Question Id : 6154758572 Question Type : MCQ Option Shuffling : No Display Question Number : Yes Single Line Question Option : No Option Orientation : Vertical**

**Correct Marks : 2 Wrong Marks : 0**

इवांस प्रिचर्ड के अध्ययनों के सही, आरोही कालक्रमाकी पहचान कीजिए :

- |                            |                            |
|----------------------------|----------------------------|
| (1) नुएर – एजेडे – सान्सुई | (2) सान्सुई – एजेडे – नुएर |
| (3) सान्सुई – नुएर – एजेडे | (4) एजेडे – सान्सुई – नुएर |

**Options :**

61547533425. 1

61547533426. 2

61547533427. 3

61547533428. 4

**Question Number : 133 Question Id : 6154758573 Question Type : MCQ Option Shuffling : No Display Question Number : Yes Single Line Question Option : No Option Orientation : Vertical**

**Correct Marks : 2 Wrong Marks : 0**



Identify the correct sequence of the major racial classifications of the mankind in the ascending order in which they were proposed :

- (1) Hooton – Garn – Blumenbach – Deniker
- (2) Blumenbach – Deniker – Hooton – Garn
- (3) Blumenbach – Hooton – Garn – Deniker
- (4) Blumenbach – Garn – Hooton – Deniker

Options :

61547533429. 1  
61547533430. 2  
61547533431. 3  
61547533432. 4

Question Number : 133 Question Id : 6154758573 Question Type : MCQ Option Shuffling : No Display Question Number : Yes  
Single Line Question Option : No Option Orientation : Vertical

Correct Marks : 2 Wrong Marks : 0

मानव जाति के प्रमुख प्रजातीय वर्गीकरणों की, उन्हें प्रस्तावित किए जाने के आरोही क्रमानुसार, सही क्रम की पहचान कीजिए :

- (1) हूटन - गार्न - ब्लुमेनबेक - डेनिकर
- (2) ब्लुमेनबेक - डेनिकर - हूटन - गार्न
- (3) ब्लुमेनबेक - हूटन - गार्न - डेनिकर
- (4) ब्लुमेनबेक - गार्न - हूटन - डेनिकर

Options :

61547533429. 1  
61547533430. 2  
61547533431. 3  
61547533432. 4

Question Number : 134 Question Id : 6154758574 Question Type : MCQ Option Shuffling : No Display Question Number : Yes  
Single Line Question Option : No Option Orientation : Vertical

Correct Marks : 2 Wrong Marks : 0

Identify the correct sequence of the following fossils in the order of their first discovery :

- (1) Java man – Neanderthal man – Australopithecus – Peking man
- (2) Peking man – Java man – Neanderthal man – Australopithecus
- (3) Australopithecus – Java man – Neanderthal man – Peking man
- (4) Neanderthal man – Java man – Australopithecus – Peking man

Options :

61547533433. 1  
61547533434. 2  
61547533435. 3  
61547533436. 4

Question Number : 134 Question Id : 6154758574 Question Type : MCQ Option Shuffling : No Display Question Number : Yes  
Single Line Question Option : No Option Orientation : Vertical

Correct Marks : 2 Wrong Marks : 0

निम्नलिखित जीवाश्मों के, उनकी प्रथम खोज के क्रमानुसार, सही क्रम में पहचान कीजिए :

- (1) जावा मानव - निआंडरथल मानव - आस्ट्रेलोपिथिकस - पीकिंग मानव
- (2) पीकिंग मानव - जावा मानव - निआंडरथल मानव - आस्ट्रेलोपिथिकस
- (3) आस्ट्रेलोपिथिकस - जावा मानव - निआंडरथल मानव - पीकिंग मानव
- (4) निआंडरथल मानव - जावा मानव - आस्ट्रेलोपिथिकस - पीकिंग मानव

Options :

61547533433. 1
61547533434. 2
61547533435. 3
61547533436. 4

Question Number : 135 Question Id : 6154758575 Question Type : MCQ Option Shuffling : No Display Question Number : Yes  
Single Line Question Option : No Option Orientation : Vertical

Correct Marks : 2 Wrong Marks : 0

Identify the correct sequence of steps involved in making a research design :

- (1) Selection of research topic – Hypothesis – Review of literature – Data collection
- (2) Selection of research topic – Review of literature – Hypothesis – Data collection
- (3) Hypothesis – Selection of research topic – Data collection – Review of literature
- (4) Hypothesis – Review of literature – Data collection – Selection of research topic

Options :

61547533437. 1
61547533438. 2
61547533439. 3
61547533440. 4

Adda247

Question Number : 135 Question Id : 6154758575 Question Type : MCQ Option Shuffling : No Display Question Number : Yes  
Single Line Question Option : No Option Orientation : Vertical

Correct Marks : 2 Wrong Marks : 0

शोध-अभिकल्प बनाने में सम्मिलित चरणों के सही क्रम की पहचान कीजिए :

- (1) शोध विषय का चयन - प्राक्कल्पना - साहित्य समीक्षा - आंकड़ा संग्रहण
- (2) शोध विषय का चयन - साहित्य समीक्षा - प्राक्कल्पना - आंकड़ा संग्रहण
- (3) प्राक्कल्पना - शोध विषय का चयन - आंकड़ा संग्रहण - साहित्य समीक्षा
- (4) प्राक्कल्पना - साहित्य समीक्षा - आंकड़ा संग्रहण - शोध विषय का चयन

Options :

61547533437. 1
61547533438. 2

61547533439. 3

61547533440. 4

Question Number : 136 Question Id : 6154758576 Question Type : MCQ Option Shuffling : No Display Question Number : Yes  
Single Line Question Option : No Option Orientation : Vertical

Correct Marks : 2 Wrong Marks : 0

Identify the correct sequence of land marks on mid-sagittal plane of the skull antero – posteriorly :

- (1) Prosthion – Nasion – Glabella – Bregma – Lambda – Opisthocranion
- (2) Opisthocranion – Lambda – Bregma – Glabella – Prosthion – Nasion
- (3) Prosthion – Glabella – Nasion – Bregma – Lambda – Opisthocranion
- (4) Opisthocranion – Bregma – Lambda – Glabella – Nasion – Prosthion

Options :

61547533441. 1

61547533442. 2

61547533443. 3

61547533444. 4

Question Number : 136 Question Id : 6154758576 Question Type : MCQ Option Shuffling : No Display Question Number : Yes  
Single Line Question Option : No Option Orientation : Vertical

Correct Marks : 2 Wrong Marks : 0

खोपड़ी के अग्र-पश्च की ओर मध्य सजाइल प्लेन के लैंडमार्कस के सही क्रम की पहचान कीजिए :

- (1) प्रेस्थियन - नसियन - ग्लाबेला - ब्रेग्मा - लाम्बदा - ऑपिस्थोक्रेनियन
- (2) ऑपिस्थोक्रेनियन - लैम्बदा - ब्रेग्मा - ग्लैबेला - प्रेस्थियन - नसियन
- (3) प्रेस्थियन - ग्लाबेला - नसियन - ब्रेग्मा - लैम्बदा - ऑपिस्थोक्रेनियन
- (4) ऑपिस्थोक्रेनियन - ब्रेग्मा - लैम्बदा - ग्लाबेला - नसियन - प्रेस्थियन

Options :

61547533441. 1

61547533442. 2

61547533443. 3

61547533444. 4

Question Number : 137 Question Id : 6154758577 Question Type : MCQ Option Shuffling : No Display Question Number : Yes  
Single Line Question Option : No Option Orientation : Vertical

Correct Marks : 2 Wrong Marks : 0

Which of the following sequence of arrangements of sites, according to their occupation, from oldest to youngest is correct?

- (1) Attirampakkam – Tilwara – Nevasa – Daojali Hading
- (2) Attirampakkam – Nevasa – Tilwara – Daojali Hading
- (3) Nevasa – Tilwara – Attirampakkam – Daojali Hading
- (4) Attirampakkam – Nevasa – Daojali Hading – Tilwara

Options :

61547533445. 1
61547533446. 2
61547533447. 3
61547533448. 4

Question Number : 137 Question Id : 6154758577 Question Type : MCQ Option Shuffling : No Display Question Number : Yes Single Line Question Option : No Option Orientation : Vertical

Correct Marks : 2 Wrong Marks : 0

व्यवसाय के अनुसार पुराने से नए स्थलों की व्यवस्था का निम्नलिखित में से कौन सा क्रम सही है?

- (1) अत्तिरामपक्कम - तिलवाड़ा - नेवासा - डाओजाली हेडिंग
- (2) अत्तिरामपक्कम - नेवासा - तिलवाड़ा - डाओजाली हेडिंग
- (3) नेवासा - तिलवाड़ा - अत्तिरामपक्कम - डाओजाली हेडिंग
- (4) अत्तिरामपक्कम - नेवासा - डाओजाली हेडिंग - तिलवाड़ा

Options :

61547533445. 1
61547533446. 2
61547533447. 3
61547533448. 4

Question Number : 138 Question Id : 6154758578 Question Type : MCQ Option Shuffling : No Display Question Number : Yes Single Line Question Option : No Option Orientation : Vertical

Correct Marks : 2 Wrong Marks : 0

Arrange the following tools in their correct order of appearance from oldest to youngest :

- (1) Acheulian hand axe – Audi knife – Microburin – Chisel
- (2) Acheulian hand axe – Microburin – Audi knife – Chisel
- (3) Acheulian hand axe – Microburin – Chisel – Audi knife
- (4) Audi knife – Acheulian hand axe – Microburin – Chisel

Options :

61547533449. 1  
61547533450. 2  
61547533451. 3  
61547533452. 4

Question Number : 138 Question Id : 6154758578 Question Type : MCQ Option Shuffling : No Display Question Number : Yes  
Single Line Question Option : No Option Orientation : Vertical

Correct Marks : 2 Wrong Marks : 0

निम्नलिखित को उनको आविर्भाव के सही क्रम में, प्राचीनतम से शुरु कर नवीनतम तक, लगाएं :

- (1) ऐशुलियन हैंडएक्स - ऑडी चाकू - माइक्रोबुरिन - छेनी  
(2) ऐशुलियन हैंडएक्स - माइक्रोबुरिन - ऑडी चाकू - छेनी  
(3) ऐशुलियन हैंडएक्स - माइक्रोबुरिन - छेनी - ऑडी चाकू  
(4) ऑडी चाकू - ऐशुलियन हैंडएक्स - माइक्रोबुरिन - छेनी

Options :

61547533449. 1  
61547533450. 2  
61547533451. 3  
61547533452. 4

Question Number : 139 Question Id : 6154758579 Question Type : MCQ Option Shuffling : No Display Question Number : Yes  
Single Line Question Option : No Option Orientation : Vertical

Correct Marks : 2 Wrong Marks : 0

Given below are two statements, one is labeled as Assertion (A) and the other as Reason (R).

Based on the statement choose the correct answer :

Assertion (A) : Substantivism was introduced to explain the differences in socio-economic relationship among simpler societies.

Reason (R) : Substantivism describes various substances found in the nature.

Choose the correct answer from the options given below :

- (1) (A) is correct and (R) is wrong  
(2) (R) is correct and (A) is wrong  
(3) Both (A) and (R) are correct  
(4) Both (A) and (R) are wrong

Options :

61547533453. 1  
61547533454. 2

61547533455. 3

61547533456. 4

Question Number : 139 Question Id : 6154758579 Question Type : MCQ Option Shuffling : No Display Question Number : Yes  
Single Line Question Option : No Option Orientation : Vertical

Correct Marks : 2 Wrong Marks : 0

नीचे दो कथन दिए गए हैं, एक को अभिकथन (A) और दूसरे को तर्क (R) कहा गया है। इन कथनों के आधार पर सही उत्तर

चुनिए :

अभिकथन (A) : संज्ञापरकवाद (सबस्टैंटिविज्म) का आरंभ सरल समाजों में सामाजिक-आर्थिक संबंधों के अंतर का वर्णन करने के साथ हुआ था।

तर्क (R) : संज्ञापरकवाद प्रकृति में पाए जाने वाली विभिन्न वस्तुओं का वर्णन करता है।

नीचे दिए विकल्पों से सही उत्तर चुनिए :

- (1) (A) सही है और (R) गलत है
- (2) (R) सही है और (A) गलत है
- (3) (A) और (R) दोनों सही हैं
- (4) (A) और (R) दोनों गलत हैं

Options :

61547533453. 1

61547533454. 2

61547533455. 3

61547533456. 4

Question Number : 140 Question Id : 6154758580 Question Type : MCQ Option Shuffling : No Display Question Number : Yes  
Single Line Question Option : No Option Orientation : Vertical

Correct Marks : 2 Wrong Marks : 0



Given below are two statements, one is labeled as Assertion (A) and the other as Reason (R).

Based on the statement choose the correct answer :

Assertion (A) : A Philosophy for "NEFA" recommends a model of tribal development by keeping the tribals in Isolation.

Reason (R) : This idea was proposed by Govt. of India.

Choose the correct answer from the options given below :

- (1) (A) is correct and (R) is wrong
- (2) (R) is correct and (A) is wrong
- (3) Both (A) and (R) are correct
- (4) Both (A) and (R) are wrong

Options :

61547533457. 1

61547533458. 2

61547533459. 3

61547533460. 4

Question Number : 140 Question Id : 6154758580 Question Type : MCQ Option Shuffling : No Display Question Number : Yes  
Single Line Question Option : No Option Orientation : Vertical

Correct Marks : 2 Wrong Marks : 0

Adda247

नीचे दो कथन दिए गए हैं, जिनमें से एक को अभिकथन (A) और दूसरे को तर्क (R) कहा गया है। इन कथनों के आधार पर सही उत्तर चुनिए :

अभिकथन (A) : “ए फिलॉस्फी फॉर नेफा” जनजातियों को अलगाव में रखकर जनजाति के विकास के प्रतिमान की संस्तुति करती है।

तर्क (R) : भारत सरकार द्वारा इस विचार का प्रस्ताव किया गया।

निम्नलिखित विकल्पों से सही उत्तर चुनिए :

- (1) (A) सही है और (R) गलत है
- (2) (R) सही है और (A) गलत है
- (3) (A) और (R) दोनों सही हैं
- (4) (A) और (R) दोनों गलत हैं

Options :

61547533457. 1
61547533458. 2
61547533459. 3
61547533460. 4

Sub-Section Number: 2  
Sub-Section Id: 615475374  
Question Shuffling Allowed : Yes

Question Id : 6154758581 Question Type : COMPREHENSION Sub Question Shuffling Allowed : Yes Group Comprehension Questions : No

Question Numbers : (141 to 145)

Question Label : Comprehension



Read the passage below and answer the questions that follow :

Most of the comparative research on the relationship between economic development and political participation has been cross national, comparing data on different countries. Some countries are more democratic than others, on the basis of such characteristics as contested elections, an elected head of state, an elected powerful legislature, and the protection of civil liberties. In capitalist countries, more democracy is generally associated with higher levels of economic development, as measured by indicators such as per capita output. In countries that are not very industrialized there is little democracy at the national level. Why should more democracy be associated with more economic development? The prevailing opinion is that economic development increases the degree of social equality in the country; and the more equality among interest groups, the more they demand participation in the political process, and hence more democracy. Or, to put this theory another way, as the economy develops, the more the middle and working classes can demand rewards and power, and therefore the less power the elite can retain.

What about the societies usually studied by anthropologists? We know that some of the highest levels of political participation occur in the least complex societies, such as foraging societies. Many adults in such societies have a say in the political decisions and leadership is informal. Leaders can retain their roles only if people voluntarily go along with them. Concentrated power and less political participation are more likely in chiefdoms and states than in band and tribal societies. The more hierarchical chiefdoms and societies usually depend on agriculture, which can produce more goods and services per capita than foraging economics can. So the relationship between economic development and political participation in the cross-cultural studies is opposite to what we find cross – nationally.

Sub questions

Question Number : 141 Question Id : 6154758582 Question Type : MCQ Option Shuffling : No Display Question Number : Yes  
Single Line Question Option : No Option Orientation : Vertical  
Correct Marks : 2 Wrong Marks : 0

Which of the following is the characteristic of more democratic countries?

- |  |   |
|--|---|
| (1) An elected head of state             | (2) A nominated head of state           |
| (3) A head of state based on inheritance | (4) The country without a head of state |

Options :

- 61547533461. 1
- 61547533462. 2
- 61547533463. 3
- 61547533464. 4

Question Number : 142 Question Id : 6154758583 Question Type : MCQ Option Shuffling : No Display Question Number : Yes  
Single Line Question Option : No Option Orientation : Vertical  
Correct Marks : 2 Wrong Marks : 0

In cross national studies researchers have found positive correlation between

- (1) Economic development and political participation
- (2) Economic development and political non-participation
- (3) Economic recession and political participation
- (4) Economic recession and political non-participation

Options :

- 61547533465. 1
- 61547533466. 2
- 61547533467. 3
- 61547533468. 4

Question Number : 143 Question Id : 6154758584 Question Type : MCQ Option Shuffling : No Display Question Number : Yes  
Single Line Question Option : No Option Orientation : Vertical

Correct Marks : 2 Wrong Marks : 0

Economic development increases the degree of

- |                            |                           |
|----------------------------|---------------------------|
| (1) Social equality        | (2) Social inequality     |
| (3) Social differentiation | (4) Social stratification |

Options :

- 61547533469. 1
- 61547533470. 2
- 61547533471. 3
- 61547533472. 4

Question Number : 144 Question Id : 6154758585 Question Type : MCQ Option Shuffling : No Display Question Number : Yes  
Single Line Question Option : No Option Orientation : Vertical

Correct Marks : 2 Wrong Marks : 0

Among band and tribe levels of political organisation and less economic development has led to

- (1) More political participation
- (2) Less political participation
- (3) There is no change in the political participation
- (4) Cannot be ascertained on the basis of passage

Options :

- 61547533473. 1
- 61547533474. 2
- 61547533475. 3
- 61547533476. 4

Question Number : 145 Question Id : 6154758586 Question Type : MCQ Option Shuffling : No Display Question Number : Yes  
Single Line Question Option : No Option Orientation : Vertical

Correct Marks : 2 Wrong Marks : 0

In studying economic development and political participation, anthropologists find that cross – national and cross – cultural data are

- |                  |                     |
|------------------|---------------------|
| (1) Similar      | (2) Opposite        |
| (3) Incomparable | (4) Unascertainable |

Options :

61547533477. 1  
61547533478. 2  
61547533479. 3  
61547533480. 4

Question Id : 6154758581 Question Type : COMPREHENSION Sub Question Shuffling Allowed : Yes Group Comprehension Questions : No

Question Numbers : (141 to 145)

Question Label : Comprehension

निम्नलिखित गद्यांश को पढ़ें व निम्न प्रश्नों का उत्तर दें।

आर्थिक विकास व राजनीतिक भागीदारी के बीच के संबंधों पर अधिकतर तुलनात्मक शोध, विभिन्न देशों का आंकड़ों की तुलना करते हुए अन्तराष्ट्रीय हो रहा है। कुछ ऐसी विशिष्टताएं जैसे कि चुनाव प्रतियोगिता, राज्य का चुनाव हुआ मुखिया, एक चुनी हुई शक्तिशाली विधायिका व नागरिक स्वतंत्रता की रक्षा के आधार पर कुछ देश अन्य देशों की तुलना में अधिक लोकतान्त्रिक हैं। पूंजीवादी देशों में, अधिक लोकतन्त्र सामान्यतः उच्च स्तर के आर्थिक विकास के साथ जुड़ा हुआ है। जैसे संकेतक द्वारा नापा जाता है उदाहरण के लिए – प्रति व्यक्ति उत्पादन। जिन देशों का अधिक औद्योगीकरण नहीं हुआ है वहाँ राष्ट्रीय स्तर पर लोकतन्त्र कम होता है। अधिक लोकतन्त्र को अधिक आर्थिक विकास से क्यों जुड़ा होना चाहिए? प्रचलित विचार है कि आर्थिक विकास देश में सामाजिक समानता की कोटि को बढ़ाता है; हित समूहों के बीच में बढ़ती समानता से उनकी राजनीतिक प्रक्रिया में भागीदारी की मांग बढ़ जाती है, इसलिए लोकतन्त्र में बढ़ोत्तरी होती है, या इस सिद्धान्त को दूसरे तरीके से रखें, जैसे जैसे अर्थव्यवस्था का विकास होता है, जैसे जैसे मध्यम वर्ग व श्रमिक वर्ग द्वारा प्रतिफल व सत्ता की मांग बढ़ती जाती है, और अतः संभ्रांत वर्ग के पास कम सत्ता बचती है।

मानव वैज्ञानिकों ने सामान्यतः समाजों के बारे में क्या अध्ययन किया है? हम जानते हैं कि कमतर जटील समाजों में उच्च स्तर के राजनीतिक भागीदारी पापी जाती है। जैसे कि रसद खोजने वाले समाज! ऐसे समाजों में वयस्को की राजनीतिक निर्णय में सहमती होती है और नेतृत्व अनौपचारिक होता है। नेता अपनी भूमिका को केवल तभी बनाए रख सकते हैं यदि लोग स्वेच्छा से उनके साथ चलें। केन्द्रित सत्ता व कम राजनीतिक भागीदारी की संभावना सरदारदारी व राज्यों में टोली व जनजाति समाजों की अपेक्षा अधिक होती है। सरदारीकरण व समाजों का बढ़ता सोपानी करण सामान्यतः कृषि पर निर्भर करता है, जो रसद खोजने वाली अर्थव्यवस्था से अधिक वस्तुओं व सेवाओं का प्रति व्यक्ति उत्पादन कर सकती है अतः आर्थिक विकास व राजनीतिक भागीदारी के बीच के सम्बन्ध जो अन्तर-संस्कृति अध्ययन में पाया जाता है वह अन्तराष्ट्रीय अध्ययन के विपरीत होता है।

Sub questions

Question Number : 141 Question Id : 6154758582 Question Type : MCQ Option Shuffling : No Display Question Number : Yes Single Line Question Option : No Option Orientation : Vertical

Correct Marks : 2 Wrong Marks : 0

निम्नलिखित में से कौन सी विशेषता अधिक लोकातान्त्रिक देशों की विशेषता है?

- |                                   |                               |
|-----------------------------------|-------------------------------|
| (1) एक चुनाव हुआ राज्य का मुखिया  | (2) राज्य का एक मनोनित मुखिया |
| (3) वंश पर आधारित राज्य का मुखिया | (4) बिना मुखिया का देश        |

Options :

61547533461. 1  
61547533462. 2  
61547533463. 3

61547533464. 4

Question Number : 142 Question Id : 6154758583 Question Type : MCQ Option Shuffling : No Display Question Number : Yes  
Single Line Question Option : No Option Orientation : Vertical

Correct Marks : 2 Wrong Marks : 0

विभिन्न देशों के अध्ययनों में शोधार्थियों ने इनके बीच में सकारात्मक सहसम्बन्ध पाया है :

- |                                      |  |
|--------------------------------------|--|
| (1) आर्थिक विकास व राजनीतिक भागीदारी | (2) आर्थिक विकास व राजनीतिक गैर भागीदारी |
| (3) आर्थिक मंदी व राजनीतिक भागीदारी  | (4) आर्थिक मंदी व राजनीतिक गैर भागीदारी  |

Options :

61547533465. 1

61547533466. 2

61547533467. 3

61547533468. 4

Question Number : 143 Question Id : 6154758584 Question Type : MCQ Option Shuffling : No Display Question Number : Yes  
Single Line Question Option : No Option Orientation : Vertical

Correct Marks : 2 Wrong Marks : 0

आर्थिक विकास इसकी कोटि को बढ़ाता है :

- |                       |                      |
|-----------------------|----------------------|
| (1) सामाजिक समानता    | (2) सामाजिक असमानता  |
| (3) सामाजिक विभेदीकरण | (4) सामाजिक स्तरीकरण |

Options :

61547533469. 1

61547533470. 2

61547533471. 3

61547533472. 4

Question Number : 144 Question Id : 6154758585 Question Type : MCQ Option Shuffling : No Display Question Number : Yes  
Single Line Question Option : No Option Orientation : Vertical

Correct Marks : 2 Wrong Marks : 0

टोली व जनजाति के मध्य राजनीतिक संगठन व निम्न आर्थिक विकास का परिणाम है :

- (1) अधिक राजनीतिक भागीदारी
- (2) निम्न राजनीतिक भागीदारी
- (3) राजनीतिक भागीदारी में कोई परिवर्तन नहीं
- (4) इस गद्यांश से निश्चित रूप से नहीं जाना जा सकता

Options :

61547533473. 1

61547533474. 2

61547533475. 3

61547533476. 4

Question Number : 145 Question Id : 6154758586 Question Type : MCQ Option Shuffling : No Display Question Number : Yes  
Single Line Question Option : No Option Orientation : Vertical

Correct Marks : 2 Wrong Marks : 0

आर्थिक विकास व राजनीतिक भागीदारी के अध्ययन में, मानव वैज्ञानिक पाते हैं कि विभिन्न राष्ट्र व विभिन्न सांस्कृतिक आंकड़े है :

- |                |              |
|----------------|--------------|
| (1) एक जैसे    | (2) विपरीत   |
| (3) अतुलनात्मक | (4) अनिश्चित |

Options :

61547533477. 1  
61547533478. 2  
61547533479. 3  
61547533480. 4

Sub-Section Number: 3  
Sub-Section Id: 615475375  
Question Shuffling Allowed : Yes

Question Id : 6154758587 Question Type : COMPREHENSION Sub Question Shuffling Allowed : Yes Group Comprehension Questions : No

Question Numbers : (146 to 150)

Question Label : Comprehension

Read the passage below and answer the questions that follows :

So much is known about molecular genetics that it is now possible to alter individual genes and even whole organisms in very precise ways. The revolution occurred very quickly after the structure of DNA was first identified in 1953 by James Watson and Francis Crick. Particular genetic traits could then be linked to particular sequences of DNA messages. In the 1970s, the development of recombinant DNA techniques allowed researchers to splice pieces of DNA from one organism into the DNA of another, in precise locations. Researchers learned how to make copies by putting these "recombined" strands into host organisms such as bacteria, which reproduce by cloning. The applications of these techniques are potentially enormous. Biotechnology companies are already doing genetic engineering to manufacture medicines (such as insulin and a vaccine against hepatitis B) and to produce more desirable plant and animal products (e.g., a strain of tomato that can be shipped when it's ripe without spoiling). They are also working on how to reintroduce altered cell into organisms to fix genetic defects. As of now, about 4,000 human disorders are known to be caused by defects in a few genes; theoretically, they should be fixable some day by genetic engineering. As more becomes known about the precise location of genes and the DNA sequences that convey particulars information, much more engineering will be possible.

Already some imagine that genetic therapy will eventually cure various cancers and heart diseases.

Sub questions

Question Number : 146 Question Id : 6154758588 Question Type : MCQ Option Shuffling : No Display Question Number : Yes Single Line Question Option : No Option Orientation : Vertical

Correct Marks : 2 Wrong Marks : 0

Who identified the structure of DNA?

- (1) James Watson and Francis Crick      (2) Avery  
(3) Mendel      (4) Griffith

Options :

61547533481. 1  
61547533482. 2  
61547533483. 3  
61547533484. 4

Question Number : 147 Question Id : 6154758589 Question Type : MCQ Option Shuffling : No Display Question Number : Yes  
Single Line Question Option : No Option Orientation : Vertical

Correct Marks : 2 Wrong Marks : 0

Which technique is used for manufacturing insulin?

- (1) PCR      (2) DNA sequencing  
(3) Recombinant DNA technique      (4) FISH

Options :

61547533485. 1  
61547533486. 2  
61547533487. 3  
61547533488. 4

Question Number : 148 Question Id : 6154758590 Question Type : MCQ Option Shuffling : No Display Question Number : Yes  
Single Line Question Option : No Option Orientation : Vertical

Correct Marks : 2 Wrong Marks : 0

How many disorders are known to be caused by defects in a few genes?

- (1) About 25,000      (2) About 20,000  
(3) About 10,000      (4) About 4,000

Options :

61547533489. 1  
61547533490. 2  
61547533491. 3  
61547533492. 4

Question Number : 149 Question Id : 6154758591 Question Type : MCQ Option Shuffling : No Display Question Number : Yes  
Single Line Question Option : No Option Orientation : Vertical

Correct Marks : 2 Wrong Marks : 0

Why much more genetic engineering is now possible?

- (1) Due to knowledge of Karyotyping
- (2) Due to knowledge of DNA sequences
- (3) Due to knowledge of Southern Blotting technique
- (4) Due to knowledge of Northern Blotting technique

**Options :**

61547533493. 1

61547533494. 2

61547533495. 3

61547533496. 4

**Question Number : 150 Question Id : 6154758592 Question Type : MCQ Option Shuffling : No Display Question Number : Yes Single Line Question Option : No Option Orientation : Vertical**

**Correct Marks : 2 Wrong Marks : 0**

Which diseases are expected to be cured in future through genetic therapy?

- (1) Neurological disorders
- (2) Various cancers and heart diseases
- (3) Skin diseases
- (4) Osteoarthritis

**Options :**

61547533497. 1

61547533498. 2

61547533499. 3

61547533500. 4

**Question Id : 6154758587 Question Type : COMPREHENSION Sub Question Shuffling Allowed : Yes Group Comprehension Questions : No**

**Question Numbers : (146 to 150)**

**Question Label : Comprehension**



निम्नलिखित गद्यांश को पढ़िए और इसके बाद प्रश्नों के उत्तर दीजिए :

आणविक आनुवंशिकी के विषय में इतना कुछ ज्ञात है कि वैयक्तिक जीन्स और यहाँ तक कि सम्पूर्ण जीव को बहुत संक्षिप्त रूप में बदलना अब संभव है। जेम्स वाटसन और फ्रांसिस क्रिक द्वारा वर्ष 1953 में डी.एन.ए. की संरचना की पहचान किए जाने के पश्चात् इसमें बहुत तीव्रता से क्रांति आई है। विशिष्ट आनुवंशिक लक्षणों (ट्रेट्स) को अब डी.एन.ए. संदेशों के विशिष्ट क्रम के साथ संबद्ध किया जा सकता है। 1970 के दशक में डी.एन.ए. की पुनः संयोजन तकनीक के विकास द्वारा शोधार्थी एक जीव के डी.एन.ए. के टुकड़ों को दूसरे जीव के डी.एन.ए. में सुनिश्चित स्थान पर गूथने में सफल हो सके। शोधार्थियों ने यह सीखा कि इन “पुनः-संयोजित” लाइवों को जीवाणुओं जैसे परपोषी सूक्ष्म जीवों, जो क्लोनिंग द्वारा उत्पन्न होते हैं, में प्रतिरोदित करके किस प्रकार इनके प्रतिरूप बनाए जा सकते हैं। इन तकनीकों के संभवतः बहुत अधिक उपयोग हैं। जैव-तकनीकी कम्पनियों पहले से ही औषधियों के निर्माण में उदाहरणार्थ, इंसुलिन तथा हेपेटाईटिस-बी के विरुद्ध वैक्सीन तथा अधिक वांछित पौधे और पशु उत्पादों के लिए (उदाहरणार्थ, बिना खराब हुए पकने पर भेजे जाने वाले (शिपिंग) टमाटर का वंश) आनुवंशिक इंजिनियरिंग का प्रयोग कर रही हैं। आनुवंशिक त्रुटियों को दूर करने के लिए वे परिवर्तित कोशिकाओं को सूक्ष्म जीवों में पुनः प्रवर्तित करने का भी काम कर रही हैं। कुछ जीन्स में त्रुटियों के कारण लगभग 4,000 मानव विकारों को अब तक ज्ञात किया गया है; सिद्धान्ततः आनुवंशिक-इंजिनियरिंग द्वारा एक दिन इन्हें भी दूर किया जा सकेगा। जैसे-जैसे जीन्स की विशिष्ट स्थिति तथा डी.एन.ए. क्रम, जो विशेष सूचना को प्रेषित करते हैं, की जानकारी होगी तो और अधिक इंजिनियरिंग संभव हो सकेगी। पहले ही कुछ शोधार्थियों की कल्पना है कि भविष्य में विभिन्न कर्क रोगों (कैंसर) तथा हृदय-संबंधी रोगों का अंततः आनुवंशिक उपचार हो सकेगा।

Sub questions

Question Number : 146 Question Id : 6154758588 Question Type : MCQ Option Shuffling : No Display Question Number : Yes Single Line Question Option : No Option Orientation : Vertical

Correct Marks : 2 Wrong Marks : 0

डी.एन.ए. की संरचना की पहचान किसने की ?

- (1) जेम्स वाटसन तथा फ्रांसिस क्रिक (2) एवेरी  
(3) मेंडल (4) ग्रिफिथ

Options :

61547533481. 1

61547533482. 2

61547533483. 3

61547533484. 4

Question Number : 147 Question Id : 6154758589 Question Type : MCQ Option Shuffling : No Display Question Number : Yes Single Line Question Option : No Option Orientation : Vertical

Correct Marks : 2 Wrong Marks : 0

इंसुलिन के निर्माण में कौन सी तकनीक का प्रयोग किया जाता है ?

- (1) पी.सी.आर. (2) डी.एन.ए. को क्रम में करना (सीक्वेंसिंग)  
(3) डी.एन.ए. तकनीक का पुनः संयोजन (रीकॉम्बिनेंट) (4) फिश (FISH)

Options :

61547533485. 1



61547533486. 2

61547533487. 3

61547533488. 4

**Question Number : 148 Question Id : 6154758590 Question Type : MCQ Option Shuffling : No Display Question Number : Yes Single Line Question Option : No Option Orientation : Vertical**

**Correct Marks : 2 Wrong Marks : 0**

कुछ जीन्स में त्रुटियों के कारण कितने विकार ज्ञात हैं?

(1) लगभग 25,000

(2) लगभग 20,000

(3) लगभग 10,000

(4) लगभग 4,000

**Options :**

61547533489. 1

61547533490. 2

61547533491. 3

61547533492. 4

**Question Number : 149 Question Id : 6154758591 Question Type : MCQ Option Shuffling : No Display Question Number : Yes Single Line Question Option : No Option Orientation : Vertical**

**Correct Marks : 2 Wrong Marks : 0**

अधिक आनुवंशिक इंजिनियरिंग अब क्यों संभव है?

(1) केरियोटाईपिंग के ज्ञान के कारण

(2) डी.एन.ए. क्रम के ज्ञान के कारण

(3) सदर्न ब्लॉटिंग तकनीक के ज्ञान के कारण

(4) नार्थन ब्लॉटिंग तकनीक के ज्ञान के कारण

**Options :**

61547533493. 1

61547533494. 2

61547533495. 3

61547533496. 4

**Question Number : 150 Question Id : 6154758592 Question Type : MCQ Option Shuffling : No Display Question Number : Yes Single Line Question Option : No Option Orientation : Vertical**

**Correct Marks : 2 Wrong Marks : 0**

आनुवंशिक उपचार द्वारा भविष्य में कौन सी बीमारियों के उपचार की संभावना है?

- (1) तंत्रिका संबंधी बीमारी (न्यूरोलॉजिकल डिसऑर्डर)
- (2) विभिन्न कर्क रोग (कैंसर) तथा दिल की बीमारियाँ
- (3) त्वचा-संबंधी बीमारियाँ
- (4) अस्थि संबंधी बीमारियाँ (ऑस्टियो आश्राइटिस)

**Options :**

61547533497. 1

61547533498. 2

61547533499. 3

61547533500. 4

