

National Testing Agency

Question Paper Name :	11 Defence and Strategic Studies 24th Sep 2020 Shift 2 Set 1
Subject Name :	11 Defence and Strategic Studies
Creation Date :	2020-09-24 20:44:45
Duration :	180
Total Marks :	300
Display Marks:	Yes
Share Answer Key With Delivery Engine :	Yes
Actual Answer Key :	Yes

11 Defence and Strategic Studies

Group Number :	1
Group Id :	21052932
Group Maximum Duration :	0
Group Minimum Duration :	180
Show Attended Group? :	No
Edit Attended Group? :	No
Break time :	0
Group Marks :	300
Is this Group for Examiner? :	No

PART I General Aptitude

Section Id :	21052945
Section Number :	1
Section type :	Online
Mandatory or Optional :	Mandatory
Number of Questions :	42

Number of Questions to be attempted :	42
Section Marks :	100
Display Number Panel :	Yes
Group All Questions :	Yes
Mark As Answered Required? :	Yes
Sub-Section Number :	1
Sub-Section Id :	210529103
Question Shuffling Allowed :	Yes

Question Number : 1 Question Id : 2105294090 Question Type : MCQ Option Shuffling : No Display Question Number : Yes Is Question Mandatory : No Single Line Question Option : No Option Orientation : Vertical Correct Marks : 2 Wrong Marks : 0

The Phrase T-L model of teaching implies that

1. Teaching and learning are independent acts
2. Teaching and learning are integrally related acts
3. Teaching aims at learning
4. Teaching causes learning

Options :

- 21052916201. 1
- 21052916202. 2
- 21052916203. 3
- 21052916204. 4



Question Number : 1 Question Id : 2105294090 Question Type : MCQ Option Shuffling : No Display Question Number : Yes Is Question Mandatory : No Single Line Question Option : No Option Orientation : Vertical Correct Marks : 2 Wrong Marks : 0

शिक्षण के टी-एल मॉडल का अर्थ है :

1. शिक्षण और अधिगम निराश्रित कार्य हैं
2. शिक्षण और अधिगम अभिन्न रूप से संबंधित हैं
3. शिक्षण का लक्ष्य अधिगम है
4. शिक्षण अधिगम का कारण है

Options :

21052916201. 1

21052916202. 2

21052916203. 3

21052916204. 4

Question Number : 2 Question Id : 2105294091 Question Type : MCQ Option Shuffling : No Display Question Number : Yes Is Question Mandatory : No Single Line Question Option : No Option Orientation : Vertical

Correct Marks : 2 Wrong Marks : 0

From the following list of learner characteristics, identify those which are associated with 'field independent' learners

- A. Focuses on facts and principles
- B. Perceives global aspects of concepts and materials
- C. Prefers and likes to compete
- D. Can organize information by himself/herself
- E. Likes to cooperate

Choose the **correct** answer from the options given below:

1. A, B and C only
2. B, C and D only
3. A, C and D only
4. C, D and E only

Options :

- 21052916205. 1
- 21052916206. 2
- 21052916207. 3
- 21052916208. 4

Question Number : 2 Question Id : 2105294091 Question Type : MCQ Option Shuffling : No Display Question Number : Yes Is Question Mandatory : No Single Line Question Option : No Option Orientation : Vertical

Correct Marks : 2 Wrong Marks : 0

अधिगमकर्ता की निम्नलिखित विशेषताओं में से उन विशेषताओं की पहचान कीजिए जो 'क्षेत्र स्वायत्त' अधिगमकर्ता से संबंधित हैं :

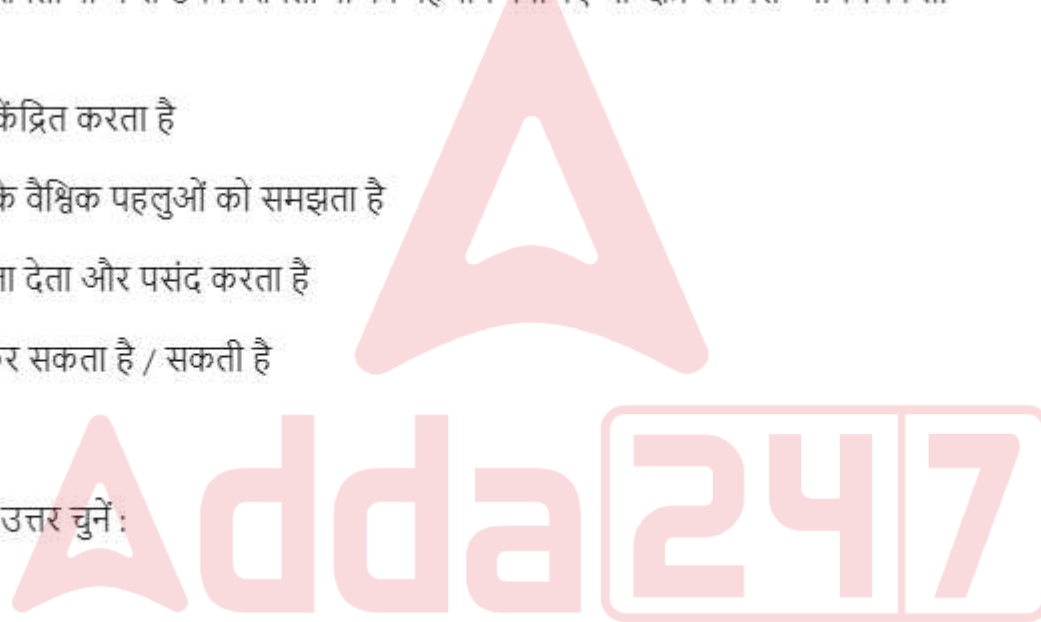
- A. तथ्यों और सिद्धांतों पर ध्यान केंद्रित करता है
- B. अवधारणाओं और सामग्रियों के वैश्विक पहलुओं को समझता है
- C. प्रतिस्पर्धा करने को अधिमानता देता और पसंद करता है
- D. स्वयं द्वारा सूचना व्यवस्थित कर सकता है / सकती है
- E. सहयोग करना पसंद करता है

नीचे दिए गए विकल्पों में से सही उत्तर चुनें :

- 1. केवल A, B और C
- 2. केवल B, C और D
- 3. केवल A, C और D
- 4. केवल C, D और E

Options :

- 21052916205. 1
- 21052916206. 2
- 21052916207. 3
- 21052916208. 4



Question Number : 3 Question Id : 2105294092 Question Type : MCQ Option Shuffling : No Display Question Number : Yes Is Question Mandatory : No Single Line Question Option : No Option Orientation : Vertical

Correct Marks : 2 Wrong Marks : 0

Which of the following are said to be style-related competencies of an effective teacher?


- A. Organized demeanour which means being orderly, clear and in control
- B. Literacy which implies general knowledge as well as good at reading and writing
- C. Self-efficacy which refers to a person's self-perceived capacity to perform a task
- D. Flexibility which means being sensitive and lenient
- E. Evaluating and providing feedback

Choose the **correct** answer from the options given below:

- 1. A and D only
- 2. B and C only
- 3. C and D only
- 4. D and E only

Options :

- 21052916209. 1
- 21052916210. 2
- 21052916211. 3
- 21052916212. 4



Question Number : 3 Question Id : 2105294092 Question Type : MCQ Option Shuffling : No Display Question Number : Yes Is Question Mandatory : No Single Line Question Option : No Option Orientation : Vertical

Correct Marks : 2 Wrong Marks : 0

नीचे दी गई सूची में से, किसी प्रभावी शिक्षक की शैली संबंधित प्रवीणताएं कौन-सी मानी जाती हैं ?

- A. व्यवस्थित व्यवहार जिसका अर्थ है - क्रमानुसार, स्पष्ट और नियंत्रणाधीन होना
- B. साक्षरता जिसका अर्थ है सामान्य ज्ञान तथा वाचन और लेखन में कुशलता
- C. आत्म सामर्थ्य जिसका तात्पर्य है किसी व्यक्ति की किसी कार्य को निष्पादित करने की आत्मप्रत्यक्षीकृत क्षमता
- D. नम्यता जिसका अर्थ है संवेदनशील और मृदु होना
- E. मूल्यांकन और फीडबैक प्रदान करना

नीचे दिए गए विकल्पों में से सही उत्तर चुनें :

- 1. केवल A और D
- 2. केवल B और C
- 3. केवल C और D
- 4. केवल D और E

Options :

- 21052916209. 1
- 21052916210. 2
- 21052916211. 3
- 21052916212. 4

Question Number : 4 Question Id : 2105294093 Question Type : MCQ Option Shuffling : No Display Question Number : Yes Is Question Mandatory : No Single Line Question Option : No Option Orientation : Vertical

Correct Marks : 2 Wrong Marks : 0

Match **List I** with **List II**

List I	List II
Scale of measurement	Properties
A. Nominal	I. Classification and order
B. Ordinal	II. Classification, order and equal units
C. Interval	III. Classification, order, equal units and absolute zero
D. Ratio	IV. Classification only

Choose the **correct** answer from the options given below:

1. A - I, B - II, C - III, D - IV
2. A - II, B - I, C - IV, D - III
3. A - III, B - II, C - IV, D - I
4. A - IV, B - I, C - II, D - III

Options :

21052916213. 1
21052916214. 2
21052916215. 3
21052916216. 4

Question Number : 4 Question Id : 2105294093 Question Type : MCQ Option Shuffling : No Display Question Number : Yes Is Question Mandatory : No Single Line Question Option : No Option Orientation : Vertical

Correct Marks : 2 Wrong Marks : 0

सूची-I में मापनी के प्रकार दिए गए हैं जबकि सूची-II में उनकी विशेषताएं बताई गई हैं :

सूची-I	सूची-II
A. नामिक	I. वर्गीकरण और क्रम
B. क्रमिक	II. वर्गीकरण, क्रम और समान इकाइयाँ
C. अंतराल	III. वर्गीकरण, क्रम, समान इकाइयाँ और निरपेक्ष शून्य
D. अनुपात	IV. केवल वर्गीकरण

नीचे दिए गए विकल्पों में से सही उत्तर का चयन करें :

1. A - I, B - II, C - III, D - IV
2. A - II, B - I, C - IV, D - III
3. A - III, B - II, C - IV, D - I
4. A - IV, B - I, C - II, D - III

Options :

21052916213. 1
21052916214. 2
21052916215. 3
21052916216. 4

Question Number : 5 Question Id : 2105294094 Question Type : MCQ Option Shuffling : No Display Question Number : Yes Is Question Mandatory : No Single Line Question Option : No Option Orientation : Vertical Correct Marks : 2 Wrong Marks : 0

Given below are two statements, one is labelled as **Assertion A** and the other is labelled as **Reason R**

Assertion A: Use of ICT is justified during teaching with a view to optimize learning outcomes

Reason R: Learning outcomes are contingent on use of ICT during teaching

In light of the above statements, choose the **most appropriate** answer from the options given below

1. Both **A** and **R** are correct and **R** is the correct explanation of **A**
2. Both **A** and **R** are correct but **R** is **NOT** the correct explanation of **A**
3. **A** is correct but **R** is not correct
4. **A** is not correct but **R** is correct

Options :

- 21052916217. 1
- 21052916218. 2
- 21052916219. 3
- 21052916220. 4

Question Number : 5 Question Id : 2105294094 Question Type : MCQ Option Shuffling : No Display Question Number : Yes Is Question Mandatory : No Single Line Question Option : No Option Orientation : Vertical Correct Marks : 2 Wrong Marks : 0

नीचे दो कथन दिए गए हैं : पहला अभिकथन (A) और दूसरा कारण (R) है ;

अभिकथन (A) : अधिगम परिणामों को इष्टतम बनाने के लिए शिक्षण अवधि में आई सी टी का अनुप्रयोग सुसंगत होता है।

कारण (R) : शिक्षण अवधि में अधिगम परिणाम आई सी टी के अनुप्रयोग पर निर्भर होते हैं।

उपर्युक्त कथनों के आलोक में निम्नांकित विकल्पों में से सही उत्तर चुनें :

1. कथन (A) और (R) दोनों सही हैं और (R), (A) की सही व्याख्या है।
2. कथन (A) और (R) दोनों सही हैं, किन्तु (R), (A) की सही व्याख्या नहीं है।
3. कथन (A) सत्य है किन्तु कथन (R) गलत है।
4. कथन (A) असत्य है, किन्तु (R) सही है।

Options :

21052916217. 1

21052916218. 2

21052916219. 3

21052916220. 4

Question Number : 6 Question Id : 2105294095 Question Type : MCQ Option Shuffling : No Display Question Number : Yes Is Question Mandatory : No Single Line Question Option : No Option Orientation : Vertical

Correct Marks : 2 Wrong Marks : 0

A teacher proposes to find out the effect of praise and encouragement during a teaching-learning session based on Skinner's theory of reinforcement. What type of research will it belong to?

1. Fundamental research
2. Evaluative research
3. Action research
4. Applied research

Options :

21052916221. 1

21052916222. 2

21052916223. 3

21052916224. 4

Question Number : 6 Question Id : 2105294095 Question Type : MCQ Option Shuffling : No Display Question Number : Yes Is Question Mandatory : No Single Line Question Option : No Option Orientation : Vertical

Correct Marks : 2 Wrong Marks : 0

कोई शिक्षक स्किनर के प्रबलन सिद्धांत पर आधारित शिक्षण - अधिगम सत्र अवधि में प्रशंसा और प्रोत्साहन का प्रभाव ज्ञात करने का प्रस्ताव करता है। यह किस प्रकार के अनुसंधान से संबंधित होगा ?

1. मौलिक अनुसंधान
2. मूल्यांकनपरक अनुसंधान
3. क्रियात्मक अनुसंधान
4. अनुप्रयुक्त अनुसंधान

Options :

21052916221. 1

21052916222. 2

21052916223. 3

21052916224. 4

Question Number : 7 Question Id : 2105294096 Question Type : MCQ Option Shuffling : No Display Question Number : Yes Is Question Mandatory : No Single Line Question Option : No Option Orientation : Vertical

Correct Marks : 2 Wrong Marks : 0



Given below are two statements

Statement I: All research adds to the corpus of knowledge by advancing a theory

Statement II: The focus of action research is basically on the amelioration of prevalent practices

In light of the above statements, choose the **correct** answer from the options given below

1. Both Statement I and Statement II are true
2. Both Statement I and Statement II are false
3. Statement I is true but Statement II is false
4. Statement I is false but Statement II is true

Options :

21052916225. 1
21052916226. 2
21052916227. 3
21052916228. 4

Question Number : 7 Question Id : 2105294096 Question Type : MCQ Option Shuffling : No Display Question Number : Yes Is Question Mandatory : No Single Line Question Option : No Option Orientation : Vertical

Correct Marks : 2 Wrong Marks : 0

नीचे दो कथन दिए गए हैं :

कथन-I : समस्त अनुसंधान किसी सिद्धांत के निर्माण द्वारा ज्ञान कोष में वृद्धि करते हैं।

कथन-II : क्रियात्मक अनुसंधान का ध्यान मूल रूप से प्रचलित परिपाटियों को उन्नत बनाने पर केंद्रित होता है।

उपर्युक्त कथनों के आलोक में निम्नांकित विकल्पों में से सही उत्तर चुनें :

1. कथन I और II दोनों सही हैं।
2. कथन I और II दोनों गलत हैं।
3. कथन-I सत्य है, किन्तु कथन-II गलत है।
4. कथन-I असत्य है, किन्तु कथन-II सही है।

Options :

- 21052916225. 1
- 21052916226. 2
- 21052916227. 3
- 21052916228. 4

Question Number : 8 Question Id : 2105294097 Question Type : MCQ Option Shuffling : No Display Question Number : Yes Is Question Mandatory : No Single Line Question Option : No Option Orientation : Vertical

Correct Marks : 2 Wrong Marks : 0

Match **List I** with **List II**

List I	List II
Key research terms	Description
A. Research problems	I. Devices using which data are gathered
B. Research hypothesis	II. A subset drawn from a defined set or universe
C. Sample of study	III. A tentative solution or answer to a research question
D. Research tools	IV. The research question which has to be answered

Choose the **correct** answer from the options given below:

- 1. A - IV, B - III, C - II, D - I
- 2. A - III, B - II, C - I, D - IV
- 3. A - I, B - II, C - III, D - IV
- 4. A - III, B - IV, C - I, D - II

Options :

- 21052916229. 1
- 21052916230. 2
- 21052916231. 3

Question Number : 8 Question Id : 2105294097 Question Type : MCQ Option Shuffling : No Display Question Number : Yes Is Question Mandatory : No Single Line Question Option : No Option Orientation : Vertical

Correct Marks : 2 Wrong Marks : 0

सूची-I को सूची-II के साथ सुमेलित करें :

सूची-I	सूची-II
(प्रमुख अनुसंधान पद)	(विवरण)
A. शोध समस्या	I. प्रविधियाँ जिनका प्रयोग करके आंकड़े एकत्रित किए जाते हैं
B. शोध परिकल्पना	II. किसी परिभाषित समुच्चय या समग्र में से लिया गया उप-समुच्चय
C. अध्ययन का प्रतिदर्श	III. किसी शोध प्रश्न का कोई अनंतिम समाधान या उत्तर
D. शोध उपकरण	IV. शोध प्रश्न जिसका उत्तर दिया जाता है

नीचे दिए गए विकल्पों में से सही उत्तर का चयन करें

1. A - IV, B - III, C - II, D - I
2. A - III, B - II, C - I, D - IV
3. A - I, B - II, C - III, D - IV
4. A - III, B - IV, C - I, D - II

Options :

21052916229. 1
21052916230. 2
21052916231. 3
21052916232. 4

Question Number : 9 Question Id : 2105294098 Question Type : MCQ Option Shuffling : No Display Question Number : Yes Is Question

Mandatory : No Single Line Question Option : No Option Orientation : Vertical

Correct Marks : 2 Wrong Marks : 0

Arrange the steps in a hypothetico-deductive research in the correct sequence

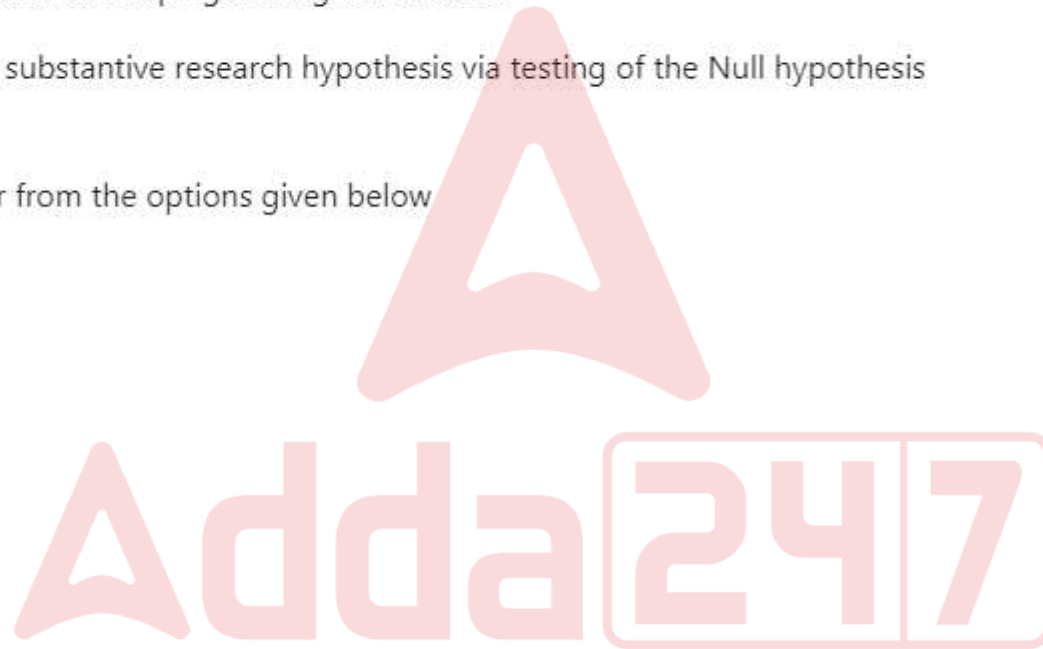
- A. Identifying and defining a research problem
- B. Defining the population and drawing a sub-set therefrom
- C. Data collection using appropriate research tasks followed by data analyses
- D. Hypothesis formulation and developing a design of research
- E. Taking a decision on the substantive research hypothesis via testing of the Null hypothesis (H_0)

Choose the **correct** answer from the options given below

- 1. A, D, B, C, E
- 2. A, B, C, D, E
- 3. A, C, B, D, E
- 4. B, A, C, D, E

Options :

- 21052916233. 1
- 21052916234. 2
- 21052916235. 3
- 21052916236. 4



Question Number : 9 Question Id : 2105294098 Question Type : MCQ Option Shuffling : No Display Question Number : Yes Is Question

Mandatory : No Single Line Question Option : No Option Orientation : Vertical

Correct Marks : 2 Wrong Marks : 0

परिकल्पनात्मक - निगमनात्मक शोध में अपनाए जाने वाले सोपान निम्नानुसार हैं :

- A. किसी शोध समस्या को अभिज्ञात करना और परिभाषित करना
- B. समग्र को परिभाषित करना और उसमें से उप-समुच्चय निकालना
- C. समुचित शोध उपकरणों के अनुप्रयोग द्वारा आंकड़ा संग्रहण तत्पश्चात् आंकड़ों का विश्लेषण
- D. परिकल्पना निर्माण और शोध का अभिकल्प विकसित करना
- E. शून्य परिकल्पना (H_0) के माध्यम से मुख्य शोध परिकल्पना पर कोई निर्णय लेना

शोध के सोपानों का सही क्रम दर्शानेवाले नीचे दिए गए विकल्पों में से सही उत्तर चुनें :

- 1. A, D, B, C, E
- 2. A, B, C, D, E
- 3. A, C, B, D, E
- 4. B, A, C, D, E

Options :

- 21052916233. 1
- 21052916234. 2
- 21052916235. 3
- 21052916236. 4

Question Number : 10 Question Id : 2105294099 Question Type : MCQ Option Shuffling : No Display Question Number : Yes Is Question Mandatory : No Single Line Question Option : No Option Orientation : Vertical Correct Marks : 2 Wrong Marks : 0

Which of the following sampling techniques in research imply randomization and equal probability of drawing the units?

- A. Quota sampling
- B. Snowball sampling
- C. Stratified sampling
- D. Dimensional sampling
- E. Cluster sampling

Choose the **correct** answer from the options given below:

- 1. A and B only
- 2. B and C only
- 3. C and E only
- 4. D and E only

Options :

- 21052916237. 1
- 21052916238. 2
- 21052916239. 3
- 21052916240. 4

Question Number : 10 Question Id : 2105294099 Question Type : MCQ Option Shuffling : No Display Question Number : Yes Is Question Mandatory : No Single Line Question Option : No Option Orientation : Vertical Correct Marks : 2 Wrong Marks : 0



शोध में निम्नलिखित में से कौन-सी प्रतिदर्श तकनीक में इकाइयों को निकालने में यादृच्छिकरण और समान संभाव्यता होती है :

- A. आनुपातिक प्रतिदर्श चयन
- B. स्त्रोबाल प्रतिदर्श चयन
- C. स्तरित प्रतिदर्श चयन
- D. विमात्मक प्रतिदर्श चयन
- E. गुच्छ प्रतिदर्श चयन

नीचे दिए गए विकल्पों में से सही उत्तर चुनें :

- 1. केवल A और B
- 2. केवल B और C
- 3. केवल C और E
- 4. केवल D और E

Options :

- 21052916237. 1
- 21052916238. 2
- 21052916239. 3
- 21052916240. 4

Sub-Section Number :

Sub-Section Id :

Question Shuffling Allowed :

2

210529104

Yes

Question Id : 2105294100 Question Type : COMPREHENSION Sub Question Shuffling Allowed : Yes Group Comprehension Questions : No

Question Numbers : (11 to 15)

Question Label : Comprehension

Read the passage carefully and answer the questions that follow

In the narrowest sense, price is the amount of money charged for a product or a service. More broadly, price is the sum of all the values that customers give up to gain the benefits of having or using a product or service. Historically, price has been the major factor affecting buyer choice. In recent decades, however, nonprice factors have gained increasing importance. Even so, price remains one of the most important elements that determines a firm's market share and profitability.

Price is the only element in the marketing mix that produces revenue; all other elements present costs. Price is also one of the most flexible marketing mix elements. Unlike product features and channel commitments, prices can be changed quickly. At the same time, pricing is the number one problem facing many marketing executives, and many companies do not handle pricing well. Some managers view pricing as a big headache, preferring instead to focus on other marketing mix elements. However, smart managers treat pricing as a key strategic tool for creating and capturing customer value. Prices have a direct impact on a firm's bottom line. A small percentage improvement in price can generate a large percentage increase in profitability. More important, as part of a company's overall value proposition, price plays a key role in creating customer value and building customer relationships. "Instead of running away from pricing," says an expert, "savvy marketers are embracing it".

The price the company charges will fall somewhere between one that is too low to produce a profit and one that is too high to produce any demand. It summarizes the major considerations in setting price. Customer perceptions of the product's value set the ceiling for prices. If customers perceive that the product's price is greater than its value, they will not buy the product. Likewise, product costs set the floor for prices. If the company prices the product below its costs, the company's profits will suffer. In setting its price between those two extremes, the company must consider several external and internal factors, including competitors' strategies and prices, the overall marketing strategy and mix, and nature of the market and demand.

Sub questions

Question Number : 11 Question Id : 2105294101 Question Type : MCQ Option Shuffling : No Display Question Number : Yes Is Question Mandatory : No Single Line Question Option : No Option Orientation : Vertical Correct Marks : 2 Wrong Marks : 0

Historically price was considered important because

1. Sellers were always benefitted
2. Money was charged for product or service
3. It provided options for buyers
4. It promoted non-price factors

Options :

- 21052916241. 1
- 21052916242. 2
- 21052916243. 3
- 21052916244. 4

Question Number : 12 Question Id : 2105294102 Question Type : MCQ Option Shuffling : No Display Question Number : Yes Is Question Mandatory : No Single Line Question Option : No Option Orientation : Vertical Correct Marks : 2 Wrong Marks : 0

Why is price different from other elements in the marketing mix?

1. It offsets cost
2. It generates revenue
3. It is rigid in character
4. It ensures channel commitment

Options :

- 21052916245. 1
- 21052916246. 2
- 21052916247. 3
- 21052916248. 4

Question Number : 13 Question Id : 2105294103 Question Type : MCQ Option Shuffling : No Display Question Number : Yes Is Question Mandatory : No Single Line Question Option : No Option Orientation : Vertical

Correct Marks : 2 Wrong Marks : 0

What is the perception of smart managers regarding pricing?

1. It is a strategic tool for consumer value
2. It invites issues
3. It is better to focus on other elements in the marketing mix
4. It is of indirect value to the firm

Options :

- 21052916249. 1
- 21052916250. 2
- 21052916251. 3
- 21052916252. 4

Question Number : 14 Question Id : 2105294104 Question Type : MCQ Option Shuffling : No Display Question Number : Yes Is Question Mandatory : No Single Line Question Option : No Option Orientation : Vertical

Correct Marks : 2 Wrong Marks : 0

Which of the following is the major determinant of pricing for product or service?

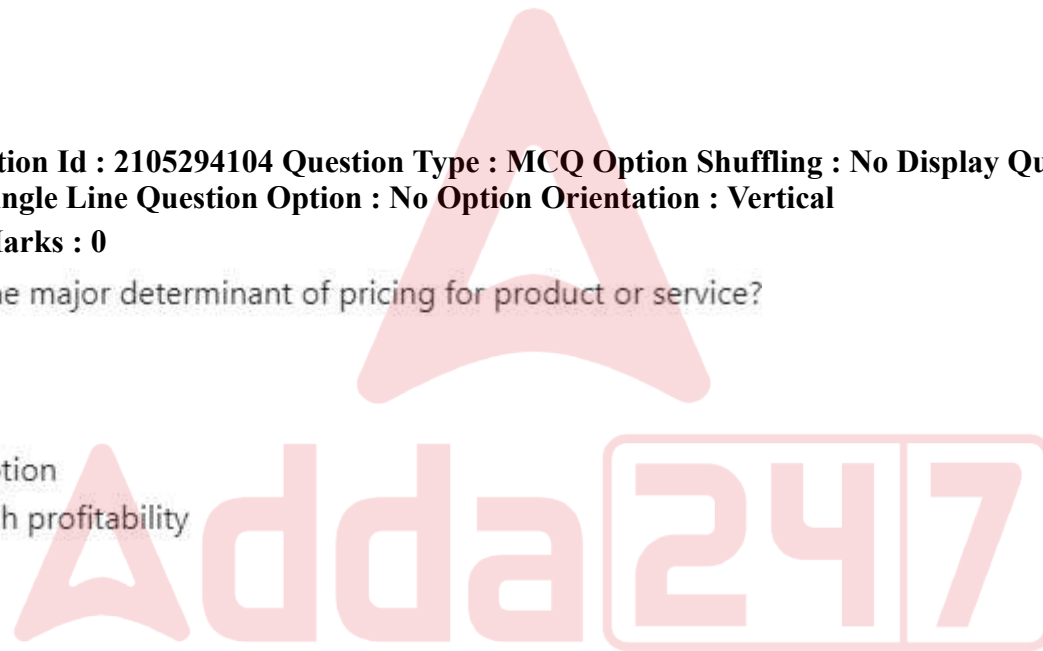
1. High demand
2. Low demand
3. Customer's value perception
4. Company's quest for high profitability

Options :

- 21052916253. 1
- 21052916254. 2
- 21052916255. 3
- 21052916256. 4

Question Number : 15 Question Id : 2105294105 Question Type : MCQ Option Shuffling : No Display Question Number : Yes Is Question Mandatory : No Single Line Question Option : No Option Orientation : Vertical

Correct Marks : 2 Wrong Marks : 0



What are the other factors influencing or setting the price for products or services?

- A. Competitors' strategies
- B. Over-all marketing mix
- C. Type of market
- D. Pricing from one extreme to the other
- E. Predators pricing strategies

Choose the **correct** answer from the options given below:

- 1. A, D and E only
- 2. A, B and C only
- 3. C, D and E only
- 4. B, C and D only

Options :

- 21052916257. 1
- 21052916258. 2
- 21052916259. 3
- 21052916260. 4

Question Id : 2105294100 Question Type : COMPREHENSION Sub Question Shuffling Allowed : Yes Group Comprehension Questions : No

Question Numbers : (11 to 15)

Question Label : Comprehension

निम्नलिखित गद्यांश को ध्यानपूर्वक पढ़ें और प्रश्नों के उत्तर दें :

संकीर्णतम अर्थ में, कीमत किसी उत्पाद अथवा किसी सेवा के लिए प्रभारित धनराशि होती है। अधिक व्यापक रूप में कीमत उन सभी मूल्यों का योग है जिन्हें उपभोक्ता किसी उत्पाद या सेवा को लेने या उसका प्रयोग करने के लाभों को प्राप्त करने के लिए देते हैं। ऐतिहासिक रूप से, कीमत क्रेता की पसंद को प्रभावित करने वाला प्रमुख कारक रहा है। तथापि, हाल के दशकों में, गैर - कीमत कारकों का महत्त्व बढ़ता जा रहा है। फिर भी, कीमत किसी फर्म के बाजार हिस्से और लाभप्रदता को निर्धारित करने वाले सर्वाधिक महत्त्वपूर्ण तत्वों में से एक बनी हुई है।

विपणन-मिश्रण में कीमत ऐसा एकमात्र तत्व है जो आय अर्जित करता है ; अन्य सभी, तत्व लागत दर्शाते हैं। कीमत विपणन मिश्रण के तत्वों में सर्वाधिक लोचशील तत्वों में से एक है। उत्पाद विशेषताओं और श्रृंखला संबंधी प्रतिबद्धताओं से अलग, कीमत को शीघ्रता से बदला जा सकता है। इसी के साथ कीमत निर्धारण अनेक विपणन कार्यकारियों के समक्ष आनेवाली सबसे पहली समस्या है, और अनेक कंपनियाँ कीमत निर्धारण को बड़े सिरदर्द के रूप में देखते हैं और इसके बजाय विपणन मिश्रण के अन्य तत्वों पर ध्यान केंद्रित करने को अधिमानता देते हैं। तथापि कुशल प्रबंधक कीमत निर्धारण को उपभोक्ता मूल्य सृजित करने या प्राप्त करने का एक प्रमुख कार्यनीतिक साधन मानते हैं। कीमतों का किसी फर्म की मूल रचना पर प्रत्यक्ष प्रभाव पड़ता है। कीमत में थोड़े से प्रतिशत सुधार से लाभप्रदता के प्रतिशत में भारी वृद्धि हो सकती है। अधिक महत्त्वपूर्ण है कि कंपनी के समग्र मूल्य साध्य के भाग के रूप में, कीमत उपभोक्ता मूल्य सृजित करने और उपभोक्ता संबंध के निर्माण में महत्त्वपूर्ण भूमिका अदा करती है। एक विशेषज्ञ ने कहा है, "कीमत निर्धारण से बचने के बजाय समझदार विपणनकर्ता उसे अपना रहे हैं।"

कंपनी द्वारा प्रभारित की जाने वाली कीमत लाभ अर्जित करने की न्यूनतम कीमत और मांग अर्जित करने की दृष्टि से अत्यधिक कीमत के बीच में आती है। यह बात कीमत निर्धारण में आने वाले विचारों का सारांश है। उत्पाद के मूल्य संबंधी उपभोक्ता का बोध कीमतों की अधिकतम सीमा तय करता है। यदि उपभोक्ता समझते हैं कि उत्पाद की कीमत उसके मूल्य से अधिक है वे इस उत्पाद को नहीं खरीदेंगे। इसी प्रकार, उत्पाद की लागतें कीमतों के न्यूनतम स्तर को तय करती हैं। यदि कंपनी किसी उत्पाद की कीमत उसकी लागत से कम निर्धारित करती है तो कंपनी के लाभ कम हो जाएंगे। इन दोनों छोरों के बीच कीमत निर्धारित करने के लिए कंपनी को प्रतिस्पर्धियों की रणनीतियाँ और कीमतें, समग्र विपणन कार्यनीति और मिश्रण तथा बाजार मांग की प्रकृति सहित अनेक बाह्य और आंतरिक कारकों पर विचार करना चाहिए।

Sub questions

Question Number : 11 Question Id : 2105294101 Question Type : MCQ Option Shuffling : No Display Question Number : Yes Is Question Mandatory : No Single Line Question Option : No Option Orientation : Vertical

Correct Marks : 2 Wrong Marks : 0

ऐतिहासिक रूप से कीमत को महत्त्वपूर्ण समझा जाता था क्योंकि :

1. विक्रेताओं को सदैव लाभ होता था
2. उत्पाद या सेवा के लिए धनराशि प्रभारित की जाती थी
3. इससे क्रेताओं को विकल्प उपलब्ध होते थे
4. इससे गैर-कीमत कारकों का संवर्धन होता था

Options :

21052916241. 1
21052916242. 2
21052916243. 3
21052916244. 4

Question Number : 12 Question Id : 2105294102 Question Type : MCQ Option Shuffling : No Display Question Number : Yes Is Question Mandatory : No Single Line Question Option : No Option Orientation : Vertical

Correct Marks : 2 Wrong Marks : 0

कीमत विपणन मिश्रण में अन्य तत्वों से भिन्न क्यों है ?

1. यह लागत की प्रतिपूर्ति करती है
2. यह आय अर्जित करती है
3. यह अलोचशील प्रकृति की होती है
4. यह सरणी (चैनल) प्रतिबद्धता सुनिश्चित करती है

Options :

21052916245. 1
21052916246. 2
21052916247. 3
21052916248. 4

Question Number : 13 Question Id : 2105294103 Question Type : MCQ Option Shuffling : No Display Question Number : Yes Is

Question Mandatory : No Single Line Question Option : No Option Orientation : Vertical

Correct Marks : 2 Wrong Marks : 0

कीमत निर्धारण के संबंध में कुशल प्रबंधकों का दृष्टिकोण क्या होता है ?

1. यह उपभोक्ता मूल्य के लिए एक कार्यनीतिक साधन है
2. यह समस्याओं को जन्म देता है
3. विपणन मिश्रण में अन्य तत्वों पर ध्यान केंद्रित करना बेहतर है
4. फर्म के लिए यह अप्रत्यक्ष मूल्य वाला है

Options :

21052916249. 1

21052916250. 2

21052916251. 3

21052916252. 4

Question Number : 14 Question Id : 2105294104 Question Type : MCQ Option Shuffling : No Display Question Number : Yes Is

Question Mandatory : No Single Line Question Option : No Option Orientation : Vertical

Correct Marks : 2 Wrong Marks : 0

उत्पाद या सेवा के लिए कीमत - निर्धारण में निम्नलिखित में से कौन - सा प्रमुख निर्धारक है ?

1. उच्च मांग
2. कम मांग
3. उपभोक्ता का मूल्य अवबोधन
4. उच्च लाभप्रदता का कंपनी का लक्ष्य

Options :

21052916253. 1

21052916254. 2

21052916255. 3

21052916256. 4

Question Number : 15 Question Id : 2105294105 Question Type : MCQ Option Shuffling : No Display Question Number : Yes Is

Question Mandatory : No Single Line Question Option : No Option Orientation : Vertical

Correct Marks : 2 Wrong Marks : 0

उत्पादों अथवा सेवाओं की कीमत को प्रभावित या निर्धारित करने वाले अन्य कारक कौन-से हैं ?

- A. प्रतिस्पर्धियों की रणनीति
- B. समग्र विपणन मिश्रण
- C. बाजार का प्रकार
- D. एक पराकोटि से दूसरी पराकोटि तक कीमत निर्धारण
- E. बाजार कब्जाने की कीमत रणनीति

सही विकल्प चुनें :

- 1. केवल A, D और E
- 2. केवल A, B और C
- 3. केवल C, D और E
- 4. केवल B, C और D

Options :

- 21052916257. 1
- 21052916258. 2
- 21052916259. 3
- 21052916260. 4

Sub-Section Number :

Sub-Section Id :

Question Shuffling Allowed :



3

210529105

Yes

Question Number : 16 Question Id : 2105294106 Question Type : MCQ Option Shuffling : No Display Question Number : Yes Is Question Mandatory : No Single Line Question Option : No Option Orientation : Vertical Correct Marks : 2 Wrong Marks : 0

When communication enhances the interaction of learners, it is

1. Physiological
2. Psychological
3. Artistic
4. Transient

Options :

21052916261. 1
21052916262. 2
21052916263. 3
21052916264. 4

Question Number : 16 Question Id : 2105294106 Question Type : MCQ Option Shuffling : No Display Question Number : Yes Is Question Mandatory : No Single Line Question Option : No Option Orientation : Vertical Correct Marks : 2 Wrong Marks : 0

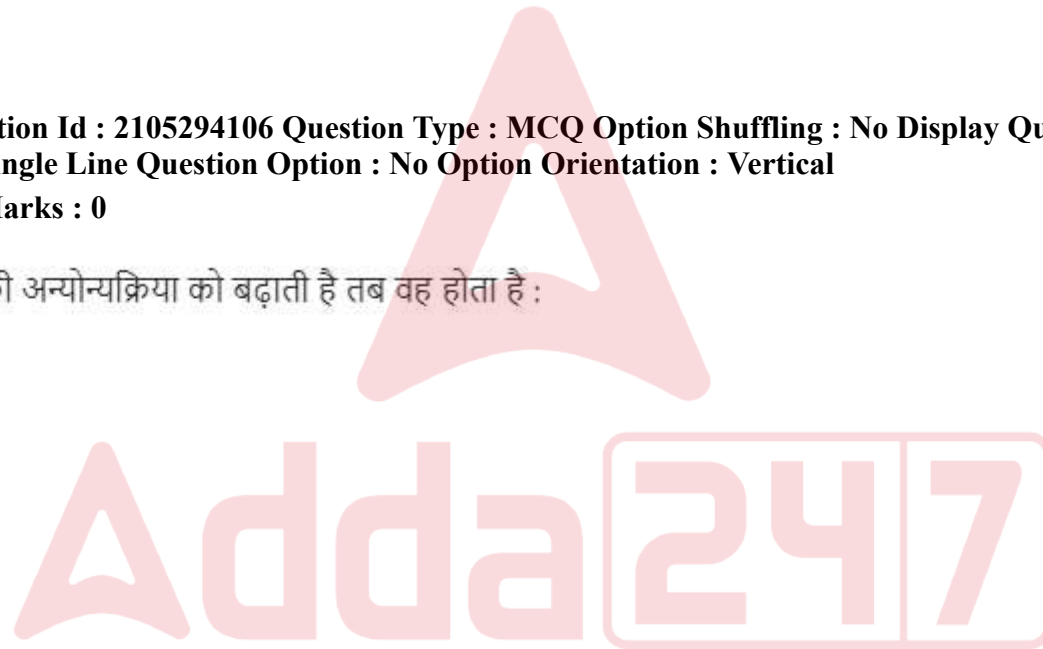
जब सम्प्रेषण, अधिगमकर्ताओं की अन्योन्यक्रिया को बढ़ाती है तब वह होता है :

1. भौतिक
2. मनोवैज्ञानिक
3. कलात्मक
4. क्षणिक

Options :

21052916261. 1
21052916262. 2
21052916263. 3
21052916264. 4

Question Number : 17 Question Id : 2105294107 Question Type : MCQ Option Shuffling : No Display Question Number : Yes Is Question Mandatory : No Single Line Question Option : No Option Orientation : Vertical Correct Marks : 2 Wrong Marks : 0



Classroom communication is

- A. Goal-oriented
- B. Style-centric
- C. Collaborative
- D. Vertical
- E. Non-rhetorical

Choose the **correct** answer from the options given below:

1. A and B only
2. B and D only
3. A and C only
4. D and E only

Options :

- 21052916265. 1
- 21052916266. 2
- 21052916267. 3
- 21052916268. 4

Question Number : 17 Question Id : 2105294107 Question Type : MCQ Option Shuffling : No Display Question Number : Yes Is Question Mandatory : No Single Line Question Option : No Option Orientation : Vertical Correct Marks : 2 Wrong Marks : 0

कक्षा - कक्ष सम्प्रेषण होता है :

A. लक्ष्य-उन्मुख

B. शैली-केन्द्रित

C. सहयोगात्मक

D. ऊर्ध्वाधर

E. गैर - अलंकृत

सही विकल्प चुनें :

1. केवल A और B

2. केवल B और D

3. केवल A और C

4. केवल D और E

Options :

21052916265. 1

21052916266. 2

21052916267. 3

21052916268. 4

Question Number : 18 Question Id : 2105294108 Question Type : MCQ Option Shuffling : No Display Question Number : Yes Is

Question Mandatory : No Single Line Question Option : No Option Orientation : Vertical

Correct Marks : 2 Wrong Marks : 0

Given below are two statements, one is labelled as **Assertion A** and the other is labelled as **Reason R**

Assertion A: Allowing an issue to fester will contribute to effective communication

Reason R: A good communicator will address an issue in the classroom before it becomes precarious

In light of the above statements, choose the **correct** answer from the options given below

1. Both **A** and **R** are true and **R** is the correct explanation of **A**
2. Both **A** and **R** are true but **R** is **NOT** the correct explanation of **A**
3. **A** is true but **R** is false
4. **A** is false but **R** is true

Options :

21052916269. 1

21052916270. 2

21052916271. 3

21052916272. 4

Question Number : 18 Question Id : 2105294108 Question Type : MCQ Option Shuffling : No Display Question Number : Yes Is Question Mandatory : No Single Line Question Option : No Option Orientation : Vertical Correct Marks : 2 Wrong Marks : 0

नीचे दो कथन दिए गए हैं : एक अभिकथन (A) और दूसरा तर्क (R) है ;

अभिकथन (A) : किसी समस्या को बढ़ने देने से प्रभावी संप्रेषण में सहायता मिलती है।

तर्क (R) : एक कुशल संप्रेषणकर्ता कक्षा में किसी समस्या के अनियंत्रित हो जाने से पहले उसका समाधान करेगा।

उपर्युक्त कथनों के आलोक में निम्नांकित विकल्पों में से सही उत्तर चुनें :

1. (A) और (R) दोनों सही हैं और (R), (A) की सही व्याख्या करता है।
2. (A) और (R) दोनों सही हैं और (R), (A) की सही व्याख्या नहीं है।
3. (A) सही है, किन्तु (R) गलत है।
4. (A) गलत है किन्तु (R) सही है।

Options :

21052916269. 1

21052916270. 2

21052916271. 3

21052916272. 4

Question Number : 19 Question Id : 2105294109 Question Type : MCQ Option Shuffling : No Display Question Number : Yes Is

Question Mandatory : No Single Line Question Option : No Option Orientation : Vertical

Correct Marks : 2 Wrong Marks : 0



Match **List I** with **List II**

List I	List II
Communication barriers	Description
A. Semantic	I. Lack of physical clarity in channel
B. Psychological	II. Faulty message
C. Personal	III. Poor retention
D. Physical	IV. Lack of time

Choose the **correct** answer from the options given below:

1. A - I, B - II, C - III, D - IV
2. A - II, B - III, C - IV, D - I
3. A - III, B - IV, C - I, D - II
4. A - IV, B - I, C - II, D - III

Options :

- 21052916273. 1
- 21052916274. 2
- 21052916275. 3
- 21052916276. 4

Question Number : 19 Question Id : 2105294109 Question Type : MCQ Option Shuffling : No Display Question Number : Yes Is Question Mandatory : No Single Line Question Option : No Option Orientation : Vertical Correct Marks : 2 Wrong Marks : 0

सूची-I से सूची-II का मिलान करें :

सूची-I	सूची-II
संप्रेषण के अवरोध	विवरण
A. शब्दार्थक	I. सरणी (चैनल) में भौतिक स्पष्टता का अभाव
B. मनोवैज्ञानिक	II. त्रुटिपूर्ण संदेश
C. व्यक्तिगत	III. निकृष्ट कोटि का अवधारण
D. भौतिक	IV. समय का अभाव

नीचे दिए गए विकल्पों में से सही उत्तर का चयन करें :

1. A - I, B - II, C - III, D - IV
2. A - II, B - III, C - IV, D - I
3. A - III, B - IV, C - I, D - II
4. A - IV, B - I, C - II, D - III

Options :

21052916273. 1
21052916274. 2
21052916275. 3
21052916276. 4

Question Number : 20 Question Id : 2105294110 Question Type : MCQ Option Shuffling : No Display Question Number : Yes Is Question Mandatory : No Single Line Question Option : No Option Orientation : Vertical Correct Marks : 2 Wrong Marks : 0

Given below are two statements

Statement I: Signs and symbols have internal relations to produce meanings

Statement II: This is possible because of a network of signs through such relations

In light of the above statements, choose the **most appropriate** answer from the options given below

1. Both Statement I and Statement II are true
2. Both Statement I and Statement II are false
3. Statement I is true but Statement II is false
4. Statement I is false but Statement II is true

Options :

21052916277. 1
21052916278. 2
21052916279. 3
21052916280. 4

Question Number : 20 Question Id : 2105294110 Question Type : MCQ Option Shuffling : No Display Question Number : Yes Is Question Mandatory : No Single Line Question Option : No Option Orientation : Vertical Correct Marks : 2 Wrong Marks : 0

नीचे दो कथन दिए गए हैं :

कथन-I : संकेतों और प्रतीकों का अर्थ उत्पन्न करने में आंतरिक संबंध होता है।

कथन-II : यह इन संबंधों के माध्यम से संकेतों के नेटवर्क के कारण संभव होता है।

उपर्युक्त कथनों के आलोक में निम्नांकित विकल्पों में से सही उत्तर चुनें :

1. कथन I और II दोनों सही हैं।
2. कथन I और II दोनों गलत हैं।
3. कथन-I सत्य है, किन्तु कथन-II गलत है।
4. कथन-I असत्य है, किन्तु कथन-II सही है।

Options :

- 21052916277. 1
- 21052916278. 2
- 21052916279. 3
- 21052916280. 4

Question Number : 21 Question Id : 2105294111 Question Type : MCQ Option Shuffling : No Display Question Number : Yes Is Question Mandatory : No Single Line Question Option : No Option Orientation : Vertical Correct Marks : 2 Wrong Marks : 0

A man covers a distance of 22 km in 4 hours by initially walking and then jogging at speed of 4 km/hour and 10 km/hour, respectively. The distance covered by him during walking is

- 1. 10 km
- 2. 12 km
- 3. 15 km
- 4. 18 km

Options :

- 21052916281. 1
- 21052916282. 2
- 21052916283. 3
- 21052916284. 4

Question Number : 21 Question Id : 2105294111 Question Type : MCQ Option Shuffling : No Display Question Number : Yes Is Question Mandatory : No Single Line Question Option : No Option Orientation : Vertical Correct Marks : 2 Wrong Marks : 0

एक व्यक्ति 22 किमी की दूरी को 4 घंटे में आरंभ में चलकर और तत्पश्चात् धीमी दौड़ से क्रमशः 4 किमी/ घंटा और 10 किमी/ घंटा की गति से तय करता है। उसके द्वारा चलकर तय की गई दूरी कितनी है ?

1. 10 किमी.
2. 12 किमी.
3. 15 किमी.
4. 18 किमी.

Options :

21052916281. 1
21052916282. 2
21052916283. 3
21052916284. 4

Question Number : 22 Question Id : 2105294112 Question Type : MCQ Option Shuffling : No Display Question Number : Yes Is Question Mandatory : No Single Line Question Option : No Option Orientation : Vertical

Correct Marks : 2 Wrong Marks : 0

A rational number has its denominator greater than its numerator by 6. If the numerator is increased by 4 and the denominator is decreased by 8, the number becomes $\frac{5}{3}$. What is the original rational number?

1. $\frac{11}{17}$
2. $\frac{5}{11}$
3. $\frac{11}{7}$
4. $\frac{13}{19}$

Options :

21052916285. 1
21052916286. 2
21052916287. 3
21052916288. 4



Question Number : 22 Question Id : 2105294112 Question Type : MCQ Option Shuffling : No Display Question Number : Yes Is Question Mandatory : No Single Line Question Option : No Option Orientation : Vertical Correct Marks : 2 Wrong Marks : 0

एक परिमेय संख्या का हर उसके अंश से 6 अधिक है। यदि अंश में 4 की वृद्धि की जाती है और हर में से 8 घटाया जाता है तो संख्या $\frac{5}{3}$ हो जाती है। मूल परिमेय संख्या क्या है ?

1. $\frac{11}{17}$
2. $\frac{5}{11}$
3. $\frac{7}{13}$
4. $\frac{13}{19}$

Options :

21052916285. 1
21052916286. 2
21052916287. 3
21052916288. 4

Question Number : 23 Question Id : 2105294113 Question Type : MCQ Option Shuffling : No Display Question Number : Yes Is Question Mandatory : No Single Line Question Option : No Option Orientation : Vertical Correct Marks : 2 Wrong Marks : 0

Consider the following number series

0, 6, 24, 60, 120, X

What is the value of term X?

1. 180
2. 210
3. 240
4. 156

Options :

- 21052916289. 1
- 21052916290. 2
- 21052916291. 3
- 21052916292. 4

Question Number : 23 Question Id : 2105294113 Question Type : MCQ Option Shuffling : No Display Question Number : Yes Is Question Mandatory : No Single Line Question Option : No Option Orientation : Vertical

Correct Marks : 2 Wrong Marks : 0

निम्नांकित संख्या श्रृंखला पर विचार कीजिए

0, 6, 24, 60, 120, X

X का मान क्या है ?

- 1. 180
- 2. 210
- 3. 240
- 4. 156

Options :

- 21052916289. 1
- 21052916290. 2
- 21052916291. 3
- 21052916292. 4



Question Number : 24 Question Id : 2105294114 Question Type : MCQ Option Shuffling : No Display Question Number : Yes Is Question Mandatory : No Single Line Question Option : No Option Orientation : Vertical

Correct Marks : 2 Wrong Marks : 0

Two water pipes can fill a tank in 10 minutes and 15 minutes, respectively, if each of them is used separately. If both the pipes are used to fill the tank simultaneously, how long will it take to fill the tank?

1. 6 minutes
2. 8 minutes
3. 7.5 minutes
4. 9 minutes

Options :

21052916293. 1
21052916294. 2
21052916295. 3
21052916296. 4

Question Number : 24 Question Id : 2105294114 Question Type : MCQ Option Shuffling : No Display Question Number : Yes Is Question Mandatory : No Single Line Question Option : No Option Orientation : Vertical

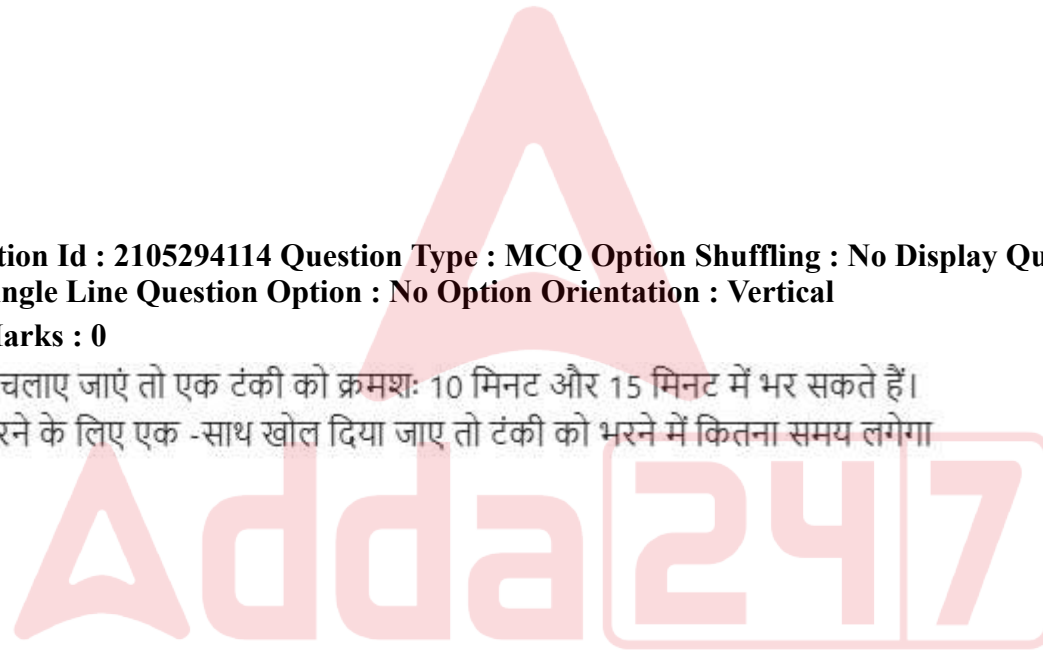
Correct Marks : 2 Wrong Marks : 0

दो जल पाइप यदि अलग-अलग चलाए जाएं तो एक टंकी को क्रमशः 10 मिनट और 15 मिनट में भर सकते हैं। यदि दोनों पाइपों को टंकी को भरने के लिए एक -साथ खोल दिया जाए तो टंकी को भरने में कितना समय लगेगा ?

1. 6 मिनट
2. 8 मिनट
3. 7.5 मिनट
4. 9 मिनट

Options :

21052916293. 1
21052916294. 2
21052916295. 3
21052916296. 4



Question Number : 25 Question Id : 2105294115 Question Type : MCQ Option Shuffling : No Display Question Number : Yes Is Question Mandatory : No Single Line Question Option : No Option Orientation : Vertical Correct Marks : 2 Wrong Marks : 0

What is the next term in the following letter series?

aceg, cegi, egik, gikm, ___

1. jlor
2. hjlo
3. ikmo
4. ikmq

Options :

21052916297. 1
21052916298. 2
21052916299. 3
21052916300. 4

Question Number : 25 Question Id : 2105294115 Question Type : MCQ Option Shuffling : No Display Question Number : Yes Is Question Mandatory : No Single Line Question Option : No Option Orientation : Vertical Correct Marks : 2 Wrong Marks : 0

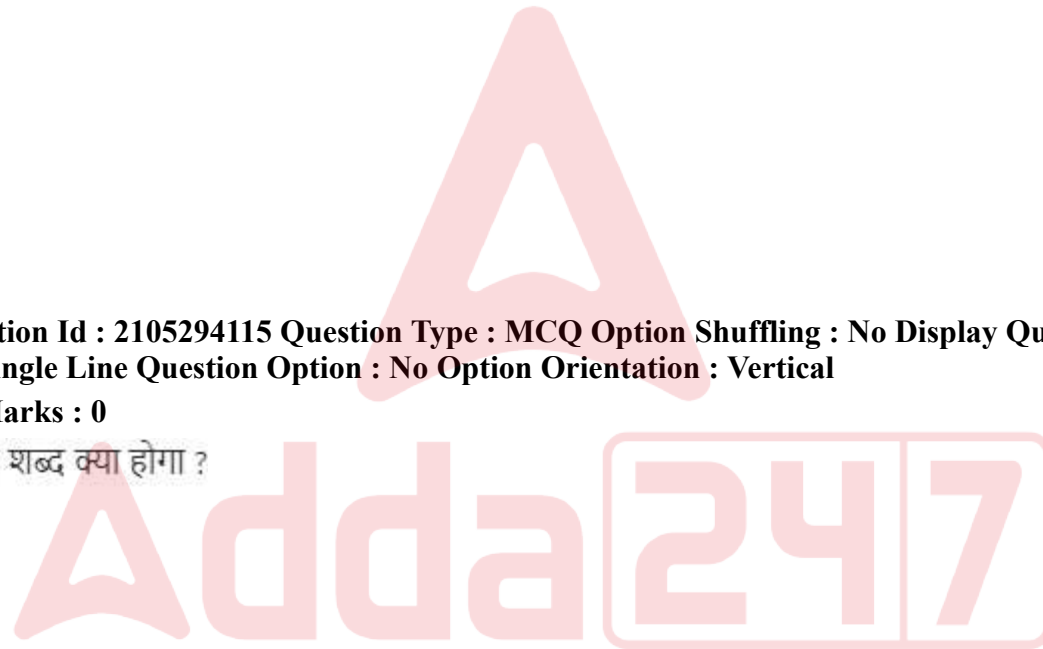
निम्नांकित शब्द श्रृंखला में अगला शब्द क्या होगा ?

aceg, cegi, egik, gikm, ___

1. jlor
2. hjlo
3. ikmo
4. ikmq

Options :

21052916297. 1
21052916298. 2
21052916299. 3
21052916300. 4



Question Number : 26 Question Id : 2105294116 Question Type : MCQ Option Shuffling : No Display Question Number : Yes Is Question Mandatory : No Single Line Question Option : No Option Orientation : Vertical Correct Marks : 2 Wrong Marks : 0

Given below are two statements, one is labelled as **Assertion A** and the other is labelled as **Reason R**

Assertion A: Substance is self-caused, self-conceived and self-existent

Reason R: Substance is not caused by other causal sources but is conceived by something else and is also existent on that

In light of the above statements, choose the **most appropriate** answer from the options given below

1. Both **A** and **R** are correct and **R** is the correct explanation of **A**
2. Both **A** and **R** are correct but **R** is **NOT** the correct explanation of **A**
3. **A** is correct but **R** is not correct
4. **A** is not correct but **R** is correct

Options :

- 21052916301. 1
- 21052916302. 2
- 21052916303. 3
- 21052916304. 4

Question Number : 26 Question Id : 2105294116 Question Type : MCQ Option Shuffling : No Display Question Number : Yes Is Question Mandatory : No Single Line Question Option : No Option Orientation : Vertical Correct Marks : 2 Wrong Marks : 0

नीचे दो कथन दिए गए हैं : पहला अभिकथन (A) और दूसरा तर्क (R) है ;

अभिकथन (A) : द्रव्य स्व-कारित, स्व-धारित और स्व अस्तित्व वाला होता है।

तर्क (R) : द्रव्य अन्य कारक स्रोतों द्वारा कारित नहीं होता है बल्कि किसी अन्य द्वारा धारित होता है और उसमें भी अस्तित्व में होता है।

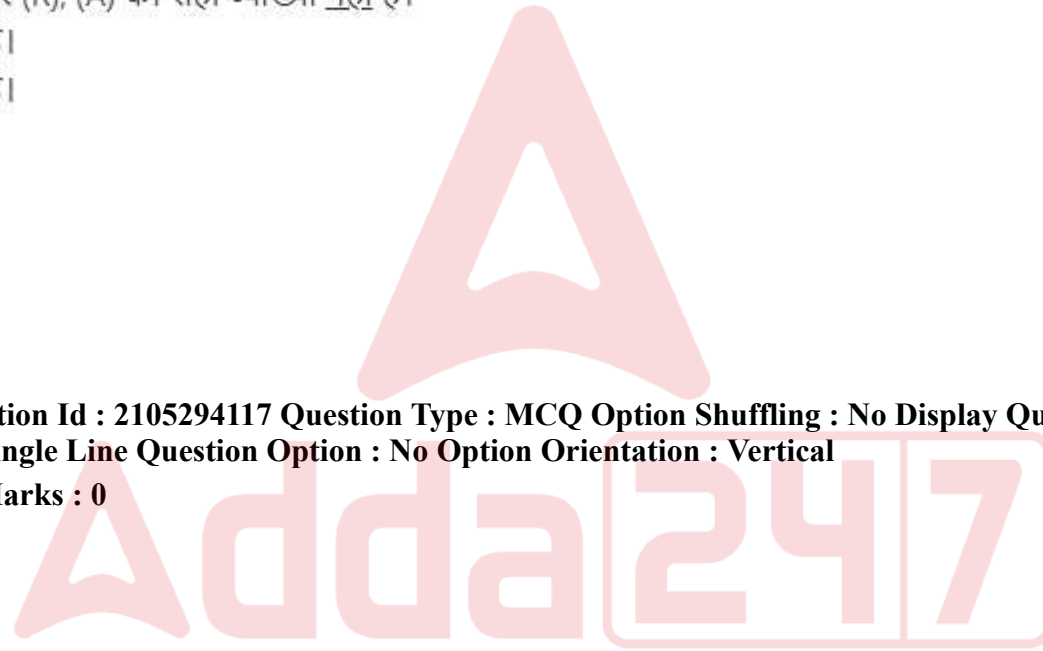
उपर्युक्त कथनों के आलोक में निम्नांकित विकल्पों में से सर्वाधिक उपयुक्त उत्तर चुनें :

1. (A) और (R) दोनों सही हैं और (R), (A) की सही व्याख्या है।
2. (A) और (R) दोनों सही हैं और (R), (A) की सही व्याख्या नहीं है।
3. (A) सही है परन्तु (R) गलत है।
4. (A) गलत है परन्तु (R) सही है।

Options :

21052916301. 1
21052916302. 2
21052916303. 3
21052916304. 4

Question Number : 27 Question Id : 2105294117 Question Type : MCQ Option Shuffling : No Display Question Number : Yes Is Question Mandatory : No Single Line Question Option : No Option Orientation : Vertical Correct Marks : 2 Wrong Marks : 0



Given below are two statements, one is labelled as **Assertion A** and the other is labelled as **Reason R**

Assertion A: All perceptions seem entirely loose and separate. They are conjoined but not necessarily connected

Reason R: Since the perception of hardness is not necessarily connected with its colour, it can be said that perceptions are loosely connected

In light of the above statements, choose the **most appropriate** answer from the options given below

1. Both **A** and **R** are correct and **R** is the correct explanation of **A**
2. Both **A** and **R** are correct but **R** is **NOT** the correct explanation of **A**
3. **A** is correct but **R** is not correct
4. **A** is not correct but **R** is correct

Options :

- 21052916305. 1
- 21052916306. 2
- 21052916307. 3
- 21052916308. 4



Question Number : 27 Question Id : 2105294117 Question Type : MCQ Option Shuffling : No Display Question Number : Yes Is Question Mandatory : No Single Line Question Option : No Option Orientation : Vertical Correct Marks : 2 Wrong Marks : 0

नीचे दो कथन दिए गए हैं : पहला अभिकथन (A) और दूसरा तर्क (R) है ;

अभिकथन (A) :सभी प्रत्यक्षीकरण पूर्ण रूप से मुक्त और पृथक प्रतीत होते हैं। वे संयुक्त होते हैं परन्तु अनिवार्यतः संबंधित नहीं होते हैं।

तर्क (R) : चूँकि कठोरता का प्रत्यक्षीकरण उसके रंग से अनिवार्यतः संबंधित नहीं है इसलिए यह कहा जा सकता है कि प्रत्यक्षीकरण दुर्बल रूप से संबंधित हैं।

उपर्युक्त कथनों के आलोक में निम्नांकित विकल्पों में से सर्वाधिक उपयुक्त उत्तर चुनें :

1. (A) और (R) दोनों सही हैं और (R), (A) की सही व्याख्या है।
2. (A) और (R) दोनों सही हैं और (R), (A) की सही व्याख्या नहीं है।
3. (A) सही है परन्तु (R) गलत है।
4. (A) गलत है परन्तु (R) सही है।

Options :

21052916305. 1
21052916306. 2
21052916307. 3
21052916308. 4

Question Number : 28 Question Id : 2105294118 Question Type : MCQ Option Shuffling : No Display Question Number : Yes Is Question Mandatory : No Single Line Question Option : No Option Orientation : Vertical Correct Marks : 2 Wrong Marks : 0

Given below are two statements, one is labelled as **Assertion A** and the other is labelled as **Reason R**

Assertion A: If there is a contestation between *Śruti* and *Smṛiti*, *Śruti* prevails over *Smṛiti*

Reason R: *Śruti* represents the philosophical aspect of the Vedas and Upanishads, while *Smṛiti* is an application of the philosophical ideas.

In light of the above statements, choose the **most appropriate** answer from the options given below

1. Both **A** and **R** are correct and **R** is the correct explanation of **A**
2. Both **A** and **R** are correct but **R** is **NOT** the correct explanation of **A**
3. **A** is correct but **R** is not correct
4. **A** is not correct but **R** is correct

Options :

- 21052916309. 1
- 21052916310. 2
- 21052916311. 3
- 21052916312. 4

Question Number : 28 Question Id : 2105294118 Question Type : MCQ Option Shuffling : No Display Question Number : Yes Is Question Mandatory : No Single Line Question Option : No Option Orientation : Vertical Correct Marks : 2 Wrong Marks : 0

नीचे दो कथन दिए गए हैं : पहला अभिकथन (A) और दूसरा तर्क (R) है ;

अभिकथन (A) : यदि 'श्रुति' और 'स्मृति' के बीच प्रतिस्पर्धा होती है, तो 'श्रुति', 'स्मृति' से अधिक प्रभावी होती है।

तर्क (R) : 'श्रुति' वेदों और उपनिषदों के दार्शनिक पहलुओं को दर्शाती है, जबकि 'स्मृति' दार्शनिक विचारों का एक अनुप्रयोग है।

उपर्युक्त कथनों के आलोक में निम्नांकित विकल्पों में से सर्वाधिक उपयुक्त उत्तर चुनें :

1. (A) और (R) दोनों सही हैं और (R), (A) की सही व्याख्या है।
2. (A) और (R) दोनों सही हैं और (R), (A) की सही व्याख्या नहीं है।
3. (A) सही है परन्तु (R) गलत है।
4. (A) गलत है परन्तु (R) सही है।

Options :

21052916309. 1
21052916310. 2
21052916311. 3
21052916312. 4

Question Number : 29 Question Id : 2105294119 Question Type : MCQ Option Shuffling : No Display Question Number : Yes Is Question Mandatory : No Single Line Question Option : No Option Orientation : Vertical Correct Marks : 2 Wrong Marks : 0

Quantity and quality of a categorical proposition decide

1. Validity
2. Invalidity
3. Mood
4. Figure

Options :

21052916313. 1
21052916314. 2
21052916315. 3
21052916316. 4

Question Number : 29 Question Id : 2105294119 Question Type : MCQ Option Shuffling : No Display Question Number : Yes Is Question Mandatory : No Single Line Question Option : No Option Orientation : Vertical Correct Marks : 2 Wrong Marks : 0

किसी सुस्पष्ट तर्क वाक्य की मात्रा और गुणवत्ता निम्नलिखित का निर्णय करती है :

1. वैधता
2. अवैधता
3. अवस्था
4. आकृति

Options :

21052916313. 1
21052916314. 2
21052916315. 3
21052916316. 4

Question Number : 30 Question Id : 2105294120 Question Type : MCQ Option Shuffling : No Display Question Number : Yes Is Question Mandatory : No Single Line Question Option : No Option Orientation : Vertical Correct Marks : 2 Wrong Marks : 0

Which one of the following decides the figure of a categorical proposition?

1. Major term
2. Minor term
3. Middle term
4. Copula

Options :

21052916317. 1
21052916318. 2
21052916319. 3
21052916320. 4

Question Number : 30 Question Id : 2105294120 Question Type : MCQ Option Shuffling : No Display Question Number : Yes Is

Question Mandatory : No Single Line Question Option : No Option Orientation : Vertical

Correct Marks : 2 Wrong Marks : 0

निम्नलिखित में से कौन - सा किसी सुस्पष्ट तर्क वाक्य की आकृति का निर्णय करता है ?

1. प्रमुख पद
2. सूक्ष्म पद
3. मध्यम पद
4. संयोजक (Copula)

Options :

21052916317. 1

21052916318. 2

21052916319. 3

21052916320. 4

Sub-Section Number :

4

Sub-Section Id :

210529106

Question Shuffling Allowed :

Yes

Question Id : 2105294121 Question Type : COMPREHENSION Sub Question Shuffling Allowed : Yes Group Comprehension Questions : No

Question Numbers : (31 to 35)

Question Label : Comprehension



Based on the data in the table, answer the questions that follow

Consider the following table which contains year-wise data of installed Renewable Energy capacity for four countries (X, Y, Z, T) over a period of 5 years from 2015 to 2019.

Year\Country	X	Y	Z	T
2015	10	15	08	12
2016	13	18	10	13
2017	15	20	12	15
2018	20	20	15	18
2019	22	24	20	20

Sub questions

Question Number : 31 Question Id : 2105294122 Question Type : MCQ Option Shuffling : No Display Question Number : Yes Is Question Mandatory : No Single Line Question Option : No Option Orientation : Vertical

Correct Marks : 2 Wrong Marks : 0

Between 2016 to 2017, which country registered maximum growth (%) in installed capacity of Renewable Energy?

- 1. X
- 2. Z
- 3. Y
- 4. T

Options :

- 21052916321. 1
- 21052916322. 2
- 21052916323. 3
- 21052916324. 4

Question Number : 32 Question Id : 2105294123 Question Type : MCQ Option Shuffling : No Display Question Number : Yes Is Question Mandatory : No Single Line Question Option : No Option Orientation : Vertical Correct Marks : 2 Wrong Marks : 0

Which country registered maximum growth (%) by 2019 with reference to year 2015?

1. Z
2. T
3. X
4. Y

Options :

21052916325. 1
21052916326. 2
21052916327. 3
21052916328. 4

Question Number : 33 Question Id : 2105294124 Question Type : MCQ Option Shuffling : No Display Question Number : Yes Is Question Mandatory : No Single Line Question Option : No Option Orientation : Vertical Correct Marks : 2 Wrong Marks : 0

For the country 'Y', what is the average annual growth (%) of Renewable Energy capacity?

1. ~10.85 %
2. ~12.77 %
3. ~13.25 %
4. ~11.65 %

Options :

21052916329. 1
21052916330. 2
21052916331. 3
21052916332. 4

Question Number : 34 Question Id : 2105294125 Question Type : MCQ Option Shuffling : No Display Question Number : Yes Is Question Mandatory : No Single Line Question Option : No Option Orientation : Vertical

Correct Marks : 2 Wrong Marks : 0

In any given year, compared to the previous year which country(s) registered maximum growth (%)?

1. T
2. Z and Y
3. Y
4. X and Z

Options :

21052916333. 1
21052916334. 2
21052916335. 3
21052916336. 4

Question Number : 35 Question Id : 2105294126 Question Type : MCQ Option Shuffling : No Display Question Number : Yes Is Question Mandatory : No Single Line Question Option : No Option Orientation : Vertical

Correct Marks : 2 Wrong Marks : 0

Taking all four countries together, what is the over-all increase (%) in installed capacity of Renewable Energy in the year 2019, with reference to 2015?

1. 52.32 %
2. 91.11 %
3. 117.32 %
4. 121.81 %

Options :

21052916337. 1
21052916338. 2
21052916339. 3
21052916340. 4

Question Id : 2105294121 Question Type : COMPREHENSION Sub Question Shuffling Allowed : Yes Group Comprehension Questions : No

Question Numbers : (31 to 35)

Question Label : Comprehension

निम्नांकित तालिका पर विचार करें जिसमें 2015 से 2019 तक 5 वर्षों की अवधि के दौरान चार देशों (X, Y, Z, T) के लिए स्थापित नवीकरणीय ऊर्जा क्षमता के वर्ष-वार आंकड़ें दिए गए हैं। इन आंकड़ों के आधार पर प्रश्नों के उत्तर दें :

स्थापित नवीकरणीय ऊर्जा क्षमता (GW) :

वर्ष / देश	X	Y	Z	T
2015	10	15	08	12
2016	13	18	10	13
2017	15	20	12	15
2018	20	20	15	18
2019	22	24	20	20

Sub questions

Question Number : 31 Question Id : 2105294122 Question Type : MCQ Option Shuffling : No Display Question Number : Yes Is Question Mandatory : No Single Line Question Option : No Option Orientation : Vertical

Correct Marks : 2 Wrong Marks : 0

वर्षों 2016 - 2017 के बीच किस देश ने नवीकरणीय ऊर्जा की स्थापित क्षमता में अधिकतम वृद्धि (%) दर्ज की है?

1. X
2. Z
3. Y
4. T

Options :

21052916321. 1
21052916322. 2
21052916323. 3
21052916324. 4

Question Number : 32 Question Id : 2105294123 Question Type : MCQ Option Shuffling : No Display Question Number : Yes Is Question Mandatory : No Single Line Question Option : No Option Orientation : Vertical

Correct Marks : 2 Wrong Marks : 0

कौन-से देश ने वर्ष 2015 के संदर्भ में 2019 तक अधिकतम वृद्धि (%) दर्ज की है ?

1. Z
2. T
3. X
4. Y

Options :

21052916325. 1
21052916326. 2
21052916327. 3
21052916328. 4

Question Number : 33 Question Id : 2105294124 Question Type : MCQ Option Shuffling : No Display Question Number : Yes Is Question Mandatory : No Single Line Question Option : No Option Orientation : Vertical

Correct Marks : 2 Wrong Marks : 0

देश 'Y' के लिए नवीकरणीय ऊर्जा क्षमता की औसत वार्षिक वृद्धि (%) कितनी रही है ?

1. ~10.85%
2. ~12.77%
3. ~13.25%
4. ~11.65%

Options :

21052916329. 1
21052916330. 2
21052916331. 3
21052916332. 4

Question Number : 34 Question Id : 2105294125 Question Type : MCQ Option Shuffling : No Display Question Number : Yes Is Question Mandatory : No Single Line Question Option : No Option Orientation : Vertical

Correct Marks : 2 Wrong Marks : 0

पूर्ववर्ती वर्ष की तुलना में किसी दिए गए वर्ष में किस देश/ किन देशों ने अधिकतम वृद्धि (%) दर्ज की है ?

1. T
2. Z और Y
3. Y
4. X और Z

Options :

21052916333. 1
21052916334. 2
21052916335. 3
21052916336. 4

Question Number : 35 Question Id : 2105294126 Question Type : MCQ Option Shuffling : No Display Question Number : Yes Is Question Mandatory : No Single Line Question Option : No Option Orientation : Vertical

Correct Marks : 2 Wrong Marks : 0

सभी चारों देशों को मिलाकर, वर्ष 2015 के संदर्भ में वर्ष 2019 में नवीकरणीय ऊर्जा की स्थापित क्षमता में समग्र वृद्धि (%) कितनी है ?

1. 52.32%
2. 91.11%
3. 117.32%
4. 121.81%

Options :

21052916337. 1
21052916338. 2
21052916339. 3
21052916340. 4

Sub-Section Number :

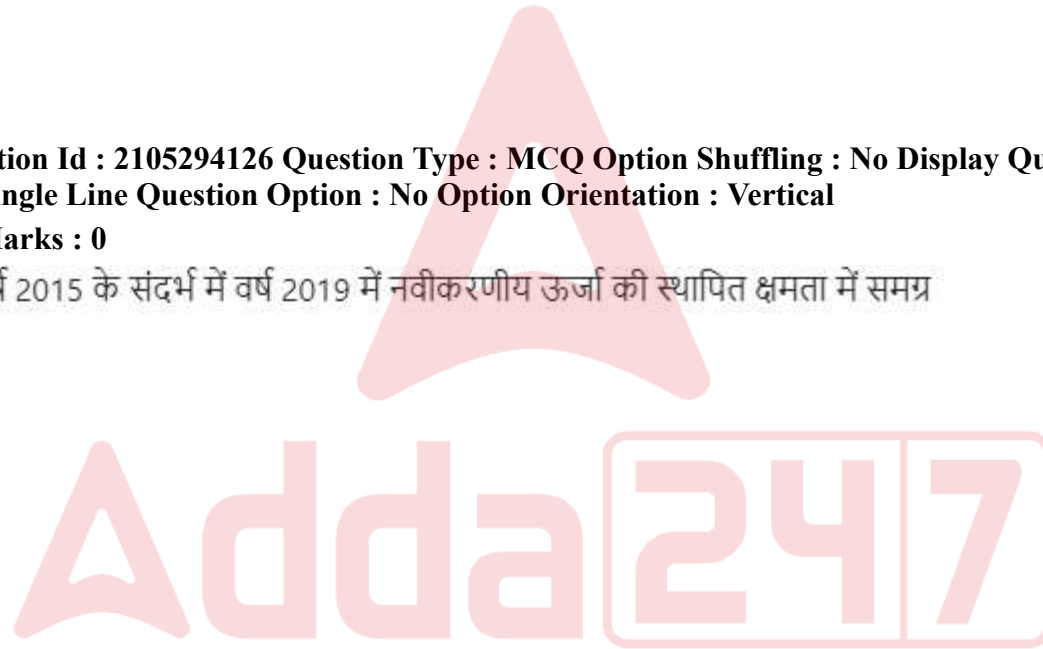
5

Sub-Section Id :

210529107

Question Shuffling Allowed :

Yes



Question Number : 36 Question Id : 2105294127 Question Type : MCQ Option Shuffling : No Display Question Number : Yes Is Question Mandatory : No Single Line Question Option : No Option Orientation : Vertical Correct Marks : 2 Wrong Marks : 0

What is the full form of the abbreviation BIOS?

1. Big Information Online System
2. Binary Input Output Software
3. Basic Input Output System
4. Binary Inner Open Software

Options :

21052916341. 1
21052916342. 2
21052916343. 3
21052916344. 4

Question Number : 36 Question Id : 2105294127 Question Type : MCQ Option Shuffling : No Display Question Number : Yes Is Question Mandatory : No Single Line Question Option : No Option Orientation : Vertical Correct Marks : 2 Wrong Marks : 0

BIOS परिवर्णी शब्द का पूरा रूप क्या है ?

1. बिग इन्फार्मेशन ऑनलाइन सिस्टम
2. बाइनरी इनपुट आउटपुट सॉफ्टवेयर
3. बेसिक इनपुट आउटपुट सिस्टम
4. बाइनरी इनर ओपेन सॉफ्टवेयर

Options :

21052916341. 1
21052916342. 2
21052916343. 3
21052916344. 4

Question Number : 37 Question Id : 2105294128 Question Type : MCQ Option Shuffling : No Display Question Number : Yes Is Question Mandatory : No Single Line Question Option : No Option Orientation : Vertical Correct Marks : 2 Wrong Marks : 0

Computer hardware consists of

1. Computer table
2. Monitor and CPU
3. Software
4. Google

Options :

21052916345. 1
21052916346. 2
21052916347. 3
21052916348. 4

Question Number : 37 Question Id : 2105294128 Question Type : MCQ Option Shuffling : No Display Question Number : Yes Is Question Mandatory : No Single Line Question Option : No Option Orientation : Vertical

Correct Marks : 2 Wrong Marks : 0

कंप्यूटर हार्डवेयर में शामिल होता है :

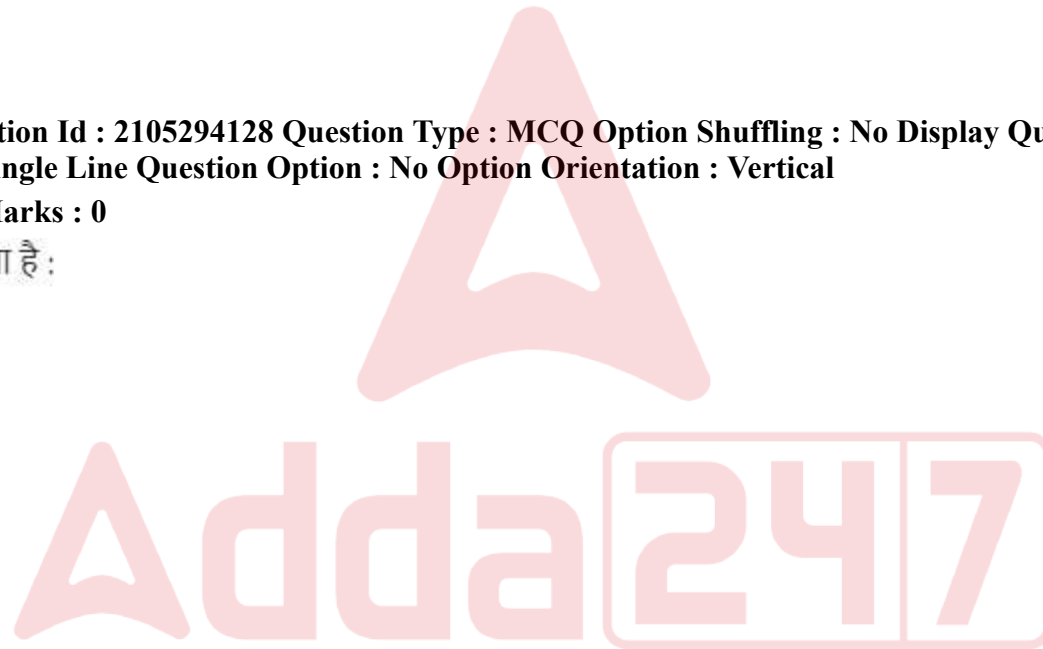
1. कंप्यूटर टेबल
2. मॉनीटर तथा सीपीयू
3. सॉफ्टवेयर
4. गूगल

Options :

21052916345. 1
21052916346. 2
21052916347. 3
21052916348. 4

Question Number : 38 Question Id : 2105294129 Question Type : MCQ Option Shuffling : No Display Question Number : Yes Is Question Mandatory : No Single Line Question Option : No Option Orientation : Vertical

Correct Marks : 2 Wrong Marks : 0



Which of the following is a data visualization method?

1. Line
2. Circle and Triangle
3. Pie chart and Bar chart
4. Pentagon

Options :

21052916349. 1
21052916350. 2
21052916351. 3
21052916352. 4

Question Number : 38 Question Id : 2105294129 Question Type : MCQ Option Shuffling : No Display Question Number : Yes Is Question Mandatory : No Single Line Question Option : No Option Orientation : Vertical

Correct Marks : 2 Wrong Marks : 0

प्रदत्त प्रदर्शककरण हेतु निम्नांकित में से कौन-सी विधि है ?

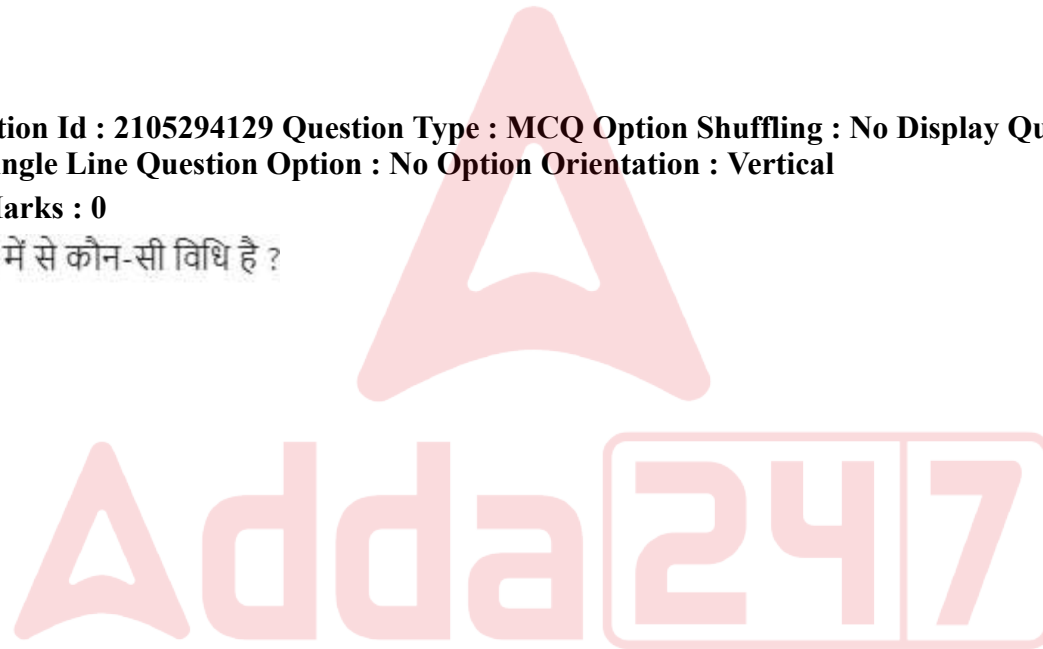
1. रेखा (लाइन)
2. वृत्त तथा त्रिभुज
3. पाई चार्ट तथा बार चार्ट
4. पेंटागन

Options :

21052916349. 1
21052916350. 2
21052916351. 3
21052916352. 4

Question Number : 39 Question Id : 2105294130 Question Type : MCQ Option Shuffling : No Display Question Number : Yes Is Question Mandatory : No Single Line Question Option : No Option Orientation : Vertical

Correct Marks : 2 Wrong Marks : 0



Given below are two statements, one is labelled as **Assertion A** and the other is labelled as **Reason R**

Assertion A: Nowadays many online courses are available and their popularity is increasing

Reason R: Selecting the right course from many such, is a big challenge

In light of the above statements, choose the **most appropriate** answer from the options given below

1. Both **A** and **R** are correct and **R** is the correct explanation of **A**
2. Both **A** and **R** are correct but **R** is **NOT** the correct explanation of **A**
3. **A** is correct but **R** is not correct
4. **A** is not correct but **R** is correct

Options :

- 21052916353. 1
- 21052916354. 2
- 21052916355. 3
- 21052916356. 4

Question Number : 39 Question Id : 2105294130 Question Type : MCQ Option Shuffling : No Display Question Number : Yes Is Question Mandatory : No Single Line Question Option : No Option Orientation : Vertical Correct Marks : 2 Wrong Marks : 0

नीचे दो कथन दिए गए हैं : एक को अभिकथन (A) और दूसरे को तर्क (R) कहा गया है ;

अभिकथन (A) : सम्प्रति बहुत से ऑनलाइन पाठ्यक्रम उपलब्ध हैं तथा उनकी लोकप्रियता बढ़ रही है।

तर्क (R) : इस प्रकार से बहुत से पाठ्यक्रमों में से सही पाठ्यक्रम का चयन एक बड़ी चुनौती है।

उपर्युक्त कथनों के आलोक में निम्नांकित विकल्पों में से सर्वाधिक उपयुक्त उत्तर चुनें :

1. (A) और (R) दोनों सही हैं और (R), (A) की सही व्याख्या है।
2. (A) और (R) दोनों सही हैं और (R), (A) की सही व्याख्या नहीं है।
3. (A) सही है परन्तु (R) गलत है।
4. (A) गलत है परन्तु (R) सही है।

Options :

21052916353. 1

21052916354. 2

21052916355. 3

21052916356. 4

Question Number : 40 Question Id : 2105294131 Question Type : MCQ Option Shuffling : No Display Question Number : Yes Is Question Mandatory : No Single Line Question Option : No Option Orientation : Vertical

Correct Marks : 2 Wrong Marks : 0

A-F system is used in which of the following number systems?

1. Binary
2. Octal
3. Hexa - Decimal
4. Decimal

Options :

21052916357. 1

21052916358. 2

21052916359. 3

21052916360. 4

Question Number : 40 Question Id : 2105294131 Question Type : MCQ Option Shuffling : No Display Question Number : Yes Is Question Mandatory : No Single Line Question Option : No Option Orientation : Vertical Correct Marks : 2 Wrong Marks : 0

A -F प्रणाली निम्नांकित में से किस संख्या प्रणाली में प्रयुक्त होती है ?

1. बाइनरी
2. ऑक्टल
3. हैक्सा डेसिमल
4. डेसिमल

Options :

21052916357. 1
21052916358. 2
21052916359. 3
21052916360. 4

Question Number : 41 Question Id : 2105294132 Question Type : MCQ Option Shuffling : No Display Question Number : Yes Is Question Mandatory : No Single Line Question Option : No Option Orientation : Vertical Correct Marks : 2 Wrong Marks : 0

Under Goal 4 of Millenium Development Goals, the reduction sought to be achieved in under-five child mortality rate between 1990-2015 was to the extent of

1. Half
2. Two-third
3. Three-fourth
4. One-third

Options :

21052916361. 1
21052916362. 2
21052916363. 3
21052916364. 4

Question Number : 41 Question Id : 2105294132 Question Type : MCQ Option Shuffling : No Display Question Number : Yes Is

Question Mandatory : No Single Line Question Option : No Option Orientation : Vertical

Correct Marks : 2 Wrong Marks : 0

सहस्राब्दी विकास लक्ष्यों के तहत लक्ष्य 4 में, वर्ष 1990 - 2015 के बीच पाँच वर्ष से कम आयु की बाल मृत्यु दर में प्राप्त की जाने वाली लक्षित कमी कितनी थी ?

1. आधी
2. दो-तिहाई
3. तीन-चौथाई
4. एक - तिहाई

Options :

21052916361. 1

21052916362. 2

21052916363. 3

21052916364. 4

Question Number : 42 Question Id : 2105294133 Question Type : MCQ Option Shuffling : No Display Question Number : Yes Is Question Mandatory : No Single Line Question Option : No Option Orientation : Vertical

Correct Marks : 2 Wrong Marks : 0



Match **List I** with **List II**

List I	List II
Emitted Pollutants	Environmental Impact
A. Carbon dioxide	I. Formation of acid rain
B. Carbon monoxide	II. Toxic and are carcinogenic
C. Nitrogen oxides	III. Toxic and can cause respiratory diseases
D. Benzene and hydrocarbons	IV. Contribution to global warming as a greenhouse gas

Choose the **correct** answer from the options given below:

1. A - IV, B - III, C - I, D - II
2. A - IV, B - II, C - I, D - III
3. A - IV, B - II, C - III, D - I
4. A - I, B - III, C - II, D - IV

Options :

21052916365. 1
21052916366. 2
21052916367. 3
21052916368. 4

Question Number : 42 Question Id : 2105294133 Question Type : MCQ Option Shuffling : No Display Question Number : Yes Is Question Mandatory : No Single Line Question Option : No Option Orientation : Vertical Correct Marks : 2 Wrong Marks : 0

सूची-I को सूची-II के साथ सुमेलित करें :

सूची-I	सूची-II
उत्सर्जित प्रदूषक	पर्यावरणीय प्रभाव
A. कार्बन डाइआक्साइड	I. अम्ल वर्षा का निर्माण
B. कार्बन मोनोआक्साइड	II. विषैले तथा कैंसरकारक
C. नाइट्रोजन आक्साइड्स	III. विषैला तथा श्वसन संबंधी रोगों का कारण
D. बेंजीन और हाइड्रोकार्बन्स	IV. एक ग्रीन-हाउस गैस के रूप में वैश्विक तापन को बढ़ाना

नीचे दिए गए विकल्पों में से सही उत्तर का चयन करें :

1. A - IV, B - III, C - I, D - II
2. A - IV, B - II, C - I, D - III
3. A - IV, B - II, C - III, D - I
4. A - I, B - III, C - II, D - IV

Options :

21052916365. 1
21052916366. 2
21052916367. 3
21052916368. 4

Question Number : 43 Question Id : 2105294134 Question Type : MCQ Option Shuffling : No Display Question Number : Yes Is Question Mandatory : No Single Line Question Option : No Option Orientation : Vertical Correct Marks : 2 Wrong Marks : 0

Identify the correct sequence of countries in decreasing order of their contribution to global carbon dioxide emissions

- A. USA
- B. China
- C. Russia
- D. India
- E. Japan

Choose the **correct** answer from the options given below

- 1. A, B, D, C, E
- 2. B, A, D, C, E
- 3. B, A, D, E, C
- 4. A, B, D, E, C

Options :

- 21052916369. 1
- 21052916370. 2
- 21052916371. 3
- 21052916372. 4

Question Number : 43 Question Id : 2105294134 Question Type : MCQ Option Shuffling : No Display Question Number : Yes Is Question Mandatory : No Single Line Question Option : No Option Orientation : Vertical Correct Marks : 2 Wrong Marks : 0



देशों के वैश्विक कार्बन-डाइऑक्साइड उत्सर्जन में उनके योगदान के अवरोही क्रम में सही क्रम की पहचान करें :

A. यूएसए

B. चीन

C. रूस

D. भारत

E. जापान

नीचे दिए गए विकल्पों में से सही उत्तर चुनें :

1. A, B, D, C, E

2. B, A, D, C, E

3. B, A, D, E, C

4. A, B, D, E, C

Options :

21052916369. 1

21052916370. 2

21052916371. 3

21052916372. 4

Question Number : 44 Question Id : 2105294135 Question Type : MCQ Option Shuffling : No Display Question Number : Yes Is

Question Mandatory : No Single Line Question Option : No Option Orientation : Vertical

Correct Marks : 2 Wrong Marks : 0

Given below are two statements, one is labelled as **Assertion A** and the other is labelled as **Reason R**

Assertion A: A windmill with proper design considerations can be made to operate at efficiencies in the range 60% to 65%

Reason R: The efficiency of the windmill depends on its design parameters

In light of the above statements, choose the **most appropriate** answer from the options given below

1. Both **A** and **R** are correct and **R** is the correct explanation of **A**
2. Both **A** and **R** are correct but **R** is **NOT** the correct explanation of **A**
3. **A** is correct but **R** is not correct
4. **A** is not correct but **R** is correct

Options :

21052916373. 1

21052916374. 2

21052916375. 3

21052916376. 4

Question Number : 44 Question Id : 2105294135 Question Type : MCQ Option Shuffling : No Display Question Number : Yes Is Question Mandatory : No Single Line Question Option : No Option Orientation : Vertical Correct Marks : 2 Wrong Marks : 0

नीचे दो कथन दिए गए हैं : पहला अभिकथन (A) और दूसरा तर्क (R) है :

अभिकथन (A) : उपयुक्त अभिकल्प अपेक्षाओं सहित कोई पवन चक्की 60% से 65% की कार्यकुशलता पर प्रचालन के लिए निर्मित की जा सकती है।

तर्क (R) : पवन चक्की की कार्यकुशलता उसके अधिकल्प प्राचलों पर निर्भर करती है।

उपर्युक्त कथनों के आलोक में निम्नांकित विकल्पों में से सर्वाधिक उपयुक्त उत्तर चुनें :

1. (A) और (R) दोनों सही हैं और (R), (A) की सही व्याख्या है।
2. (A) और (R) दोनों सही हैं और (R), (A) की सही व्याख्या नहीं है।
3. (A) सही है परन्तु (R) गलत है।
4. (A) गलत है परन्तु (R) सही है।

Options :

21052916373. 1

21052916374. 2

21052916375. 3

21052916376. 4

Question Number : 45 Question Id : 2105294136 Question Type : MCQ Option Shuffling : No Display Question Number : Yes Is Question Mandatory : No Single Line Question Option : No Option Orientation : Vertical Correct Marks : 2 Wrong Marks : 0

From disaster mitigation measures given below, identify the measures which can be characterized as non-structural

- A. Flood dykes
- B. Land-use zoning
- C. Rasing of homes in flood-prone areas
- D. Insurance programmes
- E. Reinforce tornado safe rooms

Choose the **correct** answer from the options given below:

- 1. B and D only
- 2. A, B and D only
- 3. B, D and E only
- 4. A, B, D and E only

Options :

- 21052916377. 1
- 21052916378. 2
- 21052916379. 3
- 21052916380. 4



Question Number : 45 Question Id : 2105294136 Question Type : MCQ Option Shuffling : No Display Question Number : Yes Is Question Mandatory : No Single Line Question Option : No Option Orientation : Vertical Correct Marks : 2 Wrong Marks : 0

नीचे दिए गए आपदा न्यूनीकरण उपायों में से, उस उपाय (उन उपायों) को अभिज्ञात करें जिसे/जिन्हें असंरचित के रूप में वर्गीकृत किया जा सकता है :

- A. बाढ़ तटबंध
- B. भूमि - प्रयोग क्षेत्र निर्धारण
- C. बाढ़ आशंकित क्षेत्रों में घरों को ऊपर ऊंचा उठाना
- D. बीमा कार्यक्रम
- E. तूफान सुरक्षित कक्ष को मजबूत करना

नीचे दिए गए विकल्पों में से सही उत्तर चुनें :

1. केवल B और D
2. केवल A, B और D
3. केवल B, D और E
4. केवल A, B, D और E

Options :

- 21052916377. 1
- 21052916378. 2
- 21052916379. 3
- 21052916380. 4



Question Number : 46 Question Id : 2105294137 Question Type : MCQ Option Shuffling : No Display Question Number : Yes Is Question Mandatory : No Single Line Question Option : No Option Orientation : Vertical

Correct Marks : 2 Wrong Marks : 0

Which of the following areas of liberal education at the higher level in the feudal society of Europe were classified under quadrivium?

- A. Grammar
- B. Logic
- C. Arithmetic
- D. Astronomy
- E. Music

Choose the **correct** answer from the options given below:

1. A, B and C only
2. B, C and D only
3. C, D and E only
4. A, D and E only

Options :

- 21052916381. 1
- 21052916382. 2
- 21052916383. 3
- 21052916384. 4

Question Number : 46 Question Id : 2105294137 Question Type : MCQ Option Shuffling : No Display Question Number : Yes Is Question Mandatory : No Single Line Question Option : No Option Orientation : Vertical Correct Marks : 2 Wrong Marks : 0



यूरोप के सामंतवादी समाज में उच्चतर स्तर पर उदारवादी शिक्षा के निम्नलिखित में से किन क्षेत्रों को चतुष्टय (quadrivium) के अंतर्गत वर्गीकृत किया गया ?

- A. व्याकरण
- B. तर्क
- C. अंकगणित
- D. खगोलिकी
- E. संगीत

नीचे दिए गए विकल्पों में से सही उत्तर चुनें :

1. केवल A, B और C
2. केवल B, C और D
3. केवल C, D और E
4. केवल A, D और E

Options :

- 21052916381. 1
- 21052916382. 2
- 21052916383. 3
- 21052916384. 4



Question Number : 47 Question Id : 2105294138 Question Type : MCQ Option Shuffling : No Display Question Number : Yes Is Question Mandatory : No Single Line Question Option : No Option Orientation : Vertical Correct Marks : 2 Wrong Marks : 0

National Programme for Technology Enhanced Learning (NPTEL) was initiated by the MHRD in 2003 to enhance the quality in

1. Medical education
2. Agriculture education
3. Engineering education
4. Legal education

Options :

21052916385. 1
21052916386. 2
21052916387. 3
21052916388. 4

Question Number : 47 Question Id : 2105294138 Question Type : MCQ Option Shuffling : No Display Question Number : Yes Is Question Mandatory : No Single Line Question Option : No Option Orientation : Vertical

Correct Marks : 2 Wrong Marks : 0

वर्ष 2003 में मानव संसाधन विकास मंत्रालय (MHRD) द्वारा राष्ट्रीय प्रौद्योगिकी संवर्धित अधिगम कार्यक्रम (NPTEL) को निम्नलिखित की गुणवत्ता में सुधार करने के लिए शुरू किया गया था :

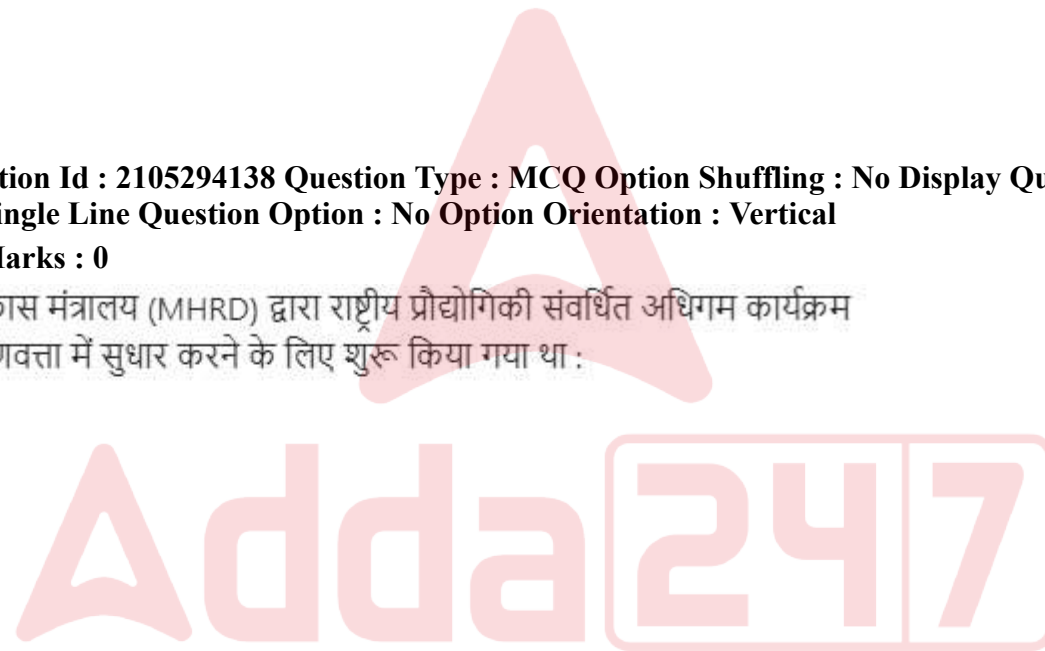
1. चिकित्सा शिक्षा
2. कृषि शिक्षा
3. इंजीनियरी शिक्षा
4. विधिक शिक्षा

Options :

21052916385. 1
21052916386. 2
21052916387. 3
21052916388. 4

Question Number : 48 Question Id : 2105294139 Question Type : MCQ Option Shuffling : No Display Question Number : Yes Is Question Mandatory : No Single Line Question Option : No Option Orientation : Vertical

Correct Marks : 2 Wrong Marks : 0



The Sustainable Development Goals (SDGs) set in 2015 by the United Nations are intended to be achieved by

1. 2025
2. 2030
3. 2035
4. 2040

Options :

21052916389. 1
21052916390. 2
21052916391. 3
21052916392. 4

Question Number : 48 Question Id : 2105294139 Question Type : MCQ Option Shuffling : No Display Question Number : Yes Is Question Mandatory : No Single Line Question Option : No Option Orientation : Vertical

Correct Marks : 2 Wrong Marks : 0

संयुक्त राष्ट्र द्वारा वर्ष 2015 में निर्धारित संपोषणीय विकास लक्ष्यों (एस.डी.जी) को कब तक प्राप्त किए जाने का उद्देश्य है :

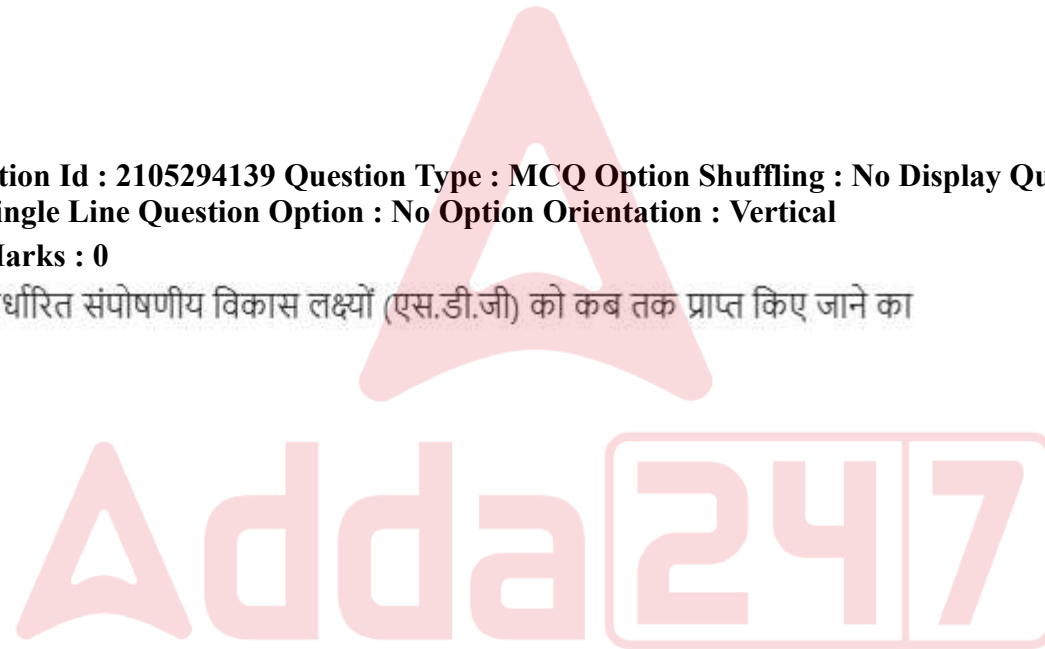
1. 2025
2. 2030
3. 2035
4. 2040

Options :

21052916389. 1
21052916390. 2
21052916391. 3
21052916392. 4

Question Number : 49 Question Id : 2105294140 Question Type : MCQ Option Shuffling : No Display Question Number : Yes Is Question Mandatory : No Single Line Question Option : No Option Orientation : Vertical

Correct Marks : 2 Wrong Marks : 0



Match **List I** with **List II**

List I	List II
Modes of supply of education services under GATS	Examples of these services in education
A. Mode 1 - Cross border supply	I. Professors, teachers and researchers working abroad on a temporary basis
B. Mode 2 - Consumption abroad	II. Language training companies, Local university and Satellite campuses
C. Mode 3 - Commercial presence	III. Distance education, Virtual education, Corporate training through ICT
D. Mode 4 - Movement of natural persons	IV. A student travels to another country to enrol in a course of study/degree programme

Choose the **correct** answer from the options given below:

1. A - IV, B - I, C - III, D - II
2. A - III, B - IV, C - II, D - I
3. A - II, B - III, C - I, D - IV
4. A - I, B - II, C - IV, D - III

Options :

21052916393. 1
21052916394. 2
21052916395. 3
21052916396. 4

Question Number : 49 Question Id : 2105294140 Question Type : MCQ Option Shuffling : No Display Question Number : Yes Is Question Mandatory : No Single Line Question Option : No Option Orientation : Vertical Correct Marks : 2 Wrong Marks : 0

सूची-I से सूची-II का मिलान करें। सूची-I में गैट्स के अंतर्गत शिक्षा सेवाओं की आपूर्ति की पद्धतियाँ दी गई हैं ; सूची-II में शिक्षा में इन सेवाओं के उदाहरण हैं :

सूची-I	सूची-II
A. पद्धति-1 : सीमा-पार आपूर्ति	I. विदेशों में अस्थायी आधार पर कार्य कर रहे प्रोफेसर, शिक्षक और शोधकर्ता
B. पद्धति-2 : विदेश में खपत	II. भाषा प्रशिक्षण कंपनियाँ, स्थानीय विश्वविद्यालय और सैटेलाइट कैम्पस
C. पद्धति-3 : वाणिज्यिक उपस्थिति	III. आई सी टी के माध्यम से दूरस्थशिक्षा, आभासी शिक्षा, कंप्यूट प्रशिक्षण
D. पद्धति-4 : प्राकृतिक व्यक्तियों का आवागमन	IV. कोई विद्यार्थी अध्ययन के किसी पाठ्यक्रम / डिग्री कार्यक्रम में नामांकन के लिए दूसरे देश जाता है

नीचे दिए गए विकल्पों में से सही उत्तर चुनें :

1. A - IV, B - I, C - III, D - II
2. A - III, B - IV, C - II, D - I
3. A - II, B - III, C - I, D - IV
4. A - I, B - II, C - IV, D - III

Options :

21052916393. 1
21052916394. 2
21052916395. 3
21052916396. 4



Question Number : 50 Question Id : 2105294141 Question Type : MCQ Option Shuffling : No Display Question Number : Yes Is Question Mandatory : No Single Line Question Option : No Option Orientation : Vertical Correct Marks : 2 Wrong Marks : 0

Ashtadhyayi was written by

1. Chanakya
2. Jivaka
3. Katyayana
4. Panini

Options :

21052916397. 1
21052916398. 2
21052916399. 3
21052916400. 4

Question Number : 50 Question Id : 2105294141 Question Type : MCQ Option Shuffling : No Display Question Number : Yes Is Question Mandatory : No Single Line Question Option : No Option Orientation : Vertical

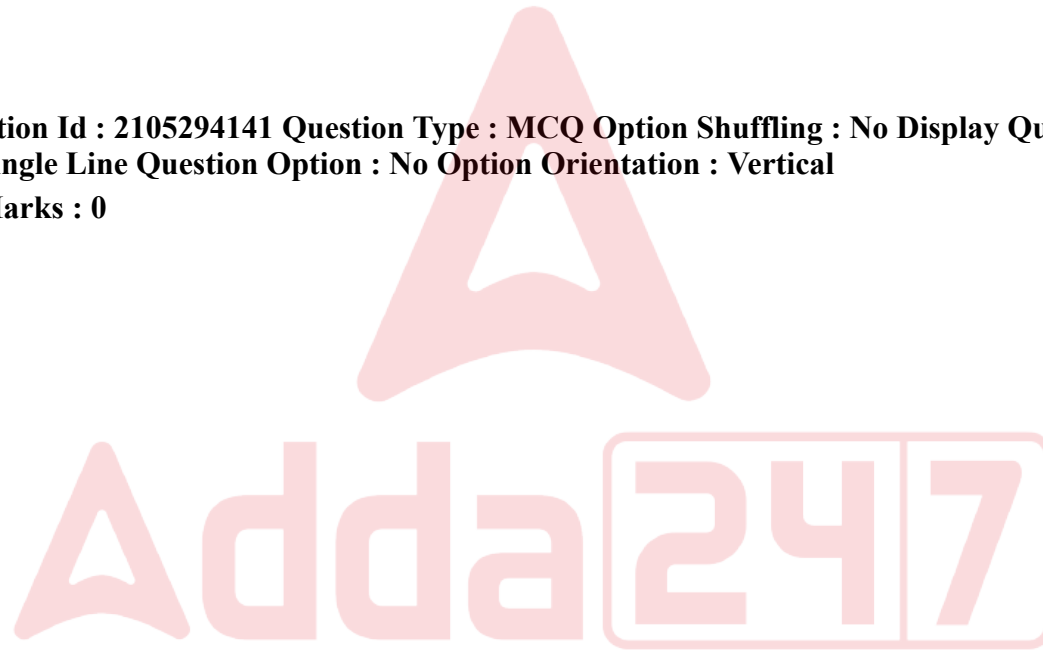
Correct Marks : 2 Wrong Marks : 0

अष्टाध्यायी के लेखक हैं :

1. चाणक्य
2. जीवाका
3. कात्यायन
4. पाणिनी

Options :

21052916397. 1
21052916398. 2
21052916399. 3
21052916400. 4



PART II Defence and Strategic Studies

Section Id :

21052946

Section Number :

2

Section type :

Online

Mandatory or Optional :	Mandatory
Number of Questions :	92
Number of Questions to be attempted :	92
Section Marks :	200
Display Number Panel :	Yes
Group All Questions :	Yes
Mark As Answered Required? :	Yes
Sub-Section Number :	1
Sub-Section Id :	210529108
Question Shuffling Allowed :	Yes

Question Number : 51 Question Id : 2105294142 Question Type : MCQ Option Shuffling : No Display Question Number : Yes Is Question Mandatory : No Single Line Question Option : No Option Orientation : Vertical Correct Marks : 2 Wrong Marks : 0

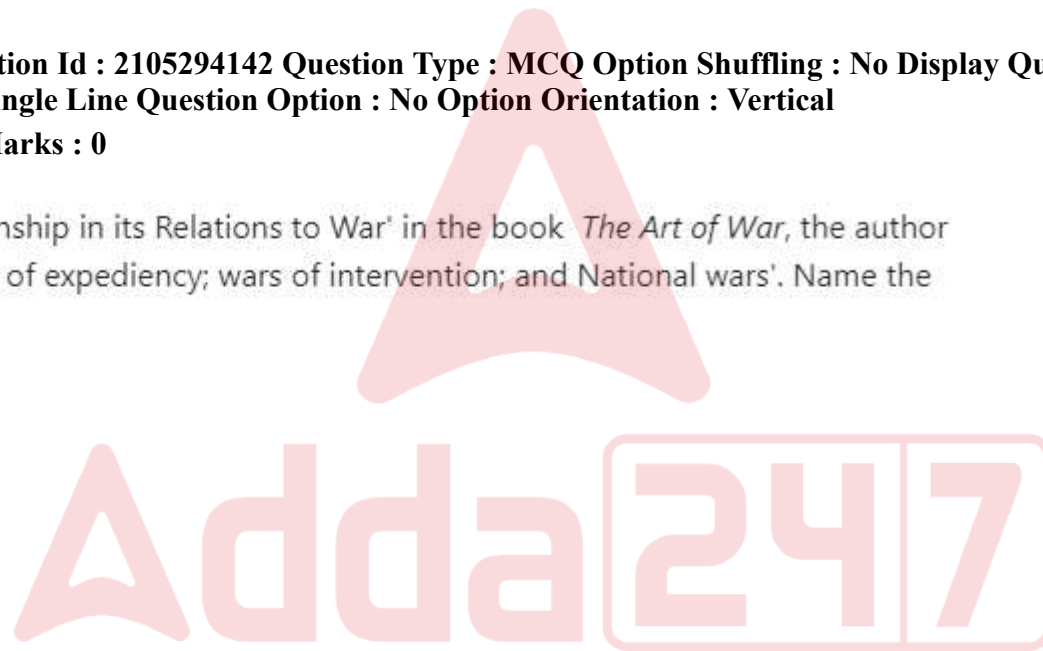
While discussing 'Statesmanship in its Relations to War' in the book *The Art of War*, the author has mentioned about 'wars of expediency; wars of intervention; and National wars'. Name the author of the book.

1. Sun Tzu
2. Antoine Henri de Jomini
3. Niccolo Machiavelli
4. Carl Von Clausewitz

Options :

21052916401. 1
21052916402. 2
21052916403. 3
21052916404. 4

Question Number : 51 Question Id : 2105294142 Question Type : MCQ Option Shuffling : No Display Question Number : Yes Is Question Mandatory : No Single Line Question Option : No Option Orientation : Vertical Correct Marks : 2 Wrong Marks : 0



'राजमर्मज्ञता और युद्ध से इसके संबंध' की चर्चा करते हुए 'द आर्ट ऑफ वार' पुस्तक में लेखक ने 'अवसौरचित्यता का युद्ध' हस्तक्षेप का युद्ध', 'विचारधारा का युद्ध' और राष्ट्रीय युद्ध का उल्लेख किया है। पुस्तक के लेखक का क्या नाम है?

1. सुन ल्जु
2. एंटोइने हेनरी डी जोमिनी
3. निकोलो मैकियावेली
4. कार्ल वोन क्लाउजविट्ज़

Options :

21052916401. 1
21052916402. 2
21052916403. 3
21052916404. 4

Question Number : 52 Question Id : 2105294143 Question Type : MCQ Option Shuffling : No Display Question Number : Yes Is Question Mandatory : No Single Line Question Option : No Option Orientation : Vertical Correct Marks : 2 Wrong Marks : 0

'The contention that Democracies will not fight each other because the citizenry must consent, and they do not want to pay the cost of war.' Who mooted this idea?

1. Hans Morgenthau, *Politics Among Nations*
2. Immanuel Kant, *Perpetual Peace: A Philosophical Sketch*
3. Samuel P. Huntington, *The Clash of Civilizations and the Remaking of World Order*
4. Johan Galtung, *Peace by Peaceful Means*

Options :

21052916405. 1
21052916406. 2
21052916407. 3
21052916408. 4

Question Number : 52 Question Id : 2105294143 Question Type : MCQ Option Shuffling : No Display Question Number : Yes Is

Question Mandatory : No Single Line Question Option : No Option Orientation : Vertical

Correct Marks : 2 Wrong Marks : 0

यह दलील कि लोकतंत्र आपस में नहीं लड़ेंगे क्योंकि इसके लिए नागरिक सहमति आवश्यक है और वे युद्ध कि कीमत का भुगतान नहीं करना चाहते हैं। यह विचार किसका है?

1. हेस जे मोगेंथाऊ - पॉलिटिक्स एमांग नेशन्स
2. इमैनुअल कांट - परपेचुअल पीस : ए फिलोसोफिकल स्केच
3. सैमुअल पी. हंटिंग्टन - द क्लैश ऑफ सिविलाइजेशन्स एंड द रेमकिंग ऑफ़ वर्ल्ड आर्डर
4. जोहन गाल्टुंग - पीस बाई पीसफुल मिन्स

Options :

21052916405. 1
21052916406. 2
21052916407. 3
21052916408. 4

Question Number : 53 Question Id : 2105294144 Question Type : MCQ Option Shuffling : No Display Question Number : Yes Is

Question Mandatory : No Single Line Question Option : No Option Orientation : Vertical

Correct Marks : 2 Wrong Marks : 0

Who propounded that "the ultimate ratio of power in International relations is war. Every act of the state in its power aspect, is directed to war, not as a desirable weapon, but as a weapon which it may require in the last resort to use?"

1. Carl Von Clausewitz
2. E. H. Carr
3. H.J. Morgenthau
4. Quincy Wright

Options :

21052916409. 1
21052916410. 2
21052916411. 3
21052916412. 4

Question Number : 53 Question Id : 2105294144 Question Type : MCQ Option Shuffling : No Display Question Number : Yes Is Question Mandatory : No Single Line Question Option : No Option Orientation : Vertical

Correct Marks : 2 Wrong Marks : 0

' अंतर्राष्ट्रीय संबंध में शक्ति का परम संबंध युद्ध है। शक्ति के पहलू के संबंध में राज्य का हर कार्य युद्ध की ओर जाता है जो कि वांछनीय हथियार नहीं है बल्कि एक ऐसा हथियार है जिसका उपयोग अंतिम उपाय के रूप में किया जाए' इस कथन के प्रतिपादनकर्ता कौन हैं ?

1. कार्ल वोन क्लाउविट्ज
2. ई.एच.कार
3. एच.जे.मार्गन ताउ
4. किनसी राइट

Options :

21052916409. 1
21052916410. 2
21052916411. 3
21052916412. 4

Question Number : 54 Question Id : 2105294145 Question Type : MCQ Option Shuffling : No Display Question Number : Yes Is Question Mandatory : No Single Line Question Option : No Option Orientation : Vertical

Correct Marks : 2 Wrong Marks : 0

Who is the author of the book, *The Third World Security Predicament: State Making, Regional Conflict and the International System*?

1. Blainey Geoffrey
2. Ashley Richard
3. Aron Raymond
4. Ayoob Mohammed

Options :

21052916413. 1
21052916414. 2
21052916415. 3

21052916416. 4

Question Number : 54 Question Id : 2105294145 Question Type : MCQ Option Shuffling : No Display Question Number : Yes Is Question Mandatory : No Single Line Question Option : No Option Orientation : Vertical

Correct Marks : 2 Wrong Marks : 0

'द थर्ड वर्ल्ड सिक्वोरिटी प्रिडिकामेंट : स्टेट मेकिंग रिजनल कनफ्लिक्ट एण्ड इंटरनेशनल सिस्टम' पुस्तक के लेखक कौन हैं ?

1. ब्लेनी जियोफ्री
2. एशले रिचर्ड
3. एरोन रेमण्ड
4. अयूब मोहम्मद

Options :

21052916413. 1
21052916414. 2
21052916415. 3
21052916416. 4

Question Number : 55 Question Id : 2105294146 Question Type : MCQ Option Shuffling : No Display Question Number : Yes Is Question Mandatory : No Single Line Question Option : No Option Orientation : Vertical

Correct Marks : 2 Wrong Marks : 0

VTOL refers to

1. Vertical Take off and Landing
2. Vertical Tactics of Landing
3. Various Types of Landing
4. Vertical Training of Landing

Options :

21052916417. 1
21052916418. 2
21052916419. 3
21052916420. 4

Question Number : 55 Question Id : 2105294146 Question Type : MCQ Option Shuffling : No Display Question Number : Yes Is Question Mandatory : No Single Line Question Option : No Option Orientation : Vertical

Correct Marks : 2 Wrong Marks : 0

वी टी ओ एल का संदर्भ है -

1. वर्टिकल टेकऑफ एण्ड लैंडिंग
2. वर्टिकल टैक्टिस ऑफ़ लैंडिंग
3. वैरियस टाइप्स ऑफ़ लैंडिंग
4. वर्टिकल ट्रेनिंग ऑफ़ लैंडिंग

Options :

21052916417. 1
21052916418. 2
21052916419. 3
21052916420. 4

Question Number : 56 Question Id : 2105294147 Question Type : MCQ Option Shuffling : No Display Question Number : Yes Is Question Mandatory : No Single Line Question Option : No Option Orientation : Vertical

Correct Marks : 2 Wrong Marks : 0

Who invented the 'Telegraph'?

1. Grahm Bell
2. Samuel Morse
3. Albert Einstein
4. J. C. Bose

Options :

21052916421. 1
21052916422. 2
21052916423. 3
21052916424. 4

Question Number : 56 Question Id : 2105294147 Question Type : MCQ Option Shuffling : No Display Question Number : Yes Is

Question Mandatory : No Single Line Question Option : No Option Orientation : Vertical

Correct Marks : 2 Wrong Marks : 0

टेलीग्राफ का आविष्कार किसने किया था ?

1. ग्राहम बेल
2. सैमुअल मोर्स
3. अल्बर्ट आइंस्टीन
4. जे.सी.बोस

Options :

21052916421. 1

21052916422. 2

21052916423. 3

21052916424. 4

Question Number : 57 Question Id : 2105294148 Question Type : MCQ Option Shuffling : No Display Question Number : Yes Is

Question Mandatory : No Single Line Question Option : No Option Orientation : Vertical

Correct Marks : 2 Wrong Marks : 0

More democracies in a region, the more peaceful region will be' is related to

1. Dyadic democratic Peace
2. Systemic democratic Peace
3. Monadic democratic Peace
4. Classical democratic Peace

Options :

21052916425. 1

21052916426. 2

21052916427. 3

21052916428. 4

Question Number : 57 Question Id : 2105294148 Question Type : MCQ Option Shuffling : No Display Question Number : Yes Is

Question Mandatory : No Single Line Question Option : No Option Orientation : Vertical

Correct Marks : 2 Wrong Marks : 0

'जिस क्षेत्र में जितना लोकतंत्र होगा, वह क्षेत्र उतना ही शांति पूर्ण होगा' यह किससे संबंधित है ?

1. डाइएडिक डेमोक्रेटिक पीस
2. सिस्टेमेटिक डेमोक्रेटिक पीस
3. मोनाडिक डेमोक्रेटिक पीस
4. क्लासिकल डेमोक्रेटिक पीस

Options :

21052916425. 1
21052916426. 2
21052916427. 3
21052916428. 4

Question Number : 58 Question Id : 2105294149 Question Type : MCQ Option Shuffling : No Display Question Number : Yes Is Question Mandatory : No Single Line Question Option : No Option Orientation : Vertical

Correct Marks : 2 Wrong Marks : 0

The recent UN climate change conference, also known as 'COP25', was held in

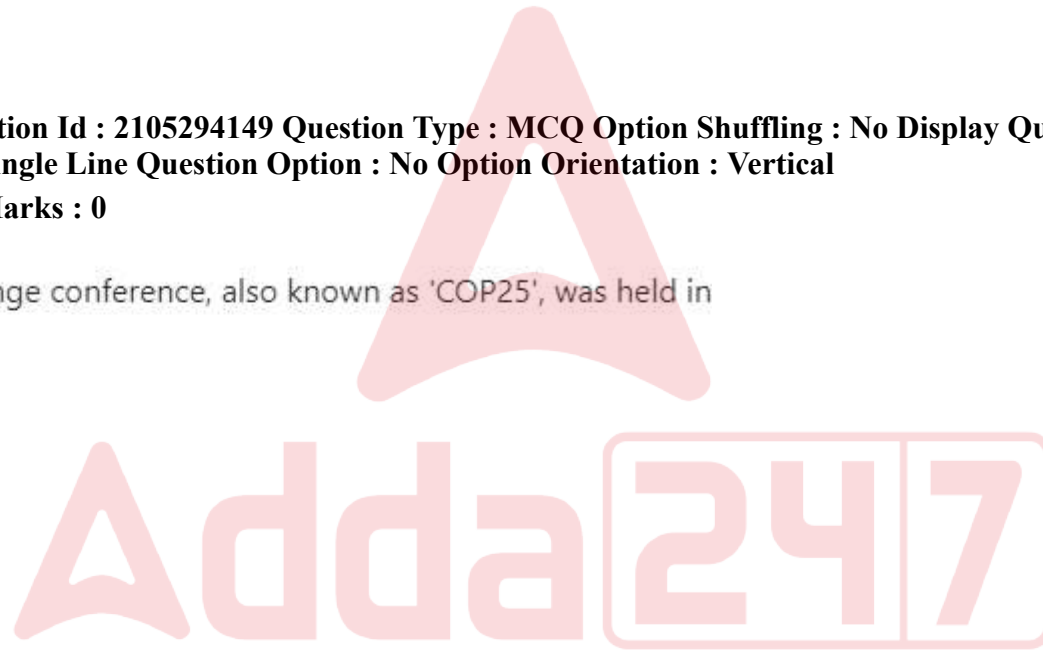
1. Singapore
2. Bangkok
3. Brasilia
4. Madrid

Options :

21052916429. 1
21052916430. 2
21052916431. 3
21052916432. 4

Question Number : 58 Question Id : 2105294149 Question Type : MCQ Option Shuffling : No Display Question Number : Yes Is Question Mandatory : No Single Line Question Option : No Option Orientation : Vertical

Correct Marks : 2 Wrong Marks : 0



हाल ही में संयुक्त राष्ट्र जलवायु परिवर्तन सम्मेलन, जिसे सी ओ पी 25 के नाम से भी जाना जाता है, हुआ था -

1. सिंगापुर
2. बैंकाक
3. ब्राजिलिया
4. मैड्रिड

Options :

21052916429. 1
21052916430. 2
21052916431. 3
21052916432. 4

Question Number : 59 Question Id : 2105294150 Question Type : MCQ Option Shuffling : No Display Question Number : Yes Is Question Mandatory : No Single Line Question Option : No Option Orientation : Vertical Correct Marks : 2 Wrong Marks : 0

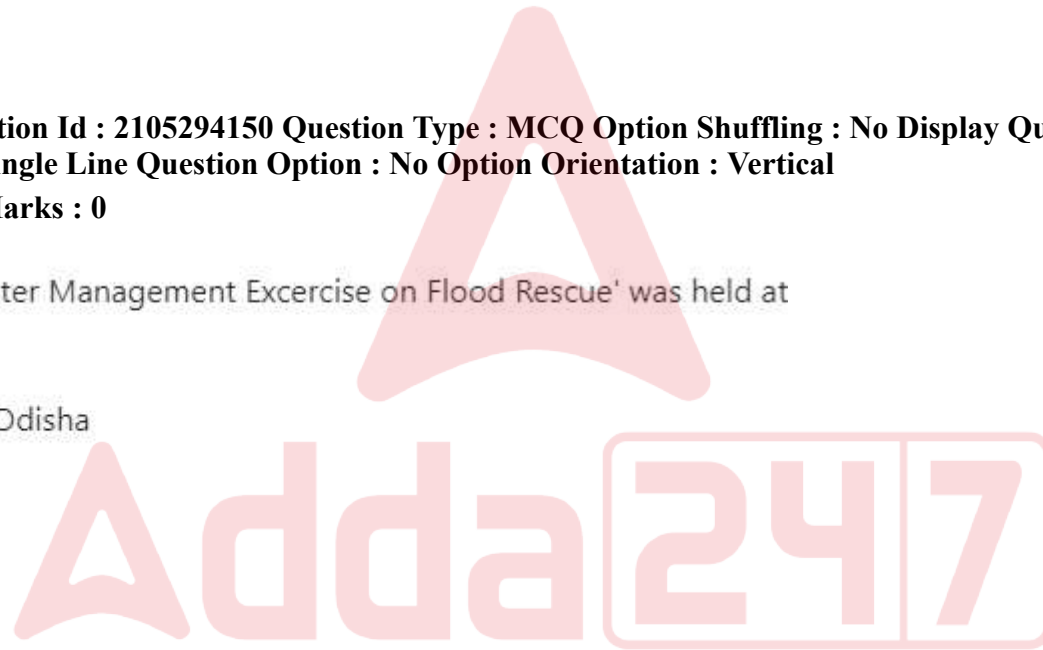
The second 'BIMSTEC Disaster Management Exercise on Flood Rescue' was held at

1. Golden Beach, Chennai
2. Ramchandi Beach, Puri, Odisha
3. Marina Beach, Chennai
4. Juhu Beach, Mumbai

Options :

21052916433. 1
21052916434. 2
21052916435. 3
21052916436. 4

Question Number : 59 Question Id : 2105294150 Question Type : MCQ Option Shuffling : No Display Question Number : Yes Is Question Mandatory : No Single Line Question Option : No Option Orientation : Vertical Correct Marks : 2 Wrong Marks : 0



बाढ बचाव से सम्बन्धित दूसरा 'बिम्स्टेक आपदा प्रबंधन अभ्यास' हुआ था -

1. गोल्डेन बीच, चेन्नई
2. रामचंदी बीच, पुरी ओड़िशा
3. मेरिना बीच, चेन्नई
4. जुहु बीच, मुंबई

Options :

21052916433. 1
21052916434. 2
21052916435. 3
21052916436. 4

Question Number : 60 Question Id : 2105294151 Question Type : MCQ Option Shuffling : No Display Question Number : Yes Is Question Mandatory : No Single Line Question Option : No Option Orientation : Vertical Correct Marks : 2 Wrong Marks : 0

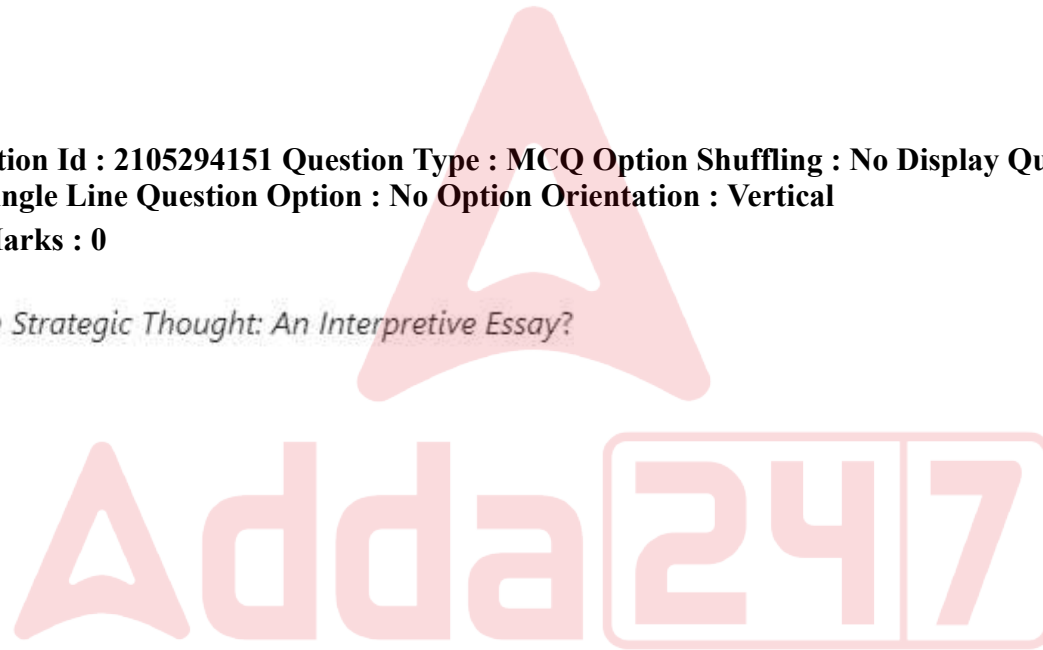
Who is the author of *Indian Strategic Thought: An Interpretive Essay*?

1. K. Subrahmanyam
2. Stephen P. Cohen
3. George Tanham
4. Ashley J. Tellis

Options :

21052916437. 1
21052916438. 2
21052916439. 3
21052916440. 4

Question Number : 60 Question Id : 2105294151 Question Type : MCQ Option Shuffling : No Display Question Number : Yes Is Question Mandatory : No Single Line Question Option : No Option Orientation : Vertical Correct Marks : 2 Wrong Marks : 0



‘इंडियन स्ट्रेटेजिक थॉट : एन इनटरप्रेटिव एस्से’ के लेखक कौन हैं ?

1. के. सुब्रमण्यम
2. स्टेफेन पी. कोहेन
3. जार्ज तनहम
4. एशले जे. टेलिस

Options :

21052916437. 1
21052916438. 2
21052916439. 3
21052916440. 4

Question Number : 61 Question Id : 2105294152 Question Type : MCQ Option Shuffling : No Display Question Number : Yes Is Question Mandatory : No Single Line Question Option : No Option Orientation : Vertical

Correct Marks : 2 Wrong Marks : 0

India's 'Anti-satellite test' was code-named

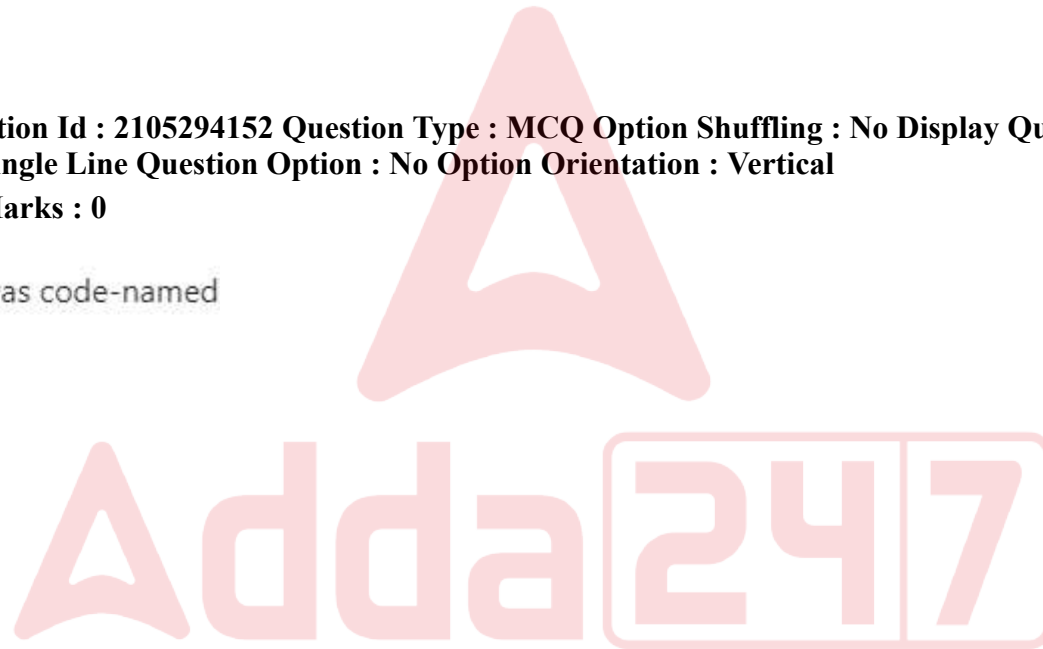
1. OP Shakti
2. OP Abhedya
3. OP Vijay
4. OP Aakash

Options :

21052916441. 1
21052916442. 2
21052916443. 3
21052916444. 4

Question Number : 61 Question Id : 2105294152 Question Type : MCQ Option Shuffling : No Display Question Number : Yes Is Question Mandatory : No Single Line Question Option : No Option Orientation : Vertical

Correct Marks : 2 Wrong Marks : 0



भारत के 'उपग्रह विरोधी परीक्षण' के कोड को क्या नाम दिया गया था ?

1. ऑप शक्ति
2. ऑप अभेद्य
3. ऑप विजय
4. ऑप आकाश

Options :

21052916441. 1
21052916442. 2
21052916443. 3
21052916444. 4

Question Number : 62 Question Id : 2105294153 Question Type : MCQ Option Shuffling : No Display Question Number : Yes Is Question Mandatory : No Single Line Question Option : No Option Orientation : Vertical Correct Marks : 2 Wrong Marks : 0

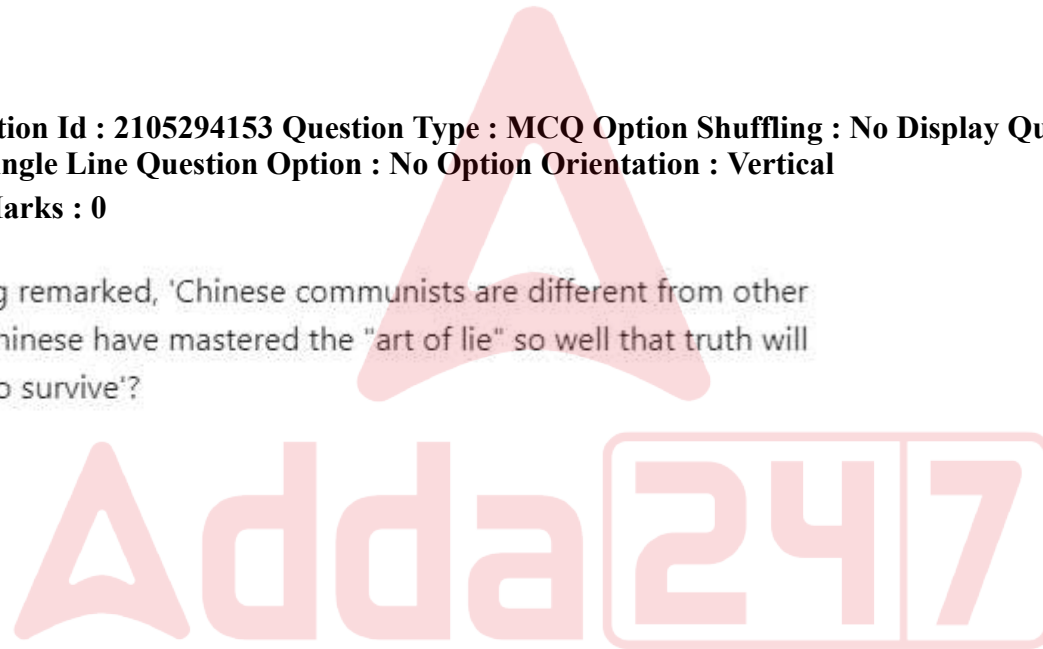
Who amongst the following remarked, 'Chinese communists are different from other communists because the Chinese have mastered the "art of lie" so well that truth will sometimes find it difficult to survive'?

1. Donald Trump
2. George W. Bush
3. Richard Nixon
4. Dalai Lama

Options :

21052916445. 1
21052916446. 2
21052916447. 3
21052916448. 4

Question Number : 62 Question Id : 2105294153 Question Type : MCQ Option Shuffling : No Display Question Number : Yes Is Question Mandatory : No Single Line Question Option : No Option Orientation : Vertical Correct Marks : 2 Wrong Marks : 0



"चीन के साम्यवादी अन्य साम्यवादियों से अलग हैं क्योंकि चीनी लोगों ने 'झूठ बोलने की कला' में इतनी महारत हासिल कर ली है कि कभी कभी सत्य स्वयं को जीवित कहने में कठिनाई महसूस करता है।" यह कथन निम्नलिखित में से किसका है ?

1. डोनाल ट्रम्प
2. जार्ज डब्ल्यू बुश
3. रिचर्ड निक्सन
4. दलाई लामा

Options :

21052916445. 1
21052916446. 2
21052916447. 3
21052916448. 4

Question Number : 63 Question Id : 2105294154 Question Type : MCQ Option Shuffling : No Display Question Number : Yes Is Question Mandatory : No Single Line Question Option : No Option Orientation : Vertical Correct Marks : 2 Wrong Marks : 0

In the Indian context, what is the implication of ratifying the 'Additional Protocol' with the International Atomic Energy Commission(IAEC)?

1. The civilian nuclear reactors come under IAEC safeguards
2. The military nuclear installations come under the inspection of IAEA
3. The country will have the privilege to buy uranium from the Nuclear Suppliers Group (NSG)
4. The country automatically becomes a member of NSG

Options :

21052916449. 1
21052916450. 2
21052916451. 3
21052916452. 4

Question Number : 63 Question Id : 2105294154 Question Type : MCQ Option Shuffling : No Display Question Number : Yes Is Question Mandatory : No Single Line Question Option : No Option Orientation : Vertical Correct Marks : 2 Wrong Marks : 0

भारत के संदर्भ में अंतर्राष्ट्रीय परमाणु ऊर्जा आयोग (आई ए ई सी) के साथ 'अतिरिक्त नयाचार (प्रोटोकॉल)' की संपुष्टि के निहितार्थ क्या है ?

1. असैनिक परमाणु रिएक्टर आ ई ए सी सुरक्षोपाय के अंतर्गत आते हैं।
2. सैन्य परमाणु संस्थान आई ए ई ए के निरीक्षण के अंतर्गत आते हैं।
3. देश को परमाणु आपूर्तिकर्ता समूह (एन एस जी) से यूरेनियम खरीदने का विशेष अधिकार होगा।
4. देश एन एस जी का स्वतः सदस्य बन जाएगा।

Options :

- 21052916449. 1
- 21052916450. 2
- 21052916451. 3
- 21052916452. 4

Question Number : 64 Question Id : 2105294155 Question Type : MCQ Option Shuffling : No Display Question Number : Yes Is Question Mandatory : No Single Line Question Option : No Option Orientation : Vertical Correct Marks : 2 Wrong Marks : 0

In April 2019, which satellite was launched by ISRO for electronic intelligence information?

1. ASTROSAT
2. ANISAT
3. EMISAT
4. MICRASAT

Options :

- 21052916453. 1
- 21052916454. 2
- 21052916455. 3
- 21052916456. 4

Question Number : 64 Question Id : 2105294155 Question Type : MCQ Option Shuffling : No Display Question Number : Yes Is Question Mandatory : No Single Line Question Option : No Option Orientation : Vertical Correct Marks : 2 Wrong Marks : 0

इसरो द्वारा अप्रैल 2019 में इलेक्ट्रॉनिक गोपनीय सूचना पाने के लिए किस उपग्रह का प्रक्षेपण किया गया था?

1. एस्ट्रोसैट (ASTROSAT)
2. एनीसैट (ANISAT)
3. एमीसैट (EMISAT)
4. माइक्रासैट (MICRASAT)

Options :

21052916453. 1
21052916454. 2
21052916455. 3
21052916456. 4

Question Number : 65 Question Id : 2105294156 Question Type : MCQ Option Shuffling : No Display Question Number : Yes Is Question Mandatory : No Single Line Question Option : No Option Orientation : Vertical Correct Marks : 2 Wrong Marks : 0

The main objective of the Centre for Propulsion Technology (a part of DRDO) has been mandated to which one of the following objectives?

1. Advanced collaborative research in outer space areas.
2. Advanced collaborative research in Star Wars.
3. Advanced collaborative research in defence technology areas
4. Advanced collaborative research on earth's surface

Options :

21052916457. 1
21052916458. 2
21052916459. 3
21052916460. 4

Question Number : 65 Question Id : 2105294156 Question Type : MCQ Option Shuffling : No Display Question Number : Yes Is

Question Mandatory : No Single Line Question Option : No Option Orientation : Vertical

Correct Marks : 2 Wrong Marks : 0

सेंटर फॉर प्रोपल्शन टेक्नोलॉजी (डीआरडीओ का एक अंग) का मुख्य उद्देश्य निम्नलिखित में से किसमें अधिदेशित है ?

1. अंतरिक्ष के बाह्य क्षेत्रों में उन्नत सहयोगी अनुसंधान
2. स्टार वॉर्स में उन्नत सहयोगी अनुसंधान
3. रक्षा प्रौद्योगिकी क्षेत्र में उन्नत सहयोगी अनुसंधान
4. पृथ्वी की सतह पर उन्नत सहयोगी अनुसंधान

Options :

21052916457. 1

21052916458. 2

21052916459. 3

21052916460. 4

Question Number : 66 Question Id : 2105294157 Question Type : MCQ Option Shuffling : No Display Question Number : Yes Is

Question Mandatory : No Single Line Question Option : No Option Orientation : Vertical

Correct Marks : 2 Wrong Marks : 0

Which one of the following is the most important element in an insurgency movement?

1. Population support
2. Legal support
3. Technological support
4. Government support

Options :

21052916461. 1

21052916462. 2

21052916463. 3

21052916464. 4

Question Number : 66 Question Id : 2105294157 Question Type : MCQ Option Shuffling : No Display Question Number : Yes Is

Question Mandatory : No Single Line Question Option : No Option Orientation : Vertical

Correct Marks : 2 Wrong Marks : 0

निम्नलिखित में से कौन विद्रोही (इंसर्जेन्सी) आंदोलन के लिए सर्वाधिक महत्त्वपूर्ण कारक है ?

1. जनसंख्या सहायता
2. कानूनी सहायता
3. प्रौद्योगिकीय सहायता
4. सरकारी सहायता

Options :

21052916461. 1

21052916462. 2

21052916463. 3

21052916464. 4

Question Number : 67 Question Id : 2105294158 Question Type : MCQ Option Shuffling : No Display Question Number : Yes Is

Question Mandatory : No Single Line Question Option : No Option Orientation : Vertical

Correct Marks : 2 Wrong Marks : 0

Which Indian Naval Ship (INS) has commenced its two-month-long second mission 'SAGAR MAITRI' from Kochi, Southern Naval Command?

1. INS Vikrant
2. INS Makar
3. INS Sagardhawani
4. INS Sandhyak

Options :

21052916465. 1

21052916466. 2

21052916467. 3

21052916468. 4

Question Number : 67 Question Id : 2105294158 Question Type : MCQ Option Shuffling : No Display Question Number : Yes Is

Question Mandatory : No Single Line Question Option : No Option Orientation : Vertical

Correct Marks : 2 Wrong Marks : 0

निम्नलिखित में से किस भारतीय नौसेना पोत (आई एन एस) ने कोची नौसेना कमान से 'सागर मैत्रेयी' नामक दो महीने लंबा दूसरा मिशन शुरू किया ?

1. आई एन एस विक्रान्त
2. आई एन एस मकर
3. आई एन एस सागर धवन
4. आई एन एस संध्यक

Options :

21052916465. 1
21052916466. 2
21052916467. 3
21052916468. 4

Question Number : 68 Question Id : 2105294159 Question Type : MCQ Option Shuffling : No Display Question Number : Yes Is

Question Mandatory : No Single Line Question Option : No Option Orientation : Vertical

Correct Marks : 2 Wrong Marks : 0

Who among the following is the first lady pilot of the Indian Navy?

1. Sub Lieutenant Shivangi
2. Sub Lieutenant Sagarika
3. Sub Lieutenant Priyanka
4. Sub Lieutenant Sakshi

Options :

21052916469. 1
21052916470. 2
21052916471. 3
21052916472. 4

Question Number : 68 Question Id : 2105294159 Question Type : MCQ Option Shuffling : No Display Question Number : Yes Is

Question Mandatory : No Single Line Question Option : No Option Orientation : Vertical

Correct Marks : 2 Wrong Marks : 0

निम्नलिखित में से कौन भारतीय नौसेना की पहली महिला पायलट हैं ?

1. सब. लेफ्टिनेंट शिवांगी
2. सब. लेफ्टिनेंट सागरिका
3. सब. लेफ्टिनेंट प्रियंका
4. सब. लेफ्टिनेंट साक्षी

Options :

21052916469. 1

21052916470. 2

21052916471. 3

21052916472. 4

Question Number : 69 Question Id : 2105294160 Question Type : MCQ Option Shuffling : No Display Question Number : Yes Is

Question Mandatory : No Single Line Question Option : No Option Orientation : Vertical

Correct Marks : 2 Wrong Marks : 0

Which one of the following regions is known as the 'Lithium Triangle'?

1. Argentina, Bolivia and Chile
2. UAE, Saudi Arabia and Iran
3. China, South Korea and Mongolia
4. Nigeria, Congo and Cameroon

Options :

21052916473. 1

21052916474. 2

21052916475. 3

21052916476. 4

Question Number : 69 Question Id : 2105294160 Question Type : MCQ Option Shuffling : No Display Question Number : Yes Is Question Mandatory : No Single Line Question Option : No Option Orientation : Vertical Correct Marks : 2 Wrong Marks : 0

निम्नलिखित में से किस क्षेत्र को 'लिथियम ट्राइएंगल' के नाम से जाना जाता है ?

1. अर्जेन्टिना, बोलीविया, चिली
2. यू ए ई, सऊदी अरब और ईरान
3. चीन, दक्षिण कोरिया और मंगोलिया
4. नाइजरिया, कांगो और कैमरून

Options :

- 21052916473. 1
- 21052916474. 2
- 21052916475. 3
- 21052916476. 4

Question Number : 70 Question Id : 2105294161 Question Type : MCQ Option Shuffling : No Display Question Number : Yes Is Question Mandatory : No Single Line Question Option : No Option Orientation : Vertical Correct Marks : 2 Wrong Marks : 0

Which one among the following islands is NOT located in the Indian Ocean?

1. Diego Garcia
2. Assumption Island
3. Fiji
4. Comoros Islands

Options :

- 21052916477. 1
- 21052916478. 2

21052916479. 3

21052916480. 4

Question Number : 70 Question Id : 2105294161 Question Type : MCQ Option Shuffling : No Display Question Number : Yes Is Question Mandatory : No Single Line Question Option : No Option Orientation : Vertical

Correct Marks : 2 Wrong Marks : 0

निम्नलिखित में से कौन सा द्वीप समूह हिंद महासागर में स्थित नहीं है ?

1. डिएगो गार्सिया
2. एसम्पशन आइलैंड
3. फिजी
4. कोमोरोस आइलैंड

Options :

21052916477. 1

21052916478. 2

21052916479. 3

21052916480. 4

Question Number : 71 Question Id : 2105294162 Question Type : MCQ Option Shuffling : No Display Question Number : Yes Is Question Mandatory : No Single Line Question Option : No Option Orientation : Vertical

Correct Marks : 2 Wrong Marks : 0

The new region CIS emerged after the

1. End of British Colonialism
2. Dissolution of Warsaw pact
3. Disintegration of Yugoslavia
4. Disintegration of the Soviet Union

Options :

21052916481. 1

21052916482. 2

21052916483. 3

21052916484. 4

Question Number : 71 Question Id : 2105294162 Question Type : MCQ Option Shuffling : No Display Question Number : Yes Is Question Mandatory : No Single Line Question Option : No Option Orientation : Vertical Correct Marks : 2 Wrong Marks : 0

निम्नलिखित में से किसके बाद नए क्षेत्र - सी.आई. एस. (CIS) का अभ्युदय हुआ था ?

1. ब्रिटिश उपनिवेशवाद का अंत
2. वारसा पैक्ट की समाप्ति
3. यूगोस्लाविया का विघटन
4. सोवियत संघ का विघटन

Options :

21052916481. 1
21052916482. 2
21052916483. 3
21052916484. 4

Question Number : 72 Question Id : 2105294163 Question Type : MCQ Option Shuffling : No Display Question Number : Yes Is Question Mandatory : No Single Line Question Option : No Option Orientation : Vertical Correct Marks : 2 Wrong Marks : 0

Which article of the Constitution of India deals with the promotion of international peace and security?

1. Article 50
2. Article 51
3. Article 52
4. Article 53

Options :

21052916485. 1
21052916486. 2
21052916487. 3

21052916488. 4

Question Number : 72 Question Id : 2105294163 Question Type : MCQ Option Shuffling : No Display Question Number : Yes Is Question Mandatory : No Single Line Question Option : No Option Orientation : Vertical Correct Marks : 2 Wrong Marks : 0

भारतीय संविधान के किस अनुच्छेद में अंतर्राष्ट्रीय शांति और सुरक्षा को बढ़ावा देने का उल्लेख है ?

1. अनुच्छेद 50
2. अनुच्छेद 51
3. अनुच्छेद 52
4. अनुच्छेद 53

Options :

21052916485. 1
21052916486. 2
21052916487. 3
21052916488. 4

Question Number : 73 Question Id : 2105294164 Question Type : MCQ Option Shuffling : No Display Question Number : Yes Is Question Mandatory : No Single Line Question Option : No Option Orientation : Vertical Correct Marks : 2 Wrong Marks : 0

Which one of the following European Union Countries has its own currency and has NOT switched over to the Euro?

1. France
2. Germany
3. Sweden
4. Spain

Options :

21052916489. 1
21052916490. 2
21052916491. 3
21052916492. 4

Question Number : 73 Question Id : 2105294164 Question Type : MCQ Option Shuffling : No Display Question Number : Yes Is Question Mandatory : No Single Line Question Option : No Option Orientation : Vertical Correct Marks : 2 Wrong Marks : 0

निम्नलिखित किस यूरोपीय संघ के देश की अपनी मुद्रा है और उसने यूरो नहीं अपनाया है ?

1. फ्रांस
2. जर्मनी
3. स्वीडेन
4. स्पेन

Options :

21052916489. 1
21052916490. 2
21052916491. 3
21052916492. 4

Question Number : 74 Question Id : 2105294165 Question Type : MCQ Option Shuffling : No Display Question Number : Yes Is Question Mandatory : No Single Line Question Option : No Option Orientation : Vertical Correct Marks : 2 Wrong Marks : 0

Which Indian satellite has been recently launched from French Guiana?

1. GSAT-32
2. GSAT-30
3. GSAT-29
4. GSAT-31

Options :

21052916493. 1
21052916494. 2
21052916495. 3
21052916496. 4

Question Number : 74 Question Id : 2105294165 Question Type : MCQ Option Shuffling : No Display Question Number : Yes Is Question Mandatory : No Single Line Question Option : No Option Orientation : Vertical

Correct Marks : 2 Wrong Marks : 0

निम्नलिखित में से किस भारतीय उपग्रह को हाल ही में फ्रेंच गुआना से प्रक्षेपित किया गया है ?

1. जी सैट - 32
2. जी सैट - 30
3. जी सैट - 29
4. जी सैट - 31

Options :

21052916493. 1
21052916494. 2
21052916495. 3
21052916496. 4

Question Number : 75 Question Id : 2105294166 Question Type : MCQ Option Shuffling : No Display Question Number : Yes Is

Question Mandatory : No Single Line Question Option : No Option Orientation : Vertical

Correct Marks : 2 Wrong Marks : 0

Who has developed the world's first bulletproof helmet against AK- 47 bullets under Project Abhedya?

1. Mohit Mishra
2. Devashish Das
3. Das Mohanty
4. Anoop Mishra

Options :

21052916497. 1
21052916498. 2
21052916499. 3
21052916500. 4

Question Number : 75 Question Id : 2105294166 Question Type : MCQ Option Shuffling : No Display Question Number : Yes Is

Question Mandatory : No Single Line Question Option : No Option Orientation : Vertical

Correct Marks : 2 Wrong Marks : 0

निम्नलिखित में से किसने अभेद्य परियोजना के अंतर्गत ए.के. 47 की गोलियों से बचने के लिए पहला विश्व का बुलेट प्रूफ हेलमेट बनाया है ?

1. मोहित मिश्र
2. देवाशीष दास
3. दास मोहंती
4. अनूप मिश्र

Options :

21052916497. 1
21052916498. 2

21052916499. 3

21052916500. 4

Question Number : 76 Question Id : 2105294167 Question Type : MCQ Option Shuffling : No Display Question Number : Yes Is Question Mandatory : No Single Line Question Option : No Option Orientation : Vertical

Correct Marks : 2 Wrong Marks : 0

According to stockholm International Peace Research Institute (SIPRI), which country retained the position of the largest arms importer during 2015-19.

1. China
2. Australia
3. India
4. Saudi Arabia

Options :

21052916501. 1

21052916502. 2

21052916503. 3

21052916504. 4

Question Number : 76 Question Id : 2105294167 Question Type : MCQ Option Shuffling : No Display Question Number : Yes Is Question Mandatory : No Single Line Question Option : No Option Orientation : Vertical

Correct Marks : 2 Wrong Marks : 0

स्टाक होम अंतर्राष्ट्रीय शांति अनुसंधान संस्थान (एस आई पी आर आई) के अनुसार कौन सा देश 2015 - 19 के दौरान हथियारों का सबसे बड़ा आयातक रहा है ?

1. चीन
2. आस्ट्रेलिया
3. भारत
4. सऊदी अरब

Options :

- 21052916501. 1
- 21052916502. 2
- 21052916503. 3
- 21052916504. 4

Question Number : 77 Question Id : 2105294168 Question Type : MCQ Option Shuffling : No Display Question Number : Yes Is Question Mandatory : No Single Line Question Option : No Option Orientation : Vertical

Correct Marks : 2 Wrong Marks : 0

Identify the four subsets of Aerospace Defence

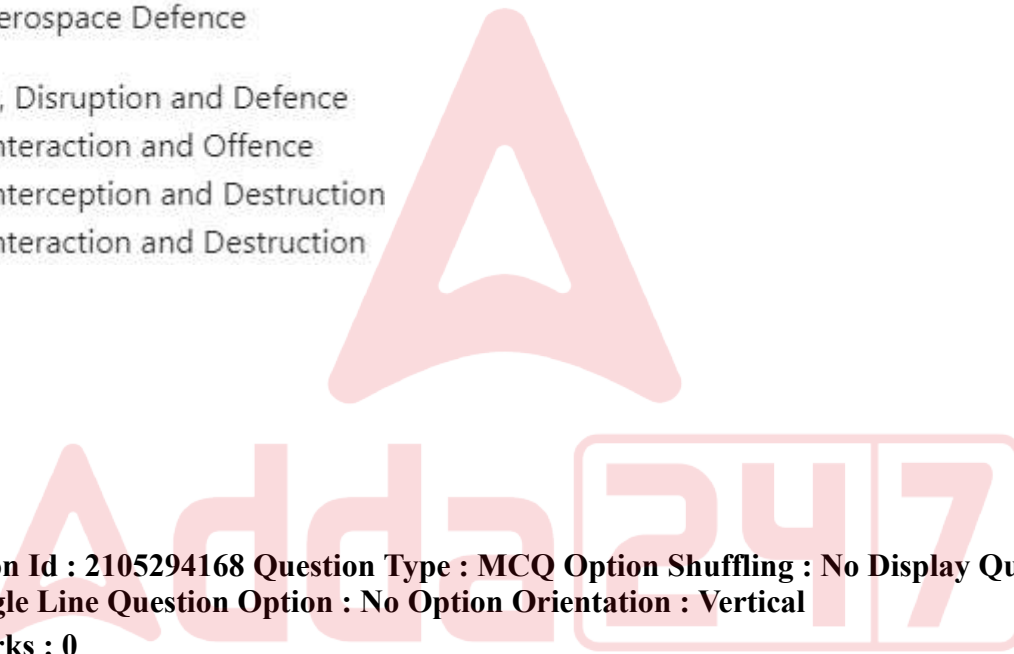
1. Identification, Interception, Disruption and Defence
2. Identification, Detection, Interaction and Offence
3. Detection, Identification, Interception and Destruction
4. Detection, Identification, Interaction and Destruction

Options :

- 21052916505. 1
- 21052916506. 2
- 21052916507. 3
- 21052916508. 4

Question Number : 77 Question Id : 2105294168 Question Type : MCQ Option Shuffling : No Display Question Number : Yes Is Question Mandatory : No Single Line Question Option : No Option Orientation : Vertical

Correct Marks : 2 Wrong Marks : 0



विमान रक्षा क्षेत्र के चार उपवर्गों (सबसेट्स) की पहचान करें :

1. पहचान, अंतरावरोधन (इंटरसेप्शन), विच्छेद (डिसरप्शन) और रक्षा
2. पहचान, खोज (डिटेक्शन) , अन्योन्यक्रिया (इंटरएक्शन) और अपराध
3. खोज (डिटेक्शन), पहचान, अंतरावरोधन (इंटरसेप्शन) और विनाश
4. खोज (डिटेक्शन), पहचान, अन्योन्यक्रिया (इंटरएक्शन) और विनाश

Options :

- 21052916505. 1
- 21052916506. 2
- 21052916507. 3
- 21052916508. 4

Question Number : 78 Question Id : 2105294169 Question Type : MCQ Option Shuffling : No Display Question Number : Yes Is Question Mandatory : No Single Line Question Option : No Option Orientation : Vertical Correct Marks : 2 Wrong Marks : 0

The 'RLSA', signed between Indian and Russia in 2019 refers to

1. Reciprocal Logistics Support Agreement
2. Regional, Local and Sub-area Agreement
3. Regional Logistics Supply Agreement
4. Reciprocal Logistics Supply chain Agreement

Options :

- 21052916509. 1
- 21052916510. 2
- 21052916511. 3
- 21052916512. 4

Question Number : 78 Question Id : 2105294169 Question Type : MCQ Option Shuffling : No Display Question Number : Yes Is

Question Mandatory : No Single Line Question Option : No Option Orientation : Vertical

Correct Marks : 2 Wrong Marks : 0

भारत और रूस के बीच 2019 में हस्ताक्षरित आर एल एस ए का संदर्भ किससे है ?

1. पारस्परित संभार तंत्र (रेसिप्रोकल लाजिस्टिक्स) सहायता समझौता
2. क्षेत्रीय, स्थानीय और उप-क्षेत्र समझौता
3. क्षेत्रीय संभार तंत्र आपूर्ति समझौता
4. पारस्परिक संभार तंत्र आपूर्ति शृंखला समझौता

Options :

21052916509. 1

21052916510. 2

21052916511. 3

21052916512. 4

Question Number : 79 Question Id : 2105294170 Question Type : MCQ Option Shuffling : No Display Question Number : Yes Is

Question Mandatory : No Single Line Question Option : No Option Orientation : Vertical

Correct Marks : 2 Wrong Marks : 0

Major General Qassem Solemani, commander of the elite Quds forces of the Iranian Revolutionary Guards Corps was killed in

1. Iran
2. Turkey
3. Syria
4. Iraq

Options :

21052916513. 1

21052916514. 2

21052916515. 3

21052916516. 4

Question Number : 79 Question Id : 2105294170 Question Type : MCQ Option Shuffling : No Display Question Number : Yes Is Question Mandatory : No Single Line Question Option : No Option Orientation : Vertical Correct Marks : 2 Wrong Marks : 0

मेजर जनरल कासिम सोलेमानी, जो ईरान के रिवोल्युशनरी गार्ड कोर के दमदार कुइज़ फ़ोर्स के कमांडर थे, को कहाँ मारा गया ?

1. ईरान
2. तुर्की
3. सीरिया
4. इराक

Options :

21052916513. 1
21052916514. 2
21052916515. 3
21052916516. 4

Question Number : 80 Question Id : 2105294171 Question Type : MCQ Option Shuffling : No Display Question Number : Yes Is Question Mandatory : No Single Line Question Option : No Option Orientation : Vertical Correct Marks : 2 Wrong Marks : 0

Who is the writer of *Three Approaches to Peace: Peacekeeping, Peacemaking and Peacebuilding*?

1. Johan Galtung
2. Boutrus Boutrus Ghali
3. William Zartman
4. Peter Wallensteen

Options :

21052916517. 1
21052916518. 2

21052916519. 3

21052916520. 4

Question Number : 80 Question Id : 2105294171 Question Type : MCQ Option Shuffling : No Display Question Number : Yes Is Question Mandatory : No Single Line Question Option : No Option Orientation : Vertical

Correct Marks : 2 Wrong Marks : 0

श्री एप्रोचेस टू पीस : पीस कीपिंग, पीस मेकिंग एंड पीस बिल्डिंग के लेखक कौन हैं ?

1. जोहन गलतुंग
2. बुतरस बुतरस घाली
3. विलियम जार्टमैन
4. पीटर वैलेनस्टीन

Options :

21052916517. 1

21052916518. 2

21052916519. 3

21052916520. 4

Question Number : 81 Question Id : 2105294172 Question Type : MCQ Option Shuffling : No Display Question Number : Yes Is Question Mandatory : No Single Line Question Option : No Option Orientation : Vertical

Correct Marks : 2 Wrong Marks : 0

Who stated that "the aspiration for power on the part of several nations, each trying either to maintain or overthrow the status quo, leads to the necessity of a configuration that is called balance of power and to policies that aim at preserving it"?

1. E. H. Carr
2. H. J. Morgenthau
3. Quincy Wright
4. David A. Baldwin

Options :

21052916521. 1

21052916522. 2

21052916523. 3

21052916524. 4

Question Number : 81 Question Id : 2105294172 Question Type : MCQ Option Shuffling : No Display Question Number : Yes Is Question Mandatory : No Single Line Question Option : No Option Orientation : Vertical

Correct Marks : 2 Wrong Marks : 0

किसने कहा था कि "कई राष्ट्रों में शक्ति हेतु महत्वाकांक्षा, जिसमें प्रत्येक राष्ट्र यथास्थिति को बनाए रखना या उसे बदलना चाहता है, उस संरूपण (कनफिगरेशन) की आवश्यकता की ओर ले जाती है जिसे शक्ति का संतुलन कहा जाता है और ऐसी नीतियाँ बनाई जाती हैं जिसका उद्देश्य इसे संरक्षित करना होता है। "

1. ई.एच. कार
2. एच.जे. मार्गेंथ्यू
3. किसी राइट
4. डेविड ए. बाल्डविन

Options :

21052916521. 1

21052916522. 2

21052916523. 3

21052916524. 4

Question Number : 82 Question Id : 2105294173 Question Type : MCQ Option Shuffling : No Display Question Number : Yes Is Question Mandatory : No Single Line Question Option : No Option Orientation : Vertical

Correct Marks : 2 Wrong Marks : 0

Who declared that "threads to International peace and security could come from non-military sources of instability in the economic, social, humanitarian and ecological field"?

1. Economic and Social Council
2. The General Assembly
3. European Union
4. Security Council

Options :

- 21052916525. 1
- 21052916526. 2
- 21052916527. 3
- 21052916528. 4

Question Number : 82 Question Id : 2105294173 Question Type : MCQ Option Shuffling : No Display Question Number : Yes Is Question Mandatory : No Single Line Question Option : No Option Orientation : Vertical

Correct Marks : 2 Wrong Marks : 0

किसने घोषित किया था कि "अंतर्राष्ट्रीय शांति और सुरक्षा को खतरा आर्थिक, सामाजिक, मानवतावादी और पारिस्थितिकीय क्षेत्रों में असैन्य स्रोतों से उत्पन्न अस्थिरता से है। "

- 1. आर्थिक और सामाजिक परिषद
- 2. महासभा (द जनरल एसेम्बली)
- 3. यूरोपीय संघ
- 4. सुरक्षा परिषद

Options :

- 21052916525. 1
- 21052916526. 2
- 21052916527. 3
- 21052916528. 4

Question Number : 83 Question Id : 2105294174 Question Type : MCQ Option Shuffling : No Display Question Number : Yes Is Question Mandatory : No Single Line Question Option : No Option Orientation : Vertical

Correct Marks : 2 Wrong Marks : 0

INF Treaty signed by the US and the Soviet Union was aimed to ban conventional and nuclear-capable missiles with a range between

- 1. 500-5500 kilometers
- 2. 1500-4500 kilometers
- 3. 1500-5000 kilometers
- 4. 2500-4500 kilometers

Options :

- 21052916529. 1
- 21052916530. 2
- 21052916531. 3
- 21052916532. 4

Question Number : 83 Question Id : 2105294174 Question Type : MCQ Option Shuffling : No Display Question Number : Yes Is Question Mandatory : No Single Line Question Option : No Option Orientation : Vertical

Correct Marks : 2 Wrong Marks : 0

संयुक्त राज्य अमरीका और सोवियत संघ के बीच हुई आई एन एफ संधि का उद्देश्य निम्नलिखित में किस रेंज वाली परंपरागत और परमाणु हथियार ले जाने में सक्षम मिसाइलों पर प्रतिबंध लगाना था ?

- 1. 500 से 5500 किमी
- 2. 1500 से 4500 किमी
- 3. 1500 से 5000 किमी
- 4. 2500 से 4500 किमी

Options :

- 21052916529. 1
- 21052916530. 2
- 21052916531. 3
- 21052916532. 4

Question Number : 84 Question Id : 2105294175 Question Type : MCQ Option Shuffling : No Display Question Number : Yes Is Question Mandatory : No Single Line Question Option : No Option Orientation : Vertical

Correct Marks : 2 Wrong Marks : 0

According to John Galtung, 'Positive Peace' is

- 1. Absence of cultural violence
- 2. Absence of structural violence
- 3. Absence of direct violence
- 4. Absence of nature's violence

Options :

- 21052916533. 1
- 21052916534. 2
- 21052916535. 3
- 21052916536. 4

Question Number : 84 Question Id : 2105294175 Question Type : MCQ Option Shuffling : No Display Question Number : Yes Is Question Mandatory : No Single Line Question Option : No Option Orientation : Vertical

Correct Marks : 2 Wrong Marks : 0

जोहन गलतुंग के अनुसार सकारात्मक शांति (पॉजिटिव पीस) है -

- 1. सांस्कृतिक हिंसा का अभाव
- 2. संरचित (स्ट्रक्चर्ड) हिंसा का अभाव
- 3. प्रत्यक्ष हिंसा का अभाव
- 4. प्रकृति के हिंसा का अभाव

Options :

- 21052916533. 1
- 21052916534. 2
- 21052916535. 3
- 21052916536. 4

Question Number : 85 Question Id : 2105294176 Question Type : MCQ Option Shuffling : No Display Question Number : Yes Is Question Mandatory : No Single Line Question Option : No Option Orientation : Vertical

Correct Marks : 2 Wrong Marks : 0

Article 371 A is applicable to the State of

- 1. Nagaland
- 2. Manipur
- 3. Assam
- 4. Tripura

Options :

21052916537. 1
21052916538. 2
21052916539. 3
21052916540. 4

Question Number : 85 Question Id : 2105294176 Question Type : MCQ Option Shuffling : No Display Question Number : Yes Is Question Mandatory : No Single Line Question Option : No Option Orientation : Vertical

Correct Marks : 2 Wrong Marks : 0

अनुच्छेद 371 क किस राज्य पर लागू है ?

1. नागालैण्ड
2. मणिपुर
3. असम
4. त्रिपुरा

Options :

21052916537. 1
21052916538. 2
21052916539. 3
21052916540. 4

Question Number : 86 Question Id : 2105294177 Question Type : MCQ Option Shuffling : No Display Question Number : Yes Is Question Mandatory : No Single Line Question Option : No Option Orientation : Vertical

Correct Marks : 2 Wrong Marks : 0

Under the 'Make in India Programme', the Government of India has opened the defence sector for private investment and the cap for such investment has been increased to

1. 26 per cent
2. 49 per cent
3. 100 per cent
4. 74 per cent

Options :

21052916541. 1

21052916542. 2
21052916543. 3
21052916544. 4

Question Number : 86 Question Id : 2105294177 Question Type : MCQ Option Shuffling : No Display Question Number : Yes Is Question Mandatory : No Single Line Question Option : No Option Orientation : Vertical

Correct Marks : 2 Wrong Marks : 0

भारत सरकार ने 'मेक इन इंडिया' प्रोग्राम के अंतर्गत रक्षा क्षेत्र को निजी निवेश के लिए खोल दिया है एवं ऐसे निवेश की उच्चतम सीमा बढ़ाकर कितनी की गई है ?

1. 26 प्रतिशत
2. 49 प्रतिशत
3. शत प्रतिशत
4. 74 प्रतिशत

Options :

21052916541. 1
21052916542. 2
21052916543. 3
21052916544. 4

Question Number : 87 Question Id : 2105294178 Question Type : MCQ Option Shuffling : No Display Question Number : Yes Is Question Mandatory : No Single Line Question Option : No Option Orientation : Vertical

Correct Marks : 2 Wrong Marks : 0

What is the name of the 200 km strike range tactical ballistic missile being developed by DRDO?

1. Pranash
2. Prahar
3. Pratishodh
4. Prashant

Options :

21052916545. 1
21052916546. 2
21052916547. 3
21052916548. 4

Question Number : 87 Question Id : 2105294178 Question Type : MCQ Option Shuffling : No Display Question Number : Yes Is Question Mandatory : No Single Line Question Option : No Option Orientation : Vertical

Correct Marks : 2 Wrong Marks : 0

डी आर डी ओ द्वारा विकसित की जा रही 200 किमी मारक क्षमता वाली टैक्टिकल बैलिस्टिक मिसाइल का नाम क्या है ?

1. प्रनाश
2. प्रहार
3. प्रतिशोध
4. प्रशांत

Options :

21052916545. 1
21052916546. 2
21052916547. 3
21052916548. 4

Question Number : 88 Question Id : 2105294179 Question Type : MCQ Option Shuffling : No Display Question Number : Yes Is Question Mandatory : No Single Line Question Option : No Option Orientation : Vertical

Correct Marks : 2 Wrong Marks : 0

Operation Triveni deals with

1. Creating a wedge between the local people and Naxalites
2. Cutting the logistics and supply lines of persons indulging in Maoist activities
3. Logistics support to paramilitary forces engaged in controlling left wing extremism
4. Bringing awareness amongst the people

Options :

21052916549. 1

21052916550. 2
21052916551. 3
21052916552. 4

Question Number : 88 Question Id : 2105294179 Question Type : MCQ Option Shuffling : No Display Question Number : Yes Is Question Mandatory : No Single Line Question Option : No Option Orientation : Vertical Correct Marks : 2 Wrong Marks : 0

आपरेशन त्रिवेणी का संबंध है -

1. स्थानीय लोगों और नक्सलियों के बीच खाई पैदा करना
2. माओवादी गतिविधियों में लिप्त व्यक्तियों के संभार तंत्र और आपूर्ति व्यवस्था को काट देना
3. वामपंथी चरमपंथ को नियंत्रित करने वाले अर्द्ध सैनिक बलों को संभार तंत्र की सहायता देना
4. लोगों के बीच जागरूकता लाना

Options :

21052916549. 1
21052916550. 2
21052916551. 3
21052916552. 4

Question Number : 89 Question Id : 2105294180 Question Type : MCQ Option Shuffling : No Display Question Number : Yes Is Question Mandatory : No Single Line Question Option : No Option Orientation : Vertical Correct Marks : 2 Wrong Marks : 0

The theme of the 45th G-7 Summit is

1. Fighting for Rohingyas
2. Fighting Injustice
3. Fight for Peace
4. Fighting Inequality

Options :

21052916553. 1
21052916554. 2
21052916555. 3

21052916556. 4

Question Number : 89 Question Id : 2105294180 Question Type : MCQ Option Shuffling : No Display Question Number : Yes Is Question Mandatory : No Single Line Question Option : No Option Orientation : Vertical

Correct Marks : 2 Wrong Marks : 0

45 वें जी-7 शिखर वार्ता का उद्देश्य है -

1. रोहिंग्या के लिए संघर्ष करना
2. अन्याय के विरुद्ध संघर्ष करना
3. शांति के लिए संघर्ष करना
4. असमानता के विरुद्ध संघर्ष करना

Options :

- 21052916553. 1
- 21052916554. 2
- 21052916555. 3
- 21052916556. 4

Question Number : 90 Question Id : 2105294181 Question Type : MCQ Option Shuffling : No Display Question Number : Yes Is Question Mandatory : No Single Line Question Option : No Option Orientation : Vertical

Correct Marks : 2 Wrong Marks : 0

Biological Weapons Convention was signed in the year

1. 1968
2. 1990
3. 1972
4. 1996

Options :

- 21052916557. 1
- 21052916558. 2
- 21052916559. 3
- 21052916560. 4

Question Number : 90 Question Id : 2105294181 Question Type : MCQ Option Shuffling : No Display Question Number : Yes Is Question Mandatory : No Single Line Question Option : No Option Orientation : Vertical

Correct Marks : 2 Wrong Marks : 0

जैविक - हथियार अभिसमय (कनवेंशन) पर हस्ताक्षर किस वर्ष में हुआ था ?

1. 1968
2. 1990
3. 1972
4. 1996

Options :

21052916557. 1

21052916558. 2

21052916559. 3

21052916560. 4

Question Number : 91 Question Id : 2105294182 Question Type : MCQ Option Shuffling : No Display Question Number : Yes Is Question Mandatory : No Single Line Question Option : No Option Orientation : Vertical

Correct Marks : 2 Wrong Marks : 0



What is the Asia Pacific Group?

- A. A regional association of ASEAN countries against nuclear proliferation
- B. A regional body for the prevention of money laundering and terror financing
- C. A regional association of Asian countries for the conservation of eco-system
- D. Its headquarters is in Australia

Choose the **correct** answer from the options given below:

- 1. A and B only
- 2. C and D only
- 3. A and C only
- 4. B and D only

Options :

- 21052916561. 1
- 21052916562. 2
- 21052916563. 3
- 21052916564. 4

Question Number : 91 Question Id : 2105294182 Question Type : MCQ Option Shuffling : No Display Question Number : Yes Is Question Mandatory : No Single Line Question Option : No Option Orientation : Vertical Correct Marks : 2 Wrong Marks : 0

एशिया - प्रशांत समूह क्या है ?

- A. परमाणु प्रसार के विरुद्ध आसियान देशों का एक क्षेत्रीय संघ।
- B. धनशोधन एवं आतंकवाद वित्तपोषण को रोकने हेतु एक क्षेत्रीय निकाय।
- C. पारि - तंत्र के संरक्षण हेतु एशियाई देशों का एक क्षेत्रीय संगठन।
- D. इसका मुख्यालय आस्ट्रेलिया में है।

नीचे दिए गए विकल्पों में से सही उत्तर चुनिए :

- 1. केवल A, B
- 2. केवल C, D
- 3. केवल A, C
- 4. केवल B, D

Options :

- 21052916561. 1
- 21052916562. 2
- 21052916563. 3
- 21052916564. 4

Question Number : 92 Question Id : 2105294183 Question Type : MCQ Option Shuffling : No Display Question Number : Yes Is Question Mandatory : No Single Line Question Option : No Option Orientation : Vertical Correct Marks : 2 Wrong Marks : 0

Who has developed new generation wargaming software for the Indian Navy?

- 1. Space X
- 2. NASA
- 3. ISRO
- 4. DRDO

Options :

- 21052916565. 1

21052916566. 2

21052916567. 3

21052916568. 4

Question Number : 92 Question Id : 2105294183 Question Type : MCQ Option Shuffling : No Display Question Number : Yes Is Question Mandatory : No Single Line Question Option : No Option Orientation : Vertical

Correct Marks : 2 Wrong Marks : 0

भारतीय नौसेना के लिए न्यू जेनरेशन वारगेमिंग सॉफ्टवेयर किसने तैयार किया है ?

A. स्पेस X

B. नासा

C. इसरो

D. डी आर डी ओ

नीचे दिए गए विकल्पों में से सर्वाधिक उपयुक्त उत्तर चुनिए :

1. केवल C, D

2. केवल A, B

3. केवल D

4. केवल C

Options :

21052916565. 1

21052916566. 2

21052916567. 3

21052916568. 4



Question Number : 93 Question Id : 2105294184 Question Type : MCQ Option Shuffling : No Display Question Number : Yes Is Question Mandatory : No Single Line Question Option : No Option Orientation : Vertical

Correct Marks : 2 Wrong Marks : 0

The IAF recently inducted Apache - AH 64E helicopters. Identify its features

- A. It is the most advanced multi-role heavy attack helicopter in the world
- B. Its is a joint venture of India and US
- C. Its cockpit is bulletproof
- D. It is an all-weather capable and has high survivability against battle damage

Choose the **correct** answer from the options given below

- 1. A, B and C only
- 2. A, B and D only
- 3. A, B, C and D only
- 4. A, C and D only

Options :

- 21052916569. 1
- 21052916570. 2
- 21052916571. 3
- 21052916572. 4

Question Number : 93 Question Id : 2105294184 Question Type : MCQ Option Shuffling : No Display Question Number : Yes Is Question Mandatory : No Single Line Question Option : No Option Orientation : Vertical Correct Marks : 2 Wrong Marks : 0

भारतीय वायु सेना ने हाल ही में अपने दस्ते में अपाचे - ए एच 64 ई हेलीकॉप्टर को शामिल किया है। इसके विशेषता की पहचान कीजिए :

- A. यह दुनिया का सबसे उन्नत बहुभूमिका वाला भारी हमले हेतु दक्ष हेलीकॉप्टर है।
- B. यह भारत और संयुक्त राज्य अमरीका का संयुक्त उपक्रम है।
- C. इसका कॉकपिट बुलेटप्रूफ होता है।
- D. यह बारह मासी योग्यता से युक्त होता है और युद्ध में क्षतिग्रस्त होने पर इसके बचे रहने की संभावना बहुत अधिक होती है।

नीचे दिए गए विकल्पों में से सही उत्तर चुनिए :

- 1. केवल A, B, C
- 2. केवल A, B, D
- 3. A, B, C, D
- 4. केवल A, C, D

Options :

- 21052916569. 1
- 21052916570. 2
- 21052916571. 3
- 21052916572. 4

Question Number : 94 Question Id : 2105294185 Question Type : MCQ Option Shuffling : No Display Question Number : Yes Is Question Mandatory : No Single Line Question Option : No Option Orientation : Vertical Correct Marks : 2 Wrong Marks : 0

Identify the two British warships that were sunk by Japanese planes during World War II

A. Prince of Wales

B. Yamato

C. Harrier

D. Repulse

Choose the **correct** answer from the options given below

1. A and B only
2. C and D only
3. A and D only
4. A and C only

Options :

21052916573. 1

21052916574. 2

21052916575. 3

21052916576. 4

Question Number : 94 Question Id : 2105294185 Question Type : MCQ Option Shuffling : No Display Question Number : Yes Is

Question Mandatory : No Single Line Question Option : No Option Orientation : Vertical

Correct Marks : 2 Wrong Marks : 0

विश्व युद्ध II के दौरान, जापान के विमानों ने दो ब्रिटिश युद्धपोत डुबो दिए। उनकी पहचान कीजिए :

- A. प्रिंस ऑफ वेल्स
- B. यामाटो
- C. हैरियर
- D. रिपल्स

नीचे दिए गए विकल्पों में से सही उत्तर चुनिए :

- 1. केवल A, B
- 2. केवल C, D
- 3. केवल A, D
- 4. केवल A, C

Options :

- 21052916573. 1
- 21052916574. 2
- 21052916575. 3
- 21052916576. 4

Question Number : 95 Question Id : 2105294186 Question Type : MCQ Option Shuffling : No Display Question Number : Yes Is Question Mandatory : No Single Line Question Option : No Option Orientation : Vertical Correct Marks : 2 Wrong Marks : 0

The concept of 'Monadic Democratic Peace' refers to :

- A. The democracies are more peaceful in their relations with all other states in the system
- B. The democracies are more peaceful in their relations with other democracies
- C. The more democracies there are in a region or the international system, the more peaceful the region or international system will be
- D. There is not any significant relationship between democracy and peace

Choose the **correct** answer from the options given below

- 1. D only
- 2. C only
- 3. A only
- 4. B only

Options :

- 21052916577. 1
- 21052916578. 2
- 21052916579. 3
- 21052916580. 4

Question Number : 95 Question Id : 2105294186 Question Type : MCQ Option Shuffling : No Display Question Number : Yes Is Question Mandatory : No Single Line Question Option : No Option Orientation : Vertical Correct Marks : 2 Wrong Marks : 0

'मोनाडिक डेमोक्रेटिक पीस' की अवधारणा का संदर्भ है :

- A. लोकतांत्रिक राष्ट्र अपनी व्यवस्था में अन्य दूसरे राष्ट्रों के साथ अपने संबंधों में ज्यादा शांतिपूर्ण स्थिति में होते हैं।
- B. लोकतांत्रिक देश अपने संबंधों में अन्य लोकतंत्रों के साथ ज्यादा शांतिपूर्ण स्थिति में होते हैं।
- C. किसी क्षेत्र अथवा अंतर्राष्ट्रीय व्यवस्था में ज्यादा लोकतंत्र होने से वह क्षेत्र अथवा वह अंतर्राष्ट्रीय तंत्र ज्यादा शांतिपूर्ण स्थिति में होगा।
- D. लोकतंत्र एवं शांति के मध्य कोई उल्लेखनीय संबंध नहीं होता।

नीचे दिए गए विकल्पों में से सही उत्तर चुनिए :

- 1. केवल D
- 2. केवल C
- 3. केवल A
- 4. केवल B

Options :

- 21052916577. 1
- 21052916578. 2
- 21052916579. 3
- 21052916580. 4

Question Number : 96 Question Id : 2105294187 Question Type : MCQ Option Shuffling : No Display Question Number : Yes Is Question Mandatory : No Single Line Question Option : No Option Orientation : Vertical Correct Marks : 2 Wrong Marks : 0

Which of the following statements are correct?

- A. Geopolitics examines, the political, economic and strategic significances of geography.
- B. A T Mahan in his book *The Influence of Seapower Upon History* describes sea power is necessary to facilitate trade and peaceful commerce.
- C. The doctrine of geopolitics gained attention largely through the work of H. Mackinder in England.

Choose the **correct** answer from the options given below

- 1. A and C only
- 2. A and B only
- 3. B and C only
- 4. A, B and C

Options :

- 21052916581. 1
- 21052916582. 2
- 21052916583. 3
- 21052916584. 4

Question Number : 96 Question Id : 2105294187 Question Type : MCQ Option Shuffling : No Display Question Number : Yes Is Question Mandatory : No Single Line Question Option : No Option Orientation : Vertical Correct Marks : 2 Wrong Marks : 0

निम्नलिखित वाक्यों को पढ़कर उत्तर दीजिए :

- A. भू - राजनीति भूगोल के राजनैतिक आर्थिक एवं सामरिक महत्त्व की समीक्षा करता है।
- B. ए टी महान ने अपनी किताब 'द इन्फ्लूएस ऑफ सी पॉवर अपॉन हिस्ट्री' में यह वर्णन किया है कि व्यापार एवं शांतिपूर्ण वाणिज्य को सुचारु बनाने हेतु समुद्री ताकत होना आवश्यक है।
- C. भू - राजनीति के सिद्धांत ने मुख्यतः इंगलैण्ड के एच. मैकाइण्डर के कार्य से सबका ध्यान खींचा।

नीचे दिए गए विकल्पों में से सर्वाधिक उपयुक्त उत्तर चुनिए :

1. केवल A, C
2. केवल A, B
3. केवल B, C
4. A, B, C

Options :

21052916581. 1
21052916582. 2
21052916583. 3
21052916584. 4

Question Number : 97 Question Id : 2105294188 Question Type : MCQ Option Shuffling : No Display Question Number : Yes Is Question Mandatory : No Single Line Question Option : No Option Orientation : Vertical Correct Marks : 2 Wrong Marks : 0

Which of the following countries share boundaries with the Persian Gulf?

- A. Iran
- B. Saudi Arabia
- C. Syria
- D. Kuwait
- E. Ethiopia

Choose the **correct** answer from the options given below

1. A, C and E only
2. B, C and D only
3. B, C and E only
4. A, B and D only

Options :

- 21052916585. 1
- 21052916586. 2
- 21052916587. 3
- 21052916588. 4

Question Number : 97 Question Id : 2105294188 Question Type : MCQ Option Shuffling : No Display Question Number : Yes Is Question Mandatory : No Single Line Question Option : No Option Orientation : Vertical Correct Marks : 2 Wrong Marks : 0

निम्नलिखित में से किन देशों की सीमाएं फारस की खाड़ी से लगती हैं ?

- A. ईरान
- B. सउदी अरब
- C. सीरिया
- D. कुवैत
- E. इथोपिया

नीचे दिए गए विकल्पों में से सही उत्तर चुनिए :

1. केवल A, B, E
2. केवल B, C, D
3. केवल B, C, E
4. केवल A, B, D

Options :

- 21052916585. 1
- 21052916586. 2
- 21052916587. 3
- 21052916588. 4

Question Number : 98 Question Id : 2105294189 Question Type : MCQ Option Shuffling : No Display Question Number : Yes Is Question Mandatory : No Single Line Question Option : No Option Orientation : Vertical Correct Marks : 2 Wrong Marks : 0

Which of the following are security issues?

- A. Coronavirus is a health security issue
- B. Jungle fire is an environmental security issue
- C. Governance is a political security issue
- D. Drug trafficking is an economic security issue

Choose the **correct** answer from the options given below

- 1. A, C and D only
- 2. B, C and D only
- 3. A, B, C and D
- 4. A, B and C only

Options :

- 21052916589. 1
- 21052916590. 2
- 21052916591. 3
- 21052916592. 4

Question Number : 98 Question Id : 2105294189 Question Type : MCQ Option Shuffling : No Display Question Number : Yes Is Question Mandatory : No Single Line Question Option : No Option Orientation : Vertical Correct Marks : 2 Wrong Marks : 0

सुरक्षा संबंधी मुद्दों की पहचान कीजिए :

- A. कोरोनावायरस एक स्वास्थ्य सुरक्षा का मुद्दा है।
- B. जंगल की आग एक पर्यावरण सुरक्षा का मुद्दा है।
- C. शासन एक राजनैतिक सुरक्षा का मुद्दा है।
- D. दवाओं की तस्करी एक आर्थिक सुरक्षा का मुद्दा है।

नीचे दिए गए विकल्पों में से सही उत्तर चुनिए :

- 1. केवल A, C, D
- 2. केवल B, C, D
- 3. A, B, C, D
- 4. केवल A, B, C

Options :

- 21052916589. 1
- 21052916590. 2
- 21052916591. 3
- 21052916592. 4

Question Number : 99 Question Id : 2105294190 Question Type : MCQ Option Shuffling : No Display Question Number : Yes Is Question Mandatory : No Single Line Question Option : No Option Orientation : Vertical Correct Marks : 2 Wrong Marks : 0

In Aerial Warfare, John Boyd's OODA Loop stands for

- A. Decide
- B. Act
- C. Observe
- D. Action
- E. Orient

Choose the **correct** answer from the options given below

1. C, E, A and D only
2. C, E, A and B only
3. E, C, A and D only
4. E, C, A and B only

Options :

- 21052916593. 1
- 21052916594. 2
- 21052916595. 3
- 21052916596. 4

Question Number : 99 Question Id : 2105294190 Question Type : MCQ Option Shuffling : No Display Question Number : Yes Is Question Mandatory : No Single Line Question Option : No Option Orientation : Vertical Correct Marks : 2 Wrong Marks : 0

हवाई युद्ध स्थिति के संबंध में जॉन ब्यॉड के ओ ओ डी ए लूप का अर्थ है :

- A. निर्णय (डिसाइड)
- B. क्रिया (एक्ट)
- C. अवलोकन (आब्जर्व)
- D. कार्रवाई (एक्शन)
- E. बोध (ओरिएन्ट)

नीचे दिए गए विकल्पों में से सही उत्तर चुनिए :

1. केवल C, E, A, D
2. केवल C, E, A, B
3. केवल E, C, A, D
4. केवल E, C, A, B

Options :

- 21052916593. 1
- 21052916594. 2
- 21052916595. 3
- 21052916596. 4

Question Number : 100 Question Id : 2105294191 Question Type : MCQ Option Shuffling : No Display Question Number : Yes Is Question Mandatory : No Single Line Question Option : No Option Orientation : Vertical Correct Marks : 2 Wrong Marks : 0

Identify the models of the international system developed by Morton Kaplan in Systems Theory.

- A. Balance of Power System
- B. The Universal International System
- C. Collective security system
- D. The veto system

Choose the **correct** answer from the options given below

1. A, B and D only
2. A, B and C only
3. A, C and D only
4. B, C and D only

Options :

- 21052916597. 1
- 21052916598. 2
- 21052916599. 3
- 21052916600. 4

Question Number : 100 Question Id : 2105294191 Question Type : MCQ Option Shuffling : No Display Question Number : Yes Is Question Mandatory : No Single Line Question Option : No Option Orientation : Vertical Correct Marks : 2 Wrong Marks : 0

मोर्टन काप्लां द्वारा सिस्टम्स थियरी में विकसित किए गए अंतर्राष्ट्रीय व्यवस्था के मॉडलों की पहचान कीजिए :

- A. शक्ति-संतुलन तंत्र
- B. सार्वभौमिक अंतर्राष्ट्रीय तंत्र
- C. सामूहिक सुरक्षा तंत्र
- D. वीटो तंत्र

नीचे दिए गए विकल्पों में से सही उत्तर चुनिए :

- 1. केवल A, B, D
- 2. केवल A, B, C
- 3. केवल A, C, D
- 4. केवल B, C, D

Options :

- 21052916597. 1
- 21052916598. 2
- 21052916599. 3
- 21052916600. 4

Question Number : 101 Question Id : 2105294192 Question Type : MCQ Option Shuffling : No Display Question Number : Yes Is Question Mandatory : No Single Line Question Option : No Option Orientation : Vertical Correct Marks : 2 Wrong Marks : 0

Identify the tools to secure national interests

- A. Balance of Power
- B. Diplomatic decisions
- C. Collective security
- D. The use of force

Choose the **correct** answer from the options given below

- 1. A, B and C only
- 2. A, C and D only
- 3. B, C and D only
- 4. A, B, C and D

Options :

- 21052916601. 1
- 21052916602. 2
- 21052916603. 3
- 21052916604. 4

Question Number : 101 Question Id : 2105294192 Question Type : MCQ Option Shuffling : No Display Question Number : Yes Is Question Mandatory : No Single Line Question Option : No Option Orientation : Vertical Correct Marks : 2 Wrong Marks : 0

राष्ट्रीय हितों को सुरक्षित करने वाले साधनों की पहचान करें :

- A. शक्ति संतुलन
- B. कूटनीतिक निर्णय
- C. सामूहिक सुरक्षा
- D. बल का प्रयोग

नीचे दिए गए विकल्पों में से सही उत्तर चुनिए :

- 1. केवल A, B, C
- 2. केवल A, C, D
- 3. केवल B, C, D
- 4. A, B, C, D

Options :

- 21052916601. 1
- 21052916602. 2
- 21052916603. 3
- 21052916604. 4

Question Number : 102 Question Id : 2105294193 Question Type : MCQ Option Shuffling : No Display Question Number : Yes Is Question Mandatory : No Single Line Question Option : No Option Orientation : Vertical Correct Marks : 2 Wrong Marks : 0

Identify the pacific approaches to resolve conflicts in International Relations.

- A. Dialogue and diplomacy
- B. Pacific blockade
- C. Mediation
- D. Good offices of the U N

Choose the **correct** answer from the options given below

- 1. A, C and D only
- 2. A, B and C only
- 3. B, C and D only
- 4. A, B and D only

Options :

- 21052916605. 1
- 21052916606. 2
- 21052916607. 3
- 21052916608. 4

Question Number : 102 Question Id : 2105294193 Question Type : MCQ Option Shuffling : No Display Question Number : Yes Is Question Mandatory : No Single Line Question Option : No Option Orientation : Vertical Correct Marks : 2 Wrong Marks : 0

अंतर्राष्ट्रीय संबंधों में टकराव समाप्त करने के लिए शांतिमूलक उपागम की पहचान करें :

- A. वार्ता और कूटनीति
- B. शांतिमूलक अवरोध
- C. मध्यस्थता
- D. संयुक्त राष्ट्र की सदाशयता

नीचे दिए गए विकल्पों में से सही उत्तर चुनिए :

- 1. केवल A, C, D
- 2. केवल A, B, C
- 3. केवल B, C, D
- 4. केवल A, B, D

Options :

- 21052916605. 1
- 21052916606. 2
- 21052916607. 3
- 21052916608. 4

Question Number : 103 Question Id : 2105294194 Question Type : MCQ Option Shuffling : No Display Question Number : Yes Is Question Mandatory : No Single Line Question Option : No Option Orientation : Vertical Correct Marks : 2 Wrong Marks : 0

Identify the prominent ethnic groups in Afghanistan

- A. Tajiks
- B. Pashtuns
- C. Hazaras
- D. Kurd

Choose the **correct** answer from the options given below

1. A, C and D only
2. B, C and D only
3. A, B and C only
4. A, B, C and D only

Options :

- 21052916609. 1
- 21052916610. 2
- 21052916611. 3
- 21052916612. 4

Question Number : 103 Question Id : 2105294194 Question Type : MCQ Option Shuffling : No Display Question Number : Yes Is Question Mandatory : No Single Line Question Option : No Option Orientation : Vertical Correct Marks : 2 Wrong Marks : 0

अफगानिस्तान में प्रमुख नृजातीय समूहों की पहचान करें :

- A. ताजिक
- B. पश्तून
- C. हज़ारा
- D. कुर्द

नीचे दिए गए विकल्पों में से सही उत्तर चुनिए :

1. केवल A, C, D
2. केवल B, C, D
3. केवल A, B, C
4. A, B, C, D

Options :

- 21052916609. 1
- 21052916610. 2
- 21052916611. 3
- 21052916612. 4

Question Number : 104 Question Id : 2105294195 Question Type : MCQ Option Shuffling : No Display Question Number : Yes Is Question Mandatory : No Single Line Question Option : No Option Orientation : Vertical Correct Marks : 2 Wrong Marks : 0

Identify the ship(s) which participated in the naval exercise 'SIMBEX-19'

- A. INS Vikrant
- B. INS Kolkata
- C. INS Arihant
- D. INS Shakti

Choose the **correct** answer from the options given below

- 1. A and D only
- 2. A, B and D only
- 3. B, C and D only
- 4. B and D only

Options :

- 21052916613. 1
- 21052916614. 2
- 21052916615. 3
- 21052916616. 4

Question Number : 104 Question Id : 2105294195 Question Type : MCQ Option Shuffling : No Display Question Number : Yes Is Question Mandatory : No Single Line Question Option : No Option Orientation : Vertical Correct Marks : 2 Wrong Marks : 0

नौसेना अभ्यास 'सिम्बेक्स - 19' में भाग लेने वाले पोतों की पहचान करें :

- A. आई एन एस विक्रांत
- B. आई एन एस कोलकाता
- C. आई एन एस अरिहंत
- D. आई एन एस शक्ति

नीचे दिए गए विकल्पों में से सही उत्तर चुनिए :

- 1. केवल A, D
- 2. केवल A, B, D
- 3. केवल B, C, D
- 4. केवल B, D

Options :

- 21052916613. 1
- 21052916614. 2
- 21052916615. 3
- 21052916616. 4

Question Number : 105 Question Id : 2105294196 Question Type : MCQ Option Shuffling : No Display Question Number : Yes Is Question Mandatory : No Single Line Question Option : No Option Orientation : Vertical Correct Marks : 2 Wrong Marks : 0

The Systems Approach

- A. is regarded as a helpful approach to the study of International Politics/ relations.
- B. was introduced during World War I
- C. can be used for both macroscopic as well as microscopic studies of regional sub-system which forms part of International system.
- D. studies International Relations as a system of behaviour of International actors

Choose the **correct** answer from the options given below

- 1. A, B and C only
- 2. B, C and D only
- 3. A, C and D only
- 4. A, B and D only

Options :

- 21052916617. 1
- 21052916618. 2
- 21052916619. 3
- 21052916620. 4

Question Number : 105 Question Id : 2105294196 Question Type : MCQ Option Shuffling : No Display Question Number : Yes Is Question Mandatory : No Single Line Question Option : No Option Orientation : Vertical Correct Marks : 2 Wrong Marks : 0

प्रणाली उपागम -

- A. अंतर्राष्ट्रीय राजनीति / संबंधों के अध्ययन के लिए एक सहयोगी उपागम माना जाता है।
- B. प्रथम विश्व युद्ध के दौरान शुरू किया गया था।
- C. क्षेत्रीय उप-प्रणाली के समष्टि और व्यष्टि दोनों अध्ययनों के लिए प्रयोग किया जा सकता है जो कि अंतर्राष्ट्रीय प्रणाली का हिस्सा बनता है।
- D. अन्तर्राष्ट्रीय पक्षों के व्यवहार की प्रणाली के रूप में अंतर्राष्ट्रीय संबंधों का अध्ययन करता है।

नीचे दिए गए विकल्पों में से सही उत्तर चुनिए :

1. केवल A, B, C
2. केवल B, C, D
3. केवल A, C, D
4. केवल A, B, D

Options :

21052916617. 1
21052916618. 2
21052916619. 3
21052916620. 4

Question Number : 106 Question Id : 2105294197 Question Type : MCQ Option Shuffling : No Display Question Number : Yes Is Question Mandatory : No Single Line Question Option : No Option Orientation : Vertical Correct Marks : 2 Wrong Marks : 0

Which of the following statements regarding 'Vyommitra' is/ are correct?

- A. It is a half humanoid developed by ISRO.
- B. It can converse with the astronauts and can also respond to their queries.
- C. It is a joint venture of India and Japan
- D. It is a lady robot related to India's unmanned space mission

Choose the **correct** answer from the options given below

- 1. A and D only
- 2. A, B and D only
- 3. B, C and D only
- 4. A, B, C and D

Options :

- 21052916621. 1
- 21052916622. 2
- 21052916623. 3
- 21052916624. 4

Question Number : 106 Question Id : 2105294197 Question Type : MCQ Option Shuffling : No Display Question Number : Yes Is Question Mandatory : No Single Line Question Option : No Option Orientation : Vertical Correct Marks : 2 Wrong Marks : 0

'व्योममित्र' के संबंध में निम्नलिखित में से कौन कौन से कथन सही हैं ?

- A. यह इसरो द्वारा विकसित एक अर्द्धमानवाभ है।
- B. यह अंतरिक्ष यात्रियों के साथ बातचीत कर सकने और उनके सवालों के उत्तर भी दे सकने में समर्थ है।
- C. यह भारत - जापान का संयुक्त उपक्रम है।
- D. यह भारत के मानवरहित अंतरिक्ष मिशन से संबंधित महिला रोबोट है।

नीचे दिए गए विकल्पों में से सही उत्तर चुनिए :

- 1. केवल A, C, D
- 2. केवल A, B, D
- 3. केवल B, C, D
- 4. A, B, C, D

Options :

- 21052916621. 1
- 21052916622. 2
- 21052916623. 3
- 21052916624. 4

Question Number : 107 Question Id : 2105294198 Question Type : MCQ Option Shuffling : No Display Question Number : Yes Is Question Mandatory : No Single Line Question Option : No Option Orientation : Vertical Correct Marks : 2 Wrong Marks : 0

The wargaming software inducted by the Indian Navy in 2019 has which of the following features?

- A. This software is developed by IIT, Mumbai
- B. Its aims are to meet the contemporary operational and tactical level wargaming requirement of the Indian navy
- C. It is developed by DRDO's lab in collaboration with Vishakhapatnam based Maritime Warfare Centre
- D. It can also be used by the Indian Air force

Choose the **correct** answer from the options given below:

- 1. B, C and D only
- 2. B and C only
- 3. A, C and D only
- 4. A, B, C and D only

Options :

- 21052916625. 1
- 21052916626. 2
- 21052916627. 3
- 21052916628. 4



Question Number : 107 Question Id : 2105294198 Question Type : MCQ Option Shuffling : No Display Question Number : Yes Is Question Mandatory : No Single Line Question Option : No Option Orientation : Vertical Correct Marks : 2 Wrong Marks : 0

भारतीय नौसेना में इस्तेमाल हेतु 2019 में शुरू किए गए वार गेमिंग सॉफ्टवेयर में निम्नलिखित विशेषताएं हैं :

- A. सॉफ्टवेयर आई आई टी, मुंबई द्वारा तैयार किया गया है।
- B. इसका लक्ष्य भारतीय नौसेना के समकालिक परिचालन तथा रणनीतिक स्तर की वारगेमिंग जरूरतों को पूरा करना है।
- C. इसे डी आर डी ओ की प्रयोगशाला में विशाखापत्तनम स्थित समुद्री युद्धकला केंद्र के सहयोग से तैयार किया गया है।
- D. इसे भारतीय वायुसेना भी इस्तेमाल कर सकती है।

नीचे दिए गए विकल्पों में से सही उत्तर चुनिए :

- 1. केवल B, C और D
- 2. केवल B और C
- 3. केवल A, C और D
- 4. केवल A, B, C और D

Options :

- 21052916625. 1
- 21052916626. 2
- 21052916627. 3
- 21052916628. 4

Question Number : 108 Question Id : 2105294199 Question Type : MCQ Option Shuffling : No Display Question Number : Yes Is Question Mandatory : No Single Line Question Option : No Option Orientation : Vertical Correct Marks : 2 Wrong Marks : 0

Identify the rivers which do not respect the political borders laid down by men and flow freely from one state to another

- A. The Amazon
- B. The Rio Grande
- C. The Nile
- D. The Brahmaputra

Choose the **correct** answer from the options given below

- 1. A and C only
- 2. B and D only
- 3. A, C and D only
- 4. B, C and D only

Options :

- 21052916629. 1
- 21052916630. 2
- 21052916631. 3
- 21052916632. 4

Question Number : 108 Question Id : 2105294199 Question Type : MCQ Option Shuffling : No Display Question Number : Yes Is Question Mandatory : No Single Line Question Option : No Option Orientation : Vertical Correct Marks : 2 Wrong Marks : 0

उन नदियों की पहचान करें जो मनुष्यों द्वारा निर्धारित की गई राजनैतिक सीमाओं का सम्मान नहीं करती और एक राष्ट्र से दूसरे राष्ट्र में निर्बाध गति से बहती हैं :

- A. अमेज़ॉन नदी
- B. रिओ ग्रांड
- C. नील नदी
- D. ब्रह्मपुत्र नदी

नीचे दिए गए विकल्पों में से सही उत्तर चुनिए :

- 1. केवल A, C
- 2. केवल B, D
- 3. केवल A, C, D
- 4. केवल B, C, D

Options :

- 21052916629. 1
- 21052916630. 2
- 21052916631. 3
- 21052916632. 4

Question Number : 109 Question Id : 2105294200 Question Type : MCQ Option Shuffling : No Display Question Number : Yes Is Question Mandatory : No Single Line Question Option : No Option Orientation : Vertical Correct Marks : 2 Wrong Marks : 0

Identify The Millenium Development Goals of the United Nations Organisation.

- A. Eradicate extreme hunger and Poverty
- B. Check drug trafficking and money laundering
- C. Promote Gender Equality
- D. Control small arms proliferation

Choose the **most appropriate** answer from the options given below

- 1. A and C only
- 2. B, C and D only
- 3. B and D only
- 4. A, B and C only

Options :

- 21052916633. 1
- 21052916634. 2
- 21052916635. 3
- 21052916636. 4

Question Number : 109 Question Id : 2105294200 Question Type : MCQ Option Shuffling : No Display Question Number : Yes Is Question Mandatory : No Single Line Question Option : No Option Orientation : Vertical Correct Marks : 2 Wrong Marks : 0

संयुक्त राष्ट्र संगठन के सहस्राब्दि विकास लक्ष्य की पहचान कीजिए :

- A. अत्यंत भूख एवं गरीबी का उन्मूलन
- B. मादक दवाओं की तस्करी एवं धनशोधन पर रोक लगाना / अंकुश
- C. लैंगिक समानता का संवर्धन
- D. छोटे हथियारों के प्रसार पर नियंत्रण

नीचे दिए गए विकल्पों में से सही उत्तर चुनिए :

- 1. केवल A, C
- 2. केवल B, C, D
- 3. केवल B, D
- 4. केवल A, B, C

Options :

- 21052916633. 1
- 21052916634. 2
- 21052916635. 3
- 21052916636. 4

Question Number : 110 Question Id : 2105294201 Question Type : MCQ Option Shuffling : No Display Question Number : Yes Is Question Mandatory : No Single Line Question Option : No Option Orientation : Vertical Correct Marks : 2 Wrong Marks : 0

The Su 30 MK I of Indian Air Force

- A. is a twin-engine multi-role fighter
- B. can carry 8000 kg external armament
- C. has a maximum speed of 2500 km/hr
- D. has a maximum speed of 2000 km/hr
- E. is a single-engine multi-role fighter

Choose the **most appropriate** answer from the options given below

1. A, B and C only
2. A, B and D only
3. E, B and C only
4. E, B and D only

Options :

- 21052916637. 1
- 21052916638. 2
- 21052916639. 3
- 21052916640. 4

Question Number : 110 Question Id : 2105294201 Question Type : MCQ Option Shuffling : No Display Question Number : Yes Is Question Mandatory : No Single Line Question Option : No Option Orientation : Vertical Correct Marks : 2 Wrong Marks : 0

भारतीय वायु सेना का SU 30 M K I है :

- A. दो इंजन वाला मल्टी रोल युद्धक विमान
- B. यह 8000 किलोग्राम वजन का बाहरी शस्त्र - सामग्री ढो सकता है।
- C. इसकी अधिकतम गति 2500 कि.मी./ प्रति घंटा है।
- D. इसकी अधिकतम गति 2000 कि.मी./ प्रति घंटा है।
- E. एक इंजन वाला मल्टीरोल युद्धक विमान

नीचे दिए गए विकल्पों में से सर्वाधिक उपयुक्त उत्तर चुनिए :

- 1. केवल A, B, C
- 2. केवल A, B, D
- 3. केवल E, B, C
- 4. केवल E, B, D

Options :

- 21052916637. 1
- 21052916638. 2
- 21052916639. 3
- 21052916640. 4

Question Number : 111 Question Id : 2105294202 Question Type : MCQ Option Shuffling : No Display Question Number : Yes Is Question Mandatory : No Single Line Question Option : No Option Orientation : Vertical Correct Marks : 2 Wrong Marks : 0

After the 1962 war of India - China, Henderson Brooks-Bhagat Committee was constituted to review

- A. Training
- B. Equipment
- C. System of command
- D. Defence pacts
- E. Military aid

Choose the **most appropriate** answer from the options given below

- 1. B, D and E only
- 2. C, D and E only
- 3. A, B and D only
- 4. A, B and C only

Options :

- 21052916641. 1
- 21052916642. 2
- 21052916643. 3
- 21052916644. 4



Question Number : 111 Question Id : 2105294202 Question Type : MCQ Option Shuffling : No Display Question Number : Yes Is Question Mandatory : No Single Line Question Option : No Option Orientation : Vertical Correct Marks : 2 Wrong Marks : 0

भारत - चीन के 1962 के युद्ध के पश्चात्, हेंडरसन ब्रुक्स - भगत समिति का गठन किस की समीक्षा हेतु किया गया था :

- A. प्रशिक्षण की समीक्षा हेतु
- B. उपकरण की समीक्षा हेतु
- C. कमान पद्धति की समीक्षा हेतु
- D. रक्षा सौदे की समीक्षा हेतु
- E. सैन्य सहायता की समीक्षा हेतु

नीचे दिए गए विकल्पों में से सर्वाधिक उपयुक्त उत्तर चुनिए :

- 1. केवल B, D, E
- 2. केवल C, D, E
- 3. केवल E, B, D
- 4. केवल A, B, C

Options :

- 21052916641. 1
- 21052916642. 2
- 21052916643. 3
- 21052916644. 4



Question Number : 112 Question Id : 2105294203 Question Type : MCQ Option Shuffling : No Display Question Number : Yes Is Question Mandatory : No Single Line Question Option : No Option Orientation : Vertical Correct Marks : 2 Wrong Marks : 0

Structural violence includes

- A. Apartheid
- B. Poverty
- C. Hunger
- D. Terrorism
- E. Riots

Choose the **correct** answer from the options given below

1. A, D and C only
2. A, B and C only
3. A, C and E only
4. B, D and E only

Options :

- 21052916645. 1
- 21052916646. 2
- 21052916647. 3
- 21052916648. 4

Question Number : 112 Question Id : 2105294203 Question Type : MCQ Option Shuffling : No Display Question Number : Yes Is Question Mandatory : No Single Line Question Option : No Option Orientation : Vertical Correct Marks : 2 Wrong Marks : 0

संरचनात्मक हिंसा में निम्नलिखित में से कौनसे सम्मिलित हैं :

- A. रंगभेद
- B. निर्धनता
- C. भूख
- D. आतंकवाद
- E. दंगे

नीचे दिए गए विकल्पों में से सही उत्तर चुनिए :

- 1. केवल A, D, C
- 2. केवल A, B, C
- 3. केवल A, C, E
- 4. केवल B, D, E

Options :

- 21052916645. 1
- 21052916646. 2
- 21052916647. 3
- 21052916648. 4

Question Number : 113 Question Id : 2105294204 Question Type : MCQ Option Shuffling : No Display Question Number : Yes Is Question Mandatory : No Single Line Question Option : No Option Orientation : Vertical Correct Marks : 2 Wrong Marks : 0

According to UNHRC, which of the following are in the list of top five countries from where the refugees originate?

- A. Afghanistan
- B. Bangladesh
- C. Sri Lanka
- D. Syria
- E. South Sudan

Choose the **correct** answer from the options given below

- 1. A, B and E only
- 2. A, B and C only
- 3. A, D and E only
- 4. B, C and D only

Options :

- 21052916649. 1
- 21052916650. 2
- 21052916651. 3
- 21052916652. 4



Question Number : 113 Question Id : 2105294204 Question Type : MCQ Option Shuffling : No Display Question Number : Yes Is Question Mandatory : No Single Line Question Option : No Option Orientation : Vertical Correct Marks : 2 Wrong Marks : 0

यू.एन.एच.आर.सी.के अनुसार निम्नलिखित में से कौन से देश शीर्ष पांच की सूची में हैं, जहां से शरणार्थी आते हैं :

- A. अफगानिस्तान
- B. बांग्लादेश
- C. श्रीलंका
- D. सीरिया
- E. दक्षिणी सूदान

नीचे दिए गए विकल्पों में से सही उत्तर चुनिए :

1. केवल A, B, E
2. केवल A, B, C
3. केवल A, D, E
4. केवल B, C, D

Options :

- 21052916649. 1
- 21052916650. 2
- 21052916651. 3
- 21052916652. 4

Question Number : 114 Question Id : 2105294205 Question Type : MCQ Option Shuffling : No Display Question Number : Yes Is Question Mandatory : No Single Line Question Option : No Option Orientation : Vertical Correct Marks : 2 Wrong Marks : 0

Who were architects of the Nuclear Strategy of 'Massive Retaliation'?

- A. John Foster Dulles
- B. Richard Nixon
- C. Dwight D. Eisenhower
- D. Henry Kissinger

Choose the **correct** answer from the options given below

- 1. A only
- 2. B and D only
- 3. A and C only
- 4. D only

Options :

- 21052916653. 1
- 21052916654. 2
- 21052916655. 3
- 21052916656. 4

Question Number : 114 Question Id : 2105294205 Question Type : MCQ Option Shuffling : No Display Question Number : Yes Is Question Mandatory : No Single Line Question Option : No Option Orientation : Vertical Correct Marks : 2 Wrong Marks : 0

निम्नलिखित में से कौन से 'बड़े पैमाने पर प्रतिकार' (मैसिव रिटालिएशन) की नाभिकीय रणनीति के निर्माता थे :

- A. जॉन फोस्टर डलस
- B. रिचर्ड निक्सन
- C. ड्वाइट डी. आइजनहावर
- D. हेनरी किसिंजर

नीचे दिए गए विकल्पों में से सही उत्तर चुनिए :

- 1. केवल A
- 2. केवल B और D
- 3. केवल A और C
- 4. केवल D

Options :

- 21052916653. 1
- 21052916654. 2
- 21052916655. 3
- 21052916656. 4

Question Number : 115 Question Id : 2105294206 Question Type : MCQ Option Shuffling : No Display Question Number : Yes Is Question Mandatory : No Single Line Question Option : No Option Orientation : Vertical Correct Marks : 2 Wrong Marks : 0

Biological theories of causes of war are based on the study of

- A. History
- B. Sociology
- C. Ethology
- D. Liberal analyses

Choose the **correct** answer from the options given below

- 1. A and B only
- 2. B only
- 3. B and D only
- 4. C only

Options :

- 21052916657. 1
- 21052916658. 2
- 21052916659. 3
- 21052916660. 4

Question Number : 115 Question Id : 2105294206 Question Type : MCQ Option Shuffling : No Display Question Number : Yes Is Question Mandatory : No Single Line Question Option : No Option Orientation : Vertical Correct Marks : 2 Wrong Marks : 0

युद्ध के कारणों के जैविक सिद्धांत निम्नलिखित में से किनके अध्ययन पर आधारित हैं :

- A. इतिहास
- B. समाजशास्त्र
- C. आचार शास्त्र (इथोलॉजी)
- D. उदारवादी विश्लेषण

नीचे दिए गए विकल्पों में से सही उत्तर चुनिए :

- 1. केवल A और B
- 2. केवल B
- 3. केवल B और D
- 4. केवल C

Options :

- 21052916657. 1
- 21052916658. 2
- 21052916659. 3
- 21052916660. 4

Question Number : 116 Question Id : 2105294207 Question Type : MCQ Option Shuffling : No Display Question Number : Yes Is Question Mandatory : No Single Line Question Option : No Option Orientation : Vertical Correct Marks : 2 Wrong Marks : 0

Match the following Theories given in the **List I** with their Proponents as given in the **List II**

List I	List II
(Theories)	(Proponents)
A. Game theory	I. Albert Einstein
B. Realist theory	II. John Von Neumann
C. Relativity theory	III. Sigmund Freud
D. Psychoanalysis	IV. Hans J. Morgenthau

Choose the **correct** answer from the options given below

1. A - III, B - I, C - IV, D - II
2. A - IV, B - II, C - I, D - III
3. A - II, B - IV, C - I, D - III
4. A - I, B - III, C - IV, D - II

Options :

- 21052916661. 1
- 21052916662. 2
- 21052916663. 3
- 21052916664. 4

Question Number : 116 Question Id : 2105294207 Question Type : MCQ Option Shuffling : No Display Question Number : Yes Is Question Mandatory : No Single Line Question Option : No Option Orientation : Vertical Correct Marks : 2 Wrong Marks : 0

नीचे दिए गए कूट का प्रयोग करते हुए सूची-I को सूची-II के साथ सुमेलित कीजिए :

सूची-I	सूची-II
सिद्धांत	प्रतिपादक
A. गेम थियोरी	I. अलबर्ट आइनस्टीन
B. रिपलिस्ट थियोरी	II. जॉन वान न्यूमैन
C. रिलेटिविटी थियोरी	III. सिगमैंड फ्रायड
D. साइकोएनलसिस	IV. हैन्स जे. मॉर्गेथाऊ

नीचे दिए गए विकल्पों में से सही उत्तर चुनिए :

1. A - III, B - I, C - IV, D - II
2. A - IV, B - II, C - I, D - III
3. A - II, B - IV, C - I, D - III
4. A - I, B - III, C - IV, D - II

Options :

21052916661. 1
21052916662. 2
21052916663. 3
21052916664. 4

Question Number : 117 Question Id : 2105294208 Question Type : MCQ Option Shuffling : No Display Question Number : Yes Is Question Mandatory : No Single Line Question Option : No Option Orientation : Vertical Correct Marks : 2 Wrong Marks : 0

Match **List I** with **List II**

List I	List II
(Operation)	(Personalities)
A. Operation Gibraltar	I. George W. Bush
B. Operation Blue Star	II. A.B. Vajpayee
C. Operation Vijay	III. Indira Gandhi
D. Operation Enduring Freedom	IV. Ayub Khan

Choose the **correct** answer from the options given below

1. A - IV, B - II, C - I, D - III
2. A - IV, B - III, C - II, D - I
3. A - I, B - IV, C - III, D - II
4. A - II, B - I, C - IV, D - III

Options :

21052916665. 1
21052916666. 2
21052916667. 3
21052916668. 4

Question Number : 117 Question Id : 2105294208 Question Type : MCQ Option Shuffling : No Display Question Number : Yes Is Question Mandatory : No Single Line Question Option : No Option Orientation : Vertical Correct Marks : 2 Wrong Marks : 0

सूची-I को सूची-II के साथ सुमेलित कीजिए :

सूची-I	सूची-II
आपरेशन	व्यक्ति
A. आपरेशन जिब्राल्टर	I. जॉर्ज डब्ल्यू बुश
B. आपरेशन ब्ल्यू स्टार	II. ए.बी. वाजपेयी
C. आपरेशन विजय	III. इंदिरा गांधी
D. आपरेशन इंड्यूरिंग फ्रीडम	IV. अयूब खाँ

नीचे दिए गए विकल्पों में से सही उत्तर चुनिए :

1. A - IV, B - II, C - I, D - III
2. A - IV, B - III, C - II, D - I
3. A - I, B - IV, C - III, D - II
4. A - II, B - I, C - IV, D - III

Options :

21052916665. 1
21052916666. 2
21052916667. 3
21052916668. 4

Question Number : 118 Question Id : 2105294209 Question Type : MCQ Option Shuffling : No Display Question Number : Yes Is Question Mandatory : No Single Line Question Option : No Option Orientation : Vertical Correct Marks : 2 Wrong Marks : 0

Match **List I** with **List II**

List I	List II
(Event)	(Country)
A. Tulip Revolution	I. Czechoslovakia
B. Rose Revolution	II. Georgia
C. Velvet Revolution	III. Kyrgystan
D. Orange Revolution	IV. Ukraine

Choose the **correct** answer from the options given below

1. A - I, B - II, C - III, D - IV
2. A - III, B - II, C - I, D - IV
3. A - IV, B - II, C - I, D - III
4. A - IV, B - III, C - II, D - I

Options :

- 21052916669. 1
- 21052916670. 2
- 21052916671. 3
- 21052916672. 4

Question Number : 118 Question Id : 2105294209 Question Type : MCQ Option Shuffling : No Display Question Number : Yes Is Question Mandatory : No Single Line Question Option : No Option Orientation : Vertical Correct Marks : 2 Wrong Marks : 0

सूची-I को सूची-II के साथ सुमेलित कीजिए :

सूची-I	सूची-II
धरना	देश
A. ट्यूलिप क्रांति	I. चेकोस्लोवाकिया
B. रोज़ क्रांति	II. जार्जिया
C. वेल्चेट क्रांति	III. किरगिस्तान
D. ओरेंज क्रांति	IV. यूक्रेन

नीचे दिए गए विकल्पों में से सही उत्तर चुनिए :

1. A - I, B - II, C - III, D - IV
2. A - III, B - II, C - I, D - IV
3. A - IV, B - II, C - I, D - III
4. A - IV, B - III, C - II, D - I

Options :

21052916669. 1
21052916670. 2
21052916671. 3
21052916672. 4

Question Number : 119 Question Id : 2105294210 Question Type : MCQ Option Shuffling : No Display Question Number : Yes Is Question Mandatory : No Single Line Question Option : No Option Orientation : Vertical Correct Marks : 2 Wrong Marks : 0

Match **List I** with **List II**

List I	List II
(Concept)	(Explanation)
A. Lebensraum	I. Island countries/continents
B. Autarky	II. Living space
C. Insular Crescent	III. Environmental causes of chaos
D. <i>The Coming Anarchy</i>	IV. Economic independence

Choose the **correct** answer from the options given below

1. A - IV, B - I, C - III, D - II
2. A - IV, B - II, C - I, D - III
3. A - III, B - IV, C - I, D - II
4. A - II, B - IV, C - I, D - III

Options :

21052916673. 1
21052916674. 2
21052916675. 3
21052916676. 4

Question Number : 119 Question Id : 2105294210 Question Type : MCQ Option Shuffling : No Display Question Number : Yes Is Question Mandatory : No Single Line Question Option : No Option Orientation : Vertical Correct Marks : 2 Wrong Marks : 0

सूची-I को सूची-II के साथ सुमेलित कीजिए :

सूची-I	सूची-II
अवधारणा	व्याख्या
A. लेबेन्स्रॉम	I. आइलैण्ड कंट्रीज / कंटीनेंट्स
B. अटार्की	II. लिविंग स्पेस
C. इंसुलर क्रेसेंट	III. अस्तव्यस्तता का पर्यावरणीय कारण
D. द कमिंग अर्नाकी	IV. आर्थिक निर्भरता

नीचे दिए गए विकल्पों में से सही उत्तर चुनिए :

1. A - IV, B - I, C - III, D - II
2. A - IV, B - II, C - I, D - III
3. A - III, B - IV, C - I, D - II
4. A - II, B - IV, C - I, D - III

Options :

21052916673. 1
21052916674. 2
21052916675. 3
21052916676. 4

Question Number : 120 Question Id : 2105294211 Question Type : MCQ Option Shuffling : No Display Question Number : Yes Is Question Mandatory : No Single Line Question Option : No Option Orientation : Vertical Correct Marks : 2 Wrong Marks : 0

Match **List I** with **List II**

List I	List II
(Exercises)	(Countries)
A. Maitree-2019	I. India and Maldives
B. Ekuverin-2019	II. India and Indonesia
C. IMNEX-2019	III. India and Thailand
D. Samudra Shakti-2019	IV. India and Myanmar

Choose the **correct** answer from the options given below

1. A - IV, B - III, C - II, D - I
2. A - I, B - II, C - IV, D - III
3. A - III, B - I, C - IV, D - II
4. A - III, B - I, C - II, D - IV

Options :

21052916677. 1
21052916678. 2
21052916679. 3
21052916680. 4

Question Number : 120 Question Id : 2105294211 Question Type : MCQ Option Shuffling : No Display Question Number : Yes Is Question Mandatory : No Single Line Question Option : No Option Orientation : Vertical Correct Marks : 2 Wrong Marks : 0

सूची-I को सूची-II के साथ सुमेलित कीजिए :

सूची-I	सूची-II
अभ्यास	देश
A. मैत्री - 2019	I. भारत और मालदीव
B. एकूवर्जिन - 2019	II. भारत और इंडोनेशिया
C. इमनेक्स - 2019	III. भारत और थाइलैण्ड
D. समुद्र शक्ति - 2019	IV. भारत और म्यानमार

नीचे दिए गए विकल्पों में से सही उत्तर चुनिए :

1. A - IV, B - III, C - II, D - I
2. A - I, B - II, C - IV, D - III
3. A - III, B - I, C - IV, D - II
4. A - III, B - I, C - II, D - IV

Options :

21052916677. 1
21052916678. 2
21052916679. 3
21052916680. 4

Question Number : 121 Question Id : 2105294212 Question Type : MCQ Option Shuffling : No Display Question Number : Yes Is Question Mandatory : No Single Line Question Option : No Option Orientation : Vertical Correct Marks : 2 Wrong Marks : 0

Match **List I** with **List II**

List I	List II
(Disaster)	(Year)
A. Australian Bush Fire	I. January 2020
B. Taal volcano Eruption, Philippines	II. December 2019
C. Typhoon Hagibis, Japan	III. June 2019
D. Whakhari/ White Island Eruption, New Zeland	IV. October 2019

Choose the **correct** answer from the options given below:

1. A - III, B - I, C - IV, D - II
2. A - III, B - I, C - II, D - IV
3. A - I, B - III, C - II, D - IV
4. A - IV, B - I, C - III, D - II

Options :

21052916681. 1
21052916682. 2
21052916683. 3
21052916684. 4

Question Number : 121 Question Id : 2105294212 Question Type : MCQ Option Shuffling : No Display Question Number : Yes Is Question Mandatory : No Single Line Question Option : No Option Orientation : Vertical Correct Marks : 2 Wrong Marks : 0

सूची-I को सूची-II के साथ सुमेलित कीजिए :

सूची-I	सूची-II
आपदा	वर्ष
A. आस्ट्रेलिया में जंगल में आग	I. जनवरी, 2020
B. ताल ज्वालामुखी में विस्फोट, फिलिपीन्स	II. दिसंबर, 2019
C. टाइफून हैजिबिस, जापान	III. जून, 2019
D. बखारी/ ह्वाइट आइलैंड विस्फोट, न्यूजीलैंड	IV. अक्टूबर, 2019

नीचे दिए गए विकल्पों में से सही उत्तर चुनिए :

1. A - III, B - I, C - IV, D - II
2. A - III, B - I, C - II, D - IV
3. A - I, B - III, C - II, D - IV
4. A - IV, B - I, C - III, D - II

Options :

21052916681. 1
21052916682. 2
21052916683. 3
21052916684. 4

Question Number : 122 Question Id : 2105294213 Question Type : MCQ Option Shuffling : No Display Question Number : Yes Is Question Mandatory : No Single Line Question Option : No Option Orientation : Vertical Correct Marks : 2 Wrong Marks : 0

Match **List I** with **List II**

List I	List II
(MISSILES)	(COUNTRY)
A. Raad- 500	I. Iran
B. Ra'ad-II	II. Russia
C. QRSAM	III. India
D. R-27	IV. Pakistan

Choose the **correct** answer from the options given below

1. A - I, B - IV, C - III, D - II
2. A - I, B - II, C - III, D - IV
3. A - IV, B - I, C - III, D - II
4. A - IV, B - III, C - II, D - I

Options :

21052916685. 1
21052916686. 2
21052916687. 3
21052916688. 4

Question Number : 122 Question Id : 2105294213 Question Type : MCQ Option Shuffling : No Display Question Number : Yes Is Question Mandatory : No Single Line Question Option : No Option Orientation : Vertical Correct Marks : 2 Wrong Marks : 0

सूची-I को सूची-II के साथ सुमेलित कीजिए :

सूची-I	सूची-II
मिसाइल	देश
A. राड - 500	I. ईरान
B. रॉड - दो	II. रूस
C. क्यू आर एस ए एम	III. भारत
D. आर - 27	IV. पाकिस्तान

नीचे दिए गए विकल्पों में से सही उत्तर चुनिए :

1. A - I, B - IV, C - III, D - II
2. A - I, B - II, C - III, D - IV
3. A - IV, B - I, C - III, D - II
4. A - IV, B - III, C - II, D - I

Options :

21052916685. 1
21052916686. 2
21052916687. 3
21052916688. 4

Question Number : 123 Question Id : 2105294214 Question Type : MCQ Option Shuffling : No Display Question Number : Yes Is Question Mandatory : No Single Line Question Option : No Option Orientation : Vertical Correct Marks : 2 Wrong Marks : 0

Match **List I** with **List II**

List I	List II
(Place)	(Country)
A. Wakhan Corridor	I. Tajikstan
B. Diamer-Basha Dam	II. Iran
C. Sistan Baluchistan	III. Pakistan
D. Gorno-Badakhshan	IV. Afghanistan

Choose the **correct** answer from the options given below:

1. A - I, B - II, C - III, D - IV
2. A - IV, B - III, C - II, D - I
3. A - IV, B - III, C - I, D - II
4. A - I, B - II, C - IV, D - III

Options :

21052916689. 1
21052916690. 2
21052916691. 3
21052916692. 4

Question Number : 123 Question Id : 2105294214 Question Type : MCQ Option Shuffling : No Display Question Number : Yes Is Question Mandatory : No Single Line Question Option : No Option Orientation : Vertical Correct Marks : 2 Wrong Marks : 0

सूची-I को सूची-II के साथ सुमेलित कीजिए :

सूची-I	सूची-II
स्थान	देश
A. वाखा कोरिडोर	I. तजाकिस्तान
B. डाइमर - भाशा डैम	II. ईरान
C. सिस्टन बलुचिस्तान	III. पाकिस्तान
D. गोर्नो बदाखशान	IV. अफगानिस्तान

नीचे दिए गए विकल्पों में से सही उत्तर चुनिए :

1. A - I, B - II, C - III, D - IV
2. A - IV, B - III, C - II, D - I
3. A - IV, B - III, C - I, D - II
4. A - I, B - II, C - IV, D - III

Options :

21052916689. 1
21052916690. 2
21052916691. 3
21052916692. 4

Question Number : 124 Question Id : 2105294215 Question Type : MCQ Option Shuffling : No Display Question Number : Yes Is Question Mandatory : No Single Line Question Option : No Option Orientation : Vertical Correct Marks : 2 Wrong Marks : 0

Match **List I** with **List II**

List I	List II
(Books)	(Author)
A. <i>India: The Most Dangerous Decades</i>	I. Stephen Cohen
B. <i>The Making of Indian Diplomacy: A Critique of Eurocentrism</i>	II. Shashi Tharoor
C. <i>India: Emerging Power</i>	III. Selig Harrison
D. <i>Pax Indica: India and the World of the Twenty-First Century</i>	IV. Deep K. Datta Ray

Choose the **correct** answer from the options given below:

1. A - I, B - II, C - III, D - IV
2. A - IV, B - III, C - II, D - I
3. A - III, B - IV, C - I, D - II
4. A - II, B - I, C - IV, D - III

Options :

21052916693. 1
21052916694. 2
21052916695. 3
21052916696. 4

Question Number : 124 Question Id : 2105294215 Question Type : MCQ Option Shuffling : No Display Question Number : Yes Is Question Mandatory : No Single Line Question Option : No Option Orientation : Vertical Correct Marks : 2 Wrong Marks : 0

सूची-I को सूची-II के साथ सुमेलित कीजिए :

सूची-I	सूची-II
पुस्तकें	लेखक
A. इंडिया - द मोस्ट डैजरस डिकेड	I. स्टेफेन कोहेन
B. द मेकिंग ऑफ इंडियन डिप्लोमेसी : ए क्रिटिक ऑफ यूरोसेंट्रिज्म	II. शशि थरूर
C. इंडिया : इमार्जिंग पॉवर	III. सेलिंग हैरिसन
D. पाक्स इंडिया : इंडिया एंड द वर्ल्ड ऑफ द 21 स्त सेंचुरी	IV. दीप के. दत्ता रे

नीचे दिए गए विकल्पों में से सही उत्तर चुनिए :

1. A - I, B - II, C - III, D - IV
2. A - IV, B - III, C - II, D - I
3. A - III, B - IV, C - I, D - II
4. A - II, B - I, C - IV, D - III

Options :

21052916693. 1
21052916694. 2
21052916695. 3
21052916696. 4



Question Number : 125 Question Id : 2105294216 Question Type : MCQ Option Shuffling : No Display Question Number : Yes Is Question Mandatory : No Single Line Question Option : No Option Orientation : Vertical Correct Marks : 2 Wrong Marks : 0

Match **List I** with **List II**

List I	List II
(Author)	(Theory)
A. Andre Beaufre	I. Importance of airpower
B. Alfred Mahan	II. Circle of States
C. General Giulio Doulet	III. Nuclear Deterrence
D. Kautilya	IV. Importance of sea power

Choose the **correct** answer from the options given below

1. A - II, B - III, C - IV, D - I
2. A - III, B - IV, C - I, D - II
3. A - IV, B - III, C - II, D - I
4. A - I, B - II, C - III, D - IV

Options :

- 21052916697. 1
- 21052916698. 2
- 21052916699. 3
- 21052916700. 4

Question Number : 125 Question Id : 2105294216 Question Type : MCQ Option Shuffling : No Display Question Number : Yes Is Question Mandatory : No Single Line Question Option : No Option Orientation : Vertical Correct Marks : 2 Wrong Marks : 0

सूची-I को सूची-II के साथ सुमेलित कीजिए :

सूची-I	सूची-II
लेखक	सिद्धांत
A. एंड्रू ब्युफे	I. इंपोर्टेंस ऑफ एयर पॉवर
B. एलफ्रेड महन	II. सर्किल ऑफ स्टेट्स
C. जेन जुलियो डूलेट	III. न्यूक्लियर डिटरेंस
D. कौटिल्य	IV. इंपोर्टेंस ऑफ सी पॉवर

नीचे दिए गए विकल्पों में से सही उत्तर चुनिए :

1. A - II, B - III, C - IV, D - I
2. A - III, B - IV, C - I, D - II
3. A - IV, B - III, C - II, D - I
4. A - I, B - II, C - III, D - IV

Options :

21052916697. 1
21052916698. 2
21052916699. 3
21052916700. 4

Question Number : 126 Question Id : 2105294217 Question Type : MCQ Option Shuffling : No Display Question Number : Yes Is Question Mandatory : No Single Line Question Option : No Option Orientation : Vertical Correct Marks : 2 Wrong Marks : 0

Arrange the following agreements chronologically in ascending order

- A. India - Japan Free Trade Agreement
- B. India - Sri Lanka Free Trade Agreement
- C. India - Thailand Free Trade Agreement
- D. India - South Korea Free Trade Agreement

Choose the **correct** answer from the options given below

- 1. C, B, A, D
- 2. B, C, D, A
- 3. B, C, A, D
- 4. C, B, D, A

Options :

- 21052916701. 1
- 21052916702. 2
- 21052916703. 3
- 21052916704. 4

Question Number : 126 Question Id : 2105294217 Question Type : MCQ Option Shuffling : No Display Question Number : Yes Is Question Mandatory : No Single Line Question Option : No Option Orientation : Vertical Correct Marks : 2 Wrong Marks : 0

निम्नलिखित समझौते को क्रमकाल में आरोही क्रमानुसार व्यवस्थित कीजिए :

- A. भारत - जापान मुक्त व्यापार समझौता
- B. भारत - श्रीलंका मुक्त व्यापार समझौता
- C. भारत - थाइलैण्ड मुक्त व्यापार समझौता
- D. भारत - दक्षिणी कोरिया मुक्त व्यापार समझौता

नीचे दिए गए विकल्पों में से सही उत्तर चुनिए :

- 1. C, B, A, D
- 2. B, C, D, A
- 3. B, C, A, D
- 4. C, B, D, A

Options :

- 21052916701. 1
- 21052916702. 2
- 21052916703. 3
- 21052916704. 4

Question Number : 127 Question Id : 2105294218 Question Type : MCQ Option Shuffling : No Display Question Number : Yes Is Question Mandatory : No Single Line Question Option : No Option Orientation : Vertical Correct Marks : 2 Wrong Marks : 0

Arrange the following Revolutions, in chronologically descending order

- A. Long March
- B. Cuban Revolution
- C. French Revolution
- D. Bolshevik Revolution

Choose the correct answer from the options given below

- 1. A, B, C, D
- 2. A, B, D, C
- 3. B, A, D, C
- 4. B, D, A, C

Options :

- 21052916705. 1
- 21052916706. 2
- 21052916707. 3
- 21052916708. 4

Question Number : 127 Question Id : 2105294218 Question Type : MCQ Option Shuffling : No Display Question Number : Yes Is Question Mandatory : No Single Line Question Option : No Option Orientation : Vertical Correct Marks : 2 Wrong Marks : 0

निम्नलिखित क्रांतियों को क्रमकाल के अनुसार अवरोही क्रम में व्यवस्थित कीजिए :

- A. लांग मार्च
- B. क्यूबा क्रांति
- C. फ्रांस क्रांति
- D. बोल्शेविक क्रांति

नीचे दिए गए विकल्पों में से सही उत्तर चुनिये :

- 1. A, B, C, D
- 2. A, B, D, C
- 3. B, A, D, C
- 4. B, D, A, C

Options :

- 21052916705. 1
- 21052916706. 2
- 21052916707. 3
- 21052916708. 4

Question Number : 128 Question Id : 2105294219 Question Type : MCQ Option Shuffling : No Display Question Number : Yes Is Question Mandatory : No Single Line Question Option : No Option Orientation : Vertical Correct Marks : 2 Wrong Marks : 0

Arrange the following in ascending chronological order in terms of their induction

- A. INS Jalashwa
- B. INS Arihant
- C. INS Virat
- D. INS Vikramaditya

Choose the **correct** answer from the options given below

- 1. A, C, B, D
- 2. C, A, B, D
- 3. C, A, D, B
- 4. A, D, B, C

Options :

- 21052916709. 1
- 21052916710. 2
- 21052916711. 3
- 21052916712. 4

Question Number : 128 Question Id : 2105294219 Question Type : MCQ Option Shuffling : No Display Question Number : Yes Is Question Mandatory : No Single Line Question Option : No Option Orientation : Vertical Correct Marks : 2 Wrong Marks : 0

निम्नलिखित को बेडे में शामिल किए जाने के क्रम काल के अनुसार आरोही क्रम में व्यवस्थित कीजिए :

- A. आई एन एस जलाश्व
- B. आई एन एस अरिहंत
- C. आई एन एस विराट
- D. आई एन एस विक्रमादित्य

नीचे दिए गए विकल्पों में से सही उत्तर चुनिए :

- 1. A, C, B, D
- 2. C, A, B, D
- 3. C, A, D, B
- 4. A, D, B, C

Options :

- 21052916709. 1
- 21052916710. 2
- 21052916711. 3
- 21052916712. 4

Question Number : 129 Question Id : 2105294220 Question Type : MCQ Option Shuffling : No Display Question Number : Yes Is Question Mandatory : No Single Line Question Option : No Option Orientation : Vertical Correct Marks : 2 Wrong Marks : 0

Arrange the correct chronological sequence of theories

- A. Rimland theory
- B. Sea Power theory
- C. Theory of Organic State
- D. Heartland theory

Choose the **correct** answer from the options given below

- 1. C, B, D, A
- 2. C, B, A, D
- 3. B, C, A, D
- 4. B, C, D, A

Options :

- 21052916713. 1
- 21052916714. 2
- 21052916715. 3
- 21052916716. 4

Question Number : 129 Question Id : 2105294220 Question Type : MCQ Option Shuffling : No Display Question Number : Yes Is Question Mandatory : No Single Line Question Option : No Option Orientation : Vertical Correct Marks : 2 Wrong Marks : 0

सिद्धांतों को सही क्रमकाल के अनुसार व्यवस्थित कीजिए :

- A. रिमलैण्ड सिद्धांत
- B. समुद्र शक्ति सिद्धांत
- C. आर्गेनिक स्टेट का सिद्धांत
- D. हार्टलैण्ड सिद्धांत

नीचे दिए गए विकल्पों में से सही उत्तर चुनिए :

- 1. C, B, D, A
- 2. C, B, A, D
- 3. B, C, A, D
- 4. B, C, D, A

Options :

- 21052916713. 1
- 21052916714. 2
- 21052916715. 3
- 21052916716. 4

Question Number : 130 Question Id : 2105294221 Question Type : MCQ Option Shuffling : No Display Question Number : Yes Is Question Mandatory : No Single Line Question Option : No Option Orientation : Vertical Correct Marks : 2 Wrong Marks : 0

Arrange the following oceans in terms of area in descending order:

- A. Atlantic Ocean
- B. Indian Ocean
- C. Pacific Ocean
- D. Arctic Ocean

Choose the **correct** answer from the options given below

- 1. B, D, A, C
- 2. B, A, D, C
- 3. D, B, A, C
- 4. D, B, C, A

Options :

- 21052916717. 1
- 21052916718. 2
- 21052916719. 3
- 21052916720. 4

Question Number : 130 Question Id : 2105294221 Question Type : MCQ Option Shuffling : No Display Question Number : Yes Is Question Mandatory : No Single Line Question Option : No Option Orientation : Vertical Correct Marks : 2 Wrong Marks : 0

निम्नलिखित महासागरों को उनके क्षेत्रफल के आधार पर अवरोही क्रम में व्यवस्थित कीजिए :

- A. अटलांटिक महासागर
- B. हिन्द महासागर
- C. प्रशान्त महासागर
- D. आर्कटिक महासागर

नीचे दिए गए विकल्पों में से सही उत्तर चुनिए :

- 1. B, D, A, C
- 2. B, A, D, C
- 3. D, B, A, C
- 4. D, B, C, A

Options :

- 21052916717. 1
- 21052916718. 2
- 21052916719. 3
- 21052916720. 4

Question Number : 131 Question Id : 2105294222 Question Type : MCQ Option Shuffling : No Display Question Number : Yes Is Question Mandatory : No Single Line Question Option : No Option Orientation : Vertical Correct Marks : 2 Wrong Marks : 0

Arrange the following in the chronological ascending order:

- A. Arms Trade Treaty
- B. Intermediate-Range Nuclear Force Treaty
- C. Biological Weapon Convention
- D. Chemical Weapon Convention

Choose the **correct** answer from the options given below:

- 1. C, D, B, A
- 2. D, C, A, B
- 3. A, C, D, B
- 4. C, B, D, A

Options :

- 21052916721. 1
- 21052916722. 2
- 21052916723. 3
- 21052916724. 4

Question Number : 131 Question Id : 2105294222 Question Type : MCQ Option Shuffling : No Display Question Number : Yes Is Question Mandatory : No Single Line Question Option : No Option Orientation : Vertical Correct Marks : 2 Wrong Marks : 0

निम्नलिखित को क्रमकाल के अनुसार आरोही क्रम में व्यवस्थित कीजिए :

- A. शस्त्र व्यापार संधि
- B. मध्यम परास नाभिकीय बल संधि
- C. जैविक हथियार अभिसमय
- D. रासायनिक हथियार अभिसमय

नीचे दिए गए विकल्पों में से सही उत्तर चुनिए :

- 1. C, D, B, A
- 2. D, C, A, B
- 3. A, C, D, B
- 4. C, B, D, A

Options :

- 21052916721. 1
- 21052916722. 2
- 21052916723. 3
- 21052916724. 4

Question Number : 132 Question Id : 2105294223 Question Type : MCQ Option Shuffling : No Display Question Number : Yes Is Question Mandatory : No Single Line Question Option : No Option Orientation : Vertical Correct Marks : 2 Wrong Marks : 0

Arrange the following publications in chronological descending order

- A. Kargil Report
- B. Blind Men of Hindoostan
- C. Himalayan Blunder
- D. Discovery of India

Choose the **correct** answer from the options given below

- 1. A, B, D, C
- 2. B, A, C, D
- 3. A, B, C, D
- 4. D, C, A, B

Options :

- 21052916725. 1
- 21052916726. 2
- 21052916727. 3
- 21052916728. 4

Question Number : 132 Question Id : 2105294223 Question Type : MCQ Option Shuffling : No Display Question Number : Yes Is Question Mandatory : No Single Line Question Option : No Option Orientation : Vertical Correct Marks : 2 Wrong Marks : 0

निम्नलिखित प्रकाशनों को क्रमकाल के अनुसार अवरोही क्रम में व्यवस्थित कीजिए :

- A. कारगिल रिपोर्ट
- B. ब्लाइंड मेन ऑफ हिन्दुस्तान
- C. हिमालयन ब्लंडर
- D. डिस्कवरी ऑफ इंडिया

नीचे दिए गए विकल्पों में से सही उत्तर चुनिए :

- 1. A, B, D, C
- 2. B, A, C, D
- 3. A, B, C, D
- 4. D, C, A, B

Options :

- 21052916725. 1
- 21052916726. 2
- 21052916727. 3
- 21052916728. 4

Question Number : 133 Question Id : 2105294224 Question Type : MCQ Option Shuffling : No Display Question Number : Yes Is Question Mandatory : No Single Line Question Option : No Option Orientation : Vertical Correct Marks : 2 Wrong Marks : 0

Arrange the following conflicts in the correct chronological ascending order

A.Ethnic conflict in Yugoslavia

B.Crisis in Chechnya

C. India - China war

D. Ethnic conflict in Sri Lanka

Choose the **correct** answer from the options given below

1. C-D-A-B

2. C-D-B-A

3. D-C-A-B

4. C-A-D-B

Options :

21052916729. 1

21052916730. 2

21052916731. 3

21052916732. 4

Question Number : 133 Question Id : 2105294224 Question Type : MCQ Option Shuffling : No Display Question Number : Yes Is

Question Mandatory : No Single Line Question Option : No Option Orientation : Vertical

Correct Marks : 2 Wrong Marks : 0

नीचे दिए गए कूट का उपयोग कर निम्नलिखित संघर्षों को क्रमकाल के अनुसार सही आरोही क्रम में व्यवस्थित कीजिए :

- A. यूगोस्लाविया में नृजातीय संघर्ष
- B. चेचन्या में संकट
- C. भारत - चीन युद्ध
- D. श्रीलंका में जातीय संघर्ष

नीचे दिए गए विकल्पों में से सही उत्तर चुनिए :

- 1. C-D-A-B
- 2. C-D-B-A
- 3. D-C-A-B
- 4. C-A-D-B

Options :

- 21052916729. 1
- 21052916730. 2
- 21052916731. 3
- 21052916732. 4

Question Number : 134 Question Id : 2105294225 Question Type : MCQ Option Shuffling : No Display Question Number : Yes Is Question Mandatory : No Single Line Question Option : No Option Orientation : Vertical Correct Marks : 2 Wrong Marks : 0

According to UNHCR, the following countries are top hosting countries for the refugees.
Arrange these countries in descending order.

- A. Sudan
- B. Pakistan
- C. Uganda
- D. Turkey

Choose the **correct** answer from the options given below

- 1. D-B-C-A
- 2. D-C-A-B
- 3. B-D-C-A
- 4. A-B-C-D

Options :

- 21052916733. 1
- 21052916734. 2
- 21052916735. 3
- 21052916736. 4

Question Number : 134 Question Id : 2105294225 Question Type : MCQ Option Shuffling : No Display Question Number : Yes Is Question Mandatory : No Single Line Question Option : No Option Orientation : Vertical Correct Marks : 2 Wrong Marks : 0

यू एन एच सी आर के अनुसार निम्नलिखित देश अग्रणी आश्रयदाता देश हैं। इन देशों को अवरोही क्रम में व्यवस्थित कीजिए :

- A. सुडान
- B. पाकिस्तान
- C. युगांडा
- D. टर्की

नीचे दिए गए विकल्पों में से सही उत्तर चुनिए :

- 1. D-B-C-A
- 2. D-C-A-B
- 3. B-D-C-A
- 4. A-B-C-D

Options :

- 21052916733. 1
- 21052916734. 2
- 21052916735. 3
- 21052916736. 4

Question Number : 135 Question Id : 2105294226 Question Type : MCQ Option Shuffling : No Display Question Number : Yes Is Question Mandatory : No Single Line Question Option : No Option Orientation : Vertical Correct Marks : 2 Wrong Marks : 0

Arrange the following treaties in ascending chronological order

- A. Treaty of Versailles
- B. Peace of Westphalia
- C. Congress of Vienna
- D. Treaty of Rome

Choose the **correct** answer from the options given below

- 1. A, B, D, C
- 2. A, B, C, D
- 3. B, A, D, C
- 4. B, C, A, D

Options :

- 21052916737. 1
- 21052916738. 2
- 21052916739. 3
- 21052916740. 4

Question Number : 135 Question Id : 2105294226 Question Type : MCQ Option Shuffling : No Display Question Number : Yes Is Question Mandatory : No Single Line Question Option : No Option Orientation : Vertical Correct Marks : 2 Wrong Marks : 0

निम्नलिखित संधियों को आरोही क्रमकाल के अनुसार व्यवस्थित कीजिए :

- A. वर्साय की संधि
- B. वेस्टफेलिया की शांति
- C. वियना कांग्रेस
- D. रोम की संधि

नीचे दिए गए विकल्पों में से सही उत्तर चुनिए :

- 1. A, B, D, C
- 2. A, B, C, D
- 3. B, A, D, C
- 4. B, C, A, D

Options :

- 21052916737. 1
- 21052916738. 2
- 21052916739. 3
- 21052916740. 4

Question Number : 136 Question Id : 2105294227 Question Type : MCQ Option Shuffling : No Display Question Number : Yes Is Question Mandatory : No Single Line Question Option : No Option Orientation : Vertical Correct Marks : 2 Wrong Marks : 0

Given below are two statements, one is labelled as **Assertion A** and the other is labelled as **Reason R**

Assertion A: "Civil disobedience is a civil breach of immoral statutory enactments", Gandhi said

Reason R: If the law of the state was discriminatory and immoral, the citizens had the right to disobey the law

In light of the above statements, choose the **most appropriate** answer from the options given below

1. Both **A** and **R** are true and **R** is the correct explanation of **A**
2. Both **A** and **R** are true but **R** is **NOT** the correct explanation of **A**
3. **A** is correct but **R** is not correct
4. **A** is not correct but **R** is correct

Options :

- 21052916741. 1
- 21052916742. 2
- 21052916743. 3
- 21052916744. 4

Question Number : 136 Question Id : 2105294227 Question Type : MCQ Option Shuffling : No Display Question Number : Yes Is Question Mandatory : No Single Line Question Option : No Option Orientation : Vertical Correct Marks : 2 Wrong Marks : 0

नीचे दो कथन दिए गए हैं : एक को अभिकथन (A) और दूसरे को तर्क (R) कहा गया है :

अभिकथन (A) : गांधी जी ने कहा "सविनय अवज्ञा अनैतिक सांविधिक अधिनियमनों का उल्लंघन है"

तर्क (R) : यदि राज्य का कानून भेदभाव पूर्ण और अनैतिक था तो नागरिकों को कानून के उल्लंघन का अधिकार था।

उपर्युक्त कथनों के आलोक में निम्नांकित विकल्पों में से सर्वाधिक उपयुक्त उत्तर चुनें :

1. (A) और (R) दोनों सही हैं और (R), (A) की सही व्याख्या है।
2. (A) और (R) दोनों सही हैं और (R), (A) की सही व्याख्या नहीं है।
3. (A) सही है परन्तु (R) सही नहीं है।
4. (A) सही नहीं है परन्तु (R) सही है।

Options :

21052916741. 1

21052916742. 2

21052916743. 3

21052916744. 4

Question Number : 137 Question Id : 2105294228 Question Type : MCQ Option Shuffling : No Display Question Number : Yes Is

Question Mandatory : No Single Line Question Option : No Option Orientation : Vertical

Correct Marks : 2 Wrong Marks : 0

Given below are two statements, one is labelled as **Assertion A** and the other is labelled as **Reason R**

Assertion A: Civil war leaves a terrible legacy of health problems and these require focused attention

Reason R: The post-conflict society begins peace with a high risk of further conflict and with a weak economy

In light of the above statements, choose the **most appropriate** answer from the options given below

1. Both **A** and **R** are correct and **R** is the correct explanation of **A**
2. Both **A** and **R** are correct but **R** is **NOT** the correct explanation of **A**
3. **A** is correct but **R** is not correct
4. **A** is not correct but **R** is correct

Options :

21052916745. 1

21052916746. 2

21052916747. 3

21052916748. 4

Question Number : 137 Question Id : 2105294228 Question Type : MCQ Option Shuffling : No Display Question Number : Yes Is Question Mandatory : No Single Line Question Option : No Option Orientation : Vertical Correct Marks : 2 Wrong Marks : 0

नीचे दो कथन दिए गए हैं : एक को अभिकथन (A) और दूसरे को तर्क (R) कहा गया है :

अभिकथन (A) : गृह युद्ध से स्वास्थ्य संबंधी समस्याओं की भयानक लिंगेसी उत्पन्न हो जाती है और इन पर केंद्रित ध्यान देने की आवश्यकता है।

तर्क (R) : टकराव के बाद के समाज में शांत नए टकराव के भारी जोखिम और कमजोर अर्थ व्यवस्था के साथ शुरू होता है।

उपर्युक्त कथनों के आलोक में निम्नांकित विकल्पों में से सर्वाधिक उपयुक्त उत्तर चुनें :

1. (A) और (R) दोनों सही हैं और (R), (A) की सही व्याख्या है।
2. (A) और (R) दोनों सही हैं और (R), (A) की सही व्याख्या नहीं है।
3. (A) सही है परन्तु (R) सही नहीं है।
4. (A) सही नहीं है परन्तु (R) सही है।

Options :

21052916745. 1
21052916746. 2
21052916747. 3
21052916748. 4

Question Number : 138 Question Id : 2105294229 Question Type : MCQ Option Shuffling : No Display Question Number : Yes Is Question Mandatory : No Single Line Question Option : No Option Orientation : Vertical Correct Marks : 2 Wrong Marks : 0

Given below are two statements

Statement I: The naval version of Light Combat Aircraft (LCA) successfully executed its first ever arrested landing at a shore based test facility in Goa in 2019

Statement II: With this feat, the indigenously developed niche technologies specific to dock based fighter operations have been proven, which will now pave the way to develop and manufacture of the single engine deck based fighter for the Indian navy.

In light of the above statements, choose the **correct** answer from the options given below

1. Both Statement I and Statement II are true
2. Both Statement I and Statement II are false
3. Statement I is correct but Statement II is false
4. Statement I is incorrect but Statement II is true

Options :

- 21052916749. 1
- 21052916750. 2
- 21052916751. 3
- 21052916752. 4

Question Number : 138 Question Id : 2105294229 Question Type : MCQ Option Shuffling : No Display Question Number : Yes Is Question Mandatory : No Single Line Question Option : No Option Orientation : Vertical Correct Marks : 2 Wrong Marks : 0

नीचे दो कथन दिए गए हैं : एक को अभिकथन (A) और दूसरे को तर्क (R) कहा गया है :

अभिकथन (A) : हलके लड़ाकू विमान (एलसीए) के नए संस्करण ने 2019 में गोवा में समुद्र तट आधारित परीक्षण सुविधा पर अपना पहला अरेस्टेड लैंडिंग सफलता पूर्वक किया है।

तर्क (R) : इस बेडे के साथ स्वदेश में विकसित अत्याधुनिक प्रौद्योगिकी, जो डाक आधारित फाइटर आपरेशन से विशिष्ट रूप से जुड़ा है, ने अपनी क्षमता साबित कर दी है जो अब भारतीय नौसेना के लिए एकल इंजन डेक आधारित लड़ाकू विमानों के विकास और विनिर्माण कर मार्ग प्रशस्त करेगा।

उपर्युक्त कथनों के आलोक में निम्नांकित विकल्पों में से सर्वाधिक उपयुक्त उत्तर चुनें :

1. (A) और (R) दोनों सही हैं और (R), (A) की सही व्याख्या है।
2. (A) और (R) दोनों सही हैं और (R), (A) की सही व्याख्या नहीं है।
3. (A) सही है परन्तु (R) सही नहीं है।
4. (A) सही नहीं है परन्तु (R) सही है।

Options :

21052916749. 1
21052916750. 2
21052916751. 3
21052916752. 4

Question Number : 139 Question Id : 2105294230 Question Type : MCQ Option Shuffling : No Display Question Number : Yes Is Question Mandatory : No Single Line Question Option : No Option Orientation : Vertical Correct Marks : 2 Wrong Marks : 0

Given below are two statements

Statement I: The laser Interferometer Gravitational- wave Observatory (LIGO) is the world's second largest gravitational wave observatory.

Statement II: The LIGO and Virgo detectors recorded an unknown or unanticipated 'burst' of gravitational waves in January 2020.

In light of the above statements, choose the **correct** answer from the options given below

1. Both Statement I and Statement II are true
2. Both Statement I and Statement II are false
3. Statement I is correct but Statement II is false
4. Statement I is incorrect but Statement II is true

Options :

- 21052916753. 1
- 21052916754. 2
- 21052916755. 3
- 21052916756. 4

Question Number : 139 Question Id : 2105294230 Question Type : MCQ Option Shuffling : No Display Question Number : Yes Is Question Mandatory : No Single Line Question Option : No Option Orientation : Vertical Correct Marks : 2 Wrong Marks : 0

नीचे दो कथन दिए गए हैं : एक को अभिकथन (A) और दूसरे को तर्क (R) कहा गया है :

अभिकथन (A) : लेजर इंटरफेरोमीटर ग्रैविटेशनल - वेव अबजर्वेटरी (एल आई जी ओ) विश्व की सबसे बड़ी ग्रैविटेशनल वेव अबजर्वेटरी है।

तर्क (R) : जनवरी, 2020 में एल आई जी ओ और वर्गो डिटेक्टर में ग्रैविटेशनल वेव्स का एक अज्ञात या अप्रत्याशित 'विस्फोट' दर्ज हुआ।

उपर्युक्त कथनों के आलोक में निम्नांकित विकल्पों में से सर्वाधिक उपयुक्त उत्तर चुनें :

1. (A) और (R) दोनों सही हैं और (R), (A) की सही व्याख्या है।
2. (A) और (R) दोनों सही हैं और (R), (A) की सही व्याख्या नहीं है।
3. (A) सही है परन्तु (R) सही नहीं है।
4. (A) सही नहीं है परन्तु (R) सही है।

Options :

21052916753. 1

21052916754. 2

21052916755. 3

21052916756. 4

Question Number : 140 Question Id : 2105294231 Question Type : MCQ Option Shuffling : No Display Question Number : Yes Is Question Mandatory : No Single Line Question Option : No Option Orientation : Vertical Correct Marks : 2 Wrong Marks : 0

Given below are two statements

Statement I: The construction of the strategic crude oil storage facilities is being managed by the Bharat Petroleum Corporation limited

Statement II: To address energy insecurity, the Indira Gandhi government mooted the idea of strategic petroleum reserves in 1983

In light of the above statements, choose the **correct** answer from the options given below

1. Both Statement I and Statement II are true
2. Both Statement I and Statement II are false
3. Statement I is correct but Statement II is false
4. Statement I is incorrect but Statement II is true

Options :

- 21052916757. 1
- 21052916758. 2
- 21052916759. 3
- 21052916760. 4

Question Number : 140 Question Id : 2105294231 Question Type : MCQ Option Shuffling : No Display Question Number : Yes Is Question Mandatory : No Single Line Question Option : No Option Orientation : Vertical Correct Marks : 2 Wrong Marks : 0

नीचे दो कथन दिए गए हैं :

कथन-I : भारत पेट्रोलियम लिमिटेड द्वारा रणनीतिक रूप से कच्चे तेल भण्डार सुविधाओं के निर्माण को प्रबंधित किया जा रहा है।

कथन-II : इंदिरा गांधी सरकार ने ऊर्जा असुरक्षा से निबटने के लिए 1983 में रणनीतिक पेट्रोलियम भण्डार की अवधारणा पर विचार किया था।

उपर्युक्त कथनों के आलोक में निम्नांकित विकल्पों में से सही उत्तर चुनें :

1. कथन I और II दोनों सही हैं।
2. कथन I और II दोनों सही नहीं हैं।
3. कथन-I सत्य है, किन्तु कथन-II गलत है।
4. कथन-I असत्य है, किन्तु कथन-II सही है।

Options :

21052916757. 1

21052916758. 2


21052916759. 3

21052916760. 4

Sub-Section Number :

Sub-Section Id :

Question Shuffling Allowed :



2

210529109

Yes

Question Id : 2105294232 Question Type : COMPREHENSION Sub Question Shuffling Allowed : Yes Group Comprehension Questions : No

Question Numbers : (141 to 145)

Question Label : Comprehension

Read the given passage and answer the questions that follow

The Indian defence industry is largely dominated by government-owned/ controlled entities, with the private sector playing a peripheral role. The dominance of the public sector is ensured through eight giant defence public sector undertaking and forty-one ordnance factories that are under the control of the Ministry of Defence. Besides, there are fifty odd research laboratories under the umbrella of the Defence Research and Development Organisation. But the story of the Indian defence industry is one of great disappointment. However, under the 'Make in India' programme, the Government of India, in a major policy decision, decided to throw open the defence sector to private investment with 26 per cent equity stakes for foreign companies in any defence joint venture. Further, the government decided to increase the cap from twenty-six per cent to forty-nine per cent which has subsequently been increased to a hundred per cent. Despite the numerous reform measures undertaken under the ambit of the 'Make in India' programme, the Indian defence industry still suffers from several legacy issues. This reform agenda should begin with an overarching and integrated institutional structure that would be responsible for the three critical but interrelated functions of procurement, production and R&D. For India to establish a credible industrial base, improved R&D will play a vital role. This needs to be corrected by making the DRDO accountable, bringing the R & D labs and the industry together as a team and encouraging the industry to spend for greater resources on in-house technology development.

Sub questions

Question Number : 141 Question Id : 2105294233 Question Type : MCQ Option Shuffling : No Display Question Number : Yes Is Question Mandatory : No Single Line Question Option : No Option Orientation : Vertical Correct Marks : 2 Wrong Marks : 0

According to passage, the reform agenda in India's defence industry should begin with

1. An overarching and integrated institutional structure
2. Revolution in Military Affairs
3. Giving more autonomy to DRDO
4. Giving private sector more concessions

Options :

- 21052916761. 1
- 21052916762. 2
- 21052916763. 3
- 21052916764. 4

Question Number : 142 Question Id : 2105294234 Question Type : MCQ Option Shuffling : No Display Question Number : Yes Is Question Mandatory : No Single Line Question Option : No Option Orientation : Vertical Correct Marks : 2 Wrong Marks : 0

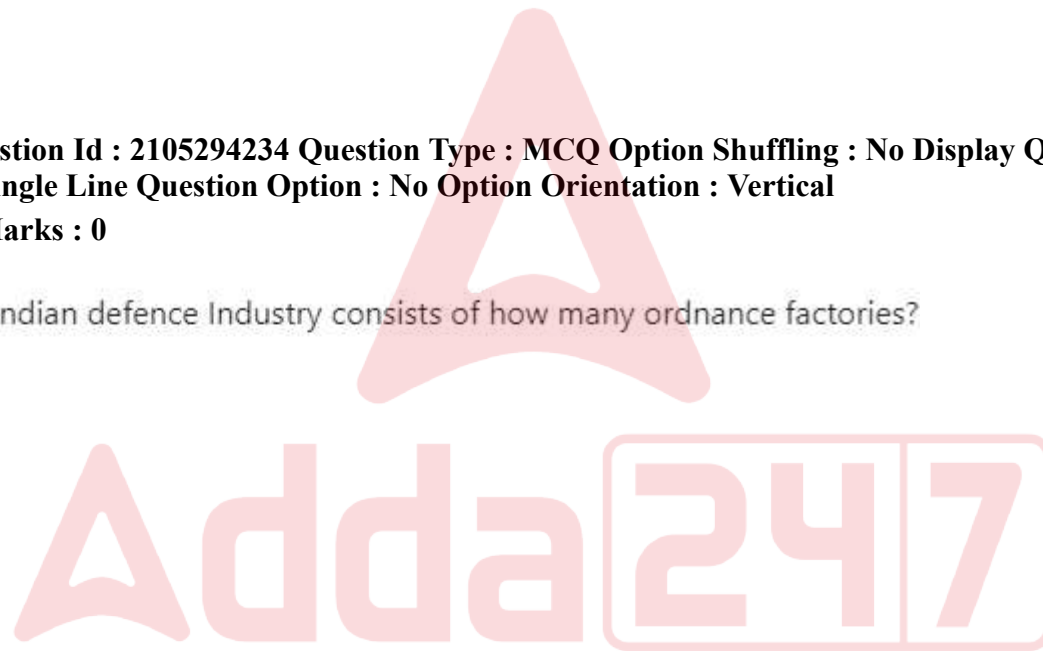
According to passage, the Indian defence Industry consists of how many ordnance factories?

1. 51
2. 41
3. 09
4. 49

Options :

- 21052916765. 1
- 21052916766. 2
- 21052916767. 3
- 21052916768. 4

Question Number : 143 Question Id : 2105294235 Question Type : MCQ Option Shuffling : No Display Question Number : Yes Is Question Mandatory : No Single Line Question Option : No Option Orientation : Vertical Correct Marks : 2 Wrong Marks : 0



According to the passage, an overarching and integrated institutional structure would be responsible for the three critical and inter-related functions of

1. Procurement, Production and DRDO
2. Procurement, Production and Supply chain
3. Procurement, Production and purchase of arms
4. Procurement, Production and R & D

Options :

- 21052916769. 1
- 21052916770. 2
- 21052916771. 3
- 21052916772. 4

Question Number : 144 Question Id : 2105294236 Question Type : MCQ Option Shuffling : No Display Question Number : Yes Is Question Mandatory : No Single Line Question Option : No Option Orientation : Vertical

Correct Marks : 2 Wrong Marks : 0

According to the passage, to establish a credible Industrial base what needs to be done?

1. Bring both public and private sector under government control
2. Make DRDO accountable and collaboration of R & D labs and industry
3. Create more jobs in DRDO and R & D labs
4. Give private sector more autonomy and funds

Options :

- 21052916773. 1
- 21052916774. 2
- 21052916775. 3
- 21052916776. 4

Question Number : 145 Question Id : 2105294237 Question Type : MCQ Option Shuffling : No Display Question Number : Yes Is Question Mandatory : No Single Line Question Option : No Option Orientation : Vertical

Correct Marks : 2 Wrong Marks : 0

According to the passage, to make the DRDO and R&D more accountable, the emphasis has been given on

1. Recruiting more scientists
2. Spending more resources on private sector defence labs
3. Keeping private industry under govt control
4. Spending more resources on in-house technology development

Options :

21052916777. 1

21052916778. 2

21052916779. 3

21052916780. 4

Question Id : 2105294232 Question Type : COMPREHENSION Sub Question Shuffling Allowed : Yes Group Comprehension Questions : No

Question Numbers : (141 to 145)

Question Label : Comprehension



नीचे दिए गए गद्यांश को पढ़ें और उसके पश्चात पूछे गए प्रश्नों के उत्तर दें :

भारतीय रक्षा उद्योग में सरकार के स्वामित्व / नियंत्रण वाली कंपनियों का प्रभुत्व है एवं इसमें निजी क्षेत्र की परिधीय भूमिका है। सार्वजनिक क्षेत्र का प्रभुत्व आठ रक्षा क्षेत्र के बड़े उपक्रमों एवं इकतालीस आयुध निर्माणियों, जो रक्षा मंत्रालय के नियंत्रण में होती हैं के द्वारा सुनिश्चित होता है। इसके अलावा कई रक्षा अनुसंधान और विकास संगठनों के अधीन पचास विभिन्न प्रकार की प्रयोगशालाएं हैं। किन्तु भारतीय रक्षा उद्योग की कहानी बहुत निराशाजनक है। तथापि, भारत सरकार ने 'मेक इन इंडिया' के अंतर्गत मुख्य नीतिगत निर्णय में किसी रक्षा संयुक्त उद्यम में छब्बीस प्रतिशत इक्विटी शेयर में विदेशी कंपनियों के निजी निवेश का मार्ग खोलने का निर्णय किया। इसके अलावा सरकार ने छब्बीस प्रतिशत की सीमा को बढ़ाकर शत प्रतिशत कर दिया गया है। 'मेक इन इंडिया' प्रोग्राम के अंतर्गत किए गए बहुतसे सुधारात्मक उपायों के बावजूद भारतीय रक्षा उद्योग अभी भी परंपरागत मुद्दों से ग्रस्त है। सुधार के इस एजेंडे को संस्थागत संरचना के विस्तार और उनके एकीकरण से शुरू किया जाना चाहिए जो कि तीन महत्वपूर्ण मुद्दे अर्थात् खरीद, उत्पाद तथा अनुसंधान और विकास जिनके कार्य आपस में जुड़े हैं के लिए जिम्मेदार होगा।

डी आर डी ओ को जिम्मेदार बनाकर आर एंड डी प्रयोगशालाओं और उद्योग को एक टीम के रूप में साथ लाकर एवं उद्योगों को इन - हाउस प्रौद्योगिकी के विकास हेतु अधिक संसाधनों को व्यय करने के लिए उद्योगों को बढ़ावा देकर इसमें सुधार किए जाने की आवश्यकता है।

Sub questions

Question Number : 141 Question Id : 2105294233 Question Type : MCQ Option Shuffling : No Display Question Number : Yes Is Question Mandatory : No Single Line Question Option : No Option Orientation : Vertical Correct Marks : 2 Wrong Marks : 0

गद्यांश के अनुसार भारत के रक्षा उद्योग में सुधार निम्नलिखित में किसके साथ शुरू होना चाहिए :

1. एक एकीकृत एवं विस्तृत संस्थागत संरचना के साथ
2. सेना के मामलों में क्रांति
3. डी आर डी ओ को अधिक स्वायत्तता देना
4. निजी क्षेत्र को अधिक रियायत देना

Options :

21052916761. 1
21052916762. 2
21052916763. 3
21052916764. 4

Question Number : 142 Question Id : 2105294234 Question Type : MCQ Option Shuffling : No Display Question Number : Yes Is Question Mandatory : No Single Line Question Option : No Option Orientation : Vertical Correct Marks : 2 Wrong Marks : 0

गद्यांश के अनुसार भारतीय रक्षा उद्योग में कितनी आयुध निर्माणियाँ हैं ?

1. 51
2. 41
3. 09
4. 49

Options :

21052916765. 1
21052916766. 2
21052916767. 3
21052916768. 4

Question Number : 143 Question Id : 2105294235 Question Type : MCQ Option Shuffling : No Display Question Number : Yes Is Question Mandatory : No Single Line Question Option : No Option Orientation : Vertical Correct Marks : 2 Wrong Marks : 0

गद्यांश के अनुसार, विस्तृत व एकीकृत संस्थागत संरचना किन तीन महत्वपूर्ण और अंतर-सम्बंधित कार्यों के लिए जिम्मेदार होंगे?

1. खरीद, उत्पाद और डी आर डी ओ
2. खरीद, उत्पाद और आपूर्ति शृंखला
3. खरीद, उत्पाद और हथियारों की खरीद
4. खरीद, उत्पाद और अनुसंधान तथा विकास

Options :

21052916769. 1

21052916770. 2

21052916771. 3

21052916772. 4

Question Number : 144 Question Id : 2105294236 Question Type : MCQ Option Shuffling : No Display Question Number : Yes Is Question Mandatory : No Single Line Question Option : No Option Orientation : Vertical

Correct Marks : 2 Wrong Marks : 0

गद्यांश के अनुसार विश्वसनीय औद्योगिक आधार बनाने के लिए क्या किए जाने की आवश्यकता है ?

1. सार्वजनिक और निजी दोनों को सरकार के नियंत्रण में लाना।
2. डी आर डी ओ को जवाबदेह बनाना और अनुसंधान तथा विकास प्रयोगशालाओं और उद्योगों को साथ लाना।
3. डी आर डी ओ और अनुसंधान तथा विकास प्रयोगशालाओं में अधिक संख्या में रोजगार का सृजन करना।
4. निजी क्षेत्र को अधिक निधि और स्वायत्तता देना।

Options :

21052916773. 1

21052916774. 2

21052916775. 3

21052916776. 4

Question Number : 145 Question Id : 2105294237 Question Type : MCQ Option Shuffling : No Display Question Number : Yes Is Question Mandatory : No Single Line Question Option : No Option Orientation : Vertical

Correct Marks : 2 Wrong Marks : 0

गद्यांश के अनुसार डी आर डी ओ और अनुसंधान तथा विकास को ज्यादा जवाबदेह बनाने के लिए निम्नलिखित में से किस पर बल दिया गया है ?

1. अधिक संख्या में वैज्ञानिकों की भर्ती करना।
2. निजी क्षेत्र की रक्षा प्रयोगशालाओं पर अधिक संसाधन व्यय करना।
3. निजी उद्योग को सरकारी नियंत्रण में लाना।
4. इन हाउस - प्रौद्योगिकी के विकास के लिए अधिक संसाधन व्यय करना।

Options :

21052916777. 1

21052916778. 2

21052916779. 3

21052916780.4

Sub-Section Number :

3

Sub-Section Id :

210529110

Question Shuffling Allowed :

Yes

Question Id : 2105294238 Question Type : COMPREHENSION Sub Question Shuffling Allowed : Yes Group Comprehension Questions : No

Question Numbers : (146 to 150)

Question Label : Comprehension



Read the passage given below and answer the questions which follow

In other words, true realism is an art more than a science, in which the temperament of a statesman plays as much of a role as his intellect. While the roots of realism hark back 2,400 years to Thucydides' illusion-free insights about human behaviour in *The Peloponnesian War*, modern realism was perhaps most comprehensively summed up in 1948 by Hans J. Morgenthau in *Politics Among Nations: The Struggle for Power and Peace...*, the effort of a German refugee who taught at the University of Chicago, in order to set the stage for my larger discussion about geography: for realism is crucial to a proper appreciation of the map, and in fact, leads us directly to it.

Morgenthau begins his argument by noting that the world "is the result of forces inherent in human nature." And, human nature, as Thucydides pointed out, is motivated by fear (*phobos*), self-interest (*kerdos*), and honor (*doxa*). "To improve the world," writes Morgenthau, "one must work with these forces, not against them." Thus, realism accepts the human material at hand, however imperfect that material may be. "It appeals to historical precedent rather than to abstract principles and aims at the realization of the lesser evil rather than of the absolute good." For example, a realist would look at Iraq's own history, explained through its cartography and constellations of ethnic groups, rather than to moral precepts of Western democracy, to see what kind of future Iraq would be immediately capable of following the toppling of a totalitarian regime. After all, good intentions have little to do with positive outcomes, according to Morgenthau.

Sub questions

Question Number : 146 Question Id : 2105294239 Question Type : MCQ Option Shuffling : No Display Question Number : Yes Is Question Mandatory : No Single Line Question Option : No Option Orientation : Vertical Correct Marks : 2 Wrong Marks : 0

In the passage, one of the arguments is "To improve the world, one must work with these forces, not against them." Choose the forces referred to in this context

1. The forces, which are not in the domain of world politics
2. The forces, which are absolutely good
3. The forces, which are inherent in human nature
4. The forces, which are not inherent in human nature

Options :

21052916781. 1
21052916782. 2
21052916783. 3
21052916784. 4

Question Number : 147 Question Id : 2105294240 Question Type : MCQ Option Shuffling : No Display Question Number : Yes Is Question Mandatory : No Single Line Question Option : No Option Orientation : Vertical

Correct Marks : 2 Wrong Marks : 0

In the passage, it is stated that the temperament of a statesman plays as much of a role as his intellect. It is an explanation of

1. Political Idealism is an art rather than a science
2. Political Idealism is not an art but a science
3. True realism is not an art but a science
4. True realism is an art more than a science

Options :

21052916785. 1
21052916786. 2
21052916787. 3
21052916788. 4

Question Number : 148 Question Id : 2105294241 Question Type : MCQ Option Shuffling : No Display Question Number : Yes Is Question Mandatory : No Single Line Question Option : No Option Orientation : Vertical

Correct Marks : 2 Wrong Marks : 0

The argument in the passage is, "It appeals to historical precedent rather than to abstract principles and aims at the realization of the lesser evil rather than of the absolute good." What is the context of this?

1. Realism accepts the human material at hand, however imperfect that may be
2. Realism accepts the human material on the basis of perfectionist approach
3. Realism does not accept the human material at hand because imperfection is not acceptable
4. Realism only accepts the good human material and rejects the imperfect one

Options :

- 21052916789. 1
- 21052916790. 2
- 21052916791. 3
- 21052916792. 4

Question Number : 149 Question Id : 2105294242 Question Type : MCQ Option Shuffling : No Display Question Number : Yes Is Question Mandatory : No Single Line Question Option : No Option Orientation : Vertical Correct Marks : 2 Wrong Marks : 0

In the passage, the following words - *phobos*, *kerdas* and *doxa* are used to describe the motivating factors of:

1. Conditions for peace
2. Human nature
3. Absolute good
4. Cartography

Options :

- 21052916793. 1
- 21052916794. 2
- 21052916795. 3
- 21052916796. 4

Question Number : 150 Question Id : 2105294243 Question Type : MCQ Option Shuffling : No Display Question Number : Yes Is Question Mandatory : No Single Line Question Option : No Option Orientation : Vertical Correct Marks : 2 Wrong Marks : 0

In the passage, it has been stated that a realist would approach to see what kind of future Iraq would be immediately capable of following the toppling of a totalitarian regime. What factors would he take into account?

1. Moral precepts of western democracy
2. Good intentions of those who would have the responsibility to topple the totalitarian regime
3. Perfect human material
4. Iraq's own history explained through its cartography and constellations of ethnic groups

Options :

- 21052916797. 1
- 21052916798. 2
- 21052916799. 3
- 21052916800. 4

Question Id : 2105294238 Question Type : COMPREHENSION Sub Question Shuffling Allowed : Yes Group Comprehension Questions : No

Question Numbers : (146 to 150)

Question Label : Comprehension



परिच्छेद :

दूसरे शब्दों में, विशुद्ध यथार्थवाद विज्ञान की बजाय कला ज्यादा है, जिसमें किसी राजनेता का स्वभाव इतना ही महत्वपूर्ण होता है, जितनी की उसकी बुद्धिमत्ता। यद्यपि यथार्थवाद के मूल 'द पेलोपोनेशियन वार' में मानव स्वभाव के संबंध में 2,400 वर्ष पूर्व थूसीडाइड्स द्वारा प्रस्तुत भ्रान्तिरहित अवलोकनों में ही परिलक्षित होते हैं, वहीं आधुनिक यथार्थवाद का संभवतः सबसे व्यापक विवरण। हान्स जे.मोर्गेथऊ द्वारा 1948 में लिखी गई पुस्तक "पॉलिटिक्स अमाँग नेशन्स : द स्ट्रगल फॉर पॉवर एंड पीस" में मिलता है। यह शिकागो विश्वविद्यालय में पढ़ाने वाले उस जर्मन शरणार्थी का प्रयास है जिसने भूगोल के बारे में मेरे व्यापक विमर्श का आधार प्रदान किया है : क्योंकि मानचित्र के समुचित बोध हेतु यथार्थवाद अतिमहत्वपूर्ण है, और वास्तव में हमें सीधे इस ओर ले जाता है।

मोर्गेथऊ यह कहकर अपना तर्क शुरू करते हैं कि यह विश्व "मानव स्वभाव में अन्तर्निहित बलों का परिणाम है। " और जैसा कि थूसीडाइड्स ने कहा है कि मानव स्वभाव, भय (फोबोस), निज-हित (करडॉस) और सम्मान (डोक्सा) से प्रेरित होता है। मोर्गेथऊ लिखते हैं कि "विश्व में बेहतरी के लिए सबको इन ताकतों के साथ मिलकर काम करना चाहिए, न कि उनके विरुद्ध। " अतः यथार्थवाद मानव घटक को स्वीकार्यता प्रदान करना है, भले ही इसमें जितनी ही त्रुटियां हों। " यह अमूर्त सिद्धांतों की तुलना में ऐतिहासिक पूर्वोदाहरण की ओर उन्मुख है और यह विशुद्ध कल्याण की अपेक्षा न्यूनतम बुराई का प्रयोजन रखता है। " उदाहरणार्थ, एक यथार्थवादी इराकी इतिहास को पश्चिमी लोकतंत्र के नैतिक नजरिए से देखने की बजाय उसे इराक का मानचित्र एवं वहां के जातीय समूहों के संकुलों की दृष्टि से देखेगा ताकि वह जान सके कि एक निरंकुश शासन के तख्तापलट होने पर इराक का तात्कालिक भविष्य कैसा होगा। क्योंकि वैसे भी, मोर्गेथऊ मानते हैं कि अच्छी मंशा का सकारात्मक परिणाम से कोई ज्यादा लेना-देना नहीं है।

Sub questions

Question Number : 146 Question Id : 2105294239 Question Type : MCQ Option Shuffling : No Display Question Number : Yes Is Question Mandatory : No Single Line Question Option : No Option Orientation : Vertical Correct Marks : 2 Wrong Marks : 0

परिच्छेद में एक तर्क यह है कि - " विश्व में बेहतरी के लिए, सबको इन ताकतों के साथ मिलकर कार्य करना चाहिए, न कि इनके विरुद्ध। " उसमें संदर्भित ताकतों का चयन कीजिए :

1. वह ताकतें, जो वैश्विक राजनीति के क्षेत्र में नहीं हैं।
2. वह ताकतें, जो परम कल्याण से संबंधित हैं।
3. वह ताकतें, जो मानव स्वभाव में अंतर्निहित हैं।
4. वह ताकतें, जो मानव स्वभाव में अंतर्निहित नहीं हैं।

Options :

21052916781. 1
21052916782. 2
21052916783. 3
21052916784. 4

Question Number : 147 Question Id : 2105294240 Question Type : MCQ Option Shuffling : No Display Question Number : Yes Is Question Mandatory : No Single Line Question Option : No Option Orientation : Vertical

Correct Marks : 2 Wrong Marks : 0

परिच्छेद में यह कहा गया है कि राजवेत्ता के स्वभाव की भूमिका उसके बुद्धिमत्ता जितनी ही महत्त्व रखती है। यह व्याख्या करती है कि :

1. राजनीतिक यथार्थवाद विज्ञान की बजाय कला है।
2. राजनीतिक यथार्थवाद कला नहीं बल्कि विज्ञान है।
3. विशुद्ध यथार्थवाद कला नहीं बल्कि विज्ञान है।
4. विशुद्ध यथार्थवाद विज्ञान की बजाय कला ज्यादा है।

Options :

21052916785. 1
21052916786. 2
21052916787. 3
21052916788. 4

Question Number : 148 Question Id : 2105294241 Question Type : MCQ Option Shuffling : No Display Question Number : Yes Is Question Mandatory : No Single Line Question Option : No Option Orientation : Vertical

Correct Marks : 2 Wrong Marks : 0

इस परिच्छेद में तर्क यह है कि : "यह अमूर्त सिद्धांतों की तुलना में ऐतिहासिक पूर्वोदाहरण की ओर उन्मुख है और यह विशुद्ध कल्याण की अपेक्षा न्यूनतम बुराई का प्रयोजन रखता है। " इसका सन्दर्भ क्या है ?

1. यथार्थवाद मानव घटक को स्वीकार्यता प्रदान करता है।
2. यथार्थवाद पूर्णतावादी उपागम के आधार पर मानव घटक को स्वीकार करता है।
3. यथार्थवाद मानव घटक को नहीं स्वीकारता क्योंकि अपूर्णता स्वीकार्य नहीं है।
4. यथार्थवाद केवल अच्छे मानव घटक को स्वीकार करता है और अपूर्ण को नकारता है।

Options :

21052916789. 1
21052916790. 2
21052916791. 3
21052916792. 4

Question Number : 149 Question Id : 2105294242 Question Type : MCQ Option Shuffling : No Display Question Number : Yes Is Question Mandatory : No Single Line Question Option : No Option Orientation : Vertical Correct Marks : 2 Wrong Marks : 0

परिच्छेद में, निम्नलिखित शब्दों - फोबोस, करडॉस तथा डोक्सा - का उपयोग किन उत्प्रेरक बलों का वर्णन करने हेतु किया गया है :

1. शान्ति के लिए शर्तें
2. मानव स्वभाव
3. परम कल्याण
4. मानचित्र - कला

Options :

21052916793. 1
21052916794. 2
21052916795. 3
21052916796. 4

Question Number : 150 Question Id : 2105294243 Question Type : MCQ Option Shuffling : No Display Question Number : Yes Is Question Mandatory : No Single Line Question Option : No Option Orientation : Vertical

Correct Marks : 2 Wrong Marks : 0

इस परिच्छेद में, यह कहा गया है कि एक यथार्थवादी यह जानने की कोशिश करेगा कि एक निरंकुश शासन के तख्तापलट होने की दशा में इराक का तात्कालिक भविष्य कैसा होगा ? वह किन कारकों पर विचार करेगा ?

1. पश्चिमी लोकतंत्र की नैतिक अवधारणाओं पर।
2. निरंकुश शासन का तख्तापलट करने वाले का उत्तरदायित्व रखने वाले लोगों की मंशा पर।
3. पूर्ण मानव घटक पर।
4. मानचित्र तथा जातीय समूहों के संकुल के जरिए व्यक्त इराक के इतिहास पर।

Options :

21052916797. 1

21052916798. 2

21052916799. 3

21052916800. 4

