



GOVT. OF NCT OF DELHI
Delhi Subordinate Services Selection Board
FC-18, Institutional Area, Karkardooma, Delhi - 110092.
www.dsssb.delhigovt.nic.in

Participant ID	
Participant Name	
Test Center Name	iON Digital Zone iDZ 1 Sector 62
Test Date	14/07/2024
Test Time	8:30 AM - 10:30 AM
Subject	Special Education Teacher

Section : General Intelligence and Reasoning Ability

Q.1 अंग्रेजी वर्णमाला क्रम के आधार पर, निम्नलिखित चार अक्षर-समूह युग्मों में से तीन किसी निश्चित तरीके से एक-समान हैं तथा इस प्रकार एक समूह बनाते हैं। कौन-सा अक्षर-समूह युग्म, उस समूह से संबंधित नहीं है?
(नोट: असंगत अक्षर-समूह युग्म, व्यंजनों/स्वरों की संख्या या अक्षर-समूह में उनकी स्थिति पर आधारित नहीं है।)

- Ans
- 1. MAGIC : DJHBN
 - 2. UMBRA : BSCNW
 - 3. CHAIR : SJBID
 - 4. HORSE : FTSPI

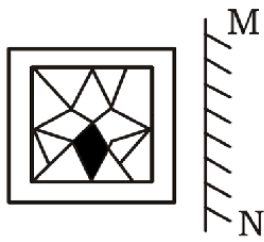
Question ID : 630680896506
Option 1 ID : 6306803511998
Option 2 ID : 6306803511996
Option 3 ID : 6306803511995
Option 4 ID : 6306803511997

Q.2 निम्नलिखित अक्षर, संख्या और प्रतीक श्रृंखला को देखिए और उसके बाद दिए गए प्रश्न का उत्तर दीजिए। गणना केवल बाईं ओर से दाईं ओर की जानी चाहिए।
(बाएँ) S & 4 G 6 4 R \$ % E 1 % @ K 9 T 6 \$ M # \$ 8 7 ^ 2 Q 2 * N 6 8 (दाएँ)
ऐसे कितने प्रतीक हैं जिनमें से प्रत्येक के ठीक पहले एक संख्या और ठीक बाद एक अक्षर है?

- Ans
- 1. दो
 - 2. एक
 - 3. चार
 - 4. तीन

Question ID : 630680896504
Option 1 ID : 6306803511989
Option 2 ID : 6306803511987
Option 3 ID : 6306803511990
Option 4 ID : 6306803511988

Q.3 दर्पण को नीचे दर्शाए अनुसार MN पर रखे जाने पर, दी गई आकृति के सही दर्पण प्रतिबिंब का चयन कीजिए।



Ans

✓ 1.




✗ 2.



✗ 3.



✗ 4.



Question ID : 630680896511
Option 1 ID : 6306803512016
Option 2 ID : 6306803512018
Option 3 ID : 6306803512017
Option 4 ID : 6306803512015

Q.4 संख्याओं के चार समुच्चय दिए गए हैं, जिनमें से तीन किसी प्रकार से एकसमान हैं और एक असंगत है। असंगत युग्म का चयन कीजिए।

- Ans
- ✗ 1. (59, 44)
 - ✗ 2. (32, 17)
 - ✗ 3. (88, 73)
 - ✓ 4. (97, 79)

Question ID : 630680896518
Option 1 ID : 6306803512045
Option 2 ID : 6306803512046
Option 3 ID : 6306803512044
Option 4 ID : 6306803512043

Q.5 उस विकल्प का चयन कीजिए जिसमें संख्याएँ उसी प्रकार संबंधित हैं जिस प्रकार दिए गए समूह में संख्याएँ संबंधित हैं।

(14 : 196)

(23 : 322)

- Ans
- ✗ 1. (21 : 290)
 - ✗ 2. (17 : 228)
 - ✗ 3. (18 : 262)
 - ✓ 4. (20 : 280)

Question ID : 630680896516
Option 1 ID : 6306803512037
Option 2 ID : 6306803512035
Option 3 ID : 6306803512038
Option 4 ID : 6306803512036

Q.6 अंग्रेजी वर्णमाला क्रम के आधार पर, निम्नलिखित चार अक्षर-समूहों में से तीन एक निश्चित तरीके से एकसमान हैं और इस प्रकार एक समूह बनाते हैं। कौन-सा अक्षर-समूह, उस समूह से संबंधित नहीं है?

(नोट: असंगत अक्षर-समूह, व्यंजनों/स्वरों की संख्या या अक्षर-समूह में उनकी स्थिति पर आधारित नहीं है।)

- Ans
- ✗ 1. BDFH
 - ✓ 2. OQST
 - ✗ 3. IKMO
 - ✗ 4. PRTV

Question ID : 630680896507
Option 1 ID : 6306803511999
Option 2 ID : 6306803512002
Option 3 ID : 6306803512000
Option 4 ID : 6306803512001

Q.7 यदि '-' का अर्थ 'x' है, '+' का अर्थ '÷' है, 'x' का अर्थ '-' है और '+' का अर्थ '+' है, तो निम्नलिखित समीकरण में प्रश्न-चिह्न (?) के स्थान पर क्या आएगा?

$$25 \div 37 - 19 \times 91 + 7 = ?$$

Ans 1. 715

2. 735

3. 545

4. 625

Question ID : 630680896512

Option 1 ID : 6306803512019

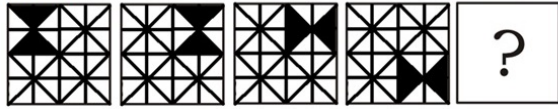
Option 2 ID : 6306803512021

Option 3 ID : 6306803512022

Option 4 ID : 6306803512020




Q.8 दिए गए विकल्पों में से उस आकृति का चयन कीजिए जो निम्नलिखित श्रृंखला में प्रश्न-चिह्न (?) के स्थान पर आ सकती है।




Ans


✓ 1.



✗ 2.



✗ 3.

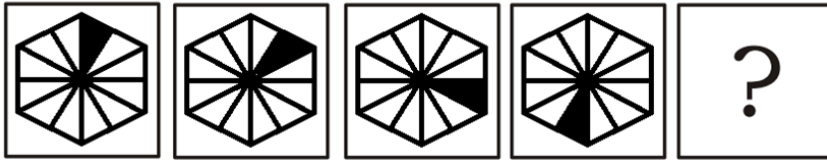


✗ 4.



Question ID : 630680896510
 Option 1 ID : 6306803512014
 Option 2 ID : 6306803512012
 Option 3 ID : 6306803512011
 Option 4 ID : 6306803512013

Q.9 दिए गए विकल्पों में से उस आकृति का चयन कीजिए जो निम्नलिखित श्रृंखला में प्रश्न-चिह्न (?) के स्थान पर आ सकती है।

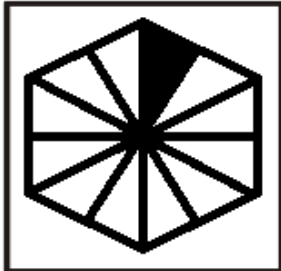


Ans

✓ 1.



✗ 2.



✗ 3.



✗ 4.



Question ID : 630680896509
Option 1 ID : 6306803512009
Option 2 ID : 6306803512008
Option 3 ID : 6306803512010
Option 4 ID : 6306803512007

Q.10 अंग्रेजी वर्णमाला क्रम के आधार पर दी गई श्रृंखला में प्रश्न-चिह्न (?) के स्थान पर क्या आना चाहिए?

MUB, QYF, UCJ, YGN, CKR, ?

- Ans
- 1. GNU
 - 2. GOU
 - 3. GOV
 - 4. GNV

Question ID : 630680896508
Option 1 ID : 6306803512004
Option 2 ID : 6306803512005
Option 3 ID : 6306803512003
Option 4 ID : 6306803512006

Q.11 एक तस्वीर में एक व्यक्ति की ओर इशारा करते हुए, एक महिला ने कहा "वह मेरी माँ के पति के पिता का इकलौता पुत्र है।" तस्वीर में महिला का व्यक्ति से क्या संबंध है?

- Ans
- 1. पत्नी
 - 2. पुत्री
 - 3. माँ
 - 4. बहन

Question ID : 630680896501
Option 1 ID : 6306803511975
Option 2 ID : 6306803511978
Option 3 ID : 6306803511977
Option 4 ID : 6306803511976

Q.12 दिए गए विकल्पों में से उस संख्या का चयन कीजिए जो निम्नलिखित श्रृंखला में प्रश्न-चिह्न (?) के स्थान पर आ सकती है।

158, 175, 192, 209, 226, 243, ?

- Ans
- 1. 258
 - 2. 260
 - 3. 259
 - 4. 261

Question ID : 630680896514
Option 1 ID : 6306803512030
Option 2 ID : 6306803512028
Option 3 ID : 6306803512029
Option 4 ID : 6306803512027

Q.13 दिए गए कथनों और निष्कर्षों को ध्यान से पढ़िए। यह मानते हुए कि कथनों में दी गई जानकारी सत्य है, भले ही वह सामान्यतः ज्ञात तथ्यों से भिन्न प्रतीत होती हो, तब कीजिए कि दिए गए निष्कर्षों में से कौन-सा/से निष्कर्ष, कथनों का तार्किक रूप से अनुसरण करता है/करते हैं।

कथन:

(A) कुछ पतंगें, अंगूठियाँ हैं।

(B) कुछ अंगूठियाँ, जूते हैं।

(C) सभी जूते, घड़ियाँ हैं।

निष्कर्ष:

I. कुछ पतंगें, घड़ियाँ हैं।

II. कुछ अंगूठियाँ, घड़ियाँ हैं।

Ans

✓ 1. केवल निष्कर्ष II अनुसरण करता है।

✗ 2. केवल निष्कर्ष I अनुसरण करता है।

✗ 3. न तो निष्कर्ष I और न ही II अनुसरण करता है।

✗ 4. निष्कर्ष I और II दोनों अनुसरण करते हैं।

Question ID : 630680896503

Option 1 ID : 6306803511984

Option 2 ID : 6306803511983

Option 3 ID : 6306803511985

Option 4 ID : 6306803511986

Q.14 दिए गए विकल्पों में से उस संख्या का चयन कीजिए जो निम्नलिखित श्रृंखला में प्रश्न-चिह्न (?) के स्थान पर आ सकती है।

217, 227, 244, 268, 299, 337, ?

Ans

✗ 1. 383

✗ 2. 380

✓ 3. 382

✗ 4. 381

Question ID : 630680896515

Option 1 ID : 6306803512032

Option 2 ID : 6306803512034

Option 3 ID : 6306803512031

Option 4 ID : 6306803512033

Q.15 विद्यार्थियों की एक पंक्ति में, जॉन बाएँ छोर से 15वें स्थान पर है और बॉब दाएँ छोर से 40वें स्थान पर है। जब वे अपना स्थान परस्पर बदलते हैं, तो जॉन बाएँ छोर से 30वें स्थान पर आ जाता है। दाएँ छोर से बॉब का नया स्थान ज्ञात कीजिए।

- Ans
- ✓ 1. 55वाँ
 - ✗ 2. 54वाँ
 - ✗ 3. 25वाँ
 - ✗ 4. 24वाँ

Question ID : 630680896499
Option 1 ID : 6306803511968
Option 2 ID : 6306803511967
Option 3 ID : 6306803511969
Option 4 ID : 6306803511970

Q.16 निम्नलिखित समीकरण में किन दो संख्याओं को परस्पर बदलने पर, समीकरण गणितीय रूप से सही हो जाएगा?

$$125 - 25 + 925 \div 37 \times 8 = 100$$

- Ans
- ✗ 1. 37 और 125
 - ✗ 2. 8 और 25
 - ✓ 3. 25 और 125
 - ✗ 4. 25 और 37

Question ID : 630680896513
Option 1 ID : 6306803512026
Option 2 ID : 6306803512023
Option 3 ID : 6306803512025
Option 4 ID : 6306803512024

Q.17 उस विकल्प का चयन कीजिए जिसमें संख्याएँ उसी प्रकार संबंधित हैं जिस प्रकार दिए गए समूह में संख्याएँ संबंधित हैं।

(56, 78, 67)
(119, 165, 142)

- Ans
- ✗ 1. (99, 33, 88)
 - ✗ 2. (365, 78, 182)
 - ✗ 3. (456, 193, 282)
 - ✓ 4. (234, 122, 178)

Question ID : 630680896517
Option 1 ID : 6306803512040
Option 2 ID : 6306803512039
Option 3 ID : 6306803512042
Option 4 ID : 6306803512041

Q.18 इस प्रश्न में शब्दों का एक युग्म है जिनका एक-दूसरे से एक निश्चित संबंध है। उस युग्म का चयन कीजिए जिसमें समान संबंध हो।

(शब्दों को सार्थक हिंदी शब्दों के रूप में समझा जाना चाहिए और शब्द में अक्षरों/व्यंजनों/स्वरों की संख्या के आधार पर उन्हें एक-दूसरे से संबंधित नहीं होना चाहिए।)

मूर्तिकार: छेनी

Ans

- 1. सर्जन : कन्नी
- 2. प्लम्बर : स्केलपेल
- 3. दंत-चिकित्सक : रिंच
- 4. बढ़ई : आरी

Question ID : 630680896505
Option 1 ID : 6306803511993
Option 2 ID : 6306803511992
Option 3 ID : 6306803511991
Option 4 ID : 6306803511994

Q.19 निम्नलिखित जानकारी को ध्यानपूर्वक पढ़िए और उसके बाद दिए गए प्रश्न का उत्तर दीजिए।

'C ÷ D' का अर्थ है कि, 'C, D की पत्नी है'।

'C - D' का अर्थ है कि, 'C, D का पुत्र है'।

'C + D' का अर्थ है कि, 'C, D की माता है'।

'C × D' का अर्थ है कि, 'C, D की पुत्री है'।

व्यंजक 'U ÷ P - Q + S × R - W' में, R का U से क्या संबंध है?

Ans

- 1. पिता
- 2. पुत्र
- 3. दामाद
- 4. ससुर

Question ID : 630680896502
Option 1 ID : 6306803511980
Option 2 ID : 6306803511979
Option 3 ID : 6306803511981
Option 4 ID : 6306803511982

Q.20 एक निश्चित कूट भाषा में, 'VENDOR' को 'RIZVSH' के रूप में कूटबद्ध किया गया है तथा 'JUNGLE' को 'RYNIPK' के रूप में कूटबद्ध किया गया है। उसी कूट भाषा में 'HONEST' को किस प्रकार कूटबद्ध किया जाएगा?

- Ans
- 1. QSLXWI
 - 2. RSLWVI
 - 3. QSLWVI
 - 4. RSLXWI

Question ID : 630680896500
Option 1 ID : 6306803511972
Option 2 ID : 6306803511971
Option 3 ID : 6306803511974
Option 4 ID : 6306803511973

Section : General Awareness

Q.1 जनगणना 2011 के अनुसार, भारत में साक्षरता दर के संबंध में निम्नलिखित में से कौन-सा/से कथन सही है/हैं?

- I. देश में साक्षरता दर 74.04% थी।
- II. पुरुषों की साक्षरता दर 82.14% थी।
- III. महिलाओं की साक्षरता दर पुरुषों की तुलना में अधिक थी।

- Ans
- 1. केवल II और III
 - 2. केवल I
 - 3. केवल III
 - 4. केवल I और II

Question ID : 630680896242
Option 1 ID : 6306803510982
Option 2 ID : 6306803510979
Option 3 ID : 6306803510980
Option 4 ID : 6306803510981

Q.2 भारतीय संविधान ऐसे किसी भी व्यक्ति के लिए नागरिकता का प्रावधान करता है जो सामान्य तौर पर भारत के क्षेत्र में कम से कम _____ से निवास कर रहा हो।

- Ans
- 1. 4 वर्ष
 - 2. 2 वर्ष
 - 3. 5 वर्ष
 - 4. 3 वर्ष

Question ID : 630680896243
Option 1 ID : 6306803510985
Option 2 ID : 6306803510983
Option 3 ID : 6306803510986
Option 4 ID : 6306803510984

Q.3 चंद्रगुप्त द्वितीय के दरबार के निम्नलिखित कवियों में से मेघदूतम, अभिज्ञानशाकुंतलम और विक्रमोर्वशी किसकी साहित्यिक कृतियाँ हैं?

- Ans 1. कालिदास
 2. अमरसिंह
 3. बाणभट्ट
 4. शुद्रक

Question ID : 630680896235
Option 1 ID : 6306803510952
Option 2 ID : 6306803510953
Option 3 ID : 6306803510951
Option 4 ID : 6306803510954

Q.4 वह युद्ध जो दक्षिणी भारत से बाहर और बंगाल में फैला, जहाँ रॉबर्ट क्लाइव के नेतृत्व में ब्रिटिश सेना ने फ्रांसीसी समर्थन प्राप्त नवाब सिराजुद-दौला से कलकत्ता पर पुनः आधिपत्य प्राप्त किया, _____ था।

- Ans 1. 1764 का बक्सर का युद्ध
 2. 1757 का प्लासी का युद्ध
 3. 1746 का अड्यार का युद्ध
 4. 1760 का वांडीवाश का युद्ध

Question ID : 630680896234
Option 1 ID : 6306803510948
Option 2 ID : 6306803510949
Option 3 ID : 6306803510950
Option 4 ID : 6306803510947

Q.5 निम्नलिखित में से कौन-सी नदी भारत का दूसरा सबसे बड़ा झरना बनाती है, जिसे शिवसमुद्रम के नाम से जाना जाता है?

- Ans 1. गोदावरी
 2. कृष्णा
 3. महानदी
 4. कावेरी

Question ID : 630680896239
Option 1 ID : 6306803510970
Option 2 ID : 6306803510968
Option 3 ID : 6306803510967
Option 4 ID : 6306803510969

Q.6 जनगणना 2011 के प्रयोजन के लिए, किसी व्यक्ति को साक्षर मानने के लिए न्यूनतम आयु क्या थी?

- Ans 1. 9 वर्ष
 2. 7 वर्ष
 3. 5 वर्ष
 4. 6 वर्ष

Question ID : 630680896241
Option 1 ID : 6306803510978
Option 2 ID : 6306803510977
Option 3 ID : 6306803510975
Option 4 ID : 6306803510976

Q.7 कोकबोरोक किस राज्य की आधिकारिक भाषा है?

- Ans 1. त्रिपुरा
 2. उत्तराखंड
 3. कर्नाटक
 4. आंध्र प्रदेश

Question ID : 630680896237
Option 1 ID : 6306803510959
Option 2 ID : 6306803510962
Option 3 ID : 6306803510960
Option 4 ID : 6306803510961

Q.8 RO Water Purifying System' में ' RO' का पूर्ण रूप क्या है?

- Ans 1. Reverse Orientation (रिवर्स ओरिएंटेशन)
 2. Recover Osmosis (रिकवर ऑस्मोसिस)
 3. Reserve Osmosis (रिज़र्व ऑस्मोसिस)
 4. Reverse Osmosis (रिवर्स ऑस्मोसिस)

Question ID : 630680896247
Option 1 ID : 6306803511000
Option 2 ID : 6306803511002
Option 3 ID : 6306803511001
Option 4 ID : 6306803510999

Q.9 इंदिरा पॉइंट, जिसे भारत का सबसे दक्षिणी छोर माना जाता है, निम्नलिखित में से किस द्वीप पर स्थित है?

- Ans 1. ग्रेट निकोबार द्वीप
 2. लिटिल अंडमान द्वीप
 3. कैम्पबेल खाड़ी
 4. लॉन्ग आइलैंड

Question ID : 630680896240
Option 1 ID : 6306803510972
Option 2 ID : 6306803510971
Option 3 ID : 6306803510973
Option 4 ID : 6306803510974

Q.10 निम्नलिखित में से किस विटामिन की कमी से बच्चों में सूखा रोग होता है?

- Ans 1. विटामिन C
 2. विटामिन D
 3. विटामिन E
 4. विटामिन A

Question ID : 630680896246
Option 1 ID : 6306803510996
Option 2 ID : 6306803510997
Option 3 ID : 6306803510998
Option 4 ID : 6306803510995

Q.11 निम्नलिखित में से किस राज्य ने हाल ही में इंदिरा गांधी प्यारी बहना सम्मान निधि योजना शुरू की है, जिसका उद्देश्य 18 वर्ष और उससे अधिक आयु की महिलाओं को ₹1,500 की मासिक पेंशन प्रदान करना है?

- Ans
- 1. आंध्र प्रदेश
 - 2. हिमाचल प्रदेश
 - 3. उत्तराखंड
 - 4. पंजाब

Question ID : 630680896230
Option 1 ID : 6306803510934
Option 2 ID : 6306803510931
Option 3 ID : 6306803510932
Option 4 ID : 6306803510933

Q.12 हेमिस महोत्सव, जो गुरु पद्मसंभव की जयंती का प्रतीक है, निम्नलिखित में से किस राज्य/केंद्र शासित प्रदेश में मनाया जाता है?

- Ans
- 1. लद्दाख
 - 2. अरुणाचल प्रदेश
 - 3. मणिपुर
 - 4. मिजोरम

Question ID : 630680896238
Option 1 ID : 6306803510963
Option 2 ID : 6306803510966
Option 3 ID : 6306803510965
Option 4 ID : 6306803510964

Q.13 जनवरी 2024 में FIH महिला हॉकी ओलंपिक क्वालीफायर निम्नलिखित में से किस भारतीय शहर में आयोजित किया गया था?

- Ans
- 1. कोलकाता
 - 2. रांची
 - 3. नई दिल्ली
 - 4. भुवनेश्वर

Question ID : 630680896228
Option 1 ID : 6306803510926
Option 2 ID : 6306803510923
Option 3 ID : 6306803510924
Option 4 ID : 6306803510925

Q.14 वित्तीय विधेयक के संबंध में निम्नलिखित में से कौन-सा/से कथन सही है/हैं?

कथन 1: धन विधेयक के अलावा अन्य वित्तीय विधेयक अनुच्छेद 117 के अंतर्गत आते हैं।

कथन 2: उपबंध (2) के दायरे में आने वाला वित्तीय विधेयक केवल लोकसभा में पेश किया जा सकता है।

कथन 3: उपबंध (3) के दायरे में आने वाला वित्तीय विधेयक संसद के किसी भी सदन में पेश किया जा सकता है।

- Ans
- 1. केवल 2
 - 2. केवल 3
 - 3. केवल 1 और 2
 - 4. केवल 1 और 3

Question ID : 630680896244
Option 1 ID : 6306803510990
Option 2 ID : 6306803510988
Option 3 ID : 6306803510987
Option 4 ID : 6306803510989

Q.15 निवल एनपीए (NPA) 40% की पिछली उपरि सीमा से शून्य होने की स्थिति में, जनवरी 2024 में, रिज़र्व बैंक ने लाभांश भुगतान अनुपात की ऊपरी सीमा में _____ वृद्धि प्रस्तावित की।

- Ans
- 1. 50%
 - 2. 30%
 - 3. 60%
 - 4. 35%

Question ID : 630680896232
Option 1 ID : 6306803510941
Option 2 ID : 6306803510939
Option 3 ID : 6306803510942
Option 4 ID : 6306803510940

Q.16 नीलम सरन गौर की निम्नलिखित में से किस पुस्तक ने अंग्रेजी श्रेणी में साहित्य अकादमी पुरस्कार 2023 प्राप्त किया?

- Ans
- 1. 'व्हेन गॉड इज़ ए ट्रैवलर'
 - 2. 'ऑल द लाइव्स वी नेवर लिब्'
 - 3. 'थिंक्स टू लीव बिहाइंड'
 - 4. 'रेक्युम इन रागा जानकी'

Question ID : 630680896236
Option 1 ID : 6306803510955
Option 2 ID : 6306803510958
Option 3 ID : 6306803510956
Option 4 ID : 6306803510957

Q.17 केंद्रीय मंत्रिमंडल ने 5 जनवरी, 2024 को ₹ _____ करोड़ की कुल लागत से वर्ष 2021-26 की अवधि के दौरान कार्यान्वयन के लिए पृथ्वी विज्ञान मंत्रालय की अति महत्वपूर्ण योजना "PRITHvi Vlgyan (PRITHVI/पृथ्वी)" को मंजूरी दी है।

Ans 1. 5267

2. 4797

3. 2544

4. 5400

Question ID : 630680896229

Option 1 ID : 6306803510930

Option 2 ID : 6306803510928

Option 3 ID : 6306803510927

Option 4 ID : 6306803510929

Q.18 एशियाटिक सोसाइटी ऑफ बंगाल की स्थापना निम्नलिखित में से किस प्राच्यविद द्वारा 1784 में की गई थी?

Ans 1. सर जॉर्ज हिलारो बाली

2. सर विलियम जोन्स

3. सर वारेन हेस्टिंग्स

4. सर जोनाथन डंकन

Question ID : 630680896233

Option 1 ID : 6306803510945

Option 2 ID : 6306803510946

Option 3 ID : 6306803510943

Option 4 ID : 6306803510944

Q.19 भारतीय रिज़र्व बैंक (RBI) की मौद्रिक नीति समिति (MPC) द्वारा 8 दिसंबर 2023 को प्रमुख रेपो दर (key repo rate) में 25 आधार अंकों की बढ़ोतरी की गई है और जो वर्तमान में निम्नलिखित में से कितनी है?

Ans 1. 6.75%

2. 6.25%

3. 6.50%

4. 8%

Question ID : 630680896231

Option 1 ID : 6306803510937

Option 2 ID : 6306803510935

Option 3 ID : 6306803510936

Option 4 ID : 6306803510938

Q.20 निम्नलिखित में से कौन-सा/से कथन सत्य है/हैं?

1. सर्वोच्च न्यायालय के मुख्य न्यायाधीश और अन्य न्यायाधीशों की नियुक्ति भारत के राष्ट्रपति द्वारा की जाती है।
2. सर्वोच्च न्यायालय के न्यायाधीश के पद पर रह चुके किसी भी व्यक्ति को भारत के क्षेत्र के भीतर किसी भी अदालत में या किसी प्राधिकारी के समक्ष वकील के रूप में पैरवी करने की अनुमति नहीं है।
3. सर्वोच्च न्यायालय के न्यायाधीशों को संसद द्वारा समय-समय पर निर्धारित वेतन दिया जाता है।

- Ans
- 1. केवल 2
 - 2. 1, 2 और 3
 - 3. केवल 1
 - 4. केवल 1 और 3

Question ID : 630680896245
Option 1 ID : 6306803510992
Option 2 ID : 6306803510994
Option 3 ID : 6306803510991
Option 4 ID : 6306803510993

Section : Arithmetical and Numerical Ability

Q.1 निम्नलिखित रेखा-ग्राफ 2016 से 2022 की अवधि के दौरान दो कंपनियों A और B द्वारा अर्जित प्रतिशत लाभ को दर्शाता है।



$$\text{लाभ \%} = \frac{\text{अर्जित लाभ}}{\text{कुल निवेश}} \times 100\%$$

यदि 2021 में दोनों कंपनियों द्वारा निवेश की गई कुल धनराशि ₹27 लाख थी, जबकि कंपनी B द्वारा निवेश की गई राशि, कंपनी A द्वारा निवेश की गई राशि का 50% थी, तो उस वर्ष दोनों कंपनियों द्वारा अर्जित कुल लाभ (₹ लाख में) कितना था?

- Ans
- 1. 9.9
 - 2. 8.4
 - 3. 10.2
 - 4. 10.8

Question ID : 630680896534
Option 1 ID : 6306803512108
Option 2 ID : 6306803512107
Option 3 ID : 6306803512109
Option 4 ID : 6306803512110

Q.2 एक निश्चित धनराशि 2.5 वर्षों में ₹8,245 और 4 वर्षों में ₹9,112 हो जाती है। वार्षिक साधारण व्याज की दर _____ है।

- Ans
- ✗ 1. 10.5%
 - ✗ 2. 9.0%
 - ✗ 3. 8.0%
 - ✓ 4. 8.5%

Question ID : 630680896530
Option 1 ID : 6306803512094
Option 2 ID : 6306803512093
Option 3 ID : 6306803512091
Option 4 ID : 6306803512092

Q.3 एक व्यक्ति के वेतन में 15% की कमी कर दी जाती है। उसके कम किए गए वेतन को कितने प्रतिशत बढ़ाया जाना चाहिए ताकि वह उसके मूल वेतन के बराबर हो जाए?

- Ans
- ✗ 1. $11\frac{7}{15}\%$
 - ✓ 2. $17\frac{11}{17}\%$
 - ✗ 3. $16\frac{11}{17}\%$
 - ✗ 4. $13\frac{11}{13}\%$

Question ID : 630680896537
Option 1 ID : 6306803512119
Option 2 ID : 6306803512122
Option 3 ID : 6306803512121
Option 4 ID : 6306803512120

Q.4 15 व्यक्तियों में से, 9 व्यक्तियों में से प्रत्येक ने अपने भोजन पर ₹60 खर्च किए, जबकि शेष व्यक्तियों ने सभी 15 व्यक्तियों के औसत व्यय से ₹30 अधिक खर्च किए। उन सभी के द्वारा खर्च की गई कुल धनराशि (₹ में) _____ थी।

- Ans
- ✗ 1. 1,500
 - ✗ 2. 900
 - ✗ 3. 1,000
 - ✓ 4. 1,200

Question ID : 630680896528
Option 1 ID : 6306803512086
Option 2 ID : 6306803512083
Option 3 ID : 6306803512084
Option 4 ID : 6306803512085

Q.5 5 वर्ष पहले एक पति, उसकी पत्नी और उसके बेटे की औसत आयु 31 वर्ष थी और 8 वर्ष पहले उसकी पत्नी और उसके बेटे की औसत आयु 25 वर्ष थी। तो, पति की वर्तमान आयु (वर्षों में) _____ है।

- Ans
- 1. 66
 - 2. 42
 - 3. 54
 - 4. 36

Question ID : 630680896529
Option 1 ID : 6306803512090
Option 2 ID : 6306803512088
Option 3 ID : 6306803512089
Option 4 ID : 6306803512087

Q.6 यदि $47x6290y6$ एक ऐसी 9 अंकों की संख्या है जो 88 से विभाज्य है, तो निम्नलिखित में से कौन सा विकल्प $(x+y)$ का मान हो सकता है?

- Ans
- 1. 17
 - 2. 19
 - 3. 12
 - 4. 15

Question ID : 630680896536
Option 1 ID : 6306803512117
Option 2 ID : 6306803512118
Option 3 ID : 6306803512115
Option 4 ID : 6306803512116

Q.7 एक हार्ड ड्राइव का क्रय मूल्य एक पेन ड्राइव के क्रय मूल्य से ₹3,600 अधिक है। यदि हार्ड ड्राइव को 8% हानि पर और पेन ड्राइव को 182% लाभ पर बेचा जाता है, तो पूरे लेनदेन में 12% का लाभ होता है। हार्ड ड्राइव का मूल क्रय मूल्य (₹ में) कितना है?

- Ans
- 1. 3,600
 - 2. 480
 - 3. 3,800
 - 4. 4,080

Question ID : 630680896540
Option 1 ID : 6306803512132
Option 2 ID : 6306803512131
Option 3 ID : 6306803512133
Option 4 ID : 6306803512134

Q.8 एक पिता और पुत्र की वर्तमान आयु का अनुपात 5:2 है और उनकी औसत आयु 35 वर्ष है। 5 वर्ष बाद उन दोनों की आयु का अनुपात क्या होगा?

- Ans
- 1. 13 : 7
 - 2. 7 : 13
 - 3. 5 : 11
 - 4. 11 : 5

Question ID : 630680896542
Option 1 ID : 6306803512142
Option 2 ID : 6306803512141
Option 3 ID : 6306803512139
Option 4 ID : 6306803512140

Q.9 सुनील की आय सुजीत की आय से 20% अधिक है। सुनील और सुजीत क्रमशः ₹4,800 और ₹5,000 की बचत करते हैं। यदि सुनील का व्यय सुजीत की आय से 12% अधिक है, तो सुनील और सुजीत के कुल व्यय का 42% _____ है।

- Ans
- 1. ₹54,132
 - 2. ₹52,134
 - 3. ₹53,142
 - 4. ₹51,324

Question ID : 630680896538
Option 1 ID : 6306803512126
Option 2 ID : 6306803512124
Option 3 ID : 6306803512125
Option 4 ID : 6306803512123

Adda247

Q.10 दी गई सारणी एक संगठन के विभिन्न विभागों में कर्मचारियों की कुल संख्या तथा महिलाओं और पुरुषों का प्रतिशत दर्शाती है। सारणी का अध्ययन करें और निम्नलिखित प्रश्न का उत्तर दें।

विभाग	कर्मचारियों की कुल संख्या	महिलाओं का %	पुरुषों का %
A	840	55	45
B	220	65	35
C	900	77	23
D	360	35	65
E	450	56	44
F	540	60	40

विभाग D में महिला कर्मचारियों की कुल संख्या विभाग B में पुरुष कर्मचारियों की कुल संख्या का लगभग कितना प्रतिशत है?

- Ans
- ✗ 1. 152%
 - ✓ 2. 164%
 - ✗ 3. 157%
 - ✗ 4. 147%

Question ID : 630680896535

Option 1 ID : 6306803512112

Option 2 ID : 6306803512114

Option 3 ID : 6306803512113

Option 4 ID : 6306803512111

Q.11 समान लंबाई की दो रेलगाड़ियाँ एक सिग्नल पोल को पार करने में क्रमशः 10 सेकंड और 14 सेकंड का समय लेती हैं। यदि प्रत्येक ट्रेन की लंबाई 280 m है, तो विपरीत दिशाओं में यात्रा करते समय वे कितने सेकंड में एक-दूसरे को पार कर लेंगी?

- Ans
- ✗ 1. $10\frac{2}{5}$
 - ✗ 2. $12\frac{2}{3}$
 - ✓ 3. $11\frac{2}{3}$
 - ✗ 4. $13\frac{2}{5}$

Question ID : 630680896545

Option 1 ID : 6306803512151

Option 2 ID : 6306803512153

Option 3 ID : 6306803512152

Option 4 ID : 6306803512154

Q.12 $1\frac{1}{2}$ वर्ष के लिए 16% वार्षिक दर से एक निश्चित धनराशि पर अर्धवार्षिक रूप से संयोजित ब्याज और वार्षिक रूप से संयोजित ब्याज का अंतर ₹69.12 है। धनराशि (₹ में) ज्ञात करें।

- Ans
- 1. 12,000
 - 2. 11,500
 - 3. 10,000
 - 4. 10,500

Question ID : 630680896532
Option 1 ID : 6306803512102
Option 2 ID : 6306803512101
Option 3 ID : 6306803512099
Option 4 ID : 6306803512100

Q.13 A और B ने 5:3 के अनुपात में अपनी पूंजी निवेश करके एक व्यवसाय शुरू किया। 5 महीने के बाद, B ने अपनी पूंजी का एक तिहाई हिस्सा निकाल लिया और A ने अपनी पूंजी का 40% का और निवेश किया। वर्ष के अंत में, यदि कुल लाभ ₹25.75 लाख था, तो A का हिस्सा (₹ लाख में) _____ था।

- Ans
- 1. 16.5
 - 2. 14.4
 - 3. 22.2
 - 4. 18.5

Question ID : 630680896543
Option 1 ID : 6306803512144
Option 2 ID : 6306803512143
Option 3 ID : 6306803512146
Option 4 ID : 6306803512145

Q.14 एक निश्चित धनराशि 12% वार्षिक चक्रवृद्धि ब्याज दर पर 2 वर्षों में ₹27,440 हो जाती है। यदि ब्याज अर्ध-वार्षिक रूप से संयोजित किया जाता है, तो समान अवधि के लिए ब्याज की दोगुनी दर पर चक्रवृद्धि ब्याज (₹ में) लगभग कितना होगा?

- Ans
- 1. 12,546
 - 2. 10,465
 - 3. 10,645
 - 4. 11,456

Question ID : 630680896531
Option 1 ID : 6306803512098
Option 2 ID : 6306803512095
Option 3 ID : 6306803512096
Option 4 ID : 6306803512097

Q.15 12 पुरुष एक काम को 36 दिनों में पूरा कर सकते हैं और 20 महिलाएं उसी काम को 25 दिनों में पूरा कर सकती हैं। 8 पुरुषों ने काम शुरू किया और 6 दिनों के बाद 10 महिलाएं उनके साथ जुड़ गईं। वे कुल कार्य कितने दिनों में पूरा कर सकते हैं?

Ans

✓ 1. $29\frac{1}{13}$

✗ 2. $24\frac{7}{13}$

✗ 3. $14\frac{1}{13}$

✗ 4. $13\frac{1}{29}$

Question ID : 630680896544

Option 1 ID : 6306803512150

Option 2 ID : 6306803512148

Option 3 ID : 6306803512147

Option 4 ID : 6306803512149

Q.16 दो वस्तुओं A और B का लागत मूल्य समान है। A को 20% के लाभ पर बेचा जाता है और B को A के विक्रय मूल्य से ₹300 अधिक पर बेचा जाता है। यदि पूरे लेनदेन में 32% का शुद्ध लाभ होता है, तो प्रत्येक वस्तु का लागत मूल्य (₹ में) कितना है?

Ans

✓ 1. 1,250

✗ 2. 1,800

✗ 3. 2,100

✗ 4. 1,500

Question ID : 630680896539

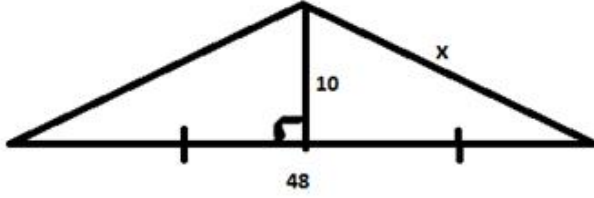
Option 1 ID : 6306803512127

Option 2 ID : 6306803512129

Option 3 ID : 6306803512130

Option 4 ID : 6306803512128

Q.17 दी गई आकृति का परिमाण ज्ञात कीजिए।



- Ans
- ✓ 1. 100 इकाई
 - ✗ 2. 80 इकाई
 - ✗ 3. 75 इकाई
 - ✗ 4. 90 इकाई

Question ID : 630680896546
Option 1 ID : 6306803512158
Option 2 ID : 6306803512156
Option 3 ID : 6306803512155
Option 4 ID : 6306803512157

Q.18 एक मैकेनिक एक स्कूटर को उसके अंकित मूल्य ₹22,000 पर 12%, x% और 10% की क्रमागत तीन छूट देने के बाद ₹16,030.08 में बेचता है। यदि इसके बजाय, इसे 2x% की एकल छूट पर बेचा जाए, तो इसका विक्रय मूल्य (₹ में) _____ होगा।

- Ans
- ✗ 1. 16,980
 - ✗ 2. 14,880
 - ✗ 3. 18,840
 - ✓ 4. 18,480

Question ID : 630680896541
Option 1 ID : 6306803512136
Option 2 ID : 6306803512135
Option 3 ID : 6306803512138
Option 4 ID : 6306803512137

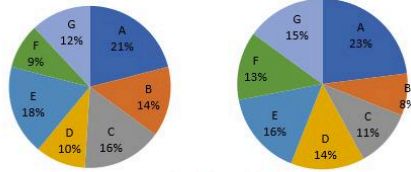
Q.19 यदि किसी धातु के ठोस गोले की त्रिज्या 8.5 cm बढ़ा दी जाए, तो उसका पृष्ठीय क्षेत्रफल $1479 \pi \text{ cm}^2$ बढ़ जाता है। यदि धातु का घनत्व 0.15 g/cm^3 है, तो मूल गोले का लगभग भार (kg में) _____ है। ($\pi = \frac{22}{7}$ का प्रयोग करें)।

- Ans
- ✗ 1. 4.12
 - ✗ 2. 5.73
 - ✗ 3. 6.27
 - ✓ 4. 3.37

Question ID : 630680896547
Option 1 ID : 6306803512160
Option 2 ID : 6306803512161
Option 3 ID : 6306803512162
Option 4 ID : 6306803512159

Q.20 निम्नलिखित पाई चार्ट एक शहर में 7 विभिन्न संस्थानों A, B, C, D, E, F और G में स्नातक और स्नातकोत्तर स्तर के छात्रों के वितरण को दर्शाते हैं।

स्नातक स्तर पर छात्रों की कुल संख्या = 25,600 स्नातकोत्तर स्तर पर छात्रों की कुल संख्या = 19,200



संस्थान D और F में स्नातकोत्तर स्तर पर पढ़ने वाले छात्रों की कुल संख्या का संस्थान A और C में स्नातक स्तर पर पढ़ने वाले छात्रों की कुल संख्या से अनुपात क्या है?

- Ans
- 1. 148 : 81
 - 2. 81 : 148
 - 3. 3 : 4
 - 4. 4 : 3

Question ID : 630680896533
Option 1 ID : 6306803512106
Option 2 ID : 6306803512105
Option 3 ID : 6306803512103
Option 4 ID : 6306803512104

Section : Test of English Language and Comprehension

Q.1 Select the segment which has a spelling error in the given sentence. If there is no error, select 'No error'.

The effectiveness of a hair cream depends on the chosen ingrediants and your specific hair needs.

- Ans
- 1. The effectiveness of a hair cream
 - 2. depends on the chosen ingrediants
 - 3. No error
 - 4. and your specific hair needs

Question ID : 630680896219
Option 1 ID : 6306803510891
Option 2 ID : 6306803510892
Option 3 ID : 6306803510894
Option 4 ID : 6306803510893

Q.2 Select the most appropriate meaning of the given idiom.

To call a spade a spade

- Ans
- 1. Speak plainly and openly
 - 2. Be friendly with the working-class people
 - 3. Know the names of tools
 - 4. Avoid taking any risks

Question ID : 630680896213
Option 1 ID : 6306803510870
Option 2 ID : 6306803510869
Option 3 ID : 6306803510867
Option 4 ID : 6306803510868

Q.3 Select the most appropriate option to fill in the blank.

The tomatoes rolled off into all corners of the shop _____ the bag was torn.

- Ans
- 1. but
 - 2. because
 - 3. while
 - 4. though

Question ID : 630680896208
Option 1 ID : 6306803510850
Option 2 ID : 6306803510849
Option 3 ID : 6306803510847
Option 4 ID : 6306803510848

Q.4 Select the segment which has a spelling error in the given sentence. If there is no error, select 'No error'.

These stations play a critical role in fasilitating communication, data transfer, tracking and control during the crucial early stages of a satellite's journey to orbit.

- Ans
- 1. These stations play a critical role in fasilitating communication
 - 2. the crucial early stages of a satellite's journey to orbit
 - 3. No error
 - 4. data transfer, tracking and control during

Question ID : 630680896218
Option 1 ID : 6306803510887
Option 2 ID : 6306803510889
Option 3 ID : 6306803510890
Option 4 ID : 6306803510888

Q.5 Select the segment which has a spelling error in the given sentence. If there is no error, select 'No error'.

Any violation of the order banning use of drinking water for gardening would attract a penalty of Rupees 5000/-the officials said.

- Ans
- 1. drinking water for gardening would attract
 - 2. No error
 - 3. a penalty of Rupees 5000/-the officials said
 - 4. Any violation of the order banning use of

Question ID : 630680896217
Option 1 ID : 6306803510884
Option 2 ID : 6306803510886
Option 3 ID : 6306803510885
Option 4 ID : 6306803510883

Q.6 Select the most appropriate synonym of the given word.

ZENITH

- Ans
- 1. summit
 - 2. establishment
 - 3. foundation
 - 4. nadir

Question ID : 630680896216
Option 1 ID : 6306803510880
Option 2 ID : 6306803510882
Option 3 ID : 6306803510881
Option 4 ID : 6306803510879

Q.7 Select the most appropriate meaning of the given idiom.

To give someone free rein means to give

- Ans
- 1. training in horse riding
 - 2. allow them to leave before everyone else
 - 3. the orders to ride a horse and go
 - 4. the freedom to do, say, or feel what they want

Question ID : 630680896212
Option 1 ID : 6306803510864
Option 2 ID : 6306803510866
Option 3 ID : 6306803510863
Option 4 ID : 6306803510865

Q.8 Find the one-word that means the same as the underlined group of words.

Gymnastics as a sport is one that is _____ (relates to one particular different or original person than to a group or team).

- Ans
- 1. common
 - 2. peculiar
 - 3. irregular
 - 4. individualistic

Question ID : 630680896210
Option 1 ID : 6306803510856
Option 2 ID : 6306803510858
Option 3 ID : 6306803510855
Option 4 ID : 6306803510857

Q.9 Select the most appropriate option to fill in the blank.

Rohit had _____ options left when he couldn't get a cab, he had to take a bus.

- Ans
- 1. little
 - 2. enough
 - 3. few
 - 4. much

Question ID : 630680896206
Option 1 ID : 6306803510839
Option 2 ID : 6306803510841
Option 3 ID : 6306803510840
Option 4 ID : 6306803510842

Q.10 Select the most appropriate meaning of the given proverb.

Don't judge a book by its cover

- Ans
- 1. Don't be afraid to give your honest opinion to anyone
 - 2. Check carefully before you buy anything
 - 3. Make use of every opportunity that comes your way
 - 4. Don't judge someone or something by appearance alone

Question ID : 630680896214
Option 1 ID : 6306803510872
Option 2 ID : 6306803510871
Option 3 ID : 6306803510874
Option 4 ID : 6306803510873

Q.11 Select the most appropriate option to fill in the blank.

Be careful to close the door _____, it makes a loud sound if it bangs.

- Ans
- 1. freely
 - 2. loosely
 - 3. slowly
 - 4. easily

Question ID : 630680896207
Option 1 ID : 6306803510845
Option 2 ID : 6306803510843
Option 3 ID : 6306803510844
Option 4 ID : 6306803510846

Q.12 Given below are four jumbled sentences. Select the option that gives their correct order forming a meaningful and coherent paragraph.

- A. Left untreated, a speech impediment can make it difficult for children to learn to read and write.
- B . Children with speech impediments might also have trouble socializing.
- C. Speech impediment, or speech disorder, happens when your child can't speak at all, or can't speak so people understand what they're saying.
- D. In some cases, a speech impediment is a sign of physical or developmental differences.

- Ans
- 1. CBAD
 - 2. BDCA
 - 3. BCAD
 - 4. CDAB

Question ID : 630680896209
Option 1 ID : 6306803510853
Option 2 ID : 6306803510851
Option 3 ID : 6306803510854
Option 4 ID : 6306803510852

Q.13 Find the one-word that means the same as the underlined group of words.

Sudha is frequently visiting doctors to get medicines for her _____ cough. (continuing or occurring again and again for a long time)

- Ans
- 1. perilous
 - 2. pursuant
 - 3. permanent
 - 4. persistent

Question ID : 630680896211
Option 1 ID : 6306803510862
Option 2 ID : 6306803510859
Option 3 ID : 6306803510861
Option 4 ID : 6306803510860

Q.14 Select the most appropriate antonym of the given word.

PRETENSE

- Ans
- 1. exasperation
 - 2. intensity
 - 3. impatience
 - 4. reality


Question ID : 630680896215
Option 1 ID : 6306803510877
Option 2 ID : 6306803510876
Option 3 ID : 6306803510875
Option 4 ID : 6306803510878

Q.15 Select the most appropriate option to fill in the blank.

It was _____ most crucial moment in her life.

- Ans
- 1. an
 - 2. a
 - 3. one
 - 4. the

Question ID : 630680896205
Option 1 ID : 6306803510836
Option 2 ID : 6306803510835
Option 3 ID : 6306803510837
Option 4 ID : 6306803510838



Comprehension:

Read the following passage and answer the questions.

Crying over spilt milk is futile. Crocodile tears are fake and manipulative. Crying wolf too is false, and dangerous. Indulging in any of the above would be a 'crying shame'; the most reprehensible behaviour. And those blubbing Everly Brothers? Leave 'em to their cryin' in the rain! There's no place in polite society for exposure that private. Nothing good's ever said about shedding a tear; our intrinsically human emissions of joy, sadness, and frustration. Because nothing good can come of it, or so we've been convinced.

The patriarchy comes down hard on weeping. 'Big boys don't cry' they command, insisting lads 'man up' and plough on amidst upheavals, without examination or even acknowledgement of their emotions. Our dammed-up waterworks then trickle into every niche and crevice, not just of our bodies but the body-politic, poisoning it like slow-acting arsenic. Didn't large-scale, pent-up resentments result in two World Wars, don't they even now trigger mass turmoil?

When 'celebs', especially male, break down in public, such as Cristiano Ronaldo or Novak Djokovic, derision is generally rained down upon them, as if Charles Dickens hadn't reprimanded, "Heaven knows we need never be ashamed of our tears, for they are rain upon the blinding dust of earth..." or Justin Timberlake wailed, "Cry me a river", unequivocally encouraging his brethren. Yet, strong women too are exhorted to never give in to such 'womanly' infirmity, or be forever stereotyped as 'the weaker sex'. Growing up in a house full of stern women, I was taught not to snivel (even the sound of words that denote crying repel!). Learning to walk in infancy, I already knew I should hold back the tears when I fell and scraped my knee. My formidable foremothers intended to build character, but I wonder now if they would have stood me in better stead by allowing me to express anguish.

SubQuestion No : 16

Q.16 The tone of the passage is

- Ans
- 1. melancholy
 - 2. threatening
 - 3. sarcastic
 - 4. moralistic

Question ID : 630680896225
Option 1 ID : 6306803510913
Option 2 ID : 6306803510914
Option 3 ID : 6306803510912
Option 4 ID : 6306803510911

Adda247

Comprehension:

Read the following passage and answer the questions.

Crying over spilt milk is futile. Crocodile tears are fake and manipulative. Crying wolf too is false, and dangerous. Indulging in any of the above would be a 'crying shame'; the most reprehensible behaviour. And those blubbing Everly Brothers? Leave 'em to their cryin' in the rain! There's no place in polite society for exposure that private. Nothing good's ever said about shedding a tear; our intrinsically human emissions of joy, sadness, and frustration. Because nothing good can come of it, or so we've been convinced.

The patriarchy comes down hard on weeping. 'Big boys don't cry' they command, insisting lads 'man up' and plough on amidst upheavals, without examination or even acknowledgement of their emotions. Our dammed-up waterworks then trickle into every niche and crevice, not just of our bodies but the body-politic, poisoning it like slow-acting arsenic. Didn't large-scale, pent-up resentments result in two World Wars, don't they even now trigger mass turmoil?

When 'celebs', especially male, break down in public, such as Cristiano Ronaldo or Novak Djokovic, derision is generally rained down upon them, as if Charles Dickens hadn't reprimanded, "Heaven knows we need never be ashamed of our tears, for they are rain upon the blinding dust of earth..." or Justin Timberlake wailed, "Cry me a river", unequivocally encouraging his brethren. Yet, strong women too are exhorted to never give in to such 'womanly' infirmity, or be forever stereotyped as 'the weaker sex'. Growing up in a house full of stern women, I was taught not to snivel (even the sound of words that denote crying repel!). Learning to walk in infancy, I already knew I should hold back the tears when I fell and scraped my knee. My formidable foremothers intended to build character, but I wonder now if they would have stood me in better stead by allowing me to express anguish.

SubQuestion No : 17

Q.17 The most appropriate antonym of the word "intrinsically"

- Ans 1. superficially
 2. eventually
 3. fundamentally
 4. ultimately

Question ID : 630680896224
Option 1 ID : 6306803510907
Option 2 ID : 6306803510910
Option 3 ID : 6306803510908
Option 4 ID : 6306803510909

Adda247

Comprehension:

Read the following passage and answer the questions.

Crying over spilt milk is futile. Crocodile tears are fake and manipulative. Crying wolf too is false, and dangerous. Indulging in any of the above would be a 'crying shame'; the most reprehensible behaviour. And those blubbing Everly Brothers? Leave 'em to their cryin' in the rain! There's no place in polite society for exposure that private. Nothing good's ever said about shedding a tear; our intrinsically human emissions of joy, sadness, and frustration. Because nothing good can come of it, or so we've been convinced.

The patriarchy comes down hard on weeping. 'Big boys don't cry' they command, insisting lads 'man up' and plough on amidst upheavals, without examination or even acknowledgement of their emotions. Our dammed-up waterworks then trickle into every niche and crevice, not just of our bodies but the body-politic, poisoning it like slow-acting arsenic. Didn't large-scale, pent-up resentments result in two World Wars, don't they even now trigger mass turmoil?

When 'celebs', especially male, break down in public, such as Cristiano Ronaldo or Novak Djokovic, derision is generally rained down upon them, as if Charles Dickens hadn't reprimanded, "Heaven knows we need never be ashamed of our tears, for they are rain upon the blinding dust of earth..." or Justin Timberlake wailed, "Cry me a river", unequivocally encouraging his brethren. Yet, strong women too are exhorted to never give in to such 'womanly' infirmity, or be forever stereotyped as 'the weaker sex'. Growing up in a house full of stern women, I was taught not to snivel (even the sound of words that denote crying repel!). Learning to walk in infancy, I already knew I should hold back the tears when I fell and scraped my knee. My formidable foremothers intended to build character, but I wonder now if they would have stood me in better stead by allowing me to express anguish.

SubQuestion No : 18

Q.18 Which word in the passage means the same as 'admonish'

Ans 1. turmoil

2. reprimand

3. snivel

4. exhort

Question ID : 630680896223

Option 1 ID : 6306803510904

Option 2 ID : 6306803510903

Option 3 ID : 6306803510906

Option 4 ID : 6306803510905

Adda247

Comprehension:

Read the following passage and answer the questions.

Crying over spilt milk is futile. Crocodile tears are fake and manipulative. Crying wolf too is false, and dangerous. Indulging in any of the above would be a 'crying shame'; the most reprehensible behaviour. And those blubbing Everly Brothers? Leave 'em to their cryin' in the rain! There's no place in polite society for exposure that private. Nothing good's ever said about shedding a tear; our intrinsically human emissions of joy, sadness, and frustration. Because nothing good can come of it, or so we've been convinced.

The patriarchy comes down hard on weeping. 'Big boys don't cry' they command, insisting lads 'man up' and plough on amidst upheavals, without examination or even acknowledgement of their emotions. Our dammed-up waterworks then trickle into every niche and crevice, not just of our bodies but the body-politic, poisoning it like slow-acting arsenic. Didn't large-scale, pent-up resentments result in two World Wars, don't they even now trigger mass turmoil?

When 'celebs', especially male, break down in public, such as Cristiano Ronaldo or Novak Djokovic, derision is generally rained down upon them, as if Charles Dickens hadn't reprimanded, "Heaven knows we need never be ashamed of our tears, for they are rain upon the blinding dust of earth..." or Justin Timberlake wailed, "Cry me a river", unequivocally encouraging his brethren. Yet, strong women too are exhorted to never give in to such 'womanly' infirmity, or be forever stereotyped as 'the weaker sex'. Growing up in a house full of stern women, I was taught not to snivel (even the sound of words that denote crying repel!). Learning to walk in infancy, I already knew I should hold back the tears when I fell and scraped my knee. My formidable foremothers intended to build character, but I wonder now if they would have stood me in better stead by allowing me to express anguish.

SubQuestion No : 19

Q.19 The most suitable title for this passage is

- Ans
- 1. Crying: is it good or bad?
 - 2. Views of great writers on crying
 - 3. Crying makes everyone sad
 - 4. Strong people do not cry

Question ID : 630680896221
Option 1 ID : 6306803510897
Option 2 ID : 6306803510898
Option 3 ID : 6306803510896
Option 4 ID : 6306803510895

Adda247

Comprehension:

Read the following passage and answer the questions.

Crying over spilt milk is futile. Crocodile tears are fake and manipulative. Crying wolf too is false, and dangerous. Indulging in any of the above would be a 'crying shame'; the most reprehensible behaviour. And those blubbing Everly Brothers? Leave 'em to their cryin' in the rain! There's no place in polite society for exposure that private. Nothing good's ever said about shedding a tear; our intrinsically human emissions of joy, sadness, and frustration. Because nothing good can come of it, or so we've been convinced.

The patriarchy comes down hard on weeping. 'Big boys don't cry' they command, insisting lads 'man up' and plough on amidst upheavals, without examination or even acknowledgement of their emotions. Our dammed-up waterworks then trickle into every niche and crevice, not just of our bodies but the body-politic, poisoning it like slow-acting arsenic. Didn't large-scale, pent-up resentments result in two World Wars, don't they even now trigger mass turmoil?

When 'celebs', especially male, break down in public, such as Cristiano Ronaldo or Novak Djokovic, derision is generally rained down upon them, as if Charles Dickens hadn't reprimanded, "Heaven knows we need never be ashamed of our tears, for they are rain upon the blinding dust of earth..." or Justin Timberlake wailed, "Cry me a river", unequivocally encouraging his brethren. Yet, strong women too are exhorted to never give in to such 'womanly' infirmity, or be forever stereotyped as 'the weaker sex'. Growing up in a house full of stern women, I was taught not to snivel (even the sound of words that denote crying repel!). Learning to walk in infancy, I already knew I should hold back the tears when I fell and scraped my knee. My formidable foremothers intended to build character, but I wonder now if they would have stood me in better stead by allowing me to express anguish.

SubQuestion No : 20

Q.20 According to the writer who among the following openly supports weeping?

- Ans
- 1. Novak Djokovic
 - 2. Cristiano Ronaldo
 - 3. Justin Timberlake
 - 4. Charles Dickens

Question ID : 630680896222
Option 1 ID : 6306803510902
Option 2 ID : 6306803510900
Option 3 ID : 6306803510901
Option 4 ID : 6306803510899

Section : Test of Hindi Language and Comprehension

Q.1 'बाण' के पर्याय से वाक्य का रिक्त स्थान पूर्ण करें—

नायिका ने अपने नैनों के _____ चलाकर नायक को परास्त कर दिया।

- Ans
- 1. शर
 - 2. द्रुम
 - 3. नग
 - 4. झष

Question ID : 630680896378
Option 1 ID : 6306803511487
Option 2 ID : 6306803511488
Option 3 ID : 6306803511490
Option 4 ID : 6306803511489

Q.2 सर्वोचित क्रिया-विशेषण शब्द से वाक्य का रिक्त स्थान पूर्ण करें-

ठंड बहुत है रात में इस तरह _____ न घूमों घर में बैठो।

- Ans
- 1. तले-ऊपर
 - 2. बाहर-भीतर
 - 3. इधर-उधर
 - 4. उधर-जिधर

Question ID : 630680896371
Option 1 ID : 6306803511462
Option 2 ID : 6306803511461
Option 3 ID : 6306803511459
Option 4 ID : 6306803511460

Q.3 'मोम होना' मुहावरे का अर्थ होगा-

- Ans
- 1. दुर्बल होना
 - 2. चिकना होना
 - 3. दयार्द्र होना
 - 4. कमजोर होना

Question ID : 630680896372
Option 1 ID : 6306803511463
Option 2 ID : 6306803511466
Option 3 ID : 6306803511464
Option 4 ID : 6306803511465

Q.4 दिए गए वाक्य में वर्तनी की दृष्टि से अशुद्ध शब्द की पहचान करें-

चंद्रमा की जयोतसना में आज कुछ भिन्न ही उज्ज्वलता है।

- Ans
- 1. उज्ज्वलता
 - 2. चंद्रमा
 - 3. जयोतसना
 - 4. भिन्न

Question ID : 630680896375
Option 1 ID : 6306803511478
Option 2 ID : 6306803511475
Option 3 ID : 6306803511476
Option 4 ID : 6306803511477

Q.5 'रात्रि' के पर्याय से वाक्य का रिक्त स्थान पूर्ण करें—

बीती _____ जाग रही!

Ans 1. शर्वरी

2. यती

3. दामिनी

4. अर्कजा

Question ID : 630680896379

Option 1 ID : 6306803511491

Option 2 ID : 6306803511492

Option 3 ID : 6306803511493

Option 4 ID : 6306803511494

Q.6 निम्न में से वाक्य विन्यास की दृष्टि से शुद्ध वाक्य का चयन कीजिए—

Ans 1. प्रकृति चित्रण मिलता है सौंदर्य का प्रतिमान बनकर हर कवि की कविता में।

2. कविता में प्रकृति चित्रण मिलता है सौंदर्य का प्रतिमान बनकर हर कवि की।

3. मिलता है हर कवि की कविता में प्रकृति चित्रण सौंदर्य का प्रतिमान बनकर।

4. सौंदर्य का प्रतिमान बनकर हर कवि की कविता में प्रकृति चित्रण मिलता है।

Question ID : 630680896366

Option 1 ID : 6306803511440

Option 2 ID : 6306803511442

Option 3 ID : 6306803511441

Option 4 ID : 6306803511439

Q.7 दिए गए वाक्य में वर्तनी की दृष्टि से अशुद्ध शब्द की पहचान करें—

दिपिका वर्तमान समय की प्रसिद्ध अभिनेत्री है।

Ans 1. वर्तमान

2. दिपिका

3. प्रसिद्ध

4. अभिनेत्री

Question ID : 630680896376

Option 1 ID : 6306803511480

Option 2 ID : 6306803511479

Option 3 ID : 6306803511481

Option 4 ID : 6306803511482

Q.8 सर्वोचित विशेषण शब्द से वाक्य का रिक्त स्थान पूर्ण करें-

कुछ भी _____ करने से पहले सौ बार सोचना चाहिए।

- Ans
- 1. झूठा
 - 2. अनुचित
 - 3. आगामी
 - 4. मोटा

Question ID : 630680896370
Option 1 ID : 6306803511455
Option 2 ID : 6306803511457
Option 3 ID : 6306803511458
Option 4 ID : 6306803511456

Q.9 निम्न में से वाक्य विन्यास की दृष्टि से शुद्ध वाक्य का चयन कीजिए-

- Ans
- 1. मूल्य आचरण के सिद्धांतों को कहते हैं हमारी नैतिकता व परम्परा का विवेचन हैं करते जो।
 - 2. मूल्य आचरण के सिद्धांतों को कहते हैं जो हमारी नैतिकता व परम्परा का विवेचन करते हैं।
 - 3. कहते हैं मूल्य आचरण के सिद्धांतों को जो हमारी नैतिकता व परम्परा का विवेचन करते हैं।
 - 4. कहते हैं मूल्य आचरण के सिद्धांतों को जो हमारी नैतिकता व परम्परा का करते हैं विवेचन।

Question ID : 630680896367
Option 1 ID : 6306803511445
Option 2 ID : 6306803511444
Option 3 ID : 6306803511443
Option 4 ID : 6306803511446

Q.10 'कर्मठ' के विलोम से वाक्य पूर्ण करें-

तुम इतने _____ क्यों हो, जीवन में कुछ तो करो।

- Ans
- 1. अकर्ममण्य
 - 2. अनुदात्त
 - 3. निश्चल
 - 4. निष्कर्म

Question ID : 630680896380
Option 1 ID : 6306803511496
Option 2 ID : 6306803511498
Option 3 ID : 6306803511497
Option 4 ID : 6306803511495

Q.11 'होनहार बिरवान के होत चीकने पात' लोकोक्ति का अर्थ होगा-

- Ans
- 1. होनी को कोई नहीं टाल सकता वो होकर रहती है।
 - 2. बुद्धिमान लोगों के पैर सुंदर होते हैं।
 - 3. होनहार के लक्षण पहले से ही दिखायी पड़ने लगते हैं।
 - 4. बरगद के पेड़ के नये पत्ते चिकने होते हैं।

Question ID : 630680896373
Option 1 ID : 6306803511470
Option 2 ID : 6306803511469
Option 3 ID : 6306803511468
Option 4 ID : 6306803511467

Q.12 'लाली मिला हुआ काला रंग' के लिए सर्वोचित एक शब्द होगा-

- Ans
- 1. रानी
 - 2. नारंगी
 - 3. उदा
 - 4. नीला

Question ID : 630680896369
Option 1 ID : 6306803511454
Option 2 ID : 6306803511452
Option 3 ID : 6306803511451
Option 4 ID : 6306803511453

Q.13 निम्न में से वाक्य विन्यास की दृष्टि से शुद्ध वाक्य का चयन कीजिए:-

- Ans
- 1. संस्कृति व्यक्ति की गरिमा को प्रतिष्ठा प्रदान कर बंधुता का भाव प्रकट करती है।
 - 2. बंधुता का प्रकट करती है भाव संस्कृति व्यक्ति की गरिमा को प्रतिष्ठा प्रदान कर।
 - 3. बंधुता का भाव प्रकट करती है संस्कृति व्यक्ति की गरिमा को प्रतिष्ठा प्रदान कर।
 - 4. भाव प्रकट बंधुता का करती है संस्कृति व्यक्ति की गरिमा को प्रतिष्ठा प्रदान कर।

Question ID : 630680896368
Option 1 ID : 6306803511450
Option 2 ID : 6306803511449
Option 3 ID : 6306803511447
Option 4 ID : 6306803511448

Q.14 'उतर गई लोई तो क्या करेगा कोई' लोकोक्ति का अर्थ होगा-

- Ans
- 1. जब इज़्ज़त ही नहीं है तो डर किसका
 - 2. दिखावे से सुंदरता नहीं बढ़ती
 - 3. झूठ बहुत दिन छिपा नहीं रह सकता
 - 4. बुरे समय पर कोई सहायता नहीं करता

Question ID : 630680896374
Option 1 ID : 6306803511471
Option 2 ID : 6306803511474
Option 3 ID : 6306803511473
Option 4 ID : 6306803511472

Q.15 दिए गए वाक्य में वर्तनी की दृष्टि से अशुद्ध शब्द की पहचान करें-

कार्यालय के समारोह में आपकी उपस्थिति वांक्षनीय है।

- Ans
- 1. वांक्षनीय
 - 2. पस्थिति
 - 3. कार्यालय
 - 4. समारोह

Question ID : 630680896377
Option 1 ID : 6306803511486
Option 2 ID : 6306803511485
Option 3 ID : 6306803511483
Option 4 ID : 6306803511484

Comprehension:

दिए गए गद्यांश के आधार पर प्रश्न के उत्तर दें—

आदिवासियों के विद्रोहों में संथालों का विद्रोह सबसे ज़बरदस्त था। भागलपुर से राजमहल के बीच का क्षेत्र दामन-ए-कोह के नाम से जाना जाता था। यहाँ हज़ारों संथालों ने संगठित विद्रोह किया। ज़मींदार, पुलिस, राजस्व विभाग और अदालतों ने संथालों पर बेइंतहा जुल्म ढाए। संथालों को कर्ज़ देकर 50 से 500 फीसदी की दर से ब्याज़ वसूला जाता था। 1854 के आते-आते आदिवासी कसमसाने लगे। आदिवासियों के मुखिया मजलिस और परगणित बैठकें करने लगे और तैयारी शुरू हो गई खुले विद्रोह की। इनमें एक स्वर से निर्णय किया गया कि बाहरी लोगों को भगाने, विदेशियों का राज हमेशा के लिए खत्म कर सतयुग का राज – न्याय और धर्म पर अपना राज – स्थापित करने के लिए खुला विद्रोह किया जाए। संथालों को विश्वास था कि भगवान् उनके साथ है। विद्रोही आदिवासियों के दो प्रमुख नेता सीदो और कान्हू थे। इन्होंने घोषणा की कि ठाकुरजी (भगवान) ने उन्हें निर्देश दिया है कि आज़ादी के लिए अब हथियार उठा लो। विदोहियों ने महाजनों और ज़मींदारों पर हमला बोलना शुरू किया। उनके मकान जला डाले। लगभग उन सभी चीज़ों पर हमला किया, जो दिक्कू (गैर-आदिवासी) और उपनिवेशवादी सत्ता के शोषण के माध्यम थे।

SubQuestion No : 16

Q.16 गद्यांश के लिए सर्वोपयुक्त शीर्षक होगा-

- Ans 1. संथाल विद्रोह
 2. जाति विद्रोह
 3. सीदो-कान्हू विद्रोह
 4. आदिवासी विद्रोह

Question ID : 630680896383
Option 1 ID : 6306803511506
Option 2 ID : 6306803511504
Option 3 ID : 6306803511505
Option 4 ID : 6306803511503

Comprehension:

दिए गए गद्यांश के आधार पर प्रश्न के उत्तर दें—

आदिवासियों के विद्रोहों में संथालों का विद्रोह सबसे ज़बरदस्त था। भागलपुर से राजमहल के बीच का क्षेत्र दामन-ए-कोह के नाम से जाना जाता था। यहाँ हज़ारों संथालों ने संगठित विद्रोह किया। ज़मींदार, पुलिस, राजस्व विभाग और अदालतों ने संथालों पर बेइंतहा जुल्म ढाए। संथालों को कर्ज़ देकर 50 से 500 फीसदी की दर से ब्याज़ वसूला जाता था। 1854 के आते-आते आदिवासी कसमसाने लगे। आदिवासियों के मुखिया मजलिस और परगणित बैठकें करने लगे और तैयारी शुरू हो गई खुले विद्रोह की। इनमें एक स्वर से निर्णय किया गया कि बाहरी लोगों को भगाने, विदेशियों का राज हमेशा के लिए खत्म कर सतयुग का राज – न्याय और धर्म पर अपना राज – स्थापित करने के लिए खुला विद्रोह किया जाए। संथालों को विश्वास था कि भगवान् उनके साथ है। विद्रोही आदिवासियों के दो प्रमुख नेता सीदो और कान्हू थे। इन्होंने घोषणा की कि ठाकुरजी (भगवान) ने उन्हें निर्देश दिया है कि आज़ादी के लिए अब हथियार उठा लो। विदोहियों ने महाजनों और ज़मींदारों पर हमला बोलना शुरू किया। उनके मकान जला डाले। लगभग उन सभी चीज़ों पर हमला किया, जो दिक्कू (गैर-आदिवासी) और उपनिवेशवादी सत्ता के शोषण के माध्यम थे।

SubQuestion No : 17

Q.17 'मजलिस' शब्द का अर्थ है—

- Ans 1. संगोष्ठी
 2. सभा
 3. समारोह
 4. भाषण

Question ID : 630680896384
Option 1 ID : 6306803511508
Option 2 ID : 6306803511507
Option 3 ID : 6306803511510
Option 4 ID : 6306803511509

Comprehension:

दिए गए गद्यांश के आधार पर प्रश्न के उत्तर दें—

आदिवासियों के विद्रोहों में संथालों का विद्रोह सबसे ज़बरदस्त था। भागलपुर से राजमहल के बीच का क्षेत्र दामन-ए-कोह के नाम से जाना जाता था। यहाँ हज़ारों संथालों ने संगठित विद्रोह किया। ज़मींदार, पुलिस, राजस्व विभाग और अदालतों ने संथालों पर बेइंतहा जुल्म ढाए। संथालों को कर्ज़ देकर 50 से 500 फीसदी की दर से ब्याज़ वसूला जाता था। 1854 के आते-आते आदिवासी कसमसाने लगे। आदिवासियों के मुखिया मजलिस और परगणित बैठकें करने लगे और तैयारी शुरू हो गई खुले विद्रोह की। इनमें एक स्वर से निर्णय किया गया कि बाहरी लोगों को भगाने, विदेशियों का राज हमेशा के लिए खत्म कर सतयुग का राज – न्याय और धर्म पर अपना राज – स्थापित करने के लिए खुला विद्रोह किया जाए। संथालों को विश्वास था कि भगवान् उनके साथ है। विद्रोही आदिवासियों के दो प्रमुख नेता सीदो और कान्हू थे। इन्होंने घोषणा की कि ठाकुरजी (भगवान) ने उन्हें निर्देश दिया है कि आज़ादी के लिए अब हथियार उठा लो। विद्रोहियों ने महाजनों और ज़मींदारों पर हमला बोलना शुरू किया। उनके मकान जला डाले। लगभग उन सभी चीज़ों पर हमला किया, जो दिक्कू (गैर-आदिवासी) और उपनिवेशवादी सत्ता के शोषण के माध्यम थे।

SubQuestion No : 18

Q.18 गद्यांश में वर्णित विद्रोह के संदर्भ में असत्य है—

- Ans
- 1. सीदो और कान्हू इस विद्रोह के मुख्य नेता थे।
 - 2. यह विद्रोह भागलपुर से राजमहल के बीच के क्षेत्र में हुआ।
 - 3. विद्रोहियों ने महाजनों और ज़मींदारों को अपना निशाना बनाया।
 - 4. इस विद्रोह में धार्मिकता को स्थान नहीं दिया गया था।

Question ID : 630680896386
Option 1 ID : 6306803511516
Option 2 ID : 6306803511515
Option 3 ID : 6306803511517
Option 4 ID : 6306803511518

Comprehension:

दिए गए गद्यांश के आधार पर प्रश्न के उत्तर दें—

आदिवासियों के विद्रोहों में संथालों का विद्रोह सबसे ज़बरदस्त था। भागलपुर से राजमहल के बीच का क्षेत्र दामन-ए-कोह के नाम से जाना जाता था। यहाँ हज़ारों संथालों ने संगठित विद्रोह किया। ज़मींदार, पुलिस, राजस्व विभाग और अदालतों ने संथालों पर बेइंतहा जुल्म ढाए। संथालों को कर्ज़ देकर 50 से 500 फीसदी की दर से ब्याज़ वसूला जाता था। 1854 के आते-आते आदिवासी कसमसाने लगे। आदिवासियों के मुखिया मजलिस और परगणित बैठकें करने लगे और तैयारी शुरू हो गई खुले विद्रोह की। इनमें एक स्वर से निर्णय किया गया कि बाहरी लोगों को भगाने, विदेशियों का राज हमेशा के लिए खत्म कर सतयुग का राज – न्याय और धर्म पर अपना राज – स्थापित करने के लिए खुला विद्रोह किया जाए। संथालों को विश्वास था कि भगवान् उनके साथ है। विद्रोही आदिवासियों के दो प्रमुख नेता सीदो और कान्हू थे। इन्होंने घोषणा की कि ठाकुरजी (भगवान) ने उन्हें निर्देश दिया है कि आज़ादी के लिए अब हथियार उठा लो। विद्रोहियों ने महाजनों और ज़मींदारों पर हमला बोलना शुरू किया। उनके मकान जला डाले। लगभग उन सभी चीज़ों पर हमला किया, जो दिक्कू (गैर-आदिवासी) और उपनिवेशवादी सत्ता के शोषण के माध्यम थे।

SubQuestion No : 19

Q.19 'दामन-ए-कोह' क्या था?

- Ans
- 1. एक जाति का नाम
 - 2. एक शहर का नाम
 - 3. एक विस्तृत क्षेत्र का नाम
 - 4. एक आंदोलन का नाम

Question ID : 630680896382
Option 1 ID : 6306803511501
Option 2 ID : 6306803511499
Option 3 ID : 6306803511500
Option 4 ID : 6306803511502

Comprehension:

दिए गए गद्यांश के आधार पर प्रश्न के उत्तर दें-

आदिवासियों के विद्रोहों में संथालों का विद्रोह सबसे ज़बरदस्त था। भागलपुर से राजमहल के बीच का क्षेत्र दामन-ए-कोह के नाम से जाना जाता था। यहाँ हज़ारों संथालों ने संगठित विद्रोह किया। ज़मींदार, पुलिस, राजस्व विभाग और अदालतों ने संथालों पर बेइंतहा जुल्म ढाए। संथालों को कर्ज़ देकर 50 से 500 फीसदी की दर से ब्याज़ वसूला जाता था। 1854 के आते-आते आदिवासी कसमसाने लगे। आदिवासियों के मुखिया मजलिस और परगणित बैठकें करने लगे और तैयारी शुरू हो गई खुले विद्रोह की। इनमें एक स्वर से निर्णय किया गया कि बाहरी लोगों को भगाने, विदेशियों का राज हमेशा के लिए खत्म कर सतयुग का राज - न्याय और धर्म पर अपना राज - स्थापित करने के लिए खुला विद्रोह किया जाए। संथालों को विश्वास था कि भगवान् उनके साथ है। विद्रोही आदिवासियों के दो प्रमुख नेता सीदो और कान्हू थे। इन्होंने घोषणा की कि ठाकुरजी (भगवान) ने उन्हें निर्देश दिया है कि आज़ादी के लिए अब हथियार उठा लो। विदोहियों ने महाजनों और ज़मींदारों पर हमला बोलना शुरू किया। उनके मकान जला डाले। लगभग उन सभी चीज़ों पर हमला किया, जो दिक्कू (गैर-आदिवासी) और उपनिवेशवादी सत्ता के शोषण के माध्यम थे।

SubQuestion No : 20

Q.20 गद्यांश के अनुसार विद्रोह का अभीष्ट नहीं था-

- Ans
- 1. न्याय और धर्म के राज की स्थापना
 - 2. अत्यधिक ब्याज़ पर अंकुश
 - 3. धर्म के वर्चस्व की समाप्ति
 - 4. गैर आदिवासियों का निष्कासन

Question ID : 630680896385
Option 1 ID : 6306803511512
Option 2 ID : 6306803511513
Option 3 ID : 6306803511514
Option 4 ID : 6306803511511

Section : Discipline1

Q.1 किस योजना के तहत गंभीर विकलांगता वाले बच्चों को घर-आधारित और वैकल्पिक शैक्षिक सेंटर्स के तहत शिक्षित किया जा सकता है ताकि वे स्वतंत्र जीवन कौशल हासिल कर सकें?

- Ans
- 1. शिक्षा का अधिकार अधिनियम
 - 2. माध्यमिक स्तर पर दिव्यांगों के लिए समावेशी शिक्षा
 - 3. राष्ट्रीय माध्यमिक शिक्षा अभियान
 - 4. सर्व शिक्षा अभियान

Question ID : 630680896570
Option 1 ID : 6306803512247
Option 2 ID : 6306803512248
Option 3 ID : 6306803512250
Option 4 ID : 6306803512249

Q.2 बच्चा भाषा के छोटे-सरल वाक्य कब बोलना शुरू करता है?

- Ans
- 1. 2 साल में
 - 2. 11 महीने में
 - 3. 3 साल में
 - 4. 4 साल में

Question ID : 630680896564
Option 1 ID : 6306803512224
Option 2 ID : 6306803512223
Option 3 ID : 6306803512225
Option 4 ID : 6306803512226

Q.3 नेत्र विज्ञान किससे सम्बंधित है?

- Ans
- 1. वाग्दोष
 - 2. श्रवण विकार
 - 3. मनोविकार
 - 4. दृष्टि दोष

Question ID : 630680896573
Option 1 ID : 6306803512260
Option 2 ID : 6306803512259
Option 3 ID : 6306803512262
Option 4 ID : 6306803512261

Q.4 किशोरावस्था _____ और _____ के बीच वृद्धि और विकास का संक्रमण काल है।

- Ans
- 1. बाल्यावस्था, वयस्कता
 - 2. बचपनावस्था, मध्य बाल्यावस्था
 - 3. शैशवावस्था, प्रारम्भिक बाल्यावस्था
 - 4. प्रारम्भिक बाल्यावस्था, उत्तर बाल्यावस्था

Question ID : 630680896558
Option 1 ID : 6306803512202
Option 2 ID : 6306803512201
Option 3 ID : 6306803512199
Option 4 ID : 6306803512200

Q.5 शिक्षा का अधिकार अधिनियम, विशेष आवश्यकता वाले बच्चों सहित निम्नलिखित में से किस आयु वर्ग के बच्चों को निःशुल्क और अनिवार्य शिक्षा का अधिकार प्रदान करता है?

- Ans
- 1. 4-14 वर्ष
 - 2. 4-16 वर्ष
 - 3. 6-16 वर्ष
 - 4. 6-14 वर्ष

Question ID : 630680896569
Option 1 ID : 6306803512243
Option 2 ID : 6306803512245
Option 3 ID : 6306803512246
Option 4 ID : 6306803512244

Q.6 कौन-सा भारतीय अधिनियम दिव्यांगजनों की शिक्षा, रोजगार, बाधा मुक्त परिवेश के निर्माण, सामाजिक सुरक्षा आदि प्रदान करने का ध्यान रखता है?

- Ans
- 1. आर.पी.डब्ल्यू.डी.(RPWD) अधिनियम, 2016
 - 2. आर.सी.आई.(RCI) अधिनियम, 1992
 - 3. मानसिक स्वास्थ्य अधिनियम, 1987
 - 4. आर.टी.ई.(RTE) अधिनियम, 2009

Question ID : 630680896568
Option 1 ID : 6306803512242
Option 2 ID : 6306803512240
Option 3 ID : 6306803512239
Option 4 ID : 6306803512241

Q.7 पढ़ने और लिखने की एक स्पर्श प्रणाली जो दृष्टिबाधित बच्चों के लिए तैयार की गई है, क्या कहलाती है?

- Ans
- 1. श्रव्य पुस्तक (Talking book)
 - 2. ब्रेल (Braille)
 - 3. ऑडियोबुक (Audiobook)
 - 4. इलेक्ट्रॉनिक रीडर (Electronic reader)

Question ID : 630680896574
Option 1 ID : 6306803512264
Option 2 ID : 6306803512266
Option 3 ID : 6306803512263
Option 4 ID : 6306803512265

Q.8 वह कथन ज्ञात कीजिए जो अधिगम की प्रकृति के संबंध में सही नहीं है।

- Ans
- 1. अधिगम उद्देश्यपूर्ण या लक्ष्य निर्देशित होता है।
 - 2. अधिगम एक प्रक्रिया है न कि एक उत्पाद
 - 3. अधिगम सार्वभौमिक और सतत होता है।
 - 4. अधिगम स्थायी है इसे उत्क्रमित नहीं किया जा सकता है।

Question ID : 630680896559
Option 1 ID : 6306803512204
Option 2 ID : 6306803512203
Option 3 ID : 6306803512206
Option 4 ID : 6306803512205

Q.9 एक ही भू-राजनीतिक परिवेश में विभिन्न सामाजिक संरचनाओं, विश्वास प्रणालियों, रिवाजों और जीवन जीने के तरीकों के सह-अस्तित्व की घटना का वर्णन करने के लिए किस शब्द का प्रयोग किया जाता है?

- Ans
- 1. संजाति केंद्रिकता
 - 2. सामाजिक-सांस्कृतिक विविधता
 - 3. सांस्कृतिक समरूपता
 - 4. आत्मसात्करण

Question ID : 630680896567
Option 1 ID : 6306803512238
Option 2 ID : 6306803512237
Option 3 ID : 6306803512235
Option 4 ID : 6306803512236

Q.10 समावेशी शिक्षा के संबंध में कौन-सा कथन सही नहीं है?

- Ans
- 1. पारंपरिक रूप से बहिष्कृत समूहों के लिए वास्तविक अधिगम के अवसर।
 - 2. विशेष आवश्यकता वाले बच्चों के लिए विशेष कक्षाएँ और स्कूल।
 - 3. न केवल दिव्यांग बच्चों के लिए, बल्कि अल्पसंख्यक भाषा बोलने वालों के लिए भी अधिगम के अवसर।
 - 4. समावेशी शिक्षा का अर्थ "सभी बच्चे एक ही स्कूल में, एक ही कक्षा में" है।

Question ID : 630680896566
Option 1 ID : 6306803512233
Option 2 ID : 6306803512231
Option 3 ID : 6306803512234
Option 4 ID : 6306803512232

Q.11 अभिकथन (A): शैक्षिक मूल्यांकन समय-समय पर किया जाता है।
कारण (R): मूल्यांकन के माध्यम से शैक्षिक योजना के संबंध में विश्वसनीय निर्णय लिए जाते हैं।

- Ans
- 1. A सत्य है लेकिन R असत्य है।
 - 2. A और R दोनों असत्य हैं।
 - 3. A और R दोनों सत्य हैं लेकिन R, A का सही स्पष्टीकरण नहीं है।
 - 4. A और R दोनों सत्य हैं और R, A का सही स्पष्टीकरण है।

Question ID : 630680896560
Option 1 ID : 6306803512209
Option 2 ID : 6306803512210
Option 3 ID : 6306803512208
Option 4 ID : 6306803512207

Q.12 निम्नलिखित में से कौन-सा कथन प्रदर्शन विधि के संबंध में सत्य नहीं है?

- Ans
- 1. प्रदर्शन शिक्षण की एक शिक्षार्थी केन्द्रित विधि है।
 - 2. विज्ञान की कक्षा में प्रदर्शन का अक्सर उपयोग किया जाता है।
 - 3. प्रदर्शन विधि एक क्रियाकलाप केन्द्रित विधि है।
 - 4. प्रदर्शन से शिक्षार्थी को अवलोकन के माध्यम से अधिगम में सहायता मिलती है।

Question ID : 630680896561
Option 1 ID : 6306803512212
Option 2 ID : 6306803512214
Option 3 ID : 6306803512213
Option 4 ID : 6306803512211

Q.13 A testing procedure for the formal assessment of the hearing losses is known as?

- Ans
- 1. Audiometry
 - 2. Audiogram
 - 3. Audiobook
 - 4. Audiometer

Question ID : 630680896571
Option 1 ID : 6306803512251
Option 2 ID : 6306803512253
Option 3 ID : 6306803512254
Option 4 ID : 6306803512252

Q.14 Documentaries, museums, artifacts, archives, timelines are some of the resources to teach _____ effectively to social science students.

- Ans
- 1. Geography
 - 2. Political science
 - 3. History
 - 4. Economics

Question ID : 630680896563
Option 1 ID : 6306803512221
Option 2 ID : 6306803512220
Option 3 ID : 6306803512222
Option 4 ID : 6306803512219

Q.15 Our visual system mainly consists of three components namely-

- Ans
- 1. Eyes, sensory nerves and brain
 - 2. Eyes, optic nerves and sensory nerves
 - 3. Eyes, optic nerves and light
 - 4. Eyes, optic nerves and brain

Question ID : 630680896572
Option 1 ID : 6306803512255
Option 2 ID : 6306803512257
Option 3 ID : 6306803512258
Option 4 ID : 6306803512256

Q.16 निम्नलिखित में से कौन-सा कथन सही नहीं है?

- Ans
- 1. विकासत्मक परिवर्तन क्रमबद्ध होते हैं।
 - 2. विकास से तात्पर्य मात्रात्मक और गुणात्मक दोनों प्रकार के परिवर्तनों से है।
 - 3. विकास एक ऐसी प्रक्रिया है जो जन्म से पहले ही शुरू हो जाती है।
 - 4. विकास की प्रकृति स्थिर होती है।

Question ID : 630680896557
Option 1 ID : 6306803512197
Option 2 ID : 6306803512195
Option 3 ID : 6306803512198
Option 4 ID : 6306803512196

Q.17 Primary language or the mother tongue of the child is extensively used in this method of teaching English language-

- Ans
- 1. Direct method
 - 2. Audio-lingual method
 - 3. Grammar translation method
 - 4. Total Physical Response

Question ID : 630680896565
Option 1 ID : 6306803512227
Option 2 ID : 6306803512228
Option 3 ID : 6306803512229
Option 4 ID : 6306803512230

Q.18 निम्नलिखित में से कौन-सा वह कारक है, जो अधिगम अक्षमता का कारण नहीं है?

- Ans
- 1. आनुवंशिकता कारक
 - 2. वातावरणीय कारक
 - 3. आर्थिक कारक
 - 4. शरीरवृत्तिक कारक

Question ID : 630680896575
Option 1 ID : 6306803512267
Option 2 ID : 6306803512270
Option 3 ID : 6306803512269
Option 4 ID : 6306803512268

Q.19 The period of trust vs. mistrust has appeared in which developmental theory?

- Ans 1. Psychological development theory
 2. Psycho-social development theory
 3. Socio-cultural development theory
 4. Emotional development theory

Question ID : 630680896556
Option 1 ID : 6306803512191
Option 2 ID : 6306803512194
Option 3 ID : 6306803512193
Option 4 ID : 6306803512192

Q.20 Pictorial presentation which involves children interpreting pictures and to find relevant information and solutions to mathematical problems are techniques of teaching preferably adopted to teach students at

- Ans 1. Pre-primary level
 2. Primary level
 3. Elementary level
 4. Secondary level

Question ID : 630680896562
Option 1 ID : 6306803512215
Option 2 ID : 6306803512216
Option 3 ID : 6306803512217
Option 4 ID : 6306803512218

Section : Discipline2

Q.1 Which type of guidance focuses on assisting individuals in choosing, preparing for, entering, and progressing in their chosen occupation or career?

- Ans 1. Vocational Guidance
 2. Educational Guidance
 3. Study Skills Training
 4. Personal-Social Guidance

Question ID : 630680896587
Option 1 ID : 6306803512317
Option 2 ID : 6306803512315
Option 3 ID : 6306803512318
Option 4 ID : 6306803512316

Q.2 Alpha-feto protein test, sonography, MRI and Amniocentesis are some of the tests to identify multiple disabilities among children at-

- Ans
- 1. Later childhood
 - 2. Early childhood
 - 3. Pre-natal stage
 - 4. Post-natal stage

Question ID : 630680896585
Option 1 ID : 6306803512310
Option 2 ID : 6306803512309
Option 3 ID : 6306803512307
Option 4 ID : 6306803512308

Q.3 Which among the following factor causing multiple disabilities in children is not associated at the time of the birth?

- Ans
- 1. Oxygen deprivation
 - 2. Perinatal hemorrhage
 - 3. Premature birth
 - 4. Postnatal trauma

Question ID : 630680896586
Option 1 ID : 6306803512311
Option 2 ID : 6306803512313
Option 3 ID : 6306803512312
Option 4 ID : 6306803512314

Q.4 Which among the following term is not associated with expressive language problems?

- Ans
- 1. Apraxia
 - 2. Dysarthria
 - 3. Dysnomia
 - 4. Dysgraphia

Question ID : 630680896580
Option 1 ID : 6306803512288
Option 2 ID : 6306803512289
Option 3 ID : 6306803512287
Option 4 ID : 6306803512290

Q.5 ADHD का विस्तारित रूप क्या है?

- Ans
- 1. Attention Deficit Hypersensitivity Disorder (अटेंशन डेफिसिट हाइपरसेंसिटिविटी डिसऑर्डर)
 - 2. Attention Disorder of Hyperactivity Deficiency (अटेंशन डिसऑर्डर ऑफ हाइपरएक्टिविटी डेफिसिएंसी)
 - 3. Attention Deficit Hyperactivity Disorder (अटेंशन डेफिसिट हाइपरएक्टिविटी डिसऑर्डर)
 - 4. Attention Deficiency Hyperactivity Disorder (अटेंशन डेफिसिएंसी हाइपरएक्टिविटी डिसऑर्डर)

Question ID : 630680896579
Option 1 ID : 6306803512285
Option 2 ID : 6306803512283
Option 3 ID : 6306803512284
Option 4 ID : 6306803512286

Q.6 निम्नलिखित में से कौन-सी तकनीक अधिगम अक्षम बच्चों की मदद करने के लिए उपयुक्त नहीं है?

- Ans
- 1. स्मृति सहायक उपकरण
 - 2. व्यष्टीकृत अनुदेश
 - 3. तकनीकी दृष्टिकोण
 - 4. शिक्षक-केंद्रित दृष्टिकोण

Question ID : 630680896578
Option 1 ID : 6306803512279
Option 2 ID : 6306803512281
Option 3 ID : 6306803512280
Option 4 ID : 6306803512282

Q.7 लोवास पद्धति (Lovass method) का गहन हस्तक्षेप कार्यक्रम मुख्य रूप से किस आयु वर्ग को लक्षित करता है?

- Ans
- 1. किशोर
 - 2. स्कूल जाने वाले बच्चे
 - 3. पूर्वस्कूली आयु के बच्चे
 - 4. युवा वयस्क

Question ID : 630680896596
Option 1 ID : 6306803512353
Option 2 ID : 6306803512352
Option 3 ID : 6306803512351
Option 4 ID : 6306803512354

Q.8 अनुकूली कुर्सियाँ, स्टैंडर्स, साइड-लेयर्स और स्टैंडिंग फ्रेम कुछ ऐसी सहायक प्रौद्योगिकियाँ हैं, जिनका उपयोग _____ वाले व्यक्तियों द्वारा किया जाता है।

- Ans
- 1. श्रवण अक्षमता
 - 2. एडीएचडी (ADHD)
 - 3. मोटर विकलांगता
 - 4. वाक् विकार

Question ID : 630680896584
Option 1 ID : 6306803512303
Option 2 ID : 6306803512306
Option 3 ID : 6306803512304
Option 4 ID : 6306803512305

Q.9 दिए गए विकल्पों में से कौन-सा विकल्प अधिगम अक्षम बच्चों की पहचान करने के लिए परीक्षण उपकरण नहीं है?

- Ans
- 1. दैनिक मूल्यांकन प्रणाली
 - 2. अवलोकन
 - 3. योग्यता परीक्षण
 - 4. नैदानिक परीक्षण

Question ID : 630680896576
Option 1 ID : 6306803512274
Option 2 ID : 6306803512271
Option 3 ID : 6306803512273
Option 4 ID : 6306803512272

Q.10 स्वलीनता (AUTISM) पहचान का प्राथमिक स्रोत क्या है?

- Ans 1. माता-पिता/देखभालकर्ता
 2. बाल रोग विशेषज्ञ
 3. चिकित्सक
 4. शिक्षक

Question ID : 630680896581
Option 1 ID : 6306803512293
Option 2 ID : 6306803512294
Option 3 ID : 6306803512291
Option 4 ID : 6306803512292

Q.11 According to applied behavior analysis, what is the first step in treating inappropriate behavior?

- Ans 1. Providing intensive trial training
 2. Identifying alternative behaviors.
 3. Implementing behavior modification techniques
 4. Analyze the behavior of affected child in his environment.

Question ID : 630680896593
Option 1 ID : 6306803512342
Option 2 ID : 6306803512339
Option 3 ID : 6306803512341
Option 4 ID : 6306803512340

Q.12 अभिकथन (A): प्रमस्तिष्क घात एक ऐसी स्थिति है जिसमें व्यक्ति शरीर के संचलन पर नियंत्रण नहीं रख सकता है।

कारण (R): मस्तिष्क में मोटर क्षेत्रों का दोषपूर्ण विकास संचलन और संस्थिति को भलीभाँति नियंत्रित करने की मस्तिष्क की क्षमता को बाधित करता है।

- Ans 1. A सत्य है लेकिन R असत्य है।
 2. A और R दोनों असत्य हैं।
 3. A और R दोनों सत्य हैं और R, A का सही स्पष्टीकरण है।
 4. A और R दोनों सत्य हैं लेकिन R, A का सही स्पष्टीकरण नहीं है।

Question ID : 630680896583
Option 1 ID : 6306803512301
Option 2 ID : 6306803512302
Option 3 ID : 6306803512299
Option 4 ID : 6306803512300

Q.13 एडीएचडी (ADHD) से पीड़ित बच्चों के लिए शैक्षिक सुविधाओं का प्राथमिक फोकस क्या है?

- Ans 1. सख्त अनुशासनात्मक उपायों को लागू करना।
 2. बच्चे की आवश्यकताओं के अनुरूप कक्षा के वातावरण में परिवर्तन करना।
 3. प्रत्यक्ष रूप से कुशलतापूर्वक बच्चे के व्यवहार को बदलना।
 4. अतिरिक्त शैक्षणिक ट्यूशन प्रदान करना।

Question ID : 630680896589
Option 1 ID : 6306803512326
Option 2 ID : 6306803512324
Option 3 ID : 6306803512323
Option 4 ID : 6306803512325

Q.14 What is the primary focus of Applied Behavioral Analysis (ABA)?

- Ans
- 1. Cognitive principles
 - 2. Positive reinforcement
 - 3. Pharmacological interventions
 - 4. Negative reinforcement

Question ID : 630680896592
Option 1 ID : 6306803512336
Option 2 ID : 6306803512337
Option 3 ID : 6306803512338
Option 4 ID : 6306803512335

Q.15 स्वपरायण (Autistic) बच्चों में सिवाय _____ के निम्नलिखित सभी के साथ कई विशेषताएं पाई जाती हैं।

- Ans
- 1. संवेगात्मक विक्रोभ
 - 2. कमजोर X सिन्ड्रोम
 - 3. मानसिक मंदता
 - 4. उच्च रक्तचाप

Question ID : 630680896582
Option 1 ID : 6306803512296
Option 2 ID : 6306803512297
Option 3 ID : 6306803512295
Option 4 ID : 6306803512298

Q.16 प्रतिभाशाली बच्चों के साथ काम करने वाले परामर्शदाताओं के लिए महत्वपूर्ण विचारणा क्या है?

- Ans
- 1. मानना कि पारंपरिक परामर्श पद्धतियां पर्याप्त हैं।
 - 2. मनोविकारी लक्षणों और निदान श्रेणियों की पहचान करना।
 - 3. प्रतिभा की बारीकी को समझना और एक मजबूत सैद्धांतिक आधार रखना।
 - 4. बच्चे की समस्या के हेतुविज्ञान को नज़रअंदाज़ करना।

Question ID : 630680896588
Option 1 ID : 6306803512319
Option 2 ID : 6306803512321
Option 3 ID : 6306803512322
Option 4 ID : 6306803512320

Q.17 पूर्वस्कूली शिक्षा में आमतौर पर किस प्रकार की पद्धति निर्धारित और अपनाई जाती है?

- Ans
- 1. रटने की पद्धति
 - 2. औपचारिक शिक्षण पद्धति
 - 3. क्रीड़ा-पद्धति
 - 4. व्याख्यान-आधारित पद्धति

Question ID : 630680896591
Option 1 ID : 6306803512331
Option 2 ID : 6306803512334
Option 3 ID : 6306803512333
Option 4 ID : 6306803512332

Q.18 किसी व्यक्ति के यांत्रिक लेखन कौशल से संबंधित लिखित भाषा विकार को क्या कहते हैं?

- Ans
- 1. डिस्केलकुलिया (Dyscalculia)
 - 2. डिसग्राफिया (Dysgraphia)
 - 3. डिस्लेक्सिया (Dyslexia)
 - 4. डिस्नोमिया (Dysnomia)

Question ID : 630680896577
Option 1 ID : 6306803512277
Option 2 ID : 6306803512276
Option 3 ID : 6306803512275
Option 4 ID : 6306803512278

Q.19 What is the correct sequence of steps involved in applied behavior analysis?

- Ans
- 1. Analyze the behavior of child, Shaping appropriate behavior, Identifying alternative behaviors.
 - 2. Analyze the behavior of child, Identifying alternative behaviors, Shaping appropriate behavior.
 - 3. Identifying alternative behaviors, Analyze the behavior of child, Shaping appropriate behavior.
 - 4. Shaping appropriate behavior, Identifying alternative behaviors, Analyze the behavior of child.

Question ID : 630680896595
Option 1 ID : 6306803512348
Option 2 ID : 6306803512350
Option 3 ID : 6306803512347
Option 4 ID : 6306803512349

Q.20 प्रारंभिक वर्षों की शिक्षा में सफल समावेशन के लिए प्रमुख घटक क्या है?

- Ans
- 1. सख्त पाठ्यचर्या
 - 2. अक्षम बालकों को मूल्यांकन से बाहर रखना
 - 3. प्रारंभिक शिक्षण वातावरण तक सीमित अभिगम्यता
 - 4. लचीली पाठ्यचर्या और सुलभ वातावरण

Question ID : 630680896590
Option 1 ID : 6306803512327
Option 2 ID : 6306803512330
Option 3 ID : 6306803512329
Option 4 ID : 6306803512328

Section : Discipline3

Q.1 समुदाय-आधारित पुनर्वास (CBR) की अवधारणा कब अस्तित्व में आई?

- Ans
- 1. 1998
 - 2. 1988
 - 3. 2008
 - 4. 1978

Question ID : 630680896598
Option 1 ID : 6306803512361
Option 2 ID : 6306803512360
Option 3 ID : 6306803512362
Option 4 ID : 6306803512359

Q.2 श्रवण बाधित लोगों के संदर्भ में ISL का क्या अर्थ है?

- Ans
- 1. International Sign Language (इंटरनेशनल साइन लैंग्वेज)
 - 2. Indian Sign Language (इंडियन साइन लैंग्वेज)
 - 3. Interpreted Sign Language (इन्टरप्रेटेड साइन लैंग्वेज)
 - 4. Inclusive Sign Language (इन्क्लूजन साइन लैंग्वेज)

Question ID : 630680896615
Option 1 ID : 6306803512427
Option 2 ID : 6306803512429
Option 3 ID : 6306803512430
Option 4 ID : 6306803512428

Q.3 लोवास पद्धति (Lovass method) नामक व्यापक रूप से प्रयुक्त व्यवहार उपचार पद्धति का विकास किसने किया?

- Ans
- 1. प्रोफेसर एडम लोवास
 - 2. प्रोफेसर एलेना लोवास
 - 3. प्रोफेसर मार्कस लोवास
 - 4. प्रोफेसर इवान लोवास

Question ID : 630680896594
Option 1 ID : 6306803512344
Option 2 ID : 6306803512345
Option 3 ID : 6306803512346
Option 4 ID : 6306803512343

Q.4 Which device provides immediate hard copies of Braille text and allows for text insertion and proofreading before printing?

- Ans
- 1. Electronic Braille typewriter
 - 2. Tactile images
 - 3. Electronic Braille note-taker
 - 4. Portable reading device

Question ID : 630680896604
Option 1 ID : 6306803512386
Option 2 ID : 6306803512384
Option 3 ID : 6306803512383
Option 4 ID : 6306803512385

Q.5 सांकेतिक भाषा के लिए संचार का प्राथमिक माध्यम क्या है?

- Ans
- 1. लेखन के माध्यम से
 - 2. बोलकर
 - 3. कानों के माध्यम से
 - 4. हाथ, आँख और धड़ के माध्यम से

Question ID : 630680896612
Option 1 ID : 6306803512415
Option 2 ID : 6306803512417
Option 3 ID : 6306803512416
Option 4 ID : 6306803512418

Q.6 अभिकथन: समावेशी कक्षाओं में श्रवण बाधित बच्चे और शिक्षक के बीच निकटता बनाए रखना आवश्यक है।
कारण: निकटता बच्चे और शिक्षक के बीच बेहतर दृश्य और श्रवण संचार की सुविधा देती है।

- Ans
- 1. अभिकथन सत्य है, लेकिन कारण असत्य है।
 - 2. अभिकथन असत्य है, लेकिन कारण सत्य है।
 - 3. अभिकथन और कारण दोनों सत्य हैं, लेकिन कारण अभिकथन का सही स्पष्टीकरण नहीं है।
 - 4. अभिकथन और कारण दोनों सत्य हैं तथा कारण, अभिकथन का सही स्पष्टीकरण है।

Question ID : 630680896610
Option 1 ID : 6306803512409
Option 2 ID : 6306803512410
Option 3 ID : 6306803512408
Option 4 ID : 6306803512407

Q.7 अभिविन्यास और गतिशीलता प्रशिक्षण से गतिशीलता संबंधी चुनौतियों वाले व्यक्तियों को किस प्रकार लाभ मिलता है?

- Ans
- 1. दैनिक दिनचर्या की गतिविधियों के लिए दूसरों पर निर्भरता बढ़ाकर
 - 2. संभावित खतरों को रोकने के लिए उनकी आवाजाही को प्रतिबंधित करके
 - 3. उन्हें सामुदायिक जीवन और कार्यबल से अलग करके
 - 4. अपने पर्यावरण पर नियंत्रण बढ़ाकर और स्वतंत्रता को बढ़ावा देकर

Question ID : 630680896606
Option 1 ID : 6306803512391
Option 2 ID : 6306803512392
Option 3 ID : 6306803512394
Option 4 ID : 6306803512393

Q.8 विकलांगता के सामाजिक मॉडल के अनुसार, विकलांगता का निर्धारण करने में प्राथमिक कारक क्या माना जाता है?

- Ans
- 1. सामाजिक और पर्यावरणीय कारक
 - 2. आनुवंशिक रोगप्रवणता
 - 3. चिकित्सा उपचार तक पहुंच
 - 4. व्यक्तिगत स्वास्थ्य स्थितियां

Question ID : 630680896601
Option 1 ID : 6306803512374
Option 2 ID : 6306803512373
Option 3 ID : 6306803512372
Option 4 ID : 6306803512371

Q.9 दृष्टिबाधित व्यक्तियों के लिए लम्बी छड़ी की तुलना में फोल्डिंग छड़ी का मुख्य लाभ क्या है?

- Ans
- 1. फोल्डिंग छड़ी सस्ती और अधिक किफायती हैं।
 - 2. यात्रा के दौरान फोल्डिंग छड़ी को आसानी से बैग में रखा जा सकता है।
 - 3. फोल्डिंग छड़ी संतुलन के लिए अतिरिक्त सपोर्ट प्रदान करती है।
 - 4. फोल्डिंग छड़ी की पहुंच लंबी होती है और बाधाओं का बेहतर पता लगाया जा सकता है।

Question ID : 630680896608
Option 1 ID : 6306803512399
Option 2 ID : 6306803512401
Option 3 ID : 6306803512400
Option 4 ID : 6306803512402

Q.10 According to the World Federation of the Deaf (2012), what approach is becoming popular in educating deaf children?

- Ans
- 1. Teaching only written language skills
 - 2. Focusing solely on rhetoric and poetry in sign language
 - 3. Adopting a bilingual approach with sign language as the teaching language
 - 4. Exclusively using pantomime and gesture for communication

Question ID : 630680896613
Option 1 ID : 6306803512419
Option 2 ID : 6306803512422
Option 3 ID : 6306803512421
Option 4 ID : 6306803512420

Q.11 स्कूलों में सांकेतिक भाषा से क्या लाभ मिलता है?

- Ans
- 1. यह ज्ञान और सूचना के संचरण को सीमित करती है।
 - 2. यह अधिगम की प्रक्रिया में बाधा डालती है।
 - 3. यह संचार प्रक्रिया को बढ़ाती है।
 - 4. यह विद्यार्थियों में संज्ञानात्मक कौशल को कम करती है।

Question ID : 630680896614
Option 1 ID : 6306803512426
Option 2 ID : 6306803512423
Option 3 ID : 6306803512424
Option 4 ID : 6306803512425

Q.12 श्रवण बाधित व्यक्तियों की सहायता के लिए कृत्रिम अंग प्रौद्योगिकी किस प्रकार उन्नत हुई है?

- Ans
- 1. संज्ञानात्मक वृद्धि उपकरणों का परिपालन करके
 - 2. कॉकलियर इम्प्लान्ट और डिजिटल श्रवण यंत्र विकसित करके
 - 3. फिजिकल सपोर्ट के लिए मोबिलिटी उपकरणों को प्रस्तुत करके
 - 4. संचार के लिए दृश्य सहायता प्रदान करके

Question ID : 630680896602
Option 1 ID : 6306803512378
Option 2 ID : 6306803512375
Option 3 ID : 6306803512377
Option 4 ID : 6306803512376

Q.13 Which method of communication emphasizes the use of amplification and speech reading for students with hearing impairment?

- Ans
- 1. Manual communication method
 - 2. Oral/Auditory-oral method
 - 3. Visual communication method
 - 4. Auditory verbal uni-sensory method

Question ID : 630680896611
Option 1 ID : 6306803512413
Option 2 ID : 6306803512412
Option 3 ID : 6306803512414
Option 4 ID : 6306803512411

Q.14 समुदाय-आधारित पुनर्वास (CBR) कार्यक्रमों के कुछ लाभ क्या हैं?

- Ans
- 1. स्वतंत्रता और गतिशीलता में कमी
 - 2. शैक्षिक और व्यावसायिक अवसरों तक पहुंच सीमित करना
 - 3. दिव्यांग व्यक्तियों के लिए गतिशीलता, संचार कौशल और सामाजिक समावेशन को बढ़ाना
 - 4. संस्थागत देखभाल पर बढ़ती निर्भरता

Question ID : 630680896599
Option 1 ID : 6306803512363
Option 2 ID : 6306803512364
Option 3 ID : 6306803512366
Option 4 ID : 6306803512365

Q.15 अभिकथन: दृष्टिबाधित व्यक्ति दिशा-निर्देशन के लिए दृष्टि के अलावा अन्य इंद्रियों पर निर्भर होते हैं।
कारण: वे बाधाओं और स्थलों को पहचानने के लिए अपनी श्रवण, स्पर्श और गंध इंद्रियों का उपयोग करते हैं।

- Ans
- 1. अभिकथन सत्य है, लेकिन कारण असत्य है।
 - 2. अभिकथन असत्य है, लेकिन कारण सत्य है।
 - 3. अभिकथन और कारण दोनों सत्य हैं तथा कारण, अभिकथन का सही स्पष्टीकरण है।
 - 4. अभिकथन और कारण दोनों सत्य हैं लेकिन कारण, अभिकथन का सही स्पष्टीकरण नहीं है।

Question ID : 630680896605
Option 1 ID : 6306803512389
Option 2 ID : 6306803512390
Option 3 ID : 6306803512387
Option 4 ID : 6306803512388

Q.16 पुनर्वास का प्राथमिक उद्देश्य क्या है?

- Ans
- 1. दिव्यांग व्यक्तियों को उनके समुदायों से अलग करना।
 - 2. सामाजिक कलंक और बहिष्कार को बढ़ावा देना।
 - 3. व्यक्तियों को सकारात्मक स्वास्थ्य के उच्चतम संभव स्तर को प्राप्त करने और सामाजिक एकीकरण प्राप्त करने में सक्षम बनाना।
 - 4. दिव्यांग व्यक्तियों के लिए स्वास्थ्य सेवाओं तक पहुंच को सीमित करना।

Question ID : 630680896597
Option 1 ID : 6306803512355
Option 2 ID : 6306803512356
Option 3 ID : 6306803512358
Option 4 ID : 6306803512357

Q.17 दृष्टि बाधित व्यक्तियों के लिए दृष्टि गाइड तकनीक का प्राथमिक उद्देश्य क्या है?

- Ans
- 1. दृष्टिबाधित व्यक्ति को चलते समय मौखिक निर्देश प्रदान करना।
 - 2. दृष्टिबाधित व्यक्ति और गाइड के बीच संचार और समझ को बढ़ाना।
 - 3. नेविगेशन के लिए दृष्टि संपन्न साथी पर निर्भरता बढ़ाना।
 - 4. दृष्टिबाधित व्यक्ति के मार्गदर्शन में परिवार के सदस्यों की भागीदारी को हतोत्साहित करना।

Question ID : 630680896607
Option 1 ID : 6306803512395
Option 2 ID : 6306803512397
Option 3 ID : 6306803512396
Option 4 ID : 6306803512398

Q.18 What type of assistive technology is often used to facilitate writing for individuals with physical impairments?

- Ans
- 1. Virtual reality headsets
 - 2. Advanced speech recognition software
 - 3. Modified keyboard
 - 4. Complex robotics

Question ID : 630680896603
Option 1 ID : 6306803512379
Option 2 ID : 6306803512382
Option 3 ID : 6306803512380
Option 4 ID : 6306803512381

Q.19 समावेशी शिक्षा की क्या विशेषता है?

- Ans
- 1. केवल उच्च शैक्षणिक योग्यता वाले विद्यार्थियों को अतिरिक्त सहायता प्रदान करना।
 - 2. उपेक्षित विद्यार्थियों के लिए अलग शिक्षा कार्यक्रम उपलब्ध कराना।
 - 3. विशेष आवश्यकता वाले विद्यार्थियों को सामान्य शिक्षा कक्षाओं से बाहर रखना।
 - 4. विशेष आवश्यकता वाले विद्यार्थियों का नामांकन सामान्य शिक्षा कक्षाओं में करना।

Question ID : 630680896600
Option 1 ID : 6306803512370
Option 2 ID : 6306803512368
Option 3 ID : 6306803512367
Option 4 ID : 6306803512369

Q.20 श्रवण संबंधी कठिनाइयों वाले व्यक्तियों के दैनिक जीवन के लिए क्या आवश्यक है?

- Ans
- 1. सांकेतिक भाषा कौशल की अपेक्षा अंग्रेजी बोलने के कौशल पर बल देना
 - 2. संचार के लिए दृष्टि का उपयोग, प्रायः सांकेतिक भाषा के माध्यम से
 - 3. श्रवण संचार पर निर्भरता
 - 4. सांकेतिक संचार की अपेक्षा मौखिक संचार को प्राथमिकता

Question ID : 630680896609
Option 1 ID : 6306803512406
Option 2 ID : 6306803512404
Option 3 ID : 6306803512403
Option 4 ID : 6306803512405

Q.1 मल्टीमॉडल संचारक होने का क्या अर्थ है?

- Ans
- 1. संचार के केवल एक ही रूप का उपयोग करना।
 - 2. संदेश संप्रेषित करने के अनेक तरीके होना।
 - 3. केवल सांकेतिक भाषा के माध्यम से संवाद करना।
 - 4. एकल माध्यम में प्रभावी ढंग से संवाद करने में असमर्थ होना।

Question ID : 630680896618
Option 1 ID : 6306803512439
Option 2 ID : 6306803512440
Option 3 ID : 6306803512442
Option 4 ID : 6306803512441

Q.2 किसी बीमारी के लिए चिकित्सा उपचार की तुलना में व्यावसायिक पुनर्वास (VR) का प्राथमिक लक्ष्य क्या है?

- Ans
- 1. पैथोलॉजी का इलाज और लक्षणों से राहत।
 - 2. कार्य क्षमता में सुधार और स्थायी रोजगार प्राप्त करना।
 - 3. विशेष चिकित्सा देखभाल प्रदान करना।
 - 4. शारीरिक स्वस्थता और तंदुरुस्ती को बढ़ाना।

Question ID : 630680896623
Option 1 ID : 6306803512459
Option 2 ID : 6306803512462
Option 3 ID : 6306803512461
Option 4 ID : 6306803512460

Q.3 निम्नलिखित में से कौन-सी स्थिति सामान्यतः ऑटिज्म स्पेक्ट्रम विकार (ASD) से अधिक संबंधित है?

- Ans
- 1. उच्च रक्तचाप
 - 2. चिंता और अवसाद
 - 3. मधुमेह
 - 4. संधिशोध

Question ID : 630680896625
Option 1 ID : 6306803512468
Option 2 ID : 6306803512469
Option 3 ID : 6306803512467
Option 4 ID : 6306803512470

Q.4 बच्चों के शैक्षणिक प्रयासों, विशेषकर भाषा-आधारित गतिविधियों पर श्रवण दोष किस प्रकार प्रभाव डालता है?

- Ans
- 1. यह भाषा की समझ और अभिव्यक्ति को प्रभावित करता है।
 - 2. यह भाषा अधिग्रहण कौशल को बढ़ाता है।
 - 3. यह पढ़ने और लिखने की क्षमता में सुधार करता है।
 - 4. इसका भाषा और संचार कौशल पर कोई प्रभाव नहीं पड़ता है।

Question ID : 630680896631
Option 1 ID : 6306803512494
Option 2 ID : 6306803512491
Option 3 ID : 6306803512492
Option 4 ID : 6306803512493

Q.5 भारत के अधिकांश भागों में भारतीय सांकेतिक भाषा में कौन-सी फिंगरस्पेलिंग (fingerspelling) प्रणाली प्रमुख है?

- Ans
- 1. दो-हाथ वाली प्रणाली
 - 2. एक-हाथ वाली प्रणाली
 - 3. कोई फिंगरस्पेलिंग प्रणाली नहीं है।
 - 4. बिना हाथ वाली प्रणाली

Question ID : 630680896616
Option 1 ID : 6306803512431
Option 2 ID : 6306803512432
Option 3 ID : 6306803512434
Option 4 ID : 6306803512433

Q.6 Which of the following is NOT a factor crucial for quality education in an inclusive classroom environment?

- Ans
- 1. Access to teaching learning materials
 - 2. Availability of flexible educational content
 - 3. Understanding of special needs of learners
 - 4. Exclusivity of teaching methods for different learners

Question ID : 630680896628
Option 1 ID : 6306803512481
Option 2 ID : 6306803512480
Option 3 ID : 6306803512479
Option 4 ID : 6306803512482

Q.7 शिक्षक, संज्ञानात्मक विकलांगता वाले विद्यार्थियों के लिए अधिगम के अवसरों को कैसे बढ़ा सकते हैं?

- Ans
- 1. व्यावहारिक अधिगम के अवसरों को सीमित करके
 - 2. वास्तविक जीवन के अनुभव, समकक्ष सहायता प्रदान करके, तथा शिक्षण उपकरण के रूप में प्रौद्योगिकी का उपयोग करके
 - 3. शिक्षण के लिए प्रौद्योगिकी और सॉफ्टवेयर के उपयोग को नजरअंदाज करके
 - 4. समकक्ष संपर्क के बिना केवल व्यक्तिगत निर्देश पर ध्यान केंद्रित करके

Question ID : 630680896633
Option 1 ID : 6306803512499
Option 2 ID : 6306803512502
Option 3 ID : 6306803512500
Option 4 ID : 6306803512501

Q.8 विशेष शिक्षा में AAC का विस्तारित रूप क्या है?

- Ans
- 1. Auditory and Audible Communication (ऑडिबल एंड ऑडिबल कम्युनिकेशन)
 - 2. Augmentative and Alternative Communication (औगमेंटेटिव एंड अल्टरनेटिव कम्युनिकेशन)
 - 3. Active and Adaptive Conversation (एक्टिव एंड एडप्टिव कंवर्जेशन)
 - 4. Articulate and Accurate Communication (आर्टिकुलेट एंड एक्यूरेट कम्युनिकेशन)

Question ID : 630680896617
Option 1 ID : 6306803512437
Option 2 ID : 6306803512438
Option 3 ID : 6306803512436
Option 4 ID : 6306803512435

Q.9 ऑटिज्म स्पेक्ट्रम विकार आमतौर पर किस आयु में प्रकट होने लगते हैं?

- Ans
- 1. 10 वर्ष की आयु के बाद
 - 2. केवल 5 वर्षों के बाद
 - 3. किशोरावस्था के दौरान
 - 4. 3 वर्ष की आयु से पहले

Question ID : 630680896624
Option 1 ID : 6306803512466
Option 2 ID : 6306803512463
Option 3 ID : 6306803512465
Option 4 ID : 6306803512464

Q.10 निम्नलिखित में से कौन-सा कथन डिस्लेक्सिया (dyslexia) का सबसे अच्छा वर्णन करता है?

- Ans
- 1. डिस्लेक्सिया एक अधिगम संबंधी विकार है जो भाषा की समझ और पढ़ने के कौशल को प्रभावित करता है।
 - 2. डिस्लेक्सिया मुख्यतः मोटर कौशल और समन्वय को प्रभावित करता है।
 - 3. डिस्लेक्सिया केवल औसत से कम बुद्धिमता वाले व्यक्तियों को प्रभावित करता है।
 - 4. डिस्लेक्सिया गर्भावस्था के दौरान पर्यावरणीय विषाक्त पदार्थों के संपर्क में आने के कारण होता है।

Question ID : 630680896622
Option 1 ID : 6306803512456
Option 2 ID : 6306803512455
Option 3 ID : 6306803512457
Option 4 ID : 6306803512458

Q.11 कौन-सा जन्म-पूर्व कारक बच्चों में अधिगम संबंधी अक्षमताओं के जोखिम को बढ़ाने के लिए जाना जाता है?

- Ans
- 1. लेड के संपर्क में आना
 - 2. समय से पहले जन्म
 - 3. गर्भाशय में पर्याप्त वृद्धि
 - 4. प्रसवोत्तर आघात

Question ID : 630680896620
Option 1 ID : 6306803512447
Option 2 ID : 6306803512449
Option 3 ID : 6306803512448
Option 4 ID : 6306803512450

Q.12 What term is used to describe the high-tech devices that produce speech for individuals with limited or no means to communicate orally?

- Ans
- 1. Speech-enhancing gadgets
 - 2. Augmented speech devices
 - 3. Digital communication tools
 - 4. Voice Output Communication Aids

Question ID : 630680896635
Option 1 ID : 6306803512507
Option 2 ID : 6306803512510
Option 3 ID : 6306803512509
Option 4 ID : 6306803512508

Q.13 डिस्प्रेक्सिया (dyspraxia) से प्रभावित होने वाले चार मुख्य कौशल कौन-से हैं?

- Ans
- 1. सूक्ष्म मोटर कौशल, वाक् संबंधी कठिनाइयाँ, संवेदी संवेदनशीलता और समन्वय
 - 2. भाषण संबंधी कठिनाइयाँ, संवेदी संवेदनशीलता, दृश्य तीक्ष्णता और मोटर योजना
 - 3. सकल मोटर कौशल, दृश्य तीक्ष्णता, मोटर योजना और समन्वय
 - 4. सूक्ष्म मोटर कौशल, सकल मोटर कौशल, मोटर योजना और समन्वय

Question ID : 630680896621
Option 1 ID : 6306803512451
Option 2 ID : 6306803512454
Option 3 ID : 6306803512452
Option 4 ID : 6306803512453

Q.14 विकलांग बच्चों, जिनमें श्रवण बाधित बच्चे भी शामिल हैं, की आवश्यकताओं को पूरा करने में मुख्यधारा के स्कूल शिक्षकों के सामने कौन-सी प्रमुख चुनौती है?

- Ans
- 1. अपर्याप्त शिक्षण सामग्री
 - 2. उपयुक्त कक्षा अवसंरचना का अभाव
 - 3. अत्यधिक कार्यभार
 - 4. सीमित पेशेवर प्रशिक्षण और अनुभव

Question ID : 630680896630
Option 1 ID : 6306803512488
Option 2 ID : 6306803512487
Option 3 ID : 6306803512490
Option 4 ID : 6306803512489

Q.15 प्राथमिक स्तर पर दृष्टिबाधित बच्चों को पढ़ाने के लिए निम्नलिखित में से कौन-सी रणनीति अनुशंसित नहीं है?

- Ans
- 1. सुनने के लिए विस्तृत और वर्णनात्मक निर्देश प्रदान करना।
 - 2. वास्तविक, ठोस सामग्रियों के स्पर्श का उपयोग करना।
 - 3. अधिगम के लिए दृश्य आरेख और चार्ट शामिल करना।
 - 4. बेहतर शिक्षण अवसरों के लिए दृश्य उत्तेजना पर ध्यान केंद्रित करना।

Question ID : 630680896634
Option 1 ID : 6306803512504
Option 2 ID : 6306803512503
Option 3 ID : 6306803512505
Option 4 ID : 6306803512506

Q.16 संज्ञानात्मक विकलांगता वाले विद्यार्थियों में व्यवहार प्रबंधन के लिए निम्नलिखित में से कौन-सी रणनीति सुझाई नहीं गई है?

- Ans
- 1. उन्हें सुदृढ़ करने के लिए अनुचित व्यवहार को अनदेखा करना।
 - 2. समकक्ष ट्यूशन और मित्र प्रणाली जैसे सहायता कार्यक्रम प्रदान करना।
 - 3. सुसंगत दिनचर्या और कक्षा के नियमों को स्थापित करना और बनाए रखना।
 - 4. आत्म-समर्थन कौशल सिखाना जैसे मदद मांगना और ज़रूरतों को समझाना।

Question ID : 630680896632
Option 1 ID : 6306803512497
Option 2 ID : 6306803512495
Option 3 ID : 6306803512498
Option 4 ID : 6306803512496

Q.17 निम्नलिखित में से कौन-सा, संचार व्यवहार का एक महत्वपूर्ण घटक है जिसका मूल्यांकन स्वपरायण (autistic) बच्चों में किया जाता है?

- Ans
- 1. मौखिक धाराप्रवाह
 - 2. सकल मोटर कौशल
 - 3. दृश्य तीक्ष्णता
 - 4. रंग पहचान

Question ID : 630680896626
Option 1 ID : 6306803512472
Option 2 ID : 6306803512471
Option 3 ID : 6306803512473
Option 4 ID : 6306803512474

Q.18 अभिकथन: ऑटिज्म के अधिकांश मामले बच्चे के भ्रूणीय विकास के बहुत पहले ही शुरू हो जाते हैं।
कारण: ऑटिज्म से पीड़ित बच्चों में विशिष्ट आनुवंशिक असामान्यताएं पाई जाती हैं।

- Ans
- 1. अभिकथन और कारण दोनों सत्य हैं, लेकिन कारण, अभिकथन का सही स्पष्टीकरण नहीं है।
 - 2. अभिकथन असत्य है, लेकिन कारण सत्य है।
 - 3. अभिकथन सत्य है, लेकिन कारण असत्य है।
 - 4. अभिकथन और कारण दोनों सत्य हैं और कारण, अभिकथन का सही स्पष्टीकरण है।

Question ID : 630680896627
Option 1 ID : 6306803512476
Option 2 ID : 6306803512478
Option 3 ID : 6306803512477
Option 4 ID : 6306803512475

Q.19 एएसी (AAC) प्रौद्योगिकी में संदेश बैंकिंग (message banking) में क्या शामिल है?

- Ans
- 1. ध्वनिम (phonemes) और संस्वन (allophones) का उपयोग करके इलेक्ट्रॉनिक रूप से वाक् तैयार करना।
 - 2. व्यक्ति की प्राकृतिक आवाज़ के समान एक कृत्रिम आवाज़ बनाना।
 - 3. नॉन-स्पीच (nonspeech) ध्वनियों को रिकॉर्ड करना और संग्रहीत करना।
 - 4. प्राकृतिक आवाज़ और स्वरशैल के साथ संदेशों को डिजिटल रूप से रिकॉर्ड करना और संग्रहीत करना।

Question ID : 630680896619
Option 1 ID : 6306803512444
Option 2 ID : 6306803512445
Option 3 ID : 6306803512443
Option 4 ID : 6306803512446

Q.20 विशेष आवश्यकता वाले बच्चों (CWSN) के लिए समावेशी कक्षा में पाठ्यचर्या अनुकूलन के लिए मुख्य रणनीति क्या है?

- Ans
- 1. विशेषज्ञों द्वारा शिक्षकों को निरंतर ऑनसाइट सहायता प्रदान करना।
 - 2. सीडब्ल्यूएसएन (CWSN) को अन्य विद्यार्थियों से अलग करना।
 - 3. अनुकूलन प्रक्रिया से माता-पिता को बाहर रखा जाना।
 - 4. सभी विद्यार्थियों के लिए मानकीकृत शिक्षण विधियों का उपयोग करना।

Question ID : 630680896629
Option 1 ID : 6306803512485
Option 2 ID : 6306803512483
Option 3 ID : 6306803512486
Option 4 ID : 6306803512484

Q.1 What type of assessment is used to evaluate a student's understanding during the learning process and provide feedback for improvement?

- Ans 1. Formative assessment
 2. Diagnostic assessment
 3. Authentic assessment
 4. Summative assessment

Question ID : 630680896645
Option 1 ID : 6306803512547
Option 2 ID : 6306803512549
Option 3 ID : 6306803512550
Option 4 ID : 6306803512548

Q.2 दो स्वतंत्र समूहों के माध्यों के बीच सार्थक अंतर है या नहीं, यह निर्धारित करने के लिए किस सांख्यिकीय परीक्षण का उपयोग किया जाता है?

- Ans 1. एनोवा (ANOVA)
 2. T-परीक्षण (T-test)
 3. काई-वर्ग परीक्षण (Chi-square test)
 4. प्रतिगमन विश्लेषण

Question ID : 630680896643
Option 1 ID : 6306803512541
Option 2 ID : 6306803512540
Option 3 ID : 6306803512539
Option 4 ID : 6306803512542

Q.3 ऑटिस्टिक सिंड्रोम विकार जैसी विकलांगता वाले युवा वयस्कों के लिए वयस्क बनने पर सबसे बड़ी चुनौती क्या है?

- Ans 1. नई चीजें सीखना।
 2. दोस्त बनाना।
 3. परिवार के साथ बाहर जाना।
 4. नौकरी ढूँढना।

Question ID : 630680896639
Option 1 ID : 6306803512525
Option 2 ID : 6306803512526
Option 3 ID : 6306803512524
Option 4 ID : 6306803512523

Q.4 अलग-अलग शब्दों को जोड़कर वाक्य किस प्रकार बनता है, इसका अध्ययन क्या कहलाता है?

- Ans
- 1. शब्दार्थ विज्ञान
 - 2. ध्वनिविज्ञान
 - 3. संकेतप्रयोग विज्ञान
 - 4. वाक्य-विन्यास

Question ID : 630680896636
Option 1 ID : 6306803512511
Option 2 ID : 6306803512514
Option 3 ID : 6306803512512
Option 4 ID : 6306803512513

Q.5 What skill is particularly difficult for individuals with autism, making it hard for them to live independently?

- Ans
- 1. Problem-solving and planning
 - 2. Driving
 - 3. Cooking
 - 4. Socializing

Question ID : 630680896640
Option 1 ID : 6306803512529
Option 2 ID : 6306803512528
Option 3 ID : 6306803512527
Option 4 ID : 6306803512530

Q.6 Which teaching method emphasizes student-centered learning, where the instructor acts as a facilitator rather than a lecturer?

- Ans
- 1. Direct instruction
 - 2. Lecture-based instruction
 - 3. Inquiry-based learning
 - 4. Traditional teaching

Question ID : 630680896644
Option 1 ID : 6306803512543
Option 2 ID : 6306803512545
Option 3 ID : 6306803512546
Option 4 ID : 6306803512544

Q.7 प्रभावी संचार के लिए साझा अर्थगत आधार का होना क्यों महत्वपूर्ण है?

- Ans
- 1. यह वाक् में व्याकरणिक शुद्धता सुनिश्चित करता है।
 - 2. यह सामाजिक संपर्क और स्पष्ट संचार को सुगम बनाता है।
 - 3. यह वाक्यों की वाक्य रचना को समझने में मदद करता है।
 - 4. यह आलंकारिक भाषा और विस्तृत विवरण के उपयोग की सुविधा देता है।

Question ID : 630680896637
Option 1 ID : 6306803512516
Option 2 ID : 6306803512518
Option 3 ID : 6306803512517
Option 4 ID : 6306803512515

Q.8 कौन-से व्यवहार किसी विद्यार्थी में निम्न मानसिक दक्षता का संकेत दे सकते हैं?

- Ans 1. याद की हुई जानकारी बार-बार भूल जाना।
 2. प्रबल आत्मविश्वास प्रदर्शित करना।
 3. कक्षा की गतिविधियों में सक्रिय रूप से भाग लेना।
 4. शैक्षणिक उपलब्धियों में उत्कृष्टता।

Question ID : 630680896641
Option 1 ID : 6306803512532
Option 2 ID : 6306803512533
Option 3 ID : 6306803512534
Option 4 ID : 6306803512531

Q.9 केंद्रीय प्रवृत्ति की वह माप क्या है जो किसी आंकड़ा समुच्चय में सबसे अधिक बार आने वाले मान को दर्शाती है?

- Ans 1. बहुलक
 2. परिसर
 3. माध्य
 4. माध्यिका

Question ID : 630680896642
Option 1 ID : 6306803512537
Option 2 ID : 6306803512538
Option 3 ID : 6306803512535
Option 4 ID : 6306803512536

Q.10 भाषा कक्षाओं में गुणवत्तापूर्ण शिक्षण का मुख्य पहलू क्या है?

- Ans 1. विद्यार्थियों के प्रभाव, प्रेरणा और संज्ञान की अनदेखी करना।
 2. मचान कार्यप्रणाली (scaffolded practice) और कार्य पूरा करने में सहायता करने से बचना।
 3. न्यूनतम स्पष्टीकरण और सीमित मॉडलिंग प्रदान करना।
 4. कार्यों और स्थितियों का प्रभार संभालने के लिए शिक्षण रणनीतियाँ।

Question ID : 630680896638
Option 1 ID : 6306803512520
Option 2 ID : 6306803512522
Option 3 ID : 6306803512519
Option 4 ID : 6306803512521

Section : Teaching Methodology

Q.1 Which of the following is NOT among Schwab's five commonplaces of curriculum?

- Ans 1. Teacher
 2. Student
 3. Government
 4. Curriculum making

Question ID : 630680896656
Option 1 ID : 6306803512591
Option 2 ID : 6306803512592
Option 3 ID : 6306803512593
Option 4 ID : 6306803512594

Q.2 Which of the following is NOT the core of the discipline of education?

- Ans
- 1. History of education
 - 2. Technology of education
 - 3. Psychology of education
 - 4. Philosophy of education

Question ID : 630680896653
Option 1 ID : 6306803512582
Option 2 ID : 6306803512581
Option 3 ID : 6306803512580
Option 4 ID : 6306803512579

Q.3 Which of the following is NOT the point of agreement between the behaviourist and social cognitive theories of learning?

- Ans
- 1. They agree that experience is an important cause of learning.
 - 2. They agree on the way environment and personal factors are described.
 - 3. They include the concept of reinforcement and punishment in their explanation of behaviour.
 - 4. They agree that feedback is important in promoting learning.

Question ID : 630680896651
Option 1 ID : 6306803512572
Option 2 ID : 6306803512571
Option 3 ID : 6306803512574
Option 4 ID : 6306803512573

Q.4 हर्बार्टियन पाँच-चरण प्रणाली में निम्नलिखित में से किस चरण में 'पूर्व विचारों से तुलना और उनकी समानताओं एवं अंतरों पर विचार' शामिल है?

- Ans
- 1. अनुप्रयोग (Application)
 - 2. प्रस्तुति (Presentation)
 - 3. संगम (Association)
 - 4. सामान्यीकरण (Generalisation)

Question ID : 630680896655
Option 1 ID : 6306803512590
Option 2 ID : 6306803512587
Option 3 ID : 6306803512588
Option 4 ID : 6306803512589

Q.5 Which is the developmental task of adolescence period?

- Ans
- 1. Achieving masculine or feminine social role
 - 2. Learning sex difference and sexual modesty
 - 3. Adjusting to aging parents
 - 4. Learning physical skills necessary for ordinary games

Question ID : 630680896659
Option 1 ID : 6306803512603
Option 2 ID : 6306803512605
Option 3 ID : 6306803512606
Option 4 ID : 6306803512604

Q.6 Which of the following is INCORRECT about simulation?

- Ans
- 1. Simulations promote the use of critical and evaluative thinking.
 - 2. Simulation has an element of competition, and the goal is to win.
 - 3. It follows the principle of constructivist learning and teaching.
 - 4. A simulation is a form of experiential learning.

Question ID : 630680896660
Option 1 ID : 6306803512609
Option 2 ID : 6306803512610
Option 3 ID : 6306803512608
Option 4 ID : 6306803512607

Q.7 महिला शिक्षा के बारे में निम्नलिखित में से कौन-सा तथ्य सही है?

- Ans
- 1. शहरी लड़कियों की तुलना में ग्रामीण लड़कियों के विद्यालय न जाने की संभावना दोगुनी रहती है।
 - 2. वैश्विक स्तर पर, ग्रामीण क्षेत्र में लड़कों की तुलना में अधिक लड़कियाँ माध्यमिक विद्यालयों में जाती हैं।
 - 3. प्राथमिक विद्यालय का प्रत्येक अतिरिक्त वर्ष लड़कियों को हिंसा के प्रति अधिक सुभेद्य बनाता है।
 - 4. विश्व की निरक्षर जनसंख्या में आधी भागीदारी महिलाओं की है।

Question ID : 630680896654
Option 1 ID : 6306803512586
Option 2 ID : 6306803512584
Option 3 ID : 6306803512585
Option 4 ID : 6306803512583

Q.8 हम उस परीक्षण को क्या कह सकते हैं जो यह जानकारी प्रदान करती है कि रूथ ने उस परीक्षण में भाग लेने वाले 60% लोगों से बेहतर प्रदर्शन किया है?

- Ans
- 1. निकष-संदर्भित परीक्षण (Criterion-referenced test)
 - 2. नैदानिक परीक्षण (Diagnostic test)
 - 3. एकीकृत परीक्षण (Integrative test)
 - 4. मानक-संदर्भित परीक्षण (Norm-referenced test)

Question ID : 630680896657
Option 1 ID : 6306803512598
Option 2 ID : 6306803512597
Option 3 ID : 6306803512595
Option 4 ID : 6306803512596

Q.9 पाठ्यचर्या में भाषा का निम्नलिखित में से कौन-सा मूल सिद्धांत गलत है?

- Ans
- 1. भाषा का विकास मुख्य रूप से भाषा कक्षा शिक्षण में शब्दावली और व्याकरण पर अभ्यास के माध्यम से होता है।
 - 2. संज्ञानात्मक विकास में भाषा एक पूर्वपिक्षा है।
 - 3. भाषा, अधिगम को बेहतर बनाने का माध्यम है।
 - 4. भाषा, संज्ञानात्मक विकास में योगदान देती है।

Question ID : 630680896652
Option 1 ID : 6306803512578
Option 2 ID : 6306803512575
Option 3 ID : 6306803512577
Option 4 ID : 6306803512576

Q.10 वाचनवैकल्य (dyslexia) के बारे में निम्नलिखित में से कौन-सा तथ्य सत्य नहीं है?

- Ans
- 1. वाचनवैकल्य से पीड़ित लोगों को विशिष्ट भाषा कौशल, विशेषकर पढ़ने में कठिनाई होती है।
 - 2. वाचनवैकल्य, व्यक्ति को जीवन भर प्रभावित करता है।
 - 3. वाचनवैकल्य, भाषा-आधारित अधिगम अशक्तता है।
 - 4. वाचनवैकल्य, बुद्धिमत्ता की कमी के कारण होता है।

Question ID : 630680896658

Option 1 ID : 6306803512600

Option 2 ID : 6306803512601

Option 3 ID : 6306803512599

Option 4 ID : 6306803512602

