

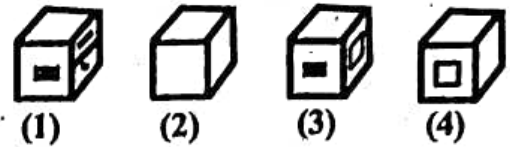
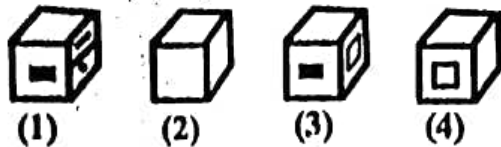
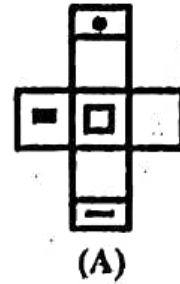
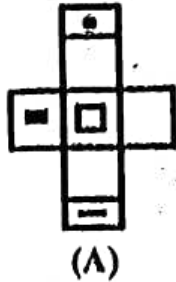
PART - I

General Mental Eligibility

सामान्य मानसिक योग्यता

1. Out of boxes 1, 2, 3 and 4 (given below) Choose the boxes that can be formed from the given sheet of paper (A).

1. नीचे दिए गए बक्सों 1, 2, 3 और 4 में से, उन बक्सों का चयन करें जिन्हें कागज की दी गई शीट (A) से बनाया जा सकता है।



- A. (1), (2) and (3)
- B. (1), (3) and (4)
- C. (2) and (3)
- D. (2), (3) and (4)

- A. (1), (2) और (3)
- B. (1), (3) और (4)
- C. (2) और (3)
- D. (2), (3) और (4)

Adda247

SPACE FOR ROUGH WORK / रफ कार्य के लिये जगह



Test Prime

ALL EXAMS,
ONE SUBSCRIPTION



70,000+
Mock Tests



Personalised
Report Card



Unlimited
Re-Attempt



600+
Exam Covered



Previous Year
Papers

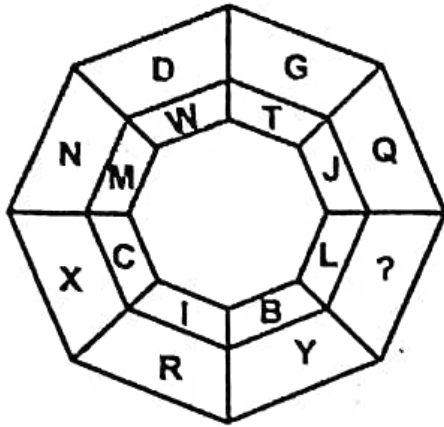


500%
Refund



ATTEMPT FREE MOCK NOW

2. Which letter will replace the '?' in the figure given below?

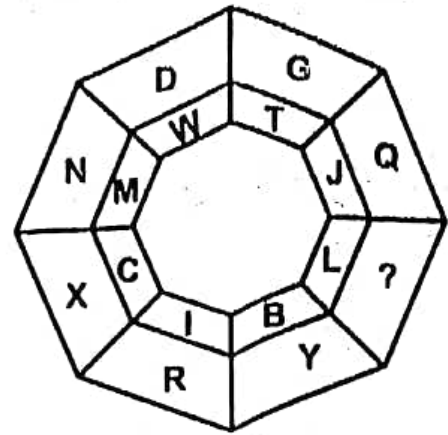


- A. U
- B. P
- C. N
- D. O

3. In a family of six members A, B, C, D, E and F,
A and B are a married couple.
A is a male member.
D is the only son of C, who (C) is the brother of A.
E is the sister of D.
B is the daughter-in-law of F, whose husband has died
How E is related to C?

- A. Sister
- B. Daughter
- C. Grandmother
- D. Mother

2. नीचे दिए गए चित्र में '?' के स्थान पर कौन सा अक्षर होगा?



- A. U
- B. P
- C. N
- D. O

3. छह सदस्यों A, B, C, D, E और F के एक परिवार में,
A और B एक विवाहित जोड़े हैं।
A एक पुरुष सदस्य है।
D, C का इकलौता पुत्र है, जो (C) A का भाई है।
E, D की बहन है।
B, F की बहू है, जिसके पति की मृत्यु हो चुकी है।
E, C से किस प्रकार संबंधित है?

- A. बहन
- B. बेटी
- C. दादी
- D. माँ

SPACE FOR ROUGH WORK / रफ कार्य के लिये जगह



4. Which is the correct figure that can be formed by joining the pieces given in the figure below?




- A.
- B.
- C.
- D.

4. नीचे दिए गए चित्र में दिए गए टुकड़ों को जोड़कर कौन सी सही आकृति बनाई जा सकती है?




- A.
- B.
- C.
- D.

5. Find the number of triangles in the given figure.



- A. 28
- B. 32
- C. 36
- D. 40

5. दिए गए चित्र में त्रिभुजों की संख्या ज्ञात कीजिए



- A. 28
- B. 32
- C. 36
- D. 40

SPACE FOR ROUGH WORK / रफ कार्य के लिये जगह



6. For determining Sonia's present age from the information given below-
- (I) Sonia's present age is five times Deepak's present age.
- (II) Five years ago her age was twenty-five times Deepak's age at that time
- Which of the following is the correct option?
- A. (I) alone sufficient while (II) alone not sufficient to answer.
- B. (II) alone sufficient while (I) alone not sufficient to answer.
- C. Both (I) and (II) are not sufficient to answer.
- D. Both (I) and (II) are necessary to answer.

7. In the following number series, all the numbers except one follow a certain mathematical formula. Find the number that is different from the others-
- 2, 5, 10, 17, 26, 37, 50, 64
- A. 50
- B. 37
- C. 26
- D. 64

6. नीचे दी गई जानकारी से सोनिया की वर्तमान आयु निर्धारित करने के लिए-
- (I) सोनिया की वर्तमान आयु दीपक की वर्तमान आयु की पांच गुना है
- (II) पांच वर्ष पहले उसकी आयु उस समय दीपक की आयु की पच्चास गुना थी
- निम्नलिखित में से कौन सा विकल्प सही है?
- A. उत्तर देने के लिए केवल (I) पर्याप्त है जबकि केवल (II) पर्याप्त नहीं है
- B. केवल (II) पर्याप्त है जबकि केवल (I) उत्तर देने के लिए पर्याप्त नहीं है
- C. (I) और (II) दोनों उत्तर देने के लिए पर्याप्त नहीं हैं
- D. (I) और (II) दोनों उत्तर देने के लिए आवश्यक हैं

7. निम्नलिखित संख्या श्रृंखला में, एक को छोड़कर सभी संख्याएं एक निश्चित गणितीय सूत्र का पालन करती हैं। वह संख्या ज्ञात कीजिए जो अन्य संख्याओं से भिन्न है-
- 2, 5, 10, 17, 26, 37, 50, 64
- A. 50
- B. 37
- C. 26
- D. 64

SPACE FOR ROUGH WORK / रफ कार्य के लिये जगह



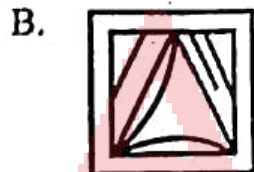
8. Rearrange the jumbled letters to make a meaningful word and select the one that is different from the other three.

- A. EIWNTR
- B. LCUOD
- C. PIGRSN
- D. UMRSM E

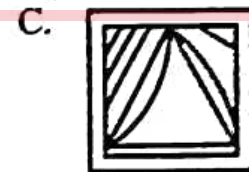

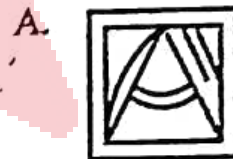
8. अक्षरों को पुनर्व्यवस्थित करके एक सार्थक शब्द बनाते हुए, उस एक शब्द का चयन करें जो अन्य तीन से भिन्न हो।

- A. EIWNTR
- B. LCUOD
- C. PIGRSN
- D. UMRSM E


9. Identify the figure that contains the below figure hidden in it.



9. उस आकृति की पहचान कीजिये जिसमें नीचे दी गई आकृति छिपी हुई है।



10. If the following nine figures are grouped into three classes using each figure only once, then the correct option would be-



- A. 7, 8, 9; 2, 4, 3; 1, 5, 6
 B. 1, 3, 2; 4, 5, 7; 6, 8, 9
 C. 1, 6, 8; 3, 4, 7; 2, 5, 9
 D. 1, 6, 9; 3, 4, 7; 2, 5, 8


11. If one-third of one-fourth of a number is 15, then three-tenth of that number is-

- A. 35
 B. 36
 C. 54
 D. 45

12. Select the one that is different from the other three.

- A. peninsula
 B. island
 C. bay
 D. cape

10. निम्नलिखित नौ आकृतियों को केवल एक बार प्रत्येक आकृति का उपयोग करके तीन वर्गों में समूहित किया जाता है, तो सही विकल्प होगा-



- A. 7, 8, 9; 2, 4, 3; 1, 5, 6
 B. 1, 3, 2; 4, 5, 7; 6, 8, 9
 C. 1, 6, 8; 3, 4, 7; 2, 5, 9
 D. 1, 6, 9; 3, 4, 7; 2, 5, 8

11. यदि किसी संख्या के एक-चौथाई का एक-तिहाई 15 है, तो उस संख्या का तीन-दसवां हिस्सा है-

- A. 35
 B. 36
 C. 54
 D. 45

12. उस विकल्प का चयन करें जो अन्य तीन से भिन्न है।

- A. प्रायद्वीप
 B. द्वीप
 C. खाड़ी
 D. अंतरीप

SPACE FOR ROUGH WORK / रफ कार्य के लिये जगह



13. The sum of the ages of 5 children born at the intervals of 3 years each is 50 years. What is the age of the youngest child?

- A. 4 years
- B. 8 years
- C. 10 years
- D. 2 years

14. A team of five is to be selected from five boys (A, B, C, D and E) and four girls (P, Q, R and S). Some criteria for selection are-

- A and S have to be together.
- P cannot be put with R.
- D and Q cannot go together.
- C and E have to be together.
- R cannot be put with B.
- If R be one of the members, the other members of the team can be-

- A. P, S, A, D
- B. Q, S, A, D
- C. Q, S, C, E
- D. A, C, S, E

13. प्रत्येक 3 वर्ष के अंतराल पर पैदा हुए 5 बच्चों की आयु का योग 50 वर्ष है। सबसे छोटे बच्चे की उम्र क्या है?

- A. 4 वर्ष
- B. 8 वर्ष
- C. 10 वर्ष
- D. 2 वर्ष

14. पांच लड़कों (A, B, C, D, और E) और चार लड़कियों (P, Q, R और S) में से पांच लोगों की एक टीम का चयन किया जाना है।

- चयन के लिए कुछ मानदंड हैं-
- A और S को एक साथ होना है।
- P को R के साथ नहीं रखा जा सकता है।
- D और Q एक साथ नहीं जा सकते।
- C और E को एक साथ होना चाहिए।
- R को B के साथ नहीं रखा जा सकता है।
- यदि R सदस्यों में से एक है, तो टीम के अन्य सदस्य क्या हो सकते हैं?

- A. P, S, A, D
- B. Q, S, A, D
- C. Q, S, C, E
- D. A, C, S, E

SPACE FOR ROUGH WORK / रफ कार्य के लिये जगह



15. A vessel is filled with liquid, 3 parts of which are water and 5 parts syrup. How much of the mixture must be drawn off and replaced with water so that the mixture may be half water and half syrup?

- A. $1/7$
B. $1/5$
C. $1/4$
D. $1/3$

16. Look at this series-
664, 332, 340, 170, -----, 89
Find the missing number.

- A. 85
B. 97
C. 109
D. 178

17. CLRTBQSMAPDINFJKG
YX

Three of the following four are alike in a certain way and so form a group. Which is the one that does not belong to the group?

- (I) LBT (II) IJF
(III) PID (IV) BMS

- A. (I)
B. (II)
C. (III)
D. (IV)

15. एक बर्तन तरल से भरा है, जिसमें से 3 भाग पानी और 5 भाग सिरप है। मिश्रण का कितना भाग निकाल कर उसके स्थान पर पानी डालना चाहिए ताकि मिश्रण आधा पानी और आधा सिरप बन जाए?

- A. $1/7$
B. $1/5$
C. $1/4$
D. $1/3$

16. इस श्रृंखला को देखें-
664, 332, 340, 170, -----, 89
लुप्त संख्या ज्ञात कीजिये

- A. 85
B. 97
C. 109
D. 178

17. CLRTBQSMAPDINFJKG
YX

निम्नलिखित चार में से तीन एक निश्चित तरीके से समान हैं और इसलिए एक समूह बनाते हैं। वह कौन सा है जो समूह से संबंधित नहीं है?

- (I) LBT (II) IJF
(III) PID (IV) BMS

- A. (I)
B. (II)
C. (III)
D. (IV)

SPACE FOR ROUGH WORK / रफ कार्य के लिये जगह



18. Select the three figures from the following five alternatives that would form a complete square, when rearranged.



- A. 1, 2, 3
- B. 1, 3, 5
- C. 1, 4, 5
- D. 2, 3, 4

19. If '×' stands for 'addition', '÷' stands for 'subtraction', '+' stands for 'multiplication', and '-' stands for 'division', then $20 \times 8 \div 8 - 4 + 2$ is-

- A. 80
- B. 25
- C. 24
- D. 5

20. Find the missing number
 $3131 : 9800030 :: 3 : \text{-----}$

- A. 6
- B. 66
- C. 666
- D. 9

18. निम्नलिखित पांच विकल्पों में से तीन आकृतियों का चयन करें जो पुनर्व्यवस्थित होने पर एक पूर्ण वर्ग बनाएंगे।



- A. 1, 2, 3
- B. 1, 3, 5
- C. 1, 4, 5
- D. 2, 3, 4

19. यदि '×' का अर्थ 'जोड़ना', '÷' का अर्थ 'घटाना', '+' का अर्थ 'गुणा' और '-' का अर्थ 'भाग' है, तो $20 \times 8 \div 8 - 4 + 2$ का अर्थ है-

- A. 80
- B. 25
- C. 24
- D. 5

20. लुप्त संख्या ज्ञात कीजिए
 $3131 : 9800030 :: 3 : \text{-----}$

- A. 6
- B. 66
- C. 666
- D. 9

SPACE FOR ROUGH WORK / रफ कार्य के लिये जगह



21. Look carefully at the sequence of symbols and select the correct pattern that will replace the '?'.



- A.
- B.
- C.
- D.

22. Find the missing number in the series.
ELFA, GLHA, ILJA, ----, MLNA

- A. OLPA
- B. KLLA
- C. LLMA
- D. KLMA

21. प्रतीकों के अनुक्रम को ध्यान से देखें और सही पैटर्न का चयन करें जो '?' को प्रतिस्थापित करेगा।



- A.
- B.
- C.
- D.

22. श्रृंखला में लुप्त पद ज्ञात कीजिए।
ELFA, GLHA, ILJA, ----, MLNA

- A. OLPA
- B. KLLA
- C. LLMA
- D. KLMA

Adda247

SPACE FOR ROUGH WORK / रफ कार्य के लिये जगह



23. In a certain code language,
'pit na som' means 'bring me water'
'na jo tod' means 'water is life'
'tub od pit' means 'give me toy'
'jo lin kot' means 'life and death'
Which of the following represents 'is'
in that language?

- A. jo
- B. na
- C. tod
- D. lin

23. एक निश्चित कूट भाषा में,
'pit na som' का अर्थ है 'bring me water'
'na jo tod' का अर्थ है 'water is life'
'tub od pit' का अर्थ है 'give me toy'
'jo lin kot' का अर्थ है 'life and death'
निम्नलिखित में से कौन उस भाषा में 'is' को
दर्शाता है?

- A. jo
- B. na
- C. tod
- D. lin

24. Eleven students A, B, C, D, E, F, G,
H, I, J and K are sitting in the first line
facing the teacher.

D who is just to the left of F, and is to
the right of C at second place.

A is second to the right of E which is
at one end.

J is the nearest neighbour of A and B
and is to the left of G at third place.

H is next to D to the left and is at the
third place to the right of I.

Who is sitting in the middle?

- A. I
- B. H
- C. G
- D. B

24. ग्यारह छात्र A, B, C, D, E, F, G, H, I, J और
K पहली पंक्ति में शिक्षक के सम्मुख बैठे हैं।

D जो F के ठीक बायीं ओर है, और C के दायीं
ओर दूसरे स्थान पर है।

A, E के दायें से दूसरे स्थान पर है जो एक छोर पर
है।

J, A और B का निकटतम पड़ोसी है और G के
बायीं ओर तीसरे स्थान पर है।

H, D के बगल में बायीं ओर है और I के दाएं से
तीसरे स्थान पर है।

बीच में कौन बैठा है?

- A. I
- B. H
- C. G
- D. B

SPACE FOR ROUGH WORK / रफ कार्य के लिये जगह



25. Find the missing number in the series,
4, 18, ?, 100, 180, 294, 448

- A. 48
- B. 50
- C. 58
- D. 60

26. Here are some words translated from an artificial language.

malgauper means peach cobbler

malgaport means peach juice

moggagrop means apple jelly

Which word could mean "apple juice"?

- A. moggaport
- B. malgaauper
- C. gropport
- D. moggagrop

25. श्रृंखला में लुप्त संख्या ज्ञात कीजिए
4, 18, ?, 100, 180, 294, 448

- A. 48
- B. 50
- C. 58
- D. 60

26. यहाँ कृत्रिम भाषा से अनुवादित कुछ शब्द दिए गए हैं।

malgauper का अर्थ है peach cobbler

malgaport का अर्थ है peach juice

moggagrop का अर्थ है apple jelly

किस शब्द का अर्थ "apple juice" हो सकता है?

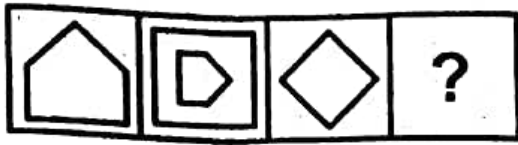
- A. moggaport
- B. malgaauper
- C. gropport
- D. moggagrop



SPACE FOR ROUGH WORK / रफ कार्य के लिये जगह

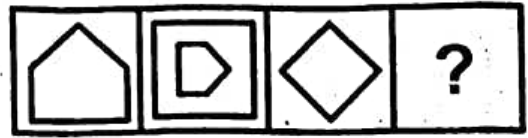


27. Select a suitable figure that would replace the question mark (?).



- A.
- B.
- C.
- D.

27. उपयुक्त आकृति का चयन करें जो प्रश्न चिह्न (?) को प्रतिस्थापित करेगी।



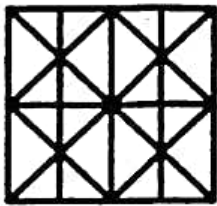
- A.
- B.
- C.
- D.

Adda247

SPACE FOR ROUGH WORK / रफ कार्य के लिये जगह

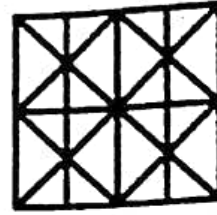


28. Find the minimum number of straight lines required to make the given figure.



- A. 11
- B. 14
- C. 16
- D. 17

28. दी गई आकृति बनाने के लिए न्यूनतम सीधी रेखाओं की संख्या ज्ञात कीजिये।



- A. 11
- B. 14
- C. 16
- D. 17

29. If $\left(\frac{a}{b}\right)^{x-1} = \left(\frac{b}{a}\right)^{x-3}$, then the value of x is-

- A. 1/2
- B. 1
- C. 2
- D. 7/2

29. यदि $\left(\frac{a}{b}\right)^{x-1} = \left(\frac{b}{a}\right)^{x-3}$ है, तो x का मान क्या है?

- A. 1/2
- B. 1
- C. 2
- D. 7/2

30. A dice is numbered from 1 to 6 in different ways, such that 1 is adjacent to 2, 4 and 6, then which of the following statement is necessarily true?

- A. 2 is opposite to 6
- B. 1 is adjacent to 3
- C. 3 is adjacent to 5
- D. 3 is opposite to 5

30. एक पासे को 1 से 6 तक विभिन्न तरीकों से क्रमांकित किया जाता है, जिसमें 1 अंक 2, 4 और 6 के आसन्न है, तो निम्नलिखित में से कौन सा कथन आवश्यक रूप से सत्य है?

- A. 2, 6 के विपरीत है
- B. 1, 3 के आसन्न है
- C. 3, 5 के आसन्न है
- D. 3, 5 के विपरीत है

SPACE FOR ROUGH WORK / रफ कार्य के लिये जगह



PART - II

General Knowledge

सामान्य ज्ञान

31. Longest national highway is-
- Varanasi to Kanyakumari
 - Shershah Suri Marg
 - Silchar to Porbandar
 - None of these
32. Choose the correct answer regarding *NIPUN Bharat* Programme that is launched in July 2021-
- NIPUN Bharat* aims to cover the learning needs of children in the age group of 5 to 9 years.
 - NIPUN* stands for National Initiative for Proficiency in Reading with Understanding and Numeracy.
 - It is launched by Home Ministry.
 - It comes under the aegis of the centrally sponsored scheme of *Sukanya Scheme*.

31. सबसे लंबा राष्ट्रीय राजमार्ग है-
- वाराणसी से कन्याकुमारी
 - शेरशाह सूरी मार्ग
 - सिलचर से पोरबंदर
 - इनमें से कोई नहीं
32. जुलाई, 2021 में लॉन्च किए गए निपुण भारत कार्यक्रम के संबंध में सही उत्तर चुनें-
- निपुण भारत का लक्ष्य 5 से 9 वर्ष की आयु के बच्चों की सीखने की जरूरतों को पूरा करना है।
 - NIPUN का मतलब नेशनल इनिशिएटिव फॉर प्रोफिशिएंसी इन रीडिंग विद अंडरस्टैंडिंग एण्ड न्यूमेरेसी है।
 - इसे गृह मंत्रालय द्वारा लॉन्च किया गया है।
 - यह सुकन्या योजना की केन्द्र प्रायोजित योजना के तत्वावधान में आता है।

Adda247

SPACE FOR ROUGH WORK / रफ कार्य के लिये जगह



33. According to NEP 2020, students will be given increased flexibility in course choices of the subject to study at secondary level. Choose the correct option among below given choices-

- (I) No hard separation among 'curricular', 'extra curricular' or 'co-curricular'
- (II) No hard separation among 'arts', 'humanities' and 'science'.
- (III) No hard separation between 'vocational' and 'academic' stream.

- A. Only (I) is correct statement.
- B. (I) and (II) both are correct statements.
- C. (I), (II) and (III) are correct statements.
- D. (II) and (III) are correct statements.

34. Arrange the following in the descending order of their liquidity-

- (a) M_1
- (b) M_2
- (c) M_3
- (d) M_4

- A. M_1, M_3, M_2, M_4
- B. M_4, M_3, M_2, M_1
- C. M_1, M_2, M_3, M_4
- D. M_4, M_2, M_3, M_1

33. एन.ई.पी. 2020 के अनुसार, छात्रों को माध्यमिक स्तर पर अध्ययन के लिए विषय पाठ्यक्रम के विकल्पों में अधिक लचीलापन दिया जाएगा। नीचे दिए गए विकल्पों में से सही विकल्प चुनें-

- (I) 'पाठ्यक्रम', 'अतिरिक्त पाठ्यक्रम' या 'सह-पाठ्यक्रम' के बीच कोई सख्त अलगाव नहीं।
- (II) 'कला', 'मानविकी' और 'विज्ञान' के बीच कोई कठोर अलगाव नहीं।
- (III) व्यावसायिक और अकादमिक धारा के बीच कोई कठोर अलगाव नहीं।

- A. केवल (I) सही कथन है।
- B. (I) और (II) दोनों कथन सही हैं।
- C. (I), (II) और (III) सही कथन हैं।
- D. (II) और (III) सही कथन हैं।

34. निम्नलिखित को उनकी तरलता के अवरोही क्रम में व्यवस्थित करें-

- (a) M_1
- (b) M_2
- (c) M_3
- (d) M_4

- A. M_1, M_3, M_2, M_4
- B. M_4, M_3, M_2, M_1
- C. M_1, M_2, M_3, M_4
- D. M_4, M_2, M_3, M_1

SPACE FOR ROUGH WORK / रफ कार्य के लिये जगह



35. *Ryotwari* land settlement was implemented in the following places during the British rule-
- Bihar
 - Mumbai
 - Allahabad
 - In all the above places
36. *Atal* Tinkering Labs is an initiative by which of the following institutions?
- NITI Aayog*
 - Indian Space Research Organization (*ISRO*)
 - Defence Research and Development Organization (*DRDO*)
 - Central Board of Secondary Education (*CBSE*)
37. Which statement is incorrect regarding western cyclonic disturbance?
- This is the Westerly flow that comes in winter.
 - It is not affected by the Jet stream.
 - Affects the Northern and North-Western regions of India.
 - Flow coming from the Mediterranean Sea Region.
35. ब्रिटिश शासन काल में निम्नलिखित स्थान में रैयतवाड़ी भूमि बंदोबस्त लागू किया गया था-
- बिहार
 - मुम्बई
 - इलाहाबाद
 - उपरोक्त सभी स्थानों में
36. अटल टिकरिंग लैब्स निम्नलिखित में से किस संस्थान की एक पहल है?
- नीति आयोग
 - भारतीय अंतरिक्ष अनुसंधान संगठन (*ISRO*)
 - रक्षा अनुसंधान और विकास संगठन (*DRDO*)
 - केन्द्रीय माध्यमिक शिक्षा बोर्ड (*CBSE*)
37. पश्चिमी चक्रवातीय विक्षोभ के संबंध में कौन सा कथन गलत है?
- यह सर्दियों में आने वाला पश्चिमी प्रवाह है।
 - यह जेट धारा से अप्रभावित है।
 - भारत के उत्तर एवं उत्तर पश्चिम क्षेत्र को प्रभावित करते हैं।
 - भूमध्य सागरीय क्षेत्र से आने वाला प्रवाह है।

SPACE FOR ROUGH WORK / रफ कार्य के लिये जगह



38. Infant Mortality Rate (IMR) indicate the number of children that die before the age of ----- as a proportion of 100 live children born in that particular year.

- A. One year
- B. Two year
- C. Three year
- D. Four year

39. Which of the following is matched in the context of the majority of the total membership of the each houses of Parliament and by a majority of not less than 2/3 of the members present and voting?

- (I) Impeachment against President.
- (II) Removal resolution against judges of Supreme Court.
- (III) External or Internal Emergency.
- (IV) Constitutional Amendment.

- A. (I), (II), (III)
- B. (II), (III), (IV)
- C. (I), (III), (IV)
- D. (I), (II), (IV)

40. The headquarter of ISRO is situated in-

- A. Bangalore
- B. Chennai
- C. Shriharikota
- D. Hyderabad

38. शिशु मृत्यु दर (आई एम आर) उस विशेष वर्ष में पैदा हुए 100 जीवित बच्चों के अनुपात के रूप में ----- वर्ष की आयु से पहले मरने वाले बच्चों की संख्या को इंगित करता है।

- A. एक वर्ष
- B. दो वर्ष
- C. तीन वर्ष
- D. चार वर्ष

39. संसद के प्रत्येक सदन की कुल सदस्य संख्या का बहुमत और उपस्थित व मतदान करने वाले सदस्यों के 2/3 बहुमत के संदर्भ में क्या सुमेलित है?

- (I) राष्ट्रपति के विरुद्ध महाभियोग
- (II) सर्वोच्च न्यायालय के न्यायाधीशों के विरुद्ध पदच्युति प्रस्ताव
- (III) आन्तरिक या बाह्य आपात्काल
- (IV) संविधानिक संशोधन

- A. (I), (II), (III)
- B. (II), (III), (IV)
- C. (I), (III), (IV)
- D. (I), (II), (IV)

40. इसरो का मुख्यालय स्थित है-

- A. बेंगलोर
- B. चैन्नई
- C. श्रीहरिकोटा
- D. हैदराबाद

SPACE FOR ROUGH WORK / रफ कार्य के लिये जगह



41. Which of the following factors affect human health?

- (I) Infections
- (II) Silent Mutations
- (III) Life Style
- (IV) Genetic Disorders

- A. (I), (II) & (IV)
- B. (I) & (II)
- C. (I), (III) & (IV)
- D. (II), (III) & (IV)

42. Which of the following is announced by the government in support of a crop?

- A. Maximum Support Price
- B. Minimum Support Price
- C. Moderate Support Price
- D. Influential Support Price

41. इनमें से कौन से कारक मानव स्वास्थ्य को प्रभावित करते हैं?

- (I) संक्रमण
- (II) मौन उत्परिवर्तन
- (III) जीवन शैली
- (IV) आनुवंशिक विकार

- A. (I), (II) और (IV)
- B. (I) और (II)
- C. (I), (III) और (IV)
- D. (II), (III) और (IV)

42. निम्नलिखित में से किसकी घोषणा सरकार द्वारा किसी फसल के समर्थन में की जाती है?

- A. अधिकतम समर्थन कीमत
- B. न्यूनतम समर्थन कीमत
- C. मध्यम समर्थन कीमत
- D. प्रभावशाली समर्थन कीमत

Adda247

SPACE FOR ROUGH WORK / रफ कार्य के लिये जगह



43. Which of the following are main objectives of RMSA (Rashtriya Madhyamik Shiksha Abhiyan)?
- To ensure that all secondary schools have physical facilities, staffs and supplies at least according to the prescribed standards.
 - To improve access to secondary schooling to all young persons according to norms.
 - To ensure that no child is deprived of secondary education of satisfactory quality due to gender, socio-economic, disability and other barriers.
 - To bring positive qualitative change in life of secondary school students.
- (I), (II) and (III)
 - (I), (II), (III) and (IV)
 - (II), (III) and (IV)
 - (I) and (IV)

44. Modern Periodic Table was given by-
- Dobereiner
 - Newland
 - Mendeleev
 - Seaborg

43. निम्नलिखित में से कौन आर.एम.एस.ए. (राष्ट्रीय माध्यमिक शिक्षा अभियान) के मुख्य उद्देश्य हैं?
- यह सुनिश्चित करना कि सभी माध्यमिक विद्यालयों में कम से कम निर्धारित मानकों के अनुसार भौतिक सुविधाएँ, कर्मचारी और सामग्री हों।
 - मानदण्डों के अनुसार सभी युवाओं के लिए माध्यमिक स्कूली शिक्षा तक पहुँच में सुधार करना।
 - यह सुनिश्चित करना कि कोई भी बच्चा लिंग, सामाजिक-आर्थिक, विकलांगता और अन्य बाधाओं के कारण संतोषजनक गुणवत्ता वाली माध्यमिक शिक्षा से वंचित न रहे।
 - माध्यमिक विद्यालय के छात्रों के जीवन में सकारात्मक गुणात्मक परिवर्तन लाना।
- (I), (II) और (III)
 - (I), (II), (III) और (IV)
 - (II), (III) और (IV)
 - (I) और (IV)

44. आधुनिक आवर्त सारणी दी थी-
- डोबेराइनर
 - न्यूलैण्ड
 - मेण्डलीफ
 - सीबोर्ग

SPACE FOR ROUGH WORK / रफ कार्य के लिये जगह



45. What is correct?
- (I) Speaker of Lok Sabha can be removed by No-confidence motion.
- (II) Speaker of Lok Sabha can be removed by a resolution.
- (III) Speaker can be removed by clear majority.
- (IV) Speaker can be removed by a majority of all the then members of the house.

- A. (I), (III)
B. (I), (IV)
C. (II), (III)
D. (II), (IV)

46. The meaning of the word 'Udrang' found in the inscriptions of the Gupta dynasty-

- A. Ministerial Post
B. Tax
C. Coin
D. Revolt

45. सही क्या है?

- (I) लोक सभा का स्पीकर अविश्वास प्रस्ताव द्वारा पद से हटाया जा सकता है।
- (II) लोक सभा का स्पीकर एक संकल्प द्वारा हटाया जा सकता है।
- (III) स्पीकर स्पष्ट बहुमत से हटाया जा सकता है।
- (IV) सदन के तत्कालीन सदस्यों के बहुमत से स्पीकर को हटाया जा सकता है।

- A. (I), (III)
B. (I), (IV)
C. (II), (III)
D. (II), (IV)

46. गुप्त वंश के अभिलेखों में प्राप्त 'उद्रंग' शब्द का अर्थ होता है-

- A. मंत्रीपद
B. कर
C. सिक्का
D. विद्रोह

Adda247

SPACE FOR ROUGH WORK / रफ कार्य के लिये जगह



47. Match the following *Tirthankars* with their order according to the belief of Jainism.

<u>Column – I</u>	<u>Column – II</u>
(a) <i>Aadinath</i>	(I) 23
(b) <i>Mahavir</i>	(II) 24
(c) <i>Parshvnath</i>	(III) 02
(d) <i>Ajitnath</i>	(IV) 01

- A. a-IV, b-II, c-I, d-III
 B. a-I, b-II, c-III, d-IV
 C. a-III, b-II, c-IV, d-I
 D. a-IV, b-III, c-II, d-I

48. Which of the following is matched in the context of III schedule of the Constitution?

- (I) Form of Oath for Prime Minister.
 (II) Form of Oath for Union Minister.
 (III) Form of Oath for a Minister of State
 (IV) Form of Oath for a Member of Parliament.

- A. (I), (II), (III)
 B. (II), (III), (IV)
 C. (III), (IV), (I)
 D. (IV), (I), (II)

47. जैन धर्म की मान्यता के अनुसार निम्नलिखित तीर्थंकरों को उनके क्रम से सुमेलित कीजिये-

<u>स्तंभ – I</u>	<u>स्तंभ – II</u>
(a) आदिनाथ	(I) 23
(b) महावीर	(II) 24
(c) पार्श्वनाथ	(III) 02
(d) अजितनाथ	(IV) 01

- A. a-IV, b-II, c-I, d-III
 B. a-I, b-II, c-III, d-IV
 C. a-III, b-II, c-IV, d-I
 D. a-IV, b-III, c-II, d-I

48. संविधान की तीसरी अनुसूची के संदर्भ में क्या सुमेलित है?

- (I) प्रधान मंत्री के लिए शपथ प्रारूप
 (II) संघ के मंत्री के लिए शपथ प्रारूप
 (III) एक राज्य के मंत्री के लिए शपथ प्रारूप
 (IV) संसद के सदस्य के लिए शपथ प्रारूप

- A. (I), (II), (III)
 B. (II), (III), (IV)
 C. (III), (IV), (I)
 D. (IV), (I), (II)

SPACE FOR ROUGH WORK / रफ कार्य के लिये जगह



49. Ram Prasad Bismil was given death penalty in a Conspiracy Case-

- A. Kakori
- B. Meerut
- C. Lahore
- D. Chatgaon

50. Which commission stated that "We have therefore come to the conclusion which also tallies with the view of the University Education Commission in this connection that it is desirable to abolish the present intermediate stage to increase the period of secondary education by one year and to plan a three year degree course in University stage"?

- A. Kothari Commission (Education Commission) (1964-66)
- B. Mudaliar Commission (Secondary Education Commission) (1952-53)
- C. Radhakrishnan Commission (University Education Commission) (1948-49)
- D. National Knowledge Commission (2006-09)

49. राम प्रसाद बिस्मिल को किस षड्यंत्र केस में मृत्युदण्ड दिया गया था?

- A. काकोरी
- B. मेरठ
- C. लाहौर
- D. चटगांव

50. किस आयोग ने कहा कि, "इसलिए हम इस निष्कर्ष पर पहुँचते हैं - जो इस सम्बन्ध में विश्वविद्यालय शिक्षा आयोग के दृष्टिकोण से भी मेल खाता है कि माध्यमिक शिक्षा की अवधि को एक वर्ष बढ़ाने और विश्वविद्यालय चरण में तीन वर्षीय डिग्री पाठ्यक्रम की योजना बनाने के लिए वर्तमान इंटरमीडिएट चरण को समाप्त करना वांछनीय है"?

- A. कोठारी आयोग (शिक्षा आयोग) (1964-66)
- B. मुदलियार आयोग (माध्यमिक शिक्षा आयोग) (1952-53)
- C. राधाकृष्णन आयोग (विश्वविद्यालय शिक्षा आयोग) (1948-49)
- D. राष्ट्रीय ज्ञान आयोग (2006-09)

SPACE FOR ROUGH WORK / रफ कार्य के लिये जगह



PART - III

Educational Interest

शिक्षण अभिरूचि

51. Which of the following is a formative assessment?

- (I) Explain the new terms given in the lesson.
- (II) Asking children to solve the questions given in the lesson.
- (III) Asking children to draw the picture given in the lesson.
- (IV) Get the children to do the activity and record the observation.

- A. (I) and (II) only
- B. (IV) only
- C. (III) and (IV) only
- D. (II) and (III) only

52. Which statement is not correct regarding closed type questions?

- A. Suitable for uncovering insight.
- B. Suitable for measuring attitudes
- C. Suitable for conducting quantitative analysis.
- D. Suitable for collecting specific data.

51. इनमें से कौन सा रचनात्मक आकलन है?

- (I) पाठ में दी गई नवीन शब्दावलियों की व्याख्या करना।
- (II) पाठ में दिए गए प्रश्नों को बच्चों से हल करवाना।
- (III) बच्चों को पाठ में दिए गए चित्र बनाने को कहना।
- (IV) बच्चों से क्रियाकलाप करवाना और अवलोकनों को दर्ज करना।

- A. केवल (I) और (II)
- B. केवल (IV)
- C. केवल (III) और (IV)
- D. केवल (II) और (III)

52. बन्द प्रकार के प्रश्नों के संबंध में कौन सा कथन सही नहीं है?

- A. अंतर्दृष्टि को उजागर करने के लिए उपयुक्त है।
- B. दृष्टिकोण मापने के लिए उपयुक्त है।
- C. मात्रात्मक विश्लेषण करने के लिए उपयुक्त है।
- D. विशिष्ट आंकड़े एकत्र करने के लिए उपयुक्त है।

SPACE FOR ROUGH WORK / रफ कार्य के लिये जगह



33. The basic principle of inclusive education is-
- Sensitivity to individual differences.
 - Special provision for children with special need.
 - Meeting the need of every student.
 - Education of minority group children.

34. Which of the following indicates the effectiveness of teaching?
- Student being active in class.
 - Maintaining constant discipline in the class.
 - Encourage students to question.
 - Priority given to student's experiences.

Select the correct answer from the following options.

- (I) and (II) only
- (II) and (III) only
- (I), (III) and (IV) only
- (I), (II), (III) and (IV) only

33. समावेशी शिक्षा का मूल सिद्धान्त है-
- व्यक्तिगत भिन्नता के प्रति संवेदनशीलता
 - विशेष आवश्यकता वाले बच्चों के लिए विशेष उपबन्धन
 - प्रत्येक विद्यार्थी की आवश्यकता पूरे करना
 - अल्पसंख्यक समूहों के बच्चों की शिक्षा

34. निम्नलिखित में से कौन कौन शिक्षण की प्रभावितता की ओर इशारा करते हैं?
- कक्षा में विद्यार्थियों का सक्रिय रहना
 - कक्षा में निरन्तर अनुशासन बनाए रखना
 - विद्यार्थियों को प्रश्न पूछने के लिए प्रोत्साहित करना
 - विद्यार्थियों के अनुभवों को प्राथमिकता देना

नीचे दिए गए विकल्पों में से सही उत्तर का चुनिए

- केवल (I) और (II)
- केवल (II) और (III)
- केवल (I), (III) और (IV)
- केवल (I), (II), (III) और (IV)

SPACE FOR ROUGH WORK / रफ़ कार्ब के लिये जगह



55. Arrange the steps of educational research in sequence-
- Selection of research problem.
 - Selection of research method.
 - Formulation of research question.
 - Data collection and analysis.
 - Reporting Result.
- Select the correct answer from the options given below-
- (c), (a), (b), (e), (d)
 - (c), (a), (d), (b), (e)
 - (a), (b), (d), (c), (e)
 - (a), (c), (b), (d), (e)

55. शैक्षिक शोध के चरणों को क्रमानुसार व्यवस्थित कीजिए-
- शोध समस्या का चयन।
 - शोध विधि का चयन।
 - शोध प्रश्न का निर्माण।
 - आकड़ों का संग्रहण एवं विश्लेषण।
 - परिणाम सूचित करना।
- नीचे दिए गए विकल्पों में से सही उत्तर का चुनाव कीजिए-
- (c), (a), (b), (e), (d)
 - (c), (a), (d), (b), (e)
 - (a), (b), (d), (c), (e)
 - (a), (c), (b), (d), (e)

56. Mistakes made by students in class-
- Creates obstacles to learning.
 - Helps students to solve problem.
 - This indicates student's weakness in learning.
 - Slows down the pace of learning.

56. कक्षा में विद्यार्थियों द्वारा की गई गलतियाँ-
- सीखने में बाधा उत्पन्न करती है।
 - विद्यार्थियों की समस्या का समाधान करने में सहायता करती है।
 - सीखने में विद्यार्थियों की कमजोरी की परिचायक है।
 - सीखने की गति को धीमा करती है।

SPACE FOR ROUGH WORK / रफ कार्य के लिये जगह



57. Two statements are given below, Assertion (A) and Reason (R) choose the correct answer in the context of these-

Assertion (A) : Learning is a life long process.

Reason (R) : For learning to be useful it must be connected to life.

- A. Both Assertion (A) and Reason are (R) correct and Reason (R) is the correct explanation of Assertion (A).
- B. Both Assertion (A) and Reason are (R) correct but Reason (R) is not the correct explanation of Assertion (A).
- C. Both Assertion (A) and Reason (R) are not correct.
- D. Assertion (A) is incorrect and Reason (R) is correct.

58. Which of the following set of statements are the benefit of the online learning method?

- (I) Flexible learning environment.
- (II) Reduced Instructor Interaction.
- (III) Flexibility in learning schedule.
- (IV) Reduced communication skill.

Select the correct answer from the following options-

- A. (I) and (II) only
- B. (I) and (III) only
- C. (I), (II) and (III) only
- D. (III) and (IV) only

57. नीचे दो कथन दिए गए हैं, अभिकथन (A) और कारण (R) इन कथनों के सन्दर्भ में सही उत्तर का चुनाव करें-

अभिकथन (A) : अधिगम एक जीवन पर्यन्त चलने वाली प्रक्रिया है।

कारण (R) : अधिगम के उपयोगी होने के लिए उसे जीवन से जोड़ा जाना चाहिए।

- A. अभिकथन (A) और कारण (R) दोनों सही हैं कारण (R), अभिकथन (A) की सही व्याख्या है।
- B. अभिकथन (A) और कारण (R) दोनों सही हैं किन्तु कारण (R), अभिकथन (A) की सही व्याख्या नहीं करता है।
- C. अभिकथन (A) और कारण (R) दोनों सही नहीं है।
- D. अभिकथन (A) गलत है और कारण (R) सही है।

58. निम्नलिखित में से कौन से कथन ऑनलाइन शिक्षण पध्दति के लाभ हैं?

- (I) सीखने का लचीला वातावरण।
- (II) प्रशिक्षक से अतःक्रिया में कमी।
- (III) सीखने के कार्यक्रम में लचीलापना।
- (IV) संप्रेषण कौशल में कमी।

नीचे दिए गए उत्तरों में से सही विकल्प का चुनाव करें-

- A. केवल (I) और (II)
- B. केवल (I) और (III)
- C. केवल (I), (II) और (III)
- D. केवल (III) और (IV)

SPACE FOR ROUGH WORK / रफ कार्य के लिये जगह



59. Two statements are given below, Assertion (A) and Reason (R). Choose the correct answer in the context of these-

Assertion (A) : Teachers should use formative assessment in the classroom so that they can continuously assess the progress of students.

Reason (R) : Formative assessment alone cannot gather information about the progress.

- A. Both Assertion (A) and Reason (R) correct and Reason (R) is the correct explanation of Assertion (A).
- B. Both Assertion (A) and Reason (R) correct but Reason (R) is not the correct explanation of Assertion (A).
- C. Both Assertion (A) and Reason (R) not correct.
- D. Assertion (A) is incorrect and Reason (R) is correct.

60. Which one of the following statement is true about the development of a child?

- A. Development is a short term process.
- B. Development refers to changes in quantitative aspect only.
- C. Development refers to changes in qualitative aspect only.
- D. It is a continuous process.

59. नीचे दो कथन दिए गए हैं, अभिकथन (A) और कारण (R)। इन कथनों के सन्दर्भ में सही उत्तर का चुनाव करें-

अभिकथन (A) : शिक्षकों को कक्षा में रचनात्मक आकलन का उपयोग करना चाहिए जिससे वे विद्यार्थियों की प्रगति का निरन्तर आकलन कर सके।

कारण (R) : केवल रचनात्मक आकलन से विद्यार्थी के विकास के विभिन्न क्षेत्रों की प्रगति के बारे में सूचनाएं एकत्र नहीं की जा सकती।

- A. दोनों अभिकथन (A) और कारण (R) सही हैं कारण (R), अभिकथन (A) की सही व्याख्या है।
- B. दोनों अभिकथन (A) और कारण (R) सही हैं परन्तु कारण (R), अभिकथन (A) की सही व्याख्या नहीं है।
- C. दोनों अभिकथन (A) और कारण (R) सही नहीं हैं।
- D. अभिकथन (A) गलत है और कारण (R) सही है।

60. इनमें से कौन सा कथन बच्चे के विकास के सन्दर्भ में सही है?

- A. विकास अल्प अवधि की प्रक्रिया है।
- B. विकास का तात्पर्य केवल मात्रात्मक पहलू में परिवर्तन से है।
- C. विकास का तात्पर्य केवल गुणात्मक पहलू में परिवर्तन से है।
- D. यह निरन्तर चलने वाली प्रक्रिया है।

SPACE FOR ROUGH WORK / रफ कार्य के लिये जगह .



61. Which of the following statements regarding the activity conducted in the classroom is incorrect?

- (I) Learning by rote
- (II) There must be an element of challenge in the activity.
- (III) The activity is done in a group and not alone.
- (IV) Any sport can be also an activity.

Select the correct answer from the following option.

- A. (I) and (III)
- B. (I) and (II)
- C. (I) and (IV)
- D. (III) and (IV)

62. Which of the following would you give the greatest importance in curriculum development?

- A. The process of teaching.
- B. Social participation
- C. Abilities and needs of the students.
- D. Learning activities

61. इनमें से कौन से कथन कक्षा में आयोजित गतिविधि के संबंध में गलत है?

- (I) रट कर सीखना।
 - (II) गतिविधि में चुनौति का तत्व होना चाहिए।
 - (III) गतिविधि समूह में ही की जाती है अकेले नहीं।
 - (IV) कोई खेल भी गतिविधि हो सकता है।
- नीचे दिए गए विकल्पों में से सही उत्तर का चुनाव करें-

- A. (I) और (III)
- B. (I) और (II)
- C. (I) और (IV)
- D. (III) और (IV)

62. पाठ्यचर्या के विकास में आप निम्नलिखित में से किसे सबसे अधिक महत्त्व देंगे?

- A. सीखने की प्रक्रियाएँ
- B. सामाजिक सहभागिता
- C. विद्यार्थियों की क्षमताओं और आवश्यकताओं को।
- D. सीखने की गतिविधियाँ

SPACE FOR ROUGH WORK / रफ कार्य के लिये जगह



63. In the constructivist teaching process-
- (I) Active participation of student.
 - (II) Teacher in the role of imparter of knowledge.
 - (III) There is no place for interaction in learning.
 - (IV) Learning takes place in sociality.
- Choose the correct options.
- A. (I) and (II)
 - B. (III) and (IV)
 - C. (I) and (IV)
 - D. (II) and (III)

64. Arrange the different stages of Jean Piaget's cognitive development theory in sequence-
- (a) Pre-operational stage
 - (b) Concrete operational stage
 - (c) Sensory motor stage
 - (d) Formal operational stage
- Choose the correct answer from the options given below-
- A. (a), (b), (d), (c)
 - B. (c), (d), (a), (b)
 - C. (c), (a), (b), (d)
 - D. (b), (c), (d), (a)

63. रचनावादी शिक्षण प्रक्रिया में-
- (I) विद्यार्थी की सक्रिय भागीदारी
 - (II) शिक्षक ज्ञान देने वाले की भूमिका में
 - (III) सीखने में अन्तःक्रिया का कोई स्थान नहीं।
 - (IV) सीखना सामाजिकता में होता है
- सही विकल्पों का चुनाव करें-
- A. (I) और (II)
 - B. (III) और (IV)
 - C. (I) और (IV)
 - D. (II) और (III)

64. जीन पियाजे के संज्ञानात्मक विकास सिद्धान्त की विभिन्न अवस्थाओं को क्रमानुसार व्यवस्थित कीजिए-
- (a) पूर्व संक्रियात्मक अवस्था
 - (b) मूर्त संक्रियात्मक अवस्था
 - (c) संवेदी पेशीय अवस्था
 - (d) औपचारिक संक्रियात्मक अवस्था
- नीचे दिए गए विकल्पों में से सही उत्तर का चुनाव करें।
- A. (a), (b), (d), (c)
 - B. (c), (d), (a), (b)
 - C. (c), (a), (b), (d)
 - D. (b), (c), (d), (a)

SPACE FOR ROUGH WORK / रफ कार्य के लिये जगह



65. Match the following-

Philosophy

- | | | |
|----------------|-------|------------|
| (a) Idealism | (I) | John Dewey |
| (b) Pragmatism | (II) | Rousseau |
| (c) Naturalism | (III) | John Locke |
| (d) Realism | (IV) | Plato |

- A. a-I, b-IV, c-II, d-III
B. a-II, b-III, c-IV, d-I
C. a-III, b-IV, c-I, d-II
D. a-IV, b-I, c-II, d-III

65. निम्नलिखित सुमेलित कीजिए-

दर्शन

दर्शनशास्त्री

- | | | |
|----------------|-------|----------|
| (a) आदर्शवाद | (I) | जॉन डीवी |
| (b) प्रयोजनवाद | (II) | रूसो |
| (c) प्रकृतिवाद | (III) | जॉन लॉक |
| (d) यथार्थवाद | (IV) | प्लेटो |

- A. a-I, b-IV, c-II, d-III
B. a-II, b-III, c-IV, d-I
C. a-III, b-IV, c-I, d-II
D. a-IV, b-I, c-II, d-III

66. Match the following-

Column - I

(Psychologist)

- (a) E. L. Thorndike
(b) Ivan Pavlov
(c) B. F. Skinner
(d) Wolfgang Kohler

Column - II

(Theory)

- (I) Insight Theory
(II) Trial and Error
(III) Classical Conditioning
(IV) Operant Conditioning

Select the correct answer from the options below-

- A. a-II, b-III, c-IV, d-I
B. a-III, b-II, c-IV, d-I
C. a-I, b-III, c-II, d-IV
D. a-III, b-IV, c-I, d-II

66. निम्नलिखित सुमेलित कीजिए-

स्तम्भ - I

(मनोवैज्ञानिक)

- (a) इ. एल. थार्नडाईक
(b) इवान पावलोव
(c) बी. एफ. स्कीनर
(d) वोल्फगैंग कोहलर

स्तम्भ - II

(सिद्धान्त)

- (I) सूझ का सिद्धान्त
(II) प्रयास व त्रुटि
(III) शास्त्रीय अनुबन्धन
(IV) क्रियाप्रसूत अनुबन्धन

नीचे दिए गए विकल्पों में से सही उत्तर का चुनाव करें-

- A. a-II, b-III, c-IV, d-I
B. a-III, b-II, c-IV, d-I
C. a-I, b-III, c-II, d-IV
D. a-III, b-IV, c-I, d-II

SPACE FOR ROUGH WORK / रफ कार्य के लिये जगह



67. Which of the following is the most appropriate factor to increase correct behaviour in students?

- A. Reward
- B. Punishment
- C. Use simple language
- D. Praise

68. Arrange the various steps of action research in sequence-

- (a) Make Hypothesis
- (b) Defining the problem
- (c) Obtaining evidences
- (d) Testing hypotheses
- (e) Generalization

Select the correct answer from the options given below-

- A. (b), (a), (d), (c), (e)
- B. (b), (d), (a), (c), (e)
- C. (a), (b), (c), (d), (e)
- D. (b), (a), (c), (d), (e)

67. इनमें से कौन सा कारक विद्यार्थी के सही व्यवहार को बढ़ावा देने के लिए सबसे अधिक उचित है?

- A. पुरस्कार
- B. दंड
- C. सरल भाषा का उपयोग
- D. प्रशंसा

68. एक्शन रिसर्च (क्रियात्मक अनुसंधान) के विभिन्न पदों को क्रमानुसार व्यवस्थित कीजिए-

- (a) परिकल्पना बनाना
- (b) समस्या को परिभाषित करना
- (c) साक्ष्य प्राप्त करना
- (d) परिकल्पनाओं का परीक्षण करना
- (e) सामान्यीकरण

नीचे दिए गए विकल्पों में से सही उत्तर का चुनाव कीजिए-

- A. (b), (a), (d), (c), (e)
- B. (b), (d), (a), (c), (e)
- C. (a), (b), (c), (d), (e)
- D. (b), (a), (c), (d), (e)

Adda247

SPACE FOR ROUGH WORK / रफ कार्य के लिये जगह



69. Which of the following statements are correct about the process of development of an individual?

- (I) Development is a short term process.
- (II) It is influenced only by heredity of an individual.
- (III) It is a continuous process.
- (IV) Development is only based on environmental factors.

- A. (II) and (III) only
- B. (III) and (IV) only
- C. (III) only
- D. (I), (II), (III) and (IV)

70. Match the following-

Column - I

- (a) NCF 2005
- (b) NCF-FS 2022
- (c) NEP 2020
- (d) NEP 1984

Column - II

- (I) Operation Black Board
- (II) Multilingualism
- (III) Learning without burden
- (IV) Panchkoshi Vikas

Select correct answer from the options given below-

- A. a-II, b-IV, c-I, d-III
- B. a-III, b-IV, c-II, d-I
- C. a-IV, b-III, c-II, d-I
- D. a-II, b-III, c-I, d-IV

69. निम्नलिखित में से कौन से कथन व्यक्ति के विकास की प्रक्रिया के बारे में सही हैं?

- (I) विकास अल्प अवधि की प्रक्रिया है।
- (II) यह केवल व्यक्ति की आनुवांशिकता से प्रभावित होता है।
- (III) यह निरन्तर चलने वाली प्रक्रिया है।
- (IV) विकास केवल वातावरणीय कारकों द्वारा निर्धारित होता है।

- A. केवल (II) और (III)
- B. केवल (III) और (IV)
- C. केवल (III)
- D. (I), (II), (III) और (IV)

70. निम्नलिखित सुमेलित कीजिए-

स्तम्भ - I

- (a) NCF 2005
- (b) NCF-FS 2022
- (c) NEP 2020
- (d) NEP 1984

स्तम्भ - II

- (I) आपरेशन ब्लैक बोर्ड
- (II) बहुभाषिता
- (III) शिक्षा बिना बोझ के
- (IV) पंचकोषी विकास

नीचे दिए गए विकल्पों में से सही उत्तर का चुनाव करें-

- A. a-II, b-IV, c-I, d-III
- B. a-III, b-IV, c-II, d-I
- C. a-IV, b-III, c-II, d-I
- D. a-II, b-III, c-I, d-IV

SPACE FOR ROUGH WORK / रफ कार्य के लिये जगह



71. Organise the method of writing a lesson plan-
- Prior knowledge
 - Learning objective
 - Recapitulation
 - Presentation of the subject matter
 - Homework
- Select the correct option from the options given below-
- (a), (b), (d), (c), (e)
 - (a), (b), (c), (e), (d)
 - (b), (a), (d), (c), (e)
 - (c), (b), (a), (d), (e)
72. Two Statements are given below-
- Statement – I : Education is a social necessity.
- Statement – II : Without education a society cannot attain stability and continuity.
- Choose the correct answer in the context of the above Statements.
- Statements I and II both are incorrect.
 - Statements I and II both are correct.
 - Statement I is correct but Statement II is incorrect.
 - Statement I is incorrect but Statement II is correct.
71. पाठ योजना लेखन की प्रणाली को व्यवस्थित कीजिए-
- पूर्व ज्ञान
 - अधिगम के उद्देश्य
 - पुनरावृत्ति
 - विषय वस्तु की प्रस्तुति
 - गृह-कार्य
- नीचे दिए गए विकल्पों में से सही विकल्प का चुनाव करें।
- (a), (b), (d), (c), (e)
 - (a), (b), (c), (e), (d)
 - (b), (a), (d), (c), (e)
 - (c), (b), (a), (d), (e)
72. नीचे दो कथन दिए गए हैं-
- कथन – I : शिक्षा एक सामाजिक आवश्यकता है।
- कथन – II : शिक्षा के बिना कोई भी समाज स्थिरता और निरन्तरता प्राप्त नहीं कर सकता।
- उपरोक्त कथनों के सन्दर्भ में सही उत्तर का चयन कीजिए।
- कथन I और II दोनों असत्य हैं।
 - कथन I व II दोनों सत्य हैं।
 - कथन I सही है लेकिन कथन II गलत है।
 - कथन I गलत है लेकिन कथन II सही है।

SPACE FOR ROUGH WORK / रफ कार्य के लिये जगह



73. Which of the following statements about learning is correct from a constructivist approach?
- Learning is a process of recall.
 - Punishment is crucial for constructing knowledge.
 - Learning occurs through stimulus and responses.
 - Social interaction is important in learning.

74. Arrange the following in chronological order-
- Mudaliar Commission
 - Dr. Radhakrishnan Commission
 - Ramamurti Review Committee
 - Kothari Commission
 - Prof. Yashpal Committee
(Learning Without Burden)

Select the correct answer from the options given below-

- (b), (a), (d), (c), (e)
- (a), (d), (b), (c), (e)
- (a), (b), (c), (e), (d)
- (c), (d), (e), (a), (b)

73. सीखने से संबंधित कौन सा कथन संरचनावादी दृष्टिकोण के अनुसार सही है?
- सीखना याद रखने की प्रक्रिया है।
 - ज्ञान निर्माण के लिए सजा महत्वपूर्ण है।
 - सीखना उद्दीपन और अनुक्रिया के द्वारा होता है।
 - सीखने में सामाजिक अन्तःक्रिया महत्वपूर्ण है।

74. निम्नलिखित को कालक्रम के अनुसार व्यवस्थित कीजिए-

- मुदालियार कमीशन
 - डॉ. राधाकृष्णन कमीशन
 - राममूर्ति समीक्षा समिति
 - कोठारी कमीशन
 - प्रो. यशपाल समिति (शिक्षा बिना बोझ के)
- नीचे दिए गए विकल्पों से सही उत्तर का चुनाव करें-

- (b), (a), (d), (c), (e)
- (a), (d), (b), (c), (e)
- (a), (b), (c), (e), (d)
- (c), (d), (e), (a), (b)

SPACE FOR ROUGH WORK / रफ कार्य के लिये जगह



75. Arrange the step of project method in a sequence-
- Planning of the project
 - Choosing and purposing the project
 - Evaluation of the project
 - Executing the project
 - Reporting the project
- Select the correct answer from the options below-
- (a), (b), (d), (e), (c)
 - (e), (c), (d), (a), (b)
 - (a), (b), (d), (c), (e)
 - (b), (a), (d), (c), (e)

76. Which one of the most important element in teaching?
- Content Knowledge
 - Relationship between student and teacher
 - Classroom management
 - Teaching method used

77. Enlightened Indian Perspectives '*Panchkosha Vikas*' (five fold development) is related to which of the following?
- National Curriculum Frameworks 2005 (NCF 2005)
 - National Curriculum Framework - 2000 (NCF 2000)
 - National Education Policy - 1984
 - National Curriculum Framework Foundational Stage - 2022

75. परियोजना विधि के विभिन्न पदों को क्रमानुसार व्यवस्थित कीजिए-
- परियोजना का नियोजन
 - परियोजना का चयन और उद्देश्य
 - परियोजना का मूल्यांकन
 - परियोजना का कार्यान्वयन
 - परियोजना का अभिलेखन
- नीचे दिए गए विकल्पों में से सही उत्तर का चुनाव कीजिए-
- (a), (b), (d), (e), (c)
 - (e), (c), (d), (a), (b)
 - (a), (b), (d), (c), (e)
 - (b), (a), (d), (c), (e)

76. शिक्षण का सबसे महत्वपूर्ण तत्व कौन सा है?
- विषय का ज्ञान
 - शिक्षक और विद्यार्थी के बीच सम्बन्ध
 - कक्षा प्रबन्धन
 - प्रयुक्त शिक्षण विधियाँ

77. प्रबुद्ध भारतीय 'परिप्रेक्ष्य पंचकोष' विकास इनमें से किससे संबंधित है?
- राष्ट्रीय पाठ्यचर्या की रूपरेखा - 2005
 - राष्ट्रीय पाठ्यचर्या की रूपरेखा - 2000
 - राष्ट्रीय शिक्षा नीति - 1984
 - राष्ट्रीय पाठ्यचर्या की रूपरेखा फाउंडेशनल स्टेज - 2022

SPACE FOR ROUGH WORK / रफ कार्य के लिये जगह



78. In primary school the most appropriate method to do effective teaching is-
- Positive feedback
 - Safe environment
 - Relating the content to children's daily life.
 - Organise a group activity.

78. प्राथमिक विद्यालय में शिक्षण करने की सबसे उपयुक्त प्रणाली है-
- सकारात्मक प्रतिक्रिया
 - सुरक्षित वातावरण
 - विषयवस्तु को बच्चों के दैनिक जीवन से जोड़ना।
 - सामूहिक गतिविधि का आयोजन करना।

79. Which classes are included in the middle stage as per NEP - 2020 new curricular structure?
- Class 6 - 9
 - Class 6 - 8
 - Class 9 - 12
 - Class 11 - 12

79. NEP - 2020 की नई पाठ्यचर्या संरचना के अनुसार मध्य चरण में कौन सी कक्षाएँ शामिल हैं?
- कक्षा 6 - 9
 - कक्षा 6 - 8
 - कक्षा 9 - 12
 - कक्षा 11 - 12

80. Which of the following does not indicate the effectiveness of teaching?
- Encourage students to question.
 - Maintaining constant discipline in the class.
 - Priority given to student's experience.
 - Student being active in the class.

80. निम्नलिखित में से कौन सा शिक्षण की प्रभाविता को इंगित नहीं करता?
- विद्यार्थियों को प्रश्न पूछने के लिए प्रेरित करना।
 - कक्षा में निरन्तर अनुशासन बनाए रखना।
 - विद्यार्थी के अनुभव को प्राथमिकता देना।
 - कक्षा में विद्यार्थियों का सक्रिय रहना।

SPACE FOR ROUGH WORK / रफ कार्य के लिये जगह



PART - IV

General Hindi

सामान्य हिन्दी

81. 'अर्जुन' का पर्यायवाची नहीं है-

- A. सव्यसाची
- B. गुडाकेश
- C. शुकोदन
- D. धनञ्जय

82. उच्चारण अवयवों से निकली हुई ध्वनियों को लिखित रूप देने के लिए जो स्वरूप दिया जाता है, उसे कहते हैं-

- A. अक्षर
- B. वर्ण
- C. ध्वनियाँ
- D. लिपि

83. निम्नांकित शब्दों को उचित क्रम में लगाइए-

- (a) थैली के
- (b) बड़े
- (c) चट्टे
- (d) एक ही

- A. (a), (c), (b), (d)
- B. (d), (a), (c), (b)
- C. (c), (b), (d), (a)
- D. (d), (a), (b), (c)

84. (a) - लिखित अभिव्यक्ति के लिए सबसे पहले बच्चों को बालू में फिर स्लेट पर चील - बिलैया करने चाहिए।
(b) - ऐसा करने से बच्चे के हाथ में आवश्यक मोड़ आता है।

- A. (a) गलत (b) सही
- B. (a) सही (b) गलत
- C. (a) एवं (b) दोनों सही
- D. (a) एवं (b) दोनों गलत

85. 'पुनरावलोकन' में प्रत्यय है-

- A. पुन
- B. पुनर
- C. पुनरा
- D. पुनर्

86. 'जिसे किसी से लगाव न हो', वाक्यांश के लिए एक शब्द होगा-

- (a) निर्लेप
- (b) अलिप्त
- (c) निर्लिप्त
- (d) सुकर

- A. (a) एवं (b)
- B. (a), (b) एवं (c)
- C. (b), (c) एवं (d)
- D. (a), (b), (c) एवं (d)

SPACE FOR ROUGH WORK / रफ कार्य के लिये जगह



87. उचित सम्बन्ध जोड़िए-

- | | |
|---------------------------|-------------------|
| (a) सीता ने रोटी खाई | (I) आसन्न भूत |
| (b) सीता ने रोटी खाई है | (II) पूर्ण भूत |
| (c) सीता ने रोटी खाई थी | (III) संदिग्ध भूत |
| (d) सीता ने रोटी खाई होगी | (IV) सामान्य भूत |

- A. a-IV, b-I, c-II, d-III
B. a-IV, b-III, c-I, d-II
C. a-III, b-IV, c-II, d-I
D. a-I, b-III, c-IV, d-II

88. पिता ने कहा बेटी तुम क्या चाहती हो बताओ तो सही।

उपर्युक्त वाक्य में उचित विराम चिह्न युक्त वाक्य होगा-

- A. पिता ने कहा, बेटी तुम क्या चाहती हो। बताओ तो सही।
B. पिता ने कहा, "बेटी तुम क्या चाहती हो? बताओ तो सही"।
C. पिता ने कहा बेटी तुम क्या चाहती हो? बताओ तो सही।
D. पिता ने कहा, बेटी तुम क्या चाहती हो? बताओ तो सही?

89. उसने बुलाया इसलिए मैंने सोचा कि मुझे जाना चाहिए।

वाक्य में संयोजक है-

- A. उसने
B. इसलिए
C. मैंने सोचा
D. जाना चाहिए

90. उचित वर्तनी युक्त शब्द का चयन कीजिए-

- A. सहानुभूती
B. सहानुभूती
C. सहानुभूति
D. सहानुभुति

SPACE FOR ROUGH WORK / रफ कार्य के लिये जगह



PART - V

General English

सामान्य अंग्रेजी

91. They ----- win the game, but I doubt it.
(Choose the correct modal)
- A. might
B. may
C. can
D. will
92. Choose the correct one word substitute for-
A person who knows everything.
- A. reticent
B. omnipotent
C. omniscient
D. philanthropist
93. Choose the correct spelling:
A dish made from eggs, fried with butter or oil in a frying pan.
- A. omlet
B. omelet
C. Amlet
D. Omelette
94. 'The horse who let me win the racing contest is a master athletic.'
Choose the correct Subordinate Clause-
- A. The Horse
B. who let me win the racing contest
C. is a master athletic
D. The horse who let me win

Read the following passage and answer the question from question no. 95 to 100.

Rod always used to laugh at the idea of flying saucers. "If there are people in outer," he used to say, "they won't want to come here, will they?" But that was before Rod had a very strange experience. One summer evening, just as he was getting ready to go to bed, Rod heard low humming noise outside, like thousands of bees. He looked out of his bedroom window. In the field at the end of the garden he saw a number of bright objects coming down. As they landed, their lights went out and the field became dark. Rod decided to take a closer look from the wall at the end of his garden. From there he could see the mysterious objects quite clearly. There were twelve of them in all and they were long and thin, like enormous cigars. In the centre of the machines he could just make out a group of figures, all wearing space suits. They appeared to be having a meeting. As he stood there, Rod felt sure that these men were from outer space. Their machines were the famous flying saucers. Rod also felt sure that they came from a quiet, peaceful planet, quite unlike the world he lived in. And he wanted to join them!

SPACE FOR ROUGH WORK / रफ कार्य के लिये जगह



At that moment the figures began to move back towards their machines. They went inside and the low humming noise began again. One by one the machines lit up. Then the first machine rose into the air, spinning like a wheel. A second one followed it, and then the third. Rod felt terribly sad. The machines were leaving without him! He jumped over the low wall. "Wait!" he shouted. "Take me with you! Please!" But as he rushed forward, a wave of hot air pushed him back and he fell to the ground. When he opened his eyes, the field was empty. Did he really see flying saucers or was it all a dream? Rod is not sure. But these days, when anyone mentions flying saucers, Rod keeps quiet. And he feels very sad, remembering the happy peaceful planet he wanted to go to.

95. Rod jumped over the wall because he wanted to-

- A. examine the machines
- B. go away with the machines
- C. meet the people in space suits
- D. smoke cigar with them

96. Rod went to the end of the garden because he saw-

- A. some strange objects
- B. some bees
- C. some people
- D. some cigars

97. What was Rod's very strange experience?

- A. Rod is not sure whether the flying saucers were real or dream.
- B. Rod saw a number of bright objects.
- C. Rod saw enormous cigar like figures.
- D. Rod saw the machines spinning like wheel.

98. The correct sequence of the sentences are-

- (I) He wanted to leave with the machines.
- (II) A wave of hot air pushed him back.
- (III) He wanted to see the machines more clearly.
- (IV) The machines were leaving without him.
- (V) He heard a low humming noise.

A. (IV), (II), (III), (I), (V)

B. (III), (I), (V), (II), (IV)

C. (V), (III), (I), (IV), (II)

D. (II), (I), (V), (IV), (III)

99. The figures in the space suits were-

- A. walking around
- B. smoking cigar
- C. standing together and talking
- D. humming songs

SPACE FOR ROUGH WORK / रफ कार्य के लिये जगह



100. Match the following in Column I to Column II.

Column - I

- (a) Why did Rod look out of his bed-room window?
- (b) Why Rod decided to take a closer look?
- (c) Why Rod wanted to join them?
- (d) Why Rod feels very sad?

Column - II


- (I) He wanted to go to the happy peaceful planet.
- (II) They had come from a quiet and peaceful planet.
- (III) He heard the humming noise.
- (IV) When the bright objects landed, the field became dark.

- A. a-I, b-II, c-III, d-IV
- B. a-III, b-IV, c-II, d-I
- C. a-IV, b-III, c-II, d-I
- D. a-III, b-II, c-IV, d-I

Adda247

SPACE FOR ROUGH WORK / रफ कार्य के लिये जगह





उत्तर अंकित करने का समय : 02 घंटे

अधिकतम अंक : 100

Time for making answers : 02 Hours

Maximum Marks : 100

नोट :

1. इस प्रश्न पुस्तिका में 100 प्रश्न हैं। प्रत्येक प्रश्न 01 अंक का है। सभी प्रश्न करने अनिवार्य हैं।
2. प्रश्नों के उत्तर दी गई OMR उत्तर-शीट (आंसरशीट) पर अंकित कीजिए।
3. प्राणात्मक मूल्यांकन नहीं किया जाएगा।
4. किसी भी तरह के कैलकुलेटर या लॉग टेबल एवं मोबाइल फोन का प्रयोग वर्जित है।
5. OMR उत्तर-शीट (आंसरशीट) का प्रयोग करते समय ऐसी कोई असावधानी न करें/बरतें जिससे यह फट जाये या उसमें मोड़ या सिलवट आदि पड़ जाये फलस्वरूप वह खराब हो जाये।

समाविष्ट भाग / विषयों की विस्तृत जानकारी।

भाग	विषय	प्रश्नों की संख्या	अंक
I	सामान्य मानसिक योग्यता	30	30
II	सामान्य ज्ञान	20	20
III	शिक्षण अभिरूचि	30	30
IV	सामान्य हिन्दी	10	10
V	सामान्य अंग्रेजी	10	10

Note :

1. This question booklet contains 100 questions each question carries 01 mark. All questions are compulsory.
2. Indicate your answers on the OMR Answer-Sheet provided.
3. No negative marking will be done.
4. Use of any type of calculator or log table and mobile phone is prohibited.
5. While using OMR Answer-Sheet care should be taken so that the Answer-Sheet does not get torn or spoiled due to folds or wrinkles.

Details of Parts/Subjects :

Part	Particular	No. of Questions	Marks
I	General Mental Eligibility	30	30
II	General Knowledge	20	20
III	Educational Interest	30	30
IV	General Hindi	10	10
V	General English	10	10

