



**CISF
Fireman**

**Previous Year Paper
26 Sept, 2023 Shift 2**





केन्द्रीय औद्योगिक सुरक्षा बल
CENTRAL INDUSTRIAL SECURITY FORCE

Participant ID	
Participant Name	
Test Center Name	
Test Date	26/09/2023
Test Time	12:30 PM - 2:30 PM
Subject	Constable (Fire)

Section : General Intelligence and Reasoning

Q.1 निम्नलिखित कथनों और निष्कर्ष को पढ़ें और निम्नलिखित में से सर्वोत्तम विकल्प चुनें।

कथन:

कुछ चींटियाँ तोते हैं।

सभी तोते गाय हैं।

निष्कर्ष:

I. सभी गाय तोते हैं।

II. कुछ चींटियाँ गाय हैं।

Ans

- ✗ 1. न तो निष्कर्ष I या निष्कर्ष II अनुसरण करता है
- ✗ 2. केवल निष्कर्ष I अनुसरण करता है
- ✗ 3. निष्कर्ष I और निष्कर्ष II दोनों अनुसरण करते हैं
- ✓ 4. केवल निष्कर्ष II अनुसरण करता है

Question ID : 630680371613

Option 1 ID : 6306801447763

Option 2 ID : 6306801447765

Option 3 ID : 6306801447764

Option 4 ID : 6306801447766

Status : Answered

Chosen Option : 3

Q.2 निम्नलिखित शब्दों को शब्दकोश के क्रम में व्यवस्थित करें।

1. Brother

2. Brothel

3. Bromine

4. Bronze

Ans 1. 1 2 4 3

2. 3 4 2 1

3. 3 4 1 2

4. 1 2 3 4

Question ID : 630680371606

Option 1 ID : 6306801447738

Option 2 ID : 6306801447736

Option 3 ID : 6306801447737

Option 4 ID : 6306801447735

Status : Answered

Chosen Option : 2

Q.3 निम्नलिखित विकल्पों में से बेमेल को चुनें?

Ans 1. ओरांव

2. संथाल

3. यूरालिस

4. मुंडा

Question ID : 630680371616

Option 1 ID : 6306801447776

Option 2 ID : 6306801447775

Option 3 ID : 6306801447778

Option 4 ID : 6306801447777

Status : Answered

Chosen Option : 3

Q.4



(X)



(1)

(2)

(3)

(4)

उपरोक्त चार विकल्पों में से कौन सा विकल्प मूल आकृति X को अंतर्निहित करता है?

- Ans
- 1. 4
 - 2. 3
 - 3. 2
 - 4. 1

Question ID : 630680371621

Option 1 ID : 6306801447798

Option 2 ID : 6306801447797

Option 3 ID : 6306801447796

Option 4 ID : 6306801447795

Status : Answered

Chosen Option : 2

Q.5 Given is the set : 132, 11, 12

निम्नलिखित में से कौन सा विकल्प उपरोक्त सेट के समान है?

- Ans
- 1. 90, 9, 10
 - 2. 135, 11, 12
 - 3. 144, 12, 13
 - 4. 121, 11, 12

Question ID : 630680371628

Option 1 ID : 6306801447824

Option 2 ID : 6306801447825

Option 3 ID : 6306801447826

Option 4 ID : 6306801447823

Status : Answered

Chosen Option : 1

BILINGUAL



CISF 2024

CISF Fireman Constable
150+ Total Tests

Test Series

Q.6 W का अर्थ है '+', X का अर्थ है '-' Y का अर्थ है 'x' और Z का अर्थ है \div , तो

$$12 Y 14 W 18 X 32 Z 4 = ?$$

Ans 1. 178

2. 146

3. 108

4. 170

Question ID : 630680371624

Option 1 ID : 6306801447808

Option 2 ID : 6306801447809

Option 3 ID : 6306801447807

Option 4 ID : 6306801447810

Status : Answered

Chosen Option : 1

Q.7 Given is the set : 75, 35, 40

निम्नलिखित में से कौन सा विकल्प उपरोक्त सेट के समान है?

Ans 1. 35, 5, 30

2. 25, 5, 25

3. 35, 5, 40

4. 20, 5, 16

Question ID : 630680371629

Option 1 ID : 6306801447829

Option 2 ID : 6306801447828

Option 3 ID : 6306801447830

Option 4 ID : 6306801447827

Status : Answered

Chosen Option : 1

Q.8 निम्नलिखित विकल्पों में से बेजोड़ शब्द चुनें? (राज्यों एवं उनकी सीमाओं के आधार पर)

Ans 1. अरुणाचल प्रदेश

2. हरियाणा

3. उत्तर प्रदेश

4. जम्मू और कश्मीर

Question ID : 630680371617

Option 1 ID : 6306801447780

Option 2 ID : 6306801447782

Option 3 ID : 6306801447781

Option 4 ID : 6306801447779

Status : Answered

Chosen Option : 2

Q.9 आदर्श के माँ की सास के पति आदर्श से किस प्रकार संबंधित हैं?

- Ans
- 1. चाचा
 - 2. दादा
 - 3. पिता
 - 4. नाना

Question ID : 630680371612

Option 1 ID : 6306801447761

Option 2 ID : 6306801447759

Option 3 ID : 6306801447760

Option 4 ID : 6306801447762

Status : Answered

Chosen Option : 2

Q.10 121, 101, 112, 92, 103, ? ?

प्रश्न चिन्ह के स्थान पर क्या आएगा?

- Ans
- 1. 82, 95
 - 2. 81, 94
 - 3. 80, 92
 - 4. 83, 94

Question ID : 630680371626

Option 1 ID : 6306801447817

Option 2 ID : 6306801447818

Option 3 ID : 6306801447816

Option 4 ID : 6306801447815

Status : Answered

Chosen Option : 4

Q.11 फिरोज़, सरोज, हेमा, इलेना और जर्मी एक बेंच पर बैठे हैं। फिरोज़, सरोज के बगल में बैठा है, हेमा, इलेना के बगल में बैठी है, इलेना जर्मी के साथ नहीं बैठी है जो बेंच के बाएं छोर पर है। हेमा दायें से दूसरे स्थान पर हैं। फिरोज़, सरोज और जर्मी के दाईं ओर है। फिरोज और हेमा एक साथ बैठे हैं। फिरोज किस स्थान पर बैठा है?

- Ans
- 1. हेमा और इलेना के बीच
 - 2. सरोज और इलेना के बीच
 - 3. सरोज और हेमा के बीच
 - 4. जर्मी और इलेना के बीच

Question ID : 630680371605

Option 1 ID : 6306801447732

Option 2 ID : 6306801447733

Option 3 ID : 6306801447731

Option 4 ID : 6306801447734

Status : Answered

Chosen Option : 3

Q.12 निम्नलिखित विकल्पों में से बेमेल शब्द चुनें?

- Ans
- 1. दिसपुर
 - 2. पटना
 - 3. इंदौर
 - 4. लखनऊ

Question ID : 630680371618
Option 1 ID : 6306801447785
Option 2 ID : 6306801447784
Option 3 ID : 6306801447786
Option 4 ID : 6306801447783
Status : Answered
Chosen Option : 3

Q.13



(X)



(1)



(2)



(3)



(4)

उपरोक्त चार विकल्पों में से प्रश्न चिन्ह के स्थान पर कौन सा विकल्प आएगा?

- Ans
- 1. 2
 - 2. 4
 - 3. 3
 - 4. 1

Question ID : 630680371619
Option 1 ID : 6306801447788
Option 2 ID : 6306801447790
Option 3 ID : 6306801447789
Option 4 ID : 6306801447787
Status : Answered
Chosen Option : 1

Q.14 यदि SUNRISE को ESIRNUS लिखा जाए। उसी कोड में SUNSHINE को कैसे लिखा जाएगा?

- Ans
- 1. ENIHSNUS
 - 2. SUNSHINE
 - 3. ENIHSSUN
 - 4. SUNENISH

Question ID : 630680371610
Option 1 ID : 6306801447753
Option 2 ID : 6306801447754
Option 3 ID : 6306801447751
Option 4 ID : 6306801447752
Status : Answered
Chosen Option : 1

Q.15 उत्तर प्रदेश: गंगा

मध्य प्रदेश: ?

प्रश्न चिन्ह के स्थान पर क्या आएगा?

- Ans
- 1. कृष्णा
 - 2. ब्रह्मपुत्र
 - 3. नर्मदा
 - 4. कावेरी

Question ID : 630680371615

Option 1 ID : 6306801447774

Option 2 ID : 6306801447773

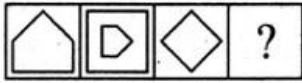
Option 3 ID : 6306801447771

Option 4 ID : 6306801447772

Status : Answered

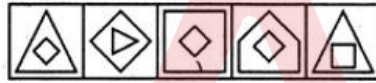
Chosen Option : 2

Q.16 Problem Figures:



(A) (B) (C) (D)

Answer Figures:



(1) (2) (3) (4) (5)

उपरोक्त पांच विकल्पों में से कौन सा विकल्प प्रश्न चिह्न का स्थान लेगा?

- Ans
- 1. 1
 - 2. 4
 - 3. 2
 - 4. 3

Question ID : 630680371622

Option 1 ID : 6306801447799

Option 2 ID : 6306801447802

Option 3 ID : 6306801447800

Option 4 ID : 6306801447801

Status : Answered

Chosen Option : 4

Q.17 यदि MARIGOLD को AMIROGDL लिखा जाए। उसी कोड में PRODUCER को कैसे लिखा जाएगा?

- Ans
- ✓ 1. RPDOCURE
 - ✗ 2. PRDOUCRE
 - ✗ 3. RPDOUCER
 - ✗ 4. PRODRECU

Question ID : 630680371611

Option 1 ID : 6306801447758

Option 2 ID : 6306801447756

Option 3 ID : 6306801447757

Option 4 ID : 6306801447755

Status : Answered

Chosen Option : 1

Q.18 निम्नलिखित शब्दों को शब्दकोश के क्रम में व्यवस्थित करें।

- 1. Honour
- 2. Headache
- 3. Hegemony
- 4. Honesty

- Ans
- ✓ 1. 2 3 4 1
 - ✗ 2. 3 2 4 1
 - ✗ 3. 3 2 1 4
 - ✗ 4. 2 3 1 4

Question ID : 630680371608

Option 1 ID : 6306801447744

Option 2 ID : 6306801447745

Option 3 ID : 6306801447746

Option 4 ID : 6306801447743

Status : Answered

Chosen Option : 1

Q.19 बेरीबेरी: विटामिन बी

बाँझपन: ?

प्रश्न चिन्ह के स्थान पर क्या आएगा?

- Ans
- 1. विटामिन D
 - 2. विटामिन C
 - 3. विटामिन A
 - 4. विटामिन E

Question ID : 630680371614

Option 1 ID : 6306801447770

Option 2 ID : 6306801447768

Option 3 ID : 6306801447767

Option 4 ID : 6306801447769

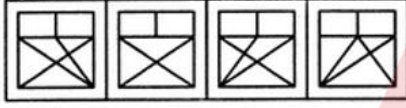
Status : Answered

Chosen Option : 4

Q.20



(X)



(1)

(2)

(3)

(4)

उपरोक्त चार विकल्पों में से कौन सा विकल्प मूल आकृति X को अंतर्निहित करता है?

- Ans
- 1. 3
 - 2. 1
 - 3. 2
 - 4. 4

Question ID : 630680371620

Option 1 ID : 6306801447793

Option 2 ID : 6306801447791

Option 3 ID : 6306801447792

Option 4 ID : 6306801447794

Status : Answered

Chosen Option : 4

Q.21 एक निश्चित कूट भाषा में, गुणन '+' को दर्शाता है, विभाजन 'x' को दर्शाता है, घटाव '-' और को दर्शाता है जोड़ '-' को दर्शाता है।

इसे हल करें

$$10 \div 20 - 5 + 5 \times 6 = ?$$

- Ans
- 1. 26
 - 2. 41
 - 3. 18
 - 4. 34

Question ID : 630680371623

Option 1 ID : 6306801447804

Option 2 ID : 6306801447806

Option 3 ID : 6306801447803

Option 4 ID : 6306801447805

Status : Answered

Chosen Option : 3

Q.22 निम्नलिखित शब्दों को शब्दकोश के क्रम में व्यवस्थित करें।

1. Glamour

2. Gland

3. Gladiator

4. Glance

- Ans
- 1. 1 2 3 4
 - 2. 3 4 2 1
 - 3. 4 3 2 1
 - 4. 3 1 4 2

Question ID : 630680371607

Option 1 ID : 6306801447740

Option 2 ID : 6306801447742

Option 3 ID : 6306801447741

Option 4 ID : 6306801447739

Status : Answered

Chosen Option : 2

Q.23 P R Q S R T S ? ?

प्रश्न चिन्ह के स्थान पर क्या आएगा?

- Ans
- 1. U V
 - 2. U T
 - 3. T U
 - 4. V U

Question ID : 630680371609

Option 1 ID : 6306801447749

Option 2 ID : 6306801447748

Option 3 ID : 6306801447747

Option 4 ID : 6306801447750

Status : Answered

Chosen Option : 4

Q.24 144, 169

निम्नलिखित में से कौन सा युग्म उपरोक्त अभिव्यक्ति के समान है?

- Ans
- 1. 216 : 343
 - 2. 216 : 49
 - 3. 25 : 49
 - 4. 8 : 49

Question ID : 630680371627

Option 1 ID : 6306801447821

Option 2 ID : 6306801447822

Option 3 ID : 6306801447819

Option 4 ID : 6306801447820

Status : Answered

Chosen Option : 3

Q.25 एक निश्चित कूट भाषा में, गुणन '+' को दर्शाता है, विभाजन 'x' को दर्शाता है, घटाव '-' और को दर्शाता है जोड़ '-' को दर्शाता है।

इसे हल करें

$$20 \div 10 - 5 + 10 \times 5 = ?$$

- Ans
- 1. 30
 - 2. 20
 - 3. 35
 - 4. 25

Question ID : 630680371625
Option 1 ID : 6306801447814
Option 2 ID : 6306801447811
Option 3 ID : 6306801447813
Option 4 ID : 6306801447812
Status : Answered
Chosen Option : 4

Section : General Knowledge and Awareness

Q.1 द्विपक्षीय सैन्य अभ्यास 'अजेय वारियर 2023' भारत और किस देश के थल सेना के मध्य आयोजित हुआ था?

- Ans
- 1. थाईलैंड
 - 2. अफ्रीका
 - 3. फ्रांस
 - 4. यूनाइटेड किंगडम

Question ID : 630680371634
Option 1 ID : 6306801447847
Option 2 ID : 6306801447848
Option 3 ID : 6306801447850
Option 4 ID : 6306801447849
Status : Answered
Chosen Option : 3

Q.2 हाल ही में किन्हें 'केंद्रीय जांच ब्यूरो' के निर्देशक के पद पर नियुक्त किया गया है?

- Ans
- 1. राजीव बहल
 - 2. ऋषि कुमार शुक्ला
 - 3. प्रवीण सूद
 - 4. रवि सिन्हा

Question ID : 630680371635
Option 1 ID : 6306801447853
Option 2 ID : 6306801447854
Option 3 ID : 6306801447852
Option 4 ID : 6306801447851
Status : Answered
Chosen Option : 2

Q.3 निम्नलिखित में से किस वर्ष में 'इंडियन नेशनल आर्मी' का गठन किया गया?

- Ans
- 1. वर्ष 1941
 - 2. वर्ष 1942
 - 3. वर्ष 1943
 - 4. वर्ष 1940

Question ID : 630680371642
Option 1 ID : 6306801447881
Option 2 ID : 6306801447879
Option 3 ID : 6306801447882
Option 4 ID : 6306801447880
Status : Answered
Chosen Option : 2

Q.4 'रिहला' नामक प्रसिद्ध यात्रा वृत्तांत पुस्तक रूप में किस भाषा में लिखी गई है?

- Ans
- 1. तुर्की
 - 2. ऊर्दू
 - 3. पर्सियन
 - 4. अरबी

Question ID : 630680371645
Option 1 ID : 6306801447893
Option 2 ID : 6306801447891
Option 3 ID : 6306801447892
Option 4 ID : 6306801447894
Status : Answered
Chosen Option : 3

Q.5 निम्नलिखित में से किस राज्य में जैव मंडल आरक्षित क्षेत्र नंदा देवी अवस्थित है?

- Ans
- 1. अरुणाचल प्रदेश
 - 2. उत्तराखंड
 - 3. हिमाचल प्रदेश
 - 4. सिक्किम

Question ID : 630680371650
Option 1 ID : 6306801447912
Option 2 ID : 6306801447913
Option 3 ID : 6306801447911
Option 4 ID : 6306801447914
Status : Answered
Chosen Option : 1

Q.6 निम्न में से कौन सी भाषा भारत की राष्ट्रीय भाषा है?

- Ans
- ✓ 1. भारत की कोई राष्ट्रभाषा नहीं है
 - ✗ 2. हिन्दी
 - ✗ 3. अँग्रेजी
 - ✗ 4. संस्कृत

Question ID : 630680371646

Option 1 ID : 6306801447897

Option 2 ID : 6306801447895

Option 3 ID : 6306801447898

Option 4 ID : 6306801447896

Status : Answered

Chosen Option : 2

Q.7 प्रथमतया किस वर्ष एसईसीसी के तहत जाति आधारित जनगणना शुरू की गई थी?

- Ans
- ✗ 1. 1921ई
 - ✓ 2. 1931ई
 - ✗ 3. 1872ई
 - ✗ 4. 1881ई

Question ID : 630680371652

Option 1 ID : 6306801447921

Option 2 ID : 6306801447922

Option 3 ID : 6306801447919

Option 4 ID : 6306801447920

Status : Answered

Chosen Option : 3

Q.8 विश्व शतरंज चैंपियन मैगनस कार्लसन को हराने वाले सबसे युवा खिलाड़ी निम्नलिखित में से कौन है?

- Ans
- ✗ 1. आर प्रज्ञाननंदा
 - ✗ 2. विपुल प्रणीत
 - ✓ 3. डी गुकेश
 - ✗ 4. अर्जुन एरिगैसी



CISF

Fireman Constable Complete Batch



Starts: 12 Sep | 8 am - 9 pm

Q.9 निम्न में से किस शैवाल का प्रयोग आयोडीन के रूप में किया जाता है?

- Ans
- 1. बेसिलस
 - 2. लेमिनेरिया
 - 3. क्लोरला
 - 4. बीगल

Question ID : 630680371654

Option 1 ID : 6306801447930

Option 2 ID : 6306801447929

Option 3 ID : 6306801447928

Option 4 ID : 6306801447927

Status : Answered

Chosen Option : 2

Q.10 'विशु' के नाम से नव वर्ष को किस राज्य में मनाया जाता है?

- Ans
- 1. बिहार
 - 2. ओडिशा
 - 3. कश्मीर
 - 4. केरल

Question ID : 630680371648

Option 1 ID : 6306801447905

Option 2 ID : 6306801447903

Option 3 ID : 6306801447906

Option 4 ID : 6306801447904

Status : Answered

Chosen Option : 2

Q.11 राजा राममोहन राय द्वारा किस संस्था की स्थापना 1815 ईस्वी में की गई थी?

- Ans
- 1. वेदांत कॉलेज
 - 2. ब्रह्मों समाज
 - 3. बालिका विद्यालय
 - 4. आत्मीय सभा

Question ID : 630680371643

Option 1 ID : 6306801447883

Option 2 ID : 6306801447884

Option 3 ID : 6306801447886

Option 4 ID : 6306801447885

Status : Answered

Chosen Option : 2

Q.12 नासा के अंतर्राष्ट्रीय वायु एवं अंतरिक्ष कार्यक्रम को पूरा करने वाली पहली भारतीय महिला होने का श्रेय किसे प्राप्त है?

- Ans
- 1. अंतिम पंचाल
 - 2. अवनी चतुर्वेदी
 - 3. मनीषा कल्याण
 - 4. जाह्नवी डांगेटी

Question ID : 630680371633

Option 1 ID : 6306801447846

Option 2 ID : 6306801447844

Option 3 ID : 6306801447845

Option 4 ID : 6306801447843

Status : Answered

Chosen Option : 2

Q.13 हाल ही में संपन्न पक्षी महोत्सव 'कलरब' के कारण चर्चित "नागी नकटी बर्ड सेंचुरी" किस राज्य में स्थित है?

- Ans
- 1. हरियाणा
 - 2. ओडिशा
 - 3. बिहार
 - 4. असम

Question ID : 630680371649

Option 1 ID : 6306801447909

Option 2 ID : 6306801447910

Option 3 ID : 6306801447907

Option 4 ID : 6306801447908

Status : Answered

Chosen Option : 4

Q.14 26 नवंबर, 1949 को भारतीय संविधान की 8वीं अनुसूची के तहत कितनी भाषाएँ सूचीबद्ध थीं?

- Ans
- 1. 21
 - 2. 14
 - 3. 28
 - 4. 22

Question ID : 630680371647

Option 1 ID : 6306801447899

Option 2 ID : 6306801447900

Option 3 ID : 6306801447902

Option 4 ID : 6306801447901

Status : Answered

Chosen Option : 4

Q.15 वर्ष 2023 में नई दिल्ली में महिला विश्व मुक्केबाजी चैंपियनशिप के किस संस्करण का आयोजन किया गया?

- Ans
- 1. 14वें
 - 2. 11वें
 - 3. 13वें
 - 4. 12वें

Question ID : 630680371630
Option 1 ID : 6306801447834
Option 2 ID : 6306801447831
Option 3 ID : 6306801447833
Option 4 ID : 6306801447832
Status : Answered
Chosen Option : 3

Q.16 नीचे उल्लेखित किस संप्रदाय के अनुसार, 'प्रकृति के संबंध में ज्ञान प्राप्त करना असंभव है यदि संभव भी है तो मोक्ष प्राप्ति के लिए व्यर्थ है'?

- Ans
- 1. अजनाना संप्रदाय
 - 2. इस्लाम
 - 3. पंचरात्र संप्रदाय
 - 4. आजीवक संप्रदाय

Question ID : 630680371651
Option 1 ID : 6306801447917
Option 2 ID : 6306801447916
Option 3 ID : 6306801447918
Option 4 ID : 6306801447915
Status : Answered
Chosen Option : 1

Q.17 वर्ष 2023 में किस राज्य की सरकार द्वारा जरूरतमंदों को मुफ्त कानूनी सहायता प्रदान करने के लिए 'कानूनी सहायता रक्षा परामर्श प्रणाली' लागू की गई है?

- Ans
- 1. राजस्थान
 - 2. उत्तरप्रदेश
 - 3. बिहार
 - 4. मध्यप्रदेश

Question ID : 630680371637
Option 1 ID : 6306801447861
Option 2 ID : 6306801447859
Option 3 ID : 6306801447860
Option 4 ID : 6306801447862
Status : Answered
Chosen Option : 4

Q.18 'Cervavac' वैक्सीन निम्न में से किसमें प्रयुक्त होता है?

Ans 1. सिरोसिस एवं यकृत कैंसर में

2. न्यूमोकोकल रोग से बचाव में

3.

जानवरों के लिए विकसित भारत का पहला कोविड-19 वैक्सीन

4. सर्वाइकल कैंसर से लड़ने में

Question ID : 630680371632

Option 1 ID : 6306801447841

Option 2 ID : 6306801447842

Option 3 ID : 6306801447839

Option 4 ID : 6306801447840

Status : Answered

Chosen Option : 3

Q.19 रूल ऑफ लॉ इंडेक्स 2022 में भारत का स्थान किस क्रम पर है?

Ans 1. 75वाँ

2. 79वाँ

3. 78वाँ

4. 77वाँ

Question ID : 630680371638

Option 1 ID : 6306801447866

Option 2 ID : 6306801447863

Option 3 ID : 6306801447864

Option 4 ID : 6306801447865

Status : Answered

Chosen Option : 3

Q.20 राष्ट्रीय कृषि एवं ग्रामीण विकास बैंक की स्थापना का वर्ष निम्न दिए विकल्पों में से चुने?

Ans 1. 1984

2. 1980

3. 1981

4. 1982

Question ID : 630680371640

Option 1 ID : 6306801447873

Option 2 ID : 6306801447871

Option 3 ID : 6306801447872

Option 4 ID : 6306801447874

Status : Answered

Chosen Option : 1

Q.21 भारतीय संविधान के अंतर्गत 'एकल नागरिकता' के प्रावधान हेतु किस देश के संविधान से प्रेरणा ली गई है?

- Ans
- ✓ 1. ब्रिटेन
 - ✗ 2. संयुक्त राज्य अमेरिका
 - ✗ 3. कनाडा
 - ✗ 4. ऑस्ट्रेलिया

Question ID : 630680371653
Option 1 ID : 6306801447926
Option 2 ID : 6306801447923
Option 3 ID : 6306801447925
Option 4 ID : 6306801447924
Status : Answered
Chosen Option : 2

Q.22 वह मुद्रा, जिसका आंतरिक धात्विक मूल्य उसके अंकित मूल्य से कम होता है उसे क्या कहा जाता है?

- Ans
- ✗ 1. हॉट मुद्रा
 - ✗ 2. ऐक्षिक मुद्रा
 - ✓ 3. टोकन मुद्रा
 - ✗ 4. मानक मुद्रा

Question ID : 630680371639
Option 1 ID : 6306801447868
Option 2 ID : 6306801447870
Option 3 ID : 6306801447869
Option 4 ID : 6306801447867
Status : Answered
Chosen Option : 4

Q.23 किस समिति द्वारा क्षेत्रीय ग्रामीण बैंकों के संगठन और कार्यों में संशोधन करके इनकी संरचना को और सुदृढ़ करने के संबंध में सुझाव दिया गया?

- Ans
- ✗ 1. शिवरमण सिंह समिति
 - ✓ 2. दाँतेवाला समिति
 - ✗ 3. नरसिम्हम समिति
 - ✗ 4. केलकर समिति

Question ID : 630680371641
Option 1 ID : 6306801447878
Option 2 ID : 6306801447876
Option 3 ID : 6306801447877
Option 4 ID : 6306801447875
Status : Answered
Chosen Option : 1

Q.24 1857 ई के क्रांति के नेता दीवान मनीराम दत्त का संबंध निम्न में से किससे है?

- Ans
- ✓ 1. असम
 - ✗ 2. फतेहपुर
 - ✗ 3. बिहार
 - ✗ 4. कानपुर

Question ID : 630680371644

Option 1 ID : 6306801447889

Option 2 ID : 6306801447890

Option 3 ID : 6306801447887

Option 4 ID : 6306801447888

Status : Answered

Chosen Option : 2

Q.25 भारतीय सैन्य इतिहास में निम्नलिखित में से पहली बार किस महिला अधिकारी को विश्व के सबसे ऊंचे युद्ध क्षेत्र सियाचिन में तैनात किया गया है?

- Ans
- ✓ 1. कैप्टन शिवा चौहान
 - ✗ 2. कर्नल गीता राणा
 - ✗ 3. रानी रामपाल
 - ✗ 4. अबनी चतुर्वेदी

Question ID : 630680371636

Option 1 ID : 6306801447858

Option 2 ID : 6306801447856

Option 3 ID : 6306801447857

Option 4 ID : 6306801447855

Status : Answered

Chosen Option : 2

Section : Elementary Mathematics

Q.1 लेथ मशीन का मूल्य प्रति वर्ष 15% की दर से घटता है। यदि वर्तमान में मशीन की लागत 150,000 रुपये है, तो 2 वर्ष बाद इसका मूल्य क्या होगा?

- Ans
- ✓ 1. 108375 रुपये
 - ✗ 2. 108000 रुपये
 - ✗ 3. 125000 रुपये
 - ✗ 4. 118375 रुपये

Question ID : 630680371663

Option 1 ID : 6306801447963

Option 2 ID : 6306801447966

Option 3 ID : 6306801447964

Option 4 ID : 6306801447965

Status : Answered

Chosen Option : 3

Q.2 परिवार के 6 सदस्यों की औसत आयु 70 वर्ष है। लेकिन उनमें से 5 की औसत आयु 60 वर्ष 6 महीने है। परिवार के छठे सदस्य की आयु क्या है?

- Ans
- ✗ 1. 95 वर्ष 6 महीने
 - ✗ 2. 89 वर्ष 6 महीने
 - ✗ 3. 100 वर्ष 6 महीने
 - ✓ 4. 117 वर्ष 6 महीने

Question ID : 630680371659

Option 1 ID : 6306801447949

Option 2 ID : 6306801447950

Option 3 ID : 6306801447948

Option 4 ID : 6306801447947

Status : Answered

Chosen Option : 4

Q.3 एक पाइप दूसरे पाइप की तुलना में चार गुना तेजी से एक टैंक भर सकता है। यदि दोनों पाइप मिलकर टैंक को 25 मिनट में भर सकते हैं, तो धीमा पाइप अकेले टैंक को कितने मिनट में भर पाएगा?

- Ans
- ✗ 1. 155 मिनट
 - ✓ 2. 125 मिनट
 - ✗ 3. 205 मिनट
 - ✗ 4. 205 मिनट

Question ID : 630680371679

Option 1 ID : 6306801448029

Option 2 ID : 6306801448028

Option 3 ID : 6306801448030

Option 4 ID : 6306801448027

Status : Answered

Chosen Option : 3

Q.4 एक आदमी एक कैमरा A को 20% के लाभ पर 7200 रुपये में बेचता है। और दूसरा कैमरा B को 5% की हानि पर 9500 रुपये में बेचता है। उसकी कुल हानि या लाभ% ज्ञात कीजिए।

- Ans
- ✗ 1. 6.5% लाभ
 - ✓ 2. 4.38% लाभ
 - ✗ 3. 3.45% हानि
 - ✗ 4. 5.67% हानि

BILINGUAL

A

CISF 2024

CISF Fireman Constable
150+ Total Tests

Test Series

Q.5 निम्नलिखित में से कौन सा एक पूर्ण वर्ग नहीं है?

- Ans
- 1. 9604
 - 2. 7864
 - 3. 17956
 - 4. 15129

Question ID : 630680371655
Option 1 ID : 6306801447934
Option 2 ID : 6306801447933
Option 3 ID : 6306801447931
Option 4 ID : 6306801447932
Status : Answered
Chosen Option : 3

Q.6 8 महीने के लिए 16% प्रति वर्ष की दर से 848 रुपये पर साधारण ब्याज ज्ञात करें:

- Ans
- 1. 94.4 रुपये
 - 2. 90.45 रुपये
 - 3. 85.6 रुपये
 - 4. 75 रुपये

Question ID : 630680371672
Option 1 ID : 6306801448000
Option 2 ID : 6306801448001
Option 3 ID : 6306801447999
Option 4 ID : 6306801448002
Status : Answered
Chosen Option : 1

Q.7 वार्षिक रूप से संयोजित 2 साल के लिए 5% प्रति वर्ष की दर से 6800 रुपये पर चक्रवृद्धि ब्याज ज्ञात करें।

- Ans
- 1. 812 रुपये
 - 2. 789 रुपये
 - 3. 697 रुपये
 - 4. 750 रुपये

Question ID : 630680371673
Option 1 ID : 6306801448006
Option 2 ID : 6306801448005
Option 3 ID : 6306801448003
Option 4 ID : 6306801448004
Status : Answered
Chosen Option : 2

Q.8 x का मान ज्ञात करें, अगर $\sqrt{14.44} + \sqrt{(9+x^2)} = 8.8$

- Ans
- 1. 5
 - 2. 4
 - 3. 7
 - 4. 2

Question ID : 630680371657
Option 1 ID : 6306801447940
Option 2 ID : 6306801447941
Option 3 ID : 6306801447939
Option 4 ID : 6306801447942
Status : Answered
Chosen Option : 3

Q.9 सिल्पा एक लैपटॉप खरीदना चाहती है जिसका अंकित मूल्य 9% जीएसटी को छोड़कर 39240 रुपये है। लेकिन उसके पास केवल 39240 रुपये हैं इसलिए उसने दुकानदार से लैपटॉप की कीमत इस तरह कम करने का अनुरोध किया कि उसे जीएसटी सहित केवल 39240 रुपये का भुगतान करना पड़े। दुकानदार द्वारा कम की गई राशि ज्ञात कीजिए।

- Ans
- 1. 3600 रुपये
 - 2. 4200 रुपये
 - 3. 3240 रुपये
 - 4. 3335 रुपये

Question ID : 630680371665
Option 1 ID : 6306801447973
Option 2 ID : 6306801447972
Option 3 ID : 6306801447974
Option 4 ID : 6306801447971
Status : Answered
Chosen Option : 1

Q.10 दी गई पाँच संख्याओं का औसत 48 है। यदि एक संख्या हटा दी जाए, तो औसत 42 हो जाता है। निकाली गई संख्या ज्ञात कीजिए।

- Ans
- 1. 42
 - 2. 72
 - 3. 85
 - 4. 63

Question ID : 630680371660
Option 1 ID : 6306801447952
Option 2 ID : 6306801447953
Option 3 ID : 6306801447951
Option 4 ID : 6306801447954
Status : Answered
Chosen Option : 3

Q.11 एक मिश्रण में अल्कोहल और पानी का अनुपात 5:4 है। यदि मिश्रण में 4 लीटर पानी मिलाया जाता है, तो अनुपात 7:9 हो जाता है। दिए गए मिश्रण में अल्कोहल की मात्रा ज्ञात करें?

- Ans
- 1. 9 लीटर
 - 2. 8.25 लीटर
 - 3. 9.25 लीटर
 - 4. 8 लीटर

Question ID : 630680371670
Option 1 ID : 6306801447993
Option 2 ID : 6306801447992
Option 3 ID : 6306801447994
Option 4 ID : 6306801447991
Status : Answered
Chosen Option : 3

Q.12 यदि श्रवती 5 किमी/घंटा के बजाय 17 किमी/घंटा की गति से दौड़ती, तो वह 24 कि.मी. अधिक दूरी पूरी करती। उसके द्वारा तय की गई वास्तविक दूरी है।

- Ans
- 1. 14 कि.मी.
 - 2. 24 कि.मी.
 - 3. 18 कि.मी.
 - 4. 10 कि.मी.

Question ID : 630680371675
Option 1 ID : 6306801448012
Option 2 ID : 6306801448013
Option 3 ID : 6306801448011
Option 4 ID : 6306801448014
Status : Answered
Chosen Option : 2

Q.13 यदि $a : b = 4 : 3$ और $b : c = 5 : 6$, तो $a : b : c$ ज्ञात करें।

- Ans
- 1. 6:5:3
 - 2. 4:3:6
 - 3. 2:4:7
 - 4. 5:4:6

Question ID : 630680371669
Option 1 ID : 6306801447989
Option 2 ID : 6306801447990
Option 3 ID : 6306801447987
Option 4 ID : 6306801447988
Status : Answered
Chosen Option : 3

Q.14 अमन को 25% छूट पर एक नई कुर्सी मिली। यदि अमन को कोई छूट नहीं मिलती, तो अमन को 325 रुपये का भुगतान करना पड़ता। तो अमन ने कुर्सी के लिए कितना भुगतान किया?

- Ans
- 1. 1300 रुपये
 - 2. 1170 रुपये
 - 3. 975 रुपये
 - 4. 1250 रुपये

Question ID : 630680371668
Option 1 ID : 6306801447986
Option 2 ID : 6306801447984
Option 3 ID : 6306801447983
Option 4 ID : 6306801447985
Status : Answered
Chosen Option : 4

Q.15 किसी संख्या का 60% उस संख्या के चार-पाँचवें से 20 कम है। संख्या ज्ञात करें।

- Ans
- 1. 140
 - 2. 120
 - 3. 80
 - 4. 100

Question ID : 630680371662
Option 1 ID : 6306801447962
Option 2 ID : 6306801447961
Option 3 ID : 6306801447959
Option 4 ID : 6306801447960
Status : Answered
Chosen Option : 2

Q.16 $\frac{6\sqrt{2} \times 7\sqrt{2}}{\sqrt{9} - \sqrt{4}} = ?$

- Ans
- 1. 40
 - 2. 42
 - 3. 84
 - 4. 14

Question ID : 630680371658
Option 1 ID : 6306801447943
Option 2 ID : 6306801447945
Option 3 ID : 6306801447944
Option 4 ID : 6306801447946
Status : Answered
Chosen Option : 3

Q.17 एक छात्रावास में 420 छात्रों के लिए 40 दिनों का राशन था। 18 दिनों के बाद, 200 और छात्र छात्रावास में शामिल होते हैं। बचा हुआ राशन कब तक चलेगा?

- Ans
- ✓ 1. $14\frac{28}{31}$ दिन
 - ✗ 2. $4\frac{18}{3}$ दिन
 - ✗ 3. $14\frac{1}{31}$ दिन
 - ✗ 4. $14\frac{31}{14}$ दिन

Question ID : 630680371678
Option 1 ID : 6306801448026
Option 2 ID : 6306801448024
Option 3 ID : 6306801448025
Option 4 ID : 6306801448023
Status : Answered
Chosen Option : 1

Q.18 2 साल में 15,000 रुपये पर अर्जित चक्रवृद्धि ब्याज और साधारण ब्याज के बीच का अंतर 384 रुपये है, प्रति वर्ष ब्याज दर ज्ञात कीजिए।

- Ans
- ✓ 1. 16%
 - ✗ 2. 14%
 - ✗ 3. 18%
 - ✗ 4. 20%

Question ID : 630680371674
Option 1 ID : 6306801448008
Option 2 ID : 6306801448007
Option 3 ID : 6306801448009
Option 4 ID : 6306801448010
Status : Answered
Chosen Option : 3

Q.19 हेमा ने 84200 रुपये में एक स्कूटर बेचा और उसे 4200 रुपये का घाटा हुआ। उसका हानि प्रतिशत ज्ञात कीजिए।

- Ans
- ✗ 1. 5.9%
 - ✗ 2. 7.76%
 - ✗ 3. 6.65%
 - ✓ 4. 4.75%

Question ID : 630680371666
Option 1 ID : 6306801447978
Option 2 ID : 6306801447977
Option 3 ID : 6306801447975
Option 4 ID : 6306801447976
Status : Answered
Chosen Option : 3

Q.20 दो संख्याएँ तीसरी संख्या से क्रमशः 45% और 60% अधिक हैं। दोनों संख्याओं का अनुपात क्या है?

- Ans
- 1. 147: 162
 - 2. 14: 16
 - 3. 29: 32
 - 4. 20: 35

Question ID : 630680371671
Option 1 ID : 6306801447998
Option 2 ID : 6306801447996
Option 3 ID : 6306801447995
Option 4 ID : 6306801447997
Status : Answered
Chosen Option : 3

Q.21 बाँस के वेतन को ध्यान में न रखने पर औसत वेतन 1000 रुपये कम हो जाता है। यदि 10 कर्मचारियों और बाँस का औसत वेतन 15000 रुपये है तो बाँस का वेतन क्या होगा?

- Ans
- 1. 28000 रुपये
 - 2. 22000 रुपये
 - 3. 29000 रुपये
 - 4. 25000 रुपये

Question ID : 630680371661
Option 1 ID : 6306801447955
Option 2 ID : 6306801447957
Option 3 ID : 6306801447956
Option 4 ID : 6306801447958
Status : Answered
Chosen Option : 4

Q.22 एक शहर की कुल जनसंख्या 5500 है। पुरुषों और महिलाओं की संख्या में क्रमशः 5% और 10% की वृद्धि होती है और परिणामस्वरूप जनसंख्या 6000 हो जाती है। गाँव में पुरुषों की संख्या ज्ञात कीजिए।

- Ans
- 1. 5500
 - 2. 2000
 - 3. 1000
 - 4. 3500

Question ID : 630680371664
Option 1 ID : 6306801447968
Option 2 ID : 6306801447967
Option 3 ID : 6306801447969
Option 4 ID : 6306801447970
Status : Answered
Chosen Option : 2

Q.23 अरुण को एक निश्चित समय पर एक निश्चित स्थान पर पहुंचना है और वह पाता है कि यदि वह 6 कि.मी./घंटा की गति से चलता है तो वह 25 मिनट देर से पहुंचेगा और यदि वह 8 कि.मी./घंटा की गति से चलता है तो 15 मिनट पहले पहुंचेगा। ज्ञात कीजिए कि उसे कितनी दूरी तय करनी होगी?

- Ans
- 1. 18 km
 - 2. 16 km
 - 3. 25 km
 - 4. 20 km

Question ID : 630680371677
Option 1 ID : 6306801448022
Option 2 ID : 6306801448020
Option 3 ID : 6306801448019
Option 4 ID : 6306801448021
Status : Answered
Chosen Option : 1

Q.24 शांत पानी में नाव की गति और धारा की गति के बीच का अनुपात 10:6 है। नाव धारा के अनुकूल 42 कि.मी. और धारा के प्रतिकूल 34 कि.मी. की दूरी तय करती है और इसमें कुल 6 घंटे का समय लगता है। नाव की धारा के अनुकूल गति ज्ञात कीजिए।

- Ans
- 1. 32 कि.मी./घंटा
 - 2. 36.22 कि.मी./घंटा
 - 3. 25.44 कि.मी./घंटा
 - 4. 29.66 कि.मी./घंटा

Question ID : 630680371676
Option 1 ID : 6306801448016
Option 2 ID : 6306801448017
Option 3 ID : 6306801448018
Option 4 ID : 6306801448015
Status : Answered
Chosen Option : 3

Q.25 एक फार्म में 5 मुर्गियों के साथ 4 बकरियाँ और 8 घोड़े और कुछ किसान भी थे। यदि पैरों की कुल संख्या सिर की संख्या से 52 अधिक है, तो किसानों की संख्या ज्ञात करें।

- Ans
- 1. 8
 - 2. 13
 - 3. 11
 - 4. 15

Question ID : 630680371656
Option 1 ID : 6306801447935
Option 2 ID : 6306801447937
Option 3 ID : 6306801447936
Option 4 ID : 6306801447938
Status : Answered
Chosen Option : 2

Q.1 Parts of the following sentence have been given as option that contains an error in spelling. Select the option that contains the wrong spelling.

Biodiversity is commonly defined as the variety of life on Earth in all its forms, including the diversity of species, there genetic variations, and the interaction of these lifeforms.

- Ans**
- 1. genetic
 - 2. diversity
 - 3. interaction
 - 4. there

Question ID : 630680371702
Option 1 ID : 6306801448121
Option 2 ID : 6306801448122
Option 3 ID : 6306801448120
Option 4 ID : 6306801448119
Status : **Not Answered**
Chosen Option : --

Q.2 Select the most appropriate options from below which changes the following active sentences into passive voice.

They have brought the statue from Mumbai.

- Ans**
- 1. The statue had been bring by them from Mumbai.
 - 2. The statues are brought from Mumbai.
 - 3. From Mumbai the statues were brought.
 - 4. The statue has been brought by them from Mumbai.

Question ID : 630680371688
Option 1 ID : 6306801448066
Option 2 ID : 6306801448063
Option 3 ID : 6306801448065
Option 4 ID : 6306801448064
Status : **Not Answered**
Chosen Option : --

Q.3 Select the most appropriate SYNONYM of the given word below.

In today's scenario, consumption of junk food is increasing **rapidly**, due to which the fast-food market is also growing fast.

- Ans**
- 1. sluggishly
 - 2. quickly
 - 3. slowly
 - 4. deliberately

Question ID : 630680371697
Option 1 ID : 6306801448101
Option 2 ID : 6306801448100
Option 3 ID : 6306801448099
Option 4 ID : 6306801448102
Status : **Not Answered**
Chosen Option : --

Q.4 Choose the most appropriate one-word substitution for the below word.

“One who knows everything”

- Ans
- 1. sceptic
 - 2. Omniscient
 - 3. disbeliever
 - 4. atheist

Question ID : 630680371680
Option 1 ID : 6306801448034
Option 2 ID : 6306801448032
Option 3 ID : 6306801448033
Option 4 ID : 6306801448031
Status : Not Answered
Chosen Option : --

Q.5 Select the most appropriate SYNONYM of the given word below.

When we talk about healthy food, it contains a **plethora** of nutrients.

- Ans
- 1. abundance
 - 2. deficiency
 - 3. inadequacy
 - 4. scarcity

Question ID : 630680371699
Option 1 ID : 6306801448108
Option 2 ID : 6306801448107
Option 3 ID : 6306801448110
Option 4 ID : 6306801448109
Status : Not Answered
Chosen Option : --

Q.6 Select the most appropriate SYNONYM of the given word below.

Offense

- Ans
- 1. innocence
 - 2. morality
 - 3. violation
 - 4. virtue

Question ID : 630680371695
Option 1 ID : 6306801448091
Option 2 ID : 6306801448092
Option 3 ID : 6306801448093
Option 4 ID : 6306801448094
Status : Not Answered
Chosen Option : --

Q.7 Parts of the following sentence have been given as option that contains an error in spelling. Select the option that contains the wrong spelling.

To address the problem of pollution, we need to take collective action at all levels.

- Ans**
- ✓ 1. address
 - ✗ 2. action
 - ✗ 3. problem
 - ✗ 4. collective

Question ID : 630680371703
Option 1 ID : 6306801448125
Option 2 ID : 6306801448126
Option 3 ID : 6306801448124
Option 4 ID : 6306801448123
Status : Not Answered
Chosen Option : --

Q.8 Select the word that needs to be changed to make the sentence correct.

Everyone like to watch a magic show.

- Ans**
- ✗ 1. Everyone
 - ✗ 2. magic
 - ✗ 3. to
 - ✓ 4. like

Question ID : 630680371683
Option 1 ID : 6306801448046
Option 2 ID : 6306801448045
Option 3 ID : 6306801448043
Option 4 ID : 6306801448044
Status : Not Answered
Chosen Option : --

Q.9 Choose the correct word from the given options that suits the question.

Houses built near the _____ are at greater risk of flooding.

- Ans**
- ✓ 1. shore
 - ✗ 2. sole
 - ✗ 3. soul
 - ✗ 4. sure

Question ID : 630680371701
Option 1 ID : 6306801448118
Option 2 ID : 6306801448117
Option 3 ID : 6306801448116
Option 4 ID : 6306801448115
Status : Not Answered
Chosen Option : --

Q.10 Select the word that needs to be changed to make the sentence correct.

Simon is written a novel about wildlife heritage.

- Ans
- 1. about
 - 2. is
 - 3. heritage
 - 4. written

Question ID : 630680371682
Option 1 ID : 6306801448039
Option 2 ID : 6306801448040
Option 3 ID : 6306801448041
Option 4 ID : 6306801448042
Status : Not Answered
Chosen Option : --

Q.11 Choose the most appropriate one-word substitution for the below word.

“A hole or tunnel dug by a small animal, especially a rabbit, as a dwelling”

- Ans
- 1. Casino
 - 2. Burrow
 - 3. Aquarium
 - 4. Drey

Question ID : 630680371681
Option 1 ID : 6306801448035
Option 2 ID : 6306801448037
Option 3 ID : 6306801448036
Option 4 ID : 6306801448038
Status : Not Answered
Chosen Option : --

Q.12 In the following question a statement has been given with highlighted text. You are required to replace the text with correct Idioms or phrases given in the options.

When they heard about the history quiz, the students were **not at all** excited.

- Ans
- 1. Anything but
 - 2. Bigger fish to fry
 - 3. Bite the bullet
 - 4. Beat around the bush

Question ID : 630680371693
Option 1 ID : 6306801448083
Option 2 ID : 6306801448085
Option 3 ID : 6306801448086
Option 4 ID : 6306801448084
Status : Not Answered
Chosen Option : --

Q.13 Select the word that needs to be changed to make the sentence correct.

He loves to reads books about history in his spare time.

- Ans
- 1. about
 - 2. reads
 - 3. in
 - 4. loves

Question ID : 630680371685
Option 1 ID : 6306801448052
Option 2 ID : 6306801448053
Option 3 ID : 6306801448054
Option 4 ID : 6306801448051
Status : Not Answered
Chosen Option : --

Q.14 In the following question a statement has been given with highlighted text. You are required to replace the text with correct Idioms or phrases given in the options.

It was Alice's first day at her new school, and she felt **in an uncomfortable position**.

- Ans
- 1. all ears
 - 2. a fish out of water
 - 3. add insult to injury
 - 4. be a fly on the wall

Question ID : 630680371692
Option 1 ID : 6306801448080
Option 2 ID : 6306801448082
Option 3 ID : 6306801448079
Option 4 ID : 6306801448081
Status : Not Answered
Chosen Option : --

Q.15 Select the most appropriate meaning of the idiom below.

“Sit on the fence”

- Ans
- 1. to know why or how something happens or works
 - 2. to know the meaning of something that someone says
 - 3. the fact of not being easy to do or understand
 - 4. to delay making a decision

Question ID : 630680371691
Option 1 ID : 6306801448076
Option 2 ID : 6306801448078
Option 3 ID : 6306801448075
Option 4 ID : 6306801448077
Status : Not Answered
Chosen Option : --

Q.16 In the following question a statement has been given with highlighted text. You are required to replace the text with correct Idioms or phrases given in the options.

John suggested playing a party game to **make people feel more relaxed who have not met before**.

- Ans**
- 1. chip off the old block
 - 2. call it a day
 - 3. costs an arm and a leg
 - 4. Break the ice

Question ID : 630680371694
Option 1 ID : 6306801448089
Option 2 ID : 6306801448088
Option 3 ID : 6306801448090
Option 4 ID : 6306801448087
Status : Not Answered
Chosen Option : --

Q.17 Select the most appropriate options from below which changes the following active sentences into passive voice.

They are drawing pictures.

- Ans**
- 1. They drew very good pictures.
 - 2. They drawing the pictures.
 - 3. Pictures are being drawn by them.
 - 4. Pictures were drew by them.

Question ID : 630680371689
Option 1 ID : 6306801448067
Option 2 ID : 6306801448070
Option 3 ID : 6306801448068
Option 4 ID : 6306801448069
Status : Not Answered
Chosen Option : --

Q.18 Select the most appropriate meaning of the idiom below.

“Spill the beans”

- Ans**
- 1. a piece of information that is only known by one person or a few people and should not be told to others
 - 2. to tell people secret information
 - 3. the particular knowledge and skills needed to do something very well
 - 4. To wish someone luck

Question ID : 630680371690
Option 1 ID : 6306801448071
Option 2 ID : 6306801448072
Option 3 ID : 6306801448073
Option 4 ID : 6306801448074
Status : Not Answered
Chosen Option : --

Q.19 Parts of the following sentence have been given as option that contains an error in spelling. Select the option that contains the wrong spelling.

Bad news is preferable to an abcense of information.

- Ans**
- 1. information
 - 2. news
 - 3. preferable
 - 4. abcense

Question ID : 630680371704
Option 1 ID : 6306801448128
Option 2 ID : 6306801448127
Option 3 ID : 6306801448130
Option 4 ID : 6306801448129
Status : Not Answered
Chosen Option : --

Q.20 Select the most appropriate options from below which changes the following direct sentences into indirect sentences.

I have been to Germany, she told me.

- Ans**
- 1. She is saying that she went to Germany.
 - 2. She has been telling that she went to Germany.
 - 3. She told me that she had been to Germany.
 - 4. She has been going to Germany was told by her.

Question ID : 630680371687
Option 1 ID : 6306801448062
Option 2 ID : 6306801448061
Option 3 ID : 6306801448059
Option 4 ID : 6306801448060
Status : Not Answered
Chosen Option : --

Q.21 Select the word that needs to be changed to make the sentence correct.

He has plays the guitar very well.

- Ans**
- 1. plays
 - 2. well
 - 3. He
 - 4. has

Question ID : 630680371684
Option 1 ID : 6306801448047
Option 2 ID : 6306801448050
Option 3 ID : 6306801448049
Option 4 ID : 6306801448048
Status : Not Answered
Chosen Option : --

Q.22 Select the most appropriate options from below which changes the following direct sentences into indirect sentences.

Jack said, "Jill needs a pen."

- Ans**
- 1. Jack said that Jill needed a pen.
 - 2. Jack is saying that Jill needs a pen.
 - 3. Jill told that a pen was needed by her.
 - 4. A pen was needed by Jill, was said by Jack.

Question ID : 630680371686
Option 1 ID : 6306801448057
Option 2 ID : 6306801448056
Option 3 ID : 6306801448055
Option 4 ID : 6306801448058
Status : Not Answered
Chosen Option : --

Q.23 Choose the correct word from the given options that suits the question.

Everyone is invited to the party _____ for Andrew.

- Ans**
- 1. accept
 - 2. expect
 - 3. except
 - 4. accept

Question ID : 630680371700
Option 1 ID : 6306801448113
Option 2 ID : 6306801448112
Option 3 ID : 6306801448114
Option 4 ID : 6306801448111
Status : Not Answered
Chosen Option : --

Q.24 Select the most appropriate SYNONYM of the given word below.

Impetuous

- Ans**
- 1. careful
 - 2. Unadventurous
 - 3. Impulsive
 - 4. Cautious

Question ID : 630680371696
Option 1 ID : 6306801448097
Option 2 ID : 6306801448096
Option 3 ID : 6306801448098
Option 4 ID : 6306801448095
Status : Not Answered
Chosen Option : --

Q.25 Select the most appropriate SYNONYM of the given word below.

For our ecosystem, wildlife is an **essential** aspect.

- Ans
- 1. needless
 - 2. imperative
 - 3. unwanted
 - 4. dispensable

Question ID : 630680371698

Option 1 ID : 6306801448103

Option 2 ID : 6306801448106

Option 3 ID : 6306801448104

Option 4 ID : 6306801448105

Status : Not Answered

Chosen Option : --

Section : Hindi

Q.1 उचित शब्द चुनकर वाक्य पूरा करें।
आपकी _____ कब समाप्त होगी?

- Ans
- 1. परीशा
 - 2. परीक्षण
 - 3. परिक्षा
 - 4. परीक्षा

Question ID : 630680371729

Option 1 ID : 6306801448229

Option 2 ID : 6306801448230

Option 3 ID : 6306801448228

Option 4 ID : 6306801448227

Status : Answered

Chosen Option : 4



CISF

Fireman Constable Complete Batch



Starts: 12 Sep | 8 am - 9 pm

Q.2 उचित शब्द चुनकर वाक्य पूरा करे।
भोजन के लिए _____ की आवश्यकता है।

- Ans
- ✓ 1. अन्न
 - ✗ 2. अन्य
 - ✗ 3. अन
 - ✗ 4. आन

Question ID : 630680371725
Option 1 ID : 6306801448212
Option 2 ID : 6306801448211
Option 3 ID : 6306801448213
Option 4 ID : 6306801448214
Status : Answered
Chosen Option : 1

Q.3 निम्नलिखित वाक्य में से कौन-सा वाक्य शुद्ध है?

- Ans
- ✗ 1. वकीलों ने कागजात का निरीक्षण किए।
 - ✗ 2. सारा राज्य उसके लिए एक थाती थी।
 - ✗ 3. अभंग एक प्रकार का मराठी छंद होता है।
 - ✓ 4. वर्तमान महासमर संसार की सबसे बड़ी समस्या है।

Question ID : 630680371706
Option 1 ID : 6306801448135
Option 2 ID : 6306801448138
Option 3 ID : 6306801448137
Option 4 ID : 6306801448136
Status : Answered
Chosen Option : 3

Q.4 "विद्यालय" का संधि-विच्छेद क्या होगा?

- Ans
- ✗ 1. विद्या + लय
 - ✗ 2. वि + आलय
 - ✓ 3. इनमें से कोई नहीं
 - ✗ 4. विद्या + आलय

Question ID : 630680371710
Option 1 ID : 6306801448151
Option 2 ID : 6306801448152
Option 3 ID : 6306801448154
Option 4 ID : 6306801448153
Status : Answered
Chosen Option : 4

Q.5 निम्न में से 'गौरव' का विलोम शब्द क्या होगा?

- Ans
- 1. दोष
 - 2. लाघव
 - 3. गमन
 - 4. अगौरव

Question ID : 630680371717

Option 1 ID : 6306801448181

Option 2 ID : 6306801448179

Option 3 ID : 6306801448182

Option 4 ID : 6306801448180

Status : Answered

Chosen Option : 4

Q.6 'अंगारों पर पैर रखना' मुहावरों का उचित अर्थ निम्न में से कौन सा है?

- Ans
- 1. गुस्सा होना
 - 2. चोरी करना
 - 3. चाल चलना
 - 4. बहुत बड़े जोखिम का कार्य करना

Question ID : 630680371715

Option 1 ID : 6306801448171

Option 2 ID : 6306801448174

Option 3 ID : 6306801448173

Option 4 ID : 6306801448172

Status : Answered

Chosen Option : 4

Q.7 उचित शब्द चुनकर वाक्य पूरा करें।
जो _____ हैं, उनकी सहायता करो।

- Ans
- 1. दीव
 - 2. दीन
 - 3. दिन
 - 4. दिवा

Question ID : 630680371726

Option 1 ID : 6306801448218

Option 2 ID : 6306801448217

Option 3 ID : 6306801448215

Option 4 ID : 6306801448216

Status : Answered

Chosen Option : 2

Q.8 'उड़ती चिड़िया पहचानना' मुहावरों का उचित अर्थ निम्न में से कौन सा है?

- Ans
- 1. गुप्त बात प्रकट करना
 - 2. बहुत दिनों पर दिखना
 - 3. मन की या रहस्य की बात जानना
 - 4. उड़ती चिड़िया की प्रजाति पहचानना

Question ID : 630680371714

Option 1 ID : 6306801448168

Option 2 ID : 6306801448169

Option 3 ID : 6306801448167

Option 4 ID : 6306801448170

Status : Answered

Chosen Option : 3

Q.9 नारी - नाड़ी युग्म का अर्थ है?

- Ans
- 1. स्त्री - नब्ज
 - 2. गदर्न - स्त्री
 - 3. सीडिया - गदर्न
 - 4. प्रोड़ा - गदर्न

Question ID : 630680371728

Option 1 ID : 6306801448223

Option 2 ID : 6306801448226

Option 3 ID : 6306801448225

Option 4 ID : 6306801448224

Status : Answered

Chosen Option : 1

Q.10 'शिवार्पण' शब्द में कौन - सा समास है?

- Ans
- 1. अधिकरण तत्पुरुष
 - 2. सम्बन्ध तत्पुरुष
 - 3. सम्प्रदान तत्पुरुष
 - 4. अपादान तत्पुरुष

Question ID : 630680371712

Option 1 ID : 6306801448159

Option 2 ID : 6306801448162

Option 3 ID : 6306801448160

Option 4 ID : 6306801448161

Status : Answered

Chosen Option : 1

Q.11 निम्नलिखित वाक्य में से कौन-सा वाक्य शुद्ध है?

- Ans
- ✓ 1. हमारी आयुष्मती कन्या का विवाह होने जा रहा है।
 - ✗ 2. लड़के मिठाई लेकर भागता हुआ घर आया।
 - ✗ 3. शोक है कि आपने मेरे पत्रों का कोई उत्तर नहीं दिए।
 - ✗ 4. इस समय आपकी आयु चालीस वर्ष का है।

Question ID : 630680371705
Option 1 ID : 6306801448134
Option 2 ID : 6306801448133
Option 3 ID : 6306801448131
Option 4 ID : 6306801448132
Status : Answered
Chosen Option : 1

Q.12 निम्न में से 'वसन्त' का विलोम शब्द क्या होगा?

- Ans
- ✗ 1. शीतोष्ण
 - ✗ 2. सर्दी
 - ✓ 3. पतझड़
 - ✗ 4. गर्मी

Question ID : 630680371707
Option 1 ID : 6306801448139
Option 2 ID : 6306801448140
Option 3 ID : 6306801448142
Option 4 ID : 6306801448141
Status : Answered
Chosen Option : 3

Q.13 निम्नलिखित वाक्य में से कौन-सा वाक्य अशुद्ध है?

- Ans
- ✗ 1. यहीं नहीं, बल्कि वे वहां से चले भी आये।
 - ✗ 2. मेरे लिए बर्फ और आग लाओ।
 - ✓ 3. व्यायाम करना चाहिए, जिससे कि स्वस्थ रहें।
 - ✗ 4. कृपया आप ही यह बताएं।

Question ID : 630680371708
Option 1 ID : 6306801448143
Option 2 ID : 6306801448146
Option 3 ID : 6306801448144
Option 4 ID : 6306801448145
Status : Answered
Chosen Option : 3

Q.14 निम्नलिखित वाक्यों में से 'अर्द्धविराम' चिन्ह का सही उदाहरण कौन-सा है?

- Ans
- ✗ 1. यह पुस्तक अच्छी है?
 - ✗ 2. 'तुम मुझे खून दो मैं तुम्हें आजादी दूँगा'
 - ✗ 3. वह घुमने गया।
 - ✓ 4. अब क्या करूँ ; वह रुठकर चला गया।

Question ID : 630680371723
Option 1 ID : 6306801448206
Option 2 ID : 6306801448203
Option 3 ID : 6306801448204
Option 4 ID : 6306801448205
Status : Answered
Chosen Option : 3

Q.15 'पुरुषोत्तम' शब्द में कौन - सा समास है?

- Ans
- ✗ 1. सम्प्रदान तत्पुरुष
 - ✗ 2. अपादान तत्पुरुष
 - ✗ 3. सम्बन्ध तत्पुरुष
 - ✓ 4. अधिकरण तत्पुरुष

Question ID : 630680371711
Option 1 ID : 6306801448155
Option 2 ID : 6306801448156
Option 3 ID : 6306801448157
Option 4 ID : 6306801448158
Status : Answered
Chosen Option : 2

Q.16 निम्नलिखित चिन्हों में से 'अल्पविराम' चिन्ह कौन-सा है?

- Ans
- ✓ 1. ,
 - ✗ 2. ?
 - ✗ 3. ;
 - ✗ 4. |

Question ID : 630680371722
Option 1 ID : 6306801448200
Option 2 ID : 6306801448201
Option 3 ID : 6306801448199
Option 4 ID : 6306801448202
Status : Answered
Chosen Option : 4

Q.17 निम्न में से 'विशेष' का विलोम शब्द क्या होगा?

- Ans
- 1. विशिष्ट
 - 2. सामान्य
 - 3. साधारण
 - 4. सरल

Question ID : 630680371718

Option 1 ID : 6306801448185

Option 2 ID : 6306801448186

Option 3 ID : 6306801448183

Option 4 ID : 6306801448184

Status : Answered

Chosen Option : 1

Q.18 'ऊँची दुकान फीके पकवान' लोकोक्ति का उचित अर्थ निम्न में से कौन सा है?

- Ans
- 1. नुकसान होना
 - 2. चाल चलना
 - 3. दिखावा ज़्यादा लेकिन गुण कम होना
 - 4. गुस्सा होना

Question ID : 630680371716

Option 1 ID : 6306801448175

Option 2 ID : 6306801448176

Option 3 ID : 6306801448177

Option 4 ID : 6306801448178

Status : Answered

Chosen Option : 3

Q.19 निम्न में से 'अंक' का अनेकार्थक शब्द क्या होगा?

- Ans
- 1. भाव
 - 2. संख्या
 - 3. अमृत
 - 4. वस्त्र

Question ID : 630680371720

Option 1 ID : 6306801448194

Option 2 ID : 6306801448191

Option 3 ID : 6306801448192

Option 4 ID : 6306801448193

Status : Answered

Chosen Option : 2

Q.20 निम्नलिखित चिन्हों में से 'विवरण-चिन्ह' कौन-सा है?

- Ans
- 1. —
 - 2. \
 - 3. ?
 - 4. :-

Question ID : 630680371724

Option 1 ID : 6306801448210

Option 2 ID : 6306801448207

Option 3 ID : 6306801448208

Option 4 ID : 6306801448209

Status : Answered

Chosen Option : 3

Q.21 निम्न में से 'इंद्र' का पर्यायावाची शब्द क्या होगा?

- Ans
- 1. देवनदी
 - 2. सुधारक
 - 3. देवराज
 - 4. राकेश

Question ID : 630680371719

Option 1 ID : 6306801448188

Option 2 ID : 6306801448189

Option 3 ID : 6306801448187

Option 4 ID : 6306801448190

Status : Answered

Chosen Option : 3

Q.22 निम्न में से 'दास' का पर्यायावाची शब्द क्या होगा?

- Ans
- 1. देव
 - 2. राव
 - 3. चाकर
 - 4. उरग

Question ID : 630680371709

Option 1 ID : 6306801448148

Option 2 ID : 6306801448149

Option 3 ID : 6306801448147

Option 4 ID : 6306801448150

Status : Answered

Chosen Option : 4

Q.23 निम्न में से 'कनक' का अनेकार्थक शब्द क्या होगा?

- Ans
- ✗ 1. तांबा
 - ✓ 2. सोना
 - ✗ 3. ज्ञान
 - ✗ 4. चाँदी

Question ID : 630680371721
Option 1 ID : 6306801448195
Option 2 ID : 6306801448198
Option 3 ID : 6306801448197
Option 4 ID : 6306801448196
Status : Answered
Chosen Option : 2

Q.24 'शक्तिहीन' शब्द का समास विग्रह निम्न में से कौन सा है?

- Ans
- ✗ 1. शक्ति के लिए हीन
 - ✗ 2. शक्ति हीन
 - ✗ 3. शक्ति को हीन
 - ✓ 4. शक्ति से हीन

Question ID : 630680371713
Option 1 ID : 6306801448163
Option 2 ID : 6306801448164
Option 3 ID : 6306801448166
Option 4 ID : 6306801448165
Status : Answered
Chosen Option : 2

Q.25 भवन - भुवन युग्म का अर्थ है?

- Ans
- ✗ 1. घर - सुंदर वन
 - ✗ 2. घर - विश्व
 - ✗ 3. घर - गजत
 - ✓ 4. मकान - संसार

BILINGUAL



CISF 2024

CISF Fireman Constable
150+ Total Tests

Test Series