

ਨੋਟ: ਹੇਠ ਲਿਖੇ ਪ੍ਰਸ਼ਨਾਂ ਦੇ ਉੱਤਰ, ਉਹਨਾਂ ਦੇ ਹੇਠਾਂ ਦਿੱਤੇ ਵਿਕਲਪਾਂ ਵਿੱਚੋਂ ਚੁਣ ਕੇ ਦਿਓ/ਉੱਤਰ ਸੀਟ 'ਤੇ ਦਰਜ ਕਰੋ :

1. 'ਕਿਸਾਨ ਟਰੈਕਟਰ ਚਲਾ ਰਿਹਾ ਹੈ।' ਵਾਕ ਵਿੱਚੋਂ ਕਰਤਾ-ਕਾਰਕ ਸ਼ਬਦ ਚੁਣੋ:

- a) ਕਿਸਾਨ
- b) ਟਰੈਕਟਰ
- c) ਚਲਾ
- d) ਰਿਹਾ ਹੈ

2. ਹੇਠ ਲਿਖਿਆਂ ਵਿੱਚੋਂ 'ਤਾਬ' ਦੇ ਅਰਥਾਂ ਨੂੰ ਪ੍ਰਗਟਾਉਣ ਵਾਲਾ ਸਹੀ ਵਿਕਲਪ ਚੁਣੋ:

- a) ਦਲਾਲ
- b) ਮਲਾਲ
- c) ਜਲਾਲ
- d) ਇਹਨਾਂ ਵਿੱਚੋਂ ਕੋਈ ਵੀ ਨਹੀਂ

3. ਸੁੱਧ ਵਾਕ ਚੁਣੋ:

- a) ਸਾਡੇ ਤੁਸੀਂ ਲਈ ਕੁਝ ਨਹੀਂ ਕੀਤਾ
- b) ਕੁਝ ਨਹੀਂ ਕੀਤਾ ਲਈ ਸਾਡੇ ਤੁਸੀਂ
- c) ਤੁਸੀਂ ਕੀਤਾ ਕੁਝ ਸਾਡੇ ਲਈ ਨਹੀਂ
- d) ਤੁਸੀਂ ਸਾਡੇ ਲਈ ਕੁਝ ਨਹੀਂ ਕੀਤਾ

4. ਸਹੀ ਸ਼ਬਦ-ਜੋੜ ਚੁਣੋ :

- a) ਫਰੇਫਤਾ
- b) ਫਰੇਫਤਾ
- c) ਫਰੇਫਤਾ
- d) ਫਰੇਫਤਾ

5. ਹੇਠ ਲਿਖਿਆਂ ਵਿੱਚੋਂ ਕਿਹੜਾ ਪੰਜਾਬੀ ਸ਼ਬਦ, 'Enclosure' ਦੇ ਅਰਥਾਂ ਨੂੰ ਪ੍ਰਗਟਾਉਂਦਾ ਹੈ ?

- a) ਸਹਿ-ਪੱਤਰ
- b) ਸੰਲਗਣ
- c) ਵਲਗਣ
- d) ਉਪਰੋਕਤ ਸਾਰੇ ਹੀ

6. 'ਅਹੁਦਾ' ਲਈ ਅੰਗਰੇਜ਼ੀ ਦਾ ਕਿਹੜਾ ਸ਼ਬਦ ਢੁਕਵਾਂ ਹੈ ?

- a) Damage
- b) Designation
- c) Diarist
- d) Desirable

m-a.  
 A-m.  
 m-j.  
 J-jun.  
 J-jul.  
 J-aug.  
 J-sep.  
 J-oct.  
 J-nov.  
 J-dec.

'Confirmation' ਲਈ ਪੰਜਾਬੀ ਵਿੱਚ ਕਿਹੜਾ ਸ਼ਬਦ ਵਰਤਿਆ ਜਾਂਦਾ ਹੈ?

- a) ਕਮੇਟੀ
- b) ਪੁਸ਼ਟੀ
- c) ਖੰਡ
- d) ਮੁਆਵਜ਼ਾ

8. ਅੰਗਰੇਜ਼ੀ ਦੇ ਸ਼ਬਦ 'Former' ਲਈ ਸੁੱਧ ਪੰਜਾਬੀ ਰੂਪ ਚੁਣੋ :

- a) ਫਾਰਮ
- b) ਫਾਈਲ
- c) ਪਹਿਲਾ
- d) ਬਾਅਦ ਵਾਲਾ

m-a - Jun  
 5-12 - Feb-m.

9. ਮਹੀਨੇ ਦੇ ਨਾਂ ਲਈ ਸੁੱਧ ਪੰਜਾਬੀ ਰੂਪ ਚੁਣੋ:

- a) ਜਾਨਵਰੀ
- b) ਜੰਨਵਰੀ
- c) ਜਨਬਰੀ
- d) ਜਨਵਰੀ

10. ਦੇਸੀ ਮਹੀਨਾ 'ਮੱਘਰ' ਕਿਹੜੇ ਅੰਗਰੇਜ਼ੀ ਮਹੀਨੇ/ਮਹੀਨਿਆਂ ਸਮੇਂ ਆਉਂਦਾ ਹੈ ?

- a) ਜੂਨ
- b) ਨਵੰਬਰ-ਦਸੰਬਰ
- c) ਅਗਸਤ-ਸਤੰਬਰ
- d) ਮਾਰਚ

11. ਹੇਠ ਲਿਖਿਆਂ ਵਿੱਚੋਂ ਕਿਹੜਾ/ਕਿਹੜੇ ਵਾਕ 'ਤੇੜਾ' ਅਤੇ 'ਟੱਪਾ' ਬਾਰੇ ਸਹੀ ਹਨ ?

- (i) 'ਤੇੜਾ' ਅਤੇ 'ਟੱਪਾ' ਦੋਵੇਂ ਹੀ ਥੀਮਕ ਪੱਖੋਂ ਮੁਕਤ ਅਰਥ ਇਕਾਈਆਂ ਹਨ ।
- (ii) 'ਤੇੜਾ' ਅਤੇ 'ਟੱਪਾ' ਦਾ ਅਸਲ ਰੂਪ ਸਮੂਹਕ ਨਿਭਾਉ ਤੇ ਵਿਸ਼ੇਸ਼ ਦੁਹਰਾਉ-ਪ੍ਰਕਿਰਿਆ ਵਿੱਚੋਂ ਉਘੜ
  - a) ਵਾਕ i ਸਹੀ ਹੈ ।
  - b) ਵਾਕ ii ਸਹੀ ਹੈ ।
  - c) ਵਾਕ i ਤੇ ii ਦੋਨੋਂ ਗ਼ਲਤ ਹਨ
  - d) ਵਾਕ i ਤੇ ii ਦੋਨੋਂ ਸਹੀ ਹਨ

12. ਹੇਠ ਲਿਖੀਆਂ ਖੇਡਾਂ ਵਿੱਚੋਂ ਕਿਹੜੀ ਪੰਜਾਬ ਵਿੱਚ ਕੁੜੀਆਂ ਵੱਲੋਂ ਖੇਡੀ ਜਾਣ ਵਾਲੀ ਇੱਕ ਖੇਡ ਹੈ ?

- a) ਛਮਾਸ
- b) ਛਟਾਪੂ
- c) ਛਮਕ-ਨਮੇਲੀ
- d) ਛਣਕਣਾ

13. 'ਮਹਾਰਾਜਾ ਰਣਜੀਤ ਸਿੰਘ ਜੀ' ਨੇ ਕਿੰਨੇ ਸਾਲ ਦੀ ਉਮਰ ਵਿੱਚ ਸੁਕਰਚੱਕੀਆ ਮਿਸਲ ਦੀ ਵਾਗਡੋਰ ਸੰਭਾਲੀ ?

- a) 16 ਸਾਲ
- b) 17 ਸਾਲ
- c) ਅਠਾਰਾਂ ਸਾਲ
- d) ਉੱਨੀ ਸਾਲ

14. ਹੇਠ ਲਿਖਿਆਂ ਵਿੱਚੋਂ ਕਿਹੜੇ ਕਥਨ ਸਹੀ ਹਨ ?

- i. ਦਮੋਦਰ ਦੀ ਹੀਰ ਅਤੇ ਸੂਫੀ ਕਵੀ ਸ਼ਾਹ ਹੁਸੈਨ ਦੀ ਕਵਿਤਾ ਪੰਜਾਬੀ ਦੀਆਂ ਉੱਘੀਆਂ ਕਿਰਤਾਂ ਹਨ।
- ii. ਭਾਈ ਗੁਰਦਾਸ ਜੀ ਦੀਆਂ ਵਾਰਾਂ ਠੇਠ ਪੰਜਾਬੀ ਵਿੱਚ ਹਨ।
- iii. ਸ੍ਰੀ ਗੁਰੂ ਗੋਬਿੰਦ ਸਿੰਘ ਜੀ ਦੀ ਵੀ ਕੁਝ ਰਚਨਾ ਪੰਜਾਬੀ ਵਿੱਚ ਰਚੀ ਹੋਈ ਮਿਲਦੀ ਹੈ।

- a) ਕਥਨ i, ਤੇ iii ਸਹੀ ਹਨ।
- b) ਕਥਨ i, ਤੇ ii ਸਹੀ ਹਨ।
- c) ਕਥਨ ii ਤੇ iii ਸਹੀ ਹਨ।
- d) ਕਥਨ i, ii ਤੇ iii ਤਿੰਨੋਂ ਸਹੀ ਹਨ।

15. 'ਸ੍ਰੀ ਗੁਰੂ ਅਮਰਦਾਸ ਜੀ' ਨੇ ਕਿੰਨੀਆਂ ਵਾਰਾਂ ਦੀ ਰਚਨਾ ਕੀਤੀ ?

- a) 2
- b) 3
- c) 4
- d) 5

16. 'ਸਿਧ ਗੋਸਟਿ' ਦੀ ਰਚਨਾ ਕਿਸ ਗੁਰੂ ਸਾਹਿਬਾਨ ਕੀਤੀ ?

- a) ਸ੍ਰੀ ਗੁਰੂ ਅਰਜਨ ਦੇਵ ਜੀ
- b) ਸ੍ਰੀ ਗੁਰੂ ਨਾਨਕ ਦੇਵ ਜੀ
- c) ਸ੍ਰੀ ਗੁਰੂ ਰਾਮਦਾਸ ਜੀ
- d) ਸ੍ਰੀ ਗੁਰੂ ਤੇਗ ਬਹਾਦਰ ਜੀ

17. ਦਸ ਗੁਰੂ ਸਾਹਿਬਾਨ ਵਿੱਚੋਂ ਛੇਵੇਂ ਗੁਰੂ ਸਾਹਿਬਾਨ ਦਾ ਨਾਂ ਦੱਸੋ।

- a) ਸ੍ਰੀ ਗੁਰੂ ਹਰਗੋਬਿੰਦ ਸਾਹਿਬ ਜੀ
- b) ਸ੍ਰੀ ਗੁਰੂ ਰਾਮਦਾਸ ਜੀ
- c) ਸ੍ਰੀ ਗੁਰੂ ਅਰਜਨ ਦੇਵ ਜੀ
- d) ਸ੍ਰੀ ਗੁਰੂ ਹਰਿ ਰਾਇ ਸਾਹਿਬ ਜੀ

18. 'ਸ੍ਰੀ ਗੁਰੂ ਤੇਗ ਬਹਾਦਰ ਜੀ' ਦਾ ਜਨਮ ਕਿਹੜੇ ਸ਼ਹਿਰ ਵਿੱਚ ਹੋਇਆ ?

- a) ਪਟਨਾ ਸਾਹਿਬ
- b) ਸ੍ਰੀ ਅਨੰਦਪੁਰ ਸਾਹਿਬ
- c) ਸ੍ਰੀ ਅੰਮ੍ਰਿਤਸਰ ਸਾਹਿਬ
- d) ਲਾਹੌਰ

19. 'ਸ੍ਰੀ ਗੁਰੂ ਗੋਬਿੰਦ ਸਿੰਘ ਜੀ' ਦੇ ਜਨਮ ਦੀ ਖਬਰ ਸ੍ਰੀ ਗੁਰੂ ਤੇਗ ਬਹਾਦਰ ਜੀ ਨੂੰ ਕਿਹੜੇ ਸ਼ਹਿਰ ਵਿੱਚ ਮਿਲੀ ?

- a) ਪਟਨਾ
- b) ਨਾਦੇੜ
- c) ਦਿੱਲੀ
- d) ਢਾਕਾ

20. ਸ੍ਰੀ ਗੁਰੂ ਗੋਬਿੰਦ ਸਿੰਘ ਜੀ ਨੇ ਸ੍ਰੀ ਗੁਰੂ ਗ੍ਰੰਥ ਸਾਹਿਬ ਜੀ ਦਾ ਨਵਾਂ ਉਤਾਰਾ ਕਿਸ ਸਥਾਨ 'ਤੇ ਕਰਵਾਇਆ ?

- a) ਤਲਵੰਡੀ ਸਾਬੋਕੀ/ਤਲਵੰਡੀ ਸਾਬੋ
- b) ਸ੍ਰੀ ਅਨੰਦਪੁਰ ਸਾਹਿਬ
- c) ਪਟਨਾ ਸਾਹਿਬ
- d) ਪਾਉਂਟਾ ਸਾਹਿਬ

21. ਹੇਠ ਲਿਖਿਆਂ ਵਿੱਚੋਂ ਕਿਹੜਾ ਵਿਕਲਪ 'ਸਿਲਵਟਾ' ਸ਼ਬਦ ਦੇ ਅਰਥਾਂ ਨੂੰ 'ਨਹੀਂ' ਪ੍ਰਗਟਾਉਂਦਾ ?

- a) ਵੱਟ
- b) ਵਲ
- c) ਭੰਨ
- d) ਬਦਲਾ

22. ਹੇਠ ਲਿਖਿਆਂ ਵਿੱਚੋਂ ਸਹੀ ਵਿਰੋਧੀ ਸ਼ਬਦ ਜੋੜਾ ਚੁਣੋ :

- a) ਠੰਢ/ਸਰਦੀ
- b) ਠੰਢ/ਸੀਤ
- c) ਠੰਢ/ਗਰਮੀ
- d) ਠੰਢ/ਪਾਲਾ

23. ਹੇਠ ਲਿਖਿਆਂ ਵਿੱਚੋਂ ਕਿਹੜਾ ਸ਼ਬਦ 'ਕਾਦਰ' ਦਾ ਸਮਾਨਾਰਥਕ ਹੈ ?

- a) ਸਮਰੱਥ
- b) ਸ਼ਕਤੀਮਾਨ
- c) ਪਰਮਾਤਮਾ
- d) ਉਪਰੋਕਤ ਸਾਰੇ ਹੀ



24. ਹੇਠ ਦਿੱਤੇ ਵਿਕਲਪਾਂ ਵਿੱਚੋਂ ਮੁਹਾਵਰਾ: 'ਤਲੀ ਨਾ ਲੱਗਣਾ' ਲਈ ਢੁਕਵਾਂ ਅਰਥ ਚੁਣੋ;

- a) ਮੁਸੀਬਤ ਸਹੇੜਨਾ
- b) ਇੱਕ ਥਾਂ ਨਾ ਟਿਕਣਾ
- c) ਪਛਤਾਵਾ ਕਰਨਾ
- d) ਅਰਾਮ ਨਾ ਕਰਨਾ

25. 'ਬਹੁਤ ਭੁੱਖਾ ਹੋਣਾ' ਅਰਥਾਂ ਨੂੰ ਸਪਸ਼ਟ ਕਰਨ ਲਈ ਹੇਠ ਦਿੱਤਿਆਂ ਵਿੱਚੋਂ ਕਿਹੜਾ ਮੁਹਾਵਰਾ ਵਰਤਿਆ ਜਾਵੇਗਾ ?

- a) ਢਿੱਡ ਅੜਿਕੇ ਲੈਣਾ
- b) ਢਿੱਡ ਪਾਲਣਾ
- c) ਢਿੱਡ ਵਿੱਚ ਵੜਨਾ
- d) ਢਿੱਡ ਵਿੱਚ ਡੈਣ ਵੜਨਾ

26. ਮੁਹਾਵਰਾ: 'ਡਰਦੇ ਹਰ ਹਰ ਕਰਨਾ' ਲਈ, ਹੇਠ ਦਿੱਤੇ ਵਿਕਲਪਾਂ ਵਿੱਚੋਂ ਕਿਹੜਾ ਅਰਥ ਸਹੀ ਹੋਵੇਗਾ ?

- a) ਬਹੁਤ ਲੱਜਿਤ ਹੋਣਾ
- b) ਡਰ ਡਰ ਕੇ ਸਮਾਂ ਬਿਤਾਉਣਾ
- c) ਹੜਮ ਕਰ ਜਾਣਾ
- d) ਮਰਨ ਦੇ ਨੇੜੇ ਪੁੱਜ ਜਾਣਾ

27. ਅਖਾਣ: 'ਘਰ ਲੜਾਕੀ, ਬਾਹਰ ਸੰਘਣੀ, ਮੇਲੇ ਮੇਰਾ ਨਾਂ' ਕਿਹੜੇ ਮੌਕੇ ਵਰਤਿਆ ਜਾਂਦਾ ਹੈ ?

- a) ਉਦੋਂ ਜਦੋਂ ਘਰ ਦੇ ਸਿਆਣੇ ਬੰਦੇ ਦੀ ਯੋਗ ਕਦਰ ਨਾ ਕੀਤੀ ਜਾਵੇ
- b) ਉਦੋਂ ਜਦੋਂ ਔਖਾ ਸਮਾਂ ਆਉਣ 'ਤੇ ਮਿੱਤਰ ਤੇ ਰਿਸ਼ਤੇਦਾਰ ਜਵਾਬ ਦੇ ਜਾਣ
- c) ਉਦੋਂ ਜਦੋਂ ਘਰ ਦੇ ਮਾਲਿਕ ਦੇ ਪਿੱਛੋਂ ਨਿੱਕੇ ਨਿੱਕੇ ਨੈਕਰ ਵੀ ਵੱਡੇ ਬਣ ਜਾਣ

d) ਉਸ ਲਈ ਵਰਤਦੇ ਹਨ, ਜਿਸ ਬੰਦੇ ਦਾ ਨਾਂ ਅਤੇ ਜੀਵਨ ਦਾ ਢੰਗ, ਦੋਵੇਂ ਇੱਕ ਦੂਜੇ ਦੇ ਬਿਲਕੁਲ ਉਲਟ ਹੋਣ

28. 'ਕੋਈ ਬਿਲਕੁਲ ਓਪਰੀ ਤੇ ਅਨੋਖੀ ਜਹੀ ਘਟਨਾ ਵਾਪਰਨ 'ਤੇ' ਇਸ ਸਥਿਤੀ ਲਈ ਹੇਠ ਲਿਖਿਆਂ ਵਿੱਚੋਂ ਕਿਹੜਾ ਅਖਾਣ ਵਰਤਿਆ ਜਾਵੇਗਾ ?

- a) ਜੱਗ ਨਾਲ ਚੱਲੇ ਤੇ ਸਭ ਕੁਝ ਪੱਲੇ
- b) ਜੱਗੋਂ ਜਹਾਨੋਂ ਬਾਹਰੀ, ਸਭ ਖਲਕਤ ਟੱਕਰ ਹਾਰੀ
- c) ਜੱਗ ਚਲੇ ਚਲੀ ਦਾ ਮੇਲਾ
- d) ਜੱਗ ਸ਼ੀਸ਼ਾ ਆਰਸੀ, ਜੋ ਦੇਖੇ ਸੋ ਵੇਖ

29. ਜਿਸ ਮੌਕੇ ਅਖਾਣ: 'ਛੱਜ ਨਾ ਬੁਹਾਰੀ, ਕਾਹਦੀ ਭਠਿਆਰੀ' ਵਰਤਿਆ ਜਾਂਦਾ ਹੈ, ਉਸੇ ਮੌਕੇ ਹੋਰ ਕਿਹੜਾ ਅਖਾਣ ਵਰਤਿਆ ਜਾ ਸਕਦਾ ਹੈ ? ਦਿੱਤੇ ਗਏ ਵਿਕਲਪਾਂ ਵਿੱਚੋਂ ਚੁਣੋ:

- a) ਛੱਜ ਭਰਿਆ ਤੇਰਾਂ ਦਾ, ਫਿੱਟੇ ਮੂੰਹ ਦੇਰਾਂ ਦਾ
- b) ਤੀਰ ਨਾ ਕਮਾਨ, ਕਾਹਦਾ ਪਠਾਣ
- c) ਜਹੇ ਆਉ ਤਾਂ ਕਿਉਂ ਨਾ ਭਾਉ
- d) ਛੇਲੇ ਕੀ ਜਾਣਨ ਵਾਹ ਨੂੰ, ਸਾਨ੍ਹ ਕੀ ਜਾਣੇ ਗਾਹ ਨੂੰ

30. ਹੇਠ ਲਿਖਿਆਂ ਵਿੱਚੋਂ ਕਿਹੜਾ ਸ਼ਬਦ ਰੂਪ ਵਿਸ਼ੇਸ਼ ਅਤੇ ਕਿਰਿਆ ਵਿਸ਼ੇਸ਼ ਦੋਵੇਂ ਹੈ ?

- a) ਸਲੰਘ
- b) ਸਲੰਘ-ਭਰ
- c) ਸਲਾਮ-ਦੁਆ
- d) ਸਰਿਸ਼ਤੇਦਾਰ

31. ਪੰਜਾਬੀ ਗਿਣਤੀ ਦੇ ਵਿਕਲਪਕ ਢੰਗ ਅਨੁਸਾਰ 'ਤਿੰਨ ਵੀਹਾਂ ਤੇ ਦਸ' ਦਾ ਅਰਥ/ਉੱਤਰ ਅੰਗਰੇਜ਼ੀ ਵਿੱਚ ਕਿਵੇਂ ਲਿਖਿਆ ਜਾਵੇਗਾ ?

- a) Twenty and Ten
- b) Three twenty
- c) Seventy three
- d) Seventy

32. ਅੰਕ  $7\frac{1}{2}$  ਨੂੰ ਗੁਰਮੁਖੀ ਗਿਣਤੀ ਵਿੱਚ ਕਿਸ ਤਰ੍ਹਾਂ ਲਿਖਿਆ ਜਾਵੇਗਾ ?

- a) ਸਾਢੇ ਸੱਤ
- b) ਸਵਾ ਸੱਤ
- c) ਪੈਂਦੇ ਸੱਤ
- d) ਪੈਂਦੇ ਛੇ

33. ਅੰਕ '82' ਨੂੰ ਸ਼ਬਦਾਂ ਵਿੱਚ ਕਿਵੇਂ ਲਿਖਿਆ ਜਾਵੇਗਾ ?

- a) ਪਚਾਸੀ
- b) ਬਿਆਸੀ
- c) ਸਤਾਸੀ
- d) ਚੈਰਾਸੀ

34. ਹੇਠ ਲਿਖਿਆਂ ਵਿੱਚੋਂ ਕਿਹੜੇ ਕਥਨ 'ਪੰਜਾਬੀ ਸ਼ਬਦ-ਰੂਪਾਂ', ਬਾਰੇ ਸਹੀ ਹਨ ?

- i. ਪੰਜਾਬੀ ਦੇ ਸ਼ਬਦ ਬਹੁਤੇ ਲੰਮੇ ਨਹੀਂ ਹੁੰਦੇ । ਕਿਰਿਆ-ਮੂਲ ਲਗ-ਪਗ ਸਾਰੇ ਇੱਕ-ਉਚਾਰਖੰਡੀ ਹਨ ।
  - ii. ਬਹੁਤੇ ਥੋੜ੍ਹੇ ਕਿਰਿਆ-ਮੂਲ ਦੇ-ਉਚਾਰਖੰਡੀ ਹਨ ।
  - iii. ਪੰਜਾਬੀ ਦੇ ਬਹੁਤ ਥੋੜ੍ਹੇ ਸ਼ਬਦ ਤਿੰਨ-ਉਚਾਰਖੰਡੀ ਹਨ ।
  - iv. ਪੰਜਾਬੀ ਦਾ ਚਾਰ-ਉਚਾਰਖੰਡੀ ਤੋਂ ਵੱਧ ਦਾ ਸ਼ਬਦ ਸ਼ਾਇਦ ਹੀ ਕੋਈ ਹੋਵੇ ।
- a) ਕੇਵਲ ਕਥਨ i ਤੇ ii ਸਹੀ ਹਨ ।
  - b) ਕੇਵਲ ਕਥਨ ii, iii ਤੇ iv ਸਹੀ ਹਨ ।
  - c) ਕੇਵਲ ਕਥਨ i, ii ਤੇ iv ਸਹੀ ਹਨ ।
  - d) ਕਥਨ i, ii, iii ਤੇ iv ਚਾਰੇ ਸਹੀ ਹਨ ।

35. ਵਿਆਕਰਨ ਦੇ ਅੰਗ 'ਸ਼ਬਦ-ਬੋਧ' ਵਿੱਚ ..... ਦਾ ਅਧਿਐਨ ਕੀਤਾ ਜਾਂਦਾ ਹੈ । ਦੁਕਵਾਂ ਵਿਕਲਪ ਚੁਣ ਕੇ ਖਾਲੀ ਸਥਾਨ ਭਰੋ ।

- a) ਵਾਕਾਂ
- b) ਧੁਨੀਆਂ
- c) ਸ਼ਬਦਾਂ
- d) ਵਾਕਾਂ ਦੇ ਅਰਥਾਂ

36. ਪੰਜਾਬੀ ਦੀ ਉਪ-ਭਾਸ਼ਾ 'ਮਲਵਈ' ਨੂੰ ਬੋਲਣ ਵਾਲਾ ਖੇਤਰ ਹੇਠ ਲਿਖਿਆਂ ਵਿੱਚੋਂ ਕਿਹੜੇ ਜ਼ਿਲ੍ਹੇ ਵਿੱਚ ਨਹੀਂ ਆਉਂਦਾ ਹੈ ?

- a) ਤਰਨਤਾਰਨ
- b) ਲੁਧਿਆਣਾ
- c) ਬਠਿੰਡਾ
- d) ਫ਼ਿਰੋਜ਼ਪੁਰ

37. ਬੰਦਾ ਸਿੰਘ ਬਹਾਦਰ ਦਾ ਜਨਮ ਕਿਸ ਪ੍ਰਾਂਤ ਵਿੱਚ ਹੋਇਆ ?

- a) ਪੰਜਾਬ
- b) ਜੰਮੂ-ਕਸ਼ਮੀਰ
- c) ਹਿਮਾਚਲ ਪ੍ਰਦੇਸ਼
- d) ਮਹਾਰਾਸ਼ਟਰ

38. ਸ਼ਹੀਦ ਉਧਮ ਸਿੰਘ ਨੇ ਜਲ੍ਹਿਆਂਵਾਲੇ ਬਾਗ ਦੇ ਕਾਂਡ ਦਾ ਬਦਲਾ ਲੈਣ ਤੋਂ ਬਾਅਦ, ਅੰਗਰੇਜ਼ੀ ਅਦਾਲਤ ਵਿੱਚ, ਆਪਣੀ ਪੰਜਾਬੀ ਪਹਿਚਾਣ ਨੂੰ ਦ੍ਰਿੜ੍ਹ ਕਰਨ ਲਈ ਕਿਸ ਦੀ ਸਹੁੰ ਚੁੱਕੀ ਸੀ ?

- a) ਵਾਰਿਸ਼ ਸ਼ਾਹ ਦੀ ਹੀਰ
- b) ਦਮੋਦਰ ਦੀ 'ਹੀਰ'
- c) ਹਾਸ਼ਮ ਦੀ ਸੱਸੀ
- d) ਇਹਨਾਂ ਵਿੱਚੋਂ ਕੋਈ ਵੀ ਨਹੀਂ

39. ਹੇਠ ਲਿਖੇ ਵਿਕਲਪਾਂ ਵਿੱਚੋਂ ਕਿਹੜੀ, ਪੰਜਾਬ ਵਿੱਚ ਕੁੜੀਆਂ ਵੱਲੋਂ ਖੇਡੀ ਜਾ ਸਕਣ ਵਾਲੀ ਇੱਕ ਬਾਲ ਲੋਕ-ਖੇਡ ਹੈ?

- a) ਕਾਕੜਾ
- b) ਕਾਂਗੜੂ
- c) ਕਾਂਗੜੀ
- d) ਕਾਂਗੜੇ

40. ਟਿੱਪਰੀ ਨਾਚ ਮਾਲਵੇ ਵਿੱਚ ..... ਹਨ, | ਪੰਜਾਬੀ ਲੋਕ-ਨਾਚਾਂ ਰੂਪਾਂ ਦੇ ਆਧਾਰ 'ਤੇ ਢੁਕਵਾਂ ਵਿਕਲਪ ਚੁਣ ਕੇ ਖਾਲੀ ਸਥਾਨ ਭਰੋ।

- a) ਪਿੰਡਾਂ ਦੀਆਂ ਕੁੜੀਆਂ ਨੱਚਦੀਆਂ
- b) ਪਿੰਡਾਂ ਦੇ ਕਿਸਾਨ ਨੱਚਦੇ
- c) ਬਾਜੀਗਰਾਂ ਦੇ ਕਬੀਲੇ ਨੱਚਦੇ
- d) ਰਾਜੇ-ਮਹਾਰਾਜੇ ਨੱਚਦੇ

41. 'ਕਮ' ਅਗੇਤਰ ਲੱਗ ਕੇ ਬਣਨ ਵਾਲਾ ਸਹੀ ਸ਼ਬਦ ਚੁਣੋ :

- a) ਕਮਦਿਲ
- b) ਕਮਰਖ
- c) ਕਮੰਦ
- d) ਉਪਰੋਕਤ ਸਾਰੇ ਹੀ

42. 'ਗ਼ੈਰ' ਅਗੇਤਰ ਲੱਗ ਕੇ ਬਣਨ ਵਾਲਾ ਸਹੀ ਸ਼ਬਦ ਚੁਣੋ :

- a) ਗ਼ੈਰਤ
- b) ਗ਼ੈਰਸੜਕ
- c) ਗ਼ੈਰਮੁਨਾਸਬ
- d) ਉਪਰੋਕਤ ਸਾਰੇ ਹੀ

43. 'ਈ' ਪਿਛੇਤਰ ਲੱਗ ਕੇ ਬਣਨ ਵਾਲਾ ਸਹੀ ਸ਼ਬਦ ਚੁਣੋ :

- a) ਸੰਤਈ
- b) ਭਗਤਈ
- c) ਕੁੜਮਈ
- d) ਉਪਰੋਕਤ ਸਾਰੇ ਹੀ

44. ਵਿਆਕਰਨ ਅਨੁਸਾਰ ਵਿਸ਼ੇਸ਼ਣ ਦੀਆਂ ਕਿੰਨੀਆਂ ਕਿਸਮਾਂ ਹਨ ?

- a) ਪੰਜ
- b) ਛੇ
- c) ਸੱਤ
- d) ਅੱਠ

45. ਸੁੱਧ ਸ਼ਬਦ-ਜੋੜ ਦਾ ਸਹੀ ਵਿਕਲਪ ਚੁਣੋ:

- a) ਖਮਿਆਜਾ
- b) ਖਮਿਆਜ਼ਾ
- c) ਖਮਿਆਜ਼ਾ
- d) ਖਮਿਆਜਾ

46. ਹੇਠ ਲਿਖਿਆਂ ਵਿੱਚੋਂ ਕਿਹੜੇ ਅੱਖਰਾਂ ਨਾਲ 'ਲਾਂ' ਲਗਾ ਦੀ ਵਰਤੋਂ ਕਦੇ ਵੀ ਨਹੀਂ ਹੁੰਦੀ ?

- a) ਣ, ਤ
- b) ਏ, ਸ
- c) ਗ, ਲ
- d) ਓ, ਅ

ਸ਼ੈਲੀ  
ਗੀ. ਓ ਜੇ.

47. ਹੇਠ ਲਿਖੇ ਸ਼ਬਦਾਂ ਵਿੱਚੋਂ ਪੁਲਿੰਗ ਸ਼ਬਦ ਰੂਪ ਚੁਣੋ :

- a) ਜੇਬ
- b) ਜੁੜਾਈ
- c) ਜੁੜਵਾਂ
- d) ਜੁਹ

48. ਹੇਠ ਲਿਖੇ ਸ਼ਬਦਾਂ ਵਿੱਚੋਂ ਇਸਤਰੀ-ਲਿੰਗ ਸ਼ਬਦ ਰੂਪ ਲਈ ਸਹੀ ਵਿਕਲਪ ਚੁਣੋ:

- a) ਝੁੱਲ
- b) ਝੁਲਾਈ
- c) ਝੁਰਮਟ
- d) ਝੁੰਡ

49. 'ਕਤੂਰਾ' ਸ਼ਬਦ ਦਾ ਲਿੰਗ ਅਤੇ ਵਚਨ ਬਦਲ ਕੇ ਬਣਨ ਵਾਲਾ ਸਹੀ ਸ਼ਬਦ ਚੁਣੋ:

- a) ਕਤੂਰਿਆਂ
- b) ਕਤੂਰੇ
- c) ਕਤੂਰੀ
- d) ਕਤੂਰੀਆਂ

44. ਵਿਆਕਰਨ ਅਨੁਸਾਰ ਵਿਸ਼ੇਸ਼ਣ ਦੀਆਂ ਕਿੰਨੀਆਂ ਕਿਸਮਾਂ ਹਨ ?

- a) ਪੰਜ
- b) ਛੇ
- c) ਸੱਤ
- d) ਅੱਠ

45. ਸੁੱਧ ਸ਼ਬਦ-ਜੋੜ ਦਾ ਸਹੀ ਵਿਕਲਪ ਚੁਣੋ:

- a) ਖਮਿਆਜਾ
- b) ਖਮਿਆਜ਼ਾ
- c) ਖਮਿਆਜ਼ਾ
- d) ਖਮਿਆਜਾ

46. ਹੇਠ ਲਿਖਿਆਂ ਵਿੱਚੋਂ ਕਿਹੜੇ ਅੱਖਰਾਂ ਨਾਲ 'ਲਾਂ' ਲਗਾ ਦੀ ਵਰਤੋਂ ਕਦੇ ਵੀ ਨਹੀਂ ਹੁੰਦੀ ?

- a) ਣ, ਤ
- b) ਏ, ਸ
- c) ਗ, ਲ
- d) ਓ, ਅ

ਸ਼ੈਲੀ  
ਗੀ. ਓ ਲ.

47. ਹੇਠ ਲਿਖੇ ਸ਼ਬਦਾਂ ਵਿੱਚੋਂ ਪੁਲਿੰਗ ਸ਼ਬਦ ਰੂਪ ਚੁਣੋ :

- a) ਜੇਬ
- b) ਜੁੜਾਈ
- c) ਜੁੜਵਾਂ
- d) ਜੁਹ

48. ਹੇਠ ਲਿਖੇ ਸ਼ਬਦਾਂ ਵਿੱਚੋਂ ਇਸਤਰੀ-ਲਿੰਗ ਸ਼ਬਦ ਰੂਪ ਲਈ ਸਹੀ ਵਿਕਲਪ ਚੁਣੋ:

- a) ਝੁੱਲ
- b) ਝੁਲਾਈ
- c) ਝੁਰਮਟ
- d) ਝੁੰਡ

49. 'ਕਤੂਰਾ' ਸ਼ਬਦ ਦਾ ਲਿੰਗ ਅਤੇ ਵਚਨ ਬਦਲ ਕੇ ਬਣਨ ਵਾਲਾ ਸਹੀ ਸ਼ਬਦ ਚੁਣੋ:

- a) ਕਤੂਰਿਆਂ
- b) ਕਤੂਰੇ
- c) ਕਤੂਰੀ
- d) ਕਤੂਰੀਆਂ

50. ਪੰਜਾਬੀ ਭਾਸ਼ਾ ਵਿੱਚ ਨੂੰ ਲਿਖਤ ਰੂਪ ਦਿੰਦੇ ਸਮੇਂ ਕਿਸੇ ਦੇ ਕਰੇ ਹੋਏ ਸ਼ਬਦਾਂ ਨੂੰ ਜਿਉਂ ਦਾ ਤਿਉਂ ਲਿਖਣ ਕਈ ਕਿਹੜੇ ਵਿਸਰਾਮ ਚਿੰਨ੍ਹ ਦੀ ਵਰਤੋਂ ਕੀਤੀ ਜਾਂਦੀ ਹੈ ? ਸਹੀ ਵਿਕਲਪ ਚੁਣੋ :

- a) ਜੋੜਨੀ
- b) ਦੁਬਿੰਦੀ
- c) ਪੁੱਠੇ ਕਾਮੇ
- d) ਬਿੰਦੀ-ਕਾਮਾ





Choose the Best Choice / most appropriate in all questions

51. Which is not true about the *Economic Terms* given below ?

- a) Fiscal Policy pertains to use of Govt expenditure and taxation
- b) Monetary Policy pertains to regulation of money supply and interest rates by a central bank
- c) Microcredit is an extremely small loan given to impoverished people
- d) Closed economy encourages foreign trade

ਹੇਠਾਂ ਦਿੱਤੀਆਂ ਗਈਆਂ ਆਰਥਿਕ ਟਰਮਾਂ ਵਿੱਚ ਕਿਸ ਬਾਰੇ ਸਹੀ ਨਹੀਂ ਦਸਿਆ ਗਿਆ ਹੈ?

- a) ਵਿੱਤੀ ਨੀਤੀ ਸਰਕਾਰੀ ਖਰਚਿਆਂ ਅਤੇ ਟੈਕਸਾਂ ਦੀ ਵਰਤੋਂ ਨਾਲ ਸਬੰਧਤ ਹੈ
- b) ਮੁਦਰਾ ਨੀਤੀ ਕੇਂਦਰੀ ਬੈਂਕ ਦੁਆਰਾ ਪੈਸੇ ਦੀ ਸਪਲਾਈ ਅਤੇ ਵਿਆਜ ਦਰਾਂ ਦੇ ਨਿਯਮ ਨਾਲ ਸਬੰਧਤ ਹੈ
- c) ਮਾਈਕ੍ਰੋਕ੍ਰੈਡਿਟ ਗਰੀਬ ਲੋਕਾਂ ਨੂੰ ਦਿੱਤਾ ਜਾਣ ਵਾਲਾ ਬਹੁਤ ਛੋਟਾ ਕਰਜ਼ਾ ਹੈ
- d) ਬੰਦ ਆਰਥਿਕਤਾ ਵਿਦੇਸ਼ੀ ਵਪਾਰ ਨੂੰ ਉਤਸ਼ਾਹਿਤ ਕਰਦੀ ਹੈ

52. Which of the following is not true ?

- a) Newton is a unit of Force
- b) Joule is a unit of Work Done
- c) Ohm is a unit of Electrical Resistance
- d) Lumens is a unit of Potential Difference

ਹੇਠ ਲਿਖਿਆਂ ਵਿੱਚੋਂ ਕਿਹੜਾ ਸਹੀ ਨਹੀਂ ਹੈ?

- a) ਨਿਊਟਨ ਫੋਰਸ ਦੀ ਇਕ ਇਕਾਈ (unit) ਹੈ
- b) ਜਾਊਲ (Joule) ਕੀਤੇ ਗਏ ਕੰਮ ਦੀ ਇਕਾਈ (unit) ਹੈ
- c) ਓਹਮ (Ohm) ਬਿਜਲਈ ਪ੍ਰਤੀਰੋਧ ਦੀ ਇਕਾਈ (unit) ਹੈ
- d) ਲੂਮੈਂਸ (Lumens) ਪੋਟੈਂਸ਼ਲ ਡਿਫਰੈਂਸ (ਅੰਤਰ) ਦੀ ਇਕਾਈ (unit) ਹੈ

53. Which of the following is not part of Ordinary Glass ?

- a) Silica
- b) Sodium Silicate
- c) Calcium Silicate
- d) Ferrous Sulphate

ਹੇਠਾਂ ਦਿੱਤੇ ਵਿੱਚੋਂ ਕਿਹੜਾ ਆਮ ਕੱਚ (Ordinary Glass) ਦਾ ਹਿੱਸਾ ਨਹੀਂ ਹੈ?

- a) ਸਿਲਿਕਾ
- b) ਸੋਡੀਅਮ ਸਿਲੀਕੇਟ
- c) ਕੈਲਸ਼ੀਅਮ ਸਿਲੀਕੇਟ
- d) ਫੇਰਸ ਸਲਫੇਟ

54. Total number of bones in the body are \_\_\_\_\_?  
ਸਰੀਰ ਵਿੱਚ ਕੁੱਲ ਹੱਡੀਆਂ ਦੀ ਗਿਣਤੀ ਕਿੰਨੀ ਹੈ?

- a) 206  
c) 208  
b) 207  
d) 209

55. Which air-to-surface missile was successfully flight-tested by DRDO on May 29, 2024?  
?

- a) Rudram-I  
c) Rudram-III  
b) Rudram-II  
d) Agni-III

DRDO ਦੁਆਰਾ 29 ਮਈ, 2024 ਨੂੰ ਹਵਾ ਤੋਂ ਸਤ੍ਹਾ ਤੱਕ ਮਾਰ ਕਰਨ ਵਾਲੀ ਕਿਹੜੀ ਮਿਜ਼ਾਈਲ ਦਾ ਸਫਲਤਾਪੂਰਵਕ ਉਡਾਣ-ਪਰੀਖਣ ਕੀਤਾ ਗਿਆ ਸੀ।

- a) ਰੁਦ੍ਰਮ -I  
c) ਰੁਦ੍ਰਮ -III  
b) ਰੁਦ੍ਰਮ -II  
d) ਅਗਨੀ -III

56. Google has renamed which of its products as Gemini ?

- a) Bard  
c) Google Drive  
b) Google Docs  
d) Gmail

ਗੂਗਲ ਨੇ ਆਪਣੇ ਕਿਹੜੇ ਉਤਪਾਦਾਂ ਦਾ ਨਾਮ ਬਦਲ ਕੇ ਜੈਮਿਨੀ ਰੱਖਿਆ ਹੈ?

- a) ਬਾਰਡ  
c) ਗੂਗਲ ਡਰਾਈਵ  
b) ਗੂਗਲ ਡੋਕਸ  
d) ਜੀਮੇਲ

57. Which state became leading state in terms of Electronic Products Exports for the fiscal year 2023-24 ?

- a) Karnataka  
c) Telangana  
b) Tamil Nadu  
d) Maharashtra

ਵਿੱਤੀ ਸਾਲ 2023-24 ਲਈ ਇਲੈਕਟ੍ਰਾਨਿਕ ਉਤਪਾਦਾਂ ਦੇ ਨਿਰਯਾਤ ਦੇ ਮਾਮਲੇ ਵਿੱਚ ਕਿਹੜਾ ਰਾਜ ਮੋਹਰੀ ਰਾਜ ਬਣਿਆ ?

- a) ਕਰਨਾਟਕ  
c) ਤੇਲੰਗਾਨਾ  
b) ਤਾਮਿਲਨਾਡੂ  
d) ਮਹਾਰਾਸ਼ਟਰ

58. Who is winner of IIFA award for lyrics for the year 2023 ?

- a) Amitabh Bhattacharya  
c) Raj Shekhar  
b) Ankur Tewari  
d) Varun Grover

ਗੀਤਾਂ ਲਈ ਆਈਫਾ ਅਵਾਰਡ ਦਾ, ਸਾਲ 2023 ਲਈ, ਜੇਤੂ ਕੌਣ ਹੈ ?

- a) ਅਮਿਤਾਭ ਭੱਟਾਚਾਰੀਆ  
c) ਰਾਜ ਸ਼ੇਖਰ  
b) ਅੰਕੁਰ ਤਿਵਾੜੀ  
d) ਵਰੁਨ ਗਰੋਵਰ

59. Which Indian Actress has been named UNICEF India's National Ambassador in May, 2024 ?

- a) Vidya Balan
- c) Kareena Kapoor Khan
- b) Kajol
- d) Deepika Padukone

ਮਈ, 2024 ਵਿੱਚ ਕਿਹੜੀ ਭਾਰਤੀ ਅਭਿਨੇਤਰੀ ਨੂੰ ਯੂਨੀਸੇਫ ਇੰਡੀਆ ਦੀ ਰਾਸ਼ਟਰੀ ਰਾਜਦੂਤ ਨਿਯੁਕਤ ਕੀਤਾ ਗਿਆ ਹੈ ?

- a) ਵਿਦਿਆ ਬਾਲਨ
- c) ਕਰੀਨਾ ਕਪੂਰ ਖਾਨ
- b) ਕਾਜੋਲ
- d) ਦੀਪਿਕਾ ਪਾਦੁਕੋਣ

60. Which of the following Articles grants "Equality before Law" right to Indian Citizen ?

- a) Article 14
- c) Article 16
- b) Article 15
- d) Article 17

ਹੇਠ ਲਿਖੀਆਂ ਵਿੱਚੋਂ ਕਿਹੜਾ ਆਰਟੀਕਲ ਭਾਰਤੀ ਨਾਗਰਿਕਾਂ ਨੂੰ " ਕਾਨੂੰਨ ਅੱਗੇ ਬਰਾਬਰੀ " ਦਾ ਅਧਿਕਾਰ ਦਿੰਦਾ ਹੈ ?

- a) ਆਰਟੀਕਲ 14
- c) ਆਰਟੀਕਲ 16
- b) ਆਰਟੀਕਲ 15
- d) ਆਰਟੀਕਲ 17

61. Vasco de Gama, who reached Calicut in 1498, belonged to which country?

- a) USA
- c) Spain
- b) England
- d) Portugal

1498 ਵਿੱਚ ਕਾਲੀਕਟ ਪਹੁੰਚਣ ਵਾਲਾ ਵਾਸਕੋ ਡੀ ਗਾਮਾ, ਕਿਸ ਦੇਸ਼ ਦਾ ਸੀ ?

- a) ਅਮਰੀਕਾ
- c) ਸਪੇਨ
- b) ਇੰਗਲੈਂਡ
- d) ਪੁਰਤਗਾਲ

62. First Indian Railway was opened in 1853 from Bombay to Thane under which British h ?

- a) Lord William Bentinck
- c) Lord Dalhousie
- b) Lord Warren Hastings
- d) Lord Canning

ਪਹਿਲੀ ਭਾਰਤੀ ਰੇਲਵੇ, ਜੋ 1853 ਵਿੱਚ ਬੰਬਈ ਤੋਂ ਠਾਣੇ ਤੱਕ ਚਲੀ ਸੀ, ਕਿਸ ਬ੍ਰਿਟਿਸ਼ ਮੁੱਖੀ ਦੀ ਅਗਵਾਈ ਵਿੱਚ ਚਲਾਈ ਗਈ ਸੀ ?

- a) ਲਾਰਡ ਵਿਲੀਅਮ ਬੈਂਟਿੰਕ
- c) ਲਾਰਡ ਡਲਹੌਜ਼ੀ
- b) ਲਾਰਡ ਵਾਰਨ ਹੇਸਟਿੰਗਜ਼
- d) ਲਾਰਡ ਕੈਨਿੰਗ

63. Chauri-Chaura incident happened near Gorakhpur in which year ?

- a) 1921
- b) 1922
- c) 1923
- d) 1924

ਚੌਰੀ-ਚੌਰਾ ਕਾਂਡ ਕਿਸ ਸਾਲ ਗੋਰਖਪੁਰ ਨੇੜੇ ਵਾਪਰਿਆ ਸੀ ?

Under whom was First Indian National Army formed?

64.

- a) Mohan Singh  
c) Rash Bihari Bose

- b) Netaji Subhash Chandra Bose  
d) C R Das

ਪਹਿਲੀ ਭਾਰਤੀ ਰਾਸ਼ਟਰੀ ਸੈਨਾ ਕਿਸ ਦੇ ਅਧੀਨ ਬਣਾਈ ਗਈ ਸੀ?

a) ਮੋਹਨ ਸਿੰਘ

b) ਨੇਤਾਜੀ ਸੁਭਾਸ਼ ਚੰਦਰ ਬੋਸ

c) ਰਾਸ਼ ਬਿਹਾਰੀ ਬੋਸ

d) ਸੀ ਆਰ ਦਾਸ

65. When was Indian Independence Act passed by British Government ?

a) Jan, 1946

b) Jul, 1946

c) Jan, 1947

d) Jul, 1947

ਬ੍ਰਿਟਿਸ਼ ਸਰਕਾਰ ਦੁਆਰਾ ਭਾਰਤੀ ਸੁਤੰਤਰਤਾ ਐਕਟ ਕਿਸ ਮਹੀਨੇ ਪਾਸ ਕੀਤਾ ਗਿਆ ਸੀ?

a) ਜਨਵਰੀ, 1946

b) ਜੁਲਾਈ, 1946

c) ਜਨਵਰੀ, 1947

d) ਜੁਲਾਈ, 1947

66. Which of the following is related to maximizing Fish production ?

a) Green Revolution

b) Yellow Revolution

c) White Revolution

d) Blue Revolution

ਹੇਠ ਲਿਖਿਆਂ ਵਿੱਚੋਂ ਕਿਹੜੀ ਕ੍ਰਾਂਤੀ ਮੱਛੀ ਉਤਪਾਦਨ ਨੂੰ ਵੱਧ ਤੋਂ ਵੱਧ ਕਰਨ ਨਾਲ ਸਬੰਧਤ ਹੈ?

a) ਹਰੀ ਕ੍ਰਾਂਤੀ

b) ਪੀਲੀ ਕ੍ਰਾਂਤੀ

c) ਚਿੱਟੀ ਕ੍ਰਾਂਤੀ

d) ਨੀਲੀ ਕ੍ਰਾਂਤੀ

67. Which of the following Infrastructure projects is primarily related to Railways?

- a) Bharatmala Pariyojna  
c) Western Dedicated Freight Corridor

- b) Sagarmala Pariyojna  
d) Delhi-Mumbai Industrial Corridor

ਹੇਠ ਲਿਖਿਆਂ ਵਿੱਚੋਂ ਕਿਹੜਾ ਬੁਨਿਆਦੀ ਢਾਂਚਾ ਪ੍ਰੋਜੈਕਟ ਮੁੱਖ ਤੌਰ 'ਤੇ ਰੇਲਵੇ ਨਾਲ ਸਬੰਧਤ ਹੈ?

a) ਭਾਰਤਮਾਲਾ ਪਰਯੋਜਨਾ

b) ਸਾਗਰਮਾਲਾ ਪਰਯੋਜਨਾ

c) ਪੱਛਮੀ ਸਮਰਪਿਤ ਫਰੇਟ (ਭਾੜਾ)

d) ਦਿੱਲੀ-ਮੁੰਬਈ ਉਦਯੋਗਿਕ ਗਲਿਆਰਾ

ਕੋਰੀਡੋਰ

68. Bokaro Steel Plant is located in which state ?

a) Odisha

b) Jharkhand

c) Chhattisgarh

d) Karnataka

ਬੋਕਾਰੋ ਸਟੀਲ ਪਲਾਂਟ ਕਿਸ ਰਾਜ ਵਿੱਚ ਸਥਿਤ ਹੈ?

a) ਓਡੀਸ਼ਾ

b) ਝਾਰਖੰਡ

c) ਛੱਤੀਸਗੜ੍ਹ

d) ਕਰਨਾਟਕ



69. Who was the First Woman President of the UN General Assembly ?
- Handwritten: first woman Ambassador
- a) Ms Vijay Laxmi Pandit ✓  
c) Ms Rita Faria  
b) Ms Sarojini Naidu ✗  
d) Ms Annie Basant ✗

- ਸੰਯੁਕਤ ਰਾਸ਼ਟਰ ਮਹਾਸਭਾ ਦੀ ਪਹਿਲੀ ਮਹਿਲਾ ਪ੍ਰਧਾਨ ਕੌਣ ਸੀ?
- a) ਸ਼੍ਰੀਮਤੀ ਵਿਜੇ ਲਕਸ਼ਮੀ ਪੰਡਿਤ  
b) ਸ਼੍ਰੀਮਤੀ ਸਰੋਜਨੀ ਨਾਇਡੂ  
c) ਸ਼੍ਰੀਮਤੀ ਰੀਟਾ ਫਾਰੀਆ  
d) ਸ਼੍ਰੀਮਤੀ ਐਨੀ ਬਸੰਤ

70. Who won Gold medal in Men's high jump in Paralympics, 2024 at Paris ?
- a) Dharambir  
c) Praveen Kumar  
b) Harvinder Singh  
d) Sundar Singh Gurjar

- ਪੈਰਿਸ ਵਿੱਚ ਪੈਰਾਲੰਪਿਕ, 2024 ਵਿੱਚ ਪੁਰਸ਼ਾਂ ਦੀ ਉੱਚੀ ਛਾਲ ਵਿੱਚ ਗੋਲਡ ਮੈਡਲ ਕਿਸਨੇ ਜਿੱਤਿਆ ?
- a) ਧਰਮਬੀਰ  
b) ਹਰਵਿੰਦਰ ਸਿੰਘ  
c) ਪ੍ਰਵੀਨ ਕੁਮਾਰ  
d) ਸੁੰਦਰ ਸਿੰਘ ਗੁਰਜਰ

71. In which year The First Round Table Conference was held?

ਪਹਿਲੀ ਗੋਲਮੇਜ਼ ਕਾਨਫਰੰਸ ਕਿਸ ਸਾਲ ਹੋਈ ਸੀ?

- a) 1920  
c) 1930  
b) 1925  
d) 1935

72. Which river is known as the Ganga of the South ?

- a) Mahanadi  
c) Krishna  
b) Godavri  
d) Cauvery

ਕਿਹੜੀ ਨਦੀ ਨੂੰ ਦੱਖਣ ਦੀ ਗੰਗਾ ਕਿਹਾ ਜਾਂਦਾ ਹੈ?

- a) ਮਹਾਨਦੀ  
b) Godavari  
c) ਕ੍ਰਿਸ਼ਨਾ  
d) ਕਾਵੇਰੀ

73. In which state Gir Forests are located?

- a) Maharashtra  
c) Madhya Pradesh  
b) Gujarat  
d) Karnataka

ਗੀਰ ਦੇ ਜੰਗਲ ਕਿਹੜੇ ਰਾਜ ਵਿੱਚ ਸਥਿਤ ਹਨ?

- a) ਮਹਾਰਾਸ਼ਟਰ  
b) ਗੁਜਰਾਤ  
c) ਮੱਧ ਪ੍ਰਦੇਸ਼  
d) ਕਰਨਾਟਕ

74. Traditionally in which months *Kharif Crops* are harvested?

- a) September and October  
b) May and July  
c) December and January  
d) January and February

ਰਵਾਇਤੀ ਤੌਰ 'ਤੇ ਸਾਉਣੀ ਦੀਆਂ ਫਸਲਾਂ ਦੀ ਕਟਾਈ ਕਿਹੜੇ ਮਹੀਨਿਆਂ ਵਿੱਚ ਕੀਤੀ ਜਾਂਦੀ ਹੈ?

- a) ਸਤੰਬਰ ਅਤੇ ਅਕਤੂਬਰ  
b) ਮਈ ਅਤੇ ਜੁਲਾਈ  
c) ਦਸੰਬਰ ਅਤੇ ਜਨਵਰੀ  
d) ਜਨਵਰੀ ਅਤੇ ਫਰਵਰੀ

75. After Independence, in 1953, which First Linguistic State Government of India was forced to form?

- a) Andhra Pradesh  
b) Gujarat  
c) Haryana  
d) Bihar

ਆਜ਼ਾਦੀ ਤੋਂ ਬਾਅਦ, 1953 ਵਿੱਚ ਭਾਰਤ ਸਰਕਾਰ ਨੂੰ ਕਿਹੜਾ ਪਹਿਲਾ ਭਾਸ਼ਾ ਆਧਾਰਿਤ ਰਾਜ ਬਣਾਉਣਾ ਪੈ ਗਿ

ਸੀ?

- a) ਆਂਧਰਾ ਪ੍ਰਦੇਸ਼  
b) ਗੁਜਰਾਤ  
c) ਹਰਿਆਣਾ  
d) ਬਿਹਾਰ

Adda247

76. Which of the following movements was started by Baba Dayal ?

- a) Namdhari  
 c) Nirankari  
 b) Singh Sabha  
 d) Tat Khalsa

ਬਾਬਾ ਦਿਆਲ ਦੁਆਰਾ ਹੇਠ ਲਿਖੀ ਕਿਹੜੀ ਲਹਿਰ ਦੀ ਸ਼ੁਰੂਆਤ ਕੀਤੀ ਗਈ ਸੀ?

- a) ਨਾਮਧਾਰੀ  
 c) ਨਿਰੰਕਾਰੀ  
 b) ਸਿੰਘ ਸਭਾ  
 d) ਤੱਤ ਖਾਲਸਾ

77. Who won Sahitya Academy Award for the literary work "Rangmanch" in 1962?

- a) Mohan Singh  
 c) Sohan Singh Seetal  
 b) Sukhwinder Amrit  
 d) Balwant Gargi

ਸਾਲ 1962 ਵਿੱਚ ਸਾਹਿਤਕ ਰਚਨਾ "ਰੰਗਮੰਚ" ਲਈ ਸਾਹਿਤ ਅਕਾਦਮੀ ਪੁਰਸਕਾਰ ਕਿਸਨੇ ਜਿੱਤਿਆ ਸੀ?

- a) ਮੋਹਨ ਸਿੰਘ  
 c) ਸੋਹਣ ਸਿੰਘ ਸੀਤਲ  
 b) ਸੁਖਵਿੰਦਰ ਅੰਮ੍ਰਿਤ  
 d) ਬਲਵੰਤ ਗਾਰਗੀ

78. Who received Sangeet Natak Akademi Award for the year 2022 for his contribution to Hindustani vocal music?

- a) Harvinder Singh  
 c) Prakash Kaur  
 b) Sukhwinder Singh  
 d) Asa Singh Mastana

ਹਿੰਦੁਸਤਾਨੀ ਵੋਕਲ ਸੰਗੀਤ ਵਿੱਚ ਯੋਗਦਾਨ ਲਈ ਸਾਲ 2022 ਲਈ ਸੰਗੀਤ ਨਾਟਕ ਅਕਾਦਮੀ ਅਵਾਰਡ ਕਿਸਨੂੰ

ਮਿਲਿਆ?

- a) ਹਰਵਿੰਦਰ ਸਿੰਘ  
 c) ਪ੍ਰਕਾਸ਼ ਕੌਰ  
 b) ਸੁਖਵਿੰਦਰ ਸਿੰਘ  
 d) ਆਸਾ ਸਿੰਘ ਮਸਤਾਨਾ

79. In which year keys of Golden Temple, Amritsar were handed over by British Govt to Sardar Kharak Singh, President of SGPC ?

- a) 1922  
 c) 1924  
 b) 1923  
 d) 1925

1925  
 SGPC  
 (1925) - ~~1922~~  
 President

ਕਿਸ ਸਾਲ ਦਰਬਾਰ ਸਾਹਿਬ, ਅੰਮ੍ਰਿਤਸਰ ਦੀਆਂ ਚਾਬੀਆਂ ਬ੍ਰਿਟਿਸ਼ ਹਕੂਮਤ ਨੇ SGPC ਦੇ ਪ੍ਰਧਾਨ ਸਰਦਾਰ ਖੜਕ

ਸਿੰਘ ਨੂੰ ਸੌਂਪੀਆਂ ਸਨ?

- a) 1922  
 c) 1924  
 b) 1923  
 d) 1925



80. Where did Kamagatamaru Incident occur in 1914?

- a) Montreal  
c) Vishakhapatnam

- b) Vancouver  
d) Madras

ਕਾਮਗਾਟਾਮਾਰੂ ਕਾਂਡ ਸਾਲ 1914 ਵਿੱਚ ਕਿੱਥੇ ਵਾਪਰਿਆ ਸੀ?

- a) ਮਾਂਟਰੀਅਲ  
c) ਵਿਸ਼ਾਖਾਪਟਨਮ

- b) ਵੈਨਕੂਵਰ  
d) ਮਦਰਾਸ

81. Who was founder of newspaper The Tribune ?

- a) Umrao Singh Sher-Gil  
c) Bikram Singh Majithia

- b) Lehna Singh Majithia  
d) Dyal Singh Majithia

'ਦੀ ਟ੍ਰਿਬਿਊਨ' ਅਖਬਾਰ ਦਾ ਸੰਸਥਾਪਕ ਕੌਣ ਸੀ?

- a) ਉਮਰਾਓ ਸਿੰਘ ਸ਼ੇਰ-ਗਿੱਲ  
c) ਬਿਕਰਮ ਸਿੰਘ ਮਜੀਠੀਆ

- b) ਲਹਿਣਾ ਸਿੰਘ ਮਜੀਠੀਆ  
d) ਦਿਆਲ ਸਿੰਘ ਮਜੀਠੀਆ

82. Who carried the head of Guru Teg Bahadur ji after he was martyred at Chandni Chowk

- a) Bhai Mati Das  
c) Bhai Jaita

- b) Bhai Sati Das  
d) Bhai Lakhi Shah Lubana

ਗੁਰੂ ਤੇਗ ਬਹਾਦਰ ਜੀ ਦੀ ਚਾਂਦਨੀ ਚੌਕ ਵਿਖੇ ਸ਼ਹੀਦੀ ਤੋਂ ਬਾਅਦ ਉਨ੍ਹਾਂ ਦਾ ਸੀਸ ਕੌਣ ਲੈ ਗਿਆ ਸੀ ?

- a) ਭਾਈ ਮਤੀ ਦਾਸ  
c) ਭਾਈ ਜੈਤਾ

- b) ਭਾਈ ਸਤੀ ਦਾਸ  
d) ਭਾਈ ਲੱਖੀ ਸ਼ਾਹ ਲੁਬਾਣਾ

83. Ancient name of river Ravi is \_\_\_\_\_

- a) Vipasha  
c) Purushni

- b) Sursati  
d) Budhi

ਰਾਵੀ ਨਦੀ ਦਾ ਪ੍ਰਾਚੀਨ ਨਾਮ \_\_\_\_\_ ਹੈ

- a) ਵਿਪਾਸ਼ਾ  
c) ਪੁਰੁਸ਼ਨੀ

- b) ਸੁਰਸਤੀ  
d) ਬੁਧੀ

84. Which of the following sufi saint is considered as the first poet of Punjabi?

- a) Sheikh Nizamudin Aulia  
 c) Sheikh Farid  
 b) Sheikh Salim chisti  
 d) Sheikh Muinuddin Chisti

ਇਹਨਾਂ ਵਿੱਚੋਂ ਕਿਸ ਸੂਫੀ ਸੰਤ ਨੂੰ ਪੰਜਾਬੀ ਦਾ ਪਹਿਲਾ ਕਵੀ ਮੰਨਿਆ ਜਾਂਦਾ ਹੈ?

- a) ਸ਼ੇਖ ਨਿਜ਼ਾਮੁਦੀਨ ਔਲੀਆ  
 c) ਸ਼ੇਖ ਫਰੀਦ  
 b) ਸ਼ੇਖ ਸਲੀਮ ਚਿਸਤੀ  
 d) ਸ਼ੇਖ ਮੁਈਨੁਦੀਨ ਚਿਸਤੀ

85. Traditionally in Punjab after child birth which two rituals have been held ?

- a) Gurti and Chatti (ਗੁੜਤੀ ਤੇ ਛਟੀ) ~~b) Gurti and Thaka (ਗੁੜਤੀ ਤੇ ਠਾਕਾ)~~  
 c) Chatti and Thaka (ਛਟੀ ਤੇ ਠਾਕਾ) ~~d) Thaka and Laavan (ਠਾਕਾ ਤੇ ਲਾਵਾਂ)~~

ਪੰਜਾਬ ਵਿਚ ਪਰੰਪਰਾਗਤ ਤੌਰ 'ਤੇ ਬੱਚੇ ਦੇ ਜਨਮ ਤੋਂ ਬਾਅਦ ਕਿਹੜੀਆਂ ਦੋ ਰਸਮਾਂ ਕੀਤੀਆਂ ਜਾਂਦੀਆਂ ਹਨ?

- a) ਗੁੜਤੀ ਤੇ ਛਟੀ  
 c) ਛਟੀ ਤੇ ਠਾਕਾ  
 b) ਗੁੜਤੀ ਤੇ ਠਾਕਾ  
 d) ਠਾਕਾ ਤੇ ਲਾਵਾਂ

86. On which day Diwali is celebrated?

- a) Katak Massya (ਕੱਤਕ ਦੀ ਮੱਸਿਆ)  
 c) Assu's Pooranmassi (ਅੱਸੂ ਦੀ ਪੂਰਨਮਾਸੀ)  
 b) Katak's Pooranmassi (ਕੱਤਕ ਦੀ ਪੂਰਨਮਾਸੀ)  
 d) Magh's Massya (ਮਾਘ ਦੀ ਮੱਸਿਆ)

ਦੀਵਾਲੀ ਕਿਸ ਦਿਨ ਮਨਾਈ ਜਾਂਦੀ ਹੈ??

- a) ਕੱਤਕ ਦੀ ਮੱਸਿਆ  
 c) ਅੱਸੂ ਦੀ ਪੂਰਨਮਾਸੀ  
 b) ਕੱਤਕ ਦੀ ਪੂਰਨਮਾਸੀ  
 d) ਮਾਘ ਦੀ ਮੱਸਿਆ

87. Bhai Jetha Ji was name of which of the following Gurus?

- a) Guru Angad Dev Ji  
 c) Guru Ram Das Ji  
 b) Guru Har Rai Ji  
 d) Guru Harkrishan Ji

ਭਾਈ ਜੇਠਾ ਜੀ ਇਹਨਾਂ ਵਿੱਚੋਂ ਕਿਹੜੇ ਗੁਰੂਆਂ ਦਾ ਨਾਮ ਸੀ?

- a) ਗੁਰੂ ਅੰਗਦ ਦੇਵ ਜੀ  
 c) ਗੁਰੂ ਰਾਮਦਾਸ ਜੀ  
 b) ਗੁਰੂ ਹਰਿਰਾਇ ਜੀ  
 d) ਗੁਰੂ ਹਰਕ੍ਰਿਸ਼ਨ ਜੀ

88. Against which Mughal Emperor Banda Bahadur Lost his rule?

- a) Zakaria Khan
- b) Farrukh Siyar
- c) Samad Khan
- d) Bahadur Shah

ਕਿਸ ਮੁਗਲ ਬਾਦਸ਼ਾਹ ਦੇ ਖਿਲਾਫ ਬੰਦਾ ਬਹਾਦਰ ਨੇ ਆਪਣਾ ਰਾਜ ਹਾਰਿਆ ਸੀ?

- a) ਜ਼ਕਰੀਆ ਖਾਨ
- b) ਫਾਰੂਖ ਸਿਆਰ
- c) ਸਮਦ ਖਾਨ
- d) ਬਹਾਦਰ ਸ਼ਾਹ

89. One of the following does not have hymns in Guru Granth Sahib Ji ?

- a) Bhagat Kabir
- b) Bhagat Namdev
- c) Bhagat Ravidas
- d) Bulle Shah

*Bulle  
Kabir  
B Ravidas  
Ravidas*

ਗੁਰੂ ਗ੍ਰੰਥ ਸਾਹਿਬ ਜੀ ਵਿੱਚ ਹੇਠ ਲਿਖੇ ਵਿੱਚੋਂ ਕਿਸੇ ਇੱਕ ਦੀ ਬਾਣੀ ਨਹੀਂ ਹੈ?

- a) ਭਗਤ ਕਬੀਰ
- b) ਭਗਤ ਨਾਮਦੇਵ
- c) ਭਗਤ ਰਵਿਦਾਸ
- d) ਬੁੱਲੇ ਸ਼ਾਹ

90. Which of the following Afghan rulers was foe of Maharaja Ranjit Singh ?

- a) Prince Mahmud
- b) Nadir Shah
- c) Ahmad Shah Abdali
- d) Shah Zaman

ਹੇਠ ਲਿਖੇ ਅਫਗਾਨ ਸ਼ਾਸਕਾਂ ਵਿੱਚੋਂ ਕਿਹੜਾ ਮਹਾਰਾਜਾ ਰਣਜੀਤ ਸਿੰਘ ਦਾ ਦੁਸ਼ਮਣ ਸੀ?

- a) ਸ਼ਹਿਜ਼ਾਦਾ ਮਹਿਮੂਦ
- b) ਨਾਦਿਰ ਸ਼ਾਹ
- c) ਅਹਿਮਦ ਸ਼ਾਹ ਅਬਦਾਲੀ
- d) ਸ਼ਾਹ ਜ਼ਮਾਨ

91. How Raja Gulab Singh got State of Kashmir under a 1846 Treaty after 1st Anglo-Sikh War ?

- a) It was purchased from British
- b) It was won from British
- c) Sikh Empire was allowed to rule it
- d) Maharaja Ranjit Singh gave it to Raja Gulab Singh

ਪਹਿਲੀ ਐਂਗਲੋ-ਸਿੱਖ ਜੰਗ ਤੋਂ ਬਾਅਦ ਰਾਜਾ ਗੁਲਾਬ ਸਿੰਘ ਨੇ 1846 ਦੀ ਸੰਧੀ ਅਧੀਨ ਕਸ਼ਮੀਰ ਰਾਜ ਕਿਵੇਂ ਪ੍ਰਾਪਤ ਕੀਤਾ?

- a) ਇਹ ਅੰਗਰੇਜ਼ਾਂ ਤੋਂ ਖਰੀਦਿਆ ਗਿਆ ਸੀ
- b) ਇਹ ਬ੍ਰਿਟਿਸ਼ ਤੋਂ ਜਿੱਤਿਆ ਗਿਆ ਸੀ
- c) ਸਿੱਖ ਸਾਮਰਾਜ ਨੂੰ ਇਸ ਤੇ ਰਾਜ ਕਰਨ ਦੀ ਇਜਾਜ਼ਤ ਦਿੱਤੀ ਗਈ
- d) ਮਹਾਰਾਜਾ ਰਣਜੀਤ ਸਿੰਘ ਨੇ ਇਹ ਰਾਜਾ ਗੁਲਾਬ ਸਿੰਘ ਨੂੰ ਦਿੱਤਾ

92. Arya Samaj movement was founded in 1875 by whom ?

- a) Swami Vivekanand
- b) Swami Dayanand
- c) Swami Shradhdhanand
- d) Swami Ramdev

ਆਰੀਆ ਸਮਾਜ ਅੰਦੋਲਨ ਦੀ ਸਥਾਪਨਾ 1875 ਵਿੱਚ ਕਿਸ ਦੁਆਰਾ ਕੀਤੀ ਗਈ ਸੀ?

- a) ਸਵਾਮੀ ਵਿਵੇਕਾਨੰਦ
- b) ਸਵਾਮੀ ਦਯਾਨੰਦ
- c) ਸਵਾਮੀ ਸ਼ਰਧਾਨੰਦ
- d) ਸਵਾਮੀ ਰਾਮਦੇਵ



ਨੋਟ: ਹੇਠ ਲਿਖੇ ਪ੍ਰਸ਼ਨਾਂ ਦੇ ਉੱਤਰ, ਉਹਨਾਂ ਦੇ ਹੇਠਾਂ ਦਿੱਤੇ ਵਿਕਲਪਾਂ ਵਿੱਚੋਂ ਚੁਣ ਕੇ ਦਿਓ/ਉੱਤਰ ਸ਼ੀਟ 'ਤੇ ਦਰਜ ਕਰੋ :

93.

ਪ੍ਰਗਟਾਉਂਦਾ ਹੈ ?

- a) ਆਬਾਦਕਾਰੀ ਅਫ਼ਸਰ
- b) ਮੁੱਖ ਵਣਪਾਲ
- c) ਐਡਵੋਕੇਟ ਜਨਰਲ
- d) ਸਕੱਤਰ ਮੁੜ-ਵਸਾਊ ਵਿਭਾਗ

94.

'ਤਾਂਬੇ ਦੇ ਭਾਂਡੇ ਬਣਾਉਣ ਜਾਂ ਵੇਚਣ ਵਾਲਾ' ਵਾਕ ਲਈ ਇੱਕ ਸ਼ਬਦ ਚੁਣੋ:

- a) ਤਾਂਬਕੀ
- b) ਕਸੈਲਾ
- c) ਕਸੇਰਾ
- d) ਕਸੇਰਾ

95.

ਮੁਹਾਵਰਾ: 'ਲਹੂ ਨਾਲ ਲਹੂ ਧੋਣਾ' ਲਈ ਢੁਕਵਾਂ ਅਰਥ ਚੁਣੋ;

- a) ਘ੍ਰਿਣਾ ਨੂੰ ਮੋਟਣ ਲਈ ਘ੍ਰਿਣਾ ਕਰਨਾ
- b) ਬੜੀ ਮਿਹਨਤ ਕਰਨਾ
- c) ਤੁੱਲ ਜਾਣਾ
- d) ਮਿਟਾ ਦੇਣਾ

96.

'ਜਦੋਂ ਵੰਡਣ ਮਗਰੋਂ ਕਿਸੇ ਚੀਜ਼ ਦੀ ਥੋੜ੍ਹੀ ਜਿਹੀ ਮਾਤਰਾ ਨੂੰ ਦਰਸਾਉਣਾ ਹੋਵੇ,' ਉਦੋਂ ਇਸ ਲਈ ਕਿਹੜਾ ਅਖਾਣ ਵਰਤਿਆ ਜਾਵੇਗਾ ?

- a) ਚਿੜੀ ਕੁੱਠੀ ਜੱਗ ਨੌਂਦਰਾ
- b) ਚਿੜੀ ਦੀ ਚੋਗ, ਚੋਧਵਾਂ ਹਿੱਸਾ
- c) ਚਿੜੀਆਂ ਮੈਂਤ, ਗਵਾਰਾਂ ਹਾਸਾ
- d) ਚੁਕ ਮਰੇ ਜਾਂ ਖਾ ਮਰੇ

97.

'ਕਦਰ' ਸ਼ਬਦ ਲਈ ਹੇਠ ਲਿਖਿਆਂ ਵਿੱਚੋਂ ਢੁਕਵਾਂ ਵਿਰੋਧੀ ਸ਼ਬਦ ਚੁਣੋ :

- a) ਆਦਰ ਮਾਨ
- b) ਸਨਮਾਨ
- c) ਬੇਇੱਜਤੀ
- d) ਵਡਿਆਈ

98.

'ਕਚਿਆਈ' ਸ਼ਬਦ ਲਈ ਸਹੀ ਸਮਾਨਾਰਥਕ ਸ਼ਬਦ ਚੁਣੋ :

- a) ਤਰੁੱਟੀ
- b) ਨੁਕਸ
- c) ਕਮੀ
- d) ਉਪਰੋਕਤ ਸਾਰੇ ਹੀ

99.

ਪੰਜਾਬੀ ਵਿਆਕਰਨ ਦੇ ਸ਼ਬਦ-ਜੋੜਾਂ ਦੇ ਨਿਯਮਾਂ ਅਨੁਸਾਰ, ਪੰਜਾਬੀ ਸ਼ਬਦਾਂ ਦੇ ਅੰਤ ਵਿੱਚ 'ਯ' ਮੁਕਤਾ ਉਚਾਰਿਆ ਜਾਂਦਾ। ਸਹੀ ਵਿਕਲਪ ਚੁਣ ਕੇ ਖਾਲੀ ਸਥਾਨ ਭਰੋ।

- a) ਕਦੇ ਨਹੀਂ
- b) ਹਮੇਸ਼ਾਂ
- c) ਕਦੇ-ਕਦੇ
- d) ਦੋ ਵਾਰ

100.

'ਸਹਿ' ਅਗੇਤਰ ਲੱਗ ਕੇ ਬਣਨ ਵਾਲਾ ਸਹੀ ਸ਼ਬਦ ਚੁਣੋ :

- a) ਸਹਿਕ
- b) ਸਹਿਸ
- c) ਸਹਿਆ
- d) ਸਹਿਹੋਂਦ

101.

'ਆਗਿਆਕਾਰ' ਸ਼ਬਦ ਕਿਹੜੇ ਪਿਛੇਤਰ ਦੀ ਵਰਤੋਂ ਨਾਲ ਬਣਿਆ ਹੈ ?

- a) ਕਾਰ
- b) ਆਰ
- c) ਆਕਾਰ
- d) ਉਪਰੋਕਤ ਸਾਰੇ ਹੀ

102.

ਹੇਠ ਲਿਖੇ ਵਿਕਲਪਾਂ ਵਿੱਚੋਂ ਸਹੀ ਸ਼ਬਦ-ਜੋੜ ਚੁਣੋ:

- a) ਸ਼ਰਮਾਕਲ
- b) ਸ਼ਰਮਾਕਲ
- c) ਸਰਮਾਕਲ ✗
- d) ਸਰਮਾਕਲ ✗

103. ਹੇਠ ਲਿਖਿਆਂ ਵਿੱਚੋਂ ਕਿਹੜੇ ਕਥਨ 'ਕਿਰਿਆ', ਬਾਰੇ ਸਹੀ ਹਨ ?
- ਅਕਰਮਕ ਅਪੂਰਨ ਕਿਰਿਆ ਨਾਲ ਪੂਰਕ ਜਾਂ ਵਿਧੇਅਕੀ ਕਰਤਾ ਦਾ ਕੋਈ ਦੂਜਾ ਰੂਪ (ਦਰਜਾ, ਲੱਛਣ, ਹਾਲਤ) ਆਦਿ ਹੁੰਦਾ ਹੈ।
  - ਸਕਰਮਕ ਅਪੂਰਨ ਕਿਰਿਆ ਵਿੱਚ ਕਰਮ ਦਾ ਕੋਈ ਦੂਜਾ ਰੂਪ ਜਾਂ ਨਾਮ ਆਦਿ ਹੁੰਦਾ ਹੈ। ✓
- ਕਥਨ i, ਸਹੀ ਹੈ।
  - ਕਥਨ ii ਸਹੀ ਹੈ।
  - ਕਥਨ i ਤੇ ii ਦੋਨੋਂ ਸਹੀ ਹਨ।
  - ਕਥਨ i ਤੇ ii ਦੋਨੋਂ ਗਲਤ ਹਨ।

104. ਹੇਠ ਲਿਖੇ ਵਾਕ ਵਿੱਚੋਂ ਅਨਿਸ਼ਚੇਵਾਚਕ ਪੜਨਾਂਵ ਚੁਣੋ:

ਕੋਈ ਤੁਹਾਨੂੰ ਮਿਲਣ ਆਇਆ ਸੀ।'

- ਕੋਈ
- ਤੁਹਾਨੂੰ
- ਮਿਲਣ
- ਆਇਆ

105.

'ਸੁਬਕੀ' ਸ਼ਬਦ ਦਾ ਇੱਕ ਅਰਥ ਹੈ; 'ਸਿਸਕੀ', ਹੇਠ ਲਿਖਿਆਂ ਵਿੱਚੋਂ ਹੋਰ ਕਿਹੜਾ ਅਰਥ ਹੋ ਸਕਦਾ ਹੈ ?

- ਹਟਕੋਰਾ
- ਹਕਟੋਰਾ
- ਹਕਰੋਟਾ
- ਹਰਕੋਟਾ



~~106~~

L  
M  
N 6  
O  
P - 4  
Q  
R } 5  
S  
T - 9 - 3 = 6

106. If the 1st and 2nd letters of the word DEPRESSION are interchanged, then 3rd and 4th then 5th and 6th and so on. Which of the following will be 7th letter from the right?  
ਜੇਕਰ DEPRESSION ਸ਼ਬਦ ਦੇ ਪਹਿਲੇ ਅਤੇ ਦੂਜੇ ਅੱਖਰਾਂ ਨੂੰ ਬਦਲਿਆ ਜਾਂਦਾ ਹੈ, ਫਿਰ ਤੀਜੇ ਅਤੇ ਚੌਥੇ, ਪੰਜਵੇਂ ਅਤੇ ਛੇਵੇਂ ਅਤੇ ਇਸ ਤਰ੍ਹਾਂ ਹੀ ਅੱਗੇ ਅੱਖਰਾਂ ਨੂੰ ਬਦਲਿਆ ਜਾਂਦਾ ਹੈ। ਹੇਠਾਂ ਦਿੱਤੇ ਵਿੱਚੋਂ ਕਿਹੜਾ ਸੱਜੇ ਪਾਸੇ ਤੋਂ 7ਵਾਂ ਅੱਖਰ ਹੋਵੇਗਾ?

- a) R
- b) O
- c) P
- d) I

107. The letters L, M, N, O, P, Q, R, S, T in their order are substituted by integers 1 to 9 in that order. 4 is assigned to P. Difference between P and T is 5. Difference between N and T is 3. Which is the integer assigned to N?

ਅੱਖਰ L, M, N, O, P, Q, R, S, T ਨੂੰ ਉਹਨਾਂ ਦੇ ਕ੍ਰਮ ਅਨੁਸਾਰ ਅੰਕ 1 ਤੋਂ 9 ਦੁਆਰਾ ਬਦਲਿਆ ਜਾਂਦਾ ਹੈ। P ਨੂੰ 4 ਨਿਰਧਾਰਤ ਕੀਤਾ ਗਿਆ ਹੈ। P ਅਤੇ T ਵਿਚਕਾਰ ਅੰਤਰ 5 ਹੈ। N ਅਤੇ T ਵਿਚਕਾਰ ਅੰਤਰ 3 ਹੈ। N ਨੂੰ ਨਿਰਧਾਰਤ ਅੰਕ ਕਿਹੜਾ ਹੈ?

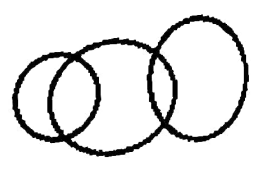
- a) 4
- b) 5
- c) 6
- d) 7

108. In the following each circle represents a group of things given below. From the four lettered diagrams below, choose the diagram which suits the correct relationship among the group of things given below :-

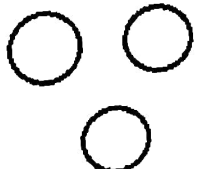


Musicians, Men, Women


ਹੇਠਾਂ ਦਿੱਤੇ ਵਿੱਚ ਹਰੇਕ ਚੱਕਰ ਹੇਠਾਂ ਦਿੱਤੀਆਂ ਚੀਜ਼ਾਂ ਦੇ ਸਮੂਹ ਵਿੱਚੋਂ ਇਕ ਸਮੂਹ ਨੂੰ ਦਰਸਾਉਂਦਾ ਹੈ। ਹੇਠਾਂ ਦਿੱਤੇ ਚਾਰ ਚਿੱਤਰਾਂ ਵਿੱਚੋਂ, ਉਹ ਚਿੱਤਰ ਚੁਣੋ ਜੋ ਹੇਠਾਂ ਦਿੱਤੀਆਂ ਚੀਜ਼ਾਂ ਦੇ ਸਮੂਹ ਵਿੱਚ ਸਹੀ ਸਬੰਧ ਦੇ ਅਨੁਕੂਲ ਹੈ :-  
ਸੰਗੀਤਕਾਰ, ਮਰਦ, ਔਰਤਾਂ



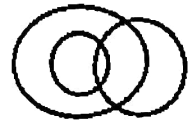
a)



b)



c)



d)

109. In this question arrange the given words in the order in which they appear in the dictionary and choose the most appropriate option below.

ਇਸ ਪ੍ਰਸ਼ਨ ਵਿੱਚ ਦਿੱਤੇ ਗਏ ਸ਼ਬਦਾਂ ਨੂੰ ਉਸ ਕ੍ਰਮ ਵਿੱਚ ਵਿਵਸਥਿਤ ਕਰੋ ਜਿਸ ਵਿੱਚ ਉਹ ਸ਼ਬਦਕੋਸ਼ (dictionary) ਵਿੱਚ ਦਿਖਾਈ ਦਿੰਦੇ ਹਨ ਅਤੇ ਹੇਠਾਂ ਸਭ ਤੋਂ ਢੁਕਵਾਂ ਵਿਕਲਪ ਚੁਣੋ।

- 1) Jetley  
2) Jainson  
3) Jacksons  
4) Jenson
- a) 1, 2, 3, 4  
b) 4, 3, 2, 1  
c) 3, 2, 4, 1  
d) 1, 4, 3, 2

3  
8:7  
9:0  
8:2

110. Reaching the place of meeting 20 minutes before 8.50 hrs Sumit found himself thirty minutes earlier than the man who came forty minutes late. What was the scheduled time of meeting ?

ਸੁਮਿਤ ਨੇ 8.50 ਵਜੇ ਮਿਲਣ ਵਾਲੀ ਥਾਂ 'ਤੇ 20 ਮਿੰਟ ਪਹਿਲਾਂ ਪਹੁੰਚ ਕੇ ਆਪਣੇ ਆਪ ਨੂੰ ਉਸ ਆਦਮੀ ਨਾਲੋਂ ਤੀਹ ਮਿੰਟ ਪਹਿਲਾਂ ਪਹੁੰਚਿਆ ਪਾਇਆ ਜੋ ਚਾਲੀ ਮਿੰਟ ਲੇਟ ਆਇਆ ਸੀ। ਮੀਟਿੰਗ ਦਾ ਨਿਰਧਾਰਿਤ ਸਮਾਂ ਕੀ ਸੀ ?

- a) 8.05  
b) 8.10  
c) 8.15  
d) 8.20

25 26 27 28 29

111. If the 25th of August in a particular year is Thursday, the number of Mondays in that year will be ?

ਜੇਕਰ ਕਿਸੇ ਇਕ ਸਾਲ ਵਿੱਚ 25 ਅਗਸਤ ਵੀਰਵਾਰ ਹੈ, ਤਾਂ ਇਸ ਮਹੀਨੇ ਵਿੱਚ ਕਿੰਨੇ ਸੋਮਵਾਰ ਹੋਣਗੇ ?

- a) 3  
b) 4  
c) 5  
d) 6

112. If  $A + B > C + D$ ,  $B + E = 2C$ ,  $C + D > B + E$  then it necessarily follows that ?

ਜੇਕਰ  $A + B > C + D$ ,  $B + E = 2C$ ,  $C + D > B + E$  ਤਾਂ ਹੇਠਾਂ ਦਿੱਤਾ ਗਿਆ ਜ਼ਰੂਰੀ ਤੌਰ 'ਤੇ ਇਸ ਦਾ ਅਨੁਸਰਣ ਕਰਦਾ ਹੈ ?

- a)  $A + B > 2E$   
b)  $A + B > 2C$   
c)  $A > C$   
d)  $A + B > 2D$

113. Which would be proper order of the following Units in ascending order ?

- 1) Million  
2) Lakhs  
3) Billion  
4) Crore  
5) Trillion

ਦਫ਼ਤੇ ਕ੍ਰਮ ਵਿੱਚ ਹੇਠ ਲਿਖੀਆਂ ਇਕਾਈਆਂ ਦਾ ਸਹੀ ਕ੍ਰਮ ਕੀ ਹੋਵੇਗਾ ?

- 1) ਮਿਲੀਅਨ  
2) ਲੱਖ  
3) ਅਰਬ  
4) ਕਰੋੜ  
5) ਟ੍ਰਿਲੀਅਨ

- a) 3, 1, 2, 4, 5  
b) 4, 3, 1, 2, 5  
c) 1, 2, 4, 3, 5  
d) 2, 1, 4, 3, 5

114.

A, B, C, D play a game of cards. A says to B, "If I give you 8 cards, you will have as many as C has and I shall have 3 less than what C has. Also if I take 6 cards from C, I shall have twice as many as D has. If B and D together have 50 cards, how many cards has C got. ?

$A - 8 = C + 3$

$B + 8 = C$

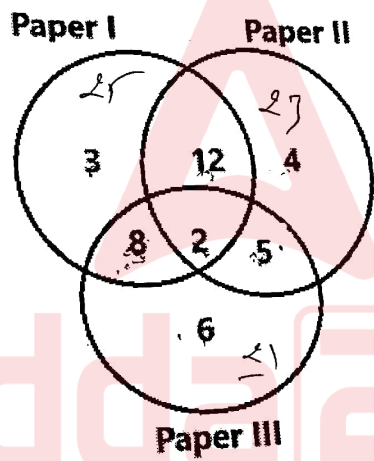
A, B, C, D ਤਾਸ ਖੇਡਦੇ ਹਨ। A B ਨੂੰ ਕਹਿੰਦਾ ਹੈ, "ਜੇਕਰ ਮੈਂ ਤੁਹਾਨੂੰ 8 ਕਾਰਡ ਦਿੰਦਾ ਹਾਂ, ਤਾਂ ਤੁਹਾਡੇ ਕੋਲ C ਕੋਲ ਜਿੰਨੇ ਕਾਰਡ ਹਨ ਅਤੇ ਮੇਰੇ ਕੋਲ C ਤੋਂ 3 ਘੱਟ ਕਾਰਡ ਹੋਣਗੇ। ਨਾਲ ਹੀ ਜੇਕਰ ਮੈਂ C ਤੋਂ 6 ਕਾਰਡ ਲੈਂਦਾ ਹਾਂ, ਤਾਂ ਮੇਰੇ ਕੋਲ D ਨਾਲੋਂ ਦੁੱਗਣੇ ਕਾਰਡ ਹੋਣਗੇ। ਜੇਕਰ B ਅਤੇ D ਕੋਲ 50 ਕਾਰਡ ਹਨ, ਤਾਂ C ਨੂੰ ਕਿੰਨੇ ਕਾਰਡ ਮਿਲੇ ਹਨ ?

- a) 40
- b) 30
- c) 20
- d) 35

115.

The numbers given inside the Venn Diagram below indicate the number of persons reading newspapers of the three types. The diagram is drawn after surveying 50 persons. In a population of 10,000 how many can be expected to read at least two newspapers ?

ਹੇਠਾਂ ਵੇਨ ਡਾਇਗ੍ਰਾਮ ਦੇ ਅੰਦਰ ਦਿੱਤੇ ਗਏ ਨੰਬਰ ਤਿੰਨ ਕਿਸਮਾਂ ਦੇ ਅਖਬਾਰਾਂ ਨੂੰ ਪੜ੍ਹਨ ਵਾਲੇ ਵਿਅਕਤੀਆਂ ਦੀ ਸੰਖਿਆ ਨੂੰ ਦਰਸਾਉਂਦੇ ਹਨ। 50 ਵਿਅਕਤੀਆਂ ਦਾ ਸਰਵੇਖਣ ਕਰਨ ਤੋਂ ਬਾਅਦ ਚਿੱਤਰ ਤਿਆਰ ਕੀਤਾ ਗਿਆ ਹੈ। 10,000 ਦੀ ਆਬਾਦੀ ਵਿੱਚ ਕਿੰਨੇ ਲੋਕਾਂ ਤੋਂ ਘੱਟੋ-ਘੱਟ ਦੋ ਅਖਬਾਰ ਪੜ੍ਹਨ ਦੀ ਉਮੀਦ ਕੀਤੀ ਜਾ ਸਕਦੀ ਹੈ ?



$$\begin{array}{r} 25 \\ 23 \\ 21 \\ \hline 69 \\ 27 \\ \hline 96 \end{array}$$

$$\begin{array}{r} 16 \\ 21 \\ \hline 37 \end{array}$$

$B + C = 20$

- a) 5000
- b) 5400
- c) 6000
- d) 6250

D7B

$$\begin{array}{r} 10000 \\ \times 0.675 \\ \hline 6750 \end{array}$$

$$\begin{array}{r} 250 \\ 27 \\ \hline 277 \\ 500 \times \\ \hline 13850 \end{array}$$

$$\begin{array}{r} 250 \\ 27 \\ \hline 277 \\ 6750 \end{array}$$

116. At a dinner party every two guests shared a bowl of rice between them, every three guests used a bowl of dal between them and every four used a bowl of meat between them. There were altogether 65 dishes. How many guests were present at the party ?

ਇੱਕ ਡਿਨਰ ਪਾਰਟੀ ਵਿੱਚ ਹਰ ਦੋ ਮਹਿਮਾਨ ਆਪਣੇ ਵਿਚਕਾਰ ਚੌਲਾਂ ਦਾ ਇੱਕ ਕਟੋਰਾ ਸਾਂਝਾ ਕਰਦੇ ਸਨ, ਹਰ ਤਿੰਨ ਮਹਿਮਾਨ ਆਪਣੇ ਵਿਚਕਾਰ ਇੱਕ ਕਟੋਰਾ ਦਾਲ ਦੀ ਵਰਤੋਂ ਕਰਦੇ ਸਨ ਅਤੇ ਹਰ ਚਾਰ ਨੇ ਆਪਣੇ ਵਿਚਕਾਰ ਮੀਟ ਦਾ ਇੱਕ ਕਟੋਰਾ ਵਰਤਿਆ ਸੀ। ਕੁੱਲ ਮਿਲਾ ਕੇ 65 ਪਕਵਾਨ ਸਨ। ਪਾਰਟੀ ਵਿੱਚ ਕਿੰਨੇ ਹੀ ਮਹਿਮਾਨ ਮੌਜੂਦ ਸਨ?

- a) 60  
 b) 80  
 c) 90  
 d) 50

117. Choose the option which is related to the third term in the same way as the second term is related to the first.

Mosquito: Malaria :: Rat : \_\_\_?\_\_\_

- a) Rabies  
 b) Typhoid  
 c) Plague  
 d) Dengue

ਉਹ ਵਿਕਲਪ ਚੁਣੋ ਜੋ ਤੀਜੇ ਪਦ ਨਾਲ ਉਸੇ ਤਰ੍ਹਾਂ ਸੰਬੰਧਿਤ ਹੈ ਜਿਵੇਂ ਕਿ ਦੂਜਾ ਪਦ ਪਹਿਲੇ ਨਾਲ ਸੰਬੰਧਿਤ ਹੈ।

ਮੱਛਰ 8ਮਲੇਰੀਆ 88ਚੂਹਾ 8 \_\_\_?\_\_\_

- a) ਰੇਬੀਜ਼  
 b) ਟਾਈਫਾਈਡ  
 c) ਪਲੇਗ  
 d) ਡੇਂਗੂ

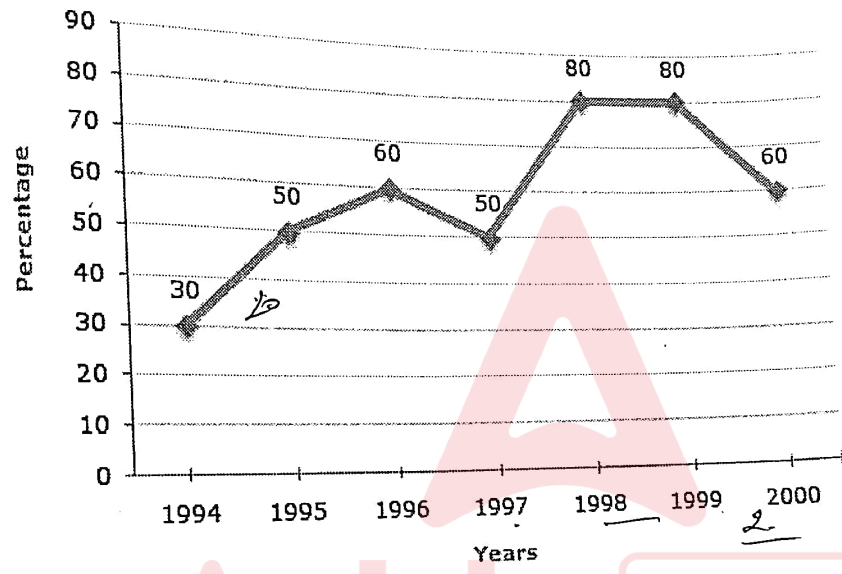
Adda247

118.

The following line graph gives the percentage of the number of candidates who qualified an examination out of the total number of candidates who appeared for the examination over a period of seven years from 1994 to 2000.

ਨਿਮਨਲਿਖਤ ਲਾਈਨ ਗ੍ਰਾਫ (line graph) 1994 ਤੋਂ 2000 ਤੱਕ ਸੱਤ ਸਾਲਾਂ ਦੀ ਮਿਆਦ ਵਿੱਚ ਪ੍ਰੀਖਿਆ ਲਈ ਹਾਜ਼ਰ ਹੋਣ ਵਾਲੇ ਉਮੀਦਵਾਰਾਂ ਦੀ ਕੁੱਲ ਗਿਣਤੀ ਵਿੱਚੋਂ ਪ੍ਰੀਖਿਆ ਪਾਸ ਕਰਨ ਵਾਲੇ ਉਮੀਦਵਾਰਾਂ ਦੀ ਗਿਣਤੀ ਦਾ ਪ੍ਰਤੀਸ਼ਤ ਦਿੰਦਾ ਹੈ।

Percentage of Candidates who qualified over those who Appeared in an Examination Over the Years  
ਸਾਲਾਂ ਦੇਰਾਨ ਕਿਸੇ ਇਮਤਿਹਾਨ ਵਿੱਚ ਹਾਜ਼ਰ ਹੋਣ ਲਈ ਯੋਗ ਉਮੀਦਵਾਰਾਂ ਦੀ ਪ੍ਰਤੀਸ਼ਤਤਾ



The difference between the percentages of candidates qualified to appeared was maximum in which of the following pairs of years?

ਪ੍ਰੀਖਿਆ ਵਿੱਚ ਹਾਜ਼ਰ ਹੋਏ ਅਤੇ ਯੋਗ ਉਮੀਦਵਾਰਾਂ ਦੀ ਪ੍ਰਤੀਸ਼ਤਤਾ ਵਿੱਚ ਅੰਤਰ ਵੱਧ ਤੋਂ ਵੱਧ ਇਹਨਾਂ ਵਿੱਚੋਂ ਕਿਹੜੇ ਸਾਲਾਂ ਵਿੱਚ ਸੀ ?

- a) 1994 and 1995
- b) 1997 and 1998
- c) 1998 and 1999
- d) 1999 and 2000

119. Complete the series:

ਲੜੀ ਨੂੰ ਪੂਰਾ ਕਰੋ

ZA<sub>5</sub>, Y<sub>4</sub>B, XC<sub>6</sub>, W<sub>3</sub>D, \_\_\_\_\_

- a) E<sub>7</sub>V
- b) V<sub>2</sub>E
- c) V<sub>5</sub>E
- d) V<sub>7</sub>E



120. Find the ten's digit in the expression  $99^2 - 89^2$ ?  
ਸਮੀਕਰਨ  $99^2 - 89^2$  ਵਿੱਚ ਦਸ ਦਾ ਅੰਕ ਲੱਭੋ?

- a) 1  
c) 9

- b) 8  
d) 0

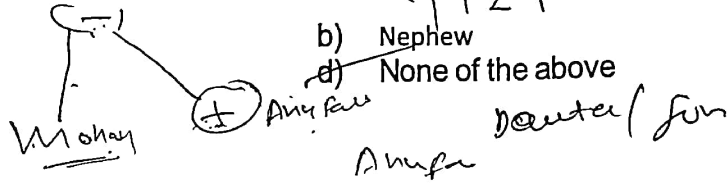
$$\begin{array}{r} 99 \\ - 89 \\ \hline 10 \end{array}$$

$$\begin{array}{r} 99 \\ \times 99 \\ \hline 891 \\ 990 \\ \hline 9801 \end{array}$$

121. Mohna says "Anu's father is the only son of my mother." How is Anu related to Mohna?

- a) uncle  
c) Brother

- b) Nephew  
d) None of the above



ਮੋਹਨਾ ਕਹਿੰਦੀ ਹੈ "ਅਨੂ ਦਾ ਪਿਤਾ ਮੇਰੀ ਮਾਂ ਦਾ ਇਕਲੋਤਾ ਪੁੱਤਰ ਹੈ।" ਅਨੂ ਦਾ ਮੋਹਨਾ ਨਾਲ ਕੀ ਸਬੰਧ ਹੈ?

- a) ਚਾਚਾ  
c) ਭਾਈ

- b) ਭਤੀਜਾ  
d) ਉੱਪਰ ਵਾਲਿਆਂ ਵਿੱਚੋਂ ਕੋਈ ਵੀ ਨਹੀਂ

122. Find the missing term in the following series?

- a) 49  
c) 51

- b) 50  
d) 52

ਹੇਠਾਂ ਦਿੱਤੀ ਲੜੀ ਵਿੱਚ ਅਗਲਾ ਨੰਬਰ ਲੱਭੋ?

2, 2, 5, 13, 28, ?

- a) 49  
c) 51

- b) 50  
d) 52

123. In this question there is relationship between two given words on one side of :: while another word is to be found from the given alternative having the same relation with this word as the words of the given pair bear. Choose the correct alternative:

ਇਸ ਪ੍ਰਸ਼ਨ ਵਿੱਚ :: ਦੇ ਖੱਬੇ ਪਾਸੇ ਦਿੱਤੇ ਦੋ ਸ਼ਬਦਾਂ ਵਿੱਚ ਇੱਕ ਸਬੰਧ ਹੈ, ਜਦੋਂ ਕਿ ਸੱਜੇ ਪਾਸੇ ਦਿੱਤੇ ਗਏ ਜੋੜੇ ਵਿੱਚੋਂ ਇੱਕ ਹੋਰ ਸ਼ਬਦ ਲੱਭਿਆ ਜਾਣਾ ਹੈ ਜਿਸਦਾ ਇਸ ਜੋੜੇ ਦੇ ਦਿੱਤੇ ਸ਼ਬਦ ਨਾਲ ਉਹੀ ਸਬੰਧ ਹੈ ਜੋ ਕਿ ਖੱਬੇ ਪਾਸੇ ਦਿੱਤੇ ਗਏ ਜੋੜੇ ਦੇ ਸ਼ਬਦਾਂ ਦੇ ਸਬੰਧ ਵਾਂਗ ਹੈ। ਸਹੀ ਵਿਕਲਪ ਚੁਣੋ:

Traveller: Journey :: Sailor : ?

- a) Water  
c) Voyage

- b) Ship  
d) Crew

124. In the following four words have been given, out of which three are alike in some manner, while fourth one is different. Choose the odd one. ?

- a) Manipur
- c) Assam
- b) Haryana
- d) Ladakh

ਨਿਮਨਲਿਖਤ ਵਿੱਚ ਚਾਰ ਸ਼ਬਦ ਦਿੱਤੇ ਗਏ ਹਨ, ਜਿਨ੍ਹਾਂ ਵਿੱਚੋਂ ਤਿੰਨ ਕਿਸੇ ਨਾ ਕਿਸੇ ਰੂਪ ਵਿੱਚ ਇੱਕੋ ਜਿਹੇ ਹਨ, ਜਦਕਿ ਚੌਥਾ ਵੱਖਰਾ ਹੈ। ਵੱਖਰੇ ਸ਼ਬਦ ਨੂੰ ਚੁਣੋ।?

- a) ਮਨੀਪੁਰ
- c) ਅਸਾਮ
- b) ਹਰਿਆਣਾ
- d) ਲੱਦਾਖ

28-5

125. Choose the odd numeral pair in the following ?

ਨਿਮਨਲਿਖਤ ਵਿੱਚ ਸੰਖਿਆਵਾਂ ਦੇ ਉਸ ਜੋੜੇ ਨੂੰ ਚੁਣੋ ਜੋ ਬਾਕੀਆਂ ਨਾਲੋਂ ਵੱਖਰਾ ਹੈ?

- a) (18,45)
- c) (29,82)
- b) (23,14)
- d) (45,27)

Teacher  
TAECEHR  
54-9

126. In a certain code, CONDEMN is written as CNQDMEN. How TEACHER will be written in that code ?

ਇੱਕ ਖਾਸ ਕੋਡ ਵਿੱਚ, CONDEMN ਨੂੰ CNQDMEN ਵਜੋਂ ਲਿਖਿਆ ਜਾਂਦਾ ਹੈ। ਉਸ ਕੋਡ ਵਿੱਚ TEACHER ਕਿਵੇਂ ਲਿਖਿਆ ਜਾਵੇਗਾ ?

- a) TAECEHR
- c) TAECHRE
- b) TCAEHER
- d) TAECHHR

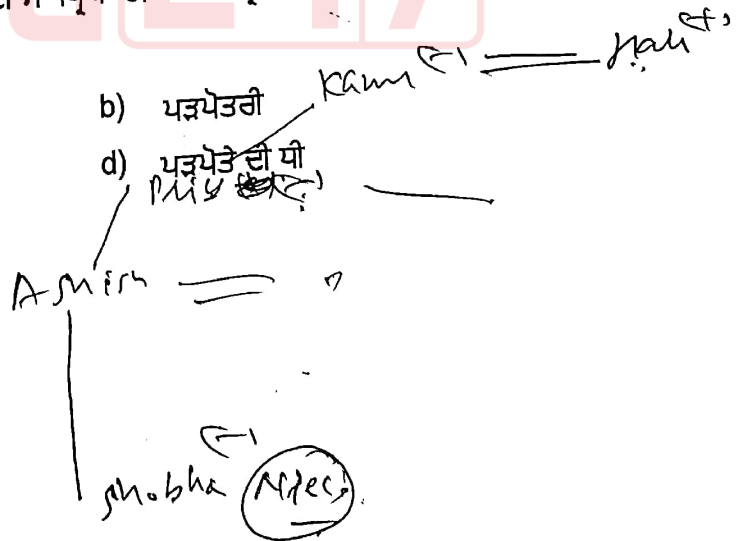
36+9

127. Shobha is niece of Ashish. Ashish's mother is Priya. Kamala is Priya's mother. Kamala's husband is Hari. How is Shobha related to Hari ?

- a) Daughter
- c) Grand niece
- b) Great grand daughter
- d) Great grandson's daughter

ਸ਼ੋਭਾ ਆਸ਼ੀਸ਼ ਦੀ ਭਤੀਜੀ ਹੈ। ਆਸ਼ੀਸ਼ ਦੀ ਮਾਂ ਪ੍ਰਿਯਾ ਹੈ। ਕਮਲਾ ਪ੍ਰਿਯਾ ਦੀ ਮਾਂ ਹੈ। ਕਮਲਾ ਦਾ ਪਤੀ ਹਰੀ ਹੈ। ਸ਼ੋਭਾ ਦਾ ਹਰੀ ਨਾਲ ਕੀ ਸਬੰਧ ਹੈ?

- a) ਧੀ
- c) ਪੋਤੀ ਭਤੀਜੀ





128. Study the following information and answer the query.

- i. Kailash, Govind, Harinder are intelligent;
- ii. Kailash, Rajesh, Jitendra are hard-working;
- iii. Rajesh, Harinder, Jitendra are honest.
- iv. Kailash, Govind, Jitendra are ambitious

Which of the following persons is neither honest nor hard-working but is ambitious ?

- a) Kailash  
b) Govind  
c) Rajesh  
d) Harinder

ਹੇਠਾਂ ਦਿੱਤੀ ਜਾਣਕਾਰੀ ਦਾ ਅਧਿਐਨ ਕਰੋ ਅਤੇ ਸਵਾਲ ਦਾ ਜਵਾਬ ਦਿਓ।

- v. ਕੈਲਾਸ਼, ਗੋਵਿੰਦ, ਹਰਿੰਦਰ ਬੁੱਧੀਮਾਨ ਹਨ;
- vi. ਕੈਲਾਸ਼, ਰਾਜੇਸ਼, ਜਤਿੰਦਰ ਮਿਹਨਤੀ ਹਨ;
- vii. ਰਾਜੇਸ਼, ਹਰਿੰਦਰ, ਜਤਿੰਦਰ ਇਮਾਨਦਾਰ ਹਨ.
- viii. ਕੈਲਾਸ਼, ਗੋਵਿੰਦ, ਜਤਿੰਦਰ ਅਭਿਲਾਸ਼ੀ ਹਨ

ਹੇਠ ਲਿਖਿਆਂ ਵਿੱਚੋਂ ਕਿਹੜਾ ਵਿਅਕਤੀ ਨਾ ਤਾਂ ਇਮਾਨਦਾਰ ਹੈ ਅਤੇ ਨਾ ਹੀ ਮਿਹਨਤੀ ਪਰ ਅਭਿਲਾਸ਼ੀ ਹੈ ?

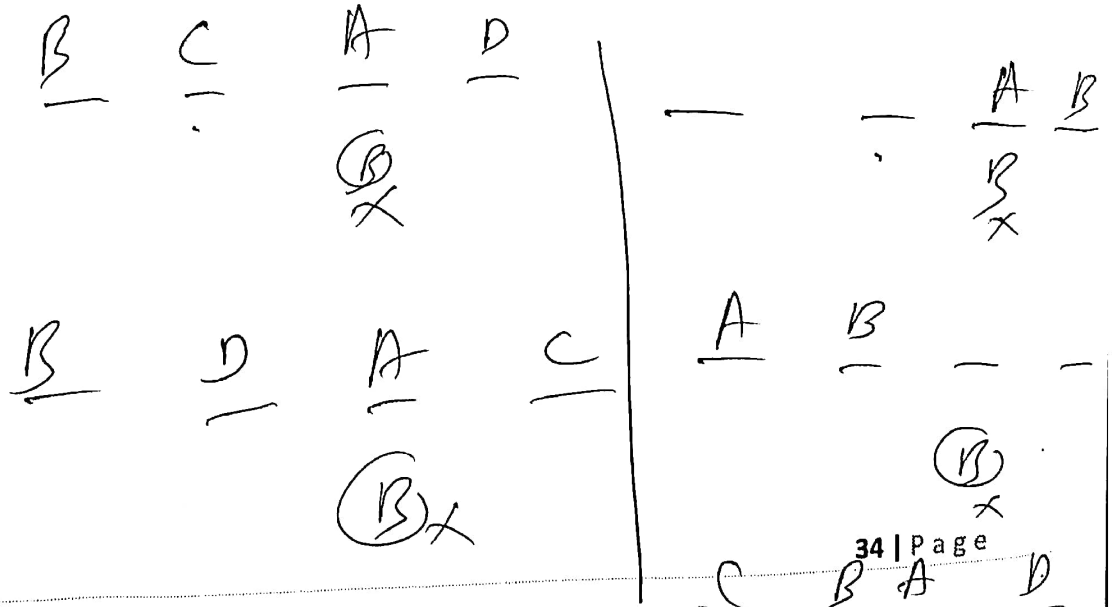
- a) ਕੈਲਾਸ਼  
b) ਗੋਵਿੰਦ  
c) ਰਾਜੇਸ਼  
d) ਹਰਿੰਦਰ

129. A,B,C,D are to be seated in a row. But C and D cannot be together. B cannot be at third place. If A and B are together, then which of the following must be necessarily true ?

- a) C is at first place  
b) D is at first place  
c) C is not at first place  
d) A is at third place

A, B, C, D ਨੂੰ ਇੱਕ ਕਤਾਰ ਵਿੱਚ ਬੈਠਣਾ ਹੈ। ਪਰ C ਅਤੇ D ਇਕੱਠੇ ਨਹੀਂ ਹੋ ਸਕਦੇ। B ਤੀਜੇ ਸਥਾਨ ਤੇ ਨਹੀਂ ਹੋ ਸਕਦਾ। ਜੇਕਰ A ਅਤੇ B ਇਕੱਠੇ ਹਨ, ਤਾਂ ਹੇਠ ਲਿਖਿਆਂ ਵਿੱਚੋਂ ਕਿਹੜਾ ਜ਼ਰੂਰੀ ਤੌਰ ਤੇ ਸਹੀ ਹੋਣਾ ਚਾਹੀਦਾ ਹੈ ?

- a) C ਪਹਿਲੇ ਸਥਾਨ 'ਤੇ ਹੈ  
b) D ਪਹਿਲੇ ਸਥਾਨ 'ਤੇ ਹੈ  
c) C ਪਹਿਲੇ ਸਥਾਨ 'ਤੇ ਨਹੀਂ ਹੈ  
d) A ਤੀਜੇ ਸਥਾਨ 'ਤੇ ਹੈ

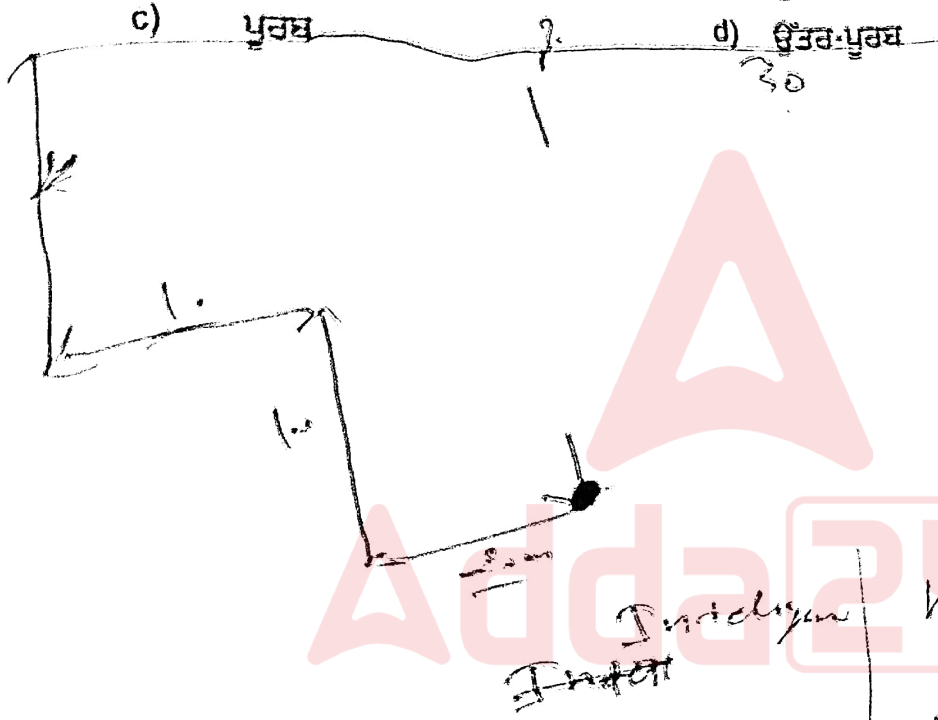


130. I am facing South. I turn right and walk 20 m. Then I turn right and walk 10 m. Then I turn left and walk 10 m. and then turning right I walk 20 m. Then I turn right again and walk 60 m. In which direction am I from starting point ?

- a) North
- b) North-West
- c) East
- d) North-East

ਮੇਰਾ ਮੂੰਹ ਦੱਖਣ ਵੱਲ ਹੈ। ਮੈਂ ਸੱਜੇ ਮੁੜਦਾ ਹਾਂ ਅਤੇ 20 ਮੀਟਰ ਤੁਰਦਾ ਹਾਂ। ਫਿਰ ਮੈਂ ਸੱਜੇ ਮੁੜਦਾ ਹਾਂ ਅਤੇ 10 ਮੀਟਰ ਤੁਰਦਾ ਹਾਂ। ਫਿਰ ਮੈਂ ਖੱਬੇ ਮੁੜਦਾ ਹਾਂ ਅਤੇ 10 ਮੀਟਰ ਤੁਰਦਾ ਹਾਂ। ਅਤੇ ਫਿਰ ਸੱਜੇ ਮੁੜ ਕੇ ਮੈਂ 20 ਮੀਟਰ ਤੁਰਦਾ ਹਾਂ। ਫਿਰ ਮੈਂ ਦੁਬਾਰਾ ਸੱਜੇ ਮੁੜਦਾ ਹਾਂ ਅਤੇ 60 ਮੀਟਰ ਤੁਰਦਾ ਹਾਂ। ਮੈਂ ਸ਼ੁਰੂਆਤੀ ਬਿੰਦੂ ਤੋਂ ਕਿਸ ਦਿਸ਼ਾ ਵਿੱਚ ਹਾਂ??

- a) ਉੱਤਰੀ
- b) ਉੱਤਰ-ਪੱਛਮ
- c) ਪੂਰਬ
- d) ਉੱਤਰ-ਪੂਰਬ



	Correct	Qn
North	<input checked="" type="checkbox"/>	c
North-West	<input type="checkbox"/>	c
East	<input type="checkbox"/>	c
North-East	<input checked="" type="checkbox"/>	c
South	<input type="checkbox"/>	c
South-West	<input type="checkbox"/>	c
West	<input type="checkbox"/>	c
South-East	<input type="checkbox"/>	c

131. VIRUS is an acronym for ?  
VIRUS ਸ਼ਬਦ ਹੇਠਾਂ ਲਿਖੇ ਦਾ ਸੰਖੇਪ ਰੂਪ ਹੈ?

- a) Vital Information Resource Under Seize  
b) Vital Information Resource Under Size  
c) Vital Information Remark Under Seize  
d) Vital Informative Resource Under Seize

132. Which of the following features in Microsoft Word allows you to automatically create a list of the headings in your document?

ਮਾਈਕਰੋਸਾਫਟ ਵਰਡ (Microsoft Word) ਵਿੱਚ ਹੇਠ ਲਿਖੀਆਂ ਵਿਸ਼ੇਸ਼ਤਾਵਾਂ ਵਿੱਚੋਂ ਕਿਹੜੀਆਂ ਵਿਸ਼ੇਸ਼ਤਾਵਾਂ ਤੁਹਾਨੂੰ ਆਪਣੇ ਦਸਤਾਵੇਜ਼ ਵਿੱਚ ਸਿਰਲੇਖਾਂ ਦੀ ਸੂਚੀ (list of the headings) ਆਪਣੇ ਆਪ ਬਣਾਉਣ ਦੀ ਆਗਿਆ ਦਿੰਦੀਆਂ ਹਨ ?

- a) Mail Merge  
b) Track Changes  
c) Table of Contents  
d) Word Count

133. Which of the following is the smallest unit of data in a computer?

ਕੰਪਿਊਟਰ ਵਿਚ ਡੇਟਾ ਦੀ ਸਭ ਤੋਂ ਛੋਟੀ ਇਕਾਈ ਕਿਹੜੀ ਹੈ?

- a) Bit  
b) Byte  
c) Nibble  
d) KB

134. VGA is abbreviation for ?

VGA ਹੇਠਾਂ ਲਿਖੇ ਦਾ ਸੰਖੇਪ ਰੂਪ ਹੈ ?

- a) Volatile Graphics Array  
b) Visual Graphics Array  
c) Video Graphics Adapter  
d) Video Graphics Array

135. A computer has a main memory of 960 Kbytes. What is the exact number of byte contained in this memory?

ਇੱਕ ਕੰਪਿਊਟਰ ਦੀ ਮੁੱਖ ਮੈਮੋਰੀ (main memory) 960 Kbytes ਹੈ। ਇਸ ਮੈਮੋਰੀ ਵਿੱਚ ਮੌਜੂਦ ਬਾਈਟਾਂ ਦੀ ਸਹੀ ਸੰਖਿਆ ਕਿੰਨੀ ਹੈ?

- a)  $960 \times 256$   
b)  $960 \times 512$   
c)  $960 \times 1024$   
d)  $960 \times 2048$

136. In what unit is the speed of a computer processor measured?

ਕੰਪਿਊਟਰ ਪ੍ਰੋਸੈਸਰ ਦੀ ਗਤੀ ਕਿਸ ਯੂਨਿਟ ਵਿੱਚ ਮਾਪੀ ਜਾਂਦੀ ਹੈ?

- a) Gigahertz  
b) Baud  
c) BPS  
d) MIPS

137. Which protocol is used to send email over the internet?  
ਇੰਟਰਨੈੱਟ ਤੇ ਈਮੇਲ ਭੇਜਣ ਲਈ ਕਿਹੜਾ ਪ੍ਰੋਟੋਕੋਲ ਵਰਤਿਆ ਜਾਂਦਾ ਹੈ?

- a) HTTP
- c) FTP
- b) SMTP
- d) DNS

138. How many bits are there in (Internet Protocol Version-6) IPV6 ?  
IPV6 (ਇੰਟਰਨੈੱਟ ਪ੍ਰੋਟੋਕੋਲ ਸੰਸਕਰਣ-6) ਵਿੱਚ ਕਿੰਨੇ ਬਿੱਟ ਹਨ?

- a) 32
- c) 128
- b) 64
- d) 256

139. Which of the following is a Common gender ?

- a) Enemy
- c) Tree
- b) Room
- d) Box

140. Which of the following is a Personal Pronoun ?

- a) Whom
- c) That
- b) He
- d) Which

141. Which of the following is not correct use of Adjectives ?

- a) She tried all the plans
- c) I gave him a little piece of advice
- b) Is there any money in your purse ?
- d) He showed many courage in the battlefield

142. Which of the following is not correct use of preposition?

- a) The girls are sitting on the benches
- c) The box fell on the table
- b) I shall come back by 7 O'clock
- d) The train is on time.

143. Spellings of which word are correct?

- a) Unnecesary
- c) Occurence
- b) Encyclopedias
- d) Reminiscence

Encyclopedias    Encyclopedias

pedia    Unnere  
one  
unnecessary  
unnecessary  
occurrence

144. Choose one of the following options that means the opposite of the given word;

- a) Reverse
- c) Abundant
- b) plenty
- d) Scarce

Encyclopedias    Copious:

pedia    lead  
plenty  
Scarce

145. The word Perennial stands for
- a) Assert  
b) Implore  
c) Prudence  
d) Endless
146. Choose the Correct sentence.
- a) His advise is ~~very~~ valuable  
b) In train, I gave <sup>me</sup> ~~my~~ <sup>for</sup> berth to a child ~~X~~  
c) Beat up the yoke of egg properly  
d) Mike to drink Mother Dairy milk ~~X~~  
*would*
147. Which of the following means "Resemble a parent" ?
- a) Take after  
b) Take away ~~X~~  
c) Take down  
d) Take up
148. "To die in harness" means.
- a) To commit suicide  
b) To die enjoying horse ride ~~X~~  
c) To die while in office  
d) To die falling from mountain ~~X~~
149. Which of the following is an Abstract noun ?
- a) Copper  
b) Beauty ~~X~~  
c) Team  
d) Umbrella ~~X~~
150. Which of the following is a right way of writing plural form of a word ?
- a) Crys  
b) Stomaches ~~X~~  
c) Geese  
d) Commander-In-Chiefs ~~X~~

Adda247

Stomache