

PSSSB

Previous Year Paper
Excise Inspector
21 May, 2023



Booklet **Set - D**

No. :

627840

Instructions :

1. Do not open this booklet until you are instructed to do so.
2. Use of calculator, mobile phone or any other electronic device is strictly NOT allowed.
3. Carefully fill-in your correct Roll Number and correct Question Paper Booklet Series in the OMR Answer sheet and darken the corresponding bubbles failing which the OMR answer sheet may NOT be evaluated.
4. Handover the OMR answer sheet to the invigilator after the examination is over.
5. The question paper comprises of **TWO PARTS** : In **PART-A** there are 50 multiple choice questions and in **PART-B** there are 100 multiple choice questions. Select the right / appropriate choice from the options given in each question. Each correct answer will carry one mark. Maximum marks for the **PART-A** are 50 and for **PART-B** are 100.
6. **There is NO NEGATIVE marking in PART-A of the question paper. However, there is NEGATIVE marking in PART-B of the question paper and 0.25 marks will be deducted for each wrong answer.**
7. Time limit for the test is **2½ hours (150 minutes)**.
8. Do not fold / spoil the OMR answer sheet. Do not make stray marks on the OMR answer sheet.
9. For rough work, the space marked 'Rough Work' at the end of question booklet may be used.
10. OMR Answer Sheet is not to be taken out of the Examination Hall. Any candidate found doing so would be expelled from the examination and the matter will be reported to the police.
11. Kindly check your question booklet and OMR answer sheet before starting answering. Make sure that no page or question is missing from the question booklet or the OMR answer sheet is damaged. If any defect is found in the question booklet or OMR answer sheet, the same should be got replaced from the invigilator within **10 minutes** of the start of examination.
12. Please note that the paper is bilingual, hence efforts have been made to translate in Punjabi language from the original paper which was finalised in English language first. In case of any doubt in Punjabi version of the paper, candidates are expected to look into the English version of the paper which shall be considered as final for the evaluation purpose.

ਪੁਸਤਿਕਾ

ਹਦਾਇਤਾਂ :

1. ਇਸ ਪੁਸਤਿਕਾ ਨੂੰ ਉਦੋਂ ਤੱਕ ਨਾ ਖੋਲ੍ਹੋ ਜਦੋਂ ਤੱਕ ਤੁਹਾਨੂੰ ਅਜਿਹਾ ਕਰਨ ਦੀ ਹਦਾਇਤ ਨਹੀਂ ਦਿੱਤੀ ਜਾਂਦੀ।
2. ਕੈਲਕੂਲੇਟਰ, ਮੋਬਾਈਲ ਫੋਨ ਜਾਂ ਕਿਸੇ ਹੋਰ ਇਲੈਕਟ੍ਰਾਨਿਕ ਯੰਤਰ ਦੀ ਵਰਤੋਂ ਦੀ ਸਖਤੀ ਨਾਲ ਇਜਾਜ਼ਤ ਨਹੀਂ ਹੈ।
3. ਓ.ਐੱਮ.ਆਰ. ਉੱਤਰ ਪੱਤਰੀ ਵਿੱਚ ਆਪਣਾ ਸਹੀ ਰੋਲ ਨੰਬਰ ਅਤੇ ਸਹੀ ਪ੍ਰਸ਼ਨ ਪੁਸਤਿਕਾ ਲੜੀ ਨੂੰ ਧਿਆਨ ਨਾਲ ਭਰੋ ਅਤੇ ਸੰਬੰਧਿਤ ਬੁਲਬੁਲੇ ਨੂੰ ਗੂੜ੍ਹਾ ਕਰੋ ਜਿਸ ਵਿੱਚ ਅਸਫਲ ਰਹਿਣ ਨਾਲ ਓ.ਐੱਮ.ਆਰ. ਉੱਤਰ ਪੱਤਰੀ ਦਾ ਮੁਲਾਂਕਣ ਨਹੀਂ ਕੀਤਾ ਜਾ ਸਕਦਾ ਹੈ।
4. ਇਮਤਿਹਾਨ ਖਤਮ ਹੋਣ ਤੋਂ ਬਾਅਦ ਓ.ਐੱਮ.ਆਰ. ਉੱਤਰ ਪੱਤਰੀ ਨੂੰ ਨਿਗਰਾਨ ਨੂੰ ਸੌਂਪ ਦਿਓ।
5. ਪ੍ਰਸ਼ਨ ਪੱਤਰ ਵਿੱਚ ਦੋ **PART** ਹਨ : **PART-A** ਵਿੱਚ 50 ਬਹੁ-ਚੋਣ ਵਾਲੇ ਪ੍ਰਸ਼ਨ ਹਨ ਅਤੇ **PART-B** ਵਿੱਚ 100 ਬਹੁ-ਚੋਣ ਵਾਲੇ ਪ੍ਰਸ਼ਨ ਹਨ। ਹਰੇਕ ਪ੍ਰਸ਼ਨ ਵਿੱਚ ਦਿੱਤੇ ਗਏ ਵਿਕਲਪਾਂ ਵਿੱਚੋਂ ਸਹੀ / ਉਚਿਤ ਚੋਣ ਚੁਣੋ। ਹਰੇਕ ਸਹੀ ਉੱਤਰ ਦਾ ਇੱਕ ਅੰਕ ਹੋਵੇਗਾ। **PART-A** ਲਈ ਅਧਿਕਤਮ ਅੰਕ 50 ਹਨ ਅਤੇ **PART-B** ਲਈ 100 ਹਨ।
6. **PART-A** ਪ੍ਰਸ਼ਨ ਪੱਤਰ ਵਿੱਚ ਕੋਈ ਨੈਗੇਟਿਵ ਮਾਰਕਿੰਗ ਨਹੀਂ ਹੈ। **PART-B** ਪ੍ਰਸ਼ਨ ਪੱਤਰ ਵਿੱਚ ਨੈਗੇਟਿਵ ਮਾਰਕਿੰਗ ਹੈ ਅਤੇ ਹਰੇਕ ਗਲਤ ਜਵਾਬ ਲਈ 0.25 ਅੰਕ ਕੱਟੇ ਜਾਣਗੇ।
7. ਟੈਸਟ ਲਈ ਸਮਾਂ ਸੀਮਾ 2½ ਘੰਟੇ (150 ਮਿੰਟ) ਹੈ।
8. ਓ.ਐੱਮ.ਆਰ. ਉੱਤਰ ਪੱਤਰੀ ਨੂੰ ਫੋਲਡ / ਖਰਾਬ ਨਾ ਕਰੋ। ਓ.ਐੱਮ.ਆਰ. ਉੱਤਰ ਪੱਤਰੀ 'ਤੇ ਧੱਬਾ ਨਾ ਲਗਾਓ।
9. ਫਾਲਤੂ ਕੰਮ ਲਈ, ਪ੍ਰਸ਼ਨ ਪੁਸਤਿਕਾ ਦੇ ਅੰਤ ਵਿੱਚ 'ਰੱਠ ਵਰਕ' ਵਜੋਂ ਚਿੰਨ੍ਹਿਤ ਥਾਂ ਦੀ ਵਰਤੋਂ ਕਰੋ।
10. ਓ.ਐੱਮ.ਆਰ. ਉੱਤਰ ਪੱਤਰੀ ਨੂੰ ਪ੍ਰੀਖਿਆ ਹਾਲ ਤੋਂ ਬਾਹਰ ਨਹੀਂ ਲਿਆ ਜਾਣਾ ਚਾਹੀਦਾ ਹੈ। ਜੇਕਰ ਕੋਈ ਵੀ ਉਮੀਦਵਾਰ ਅਜਿਹਾ ਕਰਦਾ ਪਾਇਆ ਗਿਆ ਤਾਂ ਉਸ ਨੂੰ ਇਮਤਿਹਾਨ ਵਿੱਚੋਂ ਕੱਢ ਦਿੱਤਾ ਜਾਵੇਗਾ ਅਤੇ ਮਾਮਲੇ ਦੀ ਸੂਚਨਾ ਪੁਲਿਸ ਨੂੰ ਦਿੱਤੀ ਜਾਵੇਗੀ।
11. ਕਿਰਪਾ ਕਰਕੇ ਜਵਾਬ ਦੇਣਾ ਸ਼ੁਰੂ ਕਰਨ ਤੋਂ ਪਹਿਲਾਂ ਆਪਣੀ ਪ੍ਰਸ਼ਨ ਪੁਸਤਿਕਾ ਅਤੇ ਓ.ਐੱਮ.ਆਰ. ਉੱਤਰ ਪੱਤਰੀ ਦੀ ਜਾਂਚ ਕਰੋ। ਯਕੀਨੀ ਬਣਾਓ ਕਿ ਪ੍ਰਸ਼ਨ ਪੁਸਤਿਕਾ ਵਿੱਚੋਂ ਕੋਈ ਪੰਨਾ ਜਾਂ ਸਵਾਲ ਗਾਇਬ ਨਹੀਂ ਹੈ ਜਾਂ ਓ.ਐੱਮ.ਆਰ. ਉੱਤਰ ਪੱਤਰੀ ਖਰਾਬ ਨਹੀਂ ਹੈ। ਜੇਕਰ ਪ੍ਰਸ਼ਨ ਪੁਸਤਿਕਾ ਜਾਂ ਓ.ਐੱਮ.ਆਰ. ਉੱਤਰ ਪੱਤਰੀ ਵਿੱਚ ਕੋਈ ਨੁਕਸ ਪਾਇਆ ਜਾਂਦਾ ਹੈ, ਤਾਂ ਉਸਨੂੰ ਪ੍ਰੀਖਿਆ ਸ਼ੁਰੂ ਹੋਣ ਦੇ 10 ਮਿੰਟਾਂ ਦੇ ਅੰਦਰ ਅੰਦਰ ਜਾਂਚਕਰਤਾ ਤੋਂ ਤਬਦੀਲ ਕਰਵਾ ਲੈਣ।
12. ਕਿਰਪਾ ਕਰਕੇ ਨੋਟ ਕਰੋ ਕਿ ਇਹ ਪੇਪਰ ਦੋਭਾਸ਼ੀ ਹੈ, ਇਸ ਲਈ ਪਹਿਲਾਂ ਅੰਗਰੇਜ਼ੀ ਭਾਸ਼ਾ ਵਿੱਚ ਫਾਈਨਲ ਕੀਤੇ ਗਏ ਅਸਲ ਪੇਪਰ ਤੋਂ ਪੰਜਾਬੀ ਭਾਸ਼ਾ ਵਿੱਚ ਅਨੁਵਾਦ ਕਰਨ ਦੀ ਕੋਸ਼ਿਸ਼ ਕੀਤੀ ਗਈ ਹੈ। ਪੇਪਰ ਦੇ ਪੰਜਾਬੀ ਸੰਸਕਰਣ ਵਿੱਚ ਕੋਈ ਸ਼ੱਕ ਹੋਣ ਦੀ ਸਥਿਤੀ ਵਿੱਚ, ਉਮੀਦਵਾਰਾਂ ਤੋਂ ਪੇਪਰ ਦੇ ਅੰਗਰੇਜ਼ੀ ਸੰਸਕਰਣ ਨੂੰ ਵੇਖਣ ਦੀ ਉਮੀਦ ਕੀਤੀ ਜਾਂਦੀ ਹੈ ਜਿਸ ਨੂੰ ਮੁਲਾਂਕਣ ਦੇ ਉਦੇਸ਼ ਲਈ ਅੰਤਿਮ ਮੰਨਿਆ ਜਾਵੇਗਾ।

Open this booklet only when instructed

PART - A

1. ਗੜਵਾ ਜਾਂ ਕਮੰਡਲ ਦੇ ਅਰਥਾਂ ਵਜੋਂ ਹੇਠ ਲਿਖਿਆਂ ਵਿੱਚੋਂ ਕਿਹੜਾ ਸ਼ਬਦ ਵਰਤਿਆ ਜਾ ਸਕਦਾ ਹੈ ?
a) ਗਡੂਆ b) ਚਿਰਮਚੀ c) ਬੱਠਲ d) ਗੰਡ
2. ਗਰੀਬ ਜਾਂ ਕੰਗਾਲ ਦੇ ਅਰਥਾਂ ਵਜੋਂ ਹੇਠ ਲਿਖਿਆਂ ਵਿੱਚੋਂ ਕਿਹੜਾ ਸ਼ਬਦ ਵਰਤਿਆ ਜਾ ਸਕਦਾ ਹੈ ?
a) ਮਸਕੀਨ b) ਦੁਹਾਜੂ c) ਬੇਰੋਜ਼ਗਾਰ d) ਬਦਕਿਸਮਤ
3. 'ਜਾਤ ਦੀ ਕੋਹੜ-ਕਿਰਲੀ ਸ਼ਤੀਰਾਂ ਨਾਲ ਜੱਟੇ' ਅਖਾਣ ਦਾ ਅਰਥ ਹੈ :
a) ਕਿਸੇ ਨੀਵੇਂ ਬੰਦੇ ਦਾ ਔਕਾਤ ਤੋਂ ਬਾਹਰ ਹੋ ਕੇ ਸੋਚਣਾ c) ਵੱਡੇ ਬੰਦਿਆਂ ਦਾ ਕਾਰ-ਵਿਹਾਰ ਛੋਟਿਆਂ ਨਾਲ ਹੀ ਚਲਦਾ ਹੈ
b) ਛੋਟੀ-ਵੱਡੀ ਜਾਤ ਵਿਚ ਕੋਈ ਫਰਕ ਨਹੀਂ ਹੁੰਦਾ d) ਛੋਟਾ ਬੰਦਾ ਛੋਟੀ ਰੰਗ ਬਦਲਦਾ ਹੈ
4. ਵਿਸਰਾਮ ਚਿੰਨ੍ਹਾਂ ਦੇ ਪੱਖੋਂ ਹੇਠ ਲਿਖਿਆਂ ਵਿੱਚੋਂ ਕਿਹੜਾ ਵਾਕ ਬਿਲਕੁਲ ਸਹੀ ਹੈ ?
a) ਰਾਮ ਦੇਵੀ ਨੇ ਹੱਥ ਨਾਲ ਇਸ਼ਾਰਾ ਕਰਦਿਆਂ ਕਿਹਾ, "ਵੀਰ ਰੋਟੀ ਪਾਈ ਛਕ ਕੇ ਜਾਣਾ।"
b) ਰਾਮ ਦੇਵੀ ਨੇ ਹੱਥ ਨਾਲ ਇਸ਼ਾਰਾ ਕਰਦਿਆਂ ਕਿਹਾ, "ਵੀਰ, ਰੋਟੀ-ਪਾਈ ਛਕ ਕੇ ਜਾਣਾ।"
c) ਰਾਮ ਦੇਵੀ ਨੇ ਹੱਥ ਨਾਲ ਇਸ਼ਾਰਾ ਕਰਦਿਆਂ ਕਿਹਾ, "ਵੀਰ ਰੋਟੀ ਪਾਈ ਛਕ ਕੇ ਜਾਣਾ।"
d) ਰਾਮ ਦੇਵੀ ਨੇ ਹੱਥ ਨਾਲ ਇਸ਼ਾਰਾ ਕਰਦਿਆਂ ਕਿਹਾ- ਵੀਰ, "ਰੋਟੀ-ਪਾਈ ਛਕ ਕੇ ਜਾਣਾ।"
5. 'ਗੁਰਵਿੰਦਰ ਕਿਤਾਬ ਲੈਣ ਬਜ਼ਾਰ ਗਿਆ ਸੀ' ਵਾਕ ਦਾ ਸੁੱਧ ਅੰਗਰੇਜ਼ੀ ਅਨੁਵਾਦ ਹੈ :
a) Gurvinder has gone to the market to buy a book. ✓
b) Gurvinder was gone to the market to buy a book.
c) Gurvinder had gone to the market to buy a book.
d) Gurvinder gone to the market to buy a book.
6. 'ਅੱਖਾਂ ਵਿਚ ਘਸੁੰਨ ਦੇ ਕੇ ਰੋਣਾ' ਮੁਹਾਵਰੇ ਦਾ ਅਰਥ ਹੈ :
a) ਬਹੁਤ ਪਛਤਾਉਣਾ b) ਬਿਨਾਂ ਕਾਰਨ ਰੋਣਾ c) ਝੂਠਾ-ਮੂਠਾ ਰੋਣਾ d) ਸੱਚਾ ਬਣਨ ਲਈ ਰੋਣਾ
7. 'ਖੇਤੀ ਦਾ ਤਸੀਲੋਂ ਹੋ ਆਉਣਾ' ਮੁਹਾਵਰੇ ਦਾ ਅਰਥ ਹੈ :
a) ਮੂਰਖ ਦਾ ਮੁਖੀ ਬਣ ਜਾਣਾ c) ਖੇਤੀ ਗੱਲੋਂ ਆਪਣੇ ਵਿਚ ਵੱਡੀ ਵਿਸ਼ੇਸ਼ਤਾ ਮੰਨ ਲੈਣਾ
b) ਕੁਰਖਤ ਸੁਭਾਅ ਵਾਲਾ ਬਣ ਜਾਣਾ d) ਬੇਅਕਲ ਦਾ ਅਫ਼ਸਰ ਲੱਗ ਜਾਣਾ
8. 'ਗੁੰਦੇ ਸਿਰ 'ਤੇ ਕੰਘੀ ਫੇਰਨਾ' ਮੁਹਾਵਰੇ ਦਾ ਅਰਥ ਹੈ :
a) ਸਿੰਗਾਰੇ ਹੋਏ ਨੂੰ ਹੋਰ ਸਜਾਉਣਾ c) ਬੇਅਰਥ ਕੰਮ ਕਰਨਾ
b) ਕਿਸੇ ਦੇ ਕੀਤੇ ਕਰਾਏ ਦਾ ਜਸ ਆਪ ਖੱਟਣਾ d) ਸਿਰੇ ਦਾ ਨਕਾਰਾ ਕੰਮ ਕਰਨਾ
9. 'ਚੰਗਿਆੜਿਆਂ' ਸ਼ਬਦ ਦੀ ਵਿਆਕਰਨਕ ਪਛਾਣ ਹੈ :
a) ਇਕਵਚਨ ਇਸਤਰੀ ਲਿੰਗ b) ਬਹੁਵਚਨ ਪੁਲਿੰਗ c) ਇਕਵਚਨ ਪੁਲਿੰਗ d) ਬਹੁਵਚਨ ਇਸਤਰੀ ਲਿੰਗ
10. 'ਕਰਜ਼' ਸ਼ਬਦ ਦੀ ਵਿਆਕਰਨਕ ਪਛਾਣ ਹੈ :
a) ਇਕਵਚਨ ਇਸਤਰੀ ਲਿੰਗ b) ਬਹੁਵਚਨ ਪੁਲਿੰਗ c) ਇਕਵਚਨ ਪੁਲਿੰਗ d) ਬਹੁਵਚਨ ਇਸਤਰੀ ਲਿੰਗ
11. ਫ੍ਰੈਜ਼ 'ਚੋਂ ਪੈਨਸ਼ਨ ਪਾ ਚੁੱਕੇ ਕੁਲਦੀਪ ਚੰਦ ਨੇ ਪਿੰਡ ਦੀ ਸੱਥ ਵਿਚ ਜੁੜੇ ਲੋਕਾਂ ਨੂੰ ਆਪਣੀ ਬਟਾਲੀਅਨ ਦੇ ਕਈ ਕਿੱਸੇ ਸੁਣਾਏ। ਇਸ ਵਾਕ ਵਿਚ ਇਕਵਚਨ ਸ਼੍ਰੇਣੀ ਦੇ ਕਿੰਨੇ ਨਾਂਵ ਆਏ ਹਨ ?
a) ਪੰਜ b) ਛੇ c) ਸੱਤ d) ਅੱਠ
12. ਪ੍ਰੇਮ, ਈਰਖਾ, ਸਾੜਾ, ਲੋਭ, ਮੋਹ, ਹੰਕਾਰ ਤੇ ਹੋਰ ਪਤਾ ਨਹੀਂ ਕਿੰਨਾ ਰੁਝ ਬੰਦੇ ਦੀ ਮਿੱਟੀ ਵਿਚ ਰਲੇ ਹੋਏ ਨੇ। ਇਸ ਵਾਕ ਵਿਚ ਕਿੰਨੇ ਭਾਵ ਵਾਚਕ ਸ਼੍ਰੇਣੀ ਦੇ ਨਾਂਵ ਆਏ ਹਨ ?
a) ਛੇ b) ਸੱਤ c) ਅੱਠ d) ਨੌਂ
13. 'ਇੰਜੜ' ਸ਼ਬਦ ਦੀ ਵਿਆਕਰਨਕ ਪਛਾਣ ਹੈ :
a) ਇਕਵਚਨ ਪੁਲਿੰਗ ਆਮ ਨਾਂਵ c) ਇਕਵਚਨ ਇਸਤਰੀ ਲਿੰਗ ਆਮ ਨਾਂਵ
b) ਬਹੁਵਚਨ ਪੁਲਿੰਗ ਇਕੱਠ ਵਾਚਕ ਨਾਂਵ d) ਇਕਵਚਨ ਪੁਲਿੰਗ ਭਾਵ ਵਾਚਕ ਨਾਂਵ
14. 'ਡੋਲਚੀਆਂ' ਸ਼ਬਦ ਦੀ ਵਿਆਕਰਨਕ ਪਛਾਣ ਹੈ :
a) ਇਕਵਚਨ ਪੁਲਿੰਗ ਆਮ ਨਾਂਵ c) ਬਹੁਵਚਨ ਇਸਤਰੀ ਲਿੰਗ ਆਮ ਨਾਂਵ
b) ਬਹੁਵਚਨ ਇਸਤਰੀ ਲਿੰਗ ਵਸਤ ਵਾਚਕ ਨਾਂਵ d) ਇਕਵਚਨ ਪੁਲਿੰਗ ਭਾਵ ਵਾਚਕ ਨਾਂਵ

15. ਪਹਿਲਾਂ ਸਾਰੇ ਆਪੋ-ਆਪਣੇ ਵਿਚਾਰ ਰੱਖਣਗੇ ਫਿਰ ਮੈਂ ਆਪਣੀ ਕੋਈ ਰਾਇ ਦਿਆਂਗਾ। ਇਸ ਵਾਕ ਵਿਚ ਕ੍ਰਮਵਾਰ ਅਨਿਸਚੇਵਾਚਕ ਅਤੇ ਨਿੱਜਵਾਚਕ ਪੜਨਾਂਵ ਦੀ ਪਛਾਣ ਕਰੋ।
 a) ਸਾਰੇ, ਆਪਣੀ b) ਆਪੋ-ਆਪਣੀ, ਕੋਈ c) ਕੋਈ, ਸਾਰੇ d) ਕੋਈ, ਮੈਂ
16. ਜਿਹੜਾ ਕੋਈ ਵੀ ਇਸ ਠੱਗ ਦੀ ਮਦਦ ਕਰੇਗਾ, ਉਸ ਨਾਲ ਵੀ ਉਹੀ ਸਲੂਕ ਕੀਤਾ ਜਾਵੇਗਾ ਜੇ ਇਸ ਨਾਲ ਹੋ ਰਿਹਾ ਹੈ। ਇਸ ਵਾਕ ਵਿਚ ਕ੍ਰਮਵਾਰ ਸੰਬੰਧਵਾਚਕ ਅਤੇ ਅਨਿਸਚੇਵਾਚਕ ਪੜਨਾਂਵ ਦੀ ਪਛਾਣ ਕਰੋ।
 a) ਜਿਹੜਾ, ਕੋਈ b) ਜਿਹੜਾ, ਠੱਗ c) ਕੋਈ, ਉਸ d) ਜਿਹੜਾ, ਨਾਲ
17. ਹੇਠ ਲਿਖਿਆਂ ਵਿੱਚੋਂ ਉਸ ਵਿਕਲਪ ਨੂੰ ਚੁਣੋ ਜੋ ਸ਼ਬਦ-ਜੋੜਾਂ ਅਤੇ ਵਾਕ ਬਣਤਰ ਪੱਖੋਂ ਸਹੀ ਹੈ :
 a) ਰੱਬ ਜਾਣਦੀ ਹੈ ਕਿ ਮੈਂ ਉਸਦਾ ਬੁਰਾ ਨਹੀਂ ਕੀਤਾ। c) ਤੇਰਾ ਕੋਟ ਬਹੁਤ ਸੁਹਣਾ ਹੈ।
 b) ਚੰਗਾ ਭਲਾ ਬੰਦਾ ਵੀ ਇਸ ਮੌਸਮ ਵਿਚ ਬੀਮਾਰ ਹੈ। d) ਰਵੀ ਦਿੱਲੀ ਗਿਆ ਹੈ।
18. ਹੇਠ ਲਿਖਿਆਂ ਵਿੱਚੋਂ ਉਸ ਵਿਕਲਪ ਨੂੰ ਚੁਣੋ ਜੋ ਸ਼ਬਦ-ਜੋੜਾਂ ਅਤੇ ਵਾਕ ਬਣਤਰ ਪੱਖੋਂ ਸਹੀ ਹੈ :
 a) ਗਾਂ ਘਾਹ ਚੁਗ ਰਹੀ ਹੈ। c) ਮੇਰੇ ਕੰਨ ਵਿਚ ਦਰਦ ਹੈ।
 b) ਉਸ ਨੇ ਮੇਰੇ ਹੱਥ ਦੇ ਅੰਗੂਠੇ ਫੜ ਲਏ। d) ਮੇਰੀਆਂ ਅੱਖਾਂ ਵਿਚ ਅੱਥਰੂ ਆ ਗਿਆ।
19. ਹੇਠ ਲਿਖਿਆਂ ਵਿੱਚੋਂ ਕਿਹੜਾ ਸ਼ਬਦ 'ਅਪ' ਅਗੇਤਰ ਅਨੁਸਾਰ ਸਹੀ ਹੈ :
 a) ਅਪਣਾਉਣ b) ਅਪਰਾਧੀ c) ਅਪਜਸ d) ਅਪਵਿੱਤਰ
20. ਹੇਠ ਲਿਖਿਆਂ ਵਿੱਚੋਂ ਕਿਹੜਾ ਸ਼ਬਦ 'ਬੰਦ' ਪਿਛੇਤਰ ਅਨੁਸਾਰ ਸਹੀ ਨਹੀਂ ਹੈ :
 a) ਕਮਰਬੰਦ b) ਨਜ਼ਰਬੰਦ c) ਕਲਮਬੰਦ d) ਸੀਲਬੰਦ
21. "ਸੂਰਾ ਸੇ ਪਹਿਚਾਨੀਐ ਜੁ ਲਰੈ ਦੀਨ ਕੇ ਹੇਤਾ" ਦਾ ਕਰਤਾ ਹੈ :
 a) ਗੁਰੂ ਗੋਬਿੰਦ ਸਿੰਘ ਜੀ b) ਭਗਤ ਕਬੀਰ ਜੀ c) ਗੁਰੂ ਨਾਨਕ ਦੇਵ ਜੀ d) ਭਗਤ ਰਵਿਦਾਸ ਜੀ
22. ਗੁਰੂ ਗ੍ਰੰਥ ਸਾਹਿਬ ਵਿਚ ਗੁਰੂ ਤੇਗ਼ ਬਹਾਦਰ ਜੀ ਦੀਆਂ ਰਚਨਾਵਾਂ ਦੀ ਗਿਣਤੀ ਹੈ :
 a) 59 ਸ਼ਬਦ ਤੇ 57 ਸਲੋਕ b) 57 ਸ਼ਬਦ ਤੇ 59 ਸਲੋਕ c) 56 ਸ਼ਬਦ ਤੇ 59 ਸਲੋਕ d) 59 ਸ਼ਬਦ ਤੇ 59 ਸਲੋਕ
23. ਗੁਰੂ ਗੋਬਿੰਦ ਸਿੰਘ ਜੀ ਨੇ ਚੰਡੀ ਦੀ ਵਾਰ ਵਿਚ ਛੰਦ ਵਰਤਿਆ ਹੈ :
 a) ਦਵਇਆ b) ਨਿਸ਼ਾਨੀ c) ਸਿਰਖੰਡੀ d) ਨਿਸ਼ਾਨੀ ਤੇ ਸਿਰਖੰਡੀ
24. 'ਬਦਸੂਰਤ, ਬਦਸ਼ਕਲ, ਕੇੜਾ, ਤੈੜਾ' ਸ਼ਬਦ ਦਾ ਸਮਾਨਾਰਥੀ ਹੈ :
 a) ਬੇਅਕਲ b) ਕਰੂਪ c) ਸੁੰਦਰ d) ਹਸੀਨ
25. ਗੁਰੂ ਅੰਗਦ ਦੇਵ ਜੀ ਦੇ ਸ੍ਰੀ ਗੁਰੂ ਗ੍ਰੰਥ ਸਾਹਿਬ ਵਿਚਲੀਆਂ ਵਾਰਾਂ ਵਿੱਚ _____ ਅੰਕਿਤ ਹਨ।
 a) ਸ਼ਬਦ b) ਘੋੜੀਆਂ c) ਸਲੋਕ d) ਵਾਰਾਂ
26. "ਜਉ ਤਉ ਪ੍ਰੇਮ ਖੇਲਣ ਕਾ ਚਾਉ॥ ਸਿਰੁ ਧਰਿ ਤਲੀ ਗਲੀ ਮੇਰੀ ਆਉ॥" ਕਿਸ ਦੀ ਰਚਨਾ ਹੈ :
 a) ਗੁਰੂ ਗੋਬਿੰਦ ਸਿੰਘ b) ਭਗਤ ਕਬੀਰ c) ਗੁਰੂ ਤੇਗ਼ ਬਹਾਦਰ d) ਗੁਰੂ ਨਾਨਕ ਦੇਵ
27. ਅਨੰਦਪੁਰ ਸਾਹਿਬ ਦੀ ਸਥਾਪਨਾ ਕਿਸ ਗੁਰੂ ਵੱਲੋਂ ਕੀਤੀ ਗਈ :
 a) ਗੁਰੂ ਗੋਬਿੰਦ ਸਿੰਘ ਜੀ b) ਗੁਰੂ ਤੇਗ਼ ਬਹਾਦਰ ਜੀ c) ਗੁਰੂ ਹਰਿਗੋਬਿੰਦ ਜੀ d) ਗੁਰੂ ਹਰ ਰਾਇ ਜੀ
28. ਪੰਜਾਬੀ ਭਾਸ਼ਾ ਦੀ ਛੋਟੀ ਤੋਂ ਛੋਟੀ ਅਰਥਗੀਣ ਇਕਾਈ ਹੈ :
 a) ਭਾਵੰਸ਼ b) ਸ਼ਬਦ c) ਵਾਕ d) ਧੁਨੀ
29. ਪੰਜਾਬੀ ਭਾਸ਼ਾ ਦੀ ਸੂਰ ਨੂੰ ਅੰਕਿਤ ਕਰਨ ਵਾਲੇ ਲਿਪਾਂਕ ਹਨ :
 a) ਘ, ਧ, ਝ, ਞ, ਟ b) ਗ, ਰ, ਜ, ਕ, ਚ c) ਕ, ਰ, ਯ, ਚ, ਬ d) ਵ, ਮ, ਬ, ਗ, ਯ
30. ਪੰਜਾਬੀ ਵਿੱਚ ਲਗਾਖਰਾਂ ਦੀ ਗਿਣਤੀ ਹੈ :
 a) ਦੋ b) ਤਿੰਨ c) ਚਾਰ d) ਪੰਜ
31. 'ਸੂਰਜ ਗ੍ਰਹਿਣ' ਕਿਸ ਕਿਸਮ ਦਾ ਸਮਾਸੀ ਸ਼ਬਦ ਹੈ :
 a) ਨਾਂਵ + ਨਾਂਵ b) ਨਾਂਵ + ਵਿਸ਼ੇਸ਼ਣ c) ਨਾਂਵ + ਕਿਰਿਆ + ਕਿਰਿਆ d) ਵਿਸ਼ੇਸ਼ਣ + ਵਿਸ਼ੇਸ਼ਣ
32. 'ਝੁੰਮਰ' ਲਈ ਵਿਸ਼ੇਸ਼ ਸਾਜ਼ ਕਿਹੜਾ ਹੈ :
 a) ਚਿਪਟਾ b) ਖੜਤਾਲਾ c) ਢੋਲ d) ਅਲਗੋਜ਼ੇ

33. "ਕਵਨੁ ਸੁ ਗੁਪਤਾ ਕਵਨੁ ਸੁ ਮੁਕਤਾ ॥
ਕਵਨੁ ਸੁ ਅੰਤਰਿ ਬਾਹਰਿ ਜੁਗਤਾ ॥
ਕਵਨੁ ਸੁ ਆਵੈ ਕਵਨੁ ਸੁ ਜਾਇ ॥
ਕਵਨੁ ਸੁ ਤ੍ਰਿਭਵਣਿ ਰਹਿਆ ਸਮਾਇ ॥"
ਸਤਰਾਂ ਕਿਸ ਬਾਣੀ ਦੀਆਂ ਹਨ :
- ✓ a) ਜਪੁਜੀ ਸਾਹਿਬ b) ਦੱਖਣੀ ਓਅੰਕਾਰ c) ਸਿੰਧ ਗੋਸਟਿ d) ਆਸਾ ਦੀ ਵਾਰ
34. Agonise ਸ਼ਬਦ ਦਾ ਢੁੱਕਵਾਂ ਪੰਜਾਬੀ ਰੂਪ ਹੈ :
- a) ਤਮਾਸਾ b) ਤਾਲੀਆਂ c) ਤਾੜਨਾ d) ਤੜਫਾਉਣਾ
35. ਪ੍ਰਾਚੀਨ ਕਾਲ ਵਿੱਚ ਪੰਜਾਬ ਨੂੰ ਟੱਕ ਦੇਸ਼ ਕਿਉਂ ਕਿਹਾ ਜਾਂਦਾ ਸੀ :
- a) ਟੱਕ ਕਬੀਲੇ ਦੇ ਕਾਰਨ b) ਟੱਕ ਰਾਜੇ ਦੇ ਕਾਰਨ c) ਟੱਕ ਸਿੱਕੇ ਦੇ ਕਾਰਨ d) ਟੱਕ ਪਹਾੜ ਦੇ ਕਾਰਨ
36. ਬਿਕਰਮੀ ਸੰਮਤ ਹੁੰਦਾ ਹੈ :
- a) ਇਸਵੀ ਸਾਲ ਤੋਂ 57 ਸਾਲ ਅੱਗੇ c) ਇਸਵੀ ਸਾਲ ਤੋਂ 60 ਸਾਲ ਅੱਗੇ
b) ਇਸਵੀ ਸਾਲ ਤੋਂ 59 ਸਾਲ ਅੱਗੇ d) ਇਸਵੀ ਸਾਲ ਤੋਂ 62 ਸਾਲ ਅੱਗੇ
37. ਵਿਸਰਾਮ ਚਿੰਨ੍ਹਾਂ ਦੇ ਪੱਖੋਂ ਹੇਠ ਲਿਖਿਆਂ ਵਿੱਚੋਂ ਕਿਹੜਾ ਵਾਕ ਬਿਲਕੁਲ ਸਹੀ ਹੈ ?
- a) "ਮੈਂ ਉਡੀਕਾਂ ਤੈਨੂੰ ਬੱਸ ਅੱਡੇ ਉੱਤੇ? ਰਮਿੰਦਰ ਨੇ ਪੁੱਛਿਆ। ਨਹੀਂ ਮੈਂ ਆਪੇ ਆਜ਼ੂ।" ਸਤਿੰਦਰ ਦਾ ਉੱਤਰ ਸੀ। ✓
b) "ਮੈਂ ਉਡੀਕਾਂ ਤੈਨੂੰ ਬੱਸ ਅੱਡੇ ਉੱਤੇ। ਰਮਿੰਦਰ ਨੇ ਪੁੱਛਿਆ। ਨਹੀਂ ਮੈਂ ਆਪੇ ਆਜ਼ੂ।" ਸਤਿੰਦਰ ਦਾ ਉੱਤਰ ਸੀ।
c) "ਮੈਂ ਉਡੀਕਾਂ ਤੈਨੂੰ ਬੱਸ ਅੱਡੇ ਉੱਤੇ?" ਰਮਿੰਦਰ ਨੇ ਪੁੱਛਿਆ। "ਨਹੀਂ ਮੈਂ ਆਪੇ ਆਜ਼ੂ।" ਸਤਿੰਦਰ ਦਾ ਉੱਤਰ ਸੀ। ✓
d) "ਮੈਂ ਉਡੀਕਾਂ ਤੈਨੂੰ ਬੱਸ ਅੱਡੇ ਉੱਤੇ? ਰਮਿੰਦਰ ਨੇ ਪੁੱਛਿਆ। ਨਹੀਂ ਮੈਂ ਆਪੇ ਆਜ਼ੂ।" ਸਤਿੰਦਰ ਦਾ ਉੱਤਰ ਸੀ।
38. 'ਕਦੇ ਮਰ ਚਿੜੀਏ ਕਦੇ ਜਿਉ ਚਿੜੀਏ' ਦਾ ਅਰਥ ਹੈ :
- a) ਚਮਤਕਾਰੀ ਹੋਣਾ b) ਜਾਦੂ ਕਰਨਾ c) ਚਿੜੀਆਂ ਨੂੰ ਸਮਝਣਾ d) ਜੁਥਾਨ ਦਾ ਪੱਕਾ ਨਾ ਹੋਣਾ
39. 'ਗਰਬੜੇ' ਦਾ ਤਿਉਹਾਰ ਕਿਸ ਇਲਾਕੇ ਵਿੱਚ ਮਨਾਇਆ ਜਾਂਦਾ ਹੈ :
- a) ਮਾਝੇ ਵਿੱਚ b) ਮਾਲਵੇ ਵਿੱਚ c) ਪੁਆਧ ਵਿੱਚ d) ਸਾਰੇ ਪੰਜਾਬ ਵਿੱਚ
40. 'ਜਿਉਣਾ ਮੌਤ' ਪੰਜਾਬ ਦੇ ਕਿਸ ਖੇਤਰ ਨਾਲ ਸੰਬੰਧਿਤ ਲੋਕ-ਨਾਇਕ ਹੈ :
- a) ਮਾਝਾ b) ਮਾਲਵਾ c) ਪੁਆਧ d) ਦੁਆਬਾ
41. ਹੇਠ ਲਿਖਿਆਂ ਵਿੱਚੋਂ ਕਿਹੜੀ ਉਪਭਾਸ਼ਾ ਪੂਰਬੀ ਪੰਜਾਬ ਵਿੱਚ ਨਹੀਂ ਬੋਲੀ ਜਾਂਦੀ ?
- a) ਪੁਆਧੀ b) ਮਾਝੀ c) ਦੁਆਬੀ d) ਸਰਾਇਕੀ
42. /ਗ/ ਧੁਨੀ ਦੀ ਪਛਾਣ ਹੈ :
- a) ਹੇਠੀ ✓ b) ਤਾਲਵੀ c) ਕੇਮਲ ਤਾਲਵੀ d) ਉਲਟ-ਜੀਭੀ
43. ਪੰਜਾਬੀ ਦੀ ਕਿਸ ਉਪਭਾਸ਼ਾ ਵਿੱਚ ਪੰਜ ਨਾਸਕੀ ਵਿਅੰਜਨ ਮੌਜੂਦ ਹਨ :
- a) ਮਾਝੀ b) ਮਲਵਈ c) ਦੁਆਬੀ d) ਪੁਆਧੀ
44. ਪੰਜਾਬੀ ਭਾਸ਼ਾ ਦਾ ਜਨਮ-ਸ੍ਰੋਤ ਹੈ :
- a) ਸੰਸਕ੍ਰਿਤ b) ਹਿੰਦੀ c) ਬ੍ਰਹਮੀ d) ਅਰਬੀ
45. ਸਤਲੁਜ ਅਤੇ ਬਿਆਸ ਦਰਿਆਵਾਂ ਦੇ ਵਿਚਕਾਰ ਬੋਲੀ ਜਾਣ ਵਾਲੀ ਭਾਸ਼ਾ ਹੈ :
- a) ਸਰਾਇਕੀ b) ਪੁਆਧੀ c) ਪੋਠੋਹਾਰੀ d) ਦੁਆਬੀ
46. ਹੇਠਾਂ ਕਿਹੜਾ ਲੋਕ ਕਾਵਿ-ਰੂਪ ਦਿੱਤਾ ਗਿਆ ਹੈ ?
ਵਹਿੰਗੀ ਉੱਤੇ ਵਹਿੰਗੀ ਆ
ਰੱਬ ਸਾਨੂੰ ਧੀ ਵੇ ਦਿੱਤੀ ਜਿਹੜੀ ਪੁੱਤਰਾਂ ਤੋਂ ਮਹਿੰਗੀ ਆ।
- a) ਸੁਹਾਗ b) ਬੋਲੀ c) ਛੰਦ d) ਮਾਹੀਆ
47. ਹੇਠ ਲਿਖਿਆਂ ਵਿੱਚੋਂ ਕਿਹੜਾ ਚਰਖੇ ਦਾ ਹਿੱਸਾ ਨਹੀਂ ?
- a) ਚਰਮਖ b) ਤਕਲਾ ✓ c) ਢੋਲ d) ਗੁੰਬੜ

899
23
876

48. ਵਾਗ ਫੜਾਈ ਦੀ ਰਸਮ ___ ਕਰਦੀਆਂ ਹਨ।
a) ਭੂਆ b) ਭੈਣਾਂ c) ਭਰਜਾਈਆਂ d) ਆਂਢਣਾ-ਗੁਆਢਣਾਂ
49. ੬੮੯ ਵਿੱਚੋਂ ਜੇਕਰ ੨੩ ਘਟਾ ਦਿੱਤੇ ਜਾਣ ਤਾਂ ___ ਬਚੇਗਾ।
a) ੮੮੮ b) ੬੬੬ c) ੬੭੮ d) ੬੮੮
50. ਹੇਠ ਲਿਖਿਆਂ ਵਿੱਚੋਂ ਕਿਹੜੇ ਮਹੀਨਿਆਂ ਦਾ ਸੰਬੰਧ ਸਰਦ ਰੁੱਤ ਨਾਲ ਹੈ।
a) ਅੱਸੂ-ਕੱਤਕ b) ਜੇਠ-ਹਾੜ c) ਚੇਤ-ਵਸਾਖ d) ਸਾਉਣ-ਭਾਦੋਂ

PART – B

1. She _____ been to America, has she? Choose the appropriate verb.
a) hadn't b) hasn't c) haven't d) has
2. Select the word which is closest to the opposite in meaning of the underlined word.
It is not difficult to take note of his immaculate style of writing.
a) impeccable b) unsullied c) exquisite d) flawed
3. Translate the below sentence into Punjabi and choose the correct option.
The most useful training of my career was given to me by my boss.
a) ਮੇਰਾ ਬੌਸ ਮੈਨੂੰ ਮੇਰੇ ਕਰੀਅਰ ਦੀ ਸਭ ਤੋਂ ਉਪਯੋਗੀ ਸਿਖਲਾਈ ਦੇ ਰਿਹਾ ਹੈ।
b) ਮੇਰਾ ਬੌਸ ਮੈਨੂੰ ਮੇਰੇ ਕਰੀਅਰ ਦੀ ਸਭ ਤੋਂ ਉਪਯੋਗੀ ਸਿਖਲਾਈ ਦਿੰਦਾ ਹੈ।
c) ਮੇਰੇ ਕਰੀਅਰ ਦੀ ਸਭ ਤੋਂ ਉਪਯੋਗੀ ਸਿਖਲਾਈ ਮੈਨੂੰ ਮੇਰੇ ਬੌਸ ਦੁਆਰਾ ਦਿੱਤੀ ਗਈ ਸੀ।
d) ਮੇਰਾ ਬੌਸ ਮੈਨੂੰ ਮੇਰੇ ਕਰੀਅਰ ਦੀ ਸਭ ਤੋਂ ਉਪਯੋਗੀ ਸਿਖਲਾਈ ਦੇ ਰਿਹਾ ਹੈ।
4. 'ਨੈਹਰ, ਕਚਹਿਰੀ, ਪੀਗ, ਗੋਬੀ, ਸੌਂਹ, ਜੇਹੜਾ, ਕੇਹੜਾ, ਪੈਹਰ' ਸ਼ਬਦਾਂ ਦੇ ਸੁੱਧ ਰੂਪ ਹਨ :
a) ਨਹਿਰ, ਕਚਹਿਰੀ, ਪੀਗ, ਗੋਬੀ, ਸਹੁੰ, ਜੇਹੜਾ, ਕਿਹੜਾ, ਪੈਹਰ।
b) ਨੈਹਰ, ਕਚਹਿਰੀ, ਪੀਂਘ, ਗੋਬੀ, ਸਹੁੰ, ਜੇਹੜਾ, ਕਿਹੜਾ, ਪੈਹਰ।
c) ਨੈਹਰ, ਕਚਹਿਰੀ, ਪੀਂਘ, ਗੋਬੀ, ਸਹੁੰ, ਜਿਹੜਾ, ਕੇਹੜਾ, ਪੈਹਰ।
d) ਨਹਿਰ, ਕਚਹਿਰੀ, ਪੀਂਘ, ਗੋਬੀ, ਸਹੁੰ, ਜਿਹੜਾ, ਕਿਹੜਾ, ਪਹਿਰ।
5. ਮੁੰਡਾ ਕਲਮ ਘੜਦਾ ਹੈ।
ਵਾਕ ਵਿੱਚੋਂ ਮੁੱਖ ਕਿਰਿਆ ਕਿਹੜੀ ਹੈ ?
a) ਮੁੰਡਾ -b) ਘੜਦਾ c) ਘੜਦਾ ਹੈ d) ਹੈ
6. 'ਅਣਵਿਆਹਿਆ' ਸ਼ਬਦ ਵਿੱਚੋਂ ਪਿਛੇਤਰ ਚੁਣੋ।
a) ਇਆ b) ਵਿਆਹ c) ਅਣ d) ਹਿਆ
7. 'ਕੁਚੱਜ' ਸ਼ਬਦ ਵਿੱਚੋਂ ਅਗੇਤਰ ਕਿਹੜਾ ਹੈ ?
a) ਚੱਜ b) ਕੁ c) ਆ d) ਚੱਜਾ
8. 'ਬਦਖੇਈ' ਸ਼ਬਦ ਕਿਸ ਸ਼੍ਰੇਣੀ ਨਾਲ ਸੰਬੰਧਿਤ ਹੈ :
a) ਆਮ ਨਾਂਵ b) ਭਾਵ ਵਾਚਕ ਨਾਂਵ c) ਇਕੱਠ ਵਾਚਕ ਨਾਂਵ d) ਵਸਤ ਵਾਚਕ ਨਾਂਵ
9. ਉਸਨੇ ਕੁੜੀ ਨੂੰ ਕਿਤਾਬ ਦਿੱਤੀ। ਵਾਕ ਵਿਚ 'ਉਸਨੇ' ਹੈ :
a) ਇਕਵਚਨ, ਕਰਤਾ, ਪਰਖਵਾਚੀ ਪੜਨਾਂਵ c) ਇਕਵਚਨ, ਕਰਤਾ, ਨਿਸ਼ਚੇਵਾਚਕ ਪੜਨਾਂਵ
b) ਇਕਵਚਨ, ਕਰਮ, ਪੁਰਖਵਾਚੀ ਪੜਨਾਂਵ d) ਪੁਲਿੰਗ, ਨਿਸ਼ਚੇਵਾਚਕ ਪੜਨਾਂਵ
10. 'ਦੁਆਬੀਆ' ਦਾ ਇਸਤਰੀ ਲਿੰਗ ਹੈ :
a) ਦੁਆਬਣ b) ਦੁਆਬੀ c) ਦੁਆਬੇ d) ਦੁਆਬਿਆ
11. 'ਘੜੀਆਂ ਪਲਾਂ 'ਤੇ ਹੋਣਾ' ਮੁਹਾਵਰੇ ਦਾ ਭਾਵ-ਅਰਥ ਹੈ :
a) ਵਕਤ ਦਾ ਬਹੁਤ ਖਿਆਲ ਰੱਖਣਾ b) ਮਰਨ ਕਿਨਾਰੇ ਹੋਣਾ c) ਡੰਗ ਟਪਾਉਣਾ d) ਬਿਮਾਰੀ ਵਿੱਚੋਂ ਰਾਜ਼ੀ ਹੋਣਾ
12. 'ਕਾਰੀਗਰ' ਦਾ ਵਿਰੋਧਾਰਥਕ ਸ਼ਬਦ ਹੈ :
a) ਬੰਕਾਰ b) ਬੇਰੁਜ਼ਗਾਰ c) ਅਨਾੜੀ d) ਆਜੜੀ

899
23
876

48. ਵਾਗ ਫੜਾਈ ਦੀ ਰਸਮ ___ ਕਰਦੀਆਂ ਹਨ।
a) ਭੂਆ b) ਭੈਣਾਂ c) ਭਰਜਾਈਆਂ d) ਆਂਦਣ-ਗੁਆਂਦਣਾਂ
49. ੬੮੯ ਵਿੱਚੋਂ ਜੇਕਰ ੨੩ ਘਟਾ ਦਿੱਤੇ ਜਾਣ ਤਾਂ ___ ਬਚੇਗਾ।
a) ੯੯੯ b) ੬੬੬ c) ੬੭੮ d) ੬੮੮
50. ਹੇਠ ਲਿਖਿਆਂ ਵਿੱਚੋਂ ਕਿਹੜੇ ਮਹੀਨਿਆਂ ਦਾ ਸੰਬੰਧ ਸਰਦ ਰੁੱਤ ਨਾਲ ਹੈ।
a) ਅੱਸੂ-ਕੱਤਕ b) ਜੇਠ-ਹਾੜ c) ਚੇਤ-ਵਸਾਖ d) ਸਾਉਣ-ਭਾਦੋਂ

PART – B

1. She _____ been to America, has she? Choose the appropriate verb.
a) hadn't b) hasn't c) haven't d) has
2. Select the word which is closest to the opposite in meaning of the underlined word.
It is not difficult to take note of his immaculate style of writing.
a) impeccable b) unsullied c) exquisite d) flawed
3. Translate the below sentence into Punjabi and choose the correct option.
The most useful training of my career was given to me by my boss.
a) ਮੇਰਾ ਬੌਸ ਮੈਨੂੰ ਮੇਰੇ ਕਰੀਅਰ ਦੀ ਸਭ ਤੋਂ ਉਪਯੋਗੀ ਸਿਖਲਾਈ ਦੇ ਰਿਹਾ ਹੈ।
b) ਮੇਰਾ ਬੌਸ ਮੈਨੂੰ ਮੇਰੇ ਕਰੀਅਰ ਦੀ ਸਭ ਤੋਂ ਉਪਯੋਗੀ ਸਿਖਲਾਈ ਦਿੰਦਾ ਹੈ।
c) ਮੇਰੇ ਕਰੀਅਰ ਦੀ ਸਭ ਤੋਂ ਉਪਯੋਗੀ ਸਿਖਲਾਈ ਮੈਨੂੰ ਮੇਰੇ ਬੌਸ ਦੁਆਰਾ ਦਿੱਤੀ ਗਈ ਸੀ।
d) ਮੇਰਾ ਬੌਸ ਮੈਨੂੰ ਮੇਰੇ ਕਰੀਅਰ ਦੀ ਸਭ ਤੋਂ ਉਪਯੋਗੀ ਸਿਖਲਾਈ ਦੇ ਰਿਹਾ ਹੈ।
4. 'ਨੇਹਰ, ਕਚਹਿਰੀ, ਪੀਗ, ਗੋਬੀ, ਸੌਂਹ, ਜੇਹੜਾ, ਕੇਹੜਾ, ਪੈਹਰ' ਸ਼ਬਦਾਂ ਦੇ ਸੁੱਧ ਰੂਪ ਹਨ :
a) ਨਹਿਰ, ਕਚਹਿਰੀ, ਪੀਗ, ਗੋਬੀ, ਸਹੁੰ, ਜੇਹੜਾ, ਕਿਹੜਾ, ਪੈਹਰ।
b) ਨੈਹਰ, ਕਚਹਿਰੀ, ਪੀਂਘ, ਗੋਬੀ, ਸਹੁੰ, ਜੇਹੜਾ, ਕਿਹੜਾ, ਪੈਹਰ।
c) ਨੇਹਰ, ਕਚਹਿਰੀ, ਪੀਂਘ, ਗੋਬੀ, ਸਹੁੰ, ਜਿਹੜਾ, ਕੇਹੜਾ, ਪੈਹਰ।
d) ਨਹਿਰ, ਕਚਹਿਰੀ, ਪੀਂਘ, ਗੋਬੀ, ਸਹੁੰ, ਜਿਹੜਾ, ਕਿਹੜਾ, ਪਹਿਰ।
5. ਮੁੰਡਾ ਕਲਮ ਘੜਦਾ ਹੈ।
ਵਾਕ ਵਿੱਚੋਂ ਮੁੱਖ ਕਿਰਿਆ ਕਿਹੜੀ ਹੈ?
a) ਮੁੰਡਾ -b) ਘੜਦਾ c) ਘੜਦਾ ਹੈ d) ਹੈ
6. 'ਅਣਵਿਆਹਿਆ' ਸ਼ਬਦ ਵਿੱਚੋਂ ਪਿਛੇਤਰ ਚੁਣੋ।
a) ਇਆ b) ਵਿਆਹ c) ਅਣ d) ਹਿਆ
7. 'ਕੁਚੱਜ' ਸ਼ਬਦ ਵਿੱਚੋਂ ਅਗੇਤਰ ਕਿਹੜਾ ਹੈ?
a) ਚੱਜ b) ਕੁ c) ਆ d) ਚੱਜਾ
8. 'ਬਦਖੇਈ' ਸ਼ਬਦ ਕਿਸ ਸ਼੍ਰੇਣੀ ਨਾਲ ਸੰਬੰਧਿਤ ਹੈ :
a) ਆਮ ਨਾਂਵ b) ਭਾਵ ਵਾਚਕ ਨਾਂਵ c) ਇਕੱਠ ਵਾਚਕ ਨਾਂਵ d) ਵਸਤ ਵਾਚਕ ਨਾਂਵ
9. ਉਸਨੇ ਕੁੜੀ ਨੂੰ ਕਿਤਾਬ ਦਿੱਤੀ। ਵਾਕ ਵਿਚ 'ਉਸਨੇ' ਹੈ :
a) ਇਕਵਚਨ, ਕਰਤਾ, ਪਰਖਵਾਚੀ ਪੜਨਾਂਵ c) ਇਕਵਚਨ, ਕਰਤਾ, ਨਿਸ਼ਚੇਵਾਚਕ ਪੜਨਾਂਵ
b) ਇਕਵਚਨ, ਕਰਮ, ਪੁਰਖਵਾਚੀ ਪੜਨਾਂਵ d) ਪੁਲਿੰਗ, ਨਿਸ਼ਚੇਵਾਚਕ ਪੜਨਾਂਵ
10. 'ਦੁਆਬੀਆ' ਦਾ ਇਸਤਰੀ ਲਿੰਗ ਹੈ :
a) ਦੁਆਬਣ b) ਦੁਆਬੀ c) ਦੁਆਬੇ d) ਦੁਆਬਿਆ
11. 'ਘੜੀਆਂ ਪਲਾਂ 'ਤੇ ਹੋਣਾ' ਮੁਹਾਵਰੇ ਦਾ ਭਾਵ-ਅਰਥ ਹੈ :
a) ਵਕਤ ਦਾ ਬਹੁਤ ਖਿਆਲ ਰੱਖਣਾ b) ਮਰਨ ਕਿਨਾਰੇ ਹੋਣਾ c) ਡੰਗ ਟਪਾਉਣਾ d) ਬਿਮਾਰੀ ਵਿੱਚੋਂ ਰਾਜ਼ੀ ਹੋਣਾ
12. 'ਕਾਰੀਗਰ' ਦਾ ਵਿਰੋਧਾਰਥਕ ਸ਼ਬਦ ਹੈ :
a) ਬੇਕਾਰ b) ਬੇਰੁਜ਼ਗਾਰ c) ਅਨਾੜੀ d) ਆਜੜੀ

13. ਹੇਠ ਲਿਖਿਆਂ ਵਿੱਚੋਂ ਕਿਹੜਾ ਸ਼ਬਦ 'ਉਪਰਾਮਤਾ' ਦਾ ਸਮਾਨਾਰਥਕ ਨਹੀਂ ਹੈ :
- a) ਉਦਾਸੀ b) ਨਿਰਾਸ਼ਾ c) ਵੈਰਾਗ d) ਬੇਬਸੀ
14. ਖਰਚ ਅਤੇ ਖੁਰਾਕ, ਜੋ ਸਫ਼ਰ ਲਈ ਨਾਲ ਰੱਖੇ ਜਾਣ ਦਾ ਅਰਥ ਹੈ :
- a) ਗਠੜੀ b) ਰਸਦ c) ਤੇਸਾ d) ਕਉਡੀ
15. ਹੇਠ ਲਿਖੇ ਸ਼ਬਦ ਸਮੂਹਾਂ ਵਿੱਚੋਂ ਕਿਹੜਾ ਸ਼ਬਦ-ਜੋੜਾਂ ਪੱਖੋਂ ਸਹੀ ਹੈ :
- a) ਮੋਹਰਾ, ਖਜ਼ਾਨਚੀ, ਜ਼ਿਮੀਂਦਾਰ c) ਮਹੁਰਾ, ਖਜ਼ਾਨਚੀ, ਜ਼ਿਮੀਂਦਾਰ
b) ਮੋਹਰਾ, ਖਜ਼ਾਨਚੀ, ਜ਼ਿਮੀਂਦਾਰ d) ਮਹੁਰਾ, ਖਜ਼ਾਨਚੀ, ਜ਼ਿਮੀਂਦਾਰ
16. Which of the following command is NOT present in Quick Access Toolbar of MS Word ?
- a) Draw Table b) E-mail c) Print Preview d) Prepare
- ਹੇਠ ਲਿਖੀਆਂ ਕਮਾਂਡਾਂ ਵਿੱਚੋਂ ਕਿਹੜੀ ਕਮਾਂਡ ਐਮ.ਐਸ. ਵਰਡ ਦੇ ਕੁਇਕ ਅਕੱਸ ਟੂਲਬਾਰ ਵਿੱਚ ਮੌਜੂਦ ਨਹੀਂ ਹੈ ?
- a) ਡਰਾਅ ਟੇਬਲ b) ਈ-ਮੇਲ c) ਪ੍ਰਿੰਟ ਪ੍ਰੀਵਿਊ d) ਪ੍ਰਿਪੇਅਰ
17. Which one of the following is NOT an Operating System (OS) ?
- a) Windows 10 b) Linux c) DOS d) MS Excel
- ਇਹਨਾਂ ਵਿੱਚੋਂ ਕਿਹੜਾ ਇੱਕ ਓਪਰੇਟਿੰਗ ਸਿਸਟਮ (OS) ਨਹੀਂ ਹੈ ?
- a) ਵਿੰਡੋਜ਼ 10 b) ਲਾਈਨਕਸ c) ਡੀ. ਓ.ਐਸ. d) ਐਮ.ਐਸ. ਐਕਸਲ
18. Which of these toolbars allow you to alter the fonts' sizes ?
- a) Standard b) Formatting c) Options d) Design
- ਇਹਨਾਂ ਵਿੱਚੋਂ ਕਿਹੜਾ ਟੂਲਬਾਰ ਤੁਹਾਨੂੰ ਫੱਟਾਂ ਦੇ ਆਕਾਰ ਨੂੰ ਬਦਲਣ ਦੀ ਇਜਾਜ਼ਤ ਦਿੰਦਾ ਹੈ ?
- a) ਸਟੈਂਡਰਡ b) ਫਾਰਮੈਟਿੰਗ c) ਓਪਸ਼ਨਸ d) ਡਿਜ਼ਾਈਨ
19. Which is the shortcut key to start a presentation in MS-Powerpoint from the beginning ?
- ਐਮ.ਐਸ. ਪਾਵਰ ਪੁਆਇੰਟ ਵਿੱਚ, ਸ਼ੁਰੂਆਤ ਤੋਂ ਪ੍ਰੈਜੇਂਟੇਸ਼ਨ ਸ਼ੁਰੂ ਕਰਨ ਲਈ ਸ਼ਾਰਟਕੱਟ ਕੀ ਕਿਹੜੀ ਹੈ ?
- a) F5 b) ALT+F5 c) CTRL+F5 d) SHIFT+F5
20. Which of the following is NOT a social media platform ?
- a) Facebook b) Twitter c) Instagram d) PayTM
- ਇਹਨਾਂ ਵਿੱਚੋਂ ਕਿਹੜਾ ਸੋਸ਼ਲ ਮੀਡੀਆ ਪਲੇਟਫਾਰਮ ਨਹੀਂ ਹੈ ?
- a) ਫੇਸਬੁੱਕ b) ਟਵਿੱਟਰ c) ਇੰਸਟਾਗ੍ਰਾਮ d) ਪੇਟੀਐੱਮ
21. The "S" in HTTPS stands for :
- a) Selected b) Secure c) Software d) System
- HTTPS ਵਿੱਚ "S" ਦਾ ਅਰਥ ਹੈ :
- a) ਸੇਲੈਕਟੇਡ b) ਸੈਕਿਓਰ c) ਸੌਫਟਵੇਅਰ d) ਸਿਸਟਮ
22. Which of these keys is not on the number keypad ?
- ਇਹਨਾਂ ਵਿੱਚੋਂ ਕਿਹੜੀ ਕੁੰਜੀ ਨੰਬਰ ਕੀਪੈਡ 'ਤੇ ਨਹੀਂ ਹੈ ?
- a) Ctrl b) Del c) Enter d) Num lock
23. The higher the resolution of a monitor, the :
- a) larger the pixels are c) further apart the pixels are
b) less clear the screen is d) closer together the pixels are
- ਇੱਕ ਮਾਨੀਟਰ ਦਾ ਰੈਜ਼ੋਲਿਊਸ਼ਨ ਜਿੰਨਾ ਵੱਧ ਹੋਵੇਗਾ :
- a) ਪਿਕਸਲ ਓਨੇ ਹੀ ਵੱਡੇ ਹੋਣਗੇ c) ਪਿਕਸਲ ਹੋਰ ਦੂਰ ਹੋਣਗੇ
b) ਸਕਰੀਨ ਓਨੀ ਹੀ ਘੱਟ ਸਾਫ਼ ਹੋਵੇਗੀ d) ਪਿਕਸਲ ਇਕੱਠੇ ਨੇੜੇ ਹੋਣਗੇ

24. In MS-Word, you can detect spelling and grammar errors by pressing the key(s) :
 ਐਮ.ਐਸ. ਵਰਡ ਵਿੱਚ, ਤੁਸੀਂ _____ ਕੁੰਜੀ ਦਬਾ ਕੇ ਸਪੈਲਿੰਗ ਅਤੇ ਵਿਆਕਰਣ ਦੀਆਂ ਗਲਤੀਆਂ ਦਾ ਪਤਾ ਲਗਾ ਸਕਦੇ ਹੋ ।
 a) Shift + F7 b) Ctrl + F7 c) Alt+ F7 d) F7
25. Which Sikh Guru and his bani (holy verse) is NOT correctly matched ?
 a) Guru Arjun Dev ji – Sukhmani Sahib ✓ c) Guru Nanak Dev ji – Asa Di Var
 b) Guru Amar Das ji – Anand Sahib ✓ d) Guru Ram Das ji – Akal Ustit ✓
 ਕਿਹੜੇ ਸਿੱਖ ਗੁਰੂ ਅਤੇ ਉਨ੍ਹਾਂ ਦੀ ਬਾਣੀ (ਪਵਿੱਤਰ ਬਾਣੀ) ਸਹੀ ਤਰ੍ਹਾਂ ਨਾਲ ਮੇਲ ਨਹੀਂ ਖਾਂਦੀ ?
 a) ਗੁਰੂ ਅਰਜਨ ਦੇਵ ਜੀ – ਸੁਖਮਨੀ ਸਾਹਿਬ c) ਗੁਰੂ ਨਾਨਕ ਦੇਵ ਜੀ – ਆਸਾ ਦੀ ਵਾਰ
 b) ਗੁਰੂ ਅਮਰਦਾਸ ਜੀ – ਅਨੰਦ ਸਾਹਿਬ d) ਗੁਰੂ ਰਾਮਦਾਸ ਜੀ – ਅਕਾਲ ਉਸਤਿਤ
26. Mardana was the devoted Muslim follower and companion of which Sikh Guru ?
 a) Guru Teg Bahadur ji c) Guru Arjun Dev ji
 b) Guru Nanak Dev ji d) Guru Gobind Singh ji
 ਮਰਦਾਨਾ ਕਿਸ ਸਿੱਖ ਗੁਰੂ ਦਾ ਸਮਰਪਤ ਮੁਸਲਮਾਨ ਅਨੁਯਾਈ ਅਤੇ ਸਾਥੀ ਸੀ ?
 a) ਗੁਰੂ ਤੇਗ ਬਹਾਦਰ ਜੀ b) ਗੁਰੂ ਨਾਨਕ ਦੇਵ ਜੀ c) ਗੁਰੂ ਅਰਜਨ ਦੇਵ ਜੀ d) ਗੁਰੂ ਗੋਬਿੰਦ ਸਿੰਘ ਜੀ
27. How many shalokas of Sheikh Farid have been included in the Adi Granth ?
 ਆਦਿ ਗ੍ਰੰਥ ਵਿਚ ਸ਼ੇਖ ਫ਼ਰੀਦ ਦੇ ਕਿੰਨੇ ਸ਼ਲੋਕ ਸ਼ਾਮਿਲ ਹਨ ?
 a) 112 b) 118 c) 132 d) 122
28. Who amongst the following was not associated with the Gadar Party ?
 a) Tarak Nath Das c) Vishnu Ganesh Pingle
 b) Mauvi Baraktullah d) Ganesh Srikrishna Khaparde
 ਹੇਠ ਲਿਖੇ ਵਿੱਚੋਂ ਕੌਣ ਗਦਰ ਪਾਰਟੀ ਨਾਲ ਸਬੰਧਤ ਨਹੀਂ ਸੀ ?
 a) ਤਾਰਕ ਨਾਥ ਦਾਸ ✓ b) ਮੌਵੀ ਬਰਕਤੁੱਲਾ c) ਵਿਸ਼ਨੂੰ ਗਣੇਸ਼ ਪਿੰਗਲੇ d) ਗਣੇਸ਼ ਸ੍ਰੀਕ੍ਰਿਸ਼ਨ ਖਾਪਰਡੇ
29. 'Doab' word has been taken from which language ?
 a) Arabic b) Persian c) Urdu d) Hindi
 'ਦੁਆਬ' ਸ਼ਬਦ ਕਿਸ ਭਾਸ਼ਾ ਤੋਂ ਲਿਆ ਗਿਆ ਹੈ ?
 a) ਅਰਬੀ b) ਫ਼ਾਰਸੀ c) ਉਰਦੂ d) ਹਿੰਦੀ
30. Sutlej river enters the Shivalik hills at which of the following place in Punjab ?
 a) Rupnagar b) Anandpur Sahib c) Nangal d) Nurpur Bedi
 ਸਤਲੁਜ ਦਰਿਆ ਪੰਜਾਬ ਵਿੱਚ ਹੇਠ ਲਿਖੀਆਂ ਵਿੱਚੋਂ ਕਿਹੜੀ ਥਾਂ ਤੇ ਸ਼ਿਵਾਲਿਕ ਦੀਆਂ ਪਹਾੜੀਆਂ ਵਿੱਚ ਦਾਖਲ ਹੁੰਦਾ ਹੈ ?
 a) ਰੂਪਨਗਰ b) ਅਨੰਦਪੁਰ ਸਾਹਿਬ c) ਨੰਗਲ d) ਨੂਰਪੁਰ ਬੇਦੀ
31. Punjab constitutes how much percent area of the total area of India ?
 ਪੰਜਾਬ ਭਾਰਤ ਦੇ ਕੁੱਲ ਖੇਤਰਫਲ ਦਾ ਕਿੰਨਾ ਪ੍ਰਤੀਸ਼ਤ ਖੇਤਰ ਹੈ ?
 a) 1.5 b) 2.5 c) 3.5 d) 2.2
32. Sirhind canal originates from the river Sutlej at :
 a) Rupnagar b) Sirhind c) Nangal d) Talwara
 ਸਰਹਿੰਦ ਨਹਿਰ ਸਤਲੁਜ ਦਰਿਆ ਤੋਂ ਇੱਥੇ ਨਿਕਲਦੀ ਹੈ :
 a) ਰੂਪਨਗਰ b) ਸਰਹਿੰਦ c) ਨੰਗਲ d) ਤਲਵਾਰਾ
33. The Election Commissioner of Punjab is appointed by :
 a) the Governor b) the Speaker c) the President d) the Chief Minister
 ਪੰਜਾਬ ਦੇ ਚੋਣ ਕਮਿਸ਼ਨਰ ਦੀ ਨਿਯੁਕਤੀ ਕੌਣ ਕਰਦਾ ਹੈ ?
 a) ਰਾਜਪਾਲ b) ਸਪੀਕਰ c) ਰਾਸ਼ਟਰਪਤੀ d) ਮੁੱਖ ਮੰਤਰੀ

34. How many seats are reserved for women in all Panchayats in Punjab at all levels ?
 a) one fourth b) one-third c) one half d) no reservation for women

ਪੰਜਾਬ ਦੀਆਂ ਸਾਰੀਆਂ ਪੰਚਾਇਤਾਂ ਵਿੱਚ ਔਰਤਾਂ ਲਈ ਹਰ ਪੱਧਰ 'ਤੇ ਕਿੰਨੀਆਂ ਸੀਟਾਂ ਰਾਖਵੀਆਂ ਹਨ ?

- a) ਇੱਕ ਚੌਥਾਈ b) ਇੱਕ ਤਿਹਾਈ c) ਅੱਧੀਆਂ d) ਔਰਤਾਂ ਲਈ ਕੋਈ ਰਾਖਵਾਂਕਰਨ ਨਹੀਂ ਹੈ

35. Which of the pairs is WRONG ?

- a) Novelist – Nanak Singh c) Poetess – Amrita Pritam
 b) Short Story – Sant Singh Sekhon d) Critic – Balwant Gargi

ਜੋੜਿਆਂ ਵਿੱਚੋਂ ਕਿਹੜਾ ਗਲਤ ਹੈ ?

- a) ਨਾਵਲਕਾਰ – ਨਾਨਕ ਸਿੰਘ c) ਕਵਿਤਰੀ – ਅੰਮ੍ਰਿਤਾ ਪ੍ਰੀਤਮ
 b) ਲਘੂ ਕਹਾਣੀ – ਸੰਤ ਸਿੰਘ ਸੇਖੋਂ d) ਆਲੋਚਕ – ਬਲਵੰਤ ਗਾਰਗੀ

36. Which of the following rivers is associated with the love-story of Sohni-Mahiwal?

- a) Jhelum b) Chenab c) Sindh d) Ravi

ਸੋਹਣੀ-ਮਹੀਵਾਲ ਦੀ ਪ੍ਰੇਮ ਕਹਾਣੀ ਹੇਠ ਲਿਖੇ ਵਿੱਚੋਂ ਕਿਸ ਦਰਿਆ ਨਾਲ ਜੁੜੀ ਹੋਈ ਹੈ ?

- a) ਜੇਹਲਮ b) ਚਨਾਬ c) ਸਿੰਧ d) ਰਾਵੀ

37. Which 'victory-dance' is recognisable by swaying movements of the head ?

- a) Dankara b) Julli c) Luddi d) Sammi

ਕਿਹੜਾ 'ਜਿੱਤ-ਨਾਚ' ਸਿਰ ਦੇ ਹਿੱਲਣ ਨਾਲ ਪਛਾਣਿਆ ਜਾ ਸਕਦਾ ਹੈ ?

- a) ਡਾਂਕਾਰਾ b) ਜੁਲੀ c) ਲੁੱਡੀ d) ਸੰਮੀ

38. 'Mera Rusi Safarnama' has been written by :

- a) Balbir Singh b) Prithvi Raj Kapoor c) Balraj Sahni d) Bhai Ram Singh

'ਮੇਰਾ ਰੁਸੀ ਸਫਰਨਾਮਾ' ਇਸ ਦੁਆਰਾ ਲਿਖਿਆ ਗਿਆ ਹੈ :

- a) ਬਲਬੀਰ ਸਿੰਘ b) ਪ੍ਰਿਥਵੀ ਰਾਜ ਕਪੂਰ c) ਬਲਰਾਜ ਸਾਹਨੀ d) ਭਾਈ ਰਾਮ ਸਿੰਘ

39. Arrange the following important events in the history of Punjab in chronological order :

- (i) Jallianwala Bagh Incident (iii) The Ghadar Movement
 (ii) Kamagata Maru Incident (iv) Battle of Saraghari

ਪੰਜਾਬ ਦੇ ਇਤਿਹਾਸ ਦੀਆਂ ਹੇਠ ਲਿਖੀਆਂ ਮਹੱਤਵਪੂਰਨ ਘਟਨਾਵਾਂ ਨੂੰ ਕਾਲਕ੍ਰਮ ਅਨੁਸਾਰ ਵਿਵਸਥਿਤ ਕਰੋ :

- (i) ਜਲ੍ਹਿਆਂਵਾਲਾ ਬਾਗ ਕਾਂਡ (iii) ਗਦਰ ਲਹਿਰ
 (ii) ਕਾਮਾਗਾਟਾ ਮਾਰੂ ਘਟਨਾ (iv) ਸਾਰਾਗੜੀ ਦੀ ਲੜਾਈ
 a) (i), (ii), (iv) and (iii) c) (iv), (iii), (i) and (ii)
 b) (iii), (ii), (i) and (iv) d) (iv), (iii), (ii) and (i)

40. The famous Sikh leader Banda Bahadur was captured and executed during the reign of the Mughal emperor :

- a) Aurangzeb b) Bahadur Shah I c) Jahandar Shah d) Farrukh Siyar

ਪ੍ਰਸਿੱਧ ਸਿੱਖ ਆਗੂ ਬੰਦਾ ਬਹਾਦਰ ਨੂੰ _____ ਮੁਗਲ ਬਾਦਸ਼ਾਹ ਦੇ ਰਾਜ ਦੌਰਾਨ ਫੜ ਕੇ ਫਾਂਸੀ ਦਿੱਤੀ ਗਈ ਸੀ।

- a) ਔਰੰਗਜ਼ੇਬ b) ਬਹਾਦਰ ਸ਼ਾਹ I c) ਜਹਾਂਦਰ ਸ਼ਾਹ d) ਫਾਰੂਖ ਸਿਆਰ

41. Which of the following is out of the purview of article 21 of the Constitution ?

- a) Capital punishment c) Sexual Harassment of women at work place
 b) Right to livelihood d) Right to life

ਹੇਠ ਲਿਖਿਆਂ ਵਿੱਚੋਂ ਕਿਹੜਾ ਸੰਵਿਧਾਨ ਦੇ ਅਨੁਛੇਦ 21 ਦੇ ਦਾਇਰੇ ਤੋਂ ਬਾਹਰ ਹੈ ?

- a) ਫਾਂਸੀ ਦੀ ਸਜ਼ਾ b) ਰੋਜ਼ੀ-ਰੋਟੀ ਦਾ ਅਧਿਕਾਰ c) ਕੰਮ ਵਾਲੀ ਥਾਂ 'ਤੇ ਔਰਤਾਂ ਦਾ ਜਿਨਸੀ ਸ਼ੋਸ਼ਣ d) ਜੀਵਨ ਦਾ ਅਧਿਕਾਰ

42. For how much time a person who is not a member of either House of Parliament can also be appointed as a minister ?

ਸੰਸਦ ਦੇ ਕਿਸੇ ਵੀ ਸਦਨ ਦਾ ਮੈਂਬਰ ਨਾ ਹੋਣ ਵਾਲੇ ਵਿਅਕਤੀ ਨੂੰ ਵੀ ਕਿੰਨੇ ਸਮੇਂ ਲਈ ਮੰਤਰੀ ਨਿਯੁਕਤ ਕੀਤਾ ਜਾ ਸਕਦਾ ਹੈ ?

- a) 2 months (2 ਮਹੀਨੇ) b) 3 months (3 ਮਹੀਨੇ) c) 6 months (6 ਮਹੀਨੇ) d) 9 months (9 ਮਹੀਨੇ)

43. The Election Commission advises whom of the following on matters relating to the disqualification of the members of state legislature ?

- a) Governor b) Chief Justice of High Court c) Chief Minister d) Speaker

ਰਾਜ ਵਿਧਾਨ ਸਭਾ ਦੇ ਮੈਂਬਰਾਂ ਦੀ ਅਯੋਗਤਾ ਨਾਲ ਸਬੰਧਤ ਮਾਮਲਿਆਂ ਬਾਰੇ ਚੋਣ ਕਮਿਸ਼ਨ ਹੇਠ ਲਿਖਿਆਂ ਵਿੱਚੋਂ ਕਿਸ ਨੂੰ ਸਲਾਹ ਦਿੰਦਾ ਹੈ ?

- a) ਰਾਜਪਾਲ b) ਹਾਈ ਕੋਰਟ ਦੇ ਚੀਫ ਜਸਟਿਸ c) ਮੁੱਖ ਮੰਤਰੀ d) ਸਪੀਕਰ

44. What do we call the process in which no exchange of heat energy takes place between the gas and the surroundings ?

- a) Adiabatic b) Isothermal c) Isochoric d) Isobaric

ਅਸੀਂ ਉਸ ਪ੍ਰਕਿਰਿਆ ਨੂੰ ਕੀ ਕਹਿੰਦੇ ਹਾਂ ਜਿਸ ਵਿੱਚ ਗੈਸ ਅਤੇ ਆਲੇ-ਦੁਆਲੇ ਦੇ ਵਿਚਕਾਰ ਤਾਪ ਊਰਜਾ ਦਾ ਕੋਈ ਵਟਾਂਦਰਾ ਨਹੀਂ ਹੁੰਦਾ ਹੈ ?

- a) ਏਡਿਆਬੈਟਿਕ b) ਆਈਸੋਥਰਮਲ c) ਆਈਸੋਕੋਰਿਕ d) ਆਈਸੋਬਾਰਿਕ

45. The 'Greenhouse effect' is produced due to the presence of excess amount of :

- a) Sulphur dioxide b) Nitrogen dioxide c) Carbon monoxide d) Methane

ਗ੍ਰੀਨਹਾਊਸ ਪ੍ਰਭਾਵ _____ ਦੇ ਵਧੇਰੇ ਮਾਤਰਾ ਵਿੱਚ ਮੌਜੂਦ ਹੋਣ ਕਾਰਨ ਪੈਦਾ ਹੁੰਦਾ ਹੈ ।

- a) ਸਲਫਰ ਡਾਈਆਕਸਾਈਡ b) ਨਾਈਟ੍ਰੋਜਨ ਡਾਈਆਕਸਾਈਡ c) ਕਾਰਬਨ ਮੋਨੋਆਕਸਾਈਡ d) ਮੀਥੇਨ

46. Which among the following is the permissible noise level for residential areas for day time as declared by Central Pollution Control Board (CPCB) ?

- a) 55 Decibels b) 60 Decibels c) 75 Decibels d) 90 Decibels

ਕੇਂਦਰੀ ਪ੍ਰਦੂਸ਼ਣ ਨਿਯੰਤਰਣ ਬੋਰਡ (CPCB) ਦੁਆਰਾ ਘੋਸ਼ਿਤ ਕੀਤੇ ਅਨੁਸਾਰ ਦਿਨ ਦੇ ਸਮੇਂ ਲਈ ਰਿਹਾਇਸ਼ੀ ਖੇਤਰਾਂ ਲਈ ਸ਼ੋਰ ਦਾ ਪੱਧਰ ਹੇਠ ਲਿਖਿਆਂ ਵਿੱਚੋਂ ਕਿਹੜਾ ਹੈ ?

- a) 55 ਡੈਸੀਬਲ b) 60 ਡੈਸੀਬਲ c) 75 ਡੈਸੀਬਲ d) 90 ਡੈਸੀਬਲ

47. Which of these layers of the atmosphere consists of the ozone layer that is responsible for absorbing the Ultra-Violet (UV) light ?

- a) Troposphere b) Mesosphere c) Stratosphere d) Rotosphere

ਵਾਯੂਮੰਡਲ ਦੀਆਂ ਇਹਨਾਂ ਪਰਤਾਂ ਵਿੱਚੋਂ ਕਿਸ ਵਿੱਚ ਓਜ਼ੋਨ ਪਰਤ ਹੁੰਦੀ ਹੈ ਜੋ ਅਲਟਰਾ-ਵਾਇਲਟ (ਯੂ.ਵੀ.) ਰੇਸ਼ਨੀ ਨੂੰ ਜਜ਼ਬ ਕਰਨ ਲਈ ਜ਼ਿੰਮੇਵਾਰ ਹੈ ?

- a) ਟ੍ਰੋਪੋਸਫਿਅਰ b) ਮੈਸੋਸਫਿਅਰ c) ਸਟ੍ਰੈਟੋਸਫਿਅਰ d) ਰੋਟੋਸਫਿਅਰ

48. Which country is the highest contributor of per capita greenhouse gas emissions ?

- a) China b) USA c) Russia d) India

ਪ੍ਰਤੀ ਵਿਅਕਤੀ ਗ੍ਰੀਨਹਾਊਸ ਗੈਸਾਂ ਦੇ ਨਿਕਾਸ ਵਿੱਚ ਸਭ ਤੋਂ ਵੱਧ ਯੋਗਦਾਨ ਪਾਉਣ ਵਾਲਾ ਦੇਸ਼ ਕਿਹੜਾ ਹੈ ?

- a) ਚੀਨ b) ਅਮਰੀਕਾ c) ਰੂਸ d) ਭਾਰਤ

49. The Nobel Prize for Physics 2022 has been shared by three scientists, for their work in which field ?

- a) Nuclear Physics b) Quantum mechanics c) Atomic science d) Space Science

ਭੌਤਿਕ ਵਿਗਿਆਨ 2022 ਦਾ ਨੋਬਲ ਪੁਰਸਕਾਰ ਤਿੰਨ ਵਿਗਿਆਨੀਆਂ ਦੁਆਰਾ ਕਿਸ ਖੇਤਰ ਵਿੱਚ ਉਨ੍ਹਾਂ ਦੇ ਕੰਮ ਲਈ ਸਾਂਝਾ ਕੀਤਾ ਗਿਆ ਹੈ ?

- a) ਨਿਊਕਲਿਅਰ ਫੀਜ਼ਿਕਸ b) ਕੁਆਂਟਮ ਮਕੈਨਿਕਸ c) ਪਰਮਾਣੂ ਵਿਗਿਆਨ d) ਪੁਲਾੜ ਵਿਗਿਆਨ

50. What is the theme of the G20 summit happening in India ?

- a) Shaping an Interconnected World b) Fighting poverty with rigidity c) One Earth-One Family-One Future d) Making the world together

ਭਾਰਤ ਵਿੱਚ ਹੋ ਰਹੇ ਜੀ-20 ਸੰਮੇਲਨ ਦਾ ਥੀਮ ਕੀ ਹੈ ?

- a) ਆਪਸ ਵਿੱਚ ਜੁੜੇ ਸੰਸਾਰ ਨੂੰ ਆਕਾਰ ਦੇਣਾ
b) ਕਠੋਰਤਾ ਨਾਲ ਗਰੀਬੀ ਨਾਲ ਲੜਨਾ
c) ਇੱਕ ਧਰਤੀ-ਇੱਕ ਪਰਿਵਾਰ-ਇੱਕ ਭਵਿੱਖ
d) ਦੁਨੀਆ ਨੂੰ ਇਕੱਠੇ ਬਣਾਉਣਾ

51. Choose the incorrect acid-source pair ?

- a) Citric acid – Lemon
b) Lactic acid – Sour milk
c) Oxalic acid – Ant-sting
d) Methanoic acid – Nettle sting

ਗਲਤ ਐਸਿਡ-ਸਰੋਤ ਜੋੜਾ ਚੁਣੋ ?

- a) ਸਿਟਰਿਕ ਐਸਿਡ – ਨਿੰਬੂ
b) ਲੈਕਟਿਕ ਐਸਿਡ – ਖੱਟਾ ਦੁੱਧ
c) ਓਕਜੈਲਿਕ ਐਸਿਡ – ਕੀੜੀ ਦਾ ਡੰਗ
d) ਮੈਥਾਨੋਇਕ ਐਸਿਡ – ਨੈਟਲ ਦਾ ਡੰਗ

52. Which of the following is not a part of the flower ?

- a) Petals
b) Sepals
c) Pistil
d) Pericarp

ਇਹਨਾਂ ਵਿੱਚੋਂ ਕਿਹੜਾ ਫੁੱਲ ਦਾ ਹਿੱਸਾ ਨਹੀਂ ਹੈ ?

- a) ਪੈਟਲਜ਼
b) ਸੇਪਲਜ਼
c) ਪਿਸਟਿਲ
d) ਪੈਰੀਕਾਰਪ

53. A market structure dominated by only a few firms is called :

- a) Perfect Competition
b) Monopoly
c) Oligopoly
d) Monopolistic Competition

ਸਿਰਫ ਕੁਝ ਫਰਮਾਂ ਦੇ ਦਬਦਬੇ ਵਾਲੇ ਮਾਰਕੀਟ ਢਾਂਚੇ ਨੂੰ ਕਿਹਾ ਜਾਂਦਾ ਹੈ :

- a) ਸੰਪੂਰਣ ਮੁਕਾਬਲਾ
b) ਏਕਾਧਿਕਾਰ
c) ਓਲੀਗੋਪੋਲੀ
d) ਏਕਾਧਿਕਾਰ ਮੁਕਾਬਲਾ

54. Which Article in the constitution of India deals with the Annual Financial Statement ?

- a) Article 111
b) Article 112
c) Article 123
d) Article 223

ਭਾਰਤ ਦੇ ਸੰਵਿਧਾਨ ਦਾ ਕਿਹੜਾ ਅਨੁਛੇਦ ਸਲਾਨਾ ਵਿੱਤੀ ਬਿਅਨ ਨਾਲ ਸੰਬੰਧਿਤ ਹੈ ?

- a) ਆਰਟੀਕਲ 111
b) ਆਰਟੀਕਲ 112
c) ਆਰਟੀਕਲ 123
d) ਆਰਟੀਕਲ 223

55. When too much money is chasing too few goods, the situation is :

- a) deflation
b) inflation
c) recession
d) stagflation

ਜਦੋਂ ਬਹੁਤ ਜ਼ਿਆਦਾ ਪੈਸਾ ਬਹੁਤ ਘੱਟ ਚੀਜ਼ਾਂ ਦਾ ਪਿੱਛਾ ਕਰਦਾ ਹੈ, ਉਹ ਸਥਿਤੀ ਹੈ :

- a) ਡੀਫਲੇਸ਼ਨ
b) ਮੁਦਰਾਸਫੀਤੀ
c) ਮੌਦੀ
d) ਸਟੈਗਫਲੇਸ਼ਨ

56. In which year Lala Lajpat Rai was deported to Mandalay for organising the agrarian movement in Punjab ?

ਕਿਸ ਸਾਲ ਲਾਲਾ ਲਾਜਪਤ ਰਾਏ ਨੂੰ ਪੰਜਾਬ ਵਿੱਚ ਖੇਤੀ ਅੰਦੋਲਨ ਜਥੇਬੰਦ ਕਰਨ ਲਈ ਮਾਂਡਲੇ ਡਿਪੋਰਟ ਕੀਤਾ ਗਿਆ ਸੀ ?

- a) 1905
b) 1907
c) 1909
d) 1911

57. The objective(s) of the Kuka Movement in the Punjab was/were :

- a) To purify Sikh religion of its abuses and superstitions
b) The revival of Sikh sovereignty
c) The revival of Khalsa
d) Both (a) and (b)

ਪੰਜਾਬ ਵਿੱਚ ਕੂਕਾ ਲਹਿਰ ਦਾ/ਦੇ ਉਦੇਸ਼ ਸੀ/ਸਨ :

- a) ਸਿੱਖ ਧਰਮ ਨੂੰ ਇਸ ਦੀਆਂ ਦੁਰਵਿਵਹਾਰਾਂ ਅਤੇ ਅਧਵਿਸ਼ਵਾਸਾਂ ਤੋਂ ਸੁੱਧ ਕਰਨਾ
b) ਸਿੱਖ ਪ੍ਰਭੂਸੱਤਾ ਦੀ ਪੁਨਰ ਸੁਰਜੀਤੀ
c) ਖਾਲਸੇ ਦੀ ਪੁਨਰ ਸੁਰਜੀਤੀ
d) (a) ਅਤੇ (b) ਦੋਵੇਂ

58. Which among the following acts is also known to be a beginning of the parliamentary System in India ?

- a) Indian Councils Act 1892
b) Indian Councils Act 1904
c) Indian Councils Act 1909
d) Government of India Act 1919

ਹੇਠ ਲਿਖੀਆਂ ਕਾਰਵਾਈਆਂ ਵਿੱਚੋਂ ਕਿਸ ਨੂੰ ਭਾਰਤ ਵਿੱਚ ਸੰਸਦੀ ਪ੍ਰਣਾਲੀ ਦੀ ਸ਼ੁਰੂਆਤ ਵਜੋਂ ਵੀ ਜਾਣਿਆ ਜਾਂਦਾ ਹੈ ?

- a) ਇੰਡੀਅਨ ਕੌਂਸਲ ਐਕਟ 1892
b) ਇੰਡੀਅਨ ਕੌਂਸਲ ਐਕਟ 1904
c) ਇੰਡੀਅਨ ਕੌਂਸਲ ਐਕਟ 1909
d) ਭਾਰਤ ਸਰਕਾਰ ਐਕਟ 1919

59. Who among the following was the first Martyr of the Revolt of 1857 ?

- a) Paltu Khan
b) Issrel Pandey
c) Mangal Pandey
d) Amar Singh

ਹੇਠ ਲਿਖੇ ਵਿੱਚੋਂ 1857 ਦੀ ਵਿਦਰੋਹ ਦਾ ਪਹਿਲਾ ਸ਼ਹੀਦ ਕੌਣ ਸੀ ?

- a) ਪਲਟੂ ਖਾਨ b) ਇਸਰੇਲ ਪਾਂਡੇ c) ਮੰਗਲ ਪਾਂਡੇ d) ਅਮਰ ਸਿੰਘ

60. The Bardoli Satyagraha was led by :

- a) Rajendra Prasad b) Mahatma Gandhi c) Vallabhbhai Patel d) Morarji Desai

ਬਾਰਡੋਲੀ ਸੱਤਿਆਗ੍ਰਹਿ ਦੀ ਅਗਵਾਈ ਇਹਨਾਂ ਦੁਆਰਾ ਕੀਤੀ ਗਈ ਸੀ :

- a) ਰਾਜੇਂਦਰ ਪ੍ਰਸਾਦ b) ਮਹਾਤਮਾ ਗਾਂਧੀ c) ਵੱਲਭ ਭਾਈ ਪਟੇਲ d) ਮੋਰਾਰਜੀ ਦੇਸਾਈ

61. Which Indian team won the Ranji Trophy title in 2023 ?

- a) Bengal b) Saurashtra c) Karnataka d) Madhya Pradesh

2023 ਵਿੱਚ ਕਿਹੜੀ ਭਾਰਤੀ ਟੀਮ ਨੇ ਰਣਜੀ ਟਰਾਫੀ ਦਾ ਖਿਤਾਬ ਜਿੱਤਿਆ ਸੀ ?

- a) ਬੰਗਾਲ b) ਸੌਰਾਸ਼ਟਰ c) ਕਰਨਾਟਕ d) ਮੱਧ ਪ੍ਰਦੇਸ਼

62. Which is the venue of the Asian Games in 2023 ?

- a) India b) China c) Indonesia d) Nepal

2023 ਵਿੱਚ ਏਸ਼ੀਆਈ ਖੇਡਾਂ ਦਾ ਸਥਾਨ ਕਿਹੜਾ ਹੈ ?

- a) ਭਾਰਤ b) ਚੀਨ c) ਇੰਡੋਨੇਸ਼ੀਆ d) ਨੇਪਾਲ

63. Who among the following is the winner of the best actress award in the Dadasaheb Phalke International Film Festival Awards 2023 ?

- a) Alia Bhatt b) Deepika Padukone c) Kangana Ranaut d) Vidya Balan

ਦਾਦਾ ਸਾਹਿਬ ਫਾਲਕੇ ਇੰਟਰਨੈਸ਼ਨਲ ਫਿਲਮ ਫੈਸਟੀਵਲ ਅਵਾਰਡਸ 2023 ਵਿੱਚ ਸਰਵੋਤਮ ਅਭਿਨੇਤਰੀ ਦੇ ਅਵਾਰਡ ਦੀ ਜੇਤੂ ਕੌਣ ਹੈ ?

- a) ਅਲੀਆ ਭੱਟ b) ਦੀਪਿਕਾ ਪਾਦੁਕੋਣ c) ਕੰਗਨਾ ਰਣੌਤ d) ਵਿਦਿਆ ਬਾਲਨ

64. Which was the first Indian movie to win an Oscar in the category of best costume design ?

- a) Slumdog Millionaire b) Mother India c) Gandhi d) Sholay

ਸਭ ਤੋਂ ਵਧੀਆ ਪੇਸ਼ਾਕ ਡਿਜ਼ਾਈਨ ਦੀ ਸ਼੍ਰੇਣੀ ਵਿੱਚ ਆਸਕਰ ਜਿੱਤਣ ਵਾਲੀ ਪਹਿਲੀ ਭਾਰਤੀ ਫਿਲਮ ਕਿਹੜੀ ਸੀ ?

- a) ਸਲੱਮਡੌਗ ਮਿਲਿਓਨਾਈਰੇ b) ਮਦਰ ਇੰਡੀਆ c) ਗਾਂਧੀ d) ਸ਼ੋਲੇ

65. The timeless Indian novel "Devdas" was written by :

- a) Rabindranath Tagore c) Mirza Ghalib b) Bankim Chandra Chatterjee d) Sarat Chandra Chattopadhyay

ਸਦੀਵੀ ਭਾਰਤੀ ਨਾਵਲ "ਦੇਵਦਾਸ" ਦੁਆਰਾ ਲਿਖਿਆ ਗਿਆ ਸੀ।

- a) ਰਾਬਿੰਦਰਨਾਥ ਟੈਗੋਰ b) ਬੰਕਿਮ ਚੰਦਰ ਚੈਟਰਜੀ c) ਮਿਰਜ਼ਾ ਗ਼ਾਲਿਬ d) ਸਰਤ ਚੰਦਰ ਚਟੋਪਾਧਿਆਏ

66. Find the missing term (?) in the series : 3, 20, 63, 144, 275, ?

ਲੜੀ ਵਿੱਚ ਗੁੰਮ ਹੋਏ (?) ਸ਼ਬਦ ਨੂੰ ਲੱਭੋ : 3, 20, 63, 144, 275, ?

- a) 354 b) 468 c) 548 d) 554

67. Choose the pair of words from among the given options that will fill the blanks so that the sentence becomes true and meaningful. _____ is to Cork as Box is to _____.

- a) Spout-Crate b) Wood-Fight c) Bottle-Lid d) Bottle-Crate

ਦਿੱਤੇ ਗਏ ਵਿਕਲਪਾਂ ਵਿੱਚੋਂ ਸ਼ਬਦਾਂ ਦਾ ਜੋੜਾ ਚੁਣੋ, ਜੋ ਖਾਲੀ ਥਾਂ ਨੂੰ ਭਰ ਦੇਵੇ ਤਾਂ ਕਿ ਵਾਕ ਸਹੀ ਅਤੇ ਅਰਥਪੂਰਨ ਬਣ ਜਾਵੇ।

_____ ਕਾਰਕ ਲਈ ਹੈ ਜਿਵੇਂ ਕਿ ਬਾਕਸ _____ ਨੂੰ ਹੈ।

- a) ਸਪਾਊਟ-ਕਰੇਟ b) ਵੁਡ-ਫਾਈਟ c) ਬੋਤਲ-ਲਿਡ d) ਬੋਤਲ-ਕਰੇਟ

68. Choose the odd numeral pair in the following question :

ਨਿਮਨਲਿਖਤ ਪ੍ਰਸ਼ਨ ਵਿੱਚ ਵੱਖਰਾ ਅੰਕੀ ਜੋੜਾ ਚੁਣੋ :

- a) 140, 45 b) 110, 35 c) 100, 30 d) 80, 25

69. If E = 5, PEN = 35, then PAGE = ?

ਜੇਕਰ E = 5, PEN = 35, ਤਾਂ PAGE = ?

- a) 27 b) 28 c) 29 d) 36

70. If Anil says, "Ravi's mother is the only daughter of my mother", how is Anil related to Ravi ?
 a) Grandfather b) Father c) Brother d) None of these

ਜੇਕਰ ਅਨਿਲ ਕਹਿੰਦਾ ਹੈ, "ਰਵੀ ਦੀ ਮਾਂ ਮੇਰੀ ਮਾਂ ਦੀ ਇਕਲੋਤੀ ਧੀ ਹੈ", ਤਾਂ ਅਨਿਲ ਦਾ ਰਵੀ ਨਾਲ ਕੀ ਸਬੰਧ ਹੈ ?
 a) ਦਾਦਾ b) ਪਿਤਾ c) ਭਰਾ d) ਇਹਨਾਂ ਵਿੱਚੋਂ ਕੋਈ ਨਹੀਂ

71. Raju drives 25 km North and turns left and travels 5 km and reaches point 'O'. He, then turns right and covers another 5 km. Afterwards turns to East and drives 5 km. How much distance (in km) he has to travel to go back to the starting point ?

ਰਾਜੂ 25 ਕਿਲੋਮੀਟਰ ਉੱਤਰ ਵੱਲ ਡਰਾਈਵ ਕਰਦਾ ਹੈ ਅਤੇ ਖੱਬੇ ਮੁੜਦਾ ਹੈ ਅਤੇ 5 ਕਿਲੋਮੀਟਰ ਦਾ ਸਫ਼ਰ ਕਰਦਾ ਹੈ ਅਤੇ ਬਿੰਦੂ 'O' ਤੱਕ ਪਹੁੰਚਦਾ ਹੈ। ਉਹ, ਫਿਰ ਸੱਜੇ ਮੁੜਦਾ ਹੈ ਅਤੇ ਹੋਰ 5 ਕਿਲੋਮੀਟਰ ਦਾ ਸਫ਼ਰ ਕਰਦਾ ਹੈ। ਬਾਅਦ ਵਿੱਚ ਪੂਰਬ ਵੱਲ ਮੁੜਦਾ ਹੈ ਅਤੇ 5 ਕਿਲੋਮੀਟਰ ਗੱਡੀ ਚਲਾਉਂਦਾ ਹੈ। ਸ਼ੁਰੂਆਤੀ ਬਿੰਦੂ 'O' ਤੋਂ ਵਾਪਸ ਜਾਣ ਲਈ ਉਸਨੂੰ ਕਿੰਨੀ ਦੂਰੀ (ਕਿਲੋਮੀਟਰ ਵਿੱਚ) ਤੈਅ ਕਰਨੀ ਪਵੇਗੀ ?

a) 30 b) 20 c) 25 d) 35

72. Which two months in a year have the same calendar for the first 30 days ?

a) June, October b) April, November c) April, July d) October, December

ਸਾਲ ਦੇ ਕਿਹੜੇ ਦੋ ਮਹੀਨਿਆਂ ਦੇ ਪਹਿਲੇ 30 ਦਿਨਾਂ ਲਈ ਕੈਲੰਡਰ ਇੱਕੋ ਜਿਹਾ ਹੁੰਦਾ ਹੈ ?

a) ਜੂਨ, ਅਕਤੂਬਰ b) ਅਪ੍ਰੈਲ, ਨਵੰਬਰ c) ਅਪ੍ਰੈਲ, ਜੁਲਾਈ d) ਅਕਤੂਬਰ, ਦਸੰਬਰ

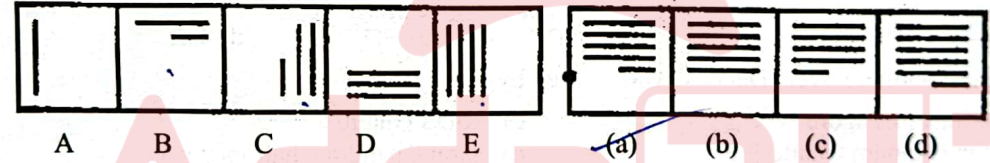
73. Put the correct mathematical signs in the following equation from the given alternatives.
 ਦਿੱਤੇ ਗਏ ਵਿਕਲਪਾਂ ਵਿੱਚੋਂ ਹੇਠਾਂ ਦਿੱਤੇ ਸਮੀਕਰਨ ਵਿੱਚ ਸਹੀ ਗਣਿਤਿਕ ਚਿੰਨ੍ਹ ਪਾਓ।

$33 \ ? \ 11 \ ? \ 3 \ ? \ 6 = 115$

a) +, -, × b) ×, ÷, - c) ÷, ×, × d) -, ×, +

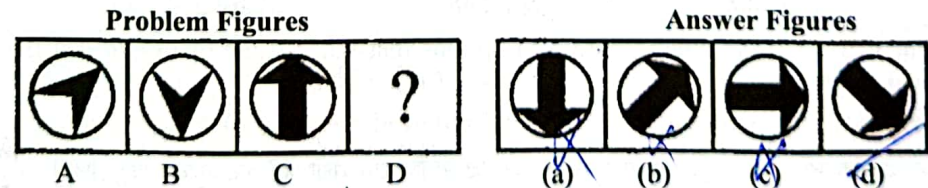
74. Select a figure from amongst the Answer Figures which will continue the same series as established by the five Problem Figures.

ਉੱਤਰ ਦੇ ਚਿੱਤਰਾਂ ਵਿੱਚੋਂ ਇੱਕ ਚਿੱਤਰ ਚੁਣੋ ਜੋ ਪੰਜ ਸਮੱਸਿਆ ਚਿੱਤਰਾਂ ਦੁਆਰਾ ਸਥਾਪਿਤ ਕੀਤੀ ਗਈ ਲੜੀ ਨੂੰ ਜਾਰੀ ਰੱਖੇਗਾ।



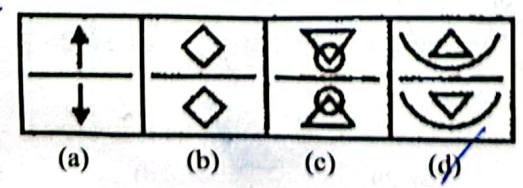
75. Figures A and B are related in a particular manner. Establish the same relationship between figures C and D by choosing a figure from amongst the four given alternatives, which would replace the question mark in Fig. (D).

ਚਿੱਤਰ A ਅਤੇ B ਇੱਕ ਖਾਸ ਤਰੀਕੇ ਨਾਲ ਸੰਬੰਧਿਤ ਹਨ। ਦਿੱਤੇ ਗਏ ਚਾਰ ਚਿੱਤਰਾਂ ਵਿੱਚੋਂ ਇੱਕ ਚਿੱਤਰ ਚੁਣੋ ਜੋ ਚਿੱਤਰ C ਅਤੇ D ਵਿਚਕਾਰ ਸਮਾਨ ਸਬੰਧ ਸਥਾਪਤ ਕਰੇ, ਜੋ ਚਿੱਤਰ (D) ਵਿੱਚ ਪ੍ਰਸ਼ਨ ਚਿੰਨ੍ਹ ਦੀ ਥਾਂ ਲਵੇਗਾ।



76. Out of the four figures marked (a), (b), (c) and (d), three are similar in a certain manner. Choose the figure which is different from the rest.

(a), (b), (c) ਅਤੇ (d) ਚਿੰਨ੍ਹਿਤ ਚਾਰ ਚਿੱਤਰਾਂ ਵਿੱਚੋਂ, ਤਿੰਨ ਇੱਕ ਖਾਸ ਤਰੀਕੇ ਨਾਲ ਸਮਾਨ ਹਨ। ਉਹ ਚਿੱਤਰ ਚੁਣੋ ਜੋ ਬਾਕੀਆਂ ਨਾਲੋਂ ਵੱਖਰਾ ਹੋਵੇ।



$A = P \left(1 + \frac{1}{100}\right)^n$
 $A = P \left(1 + \frac{2}{100}\right)^n$

77. 78. 79. 80. 81. 82. 83. 84. 85. 86.

If $65b - 33c = 97$ and $33b - 65c = 1$, then $bc = ?$

ਜੇਕਰ $65b - 33c = 97$ ਅਤੇ $33b - 65c = 1$, ਤਾਂ $bc =$ _____ ਹੈ।

- a) -3 b) -2 c) 3 d) 2

The number $(2^{48} - 1)$ is exactly divisible by two numbers between 60 and 70. The numbers are :

ਸੰਖਿਆ $(2^{48} - 1)$ ਨੂੰ 60 ਅਤੇ 70 ਦੇ ਵਿਚਕਾਰ ਦੇ ਸੰਖਿਆਵਾਂ ਦੁਆਰਾ ਪੂਰੀ ਤਰ੍ਹਾਂ ਵੰਡਿਆ ਜਾ ਸਕਦਾ ਹੈ। ਸੰਖਿਆਵਾਂ ਹਨ :

- a) 63 & 65 b) 63 & 67 c) 61 & 65 d) 65 & 67

The least number of square tiles required to pave the ceiling of a room 15 m 17 cm long and 9 m 2 cm broad is:

15 ਮੀਟਰ 17 ਸੈਂਟੀਮੀਟਰ ਲੰਬੇ ਅਤੇ 9 ਮੀਟਰ 2 ਸੈਂਟੀਮੀਟਰ ਚੌੜੇ ਕਮਰੇ ਦੀ ਛੱਤ ਤਿਆਰ ਕਰਨ ਲਈ ਘੱਟੋ-ਘੱਟ _____ ਵਰਗ ਟਾਇਲਾਂ ਦੀ ਲੋੜ ਹੈ।

- a) 656 b) 738 c) 814 d) 902

A car owner buys petrol at ₹ 17, ₹ 19 and ₹ 20 per litre for three consecutive years. Compute the average cost per litre, if he spends ₹ 6460 per year.

ਇੱਕ ਕਾਰ ਮਾਲਕ ਲਗਾਤਾਰ ਤਿੰਨ ਸਾਲਾਂ ਲਈ 17, 19 ਅਤੇ 20 ਰੁਪਏ ਪ੍ਰਤੀ ਲੀਟਰ ਪੈਟਰੋਲ ਖਰੀਦਦਾ ਹੈ। ਔਸਤ ਲਾਗਤ ਪ੍ਰਤੀ ਲੀਟਰ ਦੀ ਗਣਨਾ ਕਰੋ, ਜੇਕਰ ਉਹ 6460 ਰੁਪਏ ਪ੍ਰਤੀ ਸਾਲ ਖਰਚ ਕਰਦਾ ਹੈ।

- a) ₹ 18.49 b) ₹ 18.58 c) ₹ 19.20 d) ₹ 21.66

The ratio of the ages of a man and his wife is 4 : 3. After 4 years, this ratio will be 9 : 7. If at the time of their marriage, the ratio of their ages was 5 : 3, then how many years ago were they married ?

ਇੱਕ ਆਦਮੀ ਅਤੇ ਉਸਦੀ ਪਤਨੀ ਦੀ ਉਮਰ ਦਾ ਅਨੁਪਾਤ 4 : 3 ਹੈ। 4 ਸਾਲਾਂ ਬਾਅਦ, ਇਹ ਅਨੁਪਾਤ 9 : 7 ਹੋਵੇਗਾ। ਜੇਕਰ ਉਨ੍ਹਾਂ ਦੇ ਵਿਆਹ ਦੇ ਸਮੇਂ, ਉਨ੍ਹਾਂ ਦੀ ਉਮਰ ਦਾ ਅਨੁਪਾਤ 5 : 3 ਸੀ, ਤਾਂ ਕਿੰਨੇ ਸਾਲ ਪਹਿਲਾਂ ਉਨ੍ਹਾਂ ਦਾ ਵਿਆਹ ਹੋਇਆ ਸੀ ?

- a) 8 b) 10 c) 12 d) 15

Due to a reduction of $6\frac{1}{4}\%$ in the price of sugar, a man is able to buy 1 kg more for ₹ 120. Find the original and reduced rate of sugar.

ਖੰਡ ਦੀ ਕੀਮਤ ਵਿੱਚ $6\frac{1}{4}\%$ ਦੀ ਕਟੌਤੀ ਦੇ ਕਾਰਨ, ਇੱਕ ਵਿਅਕਤੀ 120 ਰੁਪਏ ਵਿੱਚ 1 ਕਿਲੋ ਖੰਡ ਹੋਰ ਖਰੀਦਣ ਦੇ ਯੋਗ ਹੈ। ਖੰਡ ਦੀ ਅਸਲੀ ਅਤੇ ਘਟਾਈ ਗਈ ਦਰ ਦਾ ਪਤਾ ਲਗਾਓ।

- a) ₹ 7, ₹ 8.50 b) ₹ 8, ₹ 7.50 c) ₹ 6, ₹ 7.50 d) ₹ 6, ₹ 6.50

In a shop, 80% of the articles are sold at a profit of 10% and the remaining at a loss of 40%. What is the overall profit/loss ?

ਇੱਕ ਦੁਕਾਨ ਵਿੱਚ, 80% ਵਸਤੂਆਂ ਨੂੰ 10% ਦੇ ਲਾਭ ਅਤੇ ਬਾਕੀ 40% ਦੇ ਘਾਟੇ ਵਿੱਚ ਵੇਚਿਆ ਜਾਂਦਾ ਹੈ। ਸਮੁੱਚਾ ਲਾਭ/ਘਾਟਾ ਕੀ ਹੈ ?

- a) 10 % profit (ਲਾਭ) b) 10 % loss (ਘਾਟਾ) c) 5 % loss (ਘਾਟਾ) d) No profit no loss (ਨਾ ਲਾਭ ਨਾ ਘਾਟਾ)

Two partners invested ₹ 125000 and ₹ 85000 respectively in a business. They distribute 60% of the profit equally and decide to distribute the remaining 40% as the interest on their capitals. If one partner received ₹ 3000 more than the other, the total profit is :

ਦੋ ਭਾਈਵਾਲਾਂ ਨੇ ਇੱਕ ਕਾਰੋਬਾਰ ਵਿੱਚ ਕ੍ਰਮਵਾਰ ₹ 125000 ਅਤੇ ₹ 85000 ਦਾ ਨਿਵੇਸ਼ ਕੀਤਾ। ਉਹ ਮੁਨਾਫੇ ਦਾ 60% ਬਰਾਬਰ ਵੰਡਦੇ ਹਨ ਅਤੇ ਬਾਕੀ 40% ਨੂੰ ਆਪਣੀ ਪੂੰਜੀ 'ਤੇ ਵਿਆਜ ਵਜੋਂ ਵੰਡਣ ਦਾ ਫੈਸਲਾ ਕਰਦੇ ਹਨ। ਜੇਕਰ ਇੱਕ ਸਾਥੀ ਨੂੰ ਦੂਜੇ ਨਾਲੋਂ ₹ 3000 ਵੱਧ ਮਿਲਦਾ ਹੈ, ਤਾਂ ਕੁੱਲ ਲਾਭ ਹੈ :

- a) ₹ 42250 b) ₹ 39375 c) ₹ 38840 d) ₹ 36575

What is the difference between the compound interests on ₹ 5000 for 1 year at 4% per annum compounded yearly and half yearly ?

₹ 5000 'ਤੇ ਸਾਲ ਲਈ 4% ਪ੍ਰਤੀ ਸਾਲ ਮਿਸ਼ਰਿਤ ਅਤੇ ਛਿਮਾਰੀ ਮਿਸ਼ਰਿਤ ਵਿਆਜ ਵਿੱਚ ਕੀ ਅੰਤਰ ਹੈ ?

- a) ₹ 2 b) ₹ 3 c) ₹ 4 d) ₹ 5

2 men and 3 boys can do a piece of work in 10 days while 3 men and 2 boys can do the same work in 8 days. In how many days can 2 men and 1 boy do the work ?

2 ਆਦਮੀ ਅਤੇ 3 ਲੜਕੇ 10 ਦਿਨਾਂ ਵਿੱਚ ਇੱਕ ਕੰਮ ਕਰ ਸਕਦੇ ਹਨ ਜਦੋਂ ਕਿ 3 ਆਦਮੀ ਅਤੇ 2 ਲੜਕੇ ਓਹੀ ਕੰਮ 8 ਦਿਨਾਂ ਵਿੱਚ ਕਰ ਸਕਦੇ ਹਨ। 2 ਆਦਮੀ ਅਤੇ 1 ਲੜਕਾ ਕਿੰਨੇ ਦਿਨਾਂ ਵਿੱਚ ਓਹੀ ਕੰਮ ਕਰ ਸਕਣਗੇ ?

- a) $12\frac{1}{2}$ b) 10 c) $22\frac{1}{2}$ d) 24

97-65 $65b - 33c = 97$

$$\begin{array}{r} 33 \times 65b - 33c = 97 \\ 65 \times 33b - 65c = 65 \\ \hline 3136 \end{array}$$

$$\begin{array}{r} 3 \times 65b - 33c = 97 \\ 65 \times 33b - 65c = 65 \\ \hline -1089 \\ +4225 \\ \hline 3136 \end{array}$$

$$\begin{array}{r} 3201 \\ 3136 \\ \hline 65 \end{array}$$

$$\begin{array}{r} 248 \\ -1 \\ \hline 247 \end{array}$$

$$\begin{array}{r} 15 \\ \times 42 \\ \hline 135 \\ 6460 \\ 6460 \\ \hline 6460 \end{array}$$

$$\begin{array}{r} 19380 \end{array}$$

$$\begin{array}{r} 32:24 \\ 24:18 \\ \hline 36:27 \end{array}$$

$$\begin{array}{r} 100 \\ \times 1938 \\ \hline 19380 \end{array}$$

$$\begin{array}{r} 380 \\ 340 \\ \hline 32 \end{array}$$

$$\begin{array}{r} 5140 \end{array}$$

$$\begin{array}{r} 5000 \times 2 \\ \hline 10000 \end{array}$$

$$\begin{array}{r} 5000 \end{array}$$

$$\begin{array}{r} 5000 \times 2 \\ \hline 10000 \end{array}$$

P-1 $2M + 3B = 10$
 $6M + 9B = 30$

Set-D $3M + 2B = 8$
 $6M + 4B = 16$

84 147 1000
 54 (9) 147 = 20 147 1000

87. A man covers a certain distance on a toy train. Had the train moved 4 km/hr faster, it would have taken 30 minutes less. If it moved 2 km/hr slower, it would have taken 20 minutes more. Find the distance in kilometres.

ਇੱਕ ਆਦਮੀ ਇੱਕ ਖਿਡੋਣਾ ਰੇਲ ਗੱਡੀ 'ਤੇ ਇੱਕ ਨਿਸ਼ਚਿਤ ਦੂਰੀ ਤੈਅ ਕਰਦਾ ਹੈ। ਜੇਕਰ ਰੇਲਗੱਡੀ 4 ਕਿਲੋਮੀਟਰ ਪ੍ਰਤੀ ਘੰਟਾ ਵੱਧ ਦੀ ਰਫ਼ਤਾਰ ਨਾਲ ਅੱਗੇ ਵੱਧਦੀ, ਤਾਂ ਇਸ ਨੂੰ 30 ਮਿੰਟ ਘੱਟ ਲੱਗਦੇ। ਜੇਕਰ ਇਹ 2 ਕਿਲੋਮੀਟਰ ਪ੍ਰਤੀ ਘੰਟਾ ਹੌਲੀ ਚੱਲਦੀ, ਤਾਂ ਇਸ ਨੂੰ 20 ਮਿੰਟ ਹੋਰ ਲੱਗਣਗੇ। ਕਿਲੋਮੀਟਰ ਵਿੱਚ ਦੂਰੀ ਲੱਭੋ।

- a) 32 km b) 60 c) 68

$$\frac{9 \times 26}{26} = 9$$

$$\frac{50 \times 26}{26} = 50$$

$$\frac{80 \times 26}{26} = 80$$

$$\begin{array}{r} 2 \\ 12 \\ \hline 14 \\ 1270 \end{array}$$

88. A vessel contains a mixture of Grape, Pineapple and Banana juices in the respective ratio of 4 : 6 : 5. Fifteen litres of this mixture is taken out and 8 litres of grape juice and 2 litres of pineapple juice is added to the vessel. If the resultant quantity of grape juice is 10 litres less than the resultant quantity of pineapple juice, what was the initial quantity of mixture in the vessel (in litres)?

- a) 120 b) 150 c) 105 d) 135

ਇੱਕ ਭਾਂਡੇ ਵਿੱਚ 4 : 6 : 5 ਦੇ ਅਨੁਪਾਤ ਵਿੱਚ ਅੰਗੂਰ, ਅਨਾਨਾਸ ਅਤੇ ਕੇਲੇ ਦੇ ਰਸ ਦਾ ਮਿਸ਼ਰਣ ਹੈ। ਇਸ ਮਿਸ਼ਰਣ ਵਿੱਚੋਂ ਪੰਦਰਾਂ ਲੀਟਰ ਕੱਢ ਕੇ ਭਾਂਡੇ ਵਿੱਚ 8 ਲੀਟਰ ਅੰਗੂਰ ਦਾ ਰਸ ਅਤੇ 2 ਲੀਟਰ ਅਨਾਨਾਸ ਦਾ ਰਸ ਮਿਲਾਇਆ ਜਾਂਦਾ ਹੈ। ਜੇਕਰ ਅੰਗੂਰ ਦੇ ਰਸ ਦੀ ਨਤੀਜਾ ਮਾਤਰਾ (resultant quantity) ਅਨਾਨਾਸ ਦੇ ਰਸ ਦੀ ਨਤੀਜਾ ਮਾਤਰਾ (resultant quantity) ਤੋਂ 10 ਲੀਟਰ ਘੱਟ ਹੈ, ਤਾਂ ਭਾਂਡੇ ਵਿੱਚ ਮਿਸ਼ਰਣ ਦੀ ਸ਼ੁਰੂਆਤੀ ਮਾਤਰਾ (ਲੀਟਰ ਵਿੱਚ) ਕੀ ਸੀ?

- a) 120 b) 150 c) 105 d) 135

$$\begin{array}{r} 3107 \\ 9 \\ \hline 17 \\ 93 \\ \hline 10217 \\ 31 \\ \hline 10248 \end{array}$$

89. Vishwas borrowed a total amount of ₹ 30000, part of it on simple interest rate of 12 p.c.p.a. and remaining on simple interest rate of 10 p.c.p.a. If at the end of 2 years he paid in all ₹ 36480 to settle the loan amount, what was the amount borrowed at 12 p.c.p.a.?

- a) ₹ 12000 b) ₹ 16000 c) ₹ 17500 d) ₹ 18000

ਵਿਸ਼ਵਾਸ ਨੇ ਕੁੱਲ ₹ 30000 ਦੀ ਰਕਮ ਉਧਾਰ ਲਈ, ਇਸ ਦਾ ਕੁਝ ਹਿੱਸਾ 12 p.c.p.a. ਦੀ ਸਧਾਰਨ ਵਿਆਜ ਦਰ 'ਤੇ ਅਤੇ ਬਾਕੀ 10 p.c.p.a. ਦੀ ਸਧਾਰਨ ਵਿਆਜ ਦਰ 'ਤੇ ਹੈ। ਜੇਕਰ 2 ਸਾਲਾਂ ਦੇ ਅੰਤ ਵਿੱਚ ਉਸਨੇ ਕਰਜ਼ੇ ਦੀ ਰਕਮ ਦਾ ਨਿਪਟਾਰਾ ਕਰਨ ਲਈ ₹ 36480 ਦਾ ਭੁਗਤਾਨ ਕੀਤਾ, ਤਾਂ 12 p.c.p.a. 'ਤੇ ਉਧਾਰ ਲਈ ਗਈ ਰਕਮ ਕਿੰਨੀ ਸੀ?

- a) ₹ 12000 b) ₹ 16000 c) ₹ 17500 d) ₹ 18000

$$6480$$

90. The cost of fencing a square field @ ₹ 20 per metre is ₹ 10,080. How much will it cost to lay a three metre wide pavement along the fencing inside the field @ ₹ 50 per sq. metre?

ਇੱਕ ਵਰਗ ਖੇਤਰ ਦੀ ਵਾੜ ਲਗਾਉਣ ਦੀ ਲਾਗਤ @ ₹ 20 ਪ੍ਰਤੀ ਮੀਟਰ ਤੇ ₹ 10,080 ਹੈ। ਖੇਤ ਦੇ ਅੰਦਰ ਕੰਡਿਆਲੀ ਤਾਰ ਦੇ ਨਾਲ ਤਿੰਨ ਮੀਟਰ ਚੌੜਾ ਫੁੱਟਪਾਥ @ 50 ਰੁਪਏ ਪ੍ਰਤੀ ਵਰਗ ਮੀਟਰ ਦੇ ਹਿਸਾਬ ਨਾਲ ਵਿਠਾਉਣ ਲਈ ਕਿੰਨਾ ਖਰਚਾ ਆਵੇਗਾ?

- a) ₹ 37,350 b) ₹ 73,800 c) ₹ 77,400 d) None of these

$$6480 = 2800$$

$$110$$

$$2400$$

91. Choose the correctly spelt word :

- a) Consciousness b) expectantly c) adventurus d) corroborate

92. Choose the sentence in which adjectives are correctly used.

- a) She is better than any other girl that studies in our class.
 b) She was not punished though she came latter than I.
 c) In the opinion of everyone she is wiser than beautiful.
 d) It was bitter cold and we preferred not to go out that night.

$$\frac{12000 \times 10 \times 2}{100}$$

93. Select the alternative which best expresses the given sentence in Indirect Speech.

Kiran asked me, "Did you see the cricket match on TV last night?"

- a) Kiran asked me whether I saw the cricket match on TV the earlier night.
 b) Kiran asked me whether I have seen the cricket match on TV the last night.
 c) Kiran asked me whether I had seen the cricket match on TV the earlier night.
 d) Kiran asked me whether you saw the cricket match on TV the last night.

$$\frac{18000 \times 12 \times 2}{100}$$

$$\frac{12000 \times 10 \times 2}{100}$$

94. Change the VOICE of the given sentence.

He was driving the car so fast that it skidded on the snowy road.

- a) The car was driven by him so fast that it skidded on the snowy road.
 b) The car was being driven by him so fast that it skidded on the snowy road.
 c) The car had been driven by him so fast that it skidded on the snowy road.
 d) The car has been driven by him so fast that it skidded on the snowy road.

$$\frac{3600 \times 12}{100}$$

$$\frac{3600 \times 12}{100}$$

$$\frac{20}{10}$$

$$\frac{20}{10}$$

$$\frac{15840}{1120}$$

$$\frac{3600}{112}$$

$$\frac{3600}{112}$$

95. Fill in the blank.

How dare you _____ to your teachers like this ?

- a) to talk
- b) talk
- c) talking
- d) talked

96. Sentence : I made the decision to buy onions on my way to the shops.

Which of the following statements best expresses the meaning as found in the sentence ?

- a) Because I was going to shops, I decided to buy onions.
- b) While I was going to the shops, I decided to buy onions.
- c) As I was going to the shops, I decided to buy onions.
- d) Since I was going to shops, I decided to buy onions.

97. Fill up the blank with suitable preposition.

Nothing can deter him _____ pursuing his aim of life.

- a) for
- b) from
- c) in
- d) of

98. Choose the correct meaning of the underlined idiom given in the sentence.

The sight of the accident made my flesh creep.

- a) worried me
- b) frightened me
- c) confused me
- d) drew my attention

99. Select the most suitable alternative which conveys the exact meaning in accordance with the correct grammatical rules.

- a) You are not working hard so your success is out of a question.
- b) You are not working hard so your success is out of the question.
- c) You are not working hard so your success is out of question.
- d) You are not working hard so your success is not out of the question.

100. Choose the one which can be substituted for the given sentence.

The practise of having many wives.

- a) Bigamy
- b) Calligraphy
- c) Polygamy
- d) Polyandry

Space for Rough Work

Handwritten rough work including:

- Arithmetic: $25 \times 1 = 25$, $9375 \times 1 = 9375$, 548 , $120 \times 25 = 3000$, $100 - 25 = 75$, 4375 , 10000 , $10000 - 25 = 9975$, $120 \times 25 = 3000$, $100 - 25 = 75$, 4375 , 10000 , $10000 - 25 = 9975$.
- Algebra: $2M + 3B = 12600$, $6M + 9B = 30$, $3M + 2B = 8$, $6M + 4B = 16$, $2520 \times 3 = 7560$, 135 , $13500 \times 3 = 40500$, $6750 \times 3 = 20250$, $27 - 36 = -9$, $6M + 9B = 30$, $6M + 4B = 16$, $5B = 14$, $B = 14/5$.
- Calculus: 100800 , 15.17 , 9.02 , 303 , 9669 , 99689 , 100800 , 135 , 540 , 27 .
- Other: 12600 , 2520 , 12600 , 100800 , 135 , 540 , 27 .

$$\frac{42}{5} = 10 - \frac{42}{5} = \frac{8}{10}$$