

State Related General Knowledge

1. Which of the following statement is/are correct ?

Statement I : Snow line is defined as the altitude beyond which land remains under permanent snow cover.

Statement II : Bugyals grow between timber line and snow line.

- (A) Only statement I
(B) Only statement II
(C) Both statements I and II
(D) Neither statement I nor statement II
2. According to Uttarakhand Economic Survey 2023 – 24, which of the following options represent correct sequence of gross district domestic product in F.Y. 2021 – 22 in decreasing order ?
- (A) Haridwar – Nainital – U.S.Nagar – Dehradun
(B) U.S.Nagar – Dehradun – Haridwar – Nainital
(C) Haridwar – U.S.Nagar – Dehradun – Nainital
(D) U.S.Nagar – Haridwar – Dehradun – Nainital

3. Match List – I with List – II and select the correct answer by using codes given below the lists.

List – I

- a. Tanya Kotnala
b. Shashi Bahuguna
c. Minakshi Khati
d. Shikha Prakash

List – II

1. The Aipan Project
2. Valley Culture India
3. Bhuli Design Studio
4. Namakwali Brand

- | | a | b | c | d |
|-----|---|---|---|---|
| (A) | 4 | 3 | 2 | 1 |
| (B) | 3 | 4 | 1 | 2 |
| (C) | 1 | 2 | 3 | 4 |
| (D) | 2 | 1 | 3 | 4 |

1. निम्न कथनों में से कौन-सा कथन सही है/हैं ?
कथन I : हिम रेखा को उस ऊँचाई के रूप में परिभाषित किया जाता है जिसके बाद भूमि स्थाई रूप से बर्फ से ढकी रहती है।
कथन II : बुग्याल वृक्ष पंक्ति एवं हिम रेखा के बीच उगते हैं।

- (A) केवल कथन I
(B) केवल कथन II
(C) कथन I और II दोनों
(D) न कथन I और न कथन II

2. उत्तराखण्ड आर्थिक सर्वेक्षण 2023 – 24 के अनुसार वर्ष 2021 – 22 में उत्तराखण्ड के जिलों का सकल जिला घरेलू उत्पाद का सही घटता क्रम क्या है ?

- (A) हरिद्वार-नैनीताल-ऊ.सि.नगर-देहरादून
(B) ऊ.सि.नगर-देहरादून-हरिद्वार-नैनीताल
(C) हरिद्वार-ऊ.सि.नगर-देहरादून-नैनीताल
(D) ऊ.सि.नगर-हरिद्वार-देहरादून-नैनीताल

3. सूची – I को सूची – II से सुमेलित कीजिये और सूचियों के नीचे दिये कूट का प्रयोग कर सही उत्तर चुनिये।

सूची – I

- a. तान्या कोटनाला
b. शशि बहुगुणा
c. मीनाक्षी खाती
d. शिखा प्रकाश

सूची – II

1. द ऐपण प्रोजेक्ट
2. वैली कल्चर इंडिया
3. भुली डिज़ाइन स्टूडियो
4. नमकवाली ब्रांड

- | | a | b | c | d |
|-----|---|---|---|---|
| (A) | 4 | 3 | 2 | 1 |
| (B) | 3 | 4 | 1 | 2 |
| (C) | 1 | 2 | 3 | 4 |
| (D) | 2 | 1 | 3 | 4 |



4. Who among the following is associated with transliteration of Pandukeshwar copper plates inscription ?

- (A) V. S. Wakankar
(B) Madhukar Keshav Dhavalikar
(C) Rajendralal Mitra
(D) Nayanjot Lahiri

5. Which of the following is the largest bugyal of Uttarakhand ?

- (A) Bedini (B) Dayara
(C) Kushkalyan (D) Dudhatoli

6. Ujeli or Aneri Holi festival is associated with which tribal community ?

- (A) Tharu (B) Bhotia
(C) Jaunsari (D) Santhal

7. The following are dance songs form related to Kumaon region

- (A) Rasaun
(B) Harul
(C) Chhapeli
(D) Chhopti

8. Given below are two statements, one is the Assertion (A) and the other is the Reason (R), answer by using code given below.

Assertion (A) : Khatling glacier is the source of Bhilangana river.

Reason (R) : This glacier is located at the distance of 10 km in the west of Kedarnath in district Tehri.

- (A) (A) is correct, but (R) is wrong
(B) (R) is correct but (A) is wrong
(C) Both (A) and (R) are correct but (R) is not the correct explanation of (A)
(D) Both are wrong

4. निम्नलिखित में से कौन पांडुकेश्वर ताम्र लेखों के लिप्यंतरण से जुड़ा है ?

- (A) वी. एस. वाकंकर
(B) मधुकर केशव धवलीकर
(C) राजेन्द्रलाल मित्रा
(D) नयनजोत लाहिरी

5. निम्न में से कौन-सा उत्तराखण्ड का सबसे बड़ा बुग्याल है ?

- (A) बेदिनी (B) दयारा
(C) कुशकल्याण (D) दूधातोली

6. उजेली या अनेरी होली त्योहार किस जनजातीय समुदाय से सम्बंधित है ?

- (A) थारु (B) भोटिया
(C) जौनसारी (D) सन्थाल

7. निम्न में कुमाऊँ क्षेत्र से सम्बन्धित नृत्य-गीत है,

- (A) रासों
(B) हारूल
(C) छपेली
(D) छोपती

8. नीचे दो वक्तव्य दिये गये हैं, एक को कथन (A) एवं दूसरे को कारण (R) कहा गया है, नीचे दिये गये कूट की मदद से उत्तर दीजिये ।

कथन (A) : खतलिंग ग्लेशियर भिलंगना नदी का स्रोत है ।

कारण (R) : यह ग्लेशियर टिहरी जिले में केदारनाथ से 10 किलोमीटर पश्चिम में स्थित है ।

- (A) (A) सही है परन्तु (R) गलत है
(B) (R) सही है परन्तु (A) गलत है
(C) (A) और (R) दोनों सही है परन्तु (R), (A) का सही स्पष्टीकरण नहीं है
(D) दोनों गलत है



37/24

9. Recently at which of the following place in Uttarakhand first RuTAG Smart Village Centre was inaugurated ?

- (A) Sarmoli
(B) Khoont
(C) Dakura
(D) Dagura

9. हाल ही में उत्तराखण्ड में निम्नलिखित में से किस स्थान पर पहले RuTAG स्मार्ट विलेज सेंटर का उद्घाटन किया गया ?

- (A) सरमोली
(B) खूंट
(C) डाकुरा
(D) दागुरा

10. Match the rivers with their places of origin.

Column – A

Column – B

1. Bhilangana
2. Mandakini
3. Saraswati
4. Alakananda
5. Ramganga

- a. Dudhatoli
b. Devtaal
c. Kedarnath
d. Khatling
e. Satopath

1	2	3	4	5
---	---	---	---	---

- (A) b c e a d
(B) d c b e a
(C) d c e a b
(D) a c b e d

10. नदियों को उनके उद्गम स्थल से सुमेलित कीजिए ।

कॉलम – A

कॉलम – B

1. भिल्लंगना
2. मंदाकिनी
3. सरस्वती
4. अलकनंदा
5. रामगंगा

- a. दूधातोली
b. देवताल
c. केदारनाथ
d. खतलिंग
e. सतोपथ

1	2	3	4	5
---	---	---	---	---

- (A) b c e a d
(B) d c b e a
(C) d c e a b
(D) a c b e d

11. Who among the following is credited with construction of Bijapur Canal in erstwhile Dehradun ?

- (A) Col. Young
(B) Col. Moore
(C) Capt. Cautley
(D) None of the above

11. निम्नलिखित में से किसे तत्कालीन देहरादून में बीजापुर नहर के निर्माण का श्रेय दिया जाता है ?

- (A) कर्नल यंग
(B) कर्नल मूर
(C) कैप्टन कौटले
(D) उपरोक्त में से कोई नहीं



12. "Leaves of this tree are used as fodder for the animals, its fibre is used for making ropes, the wood has high calorific value to be used as fuelwood" – This statement is true about which of the following trees found in Uttarakhand ?
- (A) Timil (B) Chir
(C) Bheengal (D) Kharak
13. Pungaari, Timarri, Mijhari are related to which of the following ?
- (A) Gorkha period Architecture
(B) Gorkha period Military system
(C) Gorkha period Ornaments
(D) Gorkha period Tax-system
14. Nandhaur Wildlife Sanctuary is located in which of the following districts ?
- (A) Nainital and Pauri
(B) Tehri and Uttarkashi
(C) Dehradun and Haridwar
(D) Nainital and Champawat
15. Which of the following options is true about inner line permit and restricted area permit in Uttarakhand ?
- (A) Inner line permit is issued by the State Government while restricted area permit is issued by the Central Government
(B) Inner line permit is issued by the Central Government while restricted area permit is issued by the State Government
(C) Inner line permit as well as restricted area permit are issued by the State Government
(D) Inner line permit as well as restricted area permit are issued by the Central Government
12. "इस वृक्ष की पत्तियाँ जानवरों के चारे के रूप में प्रयुक्त की जाती हैं, इसका रेशा रस्सी बनाने के लिए प्रयुक्त होता है, और इसकी लकड़ी का ऊष्मीय मान अधिक होने के कारण इसका प्रयोग जलौनी लकड़ी के रूप में किया जाता है" – यह कथन उत्तराखण्ड में पाये जाने वाले किस वृक्ष के लिए सही बैठता है ?
- (A) तिमिल (B) चीड़
(C) भींगल (D) खड़क
13. पुंगाड़ी, तिमारी, मिझारी निम्न में से किस से संबंधित है ?
- (A) गोरखा कालीन स्थापत्य कला
(B) गोरखा कालीन सैन्य व्यवस्था
(C) गोरखा कालीन आभूषण
(D) गोरखा कालीन कर व्यवस्था
14. नन्धौर वन्यजीव अभ्यारण्य निम्न में से किन जनपदों में स्थित है ?
- (A) नैनीताल एवं पौड़ी
(B) टिहरी एवं उत्तरकाशी
(C) देहरादून एवं हरिद्वार
(D) नैनीताल एवं चम्पावत
15. निम्नलिखित विकल्पों में से कौन-सा विकल्प उत्तराखण्ड में इनर लाईन परमिट और प्रतिबंधित क्षेत्र परमिट के बारे में सही है ?
- (A) इनर लाईन परमिट राज्य सरकार द्वारा जारी किया जाता है और प्रतिबंधित क्षेत्र परमिट केन्द्र सरकार द्वारा जारी किया जाता है
(B) इनर लाईन परमिट केन्द्र सरकार द्वारा जारी किया जाता है और प्रतिबंधित क्षेत्र परमिट राज्य सरकार द्वारा जारी किया जाता है
(C) इनर लाईन परमिट तथा प्रतिबंधित क्षेत्र परमिट दोनों राज्य सरकार द्वारा जारी किये जाते हैं
(D) इनर लाईन परमिट तथा प्रतिबंधित क्षेत्र परमिट दोनों केन्द्र सरकार द्वारा जारी किये जाते हैं

37/24



16. In which dance form the number of dancers should be in even numbers ?
- (A) Chaunfula
(B) Ramman
(C) Jagar
(D) None of the above
17. Historical reference of which of the following places travelled by Chinese traveller Hiuen Tsang is not found ?
- (A) Makarpur
(B) Madavar
(C) Mayapur
(D) Brahmpur
18. On the basis of codes given below, arrange the following events related to Uttarakhand State formation movement in ascending order of their occurrence.
1. Bataghat incident
 2. Mussoorie fusillade
 3. Khatima fusillade
 4. Rampur Tiraha incident
- Code :**
- (A) 3 1 2 4
(B) 4 1 2 3
(C) 3 2 1 4
(D) 2 3 1 4
19. Which song is rainy season song ?
- (A) Thadya dance song
(B) Chaumasa dance song
(C) Faufali dance song
(D) None of the above
16. प्रायः किस नृत्य में नर्तकों की संख्या सम होनी चाहिए ?
- (A) चौफुला
(B) रम्माण
(C) जागर
(D) उपरोक्त में से कोई नहीं
17. चीनी यात्री ह्वेन त्सांग द्वारा, निम्नलिखित में से किस स्थान की यात्रा का ऐतिहासिक सन्दर्भ नहीं मिलता है ?
- (A) मकरपुर
(B) मदावर
(C) मायापुर
(D) ब्रह्मपुर
18. नीचे दिये गए कूटों के आधार पर, उत्तराखण्ड राज्य निर्माण आंदोलन से संबंधित निम्नलिखित घटनाओं को उनके घटित होने के आरोही क्रम में व्यवस्थित करें।
1. बाटाघाट काण्ड
 2. मसूरी गोली काण्ड
 3. खटीमा गोली काण्ड
 4. रामपुर तिराहा काण्ड
- कूट :**
- (A) 3 1 2 4
(B) 4 1 2 3
(C) 3 2 1 4
(D) 2 3 1 4
19. कौन-सा गीत बरसात के दिनों के गीत है ?
- (A) थड्या नृत्यगीत
(B) चौमासा नृत्यगीत
(C) फौफली नृत्यगीत
(D) उपरोक्त में से कोई नहीं





20. Which of the following Institute is not situated in Uttarakhand ?
- (A) Indian Institute of Petroleum
(B) Indian Institute of Horticultural Research
(C) Indian Institute of Remote Sensing
(D) Central Building Research Institute

21. "Baithakhi Holi" is mainly famous in
- (A) Tehri Garhwal
(B) Jaunsar Region
(C) Rudraprayag
(D) Almora Region

22. Match List – I with List – II and select the correct answer by using codes given below the lists.

List – I

List – II

- | | |
|-------------------------|---------------|
| a. Devidhura mausoleum | 1. Uttarkashi |
| b. Hudli rock-paintings | 2. Almora |
| c. Lakhudyar caves | 3. Champawat |
| d. Gorkhya udyar caves | 4. Chamoli |

Code :

- | | | | | |
|-----|----------|----------|----------|----------|
| | a | b | c | d |
| (A) | 4 | 3 | 2 | 1 |
| (B) | 3 | 1 | 2 | 4 |
| (C) | 1 | 2 | 3 | 4 |
| (D) | 2 | 1 | 3 | 4 |

20. निम्नलिखित में से कौन-सा संस्थान उत्तराखण्ड स्थित नहीं है ?
- (A) भारतीय पेट्रोलियम संस्थान
(B) भारतीय बागवानी अनुसंधान संस्थान
(C) भारतीय सुदूर संवेदन संस्थान
(D) केंद्रीय भवन अनुसंधान संस्थान

21. "बैठकी होली" मुख्यतः प्रसिद्ध है
- (A) टिहरी गढ़वाल में
(B) जौनसार क्षेत्र में
(C) रुद्रप्रयाग में
(D) अल्मोडा क्षेत्र में

22. सूची – I को सूची – II से सुमेलित कीजिये और सूचियों के नीचे दिए गये कूट का प्रयोग कर सही उत्तर चुनिये।

- | | |
|-------------------------|------------------|
| सूची – I | सूची – II |
| a. देवीधुरा की समाधियाँ | 1. उत्तरकाशी |
| b. हुडली शैलचित्र | 2. अल्मोड़ा |
| c. लाखु उडयार | 3. चम्पावत |
| d. ग्वारख्या उडयार | 4. चमोली |

कूट :

- | | | | | |
|-----|----------|----------|----------|----------|
| | a | b | c | d |
| (A) | 4 | 3 | 2 | 1 |
| (B) | 3 | 1 | 2 | 4 |
| (C) | 1 | 2 | 3 | 4 |
| (D) | 2 | 1 | 3 | 4 |





37/24

23. Which of the following statement is/are correct ?

Statement I : Nanda Devi Raj Jaat Yatra starts from Nauti Village.

Statement II : Bedni Bugyal (meadow) is an important halt during the yatra.

- (A) Only statement I
(B) Only statement II
(C) Both statements I and II
(D) Neither statement I nor statement II

24. Match the List – I with List – II and select the correct option from the code given below.

List – I

- a. Sunderdhunga
b. Dokriani
c. Namik
d. Khatling

List – II

1. Uttarkashi
2. Bageshwar
3. Tehri Garhwal
4. Pithoragarh

Code :

- | | a | b | c | d |
|-----|---|---|---|---|
| (A) | 2 | 4 | 3 | 1 |
| (B) | 2 | 3 | 1 | 4 |
| (C) | 3 | 4 | 2 | 1 |
| (D) | 2 | 1 | 4 | 3 |

25. Who among the following founded the 'Folk Culture Museum' in Bhimtal ?

- (A) Shekhar Pathak
(B) Yashodhar Mathpal
(C) Srikrishna Joshi
(D) Soban Singh Jeena

23. निम्न कथनों में से कौन-सा कथन सही है/हैं ?
कथन I : नंदा देवी राज जात यात्रा नौटी गाँव से प्रारम्भ होती है ।

कथन II : यात्रा के दौरान बेदनी बुग्याल एक महत्वपूर्ण पड़ाव है ।

- (A) केवल कथन I
(B) केवल कथन II
(C) कथन I एवं II दोनों
(D) न कथन I और न कथन II

24. सूची – I को सूची – II से सुमेलित कीजिये और नीचे दिये गये कूट से सही विकल्प चुनिये ।

सूची – I

- a. सुन्दरदूंगा
b. डोकरियानी
c. नामिक
d. खतलिंग

सूची – II

1. उत्तरकाशी
2. बागेश्वर
3. टिहरी गढ़वाल
4. पिथौरागढ़

कूट :

- | | a | b | c | d |
|-----|---|---|---|---|
| (A) | 2 | 4 | 3 | 1 |
| (B) | 2 | 3 | 1 | 4 |
| (C) | 3 | 4 | 2 | 1 |
| (D) | 2 | 1 | 4 | 3 |

25. निम्नलिखित में से किसने भीमताल में 'लोक संस्कृति संग्रहालय' की स्थापना की ?

- (A) शेखर पाठक
(B) यशोधर मठपाल
(C) श्रीकृष्ण जोशी
(D) सोबन सिंह जीना





26. In which district of Uttarakhand, the first Grain A.T.M. of the State has been installed ?
 (A) Dehradun
 (B) Haridwar
 (C) Udham Singh Nagar
 (D) Nainital
27. Read the following statements :
Statement 1 : "Bhankora instrument" is made of copper. This instrument is used in religious Garhwali folk God summoning.
Statement 2 : "Bhankora" is played to give information on the occasion of war.
 Which of the above statements is correct ?
 (A) Only 1
 (B) Only 2
 (C) 1 and 2 both are correct
 (D) 1 and 2 both are wrong
28. Who among the following created the book 'Garhwali Chhandmala' ?
 (A) Mohanlal Negi
 (B) Jaydev Bahuguna
 (C) Leelanand Kotnala
 (D) Totakrishna Gairola
29. Which war memorial was established by British empire to honor the valour of Gorkha warriors even after the defeat of Gorkhas in Anglo-Gorkha war ?
 (A) Khalanga War Memorial
 (B) Gabar Singh Memorial
 (C) Uttarakhand War Memorial
 (D) Cheed Bagh Memorial
26. उत्तराखण्ड राज्य के किस जनपद में प्रदेश का पहला ग्रेन ए.टी.एम. स्थापित किया गया है ?
 (A) देहरादून
 (B) हरिद्वार
 (C) उधम सिंह नगर
 (D) नैनीताल
27. निम्नलिखित कथनों को पढ़ें :
कथन 1 : "भंकोरा वाद्य" तांबे से बना होता है। इस वाद्य यंत्र का प्रयोग धार्मिक गढ़वाली लोक देवता आह्वान में किया जाता है।
कथन 2 : "भंकोरा" को युद्ध के अवसर पर सूचना देने हेतु बजाया जाता था।
 उपरोक्त कथनों में से कौन-सा सही है ?
 (A) केवल 1
 (B) केवल 2
 (C) 1 और 2 दोनों सही हैं
 (D) 1 और 2 दोनों गलत हैं
28. निम्नलिखित में से किसने पुस्तक 'गढ़वाली छंदमाला' की रचना की ?
 (A) मोहनलाल नेगी
 (B) जयदेव बहुगुणा
 (C) लीलानन्द कोटनाला
 (D) तोताकृष्ण गैरोला
29. किस युद्ध स्मारक का निर्माण अंग्रेजों द्वारा अंग्रेज-गोरखा युद्ध में गोरखों की हार के बावजूद गोरखा वीरों की बहादुरी का सम्मान करने के लिए किया गया ?
 (A) खलंगा वार मेमोरियल
 (B) गबर सिंह मेमोरियल
 (C) उत्तराखण्ड वार मेमोरियल
 (D) चीड बाग मेमोरियल





30. Which of the following rock-edict of Uttarakhand mentions name of Greek Kings ?
- (A) Palethi
(B) Mandal
(C) Kalsi
(D) Bageshwar
31. In which "Purana" the four abodes (Char Dham) of Garhwal were described by Maharshi Ved Vyas in detail ?
- (A) Padma Purana
(B) Skanda Purana
(C) Shiv Purana
(D) Vaaman Purana
32. Dungi-Pantoli Movement is related to
- (A) Water Conservation
(B) Construction of Road
(C) Handover of Baanj forests to Horticulture Department
(D) Land Resource Management
33. Which of the following is not related to Gorakhpanti treatises of Garhwal ?
- (A) Dhol Sagar
(B) Smaina
(C) Sabha Sagar
(D) Srinath ji ki Sukles
34. Who among the following did not participate in the revolt against the Princely State of Tehri ?
- (A) Sridev Suman
(B) Nagendra Saklani
(C) Molu Bhandari
(D) Kalyan Chand
30. निम्नलिखित में से, उत्तराखण्ड के किस शिलालेख में यूनानी राजाओं के नाम का उल्लेख है ?
- (A) पलेठी
(B) मण्डल
(C) कालसी
(D) बागेश्वर
31. किस "पुराण" में महर्षि वेद व्यास ने गढ़वाल के चार धामों का सविस्तार वर्णन किया है ?
- (A) पद्म पुराण
(B) स्कन्द पुराण
(C) शिव पुराण
(D) वामन पुराण
32. डूँगी-पान्टोली आन्दोलन सम्बंधित है
- (A) जल संरक्षण
(B) सड़क निर्माण
(C) बाँझ के जंगलों को उद्यान विभाग को हस्तान्तरित करने के लिए
(D) भूमि संसाधन प्रबन्धन
33. निम्नलिखित में से कौन-सा गढ़वाल के गोरखपंथी ग्रंथों से संबंधित नहीं है ?
- (A) ढोल सागर
(B) समैणा
(C) सभा सागर
(D) श्रीनाथ जी की सुकलेस
34. निम्नलिखित में से किसने टिहरी रियासत के खिलाफ विद्रोह में भाग नहीं लिया था ?
- (A) श्रीदेव सुमन
(B) नागेन्द्र सकलानी
(C) मोलू भण्डारी
(D) कल्याण चन्द

37/24



35. Which local breed of cow is being bred and improved in Nariyal Gao, Champawat by ULDB (Uttarakhand Livestock Development Board) ?

- (A) Gauri
- (B) Badri
- (C) Himdhenu
- (D) Red Sindhi

35. गाय कि किस स्थानीय नस्ल का प्रजनन तथा सुधार , यू एल डी बी (उत्तराखण्ड पशुधन विकास बोर्ड) द्वारा नारियल गाँव, चंपावत में किया जा रहा है ?

- (A) गौरी
- (B) बद्री
- (C) हिमधेनु
- (D) लाल सिंधी

36. Match the following.

Column – A

1. Lichen Park
2. First Crocodile trail-Kakra
3. Surabhi Vatika (Aromatic garden)
4. Second largest phycus garden in India

Column – B

- a. Udham Singh Nagar
- b. Munsyari
- c. Lalkuan, Haldwani
- d. Lalkuan, Haldwani

1 2 3 4

- (A) b c a d
- (B) c d a b
- (C) b a c d
- (D) a b d c

36. सुमेलित कीजिए ।

कॉलम – अ

1. लाइकन पार्क
2. प्रथम मगरमच्छ पथ (काकरा)
3. सुरभि वाटिका (सुगंध/ एरोमेटिक गार्डन)
4. भारत का दूसरा सबसे बड़ा फइकस गार्डन

कॉलम – ब

- a. उधम सिंह नगर
- b. मुनस्यारी
- c. लालकुँआ, हल्द्वानी
- d. लालकुँआ, हल्द्वानी

बड़ा फइकस गार्डन

1 2 3 4

- (A) b c a d
- (B) c d a b
- (C) b a c d
- (D) a b d c

37. Which of the following is the India's first Astro-Tourism Campaign launched by Uttarakhand ?

- (A) Tara-Mandal
- (B) Nakshatra-Sabha
- (C) Akash-Ganga
- (D) Akash-Yatra

37. निम्नलिखित में से कौन-सा उत्तराखण्ड द्वारा शुरु किया गया, भारत का पहला खगोल पर्यटन अभियान है ?

- (A) तारा-मण्डल
- (B) नक्षत्र-सभा
- (C) आकाश-गंगा
- (D) आकाश-यात्रा



38. Which of the following is/are Committees of Uttarakhand Vidhan Sabha ?
1. Committee on Youth Affairs
 2. Committee on Local Dialect Language
 3. Committee on Migration
 4. Committee on Bhu-Kanun
- (A) 1, 2 and 4
(B) 1, 2 and 3
(C) 2, 3 and 4
(D) 2 and 3
39. Which among the following options represents correct hierarchy of the officials in the Uttarakhand Government ?
- (A) Additional Chief Secretary – Secretary – Principal Secretary – Additional Secretary
 - (B) Additional Chief Secretary – Additional Secretary – Secretary – Principal Secretary
 - (C) Principal Secretary – Additional Chief Secretary – Secretary – Additional Secretary
 - (D) Additional Chief Secretary – Principal Secretary – Secretary – Additional Secretary
40. Under what brand name the handloom and handicraft products of Uttarakhand State are marketed in other States ?
- (A) Bhagirathi
 - (B) Himadri
 - (C) Ganga
 - (D) Sanjivani
38. निम्नलिखित में से कौन-सी उत्तराखण्ड विधान सभा की समिति है ?
1. युवा मामलों पर समिति
 2. स्थानीय बोली भाषाओं पर समिति
 3. पलायन पर समिति
 4. भू-कानून पर समिति
- (A) 1, 2 और 4
(B) 1, 2 और 3
(C) 2, 3 और 4
(D) 2 और 3
39. निम्नलिखित में से कौन-सा विकल्प उत्तराखण्ड सरकार में कार्मिकों का सही पदानुक्रम दर्शाता है ?
- (A) अपर मुख्य सचिव-सचिव-प्रमुख सचिव-अपर सचिव
 - (B) अपर मुख्य सचिव-अपर सचिव-सचिव-प्रमुख सचिव
 - (C) प्रमुख सचिव-अपर मुख्य सचिव-सचिव-अपर सचिव
 - (D) अपर मुख्य सचिव- प्रमुख सचिव-सचिव-अपर सचिव
40. उत्तराखण्ड राज्य के हथकरघा और हस्तशिल्प उत्पादों का विपणन अन्य राज्यों में किस ब्रांड नाम से किया जाता है ?
- (A) भागीरथी
 - (B) हिमाद्री
 - (C) गंगा
 - (D) संजीवनी



Reasoning

41. Choose one word out of the given alternatives, which cannot be formed from the letters of the word 'CONSULTATION'.

- (A) CONSTANT (B) NATION
(C) SALUTE (D) STATION

42. Shivay was born on 29th February. He celebrated his birthday falling on exactly 29th February 2012 for 6th time. In which year he was born ?

- (A) 2000 (B) 1996
(C) 1992 (D) 1988

43. If A stands for 'addition', M for 'multiplication', D for 'division', G for 'greater than' and L for 'Less than' then which of the following will be logically correct ?

- (A) 20 A 4 D 4 L 4 A 6 D 2
(B) 20 D 5 G 8 D 4 A 6 M 3
(C) 20 D 4 A 4 L 4 A 2 M 3
(D) None of these

44. Which of the following will come in place of question mark in the given sequence ?

16D7, 18G10, 21K14, 25P19, ?

- (A) 30V20 (B) 30V25
(C) 30V24 (D) 29V25

45. If \times means $+$, $+$ means \div , $-$ means \times and \div means $-$, then $8 \times 7 - 8 + 40 \div 2 = ?$

- (A) 1 (B) $7\frac{2}{5}$
(C) $8\frac{3}{5}$ (D) 44

46. A cube is painted blue on all faces and then cut into 125 cubes of equal size. How many cubes are not painted on any face ?

- (A) 8 (B) 16
(C) 27 (D) 36

41. दिये गये विकल्पों में से उस एक शब्द का चयन कीजिए, जो कि शब्द 'CONSULTATION' के वर्णों को लेकर नहीं बनाया जा सकता है।

- (A) CONSTANT (B) NATION
(C) SALUTE (D) STATION

42. शिवाय का जन्म 29 फरवरी को हुआ था। उसने अपना जन्म दिन छठी बार ठीक 29 फरवरी 2012 को मनाया। उसका जन्म दिन किस वर्ष हुआ था ?

- (A) 2000 (B) 1996
(C) 1992 (D) 1988

43. A 'योगफल', M 'गुणा' के लिए, D 'भागफल' के लिए, G 'अधिक' के लिए और L 'कम' के लिए हो तो निम्न में से कौन-सा तार्किक रूप से सही होगा ?

- (A) 20 A 4 D 4 L 4 A 6 D 2
(B) 20 D 5 G 8 D 4 A 6 M 3
(C) 20 D 4 A 4 L 4 A 2 M 3
(D) इनमें से कोई नहीं

44. दिये गये अनुक्रम में, प्रश्नवाचक चिह्न के स्थान पर निम्न में से क्या आयेगा ?

16D7, 18G10, 21K14, 25P19, ?

- (A) 30V20 (B) 30V25
(C) 30V24 (D) 29V25

45. यदि \times का अर्थ $+$, $+$ का अर्थ \div , $-$ का अर्थ \times और \div का अर्थ $-$ हो, तो $8 \times 7 - 8 + 40 \div 2 = ?$

- (A) 1 (B) $7\frac{2}{5}$
(C) $8\frac{3}{5}$ (D) 44

46. एक घन के सभी फलकों को नीला रंग दिया गया है और तब समान माप के 125 घनों में काट दिया गया है। ऐसे कितने घन हैं जिनके किसी भी फलक को रंगा नहीं गया है ?

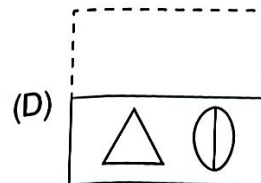
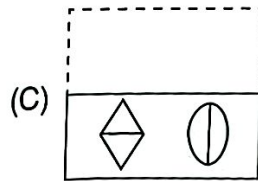
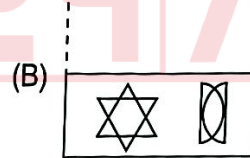
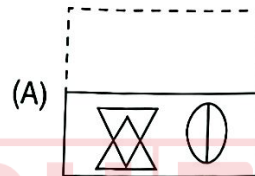
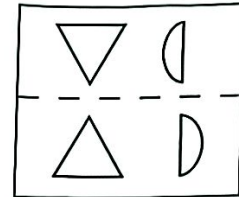
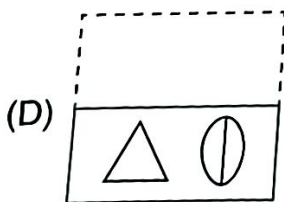
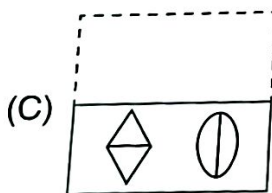
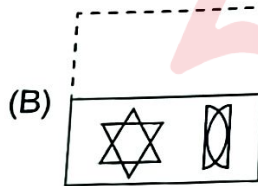
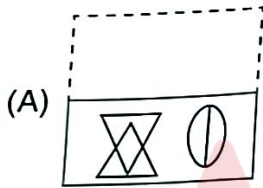
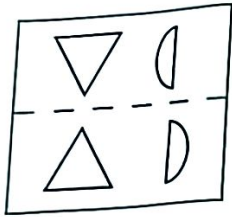
- (A) 8 (B) 16
(C) 27 (D) 36



47. There are two married couples in a family. Puja has two children. Parul is the wife of Rajesh, who is the brother of Gunjan. Kajal is Mahima is the daughter of Puja. Kajal is the sister of Rakesh, who is the son of Rajesh. Gaurav is the son of Gunjan, who is male. How is Parul related to Puja ?

- (A) Sister (B) Sister-in-law
(C) Aunt (D) Mother

48. If the following pattern is drawn on a transparent rectangular sheet and folded along the dotted line, how does it appear ?



47. एक परिवार में दो वैवाहिक युगल हैं। पूजा के दो बच्चे हैं। पारुल, राजेश की पत्नी है, जो कि गुन्जन का भाई है। महिमा, पूजा की पुत्री है। काजल, राकेश की बहन है, जो कि राजेश का बेटा है। गौरव, गुन्जन का बेटा है, जो कि पुरुष है। पारुल का पूजा से क्या सम्बन्ध है ?

- (A) बहन (B) भाभी
(C) चाची (D) माता

48. यदि निम्नलिखित पैटर्न पारदर्शी शीट पर खींचा जाता है और बिंदीकार रेखा के साथ मोड़ा जाता है, तो यह कैसा दिखायी देता है ?





49. Ram and Rahim are returning home starting from the same point. Ram walks 2 km towards South, then turns to his right and walks 6 km to reach his home. In the mean while Rahim walks 5 km towards West, then he turns to his left and walks 4 km, then he turns to his left and walks 1 km to reach his home. Where is Rahim's home with respect to the Ram's home ?

- (A) 6 km South
(B) 4 km South
(C) 4 km North
(D) 6 km North

50. Six people K, M, N, P, Q and R are sitting around a circular table facing the centre. If K sits third to the left of M, only one person sits between K and N, R sits to the immediate left of N, then who sits immediate right of K ?

- (A) P
(B) Q
(C) R
(D) N



37/24

49. राम और रहीम एक ही बिन्दु से शुरू करके अपने घर की ओर लौट रहे हैं। राम 2 km दक्षिण की ओर चलता है और फिर अपनी दायी ओर मुड़कर अपने घर पहुंचने के लिए 6 km चलता है। इसी बीच रहीम 5 km पश्चिम की ओर चलता है और फिर उत्तर की ओर मुड़कर 4 km चलता है, फिर अपनी बायी ओर मुड़कर अपने घर पहुंचने के लिए 1 km चलता है। राम के घर के सापेक्ष, रहीम का घर कहाँ है ?

- (A) 6 km दक्षिण
(B) 4 km दक्षिण
(C) 4 km उत्तर
(D) 6 km उत्तर

50. छः लोग K, M, N, P, Q और R, एक गोल मेज की चारों तरफ केन्द्र की तरफ मुँह करके बैठे हुए हैं। यदि K, M की बाँयी तरफ तीसरे स्थान पर बैठा है। K और N के बीच केवल एक व्यक्ति बैठा है। R, N के एकदम बाँयी तरफ बैठा है तब K के एकदम दाहिनी तरफ कौन बैठा है ?

- (A) P
(B) Q
(C) R
(D) N

General Knowledge

51. "Siricilla Tragedy" is related to

- (A) Weavers
- (B) Farmers
- (C) Workers
- (D) All of the above

52. Which ruler of the Mauryan period was the first to introduce the post of "Dhammamahamatra" ?

- (A) Chandragupta Mourya
- (B) Bindusar
- (C) Dashrath
- (D) Ashoka



53. Choose the correctly matched pairs out of the following :

- | | | |
|----------------------|---|---------------------------|
| 1. Blue Revolution | - | Fish Production |
| 2. White Revolution | - | Dairy and Milk Production |
| 3. Yellow Revolution | - | Oilseed Production |
| 4. Red Revolution | - | Fertilizer Production |

- (A) 1, 2 and 3
- (B) 1, 2 and 4
- (C) Only 1 and 2
- (D) Only 3 and 4

51. "सिरीसिला त्रासदी" का संबंध है

- (A) बुनकर
- (B) कृषक
- (C) मजदूर
- (D) उपरोक्त सभी

52. किस मौर्यकालीन शासक ने सबसे पहले "धम्ममहामात्र" के पद को स्थापित किया ?

- (A) चन्द्रगुप्त मौर्य
- (B) बिन्दुसार
- (C) दशरथ
- (D) अशोक

53. निम्नलिखित में से सही सुमेलित युग्म का चयन कीजिए :

- | | | |
|------------------|---|-----------------------|
| 1. नीली क्रांती | - | मत्स्य उत्पादन |
| 2. श्वेत क्रांती | - | डेयरी एवं दूध उत्पादन |
| 3. पीली क्रांती | - | तिलहन उत्पादन |
| 4. लाल क्रांती | - | उर्वरक उत्पादन |

- (A) 1, 2 और 3
- (B) 1, 2 और 4
- (C) केवल 1 और 2
- (D) केवल 3 और 4



54. Term Connectome is related to which of the following ?
- (A) Internet service provided by Neuralink Company
 - (B) Internet service provided by Reliance-JIO Company
 - (C) Map of neural connections in the brain
 - (D) Genome sequencing of SARS-CoV-2 Virus



54. कनेक्टोम शब्द निम्नलिखित में से किससे संबंधित है ?
- (A) न्यूरालिंक कंपनी द्वारा प्रदत्त इंटरनेट सेवा
 - (B) रिलायंस-जिओ कंपनी द्वारा प्रदत्त इंटरनेट सेवा
 - (C) मस्तिष्क में तंत्रिका कनेक्शन का मानचित्र
 - (D) SARS-CoV-2 वायरस का जीनोम अनुक्रमण

55. Which items are not included in M_3 measure of money supply ?
- (A) Other deposits with RBI
 - (B) Total deposits with Post Office Saving Banks
 - (C) Currency and coins with public
 - (D) Total deposits with banks

55. मुद्रा आपूर्ति के माप M_3 में कौन-सा मद शामिल नहीं है ?
- (A) आरबीआई के पास अन्य जमा
 - (B) डाकघर बचत बैंकों में कुल जमा
 - (C) जनता के पास करेंसी और सिक्के
 - (D) बैंकों के पास कुल जमा

56. Match List – I with List – II and select the correct answer by using code given below the list.

56. सूची – I को सूची – II से सुमेलित कीजिए एवं सूचियों के नीचे दिये गए कूट का उपयोग कर सही उत्तर का चयन करें ।

List – I

List – II

- | | |
|---------------|---|
| a. Art. 39(a) | 1. Protection of life and personal liberty |
| b. Art. 43 | 2. Prohibition of traffic in human beings and forced labour |
| c. Art. 21 | 3. Equal justices and free legal aid |
| d. Art. 23 | 4. Living wage etc. for workers |

सूची – I

सूची – II

- | | |
|---------------|---|
| a. अनु. 39(a) | 1. प्राण और दैहिक स्वतंत्रता का संरक्षण |
| b. अनु. 43 | 2. मानव के दुर्व्यापार और बलात्श्रम का प्रतिरोध |
| c. अनु. 21 | 3. समान न्याय और निःशुल्क विधिक सहायता |
| d. अनु. 23 | 4. कर्मकारों के लिए निःशुल्क मजदूरी आदि |

Code :

- | | a | b | c | d |
|-----|---|---|---|---|
| (A) | 4 | 2 | 3 | 1 |
| (B) | 3 | 4 | 1 | 2 |
| (C) | 3 | 2 | 1 | 4 |
| (D) | 2 | 1 | 3 | 4 |

कूट :

- | | a | b | c | d |
|-----|---|---|---|---|
| (A) | 4 | 2 | 3 | 1 |
| (B) | 3 | 4 | 1 | 2 |
| (C) | 3 | 2 | 1 | 4 |
| (D) | 2 | 1 | 3 | 4 |



57. Consider the following statements.

1. The height of Spring tides is 20% more than normal tides.
2. The height of neap tides is generally 20% lower than the normal tides.

Which of the above statements is/are correct ?

- (A) Only 1
(B) Only 2
(C) Both the statements 1 and 2 are correct
(D) Both the statements 1 and 2 are incorrect

58. Consider the following statements :

Statement 1 : Soil Health-card Scheme aims at expanding the cultivable area under irrigation.

Statement 2 : Soil Health-card Scheme aims to check the overuse of fertilizers in farmlands.

Which one of the above statements is correct ?

- (A) Only 1
(B) Only 2
(C) Both 1 and 2 are correct
(D) Both 1 and 2 are wrong



59. Who among the following was the "Peshwa" at the time of the "Third Battle of Panipat" ?

- (A) Balaji Bajirao
(B) Madhavrao First
(C) Raghunathrao
(D) Balaji Second

57. निम्नलिखित कथनों पर विचार कीजिए ।

1. पूर्ण ज्वार की ऊंचाई सामान्य ज्वार से 20% अधिक होती है ।
2. लघु ज्वार की ऊंचाई सामान्य ज्वार से सामान्यतया 20% कम होती है ।

उपर्युक्त कथनों में से कौन-सा सही है/हैं ?

- (A) केवल 1
(B) केवल 2
(C) 1 और 2 दोनों कथन सही है
(D) 1 और 2 दोनों कथन गलत है

58. निम्नलिखित कथनों पर विचार करें :

कथन 1 : मृदा स्वास्थ्य कार्ड योजना का उद्देश्य सिंचाई के तहत कृषि क्षेत्र का विस्तार करना है ।

कथन 2 : मृदा स्वास्थ्य कार्ड योजना का उद्देश्य कृषि भूमि पर उर्वरकों के अत्यधिक उपयोग को रोकना है ।

उपरोक्त कथनों में से कौन-सा कथन सही है ?

- (A) केवल 1
(B) केवल 2
(C) दोनों 1 और 2 सही हैं
(D) दोनों 1 और 2 गलत हैं

59. निम्नलिखित में से कौन "पानीपत के तृतीय युद्ध" के समय "पेशवा" था ?

- (A) बालाजी बाजीराव
(B) माधवराव प्रथम
(C) रघुनाथराव
(D) बालाजी द्वितीय



37/24

60. Match List – I with List – II and select the correct answer by using the code given below.

List – I	List – II
a. Namit Sharma Case	1. Effective access to justice
b. Ram Jethmalani Case	2. Power of High Courts under Art. 226 and 227
c. Central Coal Fields Ltd. Case	3. Power of Supreme Court under Art. 32
d. L. Chandra Kumar Case	4. Freedom and dignity of the individual

Code :

	a	b	c	d
(A)	4	1	2	3
(B)	2	1	4	3
(C)	2	4	1	3
(D)	4	3	1	2

60. सूची – I को सूची – II से सुमेलित करें एवं नीचे दिये गए कूटों के आधार पर सही उत्तर का चयन करें।

सूची – I	सूची – II
a. नमित शर्मा केस	1. न्याय तक प्रभावी पहुँच
b. राम जेठमलानी केस	2. अनु. 226 एवं 227 के तहत उच्च न्यायालयों की अधिकार
c. सेन्ट्रल कोल फील्ड्स लि. केस	3. अनु. 32 के तहत सर्वोच्च न्यायालय की अधिकार
d. एल. चन्द्र कुमार केस	4. व्यक्ति की स्वतंत्रता एवं गरिमा

कूट :

	a	b	c	d
(A)	4	1	2	3
(B)	2	1	4	3
(C)	2	4	1	3
(D)	4	3	1	2

61. Which of the following pairs is not correctly matched ?

- (A) Kober – Geosynclinal Orogen Theory
- (B) Daly – Sliding Continent Theory
- (C) Jeffreys – Plate Tectonic Theory
- (D) Joly – Radioactivity Theory

61. निम्नलिखित में से कौन-सा युग्म सही सुमेलित नहीं है ?

- (A) कोबर – मूसन्नति सिद्धांत
- (B) डली – महाद्वीपीय फिसलन सिद्धांत
- (C) जेफ्रीज – प्लेट विवर्तन सिद्धांत
- (D) जोली – रेडियोएक्टिवता सिद्धांत

37/24

62. Choose the correct sequence of instruction cycle in execution process.
- (A) Fetch → Store → Execute → Decode
 (B) Fetch → Decode → Execute → Store
 (C) Store → Decode → Execute → Fetch
 (D) Execute → Fetch → Decode → Store
63. Which one of the following pair is not correct ?

Rank	Export in Dollar
------	------------------

- (A) One star export house – \$ 3 million
 (B) Two star export house – \$ 25 million
 (C) Three star export house – \$ 100 million
 (D) Fourth star export house – \$ 2000 million

4. According to the new definition adopted in July 2020, a 'micro' enterprise is defined as

- (A) Investment in plant and machinery upto ₹ 50 Lakh and annual turnover not more than ₹ 1 Crore
- (B) Investment in plant and machinery upto ₹ 75 Lakh and annual turnover not more than ₹ 2 Crores
- (C) Investment in plant and machinery upto ₹ 1 Crore and annual turnover not more than ₹ 5 Crores
- (D) Investment in plant and machinery upto ₹ 2 Crores and annual turnover not more than ₹ 10 Crores

62. निष्पादन प्रक्रिया में निर्देश चक्र का सही क्रम चुनें।
- (A) फैच → स्टोर → एक्सिक्यूट → डिकोड
 (B) फैच → डिकोड → एक्सिक्यूट → स्टोर
 (C) स्टोर → डिकोड → एक्सिक्यूट → फैच
 (D) एक्सिक्यूट → फैच → डिकोड → स्टोर

63. निम्न में से कौन-सा युग्म सही नहीं है ?

श्रेणी	डॉलर में निर्यात
--------	------------------

- (A) एक तारा निर्यात गृह – 3 मिलियन डॉलर
 (B) दो तारा निर्यात गृह – 25 मिलियन डॉलर
 (C) तीन तारा निर्यात गृह – 100 मिलियन डॉलर
 (D) चार तारा निर्यात गृह – 2000 मिलियन डॉलर

64. जुलाई 2020 में लागू की गयी नई परिभाषा के अनुसार, 'सूक्ष्म' उपक्रम की परिभाषा है

- (A) संयंत्र और मशीनरी में निवेश ₹ 50 लाख तक तथा वार्षिक टर्नओवर ₹ 1 करोड़ से अधिक नहीं
- (B) संयंत्र और मशीनरी में निवेश ₹ 75 लाख तक तथा वार्षिक टर्नओवर ₹ 2 करोड़ से अधिक नहीं
- (C) संयंत्र और मशीनरी में निवेश ₹ 1 करोड़ तक तथा वार्षिक टर्नओवर ₹ 5 करोड़ से अधिक नहीं
- (D) संयंत्र और मशीनरी में निवेश ₹ 2 करोड़ तक तथा वार्षिक टर्नओवर ₹ 10 करोड़ से अधिक नहीं



65. Given below are two statements, one is the Assertion (A) and the other is the Result (R). Answer by using code given below :

Assertion (A) : Second Five Year Plan prioritised to the industrialisation.

Result (R) : Three steel plants were set up in the public sector and modernisation undertaken in the private sector.

- (A) (A) is correct and (R) is wrong
 (B) (R) is correct and (A) is wrong
 (C) Both (A) and (R) are correct, but (R) is not the correct explanation of (A)
 (D) Both (A) and (R) are correct, and (R) is the correct explanation of (A)

66. Which of the following is not a Web Browser ?

- (A) Mozilla (B) Microsoft Edge
 (C) Google (D) Chrome

67. **Statement-I:** Non-cooperation Movement was formally launched after the expiry of the notice given to Lord Chelmsford by Gandhiji.

Statement - II : Lokamanya Tilak died on the same day of launching of the Non-cooperation Movement.



Choose the correct answer by using code given below :

Code :

- (A) Statement I is true but II is false
 (B) Statement II is true but I is false
 (C) Statement I and II both are true
 (D) Statement I and II both are false

65. नीचे दो वक्तव्य दिये गए हैं, एक को कथन (A) एवं दूसरे को परिणाम (R) कहा गया है। नीचे दिये गए कूट की मदद से उत्तर दीजिए।

कथन (A) : द्वितीय पंचवर्षीय योजना में औद्योगिकीकरण को महत्व दिया गया।

परिणाम (R) : सार्वजनिक क्षेत्र में तीन स्टील उद्योग स्थापित किए गये और निजी क्षेत्र में आधुनिकीकरण किया गया।

- (A) (A) सही है और (R) गलत है
 (B) (R) सही है और (A) गलत है
 (C) (A) और (R) दोनों सही हैं, परन्तु (R), (A) का सही स्पष्टीकरण नहीं है
 (D) (A) और (R) दोनों सही हैं, और (R), (A) का सही स्पष्टीकरण है

66. निम्न में से कौन-सा वेब ब्राउजर नहीं है ?

- (A) मोजिला (B) माइक्रोसॉफ्ट एज
 (C) गूगल (D) क्रोम

67. **कथन - I :** गांधीजी द्वारा लॉर्ड चेम्सफोर्ड को दिये गए नोटिस की समाप्ति के बाद असहयोग आंदोलन औपचारिक रूप से शुरू किया गया था।

कथन - II : असहयोग आन्दोलन प्रारम्भ करने के दिन ही लोकमान्य तिलक की मृत्यु हो गयी।

नीचे दिए गए कूट की सहायता से सही उत्तर का चयन करें :

कूट :

- (A) कथन I सत्य है किन्तु II असत्य है
 (B) कथन II सत्य है किन्तु I असत्य है
 (C) कथन I एवं II दोनों सत्य हैं
 (D) कथन I एवं II दोनों असत्य हैं



68. Who called Lord Ripon "The Saviour of India" ?

- (A) Florence Nightingle
- (B) Arnold White
- (C) Madan Mohan Malviya
- (D) Gandhiji

69. Match List – I with List – II and select the correct answer by using the code given below.

List – I

- a. Yangsi
- b. Minam
- c. Iravadi
- d. Shatt-al-Arab

List – II

- 1. Thailand
- 2. China
- 3. Iraq
- 4. Myanmar

Code :

	a	b	c	d
(A)	2	1	4	3
(B)	1	2	3	4
(C)	2	4	1	3
(D)	2	3	4	1

70. Match the List – I with List – II and choose the correct answer from the code given below the lists.

List – I

- a. Tripura
- b. Manipur
- c. Nagaland
- d. Mizoram

List – II

- 1. Kohima
- 2. Agartala
- 3. Imphal
- 4. Aizawl

Code :

	a	b	c	d
(A)	2	3	1	4
(B)	1	2	3	4
(C)	2	1	4	3
(D)	2	4	1	3

68. लार्ड रिपन को "भारत का उद्धारक" किसने कहाँ ?

- (A) फ्लोरेन्स नाइटिंगेल
- (B) अर्नोल्ड व्हाइट
- (C) मदन मोहन मालवीया
- (D) गाँधीजी

69. सूची – I को सूची – II से सुमेलित कीजिये और सूचियों के नीचे दिये गये कूट का प्रयोग कर सही उत्तर का चयन कीजिये ।

सूची – I

- a. यांग्सी
- b. मिनाम
- c. इरावदी
- d. शत-अल-अरब

सूची – II

- 1. थाइलैण्ड
- 2. चीन
- 3. इराक
- 4. म्यानमार

कूट :

	a	b	c	d
(A)	2	1	4	3
(B)	1	2	3	4
(C)	2	4	1	3
(D)	2	3	4	1

70. सूची – I को सूची – II से सुमेलित कीजिये एवं सूचियों के नीचे दिये गये कूट से सही उत्तर चुनिये ।

सूची – I

- a. त्रिपुरा
- b. मणिपुर
- c. नागालैण्ड
- d. मिजोरम

सूची – II

- 1. कोहिमा
- 2. अगर्तला
- 3. इम्फाल
- 4. आइजौल

कूट :

	a	b	c	d
(A)	2	3	1	4
(B)	1	2	3	4
(C)	2	1	4	3
(D)	2	4	1	3



71. What is 'SAUBHAGYA' scheme associated with ?
- (A) LPG Gas connections for poor families
(B) Water conservation in rural areas
(C) Social and economic empowerment of young girls
(D) Free electricity connections for poor families

72. UNIX is written in which language ?
- (A) C++ (B) C#
(C) .NET (D) C

73. Read the following statements.
Statement – 1 : Pushkar lake is situated in Ajmer district.
Statement – 2 : Pushkar lake is an artificial lake.
Which of the above statements is/are correct ?
- (A) Only 1
(B) Only 2
(C) Both 1 and 2 are correct
(D) Both 1 and 2 are wrong



74. Who is present Vice-Chairperson of NITI Aayog ?
- (A) Shri B. V. R. Subrahmanyam
(B) Shri Suman Bery
(C) Shri Narendra Modi
(D) None of the above

71. 'सौभाग्य' योजना किस-से सम्बंधित है ?
- (A) गरीब परिवारों को एल. पी. जी. गैस कनेक्शन
(B) ग्रामीण क्षेत्रों में जल संरक्षण
(C) किशोरी युवतियों का सामाजिक तथा आर्थिक सशक्तिकरण
(D) गरीब परिवारों के लिये मुफ्त बिजली कनेक्शन

72. UNIX किस भाषा में लिखा गया है ?
- (A) C++ (B) C#
(C) .NET (D) C

73. निम्नलिखित कथनों को पढ़ें ।
कथन – 1 : पुष्कर झील अजमेर जिले में स्थित है ।
कथन – 2 : पुष्कर झील एक कृत्रिम झील है ।
उपरोक्त कथनों में से कौन-सा कथन सही है ?
- (A) केवल 1
(B) केवल 2
(C) 1 एवं 2 दोनों सही हैं
(D) 1 एवं 2 दोनों गलत हैं

74. 'नीति आयोग' के वर्तमान उपाध्यक्ष कौन हैं ?
- (A) श्री बी. वी. आर. सुब्रह्मण्यम्
(B) श्री सुमन बेरी
(C) श्री नरेन्द्र मोदी
(D) उपरोक्त में से कोई नहीं



75. Who was the ruler of Vijaynagar empire at the time of Babar's invasion ?

- (A) Veer Narsingh
(B) Krishnadevraya
(C) Ramraya
(D) Achyutraya



75. बाबर के आक्रमण के समय विजयनगर साम्राज्य का शासक कौन था ?

- (A) वीर नरसिंह
(B) कृष्णदेवराय
(C) रामराय
(D) अच्युतराय

76. Given below are two statements. One is Assertion (A) and other is Reason (R). Answer by choosing right option among the given options.

Assertion (A) : Dot matrix printer is an impact printer which prints characters as patterns of dots.

Reason (R) : Dot matrix printer has a set of hammers mounted behind the array of pins, it activates the desired hammers to strike against pins and to print a character on the paper as patterns of dots.

- (A) Both (A) and (R) are true and (R) is the correct explanation of (A)
(B) Both (A) and (R) are true but (R) is not the explanation of (A)
(C) Only (A) is true
(D) Only (R) is true

76. नीचे दो वक्तव्य दिए गए हैं। एक को कथन (A) और दूसरे को कारण (R) कहा गया है। दिए गए विकल्पों में से सही विकल्प चुनियें।

कथन (A) : डॉट मैट्रिक्स प्रिन्टर एक इम्पैक्ट प्रिन्टर है जो किसी अक्षर को बिन्दुओं के आकार में प्रिन्ट करता है।

कारण (R) : डॉट मैट्रिक्स प्रिन्टर में पिन्स के पीछे हैमर लगे होते हैं जो पिन्स पर टकराकर पेपर के ऊपर बिन्दुओं के आकार में अक्षर को प्रिन्ट करता है।

- (A) (A) तथा (R) दोनों सत्य हैं और (R), (A) का सही स्पष्टीकरण है
(B) (A) तथा (R) दोनों सत्य हैं किन्तु (R), (A) का सही स्पष्टीकरण नहीं है
(C) केवल (A) सत्य है
(D) केवल (R) सत्य है



77. Match List – I with List – II and select the correct answer by using the code given below the lists :

List – I	List – II
a. Make in India	i. 2016
b. Startup India	ii. 2001
c. Agri Export Zones	iii. 2019
d. National Mineral Policy	iv. 2014

	a	b	c	d
(A)	i	iii	ii	iv
(B)	ii	iii	iv	i
(C)	ii	iii	i	iv
(D)	i	ii	iv	iii

78. Which of the following statement is not correct regarding recognition as National Political Party in India ?

- (A) To be recognised in 4 or more States as a State Party
- (B) Winning at least 2% Lok Sabha seats from not less than 3 States
- (C) Securing 4% of valid votes in any 2 or more States in the last Lok Sabha or Assembly Elections and having 4 MPs in the Lok Sabha from any State(s)
- (D) Securing 6% of valid votes in any 4 or more States in the last Lok Sabha or Assembly Elections and Winning 4 Lok Sabha seats from any State(s)

77. सूची - I को सूची - II से सुमेलित कीजिए और सूचियों के नीचे दिए गए कूट का प्रयोग कर सही उत्तर चुनिए :

सूची - I	सूची - II
a. भारत में निर्माण	i. 2016
b. स्टार्टअप इण्डिया	ii. 2001
c. कृषि निर्यात क्षेत्र	iii. 2019
d. राष्ट्रीय खनिज नीति	iv. 2014

	a	b	c	d
(A)	i	iii	ii	iv
(B)	ii	iii	iv	i
(C)	ii	iii	i	iv
(D)	i	ii	iv	iii

78. भारत में राष्ट्रीय राजनैतिक दल के रूप में मान्यता के संबंध में, निम्नलिखित में से कौन-सा कथन सही नहीं है ?

- (A) 4 या अधिक राज्यों में स्टेट पार्टी के रूप में मान्यता प्राप्त होना
- (B) कम से कम 3 राज्यों से कम से कम 2% लोकसभा सीटें जीतना
- (C) पिछले लोकसभा या विधानसभा चुनावों में किन्हीं 2 या अधिक राज्यों में 4% वैध वोट हासिल करना और किसी भी राज्य(यों) से 4 लोकसभा सीटें जीतना
- (D) पिछले लोकसभा या विधानसभा चुनावों में किन्हीं 4 या अधिक राज्यों में 6% वैध वोट हासिल करना और किसी भी राज्य(यों) से 4 लोकसभा सीटें जीतना



37/24



79. In which of the following countries lake Balkash is located ?

- (A) Iran
- (B) Mongolia
- (C) Kazakhstan
- (D) Uzbekistan

79. निम्नलिखित में से किस देश में बल्कश झील स्थित है ?

- (A) ईरान
- (B) मंगोलिया
- (C) कज़ाख़स्तान
- (D) उज़्बेकिस्तान

80. Match the List – I with List – II and choose the correct answer using code given below the lists.

80. सूची – I को सूची – II से सुमेलित कीजिये और सूचियों के नीचे दिये गये कूट का प्रयोग कर सही उत्तर चुनिये ।

List – I

List – II

सूची – I

सूची – II

- | | |
|------------------------------|--------------------|
| a. Nandadevi National Park | 1. Uttarkashi |
| b. Gangotri National Park | 2. Chamoli Garhwal |
| c. Binsar Wildlife Sanctuary | 3. Pithoragarh |
| d. Askot Wildlife Sanctuary | 4. Almora |

- | | |
|------------------------------|-----------------|
| a. नन्दादेवी राष्ट्रीय पार्क | 1. उत्तरकाशी |
| b. गंगोत्री राष्ट्रीय पार्क | 2. चमोली गढ़वाल |
| c. बिनसर वन्यजीव अभ्यारण्य | 3. पिथौरागढ़ |
| d. अस्कोट वन्यजीव अभ्यारण्य | 4. अल्मोड़ा |

Code :

- | | a | b | c | d |
|-----|---|---|---|---|
| (A) | 2 | 3 | 1 | 4 |
| (B) | 2 | 1 | 4 | 3 |
| (C) | 2 | 4 | 3 | 1 |
| (D) | 4 | 1 | 3 | 2 |



कूट :

- | | a | b | c | d |
|-----|---|---|---|---|
| (A) | 2 | 3 | 1 | 4 |
| (B) | 2 | 1 | 4 | 3 |
| (C) | 2 | 4 | 3 | 1 |
| (D) | 4 | 1 | 3 | 2 |

General Hindi

81. गढ़वाली भाषा के निम्न शब्दों में से कौन-सा शब्द 'माँ' का पर्यायवाची नहीं है ?
 (A) ब्वे
 (B) बौजि
 (C) बई
 (D) बोई
82. निम्नलिखित में से कौन-सा कथन सही नहीं है ?
 (A) अधिसूचना को हमेशा अन्य पुरुष में लिखा जाता है ।
 (B) कार्यालय आदेश हमेशा उत्तम पुरुष एक वचन में जारी किये जाते हैं ।
 (C) परिपत्र अन्य पुरुष में लिखा जाना चाहिए ।
 (D) परिपत्र अन्य पुरुष में नहीं लिखा जाता ।
83. निम्नलिखित में कौन-सा कथन असत्य है ?
 (A) जिठाण का अर्थ है - देवरानी
 (B) बौराण का अर्थ है - बहुरानी
 (C) ढांटि का अर्थ है - अविवाहित स्त्री
 (D) झड़ नाति का अर्थ है - पोते का पुत्र
84. राजभाषा नियम 1976 में हिन्दी के सम्बन्ध में महत्त्वपूर्ण निर्णय लिए गए थे उसमें से मुख्य कौन निर्णय था ?
 (A) राजभाषा नियमों का बनना
 (B) संसदीय राजभाषा समिति का गठन
 (C) गृह मन्त्रालय में अलग से राजभाषा विभाग की शुरुआत
 (D) उपर्युक्त तीनों
85. "जतकै कंकड़ उतकै शंकर" लोकोक्ति का निम्न सही भावार्थ है ।
 (A) शुभ संकेत होना
 (B) कंकड़ों को शंकर मानना
 (C) परिणाम पर विश्वास करना
 (D) विश्वास सर्वोपरि
86. निम्नलिखित में मौसम सम्बन्धी कौन-सा कथन असत्य है ?
 (A) चौमास का अर्थ है - वर्षाऋतु
 (B) झून का अर्थ है - शीतऋतु
 (C) असौज का अर्थ है - आश्विन
 (D) माघ का अर्थ है - ग्रीष्मऋतु
87. निम्नलिखित में से ऊष्म व्यंजन बताइए ।
 (A) श, ष, स, ह
 (B) य, व, र, ल
 (C) क्ष, त्र, ज्ञ, श्र
 (D) क, ख, ग, घ
88. निम्नलिखित में से कौन-सा अनौपचारिक पत्र है ?
 (A) प्रार्थना पत्र
 (B) आवेदन पत्र
 (C) शिकायती पत्र
 (D) बधाई पत्र
89. 'आछरी' कु मतलब होंद
 (A) भली
 (B) कृष्ण को गोप्यों की आत्मा या अप्सरा
 (C) जलेबी जनु पक्वान
 (D) ब्याखन कु बगत
90. निम्नलिखित में से गढ़वाली लोक गायक कौन नहीं है ?
 (A) जीतसिंह नेगी
 (B) जगदीश बकरोला
 (C) किशनसिंह पंवार
 (D) गजेन्द्र रावत





37/24

91. निम्न में से कौन वृद्धि सन्धि का उदाहरण है ?
 (A) महौषधि (B) हिमालय
 (C) सुधीन्द्र (D) गुर्वादेश
92. 'नौलि ब्वारिक घुड़ देखो' उक्त लोकोक्ति में नौलि शब्द का हिन्दी अर्थ क्या है ?
 (A) बधू
 (B) नाई
 (C) नवेली
 (D) देखना
93. "भ्रमरगीत" निम्न में से किसका सबसे महत्वपूर्ण एवं काव्यात्मक अंश है ?
 (A) साहित्य लहरी
 (B) कवितावली
 (C) सूरसागर
 (D) दोहावली
94. 'की बोर्ड' और 'माउस' निम्न में से क्या हैं ?
 (A) आउटपुट इकाई (B) इनपुट इकाई
 (C) मेमोरी इकाई (D) कंट्रोल इकाई
95. निम्न में से 'जागर' शब्द का क्या अर्थ है ?
 (A) मनोरंजन गीत
 (B) युद्ध गीत
 (C) देवी-देवताओं का आह्वान कर मानव माध्यम पर अवतरित करने की प्रक्रिया
 (D) उपयुक्त में से कोई नहीं
96. निम्नलिखित में कौन-सा शब्द 'हिम' सम्बन्धी नहीं है ?
 (A) हिमाल (B) हूँ
 (C) हौल (D) हूँ मुन
97. 'कबीर और गाँधी' की विधा क्या है ?
 (A) खण्डकाव्य (B) कहानी
 (C) आत्मकथा (D) निबंध
98. निम्नलिखित पंक्तियों में कौन-सा अलंकार है ?
 "जो रहीम गति दीप की, कुल कपूत गति सोई बारे उजियारो करे, बड़े अँधेरो होई ।"
 (A) उत्प्रेक्षा
 (B) यमक
 (C) उपमा
 (D) श्लेष
99. शब्दों के निम्न में से कौन दो प्रमुख भेद होते हैं ?
 (A) विकारी-अविकारी
 (B) तत्सम-तद्भव
 (C) उपसर्ग-प्रत्यय
 (D) कर्ता-क्रिया
100. निम्नलिखित में से कौन-सा शब्द शुद्ध है ?
 (A) अधिशाषी (B) अधिसाशी
 (C) अधिशासी (D) अधिषाशी

