

National Testing Agency

Question Paper Name : General MBA Eng 17th June 2023 Shift 1
Subject Name : General MBA Eng
Creation Date : 2023-06-17 20:35:52
Duration : 120
Total Marks : 400
Display Marks: Yes

General MBA etc

Group Number : 1
Group Id : 686340253
Group Maximum Duration : 0
Group Minimum Duration : 120
Show Attended Group? : No
Edit Attended Group? : No
Break time : 0
Group Marks : 400
Is this Group for Examiner? : No
Examiner permission : Cant View
Show Progress Bar? : No

General MBA etc

Section Id : 686340505
Section Number : 1
Section type : Online
Mandatory or Optional : Mandatory
Number of Questions : 80
Number of Questions to be attempted : 80
Section Marks : 400
Enable Mark as Answered Mark for Review and Clear Response : Yes
Maximum Instruction Time : 0
Sub-Section Number : 1
Sub-Section Id : 686340831
Question Shuffling Allowed : No
Is Section Default? : null

**Question Id : 68634025513 Question Type : COMPREHENSION Sub Question Shuffling Allowed : Yes Group
Comprehension Questions : No Question Pattern Type : NonMatrix Calculator : None Response Time : N.A Think Time
: N.A Minimum Instruction Time : 0
Question Numbers : (1 to 5)
Question Label : Comprehension**

Civilization has not succeeded so far, in creating an environment suitable to mental and moral activities of mankind. The low intellectual and spiritual value of most human beings is due largely to deficiencies of their psychological atmosphere. The supremacy of matter and the dogmas of industrial religion have destroyed culture, beauty and morals. The immense spread of newspapers, cheap literature, radios and cinemas has contributed only to the degeneration of culture. Unintelligence is becoming more and more general, in spite of the course given in schools, colleges, and universities. School children and students form their minds on the silly programmes of public entertainments. Social environment instead of favoring the growth of intelligence, opposes it with all its might.

Moral sense is almost completely ignored by modern society. We have in fact, suppressed its manifestation. All are imbued with irresponsibility. Those who discern good and evil, who are industrious and provident, remain poor and are looked upon as morose. The woman who has several children, who devotes herself to their education instead of to her own career, is considered weak-minded. If a man saves a little money for his wife and the education of his children, this money is stolen from him by enterprising financiers or taken by the government and distributed to those who have been reduced to want by their own improvidence and the short-sightedness of manufacturers, bankers and economists. Artists and men of science supply the community with beauty, health and wealth. They live and die in poverty. Robbers enjoy prosperity and peace. Gangsters are protected by politicians and respected by judges. They are the heroes whom children admire at the cinema and imitate in their games. A rich man has every right. He may discard his money to him, without losing the consideration of his friends. Sexual morals have been cast aside. Psychoanalysts supervise men and women in their conjugal relations. There is no difference between wrong and right, just and unjust. No one makes any objection to their presence. Ministers have rationalized religion they have destroyed its mystical basis. But they do not succeed in attracting modern men. In their half-empty churches they vainly preach a weak morality. They are content with part of policemen, helping in the interest of the wealthy to preserve the framework of present society. Or, like politicians they flatter the appetites of the crowd.

Men are powerless against such psychological attacks. They necessarily yield to the influence of their group. If one lives in the company of fools or criminals, one becomes a fool or criminal. Isolation is the only hope of salvation. But where will the inhabitants of the new city find solitude? Said Marcus Aurelius 'No retreat is more peaceful or less troubled than that encountered by man is his own soul.' But we are not capable of such an effort. We cannot fight out social surroundings victoriously.

Sub questions

Question Number : 1 Question Id : 68634025514 Question Type : MCQ Option Shuffling : No Is Question Mandatory : No Calculator : None Response Time : N.A Think Time : N.A Minimum Instruction Time : 0 Correct Marks : 4 Wrong Marks : 1

'Ministers have rationalized religion' means

- A. they have interpreted religion in a way favorable to themselves.
- B. they have severed the connection of religion from faith and belief and given it the stamp of reason.
- C. they have made religion a thing of mind instead of a thing of heart.
- D. they judge every principle of religion on its merits.
- E. None of these

Choose the correct answer from the options given below:

- 1. A only
- 2. B only
- 3. C, D only
- 4. E only

Options :

- 686340100801. 1
- 686340100802. 2
- 686340100803. 3
- 686340100804. 4

Question Number : 2 Question Id : 68634025515 Question Type : MCQ Option Shuffling : No Is Question Mandatory : No Calculator : None Response Time : N.A Think Time : N.A Minimum Instruction Time : 0 Correct Marks : 4 Wrong Marks : 1

'A rich man has every right'. What does it mean?

- A. The rich are the privileged few chosen by God.
- B. The rich morally enjoy every right because it is as a result of good actions in their previous life that they have become rich in the life.
- C. The rich command resources of every type which enable them to claim and get anything they desire.
- D. The rich are not accountable to God for any of their actions because of their having done good deeds in their former life.
- E. The government consists of members belonging to rich families and therefore they enact legislations providing for.

- 1. A only
- 2. A, B only
- 3. C only
- 4. D, E only

Options :

- 686340100805. 1
- 686340100806. 2
- 686340100807. 3
- 686340100808. 4

Question Number : 3 Question Id : 68634025516 Question Type : MCQ Option Shuffling : No Is Question Mandatory : No Calculator : None Response Time : N.A Think Time : N.A Minimum Instruction Time : 0 Correct Marks : 4 Wrong Marks : 1

Match List I with List II

LIST I		LIST II	
A.	Men get peace and salvation	I.	Moral sense
B.	Modern society rejects completely	II.	Salvation
C.	Conspicuous paradox of the modern civilisation	III.	Unintelligence is becoming more and more general
D.	Hope of Isolation	IV.	In their own souls

Choose the correct answer from the options given below:

- 1. A-I, B-II, C-III, D-IV
- 2. A-IV, B-I, C-II, D-III
- 3. A-III, B-II, C-II, D-I
- 4. A-IV, B-I, C-III, D-II

Options :

- 686340100809. 1
- 686340100810. 2

686340100811. 3

686340100812. 4

Question Number : 4 Question Id : 68634025517 Question Type : MCQ Option Shuffling : No Is Question Mandatory : No Calculator : None Response Time : N.A Think Time : N.A Minimum Instruction Time : 0 Correct Marks : 4 Wrong Marks : 1

The author of the above given passage does not comply with-

- A. A men have lost power to fight with attacks of moral degeneration.
- B. The wise who can distinguish between good and evil are treated as foolish persons.
- C. The industries and faithful remain poor.
- D. Peace and prosperity is enjoyed by robbers.
- E. Man's social sense has to be encouraged and strengthened.

Choose the most appropriate answer from the options given below:

- 1. D and E only
- 2. E only
- 3. A and B only
- 4. A, B and C only

Options :

686340100813. 1

686340100814. 2

686340100815. 3

686340100816. 4

Question Number : 5 Question Id : 68634025518 Question Type : MCQ Option Shuffling : No Is Question Mandatory : No Calculator : None Response Time : N.A Think Time : N.A Minimum Instruction Time : 0 Correct Marks : 4 Wrong Marks : 1

Pick out the correct statement with reference to the writer's view that 'the civilisation has so far failed'

- A. to bridge the gap between the affluent and the indigent
- B. to create a climate of peace adjustment for co-existence of diverse religions and faiths.
- C. to create an environment congenial to the growth of mental and moral activities of mankind.
- D. to shape human life along spiritual lives.
- E. to provide justice to one and all.

- 1. A, B only
- 2. C, E only
- 3. C only
- 4. D only

Options :

686340100817. 1

686340100818. 2

686340100819. 3

686340100820. 4

Question Id : 68634025513 Question Type : COMPREHENSION Sub Question Shuffling Allowed : Yes Group Comprehension Questions : No Question Pattern Type : NonMatrix Calculator : None Response Time : N.A Think Time : N.A Minimum Instruction Time : 0

Question Numbers : (1 to 5)

Question Label : Comprehension

भारतवर्ष बहुत बड़ा देश है। इसका इतिहास बहुत पुराना है। इस इतिहास का जितना अंश जाना जा सकता है, उसकी अपेक्षा जितना नहीं जाना जा सकता, वह और भी पुराना और महत्वपूर्ण है। न जाने किस अज्ञात काल से नाना जातियाँ आ-आकर इस देश में बसती रही हैं और इसकी साधना को नाना भाव से मोडती रही हैं, नया रूप देती रही हैं और समृद्ध करती रही हैं। इस देश का सबसे पुराना उपलब्ध साहित्य आर्यों का है। इन्हीं आर्यों के धर्म और विश्वास नाना अनुकूल-प्रतिकूल परिस्थितियों में बनते-बदलते अब तक देश का अधिकाँश जनता के निजी धर्म और विश्वास बने हुए हैं। परन्तु आर्यों का साहित्य कितना भी पुराना और विशाल क्यों न हो, भारतवर्ष के समूचे जन-समूह के विकास के अध्ययन के लिए न तो वह पर्याप्त ही है और न ही अविश्ववादी ही। इस देश में बहुत-सी ऐसी भी थीं जिनके आचार-विचार में जंगलीपन का प्राधान्य था। संघर्ष में पढ़कर आर्यों को दोनों प्रकार की जातियों से प्रभावित होना पड़ा। उनके साहित्य, शिल्प और आचार-विचार में ये प्रभाव अत्यंत स्पष्ट हैं। आर्यों के पश्चात् भी अनेक जातियाँ यहाँ आई हैं। कुछ ने आर्यों के धर्म-विश्वास को कुछ अंशों में स्वीकार किया है, कुछ दूर तक उसे प्रभावित किया और कुछ ऐसी भी आई हैं, जो आर्यों के साथ एकदम नहीं मिल सकी हैं, फिर भी एक जगह रहने के कारण परस्पर प्रभावित हुई हैं। इन्हीं नाना जातियों का मिलन क्षेत्र यह भारतवर्ष है।

Sub questions

Question Number : 1 Question Id : 68634025514 Question Type : MCQ Option Shuffling : No Is Question Mandatory : No Calculator : None Response Time : N.A Think Time : N.A Minimum Instruction Time : 0

Correct Marks : 4 Wrong Marks : 1

भारत वर्ष का सबसे प्राचीन साहित्य किसका है।

1. जैन धर्म का
2. बौद्ध धर्म का
3. आर्यों का
4. हिन्दू धर्म का

Options :

686340100801. 1

686340100802. 2

686340100803. 3

686340100804. 4

Question Number : 2 Question Id : 68634025515 Question Type : MCQ Option Shuffling : No Is Question Mandatory : No Calculator : None Response Time : N.A Think Time : N.A Minimum Instruction Time : 0

Correct Marks : 4 Wrong Marks : 1

नीचे दो कथन दिए गए हैं, एक अभिकथन (A) के रूप में लिखित है तो दूसरा उसके कारण (R) के रूप में:

अभिकथन A: भारतवर्ष बहुत बड़ा देश देश है। इसका इतिहास बहुत पुराना है।

कारण R: इस देश का सबसे पुराना उपलब्ध साहित्य आर्यों का है।

उपरोक्त कथन के आलोक में, नीचे दिए गए विकल्पों में से सबसे उपयुक्त उत्तर का चयन कीजिए:

1. A और R दोनों सही हैं और R, A की सही व्याख्या है
2. A और R दोनों सही हैं और R, A की सही व्याख्या नहीं है
3. A सही है लेकिन R सही नहीं है
4. A सही नहीं है लेकिन R सही है

Options :

686340100805. 1

686340100806. 2

686340100807. 3

686340100808. 4

Question Number : 3 Question Id : 68634025516 Question Type : MCQ Option Shuffling : No Is Question Mandatory : No Calculator : None Response Time : N.A Think Time : N.A Minimum Instruction Time : 0

Correct Marks : 4 Wrong Marks : 1

नीचे दो कथन दिए गए हैं, एक अभिकथन (Assertion A) के रूप में लिखित है तो दूसरा उसके कारण (Reason R) के रूप में:

अभिकथन A: आर्यों के साहित्य को पढ़कर भारत वर्ष के इतिहास को जाना जा सकता है।

कारण R: आर्यों का साहित्य कितना भी पुराना और विशाल क्यों ना हो, भारतवर्ष के समूचे जनसमूह के विकास के अध्ययन के लिए, न तो वह प्रर्याप्त है।

उपरोक्त कथन के आलोक में, नीचे दिए गए विकल्पों में से सबसे उपयुक्त उत्तर का चयन कीजिए:

1. A और R दोनों सही हैं और R, A की सही व्याख्या है
2. A और R दोनों सही हैं और R, A की सही व्याख्या नहीं है
3. A सही है लेकिन R सही नहीं है
4. A सही नहीं है लेकिन R सही है

Options :

686340100809. 1
686340100810. 2
686340100811. 3
686340100812. 4

Question Number : 4 Question Id : 68634025517 Question Type : MCQ Option Shuffling : No Is Question Mandatory : No Calculator : None Response Time : N.A Think Time : N.A Minimum Instruction Time : 0 Correct Marks : 4 Wrong Marks : 1

नीचे दो कथन दिए गए हैं:

कथन I- आर्यों का धर्म और विश्वास नाना अनुकूल-प्रतिकूल परिस्थितियों में बनते-बदलते अब तक देश की जनता के निजी धर्म और विश्वास बन जाए।

कथन II- आर्यों के पश्चात अनेक जातियाँ यहाँ आई हैं। कुछ आर्यों के धर्म विश्वास को कुछ अंशों में स्वीकार किया है, कुछ ने दूर तक उसे प्रभावित किया और कुछ ऐसी भी आई हैं, जो आर्यों के साथ एकदम नहीं मिल सकी।

उपरोक्त कथन के आलोक में, नीचे दिए गए विकल्पों में से सबसे उपयुक्त उत्तर का चयन कीजिए:

1. कथन I और कथन II दोनों सही हैं
2. कथन I और कथन II दोनों गलत हैं
3. कथन I सही है, लेकिन कथन II गलत है
4. कथन I गलत है, लेकिन कथन II सही है

Options :

686340100813. 1
686340100814. 2
686340100815. 3
686340100816. 4

Question Number : 5 Question Id : 68634025518 Question Type : MCQ Option Shuffling : No Is Question Mandatory : No Calculator : None Response Time : N.A Think Time : N.A Minimum Instruction Time : 0 Correct Marks : 4 Wrong Marks : 1

आर्यों का साहित्य भारतवर्ष के समस्त जन समूह के विकास के अध्ययन के लिए:

1. अविश्ववादी है परन्तु पर्याप्त नहीं।
2. अपर्याप्त है।
3. अपर्याप्त तथा अविश्ववादी नहीं है।
4. अपर्याप्त तथा अविश्ववादी है।

Options :

686340100817. 1

686340100818. 2

686340100819. 3

686340100820. 4

Sub-Section Number : 2
Sub-Section Id : 686340832
Question Shuffling Allowed : No
Is Section Default? : null

Question Id : 68634025519 Question Type : COMPREHENSION Sub Question Shuffling Allowed : Yes Group Comprehension Questions : No Question Pattern Type : NonMatrix Calculator : None Response Time : N.A Think Time : N.A Minimum Instruction Time : 0

Question Numbers : (6 to 10)

Question Label : Comprehension

Read the passage below and answer the questions that follow:

Man's growth from barbarism into civilization is supposed to be the theme of history. But sometimes, looking at great stretches of history, it is difficult to believe that this ideal has made such progress or that we are very much civilized or advanced. There is enough of want of co-operation today, of one country or people selfishly attacking or oppressing another, of one man exploiting another.

It is well to remember that man in many ways has not made very great progress from other animals. It may be that in certain ways some animals are superior to him. Still we look down upon the insects as almost the lowest of living things, and yet the tiny bees and ants have learnt the art of co-operation and of sacrifice for the good of society are the test of civilization, we may say that the bees and ants are in this respect superior to man. In one of our old Sanskrit books there is a verse which can be translated as follows: "For the family, sacrifice the individual, for the community, the family, for the country, the community, and for the soul, the whole world." What the soul is few of us can know or tell, and each one of us can interpret it in a different way. But the lesson this Sanskrit verse teaches us in the same lesson of co-operation and sacrifice for the larger good. We in India had forgotten this sovereign path to real greatness for a long time, we had so fallen. But gain we seem to have glimpses of it and all the country is astir. How wonderful it is to see men and women, and boys and girls, smilingly going ahead in India's cause without caring about any pain or suffering? Well may they smile and be glad for the joy of serving a great cause which is theirs; and for those who are fortunate, comes the joy of sacrifice also.

Sub questions

Question Number : 6 Question Id : 68634025520 Question Type : MCQ Option Shuffling : No Is Question Mandatory : No Calculator : None Response Time : N.A Think Time : N.A Minimum Instruction Time : 0 Correct Marks : 4 Wrong Marks : 1

The following sentence is given in four parts.

Choose the option where there is an error.

- A. You have not care
- B. to see that your
- C. expenditure was more
- D. than your salary

- 1. A
- 2. B
- 3. C
- 4. D

Options :

- 686340100821. 1
- 686340100822. 2
- 686340100823. 3
- 686340100824. 4

Question Number : 7 Question Id : 68634025521 Question Type : MCQ Option Shuffling : No Is Question Mandatory : No Calculator : None Response Time : N.A Think Time : N.A Minimum Instruction Time : 0 Correct Marks : 4 Wrong Marks : 1

Which of the following is correct as per the statement given below:

What is really the theme of history?

- A. The rise and fall of empires.
- B. Man's moral and spiritual development.
- C. Man's search for truth.
- D. The process of man's becoming civilized.

Choose the most appropriate answer from the options given below:

- 1. A only
- 2. B only
- 3. C only
- 4. D only

Options :

- 686340100825. 1
- 686340100826. 2
- 686340100827. 3
- 686340100828. 4

Question Number : 8 Question Id : 68634025522 Question Type : MCQ Option Shuffling : No Is Question Mandatory : No Calculator : None Response Time : N.A Think Time : N.A Minimum Instruction Time : 0

Correct Marks : 4 Wrong Marks : 1

Match List I with List II

LIST I		LIST II	
A.	Reason of exploitation	I.	Different things for different people
B.	Soul signifies	II.	Qualities of mutual help, co-operation and self-sacrifice
C.	'All the country is astir'	III.	Lack of civilisation
D.	Truly civilised	IV.	Upsurge of moral and spiritual fervour

Choose the correct answer from the options given below:

1. A-I, B-II, C-III, D-IV
2. A-III, B-I, C-IV, D-II
3. A-III, B-II, C-IV, D-II
4. A-II, B-I, C-III, D-IV

Options :

- 686340100829. 1
- 686340100830. 2
- 686340100831. 3
- 686340100832. 4

Question Number : 9 Question Id : 68634025523 Question Type : MCQ Option Shuffling : No Is Question Mandatory : No Calculator : None Response Time : N.A Think Time : N.A Minimum Instruction Time : 0

Correct Marks : 4 Wrong Marks : 1

What does the expression 'larger good' mean?

1. Great good of oneself
2. A lot of good
3. Very excellent
4. Good of the society

Options :

- 686340100833. 1
- 686340100834. 2
- 686340100835. 3
- 686340100836. 4

Question Number : 10 Question Id : 68634025524 Question Type : MCQ Option Shuffling : No Is Question Mandatory : No Calculator : None Response Time : N.A Think Time : N.A Minimum Instruction Time : 0

Correct Marks : 4 Wrong Marks : 1

'Animals are superior to man' The above given statement is based on the following aspects:-

- A. Physical strength
- B. Having no cares in their lives
- C. Having greater instinct for co-operation and sacrifice
- D. Not oppressing or exploiting one another

Choose the most appropriate answer from the options given below:

- 1. A and C only
- 2. B only
- 3. A, B and D only
- 4. C only

Options :

- 686340100837. 1
- 686340100838. 2
- 686340100839. 3
- 686340100840. 4

Question Id : 68634025519 Question Type : COMPREHENSION Sub Question Shuffling Allowed : Yes Group Comprehension Questions : No Question Pattern Type : NonMatrix Calculator : None Response Time : N.A Think Time : N.A Minimum Instruction Time : 0

Question Numbers : (6 to 10)

Question Label : Comprehension

वास्तव में उत्तर-आधुनिकता रचना को अपने आप में एक सुनिश्चित चीज़ मानने से इन्कार करती है। इसीलिए जब यह तय है कि रचना अपने आप में सुनिश्चित चीज़ नहीं है, तब जाहिर है उसका अर्थ भी सुनिश्चित नहीं होगा। पाठ का अर्थ हमेशा पाठक पर निर्भर करता है। इसीलिए रोला बार्थ जब अपने प्रसिद्ध लेख द्वारा इसकी रूपरेखा बनी "द डेथ ऑफ द ऑथर" में कहते हैं कि 'पाठ (रचना) उक्तियों का ताना-बाना है जो संस्कृति के असंख्य स्रोतों से उपजता है', तब उनका संकेत स्पष्टतः उस तरफ है जहां पाठ को एक बहुआयामी क्षेत्र मानने की बाध्यता होती है। यही सही भी है, क्योंकि रचना की संरचना अनेक ऐसी मनःसिथितियों में होती है जहाँ तरह-तरह के विचार आपस में संवाद करते हैं और लेखक उन विचारों को व्यवस्थित कर पाठकों के सामने प्रस्तुत करता है। इसीलिए बहुत से विचारक उत्तर-आधुनिकतावाद को एक सासंस्कृतिक राजनीतिक समस्या समझते हैं। कारण, जब भी चयन की बात आती है, रचना की प्रक्रिया में लेखक अपनी जातीय परंपरा से कुछ लेते हुए और कुछ छोड़ते हुए ही कुछ तथ्यों एवं संदर्भों को रचना का विषय बनाता है और पाठक उसे पढ़ने को विवश होता है। आलोचक उसकी मनमानी व्याख्या करता है और आशा करता है कि पाठक उसकी बात मानेगा ही, जैसा कि हिंदी में लिखित दलित साहित्य के साथ हो रहा है, जबकि उसका (आलोचक का) यह भ्रम होता है। पाठक अपनी चेतना और संस्कृति के अनुसार ही रचना के संदर्भ एवं तथ्यों की छानबीन करता है, कोश अथवा संदर्भ ग्रंथ की सहायता नहीं लेता है। इसलिए लेखन की प्रक्रिया में उसका स्थान न होना अथवा मानना एक दुःखद पहलू है। उत्तर-आधुनिकता इस प्रकार के भ्रम को तोड़ती है तथा केंद्रीय परंपरा में हाशिये की बात को महत्त्व देती है और यही इसकी सबसे बड़ी विशेषता है।

Sub questions

Question Number : 6 Question Id : 68634025520 Question Type : MCQ Option Shuffling : No Is Question Mandatory : No Calculator : None Response Time : N.A Think Time : N.A Minimum Instruction Time : 0

Correct Marks : 4 Wrong Marks : 1

उपरोक्त गद्यांश का उचित शीर्षक होगा -

1. आधुनिकता
2. उत्तर आधुनिकता
3. हाशिए की बात
4. रचना की संरचना

Options :

686340100821. 1
686340100822. 2
686340100823. 3
686340100824. 4

Question Number : 7 Question Id : 68634025521 Question Type : MCQ Option Shuffling : No Is Question Mandatory : No Calculator : None Response Time : N.A Think Time : N.A Minimum Instruction Time : 0 Correct Marks : 4 Wrong Marks : 1

रोला बार्थ की पुस्तक का नाम क्या है?

1. डेथ ऑफ पोएट्री
2. द डेथ ऑफ द ऑथर
3. ऑथर
4. डेथ आफ फिक्शन

Options :

686340100825. 1
686340100826. 2
686340100827. 3
686340100828. 4

Question Number : 8 Question Id : 68634025522 Question Type : MCQ Option Shuffling : No Is Question Mandatory : No Calculator : None Response Time : N.A Think Time : N.A Minimum Instruction Time : 0 Correct Marks : 4 Wrong Marks : 1

गद्यांश के अनुसार 'उत्तर आधुनिकता' की सबसे बड़ी विशेषता है -

1. रचना की संरचना
2. रचना की प्रक्रिया
3. केंद्रीय परम्परा में हाशिए को महत्व
4. रचना के संदर्भों की जाँच-पड़ताल करना

Options :

686340100829. 1
686340100830. 2
686340100831. 3
686340100832. 4

Question Number : 9 Question Id : 68634025523 Question Type : MCQ Option Shuffling : No Is Question Mandatory : No Calculator : None Response Time : N.A Think Time : N.A Minimum Instruction Time : 0 Correct Marks : 4 Wrong Marks : 1

पाठक रचना के संदर्भों एवं तथ्यों की छानबीन किसके अनुसार करता है?

1. अपनी चेतना और संस्कृति के अनुसार
2. अपनी रचनाओं के अनुसार
3. कोश अथवा संदर्भ ग्रंथ की सहायता लेकर
4. विज्ञापन के अनुसार

Options :

686340100833. 1
686340100834. 2
686340100835. 3
686340100836. 4

Question Number : 10 Question Id : 68634025524 Question Type : MCQ Option Shuffling : No Is Question Mandatory : No Calculator : None Response Time : N.A Think Time : N.A Minimum Instruction Time : 0 Correct Marks : 4 Wrong Marks : 1

गद्यांश के अनुसार रचना अपने आप में सुनिश्चित चीज़ नहीं है इसलिए उसका अर्थ भी -

1. सुनिश्चित होगा।
2. सुनिश्चित नहीं होगा।
3. कह नहीं सकते।
4. स्पष्ट होगा।

Options :

686340100837. 1
686340100838. 2
686340100839. 3
686340100840. 4

Sub-Section Number : 3
Sub-Section Id : 686340833
Question Shuffling Allowed : Yes
Is Section Default? : null

Question Number : 11 Question Id : 68634025525 Question Type : MCQ Option Shuffling : No Is Question Mandatory : No Calculator : None Response Time : N.A Think Time : N.A Minimum Instruction Time : 0 Correct Marks : 4 Wrong Marks : 1

Choose the correct statement from the following with respect to the Sanskrit Verse:

1. To behave well with one another
2. To help each other in difficulties
3. To inculcate the spirit of co-operation and self-sacrifice for the larger good of the society
4. To work constantly

Options :

686340100841. 1
686340100842. 2
686340100843. 3
686340100844. 4

**Question Number : 11 Question Id : 68634025525 Question Type : MCQ Option Shuffling : No Is Question Mandatory :
No Calculator : None Response Time : N.A Think Time : N.A Minimum Instruction Time : 0
Correct Marks : 4 Wrong Marks : 1**

निम्नलिखित वाक्य में में अशुद्ध शब्द का चयन कीजिए :-
वाक्य - 'सर्वोत्तम प्रस्तुति के लिए नाटक पुरस्कृत किया गया'

1. सर्वोत्तम
2. प्रस्तुति
3. नाटक
4. पुरस्कृत

Options :

686340100841. 1
686340100842. 2
686340100843. 3
686340100844. 4

**Question Number : 12 Question Id : 68634025526 Question Type : MCQ Option Shuffling : No Is Question Mandatory :
No Calculator : None Response Time : N.A Think Time : N.A Minimum Instruction Time : 0
Correct Marks : 4 Wrong Marks : 1**

Fill in the blank with an appropriate word to make it a meaningful sentence:

Do you think that this recent ministerial announcement _____ a shift in government policy?

1. Augers
2. Anger
3. Angurs
4. Augur

Options :

686340100845. 1
686340100846. 2
686340100847. 3
686340100848. 4

Question Number : 12 Question Id : 68634025526 Question Type : MCQ Option Shuffling : No Is Question Mandatory : No Calculator : None Response Time : N.A Think Time : N.A Minimum Instruction Time : 0 Correct Marks : 4 Wrong Marks : 1

अशुद्ध अशब्द की पहचान कीजिए :-

1. उपरीलिखित
2. ऊपरीलिखित
3. उपरिलिखित
4. उपर्यालिखित

Options :

686340100845. 1
686340100846. 2
686340100847. 3
686340100848. 4

Question Number : 13 Question Id : 68634025527 Question Type : MCQ Option Shuffling : No Is Question Mandatory : No Calculator : None Response Time : N.A Think Time : N.A Minimum Instruction Time : 0 Correct Marks : 4 Wrong Marks : 1

Insert the suitable prepositions in the sentence given below:

Not to Victim blame but why did you bring a needle _____ a haystack _____ the first place?

1. in, in
2. in, into
3. into, in
4. into, into

Options :

686340100849. 1
686340100850. 2
686340100851. 3
686340100852. 4

Question Number : 13 Question Id : 68634025527 Question Type : MCQ Option Shuffling : No Is Question Mandatory : No Calculator : None Response Time : N.A Think Time : N.A Minimum Instruction Time : 0 Correct Marks : 4 Wrong Marks : 1

गांधी जी मानते थे कि:-

उपर्युक्त संदर्भ में निम्नलिखित वाक्यांशों को सही क्रम में लिखें :

- A. बढ़ने से पहले
- B. सामाजिक या सामूहिक जीवन की ओर
- C. अनुभव प्राप्त करना
- D. कौटुम्बिक जीवन का
- E. आवश्यक है

नीचे दिए गए विकल्पों में से सही उत्तर का चयन कीजिए:

1. केवल B, A, D, C और E
2. केवल B, A, C, D और E
3. केवल B, C, A, D और E
4. केवल B, E, A, C और D

Options :

686340100849. 1
686340100850. 2
686340100851. 3
686340100852. 4

Question Number : 14 Question Id : 68634025528 Question Type : MCQ Option Shuffling : No Is Question Mandatory : No Calculator : None Response Time : N.A Think Time : N.A Minimum Instruction Time : 0 Correct Marks : 4 Wrong Marks : 1

What is the one word substitution for-

A person who is fond of following:

1. Snigger
2. bimbo
3. loony
4. loquacious

Options :

686340100853. 1
686340100854. 2
686340100855. 3
686340100856. 4

Question Number : 14 Question Id : 68634025528 Question Type : MCQ Option Shuffling : No Is Question Mandatory : No Calculator : None Response Time : N.A Think Time : N.A Minimum Instruction Time : 0 Correct Marks : 4 Wrong Marks : 1

मानव जन्म के बाद :

उपर्युक्त संदर्भ में निम्नलिखित वाक्यांशों को सही क्रम में लिखें :

- A. सार्थक सदस्य
- B. सबसे पहले भाषा रूपी साधना
- C. बनने के लिए
- D. अपने समाज का
- E. को ही अपनाता है

नीचे दिए गए विकल्पों में से सही उत्तर का चयन कीजिए:

1. केवल D, A, B, C और E
2. केवल D, A, C, B और E
3. केवल D, A, E, C और B
4. केवल D, B, A, C और E

Options :

686340100853. 1
686340100854. 2
686340100855. 3
686340100856. 4

Question Number : 15 Question Id : 68634025529 Question Type : MCQ Option Shuffling : No Is Question Mandatory : No Calculator : None Response Time : N.A Think Time : N.A Minimum Instruction Time : 0 Correct Marks : 4 Wrong Marks : 1

What is one word substitution for-

That which can be freed:

1. extricate
2. extricable
3. extenuate
4. exsert

Options :

686340100857. 1
686340100858. 2
686340100859. 3
686340100860. 4

Question Number : 15 Question Id : 68634025529 Question Type : MCQ Option Shuffling : No Is Question Mandatory : No Calculator : None Response Time : N.A Think Time : N.A Minimum Instruction Time : 0

Correct Marks : 4 Wrong Marks : 1

पश्चिम की प्रौद्योगिकी और पूरब की -
उपर्युक्त संदर्भ में निम्नलिखित वाक्यों को सही क्रम में लिखें:-

- A. नई मानव संस्कृति का
- B. धर्म चेतना का
- C. सर्वश्रेष्ठ लेकर ही
- D. निर्माण
- E. संभव है

नीचे दिए गए विकल्पों में से सही उत्तर का चयन कीजिए:

1. केवल B, C, A और D
2. केवल B, C, D, A और E
3. केवल B, C, A, D और E
4. केवल B, D, A, C और E

Options :

686340100857. 1
686340100858. 2
686340100859. 3
686340100860. 4

Question Number : 16 Question Id : 68634025530 Question Type : MCQ Option Shuffling : No Is Question Mandatory : No Calculator : None Response Time : N.A Think Time : N.A Minimum Instruction Time : 0

Correct Marks : 4 Wrong Marks : 1

Choose the correct option to improve the underlined portion of the sentence given-

Inherently restless by nature, I have had to navigate the heavy tolls of the day and learn how to solve problems without losing control.

1. adapt and fall
2. survey
3. find patience, resolve
4. be kind and collaborate

Options :

686340100861. 1
686340100862. 2
686340100863. 3
686340100864. 4

Question Number : 16 Question Id : 68634025530 Question Type : MCQ Option Shuffling : No Is Question Mandatory : No Calculator : None Response Time : N.A Think Time : N.A Minimum Instruction Time : 0 Correct Marks : 4 Wrong Marks : 1

रिक्त स्थानों की पूर्ति कीजिए:-

'चटनी पीसने के लिए हल्की _____ खरीद लाओ।'

1. खिल
2. कील
3. मिल
4. सिल

Options :

686340100861. 1
686340100862. 2
686340100863. 3
686340100864. 4

Question Number : 17 Question Id : 68634025531 Question Type : MCQ Option Shuffling : No Is Question Mandatory : No Calculator : None Response Time : N.A Think Time : N.A Minimum Instruction Time : 0 Correct Marks : 4 Wrong Marks : 1

Complete the following sentence using the words given in the options.

As inspector Achuthan could not contain his scorn for the corrupt police commissioner, he was imprudent enough to make _____ remarks about his superior officer.

1. Ambiguous
2. dispassionate
3. unfathomable
4. scathing

Options :

686340100865. 1
686340100866. 2
686340100867. 3
686340100868. 4

Question Number : 17 Question Id : 68634025531 Question Type : MCQ Option Shuffling : No Is Question Mandatory : No Calculator : None Response Time : N.A Think Time : N.A Minimum Instruction Time : 0 Correct Marks : 4 Wrong Marks : 1

नीचे दिए गए विकल्पों में से अशुद्ध वाक्य छांटिए।

कोहिनूर एक अमूल्य हीरा है।
तुम्हें परस्पर झगड़ना नहीं चाहिए।
मैंने अनेक कविताएँ पढ़ी हैं।
सारे देश में यह बात फैल गई।

नीचे दिए गए विकल्पों में से सही उत्तर का चयन कीजिए:

1. केवल A
2. केवल B, A
3. केवल C, D
4. केवल C, E

Options :

686340100865. 1
686340100866. 2
686340100867. 3
686340100868. 4

Question Number : 18 Question Id : 68634025532 Question Type : MCQ Option Shuffling : No Is Question Mandatory : No Calculator : None Response Time : N.A Think Time : N.A Minimum Instruction Time : 0 Correct Marks : 4 Wrong Marks : 1

Replace the underlined idiom-

At my friend's tea-party, I fell through a strange fellow.

1. fell back
2. fell out
3. fell in with
4. fallen off with

Options :

686340100869. 1
686340100870. 2
686340100871. 3
686340100872. 4

Question Number : 18 Question Id : 68634025532 Question Type : MCQ Option Shuffling : No Is Question Mandatory : No Calculator : None Response Time : N.A Think Time : N.A Minimum Instruction Time : 0

Correct Marks : 4 Wrong Marks : 1

शुद्ध वाक्य का चयन कीजिए:-

1. चोर दुम दबाकर चला गया।
2. चोर दुम दबाकर भाग गया।
3. चोर दुम दबाकर दौड़ गया।
4. चोर दुम दबाकर कूद गया।

Options :

686340100869. 1
686340100870. 2
686340100871. 3
686340100872. 4

Question Number : 19 Question Id : 68634025533 Question Type : MCQ Option Shuffling : No Is Question Mandatory : No Calculator : None Response Time : N.A Think Time : N.A Minimum Instruction Time : 0

Correct Marks : 4 Wrong Marks : 1

Fill in the correct idiom by choosing from the options given below.

Some are looking up to legislation to hasten the progress of social reforms

1. look up to
2. look at
3. look on
4. look to

Options :

686340100873. 1
686340100874. 2
686340100875. 3
686340100876. 4

**Question Number : 19 Question Id : 68634025533 Question Type : MCQ Option Shuffling : No Is Question Mandatory :
No Calculator : None Response Time : N.A Think Time : N.A Minimum Instruction Time : 0**

Correct Marks : 4 Wrong Marks : 1

उस शब्द का चयन कीजिए, जिसमें 'प्र' उपसर्ग है:-

- A. प्रत्येक, अभाव, प्रदेश
- B. प्रसाद, प्रत्येक, प्रपत्र
- C. प्रभाव, प्रदेश, प्रपत्र
- D. प्रत्युत्तर, प्रदेश, प्रपत्र
- E. प्रतिभा, प्रतिमा, प्रत्येक

नीचे दिए गए विकल्पों में से सही उत्तर का चयन कीजिए:

1. केवल A
2. केवल B
3. केवल E
4. केवल D

Options :

686340100873. 1
686340100874. 2
686340100875. 3
686340100876. 4

**Question Number : 20 Question Id : 68634025534 Question Type : MCQ Option Shuffling : No Is Question Mandatory :
No Calculator : None Response Time : N.A Think Time : N.A Minimum Instruction Time : 0**

Correct Marks : 4 Wrong Marks : 1

Match List I with List II

LIST I		LIST II	
A.	haggard	I.	anything that gives insecurity
B.	bulwark	II.	looking fresh and happy
C.	cabalism	III.	filthy rich
D.	Penury	IV.	disbelieve in one's religion

Choose the correct answer from the options given below:

1. A-I, B-IV, C-III, D-II
2. A-IV, B-I, C-II, D-III
3. A-III, B-IV, C-II, D-I
4. A-II, B-I, C-IV, D-III

Options :

686340100877. 1
686340100878. 2
686340100879. 3
686340100880. 4

Question Number : 20 Question Id : 68634025534 Question Type : MCQ Option Shuffling : No Is Question Mandatory : No Calculator : None Response Time : N.A Think Time : N.A Minimum Instruction Time : 0

Correct Marks : 4 Wrong Marks : 1

निम्नलिखित वाक्यों में अशुद्ध वाक्यांश छांटिए :
झगड़ों के कारण नगर की अधिकतर दुकानें आज भी बंद रहीं।

1. झगड़ों के कारण
2. नगर की अधिकतर
3. दुकानें आज भी
4. बंद रहीं

Options :

686340100877. 1
686340100878. 2
686340100879. 3
686340100880. 4

Question Number : 21 Question Id : 68634025535 Question Type : MCQ Option Shuffling : No Is Question Mandatory : No Calculator : None Response Time : N.A Think Time : N.A Minimum Instruction Time : 0

Correct Marks : 4 Wrong Marks : 1

Choose from the options below, the correct synonym of the word-'Ermine':

1. not regular
2. the white winter fur
3. to express or feel delight at one's own success
4. a tiny drop or ball

Options :

686340100881. 1
686340100882. 2
686340100883. 3
686340100884. 4

**Question Number : 21 Question Id : 68634025535 Question Type : MCQ Option Shuffling : No Is Question Mandatory :
No Calculator : None Response Time : N.A Think Time : N.A Minimum Instruction Time : 0
Correct Marks : 4 Wrong Marks : 1**

निम्नलिखित वाक्य में रिक्त स्थान की पूर्ति कीजिए:
ना जाने आज गाय का _____ दूध क्यों फट गया।

1. कुछ
2. बहुत
3. सारा
4. थोड़ा

Options :

686340100881. 1
686340100882. 2
686340100883. 3
686340100884. 4

**Question Number : 22 Question Id : 68634025536 Question Type : MCQ Option Shuffling : No Is Question Mandatory :
No Calculator : None Response Time : N.A Think Time : N.A Minimum Instruction Time : 0
Correct Marks : 4 Wrong Marks : 1**

Rearrange the following sentences in order to make a meaningful paragraph.

- A. With practice and patience, our intuitive skills get sharpened and we learn to be lethal with our timing of humour.
- B. Comedians, actors, speakers and all artist know and respect the value of perfect timing.
- C. Eventually, with heightened sensitivity and timing we become healers of souls through humour.
- D. A moment that is not used well will never come back again no matter what.
- E. Likewise, humour delivered at a wrong time also can cause harm rather heal.

1. B, D, C, E, A

2. A, B, C, D, E

3. B, D, E, A, C

4. E, D, C, B, A

Options :

- 686340100885. 1
- 686340100886. 2
- 686340100887. 3
- 686340100888. 4

Question Number : 22 Question Id : 68634025536 Question Type : MCQ Option Shuffling : No Is Question Mandatory : No Calculator : None Response Time : N.A Think Time : N.A Minimum Instruction Time : 0

Correct Marks : 4 Wrong Marks : 1

दिए गए वाक्यों में से परिष्कृत वाक्य का चयन कीजिए :

वाक्य - आज घर में प्रवेश है।

- 1. आज गृह- प्रवेश है।
- 2. आज ग्रह- प्रवेश है।
- 3. आज घर से विस्थापित हो रहे हैं।
- 4. आज घर में घुस रहे हैं।

Options :

- 686340100885. 1
- 686340100886. 2
- 686340100887. 3
- 686340100888. 4

Question Number : 23 Question Id : 68634025537 Question Type : MCQ Option Shuffling : No Is Question Mandatory : No Calculator : None Response Time : N.A Think Time : N.A Minimum Instruction Time : 0

Correct Marks : 4 Wrong Marks : 1

Fill in the blank with a correct phrasal verb:

He's _____ again after his accident.

1. getting about
2. getting above
3. getting in
4. getting across

Options :

686340100889. 1
686340100890. 2
686340100891. 3
686340100892. 4

Question Number : 23 Question Id : 68634025537 Question Type : MCQ Option Shuffling : No Is Question Mandatory : No Calculator : None Response Time : N.A Think Time : N.A Minimum Instruction Time : 0 Correct Marks : 4 Wrong Marks : 1

निम्नलिखित वाक्यों में अशुद्ध वाक्य कौन-सा है?

1. चिड़ियाँ दाना खाती हैं
2. चिड़ियाँ दाना भोजन करती हैं
3. चिड़ियाँ दाना चखती हैं
4. चिड़ियाँ दाना चुंगती हैं

Options :

686340100889. 1
686340100890. 2
686340100891. 3
686340100892. 4

Question Number : 24 Question Id : 68634025538 Question Type : MCQ Option Shuffling : No Is Question Mandatory : No Calculator : None Response Time : N.A Think Time : N.A Minimum Instruction Time : 0 Correct Marks : 4 Wrong Marks : 1

Choose the suitable phrasal verb from the list below-

We were going _____ on my brother-in-law, but he was not home

1. to look down
2. to look in
3. to look
4. to look out

Options :

686340100893. 1
686340100894. 2
686340100895. 3
686340100896. 4

Question Number : 24 Question Id : 68634025538 Question Type : MCQ Option Shuffling : No Is Question Mandatory : No Calculator : None Response Time : N.A Think Time : N.A Minimum Instruction Time : 0

Correct Marks : 4 Wrong Marks : 1

'अगहन और पूस में पड़ने वाली ऋतु' वाक्यांश के लिए एक शब्द है:-

1. आषाढ़
2. वसंत
3. ज्येष्ठ
4. हेमन्त

Options :

686340100893. 1
686340100894. 2
686340100895. 3
686340100896. 4

Question Number : 25 Question Id : 68634025539 Question Type : MCQ Option Shuffling : No Is Question Mandatory : No Calculator : None Response Time : N.A Think Time : N.A Minimum Instruction Time : 0

Correct Marks : 4 Wrong Marks : 1

In the following question the first and the last parts of the sentence are numbered as 1 and 6. The rest of the sentence is split into four parts and named P, Q, R and S. These four parts are not given in their proper order. Read the sentence and choose the option in which the combination is correct.

1. After a laborious life

P. to the quite village where he was born

Q. most of which he had spent on the metropolis,

R. and where he intended to spend

S. he retired in his old age

6. his remaining years

1. QRPS

2. QSPR

3. SPQR

4. SQPR

Options :

686340100897. 1

686340100898. 2

686340100899. 3

686340100900. 4

Question Number : 25 Question Id : 68634025539 Question Type : MCQ Option Shuffling : No Is Question Mandatory : No Calculator : None Response Time : N.A Think Time : N.A Minimum Instruction Time : 0

Correct Marks : 4 Wrong Marks : 1

'इन्द्रियों को वश में करने वाला' वाक्यांश के लिए एक शब्द है:

1. इन्द्रिया विग्रह

2. इन्द्रियातीत

3. इन्द्रजीत

4. इन्द्रियजित

Options :

686340100897. 1

686340100898. 2

686340100899. 3

686340100900. 4

Question Number : 26 Question Id : 68634025540 Question Type : MCQ Option Shuffling : No Is Question Mandatory : No Calculator : None Response Time : N.A Think Time : N.A Minimum Instruction Time : 0

Correct Marks : 4 Wrong Marks : 1

Rearrange the following sentences in a sequence so as to form a meaningful paragraph and choose the correct option:

- A. Across the sky flashed scenes from his life.
- B. He dreamed he was walking along the beach with the lord.
- C. One night a man had a dream.
- D. For each scene, he noticed two sets of foot prints in the sand: one to him and the other to the lord.

- 1. C, B, A, D
- 2. B, C, A, D
- 3. C, D, B, A
- 4. D, C, B, A

Options :

- 686340100901. 1
- 686340100902. 2
- 686340100903. 3
- 686340100904. 4

Question Number : 26 Question Id : 68634025540 Question Type : MCQ Option Shuffling : No Is Question Mandatory : No Calculator : None Response Time : N.A Think Time : N.A Minimum Instruction Time : 0 Correct Marks : 4 Wrong Marks : 1

सूची I का सूची II से मिलान कीजिए

सूची I (वाक्यांश)		सूची II (एक शब्द)	
A.	प्रार्थना करने वाला व्यक्ति	I.	चाक्षुष
B.	जो पुष्प पूर्णरूप से विकसित ना हुआ हो	II.	पुण्डरीक
C.	नेत्रों से संबंधित	III.	प्रार्थी
D.	सफेद कमल	IV.	मुकुल

निम्नलिखित विकल्पों में से सही उत्तर का चयन कीजिए :

- 1. A-I, B-II, C-III, D-IV
- 2. A-III, B-IV, C-II, D-I
- 3. A-III, B-IV, C-I, D-II
- 4. A-III, B-I, C-II, D-IV

Options :

- 686340100901. 1
- 686340100902. 2
- 686340100903. 3
- 686340100904. 4

Question Number : 27 Question Id : 68634025541 Question Type : MCQ Option Shuffling : No Is Question Mandatory : No Calculator : None Response Time : N.A Think Time : N.A Minimum Instruction Time : 0 Correct Marks : 4 Wrong Marks : 1

Replace the underlined words in the following sentences.

'The tide of emotions rose and came to an end'.

- A. comes to an end
- B. dies out
- C. died out
- D. No change

Choose the correct answer from the options given below

- 1. C only
- 2. A only
- 3. B only
- 4. D only

Options :

- 686340100905. 1
- 686340100906. 2
- 686340100907. 3
- 686340100908. 4

Question Number : 27 Question Id : 68634025541 Question Type : MCQ Option Shuffling : No Is Question Mandatory : No Calculator : None Response Time : N.A Think Time : N.A Minimum Instruction Time : 0 Correct Marks : 4 Wrong Marks : 1

'अर्पण' शब्द का विलोम शब्द क्या होगा-

- 1. तर्पण
- 2. समर्पण
- 3. अपर्णा
- 4. ग्रहण

Options :

- 686340100905. 1
- 686340100906. 2
- 686340100907. 3
- 686340100908. 4

Question Number : 28 Question Id : 68634025542 Question Type : MCQ Option Shuffling : No Is Question Mandatory : No Calculator : None Response Time : N.A Think Time : N.A Minimum Instruction Time : 0 Correct Marks : 4 Wrong Marks : 1

Improve the following given sentence by replacing the underlined words with the options provided below:

Inaugurating the 100th birth year celebrations of Mahatma Gandhi, the prime minister has well done to restate the fundamental tenets of Non-violence and intolerance.

1. has well done in restating
2. has done well to restate
3. has done well in restating
4. has done good in restating

Options :

686340100909. 1
686340100910. 2
686340100911. 3
686340100912. 4

Question Number : 28 Question Id : 68634025542 Question Type : MCQ Option Shuffling : No Is Question Mandatory : No Calculator : None Response Time : N.A Think Time : N.A Minimum Instruction Time : 0 Correct Marks : 4 Wrong Marks : 1

निम्नलिखित मुहावरे का अर्थ क्या होगा-

'ठन-ठन गोपाल'

1. बन ठन के निकलना
2. ज्यादा शोर मचाना
3. शक्तिशाली होना
4. खोखला

Options :

686340100909. 1
686340100910. 2
686340100911. 3
686340100912. 4

Question Number : 29 Question Id : 68634025543 Question Type : MCQ Option Shuffling : No Is Question Mandatory : No Calculator : None Response Time : N.A Think Time : N.A Minimum Instruction Time : 0 Correct Marks : 4 Wrong Marks : 1

Choose the option which can substitute the underlined group of words correctly, without changing the meaning of the sentence.

The plight of Tsunami victims must be seen to believe.

1. have been seen to believe
2. have been seen for believing
3. have seen for belief
4. be seen to be believed

Options :

686340100913. 1
686340100914. 2
686340100915. 3
686340100916. 4

Question Number : 29 Question Id : 68634025543 Question Type : MCQ Option Shuffling : No Is Question Mandatory : No Calculator : None Response Time : N.A Think Time : N.A Minimum Instruction Time : 0 Correct Marks : 4 Wrong Marks : 1

'अपनी पगड़ी अपने हाथ' लोकोक्ति का क्या अर्थ है:-

1. अपनी पगड़ी स्वयं बाधों
2. अपनी पगड़ी अपने हाथ में लो
3. अपने सम्मान को बनाए रखना स्वयं से संभव है
4. अपनी पगड़ी स्वयं उतारनी चाहिए

Options :

686340100913. 1
686340100914. 2
686340100915. 3
686340100916. 4

Question Number : 30 Question Id : 68634025544 Question Type : MCQ Option Shuffling : No Is Question Mandatory : No Calculator : None Response Time : N.A Think Time : N.A Minimum Instruction Time : 0 Correct Marks : 4 Wrong Marks : 1

Choose the options which can substitute the underlined group of words correctly, without changing the meaning of the sentence.

Most of the shopkeepers in the town, they supported the striking employees of the market.

1. Most of the politicians in the town supported
2. Most of the politicians in the town provided support for
3. The politicians in the town, most of them supported
4. of the politicians in the town mostly supported

Options :

686340100917. 1
686340100918. 2
686340100919. 3
686340100920. 4

Question Number : 30 Question Id : 68634025544 Question Type : MCQ Option Shuffling : No Is Question Mandatory : No Calculator : None Response Time : N.A Think Time : N.A Minimum Instruction Time : 0 Correct Marks : 4 Wrong Marks : 1

'अलंकेश' शब्द किसका समानार्थी शब्द होगा:-

1. रावण
2. कल्पवृक्ष
3. विभीषण
4. कुबेर

Options :

686340100917. 1
686340100918. 2
686340100919. 3
686340100920. 4

Question Number : 31 Question Id : 68634025545 Question Type : MCQ Option Shuffling : No Is Question Mandatory : No Calculator : None Response Time : N.A Think Time : N.A Minimum Instruction Time : 0 Correct Marks : 4 Wrong Marks : 1

A started a business with ₹ 25,000 and is joined afterwards by B with ₹ 40,000. After how many months did B join if the profits at the end of the year are divided equally?

1. 3

2. 4

3. $4\frac{1}{2}$

4. 5

Options :

686340100921. 1

686340100922. 2

686340100923. 3

686340100924. 4

Question Number : 31 Question Id : 68634025545 Question Type : MCQ Option Shuffling : No Is Question Mandatory : No Calculator : None Response Time : N.A Think Time : N.A Minimum Instruction Time : 0

Correct Marks : 4 Wrong Marks : 1

A ने ₹ 25,000 के निवेश के साथ एक व्यवसाय आरंभ किया और उसके बाद B इस व्यवसाय में ₹ 40,000 के निवेश के साथ सम्मिलित हुआ। यदि वर्ष के अंत में लाभ को बराबर बांटा जाता हो तो B कितने माह तक इस व्यवसाय में सम्मिलित रहा था?

1. 3

2. 4

3. $4\frac{1}{2}$

4. 5

Options :

686340100921. 1

686340100922. 2

686340100923. 3

686340100924. 4

Question Number : 32 Question Id : 68634025546 Question Type : MCQ Option Shuffling : No Is Question Mandatory : No Calculator : None Response Time : N.A Think Time : N.A Minimum Instruction Time : 0

Correct Marks : 4 Wrong Marks : 1

Three partners P, Q, R start a business. Twice of P's capital is equal to thrice of Q's capital and Q's capital is four times of R's capital. Out of a total profit of ₹ 27,500 at the end of the year, Q's share is:

1. ₹ 8,000
2. ₹ 10,000
3. ₹ 12,000
4. ₹ 14,000

Options :

686340100925. 1
686340100926. 2
686340100927. 3
686340100928. 4

Question Number : 32 Question Id : 68634025546 Question Type : MCQ Option Shuffling : No Is Question Mandatory : No Calculator : None Response Time : N.A Think Time : N.A Minimum Instruction Time : 0 Correct Marks : 4 Wrong Marks : 1

तीन साझेदार P, Q व R एक व्यवसाय आरम्भ करते हैं। P की दुगुनी पूंजी Q की तिगुनी के बराबर है और Q की पूंजी R की पूंजी की चौगुनी है। वर्ष के अंत में हुए ₹ 27,500 के लाभ में Q का हिस्सा क्या है?

1. ₹ 8,000
2. ₹ 10,000
3. ₹ 12,000
4. ₹ 14,000

Options :

686340100925. 1
686340100926. 2
686340100927. 3
686340100928. 4

Question Number : 33 Question Id : 68634025547 Question Type : MCQ Option Shuffling : No Is Question Mandatory : No Calculator : None Response Time : N.A Think Time : N.A Minimum Instruction Time : 0 Correct Marks : 4 Wrong Marks : 1

An amount of ₹10,000 becomes ₹14,641 in 2 years if the interest is compounded half-yearly. What is the rate of compound interest per annum?

1. 10%
2. 15%
3. 20%
4. 25%

Options :

- 686340100929. 1
- 686340100930. 2
- 686340100931. 3
- 686340100932. 4

Question Number : 33 Question Id : 68634025547 Question Type : MCQ Option Shuffling : No Is Question Mandatory : No Calculator : None Response Time : N.A Think Time : N.A Minimum Instruction Time : 0 Correct Marks : 4 Wrong Marks : 1

यदि अर्द्ध-वार्षिक चक्रवृद्धि ब्याज के आधार पर ₹10,000 की धनराशि 2 वर्ष में ₹14,641 हो जाती है। तो चक्रवृद्धि ब्याज की वार्षिक दर क्या है?

- 1. 10 %
- 2. 15 %
- 3. 20 %
- 4. 25 %

Options :

- 686340100929. 1
- 686340100930. 2
- 686340100931. 3
- 686340100932. 4

Question Number : 34 Question Id : 68634025548 Question Type : MCQ Option Shuffling : No Is Question Mandatory : No Calculator : None Response Time : N.A Think Time : N.A Minimum Instruction Time : 0 Correct Marks : 4 Wrong Marks : 1

A man bought goods worth Rs.10,000 and sold half of them at a gain of 10%. At what gain percent must he sell the remainder so as to get a gain of 25% on the whole?

- 1. 10%
- 2. 15%
- 3. 25%
- 4. 40%

Options :

- 686340100933. 1
- 686340100934. 2
- 686340100935. 3
- 686340100936. 4

Question Number : 34 Question Id : 68634025548 Question Type : MCQ Option Shuffling : No Is Question Mandatory : No Calculator : None Response Time : N.A Think Time : N.A Minimum Instruction Time : 0 Correct Marks : 4 Wrong Marks : 1

एक व्यक्ति ने ₹ 10,000 मूल्य की वस्तुओं का क्रय किया और इनमें से आधी वस्तुओं को 10% के लाभ पर विक्रय किया। तो शेष वस्तुओं को वह किस प्रतिशत लाभ पर बेचे ताकि उसे सम्पूर्ण पर 25% का लाभ हो?

1. 10%
2. 15%
3. 25%
4. 40%

Options :

686340100933. 1
686340100934. 2
686340100935. 3
686340100936. 4

Question Number : 35 Question Id : 68634025549 Question Type : MCQ Option Shuffling : No Is Question Mandatory : No Calculator : None Response Time : N.A Think Time : N.A Minimum Instruction Time : 0

Correct Marks : 4 Wrong Marks : 1

If a shopkeeper sells $\frac{1}{3}$ of his goods at a profit of 14%, $\frac{3}{5}$ of the goods at a profit of 17.5% and the remaining at a profit of 20%, then his profit on the whole is equal to:

1. 15%
2. 16.5%
3. 20%
4. 25%

Options :

686340100937. 1
686340100938. 2
686340100939. 3
686340100940. 4

Question Number : 35 Question Id : 68634025549 Question Type : MCQ Option Shuffling : No Is Question Mandatory : No Calculator : None Response Time : N.A Think Time : N.A Minimum Instruction Time : 0

Correct Marks : 4 Wrong Marks : 1

यदि एक दुकानदार अपने वस्तुओं के $\frac{1}{3}$ भाग को 14% के लाभ, वस्तुओं के $\frac{3}{5}$ भाग को 17.5% के लाभ और शेष वस्तुओं को 20% के लाभ पर बेचता है तो सम्पूर्ण वस्तुओं पर लाभ किसके बराबर है?

1. 15%
2. 16.5%
3. 20%
4. 25%

Options :

- 686340100937. 1
- 686340100938. 2
- 686340100939. 3
- 686340100940. 4

Question Number : 36 Question Id : 68634025550 Question Type : MCQ Option Shuffling : No Is Question Mandatory : No Calculator : None Response Time : N.A Think Time : N.A Minimum Instruction Time : 0 Correct Marks : 4 Wrong Marks : 1

Aman got 76% marks and Neha got 480 marks in a test. The maximum marks of the test is equal to the marks obtained by Aman and Neha together. How many marks did Aman score in the test?

- 1. 1300
- 2. 1420
- 3. 1500
- 4. 1520

Options :

- 686340100941. 1
- 686340100942. 2
- 686340100943. 3
- 686340100944. 4

Question Number : 36 Question Id : 68634025550 Question Type : MCQ Option Shuffling : No Is Question Mandatory : No Calculator : None Response Time : N.A Think Time : N.A Minimum Instruction Time : 0 Correct Marks : 4 Wrong Marks : 1

एक परीक्षा में अमन ने 76% अंक प्राप्त किए और नेहा ने 480 अंक प्राप्त किए। परीक्षा के अधिकतम अंक अमन और नेहा द्वारा एक साथ मिलाकर प्राप्त हुए अंकों के बराबर है, तो इस परीक्षा में अमन ने कितने अंक प्राप्त किये थे?

- 1. 1300
- 2. 1420
- 3. 1500
- 4. 1520

Options :

- 686340100941. 1
- 686340100942. 2
- 686340100943. 3
- 686340100944. 4

Question Number : 37 Question Id : 68634025551 Question Type : MCQ Option Shuffling : No Is Question Mandatory : No Calculator : None Response Time : N.A Think Time : N.A Minimum Instruction Time : 0 Correct Marks : 4 Wrong Marks : 1

If the price of rice falls by $2\frac{1}{2}\%$, a person can buy 9 kg more of rice for ₹1,260 than before. If the price had risen by $12\frac{1}{2}\%$, how much rice would he have bought for the same sum?

1. 310 kg
2. 312 kg
3. 315 kg
4. 320 kg

Options :

686340100945. 1
686340100946. 2
686340100947. 3
686340100948. 4

Question Number : 37 Question Id : 68634025551 Question Type : MCQ Option Shuffling : No Is Question Mandatory : No Calculator : None Response Time : N.A Think Time : N.A Minimum Instruction Time : 0 Correct Marks : 4 Wrong Marks : 1

यदि चावल के मूल्यों में $2\frac{1}{2}\%$, की गिरावट होती है तो एक व्यक्ति पहले की तुलना में ₹ 1,260 में 9 किग्रा अधिक चावल खरीद सकता है। यदि चावल के मूल्य में $12\frac{1}{2}\%$, की वृद्धि हुई होती है तो उपर्युक्त राशि में कितने चावल खरीद सकता था?

1. 310 किग्रा
2. 312 किग्रा
3. 315 किग्रा
4. 320 किग्रा

Options :

686340100945. 1
686340100946. 2
686340100947. 3
686340100948. 4

Question Number : 38 Question Id : 68634025552 Question Type : MCQ Option Shuffling : No Is Question Mandatory : No Calculator : None Response Time : N.A Think Time : N.A Minimum Instruction Time : 0 Correct Marks : 4 Wrong Marks : 1

₹ 1,820 are divided among A, B and C. The share of A is $\frac{2}{5}$ of the combined share of B and C. Then A gets how much amount?

1. ₹ 420
2. ₹ 480
3. ₹ 500
4. ₹ 520

Options :

686340100949. 1
686340100950. 2
686340100951. 3
686340100952. 4

Question Number : 38 Question Id : 68634025552 Question Type : MCQ Option Shuffling : No Is Question Mandatory : No Calculator : None Response Time : N.A Think Time : N.A Minimum Instruction Time : 0 Correct Marks : 4 Wrong Marks : 1

A, B और C में ₹ 1,820 विभाजित किये जाते हैं। A का हिस्सा B और C के संयुक्त हिस्से का $\frac{2}{5}$ है। तो A को कितनी धनराशि मिलेगी?

1. ₹ 420
2. ₹ 480
3. ₹ 500
4. ₹ 520

Options :

686340100949. 1
686340100950. 2
686340100951. 3
686340100952. 4

Question Number : 39 Question Id : 68634025553 Question Type : MCQ Option Shuffling : No Is Question Mandatory : No Calculator : None Response Time : N.A Think Time : N.A Minimum Instruction Time : 0 Correct Marks : 4 Wrong Marks : 1

The ages of P and Q are presently in the ratio of 5:6 respectively. After six years, this ratio will become 6:7 respectively. What was Q's age 10 years ago?

1. 26 years
2. 31 years
3. 33 years
4. 35 years

Options :

686340100953. 1
686340100954. 2
686340100955. 3
686340100956. 4

Question Number : 39 Question Id : 68634025553 Question Type : MCQ Option Shuffling : No Is Question Mandatory : No Calculator : None Response Time : N.A Think Time : N.A Minimum Instruction Time : 0 Correct Marks : 4 Wrong Marks : 1

P और Q की वर्तमान आयु का अनुपात क्रमशः 5:6 है। छः वर्ष पश्चात् यह अनुपात क्रमशः 6:7 हो जाएगा। तो 10 वर्ष पहले Q की आयु क्या थी?

1. 26 वर्ष
2. 31 वर्ष
3. 33 वर्ष
4. 35 वर्ष

Options :

686340100953. 1
686340100954. 2
686340100955. 3
686340100956. 4

Question Number : 40 Question Id : 68634025554 Question Type : MCQ Option Shuffling : No Is Question Mandatory : No Calculator : None Response Time : N.A Think Time : N.A Minimum Instruction Time : 0 Correct Marks : 4 Wrong Marks : 1

Three pipes P, Q and R can fill a tank in 6 hours. After working at it together for 2 hours, R is closed and P and Q can fill the remaining part in 7 hours. The number of hours taken by R alone to fill the tank is:

1. 10
2. 12
3. 14
4. 16

Options :

686340100957. 1
686340100958. 2
686340100959. 3
686340100960. 4

Question Number : 40 Question Id : 68634025554 Question Type : MCQ Option Shuffling : No Is Question Mandatory : No Calculator : None Response Time : N.A Think Time : N.A Minimum Instruction Time : 0

Correct Marks : 4 Wrong Marks : 1

तीन पाइप P, Q और R छह घंटे में एक टंकी को भर सकते हैं। सभी पाइपों को 2 घंटे तक खोलने के बाद पाइप R को बंद करा दिया जाता है और पाइप-P एवं Q शेष भाग को 7 घंटे में भर सकते हैं, तो अकेले R द्वारा इस टंकी को भरने में कितने घंटे लगेंगे?

1. 10
2. 12
3. 14
4. 16

Options :

686340100957. 1
686340100958. 2
686340100959. 3
686340100960. 4

Question Number : 41 Question Id : 68634025555 Question Type : MCQ Option Shuffling : No Is Question Mandatory : No Calculator : None Response Time : N.A Think Time : N.A Minimum Instruction Time : 0

Correct Marks : 4 Wrong Marks : 1

P takes twice as much time as Q or thrice as much time as R to finish a piece of work. Working together, they can finish the work in 5 days. Q can do the work alone in:

1. 10 days
2. 13 days
3. 15 days
4. 18 days

Options :

686340100961. 1
686340100962. 2
686340100963. 3
686340100964. 4

Question Number : 41 Question Id : 68634025555 Question Type : MCQ Option Shuffling : No Is Question Mandatory : No Calculator : None Response Time : N.A Think Time : N.A Minimum Instruction Time : 0 Correct Marks : 4 Wrong Marks : 1

P कार्य के एक भाग को पूरा करने में Q से दोगुना या R से तिगुना समय लगाता है। वे एक साथ मिलकर इस कार्य को 5 दिन में पूरा कर सकते हैं, तो अकेला Q इस कार्य को कितने दिन में कर सकता है?

1. 10 दिन
2. 13 दिन
3. 15 दिन
4. 18 दिन

Options :

686340100961. 1
686340100962. 2
686340100963. 3
686340100964. 4

Question Number : 42 Question Id : 68634025556 Question Type : MCQ Option Shuffling : No Is Question Mandatory : No Calculator : None Response Time : N.A Think Time : N.A Minimum Instruction Time : 0 Correct Marks : 4 Wrong Marks : 1

Rohan takes 2 hours more than Soham to walk 50 km, but if Rohan doubles his speed, then he can make it in 1 hour less than Soham. How much time does Soham require for walking 50 km?

1. 4 hrs
2. 6 hrs
3. 8 hrs
4. 10 hrs

Options :

686340100965. 1
686340100966. 2
686340100967. 3
686340100968. 4

Question Number : 42 Question Id : 68634025556 Question Type : MCQ Option Shuffling : No Is Question Mandatory : No Calculator : None Response Time : N.A Think Time : N.A Minimum Instruction Time : 0

Correct Marks : 4 Wrong Marks : 1

रोहन, 50 किमी पैदल चलने में सोहन की तुलना में 2 घंटे का समय अधिक लेता है, लेकिन यदि रोहन अपनी गति दोगुनी करता है, तो उसे सोहन की तुलना में 1 घंटे कम लग सकता है। सोहन द्वारा 50 किमी तक पैदल चलने में कितना समय आवश्यक है?

1. 4 घंटे
2. 6 घंटे
3. 8 घंटे
4. 10 घंटे

Options :

686340100965. 1
686340100966. 2
686340100967. 3
686340100968. 4

Question Number : 43 Question Id : 68634025557 Question Type : MCQ Option Shuffling : No Is Question Mandatory : No Calculator : None Response Time : N.A Think Time : N.A Minimum Instruction Time : 0

Correct Marks : 4 Wrong Marks : 1

Two trains of equal length are running on parallel tracks in the same direction at 40km/hr and 30 km/hr. The faster train passes the slower train in 54 seconds. The length of each train is:

1. 50 m
2. 60 m
3. 70 m
4. 75 m

Options :

686340100969. 1
686340100970. 2
686340100971. 3
686340100972. 4

Question Number : 43 Question Id : 68634025557 Question Type : MCQ Option Shuffling : No Is Question Mandatory : No Calculator : None Response Time : N.A Think Time : N.A Minimum Instruction Time : 0

Correct Marks : 4 Wrong Marks : 1

समान लम्बाई वाली दो ट्रेन क्रमशः 40 किमी / घंटा तथा 30 किमी/घंटा की गति से समानांतर ट्रेक में समान दिशा में चल रही हैं। अधिक तेज गति से चलने वाली ट्रेन 50 सेकेंड में धीमी गति वाली ट्रेन से गुजर जाती है। तो प्रत्येक ट्रेन की लम्बाई क्या है?

1. 50 मीटर
2. 60 मीटर
3. 70 मीटर
4. 75 मीटर

Options :

686340100969. 1
686340100970. 2
686340100971. 3
686340100972. 4

Question Number : 44 Question Id : 68634025558 Question Type : MCQ Option Shuffling : No Is Question Mandatory : No Calculator : None Response Time : N.A Think Time : N.A Minimum Instruction Time : 0

Correct Marks : 4 Wrong Marks : 1

The milk and water in two vessels P and Q are in the ratio 5:2 and 2:3 respectively. In what ratio, the liquids in both the vessels be mixed to obtain a new mixture in vessel R containing milk and Half water?

1. 3:14
2. 7:15
3. 3:10
4. 1:15

Options :

686340100973. 1
686340100974. 2
686340100975. 3
686340100976. 4

Question Number : 44 Question Id : 68634025558 Question Type : MCQ Option Shuffling : No Is Question Mandatory : No Calculator : None Response Time : N.A Think Time : N.A Minimum Instruction Time : 0

Correct Marks : 4 Wrong Marks : 1

P और Q पात्र में दूध और जल का अनुपात क्रमशः 5:2 और 2:3 है, तो दोनों पात्रों में तरल पदार्थों को किस अनुपात में मिश्रित किया जाए, जिससे पात्र R में आधे दूध और आधे जल का नया मिश्रण प्राप्त किया जा सके?

1. 3:14
2. 7:15
3. 3:10
4. 1:15

Options :

686340100973. 1
686340100974. 2
686340100975. 3
686340100976. 4

Question Number : 45 Question Id : 68634025559 Question Type : MCQ Option Shuffling : No Is Question Mandatory : No Calculator : None Response Time : N.A Think Time : N.A Minimum Instruction Time : 0

Correct Marks : 4 Wrong Marks : 1

How many liters of water should be added to a 30 liters mixture of milk and water in the ratio of 7:3, such that the resultant mixture has 60% milk in it?

1. 6
2. 5
3. 4
4. 3

Options :

- 686340100977. 1
- 686340100978. 2
- 686340100979. 3
- 686340100980. 4

Question Number : 45 Question Id : 68634025559 Question Type : MCQ Option Shuffling : No Is Question Mandatory : No Calculator : None Response Time : N.A Think Time : N.A Minimum Instruction Time : 0 Correct Marks : 4 Wrong Marks : 1

7:3 के अनुपात में दूध और जल के 30 लीटर मिश्रण में कितने लीटर जल मिलाया जाना चाहिए, जिससे इस मिश्रण में 60 प्रतिशत दूध हो?

- 1. 6
- 2. 5
- 3. 4
- 4. 3

Options :

- 686340100977. 1
- 686340100978. 2
- 686340100979. 3
- 686340100980. 4

Question Number : 46 Question Id : 68634025560 Question Type : MCQ Option Shuffling : No Is Question Mandatory : No Calculator : None Response Time : N.A Think Time : N.A Minimum Instruction Time : 0 Correct Marks : 4 Wrong Marks : 1

The altitude drawn to the base of an isosceles triangle is 8 cm and the perimeter is 32 cm. Find the area of the triangle?

- 1. 40 cm²
- 2. 44 cm²
- 3. 46 cm²
- 4. 48 cm²

Options :

- 686340100981. 1
- 686340100982. 2
- 686340100983. 3
- 686340100984. 4

Question Number : 46 Question Id : 68634025560 Question Type : MCQ Option Shuffling : No Is Question Mandatory : No Calculator : None Response Time : N.A Think Time : N.A Minimum Instruction Time : 0 Correct Marks : 4 Wrong Marks : 1

किसी समद्विबाहु त्रिभुज के आधार तक अंकित की गई ऊँचाई 8 सेमी और परिधि 32 सेमी हो तो त्रिभुज का क्षेत्रफल ज्ञात कीजिए:

1. 40 सेमी²
2. 44 सेमी²
3. 46 सेमी²
4. 48 सेमी²

Options :

686340100981. 1
686340100982. 2
686340100983. 3
686340100984. 4

Question Number : 47 Question Id : 68634025561 Question Type : MCQ Option Shuffling : No Is Question Mandatory : No Calculator : None Response Time : N.A Think Time : N.A Minimum Instruction Time : 0

Correct Marks : 4 Wrong Marks : 1

A hemispherical bowl of internal radius 9 cm contains a liquid. This liquid is to be filled into cylindrical shaped small bottles of diameter 3 cm and height 4 cm. How many bottles will be needed to empty the bowl?

1. 48
2. 50
3. 54
4. 56

Options :

686340100985. 1
686340100986. 2
686340100987. 3
686340100988. 4

Question Number : 47 Question Id : 68634025561 Question Type : MCQ Option Shuffling : No Is Question Mandatory : No Calculator : None Response Time : N.A Think Time : N.A Minimum Instruction Time : 0

Correct Marks : 4 Wrong Marks : 1

9 सेमी आंतरिक त्रिज्या का एक अर्धगोलाकार कटोरा किसी द्रव को अन्तर्विष्ट करता है। इस द्रव को बेलनाकार आकृति वाली 3 सेमी व्यास और 4 सेमी ऊँचाई वाली शीशियों में भरा जाना है। कटोरे को खाली करने के लिए कितनी शीशियों की आवश्यकता होगी?

1. 48

2. 50

3. 54

4. 56

Options :

686340100985. 1

686340100986. 2

686340100987. 3

686340100988. 4

Question Number : 48 Question Id : 68634025562 Question Type : MCQ Option Shuffling : No Is Question Mandatory : No Calculator : None Response Time : N.A Think Time : N.A Minimum Instruction Time : 0

Correct Marks : 4 Wrong Marks : 1

A hollow hemisphere and a cone have equal bases. If their are also equal, then the ratio of their curved surface area will be:

1. 1:3

2. $\sqrt{2}$:1

3. $\sqrt{3}$:1

4. 5:1

Options :

686340100989. 1

686340100990. 2

686340100991. 3

686340100992. 4

Question Number : 48 Question Id : 68634025562 Question Type : MCQ Option Shuffling : No Is Question Mandatory : No Calculator : None Response Time : N.A Think Time : N.A Minimum Instruction Time : 0

Correct Marks : 4 Wrong Marks : 1

एक खोखला अर्धगोलाकार और एक शंकु का आधार समान है। यदि उनकी ऊँचाइयाँ भी समान हैं तो उनके वक्र पृष्ठ क्षेत्रफल का अनुपात क्या होगा?

1. 1:3
2. $\sqrt{2}:1$
3. $\sqrt{3}:1$
4. 5:1

Options :

686340100989. 1
686340100990. 2
686340100991. 3
686340100992. 4

Question Number : 49 Question Id : 68634025563 Question Type : MCQ Option Shuffling : No Is Question Mandatory : No Calculator : None Response Time : N.A Think Time : N.A Minimum Instruction Time : 0

Correct Marks : 4 Wrong Marks : 1

In how many different ways can the letters of the word 'TRANSPORT' be arranged the vowels always come together?

1. 20150
2. 20160
3. 20170
4. 20180

Options :

686340100993. 1
686340100994. 2
686340100995. 3
686340100996. 4

Question Number : 49 Question Id : 68634025563 Question Type : MCQ Option Shuffling : No Is Question Mandatory : No Calculator : None Response Time : N.A Think Time : N.A Minimum Instruction Time : 0

Correct Marks : 4 Wrong Marks : 1

'TRANSPORT' शब्द के वर्णों को कितने भिन्न तरीके से व्यवस्थित किया जा सकता है ताकि स्वर एक साथ आएं?

1. 20150
2. 20160
3. 20170
4. 20180

Options :

686340100993. 1
686340100994. 2
686340100995. 3
686340100996. 4

Question Number : 50 Question Id : 68634025564 Question Type : MCQ Option Shuffling : No Is Question Mandatory : No Calculator : None Response Time : N.A Think Time : N.A Minimum Instruction Time : 0

Correct Marks : 4 Wrong Marks : 1

In how many ways can a group of 5 men and 2 women be made out of a total of 7 men and 3 women?

1. 60
2. 62
3. 63
4. 68

Options :

686340100997. 1
686340100998. 2
686340100999. 3
686340101000. 4

Question Number : 50 Question Id : 68634025564 Question Type : MCQ Option Shuffling : No Is Question Mandatory : No Calculator : None Response Time : N.A Think Time : N.A Minimum Instruction Time : 0

Correct Marks : 4 Wrong Marks : 1

कुल 7 पुरुषों और 3 महिलाओं में से 5 पुरुषों एवं 2 महिलाओं का एक समूह कितने तरीकों में बनाया जा सकता है?

1. 60
2. 62
3. 63
4. 68

Options :

686340100997. 1
686340100998. 2
686340100999. 3
686340101000. 4

Question Number : 51 Question Id : 68634025565 Question Type : MCQ Option Shuffling : No Is Question Mandatory : No Calculator : None Response Time : N.A Think Time : N.A Minimum Instruction Time : 0

Correct Marks : 4 Wrong Marks : 1

In a simultaneous throw of a pair of dice, find the probability of getting a total more than 8?

1. $\frac{5}{12}$

2. $\frac{5}{14}$

3. $\frac{5}{18}$

4. $\frac{7}{18}$

Options :

686340101001. 1

686340101002. 2

686340101003. 3

686340101004. 4

Question Number : 51 Question Id : 68634025565 Question Type : MCQ Option Shuffling : No Is Question Mandatory : No Calculator : None Response Time : N.A Think Time : N.A Minimum Instruction Time : 0

Correct Marks : 4 Wrong Marks : 1

पासा के एक युग्म को एक साथ फेंका जाता है, तो कुल 8 से अधिक प्राप्त होने की प्रायिकता ज्ञाता कीजिए ?

1. $\frac{5}{12}$

2. $\frac{5}{14}$

3. $\frac{5}{18}$

4. $\frac{7}{18}$

Options :

686340101001. 1

686340101002. 2

686340101003. 3

686340101004. 4

Question Number : 52 Question Id : 68634025566 Question Type : MCQ Option Shuffling : No Is Question Mandatory : No Calculator : None Response Time : N.A Think Time : N.A Minimum Instruction Time : 0

Correct Marks : 4 Wrong Marks : 1

A card is drawn from a pack of 52 cards. The probability of getting a queen of club or a king of heart is:

1. $\frac{1}{26}$

2. $\frac{2}{13}$

3. $\frac{3}{26}$

4. $\frac{7}{13}$

Options :

686340101005. 1

686340101006. 2

686340101007. 3

686340101008. 4

Question Number : 52 Question Id : 68634025566 Question Type : MCQ Option Shuffling : No Is Question Mandatory : No Calculator : None Response Time : N.A Think Time : N.A Minimum Instruction Time : 0

Correct Marks : 4 Wrong Marks : 1

ताश के 52 पत्तों में से एक पत्ता निकाला जाता है, तो चिड़ी की एक रानी या पान के एक राजा को पाने की प्रायिकता क्या है?

1. $\frac{1}{26}$

2. $\frac{2}{13}$

3. $\frac{3}{26}$

4. $\frac{7}{13}$

Options :

686340101005. 1

686340101006. 2

686340101007. 3

686340101008. 4

Question Number : 53 Question Id : 68634025567 Question Type : MCQ Option Shuffling : No Is Question Mandatory : No Calculator : None Response Time : N.A Think Time : N.A Minimum Instruction Time : 0

Correct Marks : 4 Wrong Marks : 1

If $\frac{a}{b} = \frac{4}{5}$ and $\frac{b}{c} = \frac{15}{16}$, then $\frac{c^2 - a^2}{c^2 + a^2}$ is:

1. $\frac{3}{25}$

2. $\frac{6}{25}$

3. $\frac{7}{25}$

4. $\frac{9}{25}$

Options :

686340101009. 1

686340101010. 2

686340101011. 3

686340101012. 4

Question Number : 53 Question Id : 68634025567 Question Type : MCQ Option Shuffling : No Is Question Mandatory : No Calculator : None Response Time : N.A Think Time : N.A Minimum Instruction Time : 0

Correct Marks : 4 Wrong Marks : 1

यदि $\frac{a}{b} = \frac{4}{5}$ और $\frac{b}{c} = \frac{15}{16}$ है, तो $\frac{c^2 - a^2}{c^2 + a^2}$ क्या है?

1. $\frac{3}{25}$

2. $\frac{6}{25}$

3. $\frac{7}{25}$

4. $\frac{9}{25}$

Options :

686340101009. 1

686340101010. 2

686340101011. 3

686340101012. 4

Question Number : 54 Question Id : 68634025568 Question Type : MCQ Option Shuffling : No Is Question Mandatory : No Calculator : None Response Time : N.A Think Time : N.A Minimum Instruction Time : 0

Correct Marks : 4 Wrong Marks : 1

If $a + \frac{1}{b} = 1$ and $b + \frac{1}{c} = 1$, then what is the value of abc ?

1. -1
2. -2
3. -3
4. 0

Options :

686340101013. 1
686340101014. 2
686340101015. 3
686340101016. 4

Question Number : 54 Question Id : 68634025568 Question Type : MCQ Option Shuffling : No Is Question Mandatory : No Calculator : None Response Time : N.A Think Time : N.A Minimum Instruction Time : 0

Correct Marks : 4 Wrong Marks : 1

यदि $a + \frac{1}{b} = 1$ और $b + \frac{1}{c} = 1$, है तो abc का मान क्या है?

1. -1
2. -2
3. -3
4. 0

Options :

686340101013. 1
686340101014. 2
686340101015. 3
686340101016. 4

Question Number : 55 Question Id : 68634025569 Question Type : MCQ Option Shuffling : No Is Question Mandatory : No Calculator : None Response Time : N.A Think Time : N.A Minimum Instruction Time : 0

Correct Marks : 4 Wrong Marks : 1

If $2x + \frac{1}{3x} = 6$, then $3x + \frac{1}{2x}$ is equal to:

1. 4
2. 8
3. 9
4. 12

Options :

- 686340101017. 1
- 686340101018. 2
- 686340101019. 3
- 686340101020. 4

Question Number : 55 Question Id : 68634025569 Question Type : MCQ Option Shuffling : No Is Question Mandatory : No Calculator : None Response Time : N.A Think Time : N.A Minimum Instruction Time : 0 Correct Marks : 4 Wrong Marks : 1

यदि $2x + \frac{1}{3x} = 6$, है तो $3x + \frac{1}{2x}$ किसके बराबर है?

- 1. 4
- 2. 8
- 3. 9
- 4. 12

Options :

- 686340101017. 1
- 686340101018. 2
- 686340101019. 3
- 686340101020. 4

Question Number : 56 Question Id : 68634025570 Question Type : MCQ Option Shuffling : No Is Question Mandatory : No Calculator : None Response Time : N.A Think Time : N.A Minimum Instruction Time : 0 Correct Marks : 4 Wrong Marks : 1

If $a + b + c = 0$, then the value of $\frac{a^2 + b^2 + c^2}{a^2 - bc}$ is:

- 1. 0
- 2. 1
- 3. 2
- 4. 3

Options :

- 686340101021. 1
- 686340101022. 2
- 686340101023. 3
- 686340101024. 4

Question Number : 56 Question Id : 68634025570 Question Type : MCQ Option Shuffling : No Is Question Mandatory : No Calculator : None Response Time : N.A Think Time : N.A Minimum Instruction Time : 0 Correct Marks : 4 Wrong Marks : 1

यदि $a + b + c = 0$ है, तो $\frac{a^2 + b^2 + c^2}{a^2 - bc}$ का मान क्या है?

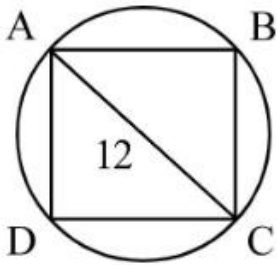
1. 0
2. 1
3. 2
4. 3

Options :

686340101021. 1
686340101022. 2
686340101023. 3
686340101024. 4

Question Number : 57 Question Id : 68634025571 Question Type : MCQ Option Shuffling : No Is Question Mandatory : No Calculator : None Response Time : N.A Think Time : N.A Minimum Instruction Time : 0 Correct Marks : 4 Wrong Marks : 1

If the area of the circle in the figure is $36\pi \text{ cm}^2$ and ABCD is a square, then the area of ΔACD , in cm^2 , is:



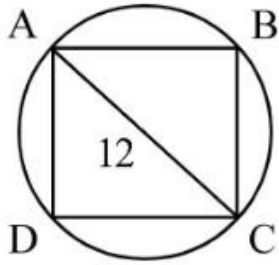
1. 12π
2. $\frac{36}{\pi}$
3. 12
4. 36

Options :

686340101025. 1
686340101026. 2
686340101027. 3
686340101028. 4

Question Number : 57 Question Id : 68634025571 Question Type : MCQ Option Shuffling : No Is Question Mandatory : No Calculator : None Response Time : N.A Think Time : N.A Minimum Instruction Time : 0 Correct Marks : 4 Wrong Marks : 1

नीचे दी गई आकृति में वृत्त का क्षेत्रफल $36\pi \text{ cm}^2$ है और ABCD एक वर्ग है, तो (cm^2 में) $\triangle ACD$ का क्षेत्रफल क्या है?



1. 12π

2. $\frac{36}{\pi}$

3. 12

4. 36

Options :

686340101025. 1

686340101026. 2

686340101027. 3

686340101028. 4

Question Number : 58 Question Id : 68634025572 Question Type : MCQ Option Shuffling : No Is Question Mandatory : No Calculator : None Response Time : N.A Think Time : N.A Minimum Instruction Time : 0

Correct Marks : 4 Wrong Marks : 1

A piece of wire 78 cm long is bent in the form of an isosceles triangle. If the ratio of one of the equal sides to the base 5:3, then what is the length of the base?

1. 16 cm

2. 18 cm

3. 20 cm

4. 30 cm

Options :

686340101029. 1

686340101030. 2

686340101031. 3

686340101032. 4

Question Number : 58 Question Id : 68634025572 Question Type : MCQ Option Shuffling : No Is Question Mandatory : No Calculator : None Response Time : N.A Think Time : N.A Minimum Instruction Time : 0

Correct Marks : 4 Wrong Marks : 1

78 सेमी लम्बे एक तार को एक समद्विबाहु त्रिभुज के रूप में मोड़ा जाता है। यदि समान भुजाओं में से एक भुजा और आधार का अनुपात 5:3 है तो आधार की लंबाई क्या है?

1. 16 सेमी
2. 18 सेमी
3. 20 सेमी
4. 30 सेमी

Options :

686340101029. 1
686340101030. 2
686340101031. 3
686340101032. 4

Question Number : 59 Question Id : 68634025573 Question Type : MCQ Option Shuffling : No Is Question Mandatory : No Calculator : None Response Time : N.A Think Time : N.A Minimum Instruction Time : 0 Correct Marks : 4 Wrong Marks : 1

A sum of money at simple interest amounts to ₹ 815 in 3 years and to ₹ 854 in 4 years. The sum is:

1. ₹ 650
2. ₹ 690
3. ₹ 698
4. ₹ 700

Options :

686340101033. 1
686340101034. 2
686340101035. 3
686340101036. 4

Question Number : 59 Question Id : 68634025573 Question Type : MCQ Option Shuffling : No Is Question Mandatory : No Calculator : None Response Time : N.A Think Time : N.A Minimum Instruction Time : 0 Correct Marks : 4 Wrong Marks : 1

साधारण ब्याज पर एक धनराशि 3 वर्ष में ₹ 815 और 4 वर्ष में ₹ 854 बन जाती है, तो उपर्युक्त धनराशि कितनी थी?

1. ₹ 650
2. ₹ 690
3. ₹ 698
4. ₹ 700

Options :

686340101033. 1
686340101034. 2
686340101035. 3
686340101036. 4

Question Number : 60 Question Id : 68634025574 Question Type : MCQ Option Shuffling : No Is Question Mandatory : No Calculator : None Response Time : N.A Think Time : N.A Minimum Instruction Time : 0

Correct Marks : 4 Wrong Marks : 1

The average of six numbers is m and the arrange of three of these is y . If the average of the remaining three is Z , then:

1. $2m = y + z$

2. $2y = m + z$

3. $2z = m + y$

4. $m = 2y + z$

Options :

686340101037. 1
686340101038. 2
686340101039. 3
686340101040. 4

Question Number : 60 Question Id : 68634025574 Question Type : MCQ Option Shuffling : No Is Question Mandatory : No Calculator : None Response Time : N.A Think Time : N.A Minimum Instruction Time : 0

Correct Marks : 4 Wrong Marks : 1

छः संख्याओं का औसत m है और इनमें से तीन संख्याओं का औसत y है। यदि शेष तीन संख्याओं का औसत Z है तो:

1. $2m = y + z$

2. $2y = m + z$

3. $2z = m + y$

4. $m = 2y + z$

Options :

686340101037. 1
686340101038. 2
686340101039. 3
686340101040. 4

Question Number : 61 Question Id : 68634025575 Question Type : MCQ Option Shuffling : No Is Question Mandatory : No Calculator : None Response Time : N.A Think Time : N.A Minimum Instruction Time : 0

Correct Marks : 4 Wrong Marks : 1

The average of five consecutive numbers is m . If the next two numbers are also included, how shall the average vary?

1. It shall increase by 2
2. It shall increase by 3
3. It shall increase by 5
4. It shall remain the same

Options :

686340101041. 1
686340101042. 2
686340101043. 3
686340101044. 4

Question Number : 61 Question Id : 68634025575 Question Type : MCQ Option Shuffling : No Is Question Mandatory : No Calculator : None Response Time : N.A Think Time : N.A Minimum Instruction Time : 0

Correct Marks : 4 Wrong Marks : 1

पांच निरंतर संख्याओं का औसत m है। यदि अगली दो अन्य संख्याएं सम्मिलित की जाती हैं तो औसत कैसे परिवर्तित होगा?

1. इसमें 2 की वृद्धि होगी।
2. इसमें 3 की वृद्धि होगी।
3. इसमें 5 की वृद्धि होगी।
4. यह समान रहेगा।

Options :

686340101041. 1
686340101042. 2
686340101043. 3
686340101044. 4

Question Number : 62 Question Id : 68634025576 Question Type : MCQ Option Shuffling : No Is Question Mandatory : No Calculator : None Response Time : N.A Think Time : N.A Minimum Instruction Time : 0

Correct Marks : 4 Wrong Marks : 1

In the first 10 overs of a cricket game, the run rate was only 3.2. What should be the run rate in the remaining 40 overs to reach the target of 282 runs?

1. 6
2. 6.25
3. 6.75
4. 8

Options :

- 686340101045. 1
- 686340101046. 2
- 686340101047. 3
- 686340101048. 4

Question Number : 62 Question Id : 68634025576 Question Type : MCQ Option Shuffling : No Is Question Mandatory : No Calculator : None Response Time : N.A Think Time : N.A Minimum Instruction Time : 0

Correct Marks : 4 Wrong Marks : 1

क्रिकेट के एक खेल के प्रथम में रनरेट केवल 3.2 थी। शेष 40 ओवर में 282 रनों के लक्ष्य पर पहुँचने के लिए रन रेट क्या होनी चाहिए?

1. 6
2. 6.25
3. 6.75
4. 8

Options :

- 686340101045. 1
- 686340101046. 2
- 686340101047. 3
- 686340101048. 4

Question Number : 63 Question Id : 68634025577 Question Type : MCQ Option Shuffling : No Is Question Mandatory : No Calculator : None Response Time : N.A Think Time : N.A Minimum Instruction Time : 0

Correct Marks : 4 Wrong Marks : 1

If 5 workers can collect 60 kg wheat in 3 days, how many kilograms of wheat will 8 workers collect in 5 days?

1. 140
2. 160
3. 180
4. 200

Options :

686340101049. 1
686340101050. 2
686340101051. 3
686340101052. 4

**Question Number : 63 Question Id : 68634025577 Question Type : MCQ Option Shuffling : No Is Question Mandatory :
No Calculator : None Response Time : N.A Think Time : N.A Minimum Instruction Time : 0
Correct Marks : 4 Wrong Marks : 1**

यदि 5 श्रमिक 3 दिन में 60 किग्रा गेहूं एकत्रित कर सकते हैं, तो 8 श्रमिक 5 दिन में कितने किग्रा गेहूं एकत्रित करेंगे?

1. 140
2. 160
3. 180
4. 200

Options :

686340101049. 1
686340101050. 2
686340101051. 3
686340101052. 4

**Question Number : 64 Question Id : 68634025578 Question Type : MCQ Option Shuffling : No Is Question Mandatory :
No Calculator : None Response Time : N.A Think Time : N.A Minimum Instruction Time : 0
Correct Marks : 4 Wrong Marks : 1**

The cost of 8 Pens and 14 fans is ₹ 500. What is the cost of 12 pens and 21 fans?

1. ₹ 600
2. ₹ 700
3. ₹ 750
4. ₹ 800

Options :

686340101053. 1
686340101054. 2
686340101055. 3
686340101056. 4

**Question Number : 64 Question Id : 68634025578 Question Type : MCQ Option Shuffling : No Is Question Mandatory :
No Calculator : None Response Time : N.A Think Time : N.A Minimum Instruction Time : 0
Correct Marks : 4 Wrong Marks : 1**

8 पेन और 14 पंखों की कीमत ₹ 500 है, तो 12 पेन और 21 पंखों की कीमत क्या है?

1. ₹ 600
2. ₹ 700
3. ₹ 750
4. ₹ 800

Options :

686340101053. 1
686340101054. 2
686340101055. 3
686340101056. 4

Question Number : 65 Question Id : 68634025579 Question Type : MCQ Option Shuffling : No Is Question Mandatory : No Calculator : None Response Time : N.A Think Time : N.A Minimum Instruction Time : 0 Correct Marks : 4 Wrong Marks : 1

If $x^y = y^x$, then $\left(\frac{x}{y}\right)^{\frac{x}{y}}$ is equal to:

1. $\frac{y}{x^x}$
2. $x^{\frac{x}{y}-1}$
3. 1
4. $x^{\frac{x}{y}}$

Options :

686340101057. 1
686340101058. 2
686340101059. 3
686340101060. 4

Question Number : 65 Question Id : 68634025579 Question Type : MCQ Option Shuffling : No Is Question Mandatory : No Calculator : None Response Time : N.A Think Time : N.A Minimum Instruction Time : 0 Correct Marks : 4 Wrong Marks : 1

यदि $x^y = y^x$ है, तो $\left(\frac{x}{y}\right)^{\frac{x}{y}}$ किसके समान है?

1. $\frac{y}{x^x}$

2. x^{y-1}

3. 1

4. $x^{\frac{x}{y}}$

Options :

686340101057. 1

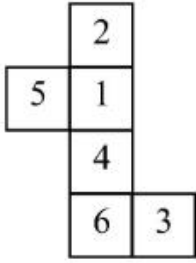
686340101058. 2

686340101059. 3

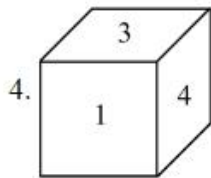
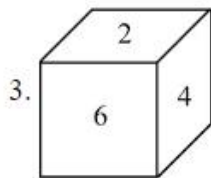
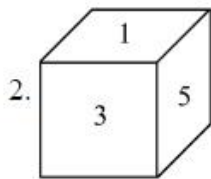
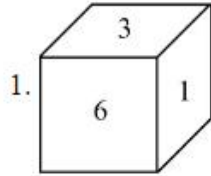
686340101060. 4

Question Number : 66 Question Id : 68634025580 Question Type : MCQ Option Shuffling : No Is Question Mandatory : No Calculator : None Response Time : N.A Think Time : N.A Minimum Instruction Time : 0

Correct Marks : 4 Wrong Marks : 1



By folding the sheet shown in above figure, which of the following figure can be formed?



Options :

686340101061. 1

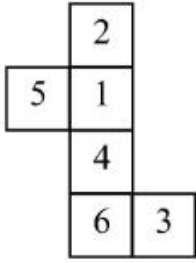
686340101062. 2

686340101063. 3

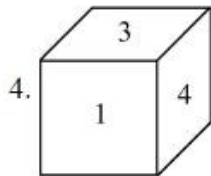
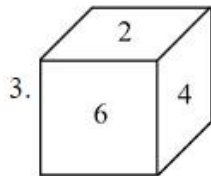
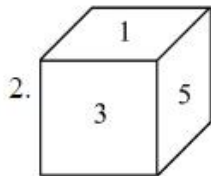
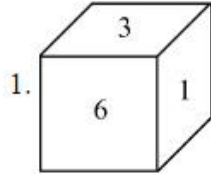
686340101064. 4

Question Number : 66 Question Id : 68634025580 Question Type : MCQ Option Shuffling : No Is Question Mandatory : No Calculator : None Response Time : N.A Think Time : N.A Minimum Instruction Time : 0

Correct Marks : 4 Wrong Marks : 1



उपर्युक्त आकृति में शीट को मोड़ने पर निम्नलिखित में से कौनसी आकृति का रूप ग्रहण करेगी?



Options :

686340101061. 1

686340101062. 2

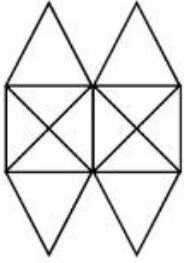
686340101063. 3

686340101064. 4

Question Number : 67 Question Id : 68634025581 Question Type : MCQ Option Shuffling : No Is Question Mandatory :

No Calculator : None Response Time : N.A Think Time : N.A Minimum Instruction Time : 0

Correct Marks : 4 Wrong Marks : 1



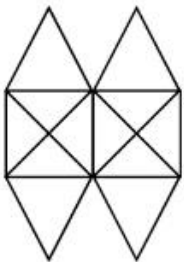
How many squares exist in the given figure?

1. 5
2. 6
3. 7
4. 8

Options :

- 686340101065. 1
- 686340101066. 2
- 686340101067. 3
- 686340101068. 4

Question Number : 67 Question Id : 68634025581 Question Type : MCQ Option Shuffling : No Is Question Mandatory : No Calculator : None Response Time : N.A Think Time : N.A Minimum Instruction Time : 0 Correct Marks : 4 Wrong Marks : 1



उपर्युक्त आकृति में कितने वर्ग हैं?

1. 5
2. 6
3. 7
4. 8

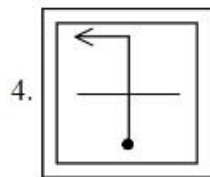
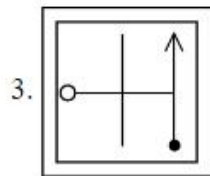
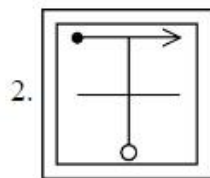
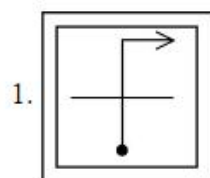
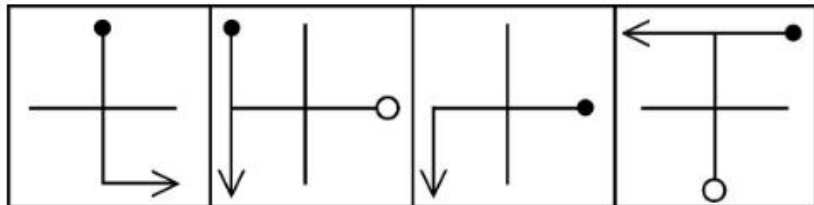
Options :

- 686340101065. 1
- 686340101066. 2
- 686340101067. 3
- 686340101068. 4

Question Number : 68 Question Id : 68634025582 Question Type : MCQ Option Shuffling : No Is Question Mandatory : No Calculator : None Response Time : N.A Think Time : N.A Minimum Instruction Time : 0 Correct Marks : 4 Wrong Marks : 1

Choose the option which will continue the series in problem figure:

Problem Figure



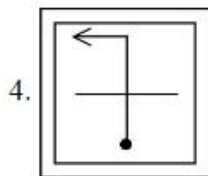
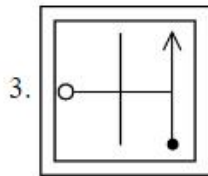
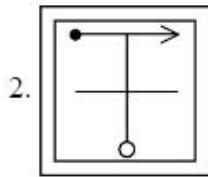
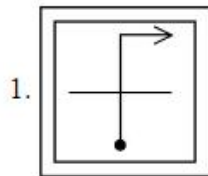
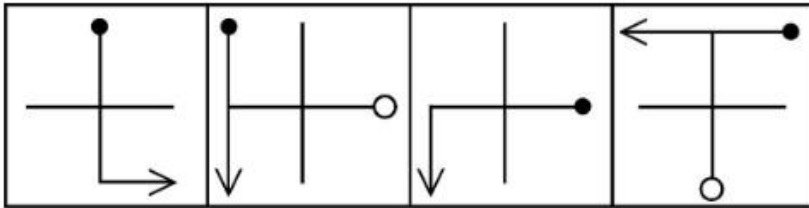
Options :

- 686340101069. 1
- 686340101070. 2
- 686340101071. 3
- 686340101072. 4

Question Number : 68 Question Id : 68634025582 Question Type : MCQ Option Shuffling : No Is Question Mandatory : No Calculator : None Response Time : N.A Think Time : N.A Minimum Instruction Time : 0 Correct Marks : 4 Wrong Marks : 1

उस विकल्प का चयन कीजिए, जो समस्या आकृति में श्रृंखला को जारी रखेगी?

समस्या आकृति



Options :

686340101069. 1

686340101070. 2

686340101071. 3

686340101072. 4

Question Number : 69 Question Id : 68634025583 Question Type : MCQ Option Shuffling : No Is Question Mandatory :

No Calculator : None Response Time : N.A Think Time : N.A Minimum Instruction Time : 0

Correct Marks : 4 Wrong Marks : 1

Which options will complete the given figure matrix?

BD ₃	CE ₅	DF ₁₅
EG ₂	FH ₄	GI ₈
HJ ₄	IK ₆	?

1. JL₂₄
2. IJ₁₈
3. JK₁₈
4. JL₁₂

Options :

686340101073. 1
686340101074. 2
686340101075. 3
686340101076. 4

Question Number : 69 Question Id : 68634025583 Question Type : MCQ Option Shuffling : No Is Question Mandatory : No Calculator : None Response Time : N.A Think Time : N.A Minimum Instruction Time : 0

Correct Marks : 4 Wrong Marks : 1

कौन सा विकल्प दी गई आकृति आव्यूह को पूरा करेगा?

BD ₃	CE ₅	DF ₁₅
EG ₂	FH ₄	GI ₈
HJ ₄	IK ₆	?

1. JL₂₄
2. IJ₁₈
3. JK₁₈
4. JL₁₂

Options :

686340101073. 1
686340101074. 2
686340101075. 3
686340101076. 4

Question Number : 70 Question Id : 68634025584 Question Type : MCQ Option Shuffling : No Is Question Mandatory : No Calculator : None Response Time : N.A Think Time : N.A Minimum Instruction Time : 0

Correct Marks : 4 Wrong Marks : 1

In a certain language, digits 0, 1, 2, 3, 4, 5, 6, 7, 8, 9 are written as a, b, c, d, e, f, g, h, i, j and 10 is written as ba, then $dc \times f - (bf - d) \times d =$ _____?

1. abb
2. abe
3. bce
4. bcf

Options :

686340101077. 1
686340101078. 2
686340101079. 3
686340101080. 4

Question Number : 70 Question Id : 68634025584 Question Type : MCQ Option Shuffling : No Is Question Mandatory : No Calculator : None Response Time : N.A Think Time : N.A Minimum Instruction Time : 0

Correct Marks : 4 Wrong Marks : 1

एक निश्चित भाषा में 0, 1, 2, 3, 4, 5, 6, 7, 8, 9 अंकों को a, b, c, d, e, f, g, h, i, j के रूप में लिखा जाता है और 10 को ba के रूप में लिखा जाता है, तो $dc \times f - (bf - d) \times d =$ _____?

1. abb
2. abe
3. bce
4. bcf

Options :

686340101077. 1
686340101078. 2
686340101079. 3
686340101080. 4

Question Number : 71 Question Id : 68634025585 Question Type : MCQ Option Shuffling : No Is Question Mandatory : No Calculator : None Response Time : N.A Think Time : N.A Minimum Instruction Time : 0

Correct Marks : 4 Wrong Marks : 1

If the first day of a leap year was Friday, then which will be the last day of that year?

1. Friday
2. Saturday
3. Sunday
4. Monday

Options :

686340101081. 1
686340101082. 2
686340101083. 3
686340101084. 4

**Question Number : 71 Question Id : 68634025585 Question Type : MCQ Option Shuffling : No Is Question Mandatory :
No Calculator : None Response Time : N.A Think Time : N.A Minimum Instruction Time : 0
Correct Marks : 4 Wrong Marks : 1**

यदि एक अधिवर्ष (लीप ईयर) के प्रथम दिवस पर शुक्रवार था तो उस वर्ष का अंतिम दिवस क्या होगा?

1. शुक्रवार
2. शनिवार
3. रविवार
4. सोमवार

Options :

686340101081. 1
686340101082. 2
686340101083. 3
686340101084. 4

**Question Number : 72 Question Id : 68634025586 Question Type : MCQ Option Shuffling : No Is Question Mandatory :
No Calculator : None Response Time : N.A Think Time : N.A Minimum Instruction Time : 0
Correct Marks : 4 Wrong Marks : 1**

Which letter is sixteenth to the right of the letter which is fourth to the left of I?

1. S
2. T
3. U
4. V

Options :

686340101085. 1
686340101086. 2
686340101087. 3
686340101088. 4

**Question Number : 72 Question Id : 68634025586 Question Type : MCQ Option Shuffling : No Is Question Mandatory :
No Calculator : None Response Time : N.A Think Time : N.A Minimum Instruction Time : 0
Correct Marks : 4 Wrong Marks : 1**

वर्ण के दाएं में सोलहवां वर्ण कौन सा है, जो I के बाएं में चौथा है?

1. S
2. T
3. U
4. V

Options :

686340101085. 1
686340101086. 2
686340101087. 3
686340101088. 4

Question Number : 73 Question Id : 68634025587 Question Type : MCQ Option Shuffling : No Is Question Mandatory : No Calculator : None Response Time : N.A Think Time : N.A Minimum Instruction Time : 0 Correct Marks : 4 Wrong Marks : 1

Deepak travelled towards North, then turned left and again travelled to his left 4 km. He found himself exactly 3 km West of his point. How far did he travel towards North initially?

1. 2 km
2. 4 km
3. 5 km
4. 6 km

Options :

686340101089. 1
686340101090. 2
686340101091. 3
686340101092. 4

Question Number : 73 Question Id : 68634025587 Question Type : MCQ Option Shuffling : No Is Question Mandatory : No Calculator : None Response Time : N.A Think Time : N.A Minimum Instruction Time : 0 Correct Marks : 4 Wrong Marks : 1

दीपक उत्तर दिशा की ओर यात्रा करता है, जिसके बाद वह बाएं मुड़ता है और पुनः अपनी बाईं ओर 4 किमी तक यात्रा करता है। वह स्वयं को अपने प्रारम्भिक बिंदु के पश्चिम में ठीक 2 किमी पर पाता है तो उसने प्रारम्भ में उत्तर दिशा में कितनी यात्रा की थी?

1. 2 किमी
2. 4 किमी
3. 5 किमी
4. 6 किमी

Options :

686340101089. 1
686340101090. 2
686340101091. 3
686340101092. 4

Question Number : 74 Question Id : 68634025588 Question Type : MCQ Option Shuffling : No Is Question Mandatory : No Calculator : None Response Time : N.A Think Time : N.A Minimum Instruction Time : 0

Correct Marks : 4 Wrong Marks : 1

A is the west of B, C is to the South of A, E is to the north of B and D is to the east of E. Then C is in which direction with respect to D?

1. South-East
2. South-West
3. North-East
4. North-West

Options :

686340101093. 1
686340101094. 2
686340101095. 3
686340101096. 4

Question Number : 74 Question Id : 68634025588 Question Type : MCQ Option Shuffling : No Is Question Mandatory : No Calculator : None Response Time : N.A Think Time : N.A Minimum Instruction Time : 0

Correct Marks : 4 Wrong Marks : 1

A, B के पश्चिम में है, C, A के दक्षिण में है, E, B के उत्तर में है और D, E के पूर्व में है। तो C, D के सन्दर्भ में किस दिशा में है?

1. दक्षिण-पूर्व
2. दक्षिण-पश्चिम
3. उत्तर-पूर्व
4. उत्तर-पश्चिम

Options :

686340101093. 1
686340101094. 2
686340101095. 3
686340101096. 4

Question Number : 75 Question Id : 68634025589 Question Type : MCQ Option Shuffling : No Is Question Mandatory : No Calculator : None Response Time : N.A Think Time : N.A Minimum Instruction Time : 0 Correct Marks : 4 Wrong Marks : 1

Statement : Should girls learn arts like judo and karate?

Arguments : I) Yes. It will enable them to defend themselves from rogues and ruffians.

II) No. They will lose their fame grace.

Which of the above arguments hold for the statement?

1. only argument I
2. only argument II
3. argument I and argument II
4. Neither argument I nor argument II

Options :

686340101097. 1
686340101098. 2
686340101099. 3
686340101100. 4

Question Number : 75 Question Id : 68634025589 Question Type : MCQ Option Shuffling : No Is Question Mandatory : No Calculator : None Response Time : N.A Think Time : N.A Minimum Instruction Time : 0 Correct Marks : 4 Wrong Marks : 1

कथन : क्या लड़कियों को जूडो और कराटे जैसी कलाएं (कौशल) सीखनी चाहिए?

तर्क : I. हाँ, इससे वे दुष्टों और गुंडों से अपनी रक्षा करने में समर्थ बनेंगी।

II. नहीं, वे अपनी स्त्रियोचित शालीनता खो देंगी।

निम्नलिखित में से कौनसा / कौनसे तर्क उपर्युक्त कथन का दृढ़ समर्थन करता / करते है / हैं?

1. केवल तर्क-I
2. केवल तर्क-II
3. तर्क-I और तर्क II
4. न तो तर्क-I न ही तर्क II

Options :

686340101097. 1

686340101098. 2

686340101099. 3

686340101100. 4

Question Number : 76 Question Id : 68634025590 Question Type : MCQ Option Shuffling : No Is Question Mandatory : No Calculator : None Response Time : N.A Think Time : N.A Minimum Instruction Time : 0

Correct Marks : 4 Wrong Marks : 1

Choose the number which is different from others in the group

8314, 2709, 1315, 3249

1. 8314
2. 2709
3. 1315
4. 2518

Options :

686340101101. 1

686340101102. 2

686340101103. 3

686340101104. 4

Question Number : 76 Question Id : 68634025590 Question Type : MCQ Option Shuffling : No Is Question Mandatory : No Calculator : None Response Time : N.A Think Time : N.A Minimum Instruction Time : 0

Correct Marks : 4 Wrong Marks : 1

उस संख्या का चयन कीजिए, जो नीचे दिए गए समूह में अन्य से भिन्न है?

8314, 2709, 1315, 3249

1. 8314
2. 2709
3. 1315
4. 2518

Options :

- 686340101101. 1
- 686340101102. 2
- 686340101103. 3
- 686340101104. 4

Question Number : 77 Question Id : 68634025591 Question Type : MCQ Option Shuffling : No Is Question Mandatory : No Calculator : None Response Time : N.A Think Time : N.A Minimum Instruction Time : 0 Correct Marks : 4 Wrong Marks : 1

Choose the pair of words that will fill the blanks to make the sentence true and sensible.

_____ is to Race as Slow is to _____

1. Gallop, Fast
2. Rapid, Stop
3. Rapid, Stroll
4. Run, Fast

Options :

- 686340101105. 1
- 686340101106. 2
- 686340101107. 3
- 686340101108. 4

Question Number : 77 Question Id : 68634025591 Question Type : MCQ Option Shuffling : No Is Question Mandatory : No Calculator : None Response Time : N.A Think Time : N.A Minimum Instruction Time : 0 Correct Marks : 4 Wrong Marks : 1

उस शब्द-युग्म का चयन कीजिए, जो नीचे दिए गए वाक्य को सही और तर्क संगत बनाता है?

_____ का संबंध दौड़ से वैसे ही है, जैसे कि धीमा का संबंध _____ से है।

1. सरपट, तेज
2. शीघ्रगामी, रुकना
3. शीघ्रगामी, टहलना
4. दौड़ना, तेज

Options :

686340101105. 1
686340101106. 2
686340101107. 3
686340101108. 4

Question Number : 78 Question Id : 68634025592 Question Type : MCQ Option Shuffling : No Is Question Mandatory : No Calculator : None Response Time : N.A Think Time : N.A Minimum Instruction Time : 0 Correct Marks : 4 Wrong Marks : 1

Statement: The problem of company A quite better is quality than the much advertised product of company B.

Assumptions: I) If your product is not good, you spend more on advertisement.

II) Some people are tempted to buy a product by the advertisement.

Which of the above assumptions (s) is/are implicit in the statement?

1. only assumption I
2. only assumption II
3. only assumption I and assumption II
4. Neither assumption I nor assumption II

Options :

686340101109. 1
686340101110. 2
686340101111. 3
686340101112. 4

Question Number : 78 Question Id : 68634025592 Question Type : MCQ Option Shuffling : No Is Question Mandatory : No Calculator : None Response Time : N.A Think Time : N.A Minimum Instruction Time : 0 Correct Marks : 4 Wrong Marks : 1

कथन : कंपनी A का उत्पाद गुणवत्ता में कंपनी B के बहु-प्रचलित उत्पाद की तुलना में नितांत बेहतर है।

पूर्व धारण : I. यदि आपका उत्पाद अच्छा नहीं है तो आप विज्ञापन पर अधिक व्यय करते हैं।
II. कुछ लोग विज्ञापन से प्रभावित होकर उत्पाद को खरीदने के प्रति प्रवृत्त होते हैं।

उपर्युक्त कथन में निम्नलिखित में से कौनसी पूर्व-धारण निहित है?

1. केवल पूर्व-धारण-I
2. केवल पूर्व-धारण-II
3. पूर्व-धारण-I और पूर्व-धारण II
4. न तो पूर्व-धारण-I न ही पूर्व-धारण II

Options :

686340101109. 1
686340101110. 2
686340101111. 3
686340101112. 4

Question Number : 79 Question Id : 68634025593 Question Type : MCQ Option Shuffling : No Is Question Mandatory : No Calculator : None Response Time : N.A Think Time : N.A Minimum Instruction Time : 0

Correct Marks : 4 Wrong Marks : 1

If GOLD is coded as HOME, COME is coded as DONE and CORD is added as DOSE, then how would you code SONS?

1. TPOT
2. TOOT
3. TOOS
4. TONT

Options :

686340101113. 1
686340101114. 2
686340101115. 3
686340101116. 4

Question Number : 79 Question Id : 68634025593 Question Type : MCQ Option Shuffling : No Is Question Mandatory : No Calculator : None Response Time : N.A Think Time : N.A Minimum Instruction Time : 0

Correct Marks : 4 Wrong Marks : 1

यदि GOLD को HOME के रूप में कूटबद्ध किया जाता है, COME को DONE के रूप में कूटबद्ध किया जाता है, और CORD को DOSE, के रूप में कूटबद्ध किया जाता है, तो आप SONS को कैसे कूटबद्ध करेंगे?

1. TPOT
2. TOOT
3. TOOS
4. TONT

Options :

686340101113. 1
686340101114. 2
686340101115. 3
686340101116. 4

Question Number : 80 Question Id : 68634025594 Question Type : MCQ Option Shuffling : No Is Question Mandatory : No Calculator : None Response Time : N.A Think Time : N.A Minimum Instruction Time : 0

Correct Marks : 4 Wrong Marks : 1

Choose the odd group in the following:

1. 3, 9, 6, 15
2. 6, 18, 12, 30
3. 4, 16, 12, 24
4. 12, 36, 24, 60

Options :

686340101117. 1
686340101118. 2
686340101119. 3
686340101120. 4

Question Number : 80 Question Id : 68634025594 Question Type : MCQ Option Shuffling : No Is Question Mandatory : No Calculator : None Response Time : N.A Think Time : N.A Minimum Instruction Time : 0

Correct Marks : 4 Wrong Marks : 1

निम्नलिखित में से विषम समूह का चयन कीजिए?

1. 3, 9, 6, 15
2. 6, 18, 12, 30
3. 4, 16, 12, 24
4. 12, 36, 24, 60

Options :

686340101117. 1

686340101118. 2

686340101119. 3

686340101120. 4

Question Number : 81 Question Id : 68634025595 Question Type : MCQ Option Shuffling : No Is Question Mandatory : No Calculator : None Response Time : N.A Think Time : N.A Minimum Instruction Time : 0

Correct Marks : 4 Wrong Marks : 1

Who is the son of 'F'?

Given,

- A. A is the father of C. But C is not his son.
- B. E is the daughter of C. F is the spouse of A.
- C. B is the brother of C. D is the son of B.
- D. Q is the spouse of B. H is the father of G.

Choose the correct answer from the options given below:

- 1. B
- 2. C
- 3. D
- 4. E

Options :

686340101121. 1

686340101122. 2

686340101123. 3

686340101124. 4

Question Number : 81 Question Id : 68634025595 Question Type : MCQ Option Shuffling : No Is Question Mandatory : No Calculator : None Response Time : N.A Think Time : N.A Minimum Instruction Time : 0

Correct Marks : 4 Wrong Marks : 1

'F' का पुत्र कौन है?

माना कि:

- A. A, C का पिता है, लेकिन C उसका पुत्र नहीं है।
- B. E, C की पुत्री है। F, A का/की पति/पत्नी है।
- C. B, C का भाई है। D, B का पुत्र है।
- D. G, B का पति/पत्नी है। H, G का पिता है।

नीचे दिए गए विकल्पों में से सही उत्तर का चयन कीजिए

- 1. B
- 2. C
- 3. D
- 4. E

Options :

- 686340101121. 1
- 686340101122. 2
- 686340101123. 3
- 686340101124. 4

Question Number : 82 Question Id : 68634025596 Question Type : MCQ Option Shuffling : No Is Question Mandatory : No Calculator : None Response Time : N.A Think Time : N.A Minimum Instruction Time : 0

Correct Marks : 4 Wrong Marks : 1

In series 2, 6, 18, 54,, what will be the 8th term?

- 1. 4370
- 2. 4374
- 3. 7443
- 4. 7434

Options :

- 686340101125. 1
- 686340101126. 2
- 686340101127. 3
- 686340101128. 4

Question Number : 82 Question Id : 68634025596 Question Type : MCQ Option Shuffling : No Is Question Mandatory : No Calculator : None Response Time : N.A Think Time : N.A Minimum Instruction Time : 0

Correct Marks : 4 Wrong Marks : 1

श्रृंखला 2, 6, 18, 54, में 8 वां पद क्या होगा?

1. 4370
2. 4374
3. 7443
4. 7434

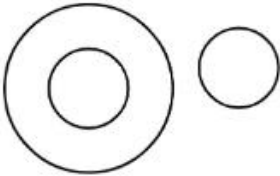
Options :

686340101125. 1
686340101126. 2
686340101127. 3
686340101128. 4

Question Number : 83 Question Id : 68634025597 Question Type : MCQ Option Shuffling : No Is Question Mandatory : No Calculator : None Response Time : N.A Think Time : N.A Minimum Instruction Time : 0 Correct Marks : 4 Wrong Marks : 1

Which of the following is represented best by the figure given below:

- A. Vegetables, Brinjal, Meat
- B. English, Latin, Greek
- C. Air, Nitrogen, Ice
- D. Carnivore, Elephant, Tiger
- E. Hospital, patient, Nurse



Choose the most appropriate answer from the options given below

1. A, B, C only
2. B, D, E only
3. A, C, D only
4. A, C, E only

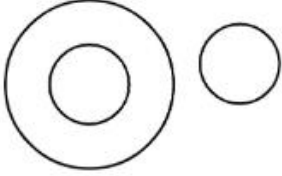
Options :

686340101129. 1
686340101130. 2
686340101131. 3
686340101132. 4

Question Number : 83 Question Id : 68634025597 Question Type : MCQ Option Shuffling : No Is Question Mandatory : No Calculator : None Response Time : N.A Think Time : N.A Minimum Instruction Time : 0 Correct Marks : 4 Wrong Marks : 1

निम्नलिखित में से कौन नीचे दी गई आकृति का सर्वोत्तम ढंग से प्रतिनिधित्व करता है?

- A. सब्जियां, बैंगन, मांस
- B. अंग्रेजी, लैटिन, यूनानी
- C. वायु, नाइट्रोजन, बर्फ
- D. मांसाहारी जीव (कार्निवोर), हाथी बाघ
- E. अस्पताल, रोगी, नर्स



नीचे दिए गए विकल्पों में से सही उत्तर का चयन कीजिए

- 1. केवल A, B, C
- 2. केवल B, D, E
- 3. केवल A, C, D
- 4. केवल A, C, E

Options :

- 686340101129. 1
- 686340101130. 2
- 686340101131. 3
- 686340101132. 4

Question Number : 84 Question Id : 68634025598 Question Type : MCQ Option Shuffling : No Is Question Mandatory : No Calculator : None Response Time : N.A Think Time : N.A Minimum Instruction Time : 0 Correct Marks : 4 Wrong Marks : 1

In the series 2, 15, 4, 12, 6, 7, 2, 2, what are the next two terms?

- 1. 8, 8
- 2. 8, 0
- 3. 3, 8
- 4. 3, 0

Options :

- 686340101133. 1
- 686340101134. 2
- 686340101135. 3
- 686340101136. 4

Question Number : 84 Question Id : 68634025598 Question Type : MCQ Option Shuffling : No Is Question Mandatory : No Calculator : None Response Time : N.A Think Time : N.A Minimum Instruction Time : 0

Correct Marks : 4 Wrong Marks : 1

श्रृंखला 2, 15, 4, 12, 6, 7, 2, 2 में अगले दो पद क्या हैं?

1. 8, 8

2. 8, 0

3. 3, 8

4. 3, 0

Options :

686340101133. 1

686340101134. 2

686340101135. 3

686340101136. 4

Question Number : 85 Question Id : 68634025599 Question Type : MCQ Option Shuffling : No Is Question Mandatory : No Calculator : None Response Time : N.A Think Time : N.A Minimum Instruction Time : 0

Correct Marks : 4 Wrong Marks : 1

Should seniority be the only criterion for the promotion?

Arguments: I) Yes, otherwise senior employees do feel humiliated.

II) Yes, Senior employees are more experienced and must be rewarded for the same.

Which of the above argument (s) hold strong for the statements.

1. Only argument I

2. Only argument II

3. Argument I and argument II

4. Neither argument I nor argument II

Options :

686340101137. 1

686340101138. 2

686340101139. 3

686340101140. 4

Question Number : 85 Question Id : 68634025599 Question Type : MCQ Option Shuffling : No Is Question Mandatory : No Calculator : None Response Time : N.A Think Time : N.A Minimum Instruction Time : 0

Correct Marks : 4 Wrong Marks : 1

कथन : क्या वरिष्ठता प्रोन्नति का एकमात्र मापदंड होना चाहिए?

तर्क : I. हाँ, अन्यथा वरिष्ठ कर्मचारी अपमानित महसूस करेंगे।

II. हाँ, वरिष्ठ कर्मचारी अधिक अनुभवी होते हैं और इसके लिए उन्हें प्रतिफल दिया जाना चाहिए। उपर्युक्त में से कौन सा/कौन से तर्क कथन का दृढ़ समर्थन करता/करते हैं?

1. केवल तर्क-I
2. केवल तर्क-II
3. तर्क-I और तर्क II
4. न तो तर्क-I न ही तर्क II

Options :

686340101137. 1

686340101138. 2

686340101139. 3

686340101140. 4

Sub-Section Number :

4

Sub-Section Id :

686340834

Question Shuffling Allowed :

No

Is Section Default? :

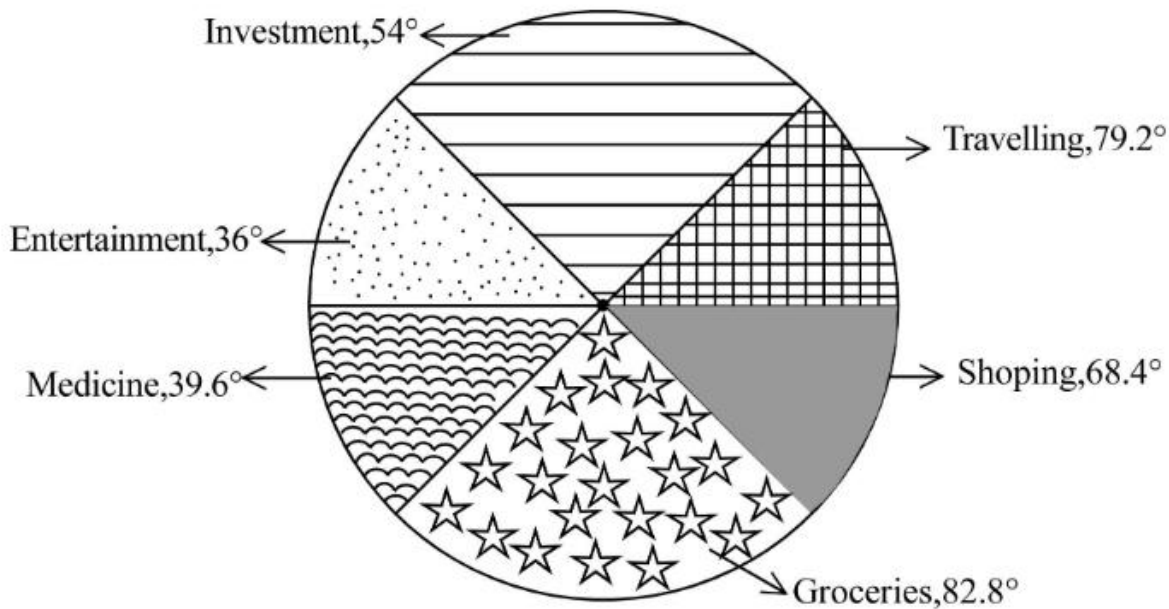
null

Question Id : 68634025600 Question Type : COMPREHENSION Sub Question Shuffling Allowed : Yes Group Comprehension Questions : No Question Pattern Type : NonMatrix Calculator : None Response Time : N.A Think Time : N.A Minimum Instruction Time : 0

Question Numbers : (86 to 90)

Question Label : Comprehension

Following pie chart gives the degree wise break-up of expenditure of a family in a particular month



Sub questions

Question Number : 86 Question Id : 68634025601 Question Type : MCQ Option Shuffling : No Is Question Mandatory : No Calculator : None Response Time : N.A Think Time : N.A Minimum Instruction Time : 0 Correct Marks : 4 Wrong Marks : 1

Total amount spent in this month = ₹ 45,800

Answer the following based above information

What is the the total amount spent (in ₹) on Groceries and travelling together?

1. 26,100
2. 21,600
3. 20,610
4. 20,016

Options :

686340101141. 1
686340101142. 2
686340101143. 3
686340101144. 4

Question Number : 87 Question Id : 68634025602 Question Type : MCQ Option Shuffling : No Is Question Mandatory : No Calculator : None Response Time : N.A Think Time : N.A Minimum Instruction Time : 0 Correct Marks : 4 Wrong Marks : 1

Total amount spent on Groceries, Entertainment and Investments together forms approximately what percent of amount spent on travelling?

1. 245%
2. 218%
3. 154%
4. 118%

Options :

- 686340101145. 1
- 686340101146. 2
- 686340101147. 3
- 686340101148. 4

Question Number : 88 Question Id : 68634025603 Question Type : MCQ Option Shuffling : No Is Question Mandatory : No Calculator : None Response Time : N.A Think Time : N.A Minimum Instruction Time : 0 Correct Marks : 4 Wrong Marks : 1

What is the total amount spent by the family on shopping and entertainment together?

1. ₹ 9,618
2. ₹ 11,908
3. ₹ 12,740
4. ₹ 13,282

Options :

- 686340101149. 1
- 686340101150. 2
- 686340101151. 3
- 686340101152. 4

Question Number : 89 Question Id : 68634025604 Question Type : MCQ Option Shuffling : No Is Question Mandatory : No Calculator : None Response Time : N.A Think Time : N.A Minimum Instruction Time : 0 Correct Marks : 4 Wrong Marks : 1

What is the respective ratio of amount spent by the family on Medicine to the amount spend of Groceries?

1. 1:2
2. 2:3
3. 11:23
4. 13:21

Options :

- 686340101153. 1
- 686340101154. 2

686340101155. 3

686340101156. 4

Question Number : 90 Question Id : 68634025605 Question Type : MCQ Option Shuffling : No Is Question Mandatory : No Calculator : None Response Time : N.A Think Time : N.A Minimum Instruction Time : 0 Correct Marks : 4 Wrong Marks : 1

What is the amount spent by the family on travelling?

1. ₹ 10,076

2. ₹ 10,534

3. ₹ 6,870

4. ₹ 8,702

Options :

686340101157. 1

686340101158. 2

686340101159. 3

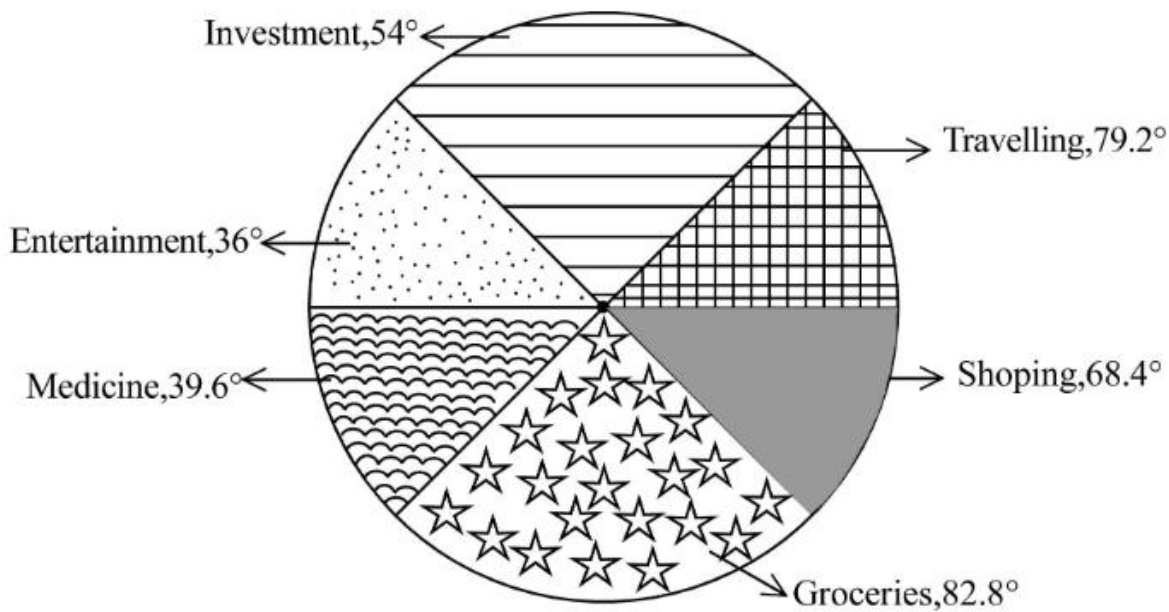
686340101160. 4

Question Id : 68634025600 Question Type : COMPREHENSION Sub Question Shuffling Allowed : Yes Group Comprehension Questions : No Question Pattern Type : NonMatrix Calculator : None Response Time : N.A Think Time : N.A Minimum Instruction Time : 0

Question Numbers : (86 to 90)

Question Label : Comprehension

निम्नलिखित चार्ट में एक परिवार के एक विशिष्ट माह में व्यय का डिग्री-वार विभाजन दिया गया है:



Sub questions

Question Number : 86 Question Id : 68634025601 Question Type : MCQ Option Shuffling : No Is Question Mandatory : No Calculator : None Response Time : N.A Think Time : N.A Minimum Instruction Time : 0 Correct Marks : 4 Wrong Marks : 1

इस माह में हुआ कुल व्यय = ₹ 45,800

उपर्युक्त सूचना के आधार पर निम्नलिखित प्रश्नों के उत्तर दीजिए:

पंसारी के सामान तथा यात्रा पर कुल खर्च (₹ में) क्या है:

1. 26,100
2. 21,600
3. 20,610
4. 20,016

Options :

686340101141. 1
686340101142. 2
686340101143. 3
686340101144. 4

Question Number : 87 Question Id : 68634025602 Question Type : MCQ Option Shuffling : No Is Question Mandatory : No Calculator : None Response Time : N.A Think Time : N.A Minimum Instruction Time : 0

Correct Marks : 4 Wrong Marks : 1

यात्रा पर किए गए व्यय की तुलना में पंसारी के सामान, मनोरंजन और निवेश दर व्यय एक साथ मिलाकर लगभग कितना प्रतिशत है?

1. 245%
2. 218%
3. 154%
4. 118%

Options :

686340101145. 1
686340101146. 2
686340101147. 3
686340101148. 4

Question Number : 88 Question Id : 68634025603 Question Type : MCQ Option Shuffling : No Is Question Mandatory : No Calculator : None Response Time : N.A Think Time : N.A Minimum Instruction Time : 0

Correct Marks : 4 Wrong Marks : 1

उपर्युक्त परिवार नें खरीदारी और मनोरंजन को एक साथ मिलाकर कुल कितना व्यय किया?

1. ₹ 9,618
2. ₹ 11,908
3. ₹ 12,740
4. ₹ 13,282

Options :

686340101149. 1
686340101150. 2
686340101151. 3
686340101152. 4

Question Number : 89 Question Id : 68634025604 Question Type : MCQ Option Shuffling : No Is Question Mandatory : No Calculator : None Response Time : N.A Think Time : N.A Minimum Instruction Time : 0

Correct Marks : 4 Wrong Marks : 1

परिवार द्वारा औषधियों पर व्यय की गई राशि और पंसारी के सामान पर व्यय की गई राशि का अनुपात क्या है?

1. 1:2
2. 2:3
3. 11:23
4. 13:21

Options :

686340101153. 1
686340101154. 2
686340101155. 3
686340101156. 4

Question Number : 90 Question Id : 68634025605 Question Type : MCQ Option Shuffling : No Is Question Mandatory : No Calculator : None Response Time : N.A Think Time : N.A Minimum Instruction Time : 0

Correct Marks : 4 Wrong Marks : 1

उपर्युक्त परिवार ने यात्रा पर कितनी राशि व्यय की?

1. ₹ 10,076
2. ₹ 10,534
3. ₹ 6,870
4. ₹ 8,702

Options :

686340101157. 1
686340101158. 2

686340101159. 3

686340101160. 4

Sub-Section Number : 5
Sub-Section Id : 686340835
Question Shuffling Allowed : No
Is Section Default? : null

Question Id : 68634025606 Question Type : COMPREHENSION Sub Question Shuffling Allowed : Yes Group Comprehension Questions : No Question Pattern Type : NonMatrix Calculator : None Response Time : N.A Think Time : N.A Minimum Instruction Time : 0

Question Numbers : (91 to 95)

Question Label : Comprehension

Based on the below information answer the following questions:

P, Q, R, S, T and U are six lectures in a college each teaching a different subject Mathematics, Physics, Sociology, Biology, Geography and History not necessarily in the same order. There are only four female lectures following information given:

- i. Q teaches History
- ii. No female lecturer teaches Biology or Mathematics
- iii. S, who teaches Sociology, is the oldest.
- iv. P is older than R and teaches physics
- v. The youngest teaches Biology and U is not the youngest
- vi. T teaches mathematics and is older than P but younger than Q and U

Sub questions

Question Number : 91 Question Id : 68634025607 Question Type : MCQ Option Shuffling : No Is Question Mandatory : No Calculator : None Response Time : N.A Think Time : N.A Minimum Instruction Time : 0

Correct Marks : 4 Wrong Marks : 1

If all lectures arranged in ascending order of their ages, What will be the position of the two male lectures?

1. 4th and 6th
2. 2nd and 6th
3. 1st and 3rd
4. 3rd and 5th

Options :

686340101161. 1

686340101162. 2

686340101163. 3

686340101164. 4

Question Number : 92 Question Id : 68634025608 Question Type : MCQ Option Shuffling : No Is Question Mandatory : No Calculator : None Response Time : N.A Think Time : N.A Minimum Instruction Time : 0

Correct Marks : 4 Wrong Marks : 1

Who teaches Biology

1. P
2. R
3. S
4. U

Options :

- 686340101165. 1
- 686340101166. 2
- 686340101167. 3
- 686340101168. 4

Question Number : 93 Question Id : 68634025609 Question Type : MCQ Option Shuffling : No Is Question Mandatory : No Calculator : None Response Time : N.A Think Time : N.A Minimum Instruction Time : 0

Correct Marks : 4 Wrong Marks : 1

Which subject does U tech?

1. Geography
2. Sociology
3. Mathematics
4. Biology

Options :

- 686340101169. 1
- 686340101170. 2
- 686340101171. 3
- 686340101172. 4

Question Number : 94 Question Id : 68634025610 Question Type : MCQ Option Shuffling : No Is Question Mandatory : No Calculator : None Response Time : N.A Think Time : N.A Minimum Instruction Time : 0

Correct Marks : 4 Wrong Marks : 1

Which of the group comprises only females?

1. RPSU
2. RSTQ
3. PQTU
4. PQSU

Options :

- 686340101173. 1
- 686340101174. 2
- 686340101175. 3

686340101176. 4

Question Number : 95 Question Id : 68634025611 Question Type : MCQ Option Shuffling : No Is Question Mandatory : No Calculator : None Response Time : N.A Think Time : N.A Minimum Instruction Time : 0 Correct Marks : 4 Wrong Marks : 1

Who is the youngest lecturer?

1. S
2. Q
3. R
4. T

Options :

686340101177. 1
686340101178. 2
686340101179. 3
686340101180. 4

Question Id : 68634025606 Question Type : COMPREHENSION Sub Question Shuffling Allowed : Yes Group Comprehension Questions : No Question Pattern Type : NonMatrix Calculator : None Response Time : N.A Think Time : N.A Minimum Instruction Time : 0

Question Numbers : (91 to 95)

Question Label : Comprehension

नीचे दी गई सूचना के आधार पर निम्नलिखित प्रश्नों के उत्तर दीजिए :

एक कॉलेज में P, Q, R, S, T और U छः लेक्चरर हैं प्रत्येक गणित, भौतिकशास्त्र, समाजशास्त्र, जीवविज्ञान, भूगोल और इतिहास जैसे अलग-अलग विषय पढ़ाता है, लेकिन यह आवश्यक नहीं कि इनका क्रम सामान हो। इनमें से चार महिला लेक्चरर हैं।

निम्नलिखित सूचना दी गई :

- i. Q इतिहास पढ़ाता है।
- ii. कोई भी महिला लेक्चरर जीवविज्ञान या गणित नहीं पढ़ाती
- iii. S, समाजशास्त्र पढ़ाता है जो आयु में सबसे बड़ा है।
- iv. P, R की तुलना में आयु में बड़ा है।
- v. सबसे युवा लेक्चरर जीव विज्ञान पढ़ाता है और U सबसे युवा नहीं है।
- vi. T गणित पढ़ाता है और उसकी उम्र P से अधिक है, लेकिन Q एवं U की तुलना में उसकी उम्र कम है।

Sub questions

Question Number : 91 Question Id : 68634025607 Question Type : MCQ Option Shuffling : No Is Question Mandatory : No Calculator : None Response Time : N.A Think Time : N.A Minimum Instruction Time : 0 Correct Marks : 4 Wrong Marks : 1

यदि सभी लेक्चरर को उनकी उम्र के अनुसार आरोही क्रम में व्यवस्थित किया जाए तो दो पुरुष लेक्चरर की स्थिति क्या होगी?

1. चौथी और छठी
2. दूसरी और छठी
3. प्रथम और तृतीय
4. तृतीय और पांचवी

Options :

686340101161. 1
686340101162. 2
686340101163. 3
686340101164. 4

Question Number : 92 Question Id : 68634025608 Question Type : MCQ Option Shuffling : No Is Question Mandatory : No Calculator : None Response Time : N.A Think Time : N.A Minimum Instruction Time : 0

Correct Marks : 4 Wrong Marks : 1

कौन जीव विज्ञान पढ़ाता है?

1. P
2. R
3. S
4. U

Options :

686340101165. 1
686340101166. 2
686340101167. 3
686340101168. 4

Question Number : 93 Question Id : 68634025609 Question Type : MCQ Option Shuffling : No Is Question Mandatory : No Calculator : None Response Time : N.A Think Time : N.A Minimum Instruction Time : 0

Correct Marks : 4 Wrong Marks : 1

U किस विषय को पढ़ाता है?

1. भूगोल
2. समाजशास्त्र
3. गणित
4. जीव विज्ञान

Options :

686340101169. 1
686340101170. 2
686340101171. 3
686340101172. 4

**Question Number : 94 Question Id : 68634025610 Question Type : MCQ Option Shuffling : No Is Question Mandatory :
No Calculator : None Response Time : N.A Think Time : N.A Minimum Instruction Time : 0
Correct Marks : 4 Wrong Marks : 1**

निम्नलिखित में से किस समूह में केवल महिलाएं हैं?

1. RPSU
2. RSTQ
3. PQTU
4. PQSU

Options :

686340101173. 1
686340101174. 2
686340101175. 3
686340101176. 4

**Question Number : 95 Question Id : 68634025611 Question Type : MCQ Option Shuffling : No Is Question Mandatory :
No Calculator : None Response Time : N.A Think Time : N.A Minimum Instruction Time : 0
Correct Marks : 4 Wrong Marks : 1**

निम्नलिखित में से कौन सबसे युवा है?

1. S
2. Q
3. R
4. T

Options :

686340101177. 1
686340101178. 2
686340101179. 3
686340101180. 4

Sub-Section Number : 6
Sub-Section Id : 686340836
Question Shuffling Allowed : No
Is Section Default? : null

**Question Id : 68634025612 Question Type : COMPREHENSION Sub Question Shuffling Allowed : Yes Group
Comprehension Questions : No Question Pattern Type : NonMatrix Calculator : None Response Time : N.A Think Time
: N.A Minimum Instruction Time : 0
Question Numbers : (96 to 100)**

Question Label : Comprehension

The following table gives the number of vehicles (in thousands) of different models and colours sold in two cities in a particular year

Type	Hyderabad					Bangalore				
	Colour					Colour				
	Black	Red	Blue	White	Silver	Black	Red	Blue	White	Silver
A	40	25	55	75	15	45	32	40	60	20
B	20	35	60	80	20	30	37	39	81	35
C	35	30	50	90	35	40	42	41	6	37
D	45	40	45	85	40	35	39	37	90	42
E	50	35	35	60	30	50	44	43	77	22
F	55	42	40	65	52	47	34	45	87	17

Based on the above table answer the following questions

Sub questions

Question Number : 96 Question Id : 68634025613 Question Type : MCQ Option Shuffling : No Is Question Mandatory : No Calculator : None Response Time : N.A Think Time : N.A Minimum Instruction Time : 0
Correct Marks : 4 Wrong Marks : 1

In Hyderabad the number of vehicles sold was the maximum for which of the colour-model combinations?

1. White-C
2. Blue-B
3. Silver-B
4. White-D

Options :

686340101181. 1
686340101182. 2
686340101183. 3
686340101184. 4

Question Number : 97 Question Id : 68634025614 Question Type : MCQ Option Shuffling : No Is Question Mandatory : No Calculator : None Response Time : N.A Think Time : N.A Minimum Instruction Time : 0
Correct Marks : 4 Wrong Marks : 1

The total number of Silver coloured vehicles Sold in Bangalore is approximately what percentage of that in Hyderabad?

1. 140%
2. 130%
3. 100%
4. 90%

Options :

686340101185. 1
686340101186. 2
686340101187. 3
686340101188. 4

**Question Number : 98 Question Id : 68634025615 Question Type : MCQ Option Shuffling : No Is Question Mandatory :
No Calculator : None Response Time : N.A Think Time : N.A Minimum Instruction Time : 0
Correct Marks : 4 Wrong Marks : 1**

What is the difference between the number of blue coloured model C Vehicles sold in Hyderabad and the number of red coloured model F Vehicles Sold in Bangalore?

1. 16,000
2. 12,000
3. 10,000
4. 8,000

Options :

686340101189. 1
686340101190. 2
686340101191. 3
686340101192. 4

**Question Number : 99 Question Id : 68634025616 Question Type : MCQ Option Shuffling : No Is Question Mandatory :
No Calculator : None Response Time : N.A Think Time : N.A Minimum Instruction Time : 0
Correct Marks : 4 Wrong Marks : 1**

The total number of blue coloured vehicles of model E and D, sold in Bangalore is exactly equal to the number of white coloured Vehicles of which modal in Hyderabad

1. F
2. E
3. B
4. A

Options :

686340101193. 1
686340101194. 2
686340101195. 3
686340101196. 4

**Question Number : 100 Question Id : 68634025617 Question Type : MCQ Option Shuffling : No Is Question Mandatory :
No Calculator : None Response Time : N.A Think Time : N.A Minimum Instruction Time : 0
Correct Marks : 4 Wrong Marks : 1**

For which model, the difference between white coloured vehicles sold in the two cities is minimum?

1. A
2. B
3. C
4. D

Options :

686340101197. 1
686340101198. 2
686340101199. 3
686340101200. 4

Question Id : 68634025612 Question Type : COMPREHENSION Sub Question Shuffling Allowed : Yes Group Comprehension Questions : No Question Pattern Type : NonMatrix Calculator : None Response Time : N.A Think Time : N.A Minimum Instruction Time : 0

Question Numbers : (96 to 100)

Question Label : Comprehension

निम्नलिखित तालिका में एक निश्चित वर्ष में दो शहरों में भिन्न मॉडल्स और रंगों के बेचे गए वाहनों की संख्या (हजार में) दी गई है:

प्रकार	हैदराबाद					बैंगलोर				
	रंग					रंग				
	ब्लैक	रेड	ब्ल्यू	व्हाइट	सिल्वर	ब्लैक	रेड	ब्ल्यू	व्हाइट	सिल्वर
A	40	25	55	75	15	45	32	40	60	20
B	20	35	60	80	20	30	37	39	81	35
C	35	30	50	90	35	40	42	41	6	37
D	45	40	45	85	40	35	39	37	90	42
E	50	35	35	60	30	50	44	43	77	22
F	55	42	40	65	52	47	34	45	87	17

उपर्युक्त तालिका के आधार पर निम्नलिखित प्रश्नों के उत्तर दीजिए:

Sub questions

Question Number : 96 Question Id : 68634025613 Question Type : MCQ Option Shuffling : No Is Question Mandatory : No Calculator : None Response Time : N.A Think Time : N.A Minimum Instruction Time : 0

Correct Marks : 4 Wrong Marks : 1

हैदराबाद में बेचे गए किस रंग-मॉडल संयोजन के वाहनों की अधिकतम संख्या थी?

1. व्हाइट-C
2. ब्ल्यू-B
3. सिल्वर-B
4. व्हाइट-D

Options :

- 686340101181. 1
- 686340101182. 2
- 686340101183. 3
- 686340101184. 4

Question Number : 97 Question Id : 68634025614 Question Type : MCQ Option Shuffling : No Is Question Mandatory : No Calculator : None Response Time : N.A Think Time : N.A Minimum Instruction Time : 0

Correct Marks : 4 Wrong Marks : 1

बैंगलोर में बेचे गए सिल्वर रंग के बाहनों की कुल संख्या का प्रतिशत हैदराबाद की तुलना में क्या है?

- 1. 140%
- 2. 130%
- 3. 100%
- 4. 90%

Options :

- 686340101185. 1
- 686340101186. 2
- 686340101187. 3
- 686340101188. 4

Question Number : 98 Question Id : 68634025615 Question Type : MCQ Option Shuffling : No Is Question Mandatory : No Calculator : None Response Time : N.A Think Time : N.A Minimum Instruction Time : 0

Correct Marks : 4 Wrong Marks : 1

हैदराबाद में बेचे गए ब्ल्यू रंग के मॉडल C के वाहनों की संख्या और बैंगलोर में बेचे गए रेड रंग के मॉडल F के वाहनों की संख्या में क्या अंतर है?

- 1. 16,000
- 2. 12,000
- 3. 10,000
- 4. 8,000

Options :

- 686340101189. 1
- 686340101190. 2
- 686340101191. 3
- 686340101192. 4

Question Number : 99 Question Id : 68634025616 Question Type : MCQ Option Shuffling : No Is Question Mandatory : No Calculator : None Response Time : N.A Think Time : N.A Minimum Instruction Time : 0

Correct Marks : 4 Wrong Marks : 1

बैंगलौर में बेचे गए E और D मॉडल के ब्ल्यू रंग के वाहनों की कुल संख्या हैदराबाद में बेचे गए व्हाइट रंग के कौन से मॉडल की संख्या के बराबर है?

1. F
2. E
3. B
4. A

Options :

686340101193. 1
686340101194. 2
686340101195. 3
686340101196. 4

Question Number : 100 Question Id : 68634025617 Question Type : MCQ Option Shuffling : No Is Question Mandatory : No Calculator : None Response Time : N.A Think Time : N.A Minimum Instruction Time : 0

Correct Marks : 4 Wrong Marks : 1

दो शहरों में बेचे गए व्हाइट रंग के वाहनों में अंतर किस मॉडल में न्यूनतम है?

1. A
2. B
3. C
4. D

Options :

686340101197. 1
686340101198. 2
686340101199. 3
686340101200. 4