

**AP Police  
Constable**

**Previous Year Paper  
2013**



5. Each question is followed by four answer choices i.e. A, B, C and D. Out of these you have to select the correct answer for each question and darken the space on OMR sheet with the correct answer.

ప్రతి ప్రశ్నకు నాలుగు సమాధాన ఛాయిస్లు A, B, C మరియు D ఉన్నవి. వీటిలో నీవు ప్రతి ప్రశ్నకు సరియైన సమాధానము కనుగొని OMR షీట్‌పైన నలుపు చేయవలెను.

ہر سوال کے چار متبادلات A, B, C اور D کے ہیں۔ صحیح جواب کا انتخاب کر کے OMR شیٹ میں درست جواب کو مارک کریں۔

6. The original copy of the OMR Sheet shall be handed over to the invigilator before you leave the examination hall, failing which, you will be liable for disqualification you can carry the copy with you.

నీవు పరీక్షా హాలు నుండి వెళ్ళబోయే ముందర ఆన్సర్ షీట్‌ను పరీక్షాధికారికి అప్పగించవలెను. అటుల ఆచరించకపోయిన యెడల మీరు అనర్హులగుదురు.

اسلام آباد سے جاتے وقت OMR شیٹ کی اصل کاپی کمران کار کے لئے کر کے اور اسے اپنے ساتھ لے کر آنا ضروری ہے۔

7. For rough work, if any, the pages 49 to 52 of the Test Booklet may be used but not on any part of the test booklet or OMR sheet.

రఫ్ వర్కు ఏదైనా చేయదలచిన, టెస్ట్ బుక్‌లెట్ చివరి పేజీలు 49 నుండి 52 తప్ప టెస్ట్ బుక్‌లెట్ లేదా OMR షీట్‌లోని ఏ భాగము ఉపయోగించరాదు.

اگر کوئی روف ورک کے لئے 49 سے 52 صفحات کے درمیان میں استعمال کر سکتے ہیں۔

8. The candidates should not write on OMR Sheet any irrelevant matter, except the specified items of information called for; if he does so, his OMR Sheet will not be evaluated.

అభ్యర్థుల OMR షీట్ మీద, ప్రత్యేకంగా అడిగిన విషయములు తప్ప, అనవసర విషయములు వ్రాయకూడదు. అట్లు వ్రాసినయెడల వారి OMR షీట్ రద్దు చేయబడును.

OMR شیٹ پر غیر ضروری الفاظ تحریر نہ کریں۔ صرف معلومات کی غرض سے فراہم کردہ جگہ ہی لکھیں۔

9. Candidates are instructed **not to bring** calculator / cell phone / any other computing device along with them into the examination hall.

అభ్యర్థులు వారితో పాటు కాలిక్యులేటర్స్ / సెల్ ఫోన్ / వేరే ఏదేని కంప్యూటింగ్ పరికరములను పరీక్షా హాలులోకి తీసుకురాకూడదు.

امیدواروں کو ہذا کے ساتھ ساتھ کیلکولیٹر، سیل فون یا حسابی آلات نہ لائیں۔

10. Do not help other candidates as by doing so you may reduce your chances of selection and get disqualified.

ఇతరులకు సహాయము చేయరాదు. అట్లు చేసిన నీ అవకాశము కోల్పోయినట్లు మరియు అర్హతను పోగొట్టుకొన్నట్లుగును.

دوسروں کی مدد نہ کریں ایسا کرنے سے آپ کے منتخب ہونے کے امکانات کم ہو جائیں گے اور آپ کو اس کے ساتھ ساتھ

11. In case of doubt, refer to english version and if there is any small variation noticed in 3 languages. English version will be considered as final.

ఏదైన సందేహము ఉన్నచో ఆంగ్ల భాషను చూడండి. 3 భాషలలో చిన్న తేడాలు ఉన్నట్లయితే ఆంగ్ల భాషనే పరిగణనలోకి తీసుకొనబడును.

مذکورہ ہونے کی صورت میں انگریزی زبان میں دیا گیا متن معتبر قرار دیا جائے گا۔ اگر تینوں زبانوں میں کوئی فرق نظر آئے تو انگریزی زبان میں دیا گیا متن معتبر قرار دیا جائے گا۔

For questions 1 - 5, choose the closest meaning of the given words.

- 1) Nepotism.  
(A) Impartial      (B) Nearness      (C) Favoritism      (D) Query
- 2) Foe  
(A) Fraud      (B) Enemy      (C) Friend      (D) Fail
- 3) Imperious  
(A) Distant      (B) Temper      (C) Tamper      (D) Proud
- 4) Illicit  
(A) Illegal      (B) Draw      (C) Differ      (D) Postpone
- 5) Oblique  
(A) Straight      (B) Parallel      (C) Perpendicular      (D) Slanted

For questions 6 - 10, choose the opposite word for the given words.

- 6) Shallow  
(A) High      (B) Deep      (C) Hollow      (D) Hidden
- 7) Paucity  
(A) Scarcity      (B) Richness      (C) Plenty      (D) Presence
- 8) Novel  
(A) Traditional      (B) Formal      (C) Innovative      (D) Recent
- 9) Repel  
(A) Attract      (B) Continue      (C) Attend      (D) Concentrate
- 10) Acquit  
(A) Explain      (B) Release      (C) Convict      (D) Excuse

For questions 11-15, choose the most effective word to fill the blank to make the sentence meaningfully complete.

- 11) The government is planning to set \_\_\_\_\_ family welfare centers for slums in cities.  
(A) in (B) up  
(C) for (D) another
- 12) The truck was \_\_\_\_\_ the traffic and the policeman asked the driver to move off.  
(A) disturbing (B) hiding  
(C) obviating (D) obstructing
- 13) She has an aversion \_\_\_\_\_ taking even onion and garlic.  
(A) at (B) against  
(C) with (D) to
- 14) I \_\_\_\_\_ a car to be absolutely necessary these days.  
(A) think (B) regard  
(C) agree (D) consider
- 15) I haven't seen you \_\_\_\_\_ a week.  
(A) from (B) within  
(C) for (D) since

For questions 16 - 20, read the following passage carefully and answer the questions given below it.

Dance is an art form that generally refers to movement of the body, usually rhythmic and to music, used as a form of expression, social interaction or presented in a spiritual or performance setting. Gymnastics, figure skating and synchronized swimming are sports that incorporate dance, while martial arts Kata are often compared to dances. Motion in ordinarily inanimate objects may also be described as dances (the leaves dance in the wind).

Every dance no matter what style, has something in common. It not only involves flexibility and body movement, but also physics. If the proper physics is not taken into consideration injuries may occur. Choreography is the art of creating dances. The person who creates (i.e. choreographs) a dance is known as the choreographer.

Dance has certainly been an important part of ceremony, rituals, celebrations and entertainment since the birth of the earliest human civilizations. Archeology delivers trace of dance from prehistoric times such as the 9,000 years old Rock Shelters of Bhimbetka painting in India and Egyptian tomb painting depicting dancing figures from circa 3300 BC.

Once of the earliest structured uses of dances may have been in the performance and in the telling of myths. Before the production of written languages dance was one of the methods of passing these stories down from generation to generation.

- 16) An art form in which people move \_\_\_\_\_ is called dance.  
 (A) spiritually (B) rhythmically  
 (C) expressingly (D) humorously
- 17) While writing in a poetic mood, the writer may use the word dance to describe the \_\_\_\_\_ of some object.  
 (A) movement (B) beauty (C) rhythm (D) velocity
- 18) To avoid being hurt one should consider the \_\_\_\_\_ of object and its movements while dancing.  
 (A) flexibility (B) style  
 (C) physics (D) body movement
- 19) Before the script of writing was produced, dance used to be a \_\_\_\_\_ from one generation to another.  
 (A) mode of passing information (B) mode of passing stories  
 (C) mode of sharing experiences (D) mode of narrating events
- 20) A word in the passage which means the same as lifeless is \_\_\_\_\_.  
 (A) animate (B) unanimate (C) inanimate (D) motionless

21) Which of the following is a prime number?

క్రింది వాటిలో ప్రధాన సంఖ్య ఏది?

درج ذیل میں سب سے بڑا عدد کونسا ہے؟

- (A) 187 (B) 173 (C) 437 (D) 627

22) LCM of 26, 56, 104 and 182 is

26, 56, 104 మరియు 182ల క.సా.గు ఎంత?

26, 56, 104 اور 182 کا L.C.M. کتنا ہوگا۔

- (A) 748 (B) 1274 (C) 728 (D) 456

23)  $\frac{12.1}{19.8} = ?$

- (A)  $\frac{11}{19}$  (B)  $\frac{7}{9}$  (C)  $\frac{13}{17}$  (D)  $\frac{11}{18}$

24)  $\frac{5}{8}$  of 24 =  $\frac{15}{7} \times ?$

$\frac{5}{8}$  యొక్క 24 =  $\frac{15}{7} \times ?$

$24 = \frac{15}{7} \times ?$  క  $\frac{5}{8}$

- (A) 7 (B) 8 (C) 15 (D)  $\frac{7}{225}$

25)  $\sqrt{17161} = ?$

- (A) 181 (B) 141 (C) 131 (D) 129

26) If the average of 40, 10, 25, 20, 35, x is 25, then the value of x is

40, 10, 25, 20, 35, x ల సగటు 25 అయితే x విలువ ఎంత?

40, 10, 25, 20, 35, x کا اوسط 25 ہو تو x کی قیمت کیا ہوگی؟

- (A) 35 (B) 20 (C) 30 (D) 25

27)  $\frac{4}{5}$  of a certain number is 64. Half of the number is

ఒక సంఖ్యలో  $\frac{4}{5}$  వంతు 64 అయితే, ఆ సంఖ్యలో సగము ఎంత?

ایک عدد کا  $\frac{4}{5}$  حصہ 64 ہو تو اس عدد کا نصف کتنا ہوگا؟

- (A) 40 (B) 80 (C) 16 (D) 32

28)  $8^{\frac{2}{3}} = ?$

- (A)  $21\frac{1}{3}$  (B)  $3\frac{1}{3}$  (C) 4 (D)  $5\frac{1}{2}$

29) If the side of a square is increased by 25%, then its area is increased by

ఒక చతురస్రము యొక్క భుజాన్ని 25% పెంచితే, దాని వైశాల్యం ఎంత పెరుగుతుంది?

اگر ایک مربع کا ضلع 25% بڑھا دیا جائے تو مربع کے رقبہ میں کتنا اضافہ ہوگا۔

- (A) 40.5% (B) 55% (C) 25% (D) 56.25%

30) Ajay sold a cycle for Rs. 680, losing 15%. The cost price of cycle is Rs. \_\_\_\_\_

అజయ్ ఒక సైకిల్‌ను 680 రూపాయలకు అమ్మి, 15% నష్టాన్ని పొందితే, ఆ సైకిల్‌కొన్న వేల ఎంత? (రూపాయల్లో)

اے ایک سیکل 680 روپے میں فروخت کرتا ہے تو اس کی قیمت خرید کیا ہوگی۔

- (A) 782 (B) 800 (C) 760 (D) 820

31) If  $A : B = 2 : 3$  and  $B : C = 4 : 5$ , then  $A : B : C = ?$

$A : B = 2 : 3$  మరియు  $B : C = 4 : 5$  అయితే  $A : B : C$  ఎంత?

اگر  $A : B = 2 : 3$  اور  $B : C = 4 : 5$  ہو تو  $A : B : C$  کتنا ہوگا۔

- (A) 2 : 3 : 5 (B) 2 : 4 : 5 (C) 8 : 12 : 15 (D) 2 : 12 : 15





36) A train 132 m long passes an electric pole in 6 seconds. The speed of the train in kmph is \_\_\_\_\_.

132 మీటర్లు పొడవు గల ఒక రైలు ఒక ఎలక్ట్రిక్ స్తంభాన్ని 6 సెకండ్లలో దాటితే, ఆ రైలు వేగము గంటకు ఎన్ని కిలోమీటర్లు?

ایک ٹرین جو 132 میٹر لمبی ہے۔ ایک برقی کھمبے کو 6 سیکنڈ میں پار کرتی ہے تو ٹرین کی رفتار فی گھنٹہ کتنے کلو میٹر ہوگی؟

- (A) 80 (B) 79.2 (C) 72 (D) 70

37) A certain sum is invested on simple interest. If it becomes three times in 10 years, what is the rate of interest?

కొంత మొత్తాన్ని బారువడ్డీకి పెట్టుబడి పెట్టడం జరిగింది. పది సంవత్సరాల్లో ఆ మొత్తం మూడు రెట్లయితే, వడ్డీ రేటు ఎంత?

ایک شخص معمولی شرح سود پر رقم لگا تا ہے اگر 10 سال میں یہ رقم تین گنا ہو جاتی ہے تو شرح سود کتنی ہوگی۔

- (A) 25% (B) 20% (C) 22% (D) 18%

38) A sum becomes Rs. 2,916 in 2 years at 8% per annum compound interest. The sum is \_\_\_\_\_ (in Rs.)

కొంత మొత్తం 8% సాలీనా చక్ర వడ్డీ రేటుతో 2 సంవత్సరాల్లో 2,916 రూపాయలు అయితే, ఆ మొత్తం ఎంత? (రూపాయల్లో)

ایک رقم 8% شرح سود مرکب سالانہ کے حساب سے 2 سال بعد 2,916 روپے ہو جاتی ہے تو اصل رقم کتنی ہوگی۔

- (A) 2560 (B) 2750 (C) 2625 (D) 2500

39) The area of a rectangle is 12 sq. meters and its length is 3 times that of its width. What is the perimeter of the rectangle? (in meters)

ఒక దీర్ఘ చతురస్రం యొక్క వైశాల్యం 12 చదరపు మీటర్లు. దాని పొడవు వెడల్పుకు మూడు రెట్లయితే ఆ దీర్ఘ చతురస్రం చుట్టుకొలత ఎంత? (మీటర్లలో)

ایک مستطیل کا رقبہ 12 مربع میٹر ہے اور اس کی لمبائی، چوڑائی کا 3 گنا ہو تو اس مستطیل کا احاطہ کتنا ہوگا۔

- (A) 14 (B) 24 (C) 16 (D) 18

40) The total surface area of a cube is 600 cm<sup>2</sup>. The length of its diagonal is \_\_\_\_\_ meters.

ఒక ఘనము యొక్క సంపూర్ణతల వైశాల్యము 600 చదరపు సెంటీమీటర్లు. దాని కర్ణము పొడవు ఎంత? (మీటర్లలో)

ایک مکعب کا بیرونی رقبہ 600 مربع سینٹی میٹر ہے۔ اس کے وتر کی لمبائی کتنے میٹر ہوگی۔

- (A)  $10\sqrt{3}$  (B)  $10\sqrt{2}$  (C)  $5\sqrt{2}$  (D)  $\frac{10}{\sqrt{3}}$

- 41) A student has to obtain 40% of the total marks to pass in the exam. He got 80 marks and failed by 80 marks. The total marks in the exam are \_\_\_\_\_
- ఒక విద్యార్థి ఒక పరీక్షలో ఉత్తీర్ణుడవటానికి మొత్తం మార్కుల్లో 40% మార్కులు పొందాలి. అతను 80 మార్కులు పొంది, 80 మార్కులు తక్కువ అవడం వలన ఉత్తీర్ణత సాధించలేక పోతే, ఆ పరీక్షలో మొత్తం మార్కులు \_\_\_\_\_
- بے علم کو کامیابی کے لئے امتحان میں 40% نشانات حاصل کرنا ہو گا۔ اگر 220 نشانات حاصل کرتے ہوئے ناکام ہو جاتا ہے تو اس امتحان میں جملہ نشانات کتنے ہیں؟
- (A) 800 (B) 750 (C) 700 (D) 900

- 42) If selling price of an article is  $\frac{2}{3}$  of its cost price, the profit/loss in this transaction is \_\_\_\_\_
- ఒక వస్తువు యొక్క అమ్మిన వెల కొన్న వెలలో  $\frac{2}{3}$  వ వంతు అయితే, ఈ వ్యాపారంలో పొందిన లాభ/నష్టం \_\_\_\_\_
- شے کی قیمت فروخت، قیمت خرید کا  $\frac{2}{3}$  ہو تو اس لین دین میں نفع/نقصان کتنا ہو گا۔
- (A)  $66\frac{2}{3}\%$  Loss / నష్టం / نقصان (B)  $33\frac{1}{3}\%$  Profit / లాభం / نفع
- (C)  $66\frac{2}{3}\%$  Profit / లాభం / نفع (D)  $33\frac{1}{3}\%$  Loss / నష్టం / نقصان

- 43) Satya starts business with Rs. 5,000 and after 4 months, Subhash joins with Satya as his partner. After a year, the profit is divided in the ratio 2 : 1 respectively. What is Subhash's contribution in the capital? (in Rs.)
- ఒక వ్యాపారాన్ని సత్య 5,000 రూపాయల పెట్టుబడితో ప్రారంభించెను. నాలుగు నెలల తరువాత సుభాష్ సత్య వ్యాపారంలో భాగస్వామిగా చేరెను. సంవత్సరాంతమున వచ్చిన లాభాన్ని వారిరువురు క్రమంగా 2 : 1 నిష్పాదంలో పంచుకొన్నట్లయితే, సుభాష్ ఎంత పెట్టుబడి పెట్టాడు? (రూపాయల్లో)
- جستہ 5,000 روپے سرمایہ سے کاروبار شروع کرتا ہے۔ چار ماہ بعد سہاش شریک شریک ہوتا ہے۔ سال کے ختم پر 2 : 1 کے تناسب میں تقسیم کرتے ہیں تو سہاش کا سرمایہ کتنا ہو گا۔
- (A) 3600 (B) 3700 (C) 3750 (D) 3800

- 44) 'A' can finish a work in 20 days, 'B' in 30 days and 'C' in 12 days. 'A' and 'B' started the work, but are forced to leave after 5 days. In how many days, 'C' can finish the remaining work?
- ఒక పనిని 'A', 20 రోజుల్లో, 'B', 30 రోజుల్లో మరియు 'C', 12 రోజుల్లో పూర్తి చేయగలరు. 'A' మరియు 'B' ఆ పనిని ప్రారంభించిన 5 రోజుల తరువాత వారిరువురు పని మాని వేయడం జరిగింది. మిగిలిన పనిని 'C' ఎన్ని రోజుల్లో పూర్తి చేయగలడు?
- کام کو 20 دن میں، اور B اسی کام کو 30 دن میں اور C اسی کام کو 12 دن میں مکمل کرتا ہے۔ A اور B ملکر کام شروع کرتے ہیں اور 5 دن بعد علیحدہ ہو جاتے ہیں۔ بقیہ کام کو C تنہا کتنے دن میں مکمل کرے گا۔
- (A) 7 (B) 6 (C) 8 (D) 5

ot 220 45) A thief steals a car at 1 p.m. and drives it at 60 kmph on a highway. The theft is noticed at 2 p.m. and the police immediately started chasing him on a bike at 80 kmph. When will the police overtake the thief?

تاریخوں  
کی  
تاریخ  
80

ایک چور دوپہر ایک بجے کار لیکر فی گھنٹہ 60 کلومیٹر کی رفتار سے ہائی وے پر چل پڑتا ہے۔ اور پتہ چلتا ہے کہ ٹھیک دو بجے دوپہر پولیس موٹر سیکل پر فی گھنٹہ 80 کلومیٹر کی رفتار سے پیچھا کر رہی ہے تو بتاؤ پولیس اس چور کو کتنے وقفے میں اوور ٹیک کر پائے گی۔

ایک چور دوپہر ایک بجے کار لیکر فی گھنٹہ 60 کلومیٹر کی رفتار سے ہائی وے پر چل پڑتا ہے۔ اور پتہ چلتا ہے کہ ٹھیک دو بجے دوپہر پولیس موٹر سیکل پر فی گھنٹہ 80 کلومیٹر کی رفتار سے پیچھا کر رہی ہے تو بتاؤ پولیس اس چور کو کتنے وقفے میں اوور ٹیک کر پائے گی۔

- (A) 3.30 p.m. (B) 4 p.m. (C) 5 p.m. (D) 6 p.m.

ion is  
شانت

گر

46)  $\frac{\log \sqrt{5}}{\log 5} =$

- (A)  $\frac{1}{\log \sqrt{5}}$  (B)  $\frac{1}{\sqrt{5}}$  (C)  $\log 5\sqrt{5}$  (D)  $\frac{1}{2}$

as it is  
ہے  
تو

47) The sides of a rectangular field are in the ratio 3 : 4. If the area of the field is 10,800 sq.m, the cost of fencing the field at the rate of Rs. 10 per meter is : (in Rupees)

ایک مستطیل کے اضلاع کا تناسب 3 : 4 ہے۔ اگر اس کا رقبہ 10,800 مربع میٹر ہے اور اس کی فینسنگ کی قیمت فی میٹر 10 روپے ہو تو فینسنگ پر جملہ خرچ کتنا ہوگا۔ (روپوں میں)

- (A) 5600 (B) 4200 (C) 3500 (D) 6300

3) 48) The area of a rhombus is 384 cm<sup>2</sup>. The length of one of its diagonals is 32 cm. The length of the other diagonal is : (in cm)

ایک مربع کے رقبہ 384 مربع سینٹی میٹر ہے۔ اس کے ایک وتر کی لمبائی 32 سینٹی میٹر ہو تو دوسرے وتر کی لمبائی کتنی ہوگی۔

- (A) 24 (B) 36 (C) 18 (D) 48

- 49) The height of a circular cylinder is 14 cm and its curved surface is 704 sq.cm. Then its volume is : (in cm<sup>3</sup>)

ఒక వృత్తాకారపు స్థూపము యొక్క ఎత్తు 14 సెం.మీ మరియు దాని పక్కతల వైశాల్యం 704 చదరపు సెంటీ మీటర్లయితే దాని ఘన పరిమాణం ఎంత? (ఘనపు సెంటీ మీటర్లలో)

ایک دائروی استوانہ کی اونچائی 14 سینٹی میٹر اور پیرونی جھکاؤ 704 مربع سینٹی میٹر ہو تو اس کی ضخامت کتنی ہوگی۔

- (A) 5632 (B) 2816 (C) 1408 (D) 9856

- 50) What is the standard Deviation of the following?

క్రింది వాటి క్రమవిచలనం ఎంత?

10, 20, 30, 40

درج ذیل کا معیاری انحراف کیا ہوگا؟

- (A) 25 (B) 100 (C)  $5\sqrt{5}$  (D)  $10\sqrt{5}$

- 51) Find out the correct number in the place of ‘?’

క్రింది శ్రేణిలో ‘?’ గల స్థానంలో ఉండవలసిన సరైన సంఖ్య ఏది?

5760, 960, ?, 48, 16, 8

درج ذیل میں سوالیہ نشان ‘?’ کی جگہ آنے والے درست ہندسہ کی نشاندہی کیجیے۔

- (A) 240 (B) 192 (C) 160 (D) 120

- 52) Find out the correct fraction in the place of ‘?’

క్రింది శ్రేణిలో ‘?’ గల స్థానంలో ఉండాలైన సరైన భిన్నం ఏది?

$\frac{2}{\sqrt{5}}, \frac{3}{5}, \frac{4}{5\sqrt{5}}, \frac{5}{25}, \frac{6}{25\sqrt{5}}, ?$

درج ذیل میں سوالیہ نشان ‘?’ کی جگہ آنے والی صحیح کسر کی نشاندہی کیجیے۔

- (A)  $\frac{7}{5\sqrt{25}}$  (B)  $\frac{7}{\sqrt{125}}$  (C)  $\frac{7}{125}$  (D)  $\frac{7}{125\sqrt{5}}$

- 53) Find out the appropriate term in place of ‘?’

క్రింది శ్రేణిలో ‘?’ ఉన్న స్థానంలో ఉండాలైన సరైన పదాన్ని కనుక్కోండి?

AYD, BVF, DRH, ?, KGL

درج ذیل میں سوالیہ نشان ‘?’ کی جگہ آنے والی موزوں اصطلاح کی نشاندہی کیجیے۔

- (A) FMI (B) GLJ (C) HLK (D) GMJ

- 54) In the following series find the term in place of ‘?’

క్రింద యిచ్చిన శ్రేణిలో ‘?’ ఉన్న స్థానంలో ఉండాలైన పదాన్ని కనుక్కోండి.

AZY, BUT, CXW, DWV, ?

درج ذیل سیریز میں سوالیہ نشان ‘?’ کی جگہ آنے والی اصطلاح کی نشاندہی کیجیے۔

- (A) VUE (B) EVU (C) VEU (D) EVA

Then 55) 'Bread' is related to 'wheat' in the same way as 'Brick' is related to \_\_\_\_\_  
(A) Clay (B) Building (C) Cuboid (D) Fire

సంజ్ఞ బ్రెడ్, గోధుమకు సంబంధించినట్లుగా, ఇటుక దేనికి సంబంధించింది?

(A) మట్టి (B) బిల్డింగ్ (C) దీర్ఘఘనము (D) మంట

అయితే 'బ్రెడ్' కు గోధుమకు సంబంధించినట్లుగా, ఇటుకకు దేనికి సంబంధించింది? -  
(A) చక్కెర మట్టి (B) భవన (C) దీర్ఘఘనము (D) మంట

56) There are four words given in the following. Three of them are alike in some manner. Find out the odd one from the following?

(A) Guitar (B) Sitar (C) Flute (D) Violin

క్రింద నాలుగు పదాలు ఇవ్వబడ్డాయి. వాటిలో మూడు ఏదో ఒక సంబంధం కలిగి ఉన్నాయి. వాటిలో అసంబంధమయిన దానిని కనుక్కోండి.

(A) గిటార్ (B) సితార్ (C) ఫిల్ట్రోవి (D) వయాలిన్

దత్తం క్రింద నాలుగు పదాలు ఇవ్వబడ్డాయి. వాటిలో మూడు ఏదో ఒక సంబంధం కలిగి ఉన్నాయి. వాటిలో అసంబంధమయిన దానిని కనుక్కోండి.

(A) గిటార్ (B) సితార్ (C) ఫిల్ట్రోవి (D) వయాలిన్

57) If GO = 32, SHE = 49, then SOME will be equal to \_\_\_\_\_.

GO = 32 మరియు SHE = 49 అయితే SOME దేనికి సమానం?

అگر GO = 32 اور SHE = 49 ہو تو SOME کس کے مساوی ہوگا۔

(A) 64 (B) 62 (C) 58 (D) 56

58) In the numbers from 100 to 1000, how many times digit 1 comes at the ten's place?

100 నుండి 1000 వరకు గల సంఖ్యలలో పదుల స్థానంలో 1 గల సంఖ్యలన్ని?

100 నుండి 1000 వరకు గల సంఖ్యలలో పదుల స్థానంలో 1 గల సంఖ్యలన్ని? -

(A) 90 (B) 100 (C) 10 (D) 9

59) If October 8, 2013 is Tuesday, then 1st January 2015 will be \_\_\_\_\_.

8 అక్టోబర్, 2013 మంగళవారం అయితే 1 జనవరి, 2015 ఏమవుతుంది?

اگر 8 اکتوبر 2013 کو منگل کا دن ہو تو، 1 جنوری 2015 کو کونسا دن ہوگا؟

(A) Friday / శుక్రవారం / جمعہ (B) Wednesday / బుధవారం / چہار شنبہ

(C) Thursday / గురువారం / جمعرات (D) Saturday / శనివారం / ہفتہ

60) In the following figure, given numbers follow a certain trend row-wise or column wise. Find out the missing number (?)

క్రింద యివ్వబడిన పటంలో కొన్ని సంఖ్యలు యివ్వబడ్డాయి. అవి నిలువుగా కానీ అడ్డంగా కానీ ఒక ధోరణిని అనుసరిస్తాయి. పటములో తప్పిపోయిన సంఖ్య (?) ని కనుక్కోండి.

ذیل میں دیئے گئے جدول کے اعداد کا لم کے حساب سے یا لائن کے حساب سے کچھ معنی رکھتے ہیں۔ سوالیہ نشان "؟" کی جگہ آنے والے ہندسہ کی نشاندہی کیجئے۔

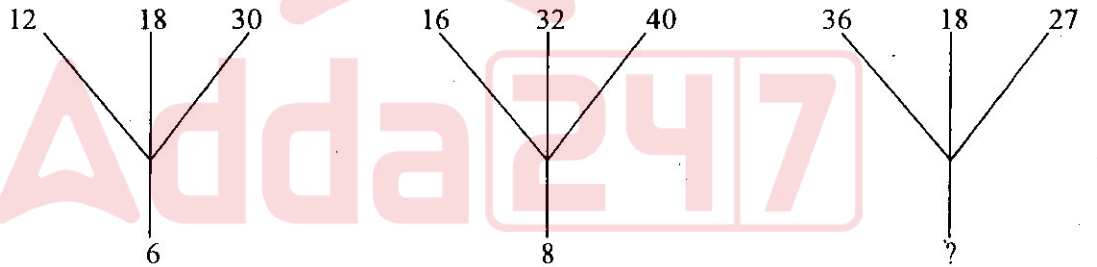
1	4	?
4	2	5
2	2	3
49	64	169

- (A) 6 (B) 5 (C) 4 (D) 3

61) In the given figure, numbers follow a similar pattern, find out the missing number (?).

క్రింది యివ్వబడిన పటంలో, ఇచ్చిన సంఖ్య ఒకే రకమైన ధోరణిని అనుసరిస్తాయని భావించి తప్పిపోయిన సంఖ్య (?)ని కనుగొనండి.

درج ذیل میں دیئے گئے اشکال، اعداد کے اعتبار سے مماثلت رکھتے ہیں۔ سوالیہ نشان "؟" کی جگہ آنے والے ہندسے کی نشاندہی کیجئے۔



- (A) 18 (B) 6 (C) 12 (D) 9

62) In the following series, one number is wrong. Find out the wrong term.

క్రింద యిచ్చిన శ్రేణిలో ఒక సంఖ్య తప్పుగా యివ్వబడింది. ఆ సంఖ్య ఏది?

5, 27, 61, 122, 213, 340, 509

درج ذیل سیریز میں ایک ہندسہ غلط دیا گیا ہے۔ اس غلط اصطلاح کی نشاندہی کیجئے۔

- (A) 61 (B) 509 (C) 27 (D) 122

63) In the following series, Find out the letters in place of ?

قندرد ییچین شےہیلو ؟ سٹانولہ ےونڈالین اکلرالی وئی؟

ac?cab?baca?aba?acac

درج ذیل سیریز میں سوالیہ نشان کی جگہ آنے والے حرف کی نشاندہی کیجیے۔

- (A) acbc (B) babb (C) bcbb (D) aacb

64) Pen is to poet as needle is to

- (A) thread (B) tailor (C) button (D) sewing

پن کو شاعر کے لیے سوزی کی طرح درج ذیل میں کس سے تعلق ہے؟

- (A) دھاری (B) ٹیلر (C) بٹن (D) کھڈو

پن کا تعلق شاعر سے ہے تو سوزی کا تعلق درج ذیل میں کس سے ہوگا۔

- (A) دھاری (B) ٹیلر (C) بٹن (D) کھڈو

65) The angle between minute hand and the hour hand of clock when the time is 4.20 is

4 گنٹل 20 نیمیوہالکو گڈیوارولہ نی گنٹل مملوکو، نیمیوہال مملوکو مڈگول کونو ونٹ؟

4 بگر 20 منٹ پر گھڑی کے گھنٹے کی سوزی اور منٹ کی سوزی کے درمیان کتنا زاویہ ہوگا۔

- (A) 10° (B) 5° (C) 20° (D) 15°

66) Today is Monday, after 61 days it will be :

آج رولہ نی موارو ایلی، 61 رولہال تروواتھ و رولہ ایوٹوندی؟

- (A) Wednesday / بڈوارو (B) Thursday / گرووارو  
(C) Tuesday / مونگوارو (D) Saturday / سنیوارو

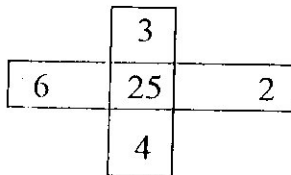
آج بڈوارو ہے تو 61 دن بعد کونسا دن ہوگا۔

- (A) چار شنبہ (B) جمرات (C) منگل (D) ہفتہ

67) Find the missing number in the following.

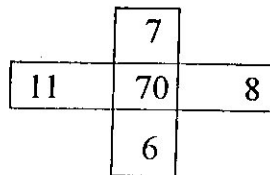
قندرد واطیلہ تھپپووین (?) انکونی کسوکونڈی.

درج ذیل میں سوالیہ نشان کی جگہ آنے والی ہندسہ کی نشاندہی کیجیے۔

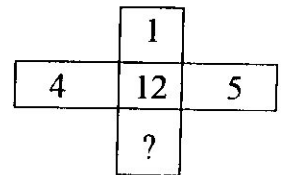


(A) 10

(B) 1



(C) 2



(D) 6

68) Based on the given two statements below identify appropriate conclusion which logically follows the statements :

Statements :

Some kings are queens. All queens are beautiful.

- (A) All kings are beautiful
- (B) All queens are kings
- (C) All beautiful are kings
- (D) None of these

ప్రవచనాలు :

కొంత మంది రాజులు రాణులు. అందరు రాణులు అందగత్తెలు.

- (A) రాజులందరూ అందగాళ్ళు
- (B) రాణులందరూ రాజులు
- (C) అందంగా ఉన్న వారందరూ రాజులు
- (D) ఏవీకాదు.

درج ذیل میں دیئے گئے دو بیانات کی بنیاد پر سوزوں نتیجہ اخذ کیجئے۔

بیان :

کچھ بادشاہ ملکہ ہیں۔ تمام ملکہ خوبصورت ہیں۔

(A) تمام ملکہ بادشاہ ہیں

(B) تمام بادشاہ خوبصورت ہیں

(C) ان میں کوئی نہیں

(D) تمام خوبصورت بادشاہ ہیں

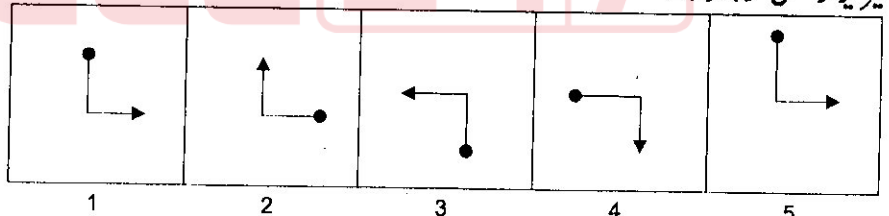
69) Based on the given five figures, marked as 1, 2, 3, 4 and 5 identify appropriate answer figure from A, B, C and D, which will continue the same series established by the five figures.

క్రింద యిచ్చిన 5 పటములు 1, 2, 3, 4 మరియు 5తో గుర్తించబడి ఉన్నవి. A, B, C మరియు D అను

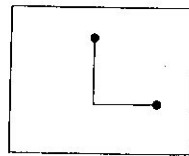
సమాధానాల నుండి సరయిన సమాధానాన్ని, ఐదు పటములకు కొనసాగింపుగా ఉండేట్టుగా గుర్తించండి.

درج ذیل میں دیئے گئے سوالیہ اشکال 1, 2, 3, 4 اور 5 دیئے گئے ہیں۔ اور جوابی اشکال A, B, C اور D

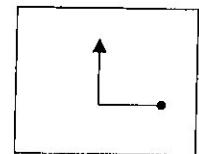
کی مدد سے سیریز کو مکمل کرنا ہوگا۔



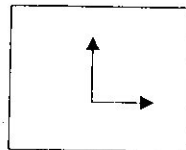
(A)



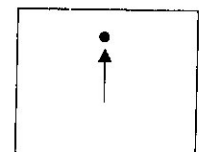
(B)



(C)



(D)





70) A and B are married couple. X and Y are brothers. X is the brother of A. How is Y related to B?

- (A) Brother (B) Brother-in-law  
(C) Cousin (D) None of these

A మరియు B లు వివాహిత జంట. X మరియు Y లు సోదరులు. X, A యొక్క సోదరుడు. Y, B కి ఏమవుతాడు?

- (A) సోదరుడు (B) బావ  
(C) కజిన్ (D) ఏవీకావు

A. మరియు B. యొక్క వివాహిత జంట. X మరియు Y. సోదరులు. X, A యొక్క సోదరుడు. Y, B కి ఏమవుతాడు?

- (A) బھائی (B) بھادر نسبتی (C) کزن (D) ان میں سے کوئی نہیں

71) In a certain code 'INACTIVE' is written as 'VITCANIE'. How is COMPUTER written in the same code?

ఒక కోడ్ భాషలో 'INACTIVE' ని 'VITCANIE' గా రాస్తే, అదే కోడ్లో COMPUTER ని ఎలా రాస్తారు?

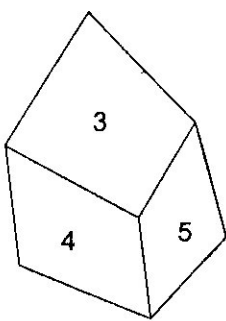
ایک کوڈ کے تحت 'INACTIVE' کو 'VITCANIE' لکھا جائے تو 'COMPUTER' کو کس طرح کوڈ کریں گے۔

- (A) ETUPMOCR (B) UTEPMOCR  
(C) PMOCRETU (D) MOCPETUR

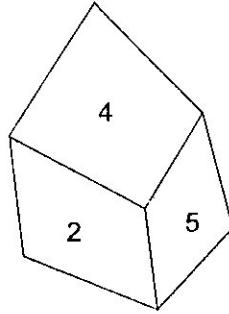
72) From the following four different positions of the same dice, find the number on the face opposite the face showing 6.

క్రింద యిచ్చిన నాలుగు పాచిక భంగిమల నుండి, 6 కు అభిముఖంగా ఉన్న ముఖంపై ఉన్న అంకెని కనుగొనండి.

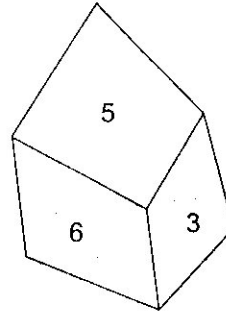
درج ذیل میں ایک پانسہ کی چار مختلف حالتیں دی گئی ہیں ہندسہ 6 کے مقابل آنے والے ہندسے کی نشاندہی کیجیے۔



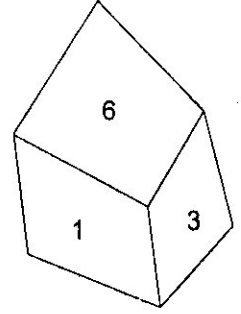
(A) 5



(B) 2



(C) 1

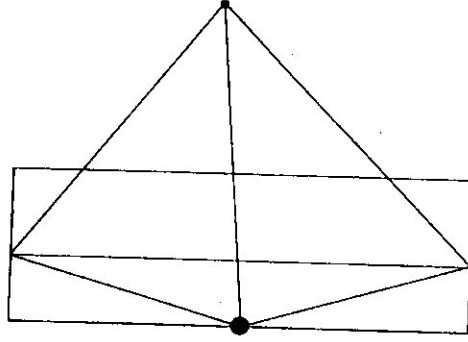


(D) 4

73) How many triangles are there in the following figure?

క్రింద యిచ్చిన పటంలో ఎన్ని త్రిభుజాలు ఉన్నాయి?

درج ذیل شکل میں کتنے مثلث ہیں؟



- (A) 17 (B) 11  
(C) 15 (D) 13

74) Haemoglobin : Iron :: Chlorophyll : ?

- (A) Cobalt (B) Calcium  
(C) Magnesium (D) Copper

హిమోగ్లోబిన్ : ఐరన్ :: క్లోరోఫిల్ : ?

- (A) కోబాల్ట్ (B) కాల్షియం  
(C) మెగ్నీషియం (D) కాపర్

ہیموگلوبین : آئرن :: کلوروفیل : ؟

- (A) کوبالٹ (B) کیلشیم  
(C) میگنیشیم (D) کاپر

75) Line : Square :: Arc : ?

- (A) Ball (B) Circle (C) Sphere (D) Ring

రేఖ : చతురస్రం :: చాపం : ?

- (A) బంతి (B) వృత్తం (C) గోళం (D) వలయం

لائن : اسکوائر :: آرک :

- (A) گینڈ (B) دائرے (C) دائرہ (D) انگوٹھی

76) Pituitary : Brain :: Thymus : ?

- (A) Throat (B) Spinal Cord (C) Liver (D) Chest

పిట్యూటరీ : మెదడు :: థైమస్ : ?

- (A) గొంతు (B) వెన్నెముక (C) కాలేయము (D) ఛాతి

ٹھیویٹیری : دماغ :: تھائی مس : ؟

- (A) طاق (B) ریڑھ کی ہڈی (C) جگر (D) سینہ

- 77) England is related to Atlantic ocean in the same way as Greenland is related to \_\_\_\_  
 (A) Arctic ocean (B) Atlantic ocean  
 (C) Antarctic ocean (D) Pacific ocean

ఇంగ్లాండ్‌కు అట్లాంటిక్ మహా సముద్రానికి ఉన్న సంబంధం లాంటి సంబంధం గ్రీన్‌లాండ్‌కి దేనితో ఉంది?

- (A) ఆర్టిక్ మహా సముద్రం (B) అట్లాంటిక్ మహా సముద్రం  
 (C) అంటార్టిక్ మహా సముద్రం (D) పసిఫిక్ మహా సముద్రం

انگینڈ کا تعلق بحر اوقیانوس سے ہے ٹھیک اسی طرح گرین لینڈ کا تعلق کس سے ہوگا۔

- (A) آرکٹک سمندر (B) بحر اوقیانوس (C) انٹارکٹک سمندر (D) بحر الکاہل

For questions 78-79; four words have been given out of which three are alike in some manner, While the fourth one is different. Choose the odd one.

ప్రశ్నలు 78 నుండి 79 వరకు; క్రింద యివ్వబడిన నాలుగు పదాలలో మూడు పదాలు ఏదో ఒక రకంగా సంబంధాన్ని కలిగి ఉన్నాయి. నాల్గవ పదము మాత్రం భిన్నంగా ఉంది. భిన్నంగా ఉన్న పదాన్ని కనుగొనండి.

ہدایات: (78 اور 79) سوال میں چار الفاظ دیئے گئے ہیں جن میں تین متعلقہ ہیں اور ایک غیر متعلقہ ہے نشاندہی کیجئے۔

- 78) (A) Metre / మీటరు (B) Acre / ఎకరం  
 (C) Furlong / ఫర్లాంగు (D) Mile / మైలు  
 (A) میٹر (B) ایکڑ (C) فرلانگ (D) میل
- 79) (A) Tolstoy / టాల్స్టాయ్ (B) Tagore / తాగూర్  
 (C) Ghalib / గాలీబు (D) Keats / కీట్స్  
 (A) ٹالیسی (B) ٹیگور (C) غالب (D) کیٹس

- 80) In a certain code, "SWITCH" is written as "TVJSDG", Which word would be written as "CQFZE" in the same code?

ఒక కోడ్ భాషలో "SWITCH" ని "TVJSDG" గా రాస్తే అదే కోడ్‌లో ఏ పదాన్ని "CQFZE" అని రాయొచ్చు?

ایک کوڈ کے تحت "SWITCH" کو TVJSDG لکھتے ہیں تو کوڈ 'CQFZE' کے لئے کونسا لفظ لکھیں گے۔

- (A) BRAED (B) BARED (C) BREAD (D) BRADE

- 81) If 'MINERAL' is written as "QRSTUVWXYZ" and 'SOUND' is written as "ABCSD", then how will 'READER' be written in the same code?

'MINERAL' ని "QRSTUVWXYZ" గా రాస్తే, 'SOUND' ని "ABCSD" గా రాస్తే, అదే కోడ్‌లో 'READER' ని ఏమని రాయొచ్చు?

اگر 'MINERAL' کو "QRSTUVWXYZ" اور 'SOUND' کو "ABCSD" لکھتے ہیں تو 'READER' کو کیا کوڈ کریں گے۔

- (A) TUDVUT (B) QDZCDQ (C) SBFES (D) UTVDTU

82) If DELHI is coded as 73541 and CALCUTTA as 82589662, how can CALICUT be coded?

DELHI ని 73541 గా కోడ్ చేస్తే, CALCUTTA ని 82589662 గా కోడ్ చేస్తే CALICUT ని ఏవిధంగా కోడ్ చేయవచ్చు?

అگر DELHI کو 73541 اور CALCUTTA کو 82589662 کوڈ کرتے ہیں تو CALICUT کو کیا کوڈ کریں گے۔

(A) 5978213 (B) 8251896 (C) 8543691 (D) 5279431

83) Pointing towards Rita, Ravi said, "I am the only son of her mother's son". How is Rita related to Ravi?

రీటాని చూపిస్తూ రవి యిలా చెప్పెను. "నేను ఆమె తల్లి యొక్క కుమారుడికి ఏకైక కుమారుడిని". రీటా, రవికి ఏమవుతుంది?

(A) Niece / మేనకోడలు (B) Mother / తల్లి

(C) Cousin / కజిన్ (D) Aunt / అంటి

రీటా کی طرف اشارہ کرتے ہوئے روی کہتا ہے کہ "میں اس کی ماں کے بیٹے کا اکلوتا بیٹا ہوں"۔ تو ریتا اور روی میں کیا رشتہ ہے۔

(A) بھانجی (B) ماں (C) کزن (D) انٹی

84) A and B are brothers. C and D are sisters. A's son is D's brother. How is B related to 'C'?

A మరియు B లు సోదరులు. C మరియు D లు సోదరీమణులు. A యొక్క కుమారుడు D కి సోదరుడు. B, C కి ఏమవుతాడు?

(A) Uncle / అంకుల్ (B) Brother / సోదరుడు

(C) Father / తండ్రి (D) Grand Father / తాతయ్య

A اور B دونوں بھائی ہیں۔ C اور D دونوں بہنیں ہیں۔ A کا لڑکا D کا بھائی ہے۔ B اور C کا رشتہ کیا ہے۔

(A) انکل (B) بھائی (C) باپ (D) دادا

8258

8251896

Questions 85 to 88 : Read the following information carefully and answer the questions given below.

There is a group of five persons - P, Q, R, S and T. One of them is a doctor, one is an engineer, one is a professor, one is a manager and one is a psychologist. Three of them; P, R and psychologist prefer tea to coffee and two of them Q and the professor prefer coffee to tea. The manager, S and P are friends to one another best two of them prefer coffee to tea. The doctor is R's brother.

ప్రశ్నలు 85 నుండి 88 వరకు : క్రింది సమాచారాన్ని జాగ్రత్తగా చదివి, దాని క్రింద యివ్వబడిన ప్రశ్నలకు సమాధానాలివ్వండి.

P, Q, R, S మరియు T లు ఐదుగురు వ్యక్తులు ఒక గుంపుగా ఉన్నారు. వారిలో ఒకరు డాక్టరు, ఒకరు ఇంజనీరు, ఒకరు ప్రొఫెసర్, ఒకరు మేనేజరు మరియు ఒకరు సైకాలజిస్టు. వారిలో ముగ్గురు; P, R మరియు సైకాలజిస్టు కాఫీ కంటే టీని యిష్టపడతారు. వారిలో ఇద్దరు: Q మరియు ప్రొఫెసర్ టీ కంటే కాఫీని యిష్టపడతారు. మేనేజర్, S మరియు P లు స్నేహితులు, కానీ వారిలో ఇద్దరు టీ కంటే కాఫీని యిష్టపడతారు. డాక్టర్, R యొక్క సోదరుడు.

(హدایات: 85 تا 88) درج ذیل کے بیان کو غور سے پڑھئے اور دیئے گئے سوالات کے جوابات دیجئے۔

P, Q, R, S اور T پانچ افراد کا ایک گروپ ہے۔ ان میں ایک ڈاکٹر، ایک انجینئر، ایک پروفیسر، ایک میجر ہے اور ایک سائیکالوجسٹ۔ ان میں تینوں P, R اور سائیکالوجسٹ جو چائے کو کافی پر ترجیح دیتے ہیں۔ اور دونوں Q اور پروفیسر کافی کو چائے پر ترجیح دیتے ہیں۔ میجر S اور P ایک دوسرے کے بہتر دوست ہیں ان میں دونوں کافی کو چائے پر ترجیح دیتے ہیں۔ اور ڈاکٹر جو کہ R کا بھائی ہے۔

85) Who is the doctor?

డాక్టరు ఎవరు?

ڈاکٹر کون ہے؟

(A) Q

(B) T

(C) P

(D) S

86) Who is the manager?

మేనేజర్ ఎవరు?

میجر کون ہے؟

(A) Q

(B) P

(C) T

(D) R

87) Which of the following person, who likes tea but is not a psychologist?

క్రింది వారిలో ఏ వ్యక్తి టీని యిష్టపడతారు, కానీ సైకాలజిస్టు కాదు?

ان میں کونسا شخص ہے جو چائے پسند کرتا ہے لیکن سائیکالوجسٹ نہیں ہے؟

(A) T

(B) S

(C) P

(D) Q

88) Who is an Engineer?

ఇంజనీరు ఎవరు?

انجینئر کون ہے؟

(A) S

(B) R

(C) Q

(D) T

- 89) Soujanya walks 14 meters towards west, then turns to her right and walks 14 meters and then turns to her left and walks 10 meters. Again turning to her left she walks 14 meters. What is the shortest distance (in meters) between her starting point and the present position?

సౌజన్య 14 మీటర్లు పడమర దిక్కుకి నడిచి, తరువాత తన కుడి ప్రక్కకి తిరిగి 14 మీటర్లు నడచిన తరువాత, తన ఎడమ ప్రక్కకు తిరిగి 10 మీటర్లు నడిచెను. మళ్ళీ తన ఎడమ ప్రక్కకు తిరిగి 14 మీటర్లు నడిచెను. తను ప్రస్తుతం ఉన్న ప్రదేశం, బయలుదేరిన ప్రాంతం నుండి ఎన్ని మీటర్ల కనిష్ఠ దూరంలో ఉంది?

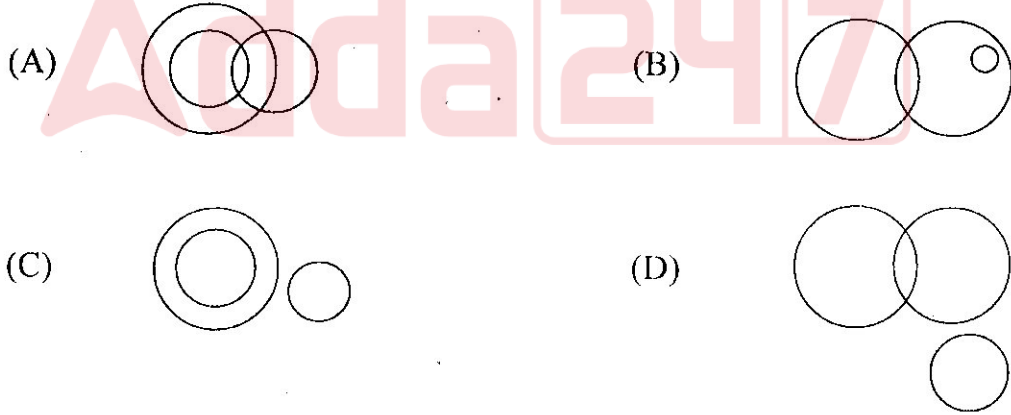
سوجنیا مغرب کی سمت 14 میٹر چلتی ہے، اور اپنی دائیں جانب 14 میٹر چلتی ہے پھر بائیں جانب 10 میٹر چلتی ہے۔ اور پھر اپنی بائیں جانب 14 میٹر چلتی ہے۔ اس کے ابتدائی مقام سے اب ٹھہرے ہوئے مقام کا درمیانی فاصلہ کتنا ہوگا۔

- (A) 28 (B) 38 (C) 10 (D) 24

- 90) In a party both fish and meat were served. Some took only fish and some only meat. There were some vegetarians who did not accept either. The rest took both fish and meat. Which of the following diagrams correctly reflect this situation?

ఒక పార్టీలో చేపలు మరియు మాంసము వడ్డించబడ్డాయి. కొంతమంది చేప మాత్రమే తీసుకొన్నారు. మరికొంత మంది మాంసం మాత్రమే తీసుకొన్నారు. కొంతమంది శాఖాహారులు. ఈ రెండూ తిన లేదు. మిగిలిన వారు చేపలు, మాంసము, రెండూ తిన్నారు. క్రింది వాటిలో ఏ పటము యీ పరిస్థితిని ఖచ్చితంగా తెలియ చేస్తుంది?

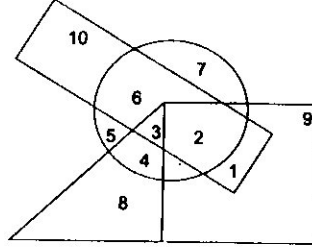
ایک دعوت میں مچھلی اور گوشت سے تواضع کی گئی۔ کچھ لوگوں نے صرف مچھلی اور کچھ لوگ صرف گوشت لئے۔ ان میں کچھ لوگ صرف ترکاری کھانے والے تھے جو دونوں بھی استعمال نہیں کئے۔ اور بقیہ لوگ مچھلی اور گوشت دونوں استعمال کئے۔ درج ذیل میں کون سے خاکہ میں صحیح نشاندہی کی گئی۔



91) In the following figure, the boys who are athlets and disciplined are indicated by which number? (The triangle represents girls, the circle athlets, the rectangle boys and the square disciplined).

క్రింది పటములో, క్రమశిక్షణ కల్గిన బాల అథ్లెట్లని ఏ సంఖ్య సూచిస్తుంది? త్రిభుజం బాలికలను, వృత్తం అథ్లెట్లని, దీర్ఘ చతురస్రం బాలురని మరియు చతురస్రం క్రమశిక్షణని సూచిస్తుంది.

درج ذیل شکل میں، لڑکے جو کھیل کود میں حصہ لینے والے یا زیر تربیت کو کن اعداد میں بتایا گیا ہے۔  
(شلت لڑکیوں کی نمائندگی، دائرہ کھلاڑیوں کی، مستطیل لڑکوں کی اور مربع زیر تربیت کی نمائندگی کرتے ہیں)



- (A) 6 (B) 10 (C) 1 (D) 2

92) Arrange the given words in the sequence in which they occur in the dictionary and then choose the correct sequence.

క్రింద యిచ్చిన పదాలను డిక్షనరీ క్రమంలో అమర్చినపుడు వచ్చే సరైన పరంపరని ఎన్నుకోండి.

درج ذیل میں دیئے گئے الفاظ کو لغت کے لحاظ سے آنے والے ترتیب وار درست الفاظ کی نشاندہی کیجئے۔

1. QUALIFY 2. QUARTER  
3. QUARREL 4. QUAVER

- (A) 1, 4, 2, 3 (B) 1, 3, 2, 4  
(C) 1, 3, 4, 2 (D) 1, 4, 3, 2

93) Abhi was born on March 6, 1993. The same year India's Independence day was celebrated on Sunday. On which day was Abhi born?

అభి 6 మార్చి, 1993న జన్మించెను. ఆ సంవత్సరం భారత స్వాతంత్ర్యోత్సవం ఆదివారం నాడు జరుపుకొంటే, అభి ఏ రోజున జన్మించాడు?

- (A) Saturday / శనివారం (B) Friday / శుక్రవారం  
(C) Monday / సోమవారం (D) Sunday / ఆదివారం

ایسے 6 مارچ 1993 کو پیدا ہوا۔ اسی سال اتوار کو یوم آزادی منایا گیا تھا۔ ایسے کی پیدائش کس دن ہوئی۔

- (A) ہفتہ (B) جمعہ (C) بدھ (D) اتوار

94) If A stands for +, B stands for -, C stands for  $\times$ , then the value of  $(10C4)A(4C4)B6$  is \_\_\_\_\_.

A ని + గా, B ని - గా, C ని  $\times$  సూచిస్తే,  $(10C4)A(4C4)B6$  విలువ ఎంత?

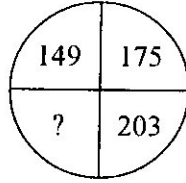
అگر A జో +, B జో -, C జో  $\times$  کی نمائندگی کرتا ہے تو  $(10C4)A(4C4)B6$  کا مجموعہ کتنا ہوگا۔

- (A) 46 (B) 60 (C) 50 (D) 56

95) Find the correct number in place of '?'

క్రింది పటంలో '?' స్థానంలో ఉండాలైన సరయిన సంఖ్య ఏది?

درج ذیل کی شکل میں سوالیہ نشان '?' کی جگہ کو نسا درست عدد آئے گا۔

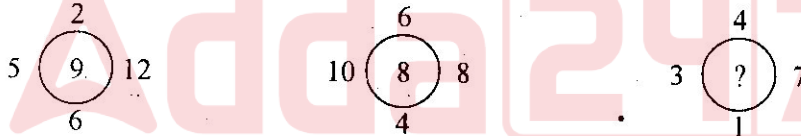


- (A) 233 (B) 213 (C) 208 (D) 223

96) In the following figures, a set of figures carrying certain numbers is given. Assuming that the numbers in each set follow a similar pattern, find the missing number in place of ?

క్రింద యిచ్చిన పటాల్లో, ఒక పటాల జతలో కొన్ని అంకెలు/సంఖ్యలు కలిగి ఉన్నాయి. ఆ రెండు పటాల్లోని అంకెలు/సంఖ్యలు ఒకే లాంటి సంబంధం కలిగి ఉన్నాయనుకొని, ? స్థానంలో ఉండాలైన సంఖ్యని కనుగొనండి.

درج ذیل کی اشکال میں اعداد کے سیٹ دیئے گئے ہیں جو ایک دوسرے سے مماثلت رکھتے ہیں۔ سوالیہ نشان '?' کی جگہ آنے والے صحیح عدد کی نشاندہی کیجئے۔

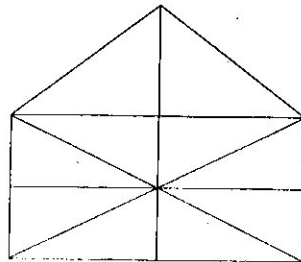


- (A) 8 (B) 5 (C) 7 (D) 6

97) Find the number of triangles in the following figure.

క్రింద యిచ్చిన పటంలో ఎన్ని త్రిభుజాలు ఉన్నాయి?

درج ذیل کی شکل میں کتنے مثلث ہیں نشاندہی کیجئے۔



- (A) 19 (B) 23 (C) 21 (D) 10



98) A cube whose two adjacent faces are coloured is cut into 64 identical small cubes. How many of these small cubes are not coloured at all?

ఒక ఘనము యొక్క రెండు ఆనుకొని ఉన్న ప్రక్కలకు రంగు వేసి, 64 సారూప్యమయిన చిన్న ఘనములుగా కత్తిరించబడినది. వాటిలో అసలు రంగువేయబడని ఘనములు ఎన్ని కలవు?

ایک مکعب کے دونوں متعلقہ سروں پر رنگ کیا گیا اور اس کے 64 برابر حصے کئے گئے۔ مکعب کے کتنے چھوٹے ٹکڑوں پر رنگ نہیں رہے گا۔

- (A) 24 (B) 36 (C) 48 (D) 60

99) At what time between 5:30 and 6 will the hands of a clock be at right angles?

(A)  $43\frac{5}{11}$  minutes past 5 (B) 40 minutes past 5

(C)  $43\frac{7}{11}$  minutes past 5 (D) 45 minutes past 5

5:30 మరియు 6 గంటలకు మధ్య ఎప్పుడు రెండు ముళ్ళ మధ్య లంబకోణం ఉంటుంది?

(A) 5 గంటల  $43\frac{5}{11}$  ని. (B) 5 గంటల 40 ని.

(C) 5 గంటల  $43\frac{7}{11}$  ని. (D) 5 గంటల 45 ని.

5:30 اور 6 بجے کے درمیان گھڑی کے کانٹے کب دائیں زاویہ پر ہوتے ہیں۔

(A) 5 بجے  $43\frac{5}{11}$  منٹ پر (B) 5 بجے 40 منٹ پر

(C) 5 بجے  $43\frac{7}{11}$  منٹ پر (D) 5 بجے 45 منٹ پر

100) As per planning commission of India, which was the fastest growing state during 2006 to 2010.

(A) Kerala (B) Bihar (C) Gujarat (D) Maharashtra

2006-2010ల మధ్య, భారత ప్రణాళిక సంఘం ప్రకారం అత్యంత వేగంగా అభివృద్ధి చెందిన రాష్ట్రం ఏది?

(A) కేరళ (B) బీహార్ (C) గుజరాత్ (D) మహారాష్ట్ర

2006-2010 کے درمیان ہندوستانی پلاننگ کمیشن کے تحت سب سے زیادہ ترقی یافتہ ریاست کونسی ہے۔

(A) کیرالا (B) بہار (C) گجرات (D) مہاراشٹرا

101) Justice Varma committee; constituted in December, 2012 to suggest amendments to Criminal laws related to \_\_\_\_\_.

- (A) Terrorism (B) Corruption  
(C) Domestic Violence (D) Sexual Violence

డిసెంబర్, 2012లో ఏర్పాటు చేయబడిన జస్టిస్ J.S. వర్మ కమిటీ క్రిమినల్ చట్టంలో ఏ అంశానికి సంబంధించి సవరణలను సూచించింది?

- (A) ఉగ్రవాదం (B) లంచగొండితనం  
(C) గృహ హింస (D) లైంగిక హింస

ڈسمبر 2012 کو جسٹس ورما کمیٹی کے تحت دستور میں ترمیم کرتے ہوئے کس جرائم قانون کی سفارش کی گئی۔

- (A) دہشت گردی (B) رشوت ستانی (C) گھریلو تازا (D) جنسی ہراسانی

102) National commission for minorities celebrates Minority Rights Day on which of the following day?

- (A) 18 December (B) 19 December  
(C) 20 December (D) 21 December

జాతీయ మైనారిటీల కమిషన్ మైనారిటీల హక్కుల దినోత్సవాన్ని ఎప్పుడు జరుపుతుంది?

- (A) డిసెంబర్ 18 (B) డిసెంబర్ 19  
(C) డిసెంబర్ 20 (D) డిసెంబర్ 21

”یوم قومی کمیٹی برائے اقلیتی بہبود“ درج ذیل میں کس دن منایا جاتا ہے؟

- (A) 18 ڈسمبر (B) 19 ڈسمبر (C) 20 ڈسمبر (D) 21 ڈسمبر

103) Which of the following countries launched a long-range rocket Unha-3 in December 2012?

- (A) South Korea (B) North Korea  
(C) Japan (D) China

డిసెంబర్ 2012లో Unha-3 అనే లాంగ్ రేంజ్ రాకెట్‌ని ఏ దేశం ప్రయోగించింది?

- (A) దక్షిణ కొరియా (B) ఉత్తర కొరియా  
(C) జపాన్ (D) చైనా

ڈسمبر 2012 میں Unha-3 لانگ رینج راکٹ کس ملک نے داغایا تھا۔

- (A) جنوبی کوریا (B) شمالی کوریا (C) جاپان (D) چین

104) Lionel Messi is identified with, which of the following?

- (A) Swimming (B) Golf  
(C) Foot ball (D) Tennis

లియోనెల్ మెస్సి క్రింది వాటిలో ఏ రంగంలో గుర్తింపు కలిగి ఉన్నాడు?

- (A) స్విమ్మింగ్ (B) గోల్ఫ్  
(C) ఫుట్ బాల్ (D) టెన్నిస్

లియోనెల్ మెస్సి కింద ఇచ్చిన ఆకృతులలో ఏది కలిగి ఉన్నాడు?

- (A) తిరాకి (B) గోల్ఫ్ (C) ఫుట్ బాల్ (D) టెన్నిస్

105) Which of the following states has decided to observe the year 2013 as Information Technology Empowerment year?

- (A) Madhya Pradesh (B) Gujarat  
(C) Tamilnadu (D) Karnataka

క్రింది వాటిలో ఏ రాష్ట్రం 2013 సంవత్సరాన్ని ఇన్ఫర్మేషన్ టెక్నాలజీ స్వావలంబన సంవత్సరంగా పాటించాలని భావిస్తుంది?

- (A) మధ్య ప్రదేశ్ (B) గుజరాత్  
(C) తమిళనాడు (D) కర్ణాటక

2013 సంవత్సరాన్ని ఇన్ఫర్మేషన్ టెక్నాలజీ స్వావలంబన సంవత్సరంగా పాటించాలని భావిస్తుంది.

- (A) మధ్య ప్రదేశ్ (B) గుజరాత్ (C) తమిళనాడు (D) కర్ణాటక

106) Who is the Pakistan's caretaker Prime Minister, appointed till new National Assembly elections to be held in May, 2013?

- (A) Reham Sehari  
(B) Sarfuddin Khan  
(C) Mir Hazar Khan Khoso  
(D) Justice Iftiqar Mohammed Chaudhari

మే 2013లో నూతన అసెంబ్లీ ఎన్నికలు జరిగేవరకు, పాకిస్థాన్ దేశానికి ఆపధర్వ ప్రధాన మంత్రిగా నియమించబడినది ఎవరు?

- (A) రేహమ్ సెహరి  
(B) సర్ఫుద్దీన్ ఖాన్  
(C) మీర్ హజర్ ఖాన్ ఖోసో  
(D) జస్టిస్ ఇఫ్తికర్ మొహమ్మద్ చౌదరీ

మే 2013లో నూతన అసెంబ్లీ ఎన్నికలు జరిగేవరకు, పాకిస్థాన్ దేశానికి ఆపధర్వ ప్రధాన మంత్రిగా నియమించబడినది ఎవరు?

- (A) రేహమ్ సెహరి  
(B) శర్ఫుద్దీన్ ఖాన్  
(C) మీర్ హజర్ ఖాన్ ఖోసో  
(D) జస్టిస్ ఇఫ్తికర్ మొహమ్మద్ చౌదరీ

107) Who is the new BJP president?

- (A) Nitin Gadkari (B)  Rajnath Singh  
(C) Venkaiah Nayudu (D) L.K. Advani

భారతీయ జనతా పార్టీ నూతన అధ్యక్షుడు ఎవరు?

- (A) నితీన్ గడ్కర్ (B) రాజ్ నాథ్ సింగ్  
(C) వెంకయ్య నాయుడు (D) L.K. అధ్వానీ.

بھارتیہ جنتا پارٹی کے نئے صدر کون ہیں؟

- (A) نتن گدکری (B) راجناتھ سنگھ (C) وینکایا نائیڈو (D) ایل۔ کے۔ اڈوانی

108) Who is the new Prime Minister of Japan?

- (A) Yoshio Kama (B) Yoshiko Noda  
(C)  Yasuo Fukuda (D) Shinzo Abe

జపాన్ దేశపు నూతన ప్రధానమంత్రి ఎవరు?

- (A) యోషిో కామా (B) యోశికో నోడా  
(C) యసువో ఫుకుడా (D) శింజో అబె

جاپان کے نئے وزیر اعظم کون ہیں؟

- (A) యోషియాకామా (B) యోషికో నోడా (C) యాసుఫుకుడా (D) శింజో అబె

109) Miss Universe 2012, Oliva Culpo belongs to which of the following countries?

- (A) U.K. (B) China  
(C)  U.S.A. (D) Philipines

2012 మిస్ యూనివర్స్ ఒలివా కల్పో క్రింది వాటిలో ఏ దేశానికి చెందింది?

- (A) యునైటెడ్ కింగ్డమ్ (B) చైనా  
(C) యు.ఎస్.ఎ (D) ఫిలిప్పైన్స్

2012 మిస్ యూనివర్స్ ఒలివా కల్పో క్రింది వాటిలో ఏ దేశానికి చెందింది?

- (A) యు.ఎస్.ఎ (B) చైనా (C) ఫిలిప్పైన్స్ (D) ఫిలిప్పైన్స్

110) Who is the Director of Satish Dhavan space centre, Srihari Kota?

- (A)  K. Radha Krishnan (B) M.Y.S. Prasad  
(C) Kota Harinarayana (D) K. Narayana.

శ్రీహరి కోటలోని సతిష్ ధావన్ స్పేస్ సెంటర్ డైరెక్టరు ఎవరు?

- (A) కె. రాధాకృష్ణన్ (B) M.Y.S. ప్రసాద్  
(C) కోటహరినారాయణ (D) కె. నారాయణ.

सरी हरी कुठ में सतिश दहावन اسپیس سنٹر के डायरेक्टर कौन हैं-

- (A) के. राधाकृष्णन (B) एम. य. एस. प्रसाद  
(C) कोठ हरी नारायण (D) के. नारायण

111) BRICKS summit 2013 was recently held in \_\_\_\_\_.

- (A) Moscow (B) Delhi  
(C) Hong Kong (D) Durban

2013 BRICKS శిఖరాగ్ర సమావేశం ఎక్కడ జరిగింది?

- (A) మాస్కో (B) ఢిల్లీ  
(C) హాంకాంగ్ (D) డర్బన్

BRICKS 2013 కన్ఫరెన్స్ కి ఏ ఊరులో జరిగింది?

- (A) మాస్కో (B) ఢిల్లీ (C) హాంకాంగ్ (D) డర్బన్

112) Who is the Man of the series of recently held Border Gavaskar Trophy 2013?

- (A) Ravichandran Ashwin (B) Ravindra Jadeja  
(C) M.S. Dhoni (D) Prgyan Ojha

ఇటీవల జరిగిన బోర్డర్-గవాస్కర్, 2013 ట్రోఫీలో మ్యాన్ ఆఫ్ ది సిరీస్ ఎవరు?

- (A) రవిచంద్రన్ అశ్విన్ (B) రవీంద్ర జడేజా  
(C) యం.ఎస్. ధోని (D) ప్రగ్యాన్ ఓజా

హాలీడెస్ లో జరిగిన టెస్ట్ సిరీస్ లో మ్యాన్ ఆఫ్ ది సిరీస్ ఎవరు?

- (A) రవిచంద్రన్ అశ్విన్ (B) రవీంద్ర జడేజా  
(C) యం.ఎస్. ధోని (D) ప్రగ్యాన్ ఓజా

113) The Union Budget 2013-14 estimated a total expenditure of \_\_\_\_\_.

- (A) 15.56 trillion rupees (B) 16.65 trillion rupees  
(C) 18.65 trillion rupees (D) 19.26 trillion rupees

2013-14 కేంద్ర బడ్జెట్ మొత్తం ఖర్చుని ఎంతగా అంచనా వేసింది?

- (A) 15.56 ట్రిలియన్ రూపాయలు (B) 16.65 ట్రిలియన్ రూపాయలు  
(C) 18.65 ట్రిలియన్ రూపాయలు (D) 19.26 ట్రిలియన్ రూపాయలు

2013-14 కేంద్ర బడ్జెట్ లో మొత్తం ఖర్చుని ఎంతగా అంచనా వేసింది?

- (A) 15.56 ట్రిలియన్ రూపాయలు (B) 16.65 ట్రిలియన్ రూపాయలు  
(C) 18.65 ట్రిలియన్ రూపాయలు (D) 19.26 ట్రిలియన్ రూపాయలు

114) Zhuang Zedong, who died recently associated with which of the following?

- (A) Shuttle Badminton (B) Billiards  
(C) Swimming (D) Table Tennis

ఇటీవల మరణించిన జువాంగ్ జిడాంగ్ క్రింది వాటిలో ఏదో సంబంధం కలిగి ఉండేవాడు?

- (A) షట్ల బాడ్మింటన్ (B) బిలియర్స్  
(C) స్విమ్మింగ్ (D) టేబుల్ టెన్నిస్

హాలీడెస్ లో జరిగిన టెస్ట్ సిరీస్ లో మ్యాన్ ఆఫ్ ది సిరీస్ ఎవరు?

- (A) షట్ల బాడ్మింటన్ (B) బిలియర్స్ (C) స్విమ్మింగ్ (D) టేబుల్ టెన్నిస్

115) Which of the following were granted the Maharatna Status by the Union Government of India of February 2013?

- (A) BHEL and GAIL (B) ONGC and GAIL  
(C) ONGC and NTPC (D) NTPC and BHEL

ఫిబ్రవరి 2013లో కేంద్ర ప్రభుత్వం చేత మహారత్న స్థాయిని పొందిన కంపెనీలు ఏవి?

- (A) బి.హెచ్.ఇ.ఎల్ మరియు గెయిల్ (B) ఒ.ఎన్.జి.సి మరియు గెయిల్  
(C) ఒ.ఎన్.జి.సి మరియు ఎన్.టి.పి.సి (D) ఎన్.టి.పి.సి మరియు బి.హెచ్.ఇ.ఎల్.

نمبر درى 2013 میں مرکزی حکومت کی جانب درج ذیل میں کن کمپنیوں کو مہارتتا کے اعزاز سے نوازا گیا؟

- (A) بی ایچ ای یل اور کیل (B) او این جی سی اور کیل  
(C) این این جی سی اور این ٹی پی سی (D) این ٹی پی سی اور بی ایچ ای یل

116) Who is appointed as the first Chief Justice of Meghalaya High court in March, 2013?

- (A) Justice Sada Shivam (B) Justice T. Meena Kumari  
(C) Justice Radha Krishnan (D) Justice Rajesh Kumar Agarwal

మార్చి 2013లో మేఘాలయ హైకోర్టు ప్రధాన న్యాయమూర్తిగా ఎవరు నియమితులయ్యారు?

- (A) జస్టిస్ సదాశివం (B) జస్టిస్ టి. మీనాకుమారి  
(C) జస్టిస్ రాధాకృష్ణన్ (D) జస్టిస్ రాజేశ్ కుమార్ అగర్వాల్

مارچ 2013 میں میگھالیہ ہائی کورٹ کے پہلے چیف جسٹس کی حیثیت سے کسے تقرر کیا گیا۔

- (A) جسٹس سدا شیవوم (B) جسٹس ٹی. మీనాకుమారి  
(C) جسٹس రాధాకృష్ణన్ (D) جسٹس రాజేశ్ కుమార్ అగర్వాల

117) When is the International Mother Language day is celebrated?

- (A) February 22 (B) February 24  
(C) February 21 (D) February 28

అంతర్జాతీయ మాతృభాషా దినోత్సవం ఎప్పుడు జరుపుకొంటారు?

- (A) ఫిబ్రవరి, 22 (B) ఫిబ్రవరి, 24  
(C) ఫిబ్రవరి, 21 (D) ఫిబ్రవరి, 28

یوم بین الاقوامی مادری زبان کب منایا جاتا ہے۔ (A) 22 فبروری (B) 24 فبروری (C) 21 فبروری (D) 28 فبروری

118) UN secretary General recently commemorated \_\_\_\_\_ as Malala Day.

- (A) November 05 (B) November 15  
(C) November 20 (D) November 10

ఇటీవల ఐక్యరాజ్య సమితి సెక్రటరీ జనరల్ ఏ రోజుని మలాలా దినంగా ఆచరించారు?

- (A) నవంబర్, 05 (B) నవంబర్, 15  
(C) నవంబర్, 20 (D) నవంబర్, 10

اقوام متحدہ کے جنرل سیکریٹری نے کس دن "یوم ملالہ" منایا۔

- (A) 5 نومبر (B) 15 نومبر (C) 20 نومبر (D) 10 نومبر

119) Light travels fastest through which of the following?

- (A) Air (B) Water  
(C) Diamond (D) Glass

కాంతి దేని గుండా అత్యంత వేగంగా ప్రయాణిస్తుంది?

- (A) గాలి (B) నీరు  
(C) వజ్రం (D) గాజు

روشنی درج ذیل میں کس میں تیز رفتار گزرتی ہے؟

- (A) ہوا (B) پانی (C) ہیرا (D) شیشہ

120) Non stick cooking Utensils are coated with

- (A) Polystyrene (B) Teflon  
(C) PVC (D) Black paint

నాన్ స్టిక్ వంట పాత్రలు ఏ పూత పూయబడి ఉంటాయి?

- (A) పాలిస్టైరేన్ (B) టెఫ్లాన్  
(C) PVC (D) నల్ల పెయింట్

نان اسٹک کو کرکوکس سے کوٹ کیا جاتا ہے؟

- (A) پالسترین (B) ٹفلان (C) پی وی سی (D) بلاك پینٹ

121) The rate of evaporation decreases with \_\_\_\_\_

- (A) increase of temperature (B) increase in humidity  
(C) increase of surface area (D) increase in wind speed

ఆవిరి యొక్క తరుగుదల రేటు దేనిపై ఆధారపడి ఉంది?

- (A) ఉష్ణోగ్రత పెరుగుదల (B) తేమ పెరుగుదల  
(C) ఉపరితల వైశాల్యపు పెరుగుదల (D) గాలి వేగం పెరుగుదల

بخارات کی شرح میں کمی واقع ہونے کی وجہ ہوتی ہے؟

- (A) درجہ حرارت میں اضافہ (B) نمی میں اضافہ  
(C) رقبہ کا اضافہ (D) ہوا کی رفتار میں اضافہ

122) The unit of kinetic energy is same as that of

- (A) Momentum (B) Pressure  
(C) Force (D) Work

గతిజ శక్తి యొక్క ప్రమాణము క్రింది వానిలో దేనిని పోలి ఉంటుంది?

- (A) ప్రచోదనం (B) పీడనము  
(C) బలము (D) పని

متحرک توانائی کی اکائی کس کے مساوی ہوتی ہے؟

- (A) حرکت (B) دباؤ (C) قوت (D) کام

123) Electron volt is a unit of

- (A) Magnetic force (B) Charge  
(C) Energy (D) Potential difference

ఎలక్ట్రాన్ వోల్టు దేనికి ప్రమాణము?

- (A) అయస్కాంత బలము (B) ఆవేశము  
(C) శక్తి (D) పొటెన్షియల్ తేడా

ایکٹران وولٹ کی ایک اکائی ہے؟

- (A) مقناطیسی قوت (B) چارج (C) توانائی (D) ممکنہ فرق

124) The weight of 400 gm stone is

- (A) 3.9 N (B) 0.4 N  
(C) 0.041 N (D) 3920 N

400 గ్రాముల రాయిబరువు ఎంత?

- (A) 3.9 న్యూటన్లు (B) 0.4 న్యూటన్లు  
(C) 0.041 న్యూటన్లు (D) 3920 న్యూటన్లు

400 గ్రాం పتھر کا وزن ہوگا۔

- (A) 3.9 نیوٹن (B) 0.4 نیوٹن (C) 0.041 نیوٹن (D) 3920 نیوٹن

125) The electromagnetic radiations used in RADAR are \_\_\_\_\_

- (A)  $\alpha$  - rays (B) Microwaves  
(C)  $\gamma$  - rays (D) X - rays

రాడార్‌లో వాడే విద్యుదయస్కాంత వికిరణాలు

- (A)  $\alpha$  - కిరణాలు (B) మైక్రోవేవ్స్  
(C)  $\gamma$  - కిరణాలు (D) X - కిరణాలు

برقی مقناطیسی تابکاری کا ریڈار میں استعمال ہوتا ہے۔

- (A)  $\alpha$  کرنیں (B) مائیکروویو (C)  $\gamma$  کرنیں (D) X-کرنیں

126) Centigrade and Fahrenheit scales give same reading at

సెంటిగ్రేడు మరియు ఫారన్‌హీట్ ప్రమాణాలు రెండు ఎన్ని డిగ్రీల దగ్గర ఒకే విలువ కలిగి ఉంటాయి?

سینٹی گریڈ اور فارن ہیتھ کس ڈگری پر یکساں ہوتے ہیں؟

- (A)  $-40^{\circ}$  (B)  $-273^{\circ}$   
(C)  $-100^{\circ}$  (D)  $-32^{\circ}$



127) Tartaric acid is the constituent of

- (A) Washing powder (B) Plaster of pairs  
(C) Bleaching powder (D) Baking powder

టార్టారిక్ ఆమ్లము దేనిలో ముఖ్య భాగము?

- (A) వాషింగ్ పౌడర్ (B) ప్లాస్టర్ ఆఫ్ పౌలీస్  
(C) బ్లీచింగ్ పౌడర్ (D) బేకింగ్ పౌడర్

టార్టారిక్ ఆమ్లము దేనిలో ముఖ్య భాగము? -

- (A) వాషింగ్ పౌడర్ (B) ప్లాస్టర్ ఆఫ్ పౌలీస్  
(C) బ్లీచింగ్ పౌడర్ (D) బేకింగ్ పౌడర్

128) Which of the following is strong acid?

- (A) Citric acid (B) Oxalic acid  
(C) Nitric acid (D) Acetic acid

క్రింది వానిలో ఏది గాఢ ఆమ్లము?

- (A) సిట్రిక్ ఆమ్లము (B) ఆక్సాలిక్ ఆమ్లము  
(C) నైట్రిక్ ఆమ్లము (D) ఎసిటిక్ ఆమ్లము

درج ذیل میں کونسا ایسڈ مضبوط ہے۔

- (A) سائٹرک ایسڈ (B) آکسالک ایسڈ (C) نائٹرک ایسڈ (D) ایسیٹک ایسڈ

129) The National Chemical Laboratory is situated in \_\_\_\_\_.

- (A) Pune (B) Patna  
(C) New Delhi (D) Hyderabad

నేషనల్ కెమికల్ లాబొరేటరీ ఎక్కడ ఉంది?

- (A) పూణే (B) పాట్నా  
(C) ఢిల్లీ (D) హైద్రాబాద్

نیشنل کیمیکل لیبارٹری کہاں واقع ہے۔

- (A) پونے (B) پٹنہ (C) نئی دہلی (D) حیدرآباد

130) Food cans are coated with tin and not with zinc because

- (A) Zinc is less reactive than tin  
(B) Zinc is costlier than tin  
(C) Zinc has a higher melting point than tin  
(D) Zinc is more reactive than tin

ఆహారపు పాత్రలకు తగరంతో పూత పూస్తారు కాని జింకుతో కాదు, ఎందుకంటే

- (A) జింకు, తగరం కంటే తక్కువ ప్రతిస్పందన కలిగి ఉండటం వలన  
(B) జింకు తగరం కంటే ఖరీదైనది కనుక  
(C) జింకు, తగరం కంటే ఎక్కువ మెల్టింగ్ పాయింట్ కలిగి ఉండటం వలన  
(D) జింకు, తగరం కంటే ఎక్కువ ప్రతిస్పందన కలిగి ఉండటం వలన

غذائی کین کوٹن سے لہیت کرتے ہیں زنک سے نہیں اس کی وجہ :

- (A) زنک ٹن سے کم رد عمل کی ہے  
(B) زنک ٹن سے زیادہ مہنگا ہے  
(C) زنک ٹن کے مقابلے میں اعلیٰ گھلنے کا نقطہ ہے  
(D) زنک ٹن سے زیادہ رد عمل ہے



135) Who won the Nobel prize for his work on photosynthesis?

- (A) Melvin Calvin (B) M.D. Hatch (C) D.I. Arnon (D) F. Burnell

కిరణ జన్య సంయోగ క్రియపై చేసిన పరిశోధనకు నోబెల్ బహుమతి పొందిన వారెవరు?

- (A) మెల్విన్ కాల్వీన్ (B) M.D. హాచ్ (C) D.I. ఆర్నాన్ (D) F. బర్నెల్

ఫోటోసాన్తేసిస్ ప్రకాశం కోసం గెట్టిన నోబెల్ బహుమతి గెట్టిన వారు?

- (A) మెల్విన్ కాల్వీన్ (B) M.D. హాచ్ (C) D.I. ఆర్నాన్ (D) F. బర్నెల్

136) A compound that is quickly absorbed through the walls of the stomach is \_\_\_\_\_

- (A) Fat (B) Protein (C) Sugar (D) Alcohol

ఏ మిశ్రమం త్వరగా కడుపు గోడలలోకి ఇంకి పోతుంది?

- (A) కొవ్వు (B) ప్రోటీన్ (C) చక్కెర (D) ఆల్కహాల్

కొవ్వు, ప్రోటీన్, చక్కెర, ఆల్కహాల్ లో ఏది త్వరగా కడుపు గోడలలోకి ఇంకి పోతుంది?

- (A) కొవ్వు (B) ప్రోటీన్ (C) చక్కెర (D) ఆల్కహాల్

137) What is the smallest of the White Blood Cells?

- (A) Eosinophils (B) Basophils (C) Lymphocytes (D) Monocytes

తెల్ల రక్త కణాల యొక్క అతి చిన్న భాగం ఏది?

- (A) ఇనోసిఫిల్లు (B) బాసోఫిల్లు (C) లింఫోసైట్లు (D) మోనోసైట్లు

తెల్ల రక్త కణాల యొక్క అతి చిన్న భాగం ఏది?

- (A) ఇనోసిఫిల్లు (B) బాసోఫిల్లు (C) లింఫోసైట్లు (D) మోనోసైట్లు

138) Which hormone controls the levels of Calcium and Phosphate in the blood and bone?

- (A) Glucagon (B) Parathormone (C) Cortisol (D) Aldosterone

రక్తంలో మరియు ఎముకలో కాల్షియం మరియు ఫాస్ఫేట్ల స్థాయిని ఏ హార్మోన్ నియంత్రిస్తుంది?

- (A) గ్లూకాగాన్ (B) పారాథైరొమోన్ (C) కార్టిసోల్ (D) ఆల్డోస్టెరోన్

రక్తంలో మరియు ఎముకలో కాల్షియం మరియు ఫాస్ఫేట్ల స్థాయిని ఏ హార్మోన్ నియంత్రిస్తుంది?

- (A) గ్లూకాగాన్ (B) పారాథైరొమోన్ (C) కార్టిసోల్ (D) ఆల్డోస్టెరోన్

139) Child marriage Restraint Act was first time introduced in India in the year \_\_\_\_\_

భారతదేశంలో బాల్య వివాహాల నిరోధక చట్టం మొట్టమొదటిసారిగా ఏ సంవత్సరంలో ప్రవేశపెట్టబడింది?

భారతదేశంలో బాల్య వివాహాల నిరోధక చట్టం మొట్టమొదటిసారిగా ఏ సంవత్సరంలో ప్రవేశపెట్టబడింది?

- (A) 1955 (B) 1956 (C) 1929 (D) 1976

140) Which of the following viruses is responsible for Mumps?

- (A) Como virus (B) Klamath virus  
(C) Paramyxo virus (D) Botrtis virus

క్రింది వాటిలో ఏ వైరస్‌లు గవద బిళ్ళలకు కారణం?

- (A) కోమో వైరస్ (B) క్లామాత్ వైరస్  
(C) పారామిక్సో వైరస్ (D) బోట్రిటిస్ వైరస్

درج ذیل میں کس وائرس سے غدود کا مرض لاگو ہوتا ہے؟

- (A) کو مو وائرس (B) کلاما تھ وائرس (C) پیرا میکسو وائرس (D) بوٹریٹس وائرس

141) Who invented Rabies vaccine?

- (A) Gail Borden (B) Benjamin Franklin  
(C) Alexander Fleming (D) Louis Pasteur

రేబీస్ వ్యాక్సిన్‌ను ఎవరు కనుగొన్నారు?

- (A) గెయిల్ బోర్డెన్ (B) బెంజమిన్ ఫ్రాంక్లిన్  
(C) అలెగ్జాండర్ ఫ్లెమింగ్ (D) లూయిస్ పాస్టర్

راہیں ٹیکہ کا موجد کون ہے؟

- (A) گیل بورڈن (B) بنجامن فرانکلین (C) ایلکونڈر فلیمنگ (D) لوئیس پاسٹیر

142) Which of the following are known as Protective Foods?

- (A) Vitamins (B) Proteins  
(C) Mineral salts (D) Carbohydrates

రక్షిత ఆహార పదార్థాలు అని క్రింది వాటిలో వేటిని అంటారు?

- (A) విటమిన్లు (B) ప్రొటీన్లు  
(C) మినరల్ సాల్ట్స్ (D) కార్బోహైడ్రేట్లు

درج ذیل میں کونسی حفاظتی کھانے کی اشیاء کہلاتی ہے؟

- (A) وٹامن (B) پروٹین (C) معدنی نمک (D) کاربوہائیڈریٹ

143) Quartz is chemically which one of the following?

- (A) Calcium silicate (B) Silicon oxide  
(C) Sodium sulphate (D) Calcium sulphate

రసాయనికంగా క్వార్ట్జ్ అనేది క్రింది వానిలో ఏది?

- (A) కాల్షియం సిలికేట్ (B) సిలికాన్ ఆక్సైడ్  
(C) సోడియం సల్ఫేట్ (D) కాల్షియం సల్ఫేట్

کیمیائی کو ارتز درج ذیل میں کونسا ہے؟

- (A) کیلشیم سیلیکیٹ (B) سیلیکان آکسائیڈ (C) سوڈیم سلفیٹ (D) کیلشیم سلفیٹ



150) The Paithan (Jayakwadi) Hydro-electric project completed with the help of Japan is on the river \_\_\_\_\_.

- (A) Ganga (B) Godavari (C) Narmada (D) Cauvery

జపాన్ సహాయంతో పూర్తి చేయబడిన పైథాన్ (జయక్వాడి) జల విద్యుత్ ప్రాజెక్టు ఏ నదిపై ఉంది?

- (A) గంగ (B) గోదావరి (C) నర్మద (D) కావేరి

జపాన్ కి मदद سے مکمل ہونے والا پائتھان (جیاک واڈی) ہائیڈرو الیکٹرک پراجیکٹ کس ندی پر بنایا گیا۔

- (A) گنگا (B) گوداوری (C) نرمدا (D) کավیری

151) What is the increase in the percent of population of India from 2001 to 2011 census?

2011 జనాభా లెక్కల ప్రకారం, భారత దేశ జనాభా ఎంత శాతం పెరిగింది? (2001 జనాభాతో పోల్చినపుడు).

2001-2011 اعداد و شمار کے مطابق ہندوستان کی آبادی میں کتنے فیصد اضافہ ہوا۔

- (A) 17.19 (B) 16.64 (C) 18.12 (D) 17.64

152) Which of the following crops needs maximum water per hectare?

- (A) Sugar cane (B) Wheat (C) Maize (D) Barley

క్రింది వాటిలో ఏ పంటకు, ఒక హెక్టారుకు ఎక్కువ నీరు అవసరం?

- (A) చెఱుకు (B) గోధుమ (C) మొక్కజొన్న (D) బార్లీ

درج ذیل کی کس فصل کیلئے فی ہیکٹر زیادہ سے زیادہ پانی کی ضرورت ہوتی ہے؟

- (A) شکر (B) گیہوں (C) گہنی (D) جوار

153) What is blue revolution?

- (A) Commercial crop production (B) Blue drug production  
(C) Blue metal production (D) Fish production

నీలి విప్లవం అంటే ఏమిటి?

- (A) వాణిజ్య పంటల ఉత్పత్తి (B) నీలి మందుల ఉత్పత్తి  
(C) నీలి లోహ ఉత్పత్తి (D) చేపల ఉత్పత్తి

نیلا انقلاب کیا ہے؟

- (A) تجارتی فصل کی پیداوار (B) نیلے رنگ کے نشیات کی پیداوار  
(C) نیلے رنگ کی دھات کی پیداوار (D) مچھلی کی پیداوار

154) Indian railways factory - Diesel Component Works (DCW) is located at \_\_\_\_\_

- (A) Perambur (B) Patiala (C) Varanasi (D) Kapurthala

భారత రైల్వే కర్మాగారము - డీజిల్ భాగాల విభాగము (DCW) ఎక్కడ ఉంది?

- (A) పెరంబూరు (B) పాటియాల (C) వారణాసి (D) కపూర్థల

انڈین ریلوے فیکٹری - ڈیزل اجزاء کا کام کہاں واقع ہے؟

- (A) کپور تھلا (B) پٹیالہ (C) واراناسی (D) کپور تھلا

155) When did constituent Assembly adopt Indian National Flag?

- (A) 22<sup>nd</sup> October, 1947 (B) 22<sup>nd</sup> June, 1947  
(C) 22<sup>nd</sup> July, 1947 (D) 22<sup>nd</sup> January, 1947

భారత జాతీయ పతాకాన్ని రాజ్యాంగ పరిషత్తు ఎప్పుడు ఆమోదించింది?

- (A) అక్టోబర్ 22, 1947 (B) జూన్ 22, 1947  
(C) జూలై 22, 1947 (D) జనవరి 22, 1947

دستور ساز اسمبلی نے ہندوستانی قومی پرچم کو کب اپنایا۔

- 1947 جی 22 (D) 1947 جی 22 (C) 1947 جی 22 (B) 1947 جی 22 (A)

156) According to Indian constitution, how many kinds of emergencies are there?

భారత రాజ్యాంగ ప్రకారం ఎన్ని రకాల ఎమర్జెన్సీలు ఉన్నాయి?

- (A) Three / మూడు (B) Two / రెండు  
(C) Four / నాలుగు (D) Five / ఐదు

ہندوستانی آئین کے مطابق کتنے اقسام کے ہنگامی حالات ہیں۔

- تین (A) دو (B) چار (C) پانچ (D)

157) What is dealt within the Part IV of Indian constitution?

- (A) Directive principles of state policy  
(B) Fundamental Rights  
(C) Citizenship  
(D) Fundamental duties

భారత రాజ్యాంగంలో నాలుగవ భాగం దేనికి సంబంధించింది?

- (A) రాష్ట్ర విధానాల ఆదేశిక సూత్రాలు (B) ప్రాథమిక హక్కులు  
(C) పౌరసత్వం (D) ప్రాథమిక విధులు

دستور ہند کا چوتھا باب کس سے متعلق ہے؟

- (A) ریاستی پالیسی کے رہنمائی اصول (B) بنیادی حقوق  
(C) شہریت (D) بنیادی فرائض

158) Who was the first chairman of the Planning Commission?

- (A) B.R. Ambedkar (B) K.C. Pant  
(C) Chakravarti (D) Jawaharlal Nehru

ప్రణాళిక సంఘ ప్రథమ అధ్యక్షుడెవరు?

- (A) బి.ఆర్. అంబేద్కర్ (B) కె.సి. పంత్  
(C) చక్రవర్తి (D) జవహర్‌లాల్ నెహ్రూ

پلاننگ کمیشن کے سب سے پہلے چیرمین کون تھے؟

- (A) بی آر امبیڈکر (B) کے سی پنٹھ (C) چکر اورتی (D) جواہر لال نہرو

159) Who was the president of India when National Emergency was declared in 1975?

- (A) V.V. Giri (B) Neelam Sanjeeva Reddy  
(C) Fakhruddin Ali Ahmed (D) Gyani Zail Singh

1975లో జాతీయ అత్యయిక స్థితి (ఎమర్జెన్సీ)ని ప్రకటించినపుడు భారత రాష్ట్రపతి ఎవరు?

- (A) వి.వి. గిరి (B) నీలం సంజీవ రెడ్డి  
(C) ఫక్రుద్దీన్ అలీ అహ్మద్ (D) జ్ఞాని జైల్ సింగ్

1975ء میں ایمر جنسی کے وقت ہندوستان کے صدر کون تھے؟

- (A) وی وی گری (B) نیلم سنجیواریڈی (C) فخرالدین علی احمد (D) گیانی زیل سنگھ

160) Which of the following events compelled Gandhiji to launch the Civil Disobedience Movement?

- (A) Jalianwala Bagh massacre (B) Rowlatt Act  
(C) Chauri Chaura incident (D) None of these

గాంధీ సహాయ నిరాకరణ ఉద్యమాన్ని ప్రారంభించడానికి ఏ ఘటన బలంగా దోహదపడింది?

- (A) జలియన్ వాలా భాగ్ జనసంహారం (B) రౌలట్ చట్టం  
(C) చౌరీ చౌర సంఘటన (D) ఏదీకాదు

گاندھی جی کس واقعہ کے بعد سیول نافرمانی تحریک چلانے پر مجبور ہو گئے؟

- (A) جیلان والا باغ قتل عام (B) رولٹ ایکٹ

- (C) چوری چورہ واقعہ (D) ان میں سے کوئی نہیں

161) Which Article of Indian Constitution forbids Child labour?

భారత రాజ్యాంగంలోని ఎన్నో ఆర్టికల్ బాలకాల్ కులని నిషేధించింది?

دستور ہند کے کس آرٹیکل کے تحت بچہ مزدوری پر پابندی عائد کی گئی۔

- (A) 28 (B) 36 (C) 24 (D) 18

162) The tenure of the Rajya Sabha member is

- (A) 2 Years (B) Permanent (C) 5 Years (D) 6 Years

రాజ్యసభ సభ్యుని పదవీకాలం ఎంత?

- (A) 2 సంవత్సరాలు (B) శాశ్వతం (C) 5 సంవత్సరాలు (D) 6 సంవత్సరాలు

راجیہ سبھا رکن کی میعاد کتنی ہوتی ہے۔

- (A) 2 سال (B) مستقل (C) 5 سال (D) 6 سال

163) The term 'democracy' is derived from which of the following languages?

- (A) Greek (B) French (C) German (D) Spanish

'డెమోక్రసీ' అనే పదం ఏ భాష నుండి సంగ్రహించబడింది?

- (A) గ్రీకు (B) ఫ్రెంచి (C) జర్మన్ (D) స్పానిష్

”ڈیموکریسی“ کی اصطلاح کس زبان سے لی گئی ہے۔

- (A) یونان (B) فرنگ (C) جرمن (D) اسپینی



164) According to census-2011, what is the literacy percent among women in Andhra Pradesh?

2011 జనాభా లెక్కల ప్రకారం ఆంధ్రప్రదేశ్‌లో మహిళా అక్షరాస్యత శాతం ఎంత?

2011 کی مردم شماری کے تحت آندھرا پردیش میں خواتین کی شرح خواندگی کا فیصد کتنا ہے۔

- (A) 67.66 (B) 59.74 (C) 57.56 (D) 63.38

165) Brahmaputra enters India first at \_\_\_\_\_.

- (A) Arunachal pradesh (B) Tripura  
(C) Assam (D) Meghalaya

భారతదేశంలోకి బ్రహ్మపుత్ర మొట్టమొదట ఎక్కడ ప్రవేశిస్తుంది?

- (A) అరుణాచల్ ప్రదేశ్ (B) త్రిపుర  
(C) అస్సాం (D) మేఘాలయ

برہما پتر ہندوستان میں سب سے پہلے کہاں داخل ہوئے؟

- (A) اروناچل پردیش (B) تریپورہ (C) آسام (D) میگھالیہ

166) The Eastern Ghats and the Western Ghats meet at \_\_\_\_\_.

- (A) Vindhya Hills (B) Sahyadri Hills  
(C) Aravali Hills (D) Niligiri Hills

తూర్పు కనుమలు, పశ్చిమ కనుమలు ఎక్కడ కలుస్తాయి?

- (A) వింధ్య పర్వతాలు (B) సహ్యాద్రి పర్వతాలు  
(C) ఆరావళి పర్వతాలు (D) నీలగిరి పర్వతాలు

مشرقی گھاٹ اور مغربی گھاٹ کہاں پر ملتے ہیں۔

- (A) ہندیا پہاڑیاں (B) سہیاادری پہاڑیاں (C) اروالی پہاڑیاں (D) نیلگیری پہاڑیاں

167) Indirasagar dam is built on which of the following rivers?

- (A) Mahanadi (B) Chambal  
(C) Narmada (D) Yamuna

ఇందిరానగర్ ఆనకట్ట క్రింది వాటిలో ఏ నది పై కట్టబడింది?

- (A) మహానది (B) చంబల్  
(C) నర్మద (D) యమున

اندراساگر ڈیم کس ندی پر بنایا گیا؟

- (A) مہاندی (B) جمبل (C) نرمدا (D) ینا

168) When was Reserve Bank of India was established?

రిజర్వ్ బ్యాంకు ఆఫ్ ఇండియా ఎప్పుడు స్థాపించబడింది?

ریزرو بینک آف انڈیا کا قیام کب عمل میں آیا؟

- (A) 1934 (B) 1935  
(C) 1937 (D) 1950

169) Who is known as the father of Indian Civil aviation?

- (A) J.R.D Tata (B) Abdul Kalam  
(C) Vikram Sarabhai (D) Satish Dhawan

భారత పౌర విమానయాన పితామహుడిగా పేరు పొందిన వారెవరు?

- (A) J.R.D టాటా (B) అబ్దుల్ కలామ్  
(C) విక్రమ్ సారాభాయి (D) సతీష్ ధావన్

ہندوستانی شہری ہوا بازی کا باوا آدم کے کہتے ہیں؟

- (A) جے آر ڈی ٹاٹا (B) عبدالکلام (C) وکرم سارا بھائی (D) ستیش دھاوان

170) National Sample Survey Organisation (NSSO) was established in \_\_\_\_\_.

నేషనల్ సాంపిల్ సర్వే ఆర్గనైజేషన్ (NSSO) ఎప్పుడు స్థాపించబడింది?

نیشنل سیمپل سرورے آرگنائزیشن (NSSO) کا قیام کب عمل میں آیا۔

- (A) 1950 (B) 1951 (C) 1949 (D) 1952

171) The Tenth Five year plan period started from \_\_\_\_\_.

పదవ పంచవర్ష ప్రణాళిక ఏ సంవత్సరంలో ప్రారంభించబడింది?

دسواں پانچسالہ منصوبہ کب شروع ہوا۔

- (A) 1992 (B) 2002 (C) 1997 (D) 2007

172) The Pallavas ruled from \_\_\_\_\_.

- (A) Madurai (B) Tiruchendur (C) Tanjore (D) Kanchipuram

పల్లవులు ఎక్కడ నుండి పరిపాలించారు?

- (A) మధురై (B) తిరుచెండూర్ (C) తంజావూరు (D) కాంచీపురం

پلوؤوں نے کہاں سے حکمرانی شروع کی۔

- (A) مدورائی (B) تری چندور (C) تھور (D) کانچی پورم

173) Sri Krishna Devaraya maintained friendly relations with the \_\_\_\_\_.

- (A) British (B) Dutch (C) Portuguese (D) French

శ్రీ కృష్ణ దేవరాయలు ఎవరితో స్నేహ సంబంధాలు కొనసాగించాడు?

- (A) బ్రిటీష్ (B) డచ్ (C) పోర్చుగీసు (D) ఫ్రెంచి

سری کرشنادیوارائے نے کس سے دوستانہ تعلقات قائم کئے تھے؟

- (A) برٹش (B) ڈچ (C) پورٹوگیزی (D) فرانس

174) Indian Classical Dance has been popularised abroad by \_\_\_\_\_.

- (A) Gopi Krishna (B) Uday Shankar  
(C) Yamini Krishna Murthy (D) Malaika Arora

భారత శాస్త్రీయ నృత్యానికి విదేశాల్లో ప్రాచుర్యం కల్పించిన వారెవరు?

- (A) గోపీకృష్ణ (B) ఉదయ్ శంకర్  
(C) యామిని కృష్ణ మూర్తి (D) మలైకా అరోరా

ہندوستانی کلاسیکل ڈانس کو بیرون ملک میں کس نے شہرت دلائی؟

- (A) گوپی کرشنا (B) اودے شکر (C) یامینی کرشنامورتی (D) ملکہ اورو

175) Who was the first Indian to be selected to the British Parliament?

- (A) Lala Lajpat Rai (B) Bipin Chandrapal  
(C) Dadabhai Naoroji (D) G.K. Gokhale

బ్రిటీష్ పార్లమెంట్ కు ఎంపిక చేయబడ్డ మొట్టమొదటి భారతీయుడెవరు?

- (A) లాలా లజపత్ రాయ్ (B) బిపిన్ చంద్రపాల్  
(C) దాదాభాయి నారోజి (D) G.K. గోఖలే

برٹش پارلیمنٹ میں ایم پی کی حیثیت سے منتخب ہونے والے سب سے پہلے ہندوستانی کون ہیں؟

- (A) لالہ لچپت رائے (B) بیپن چندر پال (C) دادا بھائی نوروجی (D) جی کے گوکھلے

176) Who among the following drafted the resolution of fundamental rights for the Karachi session of Congress in 1931?

- (A) Sardar Patel (B) Dr. B.R. Ambedkar  
(C) Jawaharlal Nehru (D) Dr. Rajendra Prasad

1931లో కాంగ్రెస్ యొక్క కరాచీ సమావేశంలో ప్రాథమిక హక్కుల తీర్మానపు ముసాయిదాని తయారు చేసిన వారెవరు?

- (A) సర్దార్ పటేల్ (B) డా. బి.ఆర్. అంబేద్కర్  
(C) జవహర్ లాల్ నెహ్రూ (D) డా. రాజేంద్రప్రసాద్

1931ء میں کانگریس کے کراچی سیشن میں بنیادی حقوق کی قرارداد کو جس نے تیار کیا۔

- (A) سردار پٹیل (B) ڈاکٹر بی آر امبےڈکر (C) جواہر لال نہرو (D) ڈاکٹر راجندر پراساد

177) Who was the founder of "Chola Dynasty"?

- (A) Rajendra-I (B) Dantidurg (C) Balban (D) Vijayalaya

చోళ వంశాన్ని స్థాపించిన వారెవరు?

- (A) రాజేంద్ర - I (B) దంతిదుర్గ్ (C) బాల్బన్ (D) విజయలయ

چاولا خاندان کا بانی کون تھا۔

- (A) راجندر اول (B) دنتی درگ (C) بلین (D) وچالیا

178) Who brought Islam first time to India?

- (A) Khaljis (B) Slave rulers (C) Arabs (D) Turks

ఇస్లాంని భారతదేశానికి మొదటిసారిగా తీసుకొచ్చిన వారెవరు?

- (A) ఖిల్జీ (B) బానిస పాలకులు (C) అరబ్బులు (D) తుర్కులు

اسلام، ہندوستان میں سب سے پہلے کس نے لایا۔

179) The title of 'Viceroy' was added to the office of the Governor General of India for the first time in \_\_\_\_\_.

భారత గవర్నర్ జనరల్ యొక్క ఆఫీసుకు మొదటిసారిగా వైస్రాయి అన్న పదాన్ని ఎప్పుడు జత చేశారు?

ہندوستانی گورنر جنرل کے دفتر پر "وائسرائے" کا خطاب سب سے پہلے کب لاگو ہوا۔

- (A) 1848 (B) 1858 (C) 1856 (D) 1862

180) The most common crime mentioned in Rigveda was

- (A) Cattle-Lifting (B) Kidnapping (C) Murder (D) Rape

రుగ్వేదంలో అత్యంత సాధారణమయిన నేరంగా పేర్కొనబడినది ఏది?

- (A) పశువులను దొంగిలించడం (B) కిడ్నాపు  
(C) హత్య (D) మానభంగం - رگ وید میں سب سے عام جرم کونسا بتایا گیا۔

- (A) مویشی اٹھالینا (B) اغواء (C) قتل (D) عصمت دری

181) Tipu Sultan was the ruler of \_\_\_\_\_

- (A) Madurai (B) Vijayanagar (C) Hyderabad (D) Mysore

టిప్ప సుల్తాను దేనిని పరిపాలించాడు?

- (A) మధురై (B) విజయనగర్ (C) హైదరాబాద్ (D) మైసూర్  
ٹیپو سلطان کہاں کا حکمران تھا۔

- (A) مدورائی (B) وجیانگر (C) حیدرآباد (D) میسور

182) Tulasidas, the author of Ramcharit manas, was a contemporary of which of the following rulers?

- (A) Akbar (B) Shajahan (C) Humayun (D) Sher Shah Suri

రామచరిత మానస్ ని రచించిన తులసీదాసు క్రిందివారిలో ఎవరి సమకాలీకుడు?

- (A) అక్బర్ (B) షాజహాన్ (C) హుమాయున్ (D) షేర్ షా సూరీ  
رامچھتر اماناس کے مصنف تھی داس کس کے عہد میں تھے۔

- (A) اکبر (B) شاجہاں (C) ہمایوں (D) شیرشاہ سوری

183) Hazara Ramaswamy, Vitala swamy temples were built by \_\_\_\_\_

- (A) Prataparudra Deva (B) Ravi Varma - I  
(C) Sri Krishna Devaraya (D) Chattrapati Shivaji

హజరా రామస్వామి, విఠలస్వామి ఆలయాలు ఎవరి చేత నిర్మించబడ్డాయి?

- (A) ప్రతాపరుద్ర దేవుడు (B) రవివర్మ - I  
(C) శ్రీ కృష్ణ దేవరాయలు (D) ఛత్రపతి శివాజి  
ہزار راماسوامی، وٹھالاسوامی منادر کس نے تعمیر کروایا۔

- (A) پرتاپ رورادویا (B) روی رما - اول (C) سری کرشنا دیواراے (D) چتراپتی شیواجی

184) Ramakrishna mission was founded by \_\_\_\_\_.

- (A) Rama Krishna Parmahamsa (B) Swami Virajananda  
(C) Swami Shivananda (D) Swami Vivekananda

రామకృష్ణ మిషన్‌ని ఎవరు స్థాపించారు?

- (A) రామకృష్ణ పరమహంస (B) స్వామి విరాజనంద  
(C) స్వామి శివానంద (D) స్వామి వివేకానంద

రామకృష్ణ మిషన్‌కి బినిాద కస్‌నే డాలి -

- (A) రామకృష్ణ పరమహంస (B) స్వామి విరాజనంద (C) స్వామి శివానంద (D) స్వామి వివేకానంద

185) Which of the following Arts got inspiration from Jain religion?

- (A) Gandhara (B) Mathura (C) Sunga (D) None of these

జైన మతం నుండి ప్రేరణ పొందిన కళ ఏది?

- (A) గాంధార (B) మథుర (C) సుంగ (D) ఏదీకాదు

జైన మతం నుండి ప్రేరణ పొందిన కళ ఏది?

- (A) గాంధార (B) మథుర (C) సుంగ (D) ఏదీకాదు

186) Sisir Kumar Ghosh was the editor of \_\_\_\_\_.

- (A) Anand Bazar Pathrika (B) Amruth Bazar Pathrika  
(C) Gana Shakti (D) Bartaman Pathrika

సిసిర్ కుమార్ ఘోష్ ఏ పత్రికకు సంపాదకుడు?

- (A) ఆనంద్ బజార్ పత్రిక (B) అమృత బజార్ పత్రిక  
(C) గణశక్తి (D) బర్తమాన్ పత్రిక

సిసిర్ కుమార్ ఘోష్ ఏ పత్రికకు సంపాదకుడు?

- (A) ఆనంద్ బజార్ పత్రిక (B) అమృత బజార్ పత్రిక (C) గణశక్తి (D) బర్తమాన్ పత్రిక

187) The partition of Bengal was made in 1905 by \_\_\_\_\_.

- (A) Lord Curzon (B) Charles Canning  
(C) Lord Chelmsford (D) Charles Hardinge

1905వ సంవత్సరంలో బెంగాల్ విభజన ఎవరు చేశారు?

- (A) లార్డ్ కర్జన్ (B) చార్లెస్ కానింగ్ (C) లార్డ్ చెల్మ్స్‌ఫోర్డ్ (D) చార్లెస్ హార్డింగ్

1905ء میں بنگال کی تقسیم کس نے کی -

- (A) లార్డ్ కర్జన్ (B) చార్లెస్ కానింగ్ (C) లార్డ్ చెల్మ్స్‌ఫోర్డ్ (D) చార్లెస్ హార్డింగ్

188) Vasco da Gama belonged to which of the following countries?

- (A) Italy (B) Finland (C) Portugal (D) Poland

వాస్కో డ గామా ఏ దేశస్థుడు?

- (A) ఇటలీ (B) ఫిన్లాండ్ (C) పోర్చుగల్ (D) పోలాండ్

వాస్కో డ గామా ఏ దేశస్థుడు?

- (A) ఇటలీ (B) ఫిన్లాండ్ (C) పోర్చుగల్ (D) పోలాండ్

189) Jaliyanwala Bagh was in \_\_\_\_\_.

- (A) Jalandhar (B) Ludhiana (C) Patiala (D) Amritsar

జలియన్‌వాలాబాగ్ ఏ నగరంలో ఉండేది?

- (A) జలంధర్ (B) లూథియానా (C) పాటియాలా (D) అమృత్‌సర్

جلیان والا باغ کس شہر میں تھا؟

- (A) جالندھر (B) لدھیانہ (C) پٹیالہ (D) امرتسر

190) On which occasion the slogan 'Nagpur Chalo' was raised?

- (A) Non cooperation movement (B) Quit India movement  
(C) Dandi March (D) Jhanda Satyagrah

'నాగ్‌పూర్ చలో' అనే నినాదం ఏ సందర్భంలో ఇవ్వబడింది?

- (A) సహాయ నిరాకరణ ఉద్యమం (B) క్వీట్ ఇండియా ఉద్యమం  
(C) దండి మార్చ్ (D) జండా సత్యాగ్రహము

'నాగ్‌పూర్ చలో' కాన్ఫరెన్స్‌లో ప్రతిపాదించబడింది?

- (A) తిరిగి ఏకీకరణ (B) హిందూస్తాన్‌లో ఘోషించబడింది  
(C) దండి మార్చ్ (D) జండా సత్యాగ్రహము

191) Who was elected as the permanent president of the Muslim League in 1908?

- (A) Aga Khan (B) Nawab Salimullah  
(C) Syed Ahmad Khan (D) Syed Amir Ali

1908వ సంవత్సరంలో ముస్లిం లీగ్ యొక్క శాశ్వత అధ్యక్షుడిగా ఎన్నుకోబడినవారు?

- (A) ఆగా ఖాన్ (B) నవాబ్ సలీముల్లా  
(C) సయ్యద్ అహ్మద్ ఖాన్ (D) సయ్యద్ అమీర్ ఆలీ

1908ء میں مسلم لیگ کے مستقل صدر کون منتخب ہوئے؟

- (A) آغا خان (B) نواب سلیم اللہ (C) سید احمد خان (D) سید امیر علی

192) Who authored "Unhappy India"?

- (A) Dadabhai Naoroji (B) Lala Lajpat Rai  
(C) Surendranath Bannerji (D) Bal Gangadhar Tilak

"అన్ హ్యాపీ ఇండియా" ని ఎవరు రచించారు?

- (A) దాదాభాయి నారోజీ (B) లాలా లజపత్ రాయ్  
(C) సురేంద్రనాథ్ బెనర్జీ (D) బాల గంగాధర తిలక్

"అన్ హ్యాపీ ఇండియా" కే مصنف کون ہیں؟

- (A) دادا بھائی نوروجی (B) لالہ لچپت رائے (C) سریندر ناتھ بنرجی (D) بال گنگادھر تلک

193) What is the approximate Muslim population in India? (As per 2011 census)

సుమారుగా భారతదేశంలో ముస్లిం జనాభా ఎంత శాతం ఉంది?

2011 అధికార గణాంకాల ప్రకారం భారతదేశంలో ముస్లిం జనాభా ఎంత శాతం ఉంది?

- (A) 8% - 10% (B) 10% - 12%  
(C) 13% - 15% (D) 16% - 18%

194) What was the capital of Vishnu Kundins?

- (A) Undavalli (B) Mogalraja puram  
(C) Srisailam (D) Denduluru

విష్ణు కుండినుల రాజధాని ఏది?

- (A) ఉండవల్లి (B) మొగలరాజపురం  
(C) శ్రీశైలం (D) దెందులూరు

وشتو کندن کا دار الحکومت کونسا تھا۔

- (A) اوداولی (B) مغل راجا پورم (C) سری سلیم (D) دیندوتور

195) Under whose reeling Marco polo visited Motupalli?

- (A) Beta Raju (B) Rudrama Devi  
(C) Prola Raju (D) Ganapati Deva

ఎవరి పాలనా కాలంలో మార్కోపోలో మోటుపల్లిని సందర్శించాడు?

- (A) బేతరాజు (B) రుద్రమదేవి  
(C) ప్రోలరాజు (D) గణపతి దేవుడు

کس کے دور حکومت میں مارکو پولو نے موٹاپلی کا دورہ کیا تھا۔

- (A) بازار (B) رودمادیوی (C) پرولاراج (D) کھتی دیوا

196) Who authored Pakudurallu novel?

- (A) Rayaprolu Subba Rao (B) Devulapalli Krishna Sastry  
(C) Kattamanchi RamaLinga Reddy (D) Ravuri Bharadwaja

పాకుడురాళ్ళుని రచించినదెవరు?

- (A) రాయప్రోలు సుబ్బారావు (B) దేవులపల్లి కృష్ణశాస్త్రి  
(C) కట్టమంచి రామలింగారెడ్డి (D) రావూరి భరద్వాజ

”پکودرالو“ ناول کے مصنف کون ہیں۔

- (A) رایا پرولوسبھارائ (B) دیوالاپلی کرشناشاستری  
(C) کٹمانچی رامالینگاریڈی (D) راورری بھردواج

197) Who was the founder of colloquial language movement in Telugu?

- (A) Gidugu Rama Murthy (B) Kandukuri Vireshalingam  
(C) Chalam (D) Ravi Sastri

తెలుగులో వ్యావహారిక భాషోద్యమానికి ఆధ్యుడు ఎవరు?

- (A) గిడుగు రామమూర్తి (B) కందుకూరి వీరేశలింగం  
(C) చలం (D) రవిశాస్త్రి

دوبول پال زبان کی تحریک کا بانی کون تھا۔

(B) کندکوری ویریشالیگم

(A) گڈاگوراماسورتی

(D) روی شاستری

(C) چالم

198) The first colour cinema in India is \_\_\_\_\_

- (A) Alam Ara (B) Raja Harischandra  
(C) Kisankanya (D) Pather Panchali

భారతదేశంలో తొలి రంగుల చిత్రం ఏది?

- (A) ఆలం ఆరా (B) రాజా హరిశ్చంద్ర  
(C) కిసాన్ కన్యా (D) పథేర్ పాంచాలి

روستان کی سب سے پہلی رنگین سینما کون سی ہے؟

(D) آلام آراء

(C) کیشن کنہیا

(B) راجہ ہریش چندرا

(A) عالم آراء

199) The right to property was removed through which constitutional Amendment.

ఆస్తిహక్కుని ఏ రాజ్యాంగ సవరణ ద్వారా తొలగించారు?

- (A) 40 (B) 42 (C) 46 (D) 44

انیداد کا حق دستور کی کس ترمیم کے تحت ہٹا دیا گیا؟

200) Where is Ramappa temple located?

- (A) Karimnagar Dt. (B) Warangal Dt.  
(C) Krishna Dt. (D) Adilabad Dt.

రామప్ప గుడి ఎచ్చట ఉన్నది?

- (A) కరీంనగర్ జిల్లా (B) వరంగల్ జిల్లా  
(C) కృష్ణా జిల్లా (D) ఆదిలాబాద్ జిల్లా.

رامپامندر کہاں واقع ہے۔

(D) عادل آباد ضلع

(C) کرشنا ضلع

(B) ورنگل ضلع

(A) کریم نگر ضلع

