

Education Consultant India Ltd.

Notations :

- 1.Options shown in green color and with ✓ icon are correct.
- 2.Options shown in red color and with ✖ icon are incorrect.

Question Paper Name:	Nursing Officer 28th August 2019 S1
Subject Name:	Nursing Officer
Creation Date:	2019-08-28 13:45:06
Duration:	120
Total Marks:	200
Display Marks:	Yes
Share Answer Key With Delivery Engine:	No
Actual Answer Key:	Yes
Calculator:	None
Magnifying Glass Required?:	No
Ruler Required?:	No
Eraser Required?:	No
Scratch Pad Required?:	No
Rough Sketch/Notepad Required?:	No
Protractor Required?:	No
Show Watermark on Console?:	Yes
Highlighter:	No
Auto Save on Console?:	No

	Mental Ability
Group Number :	1
Group Id :	966231124
Group Maximum Duration :	0
Group Minimum Duration :	0
Revisit allowed for view? :	No
Revisit allowed for edit? :	No
Break time:	0
Group Marks:	20
Revisit allowed for group Instructions? :	Yes
Maximum Instruction Time:	0
Minimum Instruction Time:	0

	Mental Ability
Section Id :	966231239
Section Number :	1
Section type :	Online
Mandatory or Optional:	Mandatory
Number of Questions:	20
Number of Questions to be attempted:	20
Section Marks:	20

Display Number Panel: Yes
Group All Questions: No

Sub-Section Number: 1
Sub-Section Id: 966231259
Question Shuffling Allowed : Yes

Question Number : 1 Question Id : 9662316621 Question Type : MCQ Option Shuffling : Yes Display Question Number : Yes
Single Line Question Option : No Option Orientation : Vertical

Correct Marks : 1 Wrong Marks : 0.25

Some letters are numbered as 1, 2, 3, 4, 5 and 6. In the options, four possible arrangements of these numbers are given. Choose the option so that the letters form a meaningful word.

S E D B I R

1 2 3 4 5 6

Options :

1. ✘ 421365
2. ✔ 324651
3. ✘ 436572
4. ✘ 651432

Question Number : 1 Question Id : 9662316621 Question Type : MCQ Option Shuffling : Yes Display Question Number : Yes
Single Line Question Option : No Option Orientation : Vertical

Correct Marks : 1 Wrong Marks : 0.25

कुछ अक्षरों को 1, 2, 3, 4, 5 और 6 क्रमांक दिए गए हैं। विकल्पों में, इन संख्याओं की चार संभावित व्यवस्थाएँ दी गई हैं। उस विकल्प का चयन करें ताकि अक्षर एक सार्थक शब्द बन सकें।

S E D B I R

1 2 3 4 5 6

Options :

1. ✘ 421365
2. ✔ 324651
3. ✘ 436572
4. ✘ 651432

Question Number : 2 Question Id : 9662316622 Question Type : MCQ Option Shuffling : Yes Display Question Number : Yes
Single Line Question Option : No Option Orientation : Vertical

Correct Marks : 1 Wrong Marks : 0.25

Out of the given options, three are similar in a certain manner. However, one option is NOT like the other three. Select the option which is different from the rest.

Options :

1. ✘ ROU
2. ✘ GDJ
3. ✔ MPJ
4. ✘ PMS

Question Number : 2 Question Id : 9662316622 Question Type : MCQ Option Shuffling : Yes Display Question Number : Yes
Single Line Question Option : No Option Orientation : Vertical

Correct Marks : 1 Wrong Marks : 0.25

दिए गए विकल्पों में से, तीन एक निश्चित तरीके से समान हैं हालाँकि, एक विकल्प अन्य तीन की तरह नहीं है। उस विकल्प का चयन करें जो बाकी से अलग है।

Options :

1. ✘ ROU
2. ✘ GDJ
3. ✔ MPJ
4. ✘ PMS

Question Number : 3 Question Id : 9662316623 Question Type : MCQ Option Shuffling : Yes Display Question Number : Yes
Single Line Question Option : No Option Orientation : Vertical

Correct Marks : 1 Wrong Marks : 0.25

Out of the given options, three are similar in a certain manner. However, one option is NOT like the other three. Select the option which is different from the rest.

Options :

1. ✘ Shirt
2. ✘ Coat
3. ✘ Sweater
4. ✔ Trouser

Question Number : 3 Question Id : 9662316623 Question Type : MCQ Option Shuffling : Yes Display Question Number : Yes
Single Line Question Option : No Option Orientation : Vertical

Correct Marks : 1 Wrong Marks : 0.25

दिए गए विकल्पों में से, तीन एक निश्चित तरीके से समान हैं हालाँकि, एक विकल्प अन्य तीन की तरह नहीं है। उस विकल्प का चयन करें जो बाकी से अलग है।

Options :

1. ✘ कमीज
2. ✘ कोट
3. ✘ स्वेटर
4. ✔ पतलून

Question Number : 4 Question Id : 9662316624 Question Type : MCQ Option Shuffling : Yes Display Question Number : Yes
Single Line Question Option : No Option Orientation : Vertical

Correct Marks : 1 Wrong Marks : 0.25

Select the option that is related to the third term on the same basis as the second term is related to the first term.

NPR : QSU :: FHJ : ?

Options :

1. ✘ ILN
2. ✘ HJG
3. ✘ JNL
4. ✔ IKM

Question Number : 4 Question Id : 9662316624 Question Type : MCQ Option Shuffling : Yes Display Question Number : Yes
Single Line Question Option : No Option Orientation : Vertical

Correct Marks : 1 Wrong Marks : 0.25

उस विकल्प का चयन करें जो तीसरे पद से उसी प्रकार से संबंधित है जिस प्रकार से पहला पद दूसरे पद से संबंधित है।

NPR : QSU :: FHJ : ?

Options :

1. ✘ ILN
2. ✘ HJG
3. ✘ JNL
4. ✔ IKM

Question Number : 5 Question Id : 9662316625 Question Type : MCQ Option Shuffling : Yes Display Question Number : Yes
Single Line Question Option : No Option Orientation : Vertical

Correct Marks : 1 Wrong Marks : 0.25

If highway is sky, sky is river, river is cloud and cloud is land, then where do birds fly?

Options :

1. ✘ highway
2. ✔ river
3. ✘ sky
4. ✘ cloud

Question Number : 5 Question Id : 9662316625 Question Type : MCQ Option Shuffling : Yes Display Question Number : Yes
Single Line Question Option : No Option Orientation : Vertical

Correct Marks : 1 Wrong Marks : 0.25

यदि राजमार्ग आकाश है, आकाश नदी है, नदी बादल है और बादल भूमि है, तो पक्षी कहाँ उड़ते हैं?

Options :

1. ✘ राजमार्ग
2. ✔ नदी
3. ✘ आकाश
4. ✘ बादल

Question Number : 6 Question Id : 9662316626 Question Type : MCQ Option Shuffling : Yes Display Question Number : Yes
Single Line Question Option : No Option Orientation : Vertical

Correct Marks : 1 Wrong Marks : 0.25

If 23412 is coded as 46824, then what will 30241 be coded as?

Options :

1. ✘ 29130
2. ✘ 90623
3. ✘ 41352
4. ✔ 60482

Question Number : 6 Question Id : 9662316626 Question Type : MCQ Option Shuffling : Yes Display Question Number : Yes
Single Line Question Option : No Option Orientation : Vertical

Correct Marks : 1 Wrong Marks : 0.25

यदि 23412 को 46824 के रूप में कोडित किया जाता है, तो 30241 को कैसे कोडित किया जाएगा?

Options :

1. ✘ 29130
2. ✘ 90623
3. ✘ 41352
4. ✔ 60482

Question Number : 7 Question Id : 9662316627 Question Type : MCQ Option Shuffling : Yes Display Question Number : Yes
Single Line Question Option : No Option Orientation : Vertical

Correct Marks : 1 Wrong Marks : 0.25

उदय, दिशा, इशिका, मनीषा, प्रिया और हर्ष एक गोल मेज के चारों ओर बैठे हैं और केंद्र की तरफ देख रहे हैं। उदय, दिशा के विपरीत बैठा है, जो मनीषा के दाहिनी तरफ है, उदय, प्रिया और हर्ष के बीच में बैठा है, हर्ष मनीषा के बगल में नहीं है। इशिका के दाहिनी तरफ कौन है?

Options :

1. ✘ दिशा
2. ✘ प्रिया
3. ✔ हर्ष
4. ✘ मनीषा

Question Number : 7 Question Id : 9662316627 Question Type : MCQ Option Shuffling : Yes Display Question Number : Yes
Single Line Question Option : No Option Orientation : Vertical

Correct Marks : 1 Wrong Marks : 0.25

Uday, Disha, Ishika, Manisha, Priya and Harsh are sitting around a round table facing the centre. Uday is opposite Disha, who is to the right of Manisha, Uday is between Priya and Harsh, Harsh is not next to Manisha. Who is to the right of Ishika?

Options :

1. ✘ Disha
2. ✘ Priya
3. ✔ Harsh
4. ✘ Manisha

Question Number : 8 Question Id : 9662316628 Question Type : MCQ Option Shuffling : Yes Display Question Number : Yes
Single Line Question Option : No Option Orientation : Vertical

Correct Marks : 1 Wrong Marks : 0.25

Read the given statement and conclusions carefully. Assuming that the information in the statement is true, even if they appear to be in variance with commonly known facts, select which of the conclusions logically follow(s) from the statement beyond reasonable doubt.

Statements:

- I. Some mangoes are apples.
- II. All apples are bananas.

Conclusions:

- I. All bananas are apples.
- II. All mangoes are bananas.

Options :

1. ✘ Only Conclusion I follows.
2. ✘ Only Conclusion II follows.
3. ✔ Neither of the conclusion follows.
4. ✘ Both conclusion I and II follows.

Question Number : 8 Question Id : 9662316628 Question Type : MCQ Option Shuffling : Yes Display Question Number : Yes
Single Line Question Option : No Option Orientation : Vertical

Correct Marks : 1 Wrong Marks : 0.25

दिए गए कथन और निष्कर्षों को ध्यान से पढ़ें। यह मानते हुए कि कथन में दी गई जानकारी सत्य है, भले ही वे सामान्यतः ज्ञात तथ्यों के साथ विचरण करते हुए दिखाई देते हों, उस निष्कर्ष का चयन करें जो उचित संदेह से परे उस कथन का तार्किक रूप से अनुसरण करें।

कथन:

- I. कुछ आम सेब हैं।
- II. सभी सेब केले हैं।

निष्कर्ष:

- I. सभी केले सेब हैं।
- II. सभी आम केले हैं।

Options :

- ✘ केवल निष्कर्ष I अनुसरण करता है
- ✘ केवल निष्कर्ष II अनुसरण करता है
- ✔ कोई भी निष्कर्ष अनुसरण नहीं करता है
- ✘ निष्कर्ष I और II दोनों अनुसरण करते हैं

Question Number : 9 Question Id : 9662316629 Question Type : MCQ Option Shuffling : Yes Display Question Number : Yes
Single Line Question Option : No Option Orientation : Vertical

Correct Marks : 1 Wrong Marks : 0.25

Out of the given options, three are similar in a certain manner. However, one option is NOT like the other three. Select the option which is different from the rest.

Options :

- ✔ 244
- ✘ 216
- ✘ 312
- ✘ 276

Question Number : 9 Question Id : 9662316629 Question Type : MCQ Option Shuffling : Yes Display Question Number : Yes
Single Line Question Option : No Option Orientation : Vertical

Correct Marks : 1 Wrong Marks : 0.25

दिए गए विकल्पों में से, तीन एक निश्चित तरीके से समान हैं। हालाँकि, एक विकल्प अन्य तीन की तरह नहीं है। उस विकल्प का चयन करें जो बाकी से अलग है।

Options :

- ✔ 244
- ✘ 216
- ✘ 312
- ✘ 276

Question Number : 10 Question Id : 9662316630 Question Type : MCQ Option Shuffling : Yes Display Question Number : Yes
Single Line Question Option : No Option Orientation : Vertical

Correct Marks : 1 Wrong Marks : 0.25

Select the option that is related to the third number on the same basis as the second number is related to the first number.

126 : 147 :: 138 : ?

Options :

- ✘ 172
- ✘ 156
- ✘ 132
- ✔ 161

Question Number : 10 Question Id : 9662316630 Question Type : MCQ Option Shuffling : Yes Display Question Number : Yes
Single Line Question Option : No Option Orientation : Vertical

Correct Marks : 1 Wrong Marks : 0.25

उस विकल्प का चयन करें जो तीसरी संख्या से उसी प्रकार से संबंधित है जिस प्रकार से दूसरी संख्या पहली संख्या से संबंधित है।

126 : 147 :: 138 : ?

Options :

- ✘ 172
- ✘ 156

3. ✖ 132

4. ✔ 161

Question Number : 11 Question Id : 9662316631 Question Type : MCQ Option Shuffling : Yes Display Question Number : Yes
Single Line Question Option : No Option Orientation : Vertical

Correct Marks : 1 Wrong Marks : 0.25

Which two signs should be interchanged to make the below equation mathematically correct?

$$48 \times 4 + 5 \div 3 - 2 = 25$$

Options :

1. ✖ $\times, +$

2. ✖ $+, -$

3. ✖ $+, \div$

4. ✔ \times, \div

Question Number : 11 Question Id : 9662316631 Question Type : MCQ Option Shuffling : Yes Display Question Number : Yes
Single Line Question Option : No Option Orientation : Vertical

Correct Marks : 1 Wrong Marks : 0.25

नीचे दिए गए समीकरण को गणितीय रूप से सही बनाने के लिए किन दो चिन्हों को परस्पर स्थानांतरित करना चाहिए?

$$48 \times 4 + 5 \div 3 - 2 = 25$$

Options :

1. ✖ $\times, +$

2. ✖ $+, -$

3. ✖ $+, \div$

4. ✔ \times, \div

Question Number : 12 Question Id : 9662316632 Question Type : MCQ Option Shuffling : Yes Display Question Number : Yes
Single Line Question Option : No Option Orientation : Vertical

Correct Marks : 1 Wrong Marks : 0.25

Which two numbers should be interchanged to make the below equation mathematically correct?

$$16 \div 4 \times 5 + 3 - 2 = 15$$

Options :

1. ✖ 5, 2

2. ✔ 5, 3

3. ✖ 4, 2

4. ✖ 4, 3

Question Number : 12 Question Id : 9662316632 Question Type : MCQ Option Shuffling : Yes Display Question Number : Yes
Single Line Question Option : No Option Orientation : Vertical

Correct Marks : 1 Wrong Marks : 0.25

नीचे दिए गए समीकरण को गणितीय रूप से सही बनाने के लिए किन दो संख्याओं को स्थानांतरित किया जाना चाहिए?

$$16 \div 4 \times 5 + 3 - 2 = 15$$

Options :

1. ✖ 5, 2

2. ✔ 5, 3

3. ✖ 4, 2

4. ✖ 4, 3

Question Number : 13 Question Id : 9662316633 Question Type : MCQ Option Shuffling : Yes Display Question Number : Yes
Single Line Question Option : No Option Orientation : Vertical

Correct Marks : 1 Wrong Marks : 0.25

Find the missing number in the following number series.

8.26, 6.84, _____, 4, 2.58

Options :

1. ✘ 5.12
2. ✔ 5.42
3. ✘ 5
4. ✘ 5.18

Question Number : 13 Question Id : 9662316633 Question Type : MCQ Option Shuffling : Yes Display Question Number : Yes
Single Line Question Option : No Option Orientation : Vertical

Correct Marks : 1 Wrong Marks : 0.25

निम्नलिखित संख्या श्रेणी में गायब संख्या ज्ञात करें

8.26, 6.84, _____, 4, 2.58

Options :

1. ✘ 5.12
2. ✔ 5.42
3. ✘ 5
4. ✘ 5.18

Question Number : 14 Question Id : 9662316634 Question Type : MCQ Option Shuffling : Yes Display Question Number : Yes
Single Line Question Option : No Option Orientation : Vertical

Correct Marks : 1 Wrong Marks : 0.25

If A means +, B means -, C means \times and D means \div , then 54 D 6 C 4 B 12 A 5?

Options :

1. ✘ 64
2. ✘ 48
3. ✘ 31
4. ✔ 29

Question Number : 14 Question Id : 9662316634 Question Type : MCQ Option Shuffling : Yes Display Question Number : Yes
Single Line Question Option : No Option Orientation : Vertical

Correct Marks : 1 Wrong Marks : 0.25

यदि A का अर्थ +, B का अर्थ -, C का अर्थ \times और D का अर्थ \div है, तो 54 D 6 C 4 B 12 A 5 ज्ञात करें

Options :



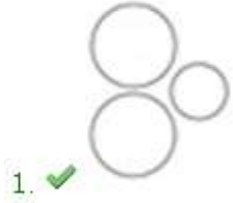
1. ✘ 64
2. ✘ 48
3. ✘ 31
4. ✔ 29

Question Number : 15 Question Id : 9662316635 Question Type : MCQ Option Shuffling : Yes Display Question Number : Yes
Single Line Question Option : No Option Orientation : Vertical

Correct Marks : 1 Wrong Marks : 0.25

Which of the following Venn diagrams best represents the relationship between apples, mangoes and vegetables?

Options :

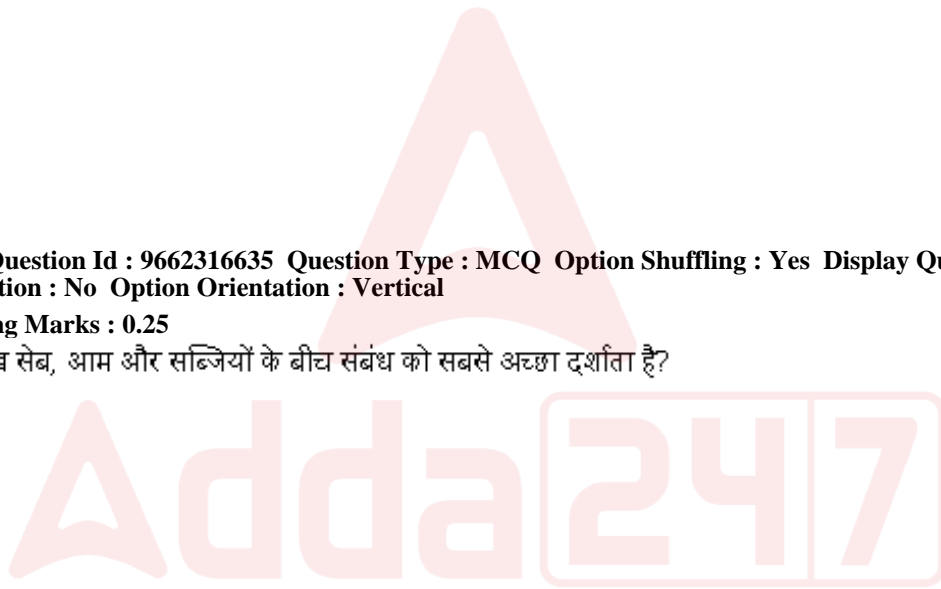

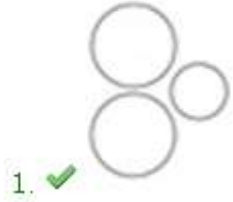



Question Number : 15 Question Id : 9662316635 Question Type : MCQ Option Shuffling : Yes Display Question Number : Yes
Single Line Question Option : No Option Orientation : Vertical

Correct Marks : 1 Wrong Marks : 0.25

निम्न में से कौन सा वेन आरेख सेब, आम और सब्जियों के बीच संबंध को सबसे अच्छा दर्शाता है?

Options :





4. ✖

Question Number : 16 Question Id : 9662316636 Question Type : MCQ Option Shuffling : Yes Display Question Number : Yes
Single Line Question Option : No Option Orientation : Vertical

Correct Marks : 1 Wrong Marks : 0.25

Two men Pritam and Akash start from the same point. Pritam walks 8 km north, then turns west and walks 6 km, then turns to his right and walks 4 km. Akash walks 4 km west, then turns north and walks 12 km, then turns to his right and walks 9 km. Where is Akash standing now with respect to the current position of Pritam?

Options :

- ✖ 11 km west
- ✖ 15 km east
- ✔ 11 km east
- ✖ 15 km west

Question Number : 16 Question Id : 9662316636 Question Type : MCQ Option Shuffling : Yes Display Question Number : Yes
Single Line Question Option : No Option Orientation : Vertical

Correct Marks : 1 Wrong Marks : 0.25

दो पुरुष प्रीतम और आकाश एक ही बिंदु से चलना शुरू करते हैं। प्रीतम 8 km उत्तर की ओर चलता है, फिर पश्चिम की ओर मुड़ता है और 6 km चलता है, फिर अपनी दाईं ओर मुड़ता है और 4 km चलता है। आकाश 4 km पश्चिम में चलता है, फिर उत्तर की ओर मुड़ता है और 12 km चलता है, फिर अपने दाईं ओर मुड़ता है और 9 km चलता है। आकाश, प्रीतम के वर्तमान बिंदु से कितनी दूर और किस दिशा में है?

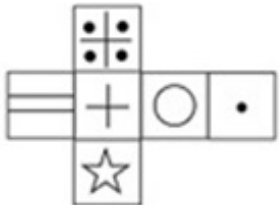
Options :

- ✖ 11 km पश्चिम
- ✖ 15 km पूर्व
- ✔ 11 km पूर्व
- ✖ 15 km पश्चिम

Question Number : 17 Question Id : 9662316637 Question Type : MCQ Option Shuffling : Yes Display Question Number : Yes
Single Line Question Option : No Option Orientation : Vertical

Correct Marks : 1 Wrong Marks : 0.25

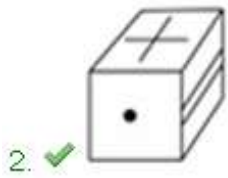
Which of the following cubes in the answer figure CANNOT be made based on the unfolded cube in the question figure?



Options :



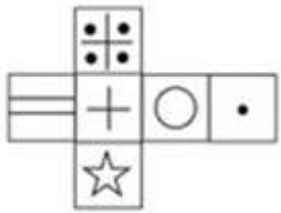
1. ✖



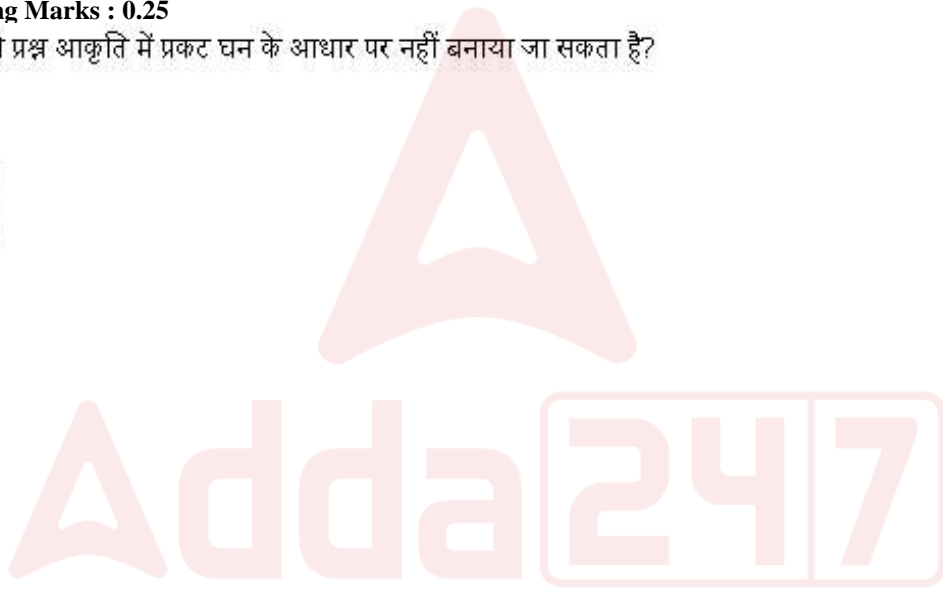
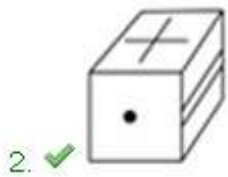
Question Number : 17 Question Id : 9662316637 Question Type : MCQ Option Shuffling : Yes Display Question Number : Yes
Single Line Question Option : No Option Orientation : Vertical

Correct Marks : 1 Wrong Marks : 0.25

उत्तर आकृति में किस घन को प्रश्न आकृति में प्रकट घन के आधार पर नहीं बनाया जा सकता है?



Options :



Question Number : 18 Question Id : 9662316638 Question Type : MCQ Option Shuffling : Yes Display Question Number : Yes
Single Line Question Option : No Option Orientation : Vertical

Correct Marks : 1 Wrong Marks : 0.25

Out of the given options, three are similar in a certain manner. However, one option is NOT like the other three.
Select the option which is different from the rest.

Options :

1. ✘

W	H	S
I	O	K
N	Z	Q

2. ✔

H	Q	K
S	Q	N
Z	I	W

3. ✘

S	H	Z
K	W	I
N	O	Q

4. ✘

I	W	S
N	Q	H
O	Z	K

Question Number : 18 Question Id : 9662316638 Question Type : MCQ Option Shuffling : Yes Display Question Number : Yes
Single Line Question Option : No Option Orientation : Vertical

Correct Marks : 1 Wrong Marks : 0.25

दिए गए विकल्पों में से तीन एक निश्चित तरीके से समान हैं। हालाँकि, एक विकल्प अन्य तीन की तरह नहीं है। उस विकल्प का चयन करें जो अन्य से अलग है।

Options :

1. ✘

W	H	S
I	O	K
N	Z	Q

2. ✔

H	Q	K
S	Q	N
Z	I	W

3. ✘

S	H	Z
K	W	I
N	O	Q

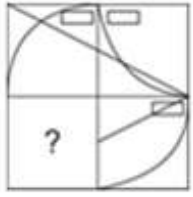
4. ✘

I	W	S
N	Q	H
O	Z	K

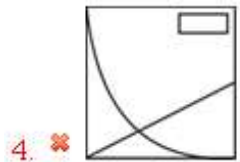
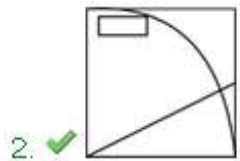
Question Number : 19 Question Id : 9662316639 Question Type : MCQ Option Shuffling : Yes Display Question Number : Yes
Single Line Question Option : No Option Orientation : Vertical

Correct Marks : 1 Wrong Marks : 0.25

Which answer figure will complete the pattern in the question figure?



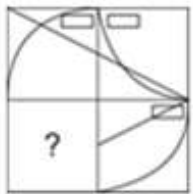
Options :



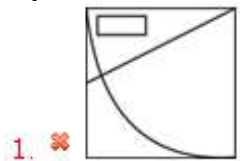
Question Number : 19 Question Id : 9662316639 Question Type : MCQ Option Shuffling : Yes Display Question Number : Yes
Single Line Question Option : No Option Orientation : Vertical

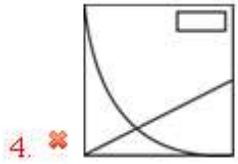
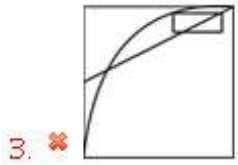
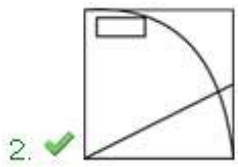
Correct Marks : 1 Wrong Marks : 0.25

कौन सी उत्तर आकृति प्रश्न आकृति में पैटर्न को पूरा करेगी?



Options :





Question Number : 20 Question Id : 9662316640 Question Type : MCQ Option Shuffling : Yes Display Question Number : Yes
Single Line Question Option : No Option Orientation : Vertical

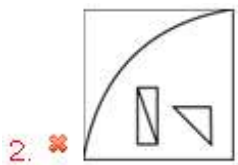
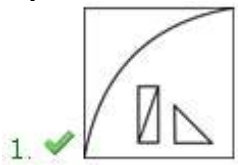
Correct Marks : 1 Wrong Marks : 0.25

If a mirror is placed on the line MN, then which of the answer figures will be the right mirror image of the given figure?



M N

Options :



Question Number : 20 Question Id : 9662316640 Question Type : MCQ Option Shuffling : Yes Display Question Number : Yes
Single Line Question Option : No Option Orientation : Vertical

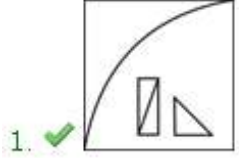
Correct Marks : 1 Wrong Marks : 0.25

यदि एक दर्पण को रेखा MN पर रखा गया है, तो कौन सी उत्तर आकृति दी गई आकृति का सही दर्पण प्रतिबिंब होगा?



M N

Options :



General Awareness

Group Number :	2
Group Id :	966231125
Group Maximum Duration :	0
Group Minimum Duration :	0
Revisit allowed for view? :	No
Revisit allowed for edit? :	No
Break time:	0
Group Marks:	20
Revisit allowed for group Instructions? :	Yes
Maximum Instruction Time:	0
Minimum Instruction Time:	0

General Awareness

Section Id :	966231240
Section Number :	1
Section type :	Online
Mandatory or Optional:	Mandatory

Number of Questions:	20
Number of Questions to be attempted:	20
Section Marks:	20
Display Number Panel:	Yes
Group All Questions:	No

Sub-Section Number:	1
Sub-Section Id:	966231260
Question Shuffling Allowed :	Yes

Question Number : 21 Question Id : 9662316641 Question Type : MCQ Option Shuffling : Yes Display Question Number : Yes
Single Line Question Option : No Option Orientation : Vertical

Correct Marks : 1 Wrong Marks : 0.25

With which of the following states Kikkli dance is associated?

Options :

- ✘ Tripura
- ✘ Uttar Pradesh
- ✘ Jharkhand
- ✔ Punjab

Question Number : 21 Question Id : 9662316641 Question Type : MCQ Option Shuffling : Yes Display Question Number : Yes
Single Line Question Option : No Option Orientation : Vertical

Correct Marks : 1 Wrong Marks : 0.25

निम्नलिखित में से किस राज्य के साथ किकली नृत्य जुड़ा हुआ है?

Options :

- ✘ त्रिपुरा
- ✘ उत्तर प्रदेश
- ✘ झारखंड
- ✔ पंजाब

Question Number : 22 Question Id : 9662316642 Question Type : MCQ Option Shuffling : Yes Display Question Number : Yes
Single Line Question Option : No Option Orientation : Vertical

Correct Marks : 1 Wrong Marks : 0.25

With which of the following state is Jugni folk music related to?

Options :

- ✔ Punjab
- ✘ Sikkim
- ✘ Assam
- ✘ West Bengal

Question Number : 22 Question Id : 9662316642 Question Type : MCQ Option Shuffling : Yes Display Question Number : Yes
Single Line Question Option : No Option Orientation : Vertical

Correct Marks : 1 Wrong Marks : 0.25

जुगनी लोक संगीत निम्नलिखित में से किस राज्य से संबंधित है?

Options :

- ✔ पंजाब
- ✘ सिक्किम
- ✘ असम

4. ✖ पश्चिम बंगाल

Question Number : 23 Question Id : 9662316643 Question Type : MCQ Option Shuffling : Yes Display Question Number : Yes
Single Line Question Option : No Option Orientation : Vertical

Correct Marks : 1 Wrong Marks : 0.25

Yaoshang, which is celebrated during spring in the month of Phalguna, is associated with which of the following states?

Options :

1. ✖ Assam
2. ✖ Haryana
3. ✖ Maharashtra
4. ✔ Manipur

Question Number : 23 Question Id : 9662316643 Question Type : MCQ Option Shuffling : Yes Display Question Number : Yes
Single Line Question Option : No Option Orientation : Vertical

Correct Marks : 1 Wrong Marks : 0.25

याओशांग, जिसे फाल्गुन के महीने में वसंत के दौरान मनाया जाता है, निम्नलिखित में से किस राज्य के साथ जुड़ा है?

Options :

1. ✖ असम
2. ✖ हरियाणा
3. ✖ महाराष्ट्र
4. ✔ मणिपुर

Question Number : 24 Question Id : 9662316644 Question Type : MCQ Option Shuffling : Yes Display Question Number : Yes
Single Line Question Option : No Option Orientation : Vertical

Correct Marks : 1 Wrong Marks : 0.25

What is meant by Bank rate?

Options :

1. ✖ Long term rate at which bank lends to RBI
2. ✔ Long term rate at which RBI lends to bank
3. ✖ Long term rate at which Govt. lends to bank
4. ✖ Long term rate at which bank provides loans to customers

Question Number : 24 Question Id : 9662316644 Question Type : MCQ Option Shuffling : Yes Display Question Number : Yes
Single Line Question Option : No Option Orientation : Vertical

Correct Marks : 1 Wrong Marks : 0.25

बैंक दर से क्या अभिप्राय है?

Options :

1. ✖ बैंक दीर्घ अवधि दर पर भारतीय रिज़र्व बैंक को ऋण देता है
2. ✔ दीर्घ अवधि की दर जिस पर भारतीय रिज़र्व बैंक, बैंक को उधार देता है
3. ✖ दीर्घ अवधि की दर जिस पर सरकार बैंक को ऋण देती है
4. ✖ दीर्घ अवधि की दर जिस पर बैंक ग्राहकों को ऋण प्रदान करता है

Question Number : 25 Question Id : 9662316645 Question Type : MCQ Option Shuffling : Yes Display Question Number : Yes
Single Line Question Option : No Option Orientation : Vertical

Correct Marks : 1 Wrong Marks : 0.25

Which among the following is an example of indirect tax?

Options :

1. ✖ Income tax

2. ✘ Corporation tax
3. ✔ Sales tax
4. ✘ Wealth tax

Question Number : 25 Question Id : 9662316645 Question Type : MCQ Option Shuffling : Yes Display Question Number : Yes
Single Line Question Option : No Option Orientation : Vertical

Correct Marks : 1 Wrong Marks : 0.25

निम्नलिखित में से कौन अप्रत्यक्ष कर का एक उदाहरण है?

Options :

1. ✘ आयकर
2. ✘ निगम कर
3. ✔ बिक्री कर
4. ✘ धन कर

Question Number : 26 Question Id : 9662316646 Question Type : MCQ Option Shuffling : Yes Display Question Number : Yes
Single Line Question Option : No Option Orientation : Vertical

Correct Marks : 1 Wrong Marks : 0.25

What is the relation between power (p), voltage (v) and resistance (r)?

Options :

1. ✘ $p = vr^2$
2. ✘ $p = v/r^2$
3. ✔ $p = v^2/r$
4. ✘ $p = v/r$

Question Number : 26 Question Id : 9662316646 Question Type : MCQ Option Shuffling : Yes Display Question Number : Yes
Single Line Question Option : No Option Orientation : Vertical

Correct Marks : 1 Wrong Marks : 0.25

शक्ति (p), वोल्टेज (v) और प्रतिरोध (r) के बीच क्या संबंध है?

Options :

1. ✘ $p = vr^2$
2. ✘ $p = v/r^2$
3. ✔ $p = v^2/r$
4. ✘ $p = v/r$

Question Number : 27 Question Id : 9662316647 Question Type : MCQ Option Shuffling : Yes Display Question Number : Yes
Single Line Question Option : No Option Orientation : Vertical

Correct Marks : 1 Wrong Marks : 0.25

Which of the following kingdom has Prokaryotic cell type?

Options :

1. ✔ Monera
2. ✘ Protista
3. ✘ Fungi
4. ✘ Plantae

Question Number : 27 Question Id : 9662316647 Question Type : MCQ Option Shuffling : Yes Display Question Number : Yes
Single Line Question Option : No Option Orientation : Vertical

Correct Marks : 1 Wrong Marks : 0.25

निम्नलिखित में से किस किंगडम में अकेन्द्रिक कोशिका प्रकार होता है?

Options :

1. ✓ मोनेरा
2. ✗ प्रोटिसा
3. ✗ कवक
4. ✗ प्लांटी

Question Number : 28 Question Id : 9662316648 Question Type : MCQ Option Shuffling : Yes Display Question Number : Yes
Single Line Question Option : No Option Orientation : Vertical

Correct Marks : 1 Wrong Marks : 0.25

In which ocean is the "Ninety East Ridge" located?

Options :

1. ✗ Atlantic Ocean
2. ✗ Artic Ocean
3. ✓ Indian Ocean
4. ✗ Pacific Ocean

Question Number : 28 Question Id : 9662316648 Question Type : MCQ Option Shuffling : Yes Display Question Number : Yes
Single Line Question Option : No Option Orientation : Vertical

Correct Marks : 1 Wrong Marks : 0.25

"नाइंटी ईस्ट रिज" किस महासागर में स्थित है?

Options :

1. ✗ अटलांटिक महासागर
2. ✗ उत्तरध्रुवीय महासागर
3. ✓ हिंद महासागर
4. ✗ प्रशांत महासागर

Question Number : 29 Question Id : 9662316649 Question Type : MCQ Option Shuffling : Yes Display Question Number : Yes
Single Line Question Option : No Option Orientation : Vertical

Correct Marks : 1 Wrong Marks : 0.25

In which of the following states is the Chandil Dam located?

Options :

1. ✗ Himachal Pradesh
2. ✓ Jharkhand
3. ✗ Rajasthan
4. ✗ Assam

Question Number : 29 Question Id : 9662316649 Question Type : MCQ Option Shuffling : Yes Display Question Number : Yes
Single Line Question Option : No Option Orientation : Vertical

Correct Marks : 1 Wrong Marks : 0.25

चांडिल बांध निम्नलिखित में से किस राज्य में स्थित है?

Options :

1. ✗ हिमाचल प्रदेश
2. ✓ झारखंड
3. ✗ राजस्थान
4. ✗ असम

Question Number : 30 Question Id : 9662316650 Question Type : MCQ Option Shuffling : Yes Display Question Number : Yes
Single Line Question Option : No Option Orientation : Vertical

Correct Marks : 1 Wrong Marks : 0.25

In which of the following states is the Garo hills located?

Options :

1. ✘ Tripura
2. ✔ Meghalaya
3. ✘ Mizoram
4. ✘ Assam

Question Number : 30 Question Id : 9662316650 Question Type : MCQ Option Shuffling : Yes Display Question Number : Yes
Single Line Question Option : No Option Orientation : Vertical

Correct Marks : 1 Wrong Marks : 0.25

निम्नलिखित में से किस राज्य में गारो पहाड़ियाँ स्थित हैं?

Options :

1. ✘ त्रिपुरा
2. ✔ मेघालय
3. ✘ मिज़ोरम
4. ✘ असम

Question Number : 31 Question Id : 9662316651 Question Type : MCQ Option Shuffling : Yes Display Question Number : Yes
Single Line Question Option : No Option Orientation : Vertical

Correct Marks : 1 Wrong Marks : 0.25

When did the Chauri Chaura incident take place?

Options :

1. ✘ 1925
2. ✘ 1920
3. ✔ 1922
4. ✘ 1930

Question Number : 31 Question Id : 9662316651 Question Type : MCQ Option Shuffling : Yes Display Question Number : Yes
Single Line Question Option : No Option Orientation : Vertical

Correct Marks : 1 Wrong Marks : 0.25

चौरी चौरा की घटना कब हुई?

Options :

1. ✘ 1925
2. ✘ 1920
3. ✔ 1922
4. ✘ 1930

Question Number : 32 Question Id : 9662316652 Question Type : MCQ Option Shuffling : Yes Display Question Number : Yes
Single Line Question Option : No Option Orientation : Vertical

Correct Marks : 1 Wrong Marks : 0.25

Which among the following was the centre of the Harappan civilisation?

Options :

1. ✘ Dholavira
2. ✘ Lothal
3. ✘ Sutkagen-Dor
4. ✔ Kalibangan-Mohenjo-Daro

Question Number : 32 Question Id : 9662316652 Question Type : MCQ Option Shuffling : Yes Display Question Number : Yes
Single Line Question Option : No Option Orientation : Vertical

Correct Marks : 1 Wrong Marks : 0.25

निम्नलिखित में से कौनसा हड़प्पा सभ्यता का केंद्र था?

Options :

- ✘ धोलावीरा
- ✘ लोथल
- ✘ सुत्काजेन - डोर
- ✔ कालीबंगा - मोहन - जोदड़ो

Question Number : 33 Question Id : 9662316653 Question Type : MCQ Option Shuffling : Yes Display Question Number : Yes
Single Line Question Option : No Option Orientation : Vertical

Correct Marks : 1 Wrong Marks : 0.25

When was the battle of Buxar fought?

Options :

- ✘ 1735
- ✘ 1775
- ✔ 1764
- ✘ 1785

Question Number : 33 Question Id : 9662316653 Question Type : MCQ Option Shuffling : Yes Display Question Number : Yes
Single Line Question Option : No Option Orientation : Vertical

Correct Marks : 1 Wrong Marks : 0.25

बक्सर का युद्ध कब लड़ा गया था?

Options :

- ✘ 1735
- ✘ 1775
- ✔ 1764
- ✘ 1785

Question Number : 34 Question Id : 9662316654 Question Type : MCQ Option Shuffling : Yes Display Question Number : Yes
Single Line Question Option : No Option Orientation : Vertical

Correct Marks : 1 Wrong Marks : 0.25

Where is the headquarter of International Monetary Fund (IMF) located?

Options :

- ✘ London
- ✔ Washington D.C.
- ✘ Ohio
- ✘ Oregon

Question Number : 34 Question Id : 9662316654 Question Type : MCQ Option Shuffling : Yes Display Question Number : Yes
Single Line Question Option : No Option Orientation : Vertical

Correct Marks : 1 Wrong Marks : 0.25

अंतरराष्ट्रीय मुद्रा कोष (आईएमएफ) का मुख्यालय कहाँ स्थित है?

Options :

- ✘ लंदन
- ✔ वॉशिंगटन, डी. सी.
- ✘ ओहायो
- ✘ औरिगन

Question Number : 35 Question Id : 9662316655 Question Type : MCQ Option Shuffling : Yes Display Question Number : Yes
Single Line Question Option : No Option Orientation : Vertical

Correct Marks : 1 Wrong Marks : 0.25

Who won the best actress award in the National Film Award 2018?

Options :

1. ✓ Sridevi
2. ✗ Sonam Kapoor
3. ✗ Alia Bhatt
4. ✗ Deepika Padukone

Question Number : 35 Question Id : 9662316655 Question Type : MCQ Option Shuffling : Yes Display Question Number : Yes
Single Line Question Option : No Option Orientation : Vertical

Correct Marks : 1 Wrong Marks : 0.25

राष्ट्रीय फिल्म पुरस्कार 2018 में सर्वश्रेष्ठ अभिनेत्री का पुरस्कार किसने जीता था?

Options :

1. ✓ श्रीदेवी
2. ✗ सोनम कपूर
3. ✗ आलिया भट्ट
4. ✗ दीपिका पादुकोण

Question Number : 36 Question Id : 9662316656 Question Type : MCQ Option Shuffling : Yes Display Question Number : Yes
Single Line Question Option : No Option Orientation : Vertical

Correct Marks : 1 Wrong Marks : 0.25

Which amendment added Bodo in the list of recognised languages?

Options :

1. ✗ 52
2. ✗ 61
3. ✓ 92
4. ✗ 86

Question Number : 36 Question Id : 9662316656 Question Type : MCQ Option Shuffling : Yes Display Question Number : Yes
Single Line Question Option : No Option Orientation : Vertical

Correct Marks : 1 Wrong Marks : 0.25

किस संशोधन ने बोडो को मान्यता प्राप्त भाषाओं की सूची में जोड़ा?

Options :

1. ✗ 52
2. ✗ 61
3. ✓ 92
4. ✗ 86

Question Number : 37 Question Id : 9662316657 Question Type : MCQ Option Shuffling : Yes Display Question Number : Yes
Single Line Question Option : No Option Orientation : Vertical

Correct Marks : 1 Wrong Marks : 0.25

The existence of the concept of "Republic" in the Indian Constitution is borrowed from the constitution of -----

Options :

1. ✓ France
2. ✗ Union of Soviet Socialist Republics
3. ✗ Britain

4. ✖ Ireland

Question Number : 37 Question Id : 9662316657 Question Type : MCQ Option Shuffling : Yes Display Question Number : Yes
Single Line Question Option : No Option Orientation : Vertical

Correct Marks : 1 Wrong Marks : 0.25

भारतीय संविधान में "गणतंत्र" की अवधारणा का अस्तित्व _____ के संविधान से अपनाया गया है।

Options :

1. ✔ फ्रांस
2. ✖ सोवियत समाजवादी गणतंत्रों का संघ
3. ✖ ब्रिटेन
4. ✖ आयरलैंड

Question Number : 38 Question Id : 9662316658 Question Type : MCQ Option Shuffling : Yes Display Question Number : Yes
Single Line Question Option : No Option Orientation : Vertical

Correct Marks : 1 Wrong Marks : 0.25

Who was the first Chairman of the Fundamental Rights Sub-Committee of the Constituent Assembly?

Options :

1. ✖ K.M. Munsif
2. ✖ H.C. Mukherjee
3. ✔ J.B. Kripalani
4. ✖ G.V. Mavalankar

Question Number : 38 Question Id : 9662316658 Question Type : MCQ Option Shuffling : Yes Display Question Number : Yes
Single Line Question Option : No Option Orientation : Vertical

Correct Marks : 1 Wrong Marks : 0.25

संविधान सभा की मौलिक अधिकार उप-समिति के पहले अध्यक्ष कौन थे?

Options :

1. ✖ के. एम. मुंशी
2. ✖ एच. सी. मुखर्जी
3. ✔ जे. बी. कृपलानी
4. ✖ जी. वी. मावलंकर

Question Number : 39 Question Id : 9662316659 Question Type : MCQ Option Shuffling : Yes Display Question Number : Yes
Single Line Question Option : No Option Orientation : Vertical

Correct Marks : 1 Wrong Marks : 0.25

Davis Cup is associated with which of the following sports?

Options :

1. ✔ Tennis
2. ✖ Cricket
3. ✖ Golf
4. ✖ Football

Question Number : 39 Question Id : 9662316659 Question Type : MCQ Option Shuffling : Yes Display Question Number : Yes
Single Line Question Option : No Option Orientation : Vertical

Correct Marks : 1 Wrong Marks : 0.25

डेविस कप निम्नलिखित में से किस खेल के साथ जुड़ा है?

Options :

1. ✔ टेनिस
2. ✖ क्रिकेट

3. ✘ गॉल्फ़
4. ✘ फ़ुटबॉल

Question Number : 40 Question Id : 9662316660 Question Type : MCQ Option Shuffling : Yes Display Question Number : Yes
Single Line Question Option : No Option Orientation : Vertical

Correct Marks : 1 Wrong Marks : 0.25

Which among the following teams was the first one to win the Women's Cricket World Cup?

Options :

1. ✘ Pakistan
2. ✘ Australia
3. ✘ India
4. ✔ England

Question Number : 40 Question Id : 9662316660 Question Type : MCQ Option Shuffling : Yes Display Question Number : Yes
Single Line Question Option : No Option Orientation : Vertical

Correct Marks : 1 Wrong Marks : 0.25

निम्नलिखित में से कौन सी टीम महिला क्रिकेट विश्व कप जीतने वाली पहली टीम थी?

Options :

1. ✘ पाकिस्तान
2. ✘ ऑस्ट्रेलिया
3. ✘ भारत
4. ✔ इंग्लैंड

Arithmetic Ability

Group Number :	3
Group Id :	966231126
Group Maximum Duration :	0
Group Minimum Duration :	0
Revisit allowed for view? :	No
Revisit allowed for edit? :	No
Break time:	0
Group Marks:	20
Revisit allowed for group Instructions? :	Yes
Maximum Instruction Time:	0
Minimum Instruction Time:	0

Arithmetic Ability

Section Id :	966231241
Section Number :	1
Section type :	Online
Mandatory or Optional:	Mandatory
Number of Questions:	20
Number of Questions to be attempted:	20
Section Marks:	20
Display Number Panel:	Yes
Group All Questions:	No

Sub-Section Number: 1
Sub-Section Id: 966231261
Question Shuffling Allowed : Yes

Question Number : 41 Question Id : 9662316661 Question Type : MCQ Option Shuffling : Yes Display Question Number : Yes
Single Line Question Option : No Option Orientation : Vertical

Correct Marks : 1 Wrong Marks : 0.25

Find the least number by which 18000 must be divided so as to make it a perfect square?

Options :

1. ✘ 2
2. ✘ 3
3. ✔ 5
4. ✘ 6

Question Number : 41 Question Id : 9662316661 Question Type : MCQ Option Shuffling : Yes Display Question Number : Yes
Single Line Question Option : No Option Orientation : Vertical

Correct Marks : 1 Wrong Marks : 0.25

वह सबसे छोटी संख्या ज्ञात करें जिसके द्वारा 18000 को विभाजित किया जाना चाहिए ताकि इसे एक पूर्ण वर्ग बनाया जा सके?

Options :

1. ✘ 2
2. ✘ 3
3. ✔ 5
4. ✘ 6

Question Number : 42 Question Id : 9662316662 Question Type : MCQ Option Shuffling : Yes Display Question Number : Yes
Single Line Question Option : No Option Orientation : Vertical

Correct Marks : 1 Wrong Marks : 0.25

What is the greatest number of 4 digits which is divisible by 20, 50, 60 and 80?

Options :

1. ✘ 9000
2. ✘ 9240
3. ✘ 9480
4. ✔ 9600

Question Number : 42 Question Id : 9662316662 Question Type : MCQ Option Shuffling : Yes Display Question Number : Yes
Single Line Question Option : No Option Orientation : Vertical

Correct Marks : 1 Wrong Marks : 0.25

4 अंकों की वह सबसे बड़ी संख्या कौन सी है, जो 20, 50, 60 और 80 से विभाज्य है?

Options :

1. ✘ 9000
2. ✘ 9240
3. ✘ 9480
4. ✔ 9600

Question Number : 43 Question Id : 9662316663 Question Type : MCQ Option Shuffling : Yes Display Question Number : Yes
Single Line Question Option : No Option Orientation : Vertical

Correct Marks : 1 Wrong Marks : 0.25

If $x/y = 3/7$ and $21x + 6y = 315$, find the value of y .

Options :

1. ✔ 21

2. ✘ 20.5
3. ✘ 20
4. ✘ 21.5

Question Number : 43 Question Id : 9662316663 Question Type : MCQ Option Shuffling : Yes Display Question Number : Yes
Single Line Question Option : No Option Orientation : Vertical

Correct Marks : 1 Wrong Marks : 0.25

यदि $x/y = 3/7$ और $21x + 6y = 315$, तो y का मूल्य ज्ञात करें

Options :

1. ✔ 21
2. ✘ 20.5
3. ✘ 20
4. ✘ 21.5

Question Number : 44 Question Id : 9662316664 Question Type : MCQ Option Shuffling : Yes Display Question Number : Yes
Single Line Question Option : No Option Orientation : Vertical

Correct Marks : 1 Wrong Marks : 0.25

The average age of a family of 5 members is 47 years. The average age of the parents is 44 years and the average age of the grandparents is 68 years. What is the age of the child?

Options :

1. ✔ 11 years
2. ✘ 12 years
3. ✘ 16 years
4. ✘ 18 years

Question Number : 44 Question Id : 9662316664 Question Type : MCQ Option Shuffling : Yes Display Question Number : Yes
Single Line Question Option : No Option Orientation : Vertical

Correct Marks : 1 Wrong Marks : 0.25

5 सदस्यों वाले एक परिवार की औसत आयु 47 वर्ष है। माता-पिता की औसत आयु 44 वर्ष और दादा-दादी की औसत आयु 68 वर्ष है। बच्चे की उम्र क्या है?

Options :

1. ✔ 11 साल
2. ✘ 12 साल
3. ✘ 16 साल
4. ✘ 18 साल

Question Number : 45 Question Id : 9662316665 Question Type : MCQ Option Shuffling : Yes Display Question Number : Yes
Single Line Question Option : No Option Orientation : Vertical

Correct Marks : 1 Wrong Marks : 0.25

A good is marked up by 25%, at most how much discount can be allowed so as to neither have a gain nor a loss?

Options :

1. ✘ 12.5 percent
2. ✘ 33.33 percent
3. ✘ 25 percent
4. ✔ 20 percent

Question Number : 45 Question Id : 9662316665 Question Type : MCQ Option Shuffling : Yes Display Question Number : Yes
Single Line Question Option : No Option Orientation : Vertical

Correct Marks : 1 Wrong Marks : 0.25

एक वस्तु को कीमत से 25% ऊपर चिह्नित किया जाता है, सबसे अधिक कितने बूट की अनुमति दी जा सकती है ताकि न तो लाभ हो और न ही नुकसान हो?

Options :

- ✘ 12.5 प्रतिशत
- ✘ 33.33 प्रतिशत
- ✘ 25 प्रतिशत
- ✔ 20 प्रतिशत

Question Number : 46 Question Id : 9662316666 Question Type : MCQ Option Shuffling : Yes Display Question Number : Yes Single Line Question Option : No Option Orientation : Vertical

Correct Marks : 1 Wrong Marks : 0.25

A batsman scored 120 runs in a cricket match. He hit 14 fours and 4 sixes during his innings. What percent of his runs was scored in boundaries?

Options :

- ✘ 50 percent
- ✔ 66.67 percent
- ✘ 70 percent
- ✘ 75 percent

Question Number : 46 Question Id : 9662316666 Question Type : MCQ Option Shuffling : Yes Display Question Number : Yes Single Line Question Option : No Option Orientation : Vertical

Correct Marks : 1 Wrong Marks : 0.25

एक बल्लेबाज ने एक क्रिकेट मैच में 120 रन बनाए। उन्होंने अपनी पारी के दौरान 14 चौके और 4 छक्के लगाए। उनके कितने प्रतिशत रन सीमाओं में थे?

Options :

- ✘ 50 प्रतिशत
- ✔ 66.67 प्रतिशत
- ✘ 70 प्रतिशत
- ✘ 75 प्रतिशत

Question Number : 47 Question Id : 9662316667 Question Type : MCQ Option Shuffling : Yes Display Question Number : Yes Single Line Question Option : No Option Orientation : Vertical

Correct Marks : 1 Wrong Marks : 0.25

Three candidates contested an election and received 4500, 7500 and 8000 votes respectively. What percentage of votes did the winning candidate get?

Options :

- ✘ 25 percent
- ✘ 33.33 percent
- ✔ 40 percent
- ✘ 50 percent

Question Number : 47 Question Id : 9662316667 Question Type : MCQ Option Shuffling : Yes Display Question Number : Yes Single Line Question Option : No Option Orientation : Vertical

Correct Marks : 1 Wrong Marks : 0.25

तीन उम्मीदवारों ने एक चुनाव लड़ा और उन्हें क्रमशः 4500, 7500 और 8000 वोट मिले। जीतने वाले उम्मीदवार को कितने प्रतिशत वोट मिले?

Options :

- ✘ 25 प्रतिशत
- ✘ 33.33 प्रतिशत
- ✔ 40 प्रतिशत

4. ✘ 50 प्रतिशत

Question Number : 48 Question Id : 9662316668 Question Type : MCQ Option Shuffling : Yes Display Question Number : Yes
Single Line Question Option : No Option Orientation : Vertical

Correct Marks : 1 Wrong Marks : 0.25

A fruit seller had some apples. He sold 35% apples and still has 325 apples left. How many apples did he initially have?

Options :

1. ✔ 50 percent
2. ✘ 40 percent
3. ✘ 60 percent
4. ✘ 75 percent

Question Number : 48 Question Id : 9662316668 Question Type : MCQ Option Shuffling : Yes Display Question Number : Yes
Single Line Question Option : No Option Orientation : Vertical

Correct Marks : 1 Wrong Marks : 0.25

एक फल विक्रेता के पास कुछ सेब थे उसने 35% सेब बेचे और अभी भी 325 सेब बचे हैं। शुरू में उसके पास कितने सेब थे?

Options :

1. ✔ 50 प्रतिशत
2. ✘ 40 प्रतिशत
3. ✘ 60 प्रतिशत
4. ✘ 75 प्रतिशत

Question Number : 49 Question Id : 9662316669 Question Type : MCQ Option Shuffling : Yes Display Question Number : Yes
Single Line Question Option : No Option Orientation : Vertical

Correct Marks : 1 Wrong Marks : 0.25

The percentage profit earned by selling an article for Rs. 1500 is equal to the percentage loss incurred by selling the good at Rs. 900. At what price should the article be sold to make a 10% profit?

Options :

1. ✘ Rs. 1200
2. ✘ Rs. 1260
3. ✘ Rs. 1280
4. ✔ Rs. 1320

Question Number : 49 Question Id : 9662316669 Question Type : MCQ Option Shuffling : Yes Display Question Number : Yes
Single Line Question Option : No Option Orientation : Vertical

Correct Marks : 1 Wrong Marks : 0.25

1500 रुपये में एक लेख को बेचकर अर्जित किया गया प्रतिशत लाभ 900 रुपये में वस्तु बेचकर होने वाले प्रतिशत नुकसान के बराबर है। 10% लाभ पाने के लिए लेख को किस मूल्य पर बेचा जाना चाहिए?

Options :

1. ✘ 1200 रुपये
2. ✘ 1260 रुपये
3. ✘ 1280 रुपये
4. ✔ 1320 रुपये

Question Number : 50 Question Id : 9662316670 Question Type : MCQ Option Shuffling : Yes Display Question Number : Yes
Single Line Question Option : No Option Orientation : Vertical

Correct Marks : 1 Wrong Marks : 0.25

A and B together have Rs. 1200. If $\frac{2}{3}$ of A's amount is equal to $\frac{2}{5}$ of B's amount, how much does A have?

Options :

- ✘ Rs. 360
- ✘ Rs. 400
- ✘ Rs. 420
- ✔ Rs. 450

Question Number : 50 Question Id : 9662316670 Question Type : MCQ Option Shuffling : Yes Display Question Number : Yes
Single Line Question Option : No Option Orientation : Vertical

Correct Marks : 1 Wrong Marks : 0.25

A और B के पास मिलाकर 1200 रुपये हैं। यदि A की धनराशि का $\frac{2}{3}$ भाग B की धनराशि के $\frac{2}{5}$ भाग के बराबर है, तो A के पास कितने रुपये हैं?

Options :

- ✘ 360 रुपये
- ✘ 400 रुपये
- ✘ 420 रुपये
- ✔ 450 रुपये

Question Number : 51 Question Id : 9662316671 Question Type : MCQ Option Shuffling : Yes Display Question Number : Yes
Single Line Question Option : No Option Orientation : Vertical

Correct Marks : 1 Wrong Marks : 0.25

Seats for English, Hindi and French in a school are in the ratio 8:6:5. There is a proposal to increase these seats by 50%, 80% and 100% respectively. Find the new ratio of the seats.

Options :

- ✘ 6:5:5
- ✘ 6:6:5
- ✔ 30:27:25
- ✘ 27:30:25

Question Number : 51 Question Id : 9662316671 Question Type : MCQ Option Shuffling : Yes Display Question Number : Yes
Single Line Question Option : No Option Orientation : Vertical

Correct Marks : 1 Wrong Marks : 0.25

एक स्कूल में अंग्रेजी, हिंदी और फ्रेंच के लिए सीटों का अनुपात 8:6:5 है। इन सीटों को क्रमशः 50%, 80% और 100% से बढ़ाने का प्रस्ताव है। सीटों का नया अनुपात ज्ञात करें।

Options :

- ✘ 6:5:5
- ✘ 6:6:5
- ✔ 30:27:25
- ✘ 27:30:25

Question Number : 52 Question Id : 9662316672 Question Type : MCQ Option Shuffling : Yes Display Question Number : Yes
Single Line Question Option : No Option Orientation : Vertical

Correct Marks : 1 Wrong Marks : 0.25

In a bag, there are coins of 25 paise, 50 paise and Re 1 in the ratio of 4:2:1. In there is Rs.15 in total, how many 50 paise coins are there?

Options :

- ✘ 20
- ✔ 10
- ✘ 16
- ✘ 8

Question Number : 52 Question Id : 9662316672 Question Type : MCQ Option Shuffling : Yes Display Question Number : Yes
Single Line Question Option : No Option Orientation : Vertical

Correct Marks : 1 Wrong Marks : 0.25

एक बैग में 4:2:1 के अनुपात में 25 पैसे, 50 पैसे और 1 रुपये के सिक्के हैं। यदि वहाँ कुल 15 रुपये हैं, तो 50 पैसे के कितने सिक्के हैं?

Options :

1. ✘ 20
2. ✔ 10
3. ✘ 16
4. ✘ 8

Question Number : 53 Question Id : 9662316673 Question Type : MCQ Option Shuffling : Yes Display Question Number : Yes
Single Line Question Option : No Option Orientation : Vertical

Correct Marks : 1 Wrong Marks : 0.25

X invested an amount of Rs. 6000 in a fixed deposit for 2 years at compound interest rate of 8% p.a. How much amount will he receive at maturity?

Options :

1. ✘ Rs. 6600
2. ✘ Rs. 6480
3. ✔ Rs. 6998.4
4. ✘ Rs. 7020.6

Question Number : 53 Question Id : 9662316673 Question Type : MCQ Option Shuffling : Yes Display Question Number : Yes
Single Line Question Option : No Option Orientation : Vertical

Correct Marks : 1 Wrong Marks : 0.25

X ने 2 वर्ष के लिए सावधि जमा में 8% p.a. चक्रवृद्धि ब्याज की दर से 6000 रुपये की धनराशि निवेशित की। परिपक्वता पर उसे कितनी धनराशि मिलेगी?

Options :

1. ✘ 6600 रुपये
2. ✘ 6480 रुपये
3. ✔ 6998.4 रुपये
4. ✘ 7020.6 रुपये

Question Number : 54 Question Id : 9662316674 Question Type : MCQ Option Shuffling : Yes Display Question Number : Yes
Single Line Question Option : No Option Orientation : Vertical

Correct Marks : 1 Wrong Marks : 0.25

In a flight of 1200 km, an aircraft was slowed down due to bad weather. Its average speed for the trip was reduced by 200 km/h and the time of flight was increased by an hour. What was the original duration of the flight?

Options :

1. ✘ 1 h
2. ✔ 2 h
3. ✘ 3 h
4. ✘ 4 h

Question Number : 54 Question Id : 9662316674 Question Type : MCQ Option Shuffling : Yes Display Question Number : Yes
Single Line Question Option : No Option Orientation : Vertical

Correct Marks : 1 Wrong Marks : 0.25

1200 किमी की उड़ान में, एक विमान खराब मौसम के कारण धीमा हो गया था। यात्रा के लिए इसकी औसत गति 200 किमी/घंटा कम हो गई थी और उड़ान का समय एक घंटा बढ़ गया था। उड़ान की मूल अवधि क्या थी?

Options :

1. ✘ 1 घंटा
2. ✔ 2 घंटे
3. ✘ 3 घंटे
4. ✘ 4 घंटे

Question Number : 55 Question Id : 9662316675 Question Type : MCQ Option Shuffling : Yes Display Question Number : Yes
Single Line Question Option : No Option Orientation : Vertical

Correct Marks : 1 Wrong Marks : 0.25

A can do a work in 16 days and B can do the work in 24 days. If they work together for 4 days, what fraction of work is left?

Options :

1. ✔ 7/12
2. ✘ 5/12
3. ✘ 5/6
4. ✘ 3/4

Question Number : 55 Question Id : 9662316675 Question Type : MCQ Option Shuffling : Yes Display Question Number : Yes
Single Line Question Option : No Option Orientation : Vertical

Correct Marks : 1 Wrong Marks : 0.25

A, 16 दिनों में एक कार्य पूरा कर सकता है और B वही कार्य 24 दिनों में कर सकता है। यदि वे 4 दिनों के लिए एक साथ काम करते हैं, तो काम का कितना अंश बचा है?

Options :

1. ✔ 7/12
2. ✘ 5/12
3. ✘ 5/6
4. ✘ 3/4

Question Number : 56 Question Id : 9662316676 Question Type : MCQ Option Shuffling : Yes Display Question Number : Yes
Single Line Question Option : No Option Orientation : Vertical

Correct Marks : 1 Wrong Marks : 0.25

A is thrice as good as workman as B and takes 40 days less than B. In how many days can they do the work by working together?

Options :

1. ✘ 12
2. ✘ 20
3. ✔ 15
4. ✘ 18

Question Number : 56 Question Id : 9662316676 Question Type : MCQ Option Shuffling : Yes Display Question Number : Yes
Single Line Question Option : No Option Orientation : Vertical

Correct Marks : 1 Wrong Marks : 0.25

A, B से तिगुना कुशल कारीगर है और B से 40 दिन कम लेता है। वे एक साथ काम करके उस काम को कितने दिनों में पूरा कर सकते हैं?

Options :

1. ✘ 12
2. ✘ 20
3. ✔ 15
4. ✘ 18

Question Number : 57 Question Id : 9662316677 Question Type : MCQ Option Shuffling : Yes Display Question Number : Yes
Single Line Question Option : No Option Orientation : Vertical

Correct Marks : 1 Wrong Marks : 0.25

What is the percentage increase in the area of a rectangle if each of its sides is increased by 25%?

Options :

1. ✘ 44 percent
2. ✘ 50 percent
3. ✔ 56.25 percent
4. ✘ 69 percent

Question Number : 57 Question Id : 9662316677 Question Type : MCQ Option Shuffling : Yes Display Question Number : Yes
Single Line Question Option : No Option Orientation : Vertical

Correct Marks : 1 Wrong Marks : 0.25

एक आयत के क्षेत्रफल में प्रतिशत वृद्धि क्या होगी यदि इसकी प्रत्येक भुजा में 25% की वृद्धि की गई है?

Options :

1. ✘ 44 प्रतिशत
2. ✘ 50 प्रतिशत
3. ✔ 56.25 प्रतिशत
4. ✘ 69 प्रतिशत

Question Number : 58 Question Id : 9662316678 Question Type : MCQ Option Shuffling : Yes Display Question Number : Yes
Single Line Question Option : No Option Orientation : Vertical

Correct Marks : 1 Wrong Marks : 0.25

A sphere of radius 9 cm is moulded to form a cylinder of radius 3 cm. Find the height of the cylinder.

Options :

1. ✘ 54 cm
2. ✔ 108 cm
3. ✘ 162 cm
4. ✘ 216 cm

Question Number : 58 Question Id : 9662316678 Question Type : MCQ Option Shuffling : Yes Display Question Number : Yes
Single Line Question Option : No Option Orientation : Vertical

Correct Marks : 1 Wrong Marks : 0.25

9 cm त्रिज्या वाले एक गोले को 3 cm की त्रिज्या वाला सिलेंडर बनाने के लिए ढाला जाता है। उस सिलेंडर की ऊँचाई ज्ञात करें।

Options :

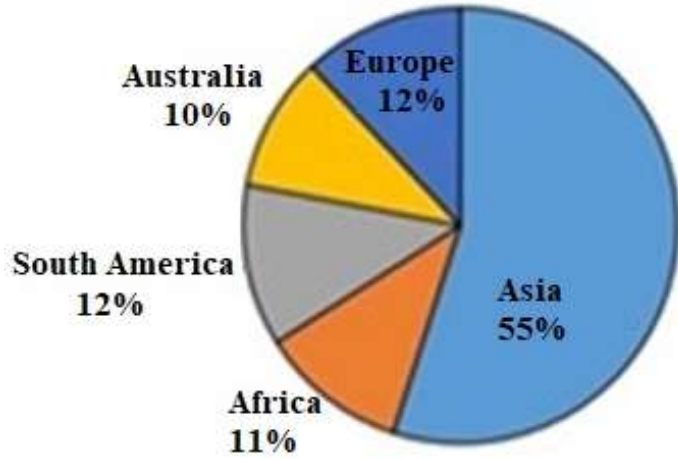
1. ✘ 54 cm
2. ✔ 108 cm
3. ✘ 162 cm
4. ✘ 216 cm

Question Number : 59 Question Id : 9662316679 Question Type : MCQ Option Shuffling : Yes Display Question Number : Yes
Single Line Question Option : No Option Orientation : Vertical

Correct Marks : 1 Wrong Marks : 0.25

The following pie chart shows the population of different continents. Number of people residing in Asia is 1,37,500. How many more people resides in South America compared to Australia?

Population in different Continents



Options :

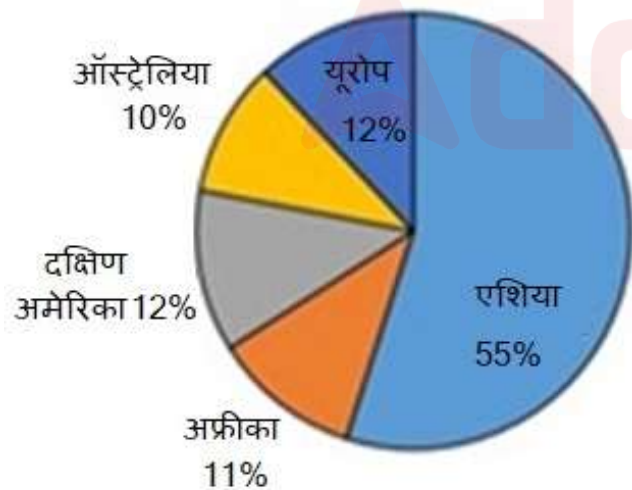
- ✘ 25000
- ✔ 5000
- ✘ 6000
- ✘ 30000

Question Number : 59 Question Id : 9662316679 Question Type : MCQ Option Shuffling : Yes Display Question Number : Yes Single Line Question Option : No Option Orientation : Vertical

Correct Marks : 1 Wrong Marks : 0.25

निम्न पाई चार्ट विभिन्न महाद्वीपों की जनसंख्या को दर्शाता है। एशिया में रहने वाले लोगों की संख्या 1,37,500 है। ऑस्ट्रेलिया की तुलना में दक्षिण अमेरिका में कितने अधिक लोग रहते हैं?

विभिन्न महाद्वीपों में जनसंख्या



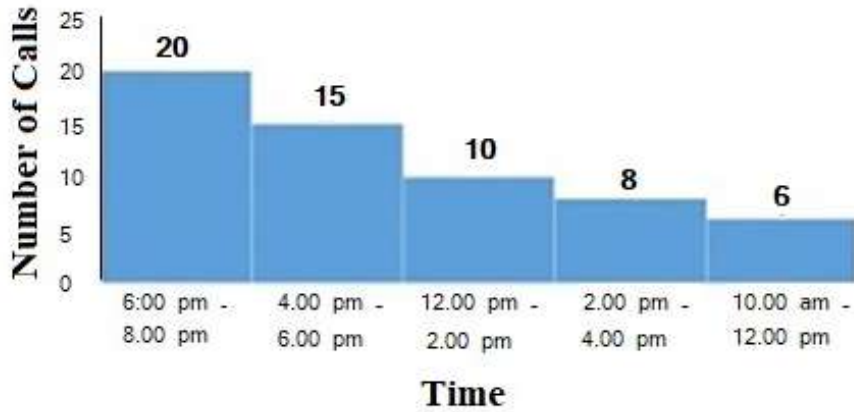
Options :

- ✘ 25000
- ✔ 5000
- ✘ 6000
- ✘ 30000

Question Number : 60 Question Id : 9662316680 Question Type : MCQ Option Shuffling : Yes Display Question Number : Yes Single Line Question Option : No Option Orientation : Vertical

Correct Marks : 1 Wrong Marks : 0.25

The following histogram shows the number of calls that a tourist company receives at different point of time in a day. What is the percentage increase in the number of calls received from the starting of the day (10:00 am to 12:00 pm) to the end of the day (6:00 pm to 8:00 pm)?



Options :

- ✗ 150.65 percent
- ✓ 233.33 percent
- ✗ 350.35 percent
- ✗ 192.45 percent

Question Number : 60 Question Id : 9662316680 Question Type : MCQ Option Shuffling : Yes Display Question Number : Yes Single Line Question Option : No Option Orientation : Vertical

Correct Marks : 1 Wrong Marks : 0.25

निम्न आयतचित्र उन कॉल की संख्या को दर्शाता है जो एक पर्यटक कंपनी एक दिन में विभिन्न बिंदुओं पर प्राप्त करती है। दिन की शुरु (10:00 am to 12:00 pm) आत से लेकर दिन के अंत (6:00 pm to 8:00 pm) तक प्राप्त कॉल की संख्या में होने वाली प्रतिशत वृद्धि क्या है?



Options :

- ✗ 150.65 प्रतिशत
- ✓ 233.33 प्रतिशत
- ✗ 350.35 प्रतिशत
- ✗ 192.45 प्रतिशत

General English

Group Number :

4

Group Id :

966231127

Group Maximum Duration :

0

Group Minimum Duration :

0

Revisit allowed for view? :	No
Revisit allowed for edit? :	No
Break time:	0
Group Marks:	20
Revisit allowed for group Instructions? :	Yes
Maximum Instruction Time:	0
Minimum Instruction Time:	0

General English

Section Id :	966231242
Section Number :	1
Section type :	Online
Mandatory or Optional:	Mandatory
Number of Questions:	16
Number of Questions to be attempted:	16
Section Marks:	20
Display Number Panel:	Yes
Group All Questions:	No

Sub-Section Number:	1
Sub-Section Id:	966231262
Question Shuffling Allowed :	Yes

Question Number : 61 Question Id : 9662316681 Question Type : MCQ Option Shuffling : Yes Display Question Number : Yes Single Line Question Option : No Option Orientation : Vertical

Correct Marks : 1 Wrong Marks : 0.25

In the following statement, one part of the sentence may have an error. Find out which part of the sentence has an error and click the button corresponding to it. If the sentence is free from error, select the "No error" option.

(A) There's Mr. Sachdev, / (B) whom they say is the / (C) best painter in the city. / (D) No error

Options :

1. ✘ A
2. ✔ B
3. ✘ C
4. ✘ D

Question Number : 61 Question Id : 9662316681 Question Type : MCQ Option Shuffling : Yes Display Question Number : Yes Single Line Question Option : No Option Orientation : Vertical

Correct Marks : 1 Wrong Marks : 0.25

In the following statement, one part of the sentence may have an error. Find out which part of the sentence has an error and click the button corresponding to it. If the sentence is free from error, select the "No error" option.

(A) There's Mr. Sachdev, / (B) whom they say is the / (C) best painter in the city. / (D) No error

Options :

1. ✘ A
2. ✔ B
3. ✘ C
4. ✘ D

Question Number : 62 Question Id : 9662316682 Question Type : MCQ Option Shuffling : Yes Display Question Number : Yes
Single Line Question Option : No Option Orientation : Vertical

Correct Marks : 1 Wrong Marks : 0.25

The sentence below has been divided into three parts. Select the part of the sentence that has an error. If the sentence has no error, select the option 'No Error'.

One of my friend is / a successful businessman / and an honest politician. / No Error

Options :

1. ✓ One of my friend is
2. ✗ a successful businessman
3. ✗ and an honest politician.
4. ✗ No Error

Question Number : 62 Question Id : 9662316682 Question Type : MCQ Option Shuffling : Yes Display Question Number : Yes
Single Line Question Option : No Option Orientation : Vertical

Correct Marks : 1 Wrong Marks : 0.25

The sentence below has been divided into three parts. Select the part of the sentence that has an error. If the sentence has no error, select the option 'No Error'.

One of my friend is / a successful businessman / and an honest politician. / No Error

Options :

1. ✓ One of my friend is
2. ✗ a successful businessman
3. ✗ and an honest politician.
4. ✗ No Error

Question Number : 63 Question Id : 9662316683 Question Type : MCQ Option Shuffling : Yes Display Question Number : Yes
Single Line Question Option : No Option Orientation : Vertical

Correct Marks : 1 Wrong Marks : 0.25

Replace the words in the bracket from the set of options given.

Sanjana lived in Bombay (between) 2010 to 2015.

Options :

1. ✓ from
2. ✗ since
3. ✗ within
4. ✗ in

Question Number : 63 Question Id : 9662316683 Question Type : MCQ Option Shuffling : Yes Display Question Number : Yes
Single Line Question Option : No Option Orientation : Vertical

Correct Marks : 1 Wrong Marks : 0.25

Replace the words in the bracket from the set of options given.

Sanjana lived in Bombay (between) 2010 to 2015.

Options :

1. ✓ from
2. ✗ since
3. ✗ within
4. ✗ in

Question Number : 64 Question Id : 9662316684 Question Type : MCQ Option Shuffling : Yes Display Question Number : Yes
Single Line Question Option : No Option Orientation : Vertical

Correct Marks : 1 Wrong Marks : 0.25

Select the option that can correctly replace the highlighted word or phrase and make the sentence grammatically correct. Select the 'No correction required' option if the sentence is correct as it is given.

Resham is tired as she (is working) since six in the morning.

Options :

- ✘ has worked
- ✘ was worked
- ✔ has been working
- ✘ had been working

Question Number : 64 Question Id : 9662316684 Question Type : MCQ Option Shuffling : Yes Display Question Number : Yes
Single Line Question Option : No Option Orientation : Vertical

Correct Marks : 1 Wrong Marks : 0.25

Select the option that can correctly replace the highlighted word or phrase and make the sentence grammatically correct. Select the 'No correction required' option if the sentence is correct as it is given.

Resham is tired as she (is working) since six in the morning.

Options :

- ✘ has worked
- ✘ was worked
- ✔ has been working
- ✘ had been working

Question Number : 65 Question Id : 9662316685 Question Type : MCQ Option Shuffling : Yes Display Question Number : Yes
Single Line Question Option : No Option Orientation : Vertical

Correct Marks : 1 Wrong Marks : 0.25

Select the option that correctly (and most appropriately) fills in the blank and completes the sentence below.

The little boy fell _____ the horse.

Options :

- ✘ from
- ✔ off
- ✘ down
- ✘ about

Question Number : 65 Question Id : 9662316685 Question Type : MCQ Option Shuffling : Yes Display Question Number : Yes
Single Line Question Option : No Option Orientation : Vertical

Correct Marks : 1 Wrong Marks : 0.25

Select the option that correctly (and most appropriately) fills in the blank and completes the sentence below.

The little boy fell _____ the horse.

Options :

- ✘ from
- ✔ off
- ✘ down
- ✘ about

Question Number : 66 Question Id : 9662316686 Question Type : MCQ Option Shuffling : Yes Display Question Number : Yes
Single Line Question Option : No Option Orientation : Vertical

Correct Marks : 1 Wrong Marks : 0.25

The questions below consist of a set of labelled parts of a sentence. Out of four options given, select the most logical order of the parts which form a coherent sentence.

The trademark law

P : or trader an exclusive right

Q : in the use of a mark to identify his

R : grants the manufacturer

S : goods and distinguish them from others

Options :

1. ✓ RPQS

2. ✗ QSPR

3. ✗ PQSR

4. ✗ SQPR

Question Number : 66 Question Id : 9662316686 Question Type : MCQ Option Shuffling : Yes Display Question Number : Yes
Single Line Question Option : No Option Orientation : Vertical

Correct Marks : 1 Wrong Marks : 0.25

The questions below consist of a set of labelled parts of a sentence. Out of four options given, select the most logical order of the parts which form a coherent sentence.

The trademark law

P : or trader an exclusive right

Q : in the use of a mark to identify his

R : grants the manufacturer

S : goods and distinguish them from others

Options :

1. ✓ RPQS

2. ✗ QSPR

3. ✗ PQSR

4. ✗ SQPR

Question Number : 67 Question Id : 9662316687 Question Type : MCQ Option Shuffling : Yes Display Question Number : Yes
Single Line Question Option : No Option Orientation : Vertical

Correct Marks : 1 Wrong Marks : 0.25

Out of the four alternatives, choose the word which best expresses the meaning of the given word.

Adjunct

Options :

1. ✗ Forgive

2. ✓ Added

3. ✗ Soft

4. ✗ Native

Question Number : 67 Question Id : 9662316687 Question Type : MCQ Option Shuffling : Yes Display Question Number : Yes
Single Line Question Option : No Option Orientation : Vertical

Correct Marks : 1 Wrong Marks : 0.25

Out of the four alternatives, choose the word which best expresses the meaning of the given word.

Adjunct

Options :

- ✘ Forgive
- ✔ Added
- ✘ Soft
- ✘ Native

Question Number : 68 Question Id : 9662316688 Question Type : MCQ Option Shuffling : Yes Display Question Number : Yes
Single Line Question Option : No Option Orientation : Vertical

Correct Marks : 1 Wrong Marks : 0.25

Out of the four alternatives, choose the word which is OPPOSITE in meaning to the given word.

Timid

Options :

- ✔ Bold
- ✘ Coward
- ✘ Organize
- ✘ Loyal

Question Number : 68 Question Id : 9662316688 Question Type : MCQ Option Shuffling : Yes Display Question Number : Yes
Single Line Question Option : No Option Orientation : Vertical

Correct Marks : 1 Wrong Marks : 0.25

Out of the four alternatives, choose the word which is OPPOSITE in meaning to the given word.

Timid

Options :

- ✔ Bold
- ✘ Coward
- ✘ Organize
- ✘ Loyal

Question Number : 69 Question Id : 9662316689 Question Type : MCQ Option Shuffling : Yes Display Question Number : Yes
Single Line Question Option : No Option Orientation : Vertical

Correct Marks : 1 Wrong Marks : 0.25

Four words are given, out of which only one word is spelt correctly. Choose the correctly spelt word.

Options :

- ✘ Uncauth
- ✘ Uncout
- ✔ Uncouth
- ✘ Uncaoth

Question Number : 69 Question Id : 9662316689 Question Type : MCQ Option Shuffling : Yes Display Question Number : Yes
Single Line Question Option : No Option Orientation : Vertical

Correct Marks : 1 Wrong Marks : 0.25

Four words are given, out of which only one word is spelt correctly. Choose the correctly spelt word.

Options :

- ✘ Uncauth
- ✘ Uncout
- ✔ Uncouth
- ✘ Uncaoth

Question Number : 70 Question Id : 9662316690 Question Type : MCQ Option Shuffling : Yes Display Question Number : Yes
Single Line Question Option : No Option Orientation : Vertical

Correct Marks : 1 Wrong Marks : 0.25

Four words are given, out of which only one word is spelt correctly. Choose the correctly spelt word.

Options :

1. ✘ Paraphernailea
2. ✘ Paraphenailea
3. ✘ Paraphenalia
4. ✔ Paraphernalia

Question Number : 70 Question Id : 9662316690 Question Type : MCQ Option Shuffling : Yes Display Question Number : Yes
Single Line Question Option : No Option Orientation : Vertical

Correct Marks : 1 Wrong Marks : 0.25

Four words are given, out of which only one word is spelt correctly. Choose the correctly spelt word.

Options :

1. ✘ Paraphernailea
2. ✘ Paraphenailea
3. ✘ Paraphenalia
4. ✔ Paraphernalia

Question Number : 71 Question Id : 9662316691 Question Type : MCQ Option Shuffling : Yes Display Question Number : Yes
Single Line Question Option : No Option Orientation : Vertical

Correct Marks : 1 Wrong Marks : 0.25

Select the word that is spelled correctly.

Options :

1. ✔ Accurate
2. ✘ Acurate
3. ✘ Accurrate
4. ✘ Acurrate

Question Number : 71 Question Id : 9662316691 Question Type : MCQ Option Shuffling : Yes Display Question Number : Yes
Single Line Question Option : No Option Orientation : Vertical

Correct Marks : 1 Wrong Marks : 0.25

Select the word that is spelled correctly.

Options :

1. ✔ Accurate
2. ✘ Acurate
3. ✘ Accurrate
4. ✘ Acurrate

Question Number : 72 Question Id : 9662316692 Question Type : MCQ Option Shuffling : Yes Display Question Number : Yes
Single Line Question Option : No Option Orientation : Vertical

Correct Marks : 1 Wrong Marks : 0.25

What does the following idiom mean?

A blue stocking

Options :

1. ✘ A coward woman.
2. ✘ A cunning woman.

3. ✘ A smart man.
4. ✔ An intellectual woman.

Question Number : 72 Question Id : 9662316692 Question Type : MCQ Option Shuffling : Yes Display Question Number : Yes
Single Line Question Option : No Option Orientation : Vertical

Correct Marks : 1 Wrong Marks : 0.25

What does the following idiom mean?

A blue stocking

Options :

1. ✘ A coward woman.
2. ✘ A cunning woman.
3. ✘ A smart man.
4. ✔ An intellectual woman.

Question Number : 73 Question Id : 9662316693 Question Type : MCQ Option Shuffling : Yes Display Question Number : Yes
Single Line Question Option : No Option Orientation : Vertical

Correct Marks : 1 Wrong Marks : 0.25

What does the following idiom mean?

Light years away

Options :

1. ✔ To be very far.
2. ✘ To get enlightened.
3. ✘ To get very close to someone.
4. ✘ Light travels faster than sound.

Question Number : 73 Question Id : 9662316693 Question Type : MCQ Option Shuffling : Yes Display Question Number : Yes
Single Line Question Option : No Option Orientation : Vertical

Correct Marks : 1 Wrong Marks : 0.25

What does the following idiom mean?

Light years away

Options :

1. ✔ To be very far.
2. ✘ To get enlightened.
3. ✘ To get very close to someone.
4. ✘ Light travels faster than sound.

Question Number : 74 Question Id : 9662316694 Question Type : MCQ Option Shuffling : Yes Display Question Number : Yes
Single Line Question Option : No Option Orientation : Vertical

Correct Marks : 1 Wrong Marks : 0.25

In the following question, out of four alternatives, select the alternative which is the best substitute of the words/sentences.

One who is bad at spellings.

Options :

1. ✘ Connoisseur
2. ✔ Cacographer
3. ✘ Convalescent

4. ✖ Bohemian

Question Number : 74 Question Id : 9662316694 Question Type : MCQ Option Shuffling : Yes Display Question Number : Yes
Single Line Question Option : No Option Orientation : Vertical

Correct Marks : 1 Wrong Marks : 0.25

In the following question, out of four alternatives, select the alternative which is the best substitute of the words/sentences.

One who is bad at spellings.

Options :

1. ✖ Connoisseur
2. ✔ Cacographer
3. ✖ Convalescent
4. ✖ Bohemian

Question Number : 75 Question Id : 9662316695 Question Type : MCQ Option Shuffling : Yes Display Question Number : Yes
Single Line Question Option : No Option Orientation : Vertical

Correct Marks : 1 Wrong Marks : 0.25

In the following question, out of four alternatives, select the alternative which is the best substitute of the words/sentences.

A disease which attacks many people in a particular area in one time.

Options :

1. ✖ Estivate
2. ✖ Epilogue
3. ✖ Chronic
4. ✔ Epidemic

Question Number : 75 Question Id : 9662316695 Question Type : MCQ Option Shuffling : Yes Display Question Number : Yes
Single Line Question Option : No Option Orientation : Vertical

Correct Marks : 1 Wrong Marks : 0.25

In the following question, out of four alternatives, select the alternative which is the best substitute of the words/sentences.

A disease which attacks many people in a particular area in one time.

Options :

1. ✖ Estivate
2. ✖ Epilogue
3. ✖ Chronic
4. ✔ Epidemic

Sub-Section Number:	2
Sub-Section Id:	966231263
Question Shuffling Allowed :	Yes

Question Id : 9662316696 Question Type : COMPREHENSION Sub Question Shuffling Allowed : Yes Group Comprehension Questions : No

Question Numbers : (76 to 80)

Question Label : Comprehension

Read the passage carefully and answer the given question:

In ancient Roman mythology Aurora, goddess of the dawn, renews herself every morning and flies across the sky, announcing the arrival of the sun. She has two siblings – a brother Sol, the sun and a sister Luna, the moon. A myth taken from the Greek Eos by Roman poets tells that one of her lovers was the prince of Troy, Tithonus. Tithonus was a mortal, and would age and die. Wanting to be with her lover for all eternity, Aurora asked Zeus to grant immortality to Tithonus. Zeus granted her wish, however Aurora had failed to ask him for eternal youth. As a result, Tithonus ended up ageing eternally. Aurora ended up turning her beloved into a grasshopper.

Sub questions

Question Number : 76 Question Id : 9662316697 Question Type : MCQ Option Shuffling : Yes Display Question Number : Yes Single Line Question Option : No Option Orientation : Vertical

Correct Marks : 1 Wrong Marks : 0.25

What does Aurora announce every morning while flying across the sky?

Options :

1. ✘ Arrival of the moon
2. ✔ Arrival of the sun
3. ✘ Arrival of the evening
4. ✘ Arrival of the storm

Question Number : 77 Question Id : 9662316698 Question Type : MCQ Option Shuffling : Yes Display Question Number : Yes Single Line Question Option : No Option Orientation : Vertical

Correct Marks : 1 Wrong Marks : 0.25

Who is the prince of Troy?

Options :

1. ✘ Sol
2. ✘ Aurora
3. ✘ Zeus
4. ✔ Tithonus

Question Number : 78 Question Id : 9662316699 Question Type : MCQ Option Shuffling : Yes Display Question Number : Yes Single Line Question Option : No Option Orientation : Vertical

Correct Marks : 1 Wrong Marks : 0.25

What was the myth taken from Greek Eos?

Options :

1. ✔ Tithonus was the lover of Aurora.
2. ✘ Aurora was the goddess of dawn.
3. ✘ Tithonus was about to die.
4. ✘ Aurora was the sister of Luna.

Question Number : 79 Question Id : 9662316700 Question Type : MCQ Option Shuffling : Yes Display Question Number : Yes Single Line Question Option : No Option Orientation : Vertical

Correct Marks : 1 Wrong Marks : 0.25

Why did Aurora ask Zeus to grant immortality to Tithonus?

Options :

1. ✘ Tithonus was about to die.
2. ✔ Aurora could live with her lover Tithonus for eternity.
3. ✘ Tithonus was the god of dawn.
4. ✘ Tithonus was the prince of Rome.

Question Number : 80 Question Id : 9662316701 Question Type : MCQ Option Shuffling : Yes Display Question Number : Yes
Single Line Question Option : No Option Orientation : Vertical

Correct Marks : 1 Wrong Marks : 0.25

Whom did Aurora turn into a grasshopper?

Options :

- ✘ Sol
- ✘ Luna
- ✘ Zeus
- ✔ Tithonus

Question Id : 9662316696 Question Type : COMPREHENSION Sub Question Shuffling Allowed : Yes Group Comprehension
Questions : No

Question Numbers : (76 to 80)

Question Label : Comprehension

Read the passage carefully and answer the given question:

In ancient Roman mythology Aurora, goddess of the dawn, renews herself every morning and flies across the sky, announcing the arrival of the sun. She has two siblings – a brother Sol, the sun and a sister Luna, the moon. A myth taken from the Greek Eos by Roman poets tells that one of her lovers was the prince of Troy, Tithonus. Tithonus was a mortal, and would age and die. Wanting to be with her lover for all eternity, Aurora asked Zeus to grant immortality to Tithonus. Zeus granted her wish, however Aurora had failed to ask him for eternal youth. As a result, Tithonus ended up ageing eternally. Aurora ended up turning her beloved into a grasshopper.

Sub questions

Question Number : 76 Question Id : 9662316697 Question Type : MCQ Option Shuffling : Yes Display Question Number : Yes
Single Line Question Option : No Option Orientation : Vertical

Correct Marks : 1 Wrong Marks : 0.25

What does Aurora announce every morning while flying across the sky?

Options :

- ✘ Arrival of the moon
- ✔ Arrival of the sun
- ✘ Arrival of the evening
- ✘ Arrival of the storm

Question Number : 77 Question Id : 9662316698 Question Type : MCQ Option Shuffling : Yes Display Question Number : Yes
Single Line Question Option : No Option Orientation : Vertical

Correct Marks : 1 Wrong Marks : 0.25

Who is the prince of Troy?

Options :

- ✘ Sol
- ✘ Aurora
- ✘ Zeus
- ✔ Tithonus

Question Number : 78 Question Id : 9662316699 Question Type : MCQ Option Shuffling : Yes Display Question Number : Yes
Single Line Question Option : No Option Orientation : Vertical

Correct Marks : 1 Wrong Marks : 0.25

What was the myth taken from Greek Eos?

Options :

- ✔ Tithonus was the lover of Aurora.
- ✘ Aurora was the goddess of dawn.

3. ✘ Tithonus was about to die.
4. ✘ Aurora was the sister of Luna.

Question Number : 79 Question Id : 9662316700 Question Type : MCQ Option Shuffling : Yes Display Question Number : Yes
Single Line Question Option : No Option Orientation : Vertical

Correct Marks : 1 Wrong Marks : 0.25

Why did Aurora ask Zeus to grant immortality to Tithonus?

Options :

1. ✘ Tithonus was about to die.
2. ✔ Aurora could live with her lover Tithonus for eternity.
3. ✘ Tithonus was the god of dawn.
4. ✘ Tithonus was the prince of Rome.

Question Number : 80 Question Id : 9662316701 Question Type : MCQ Option Shuffling : Yes Display Question Number : Yes
Single Line Question Option : No Option Orientation : Vertical

Correct Marks : 1 Wrong Marks : 0.25

Whom did Aurora turn into a grasshopper?

Options :

1. ✘ Sol
2. ✘ Luna
3. ✘ Zeus
4. ✔ Tithonus

General Hindi

Group Number :	5
Group Id :	966231128
Group Maximum Duration :	0
Group Minimum Duration :	0
Revisit allowed for view? :	No
Revisit allowed for edit? :	No
Break time:	0
Group Marks:	20
Revisit allowed for group Instructions? :	Yes
Maximum Instruction Time:	0
Minimum Instruction Time:	0

General Hindi

Section Id :	966231243
Section Number :	1
Section type :	Online
Mandatory or Optional:	Mandatory
Number of Questions:	16
Number of Questions to be attempted:	16
Section Marks:	20
Display Number Panel:	Yes
Group All Questions:	No

Sub-Section Number: 1
Sub-Section Id: 966231264
Question Shuffling Allowed : Yes

Question Number : 81 Question Id : 9662316702 Question Type : MCQ Option Shuffling : Yes Display Question Number : Yes
Single Line Question Option : No Option Orientation : Vertical

Correct Marks : 1 Wrong Marks : 0.25

निम्नलिखित प्रश्न में, चार विकल्पों में से, उस विकल्प का चयन करें जो उपसर्ग से बना है।

Options :

1. ✘ अमरता
2. ✘ वंचित
3. ✘ व्यंजित
4. ✔ संभव

Question Number : 81 Question Id : 9662316702 Question Type : MCQ Option Shuffling : Yes Display Question Number : Yes
Single Line Question Option : No Option Orientation : Vertical

Correct Marks : 1 Wrong Marks : 0.25

निम्नलिखित प्रश्न में, चार विकल्पों में से, उस विकल्प का चयन करें जो उपसर्ग से बना है।

Options :

1. ✘ अमरता
2. ✘ वंचित
3. ✘ व्यंजित
4. ✔ संभव

Question Number : 82 Question Id : 9662316703 Question Type : MCQ Option Shuffling : Yes Display Question Number : Yes
Single Line Question Option : No Option Orientation : Vertical

Correct Marks : 1 Wrong Marks : 0.25

निम्नलिखित प्रश्न में, चार विकल्पों में से, उस सही विकल्प का चयन करें जो प्रत्यय से बना शब्द है।

Options :

1. ✘ अपवित्र
2. ✔ कीमती
3. ✘ सटीक
4. ✘ आभाव

Question Number : 82 Question Id : 9662316703 Question Type : MCQ Option Shuffling : Yes Display Question Number : Yes
Single Line Question Option : No Option Orientation : Vertical

Correct Marks : 1 Wrong Marks : 0.25

निम्नलिखित प्रश्न में, चार विकल्पों में से, उस सही विकल्प का चयन करें जो प्रत्यय से बना शब्द है।

Options :

1. ✘ अपवित्र
2. ✔ कीमती
3. ✘ सटीक
4. ✘ आभाव

Question Number : 83 Question Id : 9662316704 Question Type : MCQ Option Shuffling : Yes Display Question Number : Yes
Single Line Question Option : No Option Orientation : Vertical

Correct Marks : 1 Wrong Marks : 0.25

निम्नलिखित प्रश्न में, चार विकल्पों में से, रिक्त स्थान के लिए निर्देशानुसार उचित विकल्प का चयन करें।

सुमन यहाँ रहेगी, _____ तुम्हें जाना होगा। (समानाधिकरण समुच्चयबोधक)

Options :

1. ✘ अथवा
2. ✔ परंतु
3. ✘ किन्तु
4. ✘ या

Question Number : 83 Question Id : 9662316704 Question Type : MCQ Option Shuffling : Yes Display Question Number : Yes
Single Line Question Option : No Option Orientation : Vertical

Correct Marks : 1 Wrong Marks : 0.25

निम्नलिखित प्रश्न में, चार विकल्पों में से, रिक्त स्थान के लिए निर्देशानुसार उचित विकल्प का चयन करें

सुमन यहाँ रहेगी, ----- तुम्हें जाना होगा। (समानाधिकरण समुच्चयबोधक)

Options :

1. ✘ अथवा
2. ✔ परंतु
3. ✘ किन्तु
4. ✘ या

Question Number : 84 Question Id : 9662316705 Question Type : MCQ Option Shuffling : Yes Display Question Number : Yes
Single Line Question Option : No Option Orientation : Vertical

Correct Marks : 1 Wrong Marks : 0.25

निम्नलिखित प्रश्न में, चार विकल्पों में से, उस विकल्प का चयन करें जो दिए गए शब्द का तत्सम रूप हो

गेंद

Options :

1. ✘ चटका
2. ✔ कंदुक
3. ✘ घोरक
4. ✘ कपोत

Question Number : 84 Question Id : 9662316705 Question Type : MCQ Option Shuffling : Yes Display Question Number : Yes
Single Line Question Option : No Option Orientation : Vertical

Correct Marks : 1 Wrong Marks : 0.25

निम्नलिखित प्रश्न में, चार विकल्पों में से, उस विकल्प का चयन करें जो दिए गए शब्द का तत्सम रूप हो

गेंद

Options :

1. ✘ चटका
2. ✔ कंदुक
3. ✘ घोरक
4. ✘ कपोत

Question Number : 85 Question Id : 9662316706 Question Type : MCQ Option Shuffling : Yes Display Question Number : Yes
Single Line Question Option : No Option Orientation : Vertical

Correct Marks : 1 Wrong Marks : 0.25

निम्नलिखित प्रश्न में, चार विकल्पों में से, उस विकल्प का चयन करें जो समानार्थी शब्द का सही विकल्प नहीं है

इशारा

Options :

1. ✘ सैन

2. ✓ वश
3. ✗ लक्ष्य
4. ✗ इंगित

Question Number : 85 Question Id : 9662316706 Question Type : MCQ Option Shuffling : Yes Display Question Number : Yes
Single Line Question Option : No Option Orientation : Vertical

Correct Marks : 1 Wrong Marks : 0.25

निम्नलिखित प्रश्न में, चार विकल्पों में से, उस विकल्प का चयन करें जो समानार्थी शब्द का सही विकल्प नहीं है।

इशारा

Options :

1. ✗ सैन
2. ✓ वश
3. ✗ लक्ष्य
4. ✗ इंगित

Question Number : 86 Question Id : 9662316707 Question Type : MCQ Option Shuffling : Yes Display Question Number : Yes
Single Line Question Option : No Option Orientation : Vertical

Correct Marks : 1 Wrong Marks : 0.25

निम्नलिखित प्रश्न में, चार विकल्पों में से, उस विकल्प का चयन करें जो विलोम शब्द का सबसे अच्छा विकल्प है।

उत्क्रुण

Options :

1. ✗ धन
2. ✗ मुक्त
3. ✗ ऋण
4. ✓ ऋणी

Question Number : 86 Question Id : 9662316707 Question Type : MCQ Option Shuffling : Yes Display Question Number : Yes
Single Line Question Option : No Option Orientation : Vertical

Correct Marks : 1 Wrong Marks : 0.25

निम्नलिखित प्रश्न में, चार विकल्पों में से, उस विकल्प का चयन करें जो विलोम शब्द का सबसे अच्छा विकल्प है।

उत्क्रुण

Options :

1. ✗ धन
2. ✗ मुक्त
3. ✗ ऋण
4. ✓ ऋणी

Question Number : 87 Question Id : 9662316708 Question Type : MCQ Option Shuffling : Yes Display Question Number : Yes
Single Line Question Option : No Option Orientation : Vertical

Correct Marks : 1 Wrong Marks : 0.25

निम्नलिखित प्रश्न में, चार विकल्पों में से, उस विकल्प का चयन करें जो रेखांकित शब्द के लिए उचित विकल्प हो।

पुलिस को देखते ही चोर के चेहरे पर _____ उड़ने लगी।

Options :

1. ✗ दवाइयाँ
2. ✗ मछलियाँ
3. ✗ खुशियाँ

4. ✓ हवाइयाँ

Question Number : 87 Question Id : 9662316708 Question Type : MCQ Option Shuffling : Yes Display Question Number : Yes
Single Line Question Option : No Option Orientation : Vertical

Correct Marks : 1 Wrong Marks : 0.25

निम्नलिखित प्रश्न में, चार विकल्पों में से, उस विकल्प का चयन करे जो रेखांकित शब्द के लिए उचित विकल्प हो।

पुलिस को देखते ही चोर के चेहरे पर _____ उड़ने लगीं।

Options :

1. ✗ दवाइयाँ
2. ✗ मछलियाँ
3. ✗ खुशियाँ
4. ✓ हवाइयाँ

Question Number : 88 Question Id : 9662316709 Question Type : MCQ Option Shuffling : Yes Display Question Number : Yes
Single Line Question Option : No Option Orientation : Vertical

Correct Marks : 1 Wrong Marks : 0.25

निम्नलिखित प्रश्न में, चार विकल्पों में से, उस सही विकल्प का चयन करें जो वाक्यांशों के लिए एक शब्द का विकल्प हो।

जहाँ जाना संभव न हो।

Options :

1. ✗ अग्रज
2. ✓ अगम्य
3. ✗ आलोचक
4. ✗ अक्षम्य

Question Number : 88 Question Id : 9662316709 Question Type : MCQ Option Shuffling : Yes Display Question Number : Yes
Single Line Question Option : No Option Orientation : Vertical

Correct Marks : 1 Wrong Marks : 0.25

निम्नलिखित प्रश्न में, चार विकल्पों में से, उस सही विकल्प का चयन करें जो वाक्यांशों के लिए एक शब्द का विकल्प हो।

जहाँ जाना संभव न हो।

Options :

1. ✗ अग्रज
2. ✓ अगम्य
3. ✗ आलोचक
4. ✗ अक्षम्य

Question Number : 89 Question Id : 9662316710 Question Type : MCQ Option Shuffling : Yes Display Question Number : Yes
Single Line Question Option : No Option Orientation : Vertical

Correct Marks : 1 Wrong Marks : 0.25

निम्नलिखित प्रश्न में, चार विकल्पों में से, उस सही विकल्प का चयन करें जो रेखांकित शब्द का निर्देशानुसार सही विकल्प हो।

रोगी से बोला भी _____। (नकारात्मक)

Options :

1. ✗ नहीं
2. ✗ गया
3. ✓ नहीं जा रहा
4. ✗ जा रहा है।

Question Number : 89 Question Id : 9662316710 Question Type : MCQ Option Shuffling : Yes Display Question Number : Yes
Single Line Question Option : No Option Orientation : Vertical

Correct Marks : 1 Wrong Marks : 0.25

निम्नलिखित प्रश्न में, चार विकल्पों में से, उस सही विकल्प का चयन करें जो रेखांकित शब्द का निर्देशानुसार सही विकल्प हो

रोगी से बोला भी _____। (नकारात्मक)

Options :

1. ✘ नहीं
2. ✘ गया
3. ✔ नहीं जा रहा
4. ✘ जा रहा है

Question Number : 90 Question Id : 9662316711 Question Type : MCQ Option Shuffling : Yes Display Question Number : Yes
Single Line Question Option : No Option Orientation : Vertical

Correct Marks : 1 Wrong Marks : 0.25

निम्नलिखित प्रश्न में, चार विकल्पों में से, उस विकल्प का चयन करें जो सही वाक्य भेद का विकल्प हो

दीपा बगीचे में घूमने जा रही है

Options :

1. ✘ मिश्र वाक्य
2. ✘ संयुक्त वाक्य
3. ✘ निषेधवाचक वाक्य
4. ✔ सरल वाक्य

Question Number : 90 Question Id : 9662316711 Question Type : MCQ Option Shuffling : Yes Display Question Number : Yes
Single Line Question Option : No Option Orientation : Vertical

Correct Marks : 1 Wrong Marks : 0.25

निम्नलिखित प्रश्न में, चार विकल्पों में से, उस विकल्प का चयन करें जो सही वाक्य भेद का विकल्प हो

दीपा बगीचे में घूमने जा रही है

Options :

1. ✘ मिश्र वाक्य
2. ✘ संयुक्त वाक्य
3. ✘ निषेधवाचक वाक्य
4. ✔ सरल वाक्य

Question Number : 91 Question Id : 9662316712 Question Type : MCQ Option Shuffling : Yes Display Question Number : Yes
Single Line Question Option : No Option Orientation : Vertical

Correct Marks : 1 Wrong Marks : 0.25

निम्नलिखित प्रश्न में, चार विकल्पों में से, उस विकल्प का चयन करें जो सही वाक्य भेद का विकल्प हो

कठिन से कठिन मुसीबत आने पर भी वह घबराता नहीं है।

Options :

1. ✘ संयुक्त वाक्य
2. ✔ मिश्र वाक्य
3. ✘ संदेहवाचक वाक्य
4. ✘ संकेतवाचक वाक्य

Question Number : 91 Question Id : 9662316712 Question Type : MCQ Option Shuffling : Yes Display Question Number : Yes
Single Line Question Option : No Option Orientation : Vertical

Correct Marks : 1 Wrong Marks : 0.25

निम्नलिखित प्रश्न में, चार विकल्पों में से, उस विकल्प का चयन करें जो सही वाक्य भेद का विकल्प हो

कठिन से कठिन मुसीबत आने पर भी वह घबराता नहीं है।

Options :

1. ✘ संयुक्त वाक्य
2. ✔ मिश्र वाक्य
3. ✘ संदेहवाचक वाक्य
4. ✘ संकेतवाचक वाक्य

Question Number : 92 Question Id : 9662316713 Question Type : MCQ Option Shuffling : Yes Display Question Number : Yes
Single Line Question Option : No Option Orientation : Vertical

Correct Marks : 1 Wrong Marks : 0.25

निम्नलिखित प्रश्न में, चार विकल्पों में से, उस विकल्प का चयन करें जो विलोम शब्द का सबसे अच्छा विकल्प है।

छुट्टियाँ होती हैं और हम घूमने चले जाते हैं।

Options :

1. ✘ विधानवाचक वाक्य
2. ✘ सरल वाक्य
3. ✘ मिश्र वाक्य
4. ✔ संयुक्त वाक्य

Question Number : 92 Question Id : 9662316713 Question Type : MCQ Option Shuffling : Yes Display Question Number : Yes
Single Line Question Option : No Option Orientation : Vertical

Correct Marks : 1 Wrong Marks : 0.25

निम्नलिखित प्रश्न में, चार विकल्पों में से, उस विकल्प का चयन करें जो विलोम शब्द का सबसे अच्छा विकल्प है।

छुट्टियाँ होती हैं और हम घूमने चले जाते हैं।

Options :

1. ✘ विधानवाचक वाक्य
2. ✘ सरल वाक्य
3. ✘ मिश्र वाक्य
4. ✔ संयुक्त वाक्य

Question Number : 93 Question Id : 9662316714 Question Type : MCQ Option Shuffling : Yes Display Question Number : Yes
Single Line Question Option : No Option Orientation : Vertical

Correct Marks : 1 Wrong Marks : 0.25

निम्नलिखित प्रश्न में, चार विकल्पों में से, उस विकल्प का चयन करें जो दिए गए मुहावरे का सही अर्थ वाला विकल्प है।

तुरंत दान महा कल्याण

Options :

1. ✔ नकद सौदा करने में अधिक लाभ रहता है।
2. ✘ दान देना।
3. ✘ गरीबों की मदद करना।
4. ✘ दूसरों का सहारा बनना।

Question Number : 93 Question Id : 9662316714 Question Type : MCQ Option Shuffling : Yes Display Question Number : Yes
Single Line Question Option : No Option Orientation : Vertical

Correct Marks : 1 Wrong Marks : 0.25

निम्नलिखित प्रश्न में, चार विकल्पों में से, उस विकल्प का चयन करें जो दिए गए मुहावरे का सही अर्थ वाला विकल्प है।

तुरंत दान महा कल्याण

Options :

1. ✓ नकद सौदा करने में अधिक लाभ रहता है।
2. ✗ दान देना।
3. ✗ गरीबों की मदद करना।
4. ✗ दूसरों का सहारा बनना।

Question Number : 94 Question Id : 9662316715 Question Type : MCQ Option Shuffling : Yes Display Question Number : Yes
Single Line Question Option : No Option Orientation : Vertical

Correct Marks : 1 Wrong Marks : 0.25

निम्नलिखित प्रश्न में, चार विकल्पों में से, उस विकल्प का चयन करें जो दिए गए मुहावरे का सही अर्थ वाला विकल्प है।

फंदा काटना।

Options :

1. ✗ रस्सी काटना।
2. ✓ मुक्ति देना।
3. ✗ निश्चिन्त होना।
4. ✗ संकट से निकलना।

Question Number : 94 Question Id : 9662316715 Question Type : MCQ Option Shuffling : Yes Display Question Number : Yes
Single Line Question Option : No Option Orientation : Vertical

Correct Marks : 1 Wrong Marks : 0.25

निम्नलिखित प्रश्न में, चार विकल्पों में से, उस विकल्प का चयन करें जो दिए गए मुहावरे का सही अर्थ वाला विकल्प है।

फंदा काटना।

Options :

1. ✗ रस्सी काटना।
2. ✓ मुक्ति देना।
3. ✗ निश्चिन्त होना।
4. ✗ संकट से निकलना।

Question Number : 95 Question Id : 9662316716 Question Type : MCQ Option Shuffling : Yes Display Question Number : Yes
Single Line Question Option : No Option Orientation : Vertical

Correct Marks : 1 Wrong Marks : 0.25

निम्नलिखित प्रश्न में, चार विकल्पों में से, उस विकल्प का चयन करें जो विराम चिह्न युक्त वाक्य का सही विकल्प हो।

Options :

1. ✗ प्रेमचंद का जन्म कब हुआ? कहाँ हुआ?
2. ✗ प्रेमचंद का जन्म कब हुआ, 'कहाँ हुआ?'
3. ✓ प्रेमचंद का जन्म कब हुआ, कहाँ हुआ?
4. ✗ प्रेमचंद का जन्म, कब हुआ, कहाँ हुआ?

Question Number : 95 Question Id : 9662316716 Question Type : MCQ Option Shuffling : Yes Display Question Number : Yes
Single Line Question Option : No Option Orientation : Vertical

Correct Marks : 1 Wrong Marks : 0.25

निम्नलिखित प्रश्न में, चार विकल्पों में से, उस विकल्प का चयन करें जो विराम चिह्न युक्त वाक्य का सही विकल्प हो।

Options :

1. ✗ प्रेमचंद का जन्म कब हुआ? कहाँ हुआ?
2. ✗ प्रेमचंद का जन्म कब हुआ, 'कहाँ हुआ?'
3. ✓ प्रेमचंद का जन्म कब हुआ, कहाँ हुआ?
4. ✗ प्रेमचंद का जन्म, कब हुआ, कहाँ हुआ?

Sub-Section Number: 2
Sub-Section Id: 966231265
Question Shuffling Allowed : Yes

Question Id : 9662316717 Question Type : COMPREHENSION Sub Question Shuffling Allowed : Yes Group Comprehension Questions : No

Question Numbers : (96 to 100)

Question Label : Comprehension

नीचे दिए गए गद्यांश को ध्यानपूर्वक पढ़ें और चार विकल्पों में से प्रत्येक प्रश्न का सर्वोत्तम उत्तर चुनें:

“मैं और गहराई की खोज में किनारों से दूर गई तो मैंने एक ऐसी वस्तु देखी कि मैं चौंक पड़ी। अब तक समुद्र में अंधेरा था, सूर्य का प्रकाश कुछ ही भीतर तक पहुँच पाता था और बल लगाकर देखने के कारण मेरे नेत्र दुखने लगे थे। मैं सोच रही थी कि यहाँ पर जीवों को कैसे दिखाई पड़ता होगा कि सामने ऐसा जीव दिखाई पड़ा मानो कोई लालटेन लिए घूम रहा हो। यह एक अत्यंत सुंदर मछली थी। इसके शरीर से एक प्रकार की चमक निकलती थी जो इसे मार्ग दिखाती थी। इसी स्थान के आस-पास एक दुर्घटना होते-होते बची। हम लोग अपनी इस खोज से इतने प्रसन्न थे कि अंधा-धुँध बिना मार्ग देखे बढ़े जाते थे। इससे अचानक एक ऐसी जगह जा पहुँचे जहाँ तापक्रम बहुत ऊँचा था। यह हमारे लिए असह्य था। हमारे अगुवा काँपे और देखते-देखते उनका शरीर ओषजन और हृद्जन में विभाजित हो गया। इस दुर्घटना से मेरे कान खड़े हो गए।”

Sub questions

Question Number : 96 Question Id : 9662316718 Question Type : MCQ Option Shuffling : Yes Display Question Number : Yes Single Line Question Option : No Option Orientation : Vertical

Correct Marks : 1 Wrong Marks : 0.25

अनुच्छेद के अनुसार बूंद किस खोज में गई?

Options :

1. ✘ जीव की
2. ✘ प्रकाश की
3. ✘ किनारों की
4. ✔ गहराई की

Question Number : 97 Question Id : 9662316719 Question Type : MCQ Option Shuffling : Yes Display Question Number : Yes Single Line Question Option : No Option Orientation : Vertical

Correct Marks : 1 Wrong Marks : 0.25

बूंद को कैसा जीव दिखाई दिया?

Options :

1. ✔ ऐसा जीव मानों लालटेन लिए हुए है
2. ✘ एक मछली की तरह
3. ✘ एक खूबसूरत
4. ✘ अनोखा जीव

Question Number : 98 Question Id : 9662316720 Question Type : MCQ Option Shuffling : Yes Display Question Number : Yes Single Line Question Option : No Option Orientation : Vertical

Correct Marks : 1 Wrong Marks : 0.25

अनुच्छेद के अनुसार बूंद के लिए क्या असह्य था?

Options :

1. ✘ मछली से निकलने वाला प्रकाश
2. ✔ तापक्रम
3. ✘ आगे बढ़ पाना
4. ✘ साँस ले पाना

Question Number : 99 Question Id : 9662316721 Question Type : MCQ Option Shuffling : Yes Display Question Number : Yes
Single Line Question Option : No Option Orientation : Vertical

Correct Marks : 1 Wrong Marks : 0.25

इनमें से कौन-सा विभाजित का पर्यायवाची नहीं है?

Options :

- ✘ विभक्ति
- ✘ बाँटा हुआ
- ✔ अखंड
- ✘ पृथक

Question Number : 100 Question Id : 9662316722 Question Type : MCQ Option Shuffling : Yes Display Question Number : Yes
Single Line Question Option : No Option Orientation : Vertical

Correct Marks : 1 Wrong Marks : 0.25

इस अनुच्छेद का कोई उपयुक्त शीर्षक:

Options :

- ✘ समुद्र की दुर्घटना
- ✘ जीवन रूपी नौका
- ✘ जीव का प्रकार
- ✔ बूंद की यात्रा

Question Id : 9662316717 Question Type : COMPREHENSION Sub Question Shuffling Allowed : Yes Group Comprehension
Questions : No

Question Numbers : (96 to 100)

Question Label : Comprehension

नीचे दिए गए गद्यांश को ध्यानपूर्वक पढ़ें और चार विकल्पों में से प्रत्येक प्रश्न का सर्वोत्तम उत्तर चुनें:

“मैं और गहराई की खोज में किनारों से दूर गई तो मैंने एक ऐसी वस्तु देखी कि मैं चौंक पड़ी। अब तक समुद्र में अंधेरा था, सूर्य का प्रकाश कुछ ही भीतर तक पहुँच पाता था और बल लगाकर देखने के कारण मेरे नेत्र दुखने लगे थे। मैं सोच रही थी कि यहाँ पर जीवों को कैसे दिखाई पड़ता होगा कि सामने ऐसा जीव दिखाई पड़ा मानो कोई लालटेन लिए घूम रहा हो। यह एक अत्यंत सुंदर मछली थी। इसके शरीर से एक प्रकार की चमक निकलती थी जो इसे मार्ग दिखलाती थी। इसी स्थान के आस-पास एक दुर्घटना होते-होते बची। हम लोग अपनी इस खोज से इतने प्रसन्न थे कि अंधा-धुँध बिना मार्ग देखे बढ़े जाते थे। इससे अचानक एक ऐसी जगह जा पहुँचे जहाँ तापक्रम बहुत ऊँचा था। यह हमारे लिए असह्य था। हमारे अगुवा काँपे और देखते-देखते उनका शरीर ओषजन और हृदयन में विभाजित हो गया। इस दुर्घटना से मेरे कान खड़े हो गए।”

Sub questions

Question Number : 96 Question Id : 9662316718 Question Type : MCQ Option Shuffling : Yes Display Question Number : Yes
Single Line Question Option : No Option Orientation : Vertical

Correct Marks : 1 Wrong Marks : 0.25

अनुच्छेद के अनुसार बूंद किस खोज में गई?

Options :

- ✘ जीव की
- ✘ प्रकाश की
- ✘ किनारों की
- ✔ गहराई की

Question Number : 97 Question Id : 9662316719 Question Type : MCQ Option Shuffling : Yes Display Question Number : Yes
Single Line Question Option : No Option Orientation : Vertical

Correct Marks : 1 Wrong Marks : 0.25

बूंद को कैसा जीव दिखाई दिया?

Options :

- ✔ ऐसा जीव मानों लालटेन लिए हुए है
- ✘ एक मछली की तरह

3. ✘ एक खूबसूरत
4. ✘ अनोखा जीव

Question Number : 98 Question Id : 9662316720 Question Type : MCQ Option Shuffling : Yes Display Question Number : Yes
Single Line Question Option : No Option Orientation : Vertical

Correct Marks : 1 Wrong Marks : 0.25

अनुच्छेद के अनुसार बूंद के लिए क्या असह्य था?

Options :

1. ✘ मछली से निकलने वाला प्रकाश
2. ✔ तापक्रम
3. ✘ आगे बढ़ पाना
4. ✘ साँस ले पाना

Question Number : 99 Question Id : 9662316721 Question Type : MCQ Option Shuffling : Yes Display Question Number : Yes
Single Line Question Option : No Option Orientation : Vertical

Correct Marks : 1 Wrong Marks : 0.25

इनमें से कौन-सा विभाजित का पर्यायवाची नहीं है?

Options :

1. ✘ विभक्ति
2. ✘ बाँटा हुआ
3. ✔ अखंड
4. ✘ पृथक्

Question Number : 100 Question Id : 9662316722 Question Type : MCQ Option Shuffling : Yes Display Question Number : Yes
Single Line Question Option : No Option Orientation : Vertical

Correct Marks : 1 Wrong Marks : 0.25

इस अनुच्छेद का कोई उपयुक्त शीर्षक:

Options :

1. ✘ समुद्र की दुर्घटना
2. ✘ जीवन रूपी नौका
3. ✘ जीव का प्रकार
4. ✔ बूंद की यात्रा

Discipline1

Group Number :	6
Group Id :	966231129
Group Maximum Duration :	0
Group Minimum Duration :	0
Revisit allowed for view? :	No
Revisit allowed for edit? :	No
Break time:	0
Group Marks:	20
Revisit allowed for group Instructions? :	Yes
Maximum Instruction Time:	0
Minimum Instruction Time:	0

	Discipline 1
Section Id :	966231244
Section Number :	1
Section type :	Online
Mandatory or Optional:	Mandatory
Number of Questions:	20
Number of Questions to be attempted:	20
Section Marks:	20
Display Number Panel:	Yes
Group All Questions:	No

Sub-Section Number:	1
Sub-Section Id:	966231266
Question Shuffling Allowed :	Yes

Question Number : 101 Question Id : 9662316723 Question Type : MCQ Option Shuffling : Yes Display Question Number : Yes
Single Line Question Option : No Option Orientation : Vertical

Correct Marks : 1 Wrong Marks : 0.25

Which of the following is NOT a host factor according to the agent-host-environment model?

Options :

1. ✘ Family history
2. ✘ Age
3. ✘ Lifestyle
4. ✔ Climate

Question Number : 101 Question Id : 9662316723 Question Type : MCQ Option Shuffling : Yes Display Question Number : Yes
Single Line Question Option : No Option Orientation : Vertical

Correct Marks : 1 Wrong Marks : 0.25

निम्नलिखित में से कौन सा होस्ट है जो एजेंट - होस्ट - पर्यावरण मॉडल के अनुसार एक कारक नहीं है?

Options :

1. ✘ पारिवारिक इतिहास
2. ✘ आयु
3. ✘ जीवन शैली
4. ✔ मौसम

Question Number : 102 Question Id : 9662316724 Question Type : MCQ Option Shuffling : Yes Display Question Number : Yes
Single Line Question Option : No Option Orientation : Vertical

Correct Marks : 1 Wrong Marks : 0.25

Which of the following options best suits for the meaning of a profession?

Options :

1. ✘ Occupation with some practice
2. ✔ Occupation with ethical component and intellectual study
3. ✘ Occupation with large number of personnel working
4. ✘ Occupation that promotes for higher study

Question Number : 102 Question Id : 9662316724 Question Type : MCQ Option Shuffling : Yes Display Question Number : Yes
Single Line Question Option : No Option Orientation : Vertical

Correct Marks : 1 Wrong Marks : 0.25

निम्नलिखित में से कौन सा विकल्प पेशे के अर्थ के लिए सबसे अच्छा है?

Options :

1. ✘ कुछ अभ्यास के साथ व्यवसाय
2. ✔ नैतिक घटक और बौद्धिक अध्ययन के साथ व्यवसाय
3. ✘ बड़ी संख्या में कर्मियों के साथ व्यवसाय
4. ✘ उच्च अध्ययन के लिए बढ़ावा देने वाला व्यवसाय

Question Number : 103 Question Id : 9662316725 Question Type : MCQ Option Shuffling : Yes Display Question Number : Yes
Single Line Question Option : No Option Orientation : Vertical

Correct Marks : 1 Wrong Marks : 0.25

Which of the following actions show physical attending?

- a. Adopting an open posture
- b. Maintain good eye contact
- c. Leaning towards the person
- d. Presume an understanding of client

Options :

1. ✘ a, b and d
2. ✘ a, c and d
3. ✔ a, b and c

4. ✘ b, c and d

Question Number : 103 Question Id : 9662316725 Question Type : MCQ Option Shuffling : Yes Display Question Number : Yes
Single Line Question Option : No Option Orientation : Vertical

Correct Marks : 1 Wrong Marks : 0.25

निम्नलिखित में से कौन सी क्रिया शारीरिक उपस्थिति दर्शाती है?

ए. खुली मुद्रा अपनाना

बी. अच्छे नेत्र संपर्क बनाए रखें

सी. व्यक्ति की ओर झुकाव

डी. ग्राहक की समझ का अनुमान

Options :

1. ✘ ए, बी और डी

2. ✘ ए, सी और डी

3. ✔ ए, बी और सी

4. ✘ बी, सी और डी

Question Number : 104 Question Id : 9662316726 Question Type : MCQ Option Shuffling : Yes Display Question Number : Yes
Single Line Question Option : No Option Orientation : Vertical

Correct Marks : 1 Wrong Marks : 0.25

Which of the following elements comes under secondary subjective data?

Options :

1. ✘ The nurse palpates edema in lower extremity

2. ✘ Client states severe pain while climbing

3. ✔ Spouse states the client has lost all appetite

4. ✘ The nurse measures weight

Question Number : 104 Question Id : 9662316726 Question Type : MCQ Option Shuffling : Yes Display Question Number : Yes
Single Line Question Option : No Option Orientation : Vertical

Correct Marks : 1 Wrong Marks : 0.25

निम्नलिखित में से कौन सा तत्व माध्यमिक व्यक्तिपरक डेटा के अंतर्गत आता है?

Options :

1. ✘ नर्स निचले छोर में एडिमा को टटोलती है
2. ✘ चढ़ाई करते समय क्लाइंट (रोगी) को गंभीर दर्द होता है
3. ✔ पति (या पत्नी) ने कहा कि ग्राहक (रोगी) सारी भूख खो चुके हैं
4. ✘ नर्स वजन मापती है

Question Number : 105 Question Id : 9662316727 Question Type : MCQ Option Shuffling : Yes Display Question Number : Yes
Single Line Question Option : No Option Orientation : Vertical

Correct Marks : 1 Wrong Marks : 0.25

The temperature of eye irrigating solution should be at what degrees (in Fahrenheit)?

Options :

1. ✘ 90 – 94
2. ✔ 98 – 100
3. ✘ 120 – 104
4. ✘ 110

Question Number : 105 Question Id : 9662316727 Question Type : MCQ Option Shuffling : Yes Display Question Number : Yes
Single Line Question Option : No Option Orientation : Vertical

Correct Marks : 1 Wrong Marks : 0.25

आंखों की सिंचाई के समाधान का तापमान किस डिग्री (फारेनहाइट में) पर होना चाहिए?

Options :

1. ✘ 90 - 94
2. ✔ 98 - 100
3. ✘ 120 - 104
4. ✘ 110

Question Number : 106 Question Id : 9662316728 Question Type : MCQ Option Shuffling : Yes Display Question Number : Yes
Single Line Question Option : No Option Orientation : Vertical

Correct Marks : 1 Wrong Marks : 0.25

A type of heat loss that occurs when the heat is removed by air current is known as:

Options :

1. ✔ convection

2. ✘ conduction

3. ✘ radiation

4. ✘ evaporation

Question Number : 106 Question Id : 9662316728 Question Type : MCQ Option Shuffling : Yes Display Question Number : Yes Single Line Question Option : No Option Orientation : Vertical

Correct Marks : 1 Wrong Marks : 0.25

एक प्रकार की ऊष्मा हानि, जो तब होती है जब वायु धारा द्वारा ताप को हटा दिया जाता है:

Options :

1. ✔ कंवैक्शन

2. ✘ प्रवाहकत्व

3. ✘ विकिरण

4. ✘ वाष्पीकरण

Question Number : 107 Question Id : 9662316729 Question Type : MCQ Option Shuffling : Yes Display Question Number : Yes Single Line Question Option : No Option Orientation : Vertical

Correct Marks : 1 Wrong Marks : 0.25

Ramu has a fever with 100°F temperature. It rises to around 103°F and comes down to 100°F several times in a day in a typical pattern. What kind of fever is Ramu having?

Options :

1. ✘ Relapsing

2. ✘ Intermittent

3. ✔ Remittent

4. ✘ Constant

Question Number : 107 Question Id : 9662316729 Question Type : MCQ Option Shuffling : Yes Display Question Number : Yes Single Line Question Option : No Option Orientation : Vertical

Correct Marks : 1 Wrong Marks : 0.25

रामू को 100°F तापमान के साथ बुखार है। यह लगभग 103°F तक बढ़ जाता है और एक विशिष्ट पैटर्न में एक दिन में कई बार 100°F तक नीचे आता है। रामू को किस तरह का बुखार है?

Options :

1. ✘ बीमारी के पुनरावर्तन

2. ✘ आंतरायिक
3. ✔ प्रेषण (रेमिटेन्ट)
4. ✘ स्थिर

Question Number : 108 Question Id : 9662316730 Question Type : MCQ Option Shuffling : Yes Display Question Number : Yes
Single Line Question Option : No Option Orientation : Vertical
Correct Marks : 1 Wrong Marks : 0.25

What is pectus excavatum deformity of chest?

Options :

1. ✔ Depressed sternum and narrowing of anterior-posterior diameter
2. ✘ Protruding of sternum and an increased anterior-posterior diameter
3. ✘ Narrowing of transverse diameter and depressed sternum
4. ✘ Ratio of anterior-posterior diameter to transverse diameter is 1 : 1

Question Number : 108 Question Id : 9662316730 Question Type : MCQ Option Shuffling : Yes Display Question Number : Yes
Single Line Question Option : No Option Orientation : Vertical
Correct Marks : 1 Wrong Marks : 0.25

छाती की पेक्टस एक्सकैवेटम विकृति क्या है?

Options :

1. ✔ दबा हुआ स्टर्नम और आगे पीछे के व्यास का संकुचन
2. ✘ स्टर्नम का फैलाव और एक वर्धित आगे पीछे का व्यास
3. ✘ अनुप्रस्थ व्यास का संकुचन और दबा हुआ स्टर्नम
4. ✘ आगे पीछे के व्यास और अनुप्रस्थ व्यास का अनुपात 1 : 1 है

Question Number : 109 Question Id : 9662316731 Question Type : MCQ Option Shuffling : Yes Display Question Number : Yes
Single Line Question Option : No Option Orientation : Vertical
Correct Marks : 1 Wrong Marks : 0.25

Superficial ulceration of the skin, appearing as an abrasion and a blister is a characteristic of:

Options :

1. ✘ Stage 1 pressure ulcer

2. ✓ Stage 2 pressure ulcer

3. ✗ Stage 3 pressure ulcer

4. ✗ Stage 4 pressure ulcer

Question Number : 109 Question Id : 9662316731 Question Type : MCQ Option Shuffling : Yes Display Question Number : Yes
Single Line Question Option : No Option Orientation : Vertical

Correct Marks : 1 Wrong Marks : 0.25

त्वचा का सतही अल्सर, जो एक खरोंच और एक छाला के रूप में दिखाई देता है _____ का लक्षण है।

Options :

1. ✗ स्टेज 1 दबाव अल्सर

2. ✓ स्टेज 2 दबाव अल्सर

3. ✗ स्टेज 3 दबाव अल्सर

4. ✗ स्टेज 4 दबाव अल्सर

Question Number : 110 Question Id : 9662316732 Question Type : MCQ Option Shuffling : Yes Display Question Number : Yes
Single Line Question Option : No Option Orientation : Vertical

Correct Marks : 1 Wrong Marks : 0.25

Which of the following is **NOT** an example of dry heat application?

Options :

1. ✗ Sunbath

2. ✗ Hot-water bag

3. ✗ Radiant warmer

4. ✓ Hot packs

Question Number : 110 Question Id : 9662316732 Question Type : MCQ Option Shuffling : Yes Display Question Number : Yes
Single Line Question Option : No Option Orientation : Vertical

Correct Marks : 1 Wrong Marks : 0.25

निम्नलिखित में से कौनसे शुष्क गर्मी के अनुप्रयोग का उदाहरण नहीं है?

Options :

1. ✗ सूर्यस्नान

2. ✘ गर्म - पानी की थैली

3. ✘ रेडीएंट वॉर्मर

4. ✔ गर्म पैक

Question Number : 111 Question Id : 9662316733 Question Type : MCQ Option Shuffling : Yes Display Question Number : Yes
Single Line Question Option : No Option Orientation : Vertical

Correct Marks : 1 Wrong Marks : 0.25

What is the mnemonic used for first aid of sprains?

Options :

1. ✔ RICE

2. ✘ PRICE

3. ✘ ROSE

4. ✘ PUSH

Question Number : 111 Question Id : 9662316733 Question Type : MCQ Option Shuffling : Yes Display Question Number : Yes
Single Line Question Option : No Option Orientation : Vertical

Correct Marks : 1 Wrong Marks : 0.25

मोच की प्राथमिक चिकित्सा के लिए कौन सी निमोनिक का उपयोग किया जाता है?

Options :

1. ✔ राइस (RICE)

2. ✘ प्राइस (PRICE)

3. ✘ रोज (ROSE)

4. ✘ पुश (PUSH)

Question Number : 112 Question Id : 9662316734 Question Type : MCQ Option Shuffling : Yes Display Question Number : Yes
Single Line Question Option : No Option Orientation : Vertical

Correct Marks : 1 Wrong Marks : 0.25

What is the meaning of PRN in medication administration?

Options :

1. ✘ Every morning

2. ✘ Immediately
3. ✔ When required
4. ✘ Alternate days

Question Number : 112 Question Id : 9662316734 Question Type : MCQ Option Shuffling : Yes Display Question Number : Yes
Single Line Question Option : No Option Orientation : Vertical

Correct Marks : 1 Wrong Marks : 0.25

दवा प्रशासन में पीआरएन (PRN) का अर्थ क्या है?

Options :

1. ✘ हर सुबह
2. ✘ तुरंत ही
3. ✔ जब आवश्यक हो
4. ✘ एक दिन छोड़कर एक दिन

Question Number : 113 Question Id : 9662316735 Question Type : MCQ Option Shuffling : Yes Display Question Number : Yes
Single Line Question Option : No Option Orientation : Vertical

Correct Marks : 1 Wrong Marks : 0.25

Which of the following nursing intervention is **NOT** appropriate when an IV infusion infiltrates?

Options :

1. ✘ Immediately stopping the infusion
2. ✘ Elevating the site
3. ✘ Applying warm, moist compress
4. ✔ Massaging or rubbing the site

Question Number : 113 Question Id : 9662316735 Question Type : MCQ Option Shuffling : Yes Display Question Number : Yes
Single Line Question Option : No Option Orientation : Vertical

Correct Marks : 1 Wrong Marks : 0.25

IV जलसेक होने पर निम्नलिखित में से कौन सी नर्सिंग देखभाल उचित नहीं है?

Options :

1. ✘ तुरंत जलसेक को रोकना

2. ✘ साइट को ऊपर उठाना
3. ✘ गर्म, नम संपीड़ित लागू करना
4. ✔ साइट की मालिश करना या रगड़ना

Question Number : 114 Question Id : 9662316736 Question Type : MCQ Option Shuffling : Yes Display Question Number : Yes
Single Line Question Option : No Option Orientation : Vertical

Correct Marks : 1 Wrong Marks : 0.25

Identify an essential amino acid from the following.

Options :

1. ✔ Valine
2. ✘ Glycine
3. ✘ Serine
4. ✘ Proline

Question Number : 114 Question Id : 9662316736 Question Type : MCQ Option Shuffling : Yes Display Question Number : Yes
Single Line Question Option : No Option Orientation : Vertical

Correct Marks : 1 Wrong Marks : 0.25

निम्नलिखित से एक आवश्यक अमीनो एसिड की पहचान करें।

Options :

1. ✔ वालाइन
2. ✘ ग्लाइसिन
3. ✘ सेरीन
4. ✘ प्रोलाइन

Question Number : 115 Question Id : 9662316737 Question Type : MCQ Option Shuffling : Yes Display Question Number : Yes
Single Line Question Option : No Option Orientation : Vertical

Correct Marks : 1 Wrong Marks : 0.25

Bitot's spots is a deficiency of:

Options :

1. ✔ Vitamin A

2. ✘ Vitamin B₆

3. ✘ Vitamin D

4. ✘ Vitamin K

Question Number : 115 Question Id : 9662316737 Question Type : MCQ Option Shuffling : Yes Display Question Number : Yes
Single Line Question Option : No Option Orientation : Vertical

Correct Marks : 1 Wrong Marks : 0.25

बिटाँट्स स्पाँट्स किस की कमी है?

Options :

1. ✔ विटामिन A

2. ✘ विटामिन B₆

3. ✘ विटामिन D

4. ✘ विटामिन K

Question Number : 116 Question Id : 9662316738 Question Type : MCQ Option Shuffling : Yes Display Question Number : Yes
Single Line Question Option : No Option Orientation : Vertical

Correct Marks : 1 Wrong Marks : 0.25

Identify an enzyme that is useful for digestion of fat?

Options :

1. ✔ Lipase

2. ✘ Lysine

3. ✘ Pepsin

4. ✘ Amylase

Question Number : 116 Question Id : 9662316738 Question Type : MCQ Option Shuffling : Yes Display Question Number : Yes
Single Line Question Option : No Option Orientation : Vertical

Correct Marks : 1 Wrong Marks : 0.25

एक एंजाइम की पहचान करें जो चर्बी के पाचन के लिए उपयोगी है?

Options :

1. ✔ लिपेस

2. ✘ लायसिन
3. ✘ पेप्सिन
4. ✘ अमीलेज़

Question Number : 117 Question Id : 9662316739 Question Type : MCQ Option Shuffling : Yes Display Question Number : Yes
Single Line Question Option : No Option Orientation : Vertical

Correct Marks : 1 Wrong Marks : 0.25

The heteropolysaccharide that acts as a lubricant and shock absorber in joints is:

Options :

1. ✘ Cellulose
2. ✘ Heparin
3. ✔ Hyaluronic acid
4. ✘ Glycogen

Question Number : 117 Question Id : 9662316739 Question Type : MCQ Option Shuffling : Yes Display Question Number : Yes
Single Line Question Option : No Option Orientation : Vertical

Correct Marks : 1 Wrong Marks : 0.25

हेटेरोपॉलीसेकेराइड जो जोड़ों में एक स्नेहक और आघात अवशोषक के रूप में क्या कार्य करता है?

Options :

1. ✘ सेलूलोज़
2. ✘ हेपरिन
3. ✔ हायलूरॉनिक एसिड
4. ✘ ग्लाइकोजन

Question Number : 118 Question Id : 9662316740 Question Type : MCQ Option Shuffling : Yes Display Question Number : Yes
Single Line Question Option : No Option Orientation : Vertical

Correct Marks : 1 Wrong Marks : 0.25

Keratin, the simple protein, is present in:

Options :

1. ✘ eyes

2. ✓ nails

3. ✗ nose

4. ✗ ligament

Question Number : 118 Question Id : 9662316740 Question Type : MCQ Option Shuffling : Yes Display Question Number : Yes
Single Line Question Option : No Option Orientation : Vertical

Correct Marks : 1 Wrong Marks : 0.25

केराटिन, सरल प्रोटीन, किस में मौजूद होता है?

Options :

1. ✗ आंखें

2. ✓ नाखून

3. ✗ नाक

4. ✗ अस्थि-बंधन

Question Number : 119 Question Id : 9662316741 Question Type : MCQ Option Shuffling : Yes Display Question Number : Yes
Single Line Question Option : No Option Orientation : Vertical

Correct Marks : 1 Wrong Marks : 0.25

The purine base found in RNA and DNA is:

Options :

1. ✓ Adenine

2. ✗ Uracil

3. ✗ Thymine

4. ✗ Myoglobin

Question Number : 119 Question Id : 9662316741 Question Type : MCQ Option Shuffling : Yes Display Question Number : Yes
Single Line Question Option : No Option Orientation : Vertical

Correct Marks : 1 Wrong Marks : 0.25

आरएनए और डीएनए में पाया जाने वाला प्यूरिन बेस क्या है?

Options :

1. ✓ एडीनाइन

2. ✖ युरेसिल

3. ✖ थाइमिन

4. ✖ मायोग्लोबिन

Question Number : 120 Question Id : 9662316742 Question Type : MCQ Option Shuffling : Yes Display Question Number : Yes
Single Line Question Option : No Option Orientation : Vertical

Correct Marks : 1 Wrong Marks : 0.25

Which of the following is the correct statement with reference to Learning by Insight?

Options :

1. ✖ Learning occurs by trial and error or by direct experiences.
2. ✔ Problem solving happens suddenly by understanding relationship between the parts of a problem.
3. ✖ Simplest learned activities are conditioned responses.
4. ✖ Learning of active, voluntary behaviours are shaped by their consequence.

Question Number : 120 Question Id : 9662316742 Question Type : MCQ Option Shuffling : Yes Display Question Number : Yes
Single Line Question Option : No Option Orientation : Vertical

Correct Marks : 1 Wrong Marks : 0.25

इनसाइट द्वारा सीखने के संदर्भ में निम्नलिखित में से कौन सा सही कथन है?

Options :

1. ✖ सीखना परीक्षण और त्रुटि या प्रत्यक्ष अनुभवों द्वारा होता है।
2. ✔ किसी समस्या के हिस्सों के बीच संबंध को समझने से समस्या का समाधान अचानक होता है।
3. ✖ सरलतम सीखी गई गतिविधियाँ अनुकूलित प्रतिक्रियाएँ हैं।
4. ✖ सक्रिय, स्वैच्छिक व्यवहारों को सीखना उनके परिणाम द्वारा ढाला जाता है।

Discipline2

Group Number :	7
Group Id :	966231130
Group Maximum Duration :	0
Group Minimum Duration :	0
Revisit allowed for view? :	No

Revisit allowed for edit? :	No
Break time:	0
Group Marks:	20
Revisit allowed for group Instructions? :	Yes
Maximum Instruction Time:	0
Minimum Instruction Time:	0

	Discipline2
Section Id :	966231245
Section Number :	1
Section type :	Online
Mandatory or Optional:	Mandatory
Number of Questions:	20
Number of Questions to be attempted:	20
Section Marks:	20
Display Number Panel:	Yes
Group All Questions:	No

Sub-Section Number:	1
Sub-Section Id:	966231267
Question Shuffling Allowed :	Yes

Question Number : 121 Question Id : 9662316743 Question Type : MCQ Option Shuffling : Yes Display Question Number : Yes
Single Line Question Option : No Option Orientation : Vertical
Correct Marks : 1 Wrong Marks : 0.25

X Is facing the problem and he attempts to find a single, correct answer to the problem.
Identify the type of thinking.

Options :

1. ✘ Creative thinking
2. ✘ Divergent thinking
3. ✔ Convergent thinking
4. ✘ Critical thinking

Question Number : 121 Question Id : 9662316743 Question Type : MCQ Option Shuffling : Yes Display Question Number : Yes
Single Line Question Option : No Option Orientation : Vertical
Correct Marks : 1 Wrong Marks : 0.25

X समस्या का सामना कर रहा है और वह समस्या का एक, सही उत्तर खोजने का प्रयास करता है। सोच के प्रकार को पहचानें।

Options :

1. ✘ रचनात्मक सोच

2. ✘ अलग सोच
3. ✔ अभिसारी सोच
4. ✘ गहन सोच

Question Number : 122 Question Id : 9662316744 Question Type : MCQ Option Shuffling : Yes Display Question Number : Yes
Single Line Question Option : No Option Orientation : Vertical

Correct Marks : 1 Wrong Marks : 0.25

In which part of the uterine tube does the fertilisation process occur?

Options :

1. ✘ Isthmus
2. ✔ Ampulla
3. ✘ Intramural part
4. ✘ Infundibulum

Question Number : 122 Question Id : 9662316744 Question Type : MCQ Option Shuffling : Yes Display Question Number : Yes
Single Line Question Option : No Option Orientation : Vertical

Correct Marks : 1 Wrong Marks : 0.25

गर्भाशय ट्यूब के किस भाग में निषेचन प्रक्रिया होती है?

Options :

1. ✘ इस्थमस
2. ✔ अम्पुला
3. ✘ इंद्रामूरल भाग
4. ✘ इन्फंडिबुलम

Question Number : 123 Question Id : 9662316745 Question Type : MCQ Option Shuffling : Yes Display Question Number : Yes
Single Line Question Option : No Option Orientation : Vertical

Correct Marks : 1 Wrong Marks : 0.25

The brownish black pigmented area in the midline stretching from xiphisternum to symphysis pubis during pregnancy is called:

Options :

1. ✘ chloasma gravidarum

2. ✓ linea nigra
3. ✗ striae gravidarum
4. ✗ striae albicans

Question Number : 123 Question Id : 9662316745 Question Type : MCQ Option Shuffling : Yes Display Question Number : Yes
Single Line Question Option : No Option Orientation : Vertical

Correct Marks : 1 Wrong Marks : 0.25

गर्भावस्था के दौरान झिफिसर्नम से सिम्फिसिस प्यूबिस तक फैलने वाली मध्य रेखा में भूरा काला वर्णक क्षेत्र को क्या कहा जाता है?

Options :

1. ✗ क्लोस्मा ग्रेविडेरम
2. ✓ लिनिया निगरा
3. ✗ स्ट्राई ग्रेविडेरम
4. ✗ स्ट्राइए एल्बिकैस

Question Number : 124 Question Id : 9662316746 Question Type : MCQ Option Shuffling : Yes Display Question Number : Yes
Single Line Question Option : No Option Orientation : Vertical

Correct Marks : 1 Wrong Marks : 0.25

Which stage of labour starts from full dilatation of the cervix and ends with expulsion of the fetus from birth canal?

Options :

1. ✗ First stage
2. ✓ Second stage
3. ✗ Third stage
4. ✗ Fourth stage

Question Number : 124 Question Id : 9662316746 Question Type : MCQ Option Shuffling : Yes Display Question Number : Yes
Single Line Question Option : No Option Orientation : Vertical

Correct Marks : 1 Wrong Marks : 0.25

प्रसव का कौन सा चरण गर्भाशय ग्रीवा के पूर्ण फैलाव से शुरू होता है और जन्म नलिका से भ्रूण के निष्कासन के साथ समाप्त होता है?

Options :

1. ✗ पहला चरण

2. ✓ दूसरे चरण
3. ✗ तीसरा चरण
4. ✗ चौथा चरण

Question Number : 125 Question Id : 9662316747 Question Type : MCQ Option Shuffling : Yes Display Question Number : Yes
Single Line Question Option : No Option Orientation : Vertical
Correct Marks : 1 Wrong Marks : 0.25

The phase of ejection of milk is called:

Options :

1. ✗ Galactopoiesis
2. ✗ Mammogenesis
3. ✗ Lactogenesis
4. ✓ Galactokinesis

Question Number : 125 Question Id : 9662316747 Question Type : MCQ Option Shuffling : Yes Display Question Number : Yes
Single Line Question Option : No Option Orientation : Vertical
Correct Marks : 1 Wrong Marks : 0.25

दूध के निष्कासन के चरण को क्या कहा जाता है?

Options :

1. ✗ गॅलॅक्टोपाँइसिस
2. ✗ मेमोजेनेसिस
3. ✗ लैक्टोजेनेसिस
4. ✓ गॅलेक्टोकिनेसिस

Question Number : 126 Question Id : 9662316748 Question Type : MCQ Option Shuffling : Yes Display Question Number : Yes
Single Line Question Option : No Option Orientation : Vertical
Correct Marks : 1 Wrong Marks : 0.25

What is placenta accreta?

Options :

1. ✗ It is the condition in which the placenta is attached to lower uterine segment.

2. ✘ It is the condition in which the placenta is anchored to endometrium.
3. ✘ It is the condition in which the placenta is attached to upper uterine segment.
4. ✔ It is the condition in which the placenta is anchored to myometrium.

Question Number : 126 Question Id : 9662316748 Question Type : MCQ Option Shuffling : Yes Display Question Number : Yes
Single Line Question Option : No Option Orientation : Vertical

Correct Marks : 1 Wrong Marks : 0.25

प्लेसेंटा अँक्ट्रेटा क्या है?

Options :

1. ✘ यह वह स्थिति है जिसमें प्लेसेंटा निचले गर्भाशय खंड से जुड़ा होता है।
2. ✘ यह वह स्थिति है जिसमें प्लेसेंटा एंडोमेट्रियम से जुड़ा होता है।
3. ✘ यह वह स्थिति है जिसमें प्लेसेंटा ऊपरी गर्भाशय खंड से जुड़ी होती है।
4. ✔ यह वह स्थिति है जिसमें प्लेसेंटा को मायोमेट्रियम से जुड़ा होता है।

Question Number : 127 Question Id : 9662316749 Question Type : MCQ Option Shuffling : Yes Display Question Number : Yes
Single Line Question Option : No Option Orientation : Vertical

Correct Marks : 1 Wrong Marks : 0.25

The severe type of vomiting during pregnancy which has deleterious effect on mother's health is called:

Options :

1. ✘ morning sickness
2. ✘ emesis gravidarum
3. ✘ chorea gravidarum
4. ✔ hyperemesis gravidarum

Question Number : 127 Question Id : 9662316749 Question Type : MCQ Option Shuffling : Yes Display Question Number : Yes
Single Line Question Option : No Option Orientation : Vertical

Correct Marks : 1 Wrong Marks : 0.25

गर्भावस्था के दौरान उल्टी का गंभीर प्रकार जो माँ के स्वास्थ्य पर हानिकारक प्रभाव डालता है, उसे क्या कहा जाता है?

Options :

1. ✘ सुबह की बीमारी
2. ✘ एमिसिस ग्रेविडरम
3. ✘ कोरिया ग्रेविडरम
4. ✔ हाइपरमेसिस ग्रेविडरम

Question Number : 128 Question Id : 9662316750 Question Type : MCQ Option Shuffling : Yes Display Question Number : Yes
Single Line Question Option : No Option Orientation : Vertical

Correct Marks : 1 Wrong Marks : 0.25

Which of the following signs, if noted, would be an early sign of excessive blood loss in a mother in immediate postpartum period?

Options :

1. ✔ An increase in the pulse rate from 88 to 102 beats/min
2. ✘ Blood pressure changes from 130/88 to 124/80 mmHg
3. ✘ A temperature of 100.4° F
4. ✘ An increase in the respiratory rate from 18 to 22 breaths/min

Question Number : 128 Question Id : 9662316750 Question Type : MCQ Option Shuffling : Yes Display Question Number : Yes
Single Line Question Option : No Option Orientation : Vertical

Correct Marks : 1 Wrong Marks : 0.25

निम्नलिखित में से कौन सा संकेत, अगर नोट किया गया है, तो तत्काल प्रसवोत्तर अवधि में एक माँ में अत्यधिक खून की कमी का संकेत होगा?

Options :

1. ✔ 88 से 102 बीट / मिनट तक पल्स दर में वृद्धि
2. ✘ रक्तचाप 130/88 से 124/80 mmHg तक बदल जाता है
3. ✘ 100.4°F का तापमान
4. ✘ 18 से 22 सांस / मिनट तक श्वसन दर में वृद्धि

Question Number : 129 Question Id : 9662316751 Question Type : MCQ Option Shuffling : Yes Display Question Number : Yes
Single Line Question Option : No Option Orientation : Vertical

Correct Marks : 1 Wrong Marks : 0.25

Which of the following noted on the assessment of a pregnant mother receiving magnesium sulfate for the management of preeclampsia, determines that the client is experiencing toxicity?

Options :

1. ✘ Proteinuria of 3+
2. ✔ Respirations of 10 breaths/min
3. ✘ Serum magnesium level of 6 mEq/L
4. ✘ Presence of deep tendon reflexes

Question Number : 129 Question Id : 9662316751 Question Type : MCQ Option Shuffling : Yes Display Question Number : Yes Single Line Question Option : No Option Orientation : Vertical

Correct Marks : 1 Wrong Marks : 0.25

प्रीक्लेम्पसिया के प्रबंधन के लिए मैग्नीशियम सल्फेट प्राप्त करने वाली गर्भवती मां के मूल्यांकन पर निम्नलिखित में से कौन निर्धारित करता है कि क्लाइंट विषाक्तता का सामना कर रहा है?

Options :

1. ✘ 3+ का प्रोटीनुरिया
2. ✔ 10 श्वास / मिनट की श्वसन
3. ✘ सीरम मैग्नीशियम का स्तर 6 mEq / L
4. ✘ गहरी टेंडन रिफ्लेक्स की उपस्थिति

Question Number : 130 Question Id : 9662316752 Question Type : MCQ Option Shuffling : Yes Display Question Number : Yes Single Line Question Option : No Option Orientation : Vertical

Correct Marks : 1 Wrong Marks : 0.25

How much amount of blood transfers from placenta to the baby after delivery when the cord clamping is delayed till the cessation of cord pulsations?

Options :

1. ✘ 10 – 30 ml
2. ✘ 40 – 60 ml
3. ✔ 80 – 100 ml
4. ✘ 120 – 150 ml

Question Number : 130 Question Id : 9662316752 Question Type : MCQ Option Shuffling : Yes Display Question Number : Yes Single Line Question Option : No Option Orientation : Vertical

Correct Marks : 1 Wrong Marks : 0.25

प्रसव के बाद नाल से बच्चे को रक्त की कितनी मात्रा स्थानांतरित होती है जब कॉर्ड के स्पंदन की समाप्ति तक कॉर्ड क्लैम्पिंग में देरी होती है?

Options :

1. ✘ 10 - 30 ml
2. ✘ 40 - 60 ml
3. ✔ 80 - 100 ml
4. ✘ 120 - 150 ml

Question Number : 131 Question Id : 9662316753 Question Type : MCQ Option Shuffling : Yes Display Question Number : Yes
Single Line Question Option : No Option Orientation : Vertical

Correct Marks : 1 Wrong Marks : 0.25

Which assessment should be done after an amniotomy has been performed to a pregnant mother?

Options :

1. ✘ Cervical dilation
2. ✘ Bladder distention
3. ✘ Maternal blood pressure
4. ✔ Fetal heart rate pattern

Question Number : 131 Question Id : 9662316753 Question Type : MCQ Option Shuffling : Yes Display Question Number : Yes
Single Line Question Option : No Option Orientation : Vertical

Correct Marks : 1 Wrong Marks : 0.25

गर्भवती माँ को एमनियोटॉमी करवाने के बाद कौन सा मूल्यांकन किया जाना चाहिए?

Options :

1. ✘ ग्रीवा फैलाव
2. ✘ मूत्राशय की फैलावट
3. ✘ मातृ रक्तचाप
4. ✔ भ्रूण की हृदय गति पैटर्न

Question Number : 132 Question Id : 9662316754 Question Type : MCQ Option Shuffling : Yes Display Question Number : Yes
Single Line Question Option : No Option Orientation : Vertical

Correct Marks : 1 Wrong Marks : 0.25

In which type of placental abnormality there is one or more lobes of placenta placed at varying distance from main placental margin?

Options :

1. ✘ Circumvallate placenta
2. ✘ Placenta membranacea
3. ✔ Placenta succenturiata
4. ✘ Placenta maginata

Question Number : 132 Question Id : 9662316754 Question Type : MCQ Option Shuffling : Yes Display Question Number : Yes
Single Line Question Option : No Option Orientation : Vertical

Correct Marks : 1 Wrong Marks : 0.25

किस प्रकार की प्लेसेंटल असामान्यता में प्लेसेंटा के एक या अधिक लोब मुख्य प्लेसेंटल मार्जिन से अलग-अलग दूरी पर रखे जाते हैं?

Options :

1. ✘ सर्कवाव्हेलेट प्लेसेंटा
2. ✘ प्लेसेंटा झिल्ली
3. ✔ प्लेसेंटा सक्सेन्दुरीटा
4. ✘ प्लेसेंटा मार्जिनटा

Question Number : 133 Question Id : 9662316755 Question Type : MCQ Option Shuffling : Yes Display Question Number : Yes
Single Line Question Option : No Option Orientation : Vertical

Correct Marks : 1 Wrong Marks : 0.25

Who developed the Theory of Psychosexual Development?

Options :

1. ✘ Erik H. Erikson
2. ✘ Jean Piaget
3. ✔ Sigmund Freud
4. ✘ Lawrence Kohlberg

Question Number : 133 Question Id : 9662316755 Question Type : MCQ Option Shuffling : Yes Display Question Number : Yes
Single Line Question Option : No Option Orientation : Vertical

Correct Marks : 1 Wrong Marks : 0.25

सायको सेक्शुअल डेव्हलपमेंट का सिद्धांत किसने विकसित किया?

Options :

1. ✘ एरिक एच. एरिकसन
2. ✘ जीन पिअगेट
3. ✔ सिगमंड फ्रायड
4. ✘ लॉरेंस कोहलबर्ग

Question Number : 134 Question Id : 9662316756 Question Type : MCQ Option Shuffling : Yes Display Question Number : Yes
Single Line Question Option : No Option Orientation : Vertical

Correct Marks : 1 Wrong Marks : 0.25

In which condition is the Kramer's rule used as clinical assessment method in neonates?

Options :

1. ✘ Neonatal Hypothermia
2. ✔ Neonatal Hyperbilirubinemia
3. ✘ Neonatal Convulsions
4. ✘ Neonatal Hypoglycemia

Question Number : 134 Question Id : 9662316756 Question Type : MCQ Option Shuffling : Yes Display Question Number : Yes
Single Line Question Option : No Option Orientation : Vertical

Correct Marks : 1 Wrong Marks : 0.25

किस स्थिति में क्रैमर का नियम नवजात शिशुओं में नैदानिक मूल्यांकन पद्धति के रूप में उपयोग किया जाता है?

Options :

1. ✘ नवजात हाइपोथर्मिया
2. ✔ नवजात हाइपरबिलिरुबिनमिया
3. ✘ नवजात संवादी
4. ✘ नवजात हाइपोग्लाइसीमिया

Question Number : 135 Question Id : 9662316757 Question Type : MCQ Option Shuffling : Yes Display Question Number : Yes
Single Line Question Option : No Option Orientation : Vertical

Correct Marks : 1 Wrong Marks : 0.25

The slight, downy distribution of fine hair over neonate's body is termed as:

Options :

1. ✘ Milia
2. ✘ Vernix caseosa
3. ✘ Erythema
4. ✔ Lanugo

Question Number : 135 Question Id : 9662316757 Question Type : MCQ Option Shuffling : Yes Display Question Number : Yes
Single Line Question Option : No Option Orientation : Vertical

Correct Marks : 1 Wrong Marks : 0.25

नवजात शिशु के शरीर पर महीन बालों के हल्के, कोमल वितरण को क्या कहा जाता है?

Options :

1. ✘ मिलिया
2. ✘ वर्नेक्स केसोसा
3. ✘ एरिथेमा
4. ✔ लानुगो

Question Number : 136 Question Id : 9662316758 Question Type : MCQ Option Shuffling : Yes Display Question Number : Yes
Single Line Question Option : No Option Orientation : Vertical

Correct Marks : 1 Wrong Marks : 0.25

Which one of the following is a complication of Neonatal Hyperbilirubinemia?

Options :

1. ✔ Kernicterus
2. ✘ Hepatitis
3. ✘ Icterus
4. ✘ Down's syndrome

Question Number : 136 Question Id : 9662316758 Question Type : MCQ Option Shuffling : Yes Display Question Number : Yes
Single Line Question Option : No Option Orientation : Vertical

Correct Marks : 1 Wrong Marks : 0.25

निम्नलिखित में से कौन सा नवजात हाइपरबिलिरुबिनमिया की जटिलता है?

Options :

1. ✓ कार्निक्टीरस
2. ✗ हेपेटाइटिस
3. ✗ इन्टेरस
4. ✗ डाउन सिंड्रोम

Question Number : 137 Question Id : 9662316759 Question Type : MCQ Option Shuffling : Yes Display Question Number : Yes
Single Line Question Option : No Option Orientation : Vertical

Correct Marks : 1 Wrong Marks : 0.25

Oxygen toxicity in pre-term babies causes:

Options :

1. ✗ Neonatal hypoglycemia
2. ✗ Respiratory distress syndrome
3. ✓ Retrolental fibroplasia
4. ✗ Neonatal sepsis

Question Number : 137 Question Id : 9662316759 Question Type : MCQ Option Shuffling : Yes Display Question Number : Yes
Single Line Question Option : No Option Orientation : Vertical

Correct Marks : 1 Wrong Marks : 0.25

प्री-टर्म शिशुओं में ऑक्सीजन विषाक्तता के कारण क्या होता है?

Options :

1. ✗ नवजात हाइपोग्लाइसीमिया
2. ✗ श्वसन संकट सिंड्रोम
3. ✓ रेट्रोलेटल फाइब्रोप्लासिया
4. ✗ नवजात सेप्सिस

Question Number : 138 Question Id : 9662316760 Question Type : MCQ Option Shuffling : Yes Display Question Number : Yes
Single Line Question Option : No Option Orientation : Vertical

Correct Marks : 1 Wrong Marks : 0.25

Epispadias means:

Options :

1. ✘ Abnormal urethra opening on the ventral opening of penis
2. ✘ Abnormal urethral opening at the tip of the penis
3. ✔ Abnormal urethra opening on the dorsal opening of penis
4. ✘ Abnormal urethral opening at the scrotal sac

Question Number : 138 Question Id : 9662316760 Question Type : MCQ Option Shuffling : Yes Display Question Number : Yes
Single Line Question Option : No Option Orientation : Vertical

Correct Marks : 1 Wrong Marks : 0.25

एपिस्पैडियास का अर्थ है:

Options :

1. ✘ लिंग के उदर प्रारंभि पर असामान्य मूत्रमार्ग निकास
2. ✘ लिंग की नोक पर असामान्य मूत्रमार्ग निकास
3. ✔ लिंग के पृष्ठीय प्रारंभ पर असामान्य मूत्रमार्ग निकास
4. ✘ अंडकोश की थैली में असामान्य मूत्रमार्ग निकास

Question Number : 139 Question Id : 9662316761 Question Type : MCQ Option Shuffling : Yes Display Question Number : Yes
Single Line Question Option : No Option Orientation : Vertical

Correct Marks : 1 Wrong Marks : 0.25

The congenital heart disease in which radiographic findings depict boot-shaped heart is called:

Options :

1. ✔ Tetralogy of Fallot
2. ✘ Patent Ductus Arteriosus
3. ✘ Coarctation of Aorta
4. ✘ Atrial Septal Defect

Question Number : 139 Question Id : 9662316761 Question Type : MCQ Option Shuffling : Yes Display Question Number : Yes
Single Line Question Option : No Option Orientation : Vertical

Correct Marks : 1 Wrong Marks : 0.25

वह कौन सा जन्मजात हृदय रोग, जिसमें रेडियोग्राफिक निष्कर्ष बूट के आकार के दिल को दर्शाते हैं?

Options :

1. ✓ फेलाँट की टेड्रालाँजी
2. ✗ पेटंट डक्टस आर्टेरिओसस
3. ✗ महाधमनी का निसंकुचन
4. ✗ आट्रीयल सेप्टल दोष

Question Number : 140 Question Id : 9662316762 Question Type : MCQ Option Shuffling : Yes Display Question Number : Yes
Single Line Question Option : No Option Orientation : Vertical

Correct Marks : 1 Wrong Marks : 0.25

Which condition occurs due to the congenital absence of parasympathetic ganglionic nerve cells in the colon?

Options :

1. ✗ Volvulus
2. ✓ Hirschsprung's disease
3. ✗ Intestinal obstruction
4. ✗ Meconium ileus

Question Number : 140 Question Id : 9662316762 Question Type : MCQ Option Shuffling : Yes Display Question Number : Yes
Single Line Question Option : No Option Orientation : Vertical

Correct Marks : 1 Wrong Marks : 0.25

बृहदान्त्र में पैरासिम्पेथेटिक गैंग्लिओनिक तंत्रिका कोशिकाओं की जन्मजात अनुपस्थिति के कारण कौन सी स्थिति होती है?

Options :

1. ✗ व्हॉल्वुलस
2. ✓ हिर्शस्पुंग की बीमारी
3. ✗ अंतड़ियों में रुकावट
4. ✗ मेकोनियम इलियस

Group Id :	966231131
Group Maximum Duration :	0
Group Minimum Duration :	0
Revisit allowed for view? :	No
Revisit allowed for edit? :	No
Break time:	0
Group Marks:	20
Revisit allowed for group Instructions? :	Yes
Maximum Instruction Time:	0
Minimum Instruction Time:	0

Discipline3

Section Id :	966231246
Section Number :	1
Section type :	Online
Mandatory or Optional:	Mandatory
Number of Questions:	20
Number of Questions to be attempted:	20
Section Marks:	20
Display Number Panel:	Yes
Group All Questions:	No

Sub-Section Number:	1
Sub-Section Id:	966231268
Question Shuffling Allowed :	Yes

Question Number : 141 Question Id : 9662316763 Question Type : MCQ Option Shuffling : Yes Display Question Number : Yes
 Single Line Question Option : No Option Orientation : Vertical
 Correct Marks : 1 Wrong Marks : 0.25

Which nursing care is to be provided pre-operatively to a baby born with exstrophy of bladder?

Options :

1. ✘ Immerse the baby in water while bathing
2. ✔ Cover the bladder with sterile petroleum gauze
3. ✘ Place the baby in the prone position
4. ✘ Keep the bladder mucosa dry

Question Number : 141 Question Id : 9662316763 Question Type : MCQ Option Shuffling : Yes Display Question Number : Yes
 Single Line Question Option : No Option Orientation : Vertical
 Correct Marks : 1 Wrong Marks : 0.25

मूत्राशय के बहिःसाव के साथ पैदा होने वाले बच्चे को पहले से कौन सी नर्सिंग देखभाल प्रदान की जाती है?

Options :

1. ✘ नहाते समय बच्चे को पानी में डुबोएं
2. ✔ स्टेराइल पेट्रोलियम गौज के साथ मूत्राशय को कवर करें
3. ✘ बच्चे को प्रवण स्थिति में रखें
4. ✘ मूत्राशय के श्लेष्म को सूखा रखें

Question Number : 142 Question Id : 9662316764 Question Type : MCQ Option Shuffling : Yes Display Question Number : Yes
Single Line Question Option : No Option Orientation : Vertical

Correct Marks : 1 Wrong Marks : 0.25

Which among the following is NOT a major manifestation of rheumatic fever?

Options :

1. ✘ Carditis
2. ✘ Chorea
3. ✔ Arthralgia
4. ✘ Subcutaneous nodules

Question Number : 142 Question Id : 9662316764 Question Type : MCQ Option Shuffling : Yes Display Question Number : Yes
Single Line Question Option : No Option Orientation : Vertical

Correct Marks : 1 Wrong Marks : 0.25

निम्नलिखित में से कौन-सा रूमेटिक फीवर का प्रमुख लक्षण नहीं है?

Options :

1. ✘ कार्डिटिस
2. ✘ कोरिया
3. ✔ जोड़ों का दर्द
4. ✘ त्वचा के नीचे के पिंड

Question Number : 143 Question Id : 9662316765 Question Type : MCQ Option Shuffling : Yes Display Question Number : Yes
Single Line Question Option : No Option Orientation : Vertical

Correct Marks : 1 Wrong Marks : 0.25

Which diagnostic test determines the presence of Hodgkin's lymphoma?

Options :

1. ✓ Presence of Reed-Sternberg cell in lymph node
2. ✘ Presence of malignant cells in CSF
3. ✘ Presence of lymphoblasts in the bone marrow
4. ✘ Presence of Philadelphia chromosome

Question Number : 143 Question Id : 9662316765 Question Type : MCQ Option Shuffling : Yes Display Question Number : Yes
Single Line Question Option : No Option Orientation : Vertical

Correct Marks : 1 Wrong Marks : 0.25

कौन सा नैदानिक परीक्षण हॉजकिन के लिंफोमा की उपस्थिति को निर्धारित करता है?

Options :

1. ✓ लिम्फ नोड में रीड-स्टर्नबर्ग सेल की उपस्थिति
2. ✘ सीएसएफ में घातक कोशिकाओं की उपस्थिति
3. ✘ अस्थि मज्जा में लिम्फोब्लास्ट की उपस्थिति
4. ✘ फिलाडेल्फिया गुणसूत्र की उपस्थिति

Question Number : 144 Question Id : 9662316766 Question Type : MCQ Option Shuffling : Yes Display Question Number : Yes
Single Line Question Option : No Option Orientation : Vertical

Correct Marks : 1 Wrong Marks : 0.25

Which finding is noted on assessing a child with scabies?

Options :

1. ✓ Gray threadlike lines
2. ✘ Discrete red macules
3. ✘ Pink-red macules
4. ✘ Purple-coloured lines

Question Number : 144 Question Id : 9662316766 Question Type : MCQ Option Shuffling : Yes Display Question Number : Yes
Single Line Question Option : No Option Orientation : Vertical

Correct Marks : 1 Wrong Marks : 0.25

खाज खुजली वाले बच्चे का आकलन करने पर कौन सी खोज की गई है?

Options :

1. ✓ ग्रे धागे की तरह की रेखाएँ
2. ✘ पृथक लाल मैक्यूलस
3. ✘ गुलाबी-लाल मैक्यूलस
4. ✘ बैंगनी रंग की रेखाएँ

Question Number : 145 Question Id : 9662316767 Question Type : MCQ Option Shuffling : Yes Display Question Number : Yes
Single Line Question Option : No Option Orientation : Vertical

Correct Marks : 1 Wrong Marks : 0.25

Which vaccine is NOT administered to an HIV-positive child?

Options :

1. ✓ OPV
2. ✘ Hepatitis B
3. ✘ MMR
4. ✘ DPT

Question Number : 145 Question Id : 9662316767 Question Type : MCQ Option Shuffling : Yes Display Question Number : Yes
Single Line Question Option : No Option Orientation : Vertical

Correct Marks : 1 Wrong Marks : 0.25

एचआईवी पॉजिटिव बच्चे को कौन सा टीका नहीं लगाया जाता है?

Options :

1. ✓ ओपीवी
2. ✘ हेपेटाइटिस बी
3. ✘ एमएमआर
4. ✘ डीपीटी

Question Number : 146 Question Id : 9662316768 Question Type : MCQ Option Shuffling : Yes Display Question Number : Yes
Single Line Question Option : No Option Orientation : Vertical

Correct Marks : 1 Wrong Marks : 0.25

Who described 'ABO' Blood grouping?

Options :

1. ✓ Karl Landsteiner
2. ✗ David Baltimore
3. ✗ Sir Ronald Ross
4. ✗ Robert Koch

Question Number : 146 Question Id : 9662316768 Question Type : MCQ Option Shuffling : Yes Display Question Number : Yes
Single Line Question Option : No Option Orientation : Vertical

Correct Marks : 1 Wrong Marks : 0.25

'एबीओ' ब्लड ग्रुपिंग का वर्णन किसने किया?

Options :

1. ✓ कार्ल लैंडस्टीनर
2. ✗ डेविड बाल्टीमोर
3. ✗ सर रोनाल्ड रॉस
4. ✗ रॉबर्ट कोच

Question Number : 147 Question Id : 9662316769 Question Type : MCQ Option Shuffling : Yes Display Question Number : Yes
Single Line Question Option : No Option Orientation : Vertical

Correct Marks : 1 Wrong Marks : 0.25

Which is the only immunoglobulin transported through placenta to fetus?

Options :

1. ✗ I_gM
2. ✓ I_gG
3. ✗ I_gH
4. ✗ I_gD

Question Number : 147 Question Id : 9662316769 Question Type : MCQ Option Shuffling : Yes Display Question Number : Yes
Single Line Question Option : No Option Orientation : Vertical

Correct Marks : 1 Wrong Marks : 0.25

प्लेसेंटा के माध्यम से भ्रूण तक पहुँचाया जाने वाला एकमात्र इम्युनोग्लोबुलिन कौन सा है?

Options :

1. ✘ I_gM

2. ✔ I_gG

3. ✘ I_gH

4. ✘ I_gD

Question Number : 148 Question Id : 9662316770 Question Type : MCQ Option Shuffling : Yes Display Question Number : Yes
Single Line Question Option : No Option Orientation : Vertical

Correct Marks : 1 Wrong Marks : 0.25

What is the correct position to be maintained for patient who shows signs of shock?

Options :

1. ✘ Reverse Trendelenburg

2. ✘ Lithotomy

3. ✘ Supine

4. ✔ Modified Trendelenburg

Question Number : 148 Question Id : 9662316770 Question Type : MCQ Option Shuffling : Yes Display Question Number : Yes
Single Line Question Option : No Option Orientation : Vertical

Correct Marks : 1 Wrong Marks : 0.25

उस रोगी के लिए बनाए रखने की सही स्थिति क्या है, जो सदमे के लक्षण दिखाती/ता है?

Options :

1. ✘ रिवर्स ट्रेंडेलनबर्ग

2. ✘ लिथोटोमी

3. ✘ सुपिन

4. ✔ संशोधित ट्रेंडेलनबर्ग

Question Number : 149 Question Id : 9662316771 Question Type : MCQ Option Shuffling : Yes Display Question Number : Yes
Single Line Question Option : No Option Orientation : Vertical

Correct Marks : 1 Wrong Marks : 0.25

A nurse is caring for patient on diuretic therapy. The nurse would monitor the patient for which acid base disorder?

Options :

1. ✓ Metabolic Alkalosis
2. ✗ Respiratory Alkalosis
3. ✗ Respiratory Acidosis
4. ✗ Metabolic Acidosis

Question Number : 149 Question Id : 9662316771 Question Type : MCQ Option Shuffling : Yes Display Question Number : Yes
Single Line Question Option : No Option Orientation : Vertical

Correct Marks : 1 Wrong Marks : 0.25

मूत्रवर्धक चिकित्सा पर एक रोगी की देखभाल एक नर्स कर रही है। नर्स किस एसिड बेस विकार के लिए रोगी की निगरानी करेगी?

Options :

1. ✓ मेटाबोलिक अल्कलॉसिस
2. ✗ श्वसन अल्कलॉसिस
3. ✗ श्वसन एसिडॉसिस
4. ✗ मेटाबोलिक सिडॉसिस

Question Number : 150 Question Id : 9662316772 Question Type : MCQ Option Shuffling : Yes Display Question Number : Yes
Single Line Question Option : No Option Orientation : Vertical

Correct Marks : 1 Wrong Marks : 0.25

A patient is in stage of dying and says that 'I just want to see my grand children's birth, then I am ready'. Identify the stage of dying.

Options :

1. ✗ Acceptance
2. ✗ Anger
3. ✓ Bargaining
4. ✗ Depression

Question Number : 150 Question Id : 9662316772 Question Type : MCQ Option Shuffling : Yes Display Question Number : Yes
Single Line Question Option : No Option Orientation : Vertical

Correct Marks : 1 Wrong Marks : 0.25

एक मरीज मरने के चरण में है और कहता है कि 'मैं सिर्फ अपने पोते पोतियों का जन्म देखना चाहता हूँ, फिर मैं तैयार हूँ।' मरने की अवस्था को पहचानें।

Options :

1. ✘ स्वीकार
2. ✘ गुस्सा
3. ✔ सौदेबाज़ी (बार्गेनिंग)
4. ✘ डिप्रेसन

Question Number : 151 Question Id : 9662316773 Question Type : MCQ Option Shuffling : Yes Display Question Number : Yes
Single Line Question Option : No Option Orientation : Vertical

Correct Marks : 1 Wrong Marks : 0.25

What is the advantage of venturi mask?

Options :

1. ✘ High concentration O₂ is delivered accurately
2. ✘ Provides moderate-to high-density aerosols
3. ✔ Delivers precise and high flow rates of oxygen
4. ✘ O₂ is delivered quickly for short periods

Question Number : 151 Question Id : 9662316773 Question Type : MCQ Option Shuffling : Yes Display Question Number : Yes
Single Line Question Option : No Option Orientation : Vertical

Correct Marks : 1 Wrong Marks : 0.25

वेंटुरी मास्क का फायदा क्या है?

Options :

1. ✘ उच्च सान्द्रता O₂ सही ढंग से दिया गया है
2. ✘ मध्यम से उच्च घनत्व वाले एरोसोल प्रदान करता है
3. ✔ ऑक्सीजन की सटीक और उच्च प्रवाह दर देता है
4. ✘ O₂ छोटी अवधि के लिए जल्दी से दिया जाता है

Question Number : 152 Question Id : 9662316774 Question Type : MCQ Option Shuffling : Yes Display Question Number : Yes
Single Line Question Option : No Option Orientation : Vertical

Correct Marks : 1 Wrong Marks : 0.25

Anasarca is a feature of:

Options :

1. ✘ Pulmonary hypertension
2. ✔ Right-sided heart failure
3. ✘ Left-sided heart failure
4. ✘ Cor pulmonale

Question Number : 152 Question Id : 9662316774 Question Type : MCQ Option Shuffling : Yes Display Question Number : Yes
Single Line Question Option : No Option Orientation : Vertical

Correct Marks : 1 Wrong Marks : 0.25

निम्नलिखित में से एनासरका (Anasarca) किसका एक लक्षण है?

Options :

1. ✘ फेफड़े उच्चरक्तचाप
2. ✔ दाहिने तरफा, हृदय का रुक जाना
3. ✘ बाएँ तरफा, हृदय का रुक जाना
4. ✘ फुफ्फुसीय दिल का रोग (कॉर पल्मोनाले)

Question Number : 153 Question Id : 9662316775 Question Type : MCQ Option Shuffling : Yes Display Question Number : Yes
Single Line Question Option : No Option Orientation : Vertical

Correct Marks : 1 Wrong Marks : 0.25

What is the common pathophysiological mechanism of acute pancreatitis?

Options :

1. ✘ Overproduction of enzymes
2. ✘ Malabsorption of enzymes
3. ✔ Auto digestion of pancreas
4. ✘ Formation of Neo β -Pancreatic cells

Question Number : 153 Question Id : 9662316775 Question Type : MCQ Option Shuffling : Yes Display Question Number : Yes
Single Line Question Option : No Option Orientation : Vertical

Correct Marks : 1 Wrong Marks : 0.25

तीव्र अग्नाशयशोथ का सामान्य पैथोफिज़ियोलॉजिकल तंत्र क्या है?

Options :

1. ✘ एंजाइमों का अधिक उत्पादन
2. ✘ एंजाइमों का कुअवशोषण
3. ✔ अग्न्याशय का अपने आप पाचन
4. ✘ नव (Neo β) अग्न्याशय कोशिकाएं का गठन

Question Number : 154 Question Id : 9662316776 Question Type : MCQ Option Shuffling : Yes Display Question Number : Yes
Single Line Question Option : No Option Orientation : Vertical

Correct Marks : 1 Wrong Marks : 0.25

Lhermitte's' sign is observed in:

Options :

1. ✔ Multiple sclerosis
2. ✘ Systemic lupus erythematosus
3. ✘ Myasthenia gravis
4. ✘ Guillain-Barre Syndrome

Question Number : 154 Question Id : 9662316776 Question Type : MCQ Option Shuffling : Yes Display Question Number : Yes
Single Line Question Option : No Option Orientation : Vertical

Correct Marks : 1 Wrong Marks : 0.25

_____ में लहरमिट्ट के चिह्न देखे जाते हैं।

Options :

1. ✔ मल्टीपल स्क्लेरोसिस
2. ✘ दैहिक ल्यूपस एरिथेमेटोसिस
3. ✘ मियासथीनिया ग्रेविस
4. ✘ गिल्लन बर्रे सिंड्रोम

Question Number : 155 Question Id : 9662316777 Question Type : MCQ Option Shuffling : Yes Display Question Number : Yes
Single Line Question Option : No Option Orientation : Vertical

Correct Marks : 1 Wrong Marks : 0.25

Identify an early symptom of spinal cord tumor from the options.

Options :

1. ✘ Impaired sensation of temperature, touch, pain
2. ✔ Pain worsens with activity, straining and lying down
3. ✘ Position changes leading to complete anesthesia
4. ✘ Clumsiness, weakness, spasticity

Question Number : 155 Question Id : 9662316777 Question Type : MCQ Option Shuffling : Yes Display Question Number : Yes
Single Line Question Option : No Option Orientation : Vertical

Correct Marks : 1 Wrong Marks : 0.25

इन विकल्पों में से रीढ़ की हड्डी के ट्यूमर के शुरुआती लक्षण पहचानें।

Options :

1. ✘ तापमान, स्पर्श, दर्द की बिगड़ी हुई संवेदना
2. ✔ गतिविधि, तनाव और लैटने से दर्द बिगड़ जाता है
3. ✘ स्थिति बदल जाती है जिसके परिणामस्वरूप पूर्ण बेहोशी
4. ✘ बेडौल, कमजोरी, अंगसंकोच

Question Number : 156 Question Id : 9662316778 Question Type : MCQ Option Shuffling : Yes Display Question Number : Yes
Single Line Question Option : No Option Orientation : Vertical

Correct Marks : 1 Wrong Marks : 0.25

A nurse assisted in endotracheal intubation. The doctor advised to maintain cuff pressure between 20-25 mm Hg. What is the complication of low cuff pressure?

Options :

1. ✘ Tracheal bleeding
2. ✘ Ischemia
3. ✘ Pressure necrosis
4. ✔ Risk for aspiration pneumonia

Question Number : 156 Question Id : 9662316778 Question Type : MCQ Option Shuffling : Yes Display Question Number : Yes
Single Line Question Option : No Option Orientation : Vertical

Correct Marks : 1 Wrong Marks : 0.25

एक नर्स ने एंडोट्रैकियल इंट्यूबेशन में सहायता की। डॉक्टर ने सलाह दी की 20 - 25 मिलीमीटर एचजी (mm Hg) के बीच कफ दबाव बनाए रखने की सलाह दी। कम कफ दबाव की जटिलता क्या है?

Options :

1. ✘ सांस की नली का रक्तस्राव
2. ✘ इसकेमिया
3. ✘ दबाव परिगलन
4. ✔ एस्पिरेशन निमोनिया का जोखिम

Question Number : 157 Question Id : 9662316779 Question Type : MCQ Option Shuffling : Yes Display Question Number : Yes
Single Line Question Option : No Option Orientation : Vertical

Correct Marks : 1 Wrong Marks : 0.25

Identify the correct statement with regard to Post Necrotic Cirrhosis?

Options :

1. ✘ It is associated with alcohol abuse
2. ✔ It is the result of complication of viral, toxic hepatitis
3. ✘ It is associated with chronic biliary obstruction
4. ✘ It results from Cor pulmonale, pericarditis

Question Number : 157 Question Id : 9662316779 Question Type : MCQ Option Shuffling : Yes Display Question Number : Yes
Single Line Question Option : No Option Orientation : Vertical

Correct Marks : 1 Wrong Marks : 0.25

पोस्ट नेक्रोटिक सिरोसिस के संबंध में सही कथन की पहचान करें?

Options :

1. ✘ यह शराब के दुरुपयोग के साथ जुड़ा हुआ है
2. ✔ यह वायरल, टॉक्सिक हेपेटाइटिस की जटिलता का परिणाम है
3. ✘ यह पुरानी पित्त बाधा के साथ जुड़ा हुआ है
4. ✘ यह कॉर पल्मोनाले, पेरिकार्डिटिस का परिणाम होता है

Question Number : 158 Question Id : 9662316780 Question Type : MCQ Option Shuffling : Yes Display Question Number : Yes
Single Line Question Option : No Option Orientation : Vertical

Correct Marks : 1 Wrong Marks : 0.25

Who introduced the term 'cultural lag'?

Options :

1. ✓ Williams F. Ogburn
2. ✗ C.H.Cooley
3. ✗ Durkheim
4. ✗ G.R.Madan

Question Number : 158 Question Id : 9662316780 Question Type : MCQ Option Shuffling : Yes Display Question Number : Yes
Single Line Question Option : No Option Orientation : Vertical

Correct Marks : 1 Wrong Marks : 0.25

सांस्कृतिक अंतराल', किसने इस पद की शुरुआत की?

Options :

1. ✓ विलियम्स एफ ओगबर्न
2. ✗ सी.एच. कुली
3. ✗ दुर्खीम
4. ✗ जी.आर. मदन

Question Number : 159 Question Id : 9662316781 Question Type : MCQ Option Shuffling : Yes Display Question Number : Yes
Single Line Question Option : No Option Orientation : Vertical

Correct Marks : 1 Wrong Marks : 0.25

Identify the demerit of caste system from the options given.

Options :

1. ✗ Provides fixed social environment
2. ✗ Provides a profession and solves unemployment issues
3. ✓ Introduces inherited inequality in society
4. ✗ Improves spirit of cooperation among members

Question Number : 159 Question Id : 9662316781 Question Type : MCQ Option Shuffling : Yes Display Question Number : Yes
Single Line Question Option : No Option Orientation : Vertical

Correct Marks : 1 Wrong Marks : 0.25

इनमें दिए गए विकल्पों में से जाति व्यवस्था के अवगुण को पहचानें।

Options :

1. ✘ निश्चित सामाजिक वातावरण प्रदान करता है
2. ✘ एक व्यवसाय प्रदान करता है और बेरोजगारी के मुद्दों को हल करता है
3. ✔ समाज में विरासत में मिली असमानता का परिचय देता है
4. ✘ सदस्यों के बीच सहयोग की भावना में सुधार करता है

Question Number : 160 Question Id : 9662316782 Question Type : MCQ Option Shuffling : Yes Display Question Number : Yes
Single Line Question Option : No Option Orientation : Vertical

Correct Marks : 1 Wrong Marks : 0.25

When a person changes from one position to another position of equal status, it is called:

Options :

1. ✔ Horizontal mobility
2. ✘ Upward social mobility
3. ✘ Downward social mobility
4. ✘ Vertical mobility

Question Number : 160 Question Id : 9662316782 Question Type : MCQ Option Shuffling : Yes Display Question Number : Yes
Single Line Question Option : No Option Orientation : Vertical

Correct Marks : 1 Wrong Marks : 0.25

जब कोई व्यक्ति एक स्थिति से समान स्थिति वाली दूसरी स्थिति के लिए बदलता है, तो उसे कहा जाता है:

Options :

1. ✔ क्षैतिज गतिशीलता
2. ✘ ऊपर की सामाजिक गतिशीलता
3. ✘ नीचे की सामाजिक गतिशीलता
4. ✘ लंब गतिशीलता

Discipline4

Group Number :	9
Group Id :	966231132
Group Maximum Duration :	0
Group Minimum Duration :	0
Revisit allowed for view? :	No
Revisit allowed for edit? :	No
Break time:	0
Group Marks:	20
Revisit allowed for group Instructions? :	Yes
Maximum Instruction Time:	0
Minimum Instruction Time:	0

Discipline4

Section Id :	966231247
Section Number :	1
Section type :	Online
Mandatory or Optional:	Mandatory
Number of Questions:	20
Number of Questions to be attempted:	20
Section Marks:	20
Display Number Panel:	Yes
Group All Questions:	No

Sub-Section Number:	1
Sub-Section Id:	966231269
Question Shuffling Allowed :	Yes

Question Number : 161 Question Id : 9662316783 Question Type : MCQ Option Shuffling : Yes Display Question Number : Yes
Single Line Question Option : No Option Orientation : Vertical
Correct Marks : 1 Wrong Marks : 0.25

Sudden outbreak of any disease in a community than the expected normal cases of previous year is called:

Options :

- ✘ Endemic
- ✔ Epidemic
- ✘ Pandemic
- ✘ Sporadic

Question Number : 161 Question Id : 9662316783 Question Type : MCQ Option Shuffling : Yes Display Question Number : Yes
Single Line Question Option : No Option Orientation : Vertical
Correct Marks : 1 Wrong Marks : 0.25

पिछले वर्ष के अपेक्षित सामान्य मामलों की तुलना में किसी समुदाय में किसी भी बीमारी का अचानक प्रकोप होने को _____ कहते हैं।

Options :

1. ✘ एंडेमिक
2. ✔ एपिडेमिक
3. ✘ पैन्डेमिक
4. ✘ स्पोरैडिक

Question Number : 162 Question Id : 9662316784 Question Type : MCQ Option Shuffling : Yes Display Question Number : Yes
Single Line Question Option : No Option Orientation : Vertical

Correct Marks : 1 Wrong Marks : 0.25

Which of the following vaccines is contra-indicated in symptomatic HIV infection whose CD4 count is less than 400 cells/mm³?

Options :

1. ✔ BCG
2. ✘ DPT
3. ✘ Tetanus toxoid
4. ✘ Yellow fever

Question Number : 162 Question Id : 9662316784 Question Type : MCQ Option Shuffling : Yes Display Question Number : Yes
Single Line Question Option : No Option Orientation : Vertical

Correct Marks : 1 Wrong Marks : 0.25

निम्नलिखित में से कौन से टीके रोगसूचक एचआईवी संक्रमण में संकेतित है जिसका CD4 काउंट 400 कोशिकाओं / मिलीमीटर (mm³) से कम है?

Options :

1. ✔ बीसीजी
2. ✘ डीपीटी
3. ✘ टैटनस टॉक्सॉइड
4. ✘ येलो फीवर

Question Number : 163 Question Id : 9662316785 Question Type : MCQ Option Shuffling : Yes Display Question Number : Yes
Single Line Question Option : No Option Orientation : Vertical

Correct Marks : 1 Wrong Marks : 0.25

Which of the following intervention focuses on giving chemoprophylaxis for cholera?

Options :

1. ✓ Specific protection
2. ✗ Health promotion
3. ✗ Early intervention
4. ✗ Prevention of disease

Question Number : 163 Question Id : 9662316785 Question Type : MCQ Option Shuffling : Yes Display Question Number : Yes
Single Line Question Option : No Option Orientation : Vertical

Correct Marks : 1 Wrong Marks : 0.25

निम्नलिखित में से कौन सी देखभाल कॉलरा के लिए कीमोप्रोफाइलैक्सिस देने पर केंद्रित है?

Options :

1. ✓ विशिष्ट सुरक्षा
2. ✗ स्वास्थ्य वर्धन
3. ✗ जल्दी देखभाल
4. ✗ रोग की रोक-थाम

Question Number : 164 Question Id : 9662316786 Question Type : MCQ Option Shuffling : Yes Display Question Number : Yes
Single Line Question Option : No Option Orientation : Vertical

Correct Marks : 1 Wrong Marks : 0.25

The number of deaths due to a particular cause per 100/1000 total deaths is known as:

Options :

1. ✗ Case fatality rate
2. ✗ Age-specific death rate
3. ✓ Proportional mortality rate
4. ✗ Crude death rate

Question Number : 164 Question Id : 9662316786 Question Type : MCQ Option Shuffling : Yes Display Question Number : Yes
Single Line Question Option : No Option Orientation : Vertical

Correct Marks : 1 Wrong Marks : 0.25

किसी विशेष कारण से होने वाली मौतों की संख्या को, कुल मौतों प्रति 100/1000, _____ नाम से जाना जाता है।

Options :

1. ✘ मामला मृत्यु दर
2. ✘ आयु-विशिष्ट मृत्यु दर
3. ✔ आनुपातिक मृत्यु दर
4. ✘ अशोधित मृत्यु दर

Question Number : 165 Question Id : 9662316787 Question Type : MCQ Option Shuffling : Yes Display Question Number : Yes
Single Line Question Option : No Option Orientation : Vertical

Correct Marks : 1 Wrong Marks : 0.25

The continuous scrutiny for the factors that cause occurrence & distribution of disease is known as:

Options :

1. ✘ Monitoring
2. ✘ Eradication
3. ✔ Surveillance
4. ✘ Screening

Question Number : 165 Question Id : 9662316787 Question Type : MCQ Option Shuffling : Yes Display Question Number : Yes
Single Line Question Option : No Option Orientation : Vertical

Correct Marks : 1 Wrong Marks : 0.25

उन कारकों के लिए निरंतर जांच जो बीमारी के होने और वितरण के कारण होती है, उसे कहा जाता है?

Options :

1. ✘ निगरानी
2. ✘ नाश
3. ✔ चौकसी करना
4. ✘ जाँच

Question Number : 166 Question Id : 9662316788 Question Type : MCQ Option Shuffling : Yes Display Question Number : Yes
Single Line Question Option : No Option Orientation : Vertical

Correct Marks : 1 Wrong Marks : 0.25

निम्नलिखित में से कौन सी बीमारी शुरू होने से पहले दूसरों को संक्रमित करने में सक्षम है?

Options :

1. ✓ कण्ठमाला का रोग (मम्प्स)
2. ✗ आंत्र ज्वर (टाइफाइड)
3. ✗ मलेरिया
4. ✗ यक्ष्मा (ट्यूबरकलोसिस)

Question Number : 166 Question Id : 9662316788 Question Type : MCQ Option Shuffling : Yes Display Question Number : Yes
Single Line Question Option : No Option Orientation : Vertical

Correct Marks : 1 Wrong Marks : 0.25

Which of the following diseases is capable of infecting others before its onset of illness?

Options :

1. ✓ Mumps
2. ✗ Typhoid
3. ✗ Malaria
4. ✗ Tuberculosis

Question Number : 167 Question Id : 9662316789 Question Type : MCQ Option Shuffling : Yes Display Question Number : Yes
Single Line Question Option : No Option Orientation : Vertical

Correct Marks : 1 Wrong Marks : 0.25

Which of the following is a way to acquire passive immunity?

Options :

1. ✗ Exposure to disease
2. ✓ Antibody transfusion
3. ✗ Vaccination
4. ✗ Exposure to subclinical infection

Question Number : 167 Question Id : 9662316789 Question Type : MCQ Option Shuffling : Yes Display Question Number : Yes
Single Line Question Option : No Option Orientation : Vertical

Correct Marks : 1 Wrong Marks : 0.25

निम्नलिखित में से कौन सा अनिवारक प्रतिरक्षा हासिल करने का एक तरीका है?

Options :

1. ✘ रोग के संपर्क में आना
2. ✔ एंटीबाँडी आधान
3. ✘ टीका
4. ✘ उप नैदानिक संक्रमण (सबक्लिनिकल इन्फेक्शन)

Question Number : 168 Question Id : 9662316790 Question Type : MCQ Option Shuffling : Yes Display Question Number : Yes
Single Line Question Option : No Option Orientation : Vertical

Correct Marks : 1 Wrong Marks : 0.25

Which committee is also known as “Committee on Integration of Health Services”?

Options :

1. ✘ Kartar Singh Committee
2. ✘ Chadah Committee
3. ✔ Jungalwalla Committee
4. ✘ Mukerji Committee

Question Number : 168 Question Id : 9662316790 Question Type : MCQ Option Shuffling : Yes Display Question Number : Yes
Single Line Question Option : No Option Orientation : Vertical

Correct Marks : 1 Wrong Marks : 0.25

किस समिति को "स्वास्थ्य सेवाओं के एकीकरण पर समिति" के रूप से भी जाना जाता है?

Options :

1. ✘ करतार सिंह कमेटी
2. ✘ चड्ढा कमेटी
3. ✔ जंगलवाला कमेटी
4. ✘ मुकजी कमेटी

Question Number : 169 Question Id : 9662316791 Question Type : MCQ Option Shuffling : Yes Display Question Number : Yes
Single Line Question Option : No Option Orientation : Vertical

Correct Marks : 1 Wrong Marks : 0.25

In which year was RNTCP launched?

Options :

1. ✓ 1997
2. ✗ 2000
3. ✗ 2002
4. ✗ 2006

Question Number : 169 Question Id : 9662316791 Question Type : MCQ Option Shuffling : Yes Display Question Number : Yes
Single Line Question Option : No Option Orientation : Vertical
Correct Marks : 1 Wrong Marks : 0.25

आरएनटीसीपी किस वर्ष में लॉन्च किया गया था?

Options :

1. ✓ 1997
2. ✗ 2000
3. ✗ 2002
4. ✗ 2006

Question Number : 170 Question Id : 9662316792 Question Type : MCQ Option Shuffling : Yes Display Question Number : Yes
Single Line Question Option : No Option Orientation : Vertical
Correct Marks : 1 Wrong Marks : 0.25

The induration of skin between 6 and 9 mm after tuberculin test indicates:

Options :

1. ✗ Tuberculosis positive
2. ✓ Doubtful for tuberculosis
3. ✗ Contact with active tuberculosis patients
4. ✗ No risk for tuberculosis

Question Number : 170 Question Id : 9662316792 Question Type : MCQ Option Shuffling : Yes Display Question Number : Yes
Single Line Question Option : No Option Orientation : Vertical
Correct Marks : 1 Wrong Marks : 0.25

ट्यूबरकुलिन परीक्षण के बाद 6 और 9 मिलीमीटर के बीच की त्वचा की कठोरता _____ का इशारा करती है।

Options :

1. ✗ ट्यूबरकुलोसिस स्कारात्मक

2. ✓ ट्यूबरक्लोसिस के लिए संदेहा
3. ✘ सक्रिय ट्यूबरक्लोसिस रोगियों के साथ संपर्क
4. ✘ ट्यूबरक्लोसिस के लिए कोई जोखिम नहीं

Question Number : 171 Question Id : 9662316793 Question Type : MCQ Option Shuffling : Yes Display Question Number : Yes
Single Line Question Option : No Option Orientation : Vertical

Correct Marks : 1 Wrong Marks : 0.25

Early diagnosis and prompt treatment is encouraged at which level of prevention?

Options :

1. ✘ Primordial
2. ✓ Secondary
3. ✘ Tertiary
4. ✘ Primary

Question Number : 171 Question Id : 9662316793 Question Type : MCQ Option Shuffling : Yes Display Question Number : Yes
Single Line Question Option : No Option Orientation : Vertical

Correct Marks : 1 Wrong Marks : 0.25

शीघ्र मूल्यांकन और शीघ्र उपचार को रोकथाम के किस स्तर पर प्रोत्साहित किया जाता है?

Options :

1. ✘ मूल
2. ✓ माध्यमिक
3. ✘ तृतीयक
4. ✘ मुख्य

Question Number : 172 Question Id : 9662316794 Question Type : MCQ Option Shuffling : Yes Display Question Number : Yes
Single Line Question Option : No Option Orientation : Vertical

Correct Marks : 1 Wrong Marks : 0.25

Hardness of water can be removed by which of the following chemical reagents?

Options :

1. ✘ Sulphate Dioxide

2. ✓ Sodium Carbonate
3. ✗ Magnesium carbonate
4. ✗ Copper Sulphate

Question Number : 172 Question Id : 9662316794 Question Type : MCQ Option Shuffling : Yes Display Question Number : Yes
Single Line Question Option : No Option Orientation : Vertical

Correct Marks : 1 Wrong Marks : 0.25

निम्नलिखित रासायनिक अभिकर्मकों में से किसके द्वारा पानी की कठोरता को हटाया जा सकता है?

Options :

1. ✗ सल्फेट डाइऑक्साइड
2. ✓ सोडियम कार्बोनेट
3. ✗ मैग्नीशियम कार्बोनेट
4. ✗ कॉपर सल्फेट

Question Number : 173 Question Id : 9662316795 Question Type : MCQ Option Shuffling : Yes Display Question Number : Yes
Single Line Question Option : No Option Orientation : Vertical

Correct Marks : 1 Wrong Marks : 0.25

Oral contraceptive pill contains:

Options :

1. ✓ both progesterone and estrogen
2. ✗ only estrogen
3. ✗ only progesterone
4. ✗ corticosteroids

Question Number : 173 Question Id : 9662316795 Question Type : MCQ Option Shuffling : Yes Display Question Number : Yes
Single Line Question Option : No Option Orientation : Vertical

Correct Marks : 1 Wrong Marks : 0.25

मौखिक गर्भनिरोधक गोली में _____ शामिल होता/होते हैं।

Options :

1. ✓ प्रोजेस्टेरोन और एस्ट्रोजन दोनों

2. ✘ केवल एस्ट्रोजन
3. ✘ केवल प्रोजेस्टेरोन
4. ✘ कोर्टिकोस्टेरोइड

Question Number : 174 Question Id : 9662316796 Question Type : MCQ Option Shuffling : Yes Display Question Number : Yes
Single Line Question Option : No Option Orientation : Vertical

Correct Marks : 1 Wrong Marks : 0.25

'Peasoup' diarrhoea is a feature of:

Options :

1. ✘ Rota virus diarrhoea
2. ✔ Typhoid
3. ✘ Cholera
4. ✘ Gastritis

Question Number : 174 Question Id : 9662316796 Question Type : MCQ Option Shuffling : Yes Display Question Number : Yes
Single Line Question Option : No Option Orientation : Vertical

Correct Marks : 1 Wrong Marks : 0.25

'पी सूप' दस्त _____ का एक लक्षण है।

Options :

1. ✘ रोटा वायरस दस्त
2. ✔ आंत्र ज्वर (टाइफाइड)
3. ✘ कॉलेरा
4. ✘ जठर-शोथ

Question Number : 175 Question Id : 9662316797 Question Type : MCQ Option Shuffling : Yes Display Question Number : Yes
Single Line Question Option : No Option Orientation : Vertical

Correct Marks : 1 Wrong Marks : 0.25

What is the term coined for circumscribed fear of a discrete object or situation?

Options :

1. ✘ Agoraphobia

2. ✘ Claustrophobia
3. ✔ Specific phobia
4. ✘ Ailurophobia

Question Number : 175 Question Id : 9662316797 Question Type : MCQ Option Shuffling : Yes Display Question Number : Yes
Single Line Question Option : No Option Orientation : Vertical

Correct Marks : 1 Wrong Marks : 0.25

असतत वस्तु या स्थिति के भय से घिरे हुए शब्द को क्या कहते हैं?

Options :

1. ✘ विवृतिभीति
2. ✘ संवृत्तिभीति
3. ✔ विशिष्टभीति
4. ✘ विडालभीति

Question Number : 176 Question Id : 9662316798 Question Type : MCQ Option Shuffling : Yes Display Question Number : Yes
Single Line Question Option : No Option Orientation : Vertical

Correct Marks : 1 Wrong Marks : 0.25

Which of the following tools is commonly used to test a person's intellectual function?

Options :

1. ✔ Wechsler scale
2. ✘ CAGE scale
3. ✘ Child behavioural checklist
4. ✘ Rorschach ink blot test

Question Number : 176 Question Id : 9662316798 Question Type : MCQ Option Shuffling : Yes Display Question Number : Yes
Single Line Question Option : No Option Orientation : Vertical

Correct Marks : 1 Wrong Marks : 0.25

निम्नलिखित में से कौन सा उपकरण आमतौर पर किसी व्यक्ति के बौद्धिक प्रकार्य का परीक्षण करने के लिए उपयोग किया जाता है?

Options :

1. ✔ वीचस्लर स्केल

2. ✖ CAGE स्केल

3. ✖ बाल व्यवहार की जाँचसूची

4. ✖ रॉसचाक् स्याही धब्बा परीक्षण

Question Number : 177 Question Id : 9662316799 Question Type : MCQ Option Shuffling : Yes Display Question Number : Yes
Single Line Question Option : No Option Orientation : Vertical

Correct Marks : 1 Wrong Marks : 0.25

When a client says "I can't focus, my mind keeps wandering" then the nurse replies saying "you are having difficulty concentrating?". This is the example of which communication technique?

Options :

1. ✖ Summarising

2. ✔ Paraphrasing

3. ✖ Confronting

4. ✖ Focusing

Question Number : 177 Question Id : 9662316799 Question Type : MCQ Option Shuffling : Yes Display Question Number : Yes
Single Line Question Option : No Option Orientation : Vertical

Correct Marks : 1 Wrong Marks : 0.25

जब कोई मरीज कहता है, "मैं ध्यान केंद्रित नहीं कर सकता, मेरा दिमाग भटकता रहता है" तो नर्स जवाब देती है कि "आपको ध्यान केंद्रित करने में कठिनाई हो रही है?" यह किस संचार तकनीक का उदाहरण है?

Options :

1. ✖ सारांश

2. ✔ सांकेतिक शब्दों को बदलना

3. ✖ सामना करना

4. ✖ ध्यान केंद्रित करना

Question Number : 178 Question Id : 9662316800 Question Type : MCQ Option Shuffling : Yes Display Question Number : Yes
Single Line Question Option : No Option Orientation : Vertical

Correct Marks : 1 Wrong Marks : 0.25

What is the main action expected of tricyclic antidepressants?

Options :

1. ✓ Blocking the receptors of norepinephrine
2. ✘ Blocking dopamine receptors
3. ✘ Blocking GABA receptors
4. ✘ Blocking presynaptic receptors of catecholamine

Question Number : 178 Question Id : 9662316800 Question Type : MCQ Option Shuffling : Yes Display Question Number : Yes
Single Line Question Option : No Option Orientation : Vertical

Correct Marks : 1 Wrong Marks : 0.25

ट्राइसाइक्लिक एंटीडिप्रेसेंट्स से कौन सी मुख्य कार्रवाई की उम्मीद होती है?

Options :

1. ✓ नॉरपेनेफ्रिन के रिसेप्टर्स को अवरुद्ध करना
2. ✘ डोपामाइन रिसेप्टर्स को अवरुद्ध करना
3. ✘ गाबा (GABA) रिसेप्टर्स को अवरुद्ध करना
4. ✘ कैटेकोलामाइन के प्रीसिनेप्टिक रिसेप्टर्स को अवरुद्ध करना

Question Number : 179 Question Id : 9662316801 Question Type : MCQ Option Shuffling : Yes Display Question Number : Yes
Single Line Question Option : No Option Orientation : Vertical

Correct Marks : 1 Wrong Marks : 0.25

The client is no longer interested in going out and meeting friends. This is an example of which behaviour?

Options :

1. ✓ Avolition
2. ✘ Affective flattening
3. ✘ Alogia
4. ✘ Perseveration

Question Number : 179 Question Id : 9662316801 Question Type : MCQ Option Shuffling : Yes Display Question Number : Yes
Single Line Question Option : No Option Orientation : Vertical

Correct Marks : 1 Wrong Marks : 0.25

क्लाइंट को अब बाहर जाने और दोस्तों से मिलने में कोई दिलचस्पी नहीं है। यह किस व्यवहार का उदाहरण है?

Options :

1. ✓ अनिच्छा (अवॉलिशन)
2. ✘ उत्तेजित प्रभावशाली
3. ✘ ऐलोजिया
4. ✘ दृढ़ता (परस्वीयरेशन)

Question Number : 180 Question Id : 9662316802 Question Type : MCQ Option Shuffling : Yes Display Question Number : Yes
Single Line Question Option : No Option Orientation : Vertical

Correct Marks : 1 Wrong Marks : 0.25

Which of the following would be a priority nursing intervention for a patient who has suicidal behaviour?

Options :

1. ✘ Avoid bringing up the subject of suicide
2. ✘ Actively involve patient in the unit activities
3. ✘ Explain consequences of suicidal attempts
4. ✓ Ask the patient whether he/she has a thought of or has plan of committing suicide

Question Number : 180 Question Id : 9662316802 Question Type : MCQ Option Shuffling : Yes Display Question Number : Yes
Single Line Question Option : No Option Orientation : Vertical

Correct Marks : 1 Wrong Marks : 0.25

निम्नलिखित में से कौन आत्महत्या का व्यवहार करने वाले रोगी के लिए एक प्राथमिकता नर्सिंग देखभाल होगी?

Options :

1. ✘ आत्महत्या का विषय ना लाए
2. ✘ इकाई गतिविधियों में सक्रिय रूप से रोगी को शामिल करें
3. ✘ आत्महत्या के प्रयासों के परिणाम बताएं
4. ✓ रोगी से पूछें कि क्या उसकी आत्महत्या करने की योजना है या नहीं

Discipline5

Group Number :

10

Group Id :

966231133

Group Maximum Duration :

0

Group Minimum Duration :	120
Revisit allowed for view? :	No
Revisit allowed for edit? :	No
Break time:	0
Group Marks:	20
Revisit allowed for group Instructions? :	Yes
Maximum Instruction Time:	0
Minimum Instruction Time:	0

Discipline5

Section Id :	966231248
Section Number :	1
Section type :	Online
Mandatory or Optional:	Mandatory
Number of Questions:	20
Number of Questions to be attempted:	20
Section Marks:	20
Display Number Panel:	Yes
Group All Questions:	No

Sub-Section Number:	1
Sub-Section Id:	966231270
Question Shuffling Allowed :	Yes

Question Number : 181 Question Id : 9662316803 Question Type : MCQ Option Shuffling : Yes Display Question Number : Yes
Single Line Question Option : No Option Orientation : Vertical

Correct Marks : 1 Wrong Marks : 0.25

Which type of delusional disorder is commonly found in paranoid schizophrenia?

Options :

1. ✘ Delusion of grandeur
2. ✔ Delusion of persecution
3. ✘ Delusion of guilt
4. ✘ Nihilistic delusion

Question Number : 181 Question Id : 9662316803 Question Type : MCQ Option Shuffling : Yes Display Question Number : Yes
Single Line Question Option : No Option Orientation : Vertical

Correct Marks : 1 Wrong Marks : 0.25

पैरानॉइड सिजोफ्रेनिया में आमतौर पर किस प्रकार का भ्रम विकार पाया जाता है?

Options :

1. ✘ भव्यता का भ्रम

2. ✓ उत्पीड़न का भ्रम

3. ✗ ग्लानि का भ्रम

4. ✗ निहिलिस्टिक भ्रम

Question Number : 182 Question Id : 9662316804 Question Type : MCQ Option Shuffling : Yes Display Question Number : Yes Single Line Question Option : No Option Orientation : Vertical

Correct Marks : 1 Wrong Marks : 0.25

What is the term used to explain the condition in which a patient perceives that his/her face is distorted and his/her legs have become short?

Options :

1. ✗ Hallucination

2. ✗ Illusion

3. ✓ Depersonalisation

4. ✗ Denationalisation

Question Number : 182 Question Id : 9662316804 Question Type : MCQ Option Shuffling : Yes Display Question Number : Yes Single Line Question Option : No Option Orientation : Vertical

Correct Marks : 1 Wrong Marks : 0.25

किस शब्द का उपयोग उस स्थिति को समझाने के लिए किया जाता है जिसमें कोई मरीज यह मानता है कि उसका चेहरा बिगड़ा हुआ है और उसके पैर छोटे हो गए हैं?

Options :

1. ✗ वहम

2. ✗ भ्रम

3. ✓ अवैयक्तिकीकरण

4. ✗ विराष्ट्रीयकरण

Question Number : 183 Question Id : 9662316805 Question Type : MCQ Option Shuffling : Yes Display Question Number : Yes Single Line Question Option : No Option Orientation : Vertical

Correct Marks : 1 Wrong Marks : 0.25

Korsakoff's psychosis associated with chronic alcoholism is caused by the deficiency of:

Options :

1. ✓ Thiamine

2. ✘ Riboflavin

3. ✘ Biotin

4. ✘ Niacin

Question Number : 183 Question Id : 9662316805 Question Type : MCQ Option Shuffling : Yes Display Question Number : Yes
Single Line Question Option : No Option Orientation : Vertical

Correct Marks : 1 Wrong Marks : 0.25

चिरकारी शराबीपन से जुड़े कोर्साकॉफ मनोविकृति _____ की कमी के कारण होता है।

Options :

1. ✔ थायमिन

2. ✘ राइबोफ्लेविन

3. ✘ बायोटिन

4. ✘ नियासिन

Question Number : 184 Question Id : 9662316806 Question Type : MCQ Option Shuffling : Yes Display Question Number : Yes
Single Line Question Option : No Option Orientation : Vertical

Correct Marks : 1 Wrong Marks : 0.25

What is the term used to describe a feeding disorder characterised by eating non-nutritious substances such as soil, paint etc.?

Options :

1. ✘ Binge eating

2. ✘ Anorexia nervosa

3. ✔ Pica

4. ✘ Bulimia nervosa

Question Number : 184 Question Id : 9662316806 Question Type : MCQ Option Shuffling : Yes Display Question Number : Yes
Single Line Question Option : No Option Orientation : Vertical

Correct Marks : 1 Wrong Marks : 0.25

गैर-पौष्टिक पदार्थ जैसे मिट्टी, पेंट आदि खाने से होने वाली एक खिलाने वाले विकार का वर्णन करने के लिए किस शब्द का उपयोग किया जाता है?

Options :

1. ✘ ठूस ठूस कर खाना

2. ✘ एनोरेक्सिया नर्वोसा

3. ✔ पिका

4. ✘ बुलिमिया नर्वोसा

Question Number : 185 Question Id : 9662316807 Question Type : MCQ Option Shuffling : Yes Display Question Number : Yes
Single Line Question Option : No Option Orientation : Vertical

Correct Marks : 1 Wrong Marks : 0.25

What is "sun drowning"?

Options :

1. ✔ Worsening of symptoms and confusion in the evening

2. ✘ Unconscious filling of memory gaps

3. ✘ Stereotyped behaviour and activities

4. ✘ Incontinence during night

Question Number : 185 Question Id : 9662316807 Question Type : MCQ Option Shuffling : Yes Display Question Number : Yes
Single Line Question Option : No Option Orientation : Vertical

Correct Marks : 1 Wrong Marks : 0.25

"डूबता हुआ सूरज" क्या होता है?

Options :

1. ✔ शाम के समय लक्षणों का बिगाड़ना और भ्रम की स्थिति

2. ✘ बेहोश स्मृति में अन्तर भरने

3. ✘ पारंपरिक व्यवहार और गतिविधियाँ

4. ✘ रात के दौरान असंयतता

Question Number : 186 Question Id : 9662316808 Question Type : MCQ Option Shuffling : Yes Display Question Number : Yes
Single Line Question Option : No Option Orientation : Vertical

Correct Marks : 1 Wrong Marks : 0.25

Which of the following options describes transient situational disturbances?

Options :

1. ✔ Disturbed feelings and behaviour occurring due to overwhelming external stimuli

2. ✘ Acute condition resulting from withdrawal of alcohol
3. ✘ Clinical syndrome of akinesia & mutism
4. ✘ Abnormality of any function that is under voluntary control

Question Number : 186 Question Id : 9662316808 Question Type : MCQ Option Shuffling : Yes Display Question Number : Yes
Single Line Question Option : No Option Orientation : Vertical

Correct Marks : 1 Wrong Marks : 0.25

निम्नलिखित में से कौन सा विकल्प अस्थायी स्थितिजन्य गड़बड़ी का वर्णन करता है?

Options :

1. ✔ बाहरी उत्तेजनाओं के कारण होने वाली परेशान भावनाएं और व्यवहार
2. ✘ शराब बंद करने के परिणामस्वरूप तीव्र स्थिति
3. ✘ अगति और उत्परिवर्तन के नैदानिक सिंड्रोम
4. ✘ किसी भी कार्य की असामान्यता जो स्वेच्छापूर्ण नियंत्रण में है

Question Number : 187 Question Id : 9662316809 Question Type : MCQ Option Shuffling : Yes Display Question Number : Yes
Single Line Question Option : No Option Orientation : Vertical

Correct Marks : 1 Wrong Marks : 0.25

A psychiatric patient is discharged by the concerned medical officer after their relatives furnish a bond along with an undertaking that the mentally ill person shall be prevented from causing injury to self or others. The patient got discharged under which type of discharge?

Options :

1. ✘ Voluntary basis
2. ✔ Under special circumstances
3. ✘ On reception order
4. ✘ Admitted by police

Question Number : 187 Question Id : 9662316809 Question Type : MCQ Option Shuffling : Yes Display Question Number : Yes
Single Line Question Option : No Option Orientation : Vertical

Correct Marks : 1 Wrong Marks : 0.25

एक मानसिक रोगी को संबंधित मेडिकल अधिकारी द्वारा उनके रिश्तेदारों द्वारा एक वचन के साथ एक बॉन्ड प्रस्तुत करने के बाद छुट्टी दे दी जाती है कि मानसिक रूप से बीमार व्यक्ति को स्वयं या दूसरों को चोट पहुंचाने से रोका जाएगा। मरीज को किस प्रकार के डिस्चार्ज के तहत छुट्टी मिली?

Options :

1. ✘ स्वेच्छापूर्ण आधार
2. ✔ विशेष परिस्थितियों में
3. ✘ स्वागत क्रम के आदेश पर
4. ✘ पुलिस द्वारा भर्ती

Question Number : 188 Question Id : 9662316810 Question Type : MCQ Option Shuffling : Yes Display Question Number : Yes
Single Line Question Option : No Option Orientation : Vertical

Correct Marks : 1 Wrong Marks : 0.25

What is flight of ideas?

Options :

1. ✘ Absence or near absence of ideas
2. ✔ Constant shifting from one idea to another
3. ✘ Disturbance in ideas
4. ✘ Unfocused fear attached to any idea

Question Number : 188 Question Id : 9662316810 Question Type : MCQ Option Shuffling : Yes Display Question Number : Yes
Single Line Question Option : No Option Orientation : Vertical

Correct Marks : 1 Wrong Marks : 0.25

विचारों की उड़ान क्या है?

Options :

1. ✘ विचारों की अनुपस्थिति या लगभग अनुपस्थिति
2. ✔ एक विचार से दूसरे विचार में लगातार बदलना
3. ✘ विचारों में अशांति
4. ✘ किसी भी विचार से जुड़ा हुआ भय

Question Number : 189 Question Id : 9662316811 Question Type : MCQ Option Shuffling : Yes Display Question Number : Yes
Single Line Question Option : No Option Orientation : Vertical

Correct Marks : 1 Wrong Marks : 0.25

Avocational guidance is given to the individual with the purpose to:

Options :

1. ✘ solve all personal problems
2. ✔ spend leisure time activities
3. ✘ guide for selection of vocation
4. ✘ develop leadership abilities

Question Number : 189 Question Id : 9662316811 Question Type : MCQ Option Shuffling : Yes Display Question Number : Yes
Single Line Question Option : No Option Orientation : Vertical

Correct Marks : 1 Wrong Marks : 0.25

एक व्यक्ति को रोज़गार संबंधी मार्गदर्शन किस उद्देश्य से दिया जाता है:

Options :

1. ✘ सभी व्यक्तिगत समस्याओं को हल करें
2. ✔ खाली समय बताये
3. ✘ वोकेशन के चुनाव के लिए मार्गदर्शन
4. ✘ संचालन क्षमता विकसित करना

Question Number : 190 Question Id : 9662316812 Question Type : MCQ Option Shuffling : Yes Display Question Number : Yes
Single Line Question Option : No Option Orientation : Vertical

Correct Marks : 1 Wrong Marks : 0.25

A technique that focuses on real-life situation to allow nursing students to practice is called:

Options :

1. ✘ Seminar
2. ✔ Simulation
3. ✘ Self-instructional module
4. ✘ Problem-based learning

Question Number : 190 Question Id : 9662316812 Question Type : MCQ Option Shuffling : Yes Display Question Number : Yes
Single Line Question Option : No Option Orientation : Vertical

Correct Marks : 1 Wrong Marks : 0.25

एक तकनीक जो उपचारिका विद्यार्थियों को अभ्यास करने देने के लिए वास्तविक जीवन की स्थिति पर ध्यान केंद्रित करती है:

Options :

1. ✘ संगोष्ठी
2. ✔ अनुकरण
3. ✘ आत्म-अनुदेश मॉड्यूल
4. ✘ समस्या पर आधारित सीखना

Question Number : 191 Question Id : 9662316813 Question Type : MCQ Option Shuffling : Yes Display Question Number : Yes
Single Line Question Option : No Option Orientation : Vertical
Correct Marks : 1 Wrong Marks : 0.25

The approach of nursing process of giving nursing care can be regarded as:

Options :

1. ✘ Institutional curriculum
2. ✘ Instructional curriculum
3. ✘ Societal curriculum
4. ✔ Core curriculum

Question Number : 191 Question Id : 9662316813 Question Type : MCQ Option Shuffling : Yes Display Question Number : Yes
Single Line Question Option : No Option Orientation : Vertical
Correct Marks : 1 Wrong Marks : 0.25

उपचारिका देखभाल देने की उपचारिका प्रक्रिया के दृष्टिकोण को निम्न के रूप में माना जा सकता है:

Options :

1. ✘ संस्थागत पाठ्यचर्या
2. ✘ निर्देशात्मक पाठ्यचर्या
3. ✘ समाजीय पाठ्यचर्या
4. ✔ मूलभूत पाठ्यचर्या

Question Number : 192 Question Id : 9662316814 Question Type : MCQ Option Shuffling : Yes Display Question Number : Yes
Single Line Question Option : No Option Orientation : Vertical
Correct Marks : 1 Wrong Marks : 0.25

The continuous and ongoing evaluation of the nursing student is known as:

Options :

1. ✘ Summative evaluation
2. ✘ Criterion evaluation
3. ✔ Formative evaluation
4. ✘ Norm referenced evaluation

Question Number : 192 Question Id : 9662316814 Question Type : MCQ Option Shuffling : Yes Display Question Number : Yes
Single Line Question Option : No Option Orientation : Vertical

Correct Marks : 1 Wrong Marks : 0.25

एक उपचारिका विद्यार्थी के निरंतर जारी मूल्यांकन को _____ कहते हैं।

Options :

1. ✘ योगात्मक मूल्यांकन
2. ✘ कसौटी मूल्यांकन
3. ✔ रचनात्मक मूल्यांकन
4. ✘ प्रतिमानक संदर्भित मूल्यांकन

Question Number : 193 Question Id : 9662316815 Question Type : MCQ Option Shuffling : Yes Display Question Number : Yes
Single Line Question Option : No Option Orientation : Vertical

Correct Marks : 1 Wrong Marks : 0.25

The budget that projects about future sales is:

Options :

1. ✘ Flexible budget
2. ✔ Revenue budget
3. ✘ Variable budget
4. ✘ Profit budget

Question Number : 193 Question Id : 9662316815 Question Type : MCQ Option Shuffling : Yes Display Question Number : Yes
Single Line Question Option : No Option Orientation : Vertical

Correct Marks : 1 Wrong Marks : 0.25

भविष्य की बिक्री का अनुमान लगाने वाला बजट है:

Options :

1. ✘ लचीला बजट
2. ✔ राजस्व बजट
3. ✘ परिवर्तनीय बजट
4. ✘ लाभ बजट

Question Number : 194 Question Id : 9662316816 Question Type : MCQ Option Shuffling : Yes Display Question Number : Yes
Single Line Question Option : No Option Orientation : Vertical

Correct Marks : 1 Wrong Marks : 0.25

An employee receives orders from only one supervisor. This is known as:

Options :

1. ✘ Span of control
2. ✘ Scalar chain
3. ✔ Unity of command
4. ✘ Hierarchy chain

Question Number : 194 Question Id : 9662316816 Question Type : MCQ Option Shuffling : Yes Display Question Number : Yes
Single Line Question Option : No Option Orientation : Vertical

Correct Marks : 1 Wrong Marks : 0.25

प्रबंधक शैली जिसमें एक कर्मचारी केवल एक पर्यवेक्षक से आदेश प्राप्त करता है:

Options :

1. ✘ नियंत्रण विस्तृति
2. ✘ अदिश श्रृंखला
3. ✔ समादेश एकलता
4. ✘ पदानुक्रम श्रृंखला

Question Number : 195 Question Id : 9662316817 Question Type : MCQ Option Shuffling : Yes Display Question Number : Yes
Single Line Question Option : No Option Orientation : Vertical

Correct Marks : 1 Wrong Marks : 0.25

The audit that is conducted between the two regular audits is:

Options :

1. ✘ Internal audit
2. ✘ Continuous audit
3. ✔ Interim audit
4. ✘ Final audit

Question Number : 195 Question Id : 9662316817 Question Type : MCQ Option Shuffling : Yes Display Question Number : Yes
Single Line Question Option : No Option Orientation : Vertical

Correct Marks : 1 Wrong Marks : 0.25

दो नियमित ऑडिट के बीच जो ऑडिट किया जाता है, वह है:

Options :

1. ✘ आंतरिक ऑडिट
2. ✘ निरंतर ऑडिट
3. ✔ अंतरिम ऑडिट
4. ✘ अंतिम ऑडिट

Question Number : 196 Question Id : 9662316818 Question Type : MCQ Option Shuffling : Yes Display Question Number : Yes
Single Line Question Option : No Option Orientation : Vertical

Correct Marks : 1 Wrong Marks : 0.25

The leadership style in which each member acts according to his/her choice with leader having very little role to play is:

Options :

1. ✘ Democratic
2. ✔ Laissez faire
3. ✘ Autocratic
4. ✘ Formal

Question Number : 196 Question Id : 9662316818 Question Type : MCQ Option Shuffling : Yes Display Question Number : Yes
Single Line Question Option : No Option Orientation : Vertical

Correct Marks : 1 Wrong Marks : 0.25

एक ऐसी नेतृत्व शैली जिसमें हर सदस्य अपनी पसंद के अनुसार बर्ताव/काम करता है और जिसमें नेता की भूमिका बहुत कम होती है:

Options :

1. ✘ लोकतांत्रिक
2. ✔ अबंध नीति
3. ✘ एकतंत्रीय
4. ✘ औपचारिक

Question Number : 197 Question Id : 9662316819 Question Type : MCQ Option Shuffling : Yes Display Question Number : Yes
Single Line Question Option : No Option Orientation : Vertical

Correct Marks : 1 Wrong Marks : 0.25

The technique in which a sample is selected based on certain sample characteristics is known as:

Note: For this question, discrepancy is found in question/answer. So, this question is ignored for all candidates.

Options :

1. Purposive sampling
2. Judgmental sampling
3. Convenient sampling
4. Snow ball sampling

Question Number : 197 Question Id : 9662316819 Question Type : MCQ Option Shuffling : Yes Display Question Number : Yes
Single Line Question Option : No Option Orientation : Vertical

Correct Marks : 1 Wrong Marks : 0.25

वह तकनीक जिसमें एक नमूने का चुनाव नमूने की कुछ विशेषताओं के आधार पर किया जाता है:

Note: For this question, discrepancy is found in question/answer. So, this question is ignored for all candidates.

Options :

1. सोद्देश्य प्रतिचयन
2. आलोचनात्मक प्रतिचयन
3. सुविधाजनक प्रतिचयन
4. स्नोबॉल प्रतिचयन

Question Number : 198 Question Id : 9662316820 Question Type : MCQ Option Shuffling : Yes Display Question Number : Yes
Single Line Question Option : No Option Orientation : Vertical

Correct Marks : 1 Wrong Marks : 0.25

The research that is done to learn about cultural behaviour and cultural artifacts is called:

Options :

1. ✘ Grounded theory research
2. ✔ Ethnography research
3. ✘ Phenomenology research
4. ✘ Historical research

Question Number : 198 Question Id : 9662316820 Question Type : MCQ Option Shuffling : Yes Display Question Number : Yes
Single Line Question Option : No Option Orientation : Vertical

Correct Marks : 1 Wrong Marks : 0.25

सांस्कृतिक व्यवहार और सांस्कृतिक कलाकृतियों के बारे में जानने के लिए किये अनुसंधान को _____ कहते हैं।

Options :

1. ✘ ग्राउंडेड सिद्धांत अनुसंधान
2. ✔ नृवंशविज्ञान अनुसंधान
3. ✘ फेनोमिनोलॉजी अनुसंधान
4. ✘ ऐतिहासिक अनुसंधान

Question Number : 199 Question Id : 9662316821 Question Type : MCQ Option Shuffling : Yes Display Question Number : Yes
Single Line Question Option : No Option Orientation : Vertical

Correct Marks : 1 Wrong Marks : 0.25

The statement that describes researcher's expectations about relationship of two variables under study is known as:

Options :

1. ✘ Assumption
2. ✘ Significance test
3. ✘ Testability
4. ✔ Hypothesis

Question Number : 199 Question Id : 9662316821 Question Type : MCQ Option Shuffling : Yes Display Question Number : Yes
Single Line Question Option : No Option Orientation : Vertical

Correct Marks : 1 Wrong Marks : 0.25

अध्ययन तहत दो चरों के संबंध का अनुसंधायको की अपेक्षाओं के अनुसार वर्णन करने वाले कथन को _____ कहते हैं।

Options :

1. ✘ अभिग्रह
2. ✘ महत्व परीक्षण
3. ✘ परीक्षण योग्यता
4. ✔ परिकल्पना

Question Number : 200 Question Id : 9662316822 Question Type : MCQ Option Shuffling : Yes Display Question Number : Yes
Single Line Question Option : No Option Orientation : Vertical

Correct Marks : 1 Wrong Marks : 0.25

In the central tendency calculation , the most frequently occurring value is considered as:

Options :

1. ✔ Mode
2. ✘ Median
3. ✘ Range
4. ✘ Mean

Question Number : 200 Question Id : 9662316822 Question Type : MCQ Option Shuffling : Yes Display Question Number : Yes
Single Line Question Option : No Option Orientation : Vertical

Correct Marks : 1 Wrong Marks : 0.25

एक केंद्रीय प्रवृत्ति गणना में अक्सर पाए जाने वाला मान _____ है।

Options :

1. ✔ बहुलक
2. ✘ माध्यिका
3. ✘ सीमा
4. ✘ माध्य