

Participant ID:	
Participant Name:	
Test Center Name:	
Test Date:	26/08/2017
Test Time:	4:00 PM - 6:00 PM
Marks Obtained:	

Section : तार्किक और मानसिक क्षमता

Q.1 यदि किसी सांकेतिक भाषा में "ZEBRA" को "2652181" लिखा जाता है तो COBRA को उसी भाषा में कैसे लिखा जाएगा?

- Ans
- 1. 1182153
 - 2. 302181
 - 3. 3152181
 - 4. 31822152

Question ID : 6172496334

Status : Answered

Chosen Option : 3

Marks : 4.00

Q.2 निम्न में से किस उत्तर आकृति द्वारा प्रश्न आकृति पूरी होगी?



- Ans
- 1.
 - 2.
 - 3.
 - 4.

Question ID : 6172498491

Status : Answered

Chosen Option : 4

Marks : 4.00

Q.3 आठ कार्यपालक H, I, J, K, L, M, N और P एक वृत्तकार टेबल के गिर्द एक बैठक के लिए बैठे हैं। M, J के दायें तीसरा और K के बायें दूसरा है। H, I के तुरन्त बायें हैं। P, K के तुरन्त दायें हैं। L, N के बायें तीसरा है। M के बायें दूसरा कौन हैं?

- Ans
- 1. H
 - 2. P
 - 3. K
 - 4. J

Question ID : 6172496631

Status : Answered

Chosen Option : 1

Marks : 4.00

Q.4 रमेश एक वस्तु 400 रूपये में खरीदता है और 15% लाभ पर बेचता है विक्रय मूल्य निकालें

- Ans
- 1. 250

Question ID : 6172497651

Status : Answered

Test Prime

ALL EXAMS,
ONE SUBSCRIPTION



40,000+
Mock Tests



Personalised
Report Card



Unlimited
Re-Attempt



500+
Exam Covered



Previous Year
Papers



500%
Refund



DOWNLOAD NOW

- 2. 350
- 3. 400
- 4. 460

Chosen Option : 4
Marks : 4.00

Q.5 नीचे दिए गए कथनों के अनुसार कौनसा निष्कर्ष तर्कसंगत निकाला जा सकता है।
कथन : कुछ रेल ट्रेन है।
कुछ रेल लोकल है।
निष्कर्ष : I. कम से कम कुछ ट्रेन लोकल है।
II. कोई भी ट्रेन लोकल नहीं है।

Question ID : 6172498371

Status : Answered

Chosen Option : 1

Marks : -1.00

- Ans
- 1. दोनों निष्कर्ष गलत है
 - 2. या तो निष्कर्ष I या निष्कर्ष II सत्य है
 - 3. केवल निष्कर्ष I सत्य है
 - 4. दोनों निष्कर्ष सही है

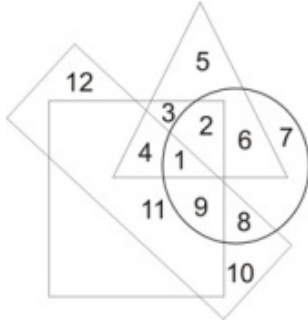
Q.6 निम्नांकित आरेख में त्रिभुज ईमानदार व्यक्तियों को, वृत्त शिक्षित व्यक्तियों को वर्ग परिश्रमी व्यक्तियों तथा आयत गरीब व्यक्तियों को प्रदर्शित करते हैं। ऐसे लोगो की संख्या क्या होगी जो कि परिश्रमी और ईमानदार हैं लेकिन न तो शिक्षित हैं और न ही गरीब हैं?

Question ID : 6172498251

Status : Answered

Chosen Option : 3

Marks : 4.00



- Ans
- 1. 4
 - 2. 5
 - 3. 3
 - 4. 2

Q.7 यदि + का अर्थ - है, - का अर्थ \times है, \div का अर्थ + है तथा \times का अर्थ \div है, तो $15 \times 3 \div 4 - 6 + 7 = ?$

Question ID : 6172497111

Status : Answered

Chosen Option : 1

Marks : 4.00

- Ans
- 1. 22
 - 2. 175/3
 - 3. 9
 - 4. 25

Q.8 निम्नलिखित को तर्कसंगत क्रम में किस प्रकार व्यवस्थित किया जाएगा। 1. पुस्तक 2. लुगदी 3. लकड़ी का लट्ठा 4. वन 5. कागज

Question ID : 6172496451

Status : Answered

Chosen Option : 4

Marks : 4.00

- Ans
- 1. 3, 2, 5, 1, 4
 - 2. 2, 5, 1, 4, 3
 - 3. 5, 4, 3, 1, 2
 - 4. 4, 3, 2, 5, 1

Q.9 कोई आयताकार ब्लॉक जिसका आयाम $6 \times 4 \times 2$ सेमी है, का यदि 1 सेमी आयाम वाले छोटे-छोटे घनों में परिवर्तित कर दिया जाए, तो कुल कितने घन प्राप्त होंगे?

Question ID : 6172496871

Status : Answered

Chosen Option : 3

Marks : 4.00

- Ans
- 1. 64
 - 2. 96

✓ 3.48

✗ 4.32

Q.10 13 परिणामों का औसत 70 है। प्रथम सात का औसत 65 है और अंतिम सात का औसत 75 है। सातवां परिणाम क्या है ?

Ans ✗ 1.68

✓ 2.70

✗ 3.70.5

✗ 4.67

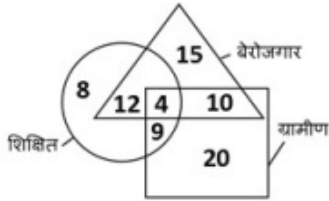
Question ID : 6172497411

Status : Answered

Chosen Option : 2

Marks : 4.00

Q.11 निम्नांकित आरेख में वृत शिक्षित का, त्रिभुज बेरोजगार का और वर्ग ग्रामीण का प्रतिनिधित्व करता है तो ऐसे ग्रामीण जो अशिक्षित व बेरोजगार है, की संख्या होगी-



Ans ✗ 1.9

✗ 2.8

✓ 3.10

✗ 4.4

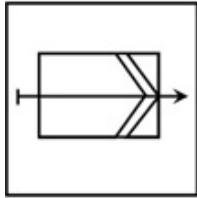
Question ID : 6172498191

Status : Answered

Chosen Option : 3

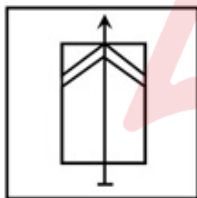
Marks : 4.00

Q.12 दिए गए विकल्पों में से प्रश्न आकृति का जल प्रतिबिम्ब क्या होगा?

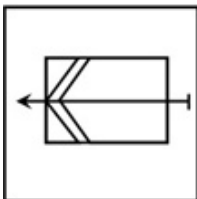


Ans

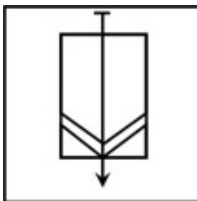
✗ 1.



✗ 2.



✗ 3.



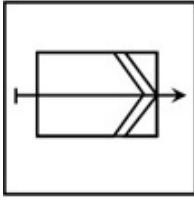
Question ID : 6172498011

Status : Answered

Chosen Option : 4

Marks : 4.00

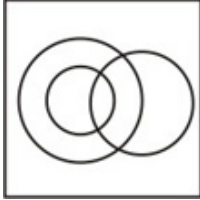
✓ 4.



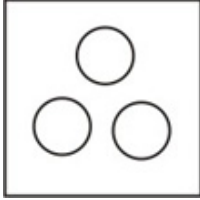
Q.13 निम्न लिखित में से कौन सा आरेख शिक्षक, शिक्षित, नौकरी-पेशा के बीच सम्बन्ध को सही रूप से दर्शाता है?

Ans

✓ 1.



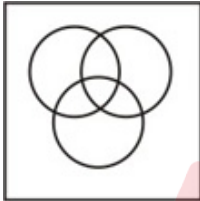
✗ 2.



✗ 3.



✗ 4.



Question ID : 6172497711

Status : Answered

Chosen Option : 4

Marks : -1.00

Q.14 नीचे दिए गए कथनों के अनुसार कौनसा निष्कर्ष तर्कसंगत निकाला जा सकता है।
कथन : सभी हाथी शेर हैं।
सभी शेर बंदर हैं।
निष्कर्ष : I. सभी हाथी बंदर हैं।
II. कुछ बंदर हाथी हैं।

Ans

✗ 1. दोनों निष्कर्ष गलत है

✓ 2. दोनों निष्कर्ष सही है

✗ 3. केवल निष्कर्ष I सही है

✗ 4. केवल निष्कर्ष II सही है

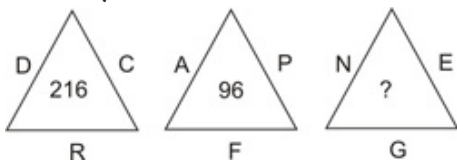
Question ID : 6172498311

Status : Answered

Chosen Option : 2

Marks : 4.00

Q.15 निम्न प्रश्न में दिए गए विकल्पों में से प्रश्नवाचक चिन्ह के स्थान पर आने वाली संख्या ज्ञात किजिए।



Ans

✓ 1. 490

✗ 2. 75

✗ 3. 88

✗ 4. 835

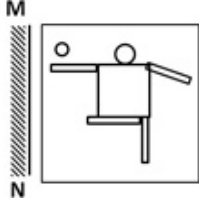
Question ID : 6172497231

Status : Answered

Chosen Option : 1

Marks : 4.00

Q.16 दिए गए विकल्पों में से प्रश्न आकृति का दर्पण प्रतिबिम्ब क्या होगा?

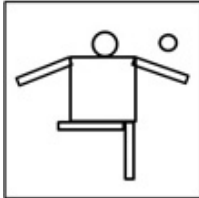


Ans

1.



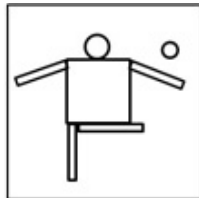
2.



3.



4.



Question ID : 6172497891

Status : Answered

Chosen Option : 3

Marks : 4.00

Q.17 निम्न श्रृंखला में रिक्त स्थान () के स्थान पर क्या आएगा
_bbm_amb_m_a_bb

Ans 1. mabam

2. ambbm

3. abmab

4. mbabm

Question ID : 6172495971

Status : Answered

Chosen Option : 1

Marks : 4.00

Q.18 20 छात्रों की एक पंक्ति में R दाईं ओर से 5 वें स्थान पर है तथा T बाईं ओर से चौथे स्थान पर है। R व T के मध्य कितने छात्र हैं?

Ans 1. 12

2. 10

3. ज्ञात नहीं किया जा सकता

4. 11

Question ID : 6172496571

Status : Answered

Chosen Option : 4

Marks : 4.00

Q.19 सुहास ने पूर्व की ओर 15 किमी. यात्रा की, फिर उत्तर की ओर घूमकर 15 किमी. यात्रा की और फिर पश्चिम की ओर घूमकर 15 किमी. यात्रा की। वह प्रारम्भिक स्थान से कितनी दूर है ?

Ans 1. 0 किमी.

2. 45 किमी.

3. 30 किमी.

Question ID : 6172496751

Status : Answered

Chosen Option : 4

Marks : 4.00

✓ 4. 15 किमी.

Q.20 दो वर्ष पहले X और Y की आयु का अनुपात क्रमशः 5:7 था। दो वर्ष बाद उनकी आयु का अनुपात क्रमशः 7:9 होगा। Y की वर्तमान आयु कितनी है ?

- Ans
- ✗ 1. 14 वर्ष
 - ✗ 2. 12 वर्ष
 - ✓ 3. 16 वर्ष
 - ✗ 4. 18 वर्ष

Question ID : 6172498131

Status : Answered

Chosen Option : 3

Marks : 4.00

Q.21 2 और 3 बजे वह कौन-सा समय है जब घड़ी की दोनों सुइयां (मिनट और घण्टे की) एक-दूसरे से 180° का कोण बनाती हैं

- Ans
- ✗ 1. 2 बजकर 30 मिनट
 - ✓ 2. 2 बजकर 43 7/11 मिनट
 - ✗ 3. 2 बजकर 22 3/11 मिनट
 - ✗ 4. 2 बजकर 35 3/11 मिनट

Question ID : 6172496991

Status : Answered

Chosen Option : 2

Marks : 4.00

Q.22 दिए गए विकल्पों में से निम्नलिखित अक्षर समूह का जल प्रतिबिम्ब कौनसा होगा ?

QUARREL

- Ans
- ✓ 1. Q̄ŪĀR̄R̄ĒL̄
 - ✗ 2. Q̄ŪĀR̄R̄ĒL̄
 - ✗ 3. Q̄ŪĀR̄R̄Ē
 - ✗ 4. Q̄ŪĀR̄R̄ĒL̄

Question ID : 6172498071

Status : Answered

Chosen Option : 1

Marks : 4.00

Q.23 निम्न श्रृंखला में प्रश्नवाचक चिन्ह (?) के स्थान पर क्या आएगा
BDF, ?, PRT, WAY

- Ans
- 1. IJK
 - 2. IKM
 - 3. HKL
 - 4. GJK

Note: For this question, discrepancy is found in question/answer. Full Marks is being awarded to all candidates.

Question ID : 6172496031

Status : Answered

Chosen Option : 1

Marks : 4.00

Q.24 यदि महीने का चौथा शनिवार 22 वाँ दिन है, तो महीने का 13 वाँ दिन कौन-सा होगा ?

- Ans
- ✗ 1. शुक्रवार
 - ✓ 2. गुरुवार
 - ✗ 3. मंगलवार
 - ✗ 4. बुधवार

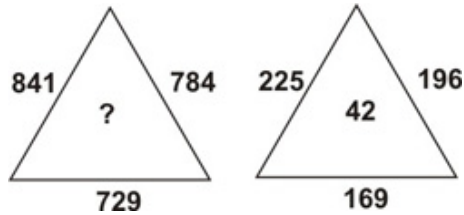
Question ID : 6172497051

Status : Answered

Chosen Option : 2

Marks : 4.00

Q.25 निम्न प्रश्न में दिए गए विकल्पों में से प्रश्नवाचक चिन्ह के स्थान पर आने वाली संख्या ज्ञात किजिए।



- Ans
- ✗ 1. 44
 - ✗ 2. 34
 - ✗ 3. 94

Question ID : 6172497171

Status : Answered

Chosen Option : 4

Marks : 4.00

✓ 4.84

Q.26 $(21)^3$ का मान ज्ञात करें ?

- Ans
- ✗ 1. 9252
 - ✓ 2. 9261
 - ✗ 3. 9277
 - ✗ 4. 9251

Question ID : 6172497291

Status : Answered

Chosen Option : 2

Marks : 4.00

Q.27 निम्न में से असंगत को चुनिए ?

- Ans
- ✗ 1. वीणा
 - ✗ 2. सितार
 - ✗ 3. वायलिन
 - ✓ 4. बाँसुरी

Question ID : 6172496213

Status : Answered

Chosen Option : 4

Marks : 4.00

Q.28 एक कार की औसत गति तीन घंटे में 270 किमी. चलने वाली ट्रेन की औसत गति से दो - तिहाई है। यह कार 5 घंटे में कितनी दूरी तय करेगी

- Ans
- ✓ 1. 300 किमी
 - ✗ 2. 360 किमी
 - ✗ 3. 180 किमी
 - ✗ 4. 420 किमी

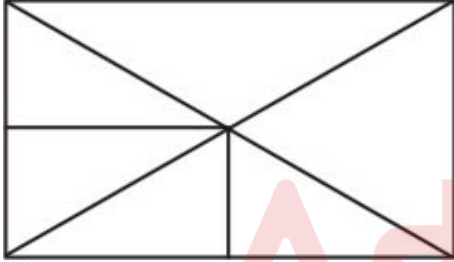
Question ID : 6172497471

Status : Answered

Chosen Option : 1

Marks : 4.00

Q.29 निम्नांकित आकृति में कितने त्रिभुज हैं?



- Ans
- ✗ 1. 15
 - ✓ 2. 12
 - ✗ 3. 16
 - ✗ 4. 8

Question ID : 6172497951

Status : Answered

Chosen Option : 2

Marks : 4.00

Q.30 अमृता की ओर संकेत करते हुए राज कहता है कि उसकी माता मेरी सास की इकलौती पुत्री है, तो बताइये कि राज, अमृता से किस प्रकार सम्बन्धित है ?

- Ans
- ✗ 1. भाई
 - ✗ 2. अंकल
 - ✓ 3. पिता
 - ✗ 4. पति

Question ID : 6172496811

Status : Answered

Chosen Option : 3

Marks : 4.00

Q.31 जिस प्रकार दिन का सम्बन्ध रात से है, उसी प्रकार चन्द्रमा का सम्बन्ध किससे है ?

- Ans
- ✗ 1. आकाश
 - ✗ 2. चांदनी
 - ✗ 3. प्रकाश
 - ✓ 4. सूर्य

Question ID : 6172496093

Status : Answered

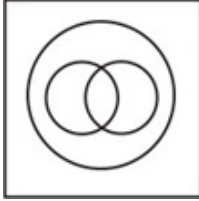
Chosen Option : 4

Marks : 4.00

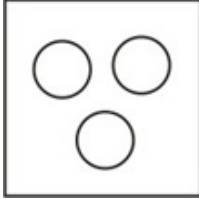
Q.32 दिए गए आरेखों में से कौन-सा आरेख निम्न तीनों के बीच सही संबंध दर्शाता है?
सूर्य, चन्द्रमा, तारे

Ans

✗ 1.



✗ 2.



✓ 3.



✗ 4.



Question ID : 6172497771

Status : Answered

Chosen Option : 1

Marks : -1.00

Q.33 ? का $64\% + 61 = 477$

Ans ✗ 1. 550

✓ 2. 650

✗ 3. 750

✗ 4. 850

Question ID : 6172497591

Status : Answered

Chosen Option : 2

Marks : 4.00

Q.34 श्रेणी 18, 22, 21, 20, 24, 18, ? में लुप्त संख्या '?' क्या है ?

Ans ✗ 1. 16

✗ 2. 28

✗ 3. 25

✓ 4. 27

Question ID : 6172495854

Status : Answered

Chosen Option : 4

Marks : 4.00

Q.35 निम्न में से असंगत को चुनिए ?

Ans ✗ 1. पठार

✗ 2. पर्वत

✓ 3. समतल

✗ 4. पहाड़ी

Question ID : 6172496214

Status : Answered

Chosen Option : 3

Marks : 4.00

Q.36 वह संख्या कौन-सी है, जिसे यदि 7, 16, 43 तथा 79 में जोड़ा जाए तो प्राप्त संख्याएं समानुपाती होंगी ?

Ans ✓ 1. 5

✗ 2. 2

✗ 3. 1

Question ID : 6172497351

Status : Answered

Chosen Option : 2

Marks : -1.00

✗ 4.7

Q.37 एक काम को पूरा करने के लिए A, B से 50 प्रतिशत अधिक समय लेता है यदि, दोनों साथ मिलकर उस काम को 18 दिनों में पूरा करते हैं तो B उसे कितने समय में पूरा करेगा ?

- Ans
- ✗ 1. 35 दिन
 - ✓ 2. 30 दिन
 - ✗ 3. 45 दिन
 - ✗ 4. 40 दिन

Question ID : 6172497531

Status : Answered

Chosen Option : 2

Marks : 4.00

Q.38 यदि 'दक्षिण-पूरब' उत्तर हो जाए, 'उत्तर-पूरब' पश्चिम हो जाए और आगे भी परिवर्तन का यही क्रम जारी रहे, तो पश्चिम क्या होगा

- Ans
- ✗ 1. उत्तर-पूर्व
 - ✗ 2. उत्तर-पश्चिम
 - ✗ 3. दक्षिण-पश्चिम
 - ✓ 4. दक्षिण-पूर्व

Question ID : 6172496691

Status : Answered

Chosen Option : 2

Marks : -1.00

Q.39 जिस प्रकार गाय का सम्बन्ध बछड़ा से है, उसी प्रकार शेरनी का सम्बन्ध किससे है ?

- Ans
- ✗ 1. पिल्ला
 - ✗ 2. शेरू
 - ✗ 3. चूजा
 - ✓ 4. शावक

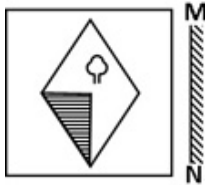
Question ID : 6172496094

Status : Answered

Chosen Option : 4

Marks : 4.00

Q.40 दिए गए विल्कणों में से प्रश्न आकृति का दर्पण प्रतिबिम्ब क्या होगा?



Ans

- ✗ 1.
- ✗ 2.
- ✗ 3.

Question ID : 6172497831

Status : Answered

Chosen Option : 4

Marks : 4.00

✓ 4.



Q.41 नीचे दिए गए शब्दों में कौन-सा शब्द शब्दकोश के अनुसार पहले स्थान पर आएगा ?

- Ans
- 1. Bait
 - 2. Bald
 - 3. Bale
 - 4. Bail

Question ID : 6172496511

Status : Answered

Chosen Option : 4

Marks : 4.00

Q.42 यदि किसी सांकेतिक भाषा में "CONFUSED" को "EMNBEFTV" लिखा जाता है तो SECLUDED को उसी भाषा में कैसे लिखा जाएगा?

- Ans
- 1. MDFTCDCT
 - 2. KBDREFEV
 - 3. KBDRCDCT
 - 4. RDBKEFEV

Question ID : 6172496333

Status : Answered

Chosen Option : 2

Marks : 4.00

Q.43 श्रेणी 5, 11, 23, 47, 95, ? में लुप्त संख्या '?' क्या है ?

- Ans
- 1. 191
 - 2. 169
 - 3. 190
 - 4. 161

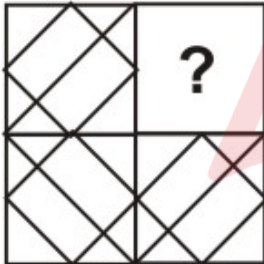
Question ID : 6172495853

Status : Answered

Chosen Option : 1

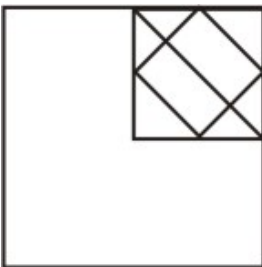
Marks : 4.00

Q.44 निम्न में से किस उत्तर आकृति द्वारा प्रश्न आकृति पूरी होगी?

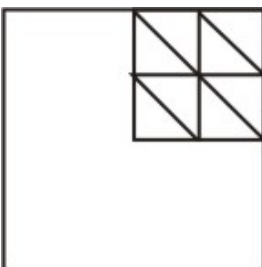


Ans

✓ 1.



2.



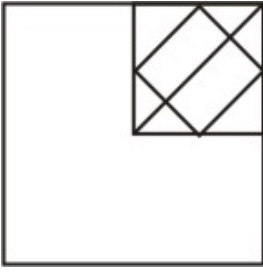
Question ID : 6172498431

Status : Answered

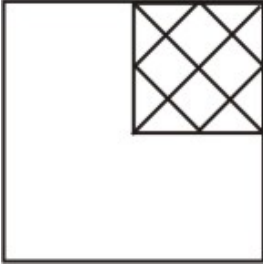
Chosen Option : 1

Marks : 4.00

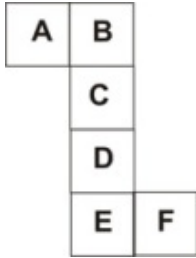
3.



4.



Q.45 यदि नीचे दी गई व्यवस्था से एक घन बनाया जाए, तो F फलक के सामने कौन-से अक्षर फलक होगा?



- Ans
- 1. D
 - 2. A
 - 3. C
 - 4. B

Question ID : 6172496931

Status : Answered

Chosen Option : 2

Marks : 4.00

Section : सामान्य ज्ञान सामान्य विज्ञान और सामयिकी

Q.1 तत्वों के वर्गीकरण से संबंधित 'जिक का नियम' का प्रतिपादन किसने किया ?

- Ans
- 1. मेंडेलीफ
 - 2. न्यूलैंड्स
 - 3. लोथर मेयर
 - 4. डोबरेनर

Question ID : 6172498914

Status : Answered

Chosen Option : 4

Marks : 4.00

Q.2 विश्व क्षय रोग दिवस कब मानया जाता है ?

- Ans
- 1. 24 मार्च को
 - 2. 15 मार्च को
 - 3. 28 मार्च को
 - 4. 23 मार्च को

Question ID : 6172498563

Status : Answered

Chosen Option : 4

Marks : -1.00

Q.3 रूधिर वर्ग - A वाले व्यक्ति को किस वर्ग का रूधिर दिया जा सकता है ?

- Ans
- 1. केवल A
 - 2. AB तथा O
 - 3. A तथा B
 - 4. A तथा O

Question ID : 6172499033

Status : Answered

Chosen Option : 4

Marks : 4.00

Q.4 दिल्ली के लाल किले का निर्माण किसने करवाया था ?

- Ans 1. अकबर
 2. शाहजहां
 3. नूरजहां
 4. जहांगीर

Question ID : 6172499571

Status : Answered

Chosen Option : 2

Marks : 4.00

Q.5 भारत की उतर से दक्षिण तक की लम्बाई है ?

- Ans 1. 3214 किलोमीटर
 2. 2933 किलोमीटर
 3. 3124 किलोमीटर
 4. 3412 किलोमीटर

Question ID : 6172499219

Status : Answered

Chosen Option : 1

Marks : 4.00

Q.6 भारत में कौनसी नदी विभ्रंश घाटी में बहती है ?

- Ans 1. नर्मदा
 2. कृष्णा
 3. कावेरी
 4. ताप्ती

Question ID : 6172499991

Status : Answered

Chosen Option : 4

Marks : -1.00

Q.7 उच्च न्यायालय के न्यायाधीशों के सेवानिवृत्ति की अधिकतम उम्र सीमा क्या है ?

- Ans 1. 62 वर्ष
 2. 58 वर्ष
 3. 61 वर्ष
 4. 65 वर्ष

Question ID : 6172499760

Status : Answered

Chosen Option : 4

Marks : -1.00

Q.8 लक्षद्वीप समूह स्थित है ?

- Ans 1. बंगाल की खाड़ी में
 2. मन्नार की खाड़ी में
 3. कच्छ की खाड़ी में
 4. अरब सागर में

Question ID : 6172499218

Status : Answered

Chosen Option : 2

Marks : -1.00

Q.9 उच्च न्यायालय का न्यायाधीश अपना त्यागपत्र किसको देता है ?

- Ans 1. अपने राज्य के राज्यपाल
 2. राष्ट्रपति
 3. अपने उच्च न्यायालय के मुख्य न्यायाधीश
 4. भारत के मुख्य न्यायाधीश

Question ID : 6172499758

Status : Answered

Chosen Option : 2

Marks : 4.00

Q.10 लिन डैन ने मलेशियाई खिलाड़ी ली चोंग को हराकर पहली बार मलेशिया ओपन बैडमिंटन का खिताब जीता, वे किस देश के हैं ?

- Ans 1. चीन
 2. रूस
 3. दक्षिण कोरिया
 4. डेनमार्क

Question ID : 6172498562

Status : Not Answered

Chosen Option : --

Marks : 0.00

Q.11 जापान का नागासाकी नगर किस द्वीप पर स्थित है ?

- Ans 1. होकाइडो

Question ID : 6172499451

Status : Answered

- ✓ 2. क्यूशू
✗ 3. शिकोकू
✗ 4. होन्शू

Chosen Option : 2
Marks : 4.00

Q.12 वेबसाइट के मेन पेज को क्या कहते हैं ?

- Ans ✓ 1. होमपेज
✗ 2. सर्च पेज
✗ 3. बुकमार्क
✗ 4. ब्राउजर पेज

Question ID : 6172499151
Status : Answered
Chosen Option : 1
Marks : 4.00

Q.13 आन्तरिक अशांति के आधार पर अब तक कितनी बार राष्ट्रीय आपातकाल की उद्घोषणा राष्ट्रपति द्वारा की गई है ?

- Ans ✗ 1. दो
✗ 2. चार
✓ 3. एक
✗ 4. तीन

Question ID : 6172499757
Status : Answered
Chosen Option : 3
Marks : 4.00

Q.14 लूणी नदी किसमें गिरती है ?

- Ans ✗ 1. गोदावरी का मुहाना
✗ 2. केरल का समुद्री तट
✓ 3. कच्छ का रण
✗ 4. गंगा मुहाना

Question ID : 6172499220
Status : Answered
Chosen Option : 3
Marks : 4.00

Q.15 2017 में सम्पन्न भारतीय राष्ट्रपति के चुनाव में एक सांसद का मत मूल्य कितना था ?

- Ans ✗ 1. 714
✗ 2. 718
✗ 3. 711
✓ 4. 708

Question ID : 6172498560
Status : Answered
Chosen Option : 4
Marks : 4.00

Q.16 जब कोई नाव नदी से समुद्र में प्रवेश करती है तो ?

- Ans ✗ 1. थोड़ी डूब जाती है
✗ 2. कोई प्रभाव नहीं पडता
✓ 3. थोड़ी उपर की ओर उठ जाती है
✗ 4. थोड़ी डूबकर पुनः यथा स्थिति में आ जाती है

Question ID : 6172498851
Status : Answered
Chosen Option : 4
Marks : -1.00

Q.17 निम्न में से कौन-सा युद्ध था जिसने भारत में ब्रिटिश प्रभुत्व का प्रारम्भ किया ?

- Ans ✗ 1. बक्सर का युद्ध
✓ 2. प्लासी का युद्ध
✗ 3. 1857 का विद्रोह
✗ 4. मैसूर की तीसरी लड़ाई

Question ID : 6172499634
Status : Answered
Chosen Option : 2
Marks : 4.00

Q.18 रेडक्लिफ लाइन सीमा निर्धारित करती है ?

- Ans ✓ 1. भारत एवं पाकिस्तान के बीच
✗ 2. भारत एवं चीन के बीच
✗ 3. संयुक्त राज्य अमेरिका एवं कनाडा के बीच

Question ID : 6172499217
Status : Answered
Chosen Option : 1
Marks : 4.00

✗ 4. उत्तर कोरिया एवं दक्षिण कोरिया के बीच

Q.19 मनुस्मृति मुख्यतया संबंधित है ?

- Ans
- ✗ 1. राज्य कार्य पद्धति से
 - ✗ 2. कानून से
 - ✓ 3. समाज व्यवस्था से
 - ✗ 4. अर्थशास्त्र से

Question ID : 6172499511

Status : Answered

Chosen Option : 3

Marks : 4.00

Q.20 उच्च न्यायालय के न्यायाधीशों का -

- Ans
- ✗ 1. मुख्यमंत्री के द्वारा नियुक्ति होती है
 - ✗ 2. विधानमंडल के सदस्यों द्वारा निर्वाचन होता है
 - ✓ 3. राष्ट्रपति के द्वारा नियुक्ति होती है
 - ✗ 4. वयस्क भारतीय नागरिकों द्वारा निर्वाचन होता है

Question ID : 6172499759

Status : Answered

Chosen Option : 3

Marks : 4.00

Q.21 विश्व रेडक्रॉस दिवस कब मनाया जाता है ?

- Ans
- ✓ 1. 8 मई
 - ✗ 2. 1 मई
 - ✗ 3. 3 मई
 - ✗ 4. 22 अप्रैल

Question ID : 6172498561

Status : Answered

Chosen Option : 1

Marks : 4.00

Q.22 एयरबस पायलटों और इंजीनियरों को प्रशिक्षण देने के लिए एशिया का पहला एयरबस प्रशिक्षण केन्द्र कहां स्थापित किया जाएगा ?

- Ans
- ✗ 1. हिमाचल प्रदेश
 - ✗ 2. मणिपुर
 - ✓ 3. दिल्ली
 - ✗ 4. हरियाणा

Question ID : 6172498559

Status : Not Answered

Chosen Option : --

Marks : 0.00

Q.23 एक वर्णाथ पुरुष एक सामान्य महिला से विवाह करता है, वर्णाथता के लक्षण उत्पन्न होंगे, उसके ?

- Ans
- ✓ 1. पुत्रियों के पुत्रों में
 - ✗ 2. पुत्रों के पुत्रों में
 - ✗ 3. पुत्रों में
 - ✗ 4. पुत्रियों में

Question ID : 6172499034

Status : Answered

Chosen Option : 2

Marks : -1.00

Q.24 भारी मशीनों में स्नेहक (Lubricants) के रूप में निम्नलिखित में से किस पदार्थ का प्रयोग किया जाता है ?

- Ans
- ✗ 1. फॉस्फोरस
 - ✗ 2. सल्फर
 - ✗ 3. बॉक्साइट
 - ✓ 4. ग्रेफाइट

Question ID : 6172498913

Status : Answered

Chosen Option : 4

Marks : 4.00

Q.25 स्वामी विवेकानन्द किस स्थान पर हुए धार्मिक सम्मेलन से प्रसिद्ध हुए ?

- Ans
- ✗ 1. बर्लिन
 - ✗ 2. लंदन
 - ✓ 3. शिकागो
 - ✗ 4. पेरिस

Question ID : 6172499633

Status : Answered

Chosen Option : 3

Marks : 4.00

Section : राजस्थान इतिहास संस्कृति कला और भूगोल

Q.1 जसवंतसिंह का थड़ा कहां है ?

- Ans 1. जोधपुर
 2. उदयपुर
 3. बीकानेर
 4. जैसलमेर

Question ID : 61724910446

Status : Answered

Chosen Option : 1

Marks : 4.00

Q.2 1833 ई में कन्या वध को गैर कानूनी घोषित करने का श्रेय किस रियासत को है ?

- Ans 1. बारों
 2. सिरोही
 3. कोटा
 4. पाली

Question ID : 61724910445

Status : Answered

Chosen Option : 3

Marks : 4.00

Q.3 'ब्लू पॉटरी' से संबंधित किस व्यक्ति को पद्मश्री से सम्मानित किया गया है ?

- Ans 1. कृपाल सिंह शेखावत
 2. कृपाल सिंह रावत
 3. कृपाल सिंह कुमावत
 4. किशन सिंह शेखावत

Question ID : 61724910055

Status : Answered

Chosen Option : 4

Marks : -1.00

Q.4 ओरई और ब्राह्मणी नदियां जिस अभयारण्य से होकर बहती है, उसका नाम है ?

- Ans 1. बस्सी
 2. रावली-टाटगढ़
 3. कुम्भलगढ़
 4. जयसमंद

Question ID : 61724911101

Status : Answered

Chosen Option : 2

Marks : -1.00

Q.5 राजस्थान के एकीकरण में कुल कितना समय लगा ?

- Ans 1. 8 वर्ष 2 माह 14 दिन
 2. 7 वर्ष 7 माह 14 दिन
 3. 8 वर्ष 5 माह 14 दिन
 4. 8 वर्ष 7 माह 14 दिन

Question ID : 61724910448

Status : Not Answered

Chosen Option : --

Marks : 0.00

Q.6 1857 की क्रांति का प्रमुख केन्द्र आऊवा वर्तमान में किस जिले में है ?

- Ans 1. चित्तौड़गढ़
 2. उदयपुर
 3. पाली
 4. जोधपुर

Question ID : 61724911539

Status : Answered

Chosen Option : 4

Marks : -1.00

Q.7 2011 की जनगणना के अनुसार राजस्थान की कुल महिला साक्षरता कितने प्रतिशत है ?

- Ans 1. 42.10 प्रतिशत
 2. 49.50 प्रतिशत
 3. 46.10 प्रतिशत
 4. 52.10 प्रतिशत

Question ID : 61724910732

Status : Answered

Chosen Option : 4

Marks : 4.00

Q.8 खेजड़ी को राज्य वृक्ष कब घोषित किया गया है ?

- Ans 1. 1984
 2. 1983
 3. 1985
 4. 1986

Question ID : 61724911103
 Status : Answered
 Chosen Option : 2
 Marks : 4.00

Q.9 चम्बल नदी किस जिले में नहीं बहती है ?

- Ans 1. कोटा
 2. करौली
 3. सवाईमाधोपुर
 4. बारां

Question ID : 61724911100
 Status : Not Answered
 Chosen Option : --
 Marks : 0.00

Q.10 राजस्थान में 31 अक्टूबर 2015 को किस योजना का शुभारंभ किया गया ?

- Ans 1. अन्नपूर्णा रसोई योजना
 2. मुख्यमंत्री जल स्वाम्बन योजना
 3. अन्नपूर्णा भंडार योजना
 4. भामाशाह योजना

Question ID : 61724911317
 Status : Answered
 Chosen Option : 4
 Marks : -1.00

Q.11 ऊँट से संबंधित नाचना स्थान किस जिले में है ?

- Ans 1. जैसलमेर
 2. नागौर
 3. अजमेर
 4. बाड़मेर

Question ID : 61724911426
 Status : Answered
 Chosen Option : 1
 Marks : 4.00

Q.12 इंदिरा गांधी पंचायती राज व ग्रामीण विकास संस्थान कहां स्थित है ?

- Ans 1. जोधपुर
 2. बीकानेर
 3. कोटा
 4. जयपुर

Question ID : 61724910733
 Status : Answered
 Chosen Option : 4
 Marks : 4.00

Q.13 नाकोड़ा है एक -

- Ans 1. अभ्रक खनन केन्द्र
 2. तांबा खनन केन्द्र
 3. धार्मिक केन्द्र
 4. झील

Question ID : 61724910056
 Status : Answered
 Chosen Option : 1
 Marks : -1.00

Q.14 मुख्यमंत्री राजश्री योजना के तहत कक्षा 6 में प्रवेश लेने का समय चौथे चरण में कितनी राशि दिए जाने का प्रावधान है ?

- Ans 1. 5000
 2. 7,000
 3. 2500
 4. 11,000

Question ID : 61724911316
 Status : Not Answered
 Chosen Option : --
 Marks : 0.00

Q.15 राजस्थान विधानसभा का विघटन कौन कर सकता है ?

- Ans 1. मंत्री परिषद्

Question ID : 61724910734
 Status : Answered
 Chosen Option : 3

2. राष्ट्रपति
 3. राज्यपाल
 4. विधानसभा अध्यक्ष

Marks : 4.00

Q.16 रानी जी की बावड़ी कहां स्थित है ?

- Ans 1. बुंदी
 2. केशोरायपाटन
 3. लाखेरी
 4. इन्दरगढ़

Question ID : 61724911540

Status : Answered

Chosen Option : 2

Marks : -1.00

Q.17 दामोदर दास राठी का जन्म 1861 ई. में मारवाड़ राज्य के किस गांव में हुआ ?

- Ans 1. पोकरण
 2. रामदेवरा
 3. रूपेचा
 4. शिवी

Question ID : 61724910444

Status : Answered

Chosen Option : 4

Marks : -1.00

Q.18 बून्दी महोत्सव का आयोजन किस माह में होता है ?

- Ans 1. अप्रैल
 2. फरवरी
 3. जून
 4. दिसम्बर

Question ID : 61724910729

Status : Not Answered

Chosen Option : --

Marks : 0.00

Q.19 "लांगूरिया" लोकगीत है ?

- Ans 1. भक्ति गीत
 2. प्रेम गीत
 3. विवाह गीत
 4. होली गीत

Question ID : 61724910223

Status : Answered

Chosen Option : 3

Marks : -1.00

Q.20 विभीषण मंदिर कहां स्थित है ?

- Ans 1. कनसूआ में
 2. सांगोद में
 3. कैथून में
 4. रानुपरा में

Question ID : 61724911538

Status : Answered

Chosen Option : 3

Marks : 4.00

Q.21 कपास की खेती के लिए कौनसी मिट्टी सर्वाधिक उपयुक्त होती है ?

- Ans 1. जलोढ मिट्टी
 2. काली मिट्टी
 3. रेतीली बलुई मिट्टी
 4. लवणीय मिट्टी

Question ID : 61724911102

Status : Answered

Chosen Option : 2

Marks : 4.00

Q.22 सिरोही जिला किस संभाग में आता है ?

- Ans 1. अजमेर
 2. कोटा
 3. जोधपुर
 4. उदयपुर

Question ID : 61724910728

Status : Answered

Chosen Option : 1

Marks : -1.00

Q.23 रोहिड़ा के पुष्प किस माह में खिलते हैं ?

- Ans
- 1. मार्च - अप्रैल
 - 2. जून - जुलाई
 - 3. अक्टूबर - नवम्बर
 - 4. अगस्त - सितम्बर

Question ID : 61724911427

Status : Answered

Chosen Option : 2

Marks : -1.00

Q.24 वह शास्त्रीय नृत्य जिसका उद्गम स्थल राजस्थान माना जाता है ?

- Ans
- 1. ओडिसा
 - 2. कुचिपुड़ी नृत्य
 - 3. कथकली
 - 4. कत्थक

Question ID : 61724910224

Status : Answered

Chosen Option : 4

Marks : 4.00

Q.25 शेखावाटी क्षेत्र से संबंधित नृत्य है ?

- Ans
- 1. घूमर
 - 2. घेर
 - 3. तेरहताली
 - 4. गींदड़

Question ID : 61724910225

Status : Answered

Chosen Option : 4

Marks : 4.00

Q.26 निम्न में से कौनसा तत्वाद्य नहीं है ?

- Ans
- 1. तन्दूरा
 - 2. जन्तर
 - 3. पखावज
 - 4. भपंग

Question ID : 61724910057

Status : Answered

Chosen Option : 3

Marks : 4.00

Q.27 राजस्थान में कम लिंगानुपात वाले दो जिले कौनसे हैं ?

- Ans
- 1. धौलपुर - भरतपुर
 - 2. जैसलमेर - धौलपुर
 - 3. धौलपुर - जैसलमेर
 - 4. जैसलमेर - भरतपुर

Question ID : 61724910730

Status : Answered

Chosen Option : 1

Marks : -1.00

Note: For this question, ambiguity is found in question/answer.
Candidate will get full marks for this question if any of these options are chosen - 2,3

Q.28 हुमायूँ को राखी भेजने वाली रानी थी ?

- Ans
- 1. पद्मिनी
 - 2. कर्मवती
 - 3. हाड़ा
 - 4. उर्मिला

Question ID : 61724910447

Status : Answered

Chosen Option : 2

Marks : 4.00

Q.29 राज्य में सर्व शिक्षा अभियान कब प्रारम्भ किया गया ?

- Ans
- 1. 2001-02
 - 2. 2003-04
 - 3. 2002-03
 - 4. 2000-01

Question ID : 61724910731

Status : Answered

Chosen Option : 1

Marks : 4.00

Q.30 राजस्थानी - हिन्दी संक्षिप्त शब्दकोष के सम्पादक हैं ?

- Ans**
- 1. श्री कृष्णनन्द व्यास
 - 2. पंडित दामोदर मिश्र
 - 3. पद्मश्री सीताराम लालस
 - 4. भट्ट द्वारकानाथ

Question ID : 61724910222

Status : Answered

Chosen Option : 2

Marks : -1.00

