

Participant ID:	
Participant Name:	
Test Center Name:	
Test Date:	29/08/2017
Test Time:	12:30 PM - 2:30 PM
Marks Obtained:	

Section : तार्किक और मानसिक क्षमता

Q.1 H तथा W की मासिक आय का अनुपात 4:3 है और उनके खर्च का अनुपात 3:2 है। यदि उनमें से प्रत्येक रू. 600 प्रतिमाह की बचत कर लेता है, तो W की आय कितने रूपये है ?

- Ans
- 1. रू. 3000
 - 2. रू. 2400
 - 3. रू. 1200
 - 4. रू. 1800

Question ID : 6172497359

Status : Not Answered

Chosen Option : --

Marks : 0.00

Q.2 X और Y की वर्तमान आय का अनुपात क्रमशः 5:7 है। 9 वर्ष बाद यह अनुपात 4:5 होगा। X की आय क्या है?

- Ans
- 1. 24 वर्ष
 - 2. 39 वर्ष
 - 3. 15 वर्ष
 - 4. 30 वर्ष

Question ID : 6172498139

Status : Answered

Chosen Option : 3

Marks : 4.00

Q.3 निम्नलिखित को तर्कसंगत क्रम में किस प्रकार व्यवस्थित किया जाएगा।

1. अध्याय 2. शब्द 3. वाक्य 4. पुस्तक
5. अनुच्छेद

- Ans
- 1. 2, 4, 3, 1, 5
 - 2. 2, 3, 1, 5, 4
 - 3. 2, 3, 5, 1, 4
 - 4. 3, 2, 1, 4, 5

Question ID : 6172496519

Status : Answered

Chosen Option : 3

Marks : 4.00

Q.4 अमित पूर्व दिशा में 15 किमी. गया, तब वह बाएं मुड़कर 5 किमी. चला, फिर बाएं मुड़कर वह 15 किमी. चला, तो अमित ने कुल कितनी दूरी तय की

- Ans
- 1. 30 किमी
 - 2. 15 किमी
 - 3. 35 किमी
 - 4. 5 किमी

Question ID : 6172496759

Status : Answered

Chosen Option : 3

Marks : 4.00

Q.5 नीचे दिए गए कथनों के अनुसार कौनसा निष्कर्ष तर्कसंगत निकाला जा सकता है।
कथन : कोई जूता चप्पल नहीं है।
कुछ चप्पल सेन्डल है।

Question ID : 6172498379

Status : Answered

Chosen Option : 1

Test Prime

ALL EXAMS,
ONE SUBSCRIPTION



40,000+
Mock Tests



Personalised
Report Card



Unlimited
Re-Attempt



500+
Exam Covered



Previous Year
Papers



500%
Refund



DOWNLOAD NOW

निष्कर्ष : I. कुछ सेन्डल चप्पल नहीं है।
II. सेन्डल जो चप्पल नहीं हैं जूते है।

Marks : 4.00

- Ans 1. केवल निष्कर्ष I सही है
 2. दोनों निष्कर्ष सही है
 3. केवल निष्कर्ष II सही है
 4. दोनों निष्कर्ष गलत है

Q.6 2 और 3 बजे के बीच घड़ी की घण्टे तथा मिनट की सूइयां कब एक-दूसरे के विपरीत होगी या कब एक-दूसरे से 180° का कोण बनाएंगी

Question ID : 6172496999

Status : Answered

Chosen Option : 1

Marks : 4.00

- Ans 1. 2 बजकर 43 7/11 मिनट
 2. 2 बजकर 10 मिनट
 3. 2 बजकर 10 10/11 मिनट
 4. 2 बजकर 15 मिनट

Q.7 दिए गए शब्द का का दर्पण प्रतिबिम्ब क्या होगा?

76MP03J

Question ID : 6172497839

Status : Answered

Chosen Option : 2

Marks : -1.00

- Ans 1. J6P03M7
 2. J6P03M7
 3. J6P03M7
 4. J6P03M7

Q.8 यदि किसी सांकेतिक भाषा में "PASSPORT" को "RCUURQTV" लिखा जाता है, तो "BOOKLET" को उसी भाषा में कैसे लिखा जाएगा?

Question ID : 6172496349

Status : Answered

Chosen Option : 3

Marks : 4.00

- Ans 1. CPPLMFU
 2. CQQMNFV
 3. DQQMNGV
 4. DRRNMGW

Q.9 नीचे दी गई आकृति में कितने आयत हैं?



Question ID : 6172497959

Status : Answered

Chosen Option : 1

Marks : 4.00

- Ans 1. 9
 2. 7
 3. 12
 4. 8

Q.10 यदि किसी सांकेतिक भाषा में "HONESTY" को "ABCXZDQ" लिखा जाता है तो "TONY" को उसी भाषा में कैसे लिखा जाएगा?

Question ID : 6172496350

Status : Answered

Chosen Option : 3

Marks : 4.00

- Ans 1. QDCX
 2. CBXZ
 3. DBCQ
 4. CQDC

Q.11 निम्न में से असंगत को चुनिए ?

Question ID : 6172496230

Ans

- ✓ 1. आदमी
 ✗ 2. मिस्त्री
 ✗ 3. मजदूर
 ✗ 4. बढई

Status : **Answered**
 Chosen Option : 1
 Marks : 4.00

Q.12 श्रेणी 5760, 960, ?, 48, 16, 8 में लुप्त संख्या '?' क्या है ?

- Ans ✗ 1. 160
 ✗ 2. 240
 ✓ 3. 192
 ✗ 4. 120

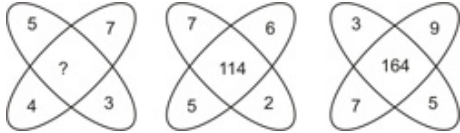
Question ID : 6172495870
 Status : **Answered**
 Chosen Option : 3
 Marks : 4.00

Q.13 एक कार 54 किमी/घंटा की गति से 15 घंटों में एक नियत दूरी तय करती है। कार ने कितनी दूरी तय की है

- Ans ✗ 1. 820 किमी
 ✗ 2. 800 किमी
 ✗ 3. 780 किमी
 ✓ 4. 810 किमी

Question ID : 6172497479
 Status : **Answered**
 Chosen Option : 4
 Marks : 4.00

Q.14 निम्न प्रश्न में दिए गए विकल्पों में से प्रश्नवाचक चिन्ह के स्थान पर आने वाली संख्या ज्ञात किजिए।



- Ans 1. 81
 2. 90
 3. 43
 4. 49

Note: For this question, discrepancy is found in question/answer. Full Marks is being awarded to all candidates.

Question ID : 6172497239
 Status : **Answered**
 Chosen Option : 2
 Marks : 4.00

Q.15 लड़कों की एक पंक्ति में रमेश का स्थान दाईं ओर से 12वाँ और बाईं ओर से 4वाँ है। बताइए कि इस कतार में कुल कितने लड़कों को शामिल कर लिया जाए कि पंक्ति में कुल लड़कों की संख्या 28 हो जाए?

- Ans ✗ 1. 20
 ✗ 2. 14
 ✓ 3. 13
 ✗ 4. 18

Question ID : 6172496579
 Status : **Answered**
 Chosen Option : 3
 Marks : 4.00

Q.16 जिस प्रकार मनोविज्ञान का सम्बन्ध मन से है, उसी प्रकार अंकगणित का सम्बन्ध किससे है ?

- Ans ✗ 1. ऊँचाई
 ✗ 2. फॉर्मूला
 ✗ 3. ज्ञान
 ✓ 4. संख्या

Question ID : 6172496110
 Status : **Answered**
 Chosen Option : 4
 Marks : 4.00

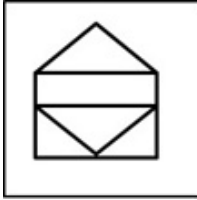
Q.17 दिए गए विकल्पों में से प्रश्न आकृति का दर्पण प्रतिबिम्ब क्या होगा?

Question ID : 6172497899
 Status : **Answered**
 Chosen Option : 4
 Marks : 4.00



Ans

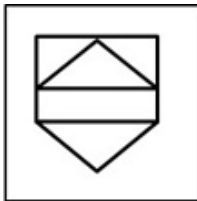
✗ 1.




✗ 2.



✗ 3.



✓ 4.



Q.18 श्रेणी 3, 8, 15, 24, ? में लुप्त संख्या '?' क्या है ?

Ans ✗ 1. 37

✓ 2. 35

✗ 3. 36

✗ 4. 38

Question ID : 6172495869

Status : Answered

Chosen Option : 2

Marks : 4.00

Q.19 X दक्षिण की ओर चलना प्रारम्भ करता है। वह अपने दाईं ओर मुड़ता है और 10 मी. चलता है। वह दोबारा अपने बाईं ओर मुड़ता है और 20 मी. चलता है। अब वह किस दिशा की ओर है

Ans ✓ 1. दक्षिण

✗ 2. पश्चिम

✗ 3. उत्तर

✗ 4. पूर्व

Question ID : 6172496699

Status : Answered

Chosen Option : 1

Marks : 4.00

Q.20 350 का ?% - (6)² = 48

Ans ✗ 1. 12

✓ 2. 24

✗ 3. 54

✗ 4. 42

Question ID : 6172497599

Status : Answered

Chosen Option : 2

Marks : 4.00

Q.21 दिए गए आरेखों में से कौन-सा आरेख निम्न तीनों के बीच सही संबंध दर्शाता है? वकील, औरत, डॉक्टर


Question ID : 6172497779

Ans

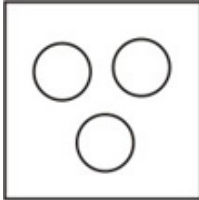
✗ 1.



✓ 2.



✗ 3.



✗ 4.

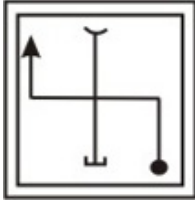


Status : Answered

Chosen Option : 2

Marks : 4.00

Q.22 दिए गए विकल्पों में से प्रश्न आकृति का जल प्रतिबिम्ब क्या होगा?



Question ID : 6172498019

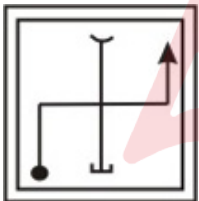
Status : Answered

Chosen Option : 4

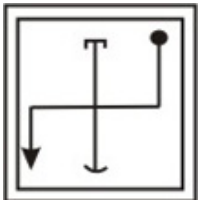
Marks : 4.00

Ans

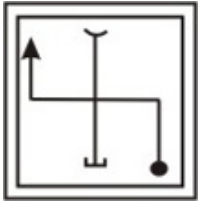
✗ 1.



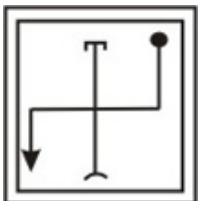
✗ 2.



✗ 3.



✓ 4.



Q.23 निम्नलिखित को तर्कसंगत क्रम में किस प्रकार व्यवस्थित किया जाएगा। 1. वयस्क 2. बच्चा 3. शिशु 4. बालक 5. किशोर

- Ans 1. 2, 3, 4, 1, 5
 2. 1, 3, 4, 5, 2
 3. 2, 3, 5, 4, 1
 4. 3, 2, 4, 5, 1

Question ID : 6172496459

Status : Answered

Chosen Option : 3

Marks : -1.00

Q.24 नीचे दिए गए कथनों के अनुसार कौनसा निष्कर्ष तर्कसंगत निकाला जा सकता है।

कथन : सभी चूहे बिल्ली है।
कुछ चूहे खरगोश हैं।
निष्कर्ष : I. कुछ बिल्ली खरगोश है।
II. कुछ बिल्ली चूहे है।

- Ans 1. दोनों निष्कर्ष सही है
 2. केवल निष्कर्ष I सही है
 3. दोनों निष्कर्ष गलत है
 4. केवल निष्कर्ष II सही है

Question ID : 6172498319

Status : Answered

Chosen Option : 1

Marks : 4.00

Q.25 श्यामा कहती है की राजीव के पिता के पिता, मेरे पिता है तदनुसार श्यामा का राजीव से क्या रिश्ता है

- Ans 1. मां
 2. बुआ
 3. भतीजी
 4. बहन

Question ID : 6172496856

Status : Answered

Chosen Option : 4

Marks : -1.00

Q.26 16 आदमी किसी कार्य को 12 दिन में पूरा कर सकते हैं। कितने दिन में उसी कार्य को 24 आदमी पूरा कर सकते हैं ?

- Ans 1. 8
 2. 6
 3. 4
 4. 3

Question ID : 6172497539

Status : Answered

Chosen Option : 2

Marks : -1.00

Q.27 पांच मित्र P, Q, R, S और T एक पंक्ति में उत्तर दिशा की ओर मुख करके बैठे हैं। S बैठा है T और Q के बीच में और Q बैठा है R के निकटतम बाईं ओर। P, T के निकटतम बाईं ओर है। बीच में कौन बैठा है?

- Ans 1. O
 2. S
 3. R
 4. T

Question ID : 6172496639

Status : Answered

Chosen Option : 2

Marks : 4.00

Q.28 निम्न श्रृंखला में प्रश्नवाचक चिन्ह (?) के स्थान पर क्या आएगा
ADG : FIL :: FGH : ?

- Ans 1. MLK
 2. ALK
 3. IJK
 4. KLM

Question ID : 6172496039

Status : Answered

Chosen Option : 4

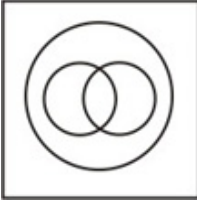
Marks : 4.00

Q.29 निम्नलिखित में से कौनसी आकृति मिनटों, दिनों और महीनों के बीच सही संबंध को भली-भाँति दर्शाती है?

Question ID : 6172497719

Ans

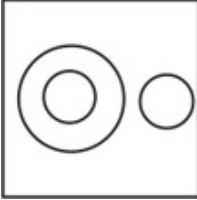
✗ 1.




✓ 2.



✗ 3.



✗ 4.



Status : Answered

Chosen Option : 2

Marks : 4.00

Q.30 यदि 1 जनवरी को शुक्रवार है, तो एक अधिवर्ष में मार्च का प्रथम दिन क्या होगा ?

Ans ✗ 1. शुक्रवार

✓ 2. मंगलवार

✗ 3. गुरुवार

✗ 4. बुधवार

Question ID : 6172497059

Status : Answered

Chosen Option : 2

Marks : 4.00

Q.31 $\sqrt{148225}$ का मान ज्ञात करें ?

Ans ✗ 1. 355

✗ 2. 370

✗ 3. 280

✓ 4. 385

Question ID : 6172497299

Status : Not Answered

Chosen Option : --

Marks : 0.00

Q.32 10% तथा 5% के दो क्रमवार बट्टे किस एकमात्र बट्टे के समतुल्य हैं

Ans ✗ 1. 14%

✗ 2. 14.25%

✓ 3. 14.50%

✗ 4. 15%

Question ID : 6172497659

Status : Answered

Chosen Option : 4

Marks : -1.00

Q.33 निम्न प्रश्न में दिए गए विकल्पों में से प्रश्नवाचक चिन्ह के स्थान पर आने वाली संख्या ज्ञात किजीए।

Question ID : 6172497179

Status : Answered

Chosen Option : 4

Marks : 4.00

25	16	64
144	100	?
49	36	100

- Ans
- 1. 225
 - 2. 256
 - 3. 289
 - 4. 324

Q.34 दिए गए विकल्पों में से निम्नलिखित अक्षर समूह का जल प्रतिबिम्ब कौनसा होगा ?

FECUND

- Ans
- 1. DNUCEF
 - 2. DNUQED
 - 3. FEECND
 - 4. DNUCEF

Question ID : 6172498079

Status : Answered

Chosen Option : 3

Marks : 4.00

Q.35 एक 8 सेमी भुजा का ठोस घन जिसकी विपरीत फलके लाल, नीले व काले रंग से रंगी हुई है। इसे 2 सेमी के बराबर घनों में काटा जाता है। केवल दो फलक से रंगे हुए घनों की संख्या कितनी है?

- Ans
- 1. 8
 - 2. 16
 - 3. 20
 - 4. 24

Question ID : 6172496879

Status : Answered

Chosen Option : 2

Marks : -1.00

Q.36 जिस प्रकार मूर्गी का सम्बन्ध अंडा से है, उसी प्रकार पेड़ का सम्बन्ध किससे है ?

- Ans
- 1. पत्तियाँ
 - 2. फल
 - 3. छाल
 - 4. बीज

Question ID : 6172496109

Status : Answered

Chosen Option : 2

Marks : 4.00

Q.37 निम्न में से असंगत को चुनिए ?

- Ans
- 1. कटारी
 - 2. ढाल
 - 3. खड्ग
 - 4. खंजर

Question ID : 6172496229

Status : Answered

Chosen Option : 3

Marks : -1.00

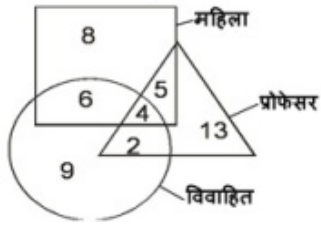
Q.38 निम्नांकित आरेख में वृत विवाहित का, त्रिभुज प्रोफेसर का, और वर्ग महिला का प्रतिनिधित्व करता है तो कितनी महिला विवाहित हैं, परन्तु प्रोफेसर नहीं हैं?

Question ID : 6172498259

Status : Answered

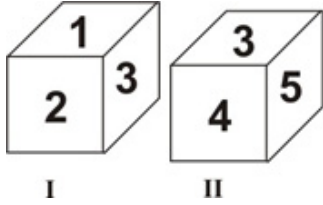
Chosen Option : 1

Marks : 4.00



- Ans 1. 6
 2. 4
 3. 11
 4. 10

Q.39 नीचे एक पासे के दो प्रारूपों को दर्शाया गया है। इस पासे में अंक 5 के विपरीत फलक पर कौन-सा अंक होंगे?



- Ans 1. 6
 2. 2
 3. 4
 4. 1

Question ID : 6172496939
 Status : Answered
 Chosen Option : 1
 Marks : -1.00

Q.40 यदि Q का अर्थ +, T का अर्थ -, R का अर्थ ÷ तथा K का अर्थ × है तो $24 R 4 Q 8 K 6 T 10 = ?$

- Ans 1. 44
 2. 2/3
 3. 48
 4. 24

Question ID : 6172497119
 Status : Answered
 Chosen Option : 1
 Marks : 4.00

Q.41 निम्न में से किस उत्तर आकृति द्वारा प्रश्न आकृति पूरी होगी?



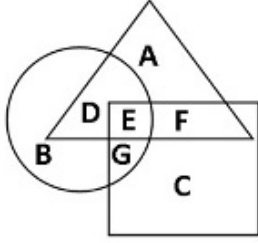
- Ans 1.
 2.
 3.
 4.

Question ID : 6172498439
 Status : Answered
 Chosen Option : 3
 Marks : 4.00

Q.42 निम्नांकित आरेख में वृत्त बुद्धिमान लोगों को, त्रिभुज सृजनात्मक लोगों को जबकि वर्ग

Question ID : 6172498199

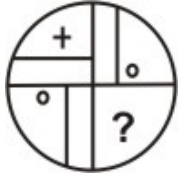
सुस्त लोगों को इंगित करता है तो कौन बुद्धिमान एवं सुस्त है लेकिन सृजनात्मक व्यक्ति भी है-



- Ans
- 1. A, D और E
 - 2. इनमें से कोई नहीं
 - 3. E, F और G
 - 4. E

Status : Answered
Chosen Option : 4
Marks : 4.00

Q.43 निम्न में से किस उत्तर आकृति द्वारा प्रश्न आकृति पूरी होगी?



- Ans
- 1.
 - 2.
 - 3.
 - 4.

Question ID : 6172498499

Status : Answered
Chosen Option : 3
Marks : 4.00

Q.44 निम्न श्रृंखला में रिक्त स्थान () के स्थान पर क्या आएगा
_ op _ mo _ n _ _ pnmop _

- Ans
- 1. mnompn
 - 2. mpnmop
 - 3. mnpomn
 - 4. mnpmon

Question ID : 6172495979

Status : Answered
Chosen Option : 4
Marks : 4.00

Q.45 किसी वर्ष में एक व्यक्ति की औसत मासिक आय ₹ 3,400 थी। उसकी वर्ष के प्रथम आठ माह की औसत मासिक आय ₹ 3,160 तथा अंतिम पांच माह की ₹ 4,120 थी। वर्ष के आठवें माह की उसकी आय थी ?

- Ans
- 1. ₹ 5,520
 - 2. ₹ 15,520
 - 3. ₹ 3,160
 - 4. ₹ 5,080

Question ID : 6172497419

Status : Answered
Chosen Option : 4
Marks : 4.00

Section : सामान्य ज्ञान सामान्य विज्ञान और सामयिकी

Q.1 किस शहर में पहली 'भारत इंडोनेशिया उर्जा फोरम' आयोजित हुई ?

- Ans
- 1. जकार्ता

Question ID : 6172498602

Status : Not Answered

2. बंगलुरु
 3. नई दिल्ली
 4. बाली

Chosen Option : --
Marks : 0.00

Q.2 साल्ट लेक स्टेडियम कहां स्थित है ?

- Ans 1. मुंबई
 2. कोलकाता
 3. नई दिल्ली
 4. चेन्नई

Question ID : 6172498600
Status : Not Answered
Chosen Option : --
Marks : 0.00

Q.3 भारतीय संविधान सभा की संघीय शक्ति समिति के अध्यक्ष कौन थे ?

- Ans 1. सरदार पटेल
 2. पंडित जवाहरलाल नेहरू
 3. डॉ. बी. आर. अम्बेडकर
 4. अल्लादी कृष्णास्वामी

Question ID : 6172499878
Status : Answered
Chosen Option : 3
Marks : -1.00

Q.4 कौन आजाद हिन्द फौज (INA) से संबंधित नहीं है ?

- Ans 1. जनरल मोहन सिंह
 2. गुरदयाल सिंह ढिल्लो
 3. शाहनवाज खां
 4. आर. सी. दत्त

Question ID : 6172499650
Status : Answered
Chosen Option : 1
Marks : -1.00

Q.5 खिलाफत आंदोलन का आरम्भ किया था ?

- Ans 1. अबुल कलाम आजाद
 2. अली बंधुओं ने
 3. फखरुद्दीन अली अहमद
 4. मुहम्मद अली जिन्ना

Question ID : 6172499649
Status : Answered
Chosen Option : 4
Marks : -1.00

Q.6 तानसेन का मूल नाम क्या था ?

- Ans 1. रामतनु पाण्डेय
 2. बाज बहादुर
 3. मकरचंद पाण्डेय
 4. लाला कलावन्त

Question ID : 6172499579
Status : Answered
Chosen Option : 1
Marks : 4.00

Q.7 अंतर्राष्ट्रीय आपराधिक न्यायालय का मुख्यालय कहाँ स्थित है ?

- Ans 1. लंदन - ब्रिटेन
 2. नीदरलैंड द हेग
 3. बासेल स्विट्जरलैंड
 4. नैरोबी - केन्या

Question ID : 6172498599
Status : Answered
Chosen Option : 2
Marks : 4.00

Q.8 कोशिका सिद्धान्त का प्रतिपादन किसने किया ?

- Ans 1. डारविन और बैलेस
 2. श्लेडेन और श्वान
 3. हेक्सले
 4. मेण्डले और मोरगन

Question ID : 6172499050
Status : Answered
Chosen Option : 2
Marks : 4.00

Q.9 V आकार की घाटी कौन बनाती है ?

- Ans 1. नदी
 2. समुद्री लहर
 3. पवन
 4. हिमनद या हिमानी

Question ID : 6172499459

Status : Answered

Chosen Option : 1

Marks : 4.00

Q.10 कम्प्यूटर भाषा में फीड किया जाने वाला डाटाकहलाता है ?

- Ans 1. एल्गोरिथ्म
 2. इनपुट
 3. गणन (Calculation)
 4. करंट

Question ID : 6172499159

Status : Not Answered

Chosen Option : --

Marks : 0.00

Q.11 क्लोरोफिल अणु में निम्नलिखित में से क्या मौजूद रहता है ?

- Ans 1. Mn
 2. Fe
 3. Mg
 4. K

Question ID : 6172499049

Status : Not Answered

Chosen Option : --

Marks : 0.00

Q.12 प्राकृतिक कोलॉइड कौनसा है ?

- Ans 1. रक्त
 2. यूरिया
 3. सोडियम क्लोराइड
 4. इक्षु शर्करा

Question ID : 6172499999

Status : Answered

Chosen Option : 3

Marks : -1.00

Q.13 नैसर्गिक (प्राकृतिक) रबड़ किसका बहुलक है ?

- Ans 1. प्रोटीन
 2. आइसोप्रीन
 3. वाइनिल ऐसीटेट
 4. स्टाइरीन

Question ID : 6172498929

Status : Answered

Chosen Option : 2

Marks : 4.00

Q.14 पृथ्वी पर सबसे अधिक मात्रा में पाया जाने वाला धातु तत्व है ?

- Ans 1. सोडियम
 2. लोहा
 3. ऐल्युमिनियम
 4. कैल्सियम

Question ID : 6172498930

Status : Answered

Chosen Option : 1

Marks : -1.00

Q.15 साबरमती नदी किस शहर के किनारे बहती है ?

- Ans 1. अहमदाबाद
 2. मुम्बई
 3. हैदराबाद
 4. विजयवाड़ा

Question ID : 6172499252

Status : Answered

Chosen Option : 1

Marks : 4.00

Q.16 मक्के की खेती की जा सकती है ?

- Ans 1. खरीफ के मौसम में

Question ID : 6172499250

Status : Answered

- 2. वर्ष भर
- 3. जायद के मौसम में
- 4. रबी के मौसम में

Chosen Option : 1
Marks : 4.00

Q.17 सबसे प्राचीन वेद कौन-सा है ?

- Ans
- 1. यजुर्वेद
 - 2. अथर्ववेद
 - 3. सामवेद
 - 4. ऋग्वेद

Question ID : 6172499519
Status : Answered
Chosen Option : 4
Marks : 4.00

Q.18 निम्न में से कौन-सा एक स्थान सबसे कम वर्षा प्राप्त करता है ?

- Ans
- 1. जोधपुर
 - 2. बाड़मेर
 - 3. बीकानेर
 - 4. लेह

Question ID : 6172499249
Status : Answered
Chosen Option : 2
Marks : -1.00

Q.19 किस देश ने आईजीएस रडार 5 (जासूसी उपग्रह) का प्रक्षेपण किया ?

- Ans
- 1. जापान
 - 2. दक्षिण कोरिया
 - 3. उत्तर कोरिया
 - 4. रूस

Question ID : 6172498603
Status : Answered
Chosen Option : 2
Marks : -1.00

Q.20 अल्माटी बांध किस नदी पर स्थित है ?

- Ans
- 1. नर्मदा
 - 2. कावेरी
 - 3. कृष्णा
 - 4. गोदावरी

Question ID : 6172499251
Status : Not Answered
Chosen Option : --
Marks : 0.00

Q.21 जब दो हल्के नाभिक मिलकर भारी नाभिक का निर्माण करते हैं तो इस प्रक्रिया को कहते हैं ?

- Ans
- 1. प्रकाश विद्युत प्रभाव
 - 2. नाभिकीय संलयन
 - 3. नाभिकीय विखण्डन
 - 4. रासायनिक क्रिया

Question ID : 6172498859
Status : Answered
Chosen Option : 2
Marks : 4.00

Q.22 भारतीय संसद के कितने अंग हैं ?

- Ans
- 1. 4
 - 2. 2
 - 3. 3
 - 4. 1

Question ID : 6172499879
Status : Answered
Chosen Option : 3
Marks : 4.00

Q.23 2017 में सम्पन्न भारतीय राष्ट्रपति के चुनाव में जनसंख्या आंकड़ों का आधार वर्ष क्या है ?

- Ans
- 1. 2001
 - 2. 1981

Question ID : 6172498601
Status : Answered
Chosen Option : 4
Marks : 4.00

3. 2011 4. 1971

Q.24 भारतीय संविधान में सम्मिलित संसदीय व्यवस्था किस देश से ग्रहण की गई है ?

- Ans
- 1. आयरलैण्ड
 - 2. कनाडा
 - 3. ब्रिटेन
 - 4. अमेरिका

Question ID : 6172499877

Status : Answered

Chosen Option : 1

Marks : -1.00

Q.25 भारतीय संसद के कितने सदन हैं ?

- Ans
- 1. चार
 - 2. दो
 - 3. तीन
 - 4. एक

Question ID : 6172499880

Status : Answered

Chosen Option : 2

Marks : 4.00

Section : राजस्थान इतिहास संस्कृति कला और भूगोल

Q.1 राज्य में सबसे अधिक गागरोणी तोते किस अभयारण्य में मिलते हैं ?

- Ans
- 1. रणथम्भौर
 - 2. केवलादेव
 - 3. सरिस्का
 - 4. मुकन्दरा हिल्स

Question ID : 61724911132

Status : Answered

Chosen Option : 4

Marks : 4.00

Q.2 पौष मास में आयोजित होने वाला मेला है ?

- Ans
- 1. रणकपुर मेला
 - 2. दधिमति का मेला
 - 3. जीणमाता का मेला
 - 4. नाकोड़ाजी का मेला

Question ID : 61724910254

Status : Not Answered

Chosen Option : --

Marks : 0.00

Q.3 सत्येन मेत्रेय पुरस्कार किस क्षेत्र से संबंधित है ?

- Ans
- 1. परिवार नियोजन
 - 2. साक्षरता
 - 3. कृषि जागरण
 - 4. चिकित्सा

Question ID : 61724910785

Status : Answered

Chosen Option : 2

Marks : 4.00

Q.4 किसके समय हवेनसांग राजस्थान आया ?

- Ans
- 1. राणा सांगा के
 - 2. राजा भारमल के
 - 3. हर्षवर्धन के
 - 4. राणा कुम्भा के

Question ID : 61724910485

Status : Answered

Chosen Option : 3

Marks : 4.00

Q.5 तराईन का दूसरा युद्ध लड़ा गया था ?

- Ans
- 1. अकबर और हेमू के मध्य
 - 2. राणा सांगा और बाबर के मध्य
 - 3. हम्मीर और अलाउद्दीन के मध्य

Question ID : 61724910486

Status : Answered

Chosen Option : 4

Marks : 4.00

✓ 4. मोहम्मद गौरी और पृथ्वीराज चौहान के मध्य

Q.6 निम्न में से कौनसी नगरीय स्वशासन संस्था राजस्थान में अस्तित्व में नहीं है ?

- Ans
- ✓ 1. महानगर निगम
 - ✗ 2. नगर निगम
 - ✗ 3. नगर परिषद
 - ✗ 4. नगर पालिका

Question ID : 61724910784

Status : Answered

Chosen Option : 1

Marks : 4.00

Q.7 बिजोलिया लेख के अनुसार सांभर झील का निर्माण किसने करवाया ?

- Ans
- ✓ 1. वासुदेव
 - ✗ 2. अजयराज
 - ✗ 3. अर्णोराज
 - ✗ 4. कान्हड़देव

Question ID : 61724911135

Status : Answered

Chosen Option : 1

Marks : 4.00

Q.8 ज्ञान समुद्र, बावनी, रामची अण्टक नामक कृतियों का संबंध किस संत से है ?

- Ans
- ✗ 1. संत पीपा
 - ✗ 2. संत रज्जब जी
 - ✓ 3. सुन्दरदास
 - ✗ 4. संत धन्ना

Question ID : 61724910255

Status : Answered

Chosen Option : 3

Marks : 4.00

Q.9 जयपुर नगर का नक्शा किसके द्वारा बनवाया गया ?

- Ans
- ✓ 1. विद्याधर भट्टाचार्य
 - ✗ 2. सवाई जयसिंह
 - ✗ 3. पंडित गजाधर
 - ✗ 4. मिर्जा इस्माइल

Question ID : 61724911563

Status : Answered

Chosen Option : 1

Marks : 4.00

Q.10 कौनसी नदी डूंगरपुर और बांसवाड़ा जिलों के बीच सीमा बनाती हुई बहती है ?

- Ans
- ✗ 1. चम्बल
 - ✗ 2. बनास
 - ✓ 3. माही
 - ✗ 4. साबरमती

Question ID : 61724911134

Status : Answered

Chosen Option : 3

Marks : 4.00

Q.11 कटारी भांत से क्या आशय है ?

- Ans
- ✗ 1. गले का आभूषण
 - ✗ 2. एक देशी खेल
 - ✓ 3. एक प्रकार का वस्त्र
 - ✗ 4. एक वाद्य यंत्र

Question ID : 61724911443

Status : Answered

Chosen Option : 3

Marks : 4.00

Q.12 खिलाड़ी कचनार चौधरी का सम्बंध किस खेल से है ?

- Ans
- ✗ 1. टेनिस से
 - ✓ 2. भाला फेंक
 - ✗ 3. जुडो से
 - ✗ 4. क्रिकेट से

Question ID : 61724911332

Status : Answered

Chosen Option : 2

Marks : 4.00

Q.13 मत्स्य संघ का राजस्थान में कब विलय किया गया ?

Ans

Question ID : 61724910487

- 1. 15 मई 1949
- 2. 25 मार्च 1948
- 3. 30 मार्च 1949
- 4. 26 जनवरी 1950

Status : **Answered**
Chosen Option : 2
Marks : -1.00

Q.14 पृथ्वीराज विजय का लेखक कौन है ?

- Ans
- 1. चन्दबरदाई
 - 2. नयनचंद सुरि
 - 3. पृथ्वीराज चौहान
 - 4. जयानक भट्ट

Question ID : 61724910256
Status : **Answered**
Chosen Option : 4
Marks : 4.00

Q.15 राजस्थान के लोक नृत्यों का सरमौर है ?

- Ans
- 1. अग्नि नृत्य
 - 2. घूमर नृत्य
 - 3. गैर नृत्य
 - 4. बम नृत्य

Question ID : 61724910079
Status : **Answered**
Chosen Option : 2
Marks : 4.00

Q.16 राजस्थान लोक सेवा आयोग के प्रथम अध्यक्ष थे ?

- Ans
- 1. कृष्ण कुमार गोयल
 - 2. एस. के. घोष
 - 3. जगदीप सिंह
 - 4. जसवंत सिंह

Question ID : 61724910786
Status : **Answered**
Chosen Option : 2
Marks : 4.00

Q.17 निम्न में से कौनसा स्थान बीकानेर में नहीं है ?

- Ans
- 1. टपूकड़ा
 - 2. पुंगल
 - 3. कोलायत
 - 4. लुणकरणसर

Question ID : 61724911564
Status : **Answered**
Chosen Option : 1
Marks : 4.00

Q.18 किस राज्य ने हार्ट अटैक से सम्बन्धित चिकित्सकीय कार्यक्रम "राहत" आरंभ किया है ?

- Ans
- 1. गुजरात
 - 2. राजस्थान
 - 3. मध्यप्रदेश
 - 4. तमिलनाडु

Question ID : 61724911333
Status : **Answered**
Chosen Option : 2
Marks : -1.00

Q.19 राजस्थान में पहली बार राष्ट्रपति शासन (अनुच्छेद 356 के तहत) कब लागू किया गया ?

- Ans
- 1. 17 फरवरी, 1980
 - 2. 15 दिसम्बर, 1992
 - 3. 13 मार्च, 1967
 - 4. 30 अप्रैल, 1977

Question ID : 61724910790
Status : **Answered**
Chosen Option : 3
Marks : 4.00

Q.20 राजस्थान में विधुत प्रसारण निगम लिमिटेड की कितनी कम्पनी है ?

- Ans
- 1. 3
 - 2. 1

Question ID : 61724910788
Status : **Answered**
Chosen Option : 1
Marks : -1.00

✗ 3.4

✗ 4.2

Q.21 चित्तौड़गढ़ दुर्ग में स्थित कीर्ति स्तम्भ को माना जाता है ?

- Ans
- ✗ 1. हिन्दुओं का स्मारक
 - ✗ 2. प्रशस्तियों का स्मारक
 - ✗ 3. स्तम्भों का स्मारक
 - ✓ 4. आदिनाथ का स्मारक

Question ID : 61724911562

Status : Answered

Chosen Option : 4

Marks : 4.00

Q.22 राज्य महाधिवक्ता व राज्य लोकसेवा आयोग के अध्यक्ष व सदस्यों की नियुक्ति कौन करता है ?

- Ans
- ✗ 1. मुख्य न्यायाधीश
 - ✗ 2. मुख्यमंत्री
 - ✓ 3. राज्यपाल
 - ✗ 4. विधानसभा अध्यक्ष

Question ID : 61724910787

Status : Answered

Chosen Option : 3

Marks : 4.00

Q.23 खलिहान में अन्न राशि पर चिन्ह लगाने की क्रिया क्या कहलाती है ?

- Ans
- ✗ 1. चरभर
 - ✓ 2. चांक
 - ✗ 3. चमोटी
 - ✗ 4. चल्लौ

Question ID : 61724911442

Status : Answered

Chosen Option : 1

Marks : -1.00

Q.24 अजमेर विधुत वितरण निगम लिमिटेड में कितने जिले आते हैं ?

- Ans
- ✓ 1. 11
 - ✗ 2. 10
 - ✗ 3. 12
 - ✗ 4. 13

Question ID : 61724910789

Status : Answered

Chosen Option : 2

Marks : -1.00

Q.25 लिखमादेसर, पूनरासर, मालासर में किस सम्प्रदाय की उप पीठें हैं ?

- Ans
- ✗ 1. निम्बार्क सम्प्रदाय
 - ✓ 2. जसनाथी सम्प्रदाय
 - ✗ 3. विश्णोई सम्प्रदाय
 - ✗ 4. गौड़ीय सम्प्रदाय

Question ID : 61724910257

Status : Not Answered

Chosen Option : --

Marks : 0.00

Q.26 मारवाड़ का कौन सा शासक स्वतंत्रता प्रेमी था जिसने मुगलों की अधीनता स्वीकार नहीं की ?

- Ans
- ✗ 1. महाराजा अजीत सिंह
 - ✗ 2. राव उदय सिंह
 - ✗ 3. महाराजा जसवंत सिंह प्रथम
 - ✓ 4. राव चन्द्रसेन

Question ID : 61724910488

Status : Answered

Chosen Option : 4

Marks : 4.00

Q.27 सांझी पूजन किसमें लोकप्रिय है ?

- Ans
- ✗ 1. सुहागिन स्त्रियां
 - ✗ 2. गरासियों
 - ✓ 3. कुंवारी कन्याएं

Question ID : 61724910080

Status : Answered

Chosen Option : 3

Marks : 4.00

✗ 4. भील

Q.28 अंग्रेजों के शासनकाल में राजस्थान में पॉलिटिकल रेजीडेण्ट्स का मुख्यालय था ?

- Ans
- ✗ 1. नसीराबाद
 - ✗ 2. आबू
 - ✗ 3. कोटा
 - ✓ 4. अजमेर

Question ID : 61724910484

Status : Answered

Chosen Option : 4

Marks : 4.00

Q.29 राजस्थान की किस प्रसिद्ध झील पर 'नटनी का चबूतरा' निर्मित है ?

- Ans
- ✓ 1. पिछोला
 - ✗ 2. जयसमंद
 - ✗ 3. सांभर
 - ✗ 4. नक्की झील

Question ID : 61724911133

Status : Answered

Chosen Option : 1

Marks : 4.00

Q.30 चूलगिरी जैन मंदिर कहाँ स्थित है ?

- Ans
- ✗ 1. जोधपुर
 - ✗ 2. धौलपुर
 - ✗ 3. उदयपुर
 - ✓ 4. जयपुर

Question ID : 61724910081

Status : Not Answered

Chosen Option : --

Marks : 0.00