

Participant ID:	
Participant Name:	
Test Center Name:	
Test Date:	01/09/2017
Test Time:	4:00 PM - 6:00 PM
Marks Obtained:	

Section : तार्किक और मानसिक क्षमता

Q.1 सीता पूर्व दिशा में 1 किमी. चलती है, फिर दाएं मुड़कर 1 किमी. चलती है, उसके बाद बाएं मुड़ती है और 2 किमी चलती है तथा अंत में बाएं मुड़कर 5 किमी चलती है। सीता अपने मूल प्रस्थान से (न्यूनतम रास्ते के आधार पर) कुल कितनी दूर पर है?

- Ans 1. 5 किमी.
 2. 8 किमी.
 3. 6 किमी.
 4. 7 किमी.

Question ID : 6172496769

Status : Answered

Chosen Option : 1

Marks : 4.00

Q.2 निम्न प्रश्न में दिए गए विकल्पों में से प्रश्नवाचक चिन्ह के स्थान पर आने वाली संख्या ज्ञात कीजिए।

16	25	40
10	15	20
?	400	900

- Ans 1. 144
 2. 169
 3. 196
 4. 225

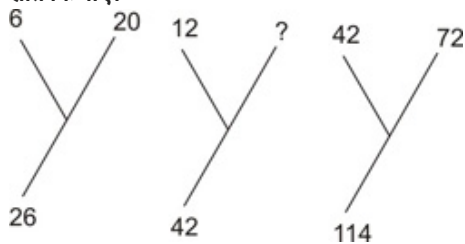
Question ID : 6172497189

Status : Not Answered

Chosen Option : --

Marks : 0.00

Q.3 निम्न प्रश्न में दिए गए विकल्पों में से प्रश्नवाचक चिन्ह के स्थान पर आने वाली संख्या ज्ञात कीजिए।



- Ans 1. 81

Question ID : 6172497249

Status : Answered

Chosen Option : 3

Marks : 4.00

Test Prime

ALL EXAMS,
ONE SUBSCRIPTION



40,000+
Mock Tests



Personalised
Report Card



Unlimited
Re-Attempt



500+
Exam Covered



Previous Year
Papers



500%
Refund



DOWNLOAD NOW

2. 144
 3. 30
 4. 28

Q.4 दो संख्याएं किसी तीसरी संख्या से क्रमशः 10% और 25% अधिक हैं। पहली संख्या दूसरी संख्या का कितने प्रतिशत है

- Ans 1. 80%
 2. 88%
 3. 65%
 4. 75%

Question ID : 6172497609

Status : Not Answered

Chosen Option : --

Marks : 0.00

Q.5 जिस प्रकार सुचालक का सम्बन्ध तांबा से है, उसी प्रकार कुचालक का सम्बन्ध किससे है ?

- Ans 1. लकड़ी
 2. एल्युमिनियम
 3. लोहा
 4. कोयला

Note: For this question, ambiguity is found in question/answer.
 Candidate will get full marks for this question if any of these options are chosen - 1,4

Question ID : 6172496129

Status : Answered

Chosen Option : 1

Marks : 4.00

Q.6 निम्नलिखित शब्दों को शब्दकोश के अनुसार व्यवस्थित किजिए। 1. Pestilential 2. Pesticide 3. Pestilence 4. Pestilent 5. Pestiferous

- Ans 1. 1, 3, 2, 4, 5
 2. 2, 4, 5, 3, 1
 3. 2, 5, 4, 3, 1
 4. 2, 5, 3, 4, 1

Question ID : 6172496469

Status : Answered

Chosen Option : 4

Marks : 4.00

Q.7 नीचे दिए गए कथनों के अनुसार कौनसा निष्कर्ष तर्कसंगत निकाला जा सकता है।

- कथन : सभी चाबी ताले हैं।
 सभी ताले पेच हैं।
 निष्कर्ष : I. सभी पेच चाबी हैं।
 II. कुछ ताले चाबी हैं।

- Ans 1. केवल निष्कर्ष II सही है
 2. केवल निष्कर्ष I सही है
 3. दोनों निष्कर्ष सही हैं
 4. दोनों निष्कर्ष गलत हैं

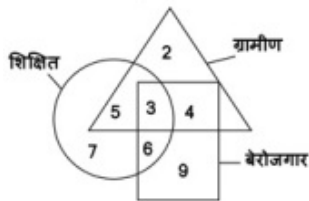
Question ID : 6172498329

Status : Answered

Chosen Option : 3

Marks : -1.00

Q.8 निम्नांकित आरेख में वृत्त शिक्षित का, त्रिभुज ग्रामीण का, आयत बेरोजगार का प्रतिनिधित्व करता है तो कितने ग्रामीण ऐसे हैं जो बेरोजगार तथा अशिक्षित हैं?



- Ans 1. 9
 2. 3
 3. 4
 4. 2

Question ID : 6172498209

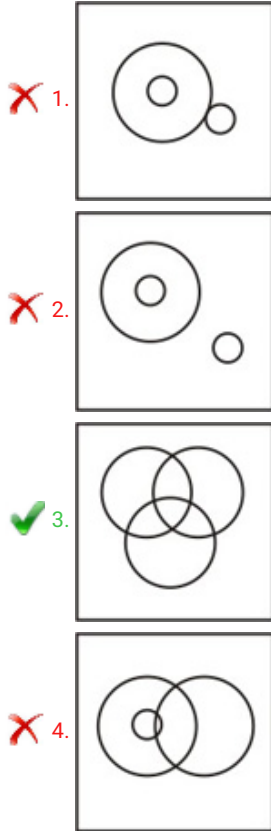
Status : Answered

Chosen Option : 3

Marks : 4.00

Q.9 निम्नलिखित में से कौनसी आकृति लड़कों, विद्यार्थियों और खिलाड़ियों के बीच संबंध को भली-भांति दर्शाती है?

Ans




Question ID : 6172497729

Status : Answered

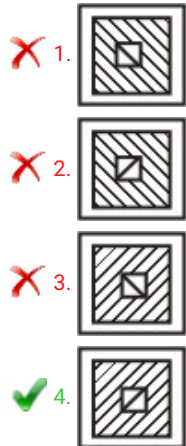
Chosen Option : 3

Marks : 4.00

Q.10 निम्न में से किस उत्तर आकृति द्वारा प्रश्न आकृति पूरी होगी?



Ans



Question ID : 6172498449

Status : Answered

Chosen Option : 4

Marks : 4.00

Q.11 निम्न श्रृंखला में रिक्त स्थान () के स्थान पर क्या आएगा
_ abbaa _ c _ ad _ aae _

Ans

- ✓ 1. acade
- ✗ 2. babcc
- ✗ 3. bebde
- ✗ 4. acede

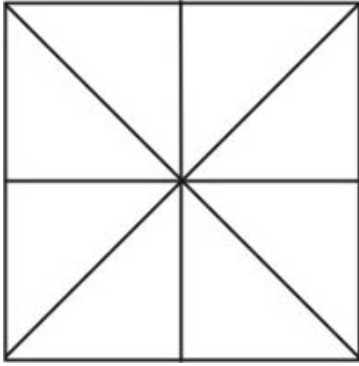
Question ID : 6172495989

Status : Answered

Chosen Option : 1

Marks : 4.00

Q.12 नीचे दी गई आकृति में कितने त्रिभुज हैं?



- Ans
- 1. 12
 - 2. 10
 - 3. 8
 - 4. 16

Question ID : 6172497969

Status : Answered

Chosen Option : 4

Marks : 4.00

Q.13 लड़को की एक पंक्ति में रवि बायीं ओर से 30वां तथा दायीं ओर से 12वां है उसी पंक्ति में प्रवीण दायीं ओर से 17वां है तो रवि और प्रवीण के बीच कितने लड़के हैं?

- Ans
- 1. 5
 - 2. 4
 - 3. 3
 - 4. 2

Question ID : 6172496589

Status : Answered

Chosen Option : 2

Marks : 4.00

Q.14 श्रेणी 16, 36, 64, ? में लुप्त संख्या '?' क्या है ?

- Ans
- 1. 81
 - 2. 121
 - 3. 90
 - 4. 100

Question ID : 6172495889

Status : Answered

Chosen Option : 4

Marks : 4.00

Q.15 A एक काम को 12 दिन में करता है। यदि A और B एक साथ उसी काम को 6 दिनों में कर सकते हैं, तो B अकेले उसी काम को कितने दिन में पूरा करेगा ?

- Ans
- 1. 15 दिन
 - 2. 12 दिन
 - 3. 17 दिन
 - 4. 11 दिन

Question ID : 6172497549

Status : Answered

Chosen Option : 2

Marks : 4.00

Q.16 यदि "HONESTY" को "5132468" के रूप में लिखा जाए और "POVERTY" को "7192068" के रूप में जाएं तो "HORSE" को क्या लिखा जाएगा?

- Ans
- 1. 50124
 - 2. 52014
 - 3. 51024
 - 4. 51042

Question ID : 6172496369

Status : Answered

Chosen Option : 4

Marks : 4.00

Q.17 किसी माह कि 5 तारीख को बुधवार है तो बताओ उसी माह की 28 तारीख को कौनसा वार होगा ?

- Ans
- 1. बुधवार
 - 2. शुक्रवार
 - 3. शनिवार

Question ID : 6172497069

Status : Answered

Chosen Option : 2

Marks : 4.00

✗ 4. गुरुवार

Q.18 श्रेणी 7, 25, 61, 121, ? में लुप्त संख्या '?' क्या है ?

- Ans
- ✗ 1. 210
 - ✗ 2. 212
 - ✗ 3. 209
 - ✓ 4. 211

Question ID : 6172495890

Status : Answered

Chosen Option : 4

Marks : 4.00

Q.19 X और Y की आयु का क्रमशः अनुपात 9:8 है। 5 वर्ष बाद उनकी आयु का अनुपात 10:9 होगा। उनकी आयु के बीच कितने वर्ष का अन्तर है ?

- Ans
- ✗ 1. 4 वर्ष
 - ✗ 2. 6 वर्ष
 - ✗ 3. 7 वर्ष
 - ✓ 4. 5 वर्ष

Question ID : 6172498149

Status : Answered

Chosen Option : 4


Marks : 4.00

Q.20 दिए गए विकल्पों में से प्रश्न आकृति का जल प्रतिबिम्ब क्या होगा?




Ans

✗ 1.




✗ 2.



✗ 3.



✓ 4.



Question ID : 6172498029

Status : Answered

Chosen Option : 4

Marks : 4.00

Q.21 दिए गए शब्द का का दर्पण प्रतिबिम्ब क्या होगा?

VERBAL

- Ans
- ✗ 1. REVBAL
 - ✓ 2. JABREV
 - ✗ 3. LRVERA

Question ID : 6172497909

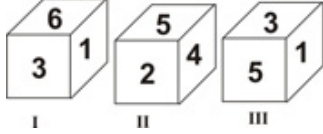
Status : Answered

Chosen Option : 2

Marks : 4.00

4. LABREV

Q.22 नीचे एक पासे के तीन प्रारूपों को दर्शाया गया है। इस पासे में अंक 3 के विपरीत फलक पर कौन-सा अंक होंगे?



- Ans
- 1. 1
 - 2. 2
 - 3. 4
 - 4. 5

Question ID : 6172496949

Status : Answered

Chosen Option : 3

Marks : 4.00

Q.23 दिए गए विकल्पों में से निम्नलिखित अक्षर समूह का जल प्रतिबिम्ब कौनसा होगा ?

PQ8AF5BZ9

- Ans
- 1. b08v72Bz9
 - 2. PQ8AF2BZ0
 - 3. b08v72Bz0
 - 4. b08v72Bz0

Question ID : 6172498089

Status : Answered

Chosen Option : 3

Marks : 4.00

Q.24 एक विक्रेता ने अपनी वस्तुओं का 3/4 हिस्सा 24% लाभ पर बेचा और शेष भाग लागत मूल्य पर बेच दिया। तदनुसार उसका कुल लाभ कितने प्रतिशत रहा

- Ans
- 1. 18
 - 2. 32
 - 3. 24
 - 4. 15

Question ID : 6172497669

Status : Answered

Chosen Option : 1

Marks : 4.00

Q.25 नीचे दिए गए कथनों के अनुसार कौनसा निष्कर्ष तर्कसंगत निकाला जा सकता है।

कथन : सभी फावड़े औजार हैं।

कोई फावड़ा पात्र नहीं है।

निष्कर्ष : I. कम से कम कुछ फावड़े पात्र हैं।

II. कोई फावड़ा पात्र नहीं है।

- Ans
- 1. केवल निष्कर्ष I सत्य है
 - 2. दोनों निष्कर्ष सही हैं
 - 3. या तो निष्कर्ष I या निष्कर्ष II सत्य है
 - 4. दोनों निष्कर्ष गलत हैं

Note: For this question, discrepancy is found in question/answer. Full Marks is being awarded to all candidates.

Question ID : 6172498389

Status : Answered

Chosen Option : 3

Marks : 4.00

Q.26 अमृता की ओर संकेत करते हुए राज कहता है कि उसकी माता मेरी सास की इकलौती पुत्री है, तो बताइये कि राज, अमृता से किस प्रकार सम्बन्धित है ?

- Ans
- 1. अंकल
 - 2. भाई
 - 3. पति
 - 4. पिता

Question ID : 6172496866

Status : Answered

Chosen Option : 4

Marks : 4.00

Q.27 निम्न में से असंगत को चुनिए ?

- Ans
- 1. कान
 - 2. नाक
 - 3. आंख

Question ID : 6172496249

Status : Answered

Chosen Option : 4

Marks : 4.00

✓ 4. प्रकोष्ठ

Q.28 निम्न में से किस उत्तर आकृति द्वारा प्रश्न आकृति पूरी होगी?



Ans

- ✗ 1.
- ✗ 2.
- ✓ 3.
- ✗ 4.

Question ID : 6172498509

Status : Answered

Chosen Option : 3

Marks : 4.00

Q.29 जिस प्रकार वृत्त का सम्बन्ध चाप से है, उसी प्रकार वर्ग का सम्बन्ध किससे है ?

- Ans ✓ 1. रेखा
- ✗ 2. त्रिभुज
- ✗ 3. आयत
- ✗ 4. गोला

Question ID : 6172496130

Status : Answered

Chosen Option : 1

Marks : 4.00

Q.30 $\sqrt{3364} = ?$

- Ans ✗ 1. 32
- ✗ 2. 62
- ✗ 3. 68
- ✓ 4. 58

Question ID : 6172497309

Status : Answered

Chosen Option : 4

Marks : 4.00

Q.31 4 सेमी के एक ठोस घन से 1 सेमी के छोटे-छोटे घन प्राप्त करने के लिए इसे कुल कितने बार काटना होगा?

- Ans ✗ 1. 3
- ✓ 2. 9
- ✗ 3. 2
- ✗ 4. 6

Question ID : 6172496889

Status : Not Answered

Chosen Option : --

Marks : 0.00

Q.32 अरूण द्वारा अंग्रेजी तथा गणित में प्राप्त किए गए कुल अंक 170 हैं। यदि इन दोनों विषयों में उसके प्राप्तांको का अन्तर 10 हो, तो इन विषयों में उसके प्राप्तांको का अनुपात है?

- Ans ✓ 1. 9 : 8
- ✗ 2. 8 : 11
- ✗ 3. 7 : 8
- ✗ 4. 8 : 7

Question ID : 6172497369

Status : Answered

Chosen Option : 1

Marks : 4.00

Q.33 दिए गए विकल्पों में से प्रश्न आकृति का दर्पण प्रतिबिम्ब क्या होगा?

Question ID : 6172497849

89

B ////////////// A

Ans

✓ 1.

80

✗ 2.

86

✗ 3.

89

✗ 4.

80

Status : Answered

Chosen Option : 3

Marks : -1.00

Q.34 निम्नलिखित शब्दों को शब्दकोश के अनुसार व्यवस्थित कीजिए और उचित विकल्प को चुनिए

1. Ambitious 2. Ambiguous 3. Ambiguity 4. Animation 5. Animals

Ans ✗ 1. 3, 2, 4, 1, 5

✗ 2. 3, 2, 5, 4, 1

✗ 3. 3, 2, 4, 5, 1

✓ 4. 3, 2, 1, 5, 4

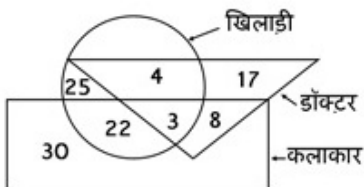
Question ID : 6172496529

Status : Answered

Chosen Option : 4

Marks : 4.00

Q.35 दिए गए आरेख में आयत से कलाकारों को, वृत्त से खिलाड़ियों को और त्रिभुज से डॉक्टरों के वर्ग को निरूपित किया गया है। तो ऐसे कितने डॉक्टर हैं, जोकि खिलाड़ी और कलाकार दोनों हैं?



Ans ✓ 1. 3

✗ 2. 8

✗ 3. 7

✗ 4. 4

Question ID : 6172498269

Status : Answered

Chosen Option : 1

Marks : 4.00

Q.36 6 : 45 बजे घड़ी की सूइयां आपस में कितने अंश का कोण बनाती हैं

Question ID : 6172497009

- Ans
- 1. 45°
 - 2. 90°
 - 3. $32\frac{1}{2}^\circ$
 - 4. $67\frac{1}{2}^\circ$

Status : Answered
Chosen Option : 4
Marks : 4.00

Q.37 यदि \div का अर्थ $+$ हो, $-$ का अर्थ \times हो, $+$ का अर्थ $-$ हो तथा \times का अर्थ \div हो, तो $14 - 4 \times 7 \div 12 + 8 = ?$

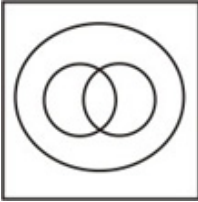
- Ans
- 1. 12
 - 2. 8
 - 3. 20
 - 4. 5

Question ID : 6172497129
Status : Answered
Chosen Option : 1
Marks : 4.00

Q.38 दिए गए आरेखों में से कौन-सा आरेख निम्न तीनों के बीच सही संबंध दर्शाता है? भारत, पाकिस्तान, एशिया

Ans

1.




2.



3.



4.



Question ID : 6172497789
Status : Answered
Chosen Option : 3
Marks : 4.00

Q.39 12 संख्याओं का औसत 15 है और पहली दो संख्याओं का औसत 14 है। शेष संख्याओं का औसत क्या है ?

- Ans
- 1. 15.2
 - 2. 14.2
 - 3. 14
 - 4. 15

Question ID : 6172497429
Status : Answered
Chosen Option : 1
Marks : 4.00

Q.40 एक व्यक्ति अनुप्रवाह में 6 किमी./घंटा एवं ऊर्ध्वप्रवाह में 2 किमी./घंटा की चाल से तेरता है। शांत जल में उसकी चाल है

- Ans
- 1. 3 किमी./घंटा
 - 2. 4 किमी./घंटा
 - 3. 5 किमी./घंटा

Question ID : 6172497489
Status : Answered
Chosen Option : 2
Marks : 4.00

✗ 4. 6 किमी./घंटा

Q.41 यदि किसी सांकेतिक भाषा में "CAT" को "DDY" लिखा जाता है, तो "BIG" को उसी भाषा में कैसे लिखा जाएगा?

- Ans
- ✗ 1. CJL
 - ✗ 2. CNL
 - ✓ 3. CLL
 - ✗ 4. CML

Question ID : 6172496370

Status : Answered

Chosen Option : 3

Marks : 4.00

Q.42 निम्न में से असंगत को चुनिए ?

- Ans
- ✗ 1. झाड़व
 - ✓ 2. टहलना
 - ✗ 3. उड़ना
 - ✗ 4. घोड़े पर सवार होना

Question ID : 6172496250

Status : Answered

Chosen Option : 2

Marks : 4.00

Q.43 निम्न श्रृंखला में प्रश्नवाचक चिन्ह (?) के स्थान पर क्या आएगा
POQ, SRT, VUW, ?

- Ans
- ✓ 1. YXZ
 - ✗ 2. XYZ
 - ✗ 3. XZY
 - ✗ 4. YZX

Question ID : 6172496049

Status : Answered

Chosen Option : 1

Marks : 4.00

Q.44 A से E तक विभिन्न मकान एक पंक्ति में बने हैं। A, B के दाईं ओर है और E, C के बाईं ओर तथा A के दाईं ओर है। साथ ही B, D के दाईं ओर है, तब बिल्कुल बीच में कौन-सा मकान है?

- Ans
- ✗ 1. E
 - ✓ 2. A
 - ✗ 3. B
 - ✗ 4. D

Question ID : 6172496649

Status : Answered

Chosen Option : 2

Marks : 4.00

Q.45 P, Q के 40 मी. दक्षिण-पश्चिम में है। R, Q के 40 मी. दक्षिण-पूर्व में है। तब R, P के सापेक्ष किस दिशा में है

- Ans
- ✗ 1. दक्षिण
 - ✗ 2. उत्तर
 - ✓ 3. पूर्व
 - ✗ 4. पश्चिम

Question ID : 6172496709

Status : Answered

Chosen Option : 3

Marks : 4.00

Section : सामान्य ज्ञान सामान्य विज्ञान और सामयिकी

Q.1 किस सूफी संत ने कहा था, 'हनोज दिल्ली दूर अस्त' (अभी दिल्ली दूर है) ?

- Ans
- ✓ 1. शेख निजामुद्दीन औलिया
 - ✗ 2. शेख नासिरुद्दीन
 - ✗ 3. सलीम चिश्ती
 - ✗ 4. शेख फरीद

Question ID : 6172499589

Status : Answered

Chosen Option : 1

Marks : 4.00

Q.2 विधान सभा में धन-विधेयक किसकी पूर्व अनुमति पर पेश होता है ?

- Ans
- ✗ 1. प्रधानमंत्री

Question ID : 6172499918

Status : Answered

Chosen Option : 2

2. राज्यपाल
 3. मुख्यमंत्री
 4. राष्ट्रपति

Marks : 4.00

Q.3 पेनीसिलिन (Penicillin) की खोज किसने की थी ?

- Ans 1. राबर्ट कोच
 2. बैक्समान
 3. एलबर्ट सेबीन
 4. अलेक्जान्डर

Question ID : 6172499069

Status : Not Answered

Chosen Option : --

Marks : 0.00

Q.4 किस ग्रह के कोई उपग्रह नहीं है ?

- Ans 1. पृथ्वी
 2. बुध
 3. शुक्र
 4. बृहस्पति

Question ID : 6172498869

Status : Answered

Chosen Option : 4

Marks : -1.00

Note: For this question, ambiguity is found in question/answer.
 Candidate will get full marks for this question if any of these options are
 chosen - 2,3

Q.5 भारत में सीमेन्ट उत्पादन में अग्रणी राज्य है ?

- Ans 1. राजस्थान
 2. मध्य प्रदेश
 3. आन्ध्र प्रदेश
 4. तमिलनाडू

Question ID : 6172499290

Status : Answered

Chosen Option : 3

Marks : -1.00

Q.6 विधान परिषद् के सदस्य कितने वर्षों के लिए निर्वाचित होते हैं ?

- Ans 1. 3 वर्ष
 2. 4 वर्ष
 3. 6 वर्ष
 4. 5 वर्ष

Question ID : 6172499917

Status : Answered

Chosen Option : 3

Marks : 4.00

Q.7 सिन्धु नदी का उद्गम स्थल है ?

- Ans 1. रोहतांग दर्रा
 2. शेषनाग झील
 3. मानसरोवर झील
 4. मप्सातुंग हिमानी

Question ID : 6172499291

Status : Answered

Chosen Option : 1

Marks : -1.00

Q.8 सुन्दरवन है ?

- Ans 1. गंगा - ब्रह्मपुत्र डेल्टा में
 2. दक्कन के पठार में
 3. महानदी डेल्टा में
 4. गोदावरी डेल्टा में

Question ID : 6172499292

Status : Answered

Chosen Option : 1

Marks : 4.00

Q.9 किसने कहा था 'तुम मुझे खून दो, मैं तुम्हें आजादी दूंगा' ?

- Ans 1. भगतसिंह
 2. अरविन्द घोष

Question ID : 6172499670

Status : Answered

Chosen Option : 3

✓ 3. सुभाष चन्द्र बोस

✗ 4. चन्द्रशेखर आजाद

Marks : 4.00

Q.10 विधानमण्डल का प्रमुख कर्तव्य क्या है ?

Ans ✗ 1. न्यायिक मामलों को कार्यान्वित करना

✗ 2. कानूनों को कार्यान्वित करना

✓ 3. नियमों (कानूनों) को अधिनियमित करना

✗ 4. केन्द्रीय प्रशासन

Question ID : 6172499919

Status : Answered

Chosen Option : 3

Marks : 4.00

Q.11 संयुक्त राष्ट्र सुरक्षा परिषद के अस्थायी सदस्यों की कार्य अवधि कितनी होती है ?

Ans ✓ 1. 2 वर्ष

✗ 2. 6 माह

✗ 3. 3 वर्ष

✗ 4. 1 वर्ष

Question ID : 61724910009

Status : Answered

Chosen Option : 1

Marks : 4.00

Q.12 किस देश ने 2017 का फुटबाल फेडरेशन कप जीता ?

Ans ✗ 1. ब्राज़ील

✓ 2. जर्मनी

✗ 3. इटली

✗ 4. फ्रांस

Question ID : 6172498653

Status : Answered

Chosen Option : 2

Marks : 4.00

Q.13 हाल ही में किन दो देशों के बीच संयुक्त सैन्य अभ्यास 'ईगल सैल्यूट 2017' का आयोजन हुआ ?

Ans ✓ 1. मिस्त्र और अमेरिका

✗ 2. मिस्त्र और बहरीन

✗ 3. अमेरिका और इटली

✗ 4. अमेरिका और कुवैत

Question ID : 6172498650

Status : Not Answered

Chosen Option : --

Marks : 0.00

Q.14 निम्न में से कौन सबसे बड़ा कोशिकांग है ?

Ans ✗ 1. प्लास्टिड

✗ 2. माइटोकॉन्ड्रीया

✓ 3. गोल्जीकाय

✗ 4. गुणसूत्र

Question ID : 6172499070

Status : Answered

Chosen Option : 2

Marks : -1.00

Q.15 कनिष्क की राजधानी थी ?

Ans ✗ 1. बनारस

✓ 2. पुरुषपुर

✗ 3. इलाहाबाद

✗ 4. सारनाथ

Question ID : 6172499529

Status : Answered

Chosen Option : 4

Marks : -1.00

Q.16 कान्हा टाइगर रिजर्व किस राज्य में स्थित है ?

Ans ✗ 1. पश्चिम बंगाल

✗ 2. उत्तराखंड

✗ 3. उत्तर प्रदेश

✓ 4. मध्य प्रदेश

Question ID : 6172498649

Status : Answered

Chosen Option : 4

Marks : 4.00

Q.17 वायुयानों के टायरों में भरने में निम्न गैस का प्रयोग किया जाता है ?

- Ans
- 1. हीलियम
 - 2. नीऑन
 - 3. नाइट्रोजन
 - 4. हाइड्रोजन

Question ID : 6172498950

Status : Answered

Chosen Option : 1

Marks : 4.00

Q.18 विश्व का सबसे बड़ा, लिखित एवं सर्वाधिक व्यापक संविधान किस देश का है ?

- Ans
- 1. कनाडा
 - 2. दक्षिण अफ्रीका
 - 3. भारत
 - 4. ब्रिटेन

Question ID : 6172499920

Status : Answered

Chosen Option : 3

Marks : 4.00

Q.19 भारत के राष्ट्रीय सुरक्षा सलाहकार कौन है ?

- Ans
- 1. जमशंकर प्रसाद
 - 2. मुकुल रोहतगी
 - 3. रंजीत कुमार
 - 4. अजीत कुमार दोभाल

Question ID : 6172498652

Status : Not Answered

Chosen Option : --

Marks : 0.00

Q.20 दूध में प्रभावी रूप से उपस्थित कार्बोहाइड्रेट किस प्रकार का होता है ?

- Ans
- 1. लैक्टोज
 - 2. माल्टोज
 - 3. सुक्रोज
 - 4. ग्लूकोज

Question ID : 6172498949

Status : Answered

Chosen Option : 1

Marks : 4.00

Q.21 दुग्ध उत्पादन के क्षेत्र में श्वेत क्रान्ति लाने का श्रेय किसको जाता है ?

- Ans
- 1. डॉ. वर्गीय कुरियन
 - 2. डॉ. पंजाब सिंह
 - 3. डॉ. एम. एस. स्वीनाथन
 - 4. डॉ. अमृता पटेल

Question ID : 6172499289

Status : Answered

Chosen Option : 1

Marks : 4.00

Q.22 सूर्य की तीव्र किरणों द्वारा झुलसने से वायुमण्डल की कौन-सी गैस हमारी रक्षा करती है ?

- Ans
- 1. नाइट्रोजन
 - 2. ऑर्गन
 - 3. ऑक्सीजन
 - 4. ओजोन

Question ID : 6172499469

Status : Answered

Chosen Option : 4

Marks : 4.00

Q.23 ग्रामीण क्षेत्र में डिजिटलीकरण की पंहुच मजबूत करने के लिए किस बैंक ने 'मेरा आई' मोबाइल एप लांच किया ?

- Ans
- 1. एसबीआई
 - 2. विजया बैंक
 - 3. देना बैंक
 - 4. आईसीआईसीआई

Question ID : 6172498651

Status : Answered

Chosen Option : 1

Marks : -1.00

Q.24 आउटपुट क्या है ?

Question ID : 6172499169

- Ans 1. वह जो प्रोसेसर को यूजर से मिले
 2. वह जो प्रोसेसर यूजर को दे
 3. वह जो यूजर प्रोसेसर को दे
 4. वह जो प्रोसेसर यूजर से ले

Status : Answered
 Chosen Option : 1
 Marks : -1.00

Q.25 गोवा, दमन और दीव का उपनिवेशीकरण मूलतः किया गया था ?

- Ans 1. पुर्तगालियों द्वारा
 2. अंग्रेजों द्वारा
 3. डचों द्वारा
 4. फ्रांसीसियों द्वारा

Question ID : 6172499669
 Status : Answered
 Chosen Option : 1
 Marks : -1.00

Section : राजस्थान इतिहास संस्कृति कला और भूगोल

Q.1 जाम्भा (फलोदी - जोधपुर) किस सम्प्रदाय से संबंधित स्थान है ?

- Ans 1. गौड़ीय सम्प्रदाय
 2. जसनाथी सम्प्रदाय
 3. वल्लभ सम्प्रदाय
 4. विश्णोई सम्प्रदाय

Question ID : 61724910295
 Status : Answered
 Chosen Option : 4
 Marks : 4.00

Q.2 राजस्थान का वह कौनसा संत है जिसने फतेहपुर सीकरी में अकबर से भेंट की थी ?

- Ans 1. मीराबाई
 2. जसनाथ
 3. रामचरण
 4. दादूदयाल

Question ID : 61724910297
 Status : Answered
 Chosen Option : 4
 Marks : 4.00

Q.3 राज्य स्तरीय पशु मेलों की राजस्थान में कितनी संख्या है ?

- Ans 1. 14
 2. 12
 3. 10
 4. 8

Question ID : 61724911462
 Status : Answered
 Chosen Option : 1
 Marks : -1.00

Q.4 मथानिया सौर ऊर्जा परियोजना किस जिले में स्थित है ?

- Ans 1. जोधपुर
 2. नागौर
 3. बीकानेर
 4. जैसलमेर

Question ID : 61724910854
 Status : Answered
 Chosen Option : 1
 Marks : 4.00

Q.5 हिन्दुस्तान जिंक लिमिटेड का प्रधान कार्यालय कहां है ?

- Ans 1. विशाखापट्टनम
 2. उदयपुर
 3. रायपुर
 4. जयपुर

Question ID : 61724910859
 Status : Answered
 Chosen Option : 2
 Marks : 4.00

Q.6 जिला आयोजना समितियों का गठन किसकी अध्यक्षता में किया गया है ?

- Ans 1. मुख्य कार्यकारी अधिकारी जिला परिषद

Question ID : 61724910856
 Status : Answered

2. जिला कलक्टर
 3. जिला प्रमुख
 4. परियोजना निदेशक, डी आर डी ओ

Chosen Option : 3
 Marks : 4.00

Q.7 महाराणा जगमल सिंह द्वारा बाँसवाड़ा राज्य की कब स्थापना की गई ?

- Ans 1. 1518 ई.
 2. 1535 ई.
 3. 1544 ई.
 4. 1532 ई.

Question ID : 61724910538
 Status : Answered
 Chosen Option : 1
 Marks : 4.00

Q.8 कपड़े पर चित्र बनाकर लोक देवता की जीवन - चरित्र प्रस्तुत किया जाता है यह कला कौनसी है ?

- Ans 1. ख्याल
 2. फड़
 3. स्वांग
 4. रम्मत

Question ID : 61724910296
 Status : Answered
 Chosen Option : 2
 Marks : 4.00

Q.9 जिस राज्य के साथ राजस्थान की सबसे छोटी अन्तरराज्यीय सीमा है, वह है ?

- Ans 1. गुजरात
 2. मध्य प्रदेश
 3. हरियाण
 4. पंजाब

Question ID : 61724911175
 Status : Answered
 Chosen Option : 4
 Marks : 4.00

Q.10 क्षेत्रफल की दृष्टि से राजस्थान का सबसे छोटा संभाग कौनसा है ?

- Ans 1. अजमेर
 2. चित्तौड़गढ़
 3. भरतपुर
 4. उदयपुर

Question ID : 61724910860
 Status : Answered
 Chosen Option : 3
 Marks : 4.00

Q.11 कर्नल जेम्स टॉड ने निम्नलिखित में से किस युद्ध को 'मेवाड़ का मेराथन' कहकर पुकारा है ?

- Ans 1. दिवेर का युद्ध
 2. सारंगपुर का युद्ध
 3. खानवा का युद्ध
 4. हल्दीघाटी का युद्ध

Question ID : 61724910537
 Status : Answered
 Chosen Option : 1
 Marks : 4.00

Q.12 राजस्थान की प्रथम महिला राज्यपाल कौन थी ?

- Ans 1. श्रीमती गायत्री देवी
 2. श्रीमती सुमित्रा सिंह
 3. श्रीमती प्रतिभा पाटिल
 4. श्रीमती गिरिजा व्यास

Question ID : 61724910857
 Status : Answered
 Chosen Option : 3
 Marks : 4.00

Q.13 मलीर प्रिंट का संबंध है ?

- Ans 1. उदयपुर से
 2. बाडमेर से

Question ID : 61724910111
 Status : Answered
 Chosen Option : 2
 Marks : 4.00

3. सांगानेर से
 4. बूंदी से

Q.14 राजस्थान की कुबड़पट्टी कहाँ है ?

- Ans 1. बांसवाड़ा - डूंगरपुर
 2. कोटा - बून्दी
 3. भरतपुर - अलवर
 4. नागौर - अजमेर

Question ID : 61724911173

Status : Answered

Chosen Option : 4

Marks : 4.00

Q.15 पीथमपुरी झील राजस्थान के किस जिले में स्थित है ?

- Ans 1. सीकर
 2. भीलवाड़ा
 3. जालौर
 4. चित्तौड़गढ़

Question ID : 61724911174

Status : Answered

Chosen Option : 1

Marks : 4.00

Q.16 अधिकांश सांस्कृतिक गतिविधियाँ जयपुर में सम्पन्न होती हैं ?

- Ans 1. नाहरगढ़ किले में
 2. सेन्ट्रल पार्क में
 3. सिटी पेलिस में
 4. जवाहर कला केन्द्र में

Question ID : 61724910534

Status : Answered

Chosen Option : 4

Marks : 4.00

Q.17 राजस्थान राज्य की सर्वोच्च न्यायिक संस्था कौनसी है ?

- Ans 1. सर्वोच्च न्यायालय
 2. राज्यपाल
 3. उच्च न्यायालय
 4. राजस्व मण्डल

Question ID : 61724910858

Status : Answered

Chosen Option : 3

Marks : 4.00

Q.18 कोटा की साक्षरता दर कितनी है ?

- Ans 1. 81%
 2. 68%
 3. 77%
 4. 85%

Question ID : 61724911594

Status : Answered

Chosen Option : 3

Marks : 4.00

Q.19 भेड़ बकरी व ऊँटों का पालन-पोषण तथा व्यवसाय करने वाली एक जाति विशेष है ?

- Ans 1. रैडौ
 2. रैंकणौ
 3. रैहळ
 4. रैबारी

Question ID : 61724910536

Status : Answered

Chosen Option : 4

Marks : 4.00

Q.20 मुख्यमंत्री राजश्री योजना के अंतर्गत बालिका जन्म पर कितनी राशि दी जाने का प्रावधान है ?

- Ans 1. 4000
 2. 3500
 3. 2500
 4. 3000

Question ID : 61724911353

Status : Answered

Chosen Option : 3

Marks : 4.00

Q.21 बीसलपुर परियोजना का संबंध किस नदी से है ?

- Ans
- 1. चम्बल
 - 2. जाखम
 - 3. व्यास
 - 4. बनास

Question ID : 61724911172

Status : Answered

Chosen Option : 4

Marks : 4.00

Q.22 रामदेवरा का प्राचीन नाम क्या था ?

- Ans
- 1. मरूभाषा
 - 2. अल्पस
 - 3. रूपेचा
 - 4. सल्यपुर

Question ID : 61724910535

Status : Answered

Chosen Option : 3

Marks : 4.00

Q.23 3 मई 2016 को मुख्यमंत्री वसुंधरा राजे ने प्रदेश का तीसरा रोप वे का शुभारम्भ कहाँ किया ?

- Ans
- 1. जालौर
 - 2. जयपुर
 - 3. पुष्कर
 - 4. उदयपुर

Question ID : 61724911352

Status : Answered

Chosen Option : 2

Marks : -1.00

Q.24 राज्य में सॉफ्टवेयर - टेक्नोलोजी पार्क कहाँ स्थापित होगा ?

- Ans
- 1. श्रीगंगानगर
 - 2. निर्यात - प्रोत्साहन औद्योगिक पार्क, जयपुर में
 - 3. जोधपुर में
 - 4. कोटा में

Question ID : 61724910855

Status : Answered

Chosen Option : 2

Marks : 4.00

Q.25 गालियाकोट में किस सम्प्रदाय का उर्स आयोजित होता है ?

- Ans
- 1. सूहारवादी सम्प्रदाय
 - 2. दाउदी बोहरा सम्प्रदाय
 - 3. नक्सलवादी सम्प्रदाय
 - 4. चिश्ती सम्प्रदाय

Question ID : 61724911592

Status : Answered

Chosen Option : 2

Marks : 4.00

Q.26 दूध बावड़ी स्थित है ?

- Ans
- 1. आमेर, जयपुर
 - 2. सिरोही
 - 3. बूंदी
 - 4. झालावाड़

Question ID : 61724910110

Status : Answered

Chosen Option : 2

Marks : 4.00

Q.27 सीकर किस संभाग के अन्तर्गत आता है ?

- Ans
- 1. जयपुर
 - 2. अजमेर
 - 3. बीकानेर
 - 4. कोटा

Question ID : 61724911593

Status : Answered

Chosen Option : 1

Marks : 4.00

Q.28 राजस्थान का वह लोक - देवता, जिसने महमूद गजनवी से युद्ध किया ?

- Ans
- 1. पाबूजी

Question ID : 61724910294

Status : Answered

2. संत पीपाजी
3. गोगाजी
4. जसनाथ जी

Chosen Option : 3
Marks : 4.00

Q.29 आंजणी किसे कहते हैं ?

- Ans 1. पशुओं के शरीर पर दागा जाने वाला चिन्ह
2. एक राजस्थानी लोकगीत
3. आंख की पलकों पर होने वाली फुंसी
4. कोठी की मोखी ढक्कन

Question ID : 61724911463
Status : Not Answered
Chosen Option : --
Marks : 0.00

Q.30 राजस्थान में तीर्थयात्रा पर जाते समय पूजा की जाती है ?

- Ans 1. दुर्गा माता की
2. देवरा की
3. पथवारी देवी की
4. सांझी की

Question ID : 61724910109
Status : Answered
Chosen Option : 3
Marks : 4.00

