

**OSSC
Excise SI**

**Previous Year Paper
(Mains)
18 Oct, 2024 Shift 2**



Test Prime

ALL EXAMS,
ONE SUBSCRIPTION



40,000+
Mock Tests



Personalised
Report Card



Unlimited
Re-Attempt



500+
Exam Covered



Previous Year
Papers



500%
Refund



DOWNLOAD NOW

Odisha Staff Selection Commission (OSSC)
Govt. of Odisha

Tentative Score

ne	
me	
	18/10/2024
	2:00 PM - 5:00 PM
	SI Excise Mains Examination
d	

English

Most appropriate ANTONYM of the word highlighted in bold in the given

Minister's actions were deemed appropriate given the sensitivity of the issue.

Considered

Decried

Regarded

Revered

Question Type : **MCQ**
 Question ID : **630680805417**
 Option 1 ID : **6306803155354**
 Option 2 ID : **6306803155353**
 Option 3 ID : **6306803155356**
 Option 4 ID : **6306803155355**
 Status : **Answered**
 Chosen Option : **C**
 Marks : **1**

Option that expresses the given sentence in reported speech.

"He said, 'I finished my homework,' he said.

He said that he finishes his homework.

He said that he had finished his homework.

He said that he has finished his homework.

He said that he finished his homework.

Question Type : **MCQ**
 Question ID : **630680528638**
 Option 1 ID : **6306802066563**
 Option 2 ID : **6306802066562**

Most appropriate option to fill in the blank.

The pond featured an elegant _____ pond, with its curved shape reflecting the colors of the surrounding flowers.

A. Circular

B. Oval

C. Elliptical

D. Curved

Question Type : MCQ

Question ID : 6306801047083

Option 1 ID : 6306804110449

Option 2 ID : 6306804110446

Option 3 ID : 6306804110448

Option 4 ID : 6306804110447

Status : Answered

Chosen Option : A

Marks : -0.25

Which word is INCORRECTLY spelt word.

A. Sonnet

B. Strophe

C. Beneficiary

D. Priorete

Question Type : MCQ

Question ID : 630680721673

Option 1 ID : 6306802828013

Option 2 ID : 6306802828011

Option 3 ID : 6306802828010

Option 4 ID : 6306802828012

Status : Answered

Chosen Option : B

Marks : -0.25

Choose the most appropriate ANTONYM of the underlined word.

1. The movie was amusing.

A. Funny

B. Pleasant

C. Boring

D. Entertaining

Question Type : MCQ

Question ID : 630680685667

Option 1 ID : 6306802685211

Option 2 ID : 6306802685209

Option 3 ID : 6306802685210

Most appropriate option to substitute the underlined segment in the given

Dr. Smith's conclusions were based on qualified certainty, having meticulously
checked every detail of the experiment.

(A) based on resolute certainty

(B) based on certain certainty

(C) based on valid certainty

(D) based on absolute certainty

Question Type : MCQ

Question ID : 6306801057262

Option 1 ID : 6306804151466

Option 2 ID : 6306804151463

Option 3 ID : 6306804151464

Option 4 ID : 6306804151465

Status : Answered

Chosen Option : C

Marks : -0.25

Most appropriate idiom that can substitute the underlined segment in the
sentence. If there is no need to substitute it, select 'No substitution required'.
The company could not be signed as the company had too many political axes to use.

(A) to mind

(B) to grind

(C) to climb

(D) substitution required

Question Type : MCQ

Question ID : 630680790176

Option 1 ID : 6306803096484

Option 2 ID : 6306803096485

Option 3 ID : 6306803096486

Option 4 ID : 6306803096487

Status : Answered

Chosen Option : C

Marks : -0.25

Most appropriate meaning of the given proverb.

(A) the mother of invention.

(B) mothers are creative.

(C) inventions happen by accident.

(D) trial and hardship drive creativity and problem-solving.

(E) chance is more important than need.

Question Type : MCQ

Question ID : 6306801045965

Option 1 ID : 6306804105946

Most appropriate proverb that refers to the underlined segment in the given

employed for almost a year, I took up an underpaid job as I was in no position to demand a higher salary to work on.

Options can't be choosers

A heated pot never boils

Beauty is in the eye of the beholder

It is never late than never

Question Type : MCQ

Question ID : 630680764860

Option 1 ID : 6306802997952

Option 2 ID : 6306802997951

Option 3 ID : 6306802997954

Option 4 ID : 6306802997953

Status : Answered

Chosen Option : D

Marks : -0.25

Most appropriate ANTONYM of the given word.

Dislike

Contrary

Opposite

Contrast

Question Type : MCQ

Question ID : 630680753618

Option 1 ID : 6306802953665

Option 2 ID : 6306802953668

Option 3 ID : 6306802953666

Option 4 ID : 6306802953667

Status : Answered

Chosen Option : C

Marks : 1

most appropriate option to fill in the blank. If no article is needed, select 'No article'.

He went to _____ hospital to visit his close friend who was recovering from abdominal surgery.

Article required

Question Type : MCQ
Question ID : 6306801042646
Option 1 ID : 6306804092777
Option 2 ID : 6306804092778
Option 3 ID : 6306804092779
Option 4 ID : 6306804092780
Status : Answered
Chosen Option : C
Marks : 1

most appropriate option to substitute the underlined word segment in the sentence.

We watched an interested movie that kept us on the edge of our seats until the end.

- A) watched an interspersed movie
- B) watched an interspersing movie
- C) watched an interesting movie
- D) watched an interest movie

Question Type : MCQ
Question ID : 6306801057197
Option 1 ID : 6306804151199
Option 2 ID : 6306804151200
Option 3 ID : 6306804151197
Option 4 ID : 6306804151198
Status : Answered
Chosen Option : C
Marks : 1

option that expresses the given sentence in direct speech.

worked as a waiter before becoming a chef.

aid, I have been working as a waiter before becoming a chef.

aid, I am working as a waiter before becoming a chef.

aid, I worked as a waiter before becoming a chef.

aid, I had been working as a waiter before becoming a chef.

Question Type : MCQ

Question ID : 630680805978

Option 1 ID : 6306803157579

Option 2 ID : 6306803157578

Option 3 ID : 6306803157576

Option 4 ID : 6306803157577

Status : Answered

Chosen Option : C

Marks : 1

most appropriate meaning of the given proverb

ours the bold.

ne comes to those who wait.

ness is not necessary for success.

g risks and being brave often leads to success.

bold people are lucky.

Question Type : MCQ

Question ID : 6306801046010

Option 1 ID : 6306804106126

Option 2 ID : 6306804106127

Option 3 ID : 6306804106124

Option 4 ID : 6306804106125

Status : Answered

Chosen Option : C

Marks : 1

most appropriate option to substitute the underlined word segment in the
sentence.

many popular touristical attractions, which draw visitors from around the
city, experience its rich history, vibrant culture and stunning landscapes.

lar touring attractions

lar tourism attractions

ilar tourist attractions

lar touristic attractions

Question Type : MCQ

Question ID : 6306801057221

Option 1 ID : 6306804151298

Most appropriate homonym to fill in the blank.

___ this envelope to the address provided.

Question Type : MCQ

Question ID : 6306801045394

Option 1 ID : 6306804103702

Option 2 ID : 6306804103700

Option 3 ID : 6306804103703

Option 4 ID : 6306804103701

Status : Answered

Chosen Option : B

Marks : 1

Blank with an appropriate homonym from the given options.

The government is taking strict measures to control the influx of illegal _____.

Immigrants

Emigrants

Expatriates

Alien residents

Question Type : MCQ

Question ID : 63068084469

Option 1 ID : 630680327431

Option 2 ID : 630680327428

Option 3 ID : 630680327430

Option 4 ID : 630680327429

Status : Answered

Chosen Option : D

Marks : 1

Most appropriate ANTONYM of the highlighted word.

Trucks are common carriers of certain classes of brittle goods.

Lightly

Sturdily

Delicately

Delicately

Question Type : MCQ

Question ID : 6306801159908

Option 1 ID : 6306804559112

Option 2 ID : 6306804559114

Option 3 ID : 6306804559111

Option 4 ID : 6306804559113

Most appropriate meaning of the given proverb.
Lighter than the sword.

Iron is made from a superior substance.

Iron can be used to fight battles.

Iron is more effective than military power or violence.

Iron is heavier than the sword.

Question Type : MCQ

Question ID : 630680791399

Option 1 ID : 6306803101310

Option 2 ID : 6306803101311

Option 3 ID : 6306803101308

Option 4 ID : 6306803101309

Status : Answered

Chosen Option : C

Marks : 1

Most appropriate ANTONYM of the given word.

Shed

Peaceful

Irreparable

Useful

Question Type : MCQ

Question ID : 630680766790

Option 1 ID : 6306803005452

Option 2 ID : 6306803005451

Option 3 ID : 6306803005450

Option 4 ID : 6306803005449

Status : Answered

Chosen Option : C

Marks : 1

Most appropriate option to fill in the blanks.
with details is ____ important aspect of the dissertation.

3

in

Question Type : MCQ

Question ID : 63068080501

Option 1 ID : 630680312030

Option 2 ID : 630680312031

Option 3 ID : 630680312032

Option 4 ID : 630680312029

Status : Answered

Correct spelling of the incorrectly spelt word in the given sentence.
Phenomenon of bioluminescence is observed in many marine organisms.

- minesense
- luminescence
- miniscence
- luminescence

Question Type : MCQ
Question ID : 630680721678
Option 1 ID : 6306802828032
Option 2 ID : 6306802828030
Option 3 ID : 6306802828031
Option 4 ID : 6306802828033
Status : Answered
Chosen Option : C
Marks : -0.25

Most appropriate option to fill in the blank.

The ancient manuscript contained _____ symbols and rituals,
shrouded in mystery, that only a few specialised scholars could decipher.

- ancient
- antique
- archaic
- ancient

Question Type : MCQ
Question ID : 6306801056011
Option 1 ID : 6306804146554
Option 2 ID : 6306804146557
Option 3 ID : 6306804146556
Option 4 ID : 6306804146555
Status : Answered
Chosen Option : A
Marks : 1

Choose the option that rectifies the underlined spelling error.

Heavy rainfall during the dry season excerbates the already challenging
conditions for farmers in the region.

- exerbates
- exerbates
- exerbets
- exerbeat

Question Type : MCQ
Question ID : 630680749080
Option 1 ID : 6306802935854

g sentence has been split into four segments. Identify the segment that grammatical error.

loud / to attract / the attention / of the audience.

audience

tention

oughed loud

ract

Question Type : **MCQ**
 Question ID : **630680437895**
 Option 1 ID : **6306801709409**
 Option 2 ID : **6306801709408**
 Option 3 ID : **6306801709406**
 Option 4 ID : **6306801709407**
 Status : **Answered**
 Chosen Option : **C**
 Marks : **1**

ision:

en passage and answer the questions that follow.
 ime do you think I'm going to die?" Schatz asked.

ong will it be before I die?"

ing to die. What's the matter with you?"

n. I heard him say a hundred and two."

: die with a fever of one hundred and two. That's a silly way to talk."

do. At school in France the boys told me you can't live with forty-four degrees.
 idred and two."

waiting to die all day, ever since nine in the morning.

hatz," I said. "Poor old Schatz. It's like miles and kilometers. You aren't going to
 different thermometer. On that thermometer thirty-seven is normal. On this kind
 ht."

:?"

I said. "It's like miles and kilometers. You know, like how many kilometers we
 ve do seventy in the car?"

1 No : 26

ren options, identify the meaning of the word gaze.

g

le

ie

Question Type : **MCQ**
 Question ID : **630680650724**
 Option 1 ID : **6306802547872**
 Option 2 ID : **6306802547870**
 Option 3 ID : **6306802547871**
 Option 4 ID : **6306802547873**
 Status : **Answered**
 Chosen Option : **D**
 Marks : **1**

ision:

en passage and answer the questions that follow.
ime do you think I'm going to die?" Schatz asked.

ong will it be before I die?"

ing to die. What's the matter with you?"

n. I heard him say a hundred and two."

: die with a fever of one hundred and two. That's a silly way to talk."

do. At school in France the boys told me you can't live with forty-four degrees.

idred and two."

waiting to die all day, ever since nine in the morning.

hatz," I said. "Poor old Schatz. It's like miles and kilometers. You aren't going to

different thermometer. On that thermometer thirty-seven is normal. On this kind

ht."

:"?"

I said. "It's like miles and kilometers. You know, like how many kilometers we

ve do seventy in the car?"

.

1 No : 27

main theme of the passage? Select your answer from the options given.

ittle boy Schatz remembers his school.

tz has heard the doctor say that he has fever and is going to die.

ng to go for long drives in a car.

ommunication and misunderstanding the reading of the thermometer as well as
roism shown by the boy.

Question Type : MCQ

Question ID : 630680650721

Option 1 ID : 6306802547858

Option 2 ID : 6306802547859

Option 3 ID : 6306802547861

Option 4 ID : 6306802547860

Status : Answered

Chosen Option : B

Marks : -0.25

ision:

en passage and answer the questions that follow.
ime do you think I'm going to die?" Schatz asked.

ong will it be before I die?"

ing to die. What's the matter with you?"

n. I heard him say a hundred and two."

: die with a fever of one hundred and two. That's a silly way to talk."

do. At school in France the boys told me you can't live with forty-four degrees.

idred and two."

waiting to die all day, ever since nine in the morning.

hatz," I said. "Poor old Schatz. It's like miles and kilometers. You aren't going to

different thermometer. On that thermometer thirty-seven is normal. On this kind

ht."

;"

I said. "It's like miles and kilometers. You know, like how many kilometers we

ve do seventy in the car?"

.

1 No : 28

Schatz waiting for the whole day? Select your answer from the given

e

ive a hearty meal

ke a car ride

st back to his school

Question Type : MCQ

Question ID : 630680650722

Option 1 ID : 6306802547864

Option 2 ID : 6306802547863

Option 3 ID : 6306802547865

Option 4 ID : 6306802547862

Status : Answered

Chosen Option : A

Marks : 1

ision:

en passage and answer the questions that follow.
ime do you think I'm going to die?" Schatz asked.

ong will it be before I die?"

ing to die. What's the matter with you?"

n. I heard him say a hundred and two."

: die with a fever of one hundred and two. That's a silly way to talk."

do. At school in France the boys told me you can't live with forty-four degrees.

idred and two."

waiting to die all day, ever since nine in the morning.

hatz," I said. "Poor old Schatz. It's like miles and kilometers. You aren't going to

different thermometer. On that thermometer thirty-seven is normal. On this kind

ht."

?"

I said. "It's like miles and kilometers. You know, like how many kilometers we

ve do seventy in the car?"

1 No : 29

most suitable title for the passage. Select your answer from the given

and Kilometers

ool in France

nty in the Car

cence of a Child

Question Type : MCQ

Question ID : 630680650720

Option 1 ID : 6306802547857

Option 2 ID : 6306802547856

Option 3 ID : 6306802547855

Option 4 ID : 6306802547854

Status : Answered

Chosen Option : D

Marks : 1

ision:

en passage and answer the questions that follow.
ime do you think I'm going to die?" Schatz asked.

ong will it be before I die?"

ing to die. What's the matter with you?"

n. I heard him say a hundred and two."

: die with a fever of one hundred and two. That's a silly way to talk."

do. At school in France the boys told me you can't live with forty-four degrees.

undred and two."

waiting to die all day, ever since nine in the morning.

hatz," I said. "Poor old Schatz. It's like miles and kilometers. You aren't going to

different thermometer. On that thermometer thirty-seven is normal. On this kind

ht."

?"

I said. "It's like miles and kilometers. You know, like how many kilometers we

ve do seventy in the car?"

.

1 No : 30

iven passage connected to real life? Select your answer from the options

in fear and anxiety and wait to die if you have slight fever.

should not jump to conclusions. It is better to verify what we hear and find out the

ould always travel in cars.

oling must be done in France.

Question Type : MCQ

Question ID : 630680650723

Option 1 ID : 6306802547869

Option 2 ID : 6306802547868

Option 3 ID : 6306802547867

Option 4 ID : 6306802547866

Status : Answered

Chosen Option : B

Marks : 1

ision:

en passage and answer the questions that follow.

think back to the last time you scrolled through social media. Maybe it was this night or a few minutes ago. What do you recall? One thing you are bound to the continuous stream of influencers showing off their latest content. These os of influencers discussing the latest skin-care products, the trendiest places to st shopping haul or the PR packages they received from various brands.

al media influencing is about getting consumers to buy more products. However, itrating group of influencers who use their online presence to advocate for v people buy and consume.

ncers', as we call them, use social media to campaign for leading a more ealthy and ethical lifestyle. Unlike other lifestyle influencers, ethical influencers ue challenges that make it harder for them to build their online profiles.

ve to provide a closeup of their everyday life to demonstrate the new lifestyle to e. This is different from other influencers who might avoid sharing their personal out a well-curated public persona that can greatly contrast their private life, which es put them at greater risk of scrutiny.

al influencers aim to reach out to a diverse audience, some of whom are not terested in the new lifestyle. Because ethical influencers are fundamentally rote certain lifestyle choices and habits, they need to connect with a wide range onvince them to alter their beliefs and behaviour.

1 No : 31

Following options best summarises the passage?

mines the rise of ethical influencers and their advocacy for sustainable living.

usses the challenges faced by ethical influencers in demonstrating their diverse audience and promoting sustainable and ethical choices.

vides a comprehensive analysis of social media platforms' influence on havior, exploring the evolution of influencer marketing and its impact on society

assage highlights the unique strategies employed by lifestyle influencers to onal privacy while engaging with their audience, contrasting them with other

Question Type : MCQ

Question ID : 630680798853

Option 1 ID : 6306803130229

Option 2 ID : 6306803130227

Option 3 ID : 6306803130226

Option 4 ID : 6306803130228

Status : Answered

Chosen Option : C

Marks : -0.25

ision:

en passage and answer the questions that follow.

think back to the last time you scrolled through social media. Maybe it was this night or a few minutes ago. What do you recall? One thing you are bound to the continuous stream of influencers showing off their latest content. These os of influencers discussing the latest skin-care products, the trendiest places to st shopping haul or the PR packages they received from various brands.

al media influencing is about getting consumers to buy more products. However, itrating group of influencers who use their online presence to advocate for v people buy and consume.

ncers', as we call them, use social media to campaign for leading a more ealthy and ethical lifestyle. Unlike other lifestyle influencers, ethical influencers ue challenges that make it harder for them to build their online profiles.

ve to provide a closeup of their everyday life to demonstrate the new lifestyle to e. This is different from other influencers who might avoid sharing their personal out a well-curated public persona that can greatly contrast their private life, which es put them at greater risk of scrutiny.

al influencers aim to reach out to a diverse audience, some of whom are not terested in the new lifestyle. Because ethical influencers are fundamentally rote certain lifestyle choices and habits, they need to connect with a wide range onvince them to alter their beliefs and behaviour.

1 No : 32

he word 'advocate' mean in the context of the passage?

gue against something

more or dismiss something

iticise or condemn something

omote or support something

Question Type : MCQ

Question ID : 630680798854

Option 1 ID : 6306803130230

Option 2 ID : 6306803130232

Option 3 ID : 6306803130233

Option 4 ID : 6306803130231

Status : Answered

Chosen Option : D

Marks : 1

ision:

en passage and answer the questions that follow.

think back to the last time you scrolled through social media. Maybe it was this night or a few minutes ago. What do you recall? One thing you are bound to the continuous stream of influencers showing off their latest content. These os of influencers discussing the latest skin-care products, the trendiest places to st shopping haul or the PR packages they received from various brands.

al media influencing is about getting consumers to buy more products. However, itrating group of influencers who use their online presence to advocate for v people buy and consume.

ncers', as we call them, use social media to campaign for leading a more ealthy and ethical lifestyle. Unlike other lifestyle influencers, ethical influencers ue challenges that make it harder for them to build their online profiles.

ve to provide a closeup of their everyday life to demonstrate the new lifestyle to e. This is different from other influencers who might avoid sharing their personal out a well-curated public persona that can greatly contrast their private life, which es put them at greater risk of scrutiny.

al influencers aim to reach out to a diverse audience, some of whom are not iterested in the new lifestyle. Because ethical influencers are fundamentally rote certain lifestyle choices and habits, they need to connect with a wide range onvince them to alter their beliefs and behaviour.

1 No : 33

Following is a challenge faced by ethical influencers as mentioned in the

avoid sharing personal details about their lives.

aim to reach out to a narrow, specific audience.

primarily focus on promoting consumer products.

must demonstrate their everyday life to their audience.

Question Type : MCQ

Question ID : 630680798850

Option 1 ID : 6306803130214

Option 2 ID : 6306803130217

Option 3 ID : 6306803130215

Option 4 ID : 6306803130216

Status : Answered

Chosen Option : B

Marks : -0.25

ision:

an passage and answer the questions that follow.

think back to the last time you scrolled through social media. Maybe it was this night or a few minutes ago. What do you recall? One thing you are bound to the continuous stream of influencers showing off their latest content. These os of influencers discussing the latest skin-care products, the trendiest places to st shopping haul or the PR packages they received from various brands.

al media influencing is about getting consumers to buy more products. However, itrating group of influencers who use their online presence to advocate for v people buy and consume.

ncers', as we call them, use social media to campaign for leading a more ealthy and ethical lifestyle. Unlike other lifestyle influencers, ethical influencers ue challenges that make it harder for them to build their online profiles.

ve to provide a closeup of their everyday life to demonstrate the new lifestyle to e. This is different from other influencers who might avoid sharing their personal out a well-curated public persona that can greatly contrast their private life, which es put them at greater risk of scrutiny.

al influencers aim to reach out to a diverse audience, some of whom are not terested in the new lifestyle. Because ethical influencers are fundamentally rote certain lifestyle choices and habits, they need to connect with a wide range onvince them to alter their beliefs and behaviour.

1 No : 34

quishes ethical influencers from other lifestyle influencers?

avoid promoting any products or brands.

aim to connect with a diverse audience.

focus solely on promoting consumer products.

curate a well-defined public persona.

Question Type : MCQ

Question ID : 630680798851

Option 1 ID : 6306803130218

Option 2 ID : 6306803130220

Option 3 ID : 6306803130219

Option 4 ID : 6306803130221

Status : Answered

Chosen Option : C

Marks : -0.25

ision:

en passage and answer the questions that follow.

think back to the last time you scrolled through social media. Maybe it was this night or a few minutes ago. What do you recall? One thing you are bound to the continuous stream of influencers showing off their latest content. These os of influencers discussing the latest skin-care products, the trendiest places to st shopping haul or the PR packages they received from various brands.

al media influencing is about getting consumers to buy more products. However, itrating group of influencers who use their online presence to advocate for v people buy and consume.

ncers', as we call them, use social media to campaign for leading a more ealthy and ethical lifestyle. Unlike other lifestyle influencers, ethical influencers ue challenges that make it harder for them to build their online profiles.

ve to provide a closeup of their everyday life to demonstrate the new lifestyle to e. This is different from other influencers who might avoid sharing their personal out a well-curated public persona that can greatly contrast their private life, which es put them at greater risk of scrutiny.

al influencers aim to reach out to a diverse audience, some of whom are not terested in the new lifestyle. Because ethical influencers are fundamentally rote certain lifestyle choices and habits, they need to connect with a wide range :onvince them to alter their beliefs and behaviour.

1 No : 35

inferred about the audience of ethical influencers?

- are mainly interested in superficial content.
- may not initially be interested in the lifestyle promoted by ethical influencers.
- are primarily interested in personal privacy.
- are more likely to be influenced by consumer products.

Question Type : MCQ

Question ID : 630680798852

Option 1 ID : 6306803130225

Option 2 ID : 6306803130224

Option 3 ID : 6306803130222

Option 4 ID : 6306803130223

Status : Answered

Chosen Option : C

Marks : -0.25

juage

ପିଲାମାନେ ପଢ଼ିଆରେ ଖେଳୁଛନ୍ତି । - ବାକ୍ୟଟିକୁ ସଂଶୋଧନ କରି ଲେଖା

ତ୍ୟକ ପିଲା ପଢ଼ିଆରେ ଖେଳୁଛନ୍ତି ।

ତ୍ୟକ ପଢ଼ିଆରେ ଖେଳୁଛନ୍ତି ।

ତ୍ୟକ ପିଲାଗୁଡ଼ିକ ପଢ଼ିଆରେ ଖେଳୁଛନ୍ତି ।

ଘଟି ପଢ଼ିଆରେ ଖେଳୁଛନ୍ତି ।

Question Type : **MCQ**

Question ID : **6306801126949**

Option 1 ID : **6306804427993**

Option 2 ID : **6306804427991**

Option 3 ID : **6306804427990**

Option 4 ID : **6306804427992**

Status : **Answered**

Chosen Option : **A**

Marks : **1**

ବିପରୀତ ଶବ୍ଦ କ'ଣ?

ଲୀ

ଫାଟି

ଝି

ସାପିତ

Question Type : **MCQ**

Question ID : **6306801154540**

Option 1 ID : **6306804538084**

Option 2 ID : **6306804538085**

Option 3 ID : **6306804538083**

Option 4 ID : **6306804538086**

Status : **Answered**

Chosen Option : **D**

Marks : **1**

ଈରାଜୀ ବାକ୍ୟଟିର ସର୍ବୋକ୍ଷ୍ଣ ଓଡ଼ିଆ ଅନୁବାଦଟି ଚୟନ କର ।

ter will accompany me to the hospital tomorrow.

ସହକାଳି ମୋ ଭଉଣୀ ମୋ ସହିତ ଡାକ୍ତରଖାନାକୁ ଯିବେ ।

ସହକାଳି ମୋ ଭଉଣୀ ମୋତେ ଡାକ୍ତରଖାନାକୁ ନେଇଯିବେ ।

ସହକାଳି ମୋ ଭଉଣୀ ମୋତେ ଡାକ୍ତରଖାନାକୁ ଯିବେ ।

ସହକାଳି ମୋ ଭଉଣୀ ମୋତେ ଡାକ୍ତରଖାନାକୁ ନେବେ ।

Question Type : MCQ

Question ID : 6306801104565

Option 1 ID : 6306804338791

Option 2 ID : 6306804338792

Option 3 ID : 6306804338789

Option 4 ID : 6306804338790

Status : Answered

Chosen Option : B

Marks : -0.25

ଈରାଜୀ ବାକ୍ୟଟିର ସର୍ବୋକ୍ଷ୍ଣ ଓଡ଼ିଆ ଅନୁବାଦଟି ଚୟନ କର ।

knowledge is a dangerous thing.

ମାନସ ଜ୍ଞାନ ବିପଦପୂର୍ଣ୍ଣ ବିଷୟ ।

ବିଦ୍ୟା ଭୟଙ୍କରୀ ।

ଈ ଜ୍ଞାନ ହେଉଛି ଗୋଟିଏ ଭୟଙ୍କର ବିଷୟ ।

ରକୁ ଗୃହପାଳିତ ପଶୁ କୁହାଯାଏ ।

Question Type : MCQ

Question ID : 6306801135296

Option 1 ID : 6306804461354

Option 2 ID : 6306804461356

Option 3 ID : 6306804461355

Option 4 ID : 6306804461357

Status : Answered

Chosen Option : B

Marks : 1

ଓଡ଼ିଆ ମହାଭାରତ ରଚନା କରିଥିଲେ' - ଏହି କର୍ତ୍ତୃବାଚ୍ୟଟିକୁ କର୍ମବାଚ୍ୟକରେ ପରିଣତ କର ।

ଡିକ ମଧ୍ୟରୁ କେଉଁଟି ଠିକ୍

ଆ ମହାଭାରତ ସାରଳା ଦାସଙ୍କ ଦ୍ୱାରା ରଚିତ ହୋଇଥିଲା

ଆ ମହାଭାରତକୁ ସାରଳା ଦାସ ରଚନା କରିଥିବେ

ଆ ମହାଭାରତକୁ ସାରଳା ଦାସ ରଚନା କରିଛନ୍ତି

Question Type : MCQ

Question ID : 6306801155260

Option 1 ID : 6306804540883

Option 2 ID : 6306804540881

Option 3 ID : 6306804540882

Option 4 ID : 6306804540880

Status : Answered

Chosen Option : D

Marks : -0.25

ଚରଣ କରେ ଯେ-

ଓକ

ପାଞ୍ଚ

ପା

ପାତାଳ

Question Type : MCQ

Question ID : 6306801124950

Option 1 ID : 6306804420018

Option 2 ID : 6306804420017

Option 3 ID : 6306804420015

Option 4 ID : 6306804420016

Status : Answered

Chosen Option : C

Marks : 1

ପ୍ରତ୍ୟକ୍ଷୋକ୍ତିର ଠିକ ପରୋକ୍ଷୋକ୍ତିଟି ବାଛି ।
ପିଅନକୁ କହିଲେ, “ବଜାରରୁ ଦୁଇ କପ ଚା’ ଆଣ ।”

ଦୁଇ କପ ଚା’ ଆଣିବାକୁ ହେବ ବୋଲି ବଡ଼ଦାକୁ ପିଅନକୁ ଆଦେଶ ଦେଲେ ।
ମାରରୁ ଦୁଇ କପ ଚା’ ଆଣ ବୋଲି ବଡ଼ଦାକୁ ପିଅନକୁ କହିଦେଲେ ।

ଦୁଇ କପ ଚା’ ଆଣି ଆସିବାକୁ ବଡ଼ଦାକୁ ପିଅନକୁ ଆଦେଶ ଦେଲେ ।
ମାରରୁ ଦୁଇ କପ ଚା’ ଆଣିବାକୁ ବଡ଼ଦାକୁ ପିଅନକୁ ଆଦେଶ ଦେଲେ ।

Question Type : **MCQ**

Question ID : **6306801101990**

Option 1 ID : **6306804329199**

Option 2 ID : **6306804329198**

Option 3 ID : **6306804329200**

Option 4 ID : **6306804329197**

Status : **Answered**

Chosen Option : **D**

Marks : **1**

ମାତା ବାବ୍ୟଟିର ସର୍ବୋତ୍କୃଷ୍ଟ ଓଡ଼ିଆ ଅନୁବାଦଟି ଚୟନ କର ।
nt system of education is not in keeping with our culture and tradition.

। ସଂସ୍କୃତି ଓ ପରମ୍ପରାକୁ ନେଇ ବର୍ତ୍ତମାନର ଶିକ୍ଷାପଦ୍ଧତି ହେବା ଉଚିତ ।

ର୍ତ୍ତମାନର ଶିକ୍ଷାପଦ୍ଧତି ଆମ ସଂସ୍କୃତି ଓ ପରମ୍ପରାର ଅନୁରୂପ ନୁହଁ ।

ମାନର ଶିକ୍ଷାପଦ୍ଧତି ଆମ ସଂସ୍କୃତି ଓ ପରମ୍ପରାର ଅନୁରୂପ ହେବା ଉଚିତ ।

ମାନର ଶିକ୍ଷାପଦ୍ଧତି ଆମ ସଂସ୍କୃତି ଓ ପରମ୍ପରା ଭଳି ହେଲେ ଭଲ ନୁହଁ ।

Question Type : **MCQ**

Question ID : **6306801162594**

Option 1 ID : **6306804569727**

Option 2 ID : **6306804569724**

Option 3 ID : **6306804569725**

Option 4 ID : **6306804569726**

Status : **Answered**

Chosen Option : **B**

Marks : **1**

ପଦଗୁଡ଼ିକୁ ନେଇ ଉପଯୁକ୍ତ ବାକ୍ୟ ନିର୍ମାଣ କର ।
 ୧ ଅଚକ୍ତି ପ୍ରଚଣ୍ଡ ଅଧିକାରୀ ।
 ୨ ସେ ଅଧିକାରୀ ଶକ୍ତିର ଅଚକ୍ତି ।
 ୩ ପ୍ରଚଣ୍ଡ ଶକ୍ତିର ଅଧିକାରୀ ଅଚକ୍ତି ।
 ୪ ଅଧିକାରୀ ପ୍ରଚଣ୍ଡ ଶକ୍ତିର ସେ ।
 ୫ ଅଚକ୍ତି ଶକ୍ତିର ଅଧିକାରୀ ପ୍ରଚଣ୍ଡ ।

Question Type : **MCQ**

Question ID : **6306801124941**

Option 1 ID : **6306804419981**

Option 2 ID : **6306804419982**

Option 3 ID : **6306804419979**

Option 4 ID : **6306804419980**

Status : **Answered**

Chosen Option : **B**

Marks : **1**

୧ ଲଂଘନୀ ବାକ୍ୟଟିର ସର୍ବୋକୃଷ୍ଣ ଓଡ଼ିଆ ଅନୁବାଦଟି ଚୟନ କର ।
 ୨ It is like tasting blood.
 ୩ ପରୀକ୍ଷା କଲା ଭଳି ବିଜୟ ହୁଏ ।
 ୪ ଯେ ହେଉଛି ରକ୍ତ ପରୀକ୍ଷା ଭଳି ।
 ୫ ପାତକୁ ବିଜୟମାନେ ପସନ୍ଦ କରନ୍ତି ।
 ୬ ଯେ ସ୍ଵାଦ ରକ୍ତର ସ୍ଵାଦ ଭଳି ।

Question Type : **MCQ**

Question ID : **6306801144690**

Option 1 ID : **6306804498932**

Option 2 ID : **6306804498930**

Option 3 ID : **6306804498933**

Option 4 ID : **6306804498931**

Status : **Answered**

Chosen Option : **B**

Marks : **-0.25**

କଂରାଜୀ ବାକ୍ୟଟିର ସର୍ବୋକୃଷ୍ଣ ଓଡ଼ିଆ ଅନୁବାଦଟି ଚୟନ କର ।
Workers of that company are very lazy.

ହି କମ୍ପାନୀର କର୍ମଚାରୀମାନେ ଅଳସୁଆ ।

ହି କମ୍ପାନୀର କର୍ମଚାରୀମାନେ ଖୁବ୍ ଅଳସୁଆ ।

ହି କମ୍ପାନୀର କର୍ମଚାରୀମାନେ ଖୁବ୍ ଅଳସୁଆ ।

ହି କମ୍ପାନୀର କର୍ମଚାରୀମାନେ ଅଳ୍ପ ଅଳସୁଆ ।

Question Type : MCQ

Question ID : 6306801148197

Option 1 ID : 6306804512887

Option 2 ID : 6306804512886

Option 3 ID : 6306804512889

Option 4 ID : 6306804512888

Status : Answered

Chosen Option : B

Marks : 1

କଂରାଜୀ ବାକ୍ୟଟିର ସର୍ବୋକୃଷ୍ଣ ଓଡ଼ିଆ ଅନୁବାଦଟି ଚୟନ କର ।
Perseverance will ensure your success

ବିସ୍ତାୟ ତୁମ ସଫଳତାକୁ ନିଶ୍ଚିତ କରିପାରିଲା ।

ବିସ୍ତାୟ ତୁମ ସଫଳତାକୁ ନିଶ୍ଚିତ କରେ ।

ବିସ୍ତାୟ ତୁମ ସଫଳତାକୁ ନିଶ୍ଚିତ କରିପାରେ ।

ସବିସ୍ତାୟ ତୁମ ସଫଳତାକୁ ନିଶ୍ଚିତ କରିଦେବ ।

Question Type : MCQ

Question ID : 6306801157940

Option 1 ID : 6306804550898

Option 2 ID : 6306804550896

Option 3 ID : 6306804550899

Option 4 ID : 6306804550897

Status : Answered

Chosen Option : B

Marks : -0.25

ସାତରେ ଶାଳଗ୍ରାମ" ରୁଦ୍ଧର ଅର୍ଥ କ'ଣ?

।ମର୍ଥ ବ୍ୟକ୍ତି ହାତରେ ଦାୟିତ୍ୱ ଅର୍ପଣ କରିବା

। ଲୋକଙ୍କୁ ପୂଜା କରିବା

କଡ଼ ହାତରେ ପଥର ଧରାଇବା

କଡ଼କୁ ପୂଜା କରିବା

Question Type : **MCQ**

Question ID : **6306801124936**

Option 1 ID : **6306804419961**

Option 2 ID : **6306804419960**

Option 3 ID : **6306804419959**

Option 4 ID : **6306804419962**

Status : **Answered**

Chosen Option : **A**

Marks : **1**

ବିପରୀତ ଶବ୍ଦ କ'ଣ?

ଗୃତି

।ଷ

ୃଷ

ସ୍ଥାମ

Question Type : **MCQ**

Question ID : **6306801154588**

Option 1 ID : **6306804538277**

Option 2 ID : **6306804538278**

Option 3 ID : **6306804538276**

Option 4 ID : **6306804538279**

Status : **Answered**

Chosen Option : **C**

Marks : **1**

ଶାବ୍ଦମାନଙ୍କରୁ ଶୁଦ୍ଧ ଶବ୍ଦଟି ଚୟନ କର ?

ନୀପୁତ୍ର

ନୀପୁତ୍ର

ନୀପୁତ୍ର

ନୀପୁତ୍ର

Question Type : MCQ

Question ID : 6306801147082

Option 1 ID : 6306804508461

Option 2 ID : 6306804508463

Option 3 ID : 6306804508462

Option 4 ID : 6306804508464

Status : Answered

Chosen Option : A

Marks : 1

ଇଂରାଜୀ ବାକ୍ୟଟିର ସର୍ବୋକୃଷ୍ଟ ଓଡ଼ିଆ ଅନୁବାଦଟି ଚୟନ କର ।
nt four years in the big house.

| ବଡ଼ ଘରେ ଚାରି ବର୍ଷ ବିତାଇଲେ ।

| ଟା ଘରେ ସେ ଚାରି ବର୍ଷ ବିତାଇଲେ ।

| ଜେଲରେ ଚାରି ବର୍ଷ ବିତାଇଲେ ।

| ବଡ଼ ଘରେ ପାଞ୍ଚ ବର୍ଷ ବିତାଇଲେ ।

Question Type : MCQ

Question ID : 6306801104932

Option 1 ID : 6306804340260

Option 2 ID : 6306804340258

Option 3 ID : 6306804340257

Option 4 ID : 6306804340259

Status : Answered

Chosen Option : A

Marks : 1

୧ ଇଂରାଜୀ ବାକ୍ୟଟିର ସର୍ବୋକ୍ଷ୍ମ ଓଡ଼ିଆ ଅନୁବାଦଟି ଚୟନ କର ।

୧) Other sleeps by 10 p.m. daily.

୨) ଭାଇ 10ଟା ରାତି ସୁଦ୍ଧା ଶୋଇପଡ଼େ ପ୍ରତିଦିନ ।

୩) ଦିନ ମୋ ଭାଇ ରାତି 10 ସୁଦ୍ଧା ଶୋଇପଡ଼େ ।

୪) ଦିନ ମୋ ଭାଇ ରାତି 10ଟା ପୂର୍ବ ପର୍ଯ୍ୟନ୍ତ ଶୋଇଥାଏ ।

୫) ଭାଇ ପ୍ରତିଦିନ ରାତି 10ଟା ପର୍ଯ୍ୟନ୍ତ ଶୋଇପଡ଼େ ।

Question Type : MCQ

Question ID : 6306801104784

Option 1 ID : 6306804339666

Option 2 ID : 6306804339667

Option 3 ID : 6306804339668

Option 4 ID : 6306804339665

Status : Answered

Chosen Option : B

Marks : 1

୧ ଇଂରାଜୀ ବାକ୍ୟଟିର ସର୍ବୋକ୍ଷ୍ମ ଓଡ଼ିଆ ଅନୁବାଦଟି ଚୟନ କର ।

୧) between the lines.

୨) ଭାବରେ ପଢ଼ ।

୩) ଧାଡ଼ିରେ ପଢ଼ ।

୪) ମଝିରେ ପଢ଼ ।

୫) ଚନ୍ଦ୍ର କରି ପଢ଼ ।

Question Type : MCQ

Question ID : 6306801148205

Option 1 ID : 6306804512921

Option 2 ID : 6306804512918

Option 3 ID : 6306804512919

Option 4 ID : 6306804512920

Status : Answered

Chosen Option : C

Marks : -0.25

ପୂରଣ କର-
ବାଡ଼ି ହଜାଏ ।

ଋଥର

ଧଥର

ନିଥର

ଋର

Question Type : **MCQ**

Question ID : **6306801124889**

Option 1 ID : **6306804419775**

Option 2 ID : **6306804419777**

Option 3 ID : **6306804419776**

Option 4 ID : **6306804419778**

Status : **Answered**

Chosen Option : **D**

Marks : **1**

୧) ଇଂରାଜୀ ବାକ୍ୟଟିର ସର୍ବୋକ୍ଷ୍ମ ଓଡ଼ିଆ ଅନୁବାଦଟି ଚୟନ କର ।

2) Sun rises in the east and sets in the west.

୩) ରେ ଉଦୟ ହୋଇ ସୂର୍ଯ୍ୟ ପଶ୍ଚିମରେ ଅସ୍ତ ହୁଅନ୍ତି ।

୪) ପଶ୍ଚିମରେ ସୂର୍ଯ୍ୟ ଉଦୟ ହୁଅନ୍ତି ଏବଂ ପଶ୍ଚିମରେ ଅସ୍ତ ହୁଅନ୍ତି ।

୫) ପୂର୍ବରେ ଉଦୟ ହୋଇ ପରେ ପଶ୍ଚିମରେ ଅସ୍ତ ହୁଅନ୍ତି ।

୬) ପଶ୍ଚିମରେ ଉଦୟ ହୋଇଥାନ୍ତି ଏବଂ ଅସ୍ତ ପଶ୍ଚିମରେ ହୁଅନ୍ତି ।

Question Type : **MCQ**

Question ID : **6306801104859**

Option 1 ID : **6306804339965**

Option 2 ID : **6306804339966**

Option 3 ID : **6306804339967**

Option 4 ID : **6306804339968**

Status : **Answered**

Chosen Option : **B**

Marks : **1**

ision:

୧ ବିଆଯାଇଥିବା ପ୍ରଶ୍ନର ଉତ୍ତର ବିଅ ।

ଏକ ପବିତ୍ର ଗୁଣ । ଏହା ମଣିଷକୁ ଶୁଭ୍ର, ଶାନ୍ତ ଓ କର୍ମ ତପ୍ତର କରାଏ । ସ୍ଵଚ୍ଛତା ଆମ ପରମ୍ପରା ଓ ଜୀବନର ବିଦିକ ଯୁଗରେ ମୁନିରାଶିମାନେ ସରଳ ଜୀବନଯାପନ ସହିତ ପରିବେଶକୁ ସ୍ଵଚ୍ଛ ରଖିବାପାଇଁ ଯତ୍ନଶୀଳ ପିତା ମହାତ୍ମାଗାନ୍ଧୀ ବ୍ୟକ୍ତିଗତ ଜୀବନରେ ଓ ସାଧାରଣ କ୍ଷେତ୍ରରେ ସ୍ଵଚ୍ଛତା ଉପରେ ଗୁରୁତ୍ଵ ଦେଇଥିଲେ । ଭିତ ମୌଳିକ ଶିକ୍ଷାରେ ଗ୍ରାମ ସଫେଇ ଓ ସ୍ଵଚ୍ଛତା ଏକ ମୁଖ୍ୟ କାର୍ଯ୍ୟକ୍ରମ ଥିଲା । ଗାନ୍ଧିଜୀଙ୍କ ମତରେ ବାହାରର ନୁହେଁ, ଏହା ମଧ୍ୟ ଅନ୍ତରର ହେବା ଉଚିତ । ଗାଁ-ଗଣ୍ଡାଠାରୁ ସହର ବଜାର ସବୁଠୁଁ କୁଡ଼କୁଡ଼ ମା । ନାକ ନର୍ଦ୍ଦମା ଖାଲ ଭିତ ସବୁଠି ବର୍ଜ୍ୟବସ୍ତୁର ପାହାଡ଼ ଓ ଅସ୍ଵାସ୍ୟକର ପରିବେଶ । ରାସ୍ତା କଡ଼ରେ ଚୋରା ଓ କର୍କର ଗଦା । ଏପରିକି ଆମର ପୁଣ୍ୟତୋୟା ଗଙ୍ଗାନଦୀ ଆଜି ଅସ୍ଵଚ୍ଛ । ଆମର ପର୍ଯ୍ୟଟନ କ୍ଷିତ ପରିବେଶ ବିଦେଶୀ ପର୍ଯ୍ୟଟକଙ୍କ ପାଖରେ ଆମର ଭାବ ମୂର୍ତ୍ତିକୁ ମିଳନ କରିଦେଇଛି । ଏପରିକି ଯେତେ ଯାନ ଏକ ସମାଜପଯୋଗୀ ପଦକ୍ଷେପ କହିଲେ ଅତ୍ୟୁକ୍ତି ହେବନାହିଁ । ସ୍ଵଚ୍ଛତା ମଣିଷକୁ କର୍ମ କରିବାକୁ ଯତ୍ନ ଦେଇଥାଏ । ଶିଳ୍ପ ସମୃଦ୍ଧି କାପାଳ ଦେଶରେ ସେଥିପାଇଁ ପ୍ରତି ଘରେ ଓ କାରଖାନା ଆଗରେ ନିର୍ମଳ ପରିବେଶ ଗୋଟିଏ ଦେଖିବାକୁ ମିଳେ । ସ୍ଵଚ୍ଛତା ଅଭିଯାନ କୌଣସି ଗୋଟିଏ ଦଳ ବା ଗୋଷ୍ଠୀର କାର୍ଯ୍ୟକ୍ରମ ନୁହେଁ । ହିକ ଉଦ୍ୟମ । କେବଳ ଆଇନ୍ ପ୍ରଣୟନ କରି ଏହି କାର୍ଯ୍ୟକ୍ରମକୁ ଅନେ କ୍ରିୟାଶୀଳ କରିପରିବା ନାହିଁ । ଯାଜନେତା ଓ ଶିକ୍ଷାବିତ୍ ମାନେ ନିଜେ ସ୍ଵଚ୍ଛ ରହି ଅନ୍ୟମାନଙ୍କୁ ସ୍ଵଚ୍ଛ ରହିବାକୁ ପରାମର୍ଶ ଦେବା ଉଚିତ୍ । ପଞ୍ଚାୟତ, ମହାନଗର ନିଗମ ଓ ଶିଳ୍ପ ସଂସ୍ଥାମାନେ ଜନସଚେତନତା ସୃଷ୍ଟି କରିବା ଦରକାର । ଛାତ୍ରମାନେ ଯେତେ ମନ୍ତ୍ର ରୂପେ ଗ୍ରହଣ କରି ସ୍ଵଚ୍ଛତା ଗଠନରେ ବ୍ରତୀ ହେବା ଆବଶ୍ୟକ ।

1 No : 21

ପ୍ରବର୍ତ୍ତିତ ମୌଳିକ ଶିକ୍ଷାରେ ମୁଖ୍ୟ କାର୍ଯ୍ୟକ୍ରମ କ'ଣ ଥିଲା?

ସହଯୋଗ ଆନ୍ଦୋଳନ

ଦଶୀ ଶିକ୍ଷା ବର୍ଜନ

୧୨ସା ଆଚରଣ

ମା ସଫେଇ ଓ ସ୍ଵଚ୍ଛତା

Question Type : MCQ

Question ID : 6306801146009

Option 1 ID : 6306804504204

Option 2 ID : 6306804504206

Option 3 ID : 6306804504203

Option 4 ID : 6306804504205

Status : Answered

Chosen Option : D

Marks : 1

ision:

୧ ବିଆଯାଇଥିବା ପ୍ରଶ୍ନର ଉତ୍ତର ଦିଅ ।

ଏକ ପବିତ୍ର ଗୁଣ । ଏହା ମଣିଷକୁ ଶୁଭ୍ର, ଶାନ୍ତ ଓ କର୍ମ ତପ୍ତର କରାଏ । ସ୍ଵଚ୍ଛତା ଆମ ପରମ୍ପରା ଓ ଜୀବନର ବିଦିକ ଯୁଗରେ ମୁନିଋଷିମାନେ ସରଳ ଜୀବନଯାପନ ସହିତ ପରିବେଶକୁ ସ୍ଵଚ୍ଛ ରଖିବାପାଇଁ ଯତ୍ନଶୀଳ ପିତା ମହାତ୍ମାଗାନ୍ଧୀ ବ୍ୟକ୍ତିଗତ ଜୀବନରେ ଓ ସାଧାରଣ କ୍ଷେତ୍ରରେ ସ୍ଵଚ୍ଛତା ଉପରେ ଗୁରୁତ୍ଵ ଦେଇଥିଲେ । ଭିତ ମୌଳିକ ଶିକ୍ଷାରେ ଗ୍ରାମ ସଫେଇ ଓ ସ୍ଵଚ୍ଛତା ଏକ ମୁଖ୍ୟ କାର୍ଯ୍ୟକ୍ରମ ଥିଲା । ଗାନ୍ଧିଜୀଙ୍କ ମତରେ ବାହାରର ନୁହେଁ, ଏହା ମଧ୍ୟ ଅନ୍ତରର ହେବା ଉଚିତ । ଗାଁ-ଗଣ୍ଡାଠାରୁ ସହର ବଜାର ସବୁଠୁଁ କୁଡ଼କୁଡ଼ ମା । ନାକ ନର୍ଦ୍ଦମା ଖାଲ ଡିପ ସବୁଠି ବର୍ଜ୍ୟବସ୍ତୁର ପାହାଡ଼ ଓ ଅସ୍ଵାସ୍ଥ୍ୟକର ପରିବେଶ । ରାସ୍ତା କଡ଼ରେ ଚୋରା ଓ ଭରିର ଗଦା । ଏପରିକି ଆମର ପୁଣ୍ୟତୋୟା ଗଙ୍ଗାନଦୀ ଆଜି ଅସ୍ଵଚ୍ଛ । ଆମର ପର୍ଯ୍ୟଟନ କ୍ଷିତ୍ର ପରିବେଶ ବିଦେଶୀ ପର୍ଯ୍ୟଟକଙ୍କ ପାଖରେ ଆମର ଭାବ ମୂର୍ତ୍ତିକୁ ମିଳନ କରିଦେଇଛି । ଏପରିକ୍ଷେତ୍ର ଯାନ ଏକ ସମାୟପଯୋଗୀ ପଦକ୍ଷେପ କହିଲେ ଅତ୍ୟୁକ୍ତି ହେବନାହିଁ । ସ୍ଵଚ୍ଛତା ମଣିଷକୁ କର୍ମ କରିବାକୁ ଯତ୍ନ ଦେଇଥାଏ । ଶିଳ୍ପ ସମୃଦ୍ଧି ଜାପାନ ଦେଶରେ ସେଥିପାଇଁ ପ୍ରତି ଘରେ ଓ କାରଖାନା ଆଗରେ ନିର୍ମଳ ପରିବେଶ ଗୋଟିଏ ଦେଖିବାକୁ ମିଳେ । ସ୍ଵଚ୍ଛତା ଅଭିଯାନ କୌଣସି ଗୋଟିଏ ଦଳ ବା ଗୋଷ୍ଠୀର କାର୍ଯ୍ୟକ୍ରମ ନୁହେଁ । ହିକ ଉଦ୍ୟମ । କେବଳ ଆଇନ୍ ପ୍ରଣୟନ କରି ଏହି କାର୍ଯ୍ୟକ୍ରମକୁ ଅନେ କ୍ରିୟାଶୀଳ କରିପରିବା ନାହିଁ । ଯାଜନେତା ଓ ଶିକ୍ଷାବିତ୍ ମାନେ ନିଜେ ସ୍ଵଚ୍ଛ ରହି ଅନ୍ୟମାନଙ୍କୁ ସ୍ଵଚ୍ଛ ରହିବାକୁ ପରାମର୍ଶ ଦେବା ଉଚିତ୍ । ପଞ୍ଚାୟତ, ମହାନଗର ନିଗମ ଓ ଶିଳ୍ପ ସଂସ୍ଥାମାନେ ଜନସଚେତନତା ସୃଷ୍ଟି କରିବା ଦରକାର । ଛାତ୍ରମାନେ ଯେ ମନ୍ତ୍ର ରୂପେ ଗ୍ରହଣ କରି ସ୍ଵଚ୍ଛତା ଗଠନରେ ବ୍ରତୀ ହେବା ଆବଶ୍ୟକ ।

1 No : 22


ବଳ ବାହାରେ ନୁହେଁ, ଅନ୍ତରରେ ହେବା ଆବଶ୍ୟକ ଏକଥା କିଏ କହିଥିଲେ?

ରତ୍ନ ମୋଦୀ

ମାୟା ଗାନ୍ଧୀ

ବିକାନିତ

ମିତ୍ରନାଥ



Question Type : MCQ
 Question ID : 6306801146010
 Option 1 ID : 6306804504210
 Option 2 ID : 6306804504207
 Option 3 ID : 6306804504208
 Option 4 ID : 6306804504209
 Status : Answered
 Chosen Option : B
 Marks : 1

ision:

୧ ବିଆଯାଇଥିବା ପ୍ରଶ୍ନର ଉତ୍ତର ବିଅ ।

ଏକ ପବିତ୍ର ଗୁଣ । ଏହା ମଣିଷକୁ ଶୁଭ୍ର ,ଶାନ୍ତ ଓ କର୍ମ ତପ୍ତର କରାଏ । ସ୍ଵଚ୍ଛତା ଆମ ପରମ୍ପରା ଓ ଜୀବନର ବିଦିକ ଯୁଗରେ ମୁନିରଖିମାନେ ସରଳ ଜୀବନଯାପନ ସହିତ ପରିବେଶକୁ ସ୍ଵଚ୍ଛ ରଖିବାପାଇଁ ଯତ୍ନଶୀଳ ପିତା ମହାତ୍ମାଗାନ୍ଧୀ ବ୍ୟକ୍ତିଗତ ଜୀବନରେ ଓ ସାଧାରଣ କ୍ଷେତ୍ରରେ ସ୍ଵଚ୍ଛତା ଉପରେ ଗୁରୁତ୍ଵ ଦେଇଥିଲେ । ଭିତ ମୌଳିକ ଶିକ୍ଷାରେ ଗ୍ରାମ ସଫେଇ ଓ ସ୍ଵଚ୍ଛତା ଏକ ମୁଖ୍ୟ କାର୍ଯ୍ୟକ୍ରମ ଥିଲା । ଗାନ୍ଧିଜୀଙ୍କ ମତରେ ବାହାରର ନୁହେଁ, ଏହା ମଧ୍ୟ ଅନ୍ତରର ହେବା ଉଚିତ । ଗାଁ-ଗଣ୍ଡାଠାରୁ ସହର ବଜାର ସବୁଠୁଁ କୁଡ଼କୁଡ଼ ମା । ନାଳ ନର୍ଦ୍ଦମା ଖାଲ ଡିପ ସବୁଠି ବର୍ଜ୍ୟବସ୍ତୁର ପାହାଡ଼ ଓ ଅସ୍ଵାସ୍ୟକର ପରିବେଶ । ରାସ୍ତା କଡ଼ରେ ଚୋରା ଓ କର୍କର ଗଦା । ଏପରିକି ଆମର ପୁଣ୍ୟତୋୟା ଗଙ୍ଗାନଦୀ ଆଜି ଅସ୍ଵଚ୍ଛ । ଆମର ପର୍ଯ୍ୟଟନ କ୍ଷିତ୍ର ପରିବେଶ ବିଦେଶୀ ପର୍ଯ୍ୟଟକଙ୍କ ପାଖରେ ଆମର ଭାବ ମୂର୍ତ୍ତିକୁ ମିଳନ କରିଦେଇଛି । ଏପରିକ୍ଷଣେ ଯାନ ଏକ ସମାୟପଯୋଗୀ ପଦକ୍ଷେପ କହିଲେ ଅତ୍ୟୁକ୍ତି ହେବନାହିଁ । ସ୍ଵଚ୍ଛତା ମଣିଷକୁ କର୍ମ କରିବାକୁ ଧର । ଶିଳ୍ପ ସମୃଦ୍ଧ ଜାପାନ ଦେଶରେ ସେଥିପାଇଁ ପ୍ରତି ଘରେ ଓ କାରଖାନା ଆଗରେ ନିର୍ମଳ ପରିବେଶ ଗୋଟିଏ ଦେଖିବାକୁ ମିଳେ । ସ୍ଵଚ୍ଛତା ଅଭିଯାନ କୌଣସି ଗୋଟିଏ ଦଳ ବା ଗୋଷ୍ଠୀର କାର୍ଯ୍ୟକ୍ରମ ନୁହେଁ । ହିକ ଉଦ୍ୟମ । କେବଳ ଆଇନ୍ ପ୍ରଣୟନ କରି ଏହି କାର୍ଯ୍ୟକ୍ରମକୁ ଅନେ କ୍ରିୟାଶୀଳ କରିପରିବା ନାହିଁ । ଯାଜନେତା ଓ ଶିକ୍ଷାବିତ୍ ମାନେ ନିଜେ ସ୍ଵଚ୍ଛ ରହି ଅନ୍ୟମାନଙ୍କୁ ସ୍ଵଚ୍ଛ ରହିବାକୁ ପରାମର୍ଶ ଦେବା ଉଚିତ୍ । ପଞ୍ଚାୟତ, ମହାନଗର ନିଗମ ଓ ଶିଳ୍ପ ସଂସ୍ଥାମାନେ ଜନସଚେତନତା ସୃଷ୍ଟି କରିବା ଦରକାର । ଛାତ୍ରମାନେ ଯେ ମନ୍ତ୍ର ରୂପେ ଗ୍ରହଣ କରି ସ୍ଵଚ୍ଛତା ଗଠନରେ ବ୍ରତୀ ହେବା ଆବଶ୍ୟକ ।

1 No : 23

ଅନୁଚ୍ଛେଦଟିର ସାରାଂଶ କ'ଣ ହୋଇପାରେ?

ପରାମର୍ଶ

ୃତା

ର୍ମଳ ପରିବେଶ

୧ ଭାରତ ଅଭିଯାନ



Question Type : MCQ
 Question ID : 6306801146007
 Option 1 ID : 6306804504198
 Option 2 ID : 6306804504196
 Option 3 ID : 6306804504197
 Option 4 ID : 6306804504195
 Status : Answered
 Chosen Option : B
 Marks : -0.25

ision:

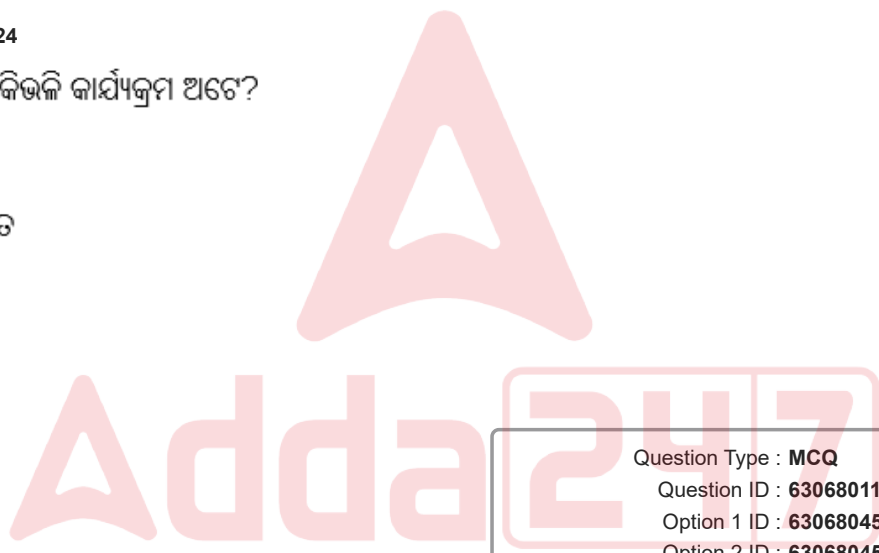
୧ ବିଆଯାଇଥିବା ପ୍ରଶ୍ନର ଉତ୍ତର ବିଅ ।

ଏକ ପବିତ୍ର ଗୁଣ । ଏହା ମଣିଷକୁ ଶୁଭ୍ର ,ଶାନ୍ତ ଓ କର୍ମ ତପ୍ତର କରାଏ । ସ୍ଵଚ୍ଛତା ଆମ ପରମ୍ପରା ଓ ଜୀବନର ବିଦିକ ଯୁଗରେ ମୁନିରଖିମାନେ ସରଳ ଜୀବନଯାପନ ସହିତ ପରିବେଶକୁ ସ୍ଵଚ୍ଛ ରଖିବାପାଇଁ ଯତ୍ନଶୀଳ ପିତା ମହାତ୍ମାଗାନ୍ଧୀ ବ୍ୟକ୍ତିଗତ ଜୀବନରେ ଓ ସାଧାରଣ କ୍ଷେତ୍ରରେ ସ୍ଵଚ୍ଛତା ଉପରେ ଗୁରୁତ୍ଵ ଦେଇଥିଲେ । ଭିତ ମୌଳିକ ଶିକ୍ଷାରେ ଗ୍ରାମ ସଫେଇ ଓ ସ୍ଵଚ୍ଛତା ଏକ ମୁଖ୍ୟ କାର୍ଯ୍ୟକ୍ରମ ଥିଲା । ଗାନ୍ଧିଜୀଙ୍କ ମତରେ ବାହାରର ନୁହେଁ, ଏହା ମଧ୍ୟ ଅନ୍ତରର ହେବା ଉଚିତ । ଗାଁ-ଗଣ୍ଡାଠାରୁ ସହର ବଜାର ସବୁଠୁଁ କୁଡ଼କୁଡ଼ ମା । ନାଳ ନର୍ଦ୍ଦମା ଖାଲ ଡିପ ସବୁଠି ବର୍ଜ୍ୟବସ୍ତୁର ପାହାଡ଼ ଓ ଅସ୍ଵାସ୍ଥ୍ୟକର ପରିବେଶ । ରାସ୍ତା କଡ଼ରେ ଚୋଟଲ ଓ କରର ଗଦା । ଏପରିକି ଆମର ପୁଣ୍ୟତୋୟା ଗଙ୍ଗାନଦୀ ଆଜି ଅସ୍ଵଚ୍ଛ । ଆମର ପର୍ଯ୍ୟଟନ କ୍ଷିତ୍ର ପରିବେଶ ବିଦେଶୀ ପର୍ଯ୍ୟଟକଙ୍କ ପାଖରେ ଆମର ଭାବ ମୂର୍ତ୍ତିକୁ ମିଳନ କରିଦେଇଛି । ଏପରିକ୍ଷେତ୍ର ଯାନ ଏକ ସମାୟପଯୋଗୀ ପଦକ୍ଷେପ କହିଲେ ଅତ୍ୟୁକ୍ତି ହେବନାହିଁ । ସ୍ଵଚ୍ଛତା ମଣିଷକୁ କର୍ମ କରିବାକୁ ଯତ୍ନ । ଶିଳ୍ପ ସମୃଦ୍ଧ ଜାପାନ ଦେଶରେ ସେଥିପାଇଁ ପ୍ରତି ଘରେ ଓ କାରଖାନା ଆଗରେ ନିର୍ମଳ ପରିବେଶ ଗୋଟିଏ ଦେଖିବାକୁ ମିଳେ । ସ୍ଵଚ୍ଛତା ଅଭିଯାନ କୌଣସି ଗୋଟିଏ ଦଳ ବା ଗୋଷ୍ଠୀର କାର୍ଯ୍ୟକ୍ରମ ନୁହେଁ । ହିକ ଉଦ୍ୟମ । କେବଳ ଆଇନ୍ ପ୍ରଣୟନ କରି ଏହି କାର୍ଯ୍ୟକ୍ରମକୁ ଅନେ କ୍ରିୟାଶୀଳ କରିପରିବା ନାହିଁ । ଭାଜନେତା ଓ ଶିକ୍ଷାବିତ୍ ମାନେ ନିଜେ ସ୍ଵଚ୍ଛ ରହି ଅନ୍ୟମାନଙ୍କୁ ସ୍ଵଚ୍ଛ ରହିବାକୁ ପରାମର୍ଶ ଦେବା ଉଚିତ୍ । ପଞ୍ଚାୟତ, ମହାନଗର ନିଗମ ଓ ଶିଳ୍ପ ସଂସ୍ଥାମାନେ ଜନସଚେତନତା ସୃଷ୍ଟି କରିବା ଦରକାର । ଛାତ୍ରମାନେ ଯେ ମନ୍ତ୍ର ରୂପେ ଗ୍ରହଣ କରି ସ୍ଵଚ୍ଛତା ଗଠନରେ ବ୍ରତୀ ହେବା ଆବଶ୍ୟକ ।

୧ No : 24

ଐଯାନ ଜିଉଳି କାର୍ଯ୍ୟକ୍ରମ ଅଟେ?

- ୧ ମୁହିକ
- ୨ ଶରଗତ
- ୩ ଗତ
- ୪ ଛିଗତ



Question Type : MCQ
 Question ID : 6306801146011
 Option 1 ID : 6306804504214
 Option 2 ID : 6306804504213
 Option 3 ID : 6306804504212
 Option 4 ID : 6306804504211
 Status : Answered
 Chosen Option : A
 Marks : 1

ision:

୧ ବିଆଯାଇଥିବା ପ୍ରଶ୍ନର ଉତ୍ତର ଦିଅ ।

ଏକ ପବିତ୍ର ଗୁଣ । ଏହା ମଣିଷକୁ ଶୁଭ, ଶାନ୍ତ ଓ କର୍ମ ତପ୍ତର କରାଏ । ସ୍ଵଚ୍ଛତା ଆମ ପରମ୍ପରା ଓ ଜୀବନର ବିଦିକ ଯୁଗରେ ମୁନିରାଷିମାନେ ସରଳ ଜୀବନଯାପନ ସହିତ ପରିବେଶକୁ ସ୍ଵଚ୍ଛ ରଖିବାପାଇଁ ଯତ୍ନଶୀଳ ପିତା ମହାତ୍ମାଗାନ୍ଧୀ ବ୍ୟକ୍ତିଗତ ଜୀବନରେ ଓ ସାଧାରଣ କ୍ଷେତ୍ରରେ ସ୍ଵଚ୍ଛତା ଉପରେ ଗୁରୁତ୍ଵ ଦେଇଥିଲେ । ଭିତ ମୌଳିକ ଶିକ୍ଷାରେ ଗ୍ରାମ ସଫେଇ ଓ ସ୍ଵଚ୍ଛତା ଏକ ମୁଖ୍ୟ କାର୍ଯ୍ୟକ୍ରମ ଥିଲା । ଗାନ୍ଧିଜୀଙ୍କ ମତରେ ବାହାରର ନୁହେଁ, ଏହା ମଧ୍ୟ ଅନ୍ତରର ହେବା ଉଚିତ । ଗାଁ-ଗଣ୍ଡାଠାରୁ ସହର ବଜାର ସବୁଠୁଁ କୁଡ଼କୁଡ଼ ମା । ନାଳ ନର୍ଦ୍ଦମା ଖାଲ ଭିତ ସବୁଠି ବର୍ଜ୍ୟବସ୍ତୁର ପାହାଡ଼ ଓ ଅସ୍ଵାସ୍ୟକର ପରିବେଶ । ରାଷ୍ଟ୍ର କର୍ତ୍ତବ୍ୟ ନ ବୋତଲ ଓ କରିର ଗଦା । ଏପରିକି ଆମର ପୁଣ୍ୟତୋୟା ଗଙ୍ଗାନଦୀ ଆଜି ଅସ୍ଵଚ୍ଛ । ଆମର ପର୍ଯ୍ୟଟନ କ୍ଷିତ୍ର ପରିବେଶ ବିଦେଶୀ ପର୍ଯ୍ୟଟକଙ୍କ ପାଖରେ ଆମର ଭାବ ମୂର୍ତ୍ତିକୁ ମିଳନ କରିଦେଇଛି । ଏପରିକି ଯେତେ ଯାନ ଏକ ସମାୟପଯୋଗୀ ପଦକ୍ଷେପ କହିଲେ ଅତ୍ୟୁକ୍ତି ହେବନାହିଁ । ସ୍ଵଚ୍ଛତା ମଣିଷକୁ କର୍ମ କରିବାକୁ ଯତ୍ନ ଦେଇଥାଏ । ଶିଳ୍ପ ସମୃଦ୍ଧି ଜାପାନ ଦେଶରେ ସେଥିପାଇଁ ପ୍ରତି ଘରେ ଓ କାରଖାନା ଆଗରେ ନିର୍ମଳ ପରିବେଶ ଗଠିବା ଦେଖିବାକୁ ମିଳେ । ସ୍ଵଚ୍ଛତା ଅଭିଯାନ କୌଣସି ଗୋଟିଏ ଦଳ ବା ଗୋଷ୍ଠୀର କାର୍ଯ୍ୟକ୍ରମ ନୁହେଁ । ହିକ ଉଦ୍ୟମ । କେବଳ ଆଇନ୍ ପ୍ରଣୟନ କରି ଏହି କାର୍ଯ୍ୟକ୍ରମକୁ ଅନେ କ୍ରିୟାଶୀଳ କରିପରିବା ନାହିଁ । ଯାଜନେତା ଓ ଶିକ୍ଷାବିତ୍ ମାନେ ନିଜେ ସ୍ଵଚ୍ଛ ରହି ଅନ୍ୟମାନଙ୍କୁ ସ୍ଵଚ୍ଛ ରହିବାକୁ ପରାମର୍ଶ ଦେବା ଉଚିତ୍ । ପଞ୍ଚାୟତ, ମହାନଗର ନିଗମ ଓ ଶିଳ୍ପ ସଂସ୍ଥାମାନେ ଜନସଚେତନତା ସୃଷ୍ଟି କରିବା ଦରକାର । ଛାତ୍ରମାନେ ଯେତେ ମନ୍ତ୍ର ରୂପେ ଗ୍ରହଣ କରି ସ୍ଵଚ୍ଛତା ଗଠନରେ ବ୍ରତୀ ହେବା ଆବଶ୍ୟକ ।

୧ No : 25

୧ନେ କାହିଁକି ଯତ୍ନଶୀଳ ଥିଲେ ?

୧ମାନେ ସର୍ବଦା ସତକଥା କହିଥିବା ଯୋଗୁଁ

୧କ୍ଷକୁ ଶାନ୍ତ ଓ କର୍ମତପ୍ତ କରିବା ପାଇଁ ।

୧ରକ୍ଷୁ ପୂଜା କରୁଥିବା ଯୋଗୁଁ

୧ଲ ଜୀବନଯାପନ ସହ ପରିବେଶକୁ ସ୍ଵଚ୍ଛ ରଖିବା ପାଇଁ

Question Type : MCQ

Question ID : 6306801146008

Option 1 ID : 6306804504201

Option 2 ID : 6306804504199

Option 3 ID : 6306804504202

Option 4 ID : 6306804504200

Status : Answered

Chosen Option : D

Marks : 1

ision:

୧ ଭରତ ପ୍ରଦାନ କର ।

ହର ମଧ୍ୟରେ ଝରିଝରି ବହି ଚାଲିଥିବା ନିର୍ଦ୍ଦେଶୀ ପରିଶେଷରେ ସୁଦୃହର ନଦୀରେ ପରିଣତ ହୁଏ । ମାତ୍ର
ରେ ତା'ର ଗତିରୋଧ କରନ୍ତି କାହିଁ କେତେ ଶିଳା ଖଣ୍ଡ । ଧୀରେଧୀରେ ବହି ଆସୁଥିବା ଝରଣା ଆଗକୁ
ଋଷ୍ଟରୁ ନିବୃତ୍ତ ହୁଏନାହିଁ । ଅହରହ ତା'ର ସଂଗ୍ରାମ ପ୍ରାୟ ଜାରି ରହିଥାଏ । ଧୀର ଗତିରେ ଓ ତା'ର
। ତାକୁ ଶେଷରେ ସଫଳ କରେ ଏବଂ ସେ ଶିଳାଖଣ୍ଡର ବାଧାକୁ ଅତିକ୍ରମ କରି ଆଗକୁ ବହିଯାଏ । ଧୀର
ଶିଳାକୁ କ୍ଷୟ କରିପାରେ ଓ ବିଶାଳ ପ୍ରସ୍ତରଖଣ୍ଡ ଶେଷରେ କ୍ଷୁଦ୍ର ବାଲିରେଣୁରେ ପରିଣତ ହୁଏ । ଯାହା
। ସମ୍ଭବ ହୁଏ, ତାହା ଦୁର୍ଗତିରେ ବା ପ୍ରଖର ସ୍ରୋତରେ ବହି ଚାଲିଥିବା ପାଣି କରିପାରେ ନାହିଁ । ପ୍ରକୃତିର
ଧୁ ଆମକୁ ମଧ୍ୟ ଶିଖିବାର ଅଛି । ଯଦି ଜଣେ ଶାନ୍ତ ଓ ଧୀର ଭାବରେ ଲକ୍ଷ୍ୟ ପୂରଣପାଇଁ କାର୍ଯ୍ୟ କରେ,
ରିଶେଷରେ ସଫଳ ହୋଇଥାଏ । ଜୀବନର ଚଳାଚାଟରେ ହୁଏତ ଅନେକ ବାଧାବିଘ୍ନ ଆସିପାରେ, ତହିଁରେ
ଥାଇ ଜଣେ ତା'ର ପ୍ରଚେଷ୍ଟା ଅବ୍ୟାହତ ରଖିବା ଉଚିତ୍ । ଏହାଦ୍ୱାରା ପ୍ରତ୍ୟେକ ତାଙ୍କ କାର୍ଯ୍ୟରେ ସଫଳ
। ପୂର୍ବର ଗୁରୁ ପରମ୍ପରାଠାରୁ ଆଜିର ବୈଜ୍ଞାନିକ ଆବିଷ୍କାର ଯାଏ, ସର୍ବତ୍ର କେବଳ ନିରବ ସାଧକ ହିଁ
ଲାଭ କରିଛନ୍ତି । ଧୀର ଶାନ୍ତ ଭାବରେ କରୁଥିବା କାର୍ଯ୍ୟର ସଫଳତାକୁ "ଧୂର ପାଣି ପଥର କାଟେ" ବୋଲି

1 No : 26

ମଧ୍ୟରୁ କେଉଁଟି ଉକ୍ତ ଅନୁଲେଖରେ ଉଲ୍ଲେଖ କରାଯାଇଥିବା ପାଠର ସଂକ୍ଷିପ୍ତ ସାର ?

ଶିଳା ପ୍ରସ୍ତରଖଣ୍ଡ ଶେଷରେ କ୍ଷୁଦ୍ର ବାଲିରେଣୁରେ ପରିଣତ ହୁଏ।

କୃତିର ଏ ଉଦାହରଣରୁ ଆମକୁ ମଧ୍ୟ ଶିଖିବାର ଅଛି ।

ଉଁଟି ନୁହେଁ

ନିର୍ଦ୍ଦେଶୀ ପରିଶେଷରେ ସୁଦୃହର ନଦୀରେ ପରିଣତ ହୁଏ।

Question Type : MCQ

Question ID : 6306801146254

Option 1 ID : 6306804505163

Option 2 ID : 6306804505165

Option 3 ID : 6306804505166

Option 4 ID : 6306804505164

Status : Answered

Chosen Option : B

Marks : -0.25

ision:

୧ ଭରତ ପ୍ରଦାନ କର ।

ହର ମଧ୍ୟରେ ଝରିଝରି ବହି ଚାଲିଥିବା ନିର୍ଦ୍ଦେଶୀ ପରିଶେଷରେ ସୁଦୃଢ଼ ନଦୀରେ ପରିଣତ ହୁଏ । ମାତ୍ର
ରେ ତା'ର ଗତିରୋଧ କରନ୍ତି କାହିଁ କେତେ ଶିଳା ଖଣ୍ଡ । ଧୀରେଧୀରେ ବହି ଆସୁଥିବା ଝରଣା ଆଗକୁ
ଋଷ୍ଟରୁ ନିବୃତ୍ତ ହୁଏନାହିଁ । ଅହରହ ତା'ର ସଂଗ୍ରାମ ପ୍ରାୟ ଜାରି ରହିଥାଏ । ଧୀର ଗତିରେ ଓ ତା'ର
। ତାକୁ ଶେଷରେ ସଫଳ କରେ ଏବଂ ସେ ଶିଳାଖଣ୍ଡର ବାଧାକୁ ଅତିକ୍ରମ କରି ଆଗକୁ ବହିଯାଏ । ଧୀର
ଶିଳାକୁ କ୍ଷୟ କରିପାରେ ଓ ବିଶାଳ ପ୍ରସ୍ତରଖଣ୍ଡ ଶେଷରେ କ୍ଷୁଦ୍ର ବାଲିରେଣୁରେ ପରିଣତ ହୁଏ । ଯାହା
। ସମ୍ଭବ ହୁଏ, ତାହା ଦୁର୍ଗତିରେ ବା ପ୍ରଖର ସ୍ରୋତରେ ବହି ଚାଲିଥିବା ପାଣି କରିପାରେ ନାହିଁ । ପ୍ରକୃତିର
ଧି ଆମକୁ ମଧ୍ୟ ଶିଖିବାର ଅଛି । ଯଦି ଜଣେ ଶାନ୍ତ ଓ ଧୀର ଭାବରେ ଲକ୍ଷ୍ୟ ପୂରଣପାଇଁ କାର୍ଯ୍ୟ କରେ,
ରିଶେଷରେ ସଫଳ ହୋଇଥାଏ । ଜୀବନର ଚଳାଚାଟରେ ହୁଏତ ଅନେକ ବାଧାବିଘ୍ନ ଆସିପାରେ, ତହିଁରେ
ଥାଇ ଜଣେ ତା'ର ପ୍ରଚେଷ୍ଟା ଅବ୍ୟାହତ ରଖିବା ଉଚିତ୍ । ଏହାଦ୍ୱାରା ପ୍ରତ୍ୟେକ ତାଙ୍କ କାର୍ଯ୍ୟରେ ସଫଳ
। ପୂର୍ବର ଗୁରୁ ପରମ୍ପରାଠାରୁ ଆଜିର ବୈଜ୍ଞାନିକ ଆବିଷ୍କାର ଯାଏ, ସର୍ବତ୍ର କେବଳ ନିରବ ସାଧକ ହିଁ
ଲାଭ କରିଛନ୍ତି । ଧୀର ଶାନ୍ତ ଭାବରେ କରୁଥିବା କାର୍ଯ୍ୟର ସଫଳତାକୁ “ଧୂର ପାଣି ପଥର କାଟେ” ବୋଲି

1 No : 27

ଚଳାଚାଟରେ କ'ଣ ଆସିଥାଏ?

ମସ୍ୟା

ନନ୍ଦ

ଧାବିଘ୍ନ

ପପୁଣ୍ୟ

Question Type : MCQ

Question ID : 6306801146253

Option 1 ID : 6306804505161

Option 2 ID : 6306804505160

Option 3 ID : 6306804505159

Option 4 ID : 6306804505162

Status : Answered

Chosen Option : C

Marks : 1

ision:

୧ ଭରତର ପ୍ରଦାନ କର ।

ହର ମଧ୍ୟରେ ଝରିଝରି ବହି ଚାଲିଥିବା ନିର୍ଦ୍ଦେଶୀ ପରିଶେଷରେ ସୁଦୃଢ଼ ନଦୀରେ ପରିଣତ ହୁଏ । ମାତ୍ର
ରେ ତା'ର ଗତିରୋଧ କରନ୍ତି କାହିଁ କେତେ ଶିଳା ଖଣ୍ଡ । ଧୀରେଧୀରେ ବହି ଆସୁଥିବା ଝରଣା ଆଗକୁ
ଚଷ୍ଟାକୁ ନିବୃତ୍ତ ହୁଏନାହିଁ । ଅହରହ ତା'ର ସଂଗ୍ରାମ ପ୍ରାୟ ଜାରି ରହିଥାଏ । ଧୀର ଗତିରେ ଓ ତା'ର
। ତାକୁ ଶେଷରେ ସଫଳ କରେ ଏବଂ ସେ ଶିଳାଖଣ୍ଡର ବାଧାକୁ ଅତିକ୍ରମ କରି ଆଗକୁ ବହିଯାଏ । ଧୀର
ଶିଳାକୁ କ୍ଷୟ କରିପାରେ ଓ ବିଶାଳ ପ୍ରସ୍ତରଖଣ୍ଡ ଶେଷରେ କ୍ଷୁଦ୍ର ବାଲିରେଣ୍ଡୁରେ ପରିଣତ ହୁଏ । ଯାହା
। ସମ୍ଭବ ହୁଏ, ତାହା ଦୁର୍ଗତରେ ବା ପ୍ରଖର ସ୍ରୋତରେ ବହି ଚାଲିଥିବା ପାଣି କରିପାରେ ନାହିଁ । ପ୍ରକୃତିର
। ଆମକୁ ମଧ୍ୟ ଶିଖିବାର ଅଛି । ଯଦି ଜଣେ ଶାନ୍ତ ଓ ଧୀର ଭାବରେ ଲକ୍ଷ୍ୟ ପୂରଣପାଇଁ କାର୍ଯ୍ୟ କରେ,
ରିଶେଷରେ ସଫଳ ହୋଇଥାଏ । ଜୀବନର ଚଳାଚାଟରେ ହୁଏତ ଅନେକ ବାଧାବିଘ୍ନ ଆସିପାରେ, ତହିଁରେ
। ଜଣେ ତା'ର ପ୍ରଚେଷ୍ଟା ଅବ୍ୟାହତ ରଖିବା ଉଚିତ୍ । ଏହାଦ୍ୱାରା ପ୍ରତ୍ୟେକ ତାଙ୍କ କାର୍ଯ୍ୟରେ ସଫଳ
। ପୂର୍ବର ଗୁରୁ ପରମ୍ପରାଠାରୁ ଆଜିର ବୈଜ୍ଞାନିକ ଆବିଷ୍କାର ଯାଏ, ସର୍ବତ୍ର କେବଳ ନିରବ ସାଧକ ହିଁ
ଲାଭ କରିଛନ୍ତି । ଧୀର ଶାନ୍ତ ଭାବରେ କରୁଥିବା କାର୍ଯ୍ୟର ସଫଳତାକୁ "ଧୂର ପାଣି ପଥର କାଟେ" ବୋଲି

1 No : 28

୨ କ୍ଷୟ କରିପାରେ?

ଅର

ର ପାଣି

ଦ୍ର ପାଣି

ଶି



Question Type : MCQ
 Question ID : 6306801146252
 Option 1 ID : 6306804505156
 Option 2 ID : 6306804505157
 Option 3 ID : 6306804505158
 Option 4 ID : 6306804505155
 Status : Answered
 Chosen Option : B
 Marks : 1

ision:

୧ ଭରର ପ୍ରଦାନ କର ।

ହର ମଧ୍ୟରେ ଝରିଝରି ବହି ଚାଲିଥିବା ନିର୍ଦ୍ଦେଶୀ ପରିଶେଷରେ ସୁଦୃଢ଼ ନଦୀରେ ପରିଣତ ହୁଏ । ମାତ୍ର
ରେ ତା'ର ଗତିରୋଧ କରନ୍ତି କାହିଁ କେତେ ଶିଳା ଖଣ୍ଡ । ଧୀରେଧୀରେ ବହି ଆସୁଥିବା ଝରଣା ଆଗକୁ
ଝରଣାରୁ ନିବୃତ୍ତ ହୁଏନାହିଁ । ଅହରହ ତା'ର ସଂଗ୍ରାମ ପ୍ରାୟ ଜାରି ରହିଥାଏ । ଧୀର ଗତିରେ ଓ ତା'ର
। ତାକୁ ଶେଷରେ ସଫଳ କରେ ଏବଂ ସେ ଶିଳାଖଣ୍ଡର ବାଧାକୁ ଅତିକ୍ରମ କରି ଆଗକୁ ବହିଯାଏ । ଧୀର
ଶିଳାକୁ କ୍ଷୟ କରିପାରେ ଓ ବିଶାଳ ପ୍ରସ୍ତରଖଣ୍ଡ ଶେଷରେ କ୍ଷୁଦ୍ର ବାଲିରେଣୁରେ ପରିଣତ ହୁଏ । ଯାହା
। ସମ୍ଭବ ହୁଏ, ତାହା ଦୁର୍ଗତିରେ ବା ପ୍ରଖର ସ୍ରୋତରେ ବହି ଚାଲିଥିବା ପାଣି କରିପାରେ ନାହିଁ । ପ୍ରକୃତିର
ଧୀର ଆମକୁ ମଧ୍ୟ ଶିଖିବାର ଅଛି । ଯଦି ଜଣେ ଶାନ୍ତ ଓ ଧୀର ଭାବରେ ଲକ୍ଷ୍ୟ ପୂରଣପାଇଁ କାର୍ଯ୍ୟ କରେ,
ଝରଣାରେ ସଫଳ ହୋଇଥାଏ । ଜୀବନର ଚଳାଚାଳରେ ହୁଏତ ଅନେକ ବାଧାବିଘ୍ନ ଆସିପାରେ, ତହିଁରେ
ଧୀର ଜଣେ ତା'ର ପ୍ରଚେଷ୍ଟା ଅବ୍ୟାହତ ରଖିବା ଉଚିତ୍ । ଏହାଦ୍ୱାରା ପ୍ରତ୍ୟେକ ତାଙ୍କ କାର୍ଯ୍ୟରେ ସଫଳ
। ପୂର୍ବର ଗୁରୁ ପରମ୍ପରାଠାରୁ ଆଜିର ବୈଜ୍ଞାନିକ ଆବିଷ୍କାର ଯାଏ, ସର୍ବତ୍ର କେବଳ ନିରବ ସାଧକ ହିଁ
ଲାଭ କରିଛନ୍ତି । ଧୀର ଶାନ୍ତ ଭାବରେ କରୁଥିବା କାର୍ଯ୍ୟର ସଫଳତାକୁ "ଧୀର ପାଣି ପଥର କାଟେ" ବୋଲି

1 No : 29

ମଧ୍ୟରୁ କେଉଁଟି ଏହି ଅନୁଚ୍ଛେଦର ପ୍ରକୃତ ନାମ ?

ଶି ପଥର କାଟେ

ଝର ପଥର

ଧୀର ପାଣି ପଥର କାଟେ

ଶି ପଥର

Question Type : MCQ

Question ID : 6306801146251

Option 1 ID : 6306804505151

Option 2 ID : 6306804505153

Option 3 ID : 6306804505152

Option 4 ID : 6306804505154

Status : Answered

Chosen Option : C

Marks : 1

ଶିକ୍ଷଣ:


ଶିକ୍ଷକଙ୍କ ପ୍ରଦାନ କର ।

ହର ମଧ୍ୟରେ ଝରିଝରି ବହି ଚାଲିଥିବା ନିର୍ଦ୍ଦିଷ୍ଟ ପରିଶେଷରେ ସୁଦୃଢ଼ ନଦୀରେ ପରିଣତ ହୁଏ । ମାତ୍ର
 ରେ ତା'ର ଗତିରୋଧ କରନ୍ତି କାହିଁ କେତେ ଶିଳା ଖଣ୍ଡ । ଧୀରେଧୀରେ ବହି ଆସୁଥିବା ଝରଣା ଆଗକୁ
 ଚଢ଼଼ା ନିବୃତ୍ତ ହୁଏନାହିଁ । ଅହରହ ତା'ର ସଂଗ୍ରାମ ପ୍ରାୟ ଜାରି ରହିଥାଏ । ଧୀର ଗତିରେ ଓ ତା'ର
 ତାକୁ ଶେଷରେ ସଫଳ କରେ ଏବଂ ସେ ଶିଳାଖଣ୍ଡର ବାଧାକୁ ଅତିକ୍ରମ କରି ଆଗକୁ ବହିଯାଏ । ଧୀର
 ଶିଳାକୁ କ୍ଷୟ କରିପାରେ ଓ ବିଶାଳ ପ୍ରସ୍ତରଖଣ୍ଡ ଶେଷରେ କ୍ଷୁଦ୍ର ବାଲିରେଣୁରେ ପରିଣତ ହୁଏ । ଯାହା
 ସମ୍ଭବ ହୁଏ, ତାହା ଦୁର୍ଗତିରେ ବା ପ୍ରଖର ସ୍ରୋତରେ ବହି ଚାଲିଥିବା ପାଣି କରିପାରେ ନାହିଁ । ପ୍ରକୃତିର
 ଆମକୁ ମଧ୍ୟ ଶିଖିବାର ଅଛି । ଯଦି ଜଣେ ଶାନ୍ତ ଓ ଧୀର ଭାବରେ ଲକ୍ଷ୍ୟ ପୂରଣପାଇଁ କାର୍ଯ୍ୟ କରେ,
 ଶେଷରେ ସଫଳ ହୋଇଥାଏ । ଜୀବନର ଚଳାଚାଳରେ ହୁଏତ ଅନେକ ବାଧାବିଘ୍ନ ଆସିପାରେ, ତହିଁରେ
 ଜଣେ ତା'ର ପ୍ରଚେଷ୍ଟା ଅବ୍ୟାହତ ରଖିବା ଉଚିତ୍ । ଏହାଦ୍ୱାରା ପ୍ରତ୍ୟେକ ତାଙ୍କ କାର୍ଯ୍ୟରେ ସଫଳ
 ପୂର୍ବର ଗୁରୁ ପରମ୍ପରାଠାରୁ ଆଜିର ବୈଜ୍ଞାନିକ ଆବିଷ୍କାର ଯାଏ, ସର୍ବତ୍ର କେବଳ ନିରବ ସାଧକ ହିଁ
 ଲାଭ କରିଛନ୍ତି । ଧୀର ଶାନ୍ତ ଭାବରେ କରୁଥିବା କାର୍ଯ୍ୟର ସଫଳତାକୁ "ଧୂର ପାଣି ପଥର କାଟେ" ବୋଲି

୧ No : 30

ହର ମଣିଷର କେଉଁ ଗୁଣ ସମ୍ପର୍କରେ ପର୍ଯ୍ୟବେଶିତ?

- ।।। ଓ ଧୀର
- ।
- ।ର
- ।ଠାର



Question Type : MCQ
 Question ID : 6306801146250
 Option 1 ID : 6306804505147
 Option 2 ID : 6306804505150
 Option 3 ID : 6306804505149
 Option 4 ID : 6306804505148
 Status : Answered
 Chosen Option : A
 Marks : 1

ision:

୧ ଡି ସଠିକ ଉତ୍ତର ପ୍ରଦାନ କର ।

ସାର ଅଭାବରୁ ଏ ଦେଶର ସଞ୍ଚନ-ସଞ୍ଚନିମାନେ ପ୍ରକୃତ ଶିକ୍ଷାର ଅଧିକାରୀ ହୋଇପାରୁ ନାହାନ୍ତି । ଧର ଭାବ କେବଳ ଚର୍ଚ୍ଚିତ-ଚର୍ଚ୍ଚିତ କଲେ କେହି ପ୍ରକୃତ ଶିକ୍ଷିତ ହୁଅନ୍ତି ନାହିଁ, କି ଶିକ୍ଷା ଯେଉଁଥିରେ ଚରିତ୍ର ଧର୍ମର ଉନ୍ନତି ନ ହୁଏ ଏବଂ ପ୍ରକୃତ ମନୁଷ୍ୟତ୍ୱ ଗଠିତ ନ ହୁଏ ? ବର୍ତ୍ତମାନ କାଳରେ ଅର୍ଥୋପାର୍ଜନ ନିମିତ୍ତ ଯାଉ କରୁଛନ୍ତି; କିନ୍ତୁ ଅର୍ଥୋପାର୍ଜନ ଶିକ୍ଷାର ଏକମାତ୍ର ଉଦ୍ଦେଶ୍ୟ ନୁହେଁ । ଅର୍ଥୋପାର୍ଜନ ଅପେକ୍ଷା ଶିକ୍ଷାଦ୍ୱାରା ମହତ୍ତ୍ୱ ଉଦ୍ଦେଶ୍ୟ ସାଧିତ ହୁଏ । ଶିକ୍ଷା ଯେ ହୃଦୟକୁ ଦିକ୍ଷିତ କରେ, ଶିକ୍ଷାର ପ୍ରଭାବରେ ଭ୍ରାନ୍ତି, କୁସଂସ୍କାର ମାନବ ଯେ ସତ୍ୟଲୋକ ଲାଭକରି ଧନ୍ୟ ହୁଏ; ଶିକ୍ଷା ଯେ ସଂକୀର୍ଣ୍ଣ ହୃଦୟକୁ ଉଦାର କରେ; ଦେଶୋନ୍ନତି, ଛତି ପ୍ରଭୃତିର ପଥ ପରିଷ୍କୃତ କରେ, ଏପରି ଭାବରେ କେହି ବୁଝନ୍ତି ନାହିଁ । ଆତ୍ମମାନଙ୍କ ଦେଶ ଶିକ୍ଷିତ ନେକ ଯେ ଦୁର୍ଲ୍ଲଭ, ଅଳସ୍ୟ-ପରାୟଣ, ତାହାର ପ୍ରଧାନ କାରଣ ସେମାନେ ଶୈଶବାବସ୍ଥାରୁ ପ୍ରକୃତ ଶିକ୍ଷା ିତି । ପ୍ରକୃତ ଶିକ୍ଷା ହିଁ ସ୍ଥୁଳର ଶିକ୍ଷକମାନଙ୍କଠାରୁ ଲାଭ କରାଯାଇପାରେ? ଶୈଶବାବସ୍ଥାରେ ଶିଶୁମାନେ ପ୍ରତିପାଳିତ ହୁଅନ୍ତି । ମାତା ଯେବେ ଅଶିକ୍ଷିତା ହୁଅନ୍ତି, ତାହାହେଲେ ସଞ୍ଚନମାନେ କାହାଠାରୁ ସୁଶିକ୍ଷା । ସଞ୍ଚନର ଶିକ୍ଷା ସମ୍ବନ୍ଧରେ ମାତାର ଶିକ୍ଷା ଓ ଉପଦେଶ ଯେଉଁ ପରିମାଣରେ ଫଳଦାୟକ ସେହି ନ୍ୟକିଛି ସେତେଦୂର ଆଶୁ ଫଳପ୍ରଦ ନୁହେଁ । ମାତାର ଶିକ୍ଷା ସଞ୍ଚନର ଭାବୀ ଶୁଭାଶୁଭ ନିର୍ଦ୍ଦେଶ କରେ । ୧ ସଞ୍ଚନସଞ୍ଚନୀ ଯେ ସଜରିତ୍ର ଓ ଦୁର୍ଲ୍ଲଭ ହୁଅନ୍ତି, ଏଥିରେ ଅଶୁମାତ୍ର ସନ୍ଦେହ ନାହିଁ ।

୧ No : 31

ଆହୁରି ଅନେକ ମହତ୍ତ୍ୱ ଉଦ୍ଦେଶ୍ୟ ସାଧିତ ହୁଏ?

ରୋପକାର

୧

୨

୩

Question Type : MCQ

Question ID : 6306801157769

Option 1 ID : 6306804550221

Option 2 ID : 6306804550219

Option 3 ID : 6306804550220

Option 4 ID : 6306804550218

Status : Answered

Chosen Option : D

Marks : 1

ision:

୧ ଡି ସଠିକ ଉତ୍ତର ପ୍ରଦାନ କର ।

ସାର ଅଭାବରୁ ଏ ଦେଶର ସଞ୍ଚନ-ସଞ୍ଚନିମାନେ ପ୍ରକୃତ ଶିକ୍ଷାର ଅଧିକାରୀ ହୋଇପାରୁ ନାହାନ୍ତି । ଧର ଭାବ କେବଳ ଚର୍ଚ୍ଚିତ-ଚର୍ଚ୍ଚିତ କଲେ କେହି ପ୍ରକୃତ ଶିକ୍ଷିତ ହୁଅନ୍ତି ନାହିଁ, କି ଶିକ୍ଷା ଯେଉଁଥିରେ ଚରିତ୍ର ଧର୍ମର ଉନ୍ନତି ନ ହୁଏ ଏବଂ ପ୍ରକୃତ ମନୁଷ୍ୟତ୍ୱ ଗଠିତ ନ ହୁଏ ? ବର୍ତ୍ତମାନ କାଳରେ ଅର୍ଥୋପାର୍ଜନ ନିମିତ୍ତ ଯାଉ କରୁଛନ୍ତି; କିନ୍ତୁ ଅର୍ଥୋପାର୍ଜନ ଶିକ୍ଷାର ଏକମାତ୍ର ଉଦ୍ଦେଶ୍ୟ ନୁହେଁ । ଅର୍ଥୋପାର୍ଜନ ଅପେକ୍ଷା ଶିକ୍ଷାଦ୍ୱାରା ମହତ୍ତ୍ୱ ଉଦ୍ଦେଶ୍ୟ ସାଧିତ ହୁଏ । ଶିକ୍ଷା ଯେ ହୃଦୟକୁ ଦିକ୍ଷିତ କରେ, ଶିକ୍ଷାର ପ୍ରଭାବରେ ଭ୍ରାନ୍ତି, କୁସଂସ୍କାର ମାନବ ଯେ ସତ୍ୟଲୋକ ଲାଭକରି ଧନ୍ୟ ହୁଏ; ଶିକ୍ଷା ଯେ ସଂକୀର୍ଣ୍ଣ ହୃଦୟକୁ ଉଦାର କରେ; ଦେଶୋନ୍ନତି, ଛତି ପ୍ରଭୃତିର ପଥ ପରିଷ୍କୃତ କରେ, ଏପରି ଭାବରେ କେହି ବୁଝନ୍ତି ନାହିଁ । ଆତ୍ମମାନଙ୍କ ଦେଶ ଶିକ୍ଷିତ ନେକ ଯେ ଦୁର୍ଲ୍ଲଭ, ଅଳକ୍ଷ୍ୟ-ପରାୟଣ, ତାହାର ପ୍ରଧାନ କାରଣ ସେମାନେ ଶୈଶବାବସ୍ଥାରୁ ପ୍ରକୃତ ଶିକ୍ଷା ିତି । ପ୍ରକୃତ ଶିକ୍ଷା ହିଁ ସ୍କୁଲର ଶିକ୍ଷକମାନଙ୍କଠାରୁ ଲାଭ କରାଯାଇପାରେ? ଶୈଶବାବସ୍ଥାରେ ଶିଶୁମାନେ ପ୍ରତିପାଳିତ ହୁଅନ୍ତି । ମାତା ଯେବେ ଅଶିକ୍ଷିତା ହୁଅନ୍ତି, ତାହାହେଲେ ସଞ୍ଚନମାନେ କାହାଠାରୁ ସୁଶିକ୍ଷା । ସଞ୍ଚନର ଶିକ୍ଷା ସମ୍ବନ୍ଧରେ ମାତାର ଶିକ୍ଷା ଓ ଉପଦେଶ ଯେଉଁ ପରିମାଣରେ ଫଳଦାୟକ ସେହି ନ୍ୟକିଛି ସେତେଦୂର ଆଶୁ ଫଳପ୍ରଦ ନୁହେଁ । ମାତାର ଶିକ୍ଷା ସଞ୍ଚନର ଭାବୀ ଶୁଭାଶୁଭ ନିର୍ଦ୍ଦେଶ କରେ । ୨ ସଞ୍ଚନସଞ୍ଚନୀ ଯେ ସଜରିତ୍ର ଓ ଦୁର୍ଲ୍ଲଭ ହୁଅନ୍ତି, ଏଥିରେ ଅଶୁମାତ୍ର ସନ୍ଦେହ ନାହିଁ ।

୧ No : 32

ତ ମଧ୍ୟରୁ କେଉଁଟି ଏହି ଅନୁଚ୍ଛେଦର ନାଁ?

୧ ଶିକ୍ଷା

ଶୁ ଶିକ୍ଷା

ସାର ଆଦର୍ଶ

୧୦ ଶିକ୍ଷା

Question Type : MCQ

Question ID : 6306801157766

Option 1 ID : 6306804550206

Option 2 ID : 6306804550209

Option 3 ID : 6306804550208

Option 4 ID : 6306804550207

Status : Answered

Chosen Option : A

Marks : 1

ision:

୧ ଡି ସଠିକ ଉତ୍ତର ପ୍ରଦାନ କର ।

ସାର ଅଭାବରୁ ଏ ଦେଶର ସଞ୍ଚନ-ସଞ୍ଚନିମାନେ ପ୍ରକୃତ ଶିକ୍ଷାର ଅଧିକାରୀ ହୋଇପାରୁ ନାହାନ୍ତି । ଯଦି ଭାବ କେବଳ ଚର୍ଚ୍ଚିତ-ଚର୍ଚ୍ଚିତ କଲେ କେହି ପ୍ରକୃତ ଶିକ୍ଷିତ ହୁଅନ୍ତି ନାହିଁ, କି ଶିକ୍ଷା ଯେଉଁଥିରେ ଚରିତ୍ର ଧର୍ମର ଉନ୍ନତି ନ ହୁଏ ଏବଂ ପ୍ରକୃତ ମନୁଷ୍ୟତ୍ୱ ଗଠିତ ନ ହୁଏ ? ବର୍ତ୍ତମାନ କାଳରେ ଅର୍ଥୋପାର୍ଜନ ନିମିତ୍ତ ଯାଉ କରୁଛନ୍ତି; କିନ୍ତୁ ଅର୍ଥୋପାର୍ଜନ ଶିକ୍ଷାର ଏକମାତ୍ର ଉଦ୍ଦେଶ୍ୟ ନୁହେଁ । ଅର୍ଥୋପାର୍ଜନ ଅପେକ୍ଷା ଶିକ୍ଷାଦ୍ୱାରା ମହତ୍ତ୍ୱ ଉଦ୍ଦେଶ୍ୟ ସାଧିତ ହୁଏ । ଶିକ୍ଷା ଯେ ହୃଦୟକୁ ଦିକ୍ଷିତ କରେ, ଶିକ୍ଷାର ପ୍ରଭାବରେ ଭ୍ରାନ୍ତି, କୁସଂସ୍କାର ମାନବ ଯେ ସତ୍ୟଲୋକ ଲାଭକରି ଧନ୍ୟ ହୁଏ; ଶିକ୍ଷା ଯେ ସଂକୀର୍ଣ୍ଣ ହୃଦୟକୁ ଉଦାର କରେ; ଦେଶୋନ୍ନତି, ଛତି ପ୍ରଭୃତିର ପଥ ପରିଷ୍କୃତ କରେ, ଏପରି ଭାବରେ କେହି ବୁଝନ୍ତି ନାହିଁ । ଆତ୍ମମାନଙ୍କ ଦେଶ ଶିକ୍ଷିତ ନେକ ଯେ ଦୁର୍ଲ୍ଲଭ, ଅଳକ୍ଷ୍ୟ-ପରାୟଣ, ତାହାର ପ୍ରଧାନ କାରଣ ସେମାନେ ଶୈଶବାବସ୍ଥାରୁ ପ୍ରକୃତ ଶିକ୍ଷା ାନ୍ତି । ପ୍ରକୃତ ଶିକ୍ଷା ହିଁ ସ୍ଥୁଳର ଶିକ୍ଷକମାନଙ୍କଠାରୁ ଲାଭ କରାଯାଇପାରେ? ଶୈଶବାବସ୍ଥାରେ ଶିଶୁମାନେ ପ୍ରତିପାଳିତ ହୁଅନ୍ତି । ମାତା ଯେବେ ଅଶିକ୍ଷିତା ହୁଅନ୍ତି, ତାହାହେଲେ ସଞ୍ଚନମାନେ କାହାଠାରୁ ସୁଶିକ୍ଷା । ସଞ୍ଚନର ଶିକ୍ଷା ସମ୍ବନ୍ଧରେ ମାତାର ଶିକ୍ଷା ଓ ଉପଦେଶ ଯେଉଁ ପରିମାଣରେ ଫଳଦାୟକ ସେହି ନ୍ୟକିଛି ସେତେଦୂର ଆଶୁ ଫଳପ୍ରଦ ନୁହେଁ । ମାତାର ଶିକ୍ଷା ସଞ୍ଚନର ଭାବୀ ଶୁଭାଶୁଭ ନିର୍ଦ୍ଦେଶ କରେ । ୨ ସଞ୍ଚନସଞ୍ଚନୀ ଯେ ସଜରିତ ଓ ଦୁର୍ଲ୍ଲଭ ହୁଅନ୍ତି, ଏଥିରେ ଅଶୁମାତ୍ର ସନ୍ଦେହ ନାହିଁ ।

୧ No : 33

୧ କଠାରୁ ପ୍ରକୃତ ଶିକ୍ଷା ଲାଭ କରାଯାଇପାରିବ?

୩ଶିଶୁ

ଶ୍ୱର

କ୍ଷକ

୧ ଠାମାତା

Question Type : MCQ

Question ID : 6306801157770

Option 1 ID : 6306804550225

Option 2 ID : 6306804550224

Option 3 ID : 6306804550223

Option 4 ID : 6306804550222

Status : Answered

Chosen Option : C

Marks : 1

ision:

୧ ଠି ସଠିକ ଉତ୍ତର ପ୍ରଦାନ କର ।

ସାର ଅଭାବରୁ ଏ ଦେଶର ସଞ୍ଚନ-ସଞ୍ଚନିମାନେ ପ୍ରକୃତ ଶିକ୍ଷାର ଅଧିକାରୀ ହୋଇପାରୁ ନାହାନ୍ତି । ଯେ ଭାବ କେବଳ ଚର୍ଚ୍ଚିତ-ଚର୍ଚ୍ଚିତ କଲେ କେହି ପ୍ରକୃତ ଶିକ୍ଷିତ ହୁଅନ୍ତି ନାହିଁ, କି ଶିକ୍ଷା ଯେଉଁଥିରେ ଚରିତ୍ର ଧର୍ମର ଉନ୍ନତି ନ ହୁଏ ଏବଂ ପ୍ରକୃତ ମନୁଷ୍ୟତ୍ୱ ଗଠିତ ନ ହୁଏ ? ବର୍ତ୍ତମାନ କାଳରେ ଅର୍ଥୋପାର୍ଜନ ନିମିତ୍ତ ଯାଉ କରୁଛନ୍ତି; କିନ୍ତୁ ଅର୍ଥୋପାର୍ଜନ ଶିକ୍ଷାର ଏକମାତ୍ର ଉଦ୍ଦେଶ୍ୟ ନୁହେଁ । ଅର୍ଥୋପାର୍ଜନ ଅପେକ୍ଷା ଶିକ୍ଷାଦ୍ୱାରା ମହତ୍ତ୍ୱ ଉଦ୍ଦେଶ୍ୟ ସାଧିତ ହୁଏ । ଶିକ୍ଷା ଯେ ହୃଦୟକୁ ଦିକ୍ଷିତ କରେ, ଶିକ୍ଷାର ପ୍ରଭାବରେ ଭ୍ରାନ୍ତି, କୁସଂସ୍କାର ମାନବ ଯେ ସତ୍ୟଲୋକ ଲାଭକରି ଧନ୍ୟ ହୁଏ; ଶିକ୍ଷା ଯେ ସଂକୀର୍ଣ୍ଣ ହୃଦୟକୁ ଉଦାର କରେ; ଦେଶୋନ୍ନତି, ଛତି ପ୍ରଭୃତିର ପଥ ପରିଷ୍କୃତ କରେ, ଏପରି ଭାବରେ କେହି ବୁଝନ୍ତି ନାହିଁ । ଆତ୍ମମାନଙ୍କ ଦେଶ ଶିକ୍ଷିତ ନେକ ଯେ ଦୁର୍ଲ୍ଲଭ, ଅଳକ୍ଷ୍ୟ-ପରାୟଣ, ତାହାର ପ୍ରଧାନ କାରଣ ସେମାନେ ଶୈଶବାବସ୍ଥାରୁ ପ୍ରକୃତ ଶିକ୍ଷା ାନ୍ତି । ପ୍ରକୃତ ଶିକ୍ଷା ହିଁ ସ୍ଥୂଳର ଶିକ୍ଷକମାନଙ୍କଠାରୁ ଲାଭ କରାଯାଇପାରେ? ଶୈଶବାବସ୍ଥାରେ ଶିଶୁମାନେ ପ୍ରତିପାଳିତ ହୁଅନ୍ତି । ମାତା ଯେବେ ଅଶିକ୍ଷିତା ହୁଅନ୍ତି, ତାହାହେଲେ ସଞ୍ଚନମାନେ କାହାଠାରୁ ସୁଶିକ୍ଷା । ସଞ୍ଚନର ଶିକ୍ଷା ସମ୍ବନ୍ଧରେ ମାତାର ଶିକ୍ଷା ଓ ଉପଦେଶ ଯେଉଁ ପରିମାଣରେ ଫଳଦାୟକ ସେହି ନ୍ୟକିଛି ସେତେଦୂର ଆଶୁ ଫଳପ୍ରଦ ନୁହେଁ । ମାତାର ଶିକ୍ଷା ସଞ୍ଚନର ଭାବୀ ଶୁଭାଶୁଭ ନିର୍ଦ୍ଦେଶ କରେ । ୧ ସଞ୍ଚନସଞ୍ଚନା ଯେ ସଜରିତ୍ର ଓ ଦୁର୍ଲ୍ଲଭ ହୁଅନ୍ତି, ଏଥିରେ ଅଶୁମାତ୍ର ସନ୍ଦେହ ନାହିଁ ।

୧ No : 34

୧ରେ ସଞ୍ଚନସଞ୍ଚନା ସଜରିତ୍ର ଓ ଦୁର୍ଲ୍ଲଭ ହୁଅନ୍ତି?

କ୍ଷକ

ରୁଜନ

ଆ

ଶ୍ୱର

Question Type : MCQ

Question ID : 6306801157768

Option 1 ID : 6306804550214

Option 2 ID : 6306804550215

Option 3 ID : 6306804550216

Option 4 ID : 6306804550217

Status : Answered

Chosen Option : C

Marks : 1

ision:

୧ ଡି ସଠିକ ଉତ୍ତର ପ୍ରଦାନ କର ।

ସାର ଅଭାବରୁ ଏ ଦେଶର ସଞ୍ଚନ-ସଞ୍ଚନମାନେ ପ୍ରକୃତ ଶିକ୍ଷାର ଅଧିକାରୀ ହୋଇପାରୁ ନାହାନ୍ତି । ଯଦି ଭାବ କେବଳ ଚର୍ଚ୍ଚିତ-ଚର୍ଚ୍ଚିତ କଲେ କେହି ପ୍ରକୃତ ଶିକ୍ଷିତ ହୁଅନ୍ତି ନାହିଁ, କି ଶିକ୍ଷା ଯେଉଁଥିରେ ଚରିତ୍ର ଧର୍ମର ଉନ୍ନତି ନ ହୁଏ ଏବଂ ପ୍ରକୃତ ମନୁଷ୍ୟତ୍ୱ ଗଠିତ ନ ହୁଏ ? ବର୍ତ୍ତମାନ କାଳରେ ଅର୍ଥୋପାର୍ଜନ ନିମିତ୍ତ ଯାଉ କରୁଛନ୍ତି; କିନ୍ତୁ ଅର୍ଥୋପାର୍ଜନ ଶିକ୍ଷାର ଏକମାତ୍ର ଉଦ୍ଦେଶ୍ୟ ନୁହେଁ । ଅର୍ଥୋପାର୍ଜନ ଅପେକ୍ଷା ଶିକ୍ଷାଦ୍ୱାରା ମହତ୍ତ୍ୱ ଉଦ୍ଦେଶ୍ୟ ସାଧିତ ହୁଏ । ଶିକ୍ଷା ଯେ ହୃଦୟକୁ ଦିକ୍ଷିତ କରେ, ଶିକ୍ଷାର ପ୍ରଭାବରେ ଭ୍ରାନ୍ତି, କୁସଂସ୍କାର ମାନବ ଯେ ସତ୍ୟଲୋକ ଲାଭକରି ଧନ୍ୟ ହୁଏ; ଶିକ୍ଷା ଯେ ସଂକୀର୍ଣ୍ଣ ହୃଦୟକୁ ଉଦାର କରେ; ଦେଶୋନ୍ନତି, ଛତି ପ୍ରଭୃତିର ପଥ ପରିଷ୍କୃତ କରେ, ଏପରି ଭାବରେ କେହି ବୁଝନ୍ତି ନାହିଁ । ଆତ୍ମମାନଙ୍କ ଦେଶ ଶିକ୍ଷିତ ନେକ ଯେ ଦୁର୍ଲ୍ଲଭ, ଅଳକ୍ଷ୍ୟ-ପରାୟଣ, ତାହାର ପ୍ରଧାନ କାରଣ ସେମାନେ ଶୈଶବାବସ୍ଥାରୁ ପ୍ରକୃତ ଶିକ୍ଷା ାନ୍ତି । ପ୍ରକୃତ ଶିକ୍ଷା ହିଁ ସ୍ତୁଳର ଶିକ୍ଷକମାନଙ୍କଠାରୁ ଲାଭ କରାଯାଇପାରେ? ଶୈଶବାବସ୍ଥାରେ ଶିଶୁମାନେ ପ୍ରତିପାଳିତ ହୁଅନ୍ତି । ମାତା ଯେବେ ଅଶିକ୍ଷିତା ହୁଅନ୍ତି, ତାହାହେଲେ ସଞ୍ଚନମାନେ କାହାଠାରୁ ସୁଶିକ୍ଷା । ସଞ୍ଚନର ଶିକ୍ଷା ସମ୍ବନ୍ଧରେ ମାତାର ଶିକ୍ଷା ଓ ଉପଦେଶ ଯେଉଁ ପରିମାଣରେ ଫଳଦାୟକ ସେହି ନ୍ୟକିଛି ସେତେଦୂର ଆଶୁ ଫଳପ୍ରଦ ନୁହେଁ । ମାତାର ଶିକ୍ଷା ସଞ୍ଚନର ଭାବୀ ଶୁଭାଶୁଭ ନିର୍ଦ୍ଦେଶ କରେ । ୨ ସଞ୍ଚନସଞ୍ଚନା ଯେ ସଜରିତ ଓ ଦୁର୍ଲ୍ଲଭ ହୁଅନ୍ତି, ଏଥିରେ ଅଶୁମାତ୍ର ସନ୍ଦେହ ନାହିଁ ।

୧ No : 35

ଛୁଦ କେଉଁ ମୁଖ୍ୟ ବିଷୟ ଉପରେ ଆଧାରିତ?

ସା

ର୍ମ

ର୍ମ

ଦର୍ଶ

Question Type : MCQ

Question ID : 6306801157767

Option 1 ID : 6306804550212

Option 2 ID : 6306804550210

Option 3 ID : 6306804550211

Option 4 ID : 6306804550213

Status : Answered

Chosen Option : A

Marks : 1

Science

ie DRDO develop the indigenous assault rifle 'UGRAM' in 2024?

ratory for Electro Optics Systems

ment Research and Development Establishment

ical Research Laboratory

nal Remote Sensing Centre

Question Type : MCQ

Question ID : 630680752225

Option 1 ID : 6306802948257

Option 2 ID : 6306802948255

Option 3 ID : 6306802948256

Option 4 ID : 6306802948258

Status : Answered

Chosen Option : B

Marks : 1

within a plant which are in a continuous state of cell division and growth
of _____.

al tissue

lar tissue

stematic tissue

rd tissue

Question Type : MCQ

Question ID : 630680711436

Option 1 ID : 6306802787401

Option 2 ID : 6306802787403

Option 3 ID : 6306802787400

Option 4 ID : 6306802787402

Status : Answered

Chosen Option : C

Marks : 1

statements that are possible when it is said that 'spinach is rich in iron'.

as a lot of iron.

as only iron.

may have other nutrients.

s harmful for the human body.

1 C

1 B

Question Type : MCQ

Question ID : 630680565815

Option 1 ID : 6306802212200

Option 2 ID : 6306802212201

Correct option regarding the pH of some common substances.

Orange juice - pH is 4

Lemon juice - pH is more than 4

Solution of magnesium - pH is more than 9

Ammonium hydroxide solution - pH is less than 9

Question Type : **MCQ**

Question ID : **630680770507**

Option 1 ID : **6306803019938**

Option 2 ID : **6306803019937**

Option 3 ID : **6306803019939**

Option 4 ID : **6306803019940**

Status : **Answered**

Chosen Option : **C**

Marks : **1**

Scientists from the DRDO Young Scientists Laboratory for Quantum Sciences (DYSL-QT), _____, and the Tata Institute of Fundamental Research _____, have completed end-to-end testing of a 6-qubit quantum processor based on superconducting circuit technology.

_____ , Bengaluru

_____ ; Hyderabad

_____ ; Lucknow

_____ ; Mumbai

Question Type : **MCQ**

Question ID : **6306801047299**

Option 1 ID : **6306804111306**

Option 2 ID : **6306804111309**

Option 3 ID : **6306804111308**

Option 4 ID : **6306804111307**

Status : **Answered**

Chosen Option : **B**

Marks : **-0.25**

The Arjun Mk III UT (Utility), the Indian Army version, is designed for _____, Troop Transportation, Internal Cargo, Recce / Casualty Evacuation,

_____ and Rescue

_____ Time Activity

_____ Industrial Activity

_____ Culture Activity

Question Type : **MCQ**

Question ID : **6306801045223**

Option 1 ID : **6306804103033**

Option 2 ID : **6306804103032**

of a projectile is given by $x = a + bt^2$, where $a = 8.5 \text{ m}$, $b = 2.5 \text{ m s}^{-2}$ and t in seconds. The velocity at $t = 0$ second is _____.

1/s

1/s

1/s

s

Question Type : MCQ

Question ID : 630680764399

Option 1 ID : 6306802996137

Option 2 ID : 6306802996135

Option 3 ID : 6306802996136

Option 4 ID : 6306802996138

Status : Answered

Chosen Option : C

Marks : -0.25

the following missiles did the DRDO successfully test the maiden independently Targetable Re-Entry Vehicle (MIRV) technology?

1 V

Mos

3

Question Type : MCQ

Question ID : 630680867651

Option 1 ID : 6306803398248

Option 2 ID : 6306803398249

Option 3 ID : 6306803398250

Option 4 ID : 6306803398251

Status : Answered

Chosen Option : A

Marks : 1

use have their own DNA and ribosomes?

chondria

oles

somes

complex

Question Type : MCQ

Question ID : 630680750787

Option 1 ID : 6306802942576

Option 2 ID : 6306802942574

Option 3 ID : 6306802942575

Option 4 ID : 6306802942577

Status : Answered

hydraulic stress to the corresponding hydraulic strain of a body is called

g's Modulus

e's Modulus

r Modulus

Modulus

Question Type : MCQ

Question ID : 630680745796

Option 1 ID : 6306802923361

Option 2 ID : 6306802923362

Option 3 ID : 6306802923360

Option 4 ID : 6306802923359

Status : Answered

Chosen Option : D

Marks : 1

vents

କେଉଁ ରାଜ୍ୟ 'ଆବୁଆ ଆବାସ ଯୋଜନା (Abua Awas Yojna)' (AAY) ଆରମ୍ଭ କରିଛି,
ବାସହୀନ ବ୍ୟକ୍ତିମାନଙ୍କୁ ୫ ଲକ୍ଷ 'ପଙ୍କା' ପର ଯୋଗାଇବା ପାଇଁ ଡିଜାଇନ୍ କରାଯାଇଥିବା ଆବାସ ଯୋଜନା ଅଟେ?

ଓଡ଼ିଶା

ଝାର

ମାଡ଼

କେରଳା

Question Type : MCQ

Question ID : 630680546600

Option 1 ID : 6306802136968

Option 2 ID : 6306802136967

Option 3 ID : 6306802136969

Option 4 ID : 6306802136970

Status : Answered

Chosen Option : B

Marks : -0.25

arded the Player of the Tournament at ICC T20 World Cup 2024?

Kohli

akumar Yadav

: Sharma

rit Bumrah

Question Type : MCQ

Question ID : 6306801050014

Option 1 ID : 6306804122406

Option 2 ID : 6306804122408

Option 3 ID : 6306804122407

Option 4 ID : 6306804122405

Status : Answered

Chosen Option : D

Marks : 1

int was allocated by the union government for Agri Fund for Start-Ups & rises (AgriSURE Fund) in the July 2024 union budget?

crore

crore

crore

) crore

Question Type : MCQ

Question ID : 6306801050065

Option 1 ID : 6306804122609

Option 2 ID : 6306804122610

Option 3 ID : 6306804122612

Option 4 ID : 6306804122611

Status : Answered

Chosen Option : D

Marks : 1

h of the following events did the African heads of state unanimously agree ban on the trade of donkey skin in 2024?

African Union Summit

African Union Summit

African Union Summit

Inion Summit

Question Type : MCQ

Question ID : 6306801057059

Option 1 ID : 6306804150647

Option 2 ID : 6306804150645

Option 3 ID : 6306804150646

Option 4 ID : 6306804150648

Status : Answered

Ngamba and Taekwondo athlete Yahya Al Ghotany served as flag bearers at the Paris 2024 Olympics Opening Ceremony. Which team was it?

Green Olympic Team

Japan

United Kingdom

Question Type : MCQ

Question ID : 6306801062014

Option 1 ID : 6306804170441

Option 2 ID : 6306804170443

Option 3 ID : 6306804170444

Option 4 ID : 6306804170442

Status : Answered

Chosen Option : B

Marks : -0.25

Dr. Arjun Jain was appointed as the Chairman and Managing Director of which company in February 2024?

National Thermal Power Corporation

Indian Railway Catering and Tourism Corporation Ltd

Power Grid Corporation of India Limited

Bharat Heavy Electricals Limited

Question Type : MCQ

Question ID : 6306801050053

Option 1 ID : 6306804122563

Option 2 ID : 6306804122561

Option 3 ID : 6306804122564

Option 4 ID : 6306804122562

Status : Answered

Chosen Option : B

Marks : 1

ଅନୁଷ୍ଠିତ ପ୍ରଥମ BIMSTEC ବିଜନେସ୍ ଶିଖର ସମ୍ମିଳନୀ ବିଷୟରେ କେଉଁ ବିବୃତି ଭୁଲ୍ ଅଟେ?

ଃ ଦେଶଗୁଡ଼ିକ ମଧ୍ୟରେ ବାଣିଜ୍ୟ ଓ ନିବେଶ ସମ୍ପର୍କକୁ ପ୍ରୋତ୍ସାହିତ କରିବା ଏହାର ଉଦ୍ଦେଶ୍ୟ ଥିଲା ।

ଂଦିଲ୍ଲୀରେ ଏହି ଶିଖର ସମ୍ମିଳନୀ ଅନୁଷ୍ଠିତ ହୋଇଥିଲା ।

ଂସ୍କୃତିକ ଆଦାନ ପ୍ରଦାନକୁ ବଢ଼ାଇବା ଏହାର ଉଦ୍ଦେଶ୍ୟ ଅଟେ ।

ଂକୁ ତ. ଏସ୍ ଜୟଶଙ୍କର ଉଦ୍ଘାଟନ କରିଥିଲେ ।

Question Type : MCQ

Question ID : 6306801057353

Option 1 ID : 6306804151818

Option 2 ID : 6306804151815

Option 3 ID : 6306804151817

Option 4 ID : 6306804151816

Status : Answered

Chosen Option : B

Marks : -0.25

Who won the Women's singles title at the 2024 Wimbledon tournament?

A. Iga Swiatek

B. Aryna Sabalenka

C. Petra Kvitová

D. Coco Gauff

Question Type : MCQ

Question ID : 6306801063569

Option 1 ID : 6306804176644

Option 2 ID : 6306804176646

Option 3 ID : 6306804176643

Option 4 ID : 6306804176645

Status : Answered

Chosen Option : C

Marks : 1

Who won the bronze medal in the Men's 50 m rifle 3 positions at Olympic 2024?

A. Arjun Kumar

B. Abhinav Bindra

C. Ravi Kumar Dhanu

D. Anshu Malik

Question Type : MCQ

Question ID : 6306801049543

Option 1 ID : 6306804120428

igious award did Gabriella Arrigo receive in 2024?

ean Space Agency Innovation Award

Excellence in International Cooperation Award

A Distinguished Service Medal

ipace Cooperation Award

Question Type : **MCQ**

Question ID : **6306801057557**

Option 1 ID : **6306804152629**

Option 2 ID : **6306804152628**

Option 3 ID : **6306804152627**

Option 4 ID : **6306804152630**

Status : **Answered**

Chosen Option : **B**

Marks : **1**

f India

llowing temples built between 900 to 1200 A.D. with their respective

andariya Temple	i. Bhubaneshwar
igannath Temple	ii. Konark
ingaraj Temple	iii. Khajuraho
urya Temple	iv. Puri

b-iv, c-i, d-ii

-i, c-iv, d-iii

b-i, c-ii, d-iv

b-iii, c-ii, d-i

Question Type : **MCQ**

Question ID : **630680184278**

Option 1 ID : **630680714123**

Option 2 ID : **630680714122**

Option 3 ID : **630680714121**

Option 4 ID : **630680714124**

Status : **Answered**

Chosen Option : **A**

Marks : **1**

he following years was the Simon Commission appointed?

Question Type : **MCQ**
Question ID : **6306801148033**
Option 1 ID : **6306804512232**
Option 2 ID : **6306804512233**
Option 3 ID : **6306804512231**
Option 4 ID : **6306804512230**
Status : **Answered**
Chosen Option : **C**
Marks : **-0.25**

founder of the Kushan dynasty?

- shka
- Kadphises
- la Kadphises
- shka I

Question Type : **MCQ**
Question ID : **630680616720**
Option 1 ID : **6306802413143**
Option 2 ID : **6306802413141**
Option 3 ID : **6306802413140**
Option 4 ID : **6306802413142**
Status : **Answered**
Chosen Option : **D**
Marks : **-0.25**

ence of Sati is found in which of the following inscriptions of the Gupta

- lasore
- ri

Question Type : **MCQ**
Question ID : **630680571382**
Option 1 ID : **6306802234561**
Option 2 ID : **6306802234563**
Option 3 ID : **6306802234562**
Option 4 ID : **6306802234564**
Status : **Answered**
Chosen Option : **A**

_____ made a representation to Captain Leigh for the remission of the imprisonment on him and for his installation as Raja of Sambalpur in 1707.

- Ⓐ Rajguru
- Ⓑ Indra Sai
- Ⓒ Bisoyi
- Ⓓ Mohan Senapati

Question Type : MCQ
 Question ID : 6306801135500
 Option 1 ID : 6306804462151
 Option 2 ID : 6306804462152
 Option 3 ID : 6306804462150
 Option 4 ID : 6306804462153
 Status : Answered
 Chosen Option : A
 Marks : -0.25

'Rajmudra' is a work containing the principles of which of the following is?

- Ⓐ Samaj
- Ⓑ Rajmudra Samaj
- Ⓒ Rajmudra Samaj
- Ⓓ Rajmudra Samaj

Question Type : MCQ
 Question ID : 630680595382
 Option 1 ID : 6306802329720
 Option 2 ID : 6306802329722
 Option 3 ID : 6306802329721
 Option 4 ID : 6306802329723
 Status : Answered
 Chosen Option : A
 Marks : 1

କାହିଁକି ଆନ୍ଦୋଳନ ନିମ୍ନଲିଖିତ ମଧ୍ୟରୁ କେଉଁ ବର୍ଷରେ ଆରମ୍ଭ ହୋଇଥିଲା?

Question Type : MCQ
 Question ID : 630680577698
 Option 1 ID : 6306802259637
 Option 2 ID : 6306802259638
 Option 3 ID : 6306802259636
 Option 4 ID : 6306802259639

the following was an imperialist guided by the policy of Doctrine of

- Curzon
- Lytton
- Dalhousie
- Canning

Question Type : **MCQ**
Question ID : **630680595510**
Option 1 ID : **6306802330231**
Option 2 ID : **6306802330230**
Option 3 ID : **6306802330229**
Option 4 ID : **6306802330228**
Status : **Answered**
Chosen Option : **A**
Marks : **-0.25**

the following was the holder of Iqta?

- al
- ti

Question Type : **MCQ**
Question ID : **630680572040**
Option 1 ID : **6306802237024**
Option 2 ID : **6306802237027**
Option 3 ID : **6306802237026**
Option 4 ID : **6306802237025**
Status : **Answered**
Chosen Option : **B**
Marks : **-0.25**

ndra Sen was associated with which of the following social organisations?

- Samaj
- mo Samaj
- sophical Society
- Samaj

Question Type : **MCQ**
Question ID : **630680595366**
Option 1 ID : **6306802329658**
Option 2 ID : **6306802329659**
Option 3 ID : **6306802329657**
Option 4 ID : **6306802329660**
Status : **Answered**
Chosen Option : **B**

ି (Blake Plateau) ଗଭୀର ସମୁଦ୍ର କୋରାଲ ରିଫ୍ (Coral Reefs) ମଧ୍ୟରୁ ଅନ୍ୟତମ
_____ ରେ ଅବସ୍ଥିତ ।

ଶାନ୍ତ ମହାସାଗର

ଟଲାଣ୍ଡିକ ମହାସାଗର

ରବ ସାଗର

ରତ ମହାସାଗର

Question Type : **MCQ**

Question ID : **6306801064177**

Option 1 ID : **6306804179048**

Option 2 ID : **6306804179050**

Option 3 ID : **6306804179047**

Option 4 ID : **6306804179049**

Status : **Answered**

Chosen Option : **A**

Marks : **-0.25**

ral Gas Commission was set up in India in which of the following years?

;

Question Type : **MCQ**

Question ID : **630680695590**

Option 1 ID : **6306802724599**

Option 2 ID : **6306802724600**

Option 3 ID : **6306802724602**

Option 4 ID : **6306802724601**

Status : **Answered**

Chosen Option : **B**

Marks : **-0.25**

ଜଙ୍ଗଲରେ ଧଳା ସିତର, ହଲକ୍ ଓ କାଜଲ (white cedar, hollock and kail) ସାଧାରଣତଃ ଦେଖାଯାଏ?

ତ୍ରୀୟ କଣ୍ଠାବନ (Tropical thorn forests)

ଦ୍ରବତ ଓ ଆର୍ଦ୍ରଭୂମି ଜଙ୍ଗଲ (Littoral and swamp forests)

ଦ୍ରୁ ପର୍ଣ୍ଣମୋଚି ଅରଣ୍ୟ (Moist deciduous forests)

ଉର୍ଦ୍ଧ୍ୱ ଚିରହରିତ ଅରଣ୍ୟ (Tropical semi evergreen forests)

Question Type : **MCQ**

Question ID : **630680717850**

Option 1 ID : **6306802812940**

Option 2 ID : **6306802812937**

Option 3 ID : **6306802812938**

Option 4 ID : **6306802812939**

Status : **Answered**

Chosen Option : **C**

Marks : **-0.25**

Which was the PM Gatishakti National Master Plan introduced by the Government of India?

Question Type : **MCQ**

Question ID : **630680683411**

Option 1 ID : **6306802676368**

Option 2 ID : **6306802676367**

Option 3 ID : **6306802676366**

Option 4 ID : **6306802676365**

Status : **Answered**

Chosen Option : **B**

Marks : **-0.25**

Which of the following states are the manganese ore deposits of Bicholim and Pimpri located?

Goa

Karnataka

Maharashtra

Question Type : MCQ

Question ID : 630680700384

Option 1 ID : 6306802743516

Option 2 ID : 6306802743513

Option 3 ID : 6306802743515

Option 4 ID : 6306802743514

Status : Answered

Chosen Option : A

Marks : -0.25

Which of the following states in India receives the lowest rainfall?

Andhra Pradesh

Kerala

Madhya Pradesh

Rajasthan

Question Type : MCQ

Question ID : 630680594065

Option 1 ID : 6306802324509

Option 2 ID : 6306802324508

Option 3 ID : 6306802324511

Option 4 ID : 6306802324510

Status : Answered

Chosen Option : C

Marks : 1

The Chambal, Sind, Betwa, and Ken flow in which of the following directions in the Deccan highlands?

From west to southeast

From east to northwest

From east to southwest

From west to northeast

Question Type : MCQ

Question ID : 630680860191

Option 1 ID : 6306803368704

Option 2 ID : 6306803368701

Option 3 ID : 6306803368702

Option 4 ID : 6306803368703

Status : Answered

Chosen Option : D

an climates are found on the west coasts of continents between ___ latitudes.

nd 70°

nd 90°

and 40°

nd 80°

Question Type : **MCQ**

Question ID : **6306801064338**

Option 1 ID : **6306804179684**

Option 2 ID : **6306804179683**

Option 3 ID : **6306804179681**

Option 4 ID : **6306804179682**

Status : **Answered**

Chosen Option : **A**

Marks : **-0.25**

is a satellite port of which of the following ports of India?

ikhapatnam

orin

dwip

rai

Question Type : **MCQ**

Question ID : **630680647171**

Option 1 ID : **6306802533905**

Option 2 ID : **6306802533907**

Option 3 ID : **6306802533906**

Option 4 ID : **6306802533908**

Status : **Answered**

Chosen Option : **A**

Marks : **-0.25**

following is the southernmost point of mainland India?

Comorin

of Good Hope

Leeuwin

Horn

Question Type : **MCQ**

Question ID : **630680871650**

Option 1 ID : **6306803413730**

Option 2 ID : **6306803413731**

Option 3 ID : **6306803413732**

Option 4 ID : **6306803413733**

Status : **Answered**

Chosen Option : **A**

When did RBI commence its operations in India?

;

Question Type : **MCQ**
 Question ID : **630680650822**
 Option 1 ID : **6306802548257**
 Option 2 ID : **6306802548256**
 Option 3 ID : **6306802548255**
 Option 4 ID : **6306802548254**
 Status : **Answered**
 Chosen Option : **A**
 Marks : **-0.25**

Which of the following Constitutions was the concept of Fundamental Duties

A. Indian Constitution

B. American Constitution

C. British Constitution

D. Canadian Constitution

Question Type : **MCQ**
 Question ID : **630680758863**
 Option 1 ID : **6306802974418**
 Option 2 ID : **6306802974420**
 Option 3 ID : **6306802974419**
 Option 4 ID : **6306802974417**
 Status : **Answered**
 Chosen Option : **D**
 Marks : **-0.25**

What percentage of the total expenditure in the Odisha State Budget 2023-24 was on education?

10%

15%

20%

Question Type : **MCQ**
 Question ID : **6306801146953**
 Option 1 ID : **6306804507949**
 Option 2 ID : **6306804507947**
 Option 3 ID : **6306804507950**
 Option 4 ID : **6306804507948**
 Status : **Answered**
 Chosen Option : **A**

Which of the Indian Constitution introduced by the 97th Amendment, was declared unconstitutional by the Supreme Court of India in 2021?

IX-B

X-A

IX

X

Question Type : MCQ

Question ID : 6306801044825

Option 1 ID : 6306804101454

Option 2 ID : 6306804101453

Option 3 ID : 6306804101452

Option 4 ID : 6306804101455

Status : Answered

Chosen Option : A

Marks : 1

ମଧ୍ୟରୁ କେଉଁଟି ବିଭୀୟ ନୀତିର (fiscal policy) ଲକ୍ଷ୍ୟ ଅଟେ?

ଐତିହାସିକ ସମ୍ପ୍ରଦାୟ ହାର ହ୍ରାସ

ଅସମ୍ଭାବନା ବୃଦ୍ଧି

ସଂସାଧନ ସ୍ଥିରତା

କାରୀ ହାର ବୃଦ୍ଧି

Question Type : MCQ

Question ID : 630680694347

Option 1 ID : 6306802719666

Option 2 ID : 6306802719667

Option 3 ID : 6306802719664

Option 4 ID : 6306802719665

Status : Answered

Chosen Option : C

Marks : 1

ନିମ୍ନିତ ଅଧିବେଶନରେ କିଏ ଅଧ୍ୟକ୍ଷତା କରନ୍ତି?

ଝାଙ୍କସଭା ବାଚସ୍ପତି ବା ସ୍ପିକର

ଉତ୍ତର ରାଷ୍ଟ୍ରପତି

ଝାଙ୍କସଭା ଅଧ୍ୟକ୍ଷ

ଉତ୍ତର ପ୍ରଧାନମନ୍ତ୍ରୀ

Question Type : MCQ

Question ID : 630680784806

Option 1 ID : 6306803075503

Option 2 ID : 6306803075502

Option 3 ID : 6306803075504

Option 4 ID : 6306803075505

Status : Answered

Chosen Option : A

Marks : 1

Which financial institution of India has been instrumental in promoting microfinance (MFIs) and self-help groups (SHGs) as vehicles for financial inclusion and empowerment of women in rural areas?

Export-Import Bank of India (EXIM Bank)

Industries Development Bank of India (SIDBI)

National Bank for Agriculture and Rural Development (NABARD)

National Housing Bank (NHB)

Question Type : MCQ

Question ID : 630680725440

Option 1 ID : 6306802842874

Option 2 ID : 6306802842873

Option 3 ID : 6306802842872

Option 4 ID : 6306802842875

Status : Answered

Chosen Option : C

Marks : 1

Who is the Cabinet Minister for the Ministry of Revenue and Disaster Management in the Government of India as of September 2024?

Narendra Pradhan

Rajesh Pujari

Prakash Singh Deo

Manoj Kumar Mohanty

Question Type : MCQ

Question ID : 6306801126252

Option 1 ID : 6306804425226

Option 2 ID : 6306804425229

୧ ବହନ କ୍ଷମତାର ଅର୍ଥ _____ ଅଟେ ।

୧) ବୀର ସମୁଦାୟ ଉତ୍ପାଦନ ସମ୍ଭାବନା

୨) ଉତ୍ତୋଳନ ସହ ମୋଳ ଖାଇବା ପାଇଁ ସମ୍ବଳର ପୁନରୁଦ୍ଧାର କ୍ଷମତା

୩) ଜନସଂଖ୍ୟା ଯାହାକୁ ପ୍ରକୃତି ବହନ କରିବାରେ ସକ୍ଷମ ହୋଇପାରିବ

୪) ବୀରେ ଜୈବିକ ଏବଂ ଅଜୈବିକ କାରକ ଗୁଡ଼ିକର ସମୁଦାୟ ଓଜନ

Question Type : **MCQ**

Question ID : **630680710652**

Option 1 ID : **6306802784315**

Option 2 ID : **6306802784314**

Option 3 ID : **6306802784317**

Option 4 ID : **6306802784316**

Status : **Answered**

Chosen Option : **B**

Marks : **-0.25**

Constitutional Amendment removed the Right to Property as a Fundamental

Amendment

Amendment

Amendment

Amendment

Question Type : **MCQ**

Question ID : **630680810098**

Option 1 ID : **6306803173936**

Option 2 ID : **6306803173938**

Option 3 ID : **6306803173935**

Option 4 ID : **6306803173937**

Status : **Answered**

Chosen Option : **C**

Marks : **1**

ility

n is based on five, three-digit numbers given below.
9 317 492 763 (Right)
cted from each of the given numbers, in how many numbers thus formed
nd digit be greater than the first digit? NOTE- (Example- 697 – First digit =
git = 9 and third digit = 7). All operations to be done from left to right.

»

:

Question Type : **MCQ**
Question ID : **630680373939**
Option 1 ID : **6306801457028**
Option 2 ID : **6306801457029**
Option 3 ID : **6306801457027**
Option 4 ID : **6306801457030**
Status : **Not Answered**
Chosen Option : --
Marks : **0**

from Point A and drives 3 km towards the West. He then takes a left turn,
turns left and drives 7 km. He then takes a right turn and drives 5 km. He
left turn and drive 6 km. He takes a final left turn, drives 7 km and stops at
far (shortest distance) and towards which direction should he drive in
ch Point A again? (All turns are 90 degrees turns only unless specified)

n to the South

1 to the West

to the East

n to the West

Question Type : **MCQ**
Question ID : **630680750679**
Option 1 ID : **6306802942154**
Option 2 ID : **6306802942156**
Option 3 ID : **6306802942155**
Option 4 ID : **6306802942157**
Status : **Answered**
Chosen Option : **D**
Marks : **1**

and Z live on six different floors of the same building. The lowermost floor is numbered 1, the floor above it, number 2 and so on till the topmost numbered 6. R lives immediately above Y. Only two people live between P and an odd numbered floor. X lives immediately below Q. How many people live between Z and Q?

»

Question Type : **MCQ**Question ID : **630680935435**Option 1 ID : **6306803666372**Option 2 ID : **6306803666375**Option 3 ID : **6306803666373**Option 4 ID : **6306803666374**Status : **Answered**Chosen Option : **C**Marks : **1**

Boxes A, B, C, D, E, F and G are kept one over the other but not necessarily in order. Only three boxes are kept below A. Only two boxes are kept between A and B. B is kept immediately above D. F is kept at some place below G and at some place above C. How many boxes are kept below C?

»

Question Type : **MCQ**Question ID : **630680903405**Option 1 ID : **6306803539262**Option 2 ID : **6306803539260**Option 3 ID : **6306803539261**Option 4 ID : **6306803539263**Status : **Answered**Chosen Option : **B**Marks : **1**

In a code language, 'MEAN' is coded as '2467' and 'BINS' is coded as '3715'. What will be the code for 'N' in the given code language?

Question Type : **MCQ**Question ID : **630680959472**Option 1 ID : **6306803761674**

Read the following statements and conclusions carefully. Assuming that the information in the statements is true, even if it appears to be at variance with commonly known facts, decide which of the given conclusion(s) logically follow(s) from the statements.

Statement I: All cubes are cuboids.
Statement II: All cones are cuboids.

Conclusion I: All cubes are cones.
Conclusion II: All cones are cubes.

Option A: Only conclusion (II) follows.

Option B: Both conclusions (I) and (II) follow.

Option C: Only conclusion (I) follows.

Option D: Neither conclusion (I) nor (II) follows.

Question Type : **MCQ**

Question ID : **630680917759**

Option 1 ID : **6306803596194**

Option 2 ID : **6306803596195**

Option 3 ID : **6306803596193**

Option 4 ID : **6306803596196**

Status : **Answered**

Chosen Option : **A**

Marks : **-0.25**

Statement I: G is the grandson of H. H is the husband of M. Q is the only daughter-in-law of M.
Statement II: P is the father of Q. Q is married to N. How is G related to K?

Option A: G is K's son.

Option B: G is K's son.

Option C: G is K's son.

Question Type : **MCQ**

Question ID : **630680287545**

Option 1 ID : **6306801118087**

Option 2 ID : **6306801118089**

Option 3 ID : **6306801118090**

Option 4 ID : **6306801118088**

Status : **Answered**

Chosen Option : **B**

Marks : **-0.25**

given letter, symbol series and answer the question that follows. Counting from left to right only.

9 # & 1 * 2 £ 8 \$ % 4 5 & 6 7 (Right)

uch numbers are there, each of which is immediately preceded by a also immediately followed by a symbol?

Question Type : MCQ

Question ID : 630680959419

Option 1 ID : 6306803761462

Option 2 ID : 6306803761463

Option 3 ID : 6306803761465

Option 4 ID : 6306803761464

Status : Answered

Chosen Option : A

Marks : -0.25

code language,

; 'A is the mother of B',
; 'A is the husband of B',
; 'A is the wife of B' and
; 'A is the son of B'.

above, how is P related to T if 'P x Q ÷ R – S + T'?

er's wife

and's mother

s wife

and's sister

Question Type : MCQ

Question ID : 630680732921

Option 1 ID : 6306802872493

Option 2 ID : 6306802872495

Option 3 ID : 6306802872494

Option 4 ID : 6306802872496

Status : Answered

Chosen Option : B

Marks : -0.25

From Point A and drives 5 km towards west. He then takes a right turn, turns right and drives 10 km. He then takes a right turn and drives 12 km. After a final right turn, drives 5 km and stops at Point P. How far (shortest distance) from Point P, which direction should he drive in order to reach Point A again?

(All turns are 90 degree turns only unless specified.)

Option 1: to the north

Option 2: to the west

Option 3: to the south

Option 4: to the north

Question Type : MCQ

Question ID : 630680750128

Option 1 ID : 6306802940006

Option 2 ID : 6306802940004

Option 3 ID : 6306802940003

Option 4 ID : 6306802940005

Status : Answered

Chosen Option : B

Marks : -0.25

Ability test

A woman goes to her office 15 km away from home. In the morning she covers the distance in 1 hour whereas, while returning home in the evening, she takes 30 more minutes to cover the same distance. Find her average speed (in kmph) during the two-way trip.

Question Type : MCQ

Question ID : 630680894215

Option 1 ID : 6306803502877

Option 2 ID : 6306803502880

Option 3 ID : 6306803502878

Option 4 ID : 6306803502879

Status : Answered

Chosen Option : D

Marks : -0.25

Price of a television set is ₹50000. It is sold to a retailer after two successive discounts of 5% and 12%. The retailer wants to earn a profit of 50% on his cost after a 10% discount (on its new list price) to the customer. At what price should he sell the television set?

58

15

175

53

Question Type : MCQ

Question ID : 630680995102

Option 1 ID : 6306803904436

Option 2 ID : 6306803904438

Option 3 ID : 6306803904435

Option 4 ID : 6306803904437

Status : Answered

Chosen Option : B

Marks : -0.25

Expanded form of $(3a + 2b + 6c)^2$.

$9a^2 + 4b^2 + 36c^2 + 12ab + 19bc + 36ac$

$9a^2 + 4b^2 + 36c^2 + 12ab + 24bc + 36ac$

$9a^2 + 36c^2 + 12ab + 24bc + 46ac$

$9a^2 + 36c^2 + 16ab + 24bc + 36ac$

Question Type : MCQ

Question ID : 630680827368

Option 1 ID : 6306803240810

Option 2 ID : 6306803240807

Option 3 ID : 6306803240809

Option 4 ID : 6306803240808

Status : Answered

Chosen Option : C

Marks : -0.25

Value of $\left[\left(\frac{7}{5}\right)^{-8} \times \left(\frac{5}{7}\right)^{-6} \times \left(\frac{1}{3}\right)^{-2} \right]^{-5}$

$\left(\frac{1}{5}\right)^8$

$\left(\frac{1}{5}\right)^{10}$

$\left(\frac{1}{5}\right)^{10}$

$\left(\frac{1}{5}\right)^8$

Question Type : **MCQ**

Question ID : **630680797315**

Option 1 ID : **6306803124218**

Option 2 ID : **6306803124216**

Option 3 ID : **6306803124219**

Option 4 ID : **6306803124217**

Status : **Answered**

Chosen Option : **C**

Marks : **-0.25**

Two pipes can fill a tank in 6 hours and 18 hours, respectively. The time (in hours) to fill the tank when both pipes are opened simultaneously is:

Adda247

Question Type : **MCQ**

Question ID : **630680947847**

Option 1 ID : **6306803716083**

Option 2 ID : **6306803716081**

Option 3 ID : **6306803716082**

Option 4 ID : **6306803716080**

Status : **Answered**

Chosen Option : **B**

Marks : **-0.25**

by the given expression.

$$5^2)^{\frac{3}{2}} \times 512^{\frac{2}{3}} \div \left(\frac{1}{3}\right)^{-3}$$

Question Type : MCQ

Question ID : 630680954854

Option 1 ID : 6306803743627

Option 2 ID : 6306803743626

Option 3 ID : 6306803743625

Option 4 ID : 6306803743624

Status : Answered

Chosen Option : B

Marks : -0.25

sted a certain sum of money at 10% per annum simple interest. If he interest of ₹72405 after 2 years, the sum (in ₹) he invested is:

50

74

44

125

Question Type : MCQ

Question ID : 630680808924

Option 1 ID : 6306803169278

Option 2 ID : 6306803169276

Option 3 ID : 6306803169277

Option 4 ID : 6306803169275

Status : Answered

Chosen Option : B

Marks : -0.25

members in group A, 47 members in group B and 12 members in group C. bers of these groups went to a restaurant. The average amount spent on r of group A, B and C is ₹499, ₹409 and ₹239, respectively. The total unt (in ₹) spent per member is:

Question Type : MCQ

Question ID : 630680984909

Option 1 ID : 6306803862755

Minimum value of the quadratic expression $-x^2+16$.

Question Type : MCQ

Question ID : 630680199690

Option 1 ID : 630680774369

Option 2 ID : 630680774368

Option 3 ID : 630680774367

Option 4 ID : 630680774370

Status : Answered

Chosen Option : B

Marks : 1

Sudha got 459 and 720 marks respectively in an examination. If Kalpana got 500 marks, then what is the percentage of marks scored by Sudha?

Question Type : MCQ

Question ID : 6306801021549

Option 1 ID : 6306804009247

Option 2 ID : 6306804009246

Option 3 ID : 6306804009244

Option 4 ID : 6306804009245

Status : Answered

Chosen Option : B

Marks : -0.25

Computer literacy

How to print a spreadsheet in MS (Microsoft office) Excel?

Clicking on the printer icon in the toolbar

Pressing Ctrl + P on the keyboard

Right-clicking on the spreadsheet and selecting 'Print' from the context menu

Selecting 'Print' from the Home menu

Question Type : MCQ

Question ID : 630680792919

Option 1 ID : 6306803107041

Option 2 ID : 6306803107043

Option 3 ID : 6306803107042

Option 4 ID : 6306803107040

Clicking on a document in MS-Word and want to quickly change the alignment of the text to be center-aligned using the icons below the menu bar. Which of the icons should you click to achieve this?

- icon with horizontal lines aligned to the right
- icon with horizontal lines justified
- icon with horizontal lines aligned to the left
- icon with horizontal lines aligned to the center

Question Type : MCQ
Question ID : 630680965792
Option 1 ID : 6306803787669
Option 2 ID : 6306803787670
Option 3 ID : 6306803787667
Option 4 ID : 6306803787668
Status : Answered
Chosen Option : C
Marks : -0.25

Which of the following statements best describes the role of application software?

- Application software is responsible for managing the system's memory and disks.
- Application software serves as the interface between the user and the computer.
- Application software is used to control the hardware components of a computer.
- Application software is designed to perform specific tasks such as word processing, management or graphic design.

Question Type : MCQ
Question ID : 6306801057971
Option 1 ID : 6306804154278
Option 2 ID : 6306804154276
Option 3 ID : 6306804154275
Option 4 ID : 6306804154277
Status : Answered
Chosen Option : D
Marks : 1

Which of the following is a function of the Start menu in Windows 11 OS?

- Hide files and applications installed on a computer
- Hide advertisements
- Hide display recently opened files and applications
- Hide launch applications and access programs installed on a computer

Question Type : MCQ
Question ID : 630680755117
Option 1 ID : 6306802959649
Option 2 ID : 6306802959647

Which of the following notations is valid for reference to a cell in Microsoft Excel by its column letter and row number?

|
|

Question Type : **MCQ**
Question ID : **630680915741**
Option 1 ID : **6306803588031**
Option 2 ID : **6306803588030**
Option 3 ID : **6306803588028**
Option 4 ID : **6306803588029**
Status : **Answered**
Chosen Option : **C**
Marks : **1**

In the field of cryptography, which of the following applications of computers is primarily used for ensuring the secure transmission of data over a network, particularly in the context of quantum computing?

Asymmetric Key Encryption based on RSA Algorithm

Quantum Key Distribution (QKD) for Secure Communication

Hash Functions for Data Integrity Verification

Symmetric Key Encryption using Classical Algorithms

Question Type : **MCQ**
Question ID : **6306801056140**
Option 1 ID : **6306804147063**
Option 2 ID : **6306804147064**
Option 3 ID : **6306804147065**
Option 4 ID : **6306804147062**
Status : **Answered**
Chosen Option : **C**
Marks : **-0.25**

When creating a blank PowerPoint presentation, which of the following steps should be taken to ensure a consistent look and feel throughout the presentation?

Immediately start adding text and images to the slides

Apply a theme after completing all slides

Configure the slide layout for each individual slide

Apply a slide master before adding any content

Question Type : **MCQ**
Question ID : **6306801049228**
Option 1 ID : **6306804119078**
Option 2 ID : **6306804119080**
Option 3 ID : **6306804119081**
Option 4 ID : **6306804119079**

Which of the following steps would you follow to open an existing MS PowerPoint presentation?

Click on 'File' > 'New'

Click on 'Insert' > 'New Slide'

Click on 'File' > 'Open'

Click on 'Home' > 'Open'

Question Type : MCQ

Question ID : 6306801049131

Option 1 ID : 6306804118650

Option 2 ID : 6306804118651

Option 3 ID : 6306804118652

Option 4 ID : 6306804118653

Status : Answered

Chosen Option : C

Marks : 1

Which of the following power-saving modes in a Windows OS saves the state of open programs and applications to the hard disk and then completely powers off the system, allowing for zero power consumption until the system is turned back on?

Fast Startup

Fast Startup

Fast Startup

Fast Startup

Question Type : MCQ

Question ID : 6306801058343

Option 1 ID : 6306804155743

Option 2 ID : 6306804155746

Option 3 ID : 6306804155744

Option 4 ID : 6306804155745

Status : Answered

Chosen Option : B

Marks : -0.25

Which of the following keyboard shortcuts in MS Word is used to check the spelling of words in a document?

Ctrl + S

Ctrl + G

Ctrl + F12

Question Type : MCQ

Question ID : 6306801052495

Option 1 ID : 6306804132364

Option 2 ID : 6306804132366

Option 3 ID : 6306804132367

Option 4 ID : 6306804132365