

[Print](#)
 Testdate **02 Feb 2022**
 TestSlot **Shift 2**
Submit
 Q.No: 1 **2427048** Ustad Alla Rakha Khan and Shafat Ahmed Khan were the leading exponent of which musical instrument?

उस्ताद अल्ला रक्खा खान और शफात अहमद खान किस वाद्य यंत्र के प्रमुख प्रतिपादक थे?

Shehnai

A

शहनाई

Tabla

B

तबला

Ankya

C

अंक्य

Kamaicha

D

कामाँचा

Correct Ans : **B**Subject : **General Knowledge**
 Q.No: 2 **2427998** Choose the false statement about Subhas Chandra Bose.

सुभाष चंद्र बोस के बारे में गलत कथन चुनें।

Bose did not share Gandhiji's ideal of ahimsa

A

बोस ने गांधीजी के अहिंसा के आदर्श को साझा नहीं किया

In January 1941, he secretly left his Calcutta home, went to Singapore, via Germany, and raised the Azad Hind Fauj

B

जनवरी 1941 में, उन्होंने गुप्त रूप से अपना कलकत्ता घर छोड़ दिया, जर्मनी के रास्ते सिंगापुर गए, और आजाद हिंद फौज की स्थापना की

In 1938, he became the President of Indian National Congress

C

1938 में, वे भारतीय राष्ट्रीय कांग्रेस के अध्यक्ष बने

In 1942, the Azad Hind Fauz tried to enter India through Imphal and Kohima

D

1942 में, आजाद हिंद फौज ने इंपाल और कोहिमा के माध्यम से भारत में प्रवेश करने का प्रयास किया

Correct Ans : **D**Subject : **General Knowledge**
 Q.No: 3 **2428980** Taxation and Government spending are tools of which of the following policy mentioned below?

कराधान और सरकारी खर्च निम्नलिखित में से किस नीति के उपकरण हैं जिसका उल्लेख नीचे किया गया है?

Contractionary Policy

A

संकुचन नीति

Expansionary Policy

B

विस्तारक नीति

Monetary Policy

C

मौद्रिक नीति

Test Prime

**ALL EXAMS,
ONE SUBSCRIPTION**



70,000+
Mock Tests



Personalised
Report Card



Unlimited
Re-Attempt



600+
Exam Covered



Previous Year
Papers



500%
Refund



ATTEMPT FREE MOCK NOW

Fiscal Policy

D

राजकोषीय नीति

Correct Ans : D

Subject : **General Knowledge**Q.No: 4 The Salt Satyagraha was started by Mahatma Gandhi from the-
2432436

नमक सत्याग्रह महात्मा गांधी ने ----- से शुरू किया था।

Panwar

A

पंवार

Kachh

B

कच्छ

Sevagram

C

सेवाग्राम

Sabarmati

D

साबरमती

Correct Ans : D

Subject : **General Knowledge**Q.No: 5 Who does the work of controlling both the quantity of money supply and the quantity of credit?
2434068

मुद्रा की पूर्ति के परिमाण और साख की मात्रा दोनों को नियंत्रित करने का कार्य कौन करता है ?

Finance Ministry

A

वित्त मंत्रालय

Central bank

B

केन्द्रीय बैंक

Council of Ministers

C

मंत्रिपरिषद

Central government

D

केंद्र सरकार

Correct Ans : B

Subject : **General Knowledge**Q.No: 6 Which of the following newspapers supported the Vernacular Press Act-1878?
2435717

निम्नलिखित में से किस समाचार पत्र ने वर्नाकुलर प्रेस एक्ट-1878 का समर्थन किया?

The Times of India

A

द टाइम्स ऑफ़ इण्डिया

The Hindu

B

द हिंदू

The Pioneer

C

द पायनियर

The Hindustan Times

D

द हिंदुस्तान टाइम्स

Correct Ans : C

Subject : **General Knowledge**

Q.No: 7 Which of the following is not a part of Himalayan range?
2435812

इनमें से कौन हिमालय श्रेणी का हिस्सा नहीं है?

Pir Panjal mountain range

A

पीर पंजाल पर्वत श्रेणी

Dhauladhar mountain range

B

धौलाधार पर्वत श्रेणी

Zaskar mountain range

C

ज़स्कर पर्वत श्रेणी

Aravalli mountain range

D

अरावली पर्वत श्रेणी

Correct Ans : D

Subject : **General Knowledge**

Q.No: 8 Which Indian sports person has been most searched in the search engine Google in 2021?
2437104

सर्च इंजन गूगल पर 2021 में किस भारतीय खिलाड़ी को सबसे अधिक बार खोजा गया है?

Virat Kohli

A

विराट कोहली

Mirabai Chanu

B

मीराबाई चानू

Neeraj Chopra

C

नीरज चोपड़ा

Mahendra Singh Dhoni

D

महेंद्र सिंह धोनी

Correct Ans : C

Subject : **General Knowledge**

Q.No: 9 Baul folk song is related to which of the following Indian states?
2440750

बौल लोक गीत निम्नलिखित में से किस भारतीय राज्य से संबंधित है?

Uttar Pradesh

A

उत्तर प्रदेश

Madhya Pradesh

B

मध्य प्रदेश

Bihar

C

बिहार

West Bengal

D

पश्चिम बंगाल

Correct Ans : D

Subject : **General Knowledge**

Q.No: 10 IIHF World Championship is related to which of the following sports?
2440838

IIHF विश्व चैम्पियनशिप निम्नलिखित में से किस खेल से संबंधित है?

Swimming

A

स्विमिंग

Ice Hockey

B

आइस हॉकी

Fencing

C

फेंसिंग

Rugby

D

रग्बी

Correct Ans : **B**Subject : **General Knowledge**

Q.No: 11 Which proposed ring road around a Madhya Pradesh city will now be a part of the Bharatmala project?

2441022

मध्य प्रदेश के शहर के चारों ओर कौन सा प्रस्तावित रिंग रोड अब भारतमाला परियोजना का हिस्सा होगा?

Sagar

A

सागर

Indore

B

इंदौर

Jabalpur

C

जबलपुर

Bhopal

D

भोपाल

Correct Ans : **C**Subject : **General Knowledge**

Q.No: 12 Who built the Devgarh Fort of Chhindwara?

2441121

छिंदवाड़ा के देवगढ़ किले का निर्माण किसने करवाया था?

Raghuji II

A

रघुजी II

King Jatav

B

राजा जाटव

Bhakth Buland Singh

C

बख्त बुलंद सिंह

Rajendra Pratap Singh

D

राजेंद्र प्रताप सिंह

Correct Ans : **B**Subject : **General Knowledge**

Q.No: 13 In which Indian state the famous actor Arjun Rampal was born?

2441280

प्रसिद्ध अभिनेता अर्जुन रामपाल का जन्म किस भारतीय राज्य में हुआ था?

Jammu & Kashmir

A

जम्मू और कश्मीर

B

Madhya Pradesh

मध्य प्रदेश

Uttar Pradesh

C

उत्तर प्रदेश

Maharashtra

D

महाराष्ट्र

Correct Ans : **B**

Subject : **General Knowledge**

Q.No: 14 The famous Bollywood singer Palak Muchhal was born in which city of Madhya Pradesh?
2441304

प्रसिद्ध बॉलीवुड गायिका पलक मुच्छल का जन्म मध्य प्रदेश के किस शहर में हुआ था?

Bhopal

A

भोपाल

Indore

B

इंदौर

Gwalior

C

खालियर

Khandwa

D

खंडवा

Correct Ans : **B**

Subject : **General Knowledge**

Q.No: 15 Which of the following towns have the tourist spot of the well-known Mango yard?
2441347

निम्नलिखित में से किस शहर में प्रसिद्ध मैंगो यार्ड का पर्यटन स्थल है?

Alirajpur

A

अलीराजपुर

Vidisha

B

विदिशा

Ujjain

C

उज्जैन

Betul

D

बेतुल

Correct Ans : **A**

Subject : **General Knowledge**

Q.No: 16 Which of the following districts borders Uttar Pradesh?
2441456

निम्नलिखित में से किस जिले की सीमा उत्तर प्रदेश से लगती है?

Bhind

A

भिंड

Rajgarh

B

राजगढ़

C

Jabalpur

जबलपुर

Dhar

D

धर

Correct Ans : A

Subject : General Knowledge

Q.No: 17 Madhya Pradesh State Biodiversity Board has been constituted by the State Government as per the provisions of Biological Diversity Act, _____ notified by the Governme
2441510 India.

मध्य प्रदेश राज्य जैव विविधता बोर्ड का गठन भारत सरकार द्वारा अधिसूचित जैविक विविधता अधिनियम, _____ के प्रावधानों के अनुसार राज्य सरकार द्वारा किया गया है।

1999

A

1999

2002

B

2002

2008

C

2008

2012

D

2012

Correct Ans : B

Subject : General Knowledge

Q.No: 18 Who among the following is the Minister of Scheduled Castes Welfare Department in Madhya Pradesh?
2441764

निम्नलिखित में से कौन मध्य प्रदेश में अनुसूचित जाति कल्याण विभाग के मंत्री हैं?

Smt. Meena Singh

A

श्रीमती मीना सिंह

Kamal Patel

B

कमल पटेल

Govind Singh Rajput

C

गोविंद सिंह राजपूत

Gopal Bhargava

D

गोपाल भार्गव

Correct Ans : A

Subject : General Knowledge

Q.No: 19 _____ is the main crop of Damoh.
2441798

दमोह की प्रमुख फसल है -

Chick-pea

A

काबुली चना

Lentil

B

मसूर

Millet

C

बाजरा

Gram

D

चना (ग्राम)

Correct Ans : D

Subject : General Knowledge

Q.No: 20 Which district houses the fish seed production farm in Jevnara village?
2441816

जेवनारा गांव में मछली बीज उत्पादन फार्म किस जिले में स्थित है?

Sagar

A

सागर

Shahdol

B

शाहडोल

Seoni

C

सिवनी

Sehore

D

सीहोर

Correct Ans : C

Subject : General Knowledge

Q.No: 21 Which of the following is used to measure the atmospheric pressure?
2425743

निम्न में से किसका प्रयोग वायुमंडलीय दाब मापने के लिए किया जाता है?

Anemometer

A

एनीमोमीटर

Barometer

B

बैरोमीटर

Ammeter

C

एम्पिटर

Thermometer

D

थर्मामीटर

Correct Ans : B

Subject : General Science

Q.No: 22 What is the study of energy and matter transitions as they approach equilibrium?
2425900

ऊर्जा और पदार्थ के संक्रमण का अध्ययन क्या है जब वे संतुलन के करीब पहुंचते हैं?

Equilibrium thermodynamics

A

संतुलन ऊष्मप्रवैगिकी

Classical Thermodynamics

B

शास्त्रीय ऊष्मप्रवैगिकी

Chemical Thermodynamics

C

रासायनिक ऊष्मप्रवैगिकी

Statistical Thermodynamics

D

सांख्यिकीय ऊष्मप्रवैगिकी

Correct Ans : A

Subject : General Science

Q.No: 23 Our living organisms (mostly humans) place should be:
2428990

हमारे जीवित जीवों (ज्यादातर इंसानों) का स्थान होना चाहिए:

Open place

A

सुती जगह

Closed place

B

बंद जगह

Clean place

C

साफ जगह

Unclean place / Untidy

D

अशुद्ध स्थान / अस्वच्छ

Correct Ans : C

Subject : **General Science**

Q.No: 24 Which one of the following is the wrong purpose for National Parks in our country?
2429107

निम्नलिखित में से कौन सा हमारे देश में राष्ट्रीय उद्यानों के लिए गलत उद्देश्य है?

National parks protect places of natural beauty.

A

राष्ट्रीय उद्यान प्राकृतिक सुंदरता के स्थानों की रक्षा करते हैं।

National park is home to many endemic species.

B

राष्ट्रीय उद्यान कई स्थानिक प्रजातियों का घर है।

They also protect places important to aboriginal people, and places that show how people lived in the past.

C

वे आदिवासी लोगों के लिए महत्वपूर्ण स्थानों और उन स्थानों की भी रक्षा करते हैं जो दिखाते हैं कि लोग अतीत में कैसे रहते थे।

National parks are not protected areas.

D

राष्ट्रीय उद्यान संरक्षित क्षेत्र नहीं हैं।

Correct Ans : D

Subject : **General Science**

Q.No: 25 Herbivores eat only _____.
2429231

शाकाहारी केवल _____ खाते हैं

Producers

A

उत्पादक

Herbivores

B

शाकभक्षी

Both plants and meat.

C

पौधे और मांस दोनों।

Omnivores

D

सर्वाहारी

Correct Ans : A

Subject : **General Science**

Q.No: 26 Directions: The following question consists of two statements one labeled as "Assertion" and the other as "Reason". You have to examine these two statements carefully and s
2429934 the correct answer to the question from the given options.

Assertion: (A) Body thin, soft, leaf-like or ribbon-like.

Reason: (R) The organism belongs to phylum Platyhelminthes.

निर्देश: निम्नलिखित प्रश्न में दो कथन हैं जिनमें से एक को "अधिकथन" और दूसरे को "कारण" के रूप में लेबल किया गया है। आपको इन दोनों कथनों की सावधानीपूर्वक जांच करनी है और दिए गए विकल्पों में से प्रश्न का सही उत्तर

अधिकथन: (ए) शरीर पतला, मुलायम, पत्ती जैसा या रिबन जैसा।

कारण: (R) जीव प्लेटिहेल्मिन्थ फ्राइलम से संबंधित है।

(A) is true but (R) is false.

A

(A) सच है लेकिन (R) गलत है।

(A) is false

B

(A) गलत है

(R) is false.

C

(R) गलत है।

(R) is the correct explanation for (A).

D

(R) (A) के लिए सही स्पष्टीकरण है।

Correct Ans : D

Subject : **General Science**

Q.No: 27 Sponges belongs to
2429966

स्पंज का संबंध है

chordate

A

कॉर्डेट

non-chordate

B

गैर-कॉर्डेट

hemi chordate

C

हेमी कॉर्डेट

balanoglossus

D

बैलेनोग्लोसस

Correct Ans : B

Subject : **General Science**

Q.No: 28 Complete combustion takes place in which zone of candle flame?
2430160

मोमबत्ती की लौ के किस क्षेत्र में पूर्ण दहन होता है?

Inner zone

A

आंतरिक क्षेत्र

Outer zone

B

बाहरी क्षेत्र

Middle zone

C

मध्य क्षेत्र

Dark zone

D

डार्क जोन

Correct Ans : B

Subject : **General Science**

Q.No: 29 Directions: The following question consists of two statements one labeled as "Assertion" and the other as "Reason". You have to examine these two statements carefully and select the correct answer to the question from the given options.
2430361

Assertion(A): When a comb is rubbed with dry hair it attracts small bits of paper.

Reason(R): When the comb is rubbed with dry hair, it gains electrons from the hair and acquires a negative charge.

निर्देश: निम्नलिखित प्रश्न में दो कथन हैं जिनमें से एक को "अधिकथन" और दूसरे को "कारण" के रूप में लेबल किया गया है। आपको इन दोनों कथनों की सावधानीपूर्वक जांच करनी है और दिए गए विकल्पों में से प्रश्न का सही उत्तर

https://mppeb.cbexams.com/MPPEB_Cand_Objections/PCRT_obj_adminpanel/Final_Model_Answer.aspx

9/36

अधिकथन (A) : जब कंधी को सूखे बालों से रगड़ा जाता है तो वह कागज के छोटे-छोटे टुकड़ों को आकर्षित करती है।

कारण (R) : जब कंधी को सूखे बालों से रगड़ा जाता है, तो यह बालों से इलेक्ट्रॉन ग्रहण करती है और ऋणात्मक आवेश प्राप्त कर लेती है।

Both A and R are true

A

A और आर दोनों सत्य हैं

Both A and R are false

B

A और R दोनों असत्य हैं

A is true but R is false.

C

A सत्य है लेकिन R असत्य है।

A is false but R is true.

D

A असत्य है लेकिन R सत्य है।

Correct Ans : A

Subject : **General Science**

Q.No: 30 Which of the following vitamins is also known as ascorbic acid?
2430965

निम्नलिखित में से कौन सा विटामिन एस्कॉर्बिक एसिड के रूप में भी जाना जाता है?

Vitamin D

A

विटामिन डी

Vitamin A

B

विटामिन ए

Vitamin C

C

विटामिन सी

Vitamin B

D

विटामिन बी

Correct Ans : C

Subject : **General Science**

Q.No: 31 What is the name of the method of converting a solid to a gaseous state without going through the liquid state?
2431608

द्रव अवस्था से गुजरे बिना किसी ठोस को गैसीय अवस्था में बदलने की विधि का क्या नाम है?

Melting

A

गलन

Sublimation

B

उर्ध्वपातन

Evaporation

C

वाष्पीकरण

Condensation

D

संघनन

Correct Ans : B

Subject : **General Science**

Q.No: 32 For frogs, thyroxine production requires the presence of _____ in water.
2432485

मेढकों में थायरोक्सिन उत्पादन के लिए पानी में _____ की उपस्थिति की आवश्यकता होती है।

A

Iodine

आयोडीन

Magnesium

B

कार्मेल

Potassium

C

पोटैशियम

Calcium

D

कैल्शियम

Correct Ans : **A**Subject : **General Science**Q.No: 33 Asbestosis is actually a/an _____ disease.
2434308

एस्बेस्टोसिस वास्तव में एक _____ का रोग है।

Lung

A

फेफड़े

Dental

B

चिकित्सकीय

Eye

C

नेत्र

Kidney

D

किडनी

Correct Ans : **A**Subject : **General Science**Q.No: 34 Which of the following is NOT an inflammable substance?
2437186

निम्नलिखित में से कौन एक ज्वलनशील (इंफ्लेमेबल) पदार्थ नहीं है?

Petrol

A

पेट्रोल

Alcohol

B

शराब

LPG

C

एलपीजी

Oxygen

D

ऑक्सीजन

Correct Ans : **D**Subject : **General Science**Q.No: 35 Who propounded the theory of evolution?
2439920

विकास का सिद्धांत किसके द्वारा प्रतिपादित किया गया था?

Charles Darwin

A

चार्ल्स डार्विन

Charles babbage

B

चार्ल्स बैबेज

C

Charles Metcuff

चार्ल्स मेटकॉफ़

Johnson Charles

D

जॉनसन चार्ल्स

Correct Ans : A

Subject : General Science

Q.No: 36 Choose the correct mirror image/jpg of this combination- CXGDYT642JI
2425697

इस संयोजन की सही दर्पण छवि चुनें- CXGDYT642JI

IIΩIΩTYDXΩC

A

CΩDXDYITΩI

IIΩIΩTYΩDXC

B

CΩDXIΩTYΩDXC

CΩDXIΩTYΩDXC

C

CΩDXIΩTYΩDXC

CΩGDYITΩI

D

CΩGDYITΩI

Correct Ans : D

Subject : General Reasoning

Q.No: 37 Select the letter-cluster that is related to the third letter-cluster in the same way as the second letter-cluster is related to the first letter-cluster.
2426307

REASON : EIDRVN :: BEGUM : ?

उस अक्षर-समूह का चयन करें जो तीसरे अक्षर-समूह से उसी प्रकार संबंधित है जैसे दूसरा अक्षर-समूह, पहले अक्षर-समूह से संबंधित है।

REASON : EIDRVN :: BEGUM : ?

SGHMJ

A

SGHMJ

UIJOL

B

UIJOL

UIJOL

C

UHNKI

UHNKI

D

UJKPM

Correct Ans : B

Subject : General Reasoning

Q.No: 38 Select the option /number which is related to 3rd number in the same way as 2nd number is related to a
2426435 1st number?

8 : 26 :: 28 : ?

उस संख्या /विकल्प का चयन करें जो तीसरी संख्या से उसी प्रकार संबंधित है जैसे दूसरी संख्या पहली संख्या से संबंधित है।

8 : 26 :: 28 : ?

81

A

81

89

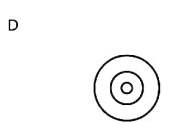
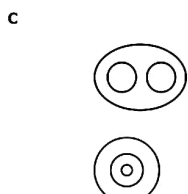
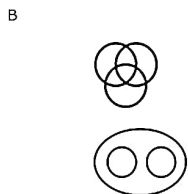
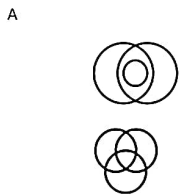
- B 89
- 84
- C 84
- 86
- D 86

Correct Ans : D

Subject : General Reasoning

Q.No: 39 Which of the following diagram indicates best relation between Fuel, Coal and Petroleum?
2426750

निम्नलिखित में से कौन सा अरिख ईधन, कोयला और पेट्रोलियम के बीच सबसे अच्छे संबंध को दर्शाता है?

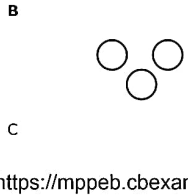
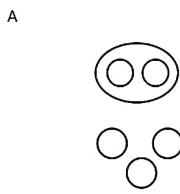


Correct Ans : C

Subject : General Reasoning

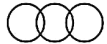
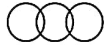
Q.No: 40 Which of the following diagram indicates best relation between Air, Water and Soil?
2426800

निम्नलिखित में से कौन सा अरिख वायु, जल और मिट्टी के बीच सबसे अच्छे संबंध को दर्शाता है?



Correct Ans : C

Subject : General Reasoning



D



Correct Ans : B

Subject : General Reasoning

Q.No: 41 2429569 Pointing to a woman in the photograph, Raveena said, "Her son's father is the son-in-law of my father." How is Raveena related to the woman?

तस्वीर में एक महिला की ओर इशारा करते हुए, रवीना ने कहा, "उसके पुत्र के पिता मेरे पिता के दामाद हैं।" रवीना उस महिला से किस प्रकार संबंधित है?

Mother

A

माता

Sister

B

बहन

Grandmother

C

दादी/नानी

Aunt

D

आंट

Correct Ans : B

Subject : General Reasoning

Q.No: 42 2429676 Neeraj walked 20 m towards east, took a right turn and walked 10 m. Then he took a left turn and walked 20 m. in which direction is he now from the starting point?

नीरज पूर्व की ओर 20 मीटर चलता है, दाएं मुड़ता है और 10 मीटर चलता है। फिर वह बाएं मुड़ता है और 20 मीटर चलता है। वह अब प्रारंभिक बिंदु से किस दिशा में है?

NORTH-EAST

A

उत्तर-पूर्व

WEST -SOUTH

B

पश्चिम-दक्षिण

SOUTH -EAST

C

दक्षिण-पूर्व

SOUTH -WEST

D

दक्षिण-पश्चिम

Correct Ans : C

Subject : General Reasoning

Q.No: 43 2433139 In the following question, a certain series of numbers or letters is given of which one series is empty. You have to decide which of the alternative series of the answer will be the blank space that is originally related to the sequence of that series.

A1, Z26, B2, Y25, C3, X24, D4, W23, E5, V22, ?, ?

निम्नलिखित प्रश्न में, संख्याओं या अक्षरों की एक निश्चित श्रृंखला दी गई है, जिसमें से एक श्रृंखला खाली है। आपको यह तय करना है कि मूल रूप से उस श्रृंखला के अनुक्रम से संबंधित रिक्त स्थान में उत्तर की कौन सी वैकल्पिक श्रृंखला उपयोग किया जाएगा।

A1, Z26, B2, Y25, C3, X24, D4, W23, E5, V22, ?, ?

A

F6, S19

F6, S19

F6, V22

B

F6, V22

F6, T20

C

F6, T20

F6, U21

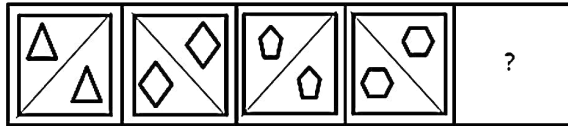
D

F6, U21

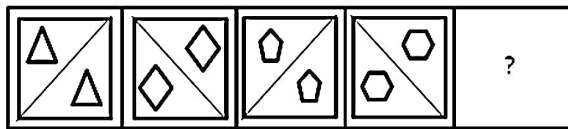
Correct Ans : D

Subject : General Reasoning

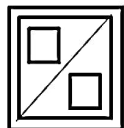
Q.No: 44 Select the figure that will come next in the following figure series.
2434132



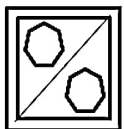
उस आकृति का चयन करें जो निम्नलिखित आकृति श्रृंखला में आगे आएगी।



A



B

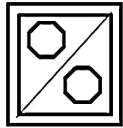


C



D



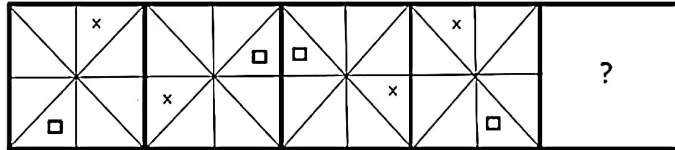


Correct Ans : B

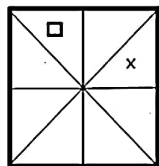
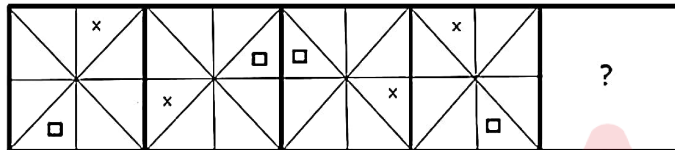
Subject : General Reasoning

Q.No: 45 Select the option that will come next in the given series.

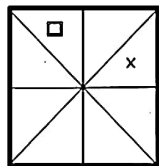
2434164



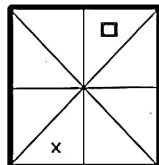
उस विकल्प का चयन करें जो दी गई श्रृंखला में आगे आएगा।



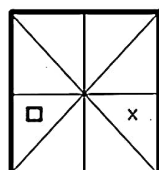
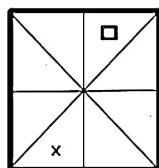
A

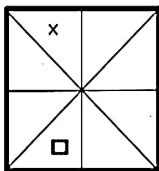
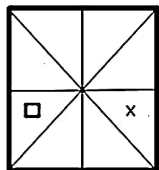


B

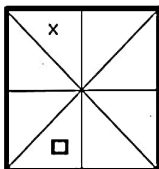


C





D



Correct Ans : B

Subject : General Reasoning

Q.No: 46 Select the letter-cluster that can replace the question mark (?) in the following series.

2434362

DPI, BME, ZJA, XGW, ?

निम्नलिखित श्रृंखला में उस अक्षर-समूह का चयन करें जो प्रश्न चिह्न (?) को प्रतिस्थापित कर सकता है।

DPI, BME, ZJA, XGW, ?

UCT

A

UCT

VDT

B

VDT

VCS

C

VCS

VDS

D

VDS

Correct Ans : D

Subject : General Reasoning



Q.No: 47 Three of the following four letter clusters are alike in a certain way and one is different. Find the odd one out.

2435022

निम्नलिखित चार अक्षर समूहों में से तीन एक निश्चित तरीके से समान हैं और एक अलग है। विषम चुनें।

JNSY

A

JNSY

GJMP

B

GJMP

CGLR

C

CGLR

EINT

D

EINT

Correct Ans : B

Subject : General Reasoning

Q.No: 48 In the following question, select the odd number pair from the given alternatives.
2435064

निम्नलिखित प्रश्न में दिए गए विकल्पों में से विषम संख्या युग्म को चुनिए।

79 - 16

A

79 - 16

62 - 7

B

62 - 7

92 - 11

C

92 - 11

85 - 13

D

85 - 13

Correct Ans : B

Subject : General Reasoning

Q.No: 49 Find the odd word/letters/ number from the given alternatives.
2438933

दिए गए विकल्पों में से विषम शब्द/अक्षर/संख्या को चुनिए।

13

A

13

17

B

17

29

C

29

87

D

87

Correct Ans : D

Subject : General Reasoning

Q.No: 50 Mayank said, "My mother is the sister of Rajat's brother." What is Rajat's relation with Mayank?
2439296

मयंक ने कहा, "मेरी माँ रजत के भाई की बहन है।" रजत का मयंक से क्या संबंध है?

Cousin

A

चचेरा भाई

Maternal uncle

B

मामा

Uncle

C

अंकल

Brother-in-law

D

जीजाजी

Correct Ans : B

Subject : General Reasoning

Q.No: 51 Given question has main statement followed by four statements. Choose the ordered pair of statements, where the first statement implies the second, and the two statements logically consistent with the main statement.

If my mother cooks dinner, she garnishes extra cheese for me.

- A. my mother cooked the dinner
- B. my mother did not cook dinner
- C. My food is garnished with extra cheese.
- D. My food is not garnished with extra cheese.

दिए गए प्रश्न में मुख्य कथन और उसके बाद चार कथन हैं। कथनों का क्रमित युग्म चुनें, जहाँ पहले कथन का तात्पर्य दूसरे कथन से है, और दो कथन तार्किक रूप से मुख्य कथन से संगत हैं।
अगर मेरी माँ रात का खाना बनाती है, तो वह मेरे लिए अतिरिक्त पनीर सजाती है।

- A. मेरी माँ ने रात का खाना बनाया
- B. मेरी माँ ने रात का खाना नहीं बनाया
- C. मेरा भोजन अतिरिक्त पनीर से सजाया गया है।
- D. मेरा भोजन अतिरिक्त पनीर से नहीं सजाया गया है।

BD

A

BD

BC

B

BC

DA

C

DA

DB

D

DB

Correct Ans : **D**

Subject : **General Reasoning**

Q.No: 52 Given question has main statement followed by four statements. Choose the ordered pair of statements, where the first statement implies the second, and the two statements
2440324 logically consistent with the main statement.

You are either responsible or callous.

- A. You are responsible
- B. You are not responsible
- C. You are callous
- D. You are not callous

दिए गए प्रश्न में मुख्य कथन और उसके बाद चार कथन हैं। कथनों का क्रमित युग्म चुनें, जहाँ पहले कथन का तात्पर्य दूसरे कथन से है, और दो कथन तार्किक रूप से मुख्य कथन से संगत हैं।
आप या तो जिम्मेदार हैं या कठोर।

- A. आप जिम्मेदार हैं
- B. आप जिम्मेदार नहीं हैं
- C. आप कठोर हैं
- D. आप कठोर नहीं हैं

AC

A

AC

DA

B

DA

CD

C

CD

AB

D

AB

Correct Ans : **B**

Subject : **General Reasoning**

Q.No: 53 Given question has main statement followed by four statements. Choose the ordered pair of statements, where the first statement implies the second, and the two statements
2440395 logically consistent with the main statement.

The cards will be distributed by either the HR or the manager

- A. The cards were distributed by the HR
B. The cards were not distributed by the HR
C. The cards were distributed by the manager
D. The cards were not distributed by the manager

दिए गए प्रश्न में मुख्य कथन और उसके बाद चार कथन हैं। कथनों का क्रमित युग्म चुनें, जहाँ पहले कथन का तात्पर्य दूसरे कथन से है, और दो कथन तार्किक रूप से मुख्य कथन से संगत हैं।

कार्ड या तो मानव संसाधक (HR) या प्रबंधक द्वारा वितरित किए जाएंगे

- A. कार्ड HR द्वारा वितरित किए गए थे
B. कार्ड HR द्वारा वितरित नहीं किए गए थे
C. कार्ड प्रबंधक द्वारा वितरित किए गए थे
D. कार्ड प्रबंधक द्वारा वितरित नहीं किए गए थे

AB

A

AB

DA

B

DA

CA

C

CA

BD

D

BD

Correct Ans : **B**

Subject : **General Reasoning**

Q.No: 54 Select the option that is related to the third term in the same way as the second term is related to the first term.
2441946

GPLC : INNA :: WIDZ : ?

उस विकल्प का चयन करें जो तीसरे पद से उसी प्रकार संबंधित है जिस प्रकार दूसरा पद पहले पद से संबंधित है।

GPLC : INNA :: WIDZ : ?

YGGX

A

YGGX

YHFX

B

YHFX

YGFX

C

YGFX

YHGX

D

YHGX

Correct Ans : **C**

Subject : **General Reasoning**

Q.No: 55 Find the related word from the given alternatives.
2442028

Plant : Grow

दिए गए विकल्पों में से संबंधित शब्द ज्ञात करें।

पौधा : उगना

A

Pint: Liquid
पिंट: तरल

B

Fire : Burn

आग : जलना

- C **Struggle : Victory**
संघर्ष : विजय
- D **Wood: Steel**
लकड़ी : इस्पात

Correct Ans : B

Subject : **General Reasoning**

Q.No: 56 Simplify: $424 - [64 + \{21 - 3(44 - 42)\}]$
2422380

सरल कीजिए: $424 - [64 + \{21 - 3(44 - 42)\}]$

- A
375
- B
490
- C
345
- D
576

Correct Ans : C

Subject : **General Maths**

Q.No: 57 What number must be added to each term to the ratio 64 : 81 to make the ratio 8 : 9 ?
2429443

प्रत्येक पद में 64 : 81 के अनुपात में कौन सी संख्या जोड़ी जानी चाहिए ताकि अनुपात 8 : 9 हो जाए?

- A
21
- B
22
- C
15
- D
72

Correct Ans : D

Subject : **General Maths**

Q.No: 58 A grocer wishes to sell a mixture of two variety of tea worth Rs.26 per Kg. In what ratio must he mixed the tea to reach the selling price.
2432729

एक किराना विक्रेता दो प्रकार की चाय के मिश्रण की कीमत 26 रु. प्रति किया बेचना चाहता है। बिक्री मूल्य तक पहुंचने के लिए उसे चाय को किस अनुपात में मिलाना चाहिए ?

- A
5:1
- B
5:6
- C
5:3
- D
5:4

Correct Ans : B

Subject : General Maths

Q.No: 59 A 50 liter mixture of containing 10% honey, how much honey should be added to it so that the new mixture contains 25% ?
2432733

10% शहद वाले 50 लीटर मिश्रण में कितना शहद मिलाया जाना चाहिए ताकि नए मिश्रण में 25% हो?

13L

A

13L

10L

B

10L

5L

C

5L

7L

D

7L

Correct Ans : B

Subject : General Maths

Q.No: 60 The ratio of milk and sugar in the container is 2:3 when 20L of the mixture is taken out & is replaced by the sugar the ratio becomes 3:4. Then total quantity of the mixture in container is
2432760

कंटेनर में दूध और चीनी का अनुपात 2:3 है जब मिश्रण का 20 लीटर निकाला जाता है और चीनी द्वारा प्रतिस्थापित किया जाता है तो अनुपात 3: 4 हो जाता है। तो कंटेनर में मिश्रण की कुल मात्रा है

90

A

90

80

B

80

60

C

60

70

D

70

Correct Ans : B

Subject : General Maths

Q.No: 61 What should come in place of question mark in the following number series?
2433077

$$\frac{38 \times 624}{30\% \text{ of } 160} = ?$$

निम्नलिखित संख्या-श्रृंखला में प्रश्नचिन्ह (?) के स्थान पर क्या आना चाहिए?

$$\frac{38 \times 624}{30\% \text{ of } 160} = ?$$

491

A

491

490

B

490

494

C

494

496

D

496

Correct Ans : C

Subject : General Maths

Q.No: 62
2433096 What should come in place of question mark in the following number series?

$$2 \times 324 \times ? = 9^2 \times 22^2 \times 6$$

निम्नलिखित संख्या-श्रृंखला में प्रश्नचिन्ह (?) के स्थान पर क्या आना चाहिए?

$$2 \times 324 \times ? = 9^2 \times 22^2 \times 6$$

366

A

366

364

B

364

359

C

359

363

D

363

Correct Ans : D

Subject : General Maths

Q.No: 63
2433837 Find the average of the six numbers 22, 24, 32, 40, 36, and 38.

छ: संख्याओं 22, 24, 32, 40, 36 और 38 का औसत ज्ञात कीजिए।

30

A

30

32

B

32

34

C

34

24

D

24

Correct Ans : B

Subject : General Maths

Q.No: 64
2433878 The average score of 10 students on an examination is 60. By including one student, the average score becomes 62. Find the marks of that student.

एक परीक्षा में 10 छात्रों का औसत अंक 60 है। एक छात्र को शामिल करने से औसत अंक 62 हो जाता है। उस छात्र के अंक ज्ञात कीजिए।

60

A

60

82

B

82

84

C

84

85

D

85

Correct Ans : B

Subject : General Maths

Q.No: 65
2433903 In a class, there are 54 students. $33\frac{1}{3}\%$ of the number of students are boys and rest girls. The average score in mathematics of boys is 50% more than that of the girls. If the average score of all the students is 70, then what is the average score of the boys?

एक कक्षा में 54 विद्यार्थी हैं। छात्रों की संख्या का $33\frac{1}{3}\%$ लड़के और बाकी लड़कियां हैं। लड़कों के गणित में औसत अंक लड़कियों की तुलना में 50% अधिक है। यदि सभी छात्रों का औसत अंक 70 है, तो लड़कों का औसत अंक क्या है?

87

A

87

90

B

90

81

C

81

84

D

84

Correct Ans : B

Subject : General Maths

Q.No: 66
2433917 The average mark obtained by 3 departments is 848. If the average marks obtained by the students of physics department of 15 students is 64 and the average marks of the students of chemistry department of 12 students is 72. Find the average marks of the students of Maths department having 9 students.

तीन विभागों द्वारा प्राप्त किए गए औसत अंक 848 हैं। यदि भौतिक विभाग के 15 छात्रों द्वारा प्राप्त किए गए औसत अंक 64 है और रसायन विज्ञान विभाग के 12 छात्रों के औसत अंक 72 हैं। गणित विभाग के 9 छात्रों के औसत अंक कीजिए।

80

A

80

78

B

78

81

C

81

74

D

74

Correct Ans : A

Subject : General Maths

Q.No: 67
2433936 Simplify: $(14 - 8) \times (3 + 7)$

सरल कीजिए: $(14 - 8) \times (3 + 7)$

60

A

60

67

B

67

88

C

88

89

D

89

Correct Ans : A

Subject : General Maths

Q.No: 68 Evaluate: $37.18\bar{8} \div 3.6$.
2433984मान ज्ञात कीजिए: $37.18\bar{8} \div 3.6$.

9.8

A

9.8

9.66

B

9.66

10.33

C

10.33

11.6

D

11.6

Correct Ans : C

Subject : General Maths

Q.No: 69 Alloy A contain 40% copper and rest is tin. Alloy B contain 74% copper; 10% tin & rest are impurities. In which ratio both alloys are mixed so that in new mixture % of tin will
2434844 25%?

मिश्रधातु A में 40% तांबा और बाकी टिन है। मिश्रधातु B में 74% तांबा 10% टिन और बाकी अशुद्धियाँ हैं। किस अनुपात में दोनों मिश्र धातु को मिलाया जायेगा ताकि नए मिश्रण में टिन का प्रतिशत, 25% हो जाए?

3 : 7

A

3 : 7

3 : 5

B

3 : 5

2 : 3

C

2 : 3

4 : 3

D

4 : 3

Correct Ans : A

Subject : General Maths

Q.No: 70 Distribute Rs 1710 in the ratio 7 : 13 : 37
2435363

1710 रुपये को 7 : 13 : 37 के अनुपात में वितरित करें।

210, 390, 1110

A

210, 390, 1110

110, 350, 1000

B

110, 350, 1000

100, 300, 980

C

100, 300, 980

150, 390, 1110

D

150, 390, 1110

Correct Ans : A

Subject : General Maths

Q.No: 71 If in a symbolic language 'TEACHING' is written 'CHEATING' then 'GRADIENT' will be written in the same language as?
2422560

यदि किसी सांकेतिक भाषा में 'TEACHER' को 'CHEATING' लिखा जाए तो 'GRADIENT' को उसी भाषा में लिखा जाएगा जिसमें?

DIRAGENT

A

DIRAGENT

DIAGRENT

B

DIAGRENT

DIERATING

C

DIERATING

RATIGEND

D

RATIGEND

Correct Ans : A

Subject : **Mental Ability**

Q.No: 72 In a row of 40 patients, Nia is 26th in row from right end & Sonia is 12th from left end. How many patients are between them?
2425566

40 रोगियों के एक तीर में निया दायें छोर से 26वें और सोनिया बायें छोर से है। उनके बीच कितने मरीज हैं?

3

A

3

1

B

1

7

C

7

2

D

2

Correct Ans : D

Subject : **Mental Ability**

Q.No: 73 In a row of 35 students, A is 10th from right end. Then find the rank of A from left end.
2425602

35 छात्रों की एक पंक्ति में A दायें छोर से 10वें स्थान पर है। तो बाएं छोर से A की रैंक ज्ञात कीजिए?

26

A

26

27

B

27

29

C

29

25

D

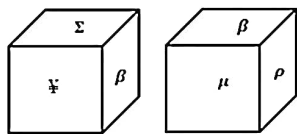
25

Correct Ans : A

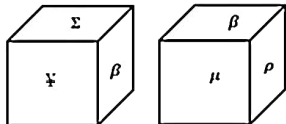
Subject : **Mental Ability**

Q.No: 74
2429616

Two positions of the same dice are shown. There are six symbols on the cube that is \forall , ∞ , μ , ρ , β , Σ , what will be in front of symbol β ?



एक ही पासे की दो अलग-अलग स्थिति दिखाई गई है। पासे पर छः चिह्न \forall , ∞ , μ , ρ , β , Σ हैं। चिह्न β के सामने क्या आयेगा।



∞

A

∞

Σ

B

Σ

\forall

C

\forall

ρ

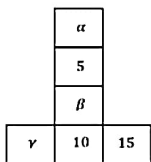
D

ρ

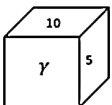
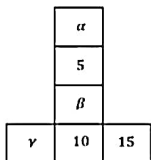
Correct Ans : A

Subject : **Mental Ability**

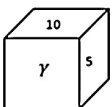
Q.No: 75 From the given option, which answer figure can be made based on the unfolded cube in the question figure?
2433359



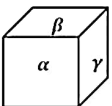
दिए गए विकल्प में से प्रश्न आकृति में खुले घन के आधार पर कौन-सी उत्तर आकृति बनाई जा सकती है?

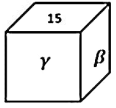
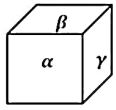


A

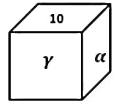
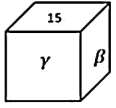


B

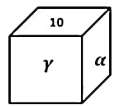




C



D



Correct Ans : D

Subject : Mental Ability

Q.No: 76 In a certain code language, **TEST** is written as **SUDFRTSU**. How will **STAFF** be written as in that language?
2434428

एक निश्चित कूट भाषा में, **TEST** को **SUDFRTSU** के रूप में लिखा जाता है। तो उसी कूट भाषा में **STAFF** को कैसे लिखा जाएगा?

RTSUZBEGGE

A

RTSUZBEGGE

RTSUZBEGEG

B

RTSUZBEGEG

TRUSZBEGEG

C

TRUSZBEGEG

RTSUZBEGGE

D

RTSUZBEGGE

Correct Ans : B

Subject : Mental Ability



Q.No: 77 Read the given statements and conclusions carefully. Assuming that the information given in the statements is true, even if it appears to be at variance with commonly known decide which of the given conclusions logically follow(S) from the statements.
2435514

Statements: All red are yellow.

All yellow are brown.

Conclusions: I. Some yellow are red.

II. Some brown are red.

III. Some red are not brown.

IV. All brown are yellow.

दिए गए कथनों और निष्कर्षों को ध्यानपूर्वक पढ़ें। यह मानते हुए कि कथनों में दी गई जानकारी सही है, भले ही यह सामान्यतः ज्ञात तथ्यों के साथ विचरण करती हो, यह निर्णय करें कि दिए गए निष्कर्षों में से कौन सा/से निष्कर्ष तार्किक से दिए गए कथनों का अनुसरण करता है/हैं।

कथन:

सभी लाल, पीले हैं।

सभी पीले, भूरे हैं।

निष्कर्ष:

I. कुछ पीले, लाल हैं।

II. कुछ भूरे, लाल हैं।

III. कुछ लाल, भूरे नहीं हैं।

IV. सभी भूरे, पीले हैं।

Only conclusion I and II.

A

केवल निष्कर्ष I और II

Conclusion I, II and III.

B

निष्कर्ष I, II और III

Either conclusion I or conclusion II.

C

या तो निष्कर्ष I या निष्कर्ष II

Either conclusion II or conclusion III.

D

या तो निष्कर्ष II या निष्कर्ष III

Correct Ans : A

Subject : **Mental Ability**

Q.No: 78 Which of the following will come in the place of question mark?
2438631

c - bba - cab - ac - ab - ac

निम्नलिखित में से क्या प्रश्नवाचक चिन्ह के स्थान पर आएगा ?

c - bba - cab - ac - ab - ac

bcacb

A

bcacb

babcc

B

babcc

abcbc

C

abcbc

acbc

D

acbc

Correct Ans : D

Subject : **Mental Ability**

Q.No: 79 Which of the following will come in the place of question mark?
2438642

a_cb_dcd_de_

निम्नलिखित में से क्या प्रश्नवाचक चिन्ह के स्थान पर आएगा ?

a_cb_dcd_de_

bcef

A

bcef

befc

B

befc

bacd

C

bacd

bcfe

D

bcfe

Correct Ans : A

Subject : **Mental Ability**

Q.No: 80 Complete the following series
2438765

97, 83, 73, 67, 59, _____

निम्नलिखित श्रृंखला को पूरा करें

97, 83, 73, 67, 59, _____

53

A

53

49

B

49

47

C

47

51

D

51

Correct Ans : C

Subject : **Mental Ability**

Q.No: 81 If book is called newspaper, newspaper is called dictionary, dictionary is called television, television is called magazine and magazine is called computer. Which of the following use find the meaning of a word?
2439228

अगर किताब को अखबार, अखबार को डिक्शनरी, डिक्शनरी को टेलीविजन, टेलीविजन को मैगजीन और मैगजीन को कंप्यूटर कहा जाए। निम्नलिखित में से किसका उपयोग हम किसी शब्द का अर्थ ढूँढ़ने के लिए कर सकते हैं?

Computer

A

कंप्यूटर

Dictionary

B

शब्दकोश

Book

C

किताब

Television

D

टेलीविजन

Correct Ans : D

Subject : **Mental Ability**

Q.No: 82 If 'room' is called 'bed' 'bed' is called 'window', 'window' is called 'flower' and 'flower' is called 'cooler' on what would a man sleep?
2439266

यदि 'कमरे' को 'बिस्तर' कहा जाए, 'बिस्तर' को 'खिड़की' कहा जाए, 'खिड़की' को 'फूल' कहा जाए और 'फूल' को 'कूलर' कहा जाए तो मनुष्य किस पर सोएगा?

Window

A

खिड़की

Bed

B

बिस्तर

Flower

C

फूल

Cooler

D

कूलर

Correct Ans : A

Subject : **Mental Ability**

Q.No: 83 I am seventh in the queue from either end. How many people are there in the queue?
2439535

मैं किसी भी छोर से कतार में सातवें स्थान पर हूँ। कतार में कुल कितने व्यक्ति हैं?

A 10

10

11

B

11

13

C

13

14

D

14

Correct Ans : C

Subject : **Mental Ability**

Q.No: 84 Which one word can be formed from the following letters ?

2442878

b c k a t r o p d

निम्नलिखित अक्षरों से कौन सा एक शब्द बनाया जा सकता है?

b c k a t r o p d

banknote

A

banknote

backdropt

B

backdropt

bankrupt

C

bankrupt

blinders

D

blinders

Correct Ans : B

Subject : **Mental Ability**

Q.No: 85 Arrange the following words according to dictionary arrangement:

2443044

a. Epitaxy b. Episode c. Epigene d. Epitome e. Epilogue

निम्नलिखित शब्दों को शब्दकोश व्यवस्था के अनुसार व्यवस्थित कीजिए:

a. Epitaxy b. Episode c. Epigene d. Epitome e. Epilogue

A

a, b, c, d, e
a, b, c, d, e

B

c, e, b, a, d
c, e, b, a, d

C

e, d, b, a, c
e, d, b, a, c

D

c, b, e, d, a
c, b, e, d, a

Correct Ans : B

Subject : **Mental Ability**

Q.No: 86 167 men can complete the electric fitting in a building in 57 days. How many days will it take if 90 men do the job?

2423705

167 आदमी एक इमारत में बिजली की फिटिंग को 57 दिनों में पूरा कर सकते हैं। 90 आदमी उस काम को कितने दिन में करेंगे?

9519/90 days

A

9519/90 दिन

1882/5 days

B

1882/5 दिन

C 543/23 days

543/23 दिन

3245/18 days

D

3245/18 दिन

Correct Ans : A

Subject : General Aptitude

Q.No: 87 A cistern can be filled by one tap in 15 hours, and by another in 17 hours How long will it take to fill the cistern if both taps are opened together?
2423727

एक टंकी को एक नल 15 घंटे में और दूसरा नल 17 घंटे में भर सकता है। यदि दोनों नलों को एक साथ खोल दिया जाए तो टंकी को भरने में कितना समय लगेगा?

431/12 hours

A

431/12 घंटे

255/32 hours

B

255/32 घंटे

242/27 hours

C

242/27 घंटे

349/21 hours

D

349/21 घंटे

Correct Ans : B

Subject : General Aptitude

Q.No: 88 Find the parallelogram's area if its base is 19.8 cm and height is 5.4 cm.
2426248

यदि इसका आधार 19.8 सेमी है और ऊंचाई 5.4 सेमी है तो समानांतर के क्षेत्र का पता लगाए।

60.6 cm²

A

60.6 सेमी²

51.55 cm²

B

51.55 सेमी²

106.92 cm²

C

106.92 सेमी²

45.77 cm²

D

45.77 सेमी²

Correct Ans : C

Subject : General Aptitude

Q.No: 89 Calculate the trapezium's height if length of its two parallel sides are a = 12.4 cm and b = 15.6 cm and area is 185 cm².
2426263

यदि इसके दो समानांतर पक्षों की लंबाई a = 12.4 सेमी और b = 15.6 सेमी है और क्षेत्र 185 सेमी² है तो ट्रैपेज़ियम की ऊंचाई की गणना करें।

23.44 cm

A

23.44 सेंटीमीटर

13.21 cm

B

13.21 सेंटीमीटर

C

9.77 cm

9.77 सेंटीमीटर

12.47 cm

D

12.47 सेंटीमीटर

Correct Ans : B

Subject : General Aptitude

Q.No: 90 If the hemisphere's radius is 10.5 cm then, calculate the hemisphere's surface area.
2426269

यदि गोलार्द्ध का त्रिज्या 10.5 सेमी है, तो गोलार्द्ध के सतह क्षेत्र की गणना करें।

1218.2 cm²

A

1218.2 सेमी²1562.4 cm²

B

1562.4 सेमी²2158.9 cm²

C

2158.9 सेमी²1039.5 cm²

D

1039.5 सेमी²

Correct Ans : D

Subject : General Aptitude

Q.No: 91 A26845237977B is divisible by 12 find the value of A and B?
2427675

A26845237977B, 12 से विभाज्य है A और B का मान ज्ञात कीजिए।

2,2

A

2,2

8,4

B

8,4

9,3

C

9,3

4,2

D

4,2

Correct Ans : A

Subject : General Aptitude

Q.No: 92 A certain number of books were purchased for Rs.300. Five more books could have been purchased in the same amount if each book was cheaper by Rs.10. The number of books purchased was:
2431243

300 रु. में कुछ किताबें खरीदी गईं। उसी धनराशि में पाँच और किताबें खरीदी जा सकती थीं, यदि प्रत्येक किताब का मूल्य रु.10 कम होता। खरीदी गई किताबों की संख्या थी:

20
20

A

15

B

15

10

C

10

18

D

18

Correct Ans : C

Subject : General Aptitude

Q.No: 93

https://mppeb.cbexams.com/MPPEB_Cand_Objections/PCRT_obj_adminpanel/Final_Model_Answer.aspx

33/36

2434582 The numbers of visitors every hour in a shop from 1 p.m. to 8 p.m. on Monday were recorded as 7, 10, 15, 22, 6, 4 and 13. Find the arithmetic mean of visitors.

सोमवार को दोपहर 1 बजे से रात 8 बजे तक एक दुकान में हर घंटे आगंतुकों की संख्या को 7, 10, 15, 22, 6, 4 और 13. के रूप में दर्ज किया गया था। आगंतुकों की संख्या का समानांतर माध्य ज्ञात कीजिए।

9

A

9

11

B

11

10

C

10

13

D

13

Correct Ans : B

Subject : General Aptitude

Q.No: 94 Find the perimeter of a rhombus whose diagonals are 6 cm and 8 cm long.

2434660

एक समचतुर्भुज की परिमाप ज्ञात करें जिसके विकर्ण 6 सेमी और 8 सेमी लम्बे हों।

20 cm

A

20 सेमी

40 cm

B

40 सेमी

30 cm

C

30 सेमी

28 cm

D

28 सेमी

Correct Ans : A

Subject : General Aptitude

Q.No: 95 If A, B and C can do a job working alone in 12, 18 and 36 days respectively. They all work together for 3 day, then B quits. How many days will A and C take to finish rest of th

2436060

A, B तथा C किसी काम को क्रमशः 12, 18 और 36 दिन में कर लेते हैं। वे सभी 3 दिन तक एक साथ काम करते हैं और फिर B काम छोड़ देता है। इस काम को पूरा करने के लिए A तथा C को कितना समय लगेगा?

9 days

A

9 दिन

4.5 days

B

4.5 दिन

3.5 days

C

3.5 दिन

5 days

D

5 दिन

Correct Ans : B

Subject : General Aptitude

Q.No: 96 If the sum of a number and its reciprocal be 2, then the number is-

2436168

यदि एक संख्या और उसके व्युत्क्रम का योग 2 हो, तो वह संख्या है-

A

0

- 0
1
B
1
-1
C
-1
2
D
2

Correct Ans : B

Subject : General Aptitude

Q.No: 97 The sum of ages of father and son is 62 years. If 7 years ago father's age was 5 times of his son's age. The age of son after 6 years will be?
2436906

एक पिता और पुत्र की आयु का योग 62 वर्ष है यदि 7 वर्ष पहले पिता की आयु उसके पुत्र की आयु का 5 गुना थी। तो 6 वर्ष बाद बेटे की आयु क्या होगी?

- 20 years
A
20 वर्ष
21 years
B
21 वर्ष
8 years
C
8 वर्ष
15 years
D
15 वर्ष

Correct Ans : B

Subject : General Aptitude

Q.No: 98 The ratio of Asha's age 4 years ago and Aisha's age after 4 years is 1: 1. Presently, the ratio of their ages is 5: 3. Find the ratio between Asha's age 4 years hence and Aisha's
2436920 years ago.

4 वर्ष पहले आशा की आयु और 4 वर्ष के बाद ऐशा की आयु का अनुपात 1: 1 है, वर्तमान में उनकी आयु का अनुपात 5: 3 है। 4 वर्ष बाद आशा की आयु और 4 वर्ष पहले ऐशा की आयु का अनुपात ज्ञात कीजिए।

- 1:3
A
1:3
3:1
B
3:1
4:3
C
4:3
3:4
D
3:4

Correct Ans : B

Subject : General Aptitude

Q.No: 99 What is the greatest number that will exactly divide 96,528 and 792.
2436957

वह सबसे बड़ी संख्या क्या होगी जो 96,528 और 792 को पूर्णतया विभाजित करेगी?

- 24
A
24
B
12

12**48**

C

48**96**

D

96Correct Ans : **A**Subject : **General Aptitude**Q.No: 100 What will come in place of Question mark (?) in the following number series?
2444635

4, 8, 11, 22, 18, (?), 25, 50

निम्नलिखित संख्या प्रणाली में प्रश्नवाचक चिन्ह (?) के स्थान पर क्या आयेगा?

4, 8, 11, 22, 18, (?), 25, 50

A **36****36****B** **35****35****C** **46****46****D** **56****56**Correct Ans : **A**Subject : **General Aptitude**