



MPESB 2024
Group-4, Asstt. Grade -3 Stenotypist , Stenographer &
Other Post Combined Recruitment Test - 2023 - Reports

[View Challenged Items/](#)
शिकायती प्रश्न देखें

[View Report](#)

[View QP](#)

[View Candidate Response](#)

[Print Objection](#)

[View Candidate Question](#)

Moderator
logged in. [
Logout]

[Print](#)

Testdate

18 Jul 2023 ▼

TestSlot

Shift 1 ▼

Submit

Q.No: 1 For which language, Ram Darsh Mishra has been given the Saraswati Samman for 2021?
2620302

राम दरश मिश्र को किस भाषा के लिए 2021 का सरस्वती सम्मान दिया गया है?

Gujarati

A

गुजराती

Marathi

B

मराठी

Sindhi

C

सिंधी

Hindi

D

हिंदी

Correct Ans : **D**

Subject : **General Knowledge graduate**

Q.No: 2 Which of the following is a constitutional body?
2622346

निम्नलिखित में से कौन सा एक संवैधानिक निकाय है?

National Development Council

A

राष्ट्रीय विकास परिषद

Finance Commission

B

वित्त आयोग

Test Prime

**ALL EXAMS,
ONE SUBSCRIPTION**



70,000+
Mock Tests



**Personalised
Report Card**



**Unlimited
Re-Attempt**



600+
Exam Covered



**Previous Year
Papers**



500%
Refund



ATTEMPT FREE MOCK NOW

NITI Aayog

C

नीति आयोग

Food Corporation of India (FCI)

D

भारतीय खाद्य निगम (एफसीआई)

Correct Ans : **B**

Subject : **General Knowledge graduate**

Q.No: 3 Goods in which decrease in price of one good result in the increase in the demand for other good is known as?
2623434

वह सामान जिसमे एक वस्तु के मूल्य कम होने से, दूसरी वस्तु की मांग बढ़ जाये। उन्हें क्या कहा जाता है ?

Complementary Goods

A

पूरक वस्तुएं

Normal Goods

B

सामान्य वस्तुएं

Inferior Goods

C

निकृष्ट वस्तुएं

Substitute Goods

D

वैकल्पिक वस्तुएं

Correct Ans : **A**

Subject : **General Knowledge graduate**

Q.No: 4 Who heads the National Integration Council?
2623676

राष्ट्रीय एकता परिषद की अध्यक्षता कौन करता है?

Prime Minister

A

प्रधानमंत्री

Health Minister

B

स्वास्थ्य मंत्री

C

Culture Minister

संस्कृति मंत्री

Women and Health welfare minister

D

महिला एवं स्वास्थ्य कल्याण मंत्री

Correct Ans : **A**

Subject : **General Knowledge graduate**

Q.No: 5 How many constellations are there in our Solar System?

2624584

हमारे सौरमंडल में कितने नक्षत्र हैं?

87

A

87

88

B

88

89

C

89

90

D

90

Correct Ans : **B**

Subject : **General Knowledge graduate**

Q.No: 6 Where is Trikoota Hill located in Madhya Pradesh ?

2651190

मध्य प्रदेश में त्रिकूट पहाड़ी कहाँ स्थित है?

Nepanagar

A

नेपानगर

Dewas

B

देवास

C

Maihar

मैहर

Khandwa

D

खंडवा

Correct Ans : **C**Subject : **General Knowledge graduate**Q.No: 7 S. H. Raza was an eminent _____.
2652058

एस.एच. रजा एक प्रख्यात _____ थे।

painter**A**

चित्रकार

writer

B

लेखक

singer

C

गायक

Athlete

D

धावक

Correct Ans : **A**Subject : **General Knowledge graduate**Q.No: 8 The archaeological evidence of which dance form dating back to the second century BC is found from Udayagiri and Khandagiri caves?
2679704

उदयगिरी और खंडगिरी की गुफाओं से किस नृत्य रूप के, दूसरी शताब्दी ईसा पूर्व के पुरातत्विक प्रमाण पाए जाते हैं?

Kuchipudi Dance

A

कुचिपुड़ी नृत्य

Odissi Dance

B

ओडिसी नृत्य

Mohiniyattam Dance

C

मोहिनीअट्टम नृत्य

Kathak Dance

D

कथक नृत्य

Correct Ans : **B**

Subject : **General Knowledge graduate**

Q.No: 9 Which of the following kingdoms was not a part of the Tripartite Struggle that took place in India during the 8th-10th centuries CE?
2680655

निम्नलिखित में से कौन सा राज्य 8 वीं -10 वीं शताब्दी ईस्वी के दौरान भारत में हुए त्रिपक्षीय संघर्ष का हिस्सा नहीं था?

Pratihara

A

प्रतिहार

Rashtrakuta

B

राष्ट्रकूट

Pala

C

पाल

Maurya

D

मौर्य

Correct Ans : **D**

Subject : **General Knowledge graduate**

Q.No: 10 Who is the first Indian Sovereign to use the title Ghazi?
2680689

गाजी शीर्षक का उपयोग करने वाला पहला भारतीय सम्राट कौन है?

Ghiyas-ud-din Tughlaq

A

गयासुद्दीन तुगलक

Muhammad-bin-tughlak

B

मुहम्मद-बिन-तुगलक

Muhammad Ghur

C

मुहम्मद घुर

None of the given options

D

दिए गए विकल्पों में से कोई नहीं

Correct Ans : **A**

Subject : **General Knowledge graduate**

Q.No: 11 The Norwegian and South Chilean Coasts are examples of –
2680775

नोर्वेजियन एवं दक्षिण चिली तट निम्न में से किसके उदाहरण है?

Criques

A

सिरके

Fjords

B

फियोर्ड

Moraines

C

मोरैन

Barkhan

D

बर्खन

Correct Ans : **B**

Subject : **General Knowledge graduate**

Q.No: 12 Which Indian state has the highest number of tiger reserves?
2684882

किस भारतीय राज्य में बाघ अभयारण्यों की संख्या सबसे अधिक है?

Madhya Pradesh

A

मध्य प्रदेश

Maharashtra

B

महाराष्ट्र

Karnataka

C

कर्नाटक

D

Tamil Nadu

तमिलनाडु

Correct Ans : **A**

Subject : **General Knowledge graduate**

Q.No: 13 Who was the first Indian woman to climb Mount Everest?
2684929

माउंट एवरेस्ट पर चढ़ने वाली पहली भारतीय महिला कौन थी?

Bachendri Pal

A

बछेंद्री पाल

Santosh Yadav

B

संतोष यादव

Premlata Agarwal

C

प्रेमलता अग्रवाल

Arunima Sinha

D

अरुणिमा सिन्हा

Correct Ans : **A**

Subject : **General Knowledge graduate**

Q.No: 14 Diwali will be a public school holiday in which of the following city from 2023?
2691466

दीवाली 2023 से निम्नलिखित में से किस शहर में पब्लिक स्कूल की छुट्टी रहेगी?

New York

A

न्यूयॉर्क

Canberra

B

कैनबरा

Dubai

C

दुबई

D

Singapore

सिंगापुर

Correct Ans : A

Subject : **General Knowledge graduate**

Q.No: 15 Which of the following international organization is not headquartered in Geneva?
2732673

निम्नलिखित में से किस अंतर्राष्ट्रीय संगठन का मुख्यालय जिनेवा में नहीं है?

International Labour Organisation

A

अंतरराष्ट्रीय श्रम संगठन

International Standards Organisation

B

अंतर्राष्ट्रीय मानक संगठन

United Nations Conference on Trade & Development

C

व्यापार और विकास पर संयुक्त राष्ट्र सम्मेलन

United Nations Industrial Development Organisation

D

संयुक्त राष्ट्र औद्योगिक विकास संगठन

Correct Ans : D

Subject : **General Knowledge graduate**

Q.No: 16 _____ has two regional offices located in Toronto, Canada (since 1979) and Tokyo, Japan (since 1984).
2732696

_____ के दो क्षेत्रीय कार्यालय टोरंटो, कनाडा (1979 से) और टोक्यो, जापान (1984 से) में स्थित हैं।

IAEA

A

आईईए

FAO

B

एफएओ

NATO

C

नाटो

D

SEBI

सेबी

Correct Ans : **A**Subject : **General Knowledge graduate**

Q.No: 17 14 June is celebrated as the World Blood Donor Day on the occasion of the birth-anniversary of a famous biologist
2732837 _____.

14 जून को प्रसिद्ध जीवविज्ञानी _____ की जयंती के अवसर पर विश्व रक्त दाता दिवस के रूप में मनाया जाता है।

Karl Landsteiner**A**

कार्ल लैंडस्टीनर

August Krogh**B**

अगस्त क्रोग

Robert Koch**C**

रॉबर्ट कोच

William Einthoven**D**

विलियम एंथोवन

Correct Ans : **A**Subject : **General Knowledge graduate**

Q.No: 18 Identify the segment in the sentence which contains the grammatical error from the given options.
2621231

To protect the planet and coffee producing, Nespresso is battling climate change from the ground up by planting millions of trees.

A To protect the planet**B and coffee producing,****C Nespresso is battling climate change****D by planting millions of trees.**Correct Ans : **B**Subject : **General English graduate**

Q.No: 19 Select the wrongly spelt word.
2621475

A Integrety**B Exclusive****C Adorable****D Validate**

Correct Ans : **A**

Subject : **General English graduate**

Q.No: 20 Find the most appropriate option for the given blank space which can make the given sentence grammatically and contextually correct.
2648632

He made several _____ suggestions.

- A helpful**
- B carefully**
- C cleverly**
- D contest**

Correct Ans : **A**

Subject : **General English graduate**

Q.No: 21 Select the correctly spelt word.
2665292

- A Entirty**
- B Gratious**
- C Discern**
- D Contestent**

Correct Ans : **C**

Subject : **General English graduate**

Q.No: 22 Select the correct synonym of the given word.
2675214

METICULOUS

- A sloppy**
- B sentimental**
- C diligent**
- D mushy**

Correct Ans : **C**

Subject : **General English graduate**

Q.No: 23 In the following question, a sentence has been given in Active/Passive Voice. Out of the four alternatives suggested, select the one which best expresses the same sentence in Passive/Active Voice.
2676021

She is managing the finances for the event.

- A The finances for the event are managed by her.**
- B The finances for the event have been managed by her.**

C The finances for the event are being managed by her.

D The finances for the event are be managed by her.

Correct Ans : **C**

Subject : **General English graduate**

Q.No: 24 In the question below, a sentence is given with a blank. From the options below, choose the correct idiom that can fit in the blank to make the sentence grammatically and meaningfully correct.
2676420

As he grew old, he finally decided _____ and let his son run the family business.

A To take a bite out of

B To take a bow

C To take a back seat

D To take a beating

Correct Ans : **C**

Subject : **General English graduate**

Q.No: 25 In the following question, out of the four alternatives, choose the one that can be substituted for the given group of words.
2676718

A person who avoids activity of any sort due to laziness

A Insomniac

B Intrepid

C Inebriated

D Indolent

Correct Ans : **D**

Subject : **General English graduate**

Q.No: 26 In the below question, a part of the sentence is bracketed. Below are given alternatives to the bracketed part which may improve the sentence. Choose the correct alternative. In case no improvement is required, choose 'No Improvement' option.
2676816

The government (need a road map to expand) the direct tax pie by using a more proactive Big Data-driven approach to target evaders.

A Needs a road map to expand

B Needs a road map to expands

C Needs a road map to expanded

D No improvement

Correct Ans : **A**

Subject : **General English graduate**

Q.No: 27 In the below question, a part of the sentence is bracketed. Below are given alternatives to the bracketed part
2676841 which may improve the sentence. Choose the correct alternative. In case no improvement is required, choose 'No Improvement' option.

The advancing monsoon has brought relief to many parts of India, but its progress has been slower than average, and the country is (still in the midst of a) rainfall deficit.

- A **Still on the midst of a**
- B **Still midst in the**
- C **Still in the midst a**
- D **No improvement**

Correct Ans : **D**

Subject : **General English graduate**

Q.No: 28 A sentence/a part of the sentence is bracketed. Four alternatives are given for the bracketed part which will
2676942 improve the sentence. Choose the correct alternative and click the button corresponding to it. In case no improvement is needed, click the button corresponding to "No improvement".

You can (put off) at my cousin's house in New Jersey.

- A **put out**
- B **put up**
- C **put on**
- D **No Improvement**

Correct Ans : **B**

Subject : **General English graduate**

Q.No: 29 In the sentence, identify the segment which contains the grammatical error.
2677454

During heavy rainfall or extreme storms that produce an abundance of water, you'll often hear weather reports warning of flooding.

- A **No error**
- B **storms that produce**
- C **often hear weather**
- D **During heavy**

Correct Ans : **A**

Subject : **General English graduate**

Q.No: 30 In the following question a sentence is given in Direct/Indirect speech. Out of the four alternatives choose the one
2686516 which best expresses the same sentence in Indirect/Direct Speech.

Kapil Sharma said, "Science students visit laboratory every Monday."

- A **Kapil Sharma said that science students visit laboratory every Monday.**

- B **Kapil Sharma said that science students had been visiting laboratory every Monday.**
- C **Kapil Sharma says that science students were visited laboratory every Monday.**
- D **Kapil Sharma says that science students would have visited laboratory every Monday.**

Correct Ans : **A**

Subject : **General English graduate**

Q.No: 31 In the following question, there are six sentences marked S1, S6, P, Q, R, S. The positions of S1 and S6 are fixed.
2689608 You are required to choose one of the four alternatives which would be the most logical sequence of the sentence in the passage.

S1. We do not know whether the machines are the masters or we are.

P: They must be given or rather fed with coal and given petrol to drink from time to time.

Q: Already man spends most of his time looking after and waiting upon them.

R: Yet he has grown so dependent on them that they have almost become the master now.

S: It is very true that they were made for the sole purpose of being man's servants.

S6. And if they don't get their meals when they expect them, they will just refuse to work.

- A **QSPR**
- B **QPSR**
- C **PRSQ**
- D **SRQP**

Correct Ans : **D**

Subject : **General English graduate**

Q.No: 32 Out of the following choose the word which expresses the right meaning of the given word.
2692862

Aplomb

- A **Arrogance**
- B **Annoyance**
- C **Poise**
- D **Authority**

Correct Ans : **C**

Subject : **General English graduate**

Q.No: 33 Select the most appropriate option to fill in the blank.
2727960

Scientists have created a flock of sheep _____ carry the gene for a lethal inherited brain disorder in humans.

- A **who**

- B **when**
- C **which**
- D **while**

Correct Ans : C

Subject : **General English graduate**

Q.No: 34 Select the most appropriate antonym of the given word.
2729119

MINIATURE

- A **Teeny**
- B **Mammoth**
- C **Miniscule**
- D **Average**

Correct Ans : B

Subject : **General English graduate**

Q.No: 35 Which of the following might be a method for error recovery on a simplex data link?
2635734

सिम्पलेक्स डेटा लिंक पर एरर रिकवरी के लिए निम्न में से कौन-सा तरीका हो सकता है?

Backward Error Correction (BEC)

A

बेकवर्ड एरर करेक्शन (बीईसी)

Use of Hamming Code

B

हैमिंग कोड का उपयोग

Automatic Repeat Request (ARQ)

C

ऑटोमेटिक रिपिट रिक्वेस्ट (एआरक्यू)

Downward Error Correction (BEC)

D

डाउनवर्ड एरर करेक्शन (बीईसी)

Correct Ans : B

Subject : **General Computer Graduate**

Q.No: 36 What is the full form of GOOGLE?
2635839

GOOGLE का पूरा नाम क्या है?

- A **Global Orient of Oriented Group Language of Earth**

Global Orient of Oriented Group Language of Earth

Global Organization of Oriented Group Language of Earth

B

Global Organization of Oriented Group Language of Earth

Global Orient of Oriented Group Limited of Earth

C

Global Orient of Oriented Group Limited of Earth

Global Oriented of Organization Group Language of Earth

D

Global Oriented of Organization Group Language of Earth

Correct Ans : **B**

Subject : **General Computer Graduate**

Q.No: 37 The output of the operations is provided by the ALU and stored in the which part?
2635897

ऑपरेशन का आउटपुट ALU द्वारा प्रदान किया जाता है और किस भाग में संग्रहीत (store) किया जाता है?

Memory devices

A

मेमोरी डिवाइस

Registers

B

रजिस्टर्स

Flags

C

फ्लैग्स

Output units

D

आउटपुट यूनिट्स

Correct Ans : **B**

Subject : **General Computer Graduate**

Q.No: 38 A _____ is a domain name that has at least one IP address associated.
2636865

_____ किसी डोमेन का नाम है जिसके साथ कम से कम एक आईपी एड्रेस जुड़ा होता है।

A

Top-level domain

टॉप लेवल डोमेन

Host name

B

होस्ट नेम

Server name

C

सर्वर नेम

System name

D

सिस्टम नेम

Correct Ans : **B**

Subject : **General Computer Graduate**

Q.No: 39 What do you call a computer system that has at least two processors?
2636882

कम से कम दो प्रोसेसर वाले कंप्यूटर सिस्टम को आप क्या कहते हैं?

Simple processor computer

A

सिंपल प्रोसेसर कंप्यूटर

Single processor computer

B

सिंगल प्रोसेसर कंप्यूटर

Multiprocessor computer

C

मल्टीप्रोसेसर कंप्यूटर

Some processor computer

D

कुछ प्रोसेसर कंप्यूटर

Correct Ans : **C**

Subject : **General Computer Graduate**

Q.No: 40 Intelligent quotient (I.Q.) level of computer is _____.
2636954

कंप्यूटर का इंटेलिजेंट कोशेंट (I.Q.) स्तर (level) _____ है।

0

A

0

B

100

100

120

C

120

Infinite

D

असिमित

Correct Ans : A

Subject : **General Computer Graduate**

Q.No: 41 Which of the following has menus and buttons that enable rapid access to frequently used commands?
2638952

निम्नलिखित में से किसमें मेनू और बटन होते हैं जो बार-बार उपयोग किए जाने वाले कमांड को तेजी से एक्सेस करने में सक्षम होते हैं?

Find

A

फाईंड

Window

B

विंडो

Menu bar

C

मेन्यू बार

Toolbar

D

टूल बार

Correct Ans : D

Subject : **General Computer Graduate**

Q.No: 42 What do you understand by point-point link?
2639085

बिंदु-बिंदु लिंक (point-point link) से आप क्या समझते हैं?

Physical links limited to a pair of nodes

A

नोड्स की एक जोड़ी तक सीमित भौतिक लिंक (**Physical links**)

B

Physical links limited to a pair of area

क्षेत्र की एक जोड़ी तक सीमित भौतिक लिंक (Physical links)

Physical links limited to a pair of location

C

लोकेशन की एक जोड़ी तक सीमित भौतिक लिंक (Physical links)

Physical links limited to a pair of electronic device

D

इलेक्ट्रॉनिक उपकरणों की एक जोड़ी तक सीमित भौतिक लिंक (Physical links)

Correct Ans : A

Subject : **General Computer Graduate**

Q.No: 43 On which one of the following output devices is hard copy often displayed?
2644902

निम्नलिखित में से किस आउटपुट डिवाइस पर अक्सर हार्ड कॉपी प्रदर्शित होती है?

Monitor

A

मॉनिटर

Scanner

B

स्कैनर

Printer

C

प्रिंटर

Key Board

D

कीबोर्ड

Correct Ans : C

Subject : **General Computer Graduate**

Q.No: 44 _____ of a channel is the range of frequencies available for transmission of data through that channel.
2675667

एक चैनल का _____ उस चैनल के माध्यम से डेटा के संचरण के लिए उपलब्ध आवृत्तियों की सीमा है।

Bandwidth

A

बैंडविड्थ

B

Frequency rate

आवृत्ति दर

Transmission

C

संचरण

Data communication

D

डेटा संचार

Correct Ans : **A**

Subject : **General Computer Graduate**

Q.No: 45 To speed up the operations of the CPU, a very high speed memory is placed between the CPU and the primary memory known as:
2675696

सीपीयू के संचालन को तेज करने के लिए, सीपीयू और प्राथमिक स्मृति के बीच एक बहुत ही उच्च गति मेमोरी रखी जाती है:

Generic

A

जेनेरिक

Hardware

B

हार्डवेयर

Cache

C

कैश

Data transfer

D

डेटा स्थानांतरण

Correct Ans : **C**

Subject : **General Computer Graduate**

Q.No: 46 Which sequence of operation is used to insert the hidden formula bar in Excel worksheet?
2678267

एक्सेल वर्कशीट में हिडन फॉर्मूला बार इन्सर्ट करने के लिए किस सीक्वेंस ऑफ ऑपरेशन का उपयोग किया जाता है?

View → Show/hide → Formula bar

A

View → Show/hide → Formula bar

B

Insert → show/hide → Formula bar

Insert → show/hide → Formula bar

Data → show/hide → Formula bar

C

Data → show/hide → Formula bar

Home → show/hide → formula bar

D

Home → show/hide → formula bar

Correct Ans : **A**

Subject : **General Computer Graduate**

Q.No: 47 Which of the following combination is not correct?

2681057

निम्नलिखित में से कौन सा संयोजन सही नहीं है?

Compiler – converts machine code into language code

A

कम्पाइलर - मशीन कोड को भाषा कोड में परिवर्तित करता है

Assembler – converts code written in assembly language to machine code

B

असेंबलर - असेंबली भाषा में लिखे कोड को मशीन कोड में परिवर्तित करता है

Interpreter – converts a line at time in an executable code

C

इंटरप्रेटर - समय पर एक लाइन को निष्पादन योग्य कोड में परिवर्तित करता है

Translators – some examples are assembler, compiler and interpreter.

D

ट्रान्सलेटर - कुछ उदाहरण असेंबलर, कंपाइलर और इंटरप्रेटर हैं।

Correct Ans : **A**

Subject : **General Computer Graduate**

Q.No: 48 Which of the following printer is the fastest?

2681064

निम्न में से कौन सा प्रिंटर सबसे तेज है?

Dot matrix

A

डॉट मैट्रिक्स

Daisy wheel printer

B

डेज़ी व्हील प्रिंटर

Drum printer

C

ड्रम प्रिंटर

Laser printer

D

लेजर प्रिंटर

Correct Ans : **D**

Subject : **General Computer Graduate**

Q.No: 49 The administrative privileges are available to only a user known as:
2684481

एडमिनिस्ट्रेटिव प्रिविलेज केवल _____ के रूप में ज्ञात उपयोगकर्ता के लिए उपलब्ध हैं।

Root user

A

रूट यूजर

Stem user

B

स्टेम यूजर

Under user

C

अंडर यूजर

Task user

D

टास्क यूजर

Correct Ans : **A**

Subject : **General Computer Graduate**

Q.No: 50 From the options given below the motherboard does not contain what?
2698838

नीचे दिए गए विकल्पों में से मदरबोर्ड में क्या नहीं होता है?

Processor

A

प्रोसेसर

B

Memory chips

मेमोरी चिप्स

Keyboard

C

कीबोर्ड

Sockets

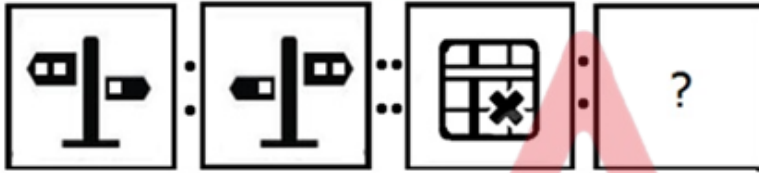
D

सॉकेट

Correct Ans : C

Subject : General Computer Graduate

Q.No: 51 Select the option that is related to the figure in the same way that the second figure is related to the first figure.
2629452



उस विकल्प का चयन करें जो तीसरी आकृति से उसी तरह संबंधित है जैसे दूसरी आकृति पहली आकृति से संबंधित है।



A



B





C



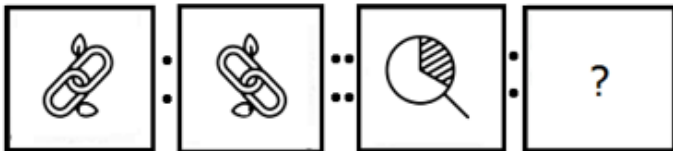
D



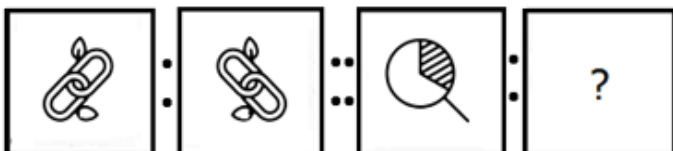
Correct Ans : B

Subject : General Aptitude Graduate

Q.No: 52 Select the option that is related to the figure in the same way that the second figure is related to the first figure.
2629491



उस विकल्प का चयन करें जो तीसरी आकृति से उसी तरह संबंधित है जैसे दूसरी आकृति पहली आकृति से संबंधित है।





A



B



C



D



Correct Ans : B

Subject : **General Aptitude Graduate**

Q.No: 53 **2641095** Nine friends decided to go to a juice corner. 8 of them spent Rs. 40 each for juice. The ninth one spent Rs. 20 more than the average expenditure of all the nine. The total money spent by all of them was:

नौ दोस्तों ने एक जूस कॉर्नर पर जाने का फैसला किया। उनमें से 8 ने जूस के लिए 40 रू. प्रत्येक व्यक्ति खर्च किए और नौवें व्यक्ति ने सभी नौ के औसत खर्च से 20 रू अधिक खर्च किए। उन सभी द्वारा खर्च किया गया कुल धन था:

Rs. 260.00

A

Rs. 260.00

Rs. 292.50

B

Rs. 292.50

Rs. 382.50

C

Rs. 382.50

Rs. 400.50

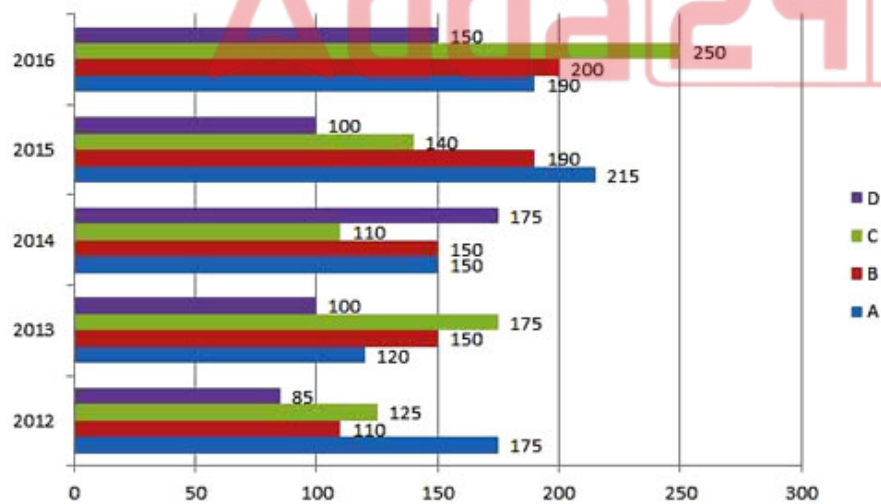
D

Rs. 400.50

Correct Ans : C

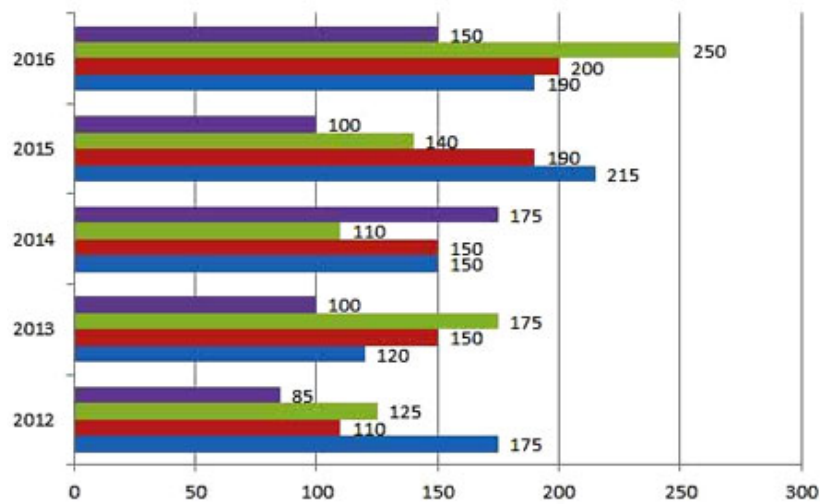
Subject : **General Aptitude Graduate**

Q.No: 54 **2641186** The following bar graph shows the growth of LPG cylinders in 4 cities over 5 years (in million):



What is the percentage increase in LPG connection in city C in the year 2015 as compared to the previous year?

निम्न लाइन आरेख 5 वर्षों में 4 शहरों में (मिलियन में) LPG सिलेंडर की वृद्धि को दर्शाता है:



पिछले वर्ष की तुलना में वर्ष 2015 में शहर C में LPG कनेक्शन में कितनी प्रतिशत वृद्धि हुई?

- A **18.11%**
18.11%
- B **15.8%**
15.8%
- C **26.87%**
26.87%
- D **27.27%**
27.27%

Correct Ans : D

Subject : **General Aptitude Graduate**

Q.No: 55 Rearrange the letters A, R, T, Y and D to form a meaningful word and select from the given alternatives, the word which is almost opposite in meaning to the word so formed.

अक्षर A, R, T, Y और D को एक सार्थक शब्द बनाने के लिए पुनर्व्यवस्थित करें और दिए गए विकल्पों में से वह शब्द चुनिए जो अर्थ में लगभग विपरीत है

Dirty

- A **Dirty**
Quiet
- B **Quiet**
Quick
- C **Quick**
Queek
- D **Queek**

Correct Ans : C

Subject : **General Aptitude Graduate**

Q.No: 56 **2663925** Six girls are sitting in a circle facing to the centre of the circle. They are P, Q, R, S, T and V. T is not between Q and S but some other one. P is next to the left of V. R is 4th to the right of P. Which of the following statement is not true?

छह लड़कियां एक गोले में केंद्र की ओर मुख करके बैठी हैं। वे P, Q, R, S, T और V हैं। T, Q और S के बीच नहीं है बल्कि कोई और है। P, V के बायें से है। R, P के दायें से चौथे स्थान पर है। निम्नलिखित में से कौन सा कथन सत्य नहीं है?

S is just next to the right to R

A

S, R के ठीक दायीं ओर है

T is just next to the right of V

B

T, V के ठीक दायें बैठा है

R is second to the left of T

C

R, T के बायें से दूसरे स्थान पर है

P is second to the right of R

D

P, R के दायें से दूसरे स्थान पर है

Correct Ans : C

Subject : **General Aptitude Graduate**



Q.No: 57 **2669937** In question given below find the odd one form the given responses.

नीचे दिए गए प्रश्न में दिए गए विकल्पों में से बेजोड़ को ज्ञात कीजिए।

PAT37

A

PAT37

BAT23

B

BAT23

RAT39

C

RAT39

TAT42

D

TAT42

Correct Ans : **D**

Subject : **General Aptitude Graduate**

Q.No: 58 A discount of 45% on an article is equal to the discount of 65% on other article. What is the respective ratio of the marked price of both the articles?
2670491

किसी वस्तु पर 45% की छूट दूसरी वस्तु पर 65% छूट के बराबर है। दोनों वस्तुओं के अंकित मूल्य का संबंधित अनुपात क्या है?

5 : 9

A

5 : 9

3 : 4

B

3 : 4

7 : 12

C

7 : 12

13 : 9

D

13 : 9

Correct Ans : **D**

Subject : **General Aptitude Graduate**

Q.No: 59 If the difference between C.I and S.I for three years is Rs.840. If rate of interest is $11\frac{1}{9}\%$ then find principal.
2673163

3 वर्षों में चक्रवृद्धि ब्याज और साधारण ब्याज का अंतर 840 रु. है। यदि ब्याज की दर $11\frac{1}{9}\%$ हो तो मूलधन ज्ञात करें?

Rs. 21870

A

Rs. 21870

Rs. 20780

B

Rs. 20780

Rs. 18225

C

Rs. 18225

D

Rs. 24300

Rs. 24300

Correct Ans : A

Subject : General Aptitude Graduate

Q.No: 60 If the cost price of 850 articles is equal to the selling price of 595 articles then the gain or loss % is:
2673350

यदि 850 वस्तुओं का लागत मूल्य 595 वस्तुओं के विक्रयमूल्य के बराबर है, तो % लाभ या हानि ज्ञात करें।

51%

A

51%

42.84%

B

42.84%

35%

C

35%

35.7%

D

35.7%

Correct Ans : B

Subject : General Aptitude Graduate

Q.No: 61 Arrange the following words as per the order in dictionary.
2694861

1. Preternatural
2. Pretentious
3. Prevalence
4. Prestigious
5. Presumption

शब्दकोश के क्रम के अनुसार निम्नलिखित शब्दों को व्यवस्थित करें।

1. Preternatural
2. Pretentious
3. Prevalence
4. Prestigious
5. Presumption

A

5 4 1 2 3

5 4 1 2 3

4 2 5 1 3

B

4 2 5 1 3

5 2 1 4 3

C

5 2 1 4 3

4 5 2 1 3

D

4 5 2 1 3

Correct Ans : D

Subject : **General Aptitude Graduate**

Q.No: 62 In this question three statements are given that may differ from the commonly known facts. Each statement is followed by two conclusions. You have to give correct answer out of the five options given below:
2697492

Statement:

No pump is dry.

All dry are full.

All full are null.

Conclusion:

(I) No pump is null.

(II) Some dry being null is a possibility.

इस प्रश्न में तीन कथन दिए गए हैं जो आम तौर पर ज्ञात तथ्यों से भिन्न हो सकते हैं। प्रत्येक कथन का अनुसरण दो निष्कर्ष करते हैं। आपको नीचे दिए गए पांच विकल्पों में से सही उत्तर का चयन करना है।

कथन:

कोई pump, dry नहीं है।

सभी dry, full है।

सभी full, null है।

निष्कर्ष:

(I) कोई pump, null नहीं है।

(II) कुछ dry के null होने की संभावना है।

A **If only conclusion I follows**
यदि केवल निष्कर्ष I अनुसरण करता है।

B **If only conclusion II follows**
यदि केवल निष्कर्ष II अनुसरण करता है।

C **If neither conclusion I nor II follows**
यदि न तो निष्कर्ष I और न ही निष्कर्ष II अनुसरण करता है।

D **If either conclusion I or II follows**
यदि या तो निष्कर्ष I या फिर निष्कर्ष II अनुसरण करता है।

Correct Ans : B

Subject : **General Aptitude Graduate**

Q.No: 63 A painter agrees to paint an area of 4128 sq. m in 24 days and employs 12 men. After 14 days he finds that only
2697694 1032 sq. m of the area is finished. How many more men should he employ to finish the work on time if all are now working $\frac{7}{5}$ as many hours as before?

एक पेंटर 4128 वर्ग मीटर वर्ग क्षेत्र को 12 आदमियों की मदद से 24 दिन में पेंट करने पर सहमति होता है। 14 दिनों बाद वह पाता है क केवल 1032 वर्ग मीटर का क्षेत्र पूरा हुआ है। उसे कितने और श्रमिकों को काम पर लगाना चाहिए ताकि काम समय पर पूरा हो जाए यदि वे अब पहले से $\frac{7}{5}$ गुना अधिक घंटे काम करते हैं?

20 men

A

20 श्रमिक

24 men

B

24 श्रमिक

16 men

C

16 श्रमिक

18 men

D

18 श्रमिक

Correct Ans : B

Subject : **General Aptitude Graduate**

Q.No: 64 Arrange the following words as per order in the English dictionary.
2698457

1. REPIECE
2. REPEAL
3. REPLACE
4. REPOINT
5. REPAIR

निम्नलिखित शब्दों को अंग्रेजी शब्दकोश में दिए गए क्रम के अनुसार लिखें।

1. REPIECE
2. REPEAL
3. REPLACE
4. REPOINT

5. REPAIR

4, 3, 1, 2, 5

A

4, 3, 1, 2, 5

5, 2, 1, 3, 4

B

5, 2, 1, 3, 4

5, 2, 1, 4, 3

C

5, 2, 1, 4, 3

2, 1, 3, 4, 5

D

2, 1, 3, 4, 5

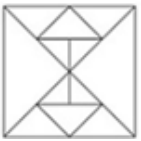
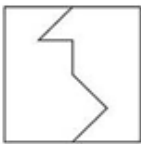
Correct Ans : B

Subject : **General Aptitude Graduate**

Q.No: 65 From the given answer figures, select the one in which the question figure is hidden/embedded.
2755687



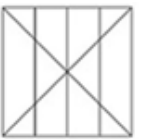
दी गई उत्तर आकृतियों में से उस एक का चयन कीजिए जिसमें प्रश्न आकृति छिपी/अंतर्निहित है।

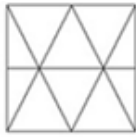
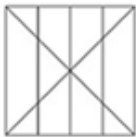


A

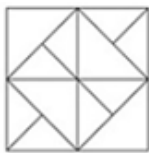
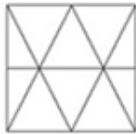


B





C



D



Correct Ans : A

Subject : General Aptitude Graduate



Q.No: 66 In the question below, a statement is followed by two conclusions based on the statement. Study the conclusions and select the correct option as the answer.

2755703

Statement:

$$D = I > S \leq N = E \geq Y; O > L \geq D$$

Conclusion:

I. $N \leq O$

II. $L \geq S$

नीचे दिए गए प्रश्न में, एक कथन के बाद कथन के आधार पर दो निष्कर्ष दिए गए हैं। निष्कर्षों का अध्ययन कीजिए और उत्तर के रूप में सही विकल्प का चयन कीजिए।

कथन:

$$D = I > S \leq N = E \geq Y; O > L \geq D$$

निष्कर्ष:

I. $N \leq O$

II. $L \geq S$

Neither I nor II follows

A

न तो I और न ही II अनुसरण करता है

Both I and II follow

B

I और II दोनों अनुसरण करते हैं

Only I follows

C

केवल I अनुसरण करता है

Only II follows

D

केवल II अनुसरण करता है

Correct Ans : **A**

Subject : **General Aptitude Graduate**

Q.No: 67 A 60 liter container holds a 7:5 blend of milk and water. Find the amount of water in the final combination if a specific amount of the mixture is removed and 13 liters of water are added, changing the milk to water ratio to 4:3.
2617508

60 लीटर के कंटेनर में दूध और पानी का 7:5 मिश्रण होता है। अंतिम संयोजन में पानी की मात्रा ज्ञात करें यदि मिश्रण की एक विशिष्ट मात्रा को हटा दिया जाता है और 13 लीटर पानी मिला दिया जाता है, जिससे दूध और पानी का अनुपात 4:3 हो जाता है।

55 liters

A

55 liters

18 liters

B

18 liters

28 liters

C

28 liters

34 liters

D

34 liters

Correct Ans : **C**

Subject : **General Maths graduate**

Q.No: 68 Two chords AB and CD of a circle intersect at a point P inside the circle. If AB = 7 cm, PC = 2 cm and AP = 4 cm, then CD is equal to:
2643220

एक वृत्त की दो जीवाएँ (chords) AB और CD, वृत्त के अंदर बिंदु P पर एक-दूसरे को काटती हैं। यदि AB = 7 cm, PC = 2 cm और AP = 4 cm है, तो CD बराबर है:

A

6 cm

6 cm

8 cm

B

8 cm

4 cm

C

4 cm

5 cm

D

5 cm

Correct Ans : B

Subject : General Maths graduate

Q.No: 69 The average of 30, 40, 25, 15, a, 60, 45 is 42. Then find the value of a?
 2643428 30, 40, 25, 15, a, 60, 45 का औसत 42 है। तो a का मान ज्ञात करें ?

A 76
76B 77
77C 78
78D 79
79

Correct Ans : D

Subject : General Maths graduate

Q.No: 70 n is a whole number which when divided by 6 gives 5 as remainder. What will be the remainder when 2n
 2645791 is divided by 3?

n एक ऐसी पूर्ण संख्या है जिसे जब 6 से विभाजित किया जाता है तो 5 शेषफल प्राप्त होता है। जब 2n को 3 से विभाजित किया जायेगा तो शेषफल क्या प्राप्त होगा ?

A 0
0B 1
1C 2
2D 5
5

Correct Ans : B

Subject : General Maths graduate

Q.No: 71 The distance between the two stations is 264 km. If two trains start at the same time from stations P and Q
 2647797 towards each other, they meet after 4 hours. If both the trains run in the same direction, they meet after 44

hours, then what is the speed of both the trains?

दोनों स्टेशनों के बीच की दूरी 264 किमी है। यदि दो ट्रेनें समान समय पर P और Q स्टेशनों से एक दूसरे की ओर चलना शुरू करती हैं, तो वे 4 घंटे बाद मिलती हैं। यदि दोनों ट्रेनें एक ही दिशा में चलती हैं, तो 44 घंटे बाद मिलती हैं, तो दोनों ट्रेनों की गति क्या है?

36 km/h and 28 km/h

A

36 किमी/घंटा और 28 किमी/घंटा

36 km/h and 30 km/h

B

36 किमी/घंटा और 30 किमी/घंटा

28 km/h and 30 km/h

C

28 किमी/घंटा और 30 किमी/घंटा

None of the given options

D

दिए गए विकल्पों में से कोई नहीं

Correct Ans : **B**

Subject : **General Maths graduate**

Q.No: 72 What is the value of: $49 \div 7 + 3 \times 8 - 10$
2667169

निम्नलिखित समीकरण का मान ज्ञात करें: $49 \div 7 + 3 \times 8 - 10$

22

A

22

20

B

20

21

C

21

12

D

12

Correct Ans : **C**

Subject : **General Maths graduate**

Q.No: 73
2667261

The value of $\frac{2^{3x+4} + 8^{x+1}}{8^{x+1} - 2^{3x+2}}$ is:

$\frac{2^{3x+4} + 8^{x+1}}{8^{x+1} - 2^{3x+2}}$ का मान है:

3

A

3

4

B

4

5

C

5

6

D

6

Correct Ans : D

Subject : General Maths graduate

Q.No: 74
2667357

What value would come in place of the question mark (?) in the following equation?

$$(1443 \div 78) \times (19550 \div 425) = ?$$

निम्नलिखित समीकरण में प्रश्नवाचक चिन्ह (?) के स्थान पर क्या मान आएगा?

$$(1443 \div 78) \times (19550 \div 425) = ?$$

761

A

761

821

B

821

851

C

851

D

905

905

Correct Ans : C

Subject : General Maths graduate

Q.No: 75 In which of the following are the lengths of diagonals equal?

2671563

निम्नलिखित में से किसमें विकर्णों की लंबाई बराबर है?

Rhombus

A

समचतुर्भुज

Rectangle

B

आयत

Parallelogram

C

समांतर चतुर्भुज

Trapezium

D

समलंब चतुर्भुज

Correct Ans : B

Subject : General Maths graduate

Q.No: 76 If the average of 13 distinct integers is 58. Maximum how much numbers can be greater than 58?

2672507

यदि 13 अलग अलग पूर्णाकों का औसत 58 है तो उनमें से अधिकतम कितनी संख्याएँ 58 से ज्यादा हो सकती है?

8

A

8

6

B

6

11

C

11

D

12

12

Correct Ans : D

Subject : General Maths graduate

Q.No: 77 A can complete a work in 32 days. B can do in 36 days and C in 46 days, all of them start the work together. A leaves after 8 days, B leaves after one more day, in how many days C will complete the remaining work?
2673043

A 32 दिनों में एक काम पूरा कर सकता है। B 36 दिनों में और C 46 दिनों में पूरा कर सकता है। ये सभी मिलकर काम शुरू करते हैं। 8 दिनों के बाद A काम छोड़ देता है और B इसके एक दिन बाद छोड़ देता है। शेष कार्य को C कितने दिनों में पूरा करेगा?

13

A

13

14

B

14

12

C

12

15

D

15

Correct Ans : B

Subject : General Maths graduate

Q.No: 78 19 men and 22 women working 6 hours per day can do $\frac{4}{7}$ of a work in 21 days and the remaining part of the work is done by 25 men and 38 women working 9 hour per day in 7 day. Find the number of days for 14 men and 10 women to complete the entire work by working 7 hour per day
2673100

प्रति दिन 6 घंटे काम करने वाले 19 पुरुष और 22 महिलाएं 21 दिनों में एक काम का $\frac{4}{7}$ भाग पूरा कर सकते हैं और शेष कार्य 25 पुरुषों और 38 महिलाएँ 7 दिन में 9 घंटे प्रति दिन काम करके पूरा करते हैं। 14 पुरुषों और 10 महिलाओं को प्रति दिन 7 घंटे काम करके पूरे काम को खत्म करने में कितने दिन लगेंगे?

51.6

A

51.6

48.2

B

48.2

49.2

C

49.2

48.6

D

48.6

Correct Ans : **A**

Subject : **General Maths graduate**

Q.No: 79 How many terms are there in the series $1/1.5 + 1/0.15 + 1/0.015 + \dots = 74074074$?
2674868

$1/1.5 + 1/0.15 + 1/0.015 + \dots = 74074074$ श्रृंखला में कितने पद हैं?

10

A

10

8

B

8

9

C

9

7

D

7

Correct Ans : **C**

Subject : **General Maths graduate**



Q.No: 80 The L.C.M. of three different numbers is 400. Which of the following number cannot be their H.C.F.?
2681655

तीन भिन्न संख्याओं का ल.स. 400 है। निम्न में से कौन-सी संख्या उनका म.स. नहीं हो सकती है ?

16

A

16

20

B

20

25

C

25

D

45

45

Correct Ans : **D**Subject : **General Maths graduate**

Q.No: 81 In an election between two contestants A and B, 70% of the registered voters cast their votes out of which 10% are invalid. A won the election by a majority of 7938 votes which is equal to 28% of valid votes. Find the total number of registered voters in the election.

2687770

दो प्रतियोगियों A और B के बीच चुनाव में, पंजीकृत मतदाताओं में से 70% ने अपने वोट डाले, जिसमें से 10% अमान्य हैं। A 7938 मतों के बहुमत से चुनाव जीता जो वैध मतों के 28% के बराबर है। चुनाव में पंजीकृत मतदाताओं की कुल संख्या ज्ञात कीजिए।

52000

A

52000

35500

B

35500

42600

C

42600

45000

D

45000

Correct Ans : **D**Subject : **General Maths graduate**

Q.No: 82 6 men and 5 children earn Rs. 1400 in 5 days. 8 men and 7 children earn Rs. 3040 in 8 days. In how many days will 3 men and 3 children earn Rs. 600?

2687965

6 पुरुष और 5 बालक 5 दिनों में रु. 1400 कमाते हैं। 8 पुरुष और 7 बालक 8 दिनों में रु. 3040 कमाते हैं। 3 पुरुष और 3 बालक कितने दिनों में रु. 600 कमाएंगे?

4 days

A

4 दिन

5 days

B

5 दिन

C

6 days

6 दिन

8 days

D

8 दिन

Correct Ans : A

Subject : General Maths graduate

Q.No: 83 What value would come in place of the question mark (?) in the following equation?
2732053

$$\frac{6}{7} \times 392 + 25 \% \text{ of } 260 = 16 \% \text{ of } 550 + ?$$

निम्नलिखित समीकरण में प्रश्नवाचक चिह्न (?) के स्थान पर क्या मान आएगा?

$$\frac{6}{7} \times 392 + 260 \text{ का } 25 \% = 550 \text{ का } 16 \% + ?$$

387

A

387

345

B

345

313

C

313

307

D

307

Correct Ans : C

Subject : General Maths graduate

Q.No: 84 निम्न में से कौन-सा/से अल्पप्राण व्यंजन है?
2627132

A क, ग

B इ, च

C ज, झ

D क, ग, इ, च, ज, झ

Correct Ans : D

Subject : General Hindi graduate

Q.No: 85 निम्नलिखित में से कौन-सी रचना, "गजानन माधव मुक्तिबोध" की नहीं है?
2627709

- A चाँद का मुँह टेढ़ा है
- B भूरी-भूरी खाक-धूल
- C अँधेरे में
- D रेणुका

Correct Ans : **D**

Subject : **General Hindi graduate**

Q.No: 86 निम्नलिखित में से कौन-सा शब्द द्वंद्व समास का सही उदाहरण नहीं है?
2660112

- A आग-पानी
- B निधड़क
- C भाईबहन
- D देवासुर

Correct Ans : **B**

Subject : **General Hindi graduate**

Q.No: 87 निम्नलिखित शब्द-समूहों में से कौन-सा विकल्प योगिक शब्दों का सही उदाहरण है?
2660246

- A निशाचर, मुरलीधर, त्रिलोचन
- B लंबोदर, पंकज, दशानन
- C टब, कल, पर
- D पुस्तकालय, देवेन्द्र, डाकघर

Correct Ans : **D**

Subject : **General Hindi graduate**

Q.No: 88 निम्नलिखित में से कौन-सा विकल्प भाववाचक संज्ञा शब्दों से संबंधित नहीं है?
2660283

- A मित्रता, शत्रुता
- B अवनति, चढाई
- C बुढ़ापा, सुन्दरता
- D पद्यावत, साकेत

Correct Ans : **D**

Subject : **General Hindi graduate**

Q.No: 89 "कौआ " का बहुवचन शब्द निम्न में से क्या होगा?
2660721

- A कौवे
- B कोए

- C कोओं
D कउओं

Correct Ans : A

Subject : **General Hindi graduate**

Q.No: 90 निम्न में से कौन-सा विकल्प द्रुतविलम्बित वर्णिक छंद का सही उदाहरण है?
2660874

- A अनूठी आभा से, सरस सुषमा से सुरस से।
बना जो देती थी, वह गुणमयी भू विपिन को।।
निराले फूलों की, विविध दल वाली अनुपम।
जड़ी-बूटी हो बहु फलवती थी विलसती।।
न कालिमा है मिटती कपाल की।
न बाप को है पड़ती कुमारिक।
- B प्रतीति होती यह थी विलोक के,
तपोमयी सी तनया तमारि की।।
दिवस का अवसान समीप था
गगन था कुछ लोहित हो चला।
- C तरुशिखा पर थी अब राजती,
कमलनी कुल वल्लभ की प्रभा।।
सेस महेश गनेस सुरेश, दिनेसहु जाहि निरन्तर गावें।
- D नारद से सुक व्यास रटैं, पचि हारे तऊ पुनि पार न पावें।।

Correct Ans : C

Subject : **General Hindi graduate**

Q.No: 91 निम्न में से विभाजक समानाधिकरण समुच्चयबोधक अव्ययों का चयन कीजिए-
2660900

- A अतः, अतएव, इसलिए
B वरन्, मगर, किन्तु, परन्तु
C अथवा, या, चाहे, नहीं तो
D तथा, एवं, और

Correct Ans : C

Subject : **General Hindi graduate**

Q.No: 92 निम्नलिखित में से लोकोक्ति "झूठे का मुँह काला, सच्चे का बोलवाला " का क्या अर्थ है?
2661393

- A औकात से बढ़कर सपने देखना।
B अंततः सत्य की ही जीत होती है।
C क्रोधी को नम्र शांत कर देता है।
D अन्यायी भी पड़ोसी से हिल-मिलकर रहता है।

Correct Ans : **B**

Subject : **General Hindi graduate**

Q.No: 93 निम्नलिखित में से कौन-सा संज्ञा का भेद नहीं है?
2666390

- A भाववाचक
- B गुणवाचक
- C जातिवाचक
- D द्रव्यवाचक

Correct Ans : **B**

Subject : **General Hindi graduate**

Q.No: 94 निम्नलिखित में से 'ज्ञ' वर्ण किन वर्णों के संयोग से बना है?
2666576

- A ज + य
- B य + ग
- C झ + ज
- D ज + ज

Correct Ans : **D**

Subject : **General Hindi graduate**

Q.No: 95 निम्नलिखित में से अशुद्ध वर्तनी वाले शब्द का चयन कीजिए-
2666641

- A शब्दावली
- B धर्मपरायण
- C अतिशयोक्ति
- D परिभासित

Correct Ans : **D**

Subject : **General Hindi graduate**

Q.No: 96 निम्नलिखित में से कर्तृवाच्य का सही वाक्य बताइए-
2666881

- A पुस्तक पढ़ी गई।
- B अरूण से चुप नहीं रहा जाता।
- C मुझसे चला नहीं जाता।
- D राधा ने दूध पिया।

Correct Ans : **D**

Subject : **General Hindi graduate**

Q.No: 97 निम्न में से उपर्युक्त विकल्प का चयन कर रिक्त स्थान की पूर्ति कीजिए-
2668097

जीवन में अपने परिश्रम में सफलता का _____ न पाकर हताश लोग सस्ते मनोरंजन में सांत्वना खोजते हैं।

- A परिमाण
- B अबोध
- C परिणाम
- D विलाप

Correct Ans : C

Subject : **General Hindi graduate**

Q.No: 98 निम्नलिखित में से 'वाह! अच्छा किया'—प्रस्तुत वाक्य में व्यक्त भाव कौन-सा है ?
2668348

- A शोक
- B घृणा
- C दुःख
- D आश्चर्य

Correct Ans : D

Subject : **General Hindi graduate**

Q.No: 99 निम्नलिखित में से पुल्लिंग शब्द का चयन कीजिए-
2692089

- A पूँजी
- B अपमान
- C संक्रान्ति
- D लड़ाई

Correct Ans : B

Subject : **General Hindi graduate**

Q.No: 100 निम्नलिखित में से किस मुहावरे का अर्थ " इज्जत खराब न होने देना" है?
2692146

- A गले न उतरना
- B गूँगे का गुड़
- C मक्खी नाक पर न बैठने देना
- D गौं का यार

Correct Ans : C

Subject : **General Hindi graduate**

