

UKSSSC Grad. Level

Previous Year Paper

31 Dec, 2023



Test Prime

ALL EXAMS,
ONE SUBSCRIPTION



70,000+
Mock Tests



Personalised
Report Card



Unlimited
Re-Attempt



600+
Exam Covered



Previous Year
Papers



500%
Refund



ATTEMPT FREE MOCK NOW



सामान्य हिन्दी

1. रेडियो की भाषा का स्वरूप होता है

- (A) दृश्य रूप
(B) दृश्य-श्रव्य रूप
(C) मूक-अश्रव्य रूप
(D) श्रव्य रूप

2. सूची - I को सूची - II से सुमेलित कीजिए।

सूची - I

सूची - II

क. समसामयिक घटना

1. धारावाहिक

पर आधारित

पत्र-पत्रिकाओं में

प्रकाशित लेख

ख. किसी विशिष्ट समाचार

2. संपादकीय

पर विशेष विचारात्मक

टिप्पणी

ग. व्यावहारिक बातों एवं

3. आलेख

घटनाओं की मनोरंजक

प्रस्तुति

घ. किसी लम्बी सामग्री को

4. फीचर

निर्धारित समय पर क्रमशः

प्रसारित करना

निम्नलिखित विकल्पों में से सही उत्तर चुनिए।

- (A) क - 3, ख - 2, ग - 4, घ - 1
(B) क - 2, ख - 3, ग - 1, घ - 4
(C) क - 1, ख - 4, ग - 3, घ - 2
(D) क - 4, ख - 1, ग - 2, घ - 3

3. गढ़वाली शब्द 'उडवार' के सम्बन्ध में निम्नलिखित में कौन-से तथ्य उपयुक्त हैं ?

1. यह गढ़वाल की जजमानी प्रथा है।
2. इसका सम्बन्ध प्रत्येक फसल के अनाज से है।
3. इसमें किसी से अनाज उधार माँगकर उसके बदले अनाज दिया जाता है।
4. पुरोहित, लोहार, रूड़िया और ढोलवादक को कार्य के बदले अन्न दिया जाता है।

- (A) केवल 3 सही है (B) केवल 2 सही है
(C) 1, 2, 4 सही हैं (D) सभी गलत हैं

4. निम्नलिखित में से सही युग्म छाँटिए।

- (A) अंतस्थ व्यंजन - ल
(B) ऊष्म व्यंजन - च
(C) आगत व्यंजन - ट
(D) संयुक्त व्यंजन - क

5. सूची - I को सूची - II से सुमेलित कीजिए।

सूची - I

सूची - II

क. दावत

1. संकर शब्द

ख. थैला

2. योगरूढ़ शब्द

ग. पंकज

3. देशज शब्द

घ. तहसीलदार

4. आगत शब्द

निम्नलिखित उत्तरों में से सही विकल्प चुनिए।

- | | क | ख | ग | घ |
|-----|---|---|---|---|
| (A) | 4 | 3 | 2 | 1 |
| (B) | 4 | 2 | 3 | 1 |
| (C) | 2 | 3 | 1 | 4 |
| (D) | 2 | 4 | 3 | 1 |



6. निम्नलिखित शब्द युग्मों में से कौन-सा शब्द युग्म विलोम नहीं है ?
 (A) पक्ष-विपक्ष (B) आस-पास
 (C) थोड़ा-बहुत (D) नम्र-धृष्ट
7. 'आँखन है आंसु ऊनी, घुनन है जे के ऊनी' इस लोकोक्ति का सही अर्थ है
 (A) आँख से आँसू आते हैं, घुटनों से जो क्या आते हैं ?
 (B) आँसू घुटनों से नहीं आते ।
 (C) आत्मीय जनों को सहानुभूति होती है, दूसरों को नहीं ।
 (D) दूसरों का दुःख देखकर आँसू आ जाते हैं ।
8. निम्नलिखित में कौन-सा कथन असत्य है ?
 (A) छिटाण का अर्थ है - बूँदाबाँदी होने की स्थिति
 (B) बर्ख का अर्थ है - वृष्टि
 (C) झड़ का अर्थ है - लगातार कई दिनों तक होने वाली वृष्टि
 (D) छिटाण का अर्थ है - अतिवृष्टि
9. भतुआ, भटा, सेमी क्या हैं ?
 (A) स्थान
 (B) वनस्पतियाँ
 (C) वस्तु
 (D) बर्तन
10. हे खग मृग हे मधुकर श्रेणी ।
 तुम देखी सीता मृग नैनी ॥
 - इस पद्यांश में किस अलंकार की योजना है ?
 (A) मानवीकरण (B) उपमा
 (C) उत्प्रेक्षा (D) रूपक
11. अनु + एषण = अन्वेषण
 यह किस संधि के नियमानुसार होगा ?
 (A) यण् संधि के
 (B) अयादि संधि के
 (C) गुण संधि के
 (D) उपरोक्त में से कोई नहीं
12. 'जैकि ज्वे नै, वीक क्वे नै' में 'ज्वे' शब्द का क्या अर्थ है ?
 (A) घरवाई
 (B) जिठाण
 (C) घरवाव्
 (D) ईजा
13. 'झिक्कल काम्ची उडायली' है
 (A) उत्तराखण्ड की लोककथाओं का संग्रह
 (B) उत्तराखण्ड के लोकगीतों का संग्रह
 (C) उत्तराखण्ड की भाषाओं का कहावत कोश
 (D) उत्तराखण्ड की भाषाओं का व्यावहारिक शब्दकोश
14. निम्नलिखित में सर्वनाम का भेद नहीं है
 (A) पुरुषवाचक सर्वनाम
 (B) अतिवादी सर्वनाम
 (C) निश्चयवाचक सर्वनाम
 (D) अनिश्चयवाचक सर्वनाम



86/23

15. जौनसार में स्थानीय ज्योतिष की भाषा जिस पुस्तक में लिखी गई है, उसे कहते हैं

- (A) पातरा
(B) सांचो या बगोड़
(C) जनम पौत्री
(D) पाशौ

16. कुमाउनी भाषा में 'आण्' किसे कहते हैं ?

- (A) कथा (B) मुहावरा
(C) पहेली (D) जागर

17. सूची - I और सूची - II को सुमेलित कीजिए ।

सूची - I

सूची - II

- क. राहुल घर जा रहा है 1. प्रश्नवाचक
ख. राहुल घर जाओ 2. संदेहवाचक
ग. क्या राहुल घर जा रहा है 3. विधिवाचक
घ. शायद, राहुल घर जा रहा है 4. आज्ञार्थक

निम्नलिखित विकल्पों में से सही उत्तर चुनिए ।

- (A) क - 1, ख - 2, ग - 3, घ - 4
(B) क - 2, ख - 1, ग - 4, घ - 3
(C) क - 4, ख - 3, ग - 2, घ - 1
(D) क - 3, ख - 4, ग - 1, घ - 2



18. सूची - I और सूची - II को सुमेलित कीजिए ।

सूची - I

सूची - II

- क. न करने योग्य 1. अगम्य
ख. जहाँ पहुँचा न जा सके 2. अगणनीय
ग. जिसके पास कुछ न हो 3. अकरणीय
घ. जिसकी गिनती न की जा सके 4. अकिंचन

निम्नलिखित विकल्पों में से सही उत्तर चुनिए ।

- (A) क - 4, ख - 3, ग - 2, घ - 1
(B) क - 3, ख - 1, ग - 4, घ - 2
(C) क - 2, ख - 4, ग - 1, घ - 3
(D) क - 1, ख - 2, ग - 3, घ - 4

19. देवनागरी के अतिरिक्त हिंदी भाषा लिखी जाती है

- (A) अरबी - फारसी में
(B) पश्तो - अरबी में
(C) कैथी - महाजनी में
(D) उपरोक्त सभी में

20. परायी वस्तु के दिखावे में कष्ट होने की स्थिति कौन-सी लोकोक्ति प्रकट करती है ?

- (A) मांगीक खाणू, मरोड़िक रणू ।
(B) बिराणा सोनान् नाक दुखौणु ।
(C) सौण मरी सासू, भादौ ऐन आँसू ।
(D) रोण मनसा छै बल आंखा थचाक लगी ।



सामान्य ज्ञान एवं सामान्य अध्ययन

21. To delete whole words at a time, which keys should be used in MS-Word ?

- (A) Ctrl + Backspace
(B) Ctrl + Delete
(C) Alt + Ctrl + Delete
(D) Both (A) or (B)

22. Which of the following pairs is not correctly matched ?

- (A) Salinometer – Measures salinity
(B) Thermometer – Measures temperature
(C) Barometer – Measures air speed
(D) Clinometer – Measures height

23. Match List – I with List – II and select the correct answer by using code given below the lists.

List – I

a. Indian Councils Act of 1861

b. Indian Councils Act of 1909

c. Government of India Act of 1919

d. Government of India Act of 1935

List – II

1. Abolished dyarchy in the provinces

2. Communal representation

3. Beginning of the process of decentralisation

4. Bicameralism

Code :

- | | a | b | c | d |
|-----|---|---|---|---|
| (A) | 1 | 2 | 3 | 4 |
| (B) | 2 | 3 | 4 | 1 |
| (C) | 3 | 2 | 4 | 1 |
| (D) | 4 | 2 | 3 | 1 |

21. एमएस - वर्ड में एक बार में पूरे शब्दों को डिलीट करने के लिए कौन-सी कुंजियाँ प्रयोग की जाती हैं ?

- (A) कंट्रोल + बैकस्पेस
(B) कंट्रोल + डिलीट
(C) ऑल्ट + कंट्रोल + डिलीट
(D) (A) या (B) दोनों



22. निम्न में से कौन-सा युग्म सही सुमेलित नहीं है ?

- (A) सैलिनोमीटर – लवणता मापक
(B) थर्मोमीटर – ताप मापक
(C) बैरोमीटर – वायु गति मापक
(D) क्लाइनोमीटर – ऊँचाई मापक

23. सूची – I को सूची – II से सुमेलित कीजिए और सूचियों के नीचे दिये गये कूटों का प्रयोग कर सही उत्तर का चयन कीजिए ।

सूची – I

a. भारतीय परिषद अधिनियम, 1861

b. भारतीय परिषद अधिनियम, 1909

c. भारतीय शासन अधिनियम, 1919

d. भारतीय शासन अधिनियम, 1935

सूची – II

1. प्रांतों में द्वैध शासन की समाप्ति

2. साम्प्रदायिक प्रतिनिधित्व

3. विकेन्द्रीकरण की प्रक्रिया की शुरुआत

4. द्विसदनीय व्यवस्था

कूट :

- | | a | b | c | d |
|-----|---|---|---|---|
| (A) | 1 | 2 | 3 | 4 |
| (B) | 2 | 3 | 4 | 1 |
| (C) | 3 | 2 | 4 | 1 |
| (D) | 4 | 2 | 3 | 1 |



24. 'Make in India' initiative is based on four pillars. Which of the following is not one of these four pillars ?
- (A) New processes
(B) New infrastructure
(C) New destinations
(D) New mindset
25. 'Wholesale Price Index' takes into account
- (A) 487 commodities and services
(B) 567 commodities
(C) 687 commodities and services
(D) 697 commodities
26. Which of the following issues was not one of the 'Singapore issues' raised during the first Ministerial Conference of WTO held in Singapore in 1996 ?
- (A) Investment
(B) Environment and Sustainable Development
(C) Competition Policy
(D) Government Procurement
27. Identify the cyber attack in which attackers attempt to overwhelm systems and prevent some or all valid requests from being fulfilled by flooding a website or a network resource with excessive requests.
- (A) Trojan Horse
(B) Denial of service
(C) Spam
(D) Phishing
24. 'मेक इन इंडिया' पहल चार स्तंभों पर आधारित है। निम्न में से कौन-सा इन चार स्तंभों में से एक नहीं है ?
- (A) नई प्रक्रियाएँ
(B) नए बुनियादी ढाँचे
(C) नये गंतव्ये
(D) नई सोच
25. 'थोक मूल्य सूचकांक' में सम्मिलित हैं
- (A) 487 वस्तुएँ एवं सेवाएँ
(B) 567 वस्तुएँ
(C) 687 वस्तुएँ एवं सेवाएँ
(D) 697 वस्तुएँ
26. निम्न में से कौन-सा मुद्दा 1996 में सिंगापुर में आयोजित डब्ल्यू.टी.ओ. के प्रथम मंत्रीस्तरीय सम्मेलन में उठाये गये 'सिंगापुर मुद्दे' में से एक नहीं था ?
- (A) विनियोग
(B) पर्यावरण एवं सतत् विकास
(C) प्रतिस्पर्धा नीति
(D) सरकारी खरीद
27. उस साइबर हमले की पहचान करें जिसमें हमलावर सिस्टम पर हावी होने का प्रयास करते हैं और किसी वेबसाइट या नेटवर्क संसाधन पर अत्यधिक अनुरोध भेजकर कुछ वैध या सभी वैध अनुरोधों को पूरा होने से रोकते हैं।
- (A) ट्रोजन हॉर्स
(B) डिनायल ऑफ सर्विस
(C) अवांछित ई-मेल (स्पैम)
(D) फिशिंग



28. Which of the following statement is/are correct ?

Statement I : Foreign capital is helpful to raise the level of investment.

Statement II : Foreign capital is helpful in expansion of technical knowledge.

- (A) Only Statement I
(B) Only Statement II
(C) Both Statements I and II
(D) Neither Statement I nor Statement II

29. Which one of the following pair is not correctly matched ?

Food grain	Name in the treatise
(A) Rice	Brihi
(B) Urad	Mash
(C) Barley	Yav
(D) Wheat	Gomat

30. Match the List - I with List - II and choose the correct answer from the code given below the lists.

List - I	List - II
a. Budget	1. Economic Reforms
b. NABARD	2. Inflation
c. FEMA	3. Annual Financial Statements
d. CPI	4. SHG-Bank Linkage Programme

Code :

	a	b	c	d
(A)	4	3	2	1
(B)	3	4	1	2
(C)	1	2	3	4
(D)	4	1	2	3

28. निम्न कथनों में से कौन-सा कथन सही है/हैं ?

कथन I : विदेशी पूंजी निवेश स्तर को बढ़ाने में सहायक है ।

कथन II : विदेशी पूंजी तकनीकी ज्ञान का विस्तार करने में सहायक है ।

- (A) केवल कथन I
(B) केवल कथन II
(C) कथन I और II दोनों
(D) न कथन I और न कथन II

29. निम्नलिखित में से कौन-सा युग्म सही सुमेलित नहीं है ?

अनाज	ग्रन्थों में वर्णित नाम
(A) चावल	ब्रीहि
(B) उड़द	माष
(C) जौ	यव
(D) गेहूँ	गोमत

30. सूची - I को सूची - II से सुमेलित कीजिए एवं सूचियों के नीचे दिये गये कूट से सही उत्तर दीजिए ।

सूची - I

- a. बजट
b. नाबार्ड
c. फेमा
d. सी.पी.आई.

सूची - II

1. आर्थिक सुधार
2. मुद्रास्फीति
3. वार्षिक वित्तीय कथन
4. एस.एच.जी.-बैंक सम्बन्धित कार्यक्रम

कूट :

	a	b	c	d
(A)	4	3	2	1
(B)	3	4	1	2
(C)	1	2	3	4
(D)	4	1	2	3



86/23

31. The famous script 'Mattavilas Prahsan' was written by

- (A) Singhvishnu
- (B) Narsinghvarman – I
- (C) Mahendravarman – I
- (D) Parmeshwarvarman – I



32. Which of the following statement(s) is/are true about Panchayati Raj Institutions in Uttarakhand ?

1. The State of Uttarakhand does not have its own Panchayati Raj Act.
2. One-third of the seats are reserved for women.
3. Block Development Councils have been set up at intermediate level.
4. Block Development Officer acts as Secretary to the Block Development Council (Kshetra Panchayat).

Select the correct answer by using the code given below :

Code :

- (A) 1, 2 and 4
- (B) 2, 3 and 4
- (C) 2 and 3
- (D) 3 and 4

31. 'मत्तविलास प्रहसन' नामक प्रसिद्ध कृति के लेखक थे

- (A) सिंहविष्णु
- (B) नरसिंहवर्मन – I
- (C) महेन्द्रवर्मन – I
- (D) परमेश्वरवर्मन – I

32. उत्तराखंड के पंचायती राज संस्थाओं के संबंध में निम्नलिखित में से कौन-सा कथन सही है ?

1. उत्तराखंड राज्य का अपना पंचायती राज अधिनियम नहीं है ।
2. एक तिहाई सीटें महिलाओं के लिए आरक्षित हैं ।
3. खण्ड विकास परिषदों का गठन मध्यवर्ती स्तर पर किया गया है ।
4. खण्ड विकास अधिकारी, खण्ड विकास परिषद् (क्षेत्र पंचायत) के सचिव के रूप में कार्य करता है ।

नीचे दिए गए कूटों की सहायता से सही उत्तर का चयन करें :

कूट :

- (A) 1, 2 और 4
- (B) 2, 3 और 4
- (C) 2 और 3
- (D) 3 और 4



33. **Statement I** : Fiscal Policy is the use of Government revenue collection and expenditure to influence the economy.

Statement II : Both revenue expenditure and capital expenditure are the subject matters of monetary policy.

Which of the above statement is/are correct ?

- (A) Only statement I
(B) Only statement II
(C) Both statements I and II
(D) Neither statement I nor statement II

34. Which of the following is not a valid version of Internet Protocol (IP) ?

- (A) IPV4
(B) IPV6
(C) IPV11
(D) None of these

35. Which of the following is known as Manchester of South India ?

- (A) Coimbatore
(B) Madurai
(C) Tuticorin
(D) Mettur

36. The increment of 'Reverse Repo Rate' by the Reserve Bank of India leads to

- (A) Inflation
(B) Reducing liquidity and demand
(C) More liquidity in the market
(D) Promoting competition

33. **कथन I** : राजकोषीय नीति में सरकारी राजस्व संग्रह तथा व्यय का प्रयोग अर्थव्यवस्था को प्रभावित करने के लिए किया जाता है।

कथन II : आय-व्यय तथा पूंजीगत-व्यय दो मौद्रिक नीति की विषय-वस्तु है।

उपरोक्त कथनों में से कौन-सा/से कथन सही है/हैं ?

- (A) केवल कथन I
(B) केवल कथन II
(C) कथन I और II दोनों
(D) न कथन I और न कथन II

34. निम्नलिखित में से कौन-सा इंटरनेट प्रोटोकॉल (आई. पी.) का वैध संस्करण नहीं है ?

- (A) आई. पी. वी. 4
(B) आई. पी. वी. 6
(C) आई. पी. वी. 11
(D) इनमें से कोई नहीं

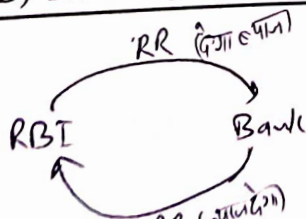
35. निम्न में से किसे दक्षिण भारत का मानचेस्टर कहा जाता है ?

- (A) कोयंबटूर
(B) मदुरै
(C) तूतिकोरिन
(D) मेट्टूर

36. भारतीय रिज़र्व बैंक द्वारा 'रिवर्स रेपो दर' बढ़ाने का परिणाम होगा

- (A) मुद्रास्फीति
(B) तरलता तथा माँग में कमी
(C) बाजार में तरलता में वृद्धि
(D) प्रतिस्पर्धा को बढ़ावा देना

C



86/23



37. Which country/confederation of countries was made a permanent member of G-20 at the 18th Summit of G-20 held at New Delhi in September 2023 ?

- (A) European Union
(B) African Union
(C) United Arab Emirates
(D) Bangladesh

38. Match List – I with List – II.

List – I

- a. Dada Bhai Nauroji
b. Gopal Krishna Gokhale
c. Bal Gangadhar Tilak
d. Lala Lajpat Rai



List – II

1. The people
2. The Maratha
3. Deccan Education Society
4. Bombay Association

Choose correct answer from the code given below :

Code :

- | | a | b | c | d |
|-----|---|---|---|---|
| (A) | 4 | 3 | 2 | 1 |
| (B) | 3 | 2 | 1 | 4 |
| (C) | 1 | 2 | 3 | 4 |
| (D) | 3 | 4 | 2 | 1 |

37. सितंबर 2023 में नई दिल्ली में आयोजित G-20 के 18 वें शिखर सम्मेलन में किस देश/देशों के परिसंघ को G-20 का स्थायी सदस्य बनाया गया ?

- (A) यूरोपीय संघ
(B) अफ्रीकी संघ
(C) संयुक्त अरब अमीरात
(D) बांग्लादेश

38. सूची – I को सूची – II से सुमेलित कीजिए ।

सूची – I

- a. दादाभाई नौरोजी
b. गोपालकृष्ण गोखले
c. बाल गंगाधर तिलक
d. लाला लाजपत राय

सूची – II

1. दि पीपुल
2. दि मराठा
3. डेक्कन एजुकेशन सोसाइटी
4. बॉम्बे असोसिएशन

नीचे दिए गए कूट में से सही उत्तर का चयन कीजिए :

कूट :

- | | a | b | c | d |
|-----|---|---|---|---|
| (A) | 4 | 3 | 2 | 1 |
| (B) | 3 | 2 | 1 | 4 |
| (C) | 1 | 2 | 3 | 4 |
| (D) | 3 | 4 | 2 | 1 |



39. Match List - I with List - II and select the correct answer by using the code given below the lists.

List - I	List - II
a. Annual Financial Statement	1. Article 106
b. Salary and Allowances of MPs	2. Article 110
c. Money Bill	3. Article 112
d. Power of President to remove difficulties	4. Article 392

Code :

	a	b	c	d
(A)	1	2	3	4
(B)	2	1	4	3
(C)	3	1	2	4
(D)	4	3	2	1



40. Read the following statements.

Statement 1 : Delhi - Mumbai Expressway is longest signal free expressway in the country.

Statement 2 : This Expressway passes through five States of Haryana, Rajasthan, Madhya Pradesh, Gujarat and Maharashtra.

Which of the above statements is correct ?

- (A) Only 1
(B) Only 2
(C) Both 1 and 2
(D) Both 1 and 2 are wrong

39. सूची - I को सूची - II से मूलेलित कीजिए और सूचियों के नीचे दिये गये कूटों का प्रयोग कर सही उत्तर का चयन कीजिए ।

सूची - I	सूची - II
a. वार्षिक वित्तीय प्रतिवेदन	1. अनुच्छेद 106
b. सांसदों के वेतन एवं भत्ते	2. अनुच्छेद 110
c. धन विधेयक	3. अनुच्छेद 112
d. कठिनाइयों के निराकरण का राष्ट्रपति का अधिकार	4. अनुच्छेद 392

कूट :

	a	b	c	d
(A)	1	2	3	4
(B)	2	1	4	3
(C)	3	1	2	4
(D)	4	3	2	1

40. निम्नलिखित कथनों को पढ़ें ।

कथन 1 : दिल्ली-मुम्बई एक्सप्रेसवे देश का सबसे लम्बा संकेतक मुक्त एक्सप्रेसवे है ।

कथन 2 : यह एक्सप्रेसवे पाँच राज्यों हरियाणा, राजस्थान, मध्यप्रदेश, गुजरात एवं महाराष्ट्र से होकर गुजरता है ।

उपरोक्त कथनों में से कौन-सा सही है ?

- (A) केवल 1
(B) केवल 2
(C) 1 और 2 दोनों
(D) 1 और 2 दोनों गलत हैं



86/23

41. Which of the following is not a type of primary memory ?

- (A) Random Access Memory (RAM)
- (B) Read Only Memory (ROM)
- (C) Cache Memory
- (D) Magnetic Disk

42. Which of the following Committees was constituted for reforms in Tax Structure ?

- (A) Chelliah Committee
- (B) Tendulkar Committee
- (C) Lakdawala Committee
- (D) Manmohan Singh Committee

43. Who after conquering most part of northern India, took the title of 'Shiladitya' ?

- (A) Prabhakarvardhan
- (B) Harsha
- (C) Grhavarman
- (D) Rajyashri

44. Which of the following countries does not share a border with Israel ?

- (A) Syria
- (B) Jordan
- (C) Lebanon
- (D) Iran

41. निम्न में से कौन मुख्य मेमोरी का प्रकार नहीं है ?

- (A) रैंडम एक्सेस मेमोरी (आर. ए. एम.)
- (B) रीड ओनली मेमोरी (आर. ओ. एम.)
- (C) कैश मेमोरी
- (D) मैग्नेटिक डिस्क

42. निम्न में से कौन-सी कमेटी को कर सुधार के लिए बनाया गया था ?

- (A) चैलेया कमेटी
- (B) तेन्दुलकर कमेटी
- (C) लकड़वाला कमेटी
- (D) मनमोहन सिंह कमेटी



43. उत्तर भारत के अधिकांश भाग को अपने अधीन कर किसने "शिलादित्य" की पदवी को धारण किया ?

- (A) प्रभाकरवर्धन
- (B) हर्ष
- (C) गृहवर्मन
- (D) राज्यश्री

44. निम्नलिखित देशों में से कौन-सा देश इज़राइल के साथ सीमा साझा नहीं करता है ?

- (A) सीरिया
- (B) जॉर्डन
- (C) लेबनान
- (D) ईरान



45. Which country was beaten by Germany to win the International Hockey Federation (FIH) Men's Hockey World Cup, 2023 held in Odisha, India ?
- (A) Australia
(B) Belgium
(C) Spain
(D) Netherland

46. Consider the following statements :
- Statement 1 :** Foreign Investment includes Foreign Direct Investment and Foreign Portfolio Investment.

Statement 2 : Foreign Investment includes only Foreign Direct Investment.

Which of the above statement is/are correct ?

- (A) Statement 1 only
(B) Statement 2 only
(C) Both statements 1 and 2
(D) Neither statement 1 nor 2

47. Read the following statements.

Statement 1 : Deen Dayal Upadhyay-Grameen Kaushal Yojna (DDU-GKY) is a market led, placement linked training programme for the rural youth.

Statement 2 : The focus of this programme is on the rural youth from poor families, in the age-group of 15 to 25 years.

Statement 3 : Full social inclusion of candidates is ensured.

Which of the above statements is correct ?

- (A) Only 1 and 2
(B) Only 1 and 3
(C) Only 2 and 3
(D) All 1, 2 and 3 are correct

45. भारत के ओडिशा में आयोजित अंतर्गोष्ठीय हॉकी महासंघ (एफ.आई.एच.) पुरुष हॉकी विश्व कप, 2023 जर्मनी ने किस देश को हराकर जीता था ?

- (A) ऑस्ट्रेलिया
(B) बेल्जियम
(C) स्पेन
(D) नीदरलैंड

46. निम्नलिखित कथनों को पढ़ें :
- कथन 1 :** विदेशी निवेश के अन्तर्गत प्रत्यक्ष विदेशी निवेश तथा विदेशी संस्थागत निवेश को शामिल किया जाता है ।

कथन 2 : विदेशी निवेश में केवल प्रत्यक्ष विदेशी निवेश को शामिल किया जाता है ।

उपर्युक्त कथनों में से कौन-सा/से सही है/हैं ?

- (A) केवल कथन 1
(B) केवल कथन 2
(C) दोनों कथन 1 और 2
(D) न तो कथन 1 और न तो 2

47. निम्नलिखित कथनों को पढ़ें ।

कथन 1 : दीन दयाल उपाध्याय-ग्रामीण कौशल योजना (डी.डी.यू.-जी.के.वाई.) बाजार-प्रेरित, रोजगार से जुड़ा हुआ ग्रामीण युवाओं के लिए कौशल प्रदायक कार्यक्रम है ।

कथन 2 : यह कार्यक्रम ग्रामीण निर्धन परिवारों के 15 से 25 वर्ष के युवाओं पर केन्द्रित है ।

कथन 3 : अभ्यर्थियों के पूर्ण सामाजिक समावेशन को सुनिश्चित किया गया है ।

उपरोक्त कथनों में से कौन-सा सही है ?

- (A) केवल 1 और 2
(B) केवल 1 और 3
(C) केवल 2 और 3
(D) सभी 1, 2 और 3 सही हैं



48. Read the following statements :
- I – The objective of India's Disinvestment Policy is to minimise the presence of Central Public Sector Undertakings (CPSUs) including financial institutions and creating new investment space for the Private Sector.
- II – The objective of India's Disinvestment Policy is to mobilise disinvestment proceeds to finance various social sector and development programmes.

Which of the above statement is correct ?

- (A) Only statement I is correct
(B) Only statement II is correct
(C) Both statements are not correct
(D) Both statements are correct

49. Match List – I with List – II and select the correct answer by using code given below the lists.

List – I

- a. Himachal Pradesh
b. Uttarakhand
c. Sikkim
d. Arunachal Pradesh

List – II

1. Dihang Pass
2. Rohtang Pass
3. Niti Pass
4. Nathu La

Code :

- | | a | b | c | d |
|-----|---|---|---|---|
| (A) | 1 | 2 | 3 | 4 |
| (B) | 4 | 3 | 1 | 2 |
| (C) | 1 | 2 | 4 | 3 |
| (D) | 2 | 3 | 4 | 1 |



50. In which of the following cases, the Supreme Court of India ruled that the "Parliament cannot take away any of the Fundamental Rights, which are 'Sacrosanct' in nature" ?
- (A) Champakam Dorairajan Case (1951)
(B) Kesavananda Bharati Case (1973)
(C) Minerva Mills Case (1980)
(D) Golaknath Case (1967)

48. निम्नलिखित कथनों को पढ़ें :

- I – भारत की विनिवेश नीति का उद्देश्य केन्द्रीय सार्वजनिक क्षेत्र के उपक्रमों (सीपीएसयू) एवं वित्तीय संस्थानों की न्यूनतम उपस्थिति तथा निजी क्षेत्र के लिए निवेश का दायरा बढ़ाना है ।
- II – भारत की विनिवेश नीति का उद्देश्य विनिवेश से प्राप्त धनराशि को जुटाकर उसे सामाजिक क्षेत्र एवं विकास सम्बन्धी कार्यक्रमों में लगाया जाना है ।

उपरोक्त कथनों में से कौन-सा कथन सही है ?

- (A) केवल कथन I सही है
(B) केवल कथन II सही है
(C) दोनों कथन गलत हैं
(D) दोनों कथन सही हैं

49. सूची – I को सूची – II से सुमेलित कीजिये और सूचियों के नीचे दिये गये कूट का प्रयोग कर सही उत्तर चुनिये ।

सूची – I

- a. हिमाचल प्रदेश
b. उत्तराखण्ड
c. सिक्किम
d. अरुणाचल प्रदेश

सूची – II

1. दिहांग पास
2. रोहतांग पास
3. नीती पास
4. नाथु ला

कूट :

- | | a | b | c | d |
|-----|---|---|---|---|
| (A) | 1 | 2 | 3 | 4 |
| (B) | 4 | 3 | 1 | 2 |
| (C) | 1 | 2 | 4 | 3 |
| (D) | 2 | 3 | 4 | 1 |

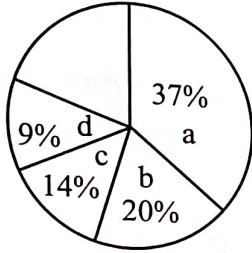
50. निम्न में से किस वाद में भारत के सर्वोच्च न्यायालय ने निर्णय देते हुए कहा था कि, "संसद, मौलिक अधिकारों को नहीं छीन सकती, क्योंकि वे 'पवित्र' प्रकृति के हैं" ?
- (A) चम्पाकम दोराइराजन वाद (1951)
(B) केशवानन्द भारती वाद (1973)
(C) मिनर्वा मिल्स वाद (1980)
(D) गोलकनाथ वाद (1967)



राज्य से संबंधित विविध जानकारी

51. What will be the correct sequence of places on the bank of River Kosi in Uttarakhand, if someone moves from North to South ?
 (A) Almora, Someshwar, Betalghat, Khairna
 (B) Someshwar, Almora, Khairna, Betalghat
 (C) Khairna, Someshwar, Almora, Betalghat
 (D) Someshwar, Betalghat, Almora, Khairna

52. Consider the following diagram regarding breakup of the Uttarakhand State Government's receipts in the financial year 2022 - 23 and find the correctly matched options from the options given below.



1. Share in central taxes
2. Grant in aid from the centre
3. State's own non-taxes
4. State's own taxes

- | | a | b | c | d |
|-----|---|---|---|---|
| (A) | 1 | 3 | 2 | 4 |
| (B) | 2 | 1 | 4 | 3 |
| (C) | 1 | 2 | 3 | 4 |
| (D) | 3 | 1 | 4 | 2 |

53. Which among the following is named as 'Paanchwa Dham Yaatra' ?
 (A) Nandadevi Rajjat Yaatra
 (B) Hill Jatra
 (C) Khatling Rudra Devi Yaatra
 (D) Varuni Panchkosi Yaatra



54. Consider the following statements on Wildlife (Protection) Act of 1972.

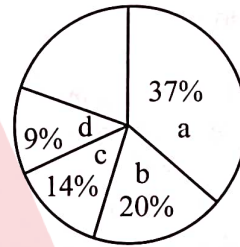
1. Bharal and Musk deer found in Uttarakhand are comprised in Schedule 1 of Wildlife (Protection) Act of 1972.
2. Hornbill is included in Schedule 2.

- Which of the above statement is/are correct ?
 (A) Only 1 (B) Only 2
 (C) Both 1 and 2 (D) Neither 1 nor 2

51. यदि कोई उत्तर से दक्षिण की ओर जाता है, तो उत्तराखण्ड में कोसी नदी के तट पर स्थित स्थानों का सही क्रम क्या होगा ?

- (A) अल्मोड़ा, सोमेश्वर, बेतालघाट, खैरना
- (B) सोमेश्वर, अल्मोड़ा, खैरना, बेतालघाट
- (C) खैरना, सोमेश्वर, अल्मोड़ा, बेतालघाट
- (D) सोमेश्वर, बेतालघाट, अल्मोड़ा, खैरना

52. वित्तीय वर्ष 2022 - 23 में उत्तराखण्ड राज्य सरकार की प्राप्तियों के विवरण के संबंध में निम्नलिखित चित्र पर विचार करें और नीचे दिए गए विकल्पों में से सही सुमेलित विकल्प चुनें ।



1. केन्द्रीय करों में हिस्सेदारी
2. केन्द्र से सहायता अनुदान
3. राज्य के अपने गैर-कर
4. राज्य के अपने कर

- | | a | b | c | d |
|-----|---|---|---|---|
| (A) | 1 | 3 | 2 | 4 |
| (B) | 2 | 1 | 4 | 3 |
| (C) | 1 | 2 | 3 | 4 |
| (D) | 3 | 1 | 4 | 2 |

53. निम्नलिखित में से किसे 'पांचवाँ धाम यात्रा' की संज्ञा दी जाती है ?

- (A) नन्दादेवी राजजात यात्रा
- (B) हिल जात्रा
- (C) खतलिंग रुद्रा देवी यात्रा
- (D) वारुणी पंचकोसी यात्रा

54. वन्यजीव (संरक्षण) अधिनियम, 1972 सम्बन्धी निम्नलिखित कथनों पर विचार करें ।

1. उत्तराखण्ड में पाये जाने वाले भरल व कस्तूरीमृग वन्यजीव (संरक्षण) अधिनियम, 1972 की अनुसूची 1 में शामिल हैं ।
2. धनेश अनुसूची 2 में शामिल है ।

- ऊपर दिये गए कथनों में से कौन-सा/से सही है/हैं ?
 (A) केवल 1 (B) केवल 2
 (C) 1 और 2 दोनों (D) न तो 1 और न तो 2



55. Saraun, Harul, Chhapti, Langveer are
 (A) Hills of Uttarakhand
 (B) Kumauni Musical Instruments
 (C) Folk dances of Uttarakhand
 (D) Garhwali Ornaments

56. Select the correctly matched pairs in the following and answer from code given below.

1. Headquarter of Jim Corbett National Park – Kalagarh
2. Mayawati Ashram – Champawat
3. Chaiti Fair – Kashipur
4. Jhanda Mela – Dehradun

Code :

- (A) 1 and 2 (B) 2 and 3
 (C) 2 and 4 (D) 3 and 4

57. 'Phasna Shikhar Style' temple is related to
 (A) Sun Temple, Palethi (Tehri Garhwal)
 (B) Veerbhadra and Vasudev Temple, Narayankoti (Chamoli)
 (C) Baleshwar Temple, Jageshwar (Almora)
 (D) All of the above

58. Which of the following statements are correct ?

1. It was in 1839 that Kumaon Commissionary was divided into two districts.
2. G. W. Traill was the settlement officer of First Settlement (1815-16).
3. Eighth settlement is also known as 'Pau settlement'.
4. Eleventh settlement became popular as Ibutson settlement.

Select the correct answer from the codes given below.

Code :

- (A) 1 and 3 (B) 2 and 3
 (C) 1, 2 and 4 (D) 1, 2 and 3

55. सरौं, हारूल, छोपती, लंगविर हैं
 (A) उत्तराखण्ड राज्य की पहाड़ियाँ
 (B) कुमाऊँ के वाद्ययंत्र
 (C) उत्तराखण्ड के लोकनृत्य
 (D) गढ़वाली आभूषण

56. निम्नलिखित में सही युग्मों को चुनिए एवं कूट के आधार पर उत्तर दीजिए ।

1. जिम कॉर्बेट राष्ट्रीय उद्यान का मुख्यालय – कालागढ़
2. मायावती आश्रम – चम्पावत
3. चैती मेला – काशीपुर
4. झण्डा मेला – देहरादून

कूट :

- (A) 1 एवं 2 (B) 2 एवं 3
 (C) 2 एवं 4 (D) 3 एवं 4

57. 'फाँसना शिखर शैली' मंदिर किससे संबंधित है ?

- (A) सूर्य मंदिर, पलेठी (टिहरी गढ़वाल)
 (B) वीरभद्र एवं वासुदेव मंदिर, नारायणकोटि (चमोली)
 (C) बालेश्वर मंदिर, जागेश्वर (अल्मोड़ा)
 (D) उपर्युक्त सभी

58. निम्नलिखित में से कौन-से कथन सही हैं ?

1. 1839 ई. में कुमाऊँ कमिश्नरी को दो जिलों में विभक्त किया गया था ।
2. जी. डब्ल्यू. ट्रेल प्रथम बन्दोबस्त (1815-16) में बन्दोबस्त अधिकारी था ।
3. आठवें बंदोबस्त को 'पौ बंदोबस्त' भी कहा जाता है ।
4. ग्यारहवाँ बन्दोबस्त इंबट्सन बंदोबस्त के नाम से लोकप्रिय हुआ ।

नीचे दिए गए कूटों में से सही उत्तर का चयन करें :

कूट :

- (A) 1 और 3 (B) 2 और 3
 (C) 1, 2 और 4 (D) 1, 2 और 3



59. What was the name of the land granted to person for extra ordinary chivalry in Kumaon region ?

- (A) Shira (B) Rout
(C) Darak (D) Vidhimalika

60. Match List – I with List – II and select the correct answer by using the code given below the lists.

List – I

- a. Renuka Devi Temple
b. Raghunath Temple
c. Parshuram Temple
d. Matamoorti Temple

List – II

1. Farashu
2. Nakuri
3. Mana
4. Devprayag

Code :

- | | a | b | c | d |
|-----|---|---|---|---|
| (A) | 2 | 1 | 3 | 4 |
| (B) | 3 | 2 | 1 | 4 |
| (C) | 2 | 4 | 1 | 3 |
| (D) | 1 | 2 | 3 | 4 |

61. Which of the following pairs are not correct ?

- a. Katarmal Sun Temple – Kosi
b. Bharat Cave – Pithoragarh
c. Golu Devata – Chitai
d. Thal Kedar – Chamoli

- (A) a, b, c and d
(B) b and c
(C) c and d
(D) b and d

62. In which district of Uttarakhand is a Tulip Garden being developed ?

- (A) Tehri Garhwal
(B) Pithoragarh
(C) Almora
(D) Uttarkashi

59. कुमाऊँ में किसी व्यक्ति को असाधारण बहादुरी के लिए दान दी गई भूमि को क्या कहा जाता था ?

- (A) शीरा (B) रौत
(C) दारक (D) विधिमलिका

60. सूची – I को सूची – II से सुमेलित कीजिए और सूचियों के नीचे दिए गए कूट का प्रयोग कर सही उत्तर चुनिए ।

सूची – I

- a. रेणुका देवी मंदिर
b. रघुनाथ मंदिर
c. परशुराम मंदिर
d. मातामूर्ति मंदिर

सूची – II

1. फराशु
2. नाकुरी
3. माणा
4. देवप्रयाग

कूट :

- | | a | b | c | d |
|-----|---|---|---|---|
| (A) | 2 | 1 | 3 | 4 |
| (B) | 3 | 2 | 1 | 4 |
| (C) | 2 | 4 | 1 | 3 |
| (D) | 1 | 2 | 3 | 4 |

61. निम्नलिखित में से कौन-सा युग्म सही नहीं है ?

- a. कटारमल सूर्य मंदिर – कोसी
b. भरत गुफा – पिथौरागढ़
c. गोलू देवता – चितई
d. थल केदार – चमोली

- (A) a, b, c और d
(B) b और c
(C) c और d
(D) b और d



62. उत्तराखण्ड के किस जिले में ट्यूलिप गार्डन विकसित किया गया है ?

- (A) टिहरी गढ़वाल
(B) पिथौरागढ़
(C) अल्मोड़ा
(D) उत्तरकाशी

86/23

63. As chais/chouswani cuisine is associated with Garhwal similarly which one of the following cuisine is associated with Kumaon ?

- (A) Fafrola (B) Rotana
(C) Gathwani (D) Ras/thatwani

64. District Bageshwar is surrounded by following districts

- (A) Pithoragarh, Champawat, Almora
(B) Pithoragarh, Almora, Chamoli
(C) Chamoli, Pauri, Almora
(D) Pithoragarh, Pauri, Chamoli

65. According to the cropping pattern of Uttarakhand in the year 2020 – 21, arrange the following crops in the increasing order of the total area under cultivation.

- a. Wheat
b. Paddy
c. Mandwa
d. Sugarcane

Choose the correct answer from the code given below :

Code :

- (A) d b c a
(B) c d b a
(C) a b c d
(D) d c a b

66. Which of the following agency regulates tourism industry in Uttarakhand State ?

(A) Uttarakhand Tourism Development Corporation
(B) Uttarakhand Tourism and Travel Development Board
(C) Uttarakhand State Tourism Board
(D) Uttarakhand Tourism Development Board

67. Which of the following place is not included in Panchbadri ?

- (A) Shri Badrinath (B) Dhyan Badri
(C) Aadi Badri (D) Vridh Badri

63. जिस प्रकार चैस/चौस्वानी भोज्य पदार्थ गढ़वाल से सम्बन्धित है उसी प्रकार निम्न में से कौन-सा भोज्य पदार्थ कुमाऊँ से सम्बन्धित है ?

- (A) फफरोला (B) रोटाना
(C) गधवाणी (D) रस/ठट्ठानी

64. जनपद बागेश्वर निम्नलिखित जिलों से घिरा हुआ है

- (A) पिथौरागढ़, चम्पावत, अल्मोड़ा
(B) पिथौरागढ़, अल्मोड़ा, चमोली
(C) चमोली, पौड़ी, अल्मोड़ा
(D) पिथौरागढ़, पौड़ी, चमोली

65. वर्ष 2020 – 21 के उत्तराखण्ड के क्रॉपिंग पैटर्न के अनुसार निम्न फसलों को कुल बोये गये क्षेत्रफल के बढ़ते हुये क्रम में व्यवस्थित कीजिए।

- a. गेहूँ
b. धान
c. मंडवा
d. गन्ना

नीचे दिये गये कूट से सही उत्तर का चयन कीजिए :

कूट :

- (A) d b c a
(B) c d b a
(C) a b c d
(D) d c a b

66. उत्तराखण्ड राज्य में पर्यटन उद्योग को अधिनियमित करने वाली संस्था निम्न में से कौन-सी है ?

- (A) उत्तराखण्ड पर्यटन विकास निगम
(B) उत्तराखण्ड पर्यटन एवं यात्रा विकास परिषद
(C) उत्तराखण्ड राज्य पर्यटन परिषद
(D) उत्तराखण्ड पर्यटन विकास परिषद

67. पंचबदरी में निम्न में से कौन-सा सम्मिलित नहीं है ?

- (A) श्री बदरीनाथ (B) ध्यान बदरी
(C) आदि बदरी (D) वृद्ध बदरी



86/23

68. Which one of the following folk ornament of Uttarakhand is not correctly matched ?

1. Hirouda – Ornaments of foot fingers
2. Munade – Ornaments worn in ears
3. Chareu – Ornaments of foot
4. Paunchi – Ornaments of hand wrist

Code :

- (A) 1 and 2 (B) 2 and 3
(C) 1 and 3 (D) 2 and 4

69. Read the following statements :

Statement 1 : Uttarakhand M.S.M.E. Policy, 2015 classifies the State into five categories.

Statement 2 : As per the policy, production units will be allowed the financial incentives provided in the policy upto maximum 15 years from the date of starting production, or upto 31 March 2030, whichever is earlier.

Which of the above statements is correct ?

- (A) Only 1
(B) Only 2
(C) Both 1 and 2
(D) Both 1 and 2 are wrong

70. What is the other local name of Ghee Sankranti festival ?

- (A) Makar Sankranti (B) Olgiya
(C) Phool Dei (D) Poorna Sankranti

71. Which of the following statements are true ?

1. Lakhvaad mela is popular fair of Jaunsar-Bawar
2. Sanigaad mela is organised in Chaitra Navaratri
3. Selku utsav is famous festival of Bhagirathi valley
4. Haryali Puda utsav is primarily related to married daughters

Select the correct answer from the code given below :

- Code :
(A) 1, 3 and 4 (B) 2, 3 and 4
(C) 1, 2 and 3 (D) Only 4

68. उत्तराखण्ड के निम्नलिखित लोक आभूषणों में कौन-सा सुमेलित नहीं है ?

1. हिरौदा – पैरों की अंगुलियों में पहने जाने वाला आभूषण
2. मुनड़े – कानों में पहना जाने वाला आभूषण
3. चरेऊ – चरणों (पैर) में पहना जाने वाला आभूषण
4. पौंची – हाथों की कलाई में पहना जाने वाला आभूषण

कूट :

- (A) 1 और 2 (B) 2 और 3
(C) 1 और 3 (D) 2 और 4

69. निम्नलिखित कथनों को पढ़ें :

कथन 1 : उत्तराखण्ड एम. एस. एम. ई. नीति, 2015 में प्रदेश को पाँच श्रेणियों में वर्गीकृत किया गया है।

कथन 2 : इस नीति के अन्तर्गत, उत्पादन इकाइयों को उत्पादन प्रारम्भ करने की तिथि से अधिकतम 15 वर्ष तक अथवा 31 मार्च 2030 तक, जो भी पहले हो, नीति में प्रदत्त वित्तीय प्रोत्साहनों का लाभ अनुमन्य होगा।

उपरोक्त कथनों में से कौन-सा कथन सही है/हैं ?

- (A) केवल 1
(B) केवल 2
(C) 1 और 2 दोनों
(D) 1 और 2 दोनों गलत हैं

70. घी संक्रान्ति पर्व का अन्य स्थानीय नाम क्या है ?

- (A) मकर संक्रान्ति (B) ओलगिया
(C) फूल देई (D) पूर्ण संक्रान्ति

71. निम्नलिखित में से कौन-से कथन सही हैं ?

1. लखवाड मेला जौनसार-बावर का लोकप्रिय मेला है।
2. सनीगाड मेला चैत्र नवरात्रि में आयोजित होता है।
3. सेल्कू उत्सव भागीरथी घाटी का प्रसिद्ध त्योहार है।
4. हरियाली पूड़ा उत्सव मुख्य रूप से विवाहित कन्याओं से संबंधित है।

नीचे दिए गए कूटों में से सही उत्तर का चयन करें।

कूट :

- (A) 1, 3 और 4 (B) 2, 3 और 4
(C) 1, 2 और 3 (D) केवल 4



86/23

72. Match the List – I with List – II and select the correct option from the code given below.

List – I	List – II
a. Hat Kalika	1. Kalimath
b. Varahi Devi	2. Gangolihat
c. Surkanda Devi	3. Devidhura
d. Chhinmasta Devi	4. Dhanaulti

Code :

a	b	c	d
(A) 2	3	4	1
(B) 2	3	1	4
(C) 2	1	3	4
(D) 1	2	3	4

73. Match List – 1 with List – 2 and choose the right code.

List – 1	List – 2
1. Malooshahi	a. Folk songs based on Folk beliefs
2. Hudki Bol Gatha	b. Folk songs based on Veer Ras
3. Pawde or Bhadau	c. Folk songs based on agriculture and farming
4. Jagar	d. Love story of Rajuli and Malooshahi

Code :

(A) 1 – d, 2 – c, 3 – b, 4 – a
(B) 1 – a, 2 – b, 3 – c, 4 – d
(C) 1 – c, 2 – a, 3 – b, 4 – d
(D) 1 – a, 2 – d, 3 – c, 4 – b

72. सूची – I को सूची – II से सुमेलित कीजिए और नीचे दिए गए कूट से सही विकल्प चुनिए।

सूची – I	सूची – II
a. हाट कालिका	1. कालीमठ
b. वाराही देवी	2. गंगोलीहाट
c. सुरकण्डा देवी	3. देवीधुरा
d. छिन्नमस्ता देवी	4. धनौली

कूट :

a	b	c	d
(A) 2	3	4	1
(B) 2	3	1	4
(C) 2	1	3	4
(D) 1	2	3	4

73. सूची – 1 को सूची – 2 से सुमेलित कर सही कूट का चुनाव कीजिये।

सूची – 1	सूची – 2
1. मालूशाही	a. लोक मान्यताओं पर आधारित लोकगाथाएँ
2. हुड़की बोल गाथा	b. वीर रस पर आधारित लोकगाथाएँ
3. पावड़े अथवा भड़ौ	c. कृषि व खेतीबाड़ी पर आधारित लोकगाथाएँ
4. जागर	d. राजूली व मालूशाही की प्रेमकथा

कूट :

(A) 1 – d, 2 – c, 3 – b, 4 – a
(B) 1 – a, 2 – b, 3 – c, 4 – d
(C) 1 – c, 2 – a, 3 – b, 4 – d
(D) 1 – a, 2 – d, 3 – c, 4 – b

86/23



74. In which year was the State Infrastructure and Industrial Development Corporation Uttarakhand Ltd. (SIDCUL) set up in Uttarakhand State ?
- (A) 2002 (B) 2008
(C) 2012 (D) 2015

75. **Statement 1** : The month of 'Chait' is called 'Nachado Maino' (Month of Dancing).

Statement 2 : In the month of 'Chait' the girls who came to their mother's home, danced in 'Jhumailo and Basanti' songs.

Which of the following code is true for above statements ?

Code :

- (A) Statement 1 is right, statement 2 wrong
(B) Statement 1 and statement 2 both right
(C) Statement 1 wrong, statement 2 right
(D) Statement 1 and statement 2 both wrong

76. Match the following in List - 1 and List - 2 and choose the right option.

List - 1

- a. Chaunphula
b. Barahmasa
c. Devguru
d. Devsthal

List - 2

1. Peak
2. Folk dance
3. Observatory
4. Folk song

Code :

- | | a | b | c | d |
|-----|---|---|---|---|
| (A) | 2 | 4 | 3 | 1 |
| (B) | 4 | 2 | 1 | 3 |
| (C) | 2 | 4 | 1 | 3 |
| (D) | 4 | 2 | 3 | 1 |

74. उत्तराखण्ड राज्य में राज्य अवसंरचना एवं औद्योगिक विकास निगम (सिडकुल) की स्थापना किस वर्ष की गई थी ?

- (A) 2002 (B) 2008
(C) 2012 (D) 2015

75. कथन 1 : 'चैत' के महीने को 'नाचदो मैनो' (नाच का महीना) कहा जाता है।

कथन 2 : 'चैत' के महीने में मायके आयी लड़कियाँ भी 'झुमैलो और बासंती' गीतों के साथ नाचती थी।

उपरोक्त कथनों के लिए कौन-सा कूट सही है ?

कूट :

- (A) कथन 1 सही, कथन 2 गलत
(B) कथन 1 और कथन 2 दोनों सही
(C) कथन 1 गलत, कथन 2 सही
(D) कथन 1 और कथन 2 दोनों गलत

76. सूची - 1 को सूची - 2 से सुमेलित कीजिए और सही विकल्प का चयन कीजिए।

सूची - 1

- a. चौफुला
b. बारहमासा
c. देवगुरु
d. देवस्थल

सूची - 2

1. चोटी
2. लोकनृत्य
3. वेधशाला
4. लोकगीत

कूट :

- | | a | b | c | d |
|-----|---|---|---|---|
| (A) | 2 | 4 | 3 | 1 |
| (B) | 4 | 2 | 1 | 3 |
| (C) | 2 | 4 | 1 | 3 |
| (D) | 4 | 2 | 3 | 1 |

86/23



77. Match the following in List – I and List – II and then choose the right option.

List – I

List – II

- | | |
|--|---------------|
| a. Mukhya Mantri Swarojgar Yojana | 1. Oct. 2020 |
| b. Mukhya Mantri Saur Swarojgar Yojana | 2. Sep. 2021 |
| c. Mission Gaura Shakti | 3. April 2021 |
| d. Mukhya Mantri Mahalakshmi Yojana | 4. May 2020 |

a	b	c	d
---	---	---	---

- | | | | | |
|-----|---|---|---|---|
| (A) | 1 | 2 | 3 | 4 |
| (B) | 4 | 1 | 2 | 3 |
| (C) | 4 | 2 | 1 | 3 |
| (D) | 2 | 4 | 3 | 1 |

78. In the context of Uttarakhand 'One District-Two Products' (ODTP) scheme, match the List – 1 with List – 2 and choose the right option.

List – 1

List – 2

- | | |
|--------------|--|
| a. Almora | 1. Copper ware and Manduwa biscuits |
| b. Bageshwar | 2. Aipan Craft and Candle-making craft |
| c. Haridwar | 3. Tweed and Bal Mithai |
| d. Nainital | 4. Jaggery and Honey |

Code :

a	b	c	d
---	---	---	---

- | | | | | |
|-----|---|---|---|---|
| (A) | 1 | 2 | 3 | 4 |
| (B) | 3 | 1 | 2 | 4 |
| (C) | 3 | 1 | 4 | 2 |
| (D) | 4 | 3 | 2 | 1 |

77. सूची – I को सूची – II से सुमेलित कीजिए और सही विकल्प का चयन कीजिए ।

सूची – I

सूची – II

- | | |
|------------------------------------|-----------------|
| a. मुख्यमंत्री स्वरोजगार योजना | 1. अक्टूबर 2020 |
| b. मुख्यमंत्री सौर स्वरोजगार योजना | 2. सितम्बर 2021 |
| c. मिशन गौरा शक्ति | 3. अप्रैल 2021 |
| d. मुख्यमंत्री महालक्ष्मी योजना | 4. मई 2020 |

a	b	c	d
---	---	---	---

- | | | | | |
|-----|---|---|---|---|
| (A) | 1 | 2 | 3 | 4 |
| (B) | 4 | 1 | 2 | 3 |
| (C) | 4 | 2 | 1 | 3 |
| (D) | 2 | 4 | 3 | 1 |

78. उत्तराखण्ड 'एक जिला-दो उत्पाद' (ओ.डी.टी.पी.) योजना के संदर्भ में सूची – 1 को सूची – 2 से सुमेलित कीजिए और सही विकल्प का चयन कीजिए ।

सूची – 1

सूची – 2

- | | |
|-------------|---------------------------------------|
| a. अल्मोड़ा | 1. ताम्रशिल्प उत्पाद व मंडुवा बिस्कुट |
| b. बागेश्वर | 2. ऐपण क्राफ्ट व कैंडल मेकिंग क्राफ्ट |
| c. हरिद्वार | 3. ट्वीड व बाल मिठाई |
| d. नैनीताल | 4. गुड़ व शहद |

कूट :

a	b	c	d
---	---	---	---

- | | | | | |
|-----|---|---|---|---|
| (A) | 1 | 2 | 3 | 4 |
| (B) | 3 | 1 | 2 | 4 |
| (C) | 3 | 1 | 4 | 2 |
| (D) | 4 | 3 | 2 | 1 |



79. Who among the following made provisions for English education for the first time in Tehri Riyasat ?

- (A) Sudarshan Shah (B) Bhavani Shah
(C) Pratap Shah (D) Kirti Shah

80. 'Goth' is related to

- (A) Fishery
(B) Poultry
(C) Animal Husbandry
(D) Apiculture

81. Which of the following statement is not correct ?

- (A) Amritganga meets with Balkhila in Mandal.
(B) Kedarganga meets with Ganga in Gangotri.
(C) Hanumanganga meets with Alaknanda in Hanuman Chatti.
(D) Rishiganga meets with the Ganga in Rishikesh.

82. Given below are two statements, one is the Assertion (A) and the other is the Reason (R). Answer by using code given below.

Assertion (A) : Early kings of Katyuri made Askot their capital.

Reason (R) : Askot hills was the source of river Gomati that merge in the river Kali.

- (A) (A) is correct, but (R) is wrong
(B) (R) is correct, but (A) is wrong
(C) Both (A) and (R) are correct, but (R) is not the correct explanation of (A)
(D) Both are wrong

83. With which movement is 'Kakodakhal' associated ?

- (A) Uttarakhand State Movement
(B) Dola - Palaki Movement
(C) Gadi - Sadak Movement
(D) Begar Movement

79. निम्नलिखित में से किसने पहली बार टिहरी रियासत में अंग्रेजी शिक्षा का प्रावधान किया ?

- (A) सुदर्शन शाह (B) भवानी शाह
(C) प्रताप शाह (D) कीर्ति शाह

80. 'गोठ' सम्बन्धित है

- (A) मत्स्य पालन
(B) मुर्गी पालन
(C) पशु पालन
(D) मौन पालन



81. निम्नलिखित कथनों में से कौन-सा कथन सही नहीं है ?

- (A) अमृतगंगा, मण्डल में बालखिला से मिलती है।
(B) केदारगंगा, गंगोत्री में गंगा से मिलती है।
(C) हनुमानगंगा, हनुमान चट्टी में अलकनन्दा से मिलती है।
(D) ऋषिगंगा, ऋषिकेश में गंगा से मिलती है।

82. नीचे दो वक्तव्य दिए गए हैं, एक को कथन (A) एवं दूसरे को कारण (R) कहा गया है। नीचे दिए गए कूट को मदद से उत्तर दीजिए।

कथन (A) : आरंभिक कत्यूरी राजाओं की राजधानी असकोट थी।

कारण (R) : असकोट की पहाड़ियों से गोमती नदी निकलकर काली नदी में मिल जाती है।

- (A) (A) सही है, परन्तु (R) गलत है
(B) (R) सही है, परन्तु (A) गलत है
(C) (A) और (R) दोनों सही हैं, परन्तु (R), (A) का सही स्पष्टीकरण नहीं है
(D) दोनों गलत हैं

83. 'ककोड़ाखाल' किस आन्दोलन से जुड़ा है ?

- (A) उत्तराखण्ड राज्य आन्दोलन
(B) डोला - पालकी आन्दोलन
(C) गाड़ी - सड़क आन्दोलन
(D) बेगार आन्दोलन

86/23



84. Names of fairs of Uttarakhand have been given in List – I and the occasion or date of their celebration or beginning has been given in List – II.

List – I

1. Devidhura Mela
2. Uttaraini Mela
3. Gauchar Mela

List – II

- a. 14 November
- b. Raksha Bandhan
- c. Makar Sakranti

Choose the option in which fairs and occasion/date are correctly matched.

- (A) 1 – a, 2 – b, 3 – c
- (B) 1 – b, 2 – c, 3 – a
- (C) 1 – c, 2 – b, 3 – a
- (D) None of the above



85. 'Zyula' is the measurement unit of

- (A) Land
- (B) Water
- (C) Weight
- (D) Length

86. Match the List – I with List – II and select the correct answer using the code given below.

List – I

- a. Uttarakhand Judicial and Legal Academy
- b. Dr. Barthwal Hindi Academy
- c. Rajiv Gandhi Adventure Sports Academy
- d. Uttarakhand Rural Development Institute

List – II

1. Dehradun
2. Tehri
3. Rudrapur
4. Bhawali

Code :

- | | a | b | c | d |
|-----|---|---|---|---|
| (A) | 1 | 2 | 3 | 4 |
| (B) | 4 | 1 | 2 | 3 |
| (C) | 4 | 3 | 2 | 1 |
| (D) | 4 | 1 | 3 | 2 |

84. नीचे सूची – I में उत्तराखण्ड के मेलों के नाम दिए गए हैं और सूची – II में वह अवसर या तिथि जिस पर वे मनाये जाते हैं अथवा शुरू किए जाते हैं।

सूची – I

1. देवीधूरा मेला
2. उत्तरायणी मेला
3. गौचर मेला

सूची – II

- a. 14 नवम्बर
- b. रक्षा बन्धन
- c. मकर सक्रान्ति

उस विकल्प का चयन करें जिसमें मेले और अवसर तिथि सुमेलित हैं।

- (A) 1 – a, 2 – b, 3 – c
- (B) 1 – b, 2 – c, 3 – a
- (C) 1 – c, 2 – b, 3 – a
- (D) उपर्युक्त में से कोई नहीं

85. 'ज्यूला' नापने की इकाई है

- (A) भूमि
- (B) जल
- (C) भार
- (D) लम्बाई

86. सूची – I को सूची – II से मिलाएँ तथा नीचे दिए गए कूट के आधार पर सही उत्तर दीजिए।

सूची – I

- a. उत्तराखण्ड न्यायिक एवं विधिक अकादमी
- b. डॉ. बड़थवाल हिन्दी अकादमी
- c. राजीव गाँधी साहसिक खेल अकादमी
- d. उत्तराखण्ड ग्राम्य विकास संस्थान

सूची – II

1. देहरादून
2. टिहरी
3. रूद्रपुर
4. भुवाली

कूट :

- | | a | b | c | d |
|-----|---|---|---|---|
| (A) | 1 | 2 | 3 | 4 |
| (B) | 4 | 1 | 2 | 3 |
| (C) | 4 | 3 | 2 | 1 |
| (D) | 4 | 1 | 3 | 2 |



87. According to Uttarakhand Export figures for November 2022, which of the following items has been the largest export item for Uttarakhand ?

- (A) Vegetable products
- (B) Wood and Wood products
- (C) Chemical products
- (D) Plastics and rubber

88. Which of the following is the botanical name of Deodar tree ?

- (A) Citrus Deodar
- (B) Cedrus Deodar
- (C) Cyotina Deodar
- (D) Ficus

89. In context of freedom struggle in Uttarakhand which one of the following is not correctly matched ?

- (A) Kalu Mahra – Creation of secrete armed organisation
- (B) 1857 – Attack on Lohaghat British Barrack
- (C) 1871 – Beginning of 'Almora Akhbar'
- (D) 1870 – Establishment of 'Debating club' in Dehradun

90. Dekaras are refers to

- (A) Metal based paintings
- (B) Clay models of various Gods and Goddesses
- (C) Clay models of various flowers
- (D) Metal based images of various flowers

87. नवंबर 2022 के उत्तराखण्ड निर्यात आंकड़ों के अनुसार, निम्नलिखित में से कौन-सा मद उत्तराखण्ड के लिए सबसे बड़ा निर्यात मद रहा है ?

- (A) सब्जी उत्पाद
- (B) लकड़ी और लकड़ी के उत्पाद
- (C) रासायनिक उत्पाद
- (D) प्लास्टिक और रबर

88. निम्नलिखित में से देवदार वृक्ष का वानस्पतिक नाम क्या है ?

- (A) साइट्रस देवदार
- (B) सेड्रस देवदार
- (C) सायोटिना देवदार
- (D) फाइकस

89. स्वतंत्रता संग्राम में उत्तराखण्ड सन्दर्भ में निम्नांकित में कौन-सा सुमेलित नहीं है ?

- (A) कालू माहरा – गुप्त सैनिक संगठन का निर्माण
- (B) 1857 – लोहाघाट के ब्रिटिश बैरक पर आक्रमण
- (C) 1871 – 'अल्मोड़ा अखबार' का प्रारम्भ
- (D) 1870 – देहरादून में 'डिबेटिंग क्लब' की स्थापना

90. डेकरास सम्बन्धित हैं

- (A) धातु आधारित चित्र
- (B) देवी और देवताओं के क्ले मॉडल (मृदा नमूना)
- (C) विभिन्न पुष्पों के क्ले मॉडल
- (D) धातु आधारित अनेकों पुष्पों के चित्र





सामान्य बुद्धि परीक्षण एवं मानसिक योग्यता

91. Match the following :

Clock time

Water image

a. 8 : 15

i. 10 : 15

b. 9 : 20

ii. 7 : 55

c. 10 : 35

iii. 9 : 10

d. 10 : 55

iv. 7 : 35

(A) a - i, b - iii, c - ii, d - iv

(B) a - iv, b - iii, c - ii, d - i

(C) a - i, b - iii, c - iv, d - ii

(D) a - i, b - iv, c - ii, d - iii

91. निम्नलिखित को सुमेलित कीजिए :

घड़ी का समय

जल प्रतिबिम्ब

a. 8 : 15

i. 10 : 15

b. 9 : 20

ii. 7 : 55

c. 10 : 35

iii. 9 : 10

d. 10 : 55

iv. 7 : 35

(A) a - i, b - iii, c - ii, d - iv

(B) a - iv, b - iii, c - ii, d - i

(C) a - i, b - iii, c - iv, d - ii

(D) a - i, b - iv, c - ii, d - iii

92. If the word "LEADER" is coded as 20 - 13 - 9 - 12 - 13 - 26, how would you write the word "LIGHT" ?

(A) 20 - 16 - 17 - 15 - 27

(B) 20 - 15 - 16 - 18 - 23

(C) 20 - 17 - 15 - 16 - 28

(D) 20 - 16 - 15 - 17 - 22

92. यदि शब्द "LEADER" का कोड 20 - 13 - 9 - 12 - 13 - 26 हो, तो शब्द "LIGHT" को किस प्रकार लिखा जाए ?

(A) 20 - 16 - 17 - 15 - 27

(B) 20 - 15 - 16 - 18 - 23

(C) 20 - 17 - 15 - 16 - 28

(D) 20 - 16 - 15 - 17 - 22

93. Introducing a woman Ram said, "she is the daughter of the only child of my grandmother." How is the woman related to Ram ?

(A) Mother

(B) Sister

(C) Niece

(D) Cousin

93. एक महिला का परिचय कराते हुए राम ने कहा, "वह मेरी दादी की इकलौती संतान की पुत्री है।" महिला का राम से क्या सम्बन्ध है ?

(A) माता


(B) बहन

(C) भतीजी

(D) चचेरी बहन



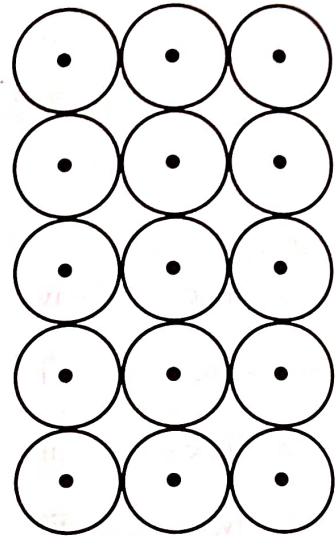
94. In the following figure, if the centres of all circles are joined by horizontal and vertical lines, then find the number of squares formed by these lines.



- (A) 8
- (B) 11
- (C) 10
- (D) 12



94. निम्न आकृति में, यदि सभी वृत्तों के केन्द्रों को क्षैतिज व उर्ध्वाधर रेखाओं से मिला दिया जाएँ, तब उन रेखाओं से बने वर्गों की संख्या को ज्ञात कीजिए।



- (A) 8
- (B) 11
- (C) 10
- (D) 12

95. If each letter in the English alphabet is attached a value equal to its serial number in the alphabet, which among the following will have the highest sum of values of all its letters ?

- (A) MATHS
- (B) STATS
- (C) HINDI
- (D) CIVIL

95. यदि अंग्रेज़ी वर्णमाला के प्रत्येक अक्षर का मान उसके वर्णमाला के क्रमांक के बराबर है, तो निम्न में से किसमें उसके सभी वर्णों का योग अधिकतम है ?

- (A) MATHS
- (B) STATS
- (C) HINDI
- (D) CIVIL

96. Choose the appropriate option at the place of '?' in the series 4, 6, 9, 13.5, ? which will continue the pattern of the series.

- (A) 17.5
- (B) 19
- (C) 20.25
- (D) 22.75

96. श्रृंखला 4, 6, 9, 13.5, ? में '?' के स्थान पर उपयुक्त विकल्प का चयन करें जो श्रृंखला के प्रक्रम को जारी रखता है।

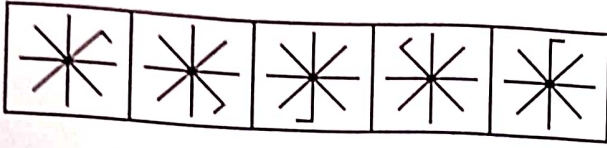
- (A) 17.5
- (B) 19
- (C) 20.25
- (D) 22.75

Handwritten calculation for Q96:
 4, 6, 9, 13.5, 20.0
 Differences: 2, 3, 4.5, 6.5

Handwritten list:
 10 - 1 Sun
 11 - 1 Mon
 12 - 2 Wed
 13 - 1 Thu



97. Select the figure which will continue the following series.



- (A) (B)
 (C) (D)

98. The Calendar of the year 2009 is same as that of the year

- (A) 2013 (B) 2014
 (C) 2015 (D) 2016

99. If

- i. Kailash, Govind and Harinder are intelligent.
 ii. Kailash, Rajesh and Jitendra are hardworking.
 iii. Rajesh, Harinder and Jitendra are honest.
 iv. Kailash, Govind and Jitendra are ambitious.

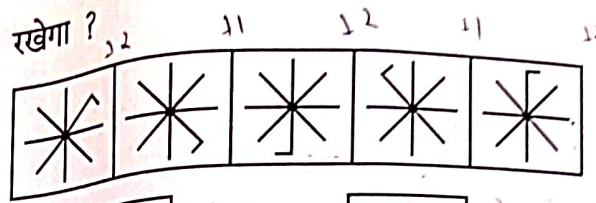
Then which of the following is neither honest nor hardworking but is ambitious ?

- (A) Kailash (B) Govind
 (C) Rajesh (D) Harinder

100. Four villages A, B, C and D lie in a straight line. D is 10 kms from B. A is between D and C and distance of C from B is 2 kms, more than it is from D. How far is C from B ?

- (A) 4 kms (B) 6 kms
 (C) 8 kms (D) 2 kms

97. कौन-सी आकृति निम्नलिखित शृंखला को जारी रखेगा ?



- (A) (B)
 (C) (D)

98. वर्ष 2009 का कैलेंडर _____ वर्ष के समान है।

- (A) 2013 (B) 2014
 (C) 2015 (D) 2016

99. यदि

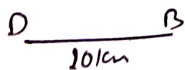
- i. कैलाश, गोविन्द और हरिन्दर बुद्धिमान हैं।
 ii. कैलाश, राजेश और जितेन्द्र कठिन परिश्रमी हैं।
 iii. राजेश, हरिन्दर और जितेन्द्र ईमानदार हैं।
 iv. कैलाश, गोविन्द और जितेन्द्र महत्वाकांक्षी हैं।
 तो निम्न में से कौन न तो ईमानदार है और न ही कठिन परिश्रमी है, किन्तु महत्वाकांक्षी है ?

- (A) कैलाश (B) गोविन्द
 (C) राजेश (D) हरिन्दर

100. चार गाँव A, B, C, D एक सरल रेखा में हैं। B से D तक दूरी 10 किलोमीटर है, A गाँव D व C के बीच में स्थित है, C से B की दूरी, C से D तक की दूरी से 2 किलोमीटर अधिक है, C से B कितना दूर है ?

- (A) 4 किलोमीटर (B) 6 किलोमीटर
 (C) 8 किलोमीटर (D) 2 किलोमीटर

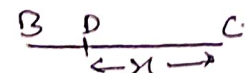
K, G, H → B



K, R, J → KP



J, R, H → E



K, G, J → M



उत्तराखण्ड अधीनस्थ सेवा चयन आयोग

निकट महाराणा प्रताप स्पोर्ट्स कॉलेज, थानों रोड, रायपुर, देहरादून।

दूरभाष/फैक्स-0135-2669658 E-mail: chayanavog@gmail.com

पत्रांक:- 272/जेएन/2023-24

दिनांक: 31 दिसंबर, 2023

विज्ञप्ति

उत्तराखण्ड अधीनस्थ सेवा चयन आयोग के विज्ञापन संख्या- 49/उ०अ०से०च०आ०/2023 दिनांक 13 अक्टूबर, 2023 द्वारा विभिन्न विभागों में स्नातक स्तरीय अर्हता के पदों के लिए दिनांक 31 दिसंबर, 2023 को प्रातः 11:00 बजे से अपराह्न 01:00 बजे तक लिखित प्रतियोगी परीक्षा संचालित की गई।

उक्त लिखित प्रतियोगी परीक्षा की औपबंधिक उत्तर-कुंजिया अभ्यर्थियों के अवलोकनार्थ आयोग की वेबसाइट www.sssc.uk.gov.in पर जारी की जा रही है।

अतः लिखित प्रतियोगी परीक्षा में सम्मिलित अभ्यर्थियों को सूचित किया जाता है कि औपबंधिक उत्तर-कुंजी के सापेक्ष प्रश्नों/उत्तरों पर आपत्तियों/प्रत्यावेदनों के लिए दिनांक 02 जनवरी, 2024 को ऑनलाइन लिंक उपलब्ध कराया जायेगा।


(सुरेन्द्र सिंह सवत)
सचिव

PROVISIONAL ANSWER KEYS FOR ALL SET

पदनाम- स्नातक स्तरीय पद

POST CODE-		520/482/458/317/238/527/183/187/131/2023							
EXAM. DATE-		31-12-2023 (11:00 AM To 01:00 PM)							
Ques.No.	A	B	C	D	Ques.No.	A	B	C	D
1	B	A	D	A	51	D	C	B	D
2	A	C	A	C	52	C	B	B	C
3	A	C	C	B	53	B	B	C	C
4	A	B	A	A	54	C	C	A	A
5	B	B	A	C	55	C	D	C	D
6	D	B	B	C	56	B	B	D	B
7	C	A	C	A	57	A	B	D	C
8	A	D	D	B	58	C	A	C	B
9	D	D	B	B	59	C	C	B	A
10	A	B	A	B	60	B	D	C	C
11	B	B	A	D	61	C	D	D	B
12	A	B	A	B	62	D	B	B	A
13	C	A	D	A	63	A	C	D	D
14	B	D	B	A	64	B	A	B	C
15	D	C	B	D	65	B	D	B	A
16	C	D	C	B	66	D	C	D	C
17	B	A	D	D	67	B	B	B	B
18	D	C	B	D	68	A	A	C	D
19	B	A	C	C	69	B	C	A	A
20	C	A	B	A	70	C	B	B	A
21	A	B	D	B	71	D	B	A	B
22	C	D	C	B	72	B	B	A	C
23	D	B	C	B	73	D	D	A	B
24	D	A	C	C	74	A	C	A	C
25	D	A	D	C	75	D	C	B	B
26	B	C	B	D	76	B	B	C	D
27	D	D	B	C	77	D	A	B	B
28	D	D	C	A	78	A	B	C	B
29	B	A	D	B	79	A	D	C	C
30	D	B	B	D	80	B	B	C	C
31	C	C	C	B	81	B	A	D	A
32	C	D	D	A	82	B	D	C	B
33	D	B	A	C	83	C	B	D	B
34	D	B	C	C	84	B	D	B	D
35	B	B	A	D	85	A	C	A	B
36	C	D	B	D	86	C	C	B	D
37	B	D	B	A	87	D	B	C	B
38	A	B	A	A	88	B	A	B	B
39	B	A	C	D	89	C	C	D	D
40	C	C	C	A	90	C	A	B	C
41	A	D	D	D	91	B	B	A	A
42	B	B	A	D	92	C	B	C	B
43	C	C	B	B	93	C	B	B	C
44	A	D	D	D	94	A	C	B	B
45	A	C	B	B	95	C	C	B	C
46	C	A	A	C	96	B	A	C	B
47	B	C	B	C	97	B	B	A	B
48	C	C	D	C	98	B	C	C	A
49	D	C	D	B	99	A	A	B	B
50	B	D	D	D	100	B	B	B	C

दिनांक-31.12.2023


 परीक्षा नियंत्रक
 उत्तराखण्ड अधीनस्थ सेवा चयन आयोग
 हिमाचल कफाल्टिया
 परीक्षा नियंत्रक
 उत्तराखण्ड अधीनस्थ सेवा चयन आयोग
 देहरादून