

## Banaras Hindu University

<b>Question Paper Name:</b>	Junior Clerk 22nd Sep 2019 Shift 2
<b>Subject Name:</b>	Junior Clerk
<b>Creation Date:</b>	2019-09-22 16:17:49
<b>Duration:</b>	120
<b>Total Marks:</b>	360
<b>Display Marks:</b>	Yes

## Junior Clerk

<b>Group Number :</b>	1
<b>Group Id :</b>	54310799
<b>Group Maximum Duration :</b>	0
<b>Group Minimum Duration :</b>	120
<b>Revisit allowed for view? :</b>	No
<b>Revisit allowed for edit? :</b>	No
<b>Break time:</b>	0
<b>Group Marks:</b>	360

## Language

<b>Section Id :</b>	543107178
<b>Section Number :</b>	1
<b>Section type :</b>	Online
<b>Mandatory or Optional:</b>	Mandatory
<b>Number of Questions:</b>	30
<b>Number of Questions to be attempted:</b>	30
<b>Section Marks:</b>	90
<b>Display Number Panel:</b>	Yes
<b>Group All Questions:</b>	No

<b>Sub-Section Number:</b>	1
<b>Sub-Section Id:</b>	543107230
<b>Question Shuffling Allowed :</b>	Yes

**Question Number : 1 Question Id : 54310712171 Question Type : MCQ Option Shuffling : Yes Display Question Number : Yes Single Line Question Option : No Option Orientation : Vertical Allowed Progression : Yes Number of Replay : 999 Play On Load : No Control Enable : Yes**

**Correct Marks : 3 Wrong Marks : 1**

**Question Label : Multiple Choice Question**

स्वर के कितने भेद होते हैं।

**Options :**

1. दो

2. तीन

# Test Prime

**ALL EXAMS,  
ONE SUBSCRIPTION**



**70,000+**  
Mock Tests



**Personalised  
Report Card**



**Unlimited  
Re-Attempt**



**600+**  
Exam Covered



**Previous Year  
Papers**



**500%**  
Refund



**ATTEMPT FREE MOCK NOW**

3. चार

4. एक

Question Number : 2 Question Id : 54310712172 Question Type : MCQ Option Shuffling : Yes Display Question Number : Yes  
Single Line Question Option : No Option Orientation : Vertical Allowed Progression : Yes Number of Replay : 999 Play On Load :  
No Control Enable : Yes

Correct Marks : 3 Wrong Marks : 1

Question Label : Multiple Choice Question

संधि कितने प्रकार की होती है।

Options :

1. दो

2. तीन

3. पाँच

4. इनमें से कोई नहीं

Question Number : 3 Question Id : 54310712173 Question Type : MCQ Option Shuffling : Yes Display Question Number : Yes  
Single Line Question Option : No Option Orientation : Vertical Allowed Progression : Yes Number of Replay : 999 Play On Load :  
No Control Enable : Yes

Correct Marks : 3 Wrong Marks : 1

Question Label : Multiple Choice Question

प्रसून का अर्थ है।

Options :

1. काँटा

2. पत्र

3. फल

4. कुसुम

Question Number : 4 Question Id : 54310712174 Question Type : MCQ Option Shuffling : Yes Display Question Number : Yes  
Single Line Question Option : No Option Orientation : Vertical Allowed Progression : Yes Number of Replay : 999 Play On Load :  
No Control Enable : Yes

Correct Marks : 3 Wrong Marks : 1

Question Label : Multiple Choice Question

अनुराग का विलोमार्थी शब्द है।

Options :

1. प्रतिकूल

2. अनुकूल

3. विषाद

4. विराग

Question Number : 5 Question Id : 54310712175 Question Type : MCQ Option Shuffling : Yes Display Question Number : Yes  
Single Line Question Option : No Option Orientation : Vertical Allowed Progression : Yes Number of Replay : 999 Play On Load :  
No Control Enable : Yes

Correct Marks : 3 Wrong Marks : 1

Question Label : Multiple Choice Question

आध्यात्मिक का विलोमार्थी शब्द है।

Options :

1. आत्मिक

2. सन्यस्थ

3. वियोगी

4. भौतिक

Question Number : 6 Question Id : 54310712176 Question Type : MCQ Option Shuffling : Yes Display Question Number : Yes  
Single Line Question Option : No Option Orientation : Vertical Allowed Progression : Yes Number of Replay : 999 Play On Load :  
No Control Enable : Yes

Correct Marks : 3 Wrong Marks : 1

Question Label : Multiple Choice Question

दूसरों के कार्यों में दोष खोजने वाला क्या कहलाता है?

Options :

1. दोषी

2. दुष्ट

3. छिद्रान्वेषी

4. इनमें से कोई नहीं

Question Number : 7 Question Id : 54310712177 Question Type : MCQ Option Shuffling : Yes Display Question Number : Yes  
Single Line Question Option : No Option Orientation : Vertical Allowed Progression : Yes Number of Replay : 999 Play On Load :  
No Control Enable : Yes

Correct Marks : 3 Wrong Marks : 1

Question Label : Multiple Choice Question

विषैला में प्रत्यय है।

Options :

1. ला



2. आ
3. ऐला
4. एला

Question Number : 8 Question Id : 54310712178 Question Type : MCQ Option Shuffling : Yes Display Question Number : Yes  
Single Line Question Option : No Option Orientation : Vertical Allowed Progression : Yes Number of Replay : 999 Play On Load :  
No Control Enable : Yes

Correct Marks : 3 Wrong Marks : 1

Question Label : Multiple Choice Question

दही बड़ा का सही विग्रह क्या है?

Options :

1. दही में बड़ा
2. दही और बड़ा
3. दही के लिए बड़ा
4. दही का बड़ा

Question Number : 9 Question Id : 54310712179 Question Type : MCQ Option Shuffling : Yes Display Question Number : Yes  
Single Line Question Option : No Option Orientation : Vertical Allowed Progression : Yes Number of Replay : 999 Play On Load :  
No Control Enable : Yes

Correct Marks : 3 Wrong Marks : 1

Question Label : Multiple Choice Question

देशभक्ति समस्त पद में प्रयुक्त समास है।

Options :

1. अव्ययीभाव
2. तत्पुरुष
3. द्वन्द
4. कर्मधारय

Question Number : 10 Question Id : 54310712180 Question Type : MCQ Option Shuffling : Yes Display Question Number : Yes  
Single Line Question Option : No Option Orientation : Vertical Allowed Progression : Yes Number of Replay : 999 Play On Load :  
No Control Enable : Yes

Correct Marks : 3 Wrong Marks : 1

Question Label : Multiple Choice Question

'हनुमान की पूँछ में लगन न पाई आग। लंका सारि जल गई गए निशाचर भाग।'  
इसमें कौन सा अलंकार है?

Options :

1. यमक
2. अनुप्रास
3. अतिशयोक्ति
4. इममें से कोई नहीं

Question Number : 11 Question Id : 54310712181 Question Type : MCQ Option Shuffling : Yes Display Question Number : Yes  
Single Line Question Option : No Option Orientation : Vertical Allowed Progression : Yes Number of Replay : 999 Play On Load :  
No Control Enable : Yes

Correct Marks : 3 Wrong Marks : 1

Question Label : Multiple Choice Question

'रघुपति राघव राजा राम।' इसमें कौन सा अलंकार है?

Options :

1. रूपक
2. उपमा
3. उत्प्रेक्षा
4. अनुप्रास

Question Number : 12 Question Id : 54310712182 Question Type : MCQ Option Shuffling : Yes Display Question Number : Yes  
Single Line Question Option : No Option Orientation : Vertical Allowed Progression : Yes Number of Replay : 999 Play On Load :  
No Control Enable : Yes

Correct Marks : 3 Wrong Marks : 1

Question Label : Multiple Choice Question

फूल कौनसी संज्ञा है?

Options :

1. समूहवाचक
2. जातिवाचक
3. व्यक्तिवाचक
4. भाववाचक

Question Number : 13 Question Id : 54310712183 Question Type : MCQ Option Shuffling : Yes Display Question Number : Yes  
Single Line Question Option : No Option Orientation : Vertical Allowed Progression : Yes Number of Replay : 999 Play On Load :  
No Control Enable : Yes

Correct Marks : 3 Wrong Marks : 1

Question Label : Multiple Choice Question

तवर्ग का उच्चारण-स्थान है।

Options :

1. मूर्धा
2. दन्त
3. ओष्ठ
4. कण्ठ

Question Number : 14 Question Id : 54310712184 Question Type : MCQ Option Shuffling : Yes Display Question Number : Yes  
Single Line Question Option : No Option Orientation : Vertical Allowed Progression : Yes Number of Replay : 999 Play On Load :  
No Control Enable : Yes

Correct Marks : 3 Wrong Marks : 1

Question Label : Multiple Choice Question

लंबोदर कौन-सा शब्द है।

Options :

1. रूढ़
2. योगिक
3. योगरूढ़
4. ये सभी



Question Number : 15 Question Id : 54310712185 Question Type : MCQ Option Shuffling : Yes Display Question Number : Yes  
Single Line Question Option : No Option Orientation : Vertical Allowed Progression : Yes Number of Replay : 999 Play On Load :  
No Control Enable : Yes

Correct Marks : 3 Wrong Marks : 1

Question Label : Multiple Choice Question

'जिसकी कोई आशा न हो' उसके लिए उचित शब्द क्या है ?

Options :

1. अनिच्छित
2. अनभीष्ट
3. अप्रत्याशित
4. अनपेक्षित

Sub-Section Number: 2  
Sub-Section Id: 543107231  
Question Shuffling Allowed : Yes

Question Number : 16 Question Id : 54310712186 Question Type : MCQ Option Shuffling : Yes Display Question Number : Yes  
Single Line Question Option : No Option Orientation : Vertical Allowed Progression : Yes Number of Replay : 999 Play On Load :  
No Control Enable : Yes

Correct Marks : 3 Wrong Marks : 1

Question Label : Multiple Choice Question

**Choose the best option as synonym**

Inadvertent

Options :

1. Ignorant
2. Unexpected
3. Unintentional
4. Undisturbed

Question Number : 17 Question Id : 54310712187 Question Type : MCQ Option Shuffling : Yes Display Question Number : Yes  
Single Line Question Option : No Option Orientation : Vertical Allowed Progression : Yes Number of Replay : 999 Play On Load :  
No Control Enable : Yes

Correct Marks : 3 Wrong Marks : 1

Question Label : Multiple Choice Question

**Choose the best option as Antonym i.e. word having the opposite meaning:**

Testify

Options :

1. Falsify
2. Evidence
3. Prove
4. Confide

Question Number : 18 Question Id : 54310712188 Question Type : MCQ Option Shuffling : Yes Display Question Number : Yes  
Single Line Question Option : No Option Orientation : Vertical Allowed Progression : Yes Number of Replay : 999 Play On Load :  
No Control Enable : Yes

Correct Marks : 3 Wrong Marks : 1

Question Label : Multiple Choice Question

**Choose the best option as Antonym i.e. word having the opposite meaning:**

Acquit

Options :



1. Retreat
2. Convict
3. Conceal
4. Deprive

Question Number : 19 Question Id : 54310712189 Question Type : MCQ Option Shuffling : Yes Display Question Number : Yes  
Single Line Question Option : No Option Orientation : Vertical Allowed Progression : Yes Number of Replay : 999 Play On Load :  
No Control Enable : Yes

Correct Marks : 3 Wrong Marks : 1

Question Label : Multiple Choice Question

**Fill in the Blank with appropriate Phrasal verb :**

Could you \_\_\_\_\_ the music while I'm on the phone?

Options :

1. Turn
2. Turn off
3. Turn around
4. Turn over

Question Number : 20 Question Id : 54310712190 Question Type : MCQ Option Shuffling : Yes Display Question Number : Yes  
Single Line Question Option : No Option Orientation : Vertical Allowed Progression : Yes Number of Replay : 999 Play On Load :  
No Control Enable : Yes

Correct Marks : 3 Wrong Marks : 1

Question Label : Multiple Choice Question

**Fill in the Blank with appropriate Phrasal verb :**

I don't \_\_\_\_\_ my new science teacher.

Options :

1. Get up
2. Get over
3. Get on with
4. Get in

Question Number : 21 Question Id : 54310712191 Question Type : MCQ Option Shuffling : Yes Display Question Number : Yes  
Single Line Question Option : No Option Orientation : Vertical Allowed Progression : Yes Number of Replay : 999 Play On Load :  
No Control Enable : Yes

Correct Marks : 3 Wrong Marks : 1

Question Label : Multiple Choice Question

**Fill in the Blank with appropriate Preposition:**

Ramesh is sitting \_\_\_\_\_ the Laptop.

Options :

1. Into
2. To
3. In front of
4. With

Question Number : 22 Question Id : 54310712192 Question Type : MCQ Option Shuffling : Yes Display Question Number : Yes  
Single Line Question Option : No Option Orientation : Vertical Allowed Progression : Yes Number of Replay : 999 Play On Load :  
No Control Enable : Yes

Correct Marks : 3 Wrong Marks : 1

Question Label : Multiple Choice Question

**Fill in the Blank with appropriate Preposition:**

He takes Honour \_\_\_\_\_ his great command in computer science.

Options :

1. From
2. With
3. In
4. Without

Question Number : 23 Question Id : 54310712193 Question Type : MCQ Option Shuffling : Yes Display Question Number : Yes  
Single Line Question Option : No Option Orientation : Vertical Allowed Progression : Yes Number of Replay : 999 Play On Load :  
No Control Enable : Yes

Correct Marks : 3 Wrong Marks : 1

Question Label : Multiple Choice Question

**Choose the word closest to the meaning of the phrase for the following :**

At one's fingertips

Options :

1. To take revenge
2. Matter of shame
3. Complete knowledge
4. None of these

Question Number : 24 Question Id : 54310712194 Question Type : MCQ Option Shuffling : Yes Display Question Number : Yes  
Single Line Question Option : No Option Orientation : Vertical Allowed Progression : Yes Number of Replay : 999 Play On Load :  
No Control Enable : Yes

Correct Marks : 3 Wrong Marks : 1

Question Label : Multiple Choice Question

Choose the word closest to the meaning of the phrase for the following :

At the spur of the moment

Options :

1. Difficult Moment
2. Without Delay
3. Great Moment
4. Very Slow

Question Number : 25 Question Id : 54310712195 Question Type : MCQ Option Shuffling : Yes Display Question Number : Yes  
Single Line Question Option : No Option Orientation : Vertical Allowed Progression : Yes Number of Replay : 999 Play On Load :  
No Control Enable : Yes

Correct Marks : 3 Wrong Marks : 1

Question Label : Multiple Choice Question

Choose the word closest to the meaning of the phrase for the following :

All in all

Options :

1. Every person
2. Particular thing same in all
3. Call all at once
4. Most important

Question Number : 26 Question Id : 54310712196 Question Type : MCQ Option Shuffling : Yes Display Question Number : Yes  
Single Line Question Option : No Option Orientation : Vertical Allowed Progression : Yes Number of Replay : 999 Play On Load :  
No Control Enable : Yes

Correct Marks : 3 Wrong Marks : 1

Question Label : Multiple Choice Question

Give one-word Substitute for the following:

A disease which spreads by contact:

Options :

1. Incurable
2. Infectious
3. Contagious
4. Fatal

Question Number : 27 Question Id : 54310712197 Question Type : MCQ Option Shuffling : Yes Display Question Number : Yes  
Single Line Question Option : No Option Orientation : Vertical Allowed Progression : Yes Number of Replay : 999 Play On Load :  
No Control Enable : Yes

Correct Marks : 3 Wrong Marks : 1

Question Label : Multiple Choice Question

**Give one-word Substitute for the following:**

That which cannot be avoided.

Options :

1. Inevitable
2. Irreparable
3. Incomparable
4. Indisputable

Question Number : 28 Question Id : 54310712198 Question Type : MCQ Option Shuffling : Yes Display Question Number : Yes  
Single Line Question Option : No Option Orientation : Vertical Allowed Progression : Yes Number of Replay : 999 Play On Load :  
No Control Enable : Yes

Correct Marks : 3 Wrong Marks : 1

Question Label : Multiple Choice Question

**Give one-word Substitute for the following:**

An Independent person or body officially appointed to settle a dispute:

Options :

1. Arbiter
2. Mediator
3. Agent provocateur
4. Arbitrator

Question Number : 29 Question Id : 54310712199 Question Type : MCQ Option Shuffling : Yes Display Question Number : Yes  
Single Line Question Option : No Option Orientation : Vertical Allowed Progression : Yes Number of Replay : 999 Play On Load :  
No Control Enable : Yes

Correct Marks : 3 Wrong Marks : 1

Question Label : Multiple Choice Question

**Choose the correct answer out of the four alternatives given below:**

What \_\_\_\_\_? It \_\_\_\_\_ wonderful.

Options :

1. is cooking. smell.
2. is cooking. smelled.



3. are you cooking. smelt.
4. are you cooking. smells.

Question Number : 30 Question Id : 54310712200 Question Type : MCQ Option Shuffling : Yes Display Question Number : Yes  
Single Line Question Option : No Option Orientation : Vertical Allowed Progression : Yes Number of Replay : 999 Play On Load :  
No Control Enable : Yes

Correct Marks : 3 Wrong Marks : 1

Question Label : Multiple Choice Question

Find the correctly spelt word out of the four given words:

Options :

1. Perjary
2. Perjury
3. Parjury
4. Perjery.

### General Knowledge and Current Affairs

Section Id :	543107179
Section Number :	2
Section type :	Online
Mandatory or Optional:	Mandatory
Number of Questions:	25
Number of Questions to be attempted:	25
Section Marks:	75
Display Number Panel:	Yes
Group All Questions:	No

Sub-Section Number:	1
Sub-Section Id:	543107232
Question Shuffling Allowed :	Yes

Question Number : 31 Question Id : 54310712201 Question Type : MCQ Option Shuffling : Yes Display Question Number : Yes  
Single Line Question Option : No Option Orientation : Vertical Allowed Progression : Yes Number of Replay : 999 Play On Load :  
No Control Enable : Yes

Correct Marks : 3 Wrong Marks : 1

Question Label : Multiple Choice Question

The "Black Box" of an aeroplane is of -

हवाई जहाज का ब्लैक बॉक्स होता है-

Options :

- Orange Colour
1. नारंगी रंग

Black Colour

2. काला रंग

White Colour

3. सफेद रंग

Green Colour

4. हरा रंग

Question Number : 32 Question Id : 54310712202 Question Type : MCQ Option Shuffling : Yes Display Question Number : Yes  
Single Line Question Option : No Option Orientation : Vertical Allowed Progression : Yes Number of Replay : 999 Play On Load :  
No Control Enable : Yes

Correct Marks : 3 Wrong Marks : 1

Question Label : Multiple Choice Question

What is hydroponics ?

हीड्रोपोनिक्स क्या है -

Options :

Study of soil

1. मिट्टी का अध्ययन।

Plant without soil enrichment

2. पौधे जिन्हें मिट्टी की आवश्यकता नहीं है।

Soil Conservation

3. मिट्टी संरक्षण

Plant with vegetables.

4. सब्जियों के साथ पौधे।

Question Number : 33 Question Id : 54310712203 Question Type : MCQ Option Shuffling : Yes Display Question Number : Yes  
Single Line Question Option : No Option Orientation : Vertical Allowed Progression : Yes Number of Replay : 999 Play On Load :  
No Control Enable : Yes

Correct Marks : 3 Wrong Marks : 1

Question Label : Multiple Choice Question

With reference to micro-irrigation, which of the following statement is/are correct?

सूक्ष्म सिंचाई के सन्दर्भ में निम्नलिखित में से कौन सा/से विवरण सही है -

(i) Fertilizer loss can be reduced

खाद के क्षय को कम किया जा सकता है

(ii) It is the only means of irrigation in dry land farming

शुष्क भूमि की खेती में यही एक मात्र सिंचाई का साधन है

Select the correct answer using the code given below-

नीचे दिए गए कोड का प्रयोग करते हुए सही उत्तर चुने -

Options :

- i only  
1. केवल i
- Both  
2. दोनों
- ii only  
3. केवल ii
- None  
4. कोई नहीं

Question Number : 34 Question Id : 54310712204 Question Type : MCQ Option Shuffling : Yes Display Question Number : Yes  
Single Line Question Option : No Option Orientation : Vertical Allowed Progression : Yes Number of Replay : 999 Play On Load :  
No Control Enable : Yes

Correct Marks : 3 Wrong Marks : 1

Question Label : Multiple Choice Question

Match List I with List II and select the correct answer from the codes given below:

सूची I का सूची II से मिलान करे और नीचे दिए गए कोड में से सही उत्तर का चुनाव करे :

List I सूचीI

List II सूचीII

- |   |                                       |
|---|---------------------------------------|
| (a) Growth in Food Production<br>खाद्य उत्पादन में वृद्धि | (1) Green Revolution<br>हरित क्रांति  |
| (b) Milk Production<br>दुग्ध उत्पादन                      | (2) Blue Revolution<br>नीली क्रांति   |
| (c) Fisheries<br>मछली पालन                                | (3) White Revolution<br>श्वेत क्रांति |
| (d) Fertilizers<br>उर्वरक                                 | (4) Grey Revolution<br>भूरी क्रांति   |

Options :

- |    |   |   |   |
|----|---|---|---|
| A  | B | C | D |
| 1  | 3 | 2 | 4 |
| 2. |   |   |   |
| A  | B | C | D |
| 3  | 1 | 4 | 2 |
| 3. |   |   |   |
| A  | B | C | D |
| 2  | 4 | 3 | 1 |
| 4. |   |   |   |
| A  | B | C | D |
| 3  | 2 | 4 | 1 |



Question Number : 35 Question Id : 54310712205 Question Type : MCQ Option Shuffling : Yes Display Question Number : Yes  
Single Line Question Option : No Option Orientation : Vertical Allowed Progression : Yes Number of Replay : 999 Play On Load :  
No Control Enable : Yes

Correct Marks : 3 Wrong Marks : 1

Question Label : Multiple Choice Question

Which of the following pair (battle during the Mughal and Maratha period and its year) is correctly matched?

निम्नलिखित में से कौन सा जोड़ा (मुगल और मराठा अवधि के दौरान युद्ध और इनके वर्ष) सही रूप से मिलान खाता है-

Options :

- |    |                      |   |         |
|----|----------------------|---|---------|
|    | Battle of Chausa     | - | 1538 AD |
| 1. | चौसा का युद्ध        | - | 1538 ई. |
|    | Battle of Kannauj    | - | 1539 AD |
| 2. | कन्नौज का युद्ध      | - | 1539 ई. |
|    | Battle of Haldighati | - | 1576 AD |
| 3. | हल्दीघाटी का युद्ध   | - | 1576 ई. |
|    | Battle of Khed       | - | 1699 AD |
| 4. | खेड़ का युद्ध        | - | 1699 ई. |

Question Number : 36 Question Id : 54310712206 Question Type : MCQ Option Shuffling : Yes Display Question Number : Yes  
Single Line Question Option : No Option Orientation : Vertical Allowed Progression : Yes Number of Replay : 999 Play On Load :  
No Control Enable : Yes

Correct Marks : 3 Wrong Marks : 1

Question Label : Multiple Choice Question

Which of the following statements are correct?

निम्नलिखित में से कौन सा कथन सही है-

- (i) Ahmad Shah Abdali fought the third battle of Panipat.  
अहमद शाह अब्दाली ने पानीपत का तीसरा युद्ध लड़ा था
- (ii) Babur established the Delhi Sultanate.  
बाबर ने दिल्ली सल्तनत की स्थापना की थी
- (iii) Jahangir was a lover of beauty and nature.  
जहाँगीर सुन्दरता और प्रकृति का प्रेमी था

Options :



i,ii and iii are correct

1. i,ii और iii सही है

iii only

2. केवल iii

i only

3. केवल i

ii and iii only

4. केवल ii और iii

Question Number : 37 Question Id : 54310712207 Question Type : MCQ Option Shuffling : Yes Display Question Number : Yes  
Single Line Question Option : No Option Orientation : Vertical Allowed Progression : Yes Number of Replay : 999 Play On Load :  
No Control Enable : Yes

Correct Marks : 3 Wrong Marks : 1

Question Label : Multiple Choice Question

Duncan Pass is located between –

डंकन पास किनके बीच स्थित है –

Options :

South and Little Andaman

1. दक्षिण और लघु अंडमान

North and South Andaman

2. उत्तर और दक्षिण अंडमान

North and Middle Andaman

3. उत्तर और मध्य अंडमान

Andaman and Nicobar

4. अंडमान और निकोबार

Question Number : 38 Question Id : 54310712208 Question Type : MCQ Option Shuffling : Yes Display Question Number : Yes  
Single Line Question Option : No Option Orientation : Vertical Allowed Progression : Yes Number of Replay : 999 Play On Load :  
No Control Enable : Yes

Correct Marks : 3 Wrong Marks : 1

Question Label : Multiple Choice Question

Which of the following Commission was appointed by the Central Government on union-state relation in 1983?

केंद्रीय सरकार द्वारा 1983 में संघ राज्य संबंध पर कौन सा आयोग गठित किया गया था ?

Options :

Sarkariya Commission.

1. सरकारिया आयोग

Dutt Commission.

2. दत्त आयोग

Setalved Commission.

3. सीतलवाड़ आयोग

Rajamannar Commission.

4. राजमन्नार आयोग

Question Number : 39 Question Id : 54310712209 Question Type : MCQ Option Shuffling : Yes Display Question Number : Yes  
Single Line Question Option : No Option Orientation : Vertical Allowed Progression : Yes Number of Replay : 999 Play On Load :  
No Control Enable : Yes

Correct Marks : 3 Wrong Marks : 1

Question Label : Multiple Choice Question

Who founded the "Naujawan Bharat Sabha" ?

"नौजवान भारत सभा" की स्थापना किसने की थी ?

Options :

Chandra Shekhar Azad

1. चंद्रशेखर आजाद

Surya Sen

2. सूर्यसेन

Bhagat Singh

3. भगत सिंह

V.D.Savarkar

4. वी डी सावरकर

Question Number : 40 Question Id : 54310712210 Question Type : MCQ Option Shuffling : Yes Display Question Number : Yes  
Single Line Question Option : No Option Orientation : Vertical Allowed Progression : Yes Number of Replay : 999 Play On Load :  
No Control Enable : Yes

Correct Marks : 3 Wrong Marks : 1

Question Label : Multiple Choice Question

A person with diabetes mellitus does not secrete :

मधुमेह के ग्रसित व्यक्ति के शरीर में स्रवित नहीं होता है :

Options :

- insulin
- 1. इंसुलिन
- thyroxin
- 2. थाइरोक्सिन
- glucagon
- 3. ग्लूकागन
- growth hormone
- 4. ग्रोथ हॉर्मोन

Question Number : 41 Question Id : 54310712211 Question Type : MCQ Option Shuffling : Yes Display Question Number : Yes  
Single Line Question Option : No Option Orientation : Vertical Allowed Progression : Yes Number of Replay : 999 Play On Load :  
No Control Enable : Yes

Correct Marks : 3 Wrong Marks : 1

Question Label : Multiple Choice Question

When is the National Youth Day celebrated ?

राष्ट्रीय युवा दिवस कब मनाया जाता है ?

Options :

- January 15;
- 1. 15 जनवरी
- January 9;
- 2. 9 जनवरी
- January 18;
- 3. 18 जनवरी
- January 12.
- 4. 12 जनवरी

Question Number : 42 Question Id : 54310712212 Question Type : MCQ Option Shuffling : Yes Display Question Number : Yes  
Single Line Question Option : No Option Orientation : Vertical Allowed Progression : Yes Number of Replay : 999 Play On Load :  
No Control Enable : Yes

Correct Marks : 3 Wrong Marks : 1

Question Label : Multiple Choice Question

The Study of population is called:

जनसंख्या अध्ययन कहलाता है -

Options :

- Cartography;
1. कार्टोग्राफी
- Anthropology;
2. एंथ्रोपोलॉजी
- Demography;
3. डेमोग्राफी
- Biography.
4. बायोग्राफी

Question Number : 43 Question Id : 54310712213 Question Type : MCQ Option Shuffling : Yes Display Question Number : Yes  
Single Line Question Option : No Option Orientation : Vertical Allowed Progression : Yes Number of Replay : 999 Play On Load :  
No Control Enable : Yes

Correct Marks : 3 Wrong Marks : 1

Question Label : Multiple Choice Question

Name of the longest lake in India:

भारत में सबसे लम्बी झील है -

Options :

- Pangong Lake;
1. पेंगोंग झील
- Pulicut Lake;
2. पुलिकत झील
- Kolleru Lake;
3. कोल्लेरु झील
- Vembanad Lake.
4. वेम्बानाद झील

Question Number : 44 Question Id : 54310712214 Question Type : MCQ Option Shuffling : Yes Display Question Number : Yes  
Single Line Question Option : No Option Orientation : Vertical Allowed Progression : Yes Number of Replay : 999 Play On Load :  
No Control Enable : Yes

Correct Marks : 3 Wrong Marks : 1

Question Label : Multiple Choice Question



The Oath of Office is administered to the Governor by the:

राज्यपाल को किसके द्वारा शपथ दिलाई जाती है -

Options :

- Chief Justice of India;
1. भारत के मुख्य न्यायाधीश
  - Speaker of Legislative Assembly;
  2. विधान सभा का स्पीकर
  - President;
  3. राष्ट्रपति
  - Chief Justice of High Court.
  4. उच्च न्यायालय का मुख्य न्यायाधीश

Question Number : 45 Question Id : 54310712215 Question Type : MCQ Option Shuffling : Yes Display Question Number : Yes  
Single Line Question Option : No Option Orientation : Vertical Allowed Progression : Yes Number of Replay : 999 Play On Load :  
No Control Enable : Yes

Correct Marks : 3 Wrong Marks : 1

Question Label : Multiple Choice Question

Who translated 'Mahabharata' into Persian?

'महाभारत' का फारसी में अनुवाद किसने किया था -

Options :

- lbn- Batuta;
1. इब्नबतूता
  - Abdul Fazal;
  2. अब्दुलफजल
  - Babar;
  3. बाबर
  - Badauni.
  4. बदायुनी

Question Number : 46 Question Id : 54310712216 Question Type : MCQ Option Shuffling : Yes Display Question Number : Yes  
Single Line Question Option : No Option Orientation : Vertical Allowed Progression : Yes Number of Replay : 999 Play On Load :  
No Control Enable : Yes

Correct Marks : 3 Wrong Marks : 1

Question Label : Multiple Choice Question

Central Government has formed a new ministry by merging the erstwhile ministry of water resources and Drinking water and Sanitation. What is the name of the new Ministry?

केंद्रीय सरकार ने तत्कालीन जल संसाधन और पेयजल एवम् स्वच्छता मंत्रालय का विलय करके एक नया मंत्रालय बनाया है। नए मंत्रालय का क्या नाम है ?

Options :

1. Jal Puri  
जलपूर्ति
2. Jal Sanitation  
जल स्वच्छता
3. Jal Shakti  
जलशक्ति
4. Jal Sudhan  
जलसूधन

Question Number : 47 Question Id : 54310712217 Question Type : MCQ Option Shuffling : Yes Display Question Number : Yes Single Line Question Option : No Option Orientation : Vertical Allowed Progression : Yes Number of Replay : 999 Play On Load : No Control Enable : Yes

Correct Marks : 3 Wrong Marks : 1

Question Label : Multiple Choice Question

In the French Open Tennis Tournament held recently in Paris, Ashleigh Barty won her maiden grand slam title. She is from which country?

हाल ही में पेरिस में आयोजित फ्रेंच ओपन टेनिस प्रतियोगिता में आश्ले बर्ती ने अपना पहला ग्रैंड स्लैम का खिताब जीता है। वह किस देश की है ?

Options :

1. France  
फ्रांस
2. Australia  
आस्ट्रेलिया
3. Belgium  
बेल्जियम

Italy.

4. इटली

Question Number : 48 Question Id : 54310712218 Question Type : MCQ Option Shuffling : Yes Display Question Number : Yes  
Single Line Question Option : No Option Orientation : Vertical Allowed Progression : Yes Number of Replay : 999 Play On Load :  
No Control Enable : Yes

Correct Marks : 3 Wrong Marks : 1

Question Label : Multiple Choice Question

Who appoints the Chief Election Commissioner of India ?

भारत के मुख्य चुनाव आयुक्त की नियुक्ति कौन करता है ?

Options :

President

1. राष्ट्रपति

Prime Minister

2. प्रधानमंत्री

Parliament

3. संसद

Chief Justice of India

4. भारत का मुख्य न्यायाधीश

Question Number : 49 Question Id : 54310712219 Question Type : MCQ Option Shuffling : Yes Display Question Number : Yes  
Single Line Question Option : No Option Orientation : Vertical Allowed Progression : Yes Number of Replay : 999 Play On Load :  
No Control Enable : Yes

Correct Marks : 3 Wrong Marks : 1

Question Label : Multiple Choice Question

World Environment day is celebrated on June 05 worldwide. What was the theme of world Environment day this year?

विश्व पर्यावरण दिवस पूरे विश्व में 5 जून को मनाया जाता है। इस वर्ष विश्व पर्यावरण दिवस का विषय क्या था -

Options :

Air Pollution

1. वायु प्रदूषण

Clean India

2. स्वच्छ भारत

Plastic free India

3. प्लास्टिक मुक्त भारत

one world, one Environment

4. एक विश्व, एक पर्यावरण

Question Number : 50 Question Id : 54310712220 Question Type : MCQ Option Shuffling : Yes Display Question Number : Yes  
Single Line Question Option : No Option Orientation : Vertical Allowed Progression : Yes Number of Replay : 999 Play On Load :  
No Control Enable : Yes

Correct Marks : 3 Wrong Marks : 1

Question Label : Multiple Choice Question

What was the code name given by Indian Air Force for February 2019 surgical Strike on Balakot?

फरवरी 2019 में बालाकोट पर हुई सर्जिकल स्ट्राइक का भारतीय वायु सेना द्वारा दिया गया कोड नाम क्या था-

Options :

- Operation Bandar
1. ऑपरेशन बन्दर
- Operation Delhi
2. ऑपरेशन दिल्ली
- Operation Khan
3. ऑपरेशन खान
- Operation Hero
4. ऑपरेशन हीरो

Question Number : 51 Question Id : 54310712221 Question Type : MCQ Option Shuffling : Yes Display Question Number : Yes  
Single Line Question Option : No Option Orientation : Vertical Allowed Progression : Yes Number of Replay : 999 Play On Load :  
No Control Enable : Yes

Correct Marks : 3 Wrong Marks : 1

Question Label : Multiple Choice Question

Which is India's fastest train?

भारत में सबसे तेज गति से चलने वाली रेलगाडी कौन सी है ?

Options :

- T-18
1. टी -18
- Rajdhani
2. राजधानी
- Vaishali
3. वैशाली



Gomati

4. गोमती

Question Number : 52 Question Id : 54310712222 Question Type : MCQ Option Shuffling : Yes Display Question Number : Yes  
Single Line Question Option : No Option Orientation : Vertical Allowed Progression : Yes Number of Replay : 999 Play On Load :  
No Control Enable : Yes

Correct Marks : 3 Wrong Marks : 1

Question Label : Multiple Choice Question

Which politician has received Seoul Peace Prize 2018?

निम्नलिखित में से किस राजनीतिज्ञ ने 2018 का शियोल शांति पुरष्कार प्राप्त किया है –

Options :

Donald Trump

1. डॉनल्ड ट्रम्प

Narendra Modi

2. नरेन्द्र मोदी

Vladimir Putin

3. व्लादिमीर पुतिन

Emmanuel Macron

4. इमैनुएलमैक्रो



Question Number : 53 Question Id : 54310712223 Question Type : MCQ Option Shuffling : Yes Display Question Number : Yes  
Single Line Question Option : No Option Orientation : Vertical Allowed Progression : Yes Number of Replay : 999 Play On Load :  
No Control Enable : Yes

Correct Marks : 3 Wrong Marks : 1

Question Label : Multiple Choice Question

Who is the first women full time finance minister of India?

भारत की पहली पूर्ण कालिक महिला वित्तमंत्री कौन हैं ?

Options :

Smt. Indira Gandhi

1. श्रीमती इंदिरा गाँधी

Smt. Sushma Swaraj

2. श्रीमती सुष्मा स्वराज

Smt. Nirmala Sitharaman

3. श्रीमती निर्मला सीतारमण

Smt. Sheila Kaul

4. श्रीमती शीला कौल

Question Number : 54 Question Id : 54310712224 Question Type : MCQ Option Shuffling : Yes Display Question Number : Yes  
Single Line Question Option : No Option Orientation : Vertical Allowed Progression : Yes Number of Replay : 999 Play On Load :  
No Control Enable : Yes

Correct Marks : 3 Wrong Marks : 1

Question Label : Multiple Choice Question

Which of the following is a method of heat transfer?

निम्नलिखित में से कौन सा उष्मा अंतरण का एक तरीका है?

Options :

1. Evaporation;  
उत्सर्जन
2. Convection;  
संवहन
3. Revolution;  
परिक्रमण
4. Thermal Expansion.  
तापीयप्रसार



Question Number : 55 Question Id : 54310712225 Question Type : MCQ Option Shuffling : Yes Display Question Number : Yes  
Single Line Question Option : No Option Orientation : Vertical Allowed Progression : Yes Number of Replay : 999 Play On Load :  
No Control Enable : Yes

Correct Marks : 3 Wrong Marks : 1

Question Label : Multiple Choice Question

Which Indian holds the record of playing the highest number of football matches from Indian Side?

निम्नलिखित में किस खिलाड़ी के पास भारत की तरफ से सबसे अधिक फुटबाल मैच खेलने का रिकॉर्ड है?

Options :

1. Anil Dev  
अनिल देव
2. Ashok Kumar  
अशोक कुमार

Sunil Chhetri

3. सुनील छेत्री

B. Bhutia

4. वी भूटिया

## Reasoning Ability

Section Id :	543107180
Section Number :	3
Section type :	Online
Mandatory or Optional:	Mandatory
Number of Questions:	23
Number of Questions to be attempted:	23
Section Marks:	72
Display Number Panel:	Yes
Group All Questions:	No

Sub-Section Number:	1
Sub-Section Id:	543107233
Question Shuffling Allowed :	Yes

Question Id : 54310712226 Question Type : COMPREHENSION Sub Question Shuffling Allowed : Yes Group Comprehension Questions : No Allowed Progression : Yes Number of Replay : 999 Play On Load : No Control Enable : Yes

Question Numbers : (56 to 57)

Question Label : Comprehension

**Directions – Read the given information carefully and answer the given question.**

निर्देश- दी गई सूचना को ध्यानपूर्वक पढ़े और दिए गए प्रश्नों का उत्तर दें।

Point N is 8m to the west of point O. Point P is 4m to the south of point O. Point Q is 4m to the east of point P. Point R is 6m to the north of point Q. Point S is 8m to the west of point R. Point T is 2m to the south of the point S.

बिंदु N, बिंदु O के पश्चिम में 8 मीटर पर है। बिंदु P, बिंदु O के दक्षिण में 4 मीटर पर है। बिंदु Q, बिंदु P के पूर्व में 4 मीटर पर है। बिंदु R, बिंदु Q के उत्तर में 6 मीटर पर है। बिंदु S, बिंदु R के पश्चिम में 8 मीटर पर है। बिंदु T, बिंदु S के दक्षिण में 2 मीटर पर है।

Sub questions

Question Number : 56 Question Id : 54310712227 Question Type : MCQ Option Shuffling : Yes Display Question Number : Yes Single Line Question Option : No Option Orientation : Vertical Allowed Progression : Yes Number of Replay : 999 Play On Load : No Control Enable : Yes

Correct Marks : 3 Wrong Marks : 1

Question Label : Multiple Choice Question

How far and in which direction is point T from point N?

बिंदु T, बिंदु N से किस दिशा में और कितनी दूर है ?



Options :

1. 4m to the east  
4 मीटर पूर्व में
2. 8m to the west  
8 मीटर पश्चिम में
3. 4m to the west  
4 मीटर पश्चिम में
4. 6m to the east  
6 मीटर पूर्व में

Question Number : 57 Question Id : 54310712228 Question Type : MCQ Option Shuffling : Yes Display Question Number : Yes  
Single Line Question Option : No Option Orientation : Vertical Allowed Progression : Yes Number of Replay : 999 Play On Load :  
No Control Enable : Yes

Correct Marks : 3 Wrong Marks : 1

Question Label : Multiple Choice Question

If point T is 4m to the north of point E, then what is the distance between E and Q?  
यदि बिंदु T, बिंदु E से 4 मीटर दूर उत्तर में है तो E और Q के बीच की दूरी क्या है?

Options :

1. 11m/मीटर
2. 8m/मीटर
3. 15m/मीटर
4. 5m/मीटर

Sub-Section Number: 2  
Sub-Section Id: 543107234  
Question Shuffling Allowed : Yes

Question Number : 58 Question Id : 54310712229 Question Type : MCQ Option Shuffling : Yes Display Question Number : Yes  
Single Line Question Option : No Option Orientation : Vertical Allowed Progression : Yes Number of Replay : 999 Play On Load :  
No Control Enable : Yes

Correct Marks : 3 Wrong Marks : 1

Question Label : Multiple Choice Question

If 2 boys and 2 girls are to be arranged in a row so that the girls are not next to each other, how many possible arrangements are there?

यदि 2 लड़के और 2 लड़कियों को एक पंक्ति में इस तरह व्यवस्थित किया जाता है ताकि लड़कियाँ एक दूसरे के बगल में नहीं हैं, तो वहाँ पर कितने संभावित व्यवस्था क्रम हैं?



Options :

1. 5
2. 6
3. 12
4. 24

Question Number : 59 Question Id : 54310712230 Question Type : MCQ Option Shuffling : Yes Display Question Number : Yes  
Single Line Question Option : No Option Orientation : Vertical Allowed Progression : Yes Number of Replay : 999 Play On Load :  
No Control Enable : Yes

Correct Marks : 3 Wrong Marks : 1

Question Label : Multiple Choice Question

How many numbers are there between 99 and 1000 such that the digit 8 occupies the units place?

99 और 1000 के बीच आने वाली संख्याओं में 8 की संख्या इकाई के स्थान पर कितनी बार आई है?

Options :

1. 84
2. 30
3. 90
4. 104

Question Number : 60 Question Id : 54310712231 Question Type : MCQ Option Shuffling : Yes Display Question Number : Yes  
Single Line Question Option : No Option Orientation : Vertical Allowed Progression : Yes Number of Replay : 999 Play On Load :  
No Control Enable : Yes

Correct Marks : 3 Wrong Marks : 1

Question Label : Multiple Choice Question

A bag contains 20 balls. 8 balls are green, 7 are white and 5 are red. What is the minimum number of balls that must be picked up from the bag (without replacing any of it) so that at least one ball from each color is drawn?

एक थैले में 20 बॉल हैं। उनमें से 8 बॉल हरे रंग की हैं, 7 सफेद रंग की और 5 लाल रंग की हैं। थैले में (बिना किसी बॉल को बदले) कम से कम कितनी बॉल उठाई जाएं ताकि प्रत्येक रंग की एक बॉल निश्चित रूप से हाथ में आए?

Options :

1. 17

2. 16

3. 13

4. 11

Question Number : 61 Question Id : 54310712232 Question Type : MCQ Option Shuffling : Yes Display Question Number : Yes  
Single Line Question Option : No Option Orientation : Vertical Allowed Progression : Yes Number of Replay : 999 Play On Load :  
No Control Enable : Yes

Correct Marks : 3 Wrong Marks : 1

Question Label : Multiple Choice Question

Examine the following statements:

निम्नलिखित कथनों का परीक्षण करें:

1. All colours are pleasant.  
सभी रंग सुहावने हैं।
2. Some colours are pleasant.  
कुछ रंग सुहावने हैं।
3. No colour is pleasant  
कोई भी रंग सुहावना नहीं है।
4. Some colours are not pleasant.  
कुछ रंग सुहावने नहीं हैं।

Given that statement 4 is true, what can be concluded?

यह मानते हुए कि कथन-4 सही है तो क्या निष्कर्ष निकाला जा सकता है ?

Options :

- 1 and 2 are true  
1 और 2 सही हैं
- 3 is true  
3 सही है
- 2 is false  
2 गलत है
- 1 is false  
1 गलत है।

Question Number : 62 Question Id : 54310712233 Question Type : MCQ Option Shuffling : Yes Display Question Number : Yes  
Single Line Question Option : No Option Orientation : Vertical Allowed Progression : Yes Number of Replay : 999 Play On Load :  
No Control Enable : Yes

Correct Marks : 3 Wrong Marks : 1

Question Label : Multiple Choice Question

There are some nectar filled flowers on a tree and some bees are hovering on it. If 3 bee lands on each flower, one bee will be left out. If two bees land on each flower, one flower will be left out. The number of flowers and bees respectively are:

एक वृक्ष पर कुछ मधु से भरे हुए फूल हैं और उन पर कुछ मधुमक्खियाँ मंडरा रही हैं। यदि प्रत्येक फूल पर एक मधुमक्खी बैठती है तो एक मधुमक्खी बची रह जाती है। यदि दो मधुमक्खियाँ प्रत्येक फूल पर बैठती हैं, एक फूल बच जाता है। फूलों और मधुमक्खियों की संख्या क्रमशः है-

Options :

1. 2 and 4  
2 और 4
2. 3 and 2  
3 और 2
3. 3 and 4  
3 और 4
4. 4 and 5  
4 और 5

Question Number : 63 Question Id : 54310712234 Question Type : MCQ Option Shuffling : Yes Display Question Number : Yes Single Line Question Option : No Option Orientation : Vertical Allowed Progression : Yes Number of Replay : 999 Play On Load : No Control Enable : Yes

Correct Marks : 3 Wrong Marks : 1

Question Label : Multiple Choice Question

Reena travelled from point A to a distance of 10 feet East at point B. She then turned right and walked 3 feet. Again, she turned right and walked 14 feet. How far is she from the starting point A?

रीना ने बिंदु A से 10 फिट पूर्व में बिंदु B की यात्रा की। वह वहाँ से दाहिनी ओर मुड़ी और 3 फिट चली। पुनः वह दाहिनी ओर 14 फिट चली। वह प्रारंभ बिंदु A से कितनी दूर है?

Options :

1. 4 feet/फिट
2. 5 feet/फिट
3. 24 feet/फिट
4. 25 feet/फिट

Question Number : 64 Question Id : 54310712235 Question Type : MCQ Option Shuffling : Yes Display Question Number : Yes Single Line Question Option : No Option Orientation : Vertical Allowed Progression : Yes Number of Replay : 999 Play On Load : No Control Enable : Yes

Correct Marks : 3 Wrong Marks : 1



Question Label : Multiple Choice Question

There are six persons A, B, C, D, E and F. C is the sister of F. B is the brother of E's husband. D is the father of A and grandfather of F. There are two fathers, three brothers and a mother in the group, who is E's husband?

छ: व्यक्ति A,B,C,D,E और F हैं । C, F की बहन है। B,E के पति का भाई है। D, A का पिता और F का दादा है। समूह में दो पिता हैं, तीन भाई हैं और एक माता है। E का पति कौन है?

Options :

1. A
2. B
3. C
4. F

Question Number : 65 Question Id : 54310712236 Question Type : MCQ Option Shuffling : Yes Display Question Number : Yes Single Line Question Option : No Option Orientation : Vertical Allowed Progression : Yes Number of Replay : 999 Play On Load : No Control Enable : Yes

Correct Marks : 3 Wrong Marks : 1

Question Label : Multiple Choice Question

**Direction:** In each of the following questions, a series is given, with one term missing. Choose the correct alternative from the given ones that will complete the series.

निम्नलिखित प्रत्येक प्रश्न में एक श्रंखला दी गई है। इसमें एक शब्द लुप्त है। नीचे दिए गए विकल्पों में से सही का चुनाव करें ताकि श्रंखला पूरी हो जाए।

ELFA, GLHA, ILJA, \_\_\_\_\_, MLNA

Options :

1. OLPA
2. ILMA
3. LLMA
4. KLLA

Question Number : 66 Question Id : 54310712237 Question Type : MCQ Option Shuffling : Yes Display Question Number : Yes Single Line Question Option : No Option Orientation : Vertical Allowed Progression : Yes Number of Replay : 999 Play On Load : No Control Enable : Yes

Correct Marks : 3 Wrong Marks : 1

Question Label : Multiple Choice Question



**Direction:** In each of the following questions, a series is given, with one term missing. Choose the correct alternative from the given ones that will complete the series.

निम्नलिखित प्रत्येक प्रश्न में एक श्रंखला दी गई है। इसमें एक शब्द लुप्त है। नीचे दिए गए विकल्पों में से सही का चुनाव करें ताकि श्रंखला पूरी हो जाए।

4,18,48, \_\_\_\_\_,180

Options :

1. 105
2. 80
3. 125
4. 100

Question Number : 67 Question Id : 54310712238 Question Type : MCQ Option Shuffling : Yes Display Question Number : Yes  
Single Line Question Option : No Option Orientation : Vertical Allowed Progression : Yes Number of Replay : 999 Play On Load :  
No Control Enable : Yes

Correct Marks : 3 Wrong Marks : 1

Question Label : Multiple Choice Question

If 'P' denotes 'multiplied by', 'T' denotes 'subtracted from', 'M' denotes 'added to' and 'B' denotes 'divided by', then what should be the correct response of 12P6M15T16B4?

यदि P का अर्थ गुणा, T का अर्थ घटाव, M का अर्थ जोड़ और B का अर्थ भाग है, तब निम्न का सही उत्तर क्या होगा ?

12P6M15T16B4?

Options :

1. 83
2. 75
3. 88
4. 125

Question Number : 68 Question Id : 54310712239 Question Type : MCQ Option Shuffling : Yes Display Question Number : Yes  
Single Line Question Option : No Option Orientation : Vertical Allowed Progression : Yes Number of Replay : 999 Play On Load :  
No Control Enable : Yes

Correct Marks : 3 Wrong Marks : 1

Question Label : Multiple Choice Question

The question given below has some statements followed by some conclusions. Taking the given statements to be true even if they seem to be at variance from commonly known facts, read all the conclusions and then decide which of the given conclusion logically follows the given statements.

निम्नलिखित प्रश्न में कुछ कथन दिए गए हैं तथा उसके बाद कुछ निष्कर्ष दिए गए हैं। कथन को सत्य मानते हुए यद्यपि वे आमतौर पर ज्ञात तथ्यों से भिन्न प्रतीत हो सकते हैं, दिए गए निष्कर्षों को ध्यान पूर्वक पढ़ें तथा यह सुनिश्चित करें कि कौन सा दिया गया निष्कर्ष दिए गए कथन के अनुरूप सही है -

**Statements/ कथन:**

Some boxes are triangles

कुछ संदूक त्रिकोण हैं

All spheres are triangles

सभी गोले त्रिकोण हैं

All circles are boxes

सभी वृत्त संदूक हैं

All triangles are quadrilaterals

सभी त्रिकोण चतुर्भुज हैं।

**Conclusions/निष्कर्ष:**

i) Some quadrilaterals are boxes

कुछ चतुर्भुज संदूक हैं।

ii) Some quadrilaterals are triangles

कुछ चतुर्भुज त्रिकोण हैं।

iii) Some triangles are spheres

कुछ त्रिकोण गोले हैं।

iv) No circle is quadrilaterals

कोई भी वृत्त चतुर्भुज नहीं है।

**Options :**

Only i follows

1. केवल i सही है

Only ii follows

2. केवल ii सही है

Only i, ii and iii follow

3. केवल i, ii और iii सही है

Only iii follow

4. केवल iii सही है

Correct Marks : 3 Wrong Marks : 1

Question Label : Multiple Choice Question

From the given alternative words below, select the word, which cannot be formed using the letters of the word 'Suspensefulness'.

निम्नलिखित प्रश्न में, दिए गए विकल्प शब्दों से ऐसा शब्द चुने जो 'Suspensefulness' शब्द के अक्षरों का प्रयोग करके नहीं बनाया जा सकता-

Options :

1. Sense
2. Fuels
3. Useful
4. Fullness

Question Number : 70 Question Id : 54310712241 Question Type : MCQ Option Shuffling : Yes Display Question Number : Yes Single Line Question Option : No Option Orientation : Vertical Allowed Progression : Yes Number of Replay : 999 Play On Load : No Control Enable : Yes

Correct Marks : 3 Wrong Marks : 1

Question Label : Multiple Choice Question

What replaces question mark (?) in the series given below :

नीचे दिए गए श्रृंखला में प्रश्नवाचक चिह्न (?) की जगह क्या होगा :

88, 64, 24, ?

Options :

1. 8
2. 6
3. 2
4. 5

Question Number : 71 Question Id : 54310712242 Question Type : MCQ Option Shuffling : Yes Display Question Number : Yes Single Line Question Option : No Option Orientation : Vertical Allowed Progression : Yes Number of Replay : 999 Play On Load : No Control Enable : Yes

Correct Marks : 3 Wrong Marks : 1

Question Label : Multiple Choice Question



The question given below has some statements followed by some conclusions. Taking the given statements to be true even if they seem to be at variance from commonly known facts, read all the conclusions and then decide which of the given conclusion logically follows the given statements.

निम्नलिखित प्रश्न में कुछ कथन दिए गए हैं तथा उसके बाद कुछ निष्कर्ष दिए गए हैं। कथन को सत्य मानते हुए यद्यपि वे आमतौर पर ज्ञात तथ्यों से भिन्न प्रतीत हो सकते हैं, दिए गए निष्कर्षों को ध्यान पूर्वक पढ़ें तथा यह सुनिश्चित करें कि कौन सा दिया गया निष्कर्ष दिए गए कथन के अनुरूप सही है -

**Statements:**

**विवरण:**

- I. Some pens are pencils  
कुछ पेन पेंसिल हैं
- II. All pencils are erasers  
सभी पेंसिल रबर हैं

**Conclusions:**

- I. Some pens are erasers  
कुछ पेन रबर हैं
- II. No pens are erasers  
कोई पेन रबर नहीं हैं
- III. Some erasers are pencils  
कुछ रबर पेंसिल हैं

**Options :**

1. Only conclusion (II) is correct  
केवल निष्कर्ष (II) सही है
2. Only conclusions (I) and (II) are correct  
केवल निष्कर्ष (I) और (II) सही है
3. Only conclusions (I) and (III) are correct  
केवल निष्कर्ष (I) और (III) सही है
4. No conclusion is correct  
कोई निष्कर्ष सही नहीं है

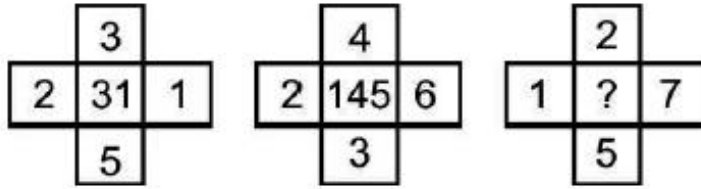


Correct Marks : 3 Wrong Marks : 1

Question Label : Multiple Choice Question

In the given figure, select the number which can be placed at the sign of question mark (?) from the given alternatives.

निम्नलिखित प्रश्न में दिए गए विकल्पों में से ऐसी संख्या चुनें जो प्रश्न चिह्न (?) के स्थान पर रखी जा सके?



Options :

1. 43
2. 49
3. 59
4. 71

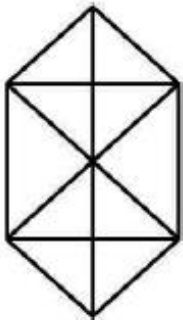
Question Number : 73 Question Id : 54310712244 Question Type : MCQ Option Shuffling : Yes Display Question Number : Yes Single Line Question Option : No Option Orientation : Vertical Allowed Progression : Yes Number of Replay : 999 Play On Load : No Control Enable : Yes

Correct Marks : 3 Wrong Marks : 1

Question Label : Multiple Choice Question

How many triangles are there in the given figure?

दी गई आकृति में कितने त्रिभुज हैं?



Options :

1. 20
2. 22
3. 28
4. 32

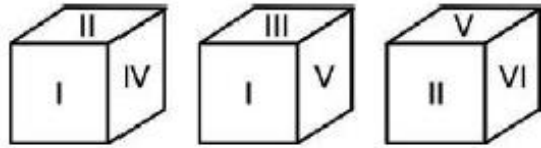
Question Number : 74 Question Id : 54310712245 Question Type : MCQ Option Shuffling : Yes Display Question Number : Yes  
Single Line Question Option : No Option Orientation : Vertical Allowed Progression : Yes Number of Replay : 999 Play On Load :  
No Control Enable : Yes

Correct Marks : 3 Wrong Marks : 1

Question Label : Multiple Choice Question

Three positions of a cube are shown below. What will come opposite to the face containing 'I'?

नीचे घन की तीन स्थितियाँ दी गई हैं। 'I' की विपरीत दिशा में क्या आएगा ?



Options :

1. VI
2. IV
3. II
4. V

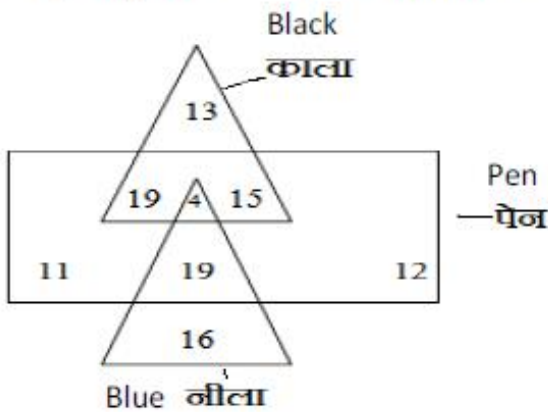
Question Number : 75 Question Id : 54310712246 Question Type : MCQ Option Shuffling : Yes Display Question Number : Yes  
Single Line Question Option : No Option Orientation : Vertical Allowed Progression : Yes Number of Replay : 999 Play On Load :  
No Control Enable : Yes

Correct Marks : 3 Wrong Marks : 1

Question Label : Multiple Choice Question

In the given figure, how many pens are blue?

दी गई आकृति में, कितने नीले पेन हैं?



Options :

1. 23
2. 19
3. 12

4. 15

Question Number : 76 Question Id : 54310712247 Question Type : MCQ Option Shuffling : Yes Display Question Number : Yes  
Single Line Question Option : No Option Orientation : Vertical Allowed Progression : Yes Number of Replay : 999 Play On Load :  
No Control Enable : Yes

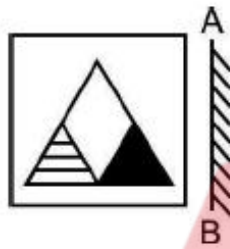
Correct Marks : 3 Wrong Marks : 1

Question Label : Multiple Choice Question

If a mirror is placed on the line AB, then which of the answer figures is the right image of the given figure?

यदि एक दर्पण AB रेखा पर रखा जाता है तब कौन सी उत्तर आकृति दी गई आकृति की सही छवि होगी?

Question figure: - प्रश्नआकृति



Options :



Question Number : 77 Question Id : 54310712248 Question Type : MCQ Option Shuffling : Yes Display Question Number : Yes  
Single Line Question Option : No Option Orientation : Vertical Allowed Progression : Yes Number of Replay : 999 Play On Load :  
No Control Enable : Yes

Correct Marks : 3 Wrong Marks : 1

Question Label : Multiple Choice Question

Identify the odd one

इनमे से सबसे अलग को छांटे-

Options :

1. ZAYB
2. TSGH
3. XCWD
4. VEUF

Question Number : 78 Question Id : 54310712249 Question Type : MCQ Option Shuffling : Yes Display Question Number : Yes  
Single Line Question Option : No Option Orientation : Vertical Allowed Progression : Yes Number of Replay : 999 Play On Load :  
No Control Enable : Yes

Correct Marks : 3 Wrong Marks : 1

Question Label : Multiple Choice Question

The two hands of clock will make nearly what angle at 6.20 a.m.?

एक घड़ी के दो कांटे सुबह 6.20 बजे किस कोण के करीब होंगे-

Options :

1. 75
2. 70
3. 60
4. 45

Question Number : 79 Question Id : 54310712250 Question Type : MCQ Option Shuffling : Yes Display Question Number : Yes  
Single Line Question Option : No Option Orientation : Vertical Allowed Progression : Yes Number of Replay : 999 Play On Load :  
No Control Enable : Yes

Correct Marks : 3 Wrong Marks : 1

Question Label : Multiple Choice Question

An integer with positive sign (+) is always greater than

धनात्मक चिह्न (+) के साथ एक पूर्णांक हमेशा बड़ा रहता है?

Options :

1. 0
2. 1
3. 2
4. 3

Quantitative Aptitude

Section Id :

543107181

Section Number :

4



Section type :	Online
Mandatory or Optional:	Mandatory
Number of Questions:	25
Number of Questions to be attempted:	25
Section Marks:	78
Display Number Panel:	Yes
Group All Questions:	No

Sub-Section Number:	1
Sub-Section Id:	543107235
Question Shuffling Allowed :	Yes

Question Id : 54310712251 Question Type : COMPREHENSION Sub Question Shuffling Allowed : Yes Group Comprehension Questions : No Allowed Progression : Yes Number of Replay : 999 Play On Load : No Control Enable : Yes

Question Numbers : (80 to 81)

Question Label : Comprehension

**Directions:** Study the given information carefully and answer the question which are based on it.

निर्देश: दी गई सूचना को ध्यानपूर्वक पढ़े और इस पर आधारित प्रश्न के उत्तर दें

The rainfall (in mm) in a city on 7 days of a certain week was recorded as follows:

एक शहर में नियत सप्ताह के 7 दिन की वर्षा (मिमी में) निम्नलिखित दर्ज की गई:

Day/ दिन	Mon/ सोम.	Tue/ मंगल.	Wed/ बुध.	Thu/ गुरु.	Fri/ शुक्र.	Sat/ शनि	Sun/ रवि.
Rainfall/ वर्षा	0.0	12.2	2.1	0.0	20.5	5.5	1.0

Sub questions

Question Number : 80 Question Id : 54310712252 Question Type : MCQ Option Shuffling : Yes Display Question Number : Yes Single Line Question Option : No Option Orientation : Vertical Allowed Progression : Yes Number of Replay : 999 Play On Load : No Control Enable : Yes

Correct Marks : 3 Wrong Marks : 1

Question Label : Multiple Choice Question

Find the range of the rainfall in the data.

डाटा में वर्षा की सीमा (range) बताएं

Options :

- 10.5
- 12.5
- 20.5

4. 13.5

Question Number : 81 Question Id : 54310712253 Question Type : MCQ Option Shuffling : Yes Display Question Number : Yes  
Single Line Question Option : No Option Orientation : Vertical Allowed Progression : Yes Number of Replay : 999 Play On Load :  
No Control Enable : Yes

Correct Marks : 3 Wrong Marks : 1

Question Label : Multiple Choice Question

Find the mean rainfall for the week

सप्ताह की वर्षा का माध्य (mean) बताएं

Options :

1. 5.9
2. 5.0
3. 5.5
4. 4.5

Sub-Section Number: 2  
Sub-Section Id: 543107236  
Question Shuffling Allowed : Yes

Question Number : 82 Question Id : 54310712254 Question Type : MCQ Option Shuffling : Yes Display Question Number : Yes  
Single Line Question Option : No Option Orientation : Vertical Allowed Progression : Yes Number of Replay : 999 Play On Load :  
No Control Enable : Yes

Correct Marks : 3 Wrong Marks : 1

Question Label : Multiple Choice Question

If least common multiple of two numbers is 225 and the highest common factor is 5 then find the numbers when one of numbers is 25?

यदि दो संख्याओं का न्यूनतम सामान्य गुणज 225 और उच्चतम सामान्य कारक 5 है।  
यदि एक संख्या 25 है तो दूसरी संख्या का पता करें?

Options :

1. 75
2. 65
3. 15
4. 45

Question Number : 83 Question Id : 54310712255 Question Type : MCQ Option Shuffling : Yes Display Question Number : Yes  
Single Line Question Option : No Option Orientation : Vertical Allowed Progression : Yes Number of Replay : 999 Play On Load :  
No Control Enable : Yes

Correct Marks : 3 Wrong Marks : 1

Question Label : Multiple Choice Question

A man goes to Mumbai from Pune at a speed of 4 km/hr and returns to Pune at speed of 6 km/hr. What is his average speed of the entire journey?

एक आदमी पुणे से मुम्बई 4 किमी. प्रति घंटा की गति से जाता है और वापस पुणे 6 किमी प्रति घंटा की गति से आता है। उसकी पूरी यात्रा की औसत गति क्या है?

Options :

1. 4.8 km/hr किमीप्रतिघंटा
2. 5 km/hr किमीप्रतिघंटा
3. 4.2 km/hr किमीप्रतिघंटा
4. 5.6 km/hr किमीप्रतिघंटा

Question Number : 84 Question Id : 54310712256 Question Type : MCQ Option Shuffling : Yes Display Question Number : Yes Single Line Question Option : No Option Orientation : Vertical Allowed Progression : Yes Number of Replay : 999 Play On Load : No Control Enable : Yes

Correct Marks : 3 Wrong Marks : 1

Question Label : Multiple Choice Question

Ramesh's salary was reduced by 10% and then the reduced salary was increased by 10%. What was his ultimate loss?

रमेश का वेतन 10% कम किया जाता है और तब कम हुए वेतन को 10% बढ़ा दिया जाता है तो उसे शुद्ध नुकसान कितने प्रतिशत होगा ?

Options :

1. 0%
2. 10%
3. 1%
4. 5%

Question Number : 85 Question Id : 54310712257 Question Type : MCQ Option Shuffling : Yes Display Question Number : Yes Single Line Question Option : No Option Orientation : Vertical Allowed Progression : Yes Number of Replay : 999 Play On Load : No Control Enable : Yes

Correct Marks : 3 Wrong Marks : 1

Question Label : Multiple Choice Question

Two numbers are less than a third number by 30% and 37%, respectively. By how much percent is the second number less than the first?

दो संख्याएं तीसरी संख्या से क्रमशः 30% और 37% कम है। दूसरी संख्या, पहली की तुलना में कितने प्रतिशत कम है ?

Options :



1. 7%
2. 10%
3. 4%
4. 3%

Question Number : 86 Question Id : 54310712258 Question Type : MCQ Option Shuffling : Yes Display Question Number : Yes  
Single Line Question Option : No Option Orientation : Vertical Allowed Progression : Yes Number of Replay : 999 Play On Load :  
No Control Enable : Yes

Correct Marks : 3 Wrong Marks : 1

Question Label : Multiple Choice Question

An agricultural field is in the form of rectangle having length  $X_1$  meters and breadth  $X_2$  meters. ( $X_1$  and  $X_2$  are variables). If  $X_1 + X_2 = 40$  meters, then the area of the agricultural field will not exceed which one of the following values?

एक खेत आयताकार है उसकी लम्बाई  $X_1$  मीटर और चौड़ाई  $X_2$  मीटर है (जहाँ  $X_1$  और  $X_2$  परिवर्तनशील हैं) यदि  $X_1 + X_2 = 40$  मीटर है तो खेत का क्षेत्रफल निम्नलिखित में से किस संख्या से अधिक नहीं हो सकता?

Options :

1. 400 sq m वर्गमीटर
2. 300 sq m वर्गमीटर
3. 200 sq m वर्गमीटर
4. 80sq m वर्गमीटर

Question Number : 87 Question Id : 54310712259 Question Type : MCQ Option Shuffling : Yes Display Question Number : Yes  
Single Line Question Option : No Option Orientation : Vertical Allowed Progression : Yes Number of Replay : 999 Play On Load :  
No Control Enable : Yes

Correct Marks : 3 Wrong Marks : 1

Question Label : Multiple Choice Question

A jar contains a mixture of 2 liquids P and Q in the ratio 4:1. When 10 litres of the mixture is taken out and 10 litres of the liquid Q is poured into the jar, the ratio becomes 2:3. How many litres of the liquid P was contained in the Jar?

एक जार में 2 तरल पदार्थों P और Q का 4:1 के अनुपात में मिश्रण है। जब 10 लीटर मिश्रण जार से निकाला जाता है और Q का 10 लीटर तरल पदार्थ जार में मिलाया जाता है तो अनुपात 2:3 हो जाता है। जार में P का कितना लीटर तरल पदार्थ था?

Options :

1. 17 litres लीटर



2. 16 litres लीटर
3. 14 litres लीटर
4. 15 litres लीटर

Question Number : 88 Question Id : 54310712260 Question Type : MCQ Option Shuffling : Yes Display Question Number : Yes  
Single Line Question Option : No Option Orientation : Vertical Allowed Progression : Yes Number of Replay : 999 Play On Load :  
No Control Enable : Yes

Correct Marks : 3 Wrong Marks : 1

Question Label : Multiple Choice Question

P works thrice as fast as Q, whereas P and Q together can work four times as fast as R. If P&Q and R together work on a job, in what ratio should they share the earnings?

P, Q से तीन गुणा तेज कार्य करता है जब की P और Q दोनो मिलकर R से चार गुणा तेज कार्य कर सकते है। यदि P, Q और R साथ मिलकर कार्य करते हैं तो इन्हें पारिश्रमिक किस अनुपात में मिलेगा?

Options :

1. 3 : 1 : 1
2. 3 : 2 : 4
3. 4 : 3 : 4
4. 3 : 1 : 4

Question Number : 89 Question Id : 54310712261 Question Type : MCQ Option Shuffling : Yes Display Question Number : Yes  
Single Line Question Option : No Option Orientation : Vertical Allowed Progression : Yes Number of Replay : 999 Play On Load :  
No Control Enable : Yes

Correct Marks : 3 Wrong Marks : 1

Question Label : Multiple Choice Question

If  $1.123 \times 3.211 = 3.122 + \underline{\hspace{2cm}}$ , then the number in blank space is

यदि  $1.123 \times 3.21 = 3.122 + \dots\dots\dots$  खाली स्थान में कौन सी संख्या आएगी।

Options :

1. 0.483
2. 0.0483
3. 4.083

4. 4.0083

Question Number : 90 Question Id : 54310712262 Question Type : MCQ Option Shuffling : Yes Display Question Number : Yes  
Single Line Question Option : No Option Orientation : Vertical Allowed Progression : Yes Number of Replay : 999 Play On Load :  
No Control Enable : Yes

Correct Marks : 3 Wrong Marks : 1

Question Label : Multiple Choice Question

If  $\frac{1}{3}$  of A = 75% of B = 0.6 of C, then A : B : C is

यदि  $\frac{1}{3}$  of A = 75% of B = 0.6 of C, तब A : B : C का मान है

Options :

1. 4 : 5 : 9
2. 5 : 9 : 4
3. 9 : 5 : 4
4. 9 : 4 : 5

Question Number : 91 Question Id : 54310712263 Question Type : MCQ Option Shuffling : Yes Display Question Number : Yes  
Single Line Question Option : No Option Orientation : Vertical Allowed Progression : Yes Number of Replay : 999 Play On Load :  
No Control Enable : Yes

Correct Marks : 3 Wrong Marks : 1

Question Label : Multiple Choice Question

A train crosses a platform 100 m long in 60 s at a speed of 45 km/h. The time taken by the train to cross an electric pole is

एक रेलगाड़ी 100 मीटर लम्बे प्लेटफार्म को 45 किमी प्रति घंटा की गति से 60 से. में पार करती है। एक बिजली के खम्बे को पार करने में कितना समय लगेगा?

Options :

1. 8 s/सेकंड
2. 52 s/सेकंड
3. 1 min/ मिनट
4. 40 s/सेकंड

Question Number : 92 Question Id : 54310712264 Question Type : MCQ Option Shuffling : Yes Display Question Number : Yes  
Single Line Question Option : No Option Orientation : Vertical Allowed Progression : Yes Number of Replay : 999 Play On Load :  
No Control Enable : Yes

Correct Marks : 3 Wrong Marks : 1

Question Label : Multiple Choice Question

If the price of the cooking gas is increased by 15 %, by how many percent should a family reduce its consumption so as not to exceed its budget on cooking gas?

यदि खाना पकाने की गैस की कीमत 15% बढ़ गयी है तो एक परिवार अपने खाना बनाने की गैस की खपत को कितना प्रतिशत कम करे ताकि उसके खाना पकाने की गैस का बजट नहीं बढ़े?

Options :

1. 14 %
2. 13 %
3. 17 %
4.  $13\frac{1}{23}$  %

Question Number : 93 Question Id : 54310712265 Question Type : MCQ Option Shuffling : Yes Display Question Number : Yes  
Single Line Question Option : No Option Orientation : Vertical Allowed Progression : Yes Number of Replay : 999 Play On Load :  
No Control Enable : Yes

Correct Marks : 3 Wrong Marks : 1

Question Label : Multiple Choice Question

The difference between the smallest and the largest fraction among  $\frac{3}{2}, \frac{1}{5}, \frac{4}{3}, \frac{5}{4}$  is

$\frac{3}{2}, \frac{1}{5}, \frac{4}{3}, \frac{5}{4}$  में से सबसे छोटी और सबसे बड़ी भिन्नों के बीच अंतर क्या है?

Options :

1.  $\frac{12}{8}$
2.  $\frac{13}{8}$
3.  $\frac{13}{10}$
4.  $\frac{15}{10}$

Question Number : 94 Question Id : 54310712266 Question Type : MCQ Option Shuffling : Yes Display Question Number : Yes  
Single Line Question Option : No Option Orientation : Vertical Allowed Progression : Yes Number of Replay : 999 Play On Load :  
No Control Enable : Yes

Correct Marks : 3 Wrong Marks : 1

Question Label : Multiple Choice Question

If the cost price of 9 pens is equal to the selling price of 11 pens, then what is gain or loss percentage?

यदि 9 पेन का लागत मूल्य 11 पेन के बिक्री मूल्य के समान है तो कितने प्रतिशत लाभ अथवा हानि होगी?

Options :



1. 22%
2. 25%
3. 18.2%
4. 16%

Question Number : 95 Question Id : 54310712267 Question Type : MCQ Option Shuffling : Yes Display Question Number : Yes Single Line Question Option : No Option Orientation : Vertical Allowed Progression : Yes Number of Replay : 999 Play On Load : No Control Enable : Yes

Correct Marks : 3 Wrong Marks : 1

Question Label : Multiple Choice Question

The average weight of 8 persons increased by 1.5 kg when a person weighing 65 kg is replaced by a new person. What could be the weight of a new person?

जब एक 65 किलोग्राम वजन के व्यक्ति की जगह एक नया व्यक्ति आता है तो 8 व्यक्तियों का औसत वजन 1.5 कि.ग्रा. बढ़ जाता है। नए व्यक्ति का वजन क्या है?

Options :

1. 75 kg/कि.ग्रा.
2. 82 kg/कि.ग्रा.
3. 77 kg/कि.ग्रा.
4. 70 kg/कि.ग्रा.



Question Number : 96 Question Id : 54310712268 Question Type : MCQ Option Shuffling : Yes Display Question Number : Yes Single Line Question Option : No Option Orientation : Vertical Allowed Progression : Yes Number of Replay : 999 Play On Load : No Control Enable : Yes

Correct Marks : 3 Wrong Marks : 1

Question Label : Multiple Choice Question

Two taps A and B can fill a cistern in 12 min and 16 min respectively. If both taps are opened together and at the end of 4 min, B tap is turned off, then how much time will it take to fill the cistern ?

दो नल ए और बी एक टंकी को क्रमशः 12 मिनट और 16 मिनट में भर सकते हैं। दोनों नल एक साथ खोले जाते हैं तथा 4 मिनट बाद नल बी को बंद कर दिया जाता है। अब और कितने समय में टंकी पूरी भरेगी?

Options :

1. 8 min/मिनट
2. 10 min/मिनट



3. 5 min/मिनट

4. 11 min/मिनट

Question Number : 97 Question Id : 54310712269 Question Type : MCQ Option Shuffling : Yes Display Question Number : Yes  
Single Line Question Option : No Option Orientation : Vertical Allowed Progression : Yes Number of Replay : 999 Play On Load :  
No Control Enable : Yes

Correct Marks : 3 Wrong Marks : 1

Question Label : Multiple Choice Question

A sum doubles in 20 years at simple interest. What is the rate of interest?

साधारण ब्याज दर पर एक राशि 20 वर्ष में दुगुनी हो जाती है। ब्याज दर क्या है ?

Options :

1. 5 % per annum/प्रतिवर्ष

2. 8 % per annum/प्रतिवर्ष

3. 5.5% per annum/प्रतिवर्ष

4. 8.5 % per annum/प्रतिवर्ष

Question Number : 98 Question Id : 54310712270 Question Type : MCQ Option Shuffling : Yes Display Question Number : Yes  
Single Line Question Option : No Option Orientation : Vertical Allowed Progression : Yes Number of Replay : 999 Play On Load :  
No Control Enable : Yes

Correct Marks : 3 Wrong Marks : 1

Question Label : Multiple Choice Question

The average of 11 observations is 60. If the average of first five observations is 58 and that of last five is 56, the sixth observation is

11 आब्जरवेशन का औसत 60 है। यदि प्रथम पाँच आब्जरवेशन का औसत 58 है और अंतिम पाँच का औसत 56 है तो छठी आब्जरवेशन है-

Options :

1. 90

2. 110

3. 85

4. 100

Question Number : 99 Question Id : 54310712271 Question Type : MCQ Option Shuffling : Yes Display Question Number : Yes  
Single Line Question Option : No Option Orientation : Vertical Allowed Progression : Yes Number of Replay : 999 Play On Load :  
No Control Enable : Yes

Correct Marks : 3 Wrong Marks : 1

Question Label : Multiple Choice Question

Each member of a picnic party contributed twice to their serial number. The total collection was Rs 3042. The number of members present in the party was

एक पिकनिक पार्टी के प्रत्येक सदस्य ने अपनी क्रम संख्या का दुगुना अंश दान दिया। इसमें कुल संग्रह 3042 रु. था। पार्टी में कितने लोग उपस्थित थे?

Options :

1. 2
2. 32
3. 42
4. 39

Question Number : 100 Question Id : 54310712272 Question Type : MCQ Option Shuffling : Yes Display Question Number : Yes Single Line Question Option : No Option Orientation : Vertical Allowed Progression : Yes Number of Replay : 999 Play On Load : No Control Enable : Yes

Correct Marks : 3 Wrong Marks : 1

Question Label : Multiple Choice Question

Two men start together to walk a certain distance, one at 4 km/h and another at 3 km/h. The former arrives half an hour before the latter. Find the distance.

दो व्यक्ति एक साथ एक निश्चित दूरी की यात्रा शुरू करते हैं। एक 4 कि.मी. प्रति घण्टा की गति से दूसरा 3 कि.मी. प्रति घण्टा की गति से। पहला व्यक्ति दूसरे से आधा घण्टा पहले पहुँचता है तो दूरी बताएं-

Options :

1. 6 km/कि.मी.
2. 9 km/कि.मी.
3. 8 km/कि.मी.
4. 7 km/कि.मी.

Question Number : 101 Question Id : 54310712273 Question Type : MCQ Option Shuffling : Yes Display Question Number : Yes Single Line Question Option : No Option Orientation : Vertical Allowed Progression : Yes Number of Replay : 999 Play On Load : No Control Enable : Yes

Correct Marks : 3 Wrong Marks : 1

Question Label : Multiple Choice Question

On selling an article for Rs 264 a man loses 4%. In order to gain 12%, find the selling price of the article.

एक व्यक्ति को एक वस्तु 264 रु. में बेचने पर 4% की हानि होती है। 12% लाभ प्राप्त करने के लिए वस्तु का बिक्री मूल्य बताएं-

Options :

1. Rs/रु. 300
2. Rs/रु. 310
3. Rs/रु. 295
4. Rs/रु. 308

Question Number : 102 Question Id : 54310712274 Question Type : MCQ Option Shuffling : Yes Display Question Number : Yes  
Single Line Question Option : No Option Orientation : Vertical Allowed Progression : Yes Number of Replay : 999 Play On Load :  
No Control Enable : Yes

Correct Marks : 3 Wrong Marks : 1

Question Label : Multiple Choice Question

out of  $\sqrt[3]{4}$ ,  $\sqrt{2}$ ,  $\sqrt[6]{3}$ ,  $\sqrt[4]{5}$  which number is the biggest?

$\sqrt[3]{4}$ ,  $\sqrt{2}$ ,  $\sqrt[6]{3}$ ,  $\sqrt[4]{5}$  इनमे से कौन सी संख्या सबसे बड़ी है?

Options :

1.  $\sqrt[3]{4}$
2.  $\sqrt[4]{5}$
3.  $\sqrt{2}$
4.  $\sqrt[6]{3}$

Question Number : 103 Question Id : 54310712275 Question Type : MCQ Option Shuffling : Yes Display Question Number : Yes  
Single Line Question Option : No Option Orientation : Vertical Allowed Progression : Yes Number of Replay : 999 Play On Load :  
No Control Enable : Yes

Correct Marks : 3 Wrong Marks : 1

Question Label : Multiple Choice Question

A cube of 25 cm side is divided into 125 smaller cubes of equal volume. Find the side of smaller cubes :

25 सेमी भुजा वाले एक घन को समान मात्रा के 125 छोटे घनों में विभाजित किया जाता है। छोटे घनों की भुजा होगी :

Options :

1. 2 cm/सेमी
2. 3 cm/सेमी
3. 5 cm/सेमी



4. 6 cm/सेमी

Question Number : 104 Question Id : 54310712276 Question Type : MCQ Option Shuffling : Yes Display Question Number : Yes  
Single Line Question Option : No Option Orientation : Vertical Allowed Progression : Yes Number of Replay : 999 Play On Load :  
No Control Enable : Yes

Correct Marks : 3 Wrong Marks : 1

Question Label : Multiple Choice Question

Rs. 5625 is divided among A, B and C so that A receives one half as much as B and C together receive and B receives one-fourth of what A and C together receive. The share of A is more than that of B by:

5625 रुपये को A B और C के बीच इस प्रकार विभाजित किया गया है कि A को B और C (एक साथ) की तुलना में आधा प्राप्त होता है और B को A और C (एक साथ) की तुलना में एक चौथाई प्राप्त होता है। A का हिस्सा B से कितना अधिक है-

Options :

1. Rs. 750  
750 रुपये
2. Rs. 775  
775 रुपये
3. Rs. 1500  
1500 रुपये
4. Rs. 160  
160 रुपये



Question Number : 105 Question Id : 54310712277 Question Type : MCQ Option Shuffling : Yes Display Question Number : Yes  
Single Line Question Option : No Option Orientation : Vertical Allowed Progression : Yes Number of Replay : 999 Play On Load :  
No Control Enable : Yes

Correct Marks : 3 Wrong Marks : 1

Question Label : Multiple Choice Question

If A mean  $\div$ , B means '-', C means 'x', then find the value of following equation :

यदि A का मतलब  $\div$ , B का मतलब '-', C का मतलब 'x' है, तो निम्नलिखित समीकरण का मान ज्ञात करें :

$$46 A 2 B 3 C 4 = ?$$

Options :

1. 34



2. 23

3. 17

4. 11

## Basic Computer Knowledge

Section Id :	543107182
Section Number :	5
Section type :	Online
Mandatory or Optional:	Mandatory
Number of Questions:	15
Number of Questions to be attempted:	15
Section Marks:	45
Display Number Panel:	Yes
Group All Questions:	No

Sub-Section Number:	1
Sub-Section Id:	543107237
Question Shuffling Allowed :	Yes

Question Number : 106 Question Id : 54310712278 Question Type : MCQ Option Shuffling : Yes Display Question Number : Yes  
Single Line Question Option : No Option Orientation : Vertical Allowed Progression : Yes Number of Replay : 999 Play On Load :  
No Control Enable : Yes

Correct Marks : 3 Wrong Marks : 1

Question Label : Multiple Choice Question

Documents, Movies, Images and Photographs etc. are stored at a:

दस्तावेज, सिनेमा, चित्र और फोटो आदि किस पर स्टोर होते हैं:

Options :

Application Server

1. एप्लीकेशन सर्वर

Web Server

2. वेब सर्वर

Print Server

3. प्रिंट सर्वर

File Server

4. फ़ाइल सर्वर

Question Number : 107 Question Id : 54310712279 Question Type : MCQ Option Shuffling : Yes Display Question Number : Yes  
Single Line Question Option : No Option Orientation : Vertical Allowed Progression : Yes Number of Replay : 999 Play On Load :  
No Control Enable : Yes

Correct Marks : 3 Wrong Marks : 1

Question Label : Multiple Choice Question

RAM consists of which of the following?

RAM में निम्नलिखित में से क्या शामिल है?

Options :

- Conductor
- 1. कंडक्टर (चालक)
- Semi Conductor
- 2. अर्ध कंडक्टर (अर्द्ध चालक)
- Vaccum Tubes
- 3. वैक्यूम ट्यूब
- Transistor
- 4. ट्रांजिस्टर

Question Number : 108 Question Id : 54310712280 Question Type : MCQ Option Shuffling : Yes Display Question Number : Yes  
Single Line Question Option : No Option Orientation : Vertical Allowed Progression : Yes Number of Replay : 999 Play On Load :  
No Control Enable : Yes

Correct Marks : 3 Wrong Marks : 1

Question Label : Multiple Choice Question

What do you press to enter the current date in a cell of an MS Excel sheet?

एम.एस. एक्सेल शीट के सेल में वर्तमान तिथि दर्ज करने के लिए आप क्या दबाते हैं?

Options :

- CTRL + ; (semicolon)
- 1. CTRL + ; (अर्धविराम)
- CTRL + : (colon)
- 2. CTRL + : (कोलन)
- CTRL + F10
- 3. CTRL + F10
- CTRL + F11
- 4. CTRL + F11

Question Number : 109 Question Id : 54310712281 Question Type : MCQ Option Shuffling : Yes Display Question Number : Yes  
Single Line Question Option : No Option Orientation : Vertical Allowed Progression : Yes Number of Replay : 999 Play On Load :  
No Control Enable : Yes

Correct Marks : 3 Wrong Marks : 1

Question Label : Multiple Choice Question

How many bytes are there in a terabyte?

एक टेराबाइट में कितने बाइट होते हैं?

Options :

- 1000
- 1. 1000
- 1 billion
- 2. 1 बिलियन
- 1 trillion
- 3. 1 ट्रिलियन
- 1 million
- 4. 1 मिलियन

Question Number : 110 Question Id : 54310712282 Question Type : MCQ Option Shuffling : Yes Display Question Number : Yes  
Single Line Question Option : No Option Orientation : Vertical Allowed Progression : Yes Number of Replay : 999 Play On Load :  
No Control Enable : Yes

Correct Marks : 3 Wrong Marks : 1

Question Label : Multiple Choice Question

Which of the following is an electronic or paper log used to track computer activity?

कंप्यूटर गतिविधि को ट्रैक करने के लिए निम्नलिखित में से कौन सा इलेक्ट्रॉनिक या पेपर लॉग है?

Options :

- Audit trail
- 1. ऑडिट ट्रेल
- Monitor
- 2. मॉनिटर
- Trace route
- 3. ट्रेस मार्ग
- Cookies
- 4. कुकीज

Question Number : 111 Question Id : 54310712283 Question Type : MCQ Option Shuffling : Yes Display Question Number : Yes  
Single Line Question Option : No Option Orientation : Vertical Allowed Progression : Yes Number of Replay : 999 Play On Load :  
No Control Enable : Yes

Correct Marks : 3 Wrong Marks : 1

Question Label : Multiple Choice Question

Micro Processor speed is measured in—

माइक्रो प्रोसेसर की गति किसमें मापी जाती है ?

Options :

- megabytes
- 1. मेगाबाइट्स
- gigahertz
- 2. गीगाहर्ट्ज़
- kilobytes
- 3. किलोबाइट्स
- gigabytes
- 4. गीगाबाइट

Question Number : 112 Question Id : 54310712284 Question Type : MCQ Option Shuffling : Yes Display Question Number : Yes  
Single Line Question Option : No Option Orientation : Vertical Allowed Progression : Yes Number of Replay : 999 Play On Load :  
No Control Enable : Yes

Correct Marks : 3 Wrong Marks : 1

Question Label : Multiple Choice Question

Which of the following prints the best quality graphics?

निम्न में से कौन सबसे अच्छी गुणवत्ता वाले ग्राफिक्स की छपाई करता है?

Options :

- Plotter
- 1. प्लॉटर
- Laser printer
- 2. लेजर प्रिंटर
- Ink jet printer
- 3. इंक जेट प्रिंटर



Dot matrix printer

4. डॉट मैट्रिक्स प्रिंटर

Question Number : 113 Question Id : 54310712285 Question Type : MCQ Option Shuffling : Yes Display Question Number : Yes  
Single Line Question Option : No Option Orientation : Vertical Allowed Progression : Yes Number of Replay : 999 Play On Load :  
No Control Enable : Yes

Correct Marks : 3 Wrong Marks : 1

Question Label : Multiple Choice Question

What does the acronym PDF stand for?

संक्षिप्त नाम 'पीडीएफ' का पूरा नाम क्या है?

Options :

Portable Documenting Format

1. पोर्टेबल डॉक्यूमेंटिंग फॉर्मेट

Portable Document Format

2. पोर्टेबल दस्तावेज़ प्रारूप

Portable Documentation Format

3. पोर्टेबल प्रलेखन प्रारूप

Portable Documentation File

4. पोर्टेबल डॉक्यूमेंटेशन फ़ाइल

Question Number : 114 Question Id : 54310712286 Question Type : MCQ Option Shuffling : Yes Display Question Number : Yes  
Single Line Question Option : No Option Orientation : Vertical Allowed Progression : Yes Number of Replay : 999 Play On Load :  
No Control Enable : Yes

Correct Marks : 3 Wrong Marks : 1

Question Label : Multiple Choice Question

A computer virus can not cause—

कंप्यूटर वायरस के परिणामस्वरूप नहीं होता-

Options :

Disk Crash

1. डिस्क का क्रैश होना

Mother Board Crash

2. मदर बोर्ड का क्रैश होना

Corruption of program

3. प्रोग्राम का विकृत व्यवहार

Deletion of files

4. फ़ाइलों का डिलीट हो जाना

Question Number : 115 Question Id : 54310712287 Question Type : MCQ Option Shuffling : Yes Display Question Number : Yes  
Single Line Question Option : No Option Orientation : Vertical Allowed Progression : Yes Number of Replay : 999 Play On Load :  
No Control Enable : Yes

Correct Marks : 3 Wrong Marks : 1

Question Label : Multiple Choice Question

Which generation computers are built with microprocessors?

माइक्रो प्रोसेसर युक्त कंप्यूटर किस पीढ़ी के कहलाते हैं?

Options :

third generation

1. तीसरी पीढ़ी के

fourth generation

2. चौथी पीढ़ी के

first generation

3. पहली पीढ़ी के

second generation

4. दूसरी पीढ़ी के

Question Number : 116 Question Id : 54310712288 Question Type : MCQ Option Shuffling : Yes Display Question Number : Yes  
Single Line Question Option : No Option Orientation : Vertical Allowed Progression : Yes Number of Replay : 999 Play On Load :  
No Control Enable : Yes

Correct Marks : 3 Wrong Marks : 1

Question Label : Multiple Choice Question

How to specify cell range from A10 to A 25 in MS Excel?

एम.एस. एक्सेल में A10 से A 25 तक सेल रेंज कैसे निर्दिष्ट करेंगे?

Options :

1. (A10 . A25)

2. (A10-A25)

3. (A10 to A25)

4. (A10 : A25)

Question Number : 117 Question Id : 54310712289 Question Type : MCQ Option Shuffling : Yes Display Question Number : Yes  
Single Line Question Option : No Option Orientation : Vertical Allowed Progression : Yes Number of Replay : 999 Play On Load :  
No Control Enable : Yes

Correct Marks : 3 Wrong Marks : 1

Question Label : Multiple Choice Question

The ALU and Control unit, are jointly known as–

ALU और नियंत्रण इकाई को संयुक्त रूप से जाना जाता है-

Options :

RAM

1. रैम

CPU

2. सीपीयू

PC

3. पीसी

EPROM

4. इप्रौम



Question Number : 118 Question Id : 54310712290 Question Type : MCQ Option Shuffling : Yes Display Question Number : Yes  
Single Line Question Option : No Option Orientation : Vertical Allowed Progression : Yes Number of Replay : 999 Play On Load :  
No Control Enable : Yes

Correct Marks : 3 Wrong Marks : 1

Question Label : Multiple Choice Question

119. Which of the following is not a function of the control unit?

निम्नलिखित में से कौन नियंत्रण इकाई का कार्य नहीं है?

Options :

Reading instructions

1. निर्देश पढ़ना

Executing instructions

2. निर्देशों का पालन करना

Direct operations

3. प्रत्यक्ष संचालन

Interpret instructions

4. निर्देशों की व्याख्या करें

Question Number : 119 Question Id : 54310712291 Question Type : MCQ Option Shuffling : Yes Display Question Number : Yes  
Single Line Question Option : No Option Orientation : Vertical Allowed Progression : Yes Number of Replay : 999 Play On Load :  
No Control Enable : Yes

Correct Marks : 3 Wrong Marks : 1

Question Label : Multiple Choice Question

What is the storage area for email messages called?

ईमेल संदेशों के लिए भंडारण क्षेत्र क्या कहलाता है?

Options :

- folder
- 1. फोल्डर
- directory
- 2. निर्देशिका
- mailbox
- 3. मेलबॉक्स
- hard disk
- 4. हार्ड डिस्क



Question Number : 120 Question Id : 54310712292 Question Type : MCQ Option Shuffling : Yes Display Question Number : Yes  
Single Line Question Option : No Option Orientation : Vertical Allowed Progression : Yes Number of Replay : 999 Play On Load :  
No Control Enable : Yes

Correct Marks : 3 Wrong Marks : 1

Question Label : Multiple Choice Question

Programs such as Mozilla Firefox that serve as navigation windows into web are called—

मोज़िला फ़ायरफ़ॉक्स जैसे प्रोग्राम जो वेब में नैविगेशन विंडो के रूप में काम करते हैं, उन्हें कहा जाता है-

Options :

- Internet
- 1. इंटरनेट



URL

2. यूआरएल

Web browser

3. वेब ब्राउज़र

Networks

4. नेटवर्क

