

Education Consultant India Ltd.

Notations :

- 1.Options shown in green color and with ✓ icon are correct.
- 2.Options shown in red color and with ✗ icon are incorrect.

Question Paper Name:	Nursing Officer 29th August 2019 S3
Subject Name:	Nursing Officer
Creation Date:	2019-08-29 19:54:20
Duration:	120
Total Marks:	200
Display Marks:	Yes
Share Answer Key With Delivery Engine:	No
Actual Answer Key:	Yes
Calculator:	None
Magnifying Glass Required?:	No
Ruler Required?:	No
Eraser Required?:	No
Scratch Pad Required?:	No
Rough Sketch/Notepad Required?:	No
Protractor Required?:	No
Show Watermark on Console?:	Yes
Highlighter:	No
Auto Save on Console?:	No



Group Number :	1
Group Id :	966231194
Group Maximum Duration :	0
Group Minimum Duration :	0
Revisit allowed for view? :	No
Revisit allowed for edit? :	No
Break time:	0
Group Marks:	20
Revisit allowed for group Instructions? :	Yes
Maximum Instruction Time:	0
Minimum Instruction Time:	0

Mental Ability

Section Id :	966231309
Section Number :	1
Section type :	Online
Mandatory or Optional:	Mandatory
Number of Questions:	20
Number of Questions to be attempted:	20
Section Marks:	20

Test Prime

ALL EXAMS,
ONE SUBSCRIPTION



70,000+
Mock Tests



Personalised
Report Card



Unlimited
Re-Attempt



600+
Exam Covered



Previous Year
Papers



500%
Refund



ATTEMPT FREE MOCK NOW

Display Number Panel: Yes
Group All Questions: No

Sub-Section Number: 1
Sub-Section Id: 966231343
Question Shuffling Allowed : Yes

Question Number : 1 Question Id : 9662318035 Question Type : MCQ Option Shuffling : Yes Display Question Number : Yes
Single Line Question Option : No Option Orientation : Vertical

Correct Marks : 1 Wrong Marks : 0.25

Some letters are numbered as 1, 2, 3, 4, 5 and 6. In the options, four possible arrangements of these numbers are given. Choose the option so that the letters form a meaningful word.

P A M S I H
1 2 3 4 5 6

Options :

1. ✘ 321654
2. ✘ 623451
3. ✔ 354621
4. ✘ 523641

Question Number : 1 Question Id : 9662318035 Question Type : MCQ Option Shuffling : Yes Display Question Number : Yes
Single Line Question Option : No Option Orientation : Vertical

Correct Marks : 1 Wrong Marks : 0.25

कुछ अक्षरों को 1, 2, 3, 4, 5 और 6 क्रमांक दिए गए हैं। विकल्पों में, इन संख्याओं की चार संभावित व्यवस्थाएँ दी गई हैं। उस विकल्प का चयन करें ताकि अक्षर एक सार्थक शब्द बन सकें।

P A M S I H
1 2 3 4 5 6

Options :

1. ✘ 321654
2. ✘ 623451
3. ✔ 354621
4. ✘ 523641

Question Number : 2 Question Id : 9662318036 Question Type : MCQ Option Shuffling : Yes Display Question Number : Yes
Single Line Question Option : No Option Orientation : Vertical

Correct Marks : 1 Wrong Marks : 0.25

Out of the given options, three are similar in a certain manner. However, one option is NOT like the other three. Select the option which is different from the rest.

Options :

1. ✘ WAE
2. ✘ JNR
3. ✘ TXB
4. ✔ LPS

Question Number : 2 Question Id : 9662318036 Question Type : MCQ Option Shuffling : Yes Display Question Number : Yes
Single Line Question Option : No Option Orientation : Vertical

Correct Marks : 1 Wrong Marks : 0.25

दिए गए विकल्पों में से, तीन एक निश्चित तरीके से समान हैं। हालाँकि, एक विकल्प अन्य तीन की तरह नहीं है। उस विकल्प का चयन करें जो बाकी से अलग है।

Options :

1. ✘ WAE
2. ✘ JNR
3. ✘ TXB
4. ✔ LPS

Question Number : 3 Question Id : 9662318037 Question Type : MCQ Option Shuffling : Yes Display Question Number : Yes Single Line Question Option : No Option Orientation : Vertical

Correct Marks : 1 Wrong Marks : 0.25

Out of the given options, three are similar in a certain manner. However, one option is NOT like the other three. Select the option which is different from the rest.

Options :

1. ✘ Orange
2. ✘ Apple
3. ✘ Watermelon
4. ✔ Banana

Question Number : 3 Question Id : 9662318037 Question Type : MCQ Option Shuffling : Yes Display Question Number : Yes Single Line Question Option : No Option Orientation : Vertical

Correct Marks : 1 Wrong Marks : 0.25

दिए गए विकल्पों में से, तीन एक निश्चित तरीके से समान हैं। हालाँकि, एक विकल्प अन्य तीन की तरह नहीं है। उस विकल्प का चयन करें जो बाकी से अलग है।

Options :

1. ✘ नारंगी
2. ✘ सेब
3. ✘ तरबूज
4. ✔ केला

Question Number : 4 Question Id : 9662318038 Question Type : MCQ Option Shuffling : Yes Display Question Number : Yes Single Line Question Option : No Option Orientation : Vertical

Correct Marks : 1 Wrong Marks : 0.25

Select the option that is related to the third term on the same basis as the second term is related to the first term.

APV : DSY :: RWB : ?

Options :

1. ✘ VAG
2. ✔ UZE
3. ✘ UXF
4. ✘ VBG

Question Number : 4 Question Id : 9662318038 Question Type : MCQ Option Shuffling : Yes Display Question Number : Yes Single Line Question Option : No Option Orientation : Vertical

Correct Marks : 1 Wrong Marks : 0.25

उस विकल्प का चयन करें जो तीसरे पद से उसी प्रकार से संबंधित है जिस प्रकार से पहला पद दूसरे पद से संबंधित है।

APV : DSY :: RWB : ?

Options :

1. ✘ VAG
2. ✔ UZE
3. ✘ UXF
4. ✘ VBG

Question Number : 5 Question Id : 9662318039 Question Type : MCQ Option Shuffling : Yes Display Question Number : Yes
Single Line Question Option : No Option Orientation : Vertical

Correct Marks : 1 Wrong Marks : 0.25

If blue is red, red is orange, orange is green, green is yellow, then what is the colour of blood?

Options :

1. ✘ red
2. ✘ yellow
3. ✔ orange
4. ✘ green

Question Number : 5 Question Id : 9662318039 Question Type : MCQ Option Shuffling : Yes Display Question Number : Yes
Single Line Question Option : No Option Orientation : Vertical

Correct Marks : 1 Wrong Marks : 0.25

यदि नीला लाल है, लाल नारंगी है, नारंगी हरा है, हरा पीला है, तो रक्त का रंग क्या है?

Options :

1. ✘ लाल
2. ✘ पीला
3. ✔ नारंगी
4. ✘ हरा

Question Number : 6 Question Id : 9662318040 Question Type : MCQ Option Shuffling : Yes Display Question Number : Yes
Single Line Question Option : No Option Orientation : Vertical

Correct Marks : 1 Wrong Marks : 0.25

If FAITH is coded as IDLWK, then what will GLOBE be coded as?

Options :

1. ✘ INRFH
2. ✘ JOSDH
3. ✘ INQDG
4. ✔ JOREH

Question Number : 6 Question Id : 9662318040 Question Type : MCQ Option Shuffling : Yes Display Question Number : Yes
Single Line Question Option : No Option Orientation : Vertical

Correct Marks : 1 Wrong Marks : 0.25

यदि FAITH को IDLWK के रूप में कोडित किया जाता है, तो GLOBE को कैसे कोडित किया जाएगा?

Options :

1. ✘ INRFH
2. ✘ JOSDH
3. ✘ INQDG
4. ✔ JOREH

Question Number : 7 Question Id : 9662318041 Question Type : MCQ Option Shuffling : Yes Display Question Number : Yes
Single Line Question Option : No Option Orientation : Vertical

Correct Marks : 1 Wrong Marks : 0.25

If you are on 13th place in a queue starting either end, then how many people are standing in the queue?

Options :

1. ✘ 13
2. ✘ 21
3. ✔ 25
4. ✘ 26

Question Number : 7 Question Id : 9662318041 Question Type : MCQ Option Shuffling : Yes Display Question Number : Yes Single Line Question Option : No Option Orientation : Vertical

Correct Marks : 1 Wrong Marks : 0.25

यदि आप किसी कतार में दोनों तरफ से 13 वें स्थान पर हैं, तो उस कतार में कितने लोग खड़े हैं?

Options :

1. ✘ 13
2. ✘ 21
3. ✔ 25
4. ✘ 26

Question Number : 8 Question Id : 9662318042 Question Type : MCQ Option Shuffling : Yes Display Question Number : Yes Single Line Question Option : No Option Orientation : Vertical

Correct Marks : 1 Wrong Marks : 0.25

Read the given statement and conclusions carefully. Assuming that the information in the statement is true, even if they appear to be in variance with commonly known facts, select which of the conclusions logically follow(s) from the statement beyond reasonable doubt.

Statements:-

- I. All cats are dogs.
- II. No horse is a dog.

Conclusions:-

- I. Some cats are horse.
- II. No dog is horse.

Options :

1. ✘ Only Conclusion I follows.
2. ✔ Only Conclusion II follows.
3. ✘ Neither of the conclusion follows.
4. ✘ Both conclusion I and II follows

Question Number : 8 Question Id : 9662318042 Question Type : MCQ Option Shuffling : Yes Display Question Number : Yes Single Line Question Option : No Option Orientation : Vertical

Correct Marks : 1 Wrong Marks : 0.25

दिए गए कथन और निष्कर्षों को ध्यान से पढ़ें। यह मानते हुए कि कथन में दी गई जानकारी सत्य है, भले ही वे सामान्यतः ज्ञात तथ्यों के साथ विचरण करते हुए दिखाई देते हों, उस निष्कर्ष का चयन करें जो उचित संदेह से परे उस कथन का तार्किक रूप से अनुसरण करें।

कथन:-

- I. सभी बिल्लियाँ कुत्ते हैं।
- II. कोई घोड़ा कुत्ता नहीं है।

निष्कर्ष:-

- I. कुछ बिल्लियाँ घोड़े हैं।
- II. कोई कुत्ता घोड़ा नहीं है।

Options :

1. ✘ केवल निष्कर्ष I अनुसरण करता है।
2. ✔ केवल निष्कर्ष II अनुसरण करता है।

3. ✖ कोई भी निष्कर्ष अनुसरण नहीं करता
4. ✖ I और II दोनों अनुसरण करते हैं

Question Number : 9 Question Id : 9662318043 Question Type : MCQ Option Shuffling : Yes Display Question Number : Yes
Single Line Question Option : No Option Orientation : Vertical

Correct Marks : 1 Wrong Marks : 0.25

Out of the given options, three are similar in a certain manner. However, one option is NOT like the other three. Select the option which is different from the rest.

Options :

1. ✖ 512
2. ✖ 729
3. ✔ 144
4. ✖ 343

Question Number : 9 Question Id : 9662318043 Question Type : MCQ Option Shuffling : Yes Display Question Number : Yes
Single Line Question Option : No Option Orientation : Vertical

Correct Marks : 1 Wrong Marks : 0.25

दिए गए विकल्पों में से, तीन एक निश्चित तरीके से समान हैं। हालाँकि, एक विकल्प अन्य तीन की तरह नहीं है। उस विकल्प का चयन करें जो बाकी से अलग है।

Options :

1. ✖ 512
2. ✖ 729
3. ✔ 144
4. ✖ 343

Question Number : 10 Question Id : 9662318044 Question Type : MCQ Option Shuffling : Yes Display Question Number : Yes
Single Line Question Option : No Option Orientation : Vertical

Correct Marks : 1 Wrong Marks : 0.25

Select the option that is related to the third number on the same basis as the second number is related to the first number.

343 : 49 :: 729 : ?

Options :

1. ✖ 9
2. ✖ 312
3. ✔ 81
4. ✖ 243

Question Number : 10 Question Id : 9662318044 Question Type : MCQ Option Shuffling : Yes Display Question Number : Yes
Single Line Question Option : No Option Orientation : Vertical

Correct Marks : 1 Wrong Marks : 0.25

उस विकल्प का चयन करें जो तीसरी संख्या से उसी प्रकार से संबंधित है जिस प्रकार से दूसरी संख्या पहली संख्या से संबंधित है।

343 : 49 :: 729 : ?

Options :

1. ✖ 9
2. ✖ 312
3. ✔ 81
4. ✖ 243

Question Number : 11 Question Id : 9662318045 Question Type : MCQ Option Shuffling : Yes Display Question Number : Yes
Single Line Question Option : No Option Orientation : Vertical

Correct Marks : 1 Wrong Marks : 0.25

Which two signs should be interchanged to make the below equation mathematically correct?

$$14 - 2 \times 3 \div 1 + 3 = 23$$

Options :

1. ✓ -, ÷
2. ✗ -, ×
3. ✗ +, -
4. ✗ +, ÷

Question Number : 11 Question Id : 9662318045 Question Type : MCQ Option Shuffling : Yes Display Question Number : Yes
Single Line Question Option : No Option Orientation : Vertical

Correct Marks : 1 Wrong Marks : 0.25

नीचे दिए गए समीकरण को गणितीय रूप से सही बनाने के लिए किन दो चिन्हों को परस्पर स्थानांतरित करना चाहिए?

$$14 - 2 \times 3 \div 1 + 3 = 23$$

Options :

1. ✓ -, ÷
2. ✗ -, ×
3. ✗ +, -
4. ✗ +, ÷

Question Number : 12 Question Id : 9662318046 Question Type : MCQ Option Shuffling : Yes Display Question Number : Yes
Single Line Question Option : No Option Orientation : Vertical

Correct Marks : 1 Wrong Marks : 0.25

Which two numbers should be interchanged to make the below equation mathematically correct?

$$(15 \times 2) \div 4 \times 6 - 10 = 10$$

Options :

1. ✗ 15, 4
2. ✗ 2, 6
3. ✗ 6, 10
4. ✓ 4, 6

Question Number : 12 Question Id : 9662318046 Question Type : MCQ Option Shuffling : Yes Display Question Number : Yes
Single Line Question Option : No Option Orientation : Vertical

Correct Marks : 1 Wrong Marks : 0.25

नीचे दिए गए समीकरण को गणितीय रूप से सही बनाने के लिए किन दो संख्याओं को स्थानांतरित किया जाना चाहिए?

$$(15 \times 2) \div 4 \times 6 - 10 = 10$$

Options :

1. ✗ 15, 4
2. ✗ 2, 6
3. ✗ 6, 10
4. ✓ 4, 6

Question Number : 13 Question Id : 9662318047 Question Type : MCQ Option Shuffling : Yes Display Question Number : Yes
Single Line Question Option : No Option Orientation : Vertical

Correct Marks : 1 Wrong Marks : 0.25

निम्नलिखित संख्या श्रेणी में गायब संख्या ज्ञात करें

-54, 63, -72, _____, -90

Options :

1. ✘ -81
2. ✔ 81
3. ✘ 84
4. ✘ -84

Question Number : 13 Question Id : 9662318047 Question Type : MCQ Option Shuffling : Yes Display Question Number : Yes Single Line Question Option : No Option Orientation : Vertical

Correct Marks : 1 Wrong Marks : 0.25

Find the missing number in the following number series.

-54, 63, -72, _____, -90

Options :

1. ✘ -81
2. ✔ 81
3. ✘ 84
4. ✘ -84

Question Number : 14 Question Id : 9662318048 Question Type : MCQ Option Shuffling : Yes Display Question Number : Yes Single Line Question Option : No Option Orientation : Vertical

Correct Marks : 1 Wrong Marks : 0.25

The average age of a group of 6 people is 48 years. If one member from the group is excluded, the average becomes 45 years. What is the age of the member that was excluded?

Options :

1. ✘ 50 years
2. ✔ 63 years
3. ✘ 52 years
4. ✘ 62 years

Question Number : 14 Question Id : 9662318048 Question Type : MCQ Option Shuffling : Yes Display Question Number : Yes Single Line Question Option : No Option Orientation : Vertical

Correct Marks : 1 Wrong Marks : 0.25

6 लोगों के समूह की औसत आयु 48 वर्ष है। यदि समूह के एक सदस्य को बाहर रखा जाता है, तो औसत 45 वर्ष हो जाती है। उस सदस्य की आयु क्या है जिसे बाहर रखा गया था?

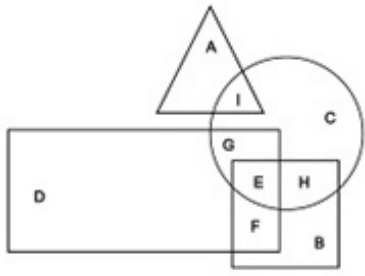
Options :

1. ✘ 50 वर्ष
2. ✔ 63 वर्ष
3. ✘ 52 वर्ष
4. ✘ 62 वर्ष

Question Number : 15 Question Id : 9662318049 Question Type : MCQ Option Shuffling : Yes Display Question Number : Yes Single Line Question Option : No Option Orientation : Vertical

Correct Marks : 1 Wrong Marks : 0.25

In the following figure, square represents Americans, triangle represents astronomers, circle represents physicians and rectangle represents men. Which set of letters represents men who are physicians?



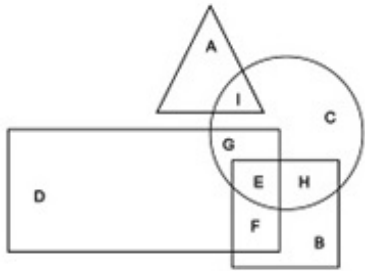
Options :

1. ✗ I
2. ✗ EH
3. ✗ FE
4. ✓ GE

Question Number : 15 Question Id : 9662318049 Question Type : MCQ Option Shuffling : Yes Display Question Number : Yes Single Line Question Option : No Option Orientation : Vertical


Correct Marks : 1 Wrong Marks : 0.25

निम्नलिखित आकृति में, वर्ग अमेरिकियों का प्रतिनिधित्व करता है, त्रिकोण खगोलविदों का प्रतिनिधित्व करता है, वृत्त चिकित्सकों का प्रतिनिधित्व करता है और आयत पुरुषों का प्रतिनिधित्व करता है। अक्षरों का कौन सा सेट उन पुरुषों का प्रतिनिधित्व करता है जो चिकित्सक हैं?



Options :

1. ✗ I
2. ✗ EH
3. ✗ FE
4. ✓ GE



Question Number : 16 Question Id : 9662318050 Question Type : MCQ Option Shuffling : Yes Display Question Number : Yes Single Line Question Option : No Option Orientation : Vertical

Correct Marks : 1 Wrong Marks : 0.25

Two men Aman and Sailesh were riding a bicycle from the same starting point. Aman rides 6 km north, then turns left and rides 5 km, then turns to his right and rides 3 km. Sailesh rides 8 km west, then turns right and rides 9 km, then turns to his left and rides 5 km. Where is Sailesh now with respect to the current position of Aman?

Options :

1. ✗ 5 km east
2. ✗ 8 km east
3. ✓ 8 km west
4. ✗ 5 km west

Question Number : 16 Question Id : 9662318050 Question Type : MCQ Option Shuffling : Yes Display Question Number : Yes Single Line Question Option : No Option Orientation : Vertical

Correct Marks : 1 Wrong Marks : 0.25

अमन और शैलेश दो आदमी एक ही शुरुआती बिंदु से साइकिल की सवारी कर रहे थे। अमन 6 km उत्तर की ओर साइकिल चलाता है, फिर बाएं ओर मुड़ता है और 5 km चलाता है, फिर वह अपनी दाएं ओर मुड़ता है और आगे 3 km चलाता है। शैलेश 8 km पश्चिम की ओर चलाता है, फिर दाएं ओर मुड़ता है और आगे 9 km चलाता है, फिर वह अपने बाएं ओर मुड़ता है और आगे 5 km चलाता है। शैलेश, अमन के वर्तमान बिंदु से कितनी दूर और किस दिशा में है?

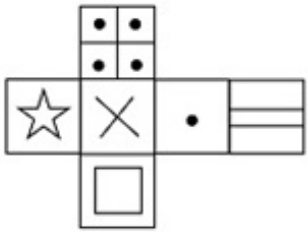
Options :

1. ✘ 5 km पूर्व
2. ✘ 8 km पूर्व
3. ✔ 8 km पश्चिम
4. ✘ 5 km पश्चिम

Question Number : 17 Question Id : 9662318051 Question Type : MCQ Option Shuffling : Yes Display Question Number : Yes Single Line Question Option : No Option Orientation : Vertical

Correct Marks : 1 Wrong Marks : 0.25

Which of the following cubes in the answer figure CANNOT be made based on the unfolded cube in the question figure?



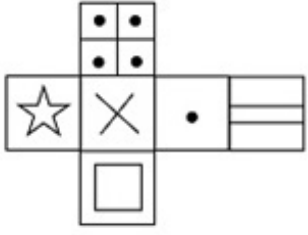
Options :

1. ✔
2. ✘
3. ✘
4. ✘

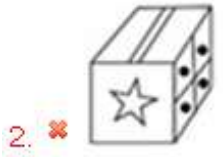
Question Number : 17 Question Id : 9662318051 Question Type : MCQ Option Shuffling : Yes Display Question Number : Yes Single Line Question Option : No Option Orientation : Vertical

Correct Marks : 1 Wrong Marks : 0.25

उत्तर आकृति में किस घन को प्रश्न आकृति में प्रकट घन के आधार पर नहीं बनाया जा सकता है?



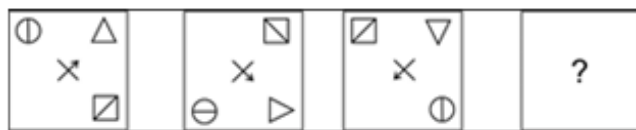
Options :



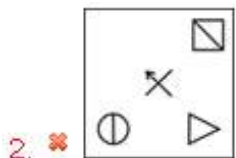
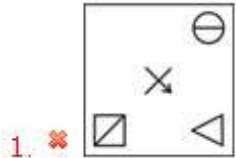
Question Number : 18 Question Id : 9662318052 Question Type : MCQ Option Shuffling : Yes Display Question Number : Yes
Single Line Question Option : No Option Orientation : Vertical

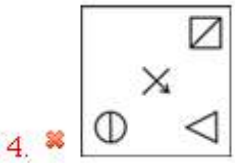
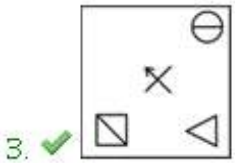
Correct Marks : 1 Wrong Marks : 0.25

Which of the following answer figure completes the series of the question figure?



Options :



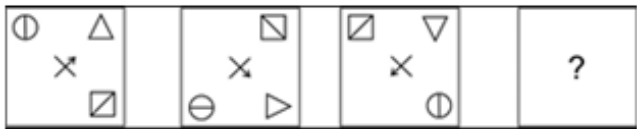


Question Number : 18 Question Id : 9662318052 Question Type : MCQ Option Shuffling : Yes Display Question Number : Yes

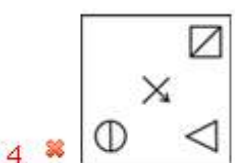
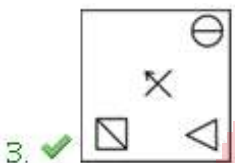
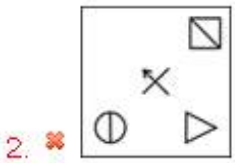
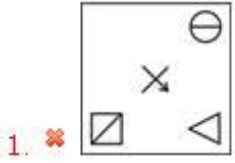
Single Line Question Option : No Option Orientation : Vertical

Correct Marks : 1 Wrong Marks : 0.25

निम्नलिखित में से कौन सी उत्तर आकृति प्रश्न आकृति की श्रृंखला को पूरा करती है?



Options :

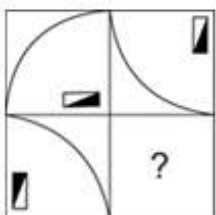


Question Number : 19 Question Id : 9662318053 Question Type : MCQ Option Shuffling : Yes Display Question Number : Yes

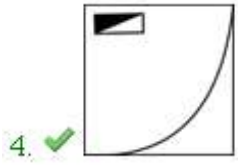
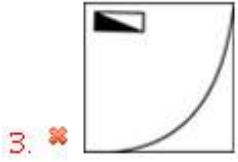
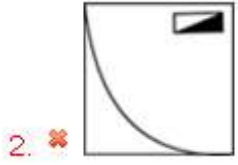
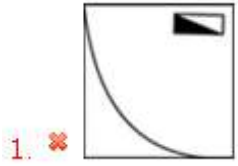
Single Line Question Option : No Option Orientation : Vertical

Correct Marks : 1 Wrong Marks : 0.25

Which answer figure will complete the pattern in the question figure?



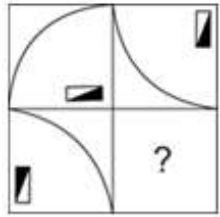
Options :



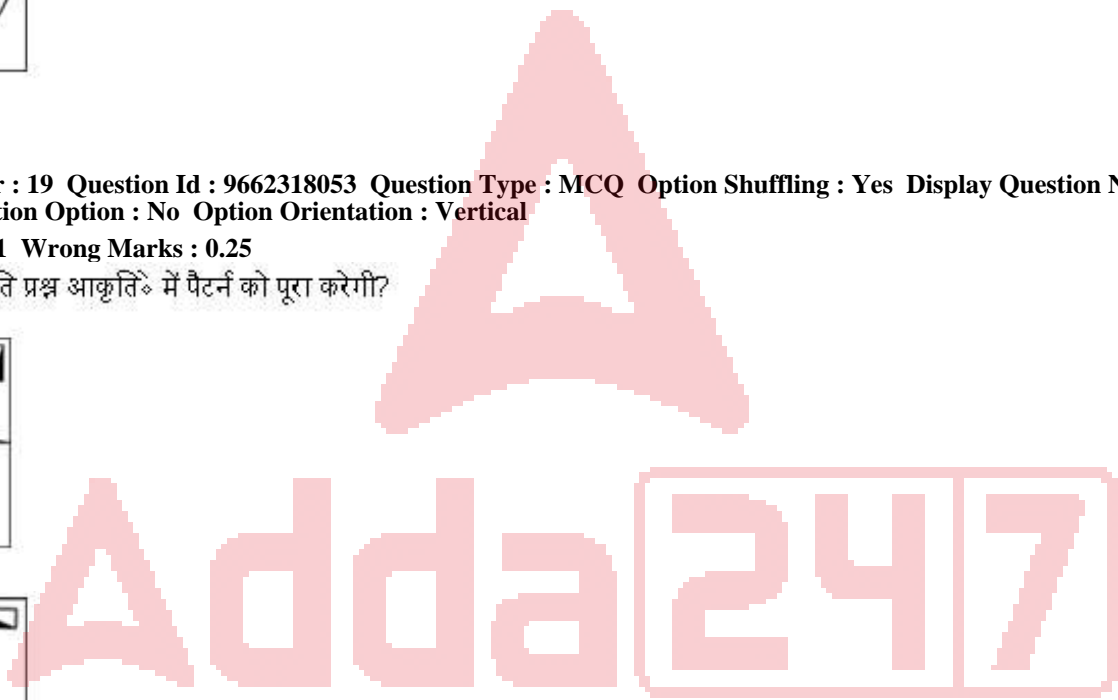
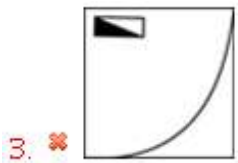
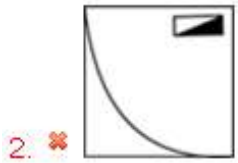
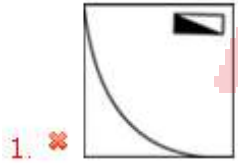
Question Number : 19 Question Id : 9662318053 Question Type : MCQ Option Shuffling : Yes Display Question Number : Yes
Single Line Question Option : No Option Orientation : Vertical

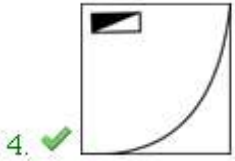
Correct Marks : 1 Wrong Marks : 0.25

कौन सी उत्तर आकृति प्रश्न आकृति में पैटर्न को पूरा करेगी?



Options :





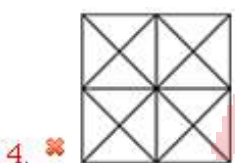
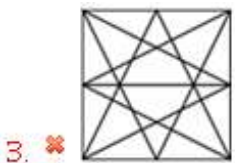
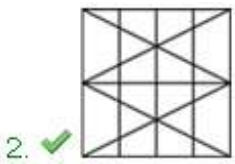
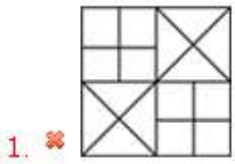
Question Number : 20 Question Id : 9662318054 Question Type : MCQ Option Shuffling : Yes Display Question Number : Yes
Single Line Question Option : No Option Orientation : Vertical

Correct Marks : 1 Wrong Marks : 0.25

From the given answer figures, select the one in which the question figure is hidden/embedded.



Options :



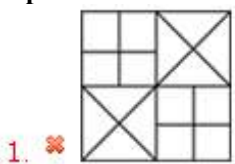
Question Number : 20 Question Id : 9662318054 Question Type : MCQ Option Shuffling : Yes Display Question Number : Yes
Single Line Question Option : No Option Orientation : Vertical

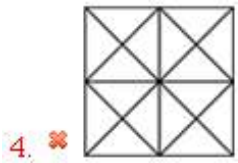
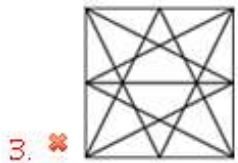
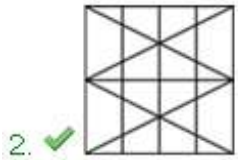
Correct Marks : 1 Wrong Marks : 0.25

दी गई उत्तर आकृतियों में से, उस एक का चयन करें जिसमें प्रश्न आकृति निहित है।




Options :





General Awareness

Group Number :	2
Group Id :	966231195
Group Maximum Duration :	0
Group Minimum Duration :	0
Revisit allowed for view? :	No
Revisit allowed for edit? :	No
Break time:	0
Group Marks:	20
Revisit allowed for group Instructions? :	Yes
Maximum Instruction Time:	0
Minimum Instruction Time:	0



General Awareness

Section Id :	966231310
Section Number :	1
Section type :	Online
Mandatory or Optional:	Mandatory
Number of Questions:	20
Number of Questions to be attempted:	20
Section Marks:	20
Display Number Panel:	Yes
Group All Questions:	No

Sub-Section Number:	1
Sub-Section Id:	966231344
Question Shuffling Allowed :	Yes

Question Number : 21 Question Id : 9662318055 Question Type : MCQ Option Shuffling : Yes Display Question Number : Yes
Single Line Question Option : No Option Orientation : Vertical

Correct Marks : 1 Wrong Marks : 0.25

With which of the following states Duffmattu dance is associated?

Options :

- ✘ Rajasthan
- ✔ Kerala
- ✘ Assam
- ✘ Himachal Pradesh

Question Number : 21 Question Id : 9662318055 Question Type : MCQ Option Shuffling : Yes Display Question Number : Yes
Single Line Question Option : No Option Orientation : Vertical

Correct Marks : 1 Wrong Marks : 0.25

डफमुद्र नृत्य निम्नलिखित में से किस राज्य के साथ जुड़ा है?

Options :

- ✘ राजस्थान
- ✔ केरल
- ✘ असम
- ✘ हिमाचल प्रदेश

Question Number : 22 Question Id : 9662318056 Question Type : MCQ Option Shuffling : Yes Display Question Number : Yes
Single Line Question Option : No Option Orientation : Vertical

Correct Marks : 1 Wrong Marks : 0.25

With which of the following state is Maand folk music related to?

Options :

- ✔ Rajasthan
- ✘ Arunachal Pradesh
- ✘ Uttarakhand
- ✘ Goa

Question Number : 22 Question Id : 9662318056 Question Type : MCQ Option Shuffling : Yes Display Question Number : Yes
Single Line Question Option : No Option Orientation : Vertical

Correct Marks : 1 Wrong Marks : 0.25

निम्नलिखित में से किस राज्य के साथ मांड लोक संगीत संबंधित है?

Options :

- ✔ राजस्थान
- ✘ अरुणाचल प्रदेश
- ✘ उत्तराखंड
- ✘ गोवा

Question Number : 23 Question Id : 9662318057 Question Type : MCQ Option Shuffling : Yes Display Question Number : Yes
Single Line Question Option : No Option Orientation : Vertical

Correct Marks : 1 Wrong Marks : 0.25

Shigmo festival, which takes place in the Phalguna month, is associated with which of the following states?

Options :

- ✘ Maharashtra
- ✘ Haryana
- ✔ Goa
- ✘ Tripura

Question Number : 23 Question Id : 9662318057 Question Type : MCQ Option Shuffling : Yes Display Question Number : Yes
Single Line Question Option : No Option Orientation : Vertical

Correct Marks : 1 Wrong Marks : 0.25

फाल्गुन माह में होने वाला शिगमो त्योहार निम्नलिखित में से किस राज्य के साथ जुड़ा है?

Options :

- ✘ महाराष्ट्र
- ✘ हरियाणा
- ✔ गोवा
- ✘ त्रिपुरा

Question Number : 24 Question Id : 9662318058 Question Type : MCQ Option Shuffling : Yes Display Question Number : Yes Single Line Question Option : No Option Orientation : Vertical

Correct Marks : 1 Wrong Marks : 0.25

When was Export-Import Bank of India established?

Options :

- ✔ Jan 01, 1982
- ✘ April 28, 1985
- ✘ March 15, 1980
- ✘ May 01, 1983

Question Number : 24 Question Id : 9662318058 Question Type : MCQ Option Shuffling : Yes Display Question Number : Yes Single Line Question Option : No Option Orientation : Vertical

Correct Marks : 1 Wrong Marks : 0.25

एक्सपोर्ट - इम्पोर्ट बैंक ऑफ इंडिया की स्थापना कब की गई थी?

Options :

- ✔ 01 जनवरी 1982
- ✘ 28 अप्रैल, 1985
- ✘ 15 मार्च, 1980
- ✘ 01 मई, 1983

Question Number : 25 Question Id : 9662318059 Question Type : MCQ Option Shuffling : Yes Display Question Number : Yes Single Line Question Option : No Option Orientation : Vertical

Correct Marks : 1 Wrong Marks : 0.25

Which among the following is a tax imposed on all foreign exchange transactions?

Options :

- ✘ Corporate tax
- ✘ Excise duty
- ✔ Tobin tax
- ✘ Pigovian tax

Question Number : 25 Question Id : 9662318059 Question Type : MCQ Option Shuffling : Yes Display Question Number : Yes Single Line Question Option : No Option Orientation : Vertical

Correct Marks : 1 Wrong Marks : 0.25

निम्नलिखित में से कौन सा सभी विदेशी मुद्रा लेनदेन पर लगाया जाने वाला कर है?

Options :

- ✘ कॉर्पोरेट कर
- ✘ उत्पाद शुल्क
- ✔ टोबिन कर
- ✘ पिगोवियन कर

Question Number : 26 Question Id : 9662318060 Question Type : MCQ Option Shuffling : Yes Display Question Number : Yes Single Line Question Option : No Option Orientation : Vertical

Correct Marks : 1 Wrong Marks : 0.25

What is the S.I. unit of force?

Options :

- ✗ galileo
- ✓ newton
- ✗ darcy
- ✗ ampere

Question Number : 26 Question Id : 9662318060 Question Type : MCQ Option Shuffling : Yes Display Question Number : Yes
Single Line Question Option : No Option Orientation : Vertical

Correct Marks : 1 Wrong Marks : 0.25

बल की S.I इकाई क्या है?

Options :

- ✗ गैलीलियो
- ✓ न्यूटन
- ✗ डार्सी
- ✗ एम्पियर

Question Number : 27 Question Id : 9662318061 Question Type : MCQ Option Shuffling : Yes Display Question Number : Yes
Single Line Question Option : No Option Orientation : Vertical

Correct Marks : 1 Wrong Marks : 0.25

The Thoracic is the part of the _____.

Options :

- ✗ Skull
- ✗ Chest
- ✓ Spine
- ✗ Arm

Question Number : 27 Question Id : 9662318061 Question Type : MCQ Option Shuffling : Yes Display Question Number : Yes
Single Line Question Option : No Option Orientation : Vertical

Correct Marks : 1 Wrong Marks : 0.25

थोरैसिक _____ का हिस्सा है।

Options :

- ✗ खोपड़ी
- ✗ छाती
- ✓ रीढ़ की हड्डी
- ✗ बांह

Question Number : 28 Question Id : 9662318062 Question Type : MCQ Option Shuffling : Yes Display Question Number : Yes
Single Line Question Option : No Option Orientation : Vertical

Correct Marks : 1 Wrong Marks : 0.25

Which of the following rivers has a tributary named "Tungabhadra"?

Options :

- ✓ Krishna
- ✗ Mahanadi
- ✗ Narmada
- ✗ Bhima

Question Number : 28 Question Id : 9662318062 Question Type : MCQ Option Shuffling : Yes Display Question Number : Yes
Single Line Question Option : No Option Orientation : Vertical

Correct Marks : 1 Wrong Marks : 0.25

निम्नलिखित में से किस नदी की "तुंगभद्रा" नाम की एक उपनदी है?

Options :

- ✓ कृष्णा
- ✗ महानदी
- ✗ नर्मदा
- ✗ भीम

Question Number : 29 Question Id : 9662318063 Question Type : MCQ Option Shuffling : Yes Display Question Number : Yes
Single Line Question Option : No Option Orientation : Vertical

Correct Marks : 1 Wrong Marks : 0.25

In which of the following states is the Kadra Dam located?

Options :

- ✓ Karnataka
- ✗ Assam
- ✗ Maharashtra
- ✗ Gujarat

Question Number : 29 Question Id : 9662318063 Question Type : MCQ Option Shuffling : Yes Display Question Number : Yes
Single Line Question Option : No Option Orientation : Vertical

Correct Marks : 1 Wrong Marks : 0.25

कदरा बांध निम्नलिखित में से किस राज्य में स्थित है?

Options :

- ✓ कर्नाटक
- ✗ असम
- ✗ महाराष्ट्र
- ✗ गुजरात

Question Number : 30 Question Id : 9662318064 Question Type : MCQ Option Shuffling : Yes Display Question Number : Yes
Single Line Question Option : No Option Orientation : Vertical

Correct Marks : 1 Wrong Marks : 0.25

Which among the following mountain ranges is located in Africa?

Options :

- ✓ Drakensburg
- ✗ The Alps
- ✗ The Rockies
- ✗ The Andies

Question Number : 30 Question Id : 9662318064 Question Type : MCQ Option Shuffling : Yes Display Question Number : Yes
Single Line Question Option : No Option Orientation : Vertical

Correct Marks : 1 Wrong Marks : 0.25

निम्नलिखित में से कौन सी पर्वत श्रृंखला अफ्रीका में स्थित है?

Options :

- ✓ ड्रेकेन्सबर्ग
- ✗ आल्प्स
- ✗ द रॉकीज
- ✗ ऐंडीज़

Question Number : 31 Question Id : 9662318065 Question Type : MCQ Option Shuffling : Yes Display Question Number : Yes
Single Line Question Option : No Option Orientation : Vertical

Correct Marks : 1 Wrong Marks : 0.25

When was the Indian Independence League found?

Options :

1. ✘ 1925
2. ✔ 1928
3. ✘ 1921
4. ✘ 1935

Question Number : 31 Question Id : 9662318065 Question Type : MCQ Option Shuffling : Yes Display Question Number : Yes
Single Line Question Option : No Option Orientation : Vertical

Correct Marks : 1 Wrong Marks : 0.25

भारतीय स्वतंत्रता लीग की स्थापना कब हुई थी?

Options :

1. ✘ 1925
2. ✔ 1928
3. ✘ 1921
4. ✘ 1935

Question Number : 32 Question Id : 9662318066 Question Type : MCQ Option Shuffling : Yes Display Question Number : Yes
Single Line Question Option : No Option Orientation : Vertical

Correct Marks : 1 Wrong Marks : 0.25

Who was the founder of the Nanda Dynasty?

Options :

1. ✘ Kaivarta Nanda
2. ✘ Panduka Nanda
3. ✘ Dhana Nanda
4. ✔ Mahapadma Nanda

Question Number : 32 Question Id : 9662318066 Question Type : MCQ Option Shuffling : Yes Display Question Number : Yes
Single Line Question Option : No Option Orientation : Vertical

Correct Marks : 1 Wrong Marks : 0.25

नंद वंश का संस्थापक कौन था?

Options :

1. ✘ कैवर्त नंद
2. ✘ पांडुका नंद
3. ✘ धना नंद
4. ✔ महापद्म नंद

Question Number : 33 Question Id : 9662318067 Question Type : MCQ Option Shuffling : Yes Display Question Number : Yes
Single Line Question Option : No Option Orientation : Vertical

Correct Marks : 1 Wrong Marks : 0.25

The famous Shalimar Bagh in Srinagar was built under the rule of _____.

Options :

1. ✘ Azam Shah
2. ✔ Jahangir
3. ✘ Humayun

4. ✘ Akbar

Question Number : 33 Question Id : 9662318067 Question Type : MCQ Option Shuffling : Yes Display Question Number : Yes
Single Line Question Option : No Option Orientation : Vertical

Correct Marks : 1 Wrong Marks : 0.25

श्रीनगर के प्रसिद्ध शालीमार बाग को _____ के शासन काल में बनाया गया था।

Options :

1. ✘ आजम शाह
2. ✔ जहाँगीर
3. ✘ हुमायूँ
4. ✘ अकबर

Question Number : 34 Question Id : 9662318068 Question Type : MCQ Option Shuffling : Yes Display Question Number : Yes
Single Line Question Option : No Option Orientation : Vertical

Correct Marks : 1 Wrong Marks : 0.25

Where is World Trade Organisation (WTO) located?

Options :

1. ✘ Australia
2. ✘ New York
3. ✘ China
4. ✔ Switzerland

Question Number : 34 Question Id : 9662318068 Question Type : MCQ Option Shuffling : Yes Display Question Number : Yes
Single Line Question Option : No Option Orientation : Vertical

Correct Marks : 1 Wrong Marks : 0.25

विश्व व्यापार संगठन (WTO) कहाँ स्थित है?

Options :

1. ✘ ऑस्ट्रेलिया
2. ✘ न्यू यार्क
3. ✘ चीन
4. ✔ स्विट्ज़रलैंड

Question Number : 35 Question Id : 9662318069 Question Type : MCQ Option Shuffling : Yes Display Question Number : Yes
Single Line Question Option : No Option Orientation : Vertical

Correct Marks : 1 Wrong Marks : 0.25

Which among the following is the third highest civilian award in the Republic of India?

Options :

1. ✘ Bharat Ratna
2. ✘ Padma Vibhushan
3. ✔ Padma Bhushan
4. ✘ Padma Shri

Question Number : 35 Question Id : 9662318069 Question Type : MCQ Option Shuffling : Yes Display Question Number : Yes
Single Line Question Option : No Option Orientation : Vertical

Correct Marks : 1 Wrong Marks : 0.25

निम्नलिखित में से कौन सा भारतीय गणराज्य का तीसरा सर्वोच्च नागरिक पुरस्कार है?

Options :

1. ✘ भारत रत्न
2. ✘ पद्म विभूषण

3. ✓ पद्म भूषण
4. ✗ पद्म श्री

Question Number : 36 Question Id : 9662318070 Question Type : MCQ Option Shuffling : Yes Display Question Number : Yes
Single Line Question Option : No Option Orientation : Vertical

Correct Marks : 1 Wrong Marks : 0.25

Which was the only amendment to be unanimously adopted by the Parliament?

Options :

1. ✗ 92
2. ✗ 71
3. ✓ 52
4. ✗ 61

Question Number : 36 Question Id : 9662318070 Question Type : MCQ Option Shuffling : Yes Display Question Number : Yes
Single Line Question Option : No Option Orientation : Vertical

Correct Marks : 1 Wrong Marks : 0.25

संसद द्वारा सर्वसम्मति से अपनाया जाने वाला एकमात्र संशोधन कौन सा था?

Options :

1. ✗ 92
2. ✗ 71
3. ✓ 52
4. ✗ 61

Question Number : 37 Question Id : 9662318071 Question Type : MCQ Option Shuffling : Yes Display Question Number : Yes
Single Line Question Option : No Option Orientation : Vertical

Correct Marks : 1 Wrong Marks : 0.25

The concept of 'Cabinet system' of the Indian Constitution is borrowed from the constitution of _____.

Options :

1. ✗ Australia
2. ✗ Canada
3. ✗ Ireland
4. ✓ Britain

Question Number : 37 Question Id : 9662318071 Question Type : MCQ Option Shuffling : Yes Display Question Number : Yes
Single Line Question Option : No Option Orientation : Vertical

Correct Marks : 1 Wrong Marks : 0.25

भारतीय संविधान की 'कैबिनेट प्रणाली' की अवधारणा _____ के संविधान से अपनाई गई है।

Options :

1. ✗ ऑस्ट्रेलिया
2. ✗ कनाडा
3. ✗ आयरलैंड
4. ✓ ब्रिटेन

Question Number : 38 Question Id : 9662318072 Question Type : MCQ Option Shuffling : Yes Display Question Number : Yes
Single Line Question Option : No Option Orientation : Vertical

Correct Marks : 1 Wrong Marks : 0.25

The _____ schedule of the Indian Constitution contains provisions for the Administration of Tribal Areas in the States of Assam, Meghalaya, Tripura and Mizoram.

Options :

1. ✘ Twelfth
2. ✘ Tenth
3. ✘ Fifth
4. ✔ Sixth

Question Number : 38 Question Id : 9662318072 Question Type : MCQ Option Shuffling : Yes Display Question Number : Yes
Single Line Question Option : No Option Orientation : Vertical

Correct Marks : 1 Wrong Marks : 0.25

भारतीय संविधान की _____ अनुसूची में असम, मेघालय, त्रिपुरा और मिज़ोरम राज्यों के जनजातीय क्षेत्रों के प्रशासन के प्रावधान हैं।

Options :

1. ✘ बारहवीं
2. ✘ दसवीं
3. ✘ पांचवीं
4. ✔ छठी

Question Number : 39 Question Id : 9662318073 Question Type : MCQ Option Shuffling : Yes Display Question Number : Yes
Single Line Question Option : No Option Orientation : Vertical

Correct Marks : 1 Wrong Marks : 0.25

Which among the following teams were the first one to win the FIFA World Cup?

Options :

1. ✘ Belgium
2. ✔ Uruguay
3. ✘ Germany
4. ✘ France

Question Number : 39 Question Id : 9662318073 Question Type : MCQ Option Shuffling : Yes Display Question Number : Yes
Single Line Question Option : No Option Orientation : Vertical

Correct Marks : 1 Wrong Marks : 0.25

निम्नलिखित टीमों में से फीफा विश्व कप जीतने वाली पहली टीम कौन सी थी?

Options :

1. ✘ बेल्जियम
2. ✔ उरुग्वे
3. ✘ जर्मनी
4. ✘ फ्रांस

Question Number : 40 Question Id : 9662318074 Question Type : MCQ Option Shuffling : Yes Display Question Number : Yes
Single Line Question Option : No Option Orientation : Vertical

Correct Marks : 1 Wrong Marks : 0.25

Who among the following female players has won the most French Open Singles title?

Options :

1. ✘ Steffi Graf
2. ✘ Serena Williams
3. ✘ Martina Navratilova
4. ✔ Chris Evert

Question Number : 40 Question Id : 9662318074 Question Type : MCQ Option Shuffling : Yes Display Question Number : Yes
Single Line Question Option : No Option Orientation : Vertical

Correct Marks : 1 Wrong Marks : 0.25

निम्नलिखित में से किस महिला खिलाड़ी ने सबसे अधिक फ्रेंच ओपन एकल खिताब जीता है?

Options :

- ✘ स्टेफी ग्राफ
- ✘ सेरेना विलियम्स
- ✘ मार्टिना नवरातिलोवा
- ✔ क्रिस एवर्ट

Arithmetic Ability

Group Number :	3
Group Id :	966231196
Group Maximum Duration :	0
Group Minimum Duration :	0
Revisit allowed for view? :	No
Revisit allowed for edit? :	No
Break time:	0
Group Marks:	20
Revisit allowed for group Instructions? :	Yes
Maximum Instruction Time:	0
Minimum Instruction Time:	0

Arithmetic Ability

Section Id :	966231311
Section Number :	1
Section type :	Online
Mandatory or Optional:	Mandatory
Number of Questions:	20
Number of Questions to be attempted:	20
Section Marks:	20
Display Number Panel:	Yes
Group All Questions:	No

Sub-Section Number:	1
Sub-Section Id:	966231345
Question Shuffling Allowed :	Yes

Question Number : 41 Question Id : 9662318075 Question Type : MCQ Option Shuffling : Yes Display Question Number : Yes
Single Line Question Option : No Option Orientation : Vertical

Correct Marks : 1 Wrong Marks : 0.25

A man has Rs. 320 in coins of Rs. 1, Rs. 5 and Rs. 10. The number of coins of each denomination is equal.
What is the total number of coins he has?

Options :

- ✘ 15
- ✘ 45
- ✘ 30
- ✔ 60

Question Number : 41 Question Id : 9662318075 Question Type : MCQ Option Shuffling : Yes Display Question Number : Yes
Single Line Question Option : No Option Orientation : Vertical

Correct Marks : 1 Wrong Marks : 0.25

एक आदमी के पास 1 रुपया, 5 रुपये और 10 रुपये के सिक्कों में 320 रुपये हैं। प्रत्येक मूल्यवर्ग के सिक्कों की संख्या एक बराबर है। उसके पास कुल कितने सिक्के हैं?

Options :

1. ✘ 15
2. ✘ 45
3. ✘ 30
4. ✔ 60

Question Number : 42 Question Id : 9662318076 Question Type : MCQ Option Shuffling : Yes Display Question Number : Yes Single Line Question Option : No Option Orientation : Vertical

Correct Marks : 1 Wrong Marks : 0.25

What is the greatest number of 4 digits which is divisible by 12, 30, 60 and 72?

Options :

1. ✔ 9720
2. ✘ 9840
3. ✘ 9960
4. ✘ 9600

Question Number : 42 Question Id : 9662318076 Question Type : MCQ Option Shuffling : Yes Display Question Number : Yes Single Line Question Option : No Option Orientation : Vertical

Correct Marks : 1 Wrong Marks : 0.25

4 अंकों की सबसे बड़ी संख्या क्या है जो 12, 30, 60 और 72 से विभाज्य है?

Options :

1. ✔ 9720
2. ✘ 9840
3. ✘ 9960
4. ✘ 9600

Question Number : 43 Question Id : 9662318077 Question Type : MCQ Option Shuffling : Yes Display Question Number : Yes Single Line Question Option : No Option Orientation : Vertical

Correct Marks : 1 Wrong Marks : 0.25

What will be the eventual bank balance when a deposit of Rs. 820.47 and a withdrawal of Rs. 726.91 is made to an account balance of Rs. 610.27?

Options :

1. ✘ Rs. 620.83
2. ✘ Rs. 650.82
3. ✘ Rs. 685.83
4. ✔ Rs. 703.83

Question Number : 43 Question Id : 9662318077 Question Type : MCQ Option Shuffling : Yes Display Question Number : Yes Single Line Question Option : No Option Orientation : Vertical

Correct Marks : 1 Wrong Marks : 0.25

एक खाते में 820.47 रुपये जमा करने और 726.91 रुपये की निकासी पर अंतिम शेष धनराशि क्या होगी, यदि उसमें 610.27 रुपये का बैलेंस है?

Options :

1. ✘ 620.83 रुपये
2. ✘ 650.82 रुपये
3. ✘ 685.83 रुपये
4. ✔ 703.83 रुपये

Question Number : 44 Question Id : 9662318078 Question Type : MCQ Option Shuffling : Yes Display Question Number : Yes
Single Line Question Option : No Option Orientation : Vertical

Correct Marks : 1 Wrong Marks : 0.25

A man covered a distance of 18 km in 3 hours, 7.2 km in 2 hours and 15 km in 5 hours. What is his average distance travelled per hour?

Options :

1. ✘ 3.62 km
2. ✘ 3.82 km
3. ✔ 4.02 km
4. ✘ 4.22 km

Question Number : 44 Question Id : 9662318078 Question Type : MCQ Option Shuffling : Yes Display Question Number : Yes
Single Line Question Option : No Option Orientation : Vertical

Correct Marks : 1 Wrong Marks : 0.25

एक आदमी ने 3 घंटे में 18 km, 2 घंटे में 7.2 km और 5 घंटे में 15 km की दूरी तय की। उसके द्वारा प्रति घंटे यात्रा की गई औसत दूरी क्या है?

Options :

1. ✘ 3.62 km
2. ✘ 3.82 km
3. ✔ 4.02 km
4. ✘ 4.22 km

Question Number : 45 Question Id : 9662318079 Question Type : MCQ Option Shuffling : Yes Display Question Number : Yes
Single Line Question Option : No Option Orientation : Vertical

Correct Marks : 1 Wrong Marks : 0.25

A good is marked up by 50%, at most how much discount can be allowed so as to neither have a gain nor a loss?

Options :

1. ✘ 37.5 percent
2. ✔ 33.33 percent
3. ✘ 40 percent
4. ✘ 50 percent

Question Number : 45 Question Id : 9662318079 Question Type : MCQ Option Shuffling : Yes Display Question Number : Yes
Single Line Question Option : No Option Orientation : Vertical

Correct Marks : 1 Wrong Marks : 0.25

एक वस्तु को कीमत से 50% ऊपर तक चिह्नित किया जाता है, सबसे अधिक कितने छूट की अनुमति दी जा सकती है ताकि न तो लाभ हो और न ही नुकसान?

Options :

1. ✘ 37.5 प्रतिशत
2. ✔ 33.33 प्रतिशत
3. ✘ 40 प्रतिशत
4. ✘ 50 प्रतिशत

Question Number : 46 Question Id : 9662318080 Question Type : MCQ Option Shuffling : Yes Display Question Number : Yes
Single Line Question Option : No Option Orientation : Vertical

Correct Marks : 1 Wrong Marks : 0.25

The population of a town increased from 120000 to 165000 in a decade. What is the average increase of population per year?

Options :

1. ✘ 0.035
2. ✔ 0.0375
3. ✘ 0.0425
4. ✘ 0.045

Question Number : 46 Question Id : 9662318080 Question Type : MCQ Option Shuffling : Yes Display Question Number : Yes
Single Line Question Option : No Option Orientation : Vertical

Correct Marks : 1 Wrong Marks : 0.25

एक कस्बे की आबादी एक दशक में 120000 से बढ़कर 165000 हो गई प्रति वर्ष जनसंख्या की औसत वृद्धि क्या है?

Options :

1. ✘ 0.035
2. ✔ 0.0375
3. ✘ 0.0425
4. ✘ 0.045

Question Number : 47 Question Id : 9662318081 Question Type : MCQ Option Shuffling : Yes Display Question Number : Yes
Single Line Question Option : No Option Orientation : Vertical

Correct Marks : 1 Wrong Marks : 0.25

In an election between 2 candidates, one got 37.5% of the total valid votes, 20% of the total votes were invalid. If the total number of votes were 50000, how many valid votes did the other candidate get?

Options :

1. ✔ 25000
2. ✘ 32500
3. ✘ 27500
4. ✘ 30000

Question Number : 47 Question Id : 9662318081 Question Type : MCQ Option Shuffling : Yes Display Question Number : Yes
Single Line Question Option : No Option Orientation : Vertical

Correct Marks : 1 Wrong Marks : 0.25

2 उम्मीदवारों के बीच हुए एक चुनाव में, एक को कुल वैध वोटों में से 37.5% वोट मिले, कुल वोटों का 20% अवैध था। यदि वोटों की कुल संख्या 50000 थी, तो दूसरे उम्मीदवार को कितने वैध वोट मिले?

Options :

1. ✔ 25000
2. ✘ 32500
3. ✘ 27500
4. ✘ 30000

Question Number : 48 Question Id : 9662318082 Question Type : MCQ Option Shuffling : Yes Display Question Number : Yes
Single Line Question Option : No Option Orientation : Vertical

Correct Marks : 1 Wrong Marks : 0.25

Two students appeared for an examination. One of them scored 20 marks more than the other and his marks was 60% of the sum of their marks. What was the total marks obtained by them?

Options :

1. ✔ 100 percent
2. ✘ 125 percent
3. ✘ 120 percent
4. ✘ 110 percent

Question Number : 48 Question Id : 9662318082 Question Type : MCQ Option Shuffling : Yes Display Question Number : Yes
Single Line Question Option : No Option Orientation : Vertical

Correct Marks : 1 Wrong Marks : 0.25

दो छात्र एक परीक्षा में उपस्थित हुए। उनमें से एक ने दूसरे की तुलना में 20 अंक अधिक हासिल किए और उसके अंक उनके अंकों के योग का 60% था। उन दोनों के द्वारा प्राप्त कुल अंक क्या थे?

Options :

1. ✓ 100 प्रतिशत
2. ✗ 125 प्रतिशत
3. ✗ 120 प्रतिशत
4. ✗ 110 प्रतिशत

Question Number : 49 Question Id : 9662318083 Question Type : MCQ Option Shuffling : Yes Display Question Number : Yes
Single Line Question Option : No Option Orientation : Vertical

Correct Marks : 1 Wrong Marks : 0.25

120 fruits are bought for Rs. 1200 and sold at the rate of Rs. 180 per dozen. What is the gain or loss percentage?

Options :

1. ✓ 50% gain
2. ✗ 50% loss
3. ✗ 25% gain
4. ✗ 25% loss

Question Number : 49 Question Id : 9662318083 Question Type : MCQ Option Shuffling : Yes Display Question Number : Yes
Single Line Question Option : No Option Orientation : Vertical

Correct Marks : 1 Wrong Marks : 0.25

120 फलों को 1200 रुपये में खरीदा जाता है और 180 रुपये प्रति दर्जन की दर से बेचा जाता है। लाभ या हानि प्रतिशत क्या है?

Options :

1. ✓ 50% लाभ
2. ✗ 50% हानि
3. ✗ 25% लाभ
4. ✗ 25% हानि

Question Number : 50 Question Id : 9662318084 Question Type : MCQ Option Shuffling : Yes Display Question Number : Yes
Single Line Question Option : No Option Orientation : Vertical

Correct Marks : 1 Wrong Marks : 0.25

If Rs. 1410 is to be divided into three parts, proportional to $1/3:1/4:1/5$, then what is the value of the first part?

Options :

1. ✗ Rs. 420
2. ✗ Rs. 450
3. ✓ Rs. 600
4. ✗ Rs. 720

Question Number : 50 Question Id : 9662318084 Question Type : MCQ Option Shuffling : Yes Display Question Number : Yes
Single Line Question Option : No Option Orientation : Vertical

Correct Marks : 1 Wrong Marks : 0.25

यदि 1410 रुपये को $1/3:1/4:1/5$ के अनुपात में तीन भागों में विभाजित किया जाना है, तो पहले भाग का मूल्य क्या है?

Options :

1. ✗ 420 रुपये
2. ✗ 450 रुपये

3. ✓ 600 रुपये
4. ✗ 720 रुपये

Question Number : 51 Question Id : 9662318085 Question Type : MCQ Option Shuffling : Yes Display Question Number : Yes
Single Line Question Option : No Option Orientation : Vertical

Correct Marks : 1 Wrong Marks : 0.25

Two numbers are in the ratio 3 : 4, 5 is subtracted from each of the numbers and the ratio becomes 5 : 7. Find the smaller number.

Options :

1. ✗ 27
2. ✓ 30
3. ✗ 33
4. ✗ 36

Question Number : 51 Question Id : 9662318085 Question Type : MCQ Option Shuffling : Yes Display Question Number : Yes
Single Line Question Option : No Option Orientation : Vertical

Correct Marks : 1 Wrong Marks : 0.25

दो संख्याएँ 3 : 4 के अनुपात में हैं, प्रत्येक संख्या से 5 घटाया जाता है जिससे यह अनुपात 5 : 7 हो जाता है। उनमें से छोटी संख्या ज्ञात करें।

Options :

1. ✗ 27
2. ✓ 30
3. ✗ 33
4. ✗ 36

Question Number : 52 Question Id : 9662318086 Question Type : MCQ Option Shuffling : Yes Display Question Number : Yes
Single Line Question Option : No Option Orientation : Vertical

Correct Marks : 1 Wrong Marks : 0.25

In a bag, there are coins of 25 p, Rs. 1 and Rs. 2 in the ratio of 8 : 5 : 3. There is Rs. 78 in total, how many 25 p coins are there?

Options :

1. ✗ 24
2. ✗ 32
3. ✗ 40
4. ✓ 48

Question Number : 52 Question Id : 9662318086 Question Type : MCQ Option Shuffling : Yes Display Question Number : Yes
Single Line Question Option : No Option Orientation : Vertical

Correct Marks : 1 Wrong Marks : 0.25

एक बैग में 8 : 5 : 3 के अनुपात में 25 पैसे, 1 रुपया और 2 रुपये के सिक्के हैं। वहाँ कुल 78 रुपये हैं, उसमें 25 पैसे के कितने सिक्के हैं?

Options :

1. ✗ 24
2. ✗ 32
3. ✗ 40
4. ✓ 48

Question Number : 53 Question Id : 9662318087 Question Type : MCQ Option Shuffling : Yes Display Question Number : Yes
Single Line Question Option : No Option Orientation : Vertical

Correct Marks : 1 Wrong Marks : 0.25

There is a 45% increase in an amount in 9 years at simple interest. What will be the compound interest of Rs. 12000 after 3 years at the same rate?

Options :

1. ✘ Rs. 1760
2. ✘ Rs. 1820
3. ✔ Rs. 1891.5
4. ✘ Rs. 1854.25

Question Number : 53 Question Id : 9662318087 Question Type : MCQ Option Shuffling : Yes Display Question Number : Yes
Single Line Question Option : No Option Orientation : Vertical

Correct Marks : 1 Wrong Marks : 0.25

साधारण ब्याज पर 9 वर्षों में एक धनराशि में 45% की वृद्धि हुई है। उसी दर पर 3 वर्ष के बाद 12,000 रुपये का चक्रवृद्धि ब्याज क्या होगा?

Options :

1. ✘ 1760 रुपये
2. ✘ 1820 रुपये
3. ✔ 1891.5 रुपये
4. ✘ 1854.25 रुपये

Question Number : 54 Question Id : 9662318088 Question Type : MCQ Option Shuffling : Yes Display Question Number : Yes
Single Line Question Option : No Option Orientation : Vertical

Correct Marks : 1 Wrong Marks : 0.25

A worker travelled a distance of 138 km in 15 hours. He travelled partly by foot @ 6 km/h and partly by bicycle @ 12 km/h. What is the distance travelled on foot?

Options :

1. ✘ 30
2. ✘ 36
3. ✔ 42
4. ✘ 48

Question Number : 54 Question Id : 9662318088 Question Type : MCQ Option Shuffling : Yes Display Question Number : Yes
Single Line Question Option : No Option Orientation : Vertical

Correct Marks : 1 Wrong Marks : 0.25

एक कार्यकर्ता ने 15 घंटे में 138 किमी की दूरी तय की। उसने आंशिक रूप से पैदल 6 किमी / घंटा और आंशिक रूप से साइकिल पर 12 किमी / घंटा की गति से यात्रा की। पैदल यात्रा की दूरी कितनी है?

Options :

1. ✘ 30
2. ✘ 36
3. ✔ 42
4. ✘ 48

Question Number : 55 Question Id : 9662318089 Question Type : MCQ Option Shuffling : Yes Display Question Number : Yes
Single Line Question Option : No Option Orientation : Vertical

Correct Marks : 1 Wrong Marks : 0.25

A can finish a job in 24 days. B can do the job in 18 days. After working together for 12 days, B left the job. In how many days can A finish the remaining work?

Note: For this question, discrepancy is found in question/answer. So, this question is ignored for all candidates.

Options :

1. 6
2. 8
3. 12

4. 24

Question Number : 55 Question Id : 9662318089 Question Type : MCQ Option Shuffling : Yes Display Question Number : Yes
Single Line Question Option : No Option Orientation : Vertical

Correct Marks : 1 Wrong Marks : 0.25

A, 24 दिनों में एक काम समाप्त कर सकता है B, 18 दिनों में वह काम कर सकता है 12 दिनों तक एक साथ काम करने के बाद, B ने वह काम छोड़ दिया A शेष कार्य को कितने दिनों में पूरा कर सकता है?

Note: For this question, discrepancy is found in question/answer. So, this question is ignored for all candidates.

Options :

1. 6
2. 8
3. 12
4. 24

Question Number : 56 Question Id : 9662318090 Question Type : MCQ Option Shuffling : Yes Display Question Number : Yes
Single Line Question Option : No Option Orientation : Vertical

Correct Marks : 1 Wrong Marks : 0.25

A can finish a job in 32 days. B can do the job in 20 days. After working alone for 15 days, B left the job. In how many days can A finish the remaining work?

Options :

1. ✓ 8
2. ✗ 12
3. ✗ 16
4. ✗ 20

Question Number : 56 Question Id : 9662318090 Question Type : MCQ Option Shuffling : Yes Display Question Number : Yes
Single Line Question Option : No Option Orientation : Vertical

Correct Marks : 1 Wrong Marks : 0.25

A, 32 दिनों में एक काम समाप्त कर सकता है B उस काम को 20 दिनों में कर सकता है 15 दिनों तक अकेले काम करने के बाद, B ने वह काम छोड़ दिया A शेष कार्य को कितने दिनों में पूरा कर सकता है?

Options :

1. ✓ 8
2. ✗ 12
3. ✗ 16
4. ✗ 20

Question Number : 57 Question Id : 9662318091 Question Type : MCQ Option Shuffling : Yes Display Question Number : Yes
Single Line Question Option : No Option Orientation : Vertical

Correct Marks : 1 Wrong Marks : 0.25

The length of a rectangular plot is 20 m more than the breadth. The cost of fencing the plot @ Rs. 5 per m is Rs. 2200. What is the length of the plot?

Options :

1. ✗ 100 m
2. ✗ 110 m
3. ✓ 120 m
4. ✗ 140 m

Question Number : 57 Question Id : 9662318091 Question Type : MCQ Option Shuffling : Yes Display Question Number : Yes
Single Line Question Option : No Option Orientation : Vertical

Correct Marks : 1 Wrong Marks : 0.25

एक आयताकार भूखंड की लंबाई उसकी चौड़ाई से 20 मीटर अधिक है। भूखंड की फेंसिंग की लागत 5 रुपये प्रति मीटर की दर से 2200 रुपये है। भूखंड की लंबाई क्या है?

Options :

1. ✘ 100 मी
2. ✘ 110 मी
3. ✔ 120 मी
4. ✘ 140 मी

Question Number : 58 Question Id : 9662318092 Question Type : MCQ Option Shuffling : Yes Display Question Number : Yes Single Line Question Option : No Option Orientation : Vertical

Correct Marks : 1 Wrong Marks : 0.25

110 cubic centimetres of a copper wire is drawn into a wire of 2 mm in diameter. What is the length of the wire?

Options :

1. ✘ 17.5 m
2. ✔ 35 m
3. ✘ 70 m
4. ✘ 140 m

Question Number : 58 Question Id : 9662318092 Question Type : MCQ Option Shuffling : Yes Display Question Number : Yes Single Line Question Option : No Option Orientation : Vertical

Correct Marks : 1 Wrong Marks : 0.25

110 घन सेंटीमीटर व्यास वाले तांबे के तार से 2 मिमी का तार खींचा जाता है। तार की लंबाई क्या है?

Options :

1. ✘ 17.5 मी
2. ✔ 35 मी
3. ✘ 70 मी
4. ✘ 140 मी

Question Number : 59 Question Id : 9662318093 Question Type : MCQ Option Shuffling : Yes Display Question Number : Yes Single Line Question Option : No Option Orientation : Vertical

Correct Marks : 1 Wrong Marks : 0.25

The following table shows the expenditure incurred (in 000s) by a company in different departments over the years. What is the ratio of total expenditure incurred over the years in IT department to Operations department?

Years	IT	Operations	Marketing	HR
2015	220	250	200	120
2016	320	350	300	250
2017	410	500	400	320
2018	450	500	450	410

Options :

1. ✘ 2:5
2. ✘ 3:2
3. ✔ 7:8
4. ✘ 9:8

Question Number : 59 Question Id : 9662318093 Question Type : MCQ Option Shuffling : Yes Display Question Number : Yes
Single Line Question Option : No Option Orientation : Vertical

Correct Marks : 1 Wrong Marks : 0.25

निम्न तालिका में (000s में) एक कंपनी द्वारा इन वर्षों में विभिन्न विभागों में किए गए व्यय को दर्शाया गया है। इतने वर्षों में आईटी विभाग और परिचालन विभाग द्वारा किए गए कुल व्यय का अनुपात क्या है?

वर्षों	आईटी	संचालन	विपणन	मानव संसाधन
2015	220	250	200	120
2016	320	350	300	250
2017	410	500	400	320
2018	450	500	450	410

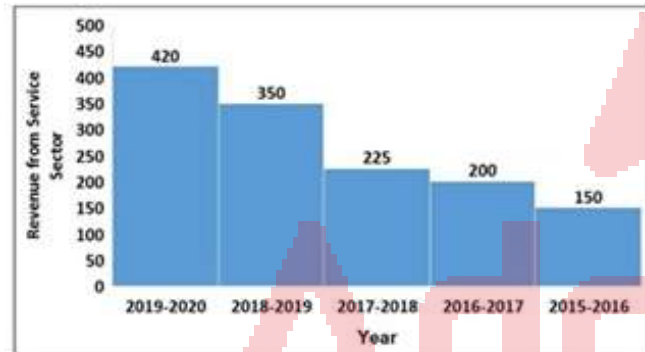
Options :

1. ✘ 2:5
2. ✘ 3:2
3. ✔ 7:8
4. ✘ 9:8

Question Number : 60 Question Id : 9662318094 Question Type : MCQ Option Shuffling : Yes Display Question Number : Yes
Single Line Question Option : No Option Orientation : Vertical

Correct Marks : 1 Wrong Marks : 0.25

The following histogram shows the revenue of service sector (in billions) over different years. What is the percentage increase in the revenue of service sector from 2017-2018 to 2019-2020?



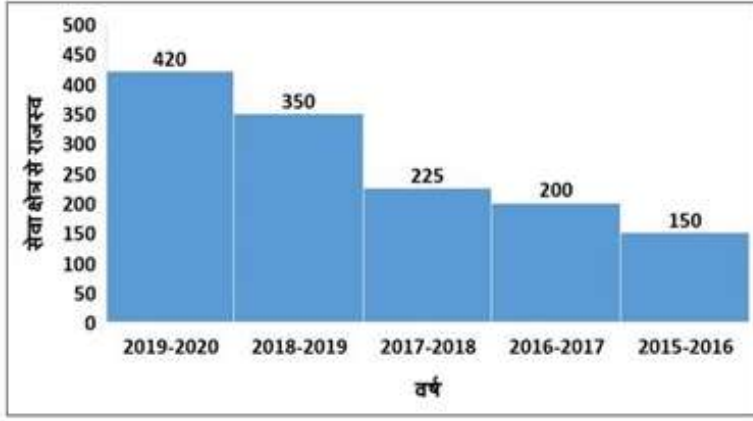
Options :

1. ✘ 90.05 percent
2. ✘ 75.21 percent
3. ✔ 86.67 percent
4. ✘ 82.2 percent

Question Number : 60 Question Id : 9662318094 Question Type : MCQ Option Shuffling : Yes Display Question Number : Yes
Single Line Question Option : No Option Orientation : Vertical

Correct Marks : 1 Wrong Marks : 0.25

निम्न आयतचित्र विभिन्न वर्षों में सेवा क्षेत्र (अरबों में) का राजस्व दिखाता है 2017-2018 से 2019-2020 तक सेवा क्षेत्र के राजस्व में हुई प्रतिशत वृद्धि क्या है?



Options :

1. ✘ 90.05 प्रतिशत
2. ✘ 75.21 प्रतिशत
3. ✔ 86.67 प्रतिशत
4. ✘ 82.2 प्रतिशत

General English

Group Number :	4
Group Id :	966231197
Group Maximum Duration :	0
Group Minimum Duration :	0
Revisit allowed for view? :	No
Revisit allowed for edit? :	No
Break time:	0
Group Marks:	20
Revisit allowed for group Instructions? :	Yes
Maximum Instruction Time:	0
Minimum Instruction Time:	0

General English

Section Id :	966231312
Section Number :	1
Section type :	Online
Mandatory or Optional:	Mandatory
Number of Questions:	16
Number of Questions to be attempted:	16
Section Marks:	20
Display Number Panel:	Yes
Group All Questions:	No

Sub-Section Number:	1
Sub-Section Id:	966231346
Question Shuffling Allowed :	Yes

Question Number : 61 Question Id : 9662318095 Question Type : MCQ Option Shuffling : Yes Display Question Number : Yes
Single Line Question Option : No Option Orientation : Vertical

Correct Marks : 1 Wrong Marks : 0.25

In the following statement, one part of the sentence may have an error. Find out which part of the sentence has an error and click the button corresponding to it. If the sentence is free from error, select the "No error" option.

(A) There is no question / (B) of Radha's failing / (C) in the examination. / (D) No error

Options :

- ✘ A
- ✔ B
- ✘ C
- ✘ D

Question Number : 61 Question Id : 9662318095 Question Type : MCQ Option Shuffling : Yes Display Question Number : Yes
Single Line Question Option : No Option Orientation : Vertical

Correct Marks : 1 Wrong Marks : 0.25

In the following statement, one part of the sentence may have an error. Find out which part of the sentence has an error and click the button corresponding to it. If the sentence is free from error, select the "No error" option.

(A) There is no question / (B) of Radha's failing / (C) in the examination. / (D) No error

Options :

- ✘ A
- ✔ B
- ✘ C
- ✘ D

Question Number : 62 Question Id : 9662318096 Question Type : MCQ Option Shuffling : Yes Display Question Number : Yes
Single Line Question Option : No Option Orientation : Vertical

Correct Marks : 1 Wrong Marks : 0.25

In the following statement, one part of the sentence may have an error. Find out which part of the sentence has an error and click the button corresponding to it. If the sentence is free from error, select the "No error" option.

(A) Ankit wrote her / (B) a very long message / (C) but she didn't read it. / (D) No error

Options :

- ✘ A
- ✘ B
- ✘ C
- ✔ D

Question Number : 62 Question Id : 9662318096 Question Type : MCQ Option Shuffling : Yes Display Question Number : Yes
Single Line Question Option : No Option Orientation : Vertical

Correct Marks : 1 Wrong Marks : 0.25

In the following statement, one part of the sentence may have an error. Find out which part of the sentence has an error and click the button corresponding to it. If the sentence is free from error, select the "No error" option.

(A) Ankit wrote her / (B) a very long message / (C) but she didn't read it. / (D) No error

Options :

- ✘ A

2. ✘ B
3. ✘ C
4. ✔ D

Question Number : 63 Question Id : 9662318097 Question Type : MCQ Option Shuffling : Yes Display Question Number : Yes
Single Line Question Option : No Option Orientation : Vertical

Correct Marks : 1 Wrong Marks : 0.25

Replace the words in the bracket from the set of options given.

The floor of his room was (covered upon) marble.

Options :

1. ✘ covered by
2. ✘ covered at
3. ✘ covered in
4. ✔ covered with

Question Number : 63 Question Id : 9662318097 Question Type : MCQ Option Shuffling : Yes Display Question Number : Yes
Single Line Question Option : No Option Orientation : Vertical

Correct Marks : 1 Wrong Marks : 0.25

Replace the words in the bracket from the set of options given.

The floor of his room was (covered upon) marble.

Options :

1. ✘ covered by
2. ✘ covered at
3. ✘ covered in
4. ✔ covered with

Question Number : 64 Question Id : 9662318098 Question Type : MCQ Option Shuffling : Yes Display Question Number : Yes
Single Line Question Option : No Option Orientation : Vertical

Correct Marks : 1 Wrong Marks : 0.25

Replace the words in the bracket from the set of options given.

Ashima hasn't eaten (from) breakfast and she is very hungry.

Options :

1. ✘ before
2. ✘ to
3. ✘ with
4. ✔ since

Question Number : 64 Question Id : 9662318098 Question Type : MCQ Option Shuffling : Yes Display Question Number : Yes
Single Line Question Option : No Option Orientation : Vertical

Correct Marks : 1 Wrong Marks : 0.25

Replace the words in the bracket from the set of options given.

Ashima hasn't eaten (from) breakfast and she is very hungry.

Options :

1. ✘ before
2. ✘ to
3. ✘ with

4. ✓ since

Question Number : 65 Question Id : 9662318099 Question Type : MCQ Option Shuffling : Yes Display Question Number : Yes
Single Line Question Option : No Option Orientation : Vertical

Correct Marks : 1 Wrong Marks : 0.25

Fill in the blanks with the appropriate word.

Don't step _____ the broken glass.

Options :

1. ✓ on
2. ✗ in
3. ✗ of
4. ✗ at

Question Number : 65 Question Id : 9662318099 Question Type : MCQ Option Shuffling : Yes Display Question Number : Yes
Single Line Question Option : No Option Orientation : Vertical

Correct Marks : 1 Wrong Marks : 0.25

Fill in the blanks with the appropriate word.

Don't step _____ the broken glass.

Options :

1. ✓ on
2. ✗ in
3. ✗ of
4. ✗ at

Question Number : 66 Question Id : 9662318100 Question Type : MCQ Option Shuffling : Yes Display Question Number : Yes
Single Line Question Option : No Option Orientation : Vertical

Correct Marks : 1 Wrong Marks : 0.25

The questions below consist of a set of labelled parts of a sentence. Out of four options given, select the most logical order of the parts which form a coherent sentence.

Adolf Hitler said

P : would be hanged

Q : who do not obey

R : those persons

S : his commands

Options :

1. ✓ RQSP
2. ✗ QPRS
3. ✗ PSQR
4. ✗ RSPQ

Question Number : 66 Question Id : 9662318100 Question Type : MCQ Option Shuffling : Yes Display Question Number : Yes
Single Line Question Option : No Option Orientation : Vertical

Correct Marks : 1 Wrong Marks : 0.25

The questions below consist of a set of labelled parts of a sentence. Out of four options given, select the most logical order of the parts which form a coherent sentence.

Adolf Hitler said
P : would be hanged
Q : who do not obey
R : those persons
S : his commands

Options :

1. ✓ RQSP
2. ✗ QPRS
3. ✗ PSQR
4. ✗ RSPQ

Question Number : 67 Question Id : 9662318101 Question Type : MCQ Option Shuffling : Yes Display Question Number : Yes
Single Line Question Option : No Option Orientation : Vertical

Correct Marks : 1 Wrong Marks : 0.25

Out of the four alternatives, choose the word which best expresses the meaning of the given word.

Censure

Options :

1. ✗ Appreciation
2. ✗ Approval
3. ✗ Seize
4. ✓ Condemn

Question Number : 67 Question Id : 9662318101 Question Type : MCQ Option Shuffling : Yes Display Question Number : Yes
Single Line Question Option : No Option Orientation : Vertical

Correct Marks : 1 Wrong Marks : 0.25

Out of the four alternatives, choose the word which best expresses the meaning of the given word.

Censure

Options :

1. ✗ Appreciation
2. ✗ Approval
3. ✗ Seize
4. ✓ Condemn

Question Number : 68 Question Id : 9662318102 Question Type : MCQ Option Shuffling : Yes Display Question Number : Yes
Single Line Question Option : No Option Orientation : Vertical

Correct Marks : 1 Wrong Marks : 0.25

Out of the four alternatives, choose the word which is OPPOSITE in meaning to the given word.

Stringent

Options :

1. ✗ Firm
2. ✗ Rigid
3. ✓ Lenient
4. ✗ Artificial

Question Number : 68 Question Id : 9662318102 Question Type : MCQ Option Shuffling : Yes Display Question Number : Yes
Single Line Question Option : No Option Orientation : Vertical

Correct Marks : 1 Wrong Marks : 0.25

Out of the four alternatives, choose the word which is OPPOSITE in meaning to the given word.

Stringent

Options :

- ✘ Firm
- ✘ Rigid
- ✔ Lenient
- ✘ Artificial

Question Number : 69 Question Id : 9662318103 Question Type : MCQ Option Shuffling : Yes Display Question Number : Yes
Single Line Question Option : No Option Orientation : Vertical

Correct Marks : 1 Wrong Marks : 0.25

Four words are given, out of which only one word is spelt correctly. Choose the correctly spelt word.

Options :

- ✘ Millennium
- ✔ Millennium
- ✘ Millenium
- ✘ Millineum

Question Number : 69 Question Id : 9662318103 Question Type : MCQ Option Shuffling : Yes Display Question Number : Yes
Single Line Question Option : No Option Orientation : Vertical

Correct Marks : 1 Wrong Marks : 0.25

Four words are given, out of which only one word is spelt correctly. Choose the correctly spelt word.

Options :

- ✘ Milenium
- ✔ Millennium
- ✘ Millenium
- ✘ Millineum

Question Number : 70 Question Id : 9662318104 Question Type : MCQ Option Shuffling : Yes Display Question Number : Yes
Single Line Question Option : No Option Orientation : Vertical

Correct Marks : 1 Wrong Marks : 0.25

Four words are given, out of which only one word is spelt correctly. Choose the correctly spelt word.

Options :

- ✘ Ventraloquist
- ✔ Ventriloquist
- ✘ Ventreloquist
- ✘ Ventraloquist

Question Number : 70 Question Id : 9662318104 Question Type : MCQ Option Shuffling : Yes Display Question Number : Yes
Single Line Question Option : No Option Orientation : Vertical

Correct Marks : 1 Wrong Marks : 0.25

Four words are given, out of which only one word is spelt correctly. Choose the correctly spelt word.

Options :

- ✘ Ventraloquist
- ✔ Ventriloquist

3. ✘ Ventreloquist
4. ✘ Ventraloquist

Question Number : 71 Question Id : 9662318105 Question Type : MCQ Option Shuffling : Yes Display Question Number : Yes
Single Line Question Option : No Option Orientation : Vertical

Correct Marks : 1 Wrong Marks : 0.25

Four words are given, out of which only one word is spelt correctly. Choose the correctly spelt word.

Options :

1. ✘ Surreptious
2. ✘ Sureptious
3. ✘ Surpetious
4. ✔ Surreptitious

Question Number : 71 Question Id : 9662318105 Question Type : MCQ Option Shuffling : Yes Display Question Number : Yes
Single Line Question Option : No Option Orientation : Vertical

Correct Marks : 1 Wrong Marks : 0.25

Four words are given, out of which only one word is spelt correctly. Choose the correctly spelt word.

Options :

1. ✘ Surreptious
2. ✘ Sureptious
3. ✘ Surpetious
4. ✔ Surreptitious

Question Number : 72 Question Id : 9662318106 Question Type : MCQ Option Shuffling : Yes Display Question Number : Yes
Single Line Question Option : No Option Orientation : Vertical

Correct Marks : 1 Wrong Marks : 0.25

What does the following idiom mean?

Ivory tower

Options :

1. ✘ A state where an individual is going through hardships in life.
2. ✘ A state of strong mindset like a tower of steel.
3. ✘ A state of involvement in everybody's personal problems.
4. ✔ A state of seclusion from the hardships of practical problems of real life.

Question Number : 72 Question Id : 9662318106 Question Type : MCQ Option Shuffling : Yes Display Question Number : Yes
Single Line Question Option : No Option Orientation : Vertical

Correct Marks : 1 Wrong Marks : 0.25

What does the following idiom mean?

Ivory tower

Options :

1. ✘ A state where an individual is going through hardships in life.
2. ✘ A state of strong mindset like a tower of steel.
3. ✘ A state of involvement in everybody's personal problems.
4. ✔ A state of seclusion from the hardships of practical problems of real life.

Question Number : 73 Question Id : 9662318107 Question Type : MCQ Option Shuffling : Yes Display Question Number : Yes
Single Line Question Option : No Option Orientation : Vertical

Correct Marks : 1 Wrong Marks : 0.25

What does the following idiom mean?

End in smoke

Options :

- ✓ To not produce concrete or positive results.
- ✗ To start a fight with someone.
- ✗ To say negative things about someone else.
- ✗ To end a fight with someone.

Question Number : 73 Question Id : 9662318107 Question Type : MCQ Option Shuffling : Yes Display Question Number : Yes
Single Line Question Option : No Option Orientation : Vertical

Correct Marks : 1 Wrong Marks : 0.25

What does the following idiom mean?

End in smoke

Options :

- ✓ To not produce concrete or positive results.
- ✗ To start a fight with someone.
- ✗ To say negative things about someone else.
- ✗ To end a fight with someone.

Question Number : 74 Question Id : 9662318108 Question Type : MCQ Option Shuffling : Yes Display Question Number : Yes
Single Line Question Option : No Option Orientation : Vertical

Correct Marks : 1 Wrong Marks : 0.25

In the following question, out of four alternatives, select the alternative which is the best substitute of the words/sentences.

A person who is pretending to be someone he is not

Options :

- ✗ Statesman
- ✓ Impostor
- ✗ Sycophant
- ✗ Philogynist

Question Number : 74 Question Id : 9662318108 Question Type : MCQ Option Shuffling : Yes Display Question Number : Yes
Single Line Question Option : No Option Orientation : Vertical

Correct Marks : 1 Wrong Marks : 0.25

In the following question, out of four alternatives, select the alternative which is the best substitute of the words/sentences.

A person who is pretending to be someone he is not

Options :

- ✗ Statesman
- ✓ Impostor
- ✗ Sycophant
- ✗ Philogynist

Question Number : 75 Question Id : 9662318109 Question Type : MCQ Option Shuffling : Yes Display Question Number : Yes
Single Line Question Option : No Option Orientation : Vertical

Correct Marks : 1 Wrong Marks : 0.25

In the following question, out of four alternatives, select the alternative which is the best substitute of the words/sentences.

A poem or speech at the end of the play.

Options :

1. ✓ Epilogue
2. ✗ Monologue
3. ✗ Euphony
4. ✗ Lecture

Question Number : 75 Question Id : 9662318109 Question Type : MCQ Option Shuffling : Yes Display Question Number : Yes
Single Line Question Option : No Option Orientation : Vertical

Correct Marks : 1 Wrong Marks : 0.25

In the following question, out of four alternatives, select the alternative which is the best substitute of the words/sentences.

A poem or speech at the end of the play.

Options :

1. ✓ Epilogue
2. ✗ Monologue
3. ✗ Euphony
4. ✗ Lecture

Sub-Section Number: 2
Sub-Section Id: 966231347
Question Shuffling Allowed : Yes

Question Id : 9662318110 Question Type : COMPREHENSION Sub Question Shuffling Allowed : Yes Group Comprehension
Questions : No

Question Numbers : (76 to 80)

Question Label : Comprehension

Read the passage carefully and answer the given question:

In 1772, when Warren Hastings was appointed the first Governor General of the Company's Indian territories, one of his first undertakings was the rapid expansion of the Company's army. Since the available soldiers, or Sepoys, from Bengal- many of whom had fought against the British in the Battle of Plassey (23 June 1757), were now suspect in British eyes. Hastings recruited the soldiers from the high caste rural Rajputs and Brahmans of Oudh and Bihar, a practice that continued for the next 75 years. However, in order to forestall any social friction, the Company also took pains to adapt its military practices to the requirement of their religious rituals. Consequently, these soldiers dined in separate facilities; in addition, overseas service, considered polluting to their caste, was not required of them, and the army soon came to officially recognize Hindu festivals.

Sub questions

Question Number : 76 Question Id : 9662318111 Question Type : MCQ Option Shuffling : Yes Display Question Number : Yes
Single Line Question Option : No Option Orientation : Vertical

Correct Marks : 1 Wrong Marks : 0.25

Who was the first Governor General of the Company's Indian territories?

Options :

1. ✗ Lord Mountbatten
2. ✗ John Shore

3. ✘ Lord Cornwall
4. ✔ Warren Hastings

Question Number : 77 Question Id : 9662318112 Question Type : MCQ Option Shuffling : Yes Display Question Number : Yes
Single Line Question Option : No Option Orientation : Vertical

Correct Marks : 1 Wrong Marks : 0.25

When was the first Governor General of the Company's Indian territories appointed?

Options :

1. ✘ 1757
2. ✘ 1778
3. ✔ 1772
4. ✘ 1775

Question Number : 78 Question Id : 9662318113 Question Type : MCQ Option Shuffling : Yes Display Question Number : Yes
Single Line Question Option : No Option Orientation : Vertical

Correct Marks : 1 Wrong Marks : 0.25

Who were the suspects in the British eyes?

Options :

1. ✘ The Rajputs and Brahmans
2. ✘ Warren Hastings
3. ✔ Soldiers from Bengal
4. ✘ Those residing in Oudh and Bihar

Question Number : 79 Question Id : 9662318114 Question Type : MCQ Option Shuffling : Yes Display Question Number : Yes
Single Line Question Option : No Option Orientation : Vertical

Correct Marks : 1 Wrong Marks : 0.25

When was the Battle of Plassey fought?

Options :

1. ✔ 1757
2. ✘ 1772
3. ✘ 1775
4. ✘ 1760

Question Number : 80 Question Id : 9662318115 Question Type : MCQ Option Shuffling : Yes Display Question Number : Yes
Single Line Question Option : No Option Orientation : Vertical

Correct Marks : 1 Wrong Marks : 0.25

From where did Hastings recruit the soldiers?

Options :

1. ✘ From the Bengal
2. ✘ From other countries
3. ✘ From the people who participated in the Battle of Plassey.
4. ✔ From the rural Rajputs and Brahmans of Oudh and Bihar.

Question Id : 9662318110 Question Type : COMPREHENSION Sub Question Shuffling Allowed : Yes Group Comprehension
Questions : No

Question Numbers : (76 to 80)

Question Label : Comprehension

Read the passage carefully and answer the given question:

In 1772, when Warren Hastings was appointed the first Governor General of the Company's Indian territories, one of his first undertakings was the rapid expansion of the Company's army. Since the available soldiers, or Sepoys, from Bengal- many of whom had fought against the British in the Battle of Plassey (23 June 1757), were now suspect in British eyes. Hastings recruited the soldiers from the high caste rural Rajputs and Brahmans of Oudh and Bihar, a practice that continued for the next 75 years. However, in order to forestall any social friction, the Company also took pains to adapt its military practices to the requirement of their religious rituals. Consequently, these soldiers dined in separate facilities; in addition, overseas service, considered polluting to their caste, was not required of them, and the army soon came to officially recognize Hindu festivals.

Sub questions

Question Number : 76 Question Id : 9662318111 Question Type : MCQ Option Shuffling : Yes Display Question Number : Yes Single Line Question Option : No Option Orientation : Vertical

Correct Marks : 1 Wrong Marks : 0.25

Who was the first Governor General of the Company's Indian territories?

Options :

1. ✘ Lord Mountbatten
2. ✘ John Shore
3. ✘ Lord Cornwall
4. ✔ Warren Hastings

Question Number : 77 Question Id : 9662318112 Question Type : MCQ Option Shuffling : Yes Display Question Number : Yes Single Line Question Option : No Option Orientation : Vertical

Correct Marks : 1 Wrong Marks : 0.25

When was the first Governor General of the Company's Indian territories appointed?

Options :

1. ✘ 1757
2. ✘ 1778
3. ✔ 1772
4. ✘ 1775

Question Number : 78 Question Id : 9662318113 Question Type : MCQ Option Shuffling : Yes Display Question Number : Yes Single Line Question Option : No Option Orientation : Vertical

Correct Marks : 1 Wrong Marks : 0.25

Who were the suspects in the British eyes?

Options :

1. ✘ The Rajputs and Brahmans
2. ✘ Warren Hastings
3. ✔ Soldiers from Bengal
4. ✘ Those residing in Oudh and Bihar

Question Number : 79 Question Id : 9662318114 Question Type : MCQ Option Shuffling : Yes Display Question Number : Yes Single Line Question Option : No Option Orientation : Vertical

Correct Marks : 1 Wrong Marks : 0.25

When was the Battle of Plassey fought?

Options :

1. ✔ 1757
2. ✘ 1772
3. ✘ 1775

4. ✘ 1760

Question Number : 80 Question Id : 9662318115 Question Type : MCQ Option Shuffling : Yes Display Question Number : Yes
Single Line Question Option : No Option Orientation : Vertical

Correct Marks : 1 Wrong Marks : 0.25

From where did Hastings recruit the soldiers?

Options :

- ✘ From the Bengal
- ✘ From other countries
- ✘ From the people who participated in the Battle of Plassey.
- ✔ From the rural Rajputs and Brahmans of Oudh and Bihar.

General Hindi

Group Number :	5
Group Id :	966231198
Group Maximum Duration :	0
Group Minimum Duration :	0
Revisit allowed for view? :	No
Revisit allowed for edit? :	No
Break time:	0
Group Marks:	20
Revisit allowed for group Instructions? :	Yes
Maximum Instruction Time:	0
Minimum Instruction Time:	0

General Hindi

Section Id :	966231313
Section Number :	1
Section type :	Online
Mandatory or Optional:	Mandatory
Number of Questions:	16
Number of Questions to be attempted:	16
Section Marks:	20
Display Number Panel:	Yes
Group All Questions:	No

Sub-Section Number:	1
Sub-Section Id:	966231348
Question Shuffling Allowed :	Yes

Question Number : 81 Question Id : 9662318116 Question Type : MCQ Option Shuffling : Yes Display Question Number : Yes
Single Line Question Option : No Option Orientation : Vertical

Correct Marks : 1 Wrong Marks : 0.25

निम्नलिखित प्रश्न में, चार विकल्पों में से, उस विकल्प का चयन करें जो उपसर्ग से बना है।

Options :

- ✘ चबराहट
- ✘ सोकर

3. ✘ नकली
4. ✔ निर्माण

Question Number : 81 Question Id : 9662318116 Question Type : MCQ Option Shuffling : Yes Display Question Number : Yes
Single Line Question Option : No Option Orientation : Vertical

Correct Marks : 1 Wrong Marks : 0.25

निम्नलिखित प्रश्न में, चार विकल्पों में से, उस विकल्प का चयन करें जो उपसर्ग से बना है।

Options :

1. ✘ घबराहट
2. ✘ सोकर
3. ✘ नकली
4. ✔ निर्माण

Question Number : 82 Question Id : 9662318117 Question Type : MCQ Option Shuffling : Yes Display Question Number : Yes
Single Line Question Option : No Option Orientation : Vertical

Correct Marks : 1 Wrong Marks : 0.25

निम्नलिखित प्रश्न में, चार विकल्पों में से, उस सही विकल्प का चयन करें जो प्रत्यय से बना शब्द है।

Options :

1. ✘ बदबू
2. ✘ स्वागत
3. ✔ आनंदित
4. ✘ विक्रेता

Question Number : 82 Question Id : 9662318117 Question Type : MCQ Option Shuffling : Yes Display Question Number : Yes
Single Line Question Option : No Option Orientation : Vertical

Correct Marks : 1 Wrong Marks : 0.25

निम्नलिखित प्रश्न में, चार विकल्पों में से, उस सही विकल्प का चयन करें जो प्रत्यय से बना शब्द है।

Options :

1. ✘ बदबू
2. ✘ स्वागत
3. ✔ आनंदित
4. ✘ विक्रेता

Question Number : 83 Question Id : 9662318118 Question Type : MCQ Option Shuffling : Yes Display Question Number : Yes
Single Line Question Option : No Option Orientation : Vertical

Correct Marks : 1 Wrong Marks : 0.25

निम्नलिखित प्रश्न में, चार विकल्पों में से, रिक्त स्थान के लिए निर्देशानुसार उचित विकल्प का चयन करें।

एक नौकरी _____ उसने सारा काम कर दिया। (साधनवाचक)

Options :

1. ✔ के सहारे
2. ✘ के बगैर
3. ✘ के पश्चात्
4. ✘ के ऊपर

Question Number : 83 Question Id : 9662318118 Question Type : MCQ Option Shuffling : Yes Display Question Number : Yes
Single Line Question Option : No Option Orientation : Vertical

Correct Marks : 1 Wrong Marks : 0.25

निम्नलिखित प्रश्न में, चार विकल्पों में से, रिक्त स्थान के लिए निर्देशानुसार उचित विकल्प का चयन करें।

एक नौकरी _____ उसने सारा काम कर दिया। (साधनवाचक)

Options :

1. ✓ के सहारे
2. ✗ के बगैर
3. ✗ के पश्चात्
4. ✗ के ऊपर

Question Number : 84 Question Id : 9662318119 Question Type : MCQ Option Shuffling : Yes Display Question Number : Yes
Single Line Question Option : No Option Orientation : Vertical

Correct Marks : 1 Wrong Marks : 0.25

निम्नलिखित प्रश्न में, चार विकल्पों में से, उस विकल्प का चयन करें जो विशेषण के भेद वाला विकल्प हो।

एक दर्जन में बारह केले होते हैं।

Options :

1. ✗ सर्वनामक
2. ✓ संख्यावाचक
3. ✗ परिमाणवाचक
4. ✗ गुणवाचक

Question Number : 84 Question Id : 9662318119 Question Type : MCQ Option Shuffling : Yes Display Question Number : Yes
Single Line Question Option : No Option Orientation : Vertical

Correct Marks : 1 Wrong Marks : 0.25

निम्नलिखित प्रश्न में, चार विकल्पों में से, उस विकल्प का चयन करें जो विशेषण के भेद वाला विकल्प हो।

एक दर्जन में बारह केले होते हैं।

Options :

1. ✗ सर्वनामक
2. ✓ संख्यावाचक
3. ✗ परिमाणवाचक
4. ✗ गुणवाचक

Question Number : 85 Question Id : 9662318120 Question Type : MCQ Option Shuffling : Yes Display Question Number : Yes
Single Line Question Option : No Option Orientation : Vertical

Correct Marks : 1 Wrong Marks : 0.25

निम्नलिखित प्रश्न में, चार विकल्पों में से, उस विकल्प का चयन करें जो समानार्थी शब्द का सही विकल्प नहीं है।

गुफा

Options :

1. ✓ गेह
2. ✗ विवर
3. ✗ गुहा
4. ✗ गव्हर

Question Number : 85 Question Id : 9662318120 Question Type : MCQ Option Shuffling : Yes Display Question Number : Yes
Single Line Question Option : No Option Orientation : Vertical

Correct Marks : 1 Wrong Marks : 0.25

निम्नलिखित प्रश्न में, चार विकल्पों में से, उस विकल्प का चयन करें जो समानार्थी शब्द का सही विकल्प नहीं है।

गुफा

Options :

1. ✓ गेह
2. ✗ विवर
3. ✗ गुहा
4. ✗ गव्हर

Question Number : 86 Question Id : 9662318121 Question Type : MCQ Option Shuffling : Yes Display Question Number : Yes
Single Line Question Option : No Option Orientation : Vertical

Correct Marks : 1 Wrong Marks : 0.25

निम्नलिखित प्रश्न में, चार विकल्पों में से, उस विकल्प का चयन करें जो विलोम शब्द का सबसे अच्छा विकल्प है।

ऋजु

Options :

1. ✗ सीधा
2. ✓ कुरिल
3. ✗ सरल
4. ✗ शालीन

Question Number : 86 Question Id : 9662318121 Question Type : MCQ Option Shuffling : Yes Display Question Number : Yes
Single Line Question Option : No Option Orientation : Vertical

Correct Marks : 1 Wrong Marks : 0.25

निम्नलिखित प्रश्न में, चार विकल्पों में से, उस विकल्प का चयन करें जो विलोम शब्द का सबसे अच्छा विकल्प है।

ऋजु

Options :

1. ✗ सीधा
2. ✓ कुरिल
3. ✗ सरल
4. ✗ शालीन

Question Number : 87 Question Id : 9662318122 Question Type : MCQ Option Shuffling : Yes Display Question Number : Yes
Single Line Question Option : No Option Orientation : Vertical

Correct Marks : 1 Wrong Marks : 0.25

निम्नलिखित प्रश्न में, चार विकल्पों में से, रिक्त स्थान के लिए निर्देशानुसार उचित विकल्प का चयन करें।

स्वामीजी ने शिकागो जाने का _____ किया।

Options :

1. ✗ समझा
2. ✗ प्रगति
3. ✓ निश्चय
4. ✗ भला

Question Number : 87 Question Id : 9662318122 Question Type : MCQ Option Shuffling : Yes Display Question Number : Yes
Single Line Question Option : No Option Orientation : Vertical

Correct Marks : 1 Wrong Marks : 0.25

निम्नलिखित प्रश्न में, चार विकल्पों में से, रिक्त स्थान के लिए निर्देशानुसार उचित विकल्प का चयन करें।

स्वामीजी ने शिकागो जाने का _____ किया।

Options :

1. ✘ समझा
2. ✘ प्रगति
3. ✔ निश्चय
4. ✘ भला

Question Number : 88 Question Id : 9662318123 Question Type : MCQ Option Shuffling : Yes Display Question Number : Yes
Single Line Question Option : No Option Orientation : Vertical

Correct Marks : 1 Wrong Marks : 0.25

निम्नलिखित प्रश्न में, चार विकल्पों में से, उस सही विकल्प का चयन करें जो वाक्यांशों के लिए एक शब्द का विकल्प हो।

जिसका कोई उद्देश्य न हो।

Options :

1. ✔ निरुद्देश्य
2. ✘ निरुत्तर
3. ✘ निराकार
4. ✘ निर्दोष

Question Number : 88 Question Id : 9662318123 Question Type : MCQ Option Shuffling : Yes Display Question Number : Yes
Single Line Question Option : No Option Orientation : Vertical

Correct Marks : 1 Wrong Marks : 0.25

निम्नलिखित प्रश्न में, चार विकल्पों में से, उस सही विकल्प का चयन करें जो वाक्यांशों के लिए एक शब्द का विकल्प हो।

जिसका कोई उद्देश्य न हो।

Options :

1. ✔ निरुद्देश्य
2. ✘ निरुत्तर
3. ✘ निराकार
4. ✘ निर्दोष

Question Number : 89 Question Id : 9662318124 Question Type : MCQ Option Shuffling : Yes Display Question Number : Yes
Single Line Question Option : No Option Orientation : Vertical

Correct Marks : 1 Wrong Marks : 0.25

निम्नलिखित प्रश्न में, चार विकल्पों में से, रिक्त स्थान के लिए निर्देशानुसार उचित विकल्प का चयन करें।

रोहन _____ साइकिल चलाई जाती है। (कर्मवाच्य)

Options :

1. ✘ ने
2. ✘ पर
3. ✔ द्वारा
4. ✘ से द्वारा

Question Number : 89 Question Id : 9662318124 Question Type : MCQ Option Shuffling : Yes Display Question Number : Yes
Single Line Question Option : No Option Orientation : Vertical

Correct Marks : 1 Wrong Marks : 0.25

निम्नलिखित प्रश्न में, चार विकल्पों में से, रिक्त स्थान के लिए निर्देशानुसार उचित विकल्प का चयन करें।

रोहन _____ साइकिल चलाई जाती है। (कर्मवाच्य)

Options :

1. ✘ ने
2. ✘ पर
3. ✔ द्वारा
4. ✘ से द्वारा

Question Number : 90 Question Id : 9662318125 Question Type : MCQ Option Shuffling : Yes Display Question Number : Yes
Single Line Question Option : No Option Orientation : Vertical

Correct Marks : 1 Wrong Marks : 0.25

निम्नलिखित प्रश्न में, चार विकल्पों में से, उस विकल्प का चयन करें जो दिए गए वाक्य के लिए पक्ष के भेद का सबसे अच्छा विकल्प है।

बाज़ार में सब्जियों के दाम लगातार बढ़ते जा रहे हैं।

Options :

1. ✘ सातप्यबोधक
2. ✘ नित्यताद्योतक
3. ✔ प्रगतिद्योतक
4. ✘ आरंभद्योतक

Question Number : 90 Question Id : 9662318125 Question Type : MCQ Option Shuffling : Yes Display Question Number : Yes
Single Line Question Option : No Option Orientation : Vertical

Correct Marks : 1 Wrong Marks : 0.25

निम्नलिखित प्रश्न में, चार विकल्पों में से, उस विकल्प का चयन करें जो दिए गए वाक्य के लिए पक्ष के भेद का सबसे अच्छा विकल्प है।

बाज़ार में सब्जियों के दाम लगातार बढ़ते जा रहे हैं।

Options :

1. ✘ सातप्यबोधक
2. ✘ नित्यताद्योतक
3. ✔ प्रगतिद्योतक
4. ✘ आरंभद्योतक

Question Number : 91 Question Id : 9662318126 Question Type : MCQ Option Shuffling : Yes Display Question Number : Yes
Single Line Question Option : No Option Orientation : Vertical

Correct Marks : 1 Wrong Marks : 0.25

निम्नलिखित प्रश्न में, चार विकल्पों में से, उस विकल्प का चयन करें जो दिए गए वाक्य के लिए पक्ष के भेद का सबसे अच्छा विकल्प है।

बच्चे अब काफी पढ़ चुके हैं।

Options :

1. ✘ आरंभद्योतक
2. ✘ प्रगतिद्योतक
3. ✘ सातप्यबोधक
4. ✔ पूर्णताद्योतक

Question Number : 91 Question Id : 9662318126 Question Type : MCQ Option Shuffling : Yes Display Question Number : Yes
Single Line Question Option : No Option Orientation : Vertical

Correct Marks : 1 Wrong Marks : 0.25

निम्नलिखित प्रश्न में, चार विकल्पों में से, उस विकल्प का चयन करें जो दिए गए वाक्य के लिए पक्ष के भेद का सबसे अच्छा विकल्प है।

बच्चे अब काफी पढ़ चुके हैं।

Options :

1. ✘ आरंभद्योतक

2. ✘ प्रगतिद्योतक
3. ✘ सातप्यबोधक
4. ✔ पूर्णताद्योतक

Question Number : 92 Question Id : 9662318127 Question Type : MCQ Option Shuffling : Yes Display Question Number : Yes
Single Line Question Option : No Option Orientation : Vertical

Correct Marks : 1 Wrong Marks : 0.25

निम्नलिखित प्रश्न में, चार विकल्पों में से, उस विकल्प का चयन करें जो दिए गए वाक्य के लिए पक्ष के भेद का सबसे अच्छा विकल्प है।

उमा कितना अच्छा खाना बना रही है।

Options :

1. ✔ सातप्यबोधक
2. ✘ अभ्यासद्योतक
3. ✘ आरंभद्योतक
4. ✘ नित्यताद्योतक

Question Number : 92 Question Id : 9662318127 Question Type : MCQ Option Shuffling : Yes Display Question Number : Yes
Single Line Question Option : No Option Orientation : Vertical

Correct Marks : 1 Wrong Marks : 0.25

निम्नलिखित प्रश्न में, चार विकल्पों में से, उस विकल्प का चयन करें जो दिए गए वाक्य के लिए पक्ष के भेद का सबसे अच्छा विकल्प है।

उमा कितना अच्छा खाना बना रही है।

Options :

1. ✔ सातप्यबोधक
2. ✘ अभ्यासद्योतक
3. ✘ आरंभद्योतक
4. ✘ नित्यताद्योतक

Question Number : 93 Question Id : 9662318128 Question Type : MCQ Option Shuffling : Yes Display Question Number : Yes
Single Line Question Option : No Option Orientation : Vertical

Correct Marks : 1 Wrong Marks : 0.25

निम्नलिखित प्रश्न में, चार विकल्पों में से, उस विकल्प का चयन करें जो दिए गए मुहावरे का सही अर्थ वाला विकल्प है।

उलटा तवा

Options :

1. ✘ काम खत्म
2. ✘ कुछ न मिलना
3. ✘ कोई काम न करना
4. ✔ बहुत काला

Question Number : 93 Question Id : 9662318128 Question Type : MCQ Option Shuffling : Yes Display Question Number : Yes
Single Line Question Option : No Option Orientation : Vertical

Correct Marks : 1 Wrong Marks : 0.25

निम्नलिखित प्रश्न में, चार विकल्पों में से, उस विकल्प का चयन करें जो दिए गए मुहावरे का सही अर्थ वाला विकल्प है।

उलटा तवा

Options :

1. ✘ काम खत्म
2. ✘ कुछ न मिलना
3. ✘ कोई काम न करना

4. ✓ बहुत काला

Question Number : 94 Question Id : 9662318129 Question Type : MCQ Option Shuffling : Yes Display Question Number : Yes
Single Line Question Option : No Option Orientation : Vertical

Correct Marks : 1 Wrong Marks : 0.25

निम्नलिखित प्रश्न में, चार विकल्पों में से, उस विकल्प का चयन करें जो दिए गए मुहावरे का सही अर्थ वाला विकल्प है।

पापड़ बेलना

Options :

1. ✗ खाना बनाना
2. ✗ काम करना
3. ✓ संघर्ष करना
4. ✗ मेहनत करना

Question Number : 94 Question Id : 9662318129 Question Type : MCQ Option Shuffling : Yes Display Question Number : Yes
Single Line Question Option : No Option Orientation : Vertical

Correct Marks : 1 Wrong Marks : 0.25

निम्नलिखित प्रश्न में, चार विकल्पों में से, उस विकल्प का चयन करें जो दिए गए मुहावरे का सही अर्थ वाला विकल्प है।

पापड़ बेलना

Options :

1. ✗ खाना बनाना
2. ✗ काम करना
3. ✓ संघर्ष करना
4. ✗ मेहनत करना

Question Number : 95 Question Id : 9662318130 Question Type : MCQ Option Shuffling : Yes Display Question Number : Yes
Single Line Question Option : No Option Orientation : Vertical

Correct Marks : 1 Wrong Marks : 0.25

निम्नलिखित प्रश्न में, चार विकल्पों में से, उस विकल्प का चयन करें जो विराम चिह्न युक्त वाक्य का सही विकल्प हो।

Options :

1. ✓ सरदार! सारे डाकू मारे गए।
2. ✗ सरदार, 'सारे डाकू मारे गए।'
3. ✗ सरदार- सारे डाकू मारे गए।
4. ✗ सरदार! सारे डाकू मारे गए?

Question Number : 95 Question Id : 9662318130 Question Type : MCQ Option Shuffling : Yes Display Question Number : Yes
Single Line Question Option : No Option Orientation : Vertical

Correct Marks : 1 Wrong Marks : 0.25

निम्नलिखित प्रश्न में, चार विकल्पों में से, उस विकल्प का चयन करें जो विराम चिह्न युक्त वाक्य का सही विकल्प हो।

Options :

1. ✓ सरदार! सारे डाकू मारे गए।
2. ✗ सरदार, 'सारे डाकू मारे गए।'
3. ✗ सरदार- सारे डाकू मारे गए।
4. ✗ सरदार! सारे डाकू मारे गए?

Question Shuffling Allowed : Yes

Question Id : 9662318131 Question Type : COMPREHENSION Sub Question Shuffling Allowed : Yes Group Comprehension Questions : No

Question Numbers : (96 to 100)

Question Label : Comprehension

नीचे दिए गये गद्यांश के बाद 5 प्रश्न दिए गये हैं। इस गद्यांश को ध्यानपूर्वक पढ़ें और चार विकल्पों में से प्रत्येक प्रश्न का सर्वोत्तम उत्तर चुनें।

मनुष्य को जितनी ज़रूरत हवा, पानी और अन्न की होती है, उतनी व्यायाम की भी होती है। हाँ, कसरत के बिना मनुष्य जिन्दा तो रह सकता है लेकिन निरोगी नहीं। कसरत का अर्थ केवल हॉकी, टेनिस, फुटबॉल, क्रिकेट और घूमना ही नहीं है। कसरत का अर्थ है शारीरिक और मानसिक कार्य। जिस प्रकार भोजन शरीर के लिए ही नहीं मन के लिए भी आवश्यक है, वैसे ही कसरत शरीर के साथ-साथ मन के लिए भी ज़रूरी है। एक कहावत है की निरोगी वही है, जिसके निरोगी शरीर में स्वस्थ मन का निवास है।

Sub questions

Question Number : 96 Question Id : 9662318132 Question Type : MCQ Option Shuffling : Yes Display Question Number : Yes Single Line Question Option : No Option Orientation : Vertical

Correct Marks : 1 Wrong Marks : 0.25

अनुच्छेद के अनुसार मनुष्य को व्यायाम की आवश्यकता क्यों होती है?

Options :

1. ✘ प्रसन्न रहने के लिए
2. ✘ जिन्दा रहने के लिए
3. ✘ प्रशंसा के लिए
4. ✔ रोगमुक्त रहने के लिए

Question Number : 97 Question Id : 9662318133 Question Type : MCQ Option Shuffling : Yes Display Question Number : Yes Single Line Question Option : No Option Orientation : Vertical

Correct Marks : 1 Wrong Marks : 0.25

दिए गए विकल्पों में से शारीरिक कार्य क्या है?

Options :

1. ✔ भोजन पकाना
2. ✘ पुस्तक पढ़ना
3. ✘ गीत लिखना
4. ✘ गाना सुनना

Question Number : 98 Question Id : 9662318134 Question Type : MCQ Option Shuffling : Yes Display Question Number : Yes Single Line Question Option : No Option Orientation : Vertical

Correct Marks : 1 Wrong Marks : 0.25

दिए गए विकल्पों में से मानसिक कार्य क्या है?

Options :

1. ✘ बोझा ढोना
2. ✘ मजदूरी करना
3. ✔ पढ़ाई करना
4. ✘ दौड़ लगाना

Question Number : 99 Question Id : 9662318135 Question Type : MCQ Option Shuffling : Yes Display Question Number : Yes Single Line Question Option : No Option Orientation : Vertical

Correct Marks : 1 Wrong Marks : 0.25

इनमें से कौन - सा निरोगी का पर्यायवाची नहीं है?

Options :

1. ✔ अस्वस्थ
2. ✘ रोगमुक्त

3. ✘ रोगहीन
4. ✘ दोष मुक्त

Question Number : 100 Question Id : 9662318136 Question Type : MCQ Option Shuffling : Yes Display Question Number : Yes
Single Line Question Option : No Option Orientation : Vertical

Correct Marks : 1 Wrong Marks : 0.25

इस अनुच्छेद का कोई उपयुक्त शीर्षक:

Options :

1. ✘ कसरत का अर्थ
2. ✔ स्वास्थ्य और हम
3. ✘ निरोगी शरीर
4. ✘ शारीरिक जीवन

Question Id : 9662318131 Question Type : COMPREHENSION Sub Question Shuffling Allowed : Yes Group Comprehension
Questions : No

Question Numbers : (96 to 100)

Question Label : Comprehension

नीचे दिए गये गद्यांश के बाद 5 प्रश्न दिए गये हैं। इस गद्यांश को ध्यानपूर्वक पढ़ें और चार विकल्पों में से प्रत्येक प्रश्न का सर्वोत्तम उत्तर चुनें:

मनुष्य को जितनी ज़रूरत हवा, पानी और अन्न की होती है, उतनी व्यायाम की भी होती है। हाँ, कसरत के बिना मनुष्य जिन्दा तो रह सकता है लेकिन निरोगी नहीं। कसरत का अर्थ केवल हॉकी, टेनिस, फुटबॉल, क्रिकेट और घूमना ही नहीं है। कसरत का अर्थ है शारीरिक और मानसिक कार्यों जिस प्रकार भोजन शरीर के लिए ही नहीं मन के लिए भी आवश्यक है, वैसे ही कसरत शरीर के साथ-साथ मन के लिए भी ज़रूरी है। एक कहावत है की निरोगी वही है, जिसके निरोगी शरीर में स्वस्थ मन का निवास है।

Sub questions

Question Number : 96 Question Id : 9662318132 Question Type : MCQ Option Shuffling : Yes Display Question Number : Yes
Single Line Question Option : No Option Orientation : Vertical

Correct Marks : 1 Wrong Marks : 0.25

अनुच्छेद के अनुसार मनुष्य को व्यायाम की आवश्यकता क्यों होती है?

Options :

1. ✘ प्रसन्न रहने की लिए
2. ✘ जिन्दा रहने के लिए
3. ✘ प्रशंसा के लिए
4. ✔ रोगमुक्त रहने के लिए

Question Number : 97 Question Id : 9662318133 Question Type : MCQ Option Shuffling : Yes Display Question Number : Yes
Single Line Question Option : No Option Orientation : Vertical

Correct Marks : 1 Wrong Marks : 0.25

दिए गए विकल्पों में से शारीरिक कार्य क्या है?

Options :

1. ✔ भोजन पकाना
2. ✘ पुस्तक पढ़ना
3. ✘ गीत लिखना
4. ✘ गाना सुनना

Question Number : 98 Question Id : 9662318134 Question Type : MCQ Option Shuffling : Yes Display Question Number : Yes
Single Line Question Option : No Option Orientation : Vertical

Correct Marks : 1 Wrong Marks : 0.25

दिए गए विकल्पों में से मानसिक कार्य क्या है?

Options :

1. ✘ बोझा ढोना

2. ✘ मजदूरी करना
3. ✔ पढ़ाई करना
4. ✘ दौड़ लगाना

Question Number : 99 Question Id : 9662318135 Question Type : MCQ Option Shuffling : Yes Display Question Number : Yes
Single Line Question Option : No Option Orientation : Vertical

Correct Marks : 1 Wrong Marks : 0.25

इनमें से कौन - सा निरोगी का पर्यायवाची नहीं है?

Options :

1. ✔ अस्वस्थ
2. ✘ रोगमुक्त
3. ✘ रोगहीन
4. ✘ दोष मुक्त

Question Number : 100 Question Id : 9662318136 Question Type : MCQ Option Shuffling : Yes Display Question Number : Yes
Single Line Question Option : No Option Orientation : Vertical

Correct Marks : 1 Wrong Marks : 0.25

इस अनुच्छेद का कोई उपयुक्त शीर्षक:

Options :

1. ✘ कसरत का अर्थ
2. ✔ स्वास्थ्य और हम
3. ✘ निरोगी शरीर
4. ✘ शारीरिक जीवन

Discipline1

Group Number :	6
Group Id :	966231199
Group Maximum Duration :	0
Group Minimum Duration :	0
Revisit allowed for view? :	No
Revisit allowed for edit? :	No
Break time:	0
Group Marks:	20
Revisit allowed for group Instructions? :	Yes
Maximum Instruction Time:	0
Minimum Instruction Time:	0

Discipline1

Section Id :	966231314
Section Number :	1
Section type :	Online
Mandatory or Optional:	Mandatory
Number of Questions:	20
Number of Questions to be attempted:	20
Section Marks:	20
Display Number Panel:	Yes
Group All Questions:	No

Sub-Section Number: 1
Sub-Section Id: 966231350
Question Shuffling Allowed : Yes

Question Number : 101 Question Id : 9662318137 Question Type : MCQ Option Shuffling : Yes Display Question Number : Yes
Single Line Question Option : No Option Orientation : Vertical
Correct Marks : 1 Wrong Marks : 0.25

A bluish appearance of the skin and mucous membranes caused by inadequate oxygenation is called:

Options :

1. ✘ dyspnoea
2. ✘ hypercapnia
3. ✘ bradypnoea
4. ✔ cyanosis

Question Number : 101 Question Id : 9662318137 Question Type : MCQ Option Shuffling : Yes Display Question Number : Yes
Single Line Question Option : No Option Orientation : Vertical
Correct Marks : 1 Wrong Marks : 0.25

एक नीला रंग जो अपर्याप्त ऑक्सीजन की वजह से त्वचा और श्लेष्मा झिल्ली में दिखाई देता है उसे क्या कहा जाता है?

Options :

1. ✘ दमा
2. ✘ हाइपरकेपनिया
3. ✘ ब्रेडीपनिया
4. ✔ सायनोसिस

Question Number : 102 Question Id : 9662318138 Question Type : MCQ Option Shuffling : Yes Display Question Number : Yes
Single Line Question Option : No Option Orientation : Vertical
Correct Marks : 1 Wrong Marks : 0.25

The term infant is used for a child of age:

Options :

1. ✘ 0 - 2 months
2. ✔ 2 months - 1 year

3. ✘ 1 - 4 years

4. ✘ 1 - 10 years

Question Number : 102 Question Id : 9662318138 Question Type : MCQ Option Shuffling : Yes Display Question Number : Yes
Single Line Question Option : No Option Orientation : Vertical

Correct Marks : 1 Wrong Marks : 0.25

किस उम्र के बच्चे के लिए शिशु शब्द का उपयोग किया जाता है?

Options :

1. ✘ 0 - 2 महीने

2. ✔ 2 महीने से 1 वर्ष

3. ✘ 1 - 4 वर्ष

4. ✘ 1 - 10 वर्ष

Question Number : 103 Question Id : 9662318139 Question Type : MCQ Option Shuffling : Yes Display Question Number : Yes
Single Line Question Option : No Option Orientation : Vertical

Correct Marks : 1 Wrong Marks : 0.25

A system which provides support with a variety of joints that enable a wide range of movements is:

Options :

1. ✘ the spine and discs

2. ✔ the skeleton

3. ✘ the peripheral nervous system

4. ✘ the central nervous system

Question Number : 103 Question Id : 9662318139 Question Type : MCQ Option Shuffling : Yes Display Question Number : Yes
Single Line Question Option : No Option Orientation : Vertical

Correct Marks : 1 Wrong Marks : 0.25

एक प्रणाली जो विभिन्न प्रकार के जोड़ों के साथ सहारा प्रदान करती है जो गतिविधियों की एक विस्तृत श्रृंखला को सक्षम करती है वो क्या है?

Options :

1. ✘ रीढ़ और डिस्क

2. ✔ कंकाल

3. ✘ परिधीय तंत्रिका तंत्र

4. ✘ केंद्रीय तंत्रिका तंत्र

Question Number : 104 Question Id : 9662318140 Question Type : MCQ Option Shuffling : Yes Display Question Number : Yes Single Line Question Option : No Option Orientation : Vertical

Correct Marks : 1 Wrong Marks : 0.25

Prone position is:

Options :

1. ✘ lying face sideways

2. ✘ lying face upwards

3. ✔ lying face downwards

4. ✘ turning upwards

Question Number : 104 Question Id : 9662318140 Question Type : MCQ Option Shuffling : Yes Display Question Number : Yes Single Line Question Option : No Option Orientation : Vertical

Correct Marks : 1 Wrong Marks : 0.25

प्रवण स्थिति क्या है?

Options :

1. ✘ बगल में चेहरा करके लेटना

2. ✘ चेहरा ऊपर की ओर करके लेटना

3. ✔ नीचे की तरफ चेहरा करके लेटना

4. ✘ ऊपर की ओर मुड़ना

Question Number : 105 Question Id : 9662318141 Question Type : MCQ Option Shuffling : Yes Display Question Number : Yes Single Line Question Option : No Option Orientation : Vertical

Correct Marks : 1 Wrong Marks : 0.25

A deposit of food and bacteria on the teeth, which may produce tartar and dental caries is called:

Options :

1. ✔ plaque

2. ✘ oral hygiene

3. ✖ stomatitis

4. ✖ tenting

Question Number : 105 Question Id : 9662318141 Question Type : MCQ Option Shuffling : Yes Display Question Number : Yes
Single Line Question Option : No Option Orientation : Vertical

Correct Marks : 1 Wrong Marks : 0.25

दांतों पर जमा भोजन और बैक्टीरिया, जो टार्टर और दंत क्षय पैदा कर सकते हैं, उसे क्या कहते हैं?

Options :

1. ✔ पट्टिका (प्लाक)

2. ✖ मौखिक स्वच्छता

3. ✖ स्टोमाटाइटिस

4. ✖ टेंटिंग

Question Number : 106 Question Id : 9662318142 Question Type : MCQ Option Shuffling : Yes Display Question Number : Yes
Single Line Question Option : No Option Orientation : Vertical

Correct Marks : 1 Wrong Marks : 0.25

An eating disorder in which binge eating is followed by depression and guilt, self-induced vomiting and purging is:

Options :

1. ✖ dysphagia

2. ✔ bulimia nervosa

3. ✖ anorexia nervosa

4. ✖ binge eating disorder

Question Number : 106 Question Id : 9662318142 Question Type : MCQ Option Shuffling : Yes Display Question Number : Yes
Single Line Question Option : No Option Orientation : Vertical

Correct Marks : 1 Wrong Marks : 0.25

एक खाने का विकार जिसमें बहुत खाने के बाद अवसाद और अपराध बोध, स्व-प्रेरित उल्टी और शुद्धिकरण होता है उसे क्या कहते हैं?

Options :

1. ✖ निगलने में कठिनाई

2. ✔ बुलिमिया नर्वोसा

3. ✘ एनोरेक्सिया नर्वोसा

4. ✘ अधिक खाने का विकार

Question Number : 107 Question Id : 9662318143 Question Type : MCQ Option Shuffling : Yes Display Question Number : Yes
Single Line Question Option : No Option Orientation : Vertical

Correct Marks : 1 Wrong Marks : 0.25

BMI is calculated by using the formula:

Options :

1. ✘ $\text{weight (kg)} \times \text{height (m)}^2$

2. ✘ $\text{height (m)}^2 / \text{weight (kg)}$

3. ✔ $\text{weight (kg)} / \text{height (m)}^2$

4. ✘ $\text{weight (lb)} + \text{height (m)}^2$

Question Number : 107 Question Id : 9662318143 Question Type : MCQ Option Shuffling : Yes Display Question Number : Yes
Single Line Question Option : No Option Orientation : Vertical

Correct Marks : 1 Wrong Marks : 0.25

बीएमआई की गणना किस सूत्र का उपयोग करके की जाती है?

Options :

1. ✘ $\text{वजन (किलो)} \times \text{ऊंचाई (मी)}^2$

2. ✘ $\text{ऊंचाई (मी)}^2 / \text{वजन (किलो)}$

3. ✔ $\text{वजन (किलो)} / \text{ऊंचाई (मी)}^2$

4. ✘ $\text{वजन (पौंड)} + \text{ऊंचाई (मी)}^2$

Question Number : 108 Question Id : 9662318144 Question Type : MCQ Option Shuffling : Yes Display Question Number : Yes
Single Line Question Option : No Option Orientation : Vertical

Correct Marks : 1 Wrong Marks : 0.25

A child grasps fingers when palm touch occurs at the age of:

Options :

1. ✔ 4 weeks

2. ✘ 4 months

3. ✖ 6 months

4. ✖ 9 months

Question Number : 108 Question Id : 9662318144 Question Type : MCQ Option Shuffling : Yes Display Question Number : Yes
Single Line Question Option : No Option Orientation : Vertical

Correct Marks : 1 Wrong Marks : 0.25

किस उम्र में जब हथेली का स्पर्श होता है तो एक बच्चा उंगलियों को पकड़ लेता है?

Options :

1. ✔ 4 सप्ताह

2. ✖ 4 महीने

3. ✖ 6 महीने

4. ✖ 9 महीने

Question Number : 109 Question Id : 9662318145 Question Type : MCQ Option Shuffling : Yes Display Question Number : Yes
Single Line Question Option : No Option Orientation : Vertical

Correct Marks : 1 Wrong Marks : 0.25

The amount of air exhaled from lungs as water vapour is about:

Options :

1. ✖ 100 ml

2. ✔ 500 ml

3. ✖ 1000 ml

4. ✖ 1500 ml

Question Number : 109 Question Id : 9662318145 Question Type : MCQ Option Shuffling : Yes Display Question Number : Yes
Single Line Question Option : No Option Orientation : Vertical

Correct Marks : 1 Wrong Marks : 0.25

जल वाष्प के रूप में फेफड़ों से निकलने वाली हवा की मात्रा लगभग कितनी होती है?

Options :

1. ✖ 100 मिलीलीटर

2. ✔ 500 मिलीलीटर

3. ✖ 1000 मिलीलीटर

4. ✘ 1500 मिलीलीटर

Question Number : 110 Question Id : 9662318146 Question Type : MCQ Option Shuffling : Yes Display Question Number : Yes
Single Line Question Option : No Option Orientation : Vertical

Correct Marks : 1 Wrong Marks : 0.25

Sleep walking in medical terms is:

Options :

1. ✘ insomnia
2. ✘ hypersomnia
3. ✘ somnolent
4. ✔ somnambulism

Question Number : 110 Question Id : 9662318146 Question Type : MCQ Option Shuffling : Yes Display Question Number : Yes
Single Line Question Option : No Option Orientation : Vertical

Correct Marks : 1 Wrong Marks : 0.25

चिकित्सा की दृष्टि से नींद में चलना को क्या कहते हैं?

Options :

1. ✘ अनिद्रा
2. ✘ अतिनिद्रा
3. ✘ सोमनोलेंट
4. ✔ सोमनाम्बुलिज़म

Question Number : 111 Question Id : 9662318147 Question Type : MCQ Option Shuffling : Yes Display Question Number : Yes
Single Line Question Option : No Option Orientation : Vertical

Correct Marks : 1 Wrong Marks : 0.25

Which of the following clinical signs is NOT related to confirming the death status of the patient?

Options :

1. ✘ No evidence of pulse
2. ✘ Pupils fixed and dilated
3. ✘ No evidence of respirations or blood pressure

4. ✓ Movements of limbs

Question Number : 111 Question Id : 9662318147 Question Type : MCQ Option Shuffling : Yes Display Question Number : Yes
Single Line Question Option : No Option Orientation : Vertical

Correct Marks : 1 Wrong Marks : 0.25

रोगी की मृत्यु की स्थिति की पुष्टि निम्नलिखित नैदानिक संकेतों में से किससे संबंधित नहीं है?

Options :

1. ✘ नाड़ी का कोई प्रमाण नहीं
2. ✘ पुतलियों का स्थिर तथा पतला होना
3. ✘ श्वसन या रक्तचाप का कोई प्रमाण नहीं
4. ✓ अंगों की हलचल

Question Number : 112 Question Id : 9662318148 Question Type : MCQ Option Shuffling : Yes Display Question Number : Yes
Single Line Question Option : No Option Orientation : Vertical

Correct Marks : 1 Wrong Marks : 0.25

The presence of bilirubin in urine indicates:

Options :

1. ✘ renal stones
2. ✘ raised blood glucose levels
3. ✓ indicate biliary disease
4. ✘ malignancy

Question Number : 112 Question Id : 9662318148 Question Type : MCQ Option Shuffling : Yes Display Question Number : Yes
Single Line Question Option : No Option Orientation : Vertical

Correct Marks : 1 Wrong Marks : 0.25

मूत्र में बिलीरुबिन की उपस्थिति क्या इंगित करती है?

Options :

1. ✘ गुर्दे की पथरी
2. ✘ रक्त शर्करा का स्तर बढ़ा हुआ

3. ✓ पित्त की बीमारी का संकेत
4. ✘ असाध्यता

Question Number : 113 Question Id : 9662318149 Question Type : MCQ Option Shuffling : Yes Display Question Number : Yes
Single Line Question Option : No Option Orientation : Vertical
Correct Marks : 1 Wrong Marks : 0.25

Haemorrhage in a new-born is caused by the deficiency of:

Options :

1. ✘ vitamin A
2. ✘ vitamin D
3. ✘ vitamin E
4. ✓ vitamin K

Question Number : 113 Question Id : 9662318149 Question Type : MCQ Option Shuffling : Yes Display Question Number : Yes
Single Line Question Option : No Option Orientation : Vertical
Correct Marks : 1 Wrong Marks : 0.25

एक नए जन्मे में रक्तस्राव किस कमी के कारण से होता है?

Options :

1. ✘ विटामिन ए
2. ✘ विटामिन डी
3. ✘ विटामिन ई
4. ✓ विटामिन के

Question Number : 114 Question Id : 9662318150 Question Type : MCQ Option Shuffling : Yes Display Question Number : Yes
Single Line Question Option : No Option Orientation : Vertical
Correct Marks : 1 Wrong Marks : 0.25

The carrier for acyl groups are:

Options :

1. ✘ retinol
2. ✘ tocopherol
3. ✓ pantothenic acid

4. ✘ niacin

Question Number : 114 Question Id : 9662318150 Question Type : MCQ Option Shuffling : Yes Display Question Number : Yes
Single Line Question Option : No Option Orientation : Vertical

Correct Marks : 1 Wrong Marks : 0.25

एसाइल समूहों के लिए वाहक है, उसे क्या कहते हैं?

Options :

1. ✘ रेटिनोल
2. ✘ टोकोफेरॉल
3. ✔ पैंटोथैनिक एसिड
4. ✘ नियासिन

Question Number : 115 Question Id : 9662318151 Question Type : MCQ Option Shuffling : Yes Display Question Number : Yes
Single Line Question Option : No Option Orientation : Vertical

Correct Marks : 1 Wrong Marks : 0.25

Vitamin B12 and folic acid deficiency causes:

Options :

1. ✘ iron deficiency anaemia
2. ✔ megaloblastic anaemia
3. ✘ sickle cell anaemia
4. ✘ thalassemia

Question Number : 115 Question Id : 9662318151 Question Type : MCQ Option Shuffling : Yes Display Question Number : Yes
Single Line Question Option : No Option Orientation : Vertical

Correct Marks : 1 Wrong Marks : 0.25

विटामिन बी12 और फोलिक एसिड की कमी से क्या होता है?

Options :

1. ✘ लोहे की कमी से एनीमिया
2. ✔ मेगालोब्लास्टिक एनीमिया
3. ✘ रक्त की लाल कोशिकाओं की कमी

4. ✖ थैलेसीमिया

Question Number : 116 Question Id : 9662318152 Question Type : MCQ Option Shuffling : Yes Display Question Number : Yes
Single Line Question Option : No Option Orientation : Vertical

Correct Marks : 1 Wrong Marks : 0.25

Wilson's disease is associated with:

Options :

1. ✖ amylase
2. ✖ creatine kinase
3. ✔ ceruloplasmin
4. ✖ lipase

Question Number : 116 Question Id : 9662318152 Question Type : MCQ Option Shuffling : Yes Display Question Number : Yes
Single Line Question Option : No Option Orientation : Vertical

Correct Marks : 1 Wrong Marks : 0.25

विल्सन की बीमारी किससे जुड़ी है?

Options :

1. ✖ एमिलेज
2. ✖ क्रिएटिन काइनेज़
3. ✔ सेरुलोप्लाज़मिन
4. ✖ लिपेस

Question Number : 117 Question Id : 9662318153 Question Type : MCQ Option Shuffling : Yes Display Question Number : Yes
Single Line Question Option : No Option Orientation : Vertical

Correct Marks : 1 Wrong Marks : 0.25

pH is the negative logarithm of the concentration of:

Options :

1. ✖ calcium ions
2. ✖ magnesium ions
3. ✖ potassium ions

4. ✓ hydrogen ions

Question Number : 117 Question Id : 9662318153 Question Type : MCQ Option Shuffling : Yes Display Question Number : Yes
Single Line Question Option : No Option Orientation : Vertical

Correct Marks : 1 Wrong Marks : 0.25

पीएच (pH) की सांद्रता का ऋणात्मक लघुगणक क्या है?

Options :

1. ✗ कैल्शियम आयन
2. ✗ मैग्नीशियम आयन
3. ✗ पोटेशियम आयन
4. ✓ हाइड्रोजन आयन

Question Number : 118 Question Id : 9662318154 Question Type : MCQ Option Shuffling : Yes Display Question Number : Yes
Single Line Question Option : No Option Orientation : Vertical

Correct Marks : 1 Wrong Marks : 0.25

A method of self-observation of an individual of their own mental status directly and by use of their memory is called:

Options :

1. ✓ introspection
2. ✗ observation
3. ✗ experimental
4. ✗ clinical

Question Number : 118 Question Id : 9662318154 Question Type : MCQ Option Shuffling : Yes Display Question Number : Yes
Single Line Question Option : No Option Orientation : Vertical

Correct Marks : 1 Wrong Marks : 0.25

किसी व्यक्ति की सीधे और स्मृति के उपयोग द्वारा अपनी स्वयं की मानसिक स्थिति के आत्म-अवलोकन की एक विधि को क्या कहते हैं?

Options :

1. ✓ आत्मनिरीक्षण
2. ✗ प्रेक्षण
3. ✗ प्रयोगात्मक

4. ✘ नैदानिक

Question Number : 119 Question Id : 9662318155 Question Type : MCQ Option Shuffling : Yes Display Question Number : Yes
Single Line Question Option : No Option Orientation : Vertical

Correct Marks : 1 Wrong Marks : 0.25

Name the drive that becomes active when the physiological balance within our body, called homeostasis, is disturbed:

Options :

1. ✘ social drive
2. ✔ physiological drive
3. ✘ personal drive
4. ✘ unconscious drive

Question Number : 119 Question Id : 9662318155 Question Type : MCQ Option Shuffling : Yes Display Question Number : Yes
Single Line Question Option : No Option Orientation : Vertical

Correct Marks : 1 Wrong Marks : 0.25

जब हमारे शरीर के भीतर शारीरिक संतुलन, जिसे होमोस्टैसिस कहा जाता है, गड़बड़ा जाता है, उस समय जो ड्राइव सक्रिय हो जाता है उसे क्या कहते हैं?

Options :

1. ✘ सामाजिक ड्राइव
2. ✔ शारीरिक ड्राइव
3. ✘ व्यक्तिगत ड्राइव
4. ✘ अचेतावस्था ड्राइव

Question Number : 120 Question Id : 9662318156 Question Type : MCQ Option Shuffling : Yes Display Question Number : Yes
Single Line Question Option : No Option Orientation : Vertical

Correct Marks : 1 Wrong Marks : 0.25

Identify the type of reinforcement that increases the possibility of a response by presenting a pleasurable stimulus after a desired response:

Options :

1. ✘ continuous reinforcement
2. ✘ partial reinforcement

3. positive reinforcement

4. negative reinforcement

Question Number : 120 Question Id : 9662318156 Question Type : MCQ Option Shuffling : Yes Display Question Number : Yes
Single Line Question Option : No Option Orientation : Vertical

Correct Marks : 1 Wrong Marks : 0.25

वांछित प्रतिक्रिया के बाद सुदृढीकरण के प्रकार को पहचानें, जो एक सुखद उत्तेजना पेश करके प्रतिक्रिया की संभावना को बढ़ाता है:

Options :

1. निरंतर सुदृढीकरण

2. आंशिक सुदृढीकरण

3. सकारात्मक सुदृढीकरण

4. नकारात्मक सुदृढीकरण

	Discipline2
Group Number :	7
Group Id :	966231200
Group Maximum Duration :	0
Group Minimum Duration :	0
Revisit allowed for view? :	No
Revisit allowed for edit? :	No
Break time:	0
Group Marks:	20
Revisit allowed for group Instructions? :	Yes
Maximum Instruction Time:	0
Minimum Instruction Time:	0

	Discipline2
Section Id :	966231315
Section Number :	1
Section type :	Online
Mandatory or Optional:	Mandatory
Number of Questions:	20
Number of Questions to be attempted:	20
Section Marks:	20
Display Number Panel:	Yes
Group All Questions:	No

Sub-Section Number: 1
Sub-Section Id: 966231351
Question Shuffling Allowed : Yes

Question Number : 121 Question Id : 9662318157 Question Type : MCQ Option Shuffling : Yes Display Question Number : Yes
Single Line Question Option : No Option Orientation : Vertical
Correct Marks : 1 Wrong Marks : 0.25

A defence mechanism in which original goals or desires are substituted by others is called:

Options :

1. ✘ projection
2. ✘ displacement
3. ✘ sublimation
4. ✔ substitution

Question Number : 121 Question Id : 9662318157 Question Type : MCQ Option Shuffling : Yes Display Question Number : Yes
Single Line Question Option : No Option Orientation : Vertical
Correct Marks : 1 Wrong Marks : 0.25

एक रक्षा तंत्र जिसमें इच्छाओं या मूल लक्ष्यों को दूसरों द्वारा प्रतिस्थापित किया जाता है उसे क्या कहते हैं?

Options :

1. ✘ प्रक्षेपण
2. ✘ विस्थापन
3. ✘ उच्च बनाने की क्रिया
4. ✔ प्रतिस्थापन

Question Number : 122 Question Id : 9662318158 Question Type : MCQ Option Shuffling : Yes Display Question Number : Yes
Single Line Question Option : No Option Orientation : Vertical
Correct Marks : 1 Wrong Marks : 0.25

This phase is so named because it is when the follicles in the ovary grow and form a mature egg. Name the phase:

Options :

1. ✔ follicular phase
2. ✘ ovulation
3. ✘ luteal phase

4. ✘ menstruation

Question Number : 122 Question Id : 9662318158 Question Type : MCQ Option Shuffling : Yes Display Question Number : Yes
Single Line Question Option : No Option Orientation : Vertical

Correct Marks : 1 Wrong Marks : 0.25

उस चरण का नाम दें, जब अंडाशय में रोम बढ़ते हैं और एक परिपक्व अंडा बनाते हैं।

Options :

1. ✔ फॉलिक्यूलर चरण
2. ✘ ओव्यूलेशन
3. ✘ ल्यूटियमी चरण
4. ✘ मासिक धर्म

Question Number : 123 Question Id : 9662318159 Question Type : MCQ Option Shuffling : Yes Display Question Number : Yes
Single Line Question Option : No Option Orientation : Vertical

Correct Marks : 1 Wrong Marks : 0.25

Name the phase in the endometrial cycle that begins as the spiral arteries rupture secondary to ischemia, releasing blood into the uterus, and the sloughing of the endometrial lining begins.

Options :

1. ✘ Proliferative phase
2. ✘ Secretory phase
3. ✘ Ischemic phase
4. ✔ Menstrual phase

Question Number : 123 Question Id : 9662318159 Question Type : MCQ Option Shuffling : Yes Display Question Number : Yes
Single Line Question Option : No Option Orientation : Vertical

Correct Marks : 1 Wrong Marks : 0.25

एंडोमेट्रियल चक्र में उस चरण का नाम बताइए, जो सर्पिल धमनियों के फटने से लेकर इस्केमिया तक पहुंचता है, रक्त को गर्भाशय में छोड़ता है, और एंडोमेट्रियल अस्तर का घसाव होना शुरू होता है:

Options :

1. ✘ प्रोलिफेरेटिव चरण
2. ✘ सावी चरण

3. ✘ इस्केमिक चरण

4. ✔ मासिक धर्म चरण

Question Number : 124 Question Id : 9662318160 Question Type : MCQ Option Shuffling : Yes Display Question Number : Yes Single Line Question Option : No Option Orientation : Vertical

Correct Marks : 1 Wrong Marks : 0.25

Clients with a diagnosis of HIV or another sexually transmitted infection should be screened for:

Options :

1. ✘ hepatitis

2. ✘ chlamydia

3. ✔ syphilis

4. ✘ gonorrhoea

Question Number : 124 Question Id : 9662318160 Question Type : MCQ Option Shuffling : Yes Display Question Number : Yes Single Line Question Option : No Option Orientation : Vertical

Correct Marks : 1 Wrong Marks : 0.25

एचआईवी या अन्य यौन संचारित संक्रमण के निदान वाले रोगियों की कौन सी जांच की जानी चाहिए?

Options :

1. ✘ हेपेटाइटिस

2. ✘ क्लैमाइडिया

3. ✔ उपदंश

4. ✘ गोनोरिया

Question Number : 125 Question Id : 9662318161 Question Type : MCQ Option Shuffling : Yes Display Question Number : Yes Single Line Question Option : No Option Orientation : Vertical

Correct Marks : 1 Wrong Marks : 0.25

An inflammatory state of the upper female genital tract and nearby structures is called:

Options :

1. ✘ hepatitis

2. ✔ pelvic inflammatory disease

3. ✘ syphilis

4. ✘ gonorrhoea

Question Number : 125 Question Id : 9662318161 Question Type : MCQ Option Shuffling : Yes Display Question Number : Yes
Single Line Question Option : No Option Orientation : Vertical

Correct Marks : 1 Wrong Marks : 0.25

ऊपरी महिला जननांग पथ और आस-पास की संरचनाओं की एक शोथज (सूजन-संबंधी) स्थिति को क्या कहा जाता है?

Options :

1. ✘ हेपेटाइटिस

2. ✔ श्रोणि सूजन संबंधी बीमारी

3. ✘ उपदंश

4. ✘ गोनोरिया

Question Number : 126 Question Id : 9662318162 Question Type : MCQ Option Shuffling : Yes Display Question Number : Yes
Single Line Question Option : No Option Orientation : Vertical

Correct Marks : 1 Wrong Marks : 0.25

Name the test where secretion is mixed with a drop of 10% potassium hydroxide on a slide, producing a characteristic stale fishy odour.

Options :

1. ✘ Nontreponemal tests

2. ✘ Treponemal tests

3. ✘ Rapid plasma reagin

4. ✔ Whiff test

Question Number : 126 Question Id : 9662318162 Question Type : MCQ Option Shuffling : Yes Display Question Number : Yes
Single Line Question Option : No Option Orientation : Vertical

Correct Marks : 1 Wrong Marks : 0.25

उस परीक्षण का नाम बताइए, जहां एक स्लाइड पर 10% पोटेशियम हाइड्रॉक्साइड की एक बूंद के साथ साव मिलाया जाता है, जो एक विशेषता बासी मछली जैसी गंध पैदा करता है।

Options :

1. ✘ नॉन-ट्रेपोनेमल परीक्षण

2. ✘ ट्रेपोनेमल परीक्षण
3. ✘ रैपिड प्लाज्मा रिएगिन
4. ✔ व्हिफ़ (Whiff) परीक्षण

Question Number : 127 Question Id : 9662318163 Question Type : MCQ Option Shuffling : Yes Display Question Number : Yes
Single Line Question Option : No Option Orientation : Vertical

Correct Marks : 1 Wrong Marks : 0.25

A generic term that means inflammation and infection of the vagina is:

Options :

1. ✘ candidiasis
2. ✘ endometriosis
3. ✔ vaginitis
4. ✘ pruritus

Question Number : 127 Question Id : 9662318163 Question Type : MCQ Option Shuffling : Yes Display Question Number : Yes
Single Line Question Option : No Option Orientation : Vertical

Correct Marks : 1 Wrong Marks : 0.25

एक सामान्य शब्द जिसका अर्थ है योनि की सूजन और संक्रमण:

Options :

1. ✘ कैंडिडिआसिस
2. ✘ एंडोमेट्रिओसिस
3. ✔ योनिशोथ
4. ✘ प्रुराइटस

Question Number : 128 Question Id : 9662318164 Question Type : MCQ Option Shuffling : Yes Display Question Number : Yes
Single Line Question Option : No Option Orientation : Vertical

Correct Marks : 1 Wrong Marks : 0.25

The expulsion of an embryo or foetus before it is viable is called:

Options :

1. ✔ abortion

2. ✘ medical abortion
3. ✘ surgical abortion
4. ✘ miscarriage

Question Number : 128 Question Id : 9662318164 Question Type : MCQ Option Shuffling : Yes Display Question Number : Yes
Single Line Question Option : No Option Orientation : Vertical
Correct Marks : 1 Wrong Marks : 0.25

व्यवहार्य होने से पहले एक भ्रूण के निष्कासन को क्या कहा जाता है?

Options :

1. ✔ गर्भपात
2. ✘ वैद्यकीय गर्भपात
3. ✘ सर्जिकल गर्भपात
4. ✘ अकाल प्रसव

Question Number : 129 Question Id : 9662318165 Question Type : MCQ Option Shuffling : Yes Display Question Number : Yes
Single Line Question Option : No Option Orientation : Vertical
Correct Marks : 1 Wrong Marks : 0.25

The procedure for women, that is performed postpartum, after an abortion, or as an interval procedure unrelated to pregnancy is called:

Options :

1. ✘ tubal ligation
2. ✘ vasectomy
3. ✔ sterilisation
4. ✘ abortion

Question Number : 129 Question Id : 9662318165 Question Type : MCQ Option Shuffling : Yes Display Question Number : Yes
Single Line Question Option : No Option Orientation : Vertical
Correct Marks : 1 Wrong Marks : 0.25

महिलाओं के लिए उस प्रक्रिया को क्या कहा जाता है जिसे गर्भपात के बाद, या गर्भावस्था के लिए असंबंधित एक अंतराल प्रक्रिया के रूप में, प्रसवोत्तर किया जाता है?

Options :

1. ✘ डिंबप्रणालीय बांधना

2. ✘ पुरुष नसबंदी
3. ✔ बंध्याकरण
4. ✘ गर्भपात

Question Number : 130 Question Id : 9662318166 Question Type : MCQ Option Shuffling : Yes Display Question Number : Yes
Single Line Question Option : No Option Orientation : Vertical

Correct Marks : 1 Wrong Marks : 0.25

Male sterilisation is accomplished with a surgical procedure known as:

Options :

1. ✘ tubal ligation
2. ✔ vasectomy
3. ✘ sterilisation
4. ✘ abortion

Question Number : 130 Question Id : 9662318166 Question Type : MCQ Option Shuffling : Yes Display Question Number : Yes
Single Line Question Option : No Option Orientation : Vertical

Correct Marks : 1 Wrong Marks : 0.25

पुरुष नसबंदी को सर्जिकल प्रक्रिया के साथ किया जाता है, उस प्रक्रिया को क्या कहा जाता है?

Options :

1. ✘ डिंबप्रणालीय बांधना
2. ✔ पुरुष नसबंदी
3. ✘ बंध्याकरण
4. ✘ गर्भपात

Question Number : 131 Question Id : 9662318167 Question Type : MCQ Option Shuffling : Yes Display Question Number : Yes
Single Line Question Option : No Option Orientation : Vertical

Correct Marks : 1 Wrong Marks : 0.25

A barrier method in which a soft latex dome surrounded by a metal spring is used, is called:

Options :

1. ✘ condom

2. ✓ diaphragm
3. ✗ cervical cap
4. ✗ contraceptive cap

Question Number : 131 Question Id : 9662318167 Question Type : MCQ Option Shuffling : Yes Display Question Number : Yes
Single Line Question Option : No Option Orientation : Vertical

Correct Marks : 1 Wrong Marks : 0.25

एक बाधा विधि जिसमें एक धातु के स्प्रिंग से घिरे एक नरम लेटेक्स गुंबद का उपयोग किया जाता है, उसे क्या कहा जाता है?

Options :

1. ✗ कंडोम
2. ✓ डायफ्राम
3. ✗ सर्विकल टोपी
4. ✗ गर्भनिरोधक टोपी

Question Number : 132 Question Id : 9662318168 Question Type : MCQ Option Shuffling : Yes Display Question Number : Yes
Single Line Question Option : No Option Orientation : Vertical

Correct Marks : 1 Wrong Marks : 0.25

Coitus interruptus is also known as:

Options :

1. ✗ standard days method
2. ✗ symptothermal method
3. ✗ cervical mucus ovulation method
4. ✓ withdrawal

Question Number : 132 Question Id : 9662318168 Question Type : MCQ Option Shuffling : Yes Display Question Number : Yes
Single Line Question Option : No Option Orientation : Vertical

Correct Marks : 1 Wrong Marks : 0.25

सहवास में बाधा को क्या कहा जाता है?

Options :

1. ✗ मानक दिनों की विधि

2. ✘ सिम्पटोथर्मल विधि
3. ✘ गर्भाशय ग्रीवा श्लेष्मा ओव्यूलेशन विधि
4. ✔ प्रत्याहार विधि

Question Number : 133 Question Id : 9662318169 Question Type : MCQ Option Shuffling : Yes Display Question Number : Yes
Single Line Question Option : No Option Orientation : Vertical

Correct Marks : 1 Wrong Marks : 0.25

The inability to conceive a child after 1 year of regular sexual intercourse unprotected by contraception, or the inability to carry a pregnancy to term is known as:

Options :

1. ✘ amenorrhea
2. ✘ dysmenorrhea
3. ✔ infertility
4. ✘ endometriosis

Question Number : 133 Question Id : 9662318169 Question Type : MCQ Option Shuffling : Yes Display Question Number : Yes
Single Line Question Option : No Option Orientation : Vertical

Correct Marks : 1 Wrong Marks : 0.25

गर्भनिरोधक द्वारा असुरक्षित यौन संबंध के 1 वर्ष के बाद किसी बच्चे को गर्भ धारण करने में असमर्थता, या पूरे नौ महीने गर्भधारण करने में असमर्थता को किस रूप में क्या जाना जाता है?

Options :

1. ✘ रजोरोध
2. ✘ कष्टार्तव
3. ✔ बांझपन
4. ✘ एंडोमेट्रियोसिस

Question Number : 134 Question Id : 9662318170 Question Type : MCQ Option Shuffling : Yes Display Question Number : Yes
Single Line Question Option : No Option Orientation : Vertical

Correct Marks : 1 Wrong Marks : 0.25

A wide range of recurrent symptoms that occur during the luteal phase or last half of the menstrual cycle and resolve with the onset of menstruation is known as:

Options :

1. ✓ premenstrual syndrome
2. ✗ amenorrhea
3. ✗ dysmenorrhea
4. ✗ dysfunctional uterine bleeding

Question Number : 134 Question Id : 9662318170 Question Type : MCQ Option Shuffling : Yes Display Question Number : Yes
Single Line Question Option : No Option Orientation : Vertical

Correct Marks : 1 Wrong Marks : 0.25

आवर्तक लक्षणों की एक विस्तृत श्रृंखला, जो मासिक धर्म चक्र के अंतिम चरण या मासिक धर्म के अंतिम अर्ध के दौरान होती है और मासिक धर्म की शुरुआत के साथ हल होती है, उसे किस रूप में जाना जाता है?

Options :

1. ✓ प्रागर्तव
2. ✗ रजोरोध
3. ✗ कष्टार्तव
4. ✗ अक्रियाशील गर्भाशय रक्तस्राव

Question Number : 135 Question Id : 9662318171 Question Type : MCQ Option Shuffling : Yes Display Question Number : Yes
Single Line Question Option : No Option Orientation : Vertical

Correct Marks : 1 Wrong Marks : 0.25

Painful menstruation is termed as:

Options :

1. ✗ premenstrual syndrome
2. ✗ amenorrhea
3. ✓ dysmenorrhea
4. ✗ dysfunctional uterine bleeding

Question Number : 135 Question Id : 9662318171 Question Type : MCQ Option Shuffling : Yes Display Question Number : Yes
Single Line Question Option : No Option Orientation : Vertical

Correct Marks : 1 Wrong Marks : 0.25

दर्दनाक माहवारी को क्या कहा जाता है?

Options :

1. ✘ प्रागर्तव
2. ✘ रजोरोध
3. ✔ कष्टार्तव
4. ✘ अक्रियाशील गर्भाशय रक्तस्राव

Question Number : 136 Question Id : 9662318172 Question Type : MCQ Option Shuffling : Yes Display Question Number : Yes
Single Line Question Option : No Option Orientation : Vertical

Correct Marks : 1 Wrong Marks : 0.25

Women experiencing physical changes associated with decreasing oestrogen levels, which may include irregular menstrual cycles, sleep disruptions, mood disturbances, decreased vaginal lubrication, fatigue, vaginal atrophy, and depression is seen during:

Options :

1. ✘ menarche
2. ✔ menopause
3. ✘ maternity
4. ✘ labour

Question Number : 136 Question Id : 9662318172 Question Type : MCQ Option Shuffling : Yes Display Question Number : Yes
Single Line Question Option : No Option Orientation : Vertical

Correct Marks : 1 Wrong Marks : 0.25

एस्ट्रोजेन के स्तर में कमी के साथ जुड़े शारीरिक बदलावों का सामना करने वाली महिलाओं में अनियमित मासिक धर्म चक्र, नींद में व्यवधान, मूड में गड़बड़ी, योनि की चिकनाई में कमी, थकान, योनि अपक्षय और अवसाद को _____ के दौरान देखा जा सकता है।

Options :

1. ✘ रजोदर्शन
2. ✔ रजोनिवृत्ति
3. ✘ मातृत्व
4. ✘ प्रसव

Question Number : 137 Question Id : 9662318173 Question Type : MCQ Option Shuffling : Yes Display Question Number : Yes
Single Line Question Option : No Option Orientation : Vertical

Correct Marks : 1 Wrong Marks : 0.25

The Universal Immunisation Program launched in 1985 focused on immunisation against how many diseases?

Options :

1. ✓ Six
2. ✗ Five
3. ✗ Two
4. ✗ One

Question Number : 137 Question Id : 9662318173 Question Type : MCQ Option Shuffling : Yes Display Question Number : Yes
Single Line Question Option : No Option Orientation : Vertical

Correct Marks : 1 Wrong Marks : 0.25

यूनिवर्सल टीकाकरण कार्यक्रम 1985 में शुरू किया गया था उस समय कितने रोगों के खिलाफ टीकाकरण पर ध्यान केंद्रित किया?

Options :

1. ✓ छह
2. ✗ पांच
3. ✗ दो
4. ✗ एक

Question Number : 138 Question Id : 9662318174 Question Type : MCQ Option Shuffling : Yes Display Question Number : Yes
Single Line Question Option : No Option Orientation : Vertical

Correct Marks : 1 Wrong Marks : 0.25

The abbreviation ASHA, stands for:

Options :

1. ✗ Anganwadi Social Health Advisor
2. ✓ Accredited Social Health Activist
3. ✗ Auxiliary Social Health Advisor
4. ✗ Affiliated Social Health Activist

Question Number : 138 Question Id : 9662318174 Question Type : MCQ Option Shuffling : Yes Display Question Number : Yes
Single Line Question Option : No Option Orientation : Vertical

Correct Marks : 1 Wrong Marks : 0.25

संक्षिप्त नाम आशा (ASHA) का पूरा अर्थ क्या है?

Options :

1. ✘ आंगनवाड़ी सोशल हैल्थ ऐडवाइज़र
2. ✔ एक््रीडिटिड सोशल हैल्थ एक्टिविस्ट
3. ✘ ऑक्सिलिअरी सोशल हैल्थ ऐडवाइज़र
4. ✘ एफिलिएटिड सोशल हैल्थ एक्टिविस्ट

Question Number : 139 Question Id : 9662318175 Question Type : MCQ Option Shuffling : Yes Display Question Number : Yes
Single Line Question Option : No Option Orientation : Vertical

Correct Marks : 1 Wrong Marks : 0.25

A method to identify missing out cases is known as:

Options :

1. ✘ testing
2. ✔ sentinel surveillance
3. ✘ notification
4. ✘ screening

Question Number : 139 Question Id : 9662318175 Question Type : MCQ Option Shuffling : Yes Display Question Number : Yes
Single Line Question Option : No Option Orientation : Vertical

Correct Marks : 1 Wrong Marks : 0.25

गुम मामलों की पहचान करने के लिए एक विधि के रूप में जाना जाता है:

Options :

1. ✘ परिक्षण
2. ✔ प्रहरी निगरानी
3. ✘ अधिसूचना
4. ✘ जाँच

Question Number : 140 Question Id : 9662318176 Question Type : MCQ Option Shuffling : Yes Display Question Number : Yes
Single Line Question Option : No Option Orientation : Vertical

Correct Marks : 1 Wrong Marks : 0.25

When a child weighs below 3rd or 5th centile, failure to gain weight over a period of time or a change in the rate of growth that has crossed two major centiles is referred to as:

Options :

1. ✓ failure to thrive
2. ✘ small to gestational age
3. ✘ constitutional growth delay
4. ✘ skeletal dysplasia

Question Number : 140 Question Id : 9662318176 Question Type : MCQ Option Shuffling : Yes Display Question Number : Yes
Single Line Question Option : No Option Orientation : Vertical

Correct Marks : 1 Wrong Marks : 0.25

जब बच्चे का वजन 3 या 5 प्रतिशत से कम होता है, तो समय के साथ वजन बढ़ने में विफलता या वृद्धि की दर में परिवर्तन जो दो प्रमुख शततमकों को पार कर जाता है उसे निम्न के रूप में क्या संदर्भित किया जाता है?

Options :

1. ✓ पनपने में असफलता
2. ✘ गर्भावधि उम्र के लिए छोटा
3. ✘ शारीरिक विकास में देरी
4. ✘ कंकाल डिसप्लेसिया (असामान्य विकास या असामान्य संरचना)

Group Number :	8
Group Id :	966231201
Group Maximum Duration :	0
Group Minimum Duration :	0
Revisit allowed for view? :	No
Revisit allowed for edit? :	No
Break time:	0
Group Marks:	20
Revisit allowed for group Instructions? :	Yes
Maximum Instruction Time:	0
Minimum Instruction Time:	0

Section Id :	966231316
Section Number :	1
Section type :	Online
Mandatory or Optional:	Mandatory
Number of Questions:	20

Number of Questions to be attempted: 20
Section Marks: 20
Display Number Panel: Yes
Group All Questions: No

Sub-Section Number: 1
Sub-Section Id: 966231352
Question Shuffling Allowed : Yes

Question Number : 141 Question Id : 9662318177 Question Type : MCQ Option Shuffling : Yes Display Question Number : Yes
Single Line Question Option : No Option Orientation : Vertical
Correct Marks : 1 Wrong Marks : 0.25

The premature fusion of one or more cranial sutures, either major or minor is called:

Options :

1. ✘ microcephaly
2. ✔ craniosynostosis
3. ✘ macrocephaly
4. ✘ hydrocephalus

Question Number : 141 Question Id : 9662318177 Question Type : MCQ Option Shuffling : Yes Display Question Number : Yes
Single Line Question Option : No Option Orientation : Vertical
Correct Marks : 1 Wrong Marks : 0.25

या तो एक या अधिक कपाल सीवन के प्रमुख या मामूली समयपूर्व संलयन को क्या कहा जाता है?

Options :

1. ✘ मायक्रोसेफली
2. ✔ क्रॅनोओसिनोस्टोसिस
3. ✘ मॅक्रोसेफली
4. ✘ हायड्रोसेफलस

Question Number : 142 Question Id : 9662318178 Question Type : MCQ Option Shuffling : Yes Display Question Number : Yes
Single Line Question Option : No Option Orientation : Vertical
Correct Marks : 1 Wrong Marks : 0.25

By assessment, one can assign developmental quotient (DQ) for any developmental sphere. It is calculated as the:

Options :

1. ✘ $\text{average age at attainment} + \text{obtained age at attainment} \times 100$

2. ✘ average age at attainment - obtained age at attainment $\times 100$
3. ✔ average age at attainment by obtained age at attainment $\times 100$
4. ✘ average age at attainment by obtained age at attainment

Question Number : 142 Question Id : 9662318178 Question Type : MCQ Option Shuffling : Yes Display Question Number : Yes
Single Line Question Option : No Option Orientation : Vertical

Correct Marks : 1 Wrong Marks : 0.25

मूल्यांकन के द्वारा, किसी भी विकासात्मक क्षेत्र के लिए विकासात्मक भागफल (DQ) निर्दिष्ट किया जा सकता है। इसकी गणना इस प्रकार की जाती है?

Options :

1. ✘ एक निश्चित स्तर पर औसत आयु + एक निश्चित स्तर पर प्राप्त आयु $\times 100$
2. ✘ एक निश्चित स्तर पर औसत आयु - एक निश्चित स्तर पर प्राप्त आयु $\times 100$
3. ✔ एक निश्चित स्तर पर औसत आयु बटा में एक निश्चित स्तर पर प्राप्त आयु $\times 100$
4. ✘ एक निश्चित स्तर पर औसत आयु बटा में एक निश्चित स्तर पर प्राप्त आयु

Question Number : 143 Question Id : 9662318179 Question Type : MCQ Option Shuffling : Yes Display Question Number : Yes
Single Line Question Option : No Option Orientation : Vertical

Correct Marks : 1 Wrong Marks : 0.25

Foetal growth below the 10th percentile in terms of weight, length, or head circumference based on standardised gestational rates is called:

Options :

1. ✔ intrauterine growth restriction
2. ✘ delayed development
3. ✘ dwarfism
4. ✘ short stature

Question Number : 143 Question Id : 9662318179 Question Type : MCQ Option Shuffling : Yes Display Question Number : Yes
Single Line Question Option : No Option Orientation : Vertical

Correct Marks : 1 Wrong Marks : 0.25

मानकीकृत गर्भकालीन दरों के आधार पर वजन, लंबाई, या सिर परिधि के मामले में 10 वें शततमक से नीचे भ्रूण की वृद्धि को _____ कहा जाता है।

Options :

1. ✓ अंतर - गर्भाशय वृद्धि अवरोध
2. ✗ विलंबित विकास
3. ✗ बौनापन
4. ✗ छोटा कद

Question Number : 144 Question Id : 9662318180 Question Type : MCQ Option Shuffling : Yes Display Question Number : Yes
Single Line Question Option : No Option Orientation : Vertical
Correct Marks : 1 Wrong Marks : 0.25

Which of the following is NOT indicated by increased pulmonary blood flow that is left to right shunting?

Options :

1. ✗ Atrial septal defect (ASD)
2. ✗ Ventricular septal defect (VSD)
3. ✗ Patent ductus arteriosus (PDA)
4. ✓ Tetralogy of Fallot (TOF)

Question Number : 144 Question Id : 9662318180 Question Type : MCQ Option Shuffling : Yes Display Question Number : Yes
Single Line Question Option : No Option Orientation : Vertical
Correct Marks : 1 Wrong Marks : 0.25

निम्नलिखित में से कौन बड़ा हुआ फुफ्फुसीय रक्त प्रवाह द्वारा इंगित नहीं है जो बाएं से दाएं शंटिंग करता है?

Options :

1. ✗ आलिंद सेप्टल दोष (एएसडी)
2. ✗ वेंट्रिकुलर सेप्टल दोष (वीएसडी)
3. ✗ पेटेंट डक्टस आर्टेरियोसस (पीडीए)
4. ✓ फैलोट की टेट्रालॉजी (टीओएफ)

Question Number : 145 Question Id : 9662318181 Question Type : MCQ Option Shuffling : Yes Display Question Number : Yes
Single Line Question Option : No Option Orientation : Vertical
Correct Marks : 1 Wrong Marks : 0.25

The phenomenon where a newborn has an excessive birthweight of more than 4,000 g is called:

Options :

- ✘ microsomia
- ✔ macrosomia
- ✘ macrocephaly
- ✘ microcephaly

Question Number : 145 Question Id : 9662318181 Question Type : MCQ Option Shuffling : Yes Display Question Number : Yes
Single Line Question Option : No Option Orientation : Vertical

Correct Marks : 1 Wrong Marks : 0.25

वह घटना क्या कहलाती है जहां नवजात शिशु का जन्मजात वजन 4,000 ग्राम से अधिक हो?

Options :

- ✘ माइक्रोसोमिया
- ✔ मैक्रोसोमिया
- ✘ मैक्रोसेफली
- ✘ माइक्रोसेफली

Question Number : 146 Question Id : 9662318182 Question Type : MCQ Option Shuffling : Yes Display Question Number : Yes
Single Line Question Option : No Option Orientation : Vertical

Correct Marks : 1 Wrong Marks : 0.25

Name the condition in which, bleeding usually originates in the subependymal germinal matrix region of the brain, with extension into the ventricular system.

Options :

- ✔ Periventricular haemorrhage
- ✘ Retinopathy of prematurity
- ✘ Leukomalacia
- ✘ Necrotising enterocolitis

Question Number : 146 Question Id : 9662318182 Question Type : MCQ Option Shuffling : Yes Display Question Number : Yes
Single Line Question Option : No Option Orientation : Vertical

Correct Marks : 1 Wrong Marks : 0.25

उस स्थिति का नाम बताइए, जिसमें रक्तस्राव आमतौर पर मस्तिष्क के उप-निर्भर जर्मिनल मैट्रिक्स क्षेत्र में होता है, निलय प्रणाली में विस्तार के साथ।

Options :

1. ✓ पेरीव्हेंट्रिक्युलर रक्तस्राव
2. ✗ समयपूर्वता का रेटिनोपैथी
3. ✗ ल्युकोमालासिया
4. ✗ नेक्रोटिझिंग एन्टरोकॉलिटिस

Question Number : 147 Question Id : 9662318183 Question Type : MCQ Option Shuffling : Yes Display Question Number : Yes
Single Line Question Option : No Option Orientation : Vertical
Correct Marks : 1 Wrong Marks : 0.25

Bronchopulmonary dysplasia is currently referred to as

Options :

1. ✗ acute lung disease
2. ✓ chronic lung disease
3. ✗ bronchitis
4. ✗ bronchiectasis

Question Number : 147 Question Id : 9662318183 Question Type : MCQ Option Shuffling : Yes Display Question Number : Yes
Single Line Question Option : No Option Orientation : Vertical
Correct Marks : 1 Wrong Marks : 0.25

ब्रॉकोपुलमोनरी डिस्प्लाशिया को वर्तमान में क्या कहा जाता है?

Options :

1. ✗ तीव्र फेफड़ों की बीमारी
2. ✓ पुरानी फेफड़ों की बीमारी
3. ✗ ब्रॉकाइटिस
4. ✗ ब्रॉन्किइक्टेसिस

Question Number : 148 Question Id : 9662318184 Question Type : MCQ Option Shuffling : Yes Display Question Number : Yes
Single Line Question Option : No Option Orientation : Vertical
Correct Marks : 1 Wrong Marks : 0.25

A breathing disorder resulting from lung immaturity and lack of alveolar surfactant is known as:

Options :

1. ✘ ischemic hypoxia
2. ✘ transient tachypnea of the newborn
3. ✔ respiratory distress syndrome
4. ✘ cyanosis

Question Number : 148 Question Id : 9662318184 Question Type : MCQ Option Shuffling : Yes Display Question Number : Yes
Single Line Question Option : No Option Orientation : Vertical

Correct Marks : 1 Wrong Marks : 0.25

फेफड़े की अपरिपक्वता और वायुकोशीय सर्फैक्टेंट की कमी के कारण होने वाले श्वास विकार को क्या कहा जाता है?

Options :

1. ✘ इस्केमिक हाइपोक्सिया
2. ✘ नवजात शिशु के क्षणिक क्षिप्रहृदयता
3. ✔ श्वसन संकट सिंड्रोम
4. ✘ सायनोसिस

Question Number : 149 Question Id : 9662318185 Question Type : MCQ Option Shuffling : Yes Display Question Number : Yes
Single Line Question Option : No Option Orientation : Vertical

Correct Marks : 1 Wrong Marks : 0.25

The condition that occurs, when oxygen delivery is insufficient to meet metabolic demands is called:

Options :

1. ✘ compression
2. ✘ acidosis
3. ✘ prolapse
4. ✔ asphyxia

Question Number : 149 Question Id : 9662318185 Question Type : MCQ Option Shuffling : Yes Display Question Number : Yes
Single Line Question Option : No Option Orientation : Vertical

Correct Marks : 1 Wrong Marks : 0.25

जब ऑक्सीजन की डिलीवरी चयापचय की मांग को पूरा करने के लिए अपर्याप्त है, तो होने वाली स्थिति को क्या कहा जाता है?

Options :

1. ✘ दबाव
2. ✘ एसिडोसिस
3. ✘ आगे को बढ़ाव
4. ✔ दम घटना

Question Number : 150 Question Id : 9662318186 Question Type : MCQ Option Shuffling : Yes Display Question Number : Yes
Single Line Question Option : No Option Orientation : Vertical

Correct Marks : 1 Wrong Marks : 0.25

Which of the following is an example of gram negative bacteria?

Options :

1. ✘ Staphylococcus
2. ✘ Streptococcus
3. ✘ Clostridium
4. ✔ Salmonella

Question Number : 150 Question Id : 9662318186 Question Type : MCQ Option Shuffling : Yes Display Question Number : Yes
Single Line Question Option : No Option Orientation : Vertical

Correct Marks : 1 Wrong Marks : 0.25

निम्नलिखित में से कौन सा, ग्राम नकारात्मक जीवाणुओं का उदाहरण है?

Options :

1. ✘ स्टेफिलोकोकस
2. ✘ स्ट्रेपटोकोकस
3. ✘ क्लोस्ट्रीडियम
4. ✔ साल्मोनेला

Question Number : 151 Question Id : 9662318187 Question Type : MCQ Option Shuffling : Yes Display Question Number : Yes
Single Line Question Option : No Option Orientation : Vertical

Correct Marks : 1 Wrong Marks : 0.25

The cell wall deficient bacteria is:

Options :

1. mycoplasma
2. vibrios
3. actinomycetes
4. spirochetes

Question Number : 151 Question Id : 9662318187 Question Type : MCQ Option Shuffling : Yes Display Question Number : Yes
Single Line Question Option : No Option Orientation : Vertical

Correct Marks : 1 Wrong Marks : 0.25

सेल दीवार की कमी वाले बैक्टीरिया क्या हैं?

Options :

1. माइकोप्लाज़्मा
2. व्हायब्रिओस
3. अँक्टिनोमायसेट्स
4. स्पाइरोकेटस

Question Number : 152 Question Id : 9662318188 Question Type : MCQ Option Shuffling : Yes Display Question Number : Yes
Single Line Question Option : No Option Orientation : Vertical

Correct Marks : 1 Wrong Marks : 0.25

The organ of adhesion is:

Options :

1. flagella
2. fimbriae
3. nucleus
4. mitochondria

Question Number : 152 Question Id : 9662318188 Question Type : MCQ Option Shuffling : Yes Display Question Number : Yes
Single Line Question Option : No Option Orientation : Vertical

Correct Marks : 1 Wrong Marks : 0.25

आसंजन का अंग क्या है?

Options :

1. ✘ फल्लजेला
2. ✔ फिंब्रिया
3. ✘ नाभिक
4. ✘ माइटोकॉन्ड्रिया

Question Number : 153 Question Id : 9662318189 Question Type : MCQ Option Shuffling : Yes Display Question Number : Yes
Single Line Question Option : No Option Orientation : Vertical

Correct Marks : 1 Wrong Marks : 0.25

Difficulty in breathing is called:

Options :

1. ✔ dyspnea
2. ✘ apnoea
3. ✘ bradypnoea
4. ✘ tachypnoea

Question Number : 153 Question Id : 9662318189 Question Type : MCQ Option Shuffling : Yes Display Question Number : Yes
Single Line Question Option : No Option Orientation : Vertical

Correct Marks : 1 Wrong Marks : 0.25

सांस लेने में कठिनाई को क्या कहा जाता है?

Options :

1. ✔ श्वास कष्ट
2. ✘ एपनिया
3. ✘ ब्रेडीपनिया
4. ✘ टैकीपनिया

Question Number : 154 Question Id : 9662318190 Question Type : MCQ Option Shuffling : Yes Display Question Number : Yes
Single Line Question Option : No Option Orientation : Vertical

Correct Marks : 1 Wrong Marks : 0.25

Fluid accumulation in tissues is called:

Options :

1. ✓ oedema
2. ✗ carcinoma
3. ✗ pleural effusion
4. ✗ ascites

Question Number : 154 Question Id : 9662318190 Question Type : MCQ Option Shuffling : Yes Display Question Number : Yes
Single Line Question Option : No Option Orientation : Vertical

Correct Marks : 1 Wrong Marks : 0.25

ऊतकों में द्रव संचय को क्या कहा जाता है?

Options :

1. ✓ शोफ
2. ✗ कार्सिनोमा
3. ✗ फुफ्फुस बहाव
4. ✗ जलोदर

Question Number : 155 Question Id : 9662318191 Question Type : MCQ Option Shuffling : Yes Display Question Number : Yes
Single Line Question Option : No Option Orientation : Vertical

Correct Marks : 1 Wrong Marks : 0.25

Normal blood pressure is considered to be:

Options :

1. ✗ 150/100 mm Hg
2. ✓ 120/80 mm Hg
3. ✗ 50/40 mm Hg
4. ✗ 160/90 mm Hg

Question Number : 155 Question Id : 9662318191 Question Type : MCQ Option Shuffling : Yes Display Question Number : Yes
Single Line Question Option : No Option Orientation : Vertical

Correct Marks : 1 Wrong Marks : 0.25

सामान्य रक्तचाप को क्या माना जाता है?

Options :

1. ✘ 150/100 एमएम एचजी
2. ✔ 120/80 एमएम एचजी
3. ✘ 50/40 एमएम एचजी
4. ✘ 160/90 एमएम एचजी

Question Number : 156 Question Id : 9662318192 Question Type : MCQ Option Shuffling : Yes Display Question Number : Yes
Single Line Question Option : No Option Orientation : Vertical

Correct Marks : 1 Wrong Marks : 0.25

Gaseous exchange takes place in the:

Options :

1. ✘ nose
2. ✘ trachea
3. ✘ bronchus
4. ✔ alveoli

Question Number : 156 Question Id : 9662318192 Question Type : MCQ Option Shuffling : Yes Display Question Number : Yes
Single Line Question Option : No Option Orientation : Vertical

Correct Marks : 1 Wrong Marks : 0.25

गैसीय विनिमय _____ में होता है।

Options :

1. ✘ नाक
2. ✘ ट्रेकिआ
3. ✘ श्वसनी
4. ✔ एल्वियोली

Question Number : 157 Question Id : 9662318193 Question Type : MCQ Option Shuffling : Yes Display Question Number : Yes
Single Line Question Option : No Option Orientation : Vertical

Correct Marks : 1 Wrong Marks : 0.25

Alpha 1 antitrypsin deficiency leads to:

Options :

1. ✘ bronchiectasis

2. ✘ bronchitis
3. ✔ emphysema
4. ✘ pulmonary oedema

Question Number : 157 Question Id : 9662318193 Question Type : MCQ Option Shuffling : Yes Display Question Number : Yes
Single Line Question Option : No Option Orientation : Vertical
Correct Marks : 1 Wrong Marks : 0.25

अल्फा 1 एंटीट्रिप्सिन की कमी से क्या होता है?

Options :

1. ✘ ब्रॉन्किइक्टेसिस
2. ✘ ब्रॉकाइटिस
3. ✔ वातस्फीति
4. ✘ फेफड़ों की सूजन

Question Number : 158 Question Id : 9662318194 Question Type : MCQ Option Shuffling : Yes Display Question Number : Yes
Single Line Question Option : No Option Orientation : Vertical
Correct Marks : 1 Wrong Marks : 0.25

In gout, there is an accumulation of crystals in the joints, which are made of:

Options :

1. ✘ calcium
2. ✔ uric acid
3. ✘ ammonia
4. ✘ magnesium

Question Number : 158 Question Id : 9662318194 Question Type : MCQ Option Shuffling : Yes Display Question Number : Yes
Single Line Question Option : No Option Orientation : Vertical
Correct Marks : 1 Wrong Marks : 0.25

गाउट में, क्रिस्टल का संचय जोड़ों में होता है, जो निम्न से बने होते हैं:

Options :

1. ✘ कैल्शियम

2. ✓ यूरिक एसिड

3. ✗ अमोनिया

4. ✗ मैग्नीशियम

Question Number : 159 Question Id : 9662318195 Question Type : MCQ Option Shuffling : Yes Display Question Number : Yes
Single Line Question Option : No Option Orientation : Vertical

Correct Marks : 1 Wrong Marks : 0.25

Pain at Mcburney's point is seen in:

Options :

1. ✗ gastritis

2. ✓ appendicitis

3. ✗ cholecystitis

4. ✗ arthritis

Question Number : 159 Question Id : 9662318195 Question Type : MCQ Option Shuffling : Yes Display Question Number : Yes
Single Line Question Option : No Option Orientation : Vertical

Correct Marks : 1 Wrong Marks : 0.25

मॅकबर्नी के बिंदु पर दर्द को _____ में देखा जाता है।

Options :

1. ✗ जठरशोथ

2. ✓ उण्डुक-शोथ (अपेन्डिसाइटिस)

3. ✗ पित्ताशय की सूजन

4. ✗ गठिया

Question Number : 160 Question Id : 9662318196 Question Type : MCQ Option Shuffling : Yes Display Question Number : Yes
Single Line Question Option : No Option Orientation : Vertical

Correct Marks : 1 Wrong Marks : 0.25

Which of the following is NOT a sign of dehydration?

Options :

1. ✗ Decreased urine output

2. ✘ Dry skin
3. ✘ Hypotension
4. ✔ Increased skin turgor

Question Number : 160 Question Id : 9662318196 Question Type : MCQ Option Shuffling : Yes Display Question Number : Yes
Single Line Question Option : No Option Orientation : Vertical

Correct Marks : 1 Wrong Marks : 0.25

निम्न में से कौन निर्जलीकरण का संकेत नहीं है?

Options :

1. ✘ मूत्र उत्पादन में कमी
2. ✘ रूखी त्वचा
3. ✘ अल्प रक्त-चाप
4. ✔ त्वचा स्फीत (फूला हुआ) में वृद्धि

Discipline4

Group Number :	9
Group Id :	966231202
Group Maximum Duration :	0
Group Minimum Duration :	0
Revisit allowed for view? :	No
Revisit allowed for edit? :	No
Break time:	0
Group Marks:	20
Revisit allowed for group Instructions? :	Yes
Maximum Instruction Time:	0
Minimum Instruction Time:	0

Discipline4

Section Id :	966231317
Section Number :	1
Section type :	Online
Mandatory or Optional:	Mandatory
Number of Questions:	20
Number of Questions to be attempted:	20
Section Marks:	20
Display Number Panel:	Yes
Group All Questions:	No

Sub-Section Number: 1
Sub-Section Id: 966231353
Question Shuffling Allowed : Yes

Question Number : 161 Question Id : 9662318197 Question Type : MCQ Option Shuffling : Yes Display Question Number : Yes
Single Line Question Option : No Option Orientation : Vertical
Correct Marks : 1 Wrong Marks : 0.25

Colonoscopy is done to view the:

Options :

1. ✘ stomach
2. ✘ pancreas
3. ✔ large intestine
4. ✘ lungs

Question Number : 161 Question Id : 9662318197 Question Type : MCQ Option Shuffling : Yes Display Question Number : Yes
Single Line Question Option : No Option Orientation : Vertical
Correct Marks : 1 Wrong Marks : 0.25

कोलोноस्कोपी को क्या देखने के लिए किया जाता है?

Options :

1. ✘ पेट
2. ✘ अग्न्याशय
3. ✔ बड़ी आँत
4. ✘ फेफड़ों

Question Number : 162 Question Id : 9662318198 Question Type : MCQ Option Shuffling : Yes Display Question Number : Yes
Single Line Question Option : No Option Orientation : Vertical
Correct Marks : 1 Wrong Marks : 0.25

Hypothyroidism in adults is called:

Options :

1. ✘ cretinism
2. ✔ myxedema
3. ✘ Grave's disease

4. ✘ Addison's disease

Question Number : 162 Question Id : 9662318198 Question Type : MCQ Option Shuffling : Yes Display Question Number : Yes
Single Line Question Option : No Option Orientation : Vertical

Correct Marks : 1 Wrong Marks : 0.25

वयस्कों में हाइपोथायरायडिज्म को क्या कहा जाता है?

Options :

1. ✘ बौनापन

2. ✔ मायक्सेडेमा

3. ✘ ग्रेव रोग (Graves' disease)

4. ✘ एडिसन रोग

Question Number : 163 Question Id : 9662318199 Question Type : MCQ Option Shuffling : Yes Display Question Number : Yes
Single Line Question Option : No Option Orientation : Vertical

Correct Marks : 1 Wrong Marks : 0.25

Deficiency of the antidiuretic hormone leads to:

Options :

1. ✘ diabetes mellitus

2. ✔ diabetes insipidus

3. ✘ ketoacidosis

4. ✘ pellagra

Question Number : 163 Question Id : 9662318199 Question Type : MCQ Option Shuffling : Yes Display Question Number : Yes
Single Line Question Option : No Option Orientation : Vertical

Correct Marks : 1 Wrong Marks : 0.25

एंटीडायरेक्टिक हार्मोन की कमी के फलस्वरूप क्या होता है?

Options :

1. ✘ मधुमेह मेलिटस

2. ✔ मधुमेह इंसीपीडिस

3. ✘ कीटोएसिडोसिस

4. ✘ पेलेग्रा

Question Number : 164 Question Id : 9662318200 Question Type : MCQ Option Shuffling : Yes Display Question Number : Yes
Single Line Question Option : No Option Orientation : Vertical

Correct Marks : 1 Wrong Marks : 0.25

A cystometrogram is done to assess the function of the:

Options :

1. ✘ lungs
2. ✔ urinary bladder
3. ✘ gall bladder
4. ✘ prostate

Question Number : 164 Question Id : 9662318200 Question Type : MCQ Option Shuffling : Yes Display Question Number : Yes
Single Line Question Option : No Option Orientation : Vertical

Correct Marks : 1 Wrong Marks : 0.25

सिस्टोमेट्रोग्राम को _____ का कार्य मूल्यांकन करने के लिए क्या किया जाता है।

Options :

1. ✘ फेफड़ों
2. ✔ मूत्राशय
3. ✘ पित्ताशय
4. ✘ पौरुष ग्रंथि

Question Number : 165 Question Id : 9662318201 Question Type : MCQ Option Shuffling : Yes Display Question Number : Yes
Single Line Question Option : No Option Orientation : Vertical

Correct Marks : 1 Wrong Marks : 0.25

In the case of burns, the involvement of the epidermis only comes under:

Options :

1. ✔ first degree
2. ✘ second degree
3. ✘ third degree

4. ✘ fourth degree

Question Number : 165 Question Id : 9662318201 Question Type : MCQ Option Shuffling : Yes Display Question Number : Yes
Single Line Question Option : No Option Orientation : Vertical

Correct Marks : 1 Wrong Marks : 0.25

जलने के मामले में, एपिडमिंस की भागीदारी _____ के तहत आती है।

Options :

1. ✔ प्रथम श्रेणी

2. ✘ दूसरी श्रेणी

3. ✘ तीसरा श्रेणी

4. ✘ चौथा श्रेणी

Question Number : 166 Question Id : 9662318202 Question Type : MCQ Option Shuffling : Yes Display Question Number : Yes
Single Line Question Option : No Option Orientation : Vertical

Correct Marks : 1 Wrong Marks : 0.25

Which of the following statements is correct?

Options :

1. ✘ Sociology is a natural science

2. ✘ Sociology is a biological science

3. ✘ Sociology is an applied science

4. ✔ Sociology is a social science

Question Number : 166 Question Id : 9662318202 Question Type : MCQ Option Shuffling : Yes Display Question Number : Yes
Single Line Question Option : No Option Orientation : Vertical

Correct Marks : 1 Wrong Marks : 0.25

निम्नलिखित कथनों में से कौन सही है?

Options :

1. ✘ समाजशास्त्र एक प्राकृतिक विज्ञान है

2. ✘ समाजशास्त्र एक जैविक विज्ञान है

3. ✘ समाजशास्त्र एक अनुप्रयुक्त विज्ञान है

4. ✓ समाजशास्त्र एक सामाजिक विज्ञान है

Question Number : 167 Question Id : 9662318203 Question Type : MCQ Option Shuffling : Yes Display Question Number : Yes
Single Line Question Option : No Option Orientation : Vertical

Correct Marks : 1 Wrong Marks : 0.25

Name the term that is concerned with good and evil:

Options :

1. ✗ law

2. ✓ morality

3. ✗ religion

4. ✗ culture

Question Number : 167 Question Id : 9662318203 Question Type : MCQ Option Shuffling : Yes Display Question Number : Yes
Single Line Question Option : No Option Orientation : Vertical

Correct Marks : 1 Wrong Marks : 0.25

उस शब्द का नाम बताइए जो अच्छे और बुरे से संबंधित है:

Options :

1. ✗ कानून

2. ✓ नैतिकता

3. ✗ धर्म

4. ✗ संस्कृति

Question Number : 168 Question Id : 9662318204 Question Type : MCQ Option Shuffling : Yes Display Question Number : Yes
Single Line Question Option : No Option Orientation : Vertical

Correct Marks : 1 Wrong Marks : 0.25

Which of the following is NOT a vital indicator for health?

Options :

1. ✗ Mortality indicators

2. ✗ Morbidity indicators

3. ✗ Disability indicators

4. ✓ Health policy indicators

Question Number : 168 Question Id : 9662318204 Question Type : MCQ Option Shuffling : Yes Display Question Number : Yes
Single Line Question Option : No Option Orientation : Vertical

Correct Marks : 1 Wrong Marks : 0.25

निम्नलिखित में से कौन सा स्वास्थ्य के लिए महत्वपूर्ण संकेतक नहीं है?

Options :

1. ✗ मृत्यु दर संकेतक
2. ✗ रुग्णता संकेतक
3. ✗ विकलांगता संकेतक
4. ✓ स्वास्थ्य नीति संकेतक

Question Number : 169 Question Id : 9662318205 Question Type : MCQ Option Shuffling : Yes Display Question Number : Yes
Single Line Question Option : No Option Orientation : Vertical

Correct Marks : 1 Wrong Marks : 0.25

Disability limitation and rehabilitation comes under:

Options :

1. ✗ primary prevention
2. ✗ secondary prevention
3. ✓ tertiary prevention
4. ✗ specific protection

Question Number : 169 Question Id : 9662318205 Question Type : MCQ Option Shuffling : Yes Display Question Number : Yes
Single Line Question Option : No Option Orientation : Vertical

Correct Marks : 1 Wrong Marks : 0.25

विकलांगता सीमा और पुनर्वास, _____ के अंतर्गत आते हैं।

Options :

1. ✗ प्राथमिक निवारण
2. ✗ द्वितीयक निवारण
3. ✓ तृतीयक निवारण

4. ✖ विशिष्ट सुरक्षा

Question Number : 170 Question Id : 9662318206 Question Type : MCQ Option Shuffling : Yes Display Question Number : Yes Single Line Question Option : No Option Orientation : Vertical

Correct Marks : 1 Wrong Marks : 0.25

Which of the following, is NOT a determinant in epidemiological triad:

Options :

1. ✖ environment
2. ✖ host
3. ✖ agent
4. ✓ time

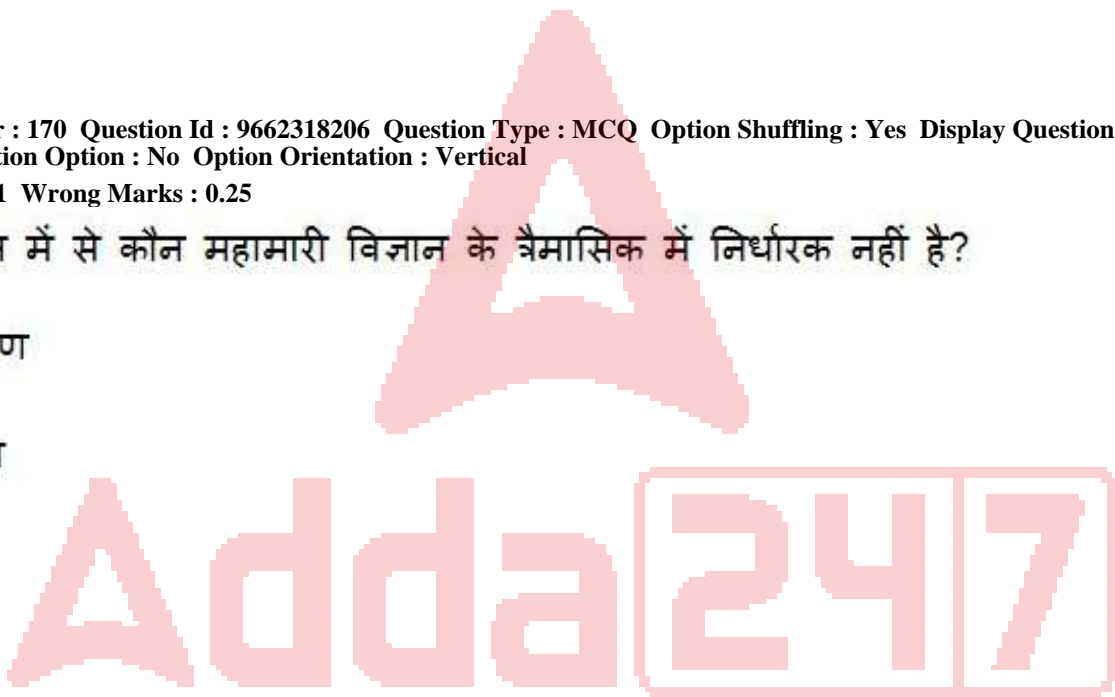
Question Number : 170 Question Id : 9662318206 Question Type : MCQ Option Shuffling : Yes Display Question Number : Yes Single Line Question Option : No Option Orientation : Vertical

Correct Marks : 1 Wrong Marks : 0.25

निम्नलिखित में से कौन महामारी विज्ञान के त्रैमासिक में निर्धारक नहीं है?

Options :

1. ✖ वातावरण
2. ✖ मेज़बान
3. ✖ एजेंट
4. ✓ समय



Question Number : 171 Question Id : 9662318207 Question Type : MCQ Option Shuffling : Yes Display Question Number : Yes Single Line Question Option : No Option Orientation : Vertical

Correct Marks : 1 Wrong Marks : 0.25

Which of the following one is an example for ground water?

Options :

1. ✖ Rain water
2. ✓ Springs
3. ✖ Ponds and tanks
4. ✖ River and streams

Question Number : 171 Question Id : 9662318207 Question Type : MCQ Option Shuffling : Yes Display Question Number : Yes
Single Line Question Option : No Option Orientation : Vertical

Correct Marks : 1 Wrong Marks : 0.25

निम्नलिखित में से कौन सा भूजल के लिए एक उदाहरण है?

Options :

1. ✘ वर्षा का पानी
2. ✔ झरने
3. ✘ तालाब और टंकी
4. ✘ नदी और नाले

Question Number : 172 Question Id : 9662318208 Question Type : MCQ Option Shuffling : Yes Display Question Number : Yes
Single Line Question Option : No Option Orientation : Vertical

Correct Marks : 1 Wrong Marks : 0.25

Which of the following falls under experimental study?

Options :

1. ✘ Cross-sectional study
2. ✘ Case report and case series
3. ✘ Correlation/ecological study
4. ✔ Clinical trial

Question Number : 172 Question Id : 9662318208 Question Type : MCQ Option Shuffling : Yes Display Question Number : Yes
Single Line Question Option : No Option Orientation : Vertical

Correct Marks : 1 Wrong Marks : 0.25

प्रायोगिक अध्ययन के तहत निम्नलिखित में से कौन सा आता है?

Options :

1. ✘ पार अनुभागीय अध्ययन
2. ✘ केस रिपोर्ट और केस श्रृंखला
3. ✘ सहसंबंध / पारिस्थितिक अध्ययन
4. ✔ नैदानिक परीक्षण

Question Number : 173 Question Id : 9662318209 Question Type : MCQ Option Shuffling : Yes Display Question Number : Yes
Single Line Question Option : No Option Orientation : Vertical

Correct Marks : 1 Wrong Marks : 0.25

The disease known as plague was transmitted to humans by:

Options :

1. ✘ mosquitoes
2. ✔ rat fleas
3. ✘ flies
4. ✘ bugs

Question Number : 173 Question Id : 9662318209 Question Type : MCQ Option Shuffling : Yes Display Question Number : Yes
Single Line Question Option : No Option Orientation : Vertical

Correct Marks : 1 Wrong Marks : 0.25

मनुष्यों में प्लेग के रूप में जाना जाने वाला रोग इसके द्वारा फैलता है?

Options :

1. ✘ मच्छरों
2. ✔ चूहा पिस्सू
3. ✘ मक्खियों
4. ✘ कीड़े



Question Number : 174 Question Id : 9662318210 Question Type : MCQ Option Shuffling : Yes Display Question Number : Yes
Single Line Question Option : No Option Orientation : Vertical

Correct Marks : 1 Wrong Marks : 0.25

If the socioeconomic status is measured using the modified Kuppuswamy scale (if a family is said to be an upper middle class family), then the scores should lie in the range between:

Options :

1. ✘ 30 - 32
2. ✘ 26 - 29
3. ✔ 16 - 25
4. ✘ 11 - 15

Question Number : 174 Question Id : 9662318210 Question Type : MCQ Option Shuffling : Yes Display Question Number : Yes
Single Line Question Option : No Option Orientation : Vertical

Correct Marks : 1 Wrong Marks : 0.25

यदि संशोधित कुप्पुस्वामी पैमाने (यदि एक परिवार को एक उच्च मध्यम वर्गीय परिवार कहा जाता है) का उपयोग करके सामाजिक आर्थिक स्थिति को मापा जाता है, तो स्कोर को _____ की सीमा में होना चाहिए।

Options :

1. ✘ 30 - 32
2. ✘ 26 - 29
3. ✔ 16 - 25
4. ✘ 11 - 15

Question Number : 175 Question Id : 9662318211 Question Type : MCQ Option Shuffling : Yes Display Question Number : Yes
Single Line Question Option : No Option Orientation : Vertical

Correct Marks : 1 Wrong Marks : 0.25

The dissemination of microbial aerosols to a suitable portal of entry, usually the respiratory tract, is called:

Options :

1. ✘ vector-borne
2. ✘ vehicle-borne
3. ✔ air-borne
4. ✘ water-borne

Question Number : 175 Question Id : 9662318211 Question Type : MCQ Option Shuffling : Yes Display Question Number : Yes
Single Line Question Option : No Option Orientation : Vertical

Correct Marks : 1 Wrong Marks : 0.25

प्रवेश के उपयुक्त पोर्टल, आमतौर पर श्वसन पथ में माइक्रोबियल एरोसोल के प्रसार को क्या कहा जाता है?

Options :

1. ✘ वेक्टर जनित
2. ✘ वाहन जनित
3. ✔ वायु जनित
4. ✘ जल जनित

Question Number : 176 Question Id : 9662318212 Question Type : MCQ Option Shuffling : Yes Display Question Number : Yes
Single Line Question Option : No Option Orientation : Vertical

Correct Marks : 1 Wrong Marks : 0.25

Which of the following diseases is caused by bacterial infections?

Options :

1. ✘ German measles
2. ✔ Meningococcal meningitis
3. ✘ Influenza
4. ✘ Measles

Question Number : 176 Question Id : 9662318212 Question Type : MCQ Option Shuffling : Yes Display Question Number : Yes Single Line Question Option : No Option Orientation : Vertical

Correct Marks : 1 Wrong Marks : 0.25

जीवाणु संक्रमण के कारण निम्नलिखित में से कौन सी बीमारी होती है?

Options :

1. ✘ जर्मन खसरा
2. ✔ मेनिंगोकोकसल मेनिन्जाइटिस
3. ✘ इन्फ्लुएंजा
4. ✘ खसरा

Question Number : 177 Question Id : 9662318213 Question Type : MCQ Option Shuffling : Yes Display Question Number : Yes Single Line Question Option : No Option Orientation : Vertical

Correct Marks : 1 Wrong Marks : 0.25

The other name of Hansen's disease is:

Options :

1. ✘ gonorrhoea
2. ✘ tuberculosis
3. ✘ syphilis
4. ✔ leprosy

Question Number : 177 Question Id : 9662318213 Question Type : MCQ Option Shuffling : Yes Display Question Number : Yes Single Line Question Option : No Option Orientation : Vertical

Correct Marks : 1 Wrong Marks : 0.25

हैनसेन रोग का दूसरा नाम क्या है?

Options :

1. ✘ गोनोरिया
2. ✘ तपेदिक
3. ✘ उपदंश
4. ✔ कुष्ठ रोग

Question Number : 178 Question Id : 9662318214 Question Type : MCQ Option Shuffling : Yes Display Question Number : Yes
Single Line Question Option : No Option Orientation : Vertical

Correct Marks : 1 Wrong Marks : 0.25

Plasmodium vivax causes:

Options :

1. ✘ dengue
2. ✘ chikungunya fever
3. ✔ malaria
4. ✘ filariasis

Question Number : 178 Question Id : 9662318214 Question Type : MCQ Option Shuffling : Yes Display Question Number : Yes
Single Line Question Option : No Option Orientation : Vertical

Correct Marks : 1 Wrong Marks : 0.25

प्लास्मोडियम विवैक्स के कारण क्या होता है?

Options :

1. ✘ डेंगू
2. ✘ चिकनगुनिया बुखार
3. ✔ मलेरिया
4. ✘ फाइलेरियासिस

Question Number : 179 Question Id : 9662318215 Question Type : MCQ Option Shuffling : Yes Display Question Number : Yes
Single Line Question Option : No Option Orientation : Vertical

Correct Marks : 1 Wrong Marks : 0.25

An example of hormonal methods of contraception is:

Options :

1. ✘ tubectomy
2. ✘ condom
3. ✔ depot formulations
4. ✘ abortion

Question Number : 179 Question Id : 9662318215 Question Type : MCQ Option Shuffling : Yes Display Question Number : Yes
Single Line Question Option : No Option Orientation : Vertical

Correct Marks : 1 Wrong Marks : 0.25

गर्भनिरोधक के हार्मोनल तरीकों का एक उदाहरण क्या है?

Options :

1. ✘ महिला नसबंदी
2. ✘ कंडोम
3. ✔ डिपो सूत्रीकरण
4. ✘ गर्भपात

Question Number : 180 Question Id : 9662318216 Question Type : MCQ Option Shuffling : Yes Display Question Number : Yes
Single Line Question Option : No Option Orientation : Vertical

Correct Marks : 1 Wrong Marks : 0.25

Progesterone antagonist is:

Options :

1. ✘ misoprostol
2. ✔ mifepristone
3. ✘ regesterone
4. ✘ prostaglandins

Question Number : 180 Question Id : 9662318216 Question Type : MCQ Option Shuffling : Yes Display Question Number : Yes
Single Line Question Option : No Option Orientation : Vertical

Correct Marks : 1 Wrong Marks : 0.25

प्रोजेस्टेरोन विरोधी क्या है?

Options :

1. ✘ मिसोप्रोस्टोल
2. ✔ मिफेप्रिस्टोन
3. ✘ रीजेस्टेरॉन
4. ✘ प्रोस्टाग्लॅन्डिन

Discipline5

Group Number :	10
Group Id :	966231203
Group Maximum Duration :	0
Group Minimum Duration :	120
Revisit allowed for view? :	No
Revisit allowed for edit? :	No
Break time:	0
Group Marks:	20
Revisit allowed for group Instructions? :	Yes
Maximum Instruction Time:	0
Minimum Instruction Time:	0

Discipline5

Section Id :	966231318
Section Number :	1
Section type :	Online
Mandatory or Optional:	Mandatory
Number of Questions:	20
Number of Questions to be attempted:	20
Section Marks:	20
Display Number Panel:	Yes
Group All Questions:	No

Sub-Section Number:	1
Sub-Section Id:	966231354
Question Shuffling Allowed :	Yes

Question Number : 181 Question Id : 9662318217 Question Type : MCQ Option Shuffling : Yes Display Question Number : Yes
Single Line Question Option : No Option Orientation : Vertical
Correct Marks : 1 Wrong Marks : 0.25

A history of three or four consecutive spontaneous abortion is called:

Options :

1. ✔ habitual abortion

- 2. ✘ threatened abortion
- 3. ✘ missed abortion
- 4. ✘ incomplete abortion

Question Number : 181 Question Id : 9662318217 Question Type : MCQ Option Shuffling : Yes Display Question Number : Yes
Single Line Question Option : No Option Orientation : Vertical
Correct Marks : 1 Wrong Marks : 0.25

तीन या चार लगातार सहज गर्भपात के इतिहास को क्या कहा जाता है?

Options :

- 1. ✔ अभ्यस्त गर्भपात
- 2. ✘ संभावित गर्भपात
- 3. ✘ विफल गर्भपात
- 4. ✘ अधूरा गर्भपात

Question Number : 182 Question Id : 9662318218 Question Type : MCQ Option Shuffling : Yes Display Question Number : Yes
Single Line Question Option : No Option Orientation : Vertical
Correct Marks : 1 Wrong Marks : 0.25

Salpingectomy is the surgical removal of the:

Options :

- 1. ✘ uterus
- 2. ✔ fallopian tubes
- 3. ✘ ovary
- 4. ✘ kidney

Question Number : 182 Question Id : 9662318218 Question Type : MCQ Option Shuffling : Yes Display Question Number : Yes
Single Line Question Option : No Option Orientation : Vertical
Correct Marks : 1 Wrong Marks : 0.25

सल्पिंगेक्टोमी _____ का सर्जिकल निष्कासन होता है।

Options :

- 1. ✘ गर्भाशय

2. ✓ फैलोपियन ट्यूब

3. ✗ अंडाशय

4. ✗ गुर्दा

Question Number : 183 Question Id : 9662318219 Question Type : MCQ Option Shuffling : Yes Display Question Number : Yes
Single Line Question Option : No Option Orientation : Vertical

Correct Marks : 1 Wrong Marks : 0.25

Hot flashes, disturbed sleep and mood disturbances are seen during the period of:

Options :

1. ✗ gestational diabetes

2. ✗ menarche

3. ✗ ovulation

4. ✓ menopause

Question Number : 183 Question Id : 9662318219 Question Type : MCQ Option Shuffling : Yes Display Question Number : Yes
Single Line Question Option : No Option Orientation : Vertical

Correct Marks : 1 Wrong Marks : 0.25

बुखारवाला ताप, परेशान नींद और मूड की गड़बड़ी को _____ की अवधि के दौरान देखा जाता है।

Options :

1. ✗ गर्भावधि मधुमेह

2. ✗ रजोदर्शन

3. ✗ ओवुलेशन

4. ✓ रजोनिवृत्ति

Question Number : 184 Question Id : 9662318220 Question Type : MCQ Option Shuffling : Yes Display Question Number : Yes
Single Line Question Option : No Option Orientation : Vertical

Correct Marks : 1 Wrong Marks : 0.25

A treponemal test is done to diagnose:

Options :

1. ✗ AIDS

2. ✓ syphilis
3. ✗ gonorrhoea
4. ✗ chlamydiasis

Question Number : 184 Question Id : 9662318220 Question Type : MCQ Option Shuffling : Yes Display Question Number : Yes
Single Line Question Option : No Option Orientation : Vertical

Correct Marks : 1 Wrong Marks : 0.25

ट्रेपोनेमल का परीक्षण _____ का निदान करने के लिए किया जाता है।

Options :

1. ✗ एड्स
2. ✓ उपदंश
3. ✗ गोनोरिया
4. ✗ क्लॅमिडीयसिस

Question Number : 185 Question Id : 9662318221 Question Type : MCQ Option Shuffling : Yes Display Question Number : Yes
Single Line Question Option : No Option Orientation : Vertical

Correct Marks : 1 Wrong Marks : 0.25

Morula is a stage of:

Options :

1. ✗ 24 cells
2. ✗ 20 cells
3. ✓ 16 cells
4. ✗ 32 cells

Question Number : 185 Question Id : 9662318221 Question Type : MCQ Option Shuffling : Yes Display Question Number : Yes
Single Line Question Option : No Option Orientation : Vertical

Correct Marks : 1 Wrong Marks : 0.25

मोरुला _____ का एक चरण है।

Options :

1. ✗ 24 सेल

- 2. ✘ 20 सेल
- 3. ✔ 16 सेल
- 4. ✘ 32 सेल

Question Number : 186 Question Id : 9662318222 Question Type : MCQ Option Shuffling : Yes Display Question Number : Yes
Single Line Question Option : No Option Orientation : Vertical

Correct Marks : 1 Wrong Marks : 0.25

The earlier biochemical marker of pregnancy is:

Options :

- 1. ✘ oestrogen
- 2. ✔ human chorionic gonadotropin
- 3. ✘ progesterone
- 4. ✘ prolactin

Question Number : 186 Question Id : 9662318222 Question Type : MCQ Option Shuffling : Yes Display Question Number : Yes
Single Line Question Option : No Option Orientation : Vertical

Correct Marks : 1 Wrong Marks : 0.25

गर्भावस्था के पहले जैव रासायनिक मार्कर को क्या कहा जाता है?

Options :

- 1. ✘ एस्ट्रोजन
- 2. ✔ ह्यूमन कोरिओनिक गोनाडोट्रोपिन
- 3. ✘ प्रोजेस्टेरोन
- 4. ✘ प्रोलैक्टिन

Question Number : 187 Question Id : 9662318223 Question Type : MCQ Option Shuffling : Yes Display Question Number : Yes
Single Line Question Option : No Option Orientation : Vertical

Correct Marks : 1 Wrong Marks : 0.25

The change that does NOT occur during pregnancy is:

Options :

- 1. ✘ increase in plasma volume

2. ✓ increase in tone in the lower oesophageal sphincter
3. ✗ low haematocrit
4. ✗ haemodilution

Question Number : 187 Question Id : 9662318223 Question Type : MCQ Option Shuffling : Yes Display Question Number : Yes
Single Line Question Option : No Option Orientation : Vertical
Correct Marks : 1 Wrong Marks : 0.25

गर्भावस्था के दौरान जो परिवर्तन नहीं होता है उसे क्या कहा जाता है?

Options :

1. ✗ प्लाज्मा की मात्रा में वृद्धि
2. ✓ निचले अन्ननलिका स्फिन्कटर में टोन में वृद्धि
3. ✗ कम हेमटोक्रिट
4. ✗ रक्तस्राव

Question Number : 188 Question Id : 9662318224 Question Type : MCQ Option Shuffling : Yes Display Question Number : Yes
Single Line Question Option : No Option Orientation : Vertical
Correct Marks : 1 Wrong Marks : 0.25

The characteristic feature of true labour is:

Options :

1. ✗ irregular contractions
2. ✗ pain felt in front of the abdomen
3. ✓ contractions continue irrespective of posture
4. ✗ contractions not getting stronger

Question Number : 188 Question Id : 9662318224 Question Type : MCQ Option Shuffling : Yes Display Question Number : Yes
Single Line Question Option : No Option Orientation : Vertical
Correct Marks : 1 Wrong Marks : 0.25

सच्चे प्रसव की विशेषता यह है:

Options :

1. ✗ अनियमित संकुचन

2. ✘ पेट के सामने दर्द महसूस होना
3. ✔ संकुचन मुद्रा के बावजूद जारी है
4. ✘ संकुचन मजबूत नहीं हो रहे हैं

Question Number : 189 Question Id : 9662318225 Question Type : MCQ Option Shuffling : Yes Display Question Number : Yes
Single Line Question Option : No Option Orientation : Vertical

Correct Marks : 1 Wrong Marks : 0.25

In labour, the separation and expulsion of the placenta comes under the:

Options :

1. ✘ first stage
2. ✘ second stage
3. ✔ third stage
4. ✘ fourth stage

Question Number : 189 Question Id : 9662318225 Question Type : MCQ Option Shuffling : Yes Display Question Number : Yes
Single Line Question Option : No Option Orientation : Vertical

Correct Marks : 1 Wrong Marks : 0.25

प्रसव में, प्लेसेंटा का पृथक्करण और निष्कासन किसके अंतर्गत आता है?

Options :

1. ✘ पहला चरण
2. ✘ दूसरे चरण
3. ✔ तीसरा चरण
4. ✘ चौथा चरण

Question Number : 190 Question Id : 9662318226 Question Type : MCQ Option Shuffling : Yes Display Question Number : Yes
Single Line Question Option : No Option Orientation : Vertical

Correct Marks : 1 Wrong Marks : 0.25

Foetal head visible at the vaginal opening during labour is called:

Options :

1. ✘ Hegar's sign

2. ✓ crowning
3. ✗ Chadwick's sign
4. ✗ hyperemesis

Question Number : 190 Question Id : 9662318226 Question Type : MCQ Option Shuffling : Yes Display Question Number : Yes
Single Line Question Option : No Option Orientation : Vertical

Correct Marks : 1 Wrong Marks : 0.25

प्रसव के दौरान योनि के खुलने पर भ्रूण का सिर दिखाई देने को क्या कहा जाता है?

Options :

1. ✗ हेगर का चिन्ह
2. ✓ क्राऊनिंग
3. ✗ चाडविक का चिन्ह
4. ✗ हाइपरमैसिस

Question Number : 191 Question Id : 9662318227 Question Type : MCQ Option Shuffling : Yes Display Question Number : Yes
Single Line Question Option : No Option Orientation : Vertical

Correct Marks : 1 Wrong Marks : 0.25

The time taken for the involution of the uterus after delivery is:

Options :

1. ✗ 1 week
2. ✗ 2 weeks
3. ✗ 4 weeks
4. ✓ 6 weeks

Question Number : 191 Question Id : 9662318227 Question Type : MCQ Option Shuffling : Yes Display Question Number : Yes
Single Line Question Option : No Option Orientation : Vertical

Correct Marks : 1 Wrong Marks : 0.25

प्रसव के बाद गर्भाशय की सिकुड़न का समय क्या होता है?

Options :

1. ✗ 1 सप्ताह

2. ✘ 2 सप्ताह
3. ✘ 4 सप्ताह
4. ✔ 6 सप्ताह

Question Number : 192 Question Id : 9662318228 Question Type : MCQ Option Shuffling : Yes Display Question Number : Yes Single Line Question Option : No Option Orientation : Vertical

Correct Marks : 1 Wrong Marks : 0.25

Vaginal discharge that occurs after the birth of a baby is called:

Options :

1. ✘ Spinnbarkeit
2. ✘ colostrum
3. ✔ lochia
4. ✘ fern pattern

Question Number : 192 Question Id : 9662318228 Question Type : MCQ Option Shuffling : Yes Display Question Number : Yes Single Line Question Option : No Option Orientation : Vertical

Correct Marks : 1 Wrong Marks : 0.25

शिशु के जन्म के बाद होने वाले योनि स्राव को क्या कहा जाता है?

Options :

1. ✘ स्पिनबारकीट
2. ✘ कोलोस्ट्रम
3. ✔ लोक्रिया
4. ✘ फर्न पैटर्न

Question Number : 193 Question Id : 9662318229 Question Type : MCQ Option Shuffling : Yes Display Question Number : Yes Single Line Question Option : No Option Orientation : Vertical

Correct Marks : 1 Wrong Marks : 0.25

The attitudes, values, interests and appreciations are concerned with:

Options :

1. ✘ cognitive domain

2. ✘ psychomotor domain
3. ✔ affective domain
4. ✘ both psychomotor and cognitive domains

Question Number : 193 Question Id : 9662318229 Question Type : MCQ Option Shuffling : Yes Display Question Number : Yes
Single Line Question Option : No Option Orientation : Vertical
Correct Marks : 1 Wrong Marks : 0.25

दृष्टिकोण, मूल्य, रुचि और प्रशंसा का संबंध किससे है?

Options :

1. ✘ संज्ञानात्मक डोमेन
2. ✘ साइकोमोटर डोमेन
3. ✔ भावात्मक डोमेन
4. ✘ दोनों साइकोमोटर और संज्ञानात्मक डोमेन

Question Number : 194 Question Id : 9662318230 Question Type : MCQ Option Shuffling : Yes Display Question Number : Yes
Single Line Question Option : No Option Orientation : Vertical
Correct Marks : 1 Wrong Marks : 0.25

If a curriculum exists in the heart and mind of educators but seldom exists in reality, it is called:

Options :

1. ✘ legitimate curriculum
2. ✘ illegitimate curriculum
3. ✘ hidden Curriculum
4. ✔ null curriculum

Question Number : 194 Question Id : 9662318230 Question Type : MCQ Option Shuffling : Yes Display Question Number : Yes
Single Line Question Option : No Option Orientation : Vertical
Correct Marks : 1 Wrong Marks : 0.25

यदि कोई पाठ्यक्रम शिक्षकों के दिल और दिमाग में मौजूद है, लेकिन वास्तविकता में शायद ही कभी मौजूद है, तो इसे क्या कहा जाता है?

Options :

1. ✘ वैध पाठ्यक्रम

2. ✘ नाजायज पाठ्यक्रम
3. ✘ छिपा हुआ पाठ्यक्रम
4. ✔ अशक्त पाठ्यक्रम

Question Number : 195 Question Id : 9662318231 Question Type : MCQ Option Shuffling : Yes Display Question Number : Yes
Single Line Question Option : No Option Orientation : Vertical

Correct Marks : 1 Wrong Marks : 0.25

Among the following methods, which one is a learner centred method?

Options :

1. ✘ bedside clinic
2. ✘ lecture
3. ✘ demonstration
4. ✔ role play

Question Number : 195 Question Id : 9662318231 Question Type : MCQ Option Shuffling : Yes Display Question Number : Yes
Single Line Question Option : No Option Orientation : Vertical

Correct Marks : 1 Wrong Marks : 0.25

निम्नलिखित पद्धतियों में से कौन सी एक शिक्षार्थी केंद्रित पद्धति है?

Options :

1. ✘ बेडसाइड क्लिनिक
2. ✘ व्याख्यान
3. ✘ प्रदर्शन
4. ✔ रोल प्ले

Question Number : 196 Question Id : 9662318232 Question Type : MCQ Option Shuffling : Yes Display Question Number : Yes
Single Line Question Option : No Option Orientation : Vertical

Correct Marks : 1 Wrong Marks : 0.25

According to the situational theory of leadership, a person becomes a leader in spite of himself. He does not seek the role, it is thrust upon him by the group and by the tide of events, this type of a leader is called a:

Options :

1. ✔ natural leader

2. ✘ charismatic leader
3. ✘ rational leader
4. ✘ consensus leader

Question Number : 196 Question Id : 9662318232 Question Type : MCQ Option Shuffling : Yes Display Question Number : Yes
Single Line Question Option : No Option Orientation : Vertical

Correct Marks : 1 Wrong Marks : 0.25

नेतृत्व के स्थितिजन्य सिद्धांत के अनुसार, एक व्यक्ति खुद के बावजूद एक नेता बन जाता है। वो भूमिका की तलाश नहीं करता है, यह समूह द्वारा और घटनाओं के प्रवाह द्वारा उस पर थोप दिया जाता है, इस प्रकार के एक नेता को क्या बुलाया जाता है?

Options :

1. ✔ प्राकृतिक नेता
2. ✘ करिश्माई नेता
3. ✘ तर्कसंगत नेता
4. ✘ सर्वसम्मति नेता

Question Number : 197 Question Id : 9662318233 Question Type : MCQ Option Shuffling : Yes Display Question Number : Yes
Single Line Question Option : No Option Orientation : Vertical

Correct Marks : 1 Wrong Marks : 0.25

Meta communication was classified under which of the following types of communication?

Options :

1. ✘ Verbal communication
2. ✘ Non-verbal communication
3. ✔ Both verbal and Non-verbal communication
4. ✘ None of the above types

Question Number : 197 Question Id : 9662318233 Question Type : MCQ Option Shuffling : Yes Display Question Number : Yes
Single Line Question Option : No Option Orientation : Vertical

Correct Marks : 1 Wrong Marks : 0.25

मेटाकॉम कम्युनिकेशन को किस प्रकार के संचार के तहत वर्गीकृत किया गया था?

Options :

1. ✘ मौखिक संचार
2. ✘ अनकहा (गैर मौखिक) संचार
3. ✔ मौखिक और गैर मौखिक संचार
4. ✘ उपरोक्त प्रकारों में से कोई भी नहीं

Question Number : 198 Question Id : 9662318234 Question Type : MCQ Option Shuffling : Yes Display Question Number : Yes
Single Line Question Option : No Option Orientation : Vertical
Correct Marks : 1 Wrong Marks : 0.25

In a hierarchical line of command, who is responsible for non-programmed decision making in every organization?

Options :

1. ✘ Staff nurses
2. ✘ Assistant nursing officer
3. ✘ Deputy nursing officer
4. ✔ Chief nursing officer

Question Number : 198 Question Id : 9662318234 Question Type : MCQ Option Shuffling : Yes Display Question Number : Yes
Single Line Question Option : No Option Orientation : Vertical
Correct Marks : 1 Wrong Marks : 0.25

कमांड के एक पदानुक्रमित लाइन में, जो हर संगठन में गैर-प्रोग्राम निर्णय लेने के लिए जिम्मेदार है, उसे क्या कहा जाता है?

Options :

1. ✘ स्टाफ नर्स
2. ✘ सहायक नर्सिंग अधिकारी
3. ✘ उप नर्सिंग अधिकारी
4. ✔ मुख्य नर्सिंग अधिकारी

Question Number : 199 Question Id : 9662318235 Question Type : MCQ Option Shuffling : Yes Display Question Number : Yes
Single Line Question Option : No Option Orientation : Vertical
Correct Marks : 1 Wrong Marks : 0.25

In a research process, the first and foremost step happens to be that of selecting and properly defining a:

Options :

1. research question
2. hypothesis testing
3. research methods
4. statistical analysis

Question Number : 199 Question Id : 9662318235 Question Type : MCQ Option Shuffling : Yes Display Question Number : Yes
Single Line Question Option : No Option Orientation : Vertical

Correct Marks : 1 Wrong Marks : 0.25

एक शोध प्रक्रिया में, सबसे पहला और महत्वपूर्ण कदम होता है _____ का चयन करना और ठीक से परिभाषित करना।

Options :

1. अनुसंधान प्रश्न
2. परिकल्पना परीक्षण
3. अनुसंधान की विधियां
4. सांख्यिकीय विश्लेषण

Question Number : 200 Question Id : 9662318236 Question Type : MCQ Option Shuffling : Yes Display Question Number : Yes
Single Line Question Option : No Option Orientation : Vertical

Correct Marks : 1 Wrong Marks : 0.25

The Likert scale is otherwise called the:

Options :

1. arbitrary scale
2. differential scale
3. cumulative scale
4. summated scale

Question Number : 200 Question Id : 9662318236 Question Type : MCQ Option Shuffling : Yes Display Question Number : Yes
Single Line Question Option : No Option Orientation : Vertical

Correct Marks : 1 Wrong Marks : 0.25

लिकर्ट स्केल को अन्यथा कहा क्या जाता है?

Options :

1. ✘ स्वेच्छित (आर्बिट्रेरी) पैमाना
2. ✘ अंतर (डिफरेन्शल) पैमाना
3. ✘ संचयी (क्यूमुलेटिव) पैमाना
4. ✔ संकलनित (सम्मेटिड) पैमाना

A large, semi-transparent watermark of the Adda247 logo is centered on the page. It consists of a large, stylized letter 'A' above the text 'Adda247', where the '247' is enclosed in a rectangular box.