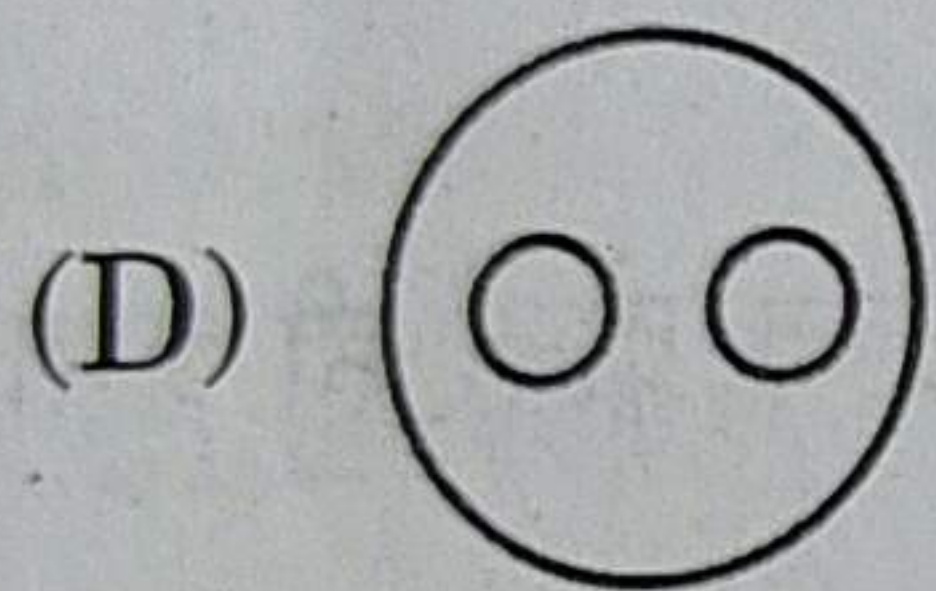
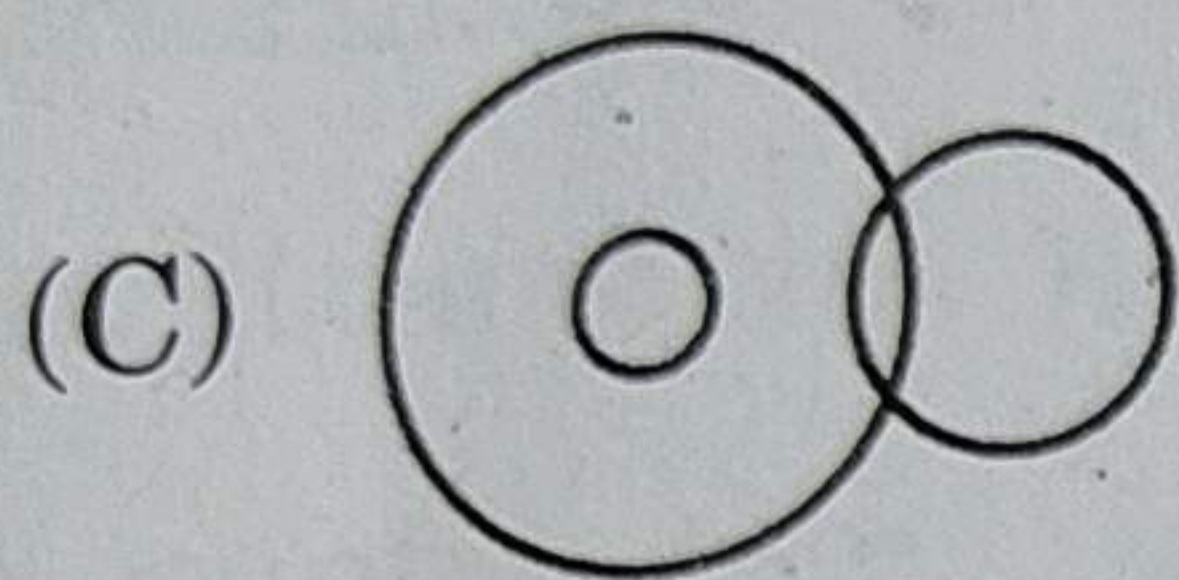
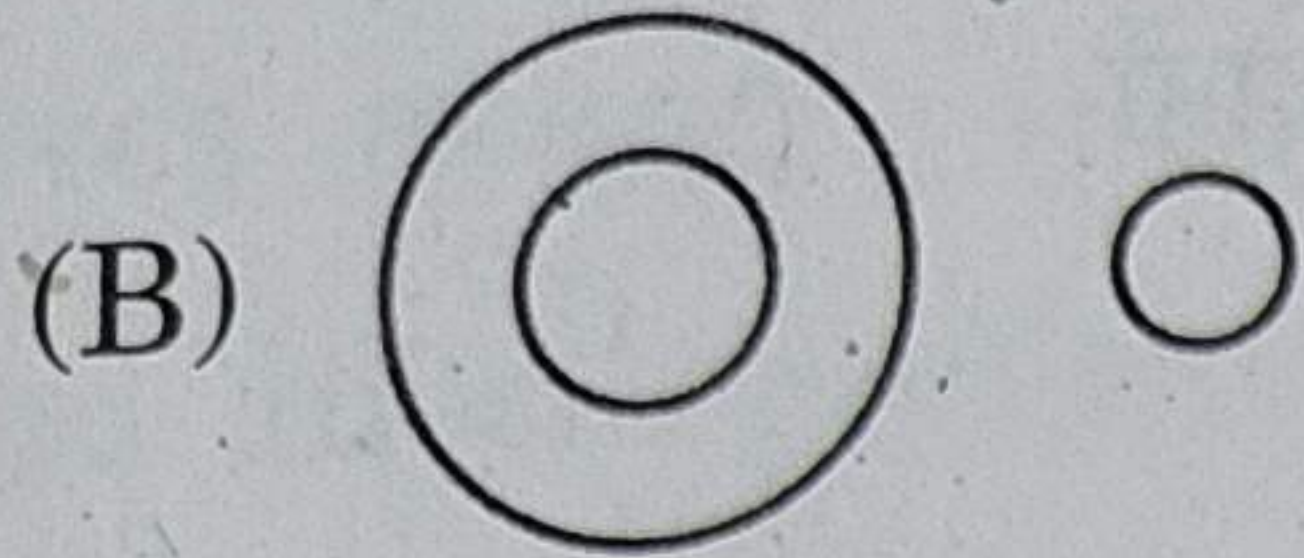
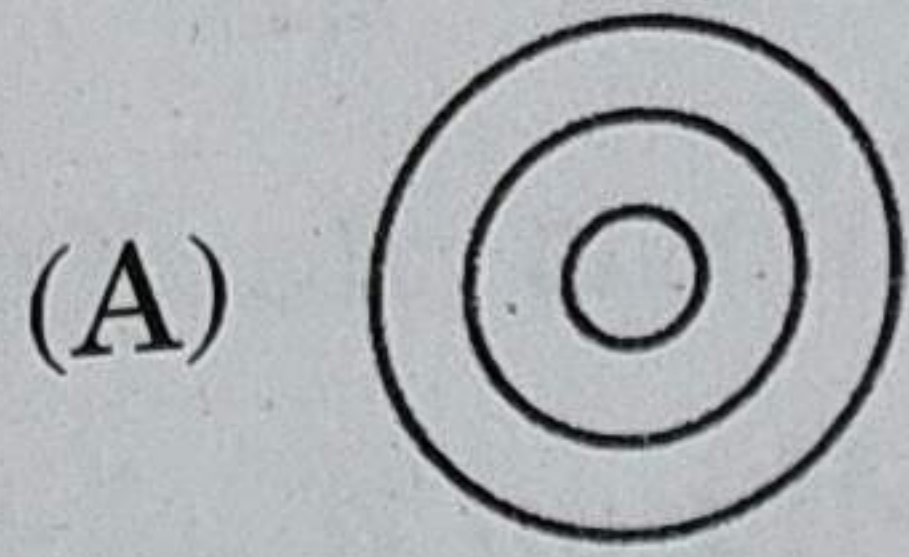




1. X and Y are two brothers. B is the brother of A and A is the mother of X. How is B related to Y?
- (A) Maternal uncle
(B) Mother
(C) Brother
(D) Father
2. Just as 'Court' is related to 'Justice', in the same way 'School' is related to which of the following?
- (A) Class
(B) Student
(C) Teacher
(D) Education
3. Select the odd one out from the options given below.
- (A) Aeroplane
(B) Bird
(C) Tanker
(D) Aerial umbrella
4. Choose the missing letters of the series
ABC, GHI, MNO, ?
- (A) RST
(B) STU
(C) PQR
(D) QRS
5. Choose the word with related similarity from the given options.
Room : Floor :: River : ?
- (A) Bottom
(B) Fish
(C) Whale
(D) Water
6. If 16th is on the third Friday of a month, then which date will fall on the fourth Tuesday of the same month?
- (A) 25
(B) 26
(C) 27
(D) 28



7. Which of the following figures shows the relationship between tables, chairs and furniture ?



8. If '+' means ' \div ', ' \div ' means '-', '-' means ' \times ' and ' \times ' means '+' then

$$12 + 6 + 3 - 2 \times 8 = ?$$

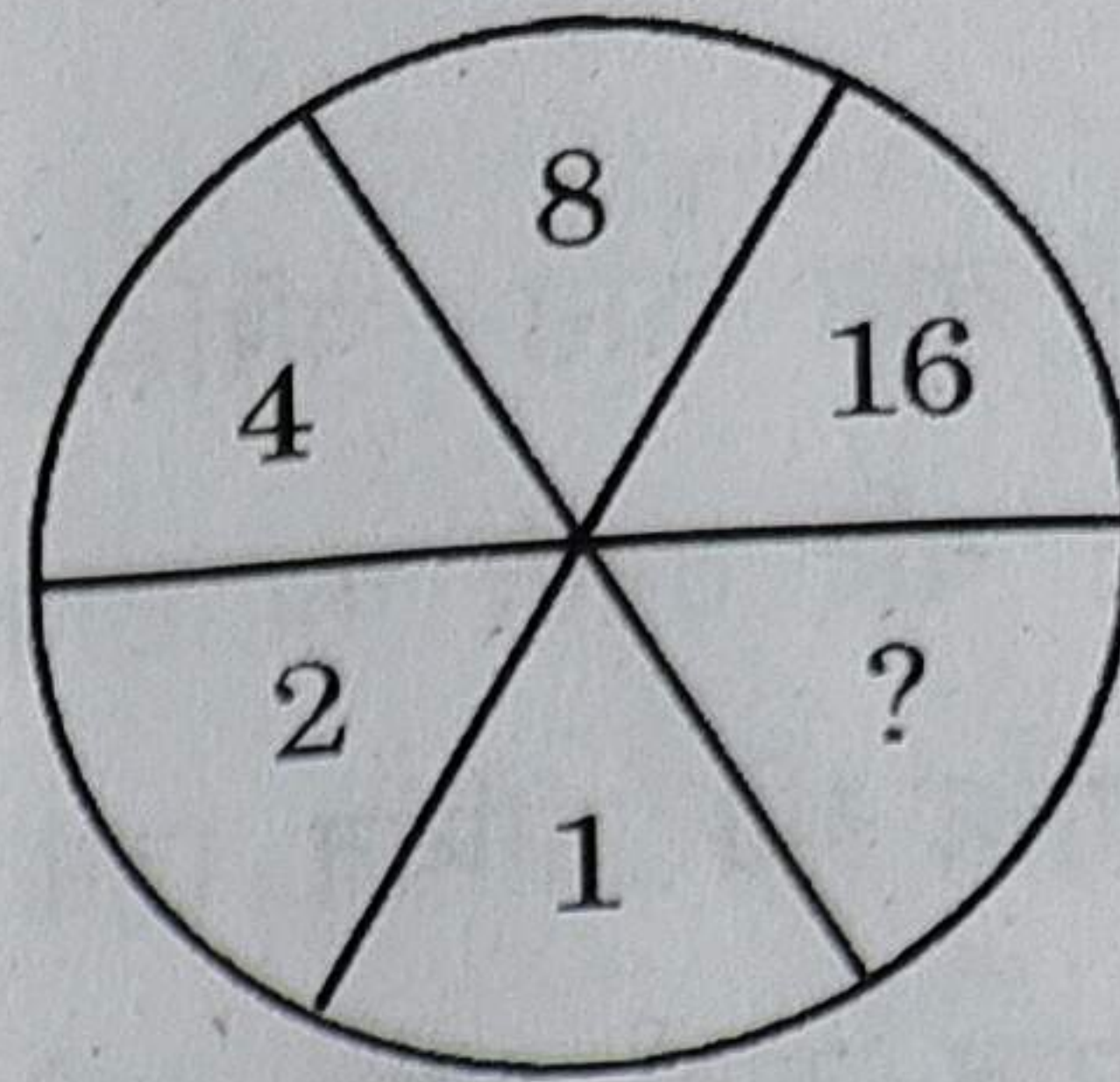
(A) $8\frac{1}{3}$

(B) $9\frac{1}{3}$

(C) $9\frac{1}{4}$

(D) $9\frac{1}{2}$

9. Find the missing number :



(A) 8

(B) 24

(C) 30

(D) 32

10. Find the missing number :

$$12, 21, 23, 32, 34, ?$$

(A) 43

(B) 37

(C) 36

(D) 42



Questions No. 11 – 15 (Based on Passage-1)

Passage-1

All the challenges, problems and difficult circumstances put us to stress. Thus, if handled properly, stress increases the probability of one's survival. Stress gives energy, increases human arousal and affects performance. High stress can produce unpleasant effects and cause our performance to deteriorate. Conversely, too little stress may cause one to feel low on motivation, which may lead us to perform slowly and less efficiently. It is important to remember that not all stress is inherently bad. 'Eustress' is the term used to describe the level of stress that is good and is one of a person's best assets for achieving peak performance. Eustress, however, has the potential of turning into 'distress'. It is this latter manifestation of stress that causes our body's wear and tear.

11. Eustress is

- (A) Sometimes good
- (B) Bad
- (C) Always good
- (D) None of the above

12. Which of the following causes wear and tear in our body ?

- (A) Eustress
- (B) Distress
- (C) Normal Effect
- (D) Both – Distress and Eustress

13. Little stress may cause

- (A) Low motivation
- (B) High motivation
- (C) No effect on motivation
- (D) Both high and low effect on motivation

14. Stress is **not** generated by which one of the following ?

- (A) Challenges
- (B) Problems
- (C) Difficult circumstances
- (D) Resources

15. Too high level of stress leads to

- (A) High performance
- (B) Low performance
- (C) Pleasant effect
- (D) All of the above

Questions No. 16 – 20 (Based on Passage-2)

Passage-2

Stress plays a significant role in physical diseases. Hypertension, heart disease, diabetes and even cancer are linked to high level of stress. Therefore, knowing techniques to manage stress is very essential.

Relaxation technique is an important skill that reduces symptoms of stress. It calms the mind and relaxes the body. Deep breathing is used in this technique. The yogic method of meditation consists of a sequence of learned techniques for refocussing of attention that brings about an altered state of consciousness. The biofeedback is a procedure to develop awareness to monitor and reduce the physiological aspects of stress by providing feedback about current physiological activity.

Creative visualization is a subjective experience that uses imagery and imagination. Cognitive behavioural techniques are meant to replace negative and irrational thoughts with positive and rational ones.

16. Developing an awareness for the physiological responses is known as
- (A) Visualization
 - (B) Learning
 - (C) Biofeedback
 - (D) None of the above

17. Subjective experience that uses imagery is
- (A) Cognition
 - (B) Personal experience
 - (C) Emotion
 - (D) Creative visualization

18. The approach to replace irrational thoughts with rational ones is called
- (A) Meditation
 - (B) Cognitive behavioural technique
 - (C) Creative visualization
 - (D) All of the above

19. Which technique is used to calm the mind ?
- (A) Relaxation technique
 - (B) Biofeedback
 - (C) Meditation
 - (D) Courage

20. Refocussing of attention could be done by which of the following techniques ?
- (A) Relaxation
 - (B) Meditation
 - (C) Change in personality
 - (D) All of the above



21. The average of 4 consecutive even numbers is 27. The largest of these numbers will be

- (A) 32
- (B) 36
- (C) 30
- (D) 28

22. The present ages of A and B are in the ratio 5 : 4. Two years ago the ratio of their ages was 4 : 3. What is the present age of A?

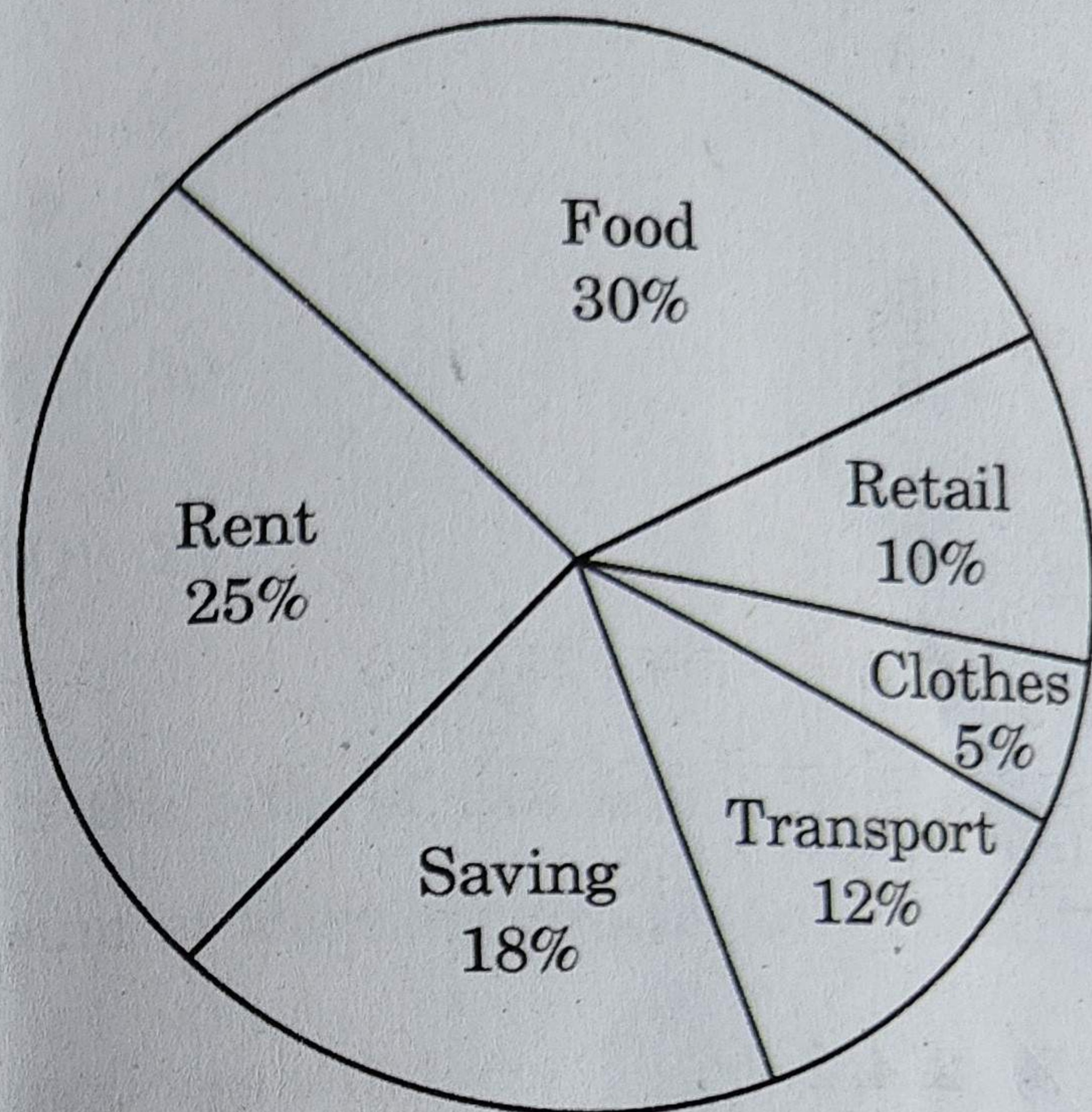
- (A) 8 years
- (B) 9 years
- (C) 10 years
- (D) 12 years

23. Find the median from the following data :

36, 72, 49, 45, 60, 33, 52, 61 and 72

- (A) 52
- (B) 60
- (C) 49
- (D) 61

24. The following pie-chart shows the expenditure details of a family. If the total expenditure on food is ₹ 4800, then how much is the total expenditure on all the items ?



- (A) ₹ 15,000
- (B) ₹ 16,000
- (C) ₹ 17,000
- (D) ₹ 18,000

25. Ram spends 65% of his salary and saves ₹ 525 per month. Then what is his monthly income ?

- (A) ₹ 1200
- (B) ₹ 1500
- (C) ₹ 1800
- (D) ₹ 2100

26. Arrange the following in descending order of their magnitude :

1. $\frac{5}{7}$

2. $\frac{3}{4}$

3. $\frac{5}{6}$

4. $\frac{8}{9}$

(A) 1, 2, 3, 4

(B) 2, 4, 3, 1

(C) 4, 3, 2, 1

(D) 3, 4, 1, 2

27. The value of $\frac{4.359 \times 4.359 - 1.641 \times 1.641}{4.359 - 1.641}$ is :

(A) 6.3

(B) 6.0

(C) 5.0

(D) 7.3

28. How many such numbers are there between 1 and 100, each of which is not only completely divisible by 4 but also contains 4 as a digit ?

(A) 7

(B) 10

(C) 20

(D) 21

29. If the sum of two numbers is 9 and the sum of their reciprocals is $\frac{1}{2}$, then those numbers will be

(A) 1 and 8

(B) 2 and 7

(C) 6 and 3

(D) 4 and 5

30. What will be the sum of the first 20 odd natural numbers ?

(A) 210

(B) 300

(C) 400

(D) 420

31. If in a code language, 34687 is written as 3778, how will 47592 be written in that code language ?

- (A) 56683
- (B) 55683
- (C) 55738
- (D) 56873

32. If 'man' is called 'woman', 'woman' is called 'boy', 'boy' is called 'girl', 'girl' is called 'pilot' and 'pilot' is called 'child', then who will fly the aeroplane ?

- (A) Pilot
- (B) Girl
- (C) Child
- (D) Man

33. On the basis of the following analogy, choose the correct option.

Prediction : Future :: Guilt : ?

- (A) Present
- (B) Misdeed
- (C) Past
- (D) Repent

34. Few names are given that share a common feature, except one. Choose the odd one out.

- (A) Iceland
- (B) Malta
- (C) Japan
- (D) Belarus

35. If 30th January, 2023 was Monday, then what was the day on 2nd March, 2023 ?

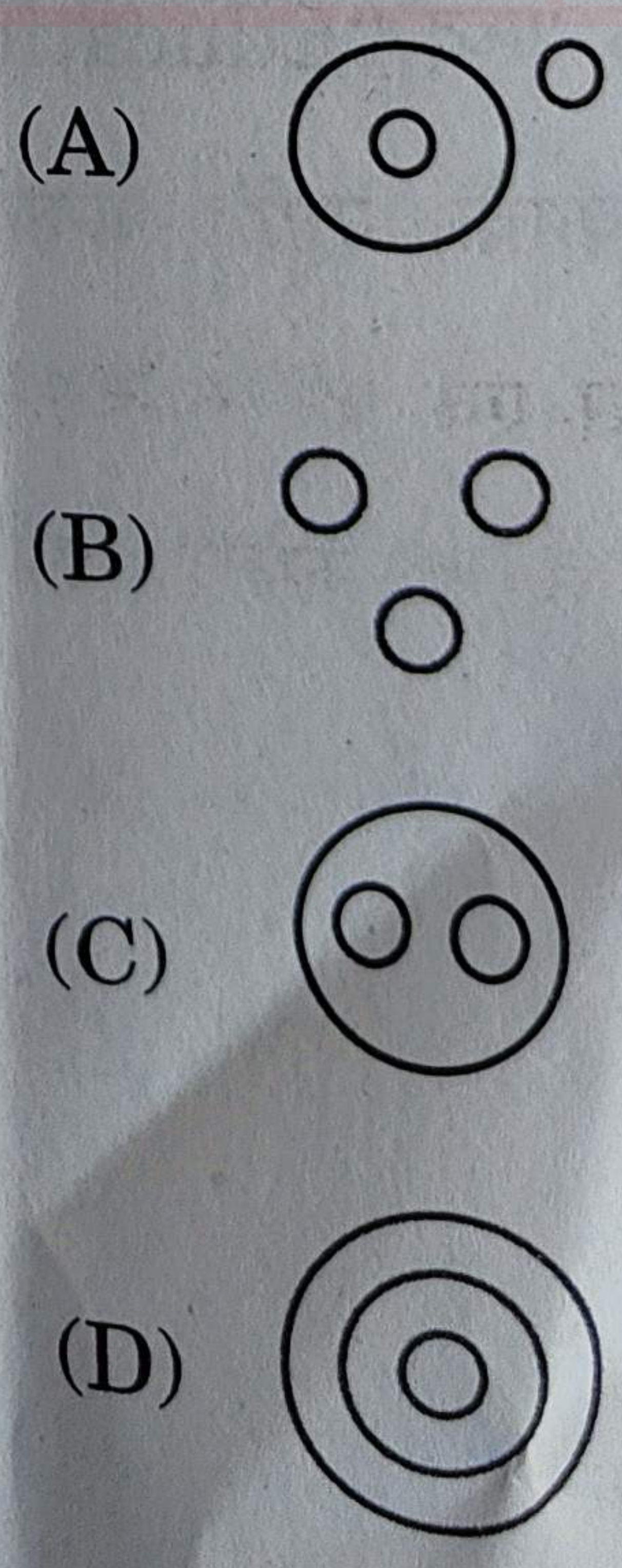
- (A) Sunday
- (B) Thursday
- (C) Wednesday
- (D) Tuesday

36. Manoj ranks seventeenth in a class of 59 students. What is his rank from the last ?

- (A) 17
- (B) 18
- (C) 42
- (D) 43

37. Choose the diagram that best represents the relationship among the given classes :

Engineers, Accountants, Professionals



38. If you write down all the numbers from 1 to 100, then how many times do you write 7?

- (A) 20
- (B) 21
- (C) 22
- (D) 19

39. "Berlin" is related to "Germany" in the same way as "Jakarta" is related to

- (A) UK
- (B) France
- (C) Indonesia
- (D) Malaysia

40. Which one of the following words **cannot** be formed by using the letters of the word "Educational"?

- (A) LION
- (B) NATIONAL
- (C) DEAN
- (D) NEAT

41. The next number in this series will be 71, 73, 79, 83, 89, ?

- (A) 96
- (B) 97
- (C) 98
- (D) 99

42. If a shop gives 30% discount and then provides another 20% discount, then the total discount will be

- (A) 50%
- (B) 42%
- (C) 44%
- (D) 56%

43. If the distance between city P and city Q is x km and the distance between city Q and city R is y km, then the distance between city P and city R is

- (A) $x + y$
- (B) greater than $x + y$
- (C) less than or equal to $x + y$
- (D) None of the above

44. If the number of accidents occurring in the middle of the road is much more than the accidents occurring on the side of the road, then
- (A) Make the citizens aware and construct speed breakers
 - (B) Organize celebrity events
 - (C) Infer that walking in the middle of the road is safer
 - (D) None of the above
45. Postponement of an event is an administrative way of
- (A) Taking time for better preparation
 - (B) Teaching a lesson to the populace
 - (C) Both (A) and (B)
 - (D) None of the above

46. If 'No S is P' is a false statement, then which of these statements is necessarily true ?
- (A) All S is P
 - (B) Some S is P
 - (C) Some S is not P
 - (D) None of the above
47. If you find that the question paper is too difficult and seems to be out of the syllabus, what will you do first ?
- (A) Tell the examiner that questions are out of course
 - (B) Copy from others
 - (C) Walk out of the examination hall
 - (D) Try to solve the questions as much as possible

24th July, 1979 is a Tuesday, then which of the following days is a Tuesday ?

- (A) 21st July, 1980
- (B) 22nd July, 1980
- (C) 23rd July, 1980
- (D) 24th July, 1980

49. If two cows are tied to a common pole and the length of the ropes are P and Q, where P is greater than Q, then the total area grazed by both the cows will be _____.

- (A) πP^2
- (B) πQ^2
- (C) $\pi P^2 + \pi Q^2$
- (D) $\pi P^2 - \pi Q^2$

50. Decision-making is a _____ process.

- (A) Cognitive
- (B) Superficial
- (C) Random
- (D) None of the above

51. From the options listed below, identify which one is **not** a communication skill.

- (A) Active listening
- (B) Empathy
- (C) Complexity
- (D) Open body language

52. Which one of the following is **not** a component of Emotional Intelligence ?

- (A) Self-awareness
- (B) Self-motivation
- (C) Conflict representation
- (D) Social skills

53. What is Problem solving ?

- (A) The ability to identify the problem, cause of the problem, analyse solutions and implement the best solution.
- (B) The ability to describe the traditional knowledge of communities accumulated over several generations.
- (C) The ability to help two parties to resolve their differences.
- (D) The ability to read books and give/provide comprehensive and detailed information about an issue.

54. Training in Brainstorming signifies

- (A) Decrease in creative problem solving
- (B) Increase in intelligence
- (C) Neutralising of creativity
- (D) Decrease in intelligence

55. From the options listed below, identify the barrier in communication.

- (A) Disinterest
- (B) Clear message
- (C) Lack of confusion
- (D) Physical comfort

56. What does an interview imply ?

- (A) Data analysis
- (B) Observation
- (C) Communication
- (D) Face-to-face conversation

57. "Communication is the transference and understanding of meaning." Who gave this definition ?

- (A) Robbins
- (B) Stewart
- (C) Taylor
- (D) McGregor

58. Which one of the following options is **not** a part of conflict process ?

- (A) Potential opposition or incompatibility
- (B) Intentions
- (C) Motivation
- (D) Behaviour

59. Which thinker said, "Non-verbal elements are more important in communication" ?

- (A) Bandura
- (B) Mehrabian
- (C) Ellsworth
- (D) Carl Jung

60. Which of the following is **not** related with Social Networking ?

- (A) Threads
- (B) LinkedIn
- (C) Instagram
- (D) eBay



निर्देश (प्रश्न संख्या 61 से 65) : दिए गए गद्यांश के आधार

पर निम्नलिखित प्रश्नों के उत्तर दीजिए।

गद्यांश-1

सफलता के द्वार के ताले बिना परिश्रम की कुंजी के नहीं खुलते। जीवन की सफलता का रहस्य परिश्रम है। परिश्रम करने वाला व्यक्ति कर्मवीर कहा जाता है। ऐसा व्यक्ति किसी बाधा से विचलित नहीं होता। वैज्ञानिक आविष्कारों के पीछे केवल परिश्रम है। यहाँ तक कि मधुमक्खी के परिश्रम का उदाहरण देखा जा सकता है जो फूलों के रस की एक-एक बूँद एकत्र कर शहद का छत्ता तैयार करती है। ऊपर की ओर चढ़ती चींटी जो न जाने कितनी बार गिरती है, पुनः श्रम कर आगे बढ़ती है।

61. वैज्ञानिक खोजों के पीछे मूल क्या है ?

(A) कल्पना

(B) परिश्रम

(C) धन

(D) जिज्ञासा

62. इस गद्यांश का उचित शीर्षक होगा :

(A) चींटी का श्रम

(B) मधुमक्खी का परिश्रम

(C) त्याग एवं बलिदान

(D) परिश्रम : सफलता की कुंजी

63. मधुमक्खी किस तरह शहद तैयार करती है ?

(A) हर फूल से सुगंध लाकर

(B) फूलों के रस की एक-एक बूँद एकत्र करके

(C) घूम-घूम कर पत्तियों से रस ग्रहण करके

(D) फूलों पर मंडरा कर

64. जीवन में सफलता किस चीज से मिलती है ?

(A) परिश्रम

(B) बलिदान

(C) बुद्धि

(D) चालाकी

65. परिश्रम करने वाले को क्या कहते हैं ?

(A) धर्मवीर

(B) युद्धवीर

(C) कर्मवीर

(D) अग्निवीर

निर्देश (प्रश्न संख्या 66 से 70) : दिए गए गद्यांश के आधार पर निम्नलिखित प्रश्नों के उत्तर दीजिए ।

गद्यांश-2

1857 के विप्लव की जितनी सघन व्यापकता थी, अंग्रेजों ने उसे उतनी ही बर्बरता के साथ कुचल दिया था । उस विप्लव ने दोनों ही पक्षों को सोचने और अपने-अपने निष्कर्ष निकालने के लिए विवश भी कर दिया था । अंग्रेजों ने यह निष्कर्ष निकाला था कि भारतीयों की साम्प्रदायिक एकता और राष्ट्रीयता की भावना अंग्रेजी साम्राज्य के लिए खतरनाक होगी; अतः उनमें परस्पर फूट डालकर वैमनस्य की भावना भरने की नीति पर चलना होगा । भारतीयों ने विप्लव के परिणामों से यह निष्कर्ष प्राप्त किया था कि अंग्रेजों को भारत से बेदखल करने के लिए शस्त्र ही पर्याप्त नहीं हैं, शास्त्र भी जरूरी हैं । लिहाजा नई पीढ़ी को भारतीय संस्कारों और राष्ट्रीय भावनाओं से परिपूरित करने के लिए अपनी भाषा में मिलने वाली शिक्षा की आवश्यकता है ।

66. राष्ट्रीय भावनाओं के विकास हेतु भारतीयों को क्या करना चाहिए ?

- (A) अंग्रेजों के तौर तरीके अपनाने चाहिए ।
- (B) अंग्रेजी भाषा का प्रचार-प्रसार करना चाहिए ।
- (C) अपनी भाषा में शिक्षा देनी चाहिए ।
- (D) स्वाभिमान का विकास किया जाना चाहिए ।

67. 'बेदखल' का अर्थ है

- (A) अधिकार च्युत
- (B) अधिकार युक्त
- (C) जला देना
- (D) फूँक देना

68. भारतीयों ने विप्लव से क्या सीखा ?

- (A) अंग्रेजों से तर्क से जीता जा सकता है ।
- (B) अंग्रेजों से कूटनीति से जीता जा सकता है ।
- (C) अंग्रेजों से लड़ने की आवश्यकता नहीं है ।
- (D) अंग्रेजों से जीतने हेतु शस्त्र के साथ शास्त्र भी जरूरी हैं ।

69. 1857 के विप्लव से अंग्रेजों ने क्या निष्कर्ष निकाला ?

- (A) भारतीयों को आसानी से दबाया जा सकता है ।
- (B) भारतीयों में फूट नहीं डाली जा सकती है ।
- (C) भारतीयों की एकता और राष्ट्रीयता अंग्रेजों के लिए खतरा है ।
- (D) भारतीयों के लिए सिर्फ शास्त्र जरूरी हैं ।

70. अंग्रेजी साम्राज्य के लिए खतरनाक थी

- (A) साम्प्रदायिक एकता और राष्ट्रीय भावना
- (B) वैमनस्य की भावना
- (C) फूट की भावना
- (D) कटुता की भावना

निर्देश (प्रश्न संख्या 71 से 75) : दिए गए गद्यांश के आधार पर निम्नलिखित प्रश्नों के उत्तर दीजिए।

गद्यांश-3

अगर लोक-साहित्य की ज़रूरत हो तो वह विद्यालय के अध्यापक या कॉलेज के प्राध्यापक के पास नहीं मिलेगा, किसी राजकीय कर्मचारी के पास या विलायत या अमेरिका से खेती-बाड़ी का प्रशिक्षण लेकर आने वाले किसान के पास नहीं मिलेगा। लोक साहित्य तो रहता है चड़स हाँकने वाले किसान के पास या खेतों में भाथा लेकर जाने वाली भथवारी के पास। या तो वह रहता है पनघट जाने वाली पनिहारिन के घड़े में या फिर रहता है किसी ईंधन बटोरने वाली बुढ़िया के पास। लोक साहित्य रहता है सोनी या लुहार के पास या फिर रहता है कुम्हार के चाक में। कभी वह तम्बूरे की रणकार में रहता है, तो कभी चूड़ियों की झनकार में रहता है। भाट-चारण और पुराने जोगी-जती लोक-साहित्य के ज्ञाता होते हैं। कई बार तो वह रहता है माताजी को अर्पित नर-नारियों के पास, तो काफी-कुछ रहता है ग्वालों की जीभ पर। लोक-साहित्य की शोध करनी हो तो शहर छोड़कर गाँवों में जाना पड़ेगा या गाँव छोड़कर सिवान में जाना पड़ेगा।

71. 'तम्बूरा' क्या है ?

- (A) लोक वाद्य
- (B) लोक नृत्य
- (C) लोक नाट्य
- (D) लोक गीत

72. लोक-साहित्य की ज़रूरत पड़ने पर कहाँ जाना होगा ?

- (A) विलायत
- (B) शहर
- (C) विश्वविद्यालय
- (D) गाँव

73. ग्वालों के किस अंग पर लोक साहित्य निवास करता है ?

- (A) कान पर
- (B) जीभ पर
- (C) पैर पर
- (D) आँख पर

74. लोक-साहित्य के ज्ञाता होते हैं

- (A) विद्यालय के प्राध्यापक
- (B) कॉलेज के प्राध्यापक
- (C) राजकीय कर्मचारी
- (D) भाट-चारण और पुराने जोगी-जती

75. लोक-साहित्य कहाँ रहता है ?

- (A) चड़स हाँकने वाले किसान के पास
- (B) विद्यालय के अध्यापक के पास
- (C) अमेरिका से प्रशिक्षण प्राप्त किसान के पास
- (D) राजकीय कर्मचारी के पास

प्रश्न संख्या 76 से 80) : दिए गए गद्यांश के आधार पर निम्नलिखित प्रश्नों के उत्तर दीजिए ।

गद्यांश-4

शंकरदेव असमिया नाटक तथा रंगमंच के जनक हैं । उन्होंने आज से लगभग पाँच सौ वर्ष पूर्व नाटक लिखने तथा मंचन करने की शुरुआत की, उस समय संस्कृत नाटक अपने उत्तर पर था तथा अन्य प्रांतीय भाषाओं अर्थात् उत्तर भारतीय भाषाओं में नियमित तथा विशिष्ट नाट्य साहित्य का विकास नहीं हुआ था । ऐसे में एक प्रश्न स्वाभाविक तौर पर उठाया जा सकता है कि मध्यकालीन भारत में प्रारंभिक दौर में शंकरदेव ने अपने स्तर पर नियमित रंगमंच तथा सम्पूर्ण लंबाई वाले नाटकों का लेखन किस तरह से किया ? कला के समग्र परिवेश के परिप्रेक्ष्य में भी यह सवाल अत्यंत महत्त्वपूर्ण हो जाता है । अपनी एक रचना में शंकरदेव ने अपना परिचय देते हुए लिखा कि उनका संबंध एक गंधर्व कुल से रहा है तथा यह भी कि उनके पिता, कुसुम्बर अपने जमाने के प्रमुख गंधर्व रहे थे । गंधर्व पद का सीधा सा अर्थ है — गायक तथा संगीतविद् ।

76. कुसुम्बर कौन थे ?

- (A) नाटककार
- (B) चित्रकार
- (C) गायक और संगीतविद्
- (D) स्वर्णकार

77. शंकरदेव के समय संस्कृत नाटक की स्थिति थी

- (A) चढ़ान पर
- (B) उतार पर
- (C) मध्याह्न पर
- (D) इनमें से कोई नहीं

78. शंकरदेव का समय है

- (A) प्राचीन काल
- (B) मध्यकाल
- (C) रीतिकाल
- (D) आधुनिक काल

79. असमिया नाटक लेखन की शुरुआत मानी जाती है

- (A) 1000 वर्ष पूर्व
- (B) 1500 वर्ष पूर्व
- (C) 200 वर्ष पूर्व
- (D) 500 वर्ष पूर्व

80. असमिया रंगमंच के जनक हैं

- (A) कुसुम्बर
- (B) शंकरदेव
- (C) गंधर्व
- (D) माधव देव

81. 'आनन्द' का पर्यायवाची होगा :

- (A) रसाल
(B) विभूषण
(C) उल्लास
(D) लालसा

82. 'कपड़ा' का पर्यायवाची नहीं है :

- (A) पुण्डरीक
(B) अम्बर
(C) पट
(D) वसन

83. 'अजर' का तात्पर्य है :

- (A) जो जर-जर हो ।
(B) जो झरता हो ।
(C) जो बूढ़ा न हो ।
(D) जो कुछ भी न हो ।

84. 'एक भाषा की लिखी हुई बात को दूसरी भाषा में लिखने पर' क्या कहलाता है ?

- (A) सर्जनात्मक साहित्य
(B) आलोचना
(C) अनुवाद
(D) पाठालोचन

85. 'अनेकार्थक' शब्द किसे कहते हैं ?

- (A) जिसके अनेक शब्द हों
(B) जब एक शब्द से अनेक अर्थ निकलें
(C) जिसका एक अर्थ हो
(D) इनमें से कोई नहीं

86. कौन-सा सही शब्द युग्म है ?

- (A) प्रसाद - घर
(B) परिहार - प्रहार
(C) प्रासाद - महल
(D) गुर - शिक्षक

87. 'पक्ष' का अनेकार्थक शब्द नहीं होगा :

- (A) पंख
(B) अंग
(C) पखवाड़ा
(D) दिन

88. निम्नलिखित में से सही वाक्य छाँटिए :

- (A) तुम, वह और मैं चलूँगा ।
(B) तालाब में छोटा-सा मंदिर है ।
(C) देरी गत करना ।
(D) तुम, मैं और वह चलेगा ।

89. ग़लत शब्द युग्म है :

- (A) नियत - निश्चित
(B) परुष - आदमी
(C) प्रणय - प्रेम
(D) लक्ष - लाख

90. 'अंकुर' शब्द का अनेकार्थक शब्द होगा :

- (A) डाभ
(B) आँख
(C) मुख्य
(D) परिच्छेद

91. बेमेल विलोमार्थक युग्म चुनिए :

- (A) अन्तरंग – बहिरंग
 (B) अग्रिम – अधिक
 (C) अधम – महान
 (D) अथ – इति

92. 'उन्मीलन' शब्द का विलोमार्थक शब्द है :

- (A) समीलन
 (B) विनत
 (C) निमीलन
 (D) निम्न

93. निम्नलिखित में से सही शब्द युग्म छाँटिए :

- (A) तरि – नाव
 (B) द्वीप – हाथी
 (C) द्रव – धन
 (D) दैव – देवता

94. निम्नलिखित में से बेमेल शब्द युग्म छाँटिए :

- (A) तरणी – नाव
 (B) निर्झर – झरना
 (C) गृह – नक्षत्र
 (D) तड़ाग – तालाब

95. 'इष्ट' शब्द का विपरीतार्थक शब्द है :

- (A) अनीश
 (B) अनिष्ट
 (C) इश
 (D) ईश

96. 'चोर' शब्द का पर्यायवाची नहीं है :

- (A) कुंभिल
 (B) खनक
 (C) छल
 (D) दस्यु

97. 'वह स्त्री जिसका पति दूसरा विवाह कर ले' उसे कहते हैं :

- (A) विधवा
 (B) सधवा
 (C) अध्यूढ़ा
 (D) अनन्य

98. 'उदार' शब्द का विलोम होगा :

- (A) संकीर्ण
 (B) अनुराग
 (C) अनेक
 (D) अपकार

99. 'ग्रंथ' शब्द का पर्यायवाची है :

- (A) पौथी
 (B) राशि
 (C) पंथ
 (D) पय

100. सही विलोमार्थक युग्म चुनिए :

- (A) अथ – न्यूनतम
 (B) गणतंत्र – राजतंत्र
 (C) अधम – सुगम
 (D) अनुरक्ति – अनुराग