

Print

TCSiON CAE

Notations :

- Options shown in green color and with ✓ icon are correct.
- Options shown in red color and with ✘ icon are incorrect.

Question Paper Name :	PC22126 GENERAL STUDIES AND GENERAL ABILITIES AEE 2212 21st May S1
Subject Name :	PC22126 GENERAL STUDIES AND GENERAL ABILITIES AEE2212
Actual Answer Key :	Yes
Calculator :	None
Magnifying Glass Required? :	No
Ruler Required? :	No
Eraser Required? :	No
Scratch Pad Required? :	No
Rough Sketch/Notepad Required? :	No
Protractor Required? :	No
Show Watermark on Console? :	Yes
Highlighter :	No
Auto Save on Console?	Yes
Change Font Color :	No
Change Background Color :	No
Change Theme :	No
Help Button :	No
Show Reports :	No
Show Progress Bar :	No
Is this Group for Examiner? :	No
Examiner permission :	Cant View
Show Progress Bar? :	No
Enable Mark as Answered Mark for Review and Clear Response :	Yes
Maximum Instruction Time :	0
Is Section Default? :	null

Question Number : 1 Question Id : 630680227166 Option Shuffling : Yes Is Question Mandatory : No Calculator : None Response Time : N.A Think Time : N.A Minimum Instruction Time : 0

Correct Marks : 1 Wrong Marks : 0

UNESCO Peace Prize 2022 was awarded to _____.

Options :

- ✘ Abdulrazak Gurnah
- ✓ Angela Merkel
- ✘ Louise Glück
- ✘ Olga Tokarczuk

Question Number : 1 Question Id : 630680227166 Option Shuffling : Yes Is Question Mandatory : No Calculator : None Response Time : N.A Think Time : N.A Minimum Instruction Time : 0

Correct Marks : 1 Wrong Marks : 0

2022 యునెస్కో (UNESCO) శాంతి బహుమతి _____ కి లభించింది.

Options :

1. ✘ అబ్దుల్ రజాక్ గుర్నా
2. ✔ ఎంజెలా మెర్కెల్
3. ✘ లాయిస్ గ్లౌక్
4. ✘ ఓల్గా టోకర్చుక్

Question Number : 2 Question Id : 630680227167 Option Shuffling : Yes Is Question Mandatory : No Calculator : None Response Time : N.A Think Time : N.A Minimum Instruction Time : 0

Correct Marks : 1 Wrong Marks : 0

The _____ Assembly Meeting of the International Solar Alliance (ISA) in 2022 approved 'Solar Facility' - a payment guarantee mechanism.

Options :

1. ✘ First
2. ✘ Third
3. ✔ Fifth
4. ✘ Sixth

Question Number : 2 Question Id : 630680227167 Option Shuffling : Yes Is Question Mandatory : No Calculator : None Response Time : N.A Think Time : N.A Minimum Instruction Time : 0

Correct Marks : 1 Wrong Marks : 0

2022లో జరిగిన అంతర్జాతీయ సౌర కూటమి (ఇంటర్నేషనల్ సోలార్ అలయన్స్-ISA) యొక్క _____ అసెంబ్లీ సమావేశంలో 'సోలార్ ఫెసిలిటీ'ని ఆమోదించింది - ఇది ఒక చెల్లింపు హామీ విధానం.

Options :

1. ✘ ప్రథమ
2. ✘ మూడవ
3. ✔ ఐదవ
4. ✘ ఆరవ

Question Number : 3 Question Id : 630680227168 Option Shuffling : Yes Is Question Mandatory : No Calculator : None Response Time : N.A Think Time : N.A Minimum Instruction Time : 0

Correct Marks : 1 Wrong Marks : 0

Which of the following statements is/are correct regarding UNESCO?

I. In 2022, UNESCO launched the State of the Education Report (SOER) for India : Artificial Intelligence in Education – Here, There and Everywhere.

II. UNESCO in 2022 released a list of 30 exclusive and iconic heritage textile crafts of India.

Options :

1. ✔ Only I
2. ✘ Only II
3. ✘ Both I and II
4. ✘ Neither I nor II

Question Number : 3 Question Id : 630680227168 Option Shuffling : Yes Is Question Mandatory : No Calculator : None Response Time : N.A Think Time : N.A Minimum Instruction Time : 0

Correct Marks : 1 Wrong Marks : 0

యునెస్కోకు (UNESCO) సంబంధించి కింది వాటిలో సరైనది/సరైనవి ఏది/ఏవి?

I. 2022లో, భారతదేశం కోసం స్టేట్ ఆఫ్ ఎడ్యుకేషన్ రిపోర్ట్ (SOER)ను యునెస్కో ప్రారంభించింది: విద్యలో కృత్రిమ మేధస్సు (ఆర్టిఫిషియల్ ఇంటెలిజెన్స్) – ఇక్కడ, అక్కడ మరియు ప్రతిచోటా.

II. 2022లో యునెస్కో భారతదేశానికి చెందిన 30 ప్రత్యేకమైన మరియు ప్రామాణిక వస్త్ర వారసత్వ కళల జాబితాను విడుదల చేసింది.

Options :

1. ✔ I మాత్రమే
2. ✘ II మాత్రమే
3. ✘ I మరియు II లు రెండూ

4. ✖ I కానీ లేదా II కానీ ఏదీ కాదు

Question Number : 4 Question Id : 630680227169 Option Shuffling : Yes Is Question Mandatory : No Calculator : None Response Time : N.A Think Time : N.A Minimum Instruction Time : 0

Correct Marks : 1 Wrong Marks : 0

Which of the following statements is/are correct regarding the FIFA World Cup 2022?

- I. It was held in Qatar.
- II. Croatia ended up taking third place at the World Cup.
- III. Angel di Maria scored two goals in the final match.

Options :

- 1. ✖ Only I
- 2. ✔ Only I and II
- 3. ✖ Only II and III
- 4. ✖ Only III

Question Number : 4 Question Id : 630680227169 Option Shuffling : Yes Is Question Mandatory : No Calculator : None Response Time : N.A Think Time : N.A Minimum Instruction Time : 0 Negative Marks Display Text : 0.0

Correct Marks : 1 Wrong Marks : 0

FIFA వరల్డ్ కప్ 2022 కి సంబంధించి కింది ప్రకటనలలో ఏది/ఏవి సరైనది/సరైనవి?

- I. ఇది ఖతార్‌లో జరిగింది.
- II. ప్రపంచకప్‌లో క్రోయేషియా మూడో స్థానంలో నిలిచింది.
- III. ఫైనల్ మ్యాచ్‌లో ఏంజెల్ డి మారియా రెండు గోల్స్ స్కోర్ చేసింది.

Options :

- 1. ✖ I మాత్రమే
- 2. ✔ I మరియు II లు మాత్రమే
- 3. ✖ II మరియు III లు మాత్రమే
- 4. ✖ III మాత్రమే

Question Number : 5 Question Id : 630680227170 Option Shuffling : Yes Is Question Mandatory : No Calculator : None Response Time : N.A Think Time : N.A Minimum Instruction Time : 0

Correct Marks : 1 Wrong Marks : 0

Which of the following pairs of military exercise and participating countries is/are correct?

- I. Yudh Abhyas – India and the US
- II. Mitra Shakti – India and Sri Lanka
- III. Surya Kiran – India and Nepal

Options :

- 1. ✖ Only I
- 2. ✖ Only I and III
- 3. ✖ Only II and III
- 4. ✔ I, II and III

Question Number : 5 Question Id : 630680227170 Option Shuffling : Yes Is Question Mandatory : No Calculator : None Response Time : N.A Think Time : N.A Minimum Instruction Time : 0

Correct Marks : 1 Wrong Marks : 0

ఈ క్రింది సైనిక విన్యాసం మరియు పాల్గొనే దేశాల జతలలో ఏది/ఏవి సరైనది/ సరైనవి?

- I. యుద్ధ్ అభ్యాస్ - భారతదేశం మరియు US
- II. మిత్ర శక్తి - భారతదేశం మరియు శ్రీలంక
- III. సూర్య కిరణ్ - భారతదేశం మరియు నేపాల్

Options :

- 1. ✖ I మాత్రమే
- 2. ✖ I మరియు III లు మాత్రమే

3. ✘ II మరియు III లు మాత్రమే

4. ✔ I, II మరియు III

Question Number : 6 Question Id : 630680227171 Option Shuffling : Yes Is Question Mandatory : No Calculator : None Response Time : N.A Think Time : N.A Minimum Instruction Time : 0

Correct Marks : 1 Wrong Marks : 0

India's first indigenous aircraft carrier was commissioned in September 2022. What is its name?

Options :

1. ✔ INS Vikrant

2. ✘ INS Surya

3. ✘ INS Ravi

4. ✘ INS Virat

Question Number : 6 Question Id : 630680227171 Option Shuffling : Yes Is Question Mandatory : No Calculator : None Response Time : N.A Think Time : N.A Minimum Instruction Time : 0

Correct Marks : 1 Wrong Marks : 0

భారతదేశపు మొట్టమొదటి స్వదేశీ విమాన వాహక నౌక (indigenous aircraft carrier) సెప్టెంబర్ 2022లో ప్రారంభించబడింది. దాని పేరు ఏమిటి?

Options :

1. ✔ INS విక్రాంట్

2. ✘ INS సూర్య

3. ✘ INS రవి

4. ✘ INS విరాట్

Question Number : 7 Question Id : 630680227172 Option Shuffling : Yes Is Question Mandatory : No Calculator : None Response Time : N.A Think Time : N.A Minimum Instruction Time : 0

Correct Marks : 1 Wrong Marks : 0

In November 2022, which union ministry approved India's first Sovereign Green Bonds framework?

Options :

1. ✔ Ministry of Finance and Corporate Affairs

2. ✘ Ministry of Environment, Forest and Climate Change

3. ✘ Ministry of Home Affairs

4. ✘ Ministry of External Affairs

Question Number : 7 Question Id : 630680227172 Option Shuffling : Yes Is Question Mandatory : No Calculator : None Response Time : N.A Think Time : N.A Minimum Instruction Time : 0

Correct Marks : 1 Wrong Marks : 0

నవంబర్ 2022లో, భారతదేశపు మొట్టమొదటి సావరిన్ గ్రీన్ బాండ్స్ ఫ్రేమ్వర్క్‌ను ఏ కేంద్ర మంత్రిత్వ శాఖ ఆమోదించింది?

Options :

1. ✔ ఆర్థిక మరియు కార్పొరేట్ వ్యవహారాల మంత్రిత్వ శాఖ

2. ✘ పర్యావరణ, అటవీ మరియు వాతావరణ మార్పుల మంత్రిత్వ శాఖ

3. ✘ హోం వ్యవహారాల మంత్రిత్వ శాఖ

4. ✘ విదేశీ వ్యవహారాల మంత్రిత్వ శాఖ

Question Number : 8 Question Id : 630680227173 Option Shuffling : Yes Is Question Mandatory : No Calculator : None Response Time : N.A Think Time : N.A Minimum Instruction Time : 0

Correct Marks : 1 Wrong Marks : 0

Which of the following statements is/are correct regarding the Production Linked Incentive (PLI) scheme to support the indigenous drone industry in India?

I. In November 2022, the Ministry of Civil Aviation issued the guidelines for this scheme.

II. For the implementation of this scheme during 2022-23 to 2024-25, a corpus of ₹120 crores has been allocated.

Options :

1. ✘ Only I

2. ✘ Only II
3. ✔ Both I and II
4. ✘ Neither I nor II

Question Number : 8 Question Id : 630680227173 Option Shuffling : Yes Is Question Mandatory : No Calculator : None Response Time : N.A Think Time : N.A Minimum Instruction Time : 0

Correct Marks : 1 Wrong Marks : 0

భారతదేశంలోని స్వదేశీ డ్రోన్ పరిశ్రమకు మద్దతు ఇవ్వడానికి ఉత్పత్తి అనుసంధాన ప్రోత్సాహక (PLI) పథకానికి సంబంధించి కింది ప్రకటనలలో ఏది/ఏవి సరైనది/సరైనవి?

- I. నవంబర్ 2022లో, పౌర విమానయాన మంత్రిత్వ శాఖ ఈ పథకం కొరకు మార్గదర్శకాలను జారీ చేసింది.
- II. ఈ పథకాన్ని అమలు చేయడం కొరకు 2022-23 నుండి 2024-25 వరకు, ₹120 కోట్ల నిధి కేటాయించబడింది.

Options :

1. ✘ I మాత్రమే
2. ✘ II మాత్రమే
3. ✔ I మరియు II లు రెండూ
4. ✘ I కానీ లేదా II కానీ ఏదీ కాదు

Question Number : 9 Question Id : 630680227174 Option Shuffling : Yes Is Question Mandatory : No Calculator : None Response Time : N.A Think Time : N.A Minimum Instruction Time : 0

Correct Marks : 1 Wrong Marks : 0

Which of the following statements is/are correct regarding the Agni-V missile that was successfully test-fired in December 2022?

- I. It is a nuclear-capable ballistic missile.
- II. It can strike targets at ranges upto 6000 km.

Options :

1. ✔ Only I
2. ✘ Only II
3. ✘ Both I and II
4. ✘ Neither I nor II

Question Number : 9 Question Id : 630680227174 Option Shuffling : Yes Is Question Mandatory : No Calculator : None Response Time : N.A Think Time : N.A Minimum Instruction Time : 0

Correct Marks : 1 Wrong Marks : 0

డిసెంబరు 2022 లో విజయవంతంగా పరీక్షించబడిన అగ్ని-V క్షిపణికి సంబంధించి క్రింది వాటిలో ఏది/ఏవి సరైనది/సరైనవి?

- I. ఇది అణు సామర్థ్యం గల గతిశీల క్షిపణి.
- II. ఇది 6,000 km పరిధి వరకు గల లక్ష్యాలను ఛేదించగలదు.

Options :

1. ✔ I మాత్రమే
2. ✘ II మాత్రమే
3. ✘ I మరియు II లు రెండూ
4. ✘ I కానీ లేదా II కానీ ఏదీ కాదు

Question Number : 10 Question Id : 630680227175 Option Shuffling : Yes Is Question Mandatory : No Calculator : None Response Time : N.A Think Time : N.A Minimum Instruction Time : 0

Correct Marks : 1 Wrong Marks : 0

Which of the following statements are correct regarding the Amrit Sarovar Mission?

- I. The Government has planned to construct 50,000 Amrit Sarovars across the country by 15th August 2025.
- II. Mission Amrit Sarovar was launched on 24th April 2022, by Prime Minister Narendra Modi.
- III. As of 17th November 2022, approximately 90,531 sites had been selected for the construction of Amrit Sarovars, and work had begun on 52,245 at the selected locations.

Options :

1. ✘ Only I and II

2. ✓ Only II and III

3. ✗ Only I and III

4. ✗ I, II and III

Question Number : 10 Question Id : 630680227175 Option Shuffling : Yes Is Question Mandatory : No Calculator : None Response Time : N.A Think Time : N.A Minimum Instruction Time : 0 Negative Marks Display Text : 0.0

Correct Marks : 1 Wrong Marks : 0

అమృత్ సరోవర్ మిషన్ కు సంబంధించి కింది వాటిలో ఏది సరైన ప్రకటన?

- I. 15 ఆగస్టు 2025 నాటికి దేశవ్యాప్తంగా 50,000 అమృత్ సరోవర్లను నిర్మించాలని ప్రభుత్వం ప్రణాళిక వేసింది.
- II. 2022 ఏప్రిల్ 24 న మిషన్ అమృత్ సరోవర్ ప్రధాన మంత్రి నరేంద్ర మోడీ చేతుల మీదుగా ప్రారంభించారు.
- III. 17 నవంబర్ 2022 నాటికి, అమృత్ సరోవర్ల నిర్మాణం కొరకు సుమారు 90,531 స్థలాలు ఎంపిక చేయబడ్డాయి మరియు ఎంపిక చేసిన స్థలాలలోని 52,245 ప్రదేశాలలో పనులు ప్రారంభమయ్యాయి.

Options :

1. ✗ I మరియు II లు మాత్రమే

2. ✓ II మరియు III లు మాత్రమే

3. ✗ I మరియు III లు మాత్రమే

4. ✗ I, II మరియు III

Question Number : 11 Question Id : 630680227176 Option Shuffling : Yes Is Question Mandatory : No Calculator : None Response Time : N.A Think Time : N.A Minimum Instruction Time : 0

Correct Marks : 1 Wrong Marks : 0

Which of the following statements is/are correct regarding 'Death Penalty in India, Annual Statistics Report, 2022' released by Project 39A of the National Law University (NLU)?

- I. Trial courts across the country imposed 165 death sentences in 2022.
- II. 539 prisoners were on death row by the end of 2022.

Options :

1. ✗ Only I

2. ✗ Only II

3. ✓ Both I and II

4. ✗ Neither I nor II

Question Number : 11 Question Id : 630680227176 Option Shuffling : Yes Is Question Mandatory : No Calculator : None Response Time : N.A Think Time : N.A Minimum Instruction Time : 0

Correct Marks : 1 Wrong Marks : 0

జాతీయ లా విశ్వవిద్యాలయం (NLU) ప్రాజెక్ట్ 39A విడుదల చేసిన 'భారతదేశంలో మరణశిక్ష, వార్షిక గణాంకాల నివేదిక, 2022' కి సంబంధించి కింది వాటిలో ఏది/వి సరైనది/సరైనవి?

- I. 2022 లో దేశవ్యాప్తంగా ట్రయల్ కోర్టులు 165 మరణ శిక్షలు విధించాయి.
- II. 2022 చివరి నాటికి 539 మంది ఖైదీలు మరణశిక్ష వరుసలో ఉన్నారు.

Options :

1. ✗ I మాత్రమే

2. ✗ II మాత్రమే

3. ✓ I మరియు II లు రెండూ

4. ✗ I కానీ లేదా II కానీ ఏదీ కాదు

Question Number : 12 Question Id : 630680227177 Option Shuffling : Yes Is Question Mandatory : No Calculator : None Response Time : N.A Think Time : N.A Minimum Instruction Time : 0

Correct Marks : 1 Wrong Marks : 0

Which two organisations launched the 'She Feeds the World' program in India in January 2023?

Options :

1. ✗ The Coca-Cola Foundation and Action Against Hunger

2. ✗ The Coca-Cola Foundation and CARE

3. ✗ PepsiCo Foundation and Action Against Hunger

4. ✓ PepsiCo Foundation and CARE

Question Number : 12 Question Id : 630680227177 Option Shuffling : Yes Is Question Mandatory : No Calculator : None Response Time : N.A Think Time : N.A Minimum Instruction Time : 0

Correct Marks : 1 Wrong Marks : 0

జనవరి 2023 లో భారతదేశంలో ఏ రెండు సంస్థలు 'షీ ఫీడ్స్ ది వరల్డ్' కార్యక్రమాన్ని ప్రారంభించాయి?

Options :

1. ✘ కోకా-కోలా ఫౌండేషన్ మరియు ఆకలికి వ్యతిరేక చర్య (Action Against Hunger)
2. ✘ కోకా-కోలా ఫౌండేషన్ మరియు CARE
3. ✘ పెప్సికో ఫౌండేషన్ మరియు ఆకలికి వ్యతిరేక చర్య (Action Against Hunger)
4. ✓ పెప్సికో ఫౌండేషన్ మరియు CARE

Question Number : 13 Question Id : 630680227178 Option Shuffling : Yes Is Question Mandatory : No Calculator : None Response Time : N.A Think Time : N.A Minimum Instruction Time : 0

Correct Marks : 1 Wrong Marks : 0

On India's 75th Independence Day, it was announced that petrified rice will be supplied in every scheme of the Government of India. What does petrification of rice mean?

Options :

1. ✘ Adding FRK containing macronutrients to normal rice
2. ✓ Adding FRK containing micronutrients to normal rice
3. ✘ Making rice impurity free
4. ✘ Brightening the colour of rice

Question Number : 13 Question Id : 630680227178 Option Shuffling : Yes Is Question Mandatory : No Calculator : None Response Time : N.A Think Time : N.A Minimum Instruction Time : 0 Negative Marks Display Text : 0.0

Correct Marks : 1 Wrong Marks : 0

భారతదేశ 75 వ స్వాతంత్ర్య దినోత్సవం సందర్భంగా, భారత ప్రభుత్వం యొక్క ప్రతి పథకంలో పెట్రీఫైడ్ బియ్యం సరఫరా చేయబడుతుందని ప్రకటించారు. బియ్యం పెట్రీఫికేషన్ అంటే ఏమిటి?

Options :

1. ✘ సాధారణ బియ్యంలో స్థూల పోషకాలను కలిగి ఉన్న FRKని కలపడం
2. ✓ సాధారణ బియ్యంలో సూక్ష్మ పోషకాలను కలిగి ఉన్న FRKని కలపడం
3. ✘ బియ్యాన్ని కల్తీ రహితముగా చేయడం
4. ✘ బియ్యం రంగును ప్రకాశవంతం చేయడం

Question Number : 14 Question Id : 630680227179 Option Shuffling : Yes Is Question Mandatory : No Calculator : None Response Time : N.A Think Time : N.A Minimum Instruction Time : 0

Correct Marks : 1 Wrong Marks : 0

What was the name of the world's first sheep to be cloned?

Options :

1. ✘ Garima
2. ✘ Mahima
3. ✓ Dolly
4. ✘ Kajal

Question Number : 14 Question Id : 630680227179 Option Shuffling : Yes Is Question Mandatory : No Calculator : None Response Time : N.A Think Time : N.A Minimum Instruction Time : 0

Correct Marks : 1 Wrong Marks : 0

ప్రపంచంలో మొట్ట మొదటిగా క్లోనింగ్ చేయబడిన గొర్రె పేరు ఏమిటి?

Options :

1. ✘ గరిమా
2. ✘ మహిమ
3. ✓ డాలీ

4. ✖ కాజల్

Question Number : 15 Question Id : 630680227180 Option Shuffling : Yes Is Question Mandatory : No Calculator : None
Response Time : N.A Think Time : N.A Minimum Instruction Time : 0

Correct Marks : 1 Wrong Marks : 0

Match the following compounds with their formulas.

	Compound		Formula
I	Sodium hydroxide	1	CaOCl ₂
II	Bleaching powder	2	NaOH
III	Baking soda	3	NaHCO ₃

Options :

1. ✖ I-1, II-2, III-3
2. ✔ I-2, II-1, III-3
3. ✖ I-2, II-3, III-1
4. ✖ I-3, II-1, III-2

Question Number : 15 Question Id : 630680227180 Option Shuffling : Yes Is Question Mandatory : No Calculator : None
Response Time : N.A Think Time : N.A Minimum Instruction Time : 0

Correct Marks : 1 Wrong Marks : 0

కింది సమ్మేళనాలను వాటి ఫార్ములాలతో జతపరచండి.

	సమ్మేళనం		ఫార్ములా
I	సోడియం హైడ్రాక్సైడ్	1	CaOCl ₂
II	బ్లీచింగ్ పౌడర్	2	NaOH
III	బేకింగ్ సోడా	3	NaHCO ₃

Options :

1. ✖ I-1, II-2, III-3
2. ✔ I-2, II-1, III-3
3. ✖ I-2, II-3, III-1
4. ✖ I-3, II-1, III-2

Question Number : 16 Question Id : 630680227181 Option Shuffling : Yes Is Question Mandatory : No Calculator : None
Response Time : N.A Think Time : N.A Minimum Instruction Time : 0

Correct Marks : 1 Wrong Marks : 0

Which of the following pairs of normal blood pressure and its value is/are correct?

- I. Normal Systolic : 80 mm of Hg
- II. Normal Diastolic : 120 mm of Hg

Options :

1. ✖ Only I
2. ✖ Only II
3. ✖ Both I and II
4. ✔ Neither I nor II

Question Number : 16 Question Id : 630680227181 Option Shuffling : Yes Is Question Mandatory : No Calculator : None

Response Time : N.A Think Time : N.A Minimum Instruction Time : 0

Correct Marks : 1 Wrong Marks : 0

సాధారణ రక్తపోటు మరియు దాని విలువ యొక్క క్రింది జతలలో ఏది/ఏవి సరైనది/సరైనవి?

I. సాధారణ సిస్టోలిక్ పీడనం : 80 mm Hg

II. సాధారణ డయాస్టోలిక్ పీడనం : 120 mm Hg

Options :

1. ✘ I మాత్రమే
2. ✘ II మాత్రమే
3. ✘ I మరియు II లు రెండూ
4. ✔ I కానీ లేదా II కానీ ఏదీ కాదు

Question Number : 17 Question Id : 630680227182 Option Shuffling : Yes Is Question Mandatory : No Calculator : None

Response Time : N.A Think Time : N.A Minimum Instruction Time : 0

Correct Marks : 1 Wrong Marks : 0

Which of the following statements regarding atoms are correct?

I. Number of protons determine their atomic number.

II. Number of protons and neutrons determine their mass number.

III. Electrons are present in the nucleus of an atom.

Options :

1. ✔ Only I and II
2. ✘ Only II and III
3. ✘ Only I and III
4. ✘ I, II and III

Question Number : 17 Question Id : 630680227182 Option Shuffling : Yes Is Question Mandatory : No Calculator : None

Response Time : N.A Think Time : N.A Minimum Instruction Time : 0

Correct Marks : 1 Wrong Marks : 0

పరమాణువులకు సంబంధించి కింది ప్రకటనలలో ఏది సరైనది?

I. ప్రోటాన్ల సంఖ్య వాటి పరమాణు సంఖ్యను నిర్ణయిస్తుంది.

II. ప్రోటాన్లు మరియు న్యూట్రాన్ల సంఖ్య వాటి ద్రవ్యరాశి సంఖ్యను నిర్ణయిస్తుంది.

III. పరమాణువు యొక్క కేంద్రకంలో ఎలక్ట్రాన్లు ఉంటాయి.

Options :

1. ✔ I మరియు II లు మాత్రమే
2. ✘ II మరియు III లు మాత్రమే
3. ✘ I మరియు III లు మాత్రమే
4. ✘ I, II మరియు III

Question Number : 18 Question Id : 630680227183 Option Shuffling : Yes Is Question Mandatory : No Calculator : None

Response Time : N.A Think Time : N.A Minimum Instruction Time : 0

Correct Marks : 1 Wrong Marks : 0

Which of the following statements regarding mitosis is/are correct?

I. Each cell divides to form two identical daughter cells.

II. It helps in the growth and repair of tissues in organisms.

Options :

1. ✘ Only I
2. ✘ Only II
3. ✔ Both I and II
4. ✘ Neither I nor II

Question Number : 18 Question Id : 630680227183 Option Shuffling : Yes Is Question Mandatory : No Calculator : None

Response Time : N.A Think Time : N.A Minimum Instruction Time : 0

Correct Marks : 1 Wrong Marks : 0

సమవిభజనకు సంబంధించి కింది ప్రకటనలలో ఏది/ఏవి సరైనది/సరైనవి?

- I. ప్రతి కణం రెండు సమరూప పిల్ల కణాలుగా ఏర్పడుతాయి.
- II. ఇది జీవులలో కణజాలాల పెరుగుదల మరియు మరమ్మత్తులో సహాయపడుతుంది.

Options :

1. ✘ I మాత్రమే
2. ✘ II మాత్రమే
3. ✔ I మరియు II లు రెండూ
4. ✘ I కానీ లేదా II కానీ ఏదీ కాదు

Question Number : 19 Question Id : 630680227184 Option Shuffling : Yes Is Question Mandatory : No Calculator : None Response Time : N.A Think Time : N.A Minimum Instruction Time : 0

Correct Marks : 1 Wrong Marks : 0

Which of the following are also known as flowering plants?

Options :

1. ✘ Gymnosperms
2. ✔ Angiosperms
3. ✘ Algae
4. ✘ Pteridophytes

Question Number : 19 Question Id : 630680227184 Option Shuffling : Yes Is Question Mandatory : No Calculator : None Response Time : N.A Think Time : N.A Minimum Instruction Time : 0

Correct Marks : 1 Wrong Marks : 0

కింది వాటిలో దేనిని పుష్పించే మొక్కలు అని కూడా అంటారు?

Options :

1. ✘ వివృతబీజాలు
2. ✔ ఆవృతబీజాలు
3. ✘ శైవలాలు
4. ✘ టెరిడోఫైట్స్

Question Number : 20 Question Id : 630680227185 Option Shuffling : Yes Is Question Mandatory : No Calculator : None Response Time : N.A Think Time : N.A Minimum Instruction Time : 0

Correct Marks : 1 Wrong Marks : 0

Which of the following options contains the correct order of flow of energy in the ecosystem?

Options :

1. ✔ Sunlight, producers, herbivores, carnivores, top carnivores
2. ✘ Producers, sunlight, herbivores, carnivores, top carnivores
3. ✘ Sunlight, herbivores, producers, carnivores, top carnivores
4. ✘ Sunlight, top carnivores, carnivores, producers, herbivores

Question Number : 20 Question Id : 630680227185 Option Shuffling : Yes Is Question Mandatory : No Calculator : None Response Time : N.A Think Time : N.A Minimum Instruction Time : 0

Correct Marks : 1 Wrong Marks : 0

కింది ఏ ఎంపికలో పర్యావరణ వ్యవస్థలో శక్తి ప్రవాహం యొక్క సరైన క్రమం ఉంది?

Options :

1. ✔ సూర్యకాంతి, ఉత్పత్తిదారులు, శాకాహారులు, మాంసాహారులు, అగ్ర మాంసాహారులు
2. ✘ ఉత్పత్తిదారులు, సూర్యకాంతి, శాకాహారులు, మాంసాహారులు, అగ్ర మాంసాహారులు
3. ✘ సూర్యకాంతి, శాకాహారులు, ఉత్పత్తిదారులు, మాంసాహారులు, అగ్ర మాంసాహారులు
4. ✘ సూర్యకాంతి, అగ్ర మాంసాహారులు, మాంసాహారులు, ఉత్పత్తిదారులు, శాకాహారులు

Question Number : 21 Question Id : 630680227186 Option Shuffling : Yes Is Question Mandatory : No Calculator : None Response Time : N.A Think Time : N.A Minimum Instruction Time : 0

Correct Marks : 1 Wrong Marks : 0

With respect to disaster prevention in India, the setting up of the National Disaster Management Authority (NDMA) is mandated by the Disaster Management Act _____.

Options :

1. ✘ 2001
2. ✘ 2003
3. ✔ 2005
4. ✘ 2007

Question Number : 21 Question Id : 630680227186 Option Shuffling : Yes Is Question Mandatory : No Calculator : None Response Time : N.A Think Time : N.A Minimum Instruction Time : 0 Negative Marks Display Text : 0.0

Correct Marks : 1 Wrong Marks : 0

భారతదేశంలో విపత్తు నివారణకు సంబంధించి, విపత్తు నిర్వహణ చట్టం _____ జాతీయ విపత్తు నిర్వహణ సంస్థ (NDMA) ను ఏర్పాటు చేయడాన్ని తప్పనిసరి చేసింది.

Options :

1. ✘ 2001
2. ✘ 2003
3. ✔ 2005
4. ✘ 2007

Question Number : 22 Question Id : 630680227187 Option Shuffling : Yes Is Question Mandatory : No Calculator : None Response Time : N.A Think Time : N.A Minimum Instruction Time : 0

Correct Marks : 1 Wrong Marks : 0

GOME is a nadir-scanning ultraviolet and visible spectrometer for global monitoring of _____.

Options :

1. ✘ volcanic eruptions
2. ✘ heat waves
3. ✔ atmospheric ozone
4. ✘ tsunami

Question Number : 22 Question Id : 630680227187 Option Shuffling : Yes Is Question Mandatory : No Calculator : None Response Time : N.A Think Time : N.A Minimum Instruction Time : 0

Correct Marks : 1 Wrong Marks : 0

GOME అనేది _____ యొక్క ప్రపంచ పర్యవేక్షణ కొరకు నాడిర్-స్కానింగ్ అతినిలలోహిత మరియు దృగ్గోచర స్పెక్ట్రోమీటర్.

Options :

1. ✘ అగ్ని పర్వత విస్ఫోటనలు
2. ✘ వడగాలుల
3. ✔ వాతావరణ ఓజోన్
4. ✘ సునామీ

Question Number : 23 Question Id : 630680227188 Option Shuffling : Yes Is Question Mandatory : No Calculator : None Response Time : N.A Think Time : N.A Minimum Instruction Time : 0

Correct Marks : 1 Wrong Marks : 0

With respect to disaster management, the terms Jawad, Nisarga, Asani are some examples of _____.

Options :

1. ✘ satellites to detect ozone depletion
2. ✘ earthquake-prone regions
3. ✘ submarine to detect tsunami waves
4. ✔ cyclone names

Question Number : 23 Question Id : 630680227188 Option Shuffling : Yes Is Question Mandatory : No Calculator : None Response Time : N.A Think Time : N.A Minimum Instruction Time : 0

Correct Marks : 1 Wrong Marks : 0

విపత్తు నిర్వహణకు సంబంధించి, జవాద్, నిసర్గ, అసని అనే పదాలు _____ కి కొన్ని ఉదాహరణలు.

Options :

1. ✘ ఓజోన్ క్షీణతను గుర్తించడానికి ఉపగ్రహాలు
2. ✘ భూకంపం సంభవించే ప్రాంతాలు
3. ✘ సునామీ తరంగాలను గుర్తించే జలాంతర్గామి
4. ✔ తుఫాను పేర్లు

Question Number : 24 Question Id : 630680227189 Option Shuffling : Yes Is Question Mandatory : No Calculator : None Response Time : N.A Think Time : N.A Minimum Instruction Time : 0

Correct Marks : 1 Wrong Marks : 0

'World Energy Outlook 2022' report was released by _____.

Options :

1. ✔ International Energy Agency
2. ✘ World Bank
3. ✘ World Economic Forum
4. ✘ International Renewable Energy Agency

Question Number : 24 Question Id : 630680227189 Option Shuffling : Yes Is Question Mandatory : No Calculator : None Response Time : N.A Think Time : N.A Minimum Instruction Time : 0

Correct Marks : 1 Wrong Marks : 0

'వరల్డ్ ఎనర్జీ ఔట్‌లుక్ 2022' నివేదికను _____ విడుదల చేసింది.

Options :

1. ✔ ఇంటర్నేషనల్ ఎనర్జీ ఏజెన్సీ
2. ✘ వరల్డ్ బ్యాంకు
3. ✘ వరల్డ్ ఎకనామిక్ ఫోరమ్
4. ✘ ఇంటర్నేషనల్ రెన్యూవబుల్ ఎనర్జీ ఏజెన్సీ

Question Number : 25 Question Id : 630680227190 Option Shuffling : Yes Is Question Mandatory : No Calculator : None Response Time : N.A Think Time : N.A Minimum Instruction Time : 0

Correct Marks : 1 Wrong Marks : 0

United Nations has declared 2023 as the International Year of _____.

Options :

1. ✘ Sea food
2. ✘ Wild fruits
3. ✘ Commercial crops
4. ✔ Millets

Question Number : 25 Question Id : 630680227190 Option Shuffling : Yes Is Question Mandatory : No Calculator : None Response Time : N.A Think Time : N.A Minimum Instruction Time : 0 Negative Marks Display Text : 0.0

Correct Marks : 1 Wrong Marks : 0

2023 ని _____ యొక్క అంతర్జాతీయ సంవత్సరంగా ఐక్యరాజ్యసమితి ప్రకటించింది.

Options :

1. ✘ సముద్ర ఆహారం
2. ✘ అడవి పండ్లు
3. ✘ వాణిజ్య పంటలు
4. ✔ చిరు ధాన్యాలు

Question Number : 26 Question Id : 630680227191 Option Shuffling : Yes Is Question Mandatory : No Calculator : None Response Time : N.A Think Time : N.A Minimum Instruction Time : 0

Correct Marks : 1 Wrong Marks : 0

The 'Emissions Gap Report 2022' was released by _____.

Options :

1. ✘ World Bank
2. ✔ United Nations Environment Programme

3. ✘ International Renewable Energy Agency
4. ✘ Global Green Growth Institute

Question Number : 26 Question Id : 630680227191 Option Shuffling : Yes Is Question Mandatory : No Calculator : None Response Time : N.A Think Time : N.A Minimum Instruction Time : 0 Negative Marks Display Text : 0.0

Correct Marks : 1 Wrong Marks : 0

‘ఎమిషన్స్ గ్యాప్ రిపోర్ట్ 2022’ ని విడుదల చేసినవారు _____.

Options :

1. ✘ ప్రపంచ బ్యాంకు
2. ✔ ఐక్యరాజ్యసమితి పర్యావరణ కార్యక్రమం (United Nations Environment Programme)
3. ✘ అంతర్జాతీయ పునరుత్పాదక ఇంధన సంస్థ (International Renewable Energy Agency)
4. ✘ గ్లోబల్ గ్రీన్ గ్రోత్ ఇనిస్టిట్యూట్

Question Number : 27 Question Id : 630680227192 Option Shuffling : Yes Is Question Mandatory : No Calculator : None Response Time : N.A Think Time : N.A Minimum Instruction Time : 0

Correct Marks : 1 Wrong Marks : 0

As of March 2022, as per IUCN Red List, the African Cheetah is listed as _____.

Options :

1. ✔ vulnerable species
2. ✘ endangered species
3. ✘ critically endangered species
4. ✘ near threatened species

Question Number : 27 Question Id : 630680227192 Option Shuffling : Yes Is Question Mandatory : No Calculator : None Response Time : N.A Think Time : N.A Minimum Instruction Time : 0

Correct Marks : 1 Wrong Marks : 0

మార్చి 2022 నాటికి, IUCN రెడ్ లిస్ట్ ప్రకారం, ఆఫ్రికన్ చిరుత _____ గా జాబితా చేయబడింది.

Options :

1. ✔ హాని కలిగించే జాతులు
2. ✘ అంతరించిపోతున్న జాతులు
3. ✘ తీవ్రంగా అంతరించిపోతున్న జాతులు
4. ✘ అంతరించిపోడానికి దగ్గరలో ఉన్న జాతులు

Question Number : 28 Question Id : 630680227193 Option Shuffling : Yes Is Question Mandatory : No Calculator : None Response Time : N.A Think Time : N.A Minimum Instruction Time : 0

Correct Marks : 1 Wrong Marks : 0

What was India's rank in ‘Sustainable Development Report, 2022’?

Options :

1. ✘ 120
2. ✔ 121
3. ✘ 122
4. ✘ 123

Question Number : 28 Question Id : 630680227193 Option Shuffling : Yes Is Question Mandatory : No Calculator : None Response Time : N.A Think Time : N.A Minimum Instruction Time : 0

Correct Marks : 1 Wrong Marks : 0

‘సుస్థిర అభివృద్ధి నివేదిక, 2022’ లో భారతదేశం యొక్క ర్యాంకు ఎంత?

Options :

1. ✘ 120
2. ✔ 121
3. ✘ 122
4. ✘ 123

Question Number : 29 Question Id : 630680227194 Option Shuffling : Yes Is Question Mandatory : No Calculator : None Response Time : N.A Think Time : N.A Minimum Instruction Time : 0

Correct Marks : 1 Wrong Marks : 0

Which of the following statements is/are correct regarding the UN Framework Convention on Climate Change (UNFCCC)?

- I. The UNFCCC was adopted in 1992 at the Rio Earth Summit.
- II. Kyoto Protocol 1997 was not related to UNFCCC.

Options :

1. ✓ Only I
2. ✗ Only II
3. ✗ Both I and II
4. ✗ Neither I nor II

Question Number : 29 Question Id : 630680227194 Option Shuffling : Yes Is Question Mandatory : No Calculator : None Response Time : N.A Think Time : N.A Minimum Instruction Time : 0

Correct Marks : 1 Wrong Marks : 0

వాతావరణ మార్పుపై UN ఫ్రేమ్వర్క్ కన్వెన్షన్ (UN Framework Convention on Climate Change -UNFCCC) కి సంబంధించి కింది ప్రకటనలలో ఏది/ఏవి సరైనది/ సరైనవి?

- I. 1992లో రియో ధరిత్ర శిఖరాగ్ర సమావేశంలో UNFCCC ఆమోదించబడింది.
- II. క్యోటో ప్రోటోకాల్ 1997 UNFCCCకి సంబంధించినది కాదు.

Options :

1. ✓ I మాత్రమే
2. ✗ II మాత్రమే
3. ✗ I మరియు II లు రెండూ
4. ✗ I కానీ లేదా II కానీ ఏదీ కాదు

Question Number : 30 Question Id : 630680227195 Option Shuffling : Yes Is Question Mandatory : No Calculator : None Response Time : N.A Think Time : N.A Minimum Instruction Time : 0

Correct Marks : 1 Wrong Marks : 0

Which of the following statements is/are correct regarding the United Nations Conference on the Human Environment?

- I. It is also known as the Stockholm Conference.
- II. It was held in 1972.
- III. In this conference, an Action Plan for the Human Environment was adopted.

Options :

1. ✗ Only I
2. ✗ Only II
3. ✗ Only I and II
4. ✓ I, II and III

Question Number : 30 Question Id : 630680227195 Option Shuffling : Yes Is Question Mandatory : No Calculator : None Response Time : N.A Think Time : N.A Minimum Instruction Time : 0

Correct Marks : 1 Wrong Marks : 0

మానవ పర్యావరణంపై ఐక్యరాజ్యసమితి సదస్సుకు సంబంధించి కింది ప్రకటనలలో ఏది/ఏవి సరైనది/సరైనవి?

- I. దీనిని స్టాక్ హోమ్ సదస్సు అని కూడా అంటారు.
- II. ఇది 1972 లో జరిగింది.
- III. ఈ సదస్సులో మానవ పర్యావరణానికి సంబంధించిన కార్యాచరణ ప్రణాళికను అవలంబించారు.

Options :

1. ✗ I మాత్రమే
2. ✗ II మాత్రమే
3. ✗ I మరియు II లు మాత్రమే
4. ✓ I, II మరియు III

Question Number : 31 Question Id : 630680227196 Option Shuffling : Yes Is Question Mandatory : No Calculator : None Response Time : N.A Think Time : N.A Minimum Instruction Time : 0

Correct Marks : 1 Wrong Marks : 0

Which of the following Indian rivers is/are correctly paired with its origin point?

- I. Narmada – Amarkantak Hills
- II. Indus – Near Lake Mansarowar

Options :

- 1. ✘ Only I
- 2. ✘ Only II
- 3. ✔ Both I and II
- 4. ✘ Neither I nor II

Question Number : 31 Question Id : 630680227196 Option Shuffling : Yes Is Question Mandatory : No Calculator : None Response Time : N.A Think Time : N.A Minimum Instruction Time : 0

Correct Marks : 1 Wrong Marks : 0

కింది భారతీయ నదులు మరియు వాటి ఉద్భవ స్థానాల సరైన జత/లు ఏది/వివి?

- I. నర్మద - అమర్కాంట్ కొండలు
- II. సింధు - మానస సరోవరం సరస్సు దగ్గర

Options :

- 1. ✘ I మాత్రమే
- 2. ✘ II మాత్రమే
- 3. ✔ I మరియు II లు రెండూ
- 4. ✘ I కానీ లేదా II కానీ ఏదీ కాదు

Question Number : 32 Question Id : 630680227197 Option Shuffling : Yes Is Question Mandatory : No Calculator : None Response Time : N.A Think Time : N.A Minimum Instruction Time : 0

Correct Marks : 1 Wrong Marks : 0

Identify the option that arranges the following types of forests in India based on the amount of rainfall they receive in decreasing order.

- I. Thorn forests
- II. Tropical deciduous forests
- III. Tropical evergreen forests

Options :

- 1. ✘ II-I-III
- 2. ✘ I-II-III
- 3. ✔ III-II-I
- 4. ✘ I-III-II

Question Number : 32 Question Id : 630680227197 Option Shuffling : Yes Is Question Mandatory : No Calculator : None Response Time : N.A Think Time : N.A Minimum Instruction Time : 0

Correct Marks : 1 Wrong Marks : 0

భారతదేశంలోని కింది రకాల అడవులను అవి పొందే వర్షపాతం ఆధారంగా తగ్గే క్రమంలో అమర్చిన సరైన ఎంపికను గుర్తించండి

- I. ముళ్ల అడవులు
- II. ఉష్ణమండల ఆకురాల్చే అరణ్యాలు
- III. ఉష్ణమండల సతత హరిత అరణ్యాలు

Options :

- 1. ✘ II-I-III
- 2. ✘ I-II-III
- 3. ✔ III-II-I
- 4. ✘ I-III-II

Question Number : 33 Question Id : 630680227198 Option Shuffling : Yes Is Question Mandatory : No Calculator : None Response Time : N.A Think Time : N.A Minimum Instruction Time : 0

Correct Marks : 1 Wrong Marks : 0

Match the following dams with their respective rivers in India.

	Dams		Rivers
I	Hirakud Dam	1	Krishna
II	Koyna Dam	2	Bhagirathi
III	Tehri Dam	3	Mahanadi

Options :

1. ✘ I-3, II-2, III-1
2. ✔ I-3, II-1, III-2
3. ✘ I-1, II-2, III-3
4. ✘ I-1, II-3, III-2

Question Number : 33 Question Id : 630680227198 Option Shuffling : Yes Is Question Mandatory : No Calculator : None
Response Time : N.A Think Time : N.A Minimum Instruction Time : 0

Correct Marks : 1 Wrong Marks : 0

కింది ఆనకట్టలను భారతదేశంలోని వాటి సంబంధిత నదులతో జతపరచండి.

	ఆనకట్టలు		నదులు
I	హీరాకుడ్ ఆనకట్ట	1	కృష్ణా
II	కోయినా ఆనకట్ట	2	బాగీరథి
III	తెహ్రీ ఆనకట్ట	3	మహానది

Options :

1. ✘ I-3, II-2, III-1
2. ✔ I-3, II-1, III-2
3. ✘ I-1, II-2, III-3
4. ✘ I-1, II-3, III-2

Question Number : 34 Question Id : 630680227199 Option Shuffling : Yes Is Question Mandatory : No Calculator : None
Response Time : N.A Think Time : N.A Minimum Instruction Time : 0

Correct Marks : 1 Wrong Marks : 0

What is the chronological order (first to last) of the following events regarding forest conservation in India?

- I. Indian Wildlife (Protection) Act was passed.
- II. Project Tiger was launched.
- III. Environmental Protection Act was passed.

Options :

1. ✘ II, I, III
2. ✔ I, II, III
3. ✘ III, II, I
4. ✘ III, I, II

Question Number : 34 Question Id : 630680227199 Option Shuffling : Yes Is Question Mandatory : No Calculator : None
Response Time : N.A Think Time : N.A Minimum Instruction Time : 0

Correct Marks : 1 Wrong Marks : 0

భారతదేశంలో అటవీ సంరక్షణకు సంబంధించి కింది సంఘటనలను కాలక్రమానుసారం (మొదటి నుండి చివరి వరకు) అమర్చబడిన ఎంపిక ఏది?

- I. భారతీయ వన్యప్రాణి (రక్షణ) చట్టం ఆమోదించబడింది.
- II. ప్రాజెక్ట్ ట్రైగర్ ప్రారంభించబడింది.
- III. పర్యావరణ పరిరక్షణ చట్టం ఆమోదించబడింది.

Options :

1. ✘ II, I, III
2. ✔ I, II, III
3. ✘ III, II, I
4. ✘ III, I, II

Question Number : 35 Question Id : 630680227200 Option Shuffling : Yes Is Question Mandatory : No Calculator : None Response Time : N.A Think Time : N.A Minimum Instruction Time : 0

Correct Marks : 1 Wrong Marks : 0

Identify the option that arranges the following Indian states with respect to their population density in descending order as per the 2011 census of India.

Options :

1. ✘ Tamil Nadu, Kerala, Bihar
2. ✔ Bihar, Tamil Nadu, Kerala
3. ✘ Bihar, Kerala, Tamil Nadu
4. ✘ Kerala, Bihar, Tamil Nadu

Question Number : 35 Question Id : 630680227200 Option Shuffling : Yes Is Question Mandatory : No Calculator : None Response Time : N.A Think Time : N.A Minimum Instruction Time : 0 Negative Marks Display Text : 0.0

Correct Marks : 1 Wrong Marks : 0

2011 భారత జనాభా లెక్కల ప్రకారం వాటి జన సాంద్రత ఆధారంగా భారతీయ రాష్ట్రాలను అవరోహణ క్రమంలో గల ఎంపికను గుర్తించండి.

Options :

1. ✘ తమిళనాడు, కేరళ, బీహార్
2. ✔ బీహార్, తమిళనాడు, కేరళ
3. ✘ బీహార్, కేరళ, తమిళనాడు
4. ✘ కేరళ, బీహార్, తమిళనాడు

Question Number : 36 Question Id : 630680227201 Option Shuffling : Yes Is Question Mandatory : No Calculator : None Response Time : N.A Think Time : N.A Minimum Instruction Time : 0

Correct Marks : 1 Wrong Marks : 0

Match the following literacy rates with their respective states as per the Indian census of 2011.

	Literacy Rates		States
I	61.80 per cent	1	Bihar
II	91.33 per cent	2	Jharkhand
III	66.41 per cent	3	Mizoram

Options :

1. ✘ I-1, II-2, III-3
2. ✔ I-1, II-3, III-2
3. ✘ I-3, II-2, III-1
4. ✘ I-3, II-1, III-2

Question Number : 36 Question Id : 630680227201 Option Shuffling : Yes Is Question Mandatory : No Calculator : None Response Time : N.A Think Time : N.A Minimum Instruction Time : 0

Correct Marks : 1 Wrong Marks : 0

2011 భారత జనాభా లెక్కల ప్రకారం కింది అక్షరాస్యత రేట్లను వాటి సంబంధిత రాష్ట్రాలతో జతపరచండి.

	అక్షరాస్యత రేట్లు		రాష్ట్రాలు
I	61.80 శాతం	1	బీహార్
II	91.33 శాతం	2	జార్ఖండ్
III	66.41 శాతం	3	మిజోరం

Options :

1. ✘ I-1, II-2, III-3
2. ✔ I-1, II-3, III-2
3. ✘ I-3, II-2, III-1
4. ✘ I-3, II-1, III-2

Question Number : 37 Question Id : 630680227202 Option Shuffling : Yes Is Question Mandatory : No Calculator : None Response Time : N.A Think Time : N.A Minimum Instruction Time : 0

Correct Marks : 1 Wrong Marks : 0

Which of the following pairs of India's share with respect to world demography is/are correct (as per Census of India 2011)?

- I. Area – 4.4 per cent of the world's total area
- II. Population – 17.5 per cent of the world's total population

Options :

1. ✘ Only I
2. ✔ Only II
3. ✘ Both I and II
4. ✘ Neither I nor II

Question Number : 37 Question Id : 630680227202 Option Shuffling : Yes Is Question Mandatory : No Calculator : None Response Time : N.A Think Time : N.A Minimum Instruction Time : 0

Correct Marks : 1 Wrong Marks : 0

ప్రపంచ జనాభాకు సంబంధించి భారతదేశ వాటాలో కింది జంటలలో ఏది సరైనది/సరైనవి (భారతదేశ జనాభా 2011 ప్రకారం)?

- I. విస్తీర్ణం – ప్రపంచ మొత్తం విస్తీర్ణంలో 4.4 శాతం
- II. జనాభా - ప్రపంచ మొత్తం జనాభాలో 17.5 శాతం

Options :

1. ✘ I మాత్రమే
2. ✔ II మాత్రమే
3. ✘ I మరియు II లు రెండూ
4. ✘ I కానీ లేదా II కానీ ఏదీ కాదు

Question Number : 38 Question Id : 630680227203 Option Shuffling : Yes Is Question Mandatory : No Calculator : None Response Time : N.A Think Time : N.A Minimum Instruction Time : 0

Correct Marks : 1 Wrong Marks : 0

Identify the option that arranges the following decades in terms of increasing rate of population growth in India?

- I. 1971-1981
- II. 1991-2001
- III. 2001-2011

Options :

1. ✘ II, III, I

2. ✘ II, I, III
3. ✘ III, I, II
4. ✔ III, II, I

Question Number : 38 Question Id : 630680227203 Option Shuffling : Yes Is Question Mandatory : No Calculator : None Response Time : N.A Think Time : N.A Minimum Instruction Time : 0

Correct Marks : 1 Wrong Marks : 0

క్రింది దశాబ్దాలలో భారతదేశంలో జనాభా పెరుగుదల రేటు పరంగా పెరిగే క్రమంలో ఏర్పాటు చేసే ఎంపికను గుర్తించండి?

- I. 1971-1981
- II. 1991-2001
- III. 2001-2011

Options :

1. ✘ II, III, I
2. ✘ II, I, III
3. ✘ III, I, II
4. ✔ III, II, I

Question Number : 39 Question Id : 630680227204 Option Shuffling : Yes Is Question Mandatory : No Calculator : None Response Time : N.A Think Time : N.A Minimum Instruction Time : 0

Correct Marks : 1 Wrong Marks : 0

Which of the following statements is/are INCORRECT regarding the crop production in India?

- I. In India, rice is grown in winter because it requires low temperatures.
- II. India is the leading producer of coffee in the world.

Options :

1. ✘ Only I
2. ✘ Only II
3. ✔ Both I and II
4. ✘ Neither I nor II

Question Number : 39 Question Id : 630680227204 Option Shuffling : Yes Is Question Mandatory : No Calculator : None Response Time : N.A Think Time : N.A Minimum Instruction Time : 0

Correct Marks : 1 Wrong Marks : 0

భారతదేశంలో పంట ఉత్పత్తికి సంబంధించి కింది ఏ ప్రకటనలు సరైనది/సరైనవి కాదు/వు?

- I. భారతదేశంలో, వరిని చలికాలంలో పండిస్తారు, ఎందుకంటే దీనికి తక్కువ ఉష్ణోగ్రతలు ఉండాలి.
- II. ప్రపంచంలో కాఫీ ఉత్పత్తిలో భారతదేశం అగ్రగామిగా ఉంది.

Options :

1. ✘ I మాత్రమే
2. ✘ II మాత్రమే
3. ✔ I మరియు II లు రెండూ
4. ✘ I కానీ లేదా II కానీ ఏదీ కాదు

Question Number : 40 Question Id : 630680227205 Option Shuffling : Yes Is Question Mandatory : No Calculator : None Response Time : N.A Think Time : N.A Minimum Instruction Time : 0

Correct Marks : 1 Wrong Marks : 0

Which of the following is the correct order (from first to last) in terms of value addition in the textile industry?

- I. Weaving
- II. Spinning
- III. Dyeing

Options :

1. ✘ I, II, III
2. ✘ III, II, I
3. ✘ III, I, II

4. ✓ II, I, III

Question Number : 40 Question Id : 630680227205 Option Shuffling : Yes Is Question Mandatory : No Calculator : None Response Time : N.A Think Time : N.A Minimum Instruction Time : 0

Correct Marks : 1 Wrong Marks : 0

వస్త్ర పరిశ్రమలో కింది వాటి విలువ వృద్ధి పరంగా సరైన క్రమం (మొదటి నుండి చివరి వరకు) ఏది?

- I. నేయడం (Weaving)
- II. నూలు వడకడం (Spinning)
- III. రంగు అద్దడం (Dyeing)

Options :

- 1. ✗ I, II, III
- 2. ✗ III, II, I
- 3. ✗ III, I, II
- 4. ✓ II, I, III

Question Number : 41 Question Id : 630680227206 Option Shuffling : Yes Is Question Mandatory : No Calculator : None Response Time : N.A Think Time : N.A Minimum Instruction Time : 0

Correct Marks : 1 Wrong Marks : 0

Identify the option that arranges the following ports with respect to their location from north to south.

- I. Chennai Port
- II. Vishakhapatnam Port
- III. Paradip Port

Options :

- 1. ✗ I, III, II
- 2. ✗ I, II, III
- 3. ✓ III, II, I
- 4. ✗ II, I, III

Question Number : 41 Question Id : 630680227206 Option Shuffling : Yes Is Question Mandatory : No Calculator : None Response Time : N.A Think Time : N.A Minimum Instruction Time : 0

Correct Marks : 1 Wrong Marks : 0

క్రింది ఓడరేవులను ఉత్తరం నుండి దక్షిణ దిశగా వాటి స్థానాల ఆధారంగా సరైన క్రమంలో అమర్చిన ఎంపికను గుర్తించండి.

- I. చెన్నై ఓడరేవు
- II. విశాఖపట్నం ఓడరేవు
- III. పారాదీప్ ఓడరేవు

Options :

- 1. ✗ I, III, II
- 2. ✗ I, II, III
- 3. ✓ III, II, I
- 4. ✗ II, I, III

Question Number : 42 Question Id : 630680227207 Option Shuffling : Yes Is Question Mandatory : No Calculator : None Response Time : N.A Think Time : N.A Minimum Instruction Time : 0

Correct Marks : 1 Wrong Marks : 0

Which of the following is/are key feature/s of the Constitution of India?

- I. Federalism
- II. Separation of Powers

Options :

- 1. ✗ Only I
- 2. ✗ Only II
- 3. ✓ Both I and II
- 4. ✗ Neither I nor II

Question Number : 42 Question Id : 630680227207 Option Shuffling : Yes Is Question Mandatory : No Calculator : None Response Time : N.A Think Time : N.A Minimum Instruction Time : 0

Correct Marks : 1 Wrong Marks : 0

ఈ క్రింది వాటిలో భారత రాజ్యాంగం యొక్క ముఖ్య లక్షణం/లు ఏది/ఏవి?

- I. సమాఖ్యావిధానం
- II. అధికారాల విభజన

Options :

1. ✘ I మాత్రమే
2. ✘ II మాత్రమే
3. ✔ I మరియు II లు రెండూ
4. ✘ I కానీ లేదా II కానీ ఏదీ కాదు

Question Number : 43 Question Id : 630680227208 Option Shuffling : Yes Is Question Mandatory : No Calculator : None Response Time : N.A Think Time : N.A Minimum Instruction Time : 0

Correct Marks : 1 Wrong Marks : 0

What is the correct order (from first to last) of the following words mentioned in the Preamble of the Constitution of India?

Options :

1. ✔ Sovereign, Socialist, Secular
2. ✘ Socialist, Secular, Sovereign
3. ✘ Secular, Sovereign, Socialist
4. ✘ Secular, Socialist, Sovereign

Question Number : 43 Question Id : 630680227208 Option Shuffling : Yes Is Question Mandatory : No Calculator : None Response Time : N.A Think Time : N.A Minimum Instruction Time : 0

Correct Marks : 1 Wrong Marks : 0

భారత రాజ్యాంగ పీఠికలో పేర్కొన్న ఈ క్రింది పదాలలో (మొదటి నుండి చివరి వరకు) సరైన క్రమం ఏమిటి?

Options :

1. ✔ సార్వభౌమ, సామ్యవాద, లౌకికవాద
2. ✘ సామ్యవాద, లౌకికవాద, సార్వభౌమ
3. ✘ లౌకికవాదం, సార్వభౌమ, సామ్యవాద
4. ✘ లౌకికవాద, సామ్యవాద, సార్వభౌమ

Question Number : 44 Question Id : 630680227209 Option Shuffling : Yes Is Question Mandatory : No Calculator : None Response Time : N.A Think Time : N.A Minimum Instruction Time : 0

Correct Marks : 1 Wrong Marks : 0

Which of the following statements is/are correct regarding the Directive Principles of State Policy mentioned in the Constitution of India?

- I. Article 50 mentions the promotion of international peace and security.
- II. Article 50A deals with the protection and improvement of the environment.
- III. Article 46 mentions about the promotion of educational and economic interest of scheduled caste, scheduled tribes and other weaker sections.

Options :

1. ✘ Only I
2. ✘ Only I and II
3. ✘ Only II and III
4. ✔ Only III

Question Number : 44 Question Id : 630680227209 Option Shuffling : Yes Is Question Mandatory : No Calculator : None Response Time : N.A Think Time : N.A Minimum Instruction Time : 0

Correct Marks : 1 Wrong Marks : 0

భారత రాజ్యాంగంలో పేర్కొన్న రాష్ట్ర విధాన నిర్దేశక సూత్రాలకు సంబంధించి ఈ క్రింది ప్రకటనలలో ఏది/ ఏవి సరైనది/ సరైనవి?

- I. అధికరణం 50 అంతర్జాతీయ శాంతి మరియు భద్రతను ప్రోత్సహించడం గురించి ప్రస్తావించింది.
 II. అధికరణం 50A పర్యావరణ పరిరక్షణ మరియు మెరుగుపరచడంతో వ్యవహరిస్తుంది.
 III. అధికరణం 46 షెడ్యూల్డ్ కులాలు, షెడ్యూల్డ్ తెగలు మరియు ఇతర బలహీన వర్గాల విద్య మరియు ఆర్థిక ప్రయోజనాలను ప్రోత్సహించడం గురించి ప్రస్తావించింది.

Options :

1. ✘ I మాత్రమే
2. ✘ I మరియు II లు మాత్రమే
3. ✘ II మరియు III లు మాత్రమే
4. ✔ III మాత్రమే

Question Number : 45 Question Id : 630680227210 Option Shuffling : Yes Is Question Mandatory : No Calculator : None Response Time : N.A Think Time : N.A Minimum Instruction Time : 0

Correct Marks : 1 Wrong Marks : 0

Identify the correct chronological order (first to last) of the following amendments of the Constitution of India.

Options :

1. ✔ Incorporation of Dadra, Nagar and Haveli as Union Territory, addition of Panchayats, addition of 11th fundamental duty
2. ✘ Addition of Panchayats, incorporation of Dadra, Nagar and Haveli as Union Territory, addition of 11th fundamental duty
3. ✘ Incorporation of Dadra, Nagar and Haveli as Union Territory, addition of 11th fundamental duty, addition of Panchayats
4. ✘ Addition of 11th fundamental duty, incorporation of Dadra, Nagar and Haveli as Union Territory, addition of Panchayats

Question Number : 45 Question Id : 630680227210 Option Shuffling : Yes Is Question Mandatory : No Calculator : None Response Time : N.A Think Time : N.A Minimum Instruction Time : 0

Correct Marks : 1 Wrong Marks : 0

భారత రాజ్యాంగంలోని ఈ క్రింది సవరణల్లో సరైన కాలక్రమాన్ని (మొదటి నుండి చివరి వరకు) గుర్తించండి.

Options :

1. ✔ దాద్రా, నగర్ మరియు హవేలీలను కేంద్రపాలిత ప్రాంతంగా విలీనం చేయడం, పంచాయతీల జోడింపు, 11 వ ప్రాథమిక హక్కును చేర్చడం
2. ✘ పంచాయతీల జోడింపు, దాద్రా, నగర్ మరియు హవేలీలను కేంద్రపాలిత ప్రాంతంగా విలీనం చేయడం, 11 వ ప్రాథమిక హక్కును చేర్చడం
3. ✘ దాద్రా, నగర్ మరియు హవేలీలను కేంద్రపాలిత ప్రాంతంగా విలీనం చేయడం, 11 వ ప్రాథమిక హక్కును చేర్చడం, పంచాయతీల జోడింపు
4. ✘ 11 వ ప్రాథమిక హక్కును చేర్చడం, దాద్రా, నగర్ మరియు హవేలీలను కేంద్ర పాలిత ప్రాంతంగా విలీనం చేయడం, పంచాయతీల జోడింపు

Question Number : 46 Question Id : 630680227211 Option Shuffling : Yes Is Question Mandatory : No Calculator : None Response Time : N.A Think Time : N.A Minimum Instruction Time : 0

Correct Marks : 1 Wrong Marks : 0

Which Article of the Constitution of India gives the definition of money bills of the Parliament?

Options :

1. ✘ Article 108
2. ✔ Article 110
3. ✘ Article 112
4. ✘ Article 114

Question Number : 46 Question Id : 630680227211 Option Shuffling : Yes Is Question Mandatory : No Calculator : None Response Time : N.A Think Time : N.A Minimum Instruction Time : 0

Correct Marks : 1 Wrong Marks : 0

పార్లమెంటు ద్రవ్య బిల్లుల నిర్వచనాన్ని భారత రాజ్యాంగంలోని ఏ అధికరణం అందిస్తుంది?

Options :

1. ✘ అధికరణం 108
2. ✔ అధికరణం 110
3. ✘ అధికరణం 112

4. ✖ అధికరణం 114

Question Number : 47 Question Id : 630680227212 Option Shuffling : Yes Is Question Mandatory : No Calculator : None Response Time : N.A Think Time : N.A Minimum Instruction Time : 0 Correct Marks : 1 Wrong Marks : 0

Which of the following statements is/are correct regarding Indian Judiciary?

- I. The original jurisdiction of the Supreme Court is not applicable on disputes related to state governments and the Government of India.
- II. The law declared by the Supreme Court shall be binding on all courts within the territory of India.

Options :

1. ✖ Only I
2. ✔ Only II
3. ✖ Both I and II
4. ✖ Neither I nor II

Question Number : 47 Question Id : 630680227212 Option Shuffling : Yes Is Question Mandatory : No Calculator : None Response Time : N.A Think Time : N.A Minimum Instruction Time : 0 Correct Marks : 1 Wrong Marks : 0

భారత న్యాయవ్యవస్థకు సంబంధించి ఈ క్రింది వాటిలో ఏది/ఏవి సరైనది/ సరైనవి?

- I. రాష్ట్ర ప్రభుత్వాలు మరియు భారత ప్రభుత్వానికి సంబంధించిన వివాదాలపై సుప్రీంకోర్టు యొక్క అసలు అధికార పరిధి వర్తించదు.
- II. సుప్రీంకోర్టు ప్రకటించిన చట్టానికి భారత భూభాగంలోని అన్ని కోర్టులు కట్టుబడి వుండాలి.

Options :

1. ✖ I మాత్రమే
2. ✔ II మాత్రమే
3. ✖ I మరియు II లు రెండూ
4. ✖ I కానీ లేదా II కానీ ఏదీ కాదు

Question Number : 48 Question Id : 630680227213 Option Shuffling : Yes Is Question Mandatory : No Calculator : None Response Time : N.A Think Time : N.A Minimum Instruction Time : 0 Correct Marks : 1 Wrong Marks : 0

Which of the following statements is/are INCORRECT regarding the State Legislative Council?

- I. The strength of the State Legislative Council of a state must be more than one-tenth that of the State Legislative Assembly of that state.
- II. All the members of the State Legislative Council are nominated by the Governor.
- III. As of May 2022, there are 11 states in India with a State Legislative Council.

Options :

1. ✖ Only I
2. ✖ Only I and II
3. ✖ Only II and III
4. ✔ I, II and III

Question Number : 48 Question Id : 630680227213 Option Shuffling : Yes Is Question Mandatory : No Calculator : None Response Time : N.A Think Time : N.A Minimum Instruction Time : 0 Correct Marks : 1 Wrong Marks : 0

రాష్ట్ర శాసన మండలికి సంబంధించి ఈ క్రింది ప్రకటనల్లో ఏది/ఏవి సరైనది/సరైనవి కాదు?

- I. ఒక రాష్ట్రం యొక్క రాష్ట్ర శాసన మండలి బలం ఆ రాష్ట్ర శాసనసభలో పదవ వంతు కంటే ఎక్కువగా ఉండాలి.
- II. రాష్ట్ర శాసన మండలి సభ్యులందరినీ గవర్నర్ నామినేట్ చేస్తారు.
- III. మే 2022 నాటికి, భారతదేశంలో రాష్ట్ర శాసన మండలి గల 11 రాష్ట్రాలు కలవు.

Options :

1. ✖ I మాత్రమే
2. ✖ I మరియు II లు మాత్రమే
3. ✖ II మరియు III లు మాత్రమే

4. ✓ I, II మరియు III

Question Number : 49 Question Id : 630680227214 Option Shuffling : Yes Is Question Mandatory : No Calculator : None Response Time : N.A Think Time : N.A Minimum Instruction Time : 0

Correct Marks : 1 Wrong Marks : 0

Identify the correct decreasing order of the given Indian states with respect to the number of seats in the State Legislative Assembly?

Options :

1. ✓ Gujarat, Andhra Pradesh, Assam, Jharkhand
2. ✗ Andhra Pradesh, Gujarat, Assam, Jharkhand
3. ✗ Jharkhand, Gujarat, Assam, Andhra Pradesh
4. ✗ Gujarat, Assam, Andhra Pradesh, Jharkhand

Question Number : 49 Question Id : 630680227214 Option Shuffling : Yes Is Question Mandatory : No Calculator : None Response Time : N.A Think Time : N.A Minimum Instruction Time : 0

Correct Marks : 1 Wrong Marks : 0

రాష్ట్ర శాసనసభలో సీట్ల సంఖ్యకు సంబంధించి, ఇవ్వబడిన భారతీయ రాష్ట్రాల యొక్క సరైన తగ్గే క్రమం?

Options :

1. ✓ గుజరాత్, ఆంధ్రప్రదేశ్, అస్సాం, జార్ఖండ్
2. ✗ ఆంధ్రప్రదేశ్, గుజరాత్, అస్సాం, జార్ఖండ్
3. ✗ జార్ఖండ్, గుజరాత్, అస్సాం, ఆంధ్రప్రదేశ్
4. ✗ గుజరాత్, అస్సాం, ఆంధ్రప్రదేశ్, జార్ఖండ్

Question Number : 50 Question Id : 630680227215 Option Shuffling : Yes Is Question Mandatory : No Calculator : None Response Time : N.A Think Time : N.A Minimum Instruction Time : 0

Correct Marks : 1 Wrong Marks : 0

Which is the order (first to last) of the following items mentioned in the schedule of the Constitution of India?

Options :

1. ✗ Languages, Union List, Forms of Oaths or Affirmations
2. ✓ Forms of Oaths or Affirmations, Union List, Languages
3. ✗ Forms of Oaths or Affirmations, Languages, Union List
4. ✗ Union List, Languages, Forms of Oaths or Affirmations

Question Number : 50 Question Id : 630680227215 Option Shuffling : Yes Is Question Mandatory : No Calculator : None Response Time : N.A Think Time : N.A Minimum Instruction Time : 0 Negative Marks Display Text : 0.0

Correct Marks : 1 Wrong Marks : 0

భారత రాజ్యాంగం యొక్క షెడ్యూల్లో ఈ క్రింది అంశాలు పేర్కొనబడిన క్రమం (మొదటి నుండి చివరి వరకు) ఏది?

Options :

1. ✗ భాషలు, కేంద్ర ప్రభుత్వ జాబితా, ప్రమాణ స్వీకారాల లేదా ధృవీకరణల రూపాలు
2. ✓ ప్రమాణ స్వీకారాల లేదా ధృవీకరణల రూపాలు, కేంద్ర ప్రభుత్వ జాబితా, భాషలు
3. ✗ ప్రమాణ స్వీకారాల లేదా ధృవీకరణల రూపాలు, భాషలు, కేంద్ర ప్రభుత్వ జాబితా
4. ✗ కేంద్ర ప్రభుత్వ జాబితా, భాషలు, ప్రమాణ స్వీకారాల లేదా ధృవీకరణల రూపాలు

Question Number : 51 Question Id : 630680227216 Option Shuffling : Yes Is Question Mandatory : No Calculator : None Response Time : N.A Think Time : N.A Minimum Instruction Time : 0

Correct Marks : 1 Wrong Marks : 0

According to the Constitution of India, the duration of municipalities is _____.

Options :

1. ✗ three years
2. ✗ four years
3. ✓ five years
4. ✗ six years

Question Number : 51 Question Id : 630680227216 Option Shuffling : Yes Is Question Mandatory : No Calculator : None

Response Time : N.A Think Time : N.A Minimum Instruction Time : 0

Correct Marks : 1 Wrong Marks : 0

భారత రాజ్యాంగం ప్రకారం, మునిసిపాలిటీల కాల వ్యవధి _____.

Options :

1. ✘ మూడు సంవత్సరాలు
2. ✘ నాలుగు సంవత్సరాలు
3. ✔ ఐదు సంవత్సరాలు
4. ✘ ఆరు సంవత్సరాలు

Question Number : 52 Question Id : 630680227217 Option Shuffling : Yes Is Question Mandatory : No Calculator : None Response Time : N.A Think Time : N.A Minimum Instruction Time : 0

Correct Marks : 1 Wrong Marks : 0

Article 243-I of the Constitution of India provides for _____.

Options :

1. ✘ elections to the Panchayats
2. ✔ constitution of the Finance Commission to review the financial position of the Panchayats
3. ✘ powers, authority and responsibilities of Panchayats
4. ✘ duration of Panchayats

Question Number : 52 Question Id : 630680227217 Option Shuffling : Yes Is Question Mandatory : No Calculator : None Response Time : N.A Think Time : N.A Minimum Instruction Time : 0

Correct Marks : 1 Wrong Marks : 0

భారత రాజ్యాంగంలోని అధికరణం 243-I _____ తో వ్యవహరిస్తుంది.

Options :

1. ✘ పంచాయతీలకు ఎన్నికలు
2. ✔ పంచాయతీల ఆర్థిక స్థితిగతులను సమీక్షించడానికి ఫైనాన్స్ కమిషన్ యొక్క నిర్మాణం
3. ✘ పంచాయతీల అధికారాలు, అధికారం మరియు బాధ్యతలు
4. ✘ పంచాయతీల కాల వ్యవధి

Question Number : 53 Question Id : 630680227218 Option Shuffling : Yes Is Question Mandatory : No Calculator : None Response Time : N.A Think Time : N.A Minimum Instruction Time : 0 Negative Marks Display Text : 0.0

Correct Marks : 1 Wrong Marks : 0

Part IX (A) of the Constitution of the India was included in the Constitution by which constitutional amendment act?

Options :

1. ✔ 74th Amendment Act
2. ✘ 76th sixth Amendment Act
3. ✘ 78th Amendment Act
4. ✘ 70th Amendment Act

Question Number : 53 Question Id : 630680227218 Option Shuffling : Yes Is Question Mandatory : No Calculator : None Response Time : N.A Think Time : N.A Minimum Instruction Time : 0 Negative Marks Display Text : 0.0

Correct Marks : 1 Wrong Marks : 0

భారత రాజ్యాంగంలోని IX (A) విభాగం ఏ రాజ్యాంగ సవరణ చట్టం ద్వారా రాజ్యాంగంలో చేర్చబడింది?

Options :

1. ✔ 74 వ సవరణ చట్టం
2. ✘ 76 వ సవరణ చట్టం
3. ✘ 78 వ సవరణ చట్టం
4. ✘ 70 వ సవరణ చట్టం

Question Number : 54 Question Id : 630680227219 Option Shuffling : Yes Is Question Mandatory : No Calculator : None Response Time : N.A Think Time : N.A Minimum Instruction Time : 0

Correct Marks : 1 Wrong Marks : 0

When Alivardi Khan died in 1756, Siraj-ud-daulah became the _____.

Options :

1. ✓ Nawab of Bengal
2. ✗ Nawab of Mysore
3. ✗ Nawab of Oudh
4. ✗ Nawab of Lucknow

Question Number : 54 Question Id : 630680227219 Option Shuffling : Yes Is Question Mandatory : No Calculator : None Response Time : N.A Think Time : N.A Minimum Instruction Time : 0

Correct Marks : 1 Wrong Marks : 0

1756లో అలీవర్ది ఖాన్ మరణించినప్పుడు, సిరాజ్-ఉద్-దౌలా _____ అయ్యాడు.

Options :

1. ✓ బెంగాల్ నవాబు
2. ✗ మైసూర్ నవాబు
3. ✗ అవద్ నవాబ్
4. ✗ లక్నో నవాబ్

Question Number : 55 Question Id : 630680227220 Option Shuffling : Yes Is Question Mandatory : No Calculator : None Response Time : N.A Think Time : N.A Minimum Instruction Time : 0

Correct Marks : 1 Wrong Marks : 0

The Non-Cooperation and Khilafat Movement began in _____.

Options :

1. ✓ January 1921
2. ✗ February 1921
3. ✗ March 1921
4. ✗ April 1921

Question Number : 55 Question Id : 630680227220 Option Shuffling : Yes Is Question Mandatory : No Calculator : None Response Time : N.A Think Time : N.A Minimum Instruction Time : 0

Correct Marks : 1 Wrong Marks : 0

సహాయ నిరాకరణ మరియు ఖిలాఫత్ ఉద్యమం _____ లో ప్రారంభమైంది.

Options :

1. ✓ జనవరి 1921
2. ✗ ఫిబ్రవరి 1921
3. ✗ మార్చి 1921
4. ✗ ఏప్రిల్ 1921

Question Number : 56 Question Id : 630680227221 Option Shuffling : Yes Is Question Mandatory : No Calculator : None Response Time : N.A Think Time : N.A Minimum Instruction Time : 0

Correct Marks : 1 Wrong Marks : 0

Which of the following statements is/are correct?

- I. In 1765, the Mughal emperor appointed the East India Company as the Diwan of the provinces of Bombay.
- II. After the Battle of Buxar, the East India Company removed British residents from Indian states.

Options :

1. ✗ Only I
2. ✗ Only II
3. ✗ Both I and II
4. ✓ Neither I nor II

Question Number : 56 Question Id : 630680227221 Option Shuffling : Yes Is Question Mandatory : No Calculator : None Response Time : N.A Think Time : N.A Minimum Instruction Time : 0

Correct Marks : 1 Wrong Marks : 0

ఈ క్రింది ప్రకటనల్లో ఏది/ఏవి సరైనది/సరైనవి?

- I. 1765లో, మొఘల్ చక్రవర్తి ఈస్ట్ ఇండియా కంపెనీని బొంబాయి ప్రావిన్సులకు దివాన్గా నియమించాడు.
 II. బాక్సర్ యుద్ధం తరువాత, ఈస్ట్ ఇండియా కంపెనీ బ్రిటిష్ నివాసీతులను భారతీయ రాష్ట్రాల నుండి తొలగించింది.

Options :

1. ✘ I మాత్రమే
2. ✘ II మాత్రమే
3. ✘ I మరియు II లు రెండూ
4. ✔ I కానీ లేదా II కానీ ఏదీ కాదు

Question Number : 57 Question Id : 630680227222 Option Shuffling : Yes Is Question Mandatory : No Calculator : None Response Time : N.A Think Time : N.A Minimum Instruction Time : 0

Correct Marks : 1 Wrong Marks : 0

Match the following historical organisations / parties and the leaders associated with them with respect to the Indian freedom struggle.

	Organisations / Parties		Their Leaders
I	Hindustan Socialist Republican Army	1	Motilal Nehru
II	Swaraj Party	2	Mahatma Gandhi
III	Natal Indian Congress	3	Bhagat Singh

Options :

1. ✘ I-1, II-2, III-3
2. ✔ I-3, II-1, III-2
3. ✘ I-3, II-2, III-1
4. ✘ I-2, II-3, III-1

Question Number : 57 Question Id : 630680227222 Option Shuffling : Yes Is Question Mandatory : No Calculator : None Response Time : N.A Think Time : N.A Minimum Instruction Time : 0

Correct Marks : 1 Wrong Marks : 0

భారత స్వాతంత్ర్య పోరాటానికి సంబంధించి ఈ క్రింది చారిత్రక సంస్థలు/పార్టీలు మరియు వాటితో అనుబంధం ఉన్న నాయకులను జతపరచండి.

	సంస్థలు/పార్టీలు		వాటి నాయకులు
I	హిందుస్థాన్ సోషలిస్ట్ రిపబ్లికన్ ఆర్మీ	1	మోతీలాల్ నెహ్రూ
II	స్వరాజ్ పార్టీ	2	మహాత్మా గాంధీ
III	నాటల్ ఇండియన్ కాంగ్రెస్	3	భగత్ సింగ్

Options :

1. ✘ I-1, II-2, III-3
2. ✔ I-3, II-1, III-2
3. ✘ I-3, II-2, III-1
4. ✘ I-2, II-3, III-1

Question Number : 58 Question Id : 630680227223 Option Shuffling : Yes Is Question Mandatory : No Calculator : None Response Time : N.A Think Time : N.A Minimum Instruction Time : 0

Correct Marks : 1 Wrong Marks : 0

Which of the following kingdoms is/are correctly paired with the years in which they were annexed by the British?

- I. Satara: 1848
 II. Sambalpur: 1852
 III. Udaipur: 1850

Options :

1. ✓ Only I
2. ✗ Only II
3. ✗ Only I and II
4. ✗ Only II and III

Question Number : 58 Question Id : 630680227223 Option Shuffling : Yes Is Question Mandatory : No Calculator : None Response Time : N.A Think Time : N.A Minimum Instruction Time : 0

Correct Marks : 1 Wrong Marks : 0

ఈ క్రింది రాజ్యాలలో ఏది/వి బ్రిటిష్ వారిచే విలీనం చేయబడిన సంవత్సరాలతో సరిగ్గా జత చేయబడింది?

- I. సతారా: 1848
 II. సంబల్పూర్: 1852
 III. ఉదయపూర్: 1850

Options :

1. ✓ I మాత్రమే
2. ✗ II మాత్రమే
3. ✗ I మరియు II లు మాత్రమే
4. ✗ II మరియు III లు మాత్రమే

Question Number : 59 Question Id : 630680227224 Option Shuffling : Yes Is Question Mandatory : No Calculator : None Response Time : N.A Think Time : N.A Minimum Instruction Time : 0

Correct Marks : 1 Wrong Marks : 0

What is the correct chronological order (first to last) of the following events in Indian history?

- I. Formation of the All India Muslim League at Dacca
 II. Bengal partition by Viceroy Curzon
 III. The Indian National Congress split

Options :

1. ✗ I, II, III
2. ✗ III, II, I
3. ✓ II, I, III
4. ✗ I, III, II

Question Number : 59 Question Id : 630680227224 Option Shuffling : Yes Is Question Mandatory : No Calculator : None Response Time : N.A Think Time : N.A Minimum Instruction Time : 0

Correct Marks : 1 Wrong Marks : 0

భారతీయ చరిత్రలో ఈ క్రింది సంఘటనల సరైన కాలక్రమం (మొదటి నుండి చివరి వరకు) ఏమిటి?

- I. ఢాకాలో ఆల్ ఇండియా ముస్లిం లీగ్ ఏర్పాటు
 II. వైస్రాయ్ కర్జన్ ద్వారా బెంగాల్ విభజన
 III. భారత జాతీయ కాంగ్రెస్ చీలిపోయింది

Options :

1. ✗ I, II, III
2. ✗ III, II, I
3. ✓ II, I, III
4. ✗ I, III, II

Question Number : 60 Question Id : 630680227225 Option Shuffling : Yes Is Question Mandatory : No Calculator : None Response Time : N.A Think Time : N.A Minimum Instruction Time : 0

Correct Marks : 1 Wrong Marks : 0

Identify the option that arranges the following main centres of the Revolt of 1857 from north to south.

- I. Kanpur
II. Bareilly
III. Meerut

Options :

1. ✘ I, II, III
2. ✘ II, I, III
3. ✘ II, III, I
4. ✔ III, II, I

Question Number : 60 Question Id : 630680227225 Option Shuffling : Yes Is Question Mandatory : No Calculator : None Response Time : N.A Think Time : N.A Minimum Instruction Time : 0

Correct Marks : 1 Wrong Marks : 0

1857 తిరుగుబాటు యొక్క ఈ క్రింది ప్రధాన కేంద్రాలను ఉత్తరం నుండి దక్షిణానికి ఏర్పాటు చేసే ఎంపికను గుర్తించండి.

- I. కాన్పూర్
II. బరేలీ
III. మీరట్

Options :

1. ✘ I, II, III
2. ✘ II, I, III
3. ✘ II, III, I
4. ✔ III, II, I

Question Number : 61 Question Id : 630680227226 Option Shuffling : Yes Is Question Mandatory : No Calculator : None Response Time : N.A Think Time : N.A Minimum Instruction Time : 0

Correct Marks : 1 Wrong Marks : 0

After the economic reforms of 1991, there was an increase in 'FII' in the Indian economy. What does FII stand for?

Options :

1. ✘ First Institutional Insurances
2. ✘ Foreign Insurance Investors
3. ✔ Foreign Institutional Investors
4. ✘ First Institutional Investors

Question Number : 61 Question Id : 630680227226 Option Shuffling : Yes Is Question Mandatory : No Calculator : None Response Time : N.A Think Time : N.A Minimum Instruction Time : 0

Correct Marks : 1 Wrong Marks : 0

1991 ఆర్థిక సంస్కరణల తర్వాత భారత ఆర్థిక వ్యవస్థలో 'FII' పెరిగింది. FII అంటే ఏమిటి?

Options :

1. ✘ ఫస్ట్ ఇన్స్టిట్యూషనల్ ఇన్సూరెన్సెస్ (First Institutional Insurances)
2. ✘ ఫారిన్ ఇన్సూరెన్స్ ఇన్వెస్టర్స్ (Foreign Insurance Investors)
3. ✔ ఫారిన్ ఇన్స్టిట్యూషనల్ ఇన్వెస్టర్స్ (Foreign Institutional Investors)
4. ✘ ఫస్ట్ ఇన్స్టిట్యూషనల్ ఇన్వెస్టర్స్ (First Institutional Investors)

Question Number : 62 Question Id : 630680227227 Option Shuffling : Yes Is Question Mandatory : No Calculator : None Response Time : N.A Think Time : N.A Minimum Instruction Time : 0

Correct Marks : 1 Wrong Marks : 0

Which of the following statements is correct with respect to the New Economic Policy of 1991 of India?

Options :

1. ✘ Privatisation of the public sector enterprise was banned.
2. ✘ The Rate of corporation tax was increased.
3. ✔ Import licensing was abolished.
4. ✘ Outsourcing of services was abolished.

Question Number : 62 Question Id : 630680227227 Option Shuffling : Yes Is Question Mandatory : No Calculator : None Response Time : N.A Think Time : N.A Minimum Instruction Time : 0

Correct Marks : 1 Wrong Marks : 0

1991 భారత నూతన ఆర్థిక విధానానికి సంబంధించి ఈ క్రింది వాటిలో సరైన ప్రకటన ఏది?

Options :

1. ✘ ప్రభుత్వ రంగ సంస్థ యొక్క ప్రైవేటీకరణను నిషేధించారు.
2. ✘ కార్పొరేషన్ పన్ను రేటు పెరిగింది.
3. ✔ దిగుమతి లైసెన్సింగ్ రద్దు చేయబడింది.
4. ✘ ఔట్ సోర్సింగ్ సేవలను రద్దు చేశారు.

Question Number : 63 Question Id : 630680227228 Option Shuffling : Yes Is Question Mandatory : No Calculator : None Response Time : N.A Think Time : N.A Minimum Instruction Time : 0

Correct Marks : 1 Wrong Marks : 0

Which of the following is the correct expression for gross fiscal deficit?

Options :

1. ✔ Total expenditure – (Revenue receipts + Non-debt creating receipts)
2. ✘ Total expenditure + (Revenue receipts + Non-debt creating receipts)
3. ✘ Total expenditure – (Revenue receipts – Non-debt creating receipts)
4. ✘ Total expenditure + (Revenue receipts – Non-debt creating receipts)

Question Number : 63 Question Id : 630680227228 Option Shuffling : Yes Is Question Mandatory : No Calculator : None Response Time : N.A Think Time : N.A Minimum Instruction Time : 0

Correct Marks : 1 Wrong Marks : 0

ఈ క్రింది వాటిలో స్థూల ద్రవ్య లోటుకు సరైన వ్యక్తీకరణ ఏది?

Options :

1. ✔ మొత్తం వ్యయం – (రెవిన్యూ ఆదాయము + ఋణేతర ఆదాయము)
2. ✘ మొత్తం వ్యయం + (రెవిన్యూ ఆదాయము + ఋణేతర ఆదాయము)
3. ✘ మొత్తం వ్యయం – (రెవిన్యూ ఆదాయము – ఋణేతర ఆదాయము)
4. ✘ మొత్తం వ్యయం + (రెవిన్యూ ఆదాయము – ఋణేతర ఆదాయము)

Question Number : 64 Question Id : 630680227229 Option Shuffling : Yes Is Question Mandatory : No Calculator : None Response Time : N.A Think Time : N.A Minimum Instruction Time : 0

Correct Marks : 1 Wrong Marks : 0

Who gave the idea in the 'General Theory of Employment, Interest and Money' that government fiscal policy should be used to stabilise the level of output and employment?

Options :

1. ✘ Adam Smith
2. ✘ Milton Friedman
3. ✘ Karl Marx
4. ✔ John Maynard Keynes

Question Number : 64 Question Id : 630680227229 Option Shuffling : Yes Is Question Mandatory : No Calculator : None Response Time : N.A Think Time : N.A Minimum Instruction Time : 0

Correct Marks : 1 Wrong Marks : 0

ఉత్పాదన మరియు ఉపాధి స్థాయిని స్థిరీకరించడానికి ప్రభుత్వ ఆర్థిక విధానాన్ని ఉపయోగించాలని 'ఉపాధి, వడ్డీ మరియు డబ్బు యొక్క సాధారణ సిద్ధాంతం'కు ఊతమిచ్చింది ఎవరు?

Options :

1. ✘ ఆడమ్ స్మిత్
2. ✘ మిల్టన్ ఫ్రైడ్మాన్
3. ✘ కార్ల్ మార్క్స్
4. ✔ జాన్ మేనార్డ్ కీన్స్

Question Number : 65 Question Id : 630680227230 Option Shuffling : Yes Is Question Mandatory : No Calculator : None

Response Time : N.A Think Time : N.A Minimum Instruction Time : 0

Correct Marks : 1 Wrong Marks : 0

The Second Five-Year Plan was also known as the _____.

Options :

1. ✘ Harrod-Domar Plan
2. ✘ Bombay Plan
3. ✔ Mahalanobis Plan
4. ✘ Sarvodaya Plan

Question Number : 65 Question Id : 630680227230 Option Shuffling : Yes Is Question Mandatory : No Calculator : None

Response Time : N.A Think Time : N.A Minimum Instruction Time : 0

Correct Marks : 1 Wrong Marks : 0

రెండవ పంచవర్ష ప్రణాళికను _____ అని కూడా అంటారు.

Options :

1. ✘ హారోడ్-డోమర్ ప్లాన్
2. ✘ బాంబే ప్లాన్
3. ✔ మహాలనోబిస్ ప్లాన్
4. ✘ సర్వోదయ ప్లాన్

Question Number : 66 Question Id : 630680227231 Option Shuffling : Yes Is Question Mandatory : No Calculator : None

Response Time : N.A Think Time : N.A Minimum Instruction Time : 0

Correct Marks : 1 Wrong Marks : 0

Which of the following pairs is/are correct regarding economic development in India?

- I. 1948 : Planning Commission was set up.
- II. 1950 : Formulation of Industrial Policy Resolution

Options :

1. ✘ Only I
2. ✘ Only II
3. ✘ Both I and III
4. ✔ Neither I nor II

Question Number : 66 Question Id : 630680227231 Option Shuffling : Yes Is Question Mandatory : No Calculator : None

Response Time : N.A Think Time : N.A Minimum Instruction Time : 0

Correct Marks : 1 Wrong Marks : 0

భారతదేశంలో ఆర్థిక అభివృద్ధికి సంబంధించి ఈ క్రింది వాటిలో ఏది/ఏవి సరైనది/ సరైనవి?

- I. 1948 : ప్రణాళికా సంఘం ఏర్పాటు చేయబడింది.
- II. 1950 : పారిశ్రామిక విధాన తీర్మాన రూపకల్పన

Options :

1. ✘ I మాత్రమే
2. ✘ II మాత్రమే
3. ✘ I మరియు III లు రెండూ
4. ✔ I కానీ లేదా II కానీ ఏదీ కాదు

Question Number : 67 Question Id : 630680227232 Option Shuffling : Yes Is Question Mandatory : No Calculator : None

Response Time : N.A Think Time : N.A Minimum Instruction Time : 0

Correct Marks : 1 Wrong Marks : 0

Prasanta Chandra Mahalanobis established the Indian Statistical Institute (ISI) in _____.

Options :

1. ✔ Calcutta
2. ✘ Bombay
3. ✘ Surat
4. ✘ Delhi

Question Number : 67 Question Id : 630680227232 Option Shuffling : Yes Is Question Mandatory : No Calculator : None Response Time : N.A Think Time : N.A Minimum Instruction Time : 0

Correct Marks : 1 Wrong Marks : 0

ప్రశాంత చంద్ర మహలనోబిస్ _____ లో ఇండియన్ స్టాటిస్టికల్ ఇన్స్టిట్యూట్ (ISI)ని స్థాపించారు.

Options :

1. ✓ కలకత్తా
2. ✗ బొంబాయి
3. ✗ సూరత్
4. ✗ ఢిల్లీ

Question Number : 68 Question Id : 630680227233 Option Shuffling : Yes Is Question Mandatory : No Calculator : None Response Time : N.A Think Time : N.A Minimum Instruction Time : 0

Correct Marks : 1 Wrong Marks : 0

Match the following Five-Year Plans of India with their actual growth rates.

	Plans		Growth Rates
I	First Plan	1	3.6%
II	Fifth Plan	2	4.8%
III	Tenth Plan	3	7.6%

Options :

1. ✓ I-1, II-2, III-3
2. ✗ I-2, II-3, III-1
3. ✗ I-3, II-2, III-1
4. ✗ I-1, II-3, III-2

Question Number : 68 Question Id : 630680227233 Option Shuffling : Yes Is Question Mandatory : No Calculator : None Response Time : N.A Think Time : N.A Minimum Instruction Time : 0

Correct Marks : 1 Wrong Marks : 0

భారతదేశం యొక్క ఈ క్రింది పంచవర్ష ప్రణాళికలను వాటి వాస్తవ వృద్ధి రేటుతో జతపరచండి.

	ప్రణాళికలు		వృద్ధి రేటు
I	మొదటి ప్రణాళిక	1	3.6%
II	ఐదవ ప్రణాళిక	2	4.8%
III	పదవ ప్రణాళిక	3	7.6%

Options :

1. ✓ I-1, II-2, III-3
2. ✗ I-2, II-3, III-1
3. ✗ I-3, II-2, III-1
4. ✗ I-1, II-3, III-2

Question Number : 69 Question Id : 630680227234 Option Shuffling : Yes Is Question Mandatory : No Calculator : None Response Time : N.A Think Time : N.A Minimum Instruction Time : 0

Correct Marks : 1 Wrong Marks : 0

'Sambal' and 'Samarthya' are two sub-schemes under which of the following schemes of the Government of India?

Options :

1. ✘ Mission Sagar
2. ✘ Mission Karmayogi
3. ✔ Mission Shakti
4. ✘ Mission Covid Suraksha

Question Number : 69 Question Id : 630680227234 Option Shuffling : Yes Is Question Mandatory : No Calculator : None Response Time : N.A Think Time : N.A Minimum Instruction Time : 0

Correct Marks : 1 Wrong Marks : 0

సంబల్' మరియు 'సామర్త్య' అనేవి భారత ప్రభుత్వం యొక్క ఈ క్రింది ఏ పథకాల క్రింద ఉన్న రెండు ఉప-పథకాలు?

Options :

1. ✘ మిషన్ సాగర్
2. ✘ మిషన్ కర్మయోగి
3. ✔ మిషన్ శక్తి
4. ✘ మిషన్ కోవిడ్ సురక్ష

Question Number : 70 Question Id : 630680227235 Option Shuffling : Yes Is Question Mandatory : No Calculator : None Response Time : N.A Think Time : N.A Minimum Instruction Time : 0

Correct Marks : 1 Wrong Marks : 0

'PENCIL' is an online portal for effective enforcement of the _____.

Options :

1. ✘ New Education Policy
2. ✔ Child Labour Act
3. ✘ PM Poshan scheme
4. ✘ New India Literacy Programme

Question Number : 70 Question Id : 630680227235 Option Shuffling : Yes Is Question Mandatory : No Calculator : None Response Time : N.A Think Time : N.A Minimum Instruction Time : 0

Correct Marks : 1 Wrong Marks : 0

'PENCIL' అనేది _____ని సమర్థవంతంగా అమలు చేయడానికి ఒక ఆన్‌లైన్ పోర్టల్.

Options :

1. ✘ నూతన విద్యా విధానం
2. ✔ బాల కార్మిక చట్టం
3. ✘ పీఎం పోషణ పథకం
4. ✘ న్యూ ఇండియా లిటరసీ ప్రోగ్రామ్

Question Number : 71 Question Id : 630680227236 Option Shuffling : Yes Is Question Mandatory : No Calculator : None Response Time : N.A Think Time : N.A Minimum Instruction Time : 0

Correct Marks : 1 Wrong Marks : 0

The Socio-Economic and Caste Census (SECC) 2011 used how many deprivation indicators?

Options :

1. ✘ 5
2. ✔ 7
3. ✘ 9
4. ✘ 11

Question Number : 71 Question Id : 630680227236 Option Shuffling : Yes Is Question Mandatory : No Calculator : None Response Time : N.A Think Time : N.A Minimum Instruction Time : 0

Correct Marks : 1 Wrong Marks : 0

సామాజిక-ఆర్థిక మరియు కుల గణన (SECC) 2011 ఎన్ని కొరత సూచికలను ఉపయోగించింది?

Options :

1. ✘ 5

2. ✓ 7
3. ✘ 9
4. ✘ 11

Question Number : 72 Question Id : 630680227237 Option Shuffling : Yes Is Question Mandatory : No Calculator : None Response Time : N.A Think Time : N.A Minimum Instruction Time : 0

Correct Marks : 1 Wrong Marks : 0

Which of the following schemes has the objective of providing senior citizens, belonging to the BPL category and suffering from age-related disabilities or infirmities, with physical aids and assisted living devices?

Options :

1. ✘ Pradhan Mantri Vaya Vandana Yojana
2. ✘ SAMPANN Project
3. ✘ SACRED Portal for Elderly
4. ✓ Rashtriya Vayoshri Yojana

Question Number : 72 Question Id : 630680227237 Option Shuffling : Yes Is Question Mandatory : No Calculator : None Response Time : N.A Think Time : N.A Minimum Instruction Time : 0 Negative Marks Display Text : 0.0

Correct Marks : 1 Wrong Marks : 0

BPL వర్గానికి చెందిన మరియు వయస్సు సంబంధిత వైకల్యాలు లేదా బలహీనతలతో బాధపడుతున్న సీనియర్ సిటిజన్లకు భౌతిక సహాయ శారీరక ఉపకరణాలు మరియు సహాయక జీవన పరికరాలను అందించడం ఈ క్రింది పథకాలలో దేని లక్ష్యం?

Options :

1. ✘ ప్రధాన మంత్రి వయ వందన యోజన
2. ✘ SAMPANN ప్రాజెక్ట్
3. ✘ పెద్దవారి కోసం SACRED పోర్టల్
4. ✓ రాష్ట్రీయ వయోశ్రీ యోజన

Question Number : 73 Question Id : 630680227238 Option Shuffling : Yes Is Question Mandatory : No Calculator : None Response Time : N.A Think Time : N.A Minimum Instruction Time : 0

Correct Marks : 1 Wrong Marks : 0

Which one of the following is one of the World's longest span extra-dosed Cable Stayed Bridge and was inaugurated in September 2020?

Options :

1. ✓ Durgam Cheruvu Bridge
2. ✘ Nayapul
3. ✘ Chaderghat
4. ✘ Purana pul

Question Number : 73 Question Id : 630680227238 Option Shuffling : Yes Is Question Mandatory : No Calculator : None Response Time : N.A Think Time : N.A Minimum Instruction Time : 0 Negative Marks Display Text : 0.0

Correct Marks : 1 Wrong Marks : 0

కింది వాటిలో సెప్టెంబర్ 2020లో ప్రారంభించబడన ప్రపంచంలోనే బోలూ అత్యంత పొడవైన అదనపు-రక్షణతో ఉన్న కేబుల్స్ బ్రిడ్ నిర్మించిన వంటెన ఏది?

Options :

1. ✓ దుర్గం చెరువు వంటెన
2. ✘ నయాపుల్
3. ✘ చాదర్ఘాట్
4. ✘ పురాన పూల్

Question Number : 74 Question Id : 630680227239 Option Shuffling : Yes Is Question Mandatory : No Calculator : None Response Time : N.A Think Time : N.A Minimum Instruction Time : 0

Correct Marks : 1 Wrong Marks : 0

How many wildlife sanctuaries does Telangana have?

Options :

1. ✘ Five

2. ✓ Seven
3. ✗ Nine
4. ✗ Twelve

Question Number : 74 Question Id : 630680227239 Option Shuffling : Yes Is Question Mandatory : No Calculator : None Response Time : N.A Think Time : N.A Minimum Instruction Time : 0

Correct Marks : 1 Wrong Marks : 0

తెలంగాణలో ఎన్ని వన్యప్రాణి సంరక్షణ కేంద్రాలు ఉన్నాయి?

Options :

1. ✗ ఐదు
2. ✓ ఏడు
3. ✗ తొమ్మిది
4. ✗ పన్నెండు

Question Number : 75 Question Id : 630680227240 Option Shuffling : Yes Is Question Mandatory : No Calculator : None Response Time : N.A Think Time : N.A Minimum Instruction Time : 0

Correct Marks : 1 Wrong Marks : 0

Which one of the following statement/statements is/are TRUE about Bhuvanagiri Fort?

- A. Bhuvanagiri Fort is an ancient monument built on a monolithic rock fortress, about 47 km from the city of Hyderabad.
- B. Bhuvanagiri Fort is said to have been built during the reign of Mugla Vikramaditya, the 6th triangular dynasty of the Western Chalukya dynasty.

Options :

1. ✗ Only A is true
2. ✗ Only B is true
3. ✓ Both A and B is true
4. ✗ Neither A nor B is true

Question Number : 75 Question Id : 630680227240 Option Shuffling : Yes Is Question Mandatory : No Calculator : None Response Time : N.A Think Time : N.A Minimum Instruction Time : 0

Correct Marks : 1 Wrong Marks : 0

భువనగిరి కోటకు సంబంధించి ఈ కింది వాఖ్యాలలో ఏది/ఏవి నిజం?

- A. భువనగిరి కోట అనేది హైదరాబాద్ నగరానికి 47 కి.మీ.ల దూరంలో ఉన్న ఏకశిల రాతి కోటపై నిర్మించబడిన పురాతన స్మారక చిహ్నం.
- B. భువనగిరి కోట పశ్చిమ చాళుక్య రాజవంశంలోని 6వ త్రికోణ రాజవంశం అయిన మొగల విక్రమాదిత్య పాలనలో నిర్మించబడిందని చెబుతారు.

Options :

1. ✗ A మాత్రమే నిజం
2. ✗ B మాత్రమే నిజం
3. ✓ A మరియు B రెండూ నిజం
4. ✗ A మరియు B రెండూ నిజం కావు

Question Number : 76 Question Id : 630680227241 Option Shuffling : Yes Is Question Mandatory : No Calculator : None Response Time : N.A Think Time : N.A Minimum Instruction Time : 0

Correct Marks : 1 Wrong Marks : 0

Which one of the following statement/statements is/are TRUE about tributaries of Krishna flowing in Telangana?

- A. Bhima River joins Krishna River near Thangadigi.
- B. Mandipalle Pedda Vagu joins Krishna River near Gurrangadda village.
- C. Gowardhanagiri vagu joins Krishna River near Mandipalle village.

Options :

1. ✓ Only A is true
2. ✗ Only B is true
3. ✗ Only C is true

4. ✘ All A, B and C are true

Question Number : 76 Question Id : 630680227241 Option Shuffling : Yes Is Question Mandatory : No Calculator : None Response Time : N.A Think Time : N.A Minimum Instruction Time : 0 Negative Marks Display Text : 0.0

Correct Marks : 1 Wrong Marks : 0

తెలంగాణలో ప్రవహిస్తున్న కృష్ణా ఉపనదుల గురించిన ఈ కింది ప్రకటన/ప్రకటనలలో ఏది/ఏవి నిజం?

- తంగడిగి దగ్గర భీమా నది కృష్ణా నదిలో కలుస్తుంది.
- గుర్రంగల్ల గ్రామ సమీపంలో మండిపల్లె పెద్ద వాగు కృష్ణానదిలో కలుస్తుంది.
- మండిపల్లె గ్రామ సమీపంలో గోవర్ధన గిరి వాగు కృష్ణానదిలో కలుస్తుంది.

Options :

- ✔ A మాత్రమే నిజం
- ✘ B మాత్రమే నిజం
- ✘ C మాత్రమే నిజం
- ✘ A, B మరియు C అన్నీ నిజమే

Question Number : 77 Question Id : 630680227242 Option Shuffling : Yes Is Question Mandatory : No Calculator : None Response Time : N.A Think Time : N.A Minimum Instruction Time : 0

Correct Marks : 1 Wrong Marks : 0

Which one of the following statement/statements is/are TRUE about Gross Enrolment Ratio (GER) of Telangana as on January 2022?

- Rangareddy has the highest GER among all the districts at all three levels - primary, upper primary and secondary.
- Ten districts have a GER greater than the state average at the primary level.

Options :

- ✔ Only A is True
- ✘ Only B is True
- ✘ Both A and B is true
- ✘ Neither A nor B is true

Question Number : 77 Question Id : 630680227242 Option Shuffling : Yes Is Question Mandatory : No Calculator : None Response Time : N.A Think Time : N.A Minimum Instruction Time : 0 Negative Marks Display Text : 0.0

Correct Marks : 1 Wrong Marks : 0

జనవరి 2022 నాటికి తెలంగాణ యొక్క స్థూల నమోదు నిష్పత్తి (గ్రాస్ ఎన్రోల్మెంట్ రేషియో) (GER)కి సంబంధించి ఈ కింది ఏ ప్రకటన/ప్రకటనలు నిజమైనది/నిజమైనవి?

- ప్రాథమిక, ప్రాథమికోన్నత మరియు మాధ్యమిక అను మూడు స్థాయిలలో గల అన్ని జిల్లాల కన్నా రంగారెడ్డి అత్యధిక GERను కలిగి ఉంది.
- ప్రాథమిక స్థాయిలో రాష్ట్ర సగటు GER కంటే పది జిల్లాలు ఎక్కువ GERను కలిగి ఉన్నాయి.

Options :

- ✔ A మాత్రమే నిజం
- ✘ B మాత్రమే నిజం
- ✘ A మరియు B రెండూ నిజం
- ✘ A మరియు B రెండూ నిజం కాదు

Question Number : 78 Question Id : 630680227243 Option Shuffling : Yes Is Question Mandatory : No Calculator : None Response Time : N.A Think Time : N.A Minimum Instruction Time : 0

Correct Marks : 1 Wrong Marks : 0

The Kamareddy region of Telangana is known for its _____ production around 70 per cent of the farmers cultivate this crop.

Options :

- ✘ Cinnamon
- ✔ Sugarcane
- ✘ Coffee
- ✘ Cashew

Question Number : 78 Question Id : 630680227243 Option Shuffling : Yes Is Question Mandatory : No Calculator : None Response Time : N.A Think Time : N.A Minimum Instruction Time : 0 Negative Marks Display Text : 0.0

Correct Marks : 1 Wrong Marks : 0

తెలంగాణలోని కామారెడ్డి ప్రాంతం _____ ఉత్పత్తి సుమారు 70 శాతం రైతులు ఈ పంటను పండించడంలో ప్రసిద్ధి చెందింది.

Options :

1. ✘ మొక్కజొన్న
2. ✔ చెఱకు
3. ✘ కాఫీ
4. ✘ జీడిపప్పు

Question Number : 79 Question Id : 630680227244 Option Shuffling : Yes Is Question Mandatory : No Calculator : None Response Time : N.A Think Time : N.A Minimum Instruction Time : 0

Correct Marks : 1 Wrong Marks : 0

_____ is the main festival with the epithet 'pedda panduga' celebrated in Telangana.

Options :

1. ✘ Holi
2. ✘ Diwali
3. ✔ Dasara
4. ✘ Janmasthanami

Question Number : 79 Question Id : 630680227244 Option Shuffling : Yes Is Question Mandatory : No Calculator : None Response Time : N.A Think Time : N.A Minimum Instruction Time : 0

Correct Marks : 1 Wrong Marks : 0

పెద్ద పండుగ అనే పేరుతో తెలంగాణలో జరుపుకునే ప్రధాన పండుగ _____.

Options :

1. ✘ హోలీ
2. ✘ దీపావళి
3. ✔ దసరా
4. ✘ జన్మాష్టమి

Question Number : 80 Question Id : 630680227245 Option Shuffling : Yes Is Question Mandatory : No Calculator : None Response Time : N.A Think Time : N.A Minimum Instruction Time : 0

Correct Marks : 1 Wrong Marks : 0

Which festival is known as 'peerla panduga.' in Telangana?

Options :

1. ✘ Eid al-Fitr
2. ✔ Muharram
3. ✘ Lailat al-Qadr
4. ✘ Ramadan

Question Number : 80 Question Id : 630680227245 Option Shuffling : Yes Is Question Mandatory : No Calculator : None Response Time : N.A Think Time : N.A Minimum Instruction Time : 0

Correct Marks : 1 Wrong Marks : 0

తెలంగాణలో 'పీర్ల పండుగ' అని ఏ పండుగను పిలుస్తారు?

Options :

1. ✘ ఈద్-ఉల్-ఫితర్
2. ✔ మొహర్రం
3. ✘ లైలత్ అల్-ఖదర్
4. ✘ రంజాన్

Question Number : 81 Question Id : 630680227246 Option Shuffling : Yes Is Question Mandatory : No Calculator : None Response Time : N.A Think Time : N.A Minimum Instruction Time : 0

Correct Marks : 1 Wrong Marks : 0

An important part of which festival is Rangam (prophecy)?

Options :

1. ✘ SAMMAKKA SAARAKKA JAATHARA
2. ✘ DUSSEHRA
3. ✔ BONALU
4. ✘ HOLI

Question Number : 81 Question Id : 630680227246 Option Shuffling : Yes Is Question Mandatory : No Calculator : None Response Time : N.A Think Time : N.A Minimum Instruction Time : 0

Correct Marks : 1 Wrong Marks : 0

రంగం (జోస్యం) ఏ పండుగలో ముఖ్యమైన భాగం?

Options :

1. ✘ సమ్మక్క సారక్క జాతర
2. ✘ దసరా
3. ✔ బోనాలు
4. ✘ హోలీ

Question Number : 82 Question Id : 630680227247 Option Shuffling : Yes Is Question Mandatory : No Calculator : None Response Time : N.A Think Time : N.A Minimum Instruction Time : 0

Correct Marks : 1 Wrong Marks : 0

The Ramappa temple at Palampet in Telangana's Warangal had been conferred the tag of UNESCO World Heritage site in:

Options :

1. ✘ 2018
2. ✘ 2019
3. ✘ 2020
4. ✔ 2021

Question Number : 82 Question Id : 630680227247 Option Shuffling : Yes Is Question Mandatory : No Calculator : None Response Time : N.A Think Time : N.A Minimum Instruction Time : 0 Negative Marks Display Text : 0.0

Correct Marks : 1 Wrong Marks : 0

తెలంగాణలోని వరంగల్లోని పాలంపేటలో గల రామప్ప దేవాలయం, యునెస్కో(UNESCO) ప్రపంచ వారసత్వ ప్రదేశంగా గుర్తింపు పొందిన సంవత్సరం :

Options :

1. ✘ 2018
2. ✘ 2019
3. ✘ 2020
4. ✔ 2021

Question Number : 83 Question Id : 630680227248 Option Shuffling : Yes Is Question Mandatory : No Calculator : None Response Time : N.A Think Time : N.A Minimum Instruction Time : 0

Correct Marks : 1 Wrong Marks : 0

Match the List of temples in Telangana in List I and the District where they are located in List II:

Sl No.	List I-Temples	Sl No.	List II-Location (District)
A.	Surendrapuri Temple	i	Nirmal
B.	Bhadrachalam Temple	ii	Khammam
C.	Sanghi Temple	iii	Yadadri Bhuvanagiri
D.	Gnana Saraswati Temple	iv	Rangareddy

Options :

1. ✘ A-ii, B-iii, C-iv, D-i
2. ✔ A-iii, B-ii, C-iv, D-i
3. ✘ A-iii, B-ii, C-i, D-iv

4. ✘ A-iii, B-iv, C-ii, D-i

Question Number : 83 Question Id : 630680227248 Option Shuffling : Yes Is Question Mandatory : No Calculator : None
Response Time : N.A Think Time : N.A Minimum Instruction Time : 0

Correct Marks : 1 Wrong Marks : 0

జాబితా I లోని తెలంగాణ దేవాలయాలను జాబితా II లోని అవి ఉన్నటువంటి జిల్లాలతో జతచేయండి.

వరుస సంఖ్య	జాబితా I-దేవాలయాలు	వరుస సంఖ్య	జాబితా II-పుదేశం(జిల్లా)
A.	సురేంద్రపురి ఆలయం	i	నిర్మల్
B.	బద్రిచలం దేవాలయం	ii	ఖమ్మం
C.	సంఘి దేవాలయం	iii	యాదాద్రి భువనగిరి
D.	జ్ఞాన సరస్వతి ఆలయం	iv	రంగారెడ్డి

Options :

- ✘ A-ii, B-iii, C-iv, D-i
- ✔ A-iii, B-ii, C-iv, D-i
- ✘ A-iii, B-ii, C-i, D-iv
- ✘ A-iii, B-iv, C-ii, D-i

Question Number : 84 Question Id : 630680227249 Option Shuffling : Yes Is Question Mandatory : No Calculator : None
Response Time : N.A Think Time : N.A Minimum Instruction Time : 0

Correct Marks : 1 Wrong Marks : 0

Identify the correct pair of district of Telangana and the award it won in the Deen Dayal Upadhyay Panchayat Satat Vikas Puraskar (DDUPSVP) for 2021-2022:

Options :

- ✔ Gouthampur in Bhadradri-Kothagudem district-Healthy panchayat category
- ✘ Nelluta in Jangaon district-Socially secured panchayat category
- ✘ Kongatpally in Mahbubnagar district-Water sufficient panchayat category
- ✘ Airpoor under Suryapet district-Clean and Green Panchayat

Question Number : 84 Question Id : 630680227249 Option Shuffling : Yes Is Question Mandatory : No Calculator : None
Response Time : N.A Think Time : N.A Minimum Instruction Time : 0

Correct Marks : 1 Wrong Marks : 0

2021-2022లో దీన్ దయాళ్ ఉపాధ్యాయ్ పంచాయతీ సతత్ వికాస్ పురస్కార్ (DDUPSVP)లో పురస్కారాన్ని పొందిన తెలంగాణ జిల్లా మరియు అవార్డు యొక్క సరైన జతను గుర్తించండి:

Options :

- ✔ భద్రాద్రి-కొత్తగూడెం జిల్లాలోని గౌతంపూర్-ఆరోగ్యకరమైన పంచాయతీ వర్గం
- ✘ జనగాం జిల్లాలోని నెల్లుట-సామాజిక భద్రత కలిగిన పంచాయతీ వర్గం
- ✘ మహబూబ్ నగర్ జిల్లాలోని కొంగట్పల్లి - తగినన్ని నీటి వనరులు గల పంచాయతీ వర్గం
- ✘ సూర్యాపేట జిల్లా పరిధిలోని ఎయిర్ పూర్- శుభ్రమైన, ఆకుపచ్చని పంచాయతీ

Question Number : 85 Question Id : 630680227250 Option Shuffling : Yes Is Question Mandatory : No Calculator : None
Response Time : N.A Think Time : N.A Minimum Instruction Time : 0

Correct Marks : 1 Wrong Marks : 0

What is the Incremental progress rank of Telangana in the Round IV of Health Index for 2019-20?

Options :

- ✘ Fourth

2. ✓ Third
3. ✗ Seventh
4. ✗ Tenth

Question Number : 85 Question Id : 630680227250 Option Shuffling : Yes Is Question Mandatory : No Calculator : None Response Time : N.A Think Time : N.A Minimum Instruction Time : 0

Correct Marks : 1 Wrong Marks : 0

2019-20 నాటి ఆరోగ్య సూచీ రౌండు IVలో తెలంగాణ ఎదుగుదల ప్రగతి ర్యాంకు ఎంత?

Options :

1. ✗ నాలుగు
2. ✓ మూడు
3. ✗ ఏడు
4. ✗ పది

Question Number : 86 Question Id : 630680227251 Option Shuffling : Yes Is Question Mandatory : No Calculator : None Response Time : N.A Think Time : N.A Minimum Instruction Time : 0

Correct Marks : 1 Wrong Marks : 0

Which one of the following statement/statements is/are CORRECT about Telangana in NITI Aayog's 'State Energy and Climate Index' (SECI) Round-I report 2022:

- A. Telangana scored 100 in "hours of electricity supplied to the agriculture sector".
- B. Under access, affordable, and reliable (AAR) energy, Telangana stood in the second place with a score of 60.4 under the Scorecard of Larger States.

Options :

1. ✓ Both A and B are correct
2. ✗ Only A is correct
3. ✗ Only B is correct
4. ✗ Neither A nor B are correct

Question Number : 86 Question Id : 630680227251 Option Shuffling : Yes Is Question Mandatory : No Calculator : None Response Time : N.A Think Time : N.A Minimum Instruction Time : 0

Correct Marks : 1 Wrong Marks : 0

నీతి (NITI) ఆయోగ్ యొక్క 'స్టేట్ ఎనర్జీ అండ్ క్లైమేట్ ఇండెక్స్' (SECI) రౌండ్-I నివేదిక 2022లో తెలంగాణకు సంబంధించి ఈ కింది ఏ ప్రకటన/ప్రకటనలు సరైనది/సరైనవి:

- A. "వ్యవసాయ రంగానికి విద్యుత్ సరఫరా చేసిన గంటలు" అనే విభాగంలో తెలంగాణ 100 స్కోరును సాధించింది.
- B. సౌలభ్యం, అందుబాటు మరియు విశ్వసనీయ (యాక్సెస్, అఫోర్టబుల్ మరియు రిలెయబుల్) (AAR) శక్తి కింద, పెద్ద రాష్ట్రాల స్కోర్కార్డ్లో 60.4 స్కోర్తో తెలంగాణ రెండవ స్థానంలో నిలిచింది.

Options :

1. ✓ A మరియు B రెండూ సరైనవి
2. ✗ A మాత్రమే సరైనది
3. ✗ B మాత్రమే సరైనది
4. ✗ A మరియు B రెండూ సరైనవి కావు

Question Number : 87 Question Id : 630680227252 Option Shuffling : Yes Is Question Mandatory : No Calculator : None Response Time : N.A Think Time : N.A Minimum Instruction Time : 0

Correct Marks : 1 Wrong Marks : 0

In 2021 India's largest landfill gas to compressed biogas plant was opened in _____.

Options :

1. ✓ Hyderabad
2. ✗ Warangal
3. ✗ Karimnagar
4. ✗ Nalgonda

Question Number : 87 Question Id : 630680227252 Option Shuffling : Yes Is Question Mandatory : No Calculator : None
Response Time : N.A Think Time : N.A Minimum Instruction Time : 0 Negative Marks Display Text : 0.0

Correct Marks : 1 Wrong Marks : 0

2021 లో భారతదేశం యొక్క అతి పెద్ద ల్యాండ్-ఫిల్ గ్యాస్ నుండి కంప్రెస్డ్ బయోగ్యాస్ ప్లాంట్ _____ లో ప్రారంభించబడింది.

Options :

1. ✓ హైదరాబాదు
2. ✗ వరంగల్
3. ✗ కరీంనగర్
4. ✗ నల్గొండ

Question Number : 88 Question Id : 630680227253 Option Shuffling : Yes Is Question Mandatory : No Calculator : None
Response Time : N.A Think Time : N.A Minimum Instruction Time : 0

Correct Marks : 1 Wrong Marks : 0

Match the District in List -I to the Major Crop Grown in List II:

Sl No.	List I-District in Telangana	Sl No.	List II-Crop
A.	Adilabad	i	Palm Oil
B.	Bhadradari Kothagudem	ii	Turmeric
C.	Jagtial	iii	Cotton
D.	Jogulamba Gadwal	iv	Paddy

Options :

1. ✗ A-i, B-iv, C-ii, D-iii
2. ✗ A-iv, B-i, C-iii, D-ii
3. ✗ A-iv, B-ii, C-i, D-iii
4. ✓ A-iv, B-i, C-ii, D-iii

Question Number : 88 Question Id : 630680227253 Option Shuffling : Yes Is Question Mandatory : No Calculator : None
Response Time : N.A Think Time : N.A Minimum Instruction Time : 0 Negative Marks Display Text : 0.0

Correct Marks : 1 Wrong Marks : 0

జాబితా -Iలోని జిల్లాలను జాబితా IIలో ఉన్న ప్రధానంగా పెరిగే పంటలను జతచేయండి.

వరుస సంఖ్య	జాబితా I-తెలంగాణలోని జిల్లా	వరుస సంఖ్య	జాబితా II-పంట
A.	ఆదిలాబాద్	i	పామ్ ఆయిల్
B.	బద్రాద్రి కొత్తగూడెం	ii	పసుపు
C.	జగిత్యాల	iii	పత్తి
D.	జోగులాంబ గద్వాల	iv	వరి

Options :

1. ✗ A-i, B-iv, C-ii, D-iii
2. ✗ A-iv, B-i, C-iii, D-ii
3. ✗ A-iv, B-ii, C-i, D-iii
4. ✓ A-iv, B-i, C-ii, D-iii

Question Number : 89 Question Id : 630680227254 Option Shuffling : Yes Is Question Mandatory : No Calculator : None
Response Time : N.A Think Time : N.A Minimum Instruction Time : 0

Correct Marks : 1 Wrong Marks : 0

Arrange the given infrastructure projects of Telangana in Decreasing order of Total Project Cost:

A. Singareni Coal Based Power Project

- B. Implementation of Mahatma Gandhi (Kalwakurthy) Lift Irrigation scheme in Mahaboob Nagar district*
 C. Implementation of J Chokka Rao Lift Irrigation Scheme at Bommakur in Warrangal district
 D. Implementation of Damerkunta lift irrigation scheme at Kataram in Karimnagar

Options :

1. ✓ A-B-C-D
2. ✗ B-C-A-D
3. ✗ D-C-A-B
4. ✗ C-A-D-B

Question Number : 89 Question Id : 630680227254 Option Shuffling : Yes Is Question Mandatory : No Calculator : None Response Time : N.A Think Time : N.A Minimum Instruction Time : 0

Correct Marks : 1 Wrong Marks : 0

క్రింద ఇవ్వబడిన తెలంగాణ మౌలిక సదుపాయాల ప్రాజెక్టులను మొత్తం ప్రాజెక్టు వ్యయ అవరోహణ క్రమంలో అమర్చండి:

- A. సింగరేణి బొగ్గు ఆధారిత పవర్ ప్రాజెక్టు
- B. మహబూబ్ నగర్ జిల్లాలో మహాత్మా గాంధీ (కల్వకుర్తి) ఎత్తిపోతల పథకం అమలు
- C. వరంగల్ జిల్లా బొమ్మకూరులో జె చొక్కారావు ఎత్తిపోతల పథకం అమలు
- D. కరీంనగర్ లోని కాటారం వద్ద దామెరకుంటు ఎత్తిపోతల పథకం అమలు

Options :

1. ✓ A-B-C-D
2. ✗ B-C-A-D
3. ✗ D-C-A-B
4. ✗ C-A-D-B

Question Number : 90 Question Id : 630680227255 Option Shuffling : Yes Is Question Mandatory : No Calculator : None Response Time : N.A Think Time : N.A Minimum Instruction Time : 0

Correct Marks : 1 Wrong Marks : 0

What is the name of the software adopted by TSMSIDC for the process of Online Indenting, Distribution & Prescription-Audit of Drugs & Surgicals, from Peripheral to State level?

Options :

1. ✓ e-Aushadhi Software
2. ✗ e-Dawai Software
3. ✗ e-Chikitsha Software
4. ✗ e-Upachar Software

Question Number : 90 Question Id : 630680227255 Option Shuffling : Yes Is Question Mandatory : No Calculator : None Response Time : N.A Think Time : N.A Minimum Instruction Time : 0

Correct Marks : 1 Wrong Marks : 0

పరిధీయ నుండి రాష్ట్ర స్థాయి వరకు ఔషధాలు మరియు శస్త్రచికిత్సాసంబంధిత పరికరాల ఆడిట్ ప్రక్రియ కొరకు కావలసిన వస్తువుల పట్టిక తయారీ, పంపిణీ మరియు ప్రెస్క్రిప్షన్ను ఆన్ లైన్లో సిద్ధం చేయడానికి టి.ఎస్.ఎమ్.ఎస్.ఐ.డి.సి అవలంబించిన సాఫ్ట్ వేర్ పేరు ఏమిటి?

Options :

1. ✓ ఇ-ఔషధి సాఫ్ట్ వేర్
2. ✗ ఇ-దవాయి సాఫ్ట్ వేర్
3. ✗ ఇ-చికిత్స సాఫ్ట్ వేర్
4. ✗ ఇ-ఉపచార్ సాఫ్ట్ వేర్

Question Number : 91 Question Id : 630680227256 Option Shuffling : Yes Is Question Mandatory : No Calculator : None Response Time : N.A Think Time : N.A Minimum Instruction Time : 0

Correct Marks : 1 Wrong Marks : 0

What is the amount of monthly Pension given to the disabled people under the Aasara Scheme as on 31st March 2023?

Options :

1. ✗ 500
2. ✗ 1000
3. ✗ 1500

4. ✓ 3016

Question Number : 91 Question Id : 630680227256 Option Shuffling : Yes Is Question Mandatory : No Calculator : None Response Time : N.A Think Time : N.A Minimum Instruction Time : 0 Negative Marks Display Text : 0.0 Correct Marks : 1 Wrong Marks : 0

31 మార్చి 2023 నాటికి ఆసరా పథకం కింద దివ్యాంగులకు ఇవ్వబడిన పింఛను మొత్తం ఎంత?

Options :

1. ✗ 500
2. ✗ 1000
3. ✗ 1500
4. ✓ 3016

Question Number : 92 Question Id : 630680227257 Option Shuffling : Yes Is Question Mandatory : No Calculator : None Response Time : N.A Think Time : N.A Minimum Instruction Time : 0 Correct Marks : 1 Wrong Marks : 0

Which one of the following statement/statements is/are CORRECT about the 'Rice Distribution Scheme' of the Telangana Government as on 31st March 2023?

- A. In this scheme to arrive at the eligibility of the BPL families, the family income limit in rural areas has been increased to Rs. 1.50 lakh and in urban areas to Rs. 2 lakh.
- B. The land ceiling has also been increased to 3.5 acres of wet land and 10 acres of dry land.

Options :

1. ✓ Only A is correct
2. ✗ Only B is correct
3. ✗ Both A and B is correct
4. ✗ Neither A nor B is correct

Question Number : 92 Question Id : 630680227257 Option Shuffling : Yes Is Question Mandatory : No Calculator : None Response Time : N.A Think Time : N.A Minimum Instruction Time : 0 Negative Marks Display Text : 0.0 Correct Marks : 1 Wrong Marks : 0

31 మార్చి 2023 నాటికి తెలంగాణ ప్రభుత్వం యొక్క 'బియ్యం పంపిణీ పథకం' గురించి ఇవ్వబడిన కింది ప్రకటన/ప్రకటనలలో ఏది/ఏవి సరైనది?

- A. ఈ పథకంలో దారిదర్య రేఖకు (BPL) దిగువున ఉన్న కుటుంబాల అర్హతను నిర్ధారించడానికి, గ్రామీణ ప్రాంతాల్లో కుటుంబ ఆదాయ పరిమితిని రూ. 1.50 లక్షలు, పట్టణ ప్రాంతాల్లో రూ. 2 లక్షలకు పెంచడం జరిగింది.
- B. ఒక కుటుంబం కలిగి ఉండాలిని భూమిని కూడా నీటి వసతి గల భూమిని 3.5 ఎకరాలకు మరియు నీటి వసతి లేని భూమిని 10 ఎకరాలకు పెంచడం జరిగింది.

Options :

1. ✓ A మాత్రమే సరైనది
2. ✗ B మాత్రమే సరైనది
3. ✗ A మరియు B రెండూ సరైనవి
4. ✗ A మరియు B రెండూ సరైనవి కావు

Question Number : 93 Question Id : 630680227258 Option Shuffling : Yes Is Question Mandatory : No Calculator : None Response Time : N.A Think Time : N.A Minimum Instruction Time : 0 Correct Marks : 1 Wrong Marks : 0

How long did Hyderabad remain an independent princely state after India became independent from the British Empire in 1947?

Options :

1. ✗ 6 months
2. ✗ 9 months
3. ✗ 11 months
4. ✓ 13 months

Question Number : 93 Question Id : 630680227258 Option Shuffling : Yes Is Question Mandatory : No Calculator : None Response Time : N.A Think Time : N.A Minimum Instruction Time : 0

Correct Marks : 1 Wrong Marks : 0

1947లో బ్రిటీష్ సామ్రాజ్యం నుండి భారతదేశం స్వతంత్రం పొందిన తర్వాత హైదరాబాద్ ఎంతకాలం స్వతంత్ర సంస్థానంగా ఉంది?

Options :

1. ✘ 6 నెలల
2. ✘ 9 నెలలు
3. ✘ 11 నెలలు
4. ✔ 13 నెలలు

Question Number : 94 Question Id : 630680227259 Option Shuffling : Yes Is Question Mandatory : No Calculator : None Response Time : N.A Think Time : N.A Minimum Instruction Time : 0

Correct Marks : 1 Wrong Marks : 0

How many districts does the state of Telengana have as on 31st March 2023?

Options :

1. ✘ 21
2. ✘ 26
3. ✔ 33
4. ✘ 35

Question Number : 94 Question Id : 630680227259 Option Shuffling : Yes Is Question Mandatory : No Calculator : None Response Time : N.A Think Time : N.A Minimum Instruction Time : 0 Negative Marks Display Text : 0.0

Correct Marks : 1 Wrong Marks : 0

31 మార్చి 2023 నాటికి తెలంగాణ రాష్ట్రంలో ఎన్ని జిల్లాలు ఉన్నాయి?

Options :

1. ✘ 21
2. ✘ 26
3. ✔ 33
4. ✘ 35

Question Number : 95 Question Id : 630680227260 Option Shuffling : Yes Is Question Mandatory : No Calculator : None Response Time : N.A Think Time : N.A Minimum Instruction Time : 0

Correct Marks : 1 Wrong Marks : 0

The Telangana region was part of Hyderabad state from 1948 to _____.

Options :

1. ✘ 1950
2. ✘ 1952
3. ✔ 1956
4. ✘ 1959

Question Number : 95 Question Id : 630680227260 Option Shuffling : Yes Is Question Mandatory : No Calculator : None Response Time : N.A Think Time : N.A Minimum Instruction Time : 0

Correct Marks : 1 Wrong Marks : 0

తెలంగాణ ప్రాంతం 1948 నుండి _____ వరకు హైదరాబాద్ రాష్ట్రంలో భాగంగా ఉండేది.

Options :

1. ✘ 1950
2. ✘ 1952
3. ✔ 1956
4. ✘ 1959

Question Number : 96 Question Id : 630680227261 Option Shuffling : Yes Is Question Mandatory : No Calculator : None Response Time : N.A Think Time : N.A Minimum Instruction Time : 0

Correct Marks : 1 Wrong Marks : 0

Which one of the following statement/statements is/are CORRECT about Telangana state formation?

- A. Telangana was formed out of Karnataka State reorganization Act.
B. Major cities of the State include Hyderabad, Warangal, Nizamabad, Nalgonda, Khammam and Karimnagar.

Options :

1. ✘ Only A is correct
2. ✔ Only B is correct
3. ✘ Both A and B are correct
4. ✘ Neither A nor B are correct

Question Number : 96 Question Id : 630680227261 Option Shuffling : Yes Is Question Mandatory : No Calculator : None Response Time : N.A Think Time : N.A Minimum Instruction Time : 0 Negative Marks Display Text : 0.0

Correct Marks : 1 Wrong Marks : 0

తెలంగాణ రాష్ట్రం ఏర్పడటానికి సంబంధించి కింది ఏ వాక్యము/లు సరైనది/సరైనవి?

- A. కర్ణాటక రాష్ట్ర పునర్వ్యవస్థీకరణ చట్టం ద్వారా తెలంగాణ ఏర్పడింది.
B. రాష్ట్రంలోని ప్రధాన నగరాలు హైదరాబాద్, వరంగల్, నిజామాబాద్, నల్గొండ, ఖమ్మం మరియు కరీంనగర్.

Options :

1. ✘ A మాత్రమే సరైనది
2. ✔ B మాత్రమే సరైనది
3. ✘ A మరియు B రెండూ సరైనవి
4. ✘ A మరియు B రెండూ సరైనవి కావు

Question Number : 97 Question Id : 630680227262 Option Shuffling : Yes Is Question Mandatory : No Calculator : None Response Time : N.A Think Time : N.A Minimum Instruction Time : 0

Correct Marks : 1 Wrong Marks : 0

Which one of the following statement/statements is /are CORRECT about economic parameter of Telangana?

- A. In 2022-23, the Per Capita Income (PCI) at current prices in Telangana is Rs.3.17 lakh.
B. In 2022-23, Telangana's Gross State Domestic Product (GSDP) at current prices is Rs.13.27 lakh crore
C. The Agriculture and Allied sectors in Telangana achieved a year-on year growth in Gross Value Added (GVA) (current prices) of 11.9% between 2021-22 and 2022-23.

Options :

1. ✔ A, B and C are correct
2. ✘ Only A and B is correct
3. ✘ Only B and C is correct
4. ✘ Only A and C is correct

Question Number : 97 Question Id : 630680227262 Option Shuffling : Yes Is Question Mandatory : No Calculator : None Response Time : N.A Think Time : N.A Minimum Instruction Time : 0

Correct Marks : 1 Wrong Marks : 0

తెలంగాణ ఆర్థిక పరామితికి సంబంధించి కింది ఏ నివేదిక/నివేదికలు సరైనది/సరైనవి?

- A. 2022-23లో, తెలంగాణలో ప్రస్తుత ధరల వద్ద తలసరి ఆదాయం (పి.సి.ఐ) రూ.3.17 లక్షలు.
B. 2022-23లో, ప్రస్తుత ధరల వద్ద తెలంగాణ రాష్ట్ర స్థూల దేశీయోత్పత్తి (జి.ఎస్.డి.పి) రూ. 13.27 లక్షల కోట్లు
C. తెలంగాణలోని వ్యవసాయం మరియు అనుబంధ రంగాలు 2021-22 మరియు 2022-23 మధ్య స్థూల విలువ జోడింపు (జి.వి.ఎ) లో (ప్రస్తుత ధరలు) 11.9% వార్షిక వృద్ధిని సాధించాయి.

Options :

1. ✔ A, B మరియు C సరైనవి
2. ✘ A మరియు B మాత్రమే సరైనవి
3. ✘ B మరియు C మాత్రమే సరైనవి
4. ✘ A మరియు C మాత్రమే సరైనవి

Question Number : 98 Question Id : 630680227263 Option Shuffling : Yes Is Question Mandatory : No Calculator : None Response Time : N.A Think Time : N.A Minimum Instruction Time : 0

Correct Marks : 1 Wrong Marks : 0

Arrange the following events in Chronological order (From First to last) during the course of formation of the state of Telangana:

- Presidential order issued to implement Six Point Formula, providing some safeguards to Telangana.
- 'Jai Telangana' movement for separate statehood to Telangana began.
- Centre announced decision to initiate the process for formation of Telangana state.
- The President gave time till Jan 23 to the state legislature to give its views.

Options :

- ✘ A-B-C-D
- ✔ B-A-C-D
- ✘ C-D-A-B
- ✘ D-A-B-C

Question Number : 98 Question Id : 630680227263 Option Shuffling : Yes Is Question Mandatory : No Calculator : None Response Time : N.A Think Time : N.A Minimum Instruction Time : 0 Negative Marks Display Text : 0.0

Correct Marks : 1 Wrong Marks : 0

తెలంగాణ రాష్ట్రం ఏర్పడే సమయంలో జరిగిన కింది సంఘటనలను కాలక్రమానుసారం (మొదటి నుండి చివరి వరకు) అమర్చండి:

- తెలంగాణకు కొన్ని భద్రతలను కల్పిస్తూ సిక్స్ పాయింట్ ఫార్ములా అమలు చేయాలని రాష్ట్రపతి ఉత్తర్వులు జారీ చేశారు.
- తెలంగాణకు ప్రత్యేక రాష్ట్ర స్థాపన కొరకు 'జై తెలంగాణ' ఉద్యమం ప్రారంభమైంది.
- తెలంగాణ రాష్ట్రాన్ని ఏర్పరిచే ప్రక్రియను ప్రారంభించేందుకు తీసుకున్న నిర్ణయాన్ని కేంద్రం ప్రకటించింది.
- దాని అభిప్రాయాలను తెలియజేయడానికి రాష్ట్ర శాసనసభకు జనవరి 23 వరకు రాష్ట్రపతి సమయం ఇచ్చారు.

Options :

- ✘ A-B-C-D
- ✔ B-A-C-D
- ✘ C-D-A-B
- ✘ D-A-B-C

Question Number : 99 Question Id : 630680227264 Option Shuffling : Yes Is Question Mandatory : No Calculator : None Response Time : N.A Think Time : N.A Minimum Instruction Time : 0

Correct Marks : 1 Wrong Marks : 0

Match the assets created by Telangana Government in List I to the district in which they are created in List II:

Sl No.	List -I Socio-Economic Assets	Sl No.	List -II District in which it is created
A	'T-Hub 2.0'	i	Warangal
B	Health City	ii	Hyderabad
C	Telangana Institute of Medical Sciences) hospitals	iii	Adilabad.
D	IT Towers	iv	Erragadda

Options :

- ✘ A-i, B-ii, C-iv, D-iii
- ✘ A-ii, B-i, C-iii, D-iv
- ✘ A-ii, B-iv, C-i, D-iii
- ✔ A-ii, B-i, C-iv, D-iii

Question Number : 99 Question Id : 630680227264 Option Shuffling : Yes Is Question Mandatory : No Calculator : None Response Time : N.A Think Time : N.A Minimum Instruction Time : 0

Correct Marks : 1 Wrong Marks : 0

జాబితా Iలో తెలంగాణ ప్రభుత్వం నెలకొల్పిన అస్సెట్లను జాబితా IIలో అవి నెలకొల్పబడిన జిల్లాతో జతచేయండి.

వరుస సంఖ్య	జాబితా -I సామాజిక-ఆర్థిక ఆస్తులు	వరుస సంఖ్య	జాబితా -II అది
A	'టి-హబ్ 2.0'	i	వరంగల్
B	హెల్త్ సిటీ	ii	హైదరాబాద్
C	తెలంగాణ ఇన్స్టిట్యూట్ ఆఫ్ మెడికల్ సైన్సెస్ హాస్పిటల్స్	iii	ఆదిలాబాద్
D	ఐ.టి టవర్లు	iv	ఎర్రగడ్డ

Options :

- ✘ A-i, B-ii, C-iv, D-iii
- ✘ A-ii, B-i, C-iii, D-iv
- ✘ A-ii, B-iv, C-i, D-iii
- ✔ A-ii, B-i, C-iv, D-iii

Question Number : 100 Question Id : 630680227265 Option Shuffling : Yes Is Question Mandatory : No Calculator : None Response Time : N.A Think Time : N.A Minimum Instruction Time : 0

Correct Marks : 1 Wrong Marks : 0

Identify the CORRECT pair of Minister and Ministry in the First Cabinet of Telangana State formed in 2014:

Options :

- ✔ P Srinivas Reddy : Agriculture
- ✘ Harish Rao : Home
- ✘ N. Narasimha Reddy : Irrigation and Legislative Affairs
- ✘ Mahender Reddy : Health

Question Number : 100 Question Id : 630680227265 Option Shuffling : Yes Is Question Mandatory : No Calculator : None Response Time : N.A Think Time : N.A Minimum Instruction Time : 0

Correct Marks : 1 Wrong Marks : 0

2014లో ఏర్పడిన తెలంగాణ రాష్ట్ర మొదటి క్యాబినెట్లోని మంత్రి మరియు మంత్రిత్వ శాఖ యొక్క సరైన జతను గుర్తించండి:

Options :

- ✔ పి. శ్రీనివాస్ రెడ్డి: వ్యవసాయం
- ✘ హరీష్ రావు: హోమ్
- ✘ N. నరసింహ రెడ్డి : నీటిపారుదల మరియు శాసనసభ వ్యవహారాలు
- ✘ మహేందర్ రెడ్డి: ఆరోగ్యం

Question Number : 101 Question Id : 630680227266 Option Shuffling : Yes Is Question Mandatory : No Calculator : None Response Time : N.A Think Time : N.A Minimum Instruction Time : 0

Correct Marks : 1 Wrong Marks : 0

Who among the following became the first speaker of Telangana Legislative Assembly in 2014?

Options :

- ✘ Padma Rao
- ✘ Jagdish Reddy
- ✔ S. Madhusudhana Chary
- ✘ E. Rajender

Question Number : 101 Question Id : 630680227266 Option Shuffling : Yes Is Question Mandatory : No Calculator : None Response Time : N.A Think Time : N.A Minimum Instruction Time : 0

Correct Marks : 1 Wrong Marks : 0

2014లో తెలంగాణ శాసనసభకు మొదటి స్పీకర్ ఎవరు?

Options :

1. ✘ పద్మారావు
2. ✘ జగదీష్ రెడ్డి
3. ✔ ఎస్. మధుసూధనా చారి
4. ✘ ఇ.రాజేందర్

Question Number : 102 Question Id : 630680227267 Option Shuffling : Yes Is Question Mandatory : No Calculator : None Response Time : N.A Think Time : N.A Minimum Instruction Time : 0

Correct Marks : 1 Wrong Marks : 0

The Industrial sector in Telangana achieved a growth of _____ in 2022-23.

Options :

1. ✘ 9.2%
2. ✔ 10.5%
3. ✘ 11.4%
4. ✘ 12.3%

Question Number : 102 Question Id : 630680227267 Option Shuffling : Yes Is Question Mandatory : No Calculator : None Response Time : N.A Think Time : N.A Minimum Instruction Time : 0

Correct Marks : 1 Wrong Marks : 0

తెలంగాణలోని పారిశ్రామిక రంగం 2022-23లో _____ వృద్ధిని సాధించింది.

Options :

1. ✘ 9.2%
2. ✔ 10.5%
3. ✘ 11.4%
4. ✘ 12.3%

Question Number : 103 Question Id : 630680227268 Option Shuffling : Yes Is Question Mandatory : No Calculator : None Response Time : N.A Think Time : N.A Minimum Instruction Time : 0

Correct Marks : 1 Wrong Marks : 0

Telangana's Worker Population Ratio (WPR) for the 15-59 age category stood at _____ in 2020-21.

Options :

1. ✘ 59%
2. ✔ 62%
3. ✘ 67%
4. ✘ 69%

Question Number : 103 Question Id : 630680227268 Option Shuffling : Yes Is Question Mandatory : No Calculator : None Response Time : N.A Think Time : N.A Minimum Instruction Time : 0

Correct Marks : 1 Wrong Marks : 0

2020-21లో 15-59 ఏళ్ల వర్గానికి చెందిన తెలంగాణ కార్మికుల జనాభా నిష్పత్తి (డబ్ల్యు.పి.ఆర్) _____.

Options :

1. ✘ 59%
2. ✔ 62%
3. ✘ 67%
4. ✘ 69%

Question Number : 104 Question Id : 630680227269 Option Shuffling : Yes Is Question Mandatory : No Calculator : None Response Time : N.A Think Time : N.A Minimum Instruction Time : 0

Correct Marks : 1 Wrong Marks : 0

Which among the following is the most prominent and prevalent soil type in Telangana?

Options :

1. ✘ Cracking Clay Soils
2. ✘ Shallow Soils
3. ✔ Red gravelly Soils
4. ✘ Alluvial soil

Question Number : 104 Question Id : 630680227269 Option Shuffling : Yes Is Question Mandatory : No Calculator : None Response Time : N.A Think Time : N.A Minimum Instruction Time : 0 Negative Marks Display Text : 0.0

Correct Marks : 1 Wrong Marks : 0

కింది వాటిలో తెలంగాణలో అత్యంత ప్రముఖమైన మరియు ప్రబలమైన నేల రకం ఏది?

Options :

1. ✘ పగుళ్లుగల బంక మట్టి నేలలు
2. ✘ నిస్సార నేలలు
3. ✔ ఎర్రటి కంకర నేలలు
4. ✘ ఒండ్రు నేల

Question Number : 105 Question Id : 630680227270 Option Shuffling : Yes Is Question Mandatory : No Calculator : None Response Time : N.A Think Time : N.A Minimum Instruction Time : 0

Correct Marks : 1 Wrong Marks : 0

Which one of the following statement/statements is/are CORRECT about employment at Telangana?

- A. The unemployment rate in the state has been on a declining trajectory.
- B. According to the Periodic Labour Force Survey (PLFS), in 2020-21, Telangana had an LFPR of 65.4%, as opposed to 58.4% at the national level.

Options :

1. ✘ Only A is correct
2. ✘ Only B is correct
3. ✔ Both A and B is correct
4. ✘ Neither A nor B is correct

Question Number : 105 Question Id : 630680227270 Option Shuffling : Yes Is Question Mandatory : No Calculator : None Response Time : N.A Think Time : N.A Minimum Instruction Time : 0

Correct Marks : 1 Wrong Marks : 0

తెలంగాణలో ఉపాధికి సంబంధించి ఈ కింది వాఖ్యం/వాఖ్యాలలో ఏది/ఏవి సరైనది/సరైనవి?

- A. రాష్ట్రంలో నిరుద్యోగుల రేటు తగ్గుముఖం పట్టింది.
- B. కాలానుగుణ కార్మిక సర్వే (పీరియోడిక్ లేబర్ ఫోర్స్ సర్వే-పి.ఎల్.ఎఫ్.ఎస్) ప్రకారం, 2020-21లో జాతీయ స్థాయిలో 58.4%కి విరుద్ధంగా తెలంగాణా 65.4% LFPRని కలిగి ఉంది.

Options :

1. ✘ A మాత్రమే సరైనది
2. ✘ B మాత్రమే సరైనది
3. ✔ A మరియు B రెండూ సరైనవి
4. ✘ A మరియు B రెండూ సరైనవి కావు

Question Number : 106 Question Id : 630680227271 Option Shuffling : Yes Is Question Mandatory : No Calculator : None Response Time : N.A Think Time : N.A Minimum Instruction Time : 0

Correct Marks : 1 Wrong Marks : 0

Which one of the following statement/statements is/are CORRECT about Bhongir Fort?

- A. It is a massive structure erected by Chalukya ruler, Tribhuvanamalla Vikramaditya VI and the fort is named after him.
- B. Initially it was called Tribhuvanagiri, renamed later as Bhuvanagiri and eventually it has become Bhongir Fort.
- C. The fort that is encircled in a moat has underground chamber that is believed to be connect Ramappa Temple located 50 km away.

Options :

1. ✔ Only A and B
2. ✘ Only B and C
3. ✘ Only A and C

4. ✘ A,B and C are correct

Question Number : 106 Question Id : 630680227271 Option Shuffling : Yes Is Question Mandatory : No Calculator : None Response Time : N.A Think Time : N.A Minimum Instruction Time : 0 Negative Marks Display Text : 0.0

Correct Marks : 1 Wrong Marks : 0

భువనగిరి కోట గురించిన ఈ కింది వాక్యము/లలో ఏది/ఏవి సరైనది/సరైనవి?

- A. ఇది చాళుక్య పాలకులు త్రిభువనమల్ల విక్రమాదిత్య VI చే నిర్మించబడిన భారీ కట్టడం మరియు ఈ కోటకు అతని పేరుని పెట్టారు.
- B. మొదట్లో దీనిని త్రిభువనగిరి అని పిలిచేవారు, తరువాత భువనగిరిగా పేరు మార్చారు మరియు చివరికి ఇది భువనగిరి కోటగా మారింది.
- C. కందకముత్ చుట్టుముట్టబడిన ఈ కోటలో సొరంగం ఉంది, ఇది 50 km దూరంలో ఉన్న రామప్ప ఆలయానికి అనుసంధానించబడిందని నమ్మకం.

Options :

1. ✔ A మరియు B మాత్రమే
2. ✘ B మరియు C మాత్రమే
3. ✘ A మరియు C మాత్రమే
4. ✘ A, B మరియు C సరైనవి

Question Number : 107 Question Id : 630680227272 Option Shuffling : Yes Is Question Mandatory : No Calculator : None Response Time : N.A Think Time : N.A Minimum Instruction Time : 0

Correct Marks : 1 Wrong Marks : 0

Which one of the following statement/statements is /are CORRECT about Ambedkar Overseas Vidya Nidhi, SC Development Telangana Govt.?

- A. Income Criteria: Family (Student and parent) Income should be less than 10 lakhs per Annum from all sources.
- B. Countries Eligible: USA, Canada, Germany, France, UK, Singapore, Japan, South Korea, Australia and New Zealand.
- C. Upto 20 lakhs or as per admission letter which ever is less. One way Economic ticket and Visa charges.

Options :

1. ✘ Only A and B is correct
2. ✔ Only B and C is correct
3. ✘ Only A and C is correct
4. ✘ A, B and C is correct

Question Number : 107 Question Id : 630680227272 Option Shuffling : Yes Is Question Mandatory : No Calculator : None Response Time : N.A Think Time : N.A Minimum Instruction Time : 0 Negative Marks Display Text : 0.0

Correct Marks : 1 Wrong Marks : 0

SC అభివృద్ధి కొరకు తెలంగాణ ప్రభుత్వం యొక్క అంబేద్కర్ విదేశీ విద్యా నిధి (అంబేద్కర్ ఓవర్సీస్ విద్యా నిధి) గురించిన ఈ కింది వాక్యము/లలో ఏది/ఏవి సరైనది/సరైనవి?

- A. ఆదాయ ప్రమాణాలు: అన్ని మూలాల నుండి కుటుంబ (విద్యార్థి మరియు తల్లిదండ్రులు) ఆదాయం సంవత్సరానికి 10 లక్షల కంటే తక్కువ ఉండాలి.
- B. అర్హత గల దేశాలు: USA, కెనడా, జర్మనీ, ఫ్రాన్స్, UK, సింగపూర్, జపాన్, దక్షిణ కొరియా, ఆస్ట్రేలియా మరియు న్యూజిలాండ్.
- C. 20 లక్షల వరకు లేదా అడ్మిషన్ లేఖ ప్రకారం - ఏది తక్కువ అయితే ఆ రుసుము. వెళ్లడానికి లేదా రావడానికి సంబంధించి ఏదైనా ఒక దానికి ఎకనామిక్ టికెట్ మరియు వీసా ఛార్జీలు.

Options :

1. ✘ A మరియు B మాత్రమే సరైనవి
2. ✔ B మరియు C మాత్రమే సరైనవి
3. ✘ A మరియు C మాత్రమే సరైనవి
4. ✘ A, B మరియు C సరైనవి

Question Number : 108 Question Id : 630680227273 Option Shuffling : Yes Is Question Mandatory : No Calculator : None Response Time : N.A Think Time : N.A Minimum Instruction Time : 0

Correct Marks : 1 Wrong Marks : 0

_____, the earliest known rulers of the region sowed the seeds of independent and self-sufficient village economy, the relics of which can be felt even today.

Options :

1. ✘ Cholas
2. ✘ Cheras
3. ✘ Pandyas
4. ✔ Satavahanas

Question Number : 108 Question Id : 630680227273 Option Shuffling : Yes Is Question Mandatory : No Calculator : None Response Time : N.A Think Time : N.A Minimum Instruction Time : 0 Negative Marks Display Text : 0.0

Correct Marks : 1 Wrong Marks : 0

నేటికీ వాటి అవశేషాలు కనిపిస్తున్న 'స్వతంత్ర మరియు స్వయం సమృద్ధి గ్రామ ఆర్థిక వ్యవస్థకు' బీజాలు నాటిన ఈ ప్రాంతం యొక్క మొట్టమొదటి పాలకులు _____.

Options :

1. ✘ చోళులు
2. ✘ చేరాలు
3. ✘ పాండ్యులు
4. ✔ శాతవాహనులు

Question Number : 109 Question Id : 630680227274 Option Shuffling : Yes Is Question Mandatory : No Calculator : None Response Time : N.A Think Time : N.A Minimum Instruction Time : 0

Correct Marks : 1 Wrong Marks : 0

Whose rule led to the evolution of dance forms such as Perini Sivatandavam?

Options :

1. ✔ Kakatiyas
2. ✘ Pandyas
3. ✘ Vakatakas
4. ✘ Ikshvakus

Question Number : 109 Question Id : 630680227274 Option Shuffling : Yes Is Question Mandatory : No Calculator : None Response Time : N.A Think Time : N.A Minimum Instruction Time : 0

Correct Marks : 1 Wrong Marks : 0

ఎవరి పాలన పేరిణి శివతాండవం వంటి నృత్య రూపాల పరిణామానికి దారితీసింది?

Options :

1. ✔ కాకతీయులు
2. ✘ పాండ్యులు
3. ✘ వాకాటకులు
4. ✘ ఇక్ష్వాకులు

Question Number : 110 Question Id : 630680227275 Option Shuffling : Yes Is Question Mandatory : No Calculator : None Response Time : N.A Think Time : N.A Minimum Instruction Time : 0

Correct Marks : 1 Wrong Marks : 0

Telangana writer Pattipaka Mohan has been bestowed with the Sahitya Akademi Bal Sahitya Puraskar-2022 for his poetry _____.

Options :

1. ✘ Talladilluthondi Na Thalli Telangana
2. ✔ Baalala Taataa Baapuji
3. ✘ Telanganeeyulam
4. ✘ Telangana Geetham

Question Number : 110 Question Id : 630680227275 Option Shuffling : Yes Is Question Mandatory : No Calculator : None Response Time : N.A Think Time : N.A Minimum Instruction Time : 0 Negative Marks Display Text : 0.0

Correct Marks : 1 Wrong Marks : 0

తెలంగాణ రచయిత పత్తిపాక మోహన్ అతని యొక్క _____ పద్య కవిత్వానికి సాహిత్య అకాడమీ యొక్క బాల సాహిత్య

పురస్కారం-2022 లభించింది.

Options :

1. ✘ తల్లిడిల్లుతోంది నా తల్లి తెలంగాణ
2. ✔ బాలల తాతా బాపూజీ
3. ✘ తెలంగాణీయులం
4. ✘ తెలంగాణ గీతం

Question Number : 111 Question Id : 630680227276 Option Shuffling : Yes Is Question Mandatory : No Calculator : None Response Time : N.A Think Time : N.A Minimum Instruction Time : 0

Correct Marks : 1 Wrong Marks : 0

Five persons S1, S2, S3, S4 and S5 are sitting in a row facing towards north (not necessarily in the same order). S1 is second to the left of S4. Two people are sitting between S3 and S5. No person is sitting to the right of S5. How many persons are sitting between S4 and S2?

Options :

1. ✔ 0
2. ✘ 1
3. ✘ 3
4. ✘ 2

Question Number : 111 Question Id : 630680227276 Option Shuffling : Yes Is Question Mandatory : No Calculator : None Response Time : N.A Think Time : N.A Minimum Instruction Time : 0

Correct Marks : 1 Wrong Marks : 0

S1, S2, S3, S4 మరియు S5 అనే ఐదుగురు వ్యక్తులు ఒక వరుసలో ఉత్తరాభిముఖంగా కూర్చున్నారు (ఇదే క్రమంలో ఉండాలి అవసరం లేదు). S4 యొక్క ఎడమ వైపున రెండవ స్థానంలో S1 కూర్చున్నారు. S3 మరియు S5 ల మధ్యలో ఇద్దరు వ్యక్తులు కూర్చున్నారు. S5 యొక్క కుడి వైపున ఎవరూ కూర్చోలేదు. S4 మరియు S2 ల మధ్యలో ఎంత మంది వ్యక్తులు కూర్చున్నారు?

Options :

1. ✔ 0
2. ✘ 1
3. ✘ 3
4. ✘ 2

Question Number : 112 Question Id : 630680227277 Option Shuffling : Yes Is Question Mandatory : No Calculator : None Response Time : N.A Think Time : N.A Minimum Instruction Time : 0

Correct Marks : 1 Wrong Marks : 0

Six boys F, G, H, I, J and L are sitting around a circular table facing towards the centre. I is the third to the left of F. J and H are neighbours of I. L is to the immediate right of J. Who are the neighbours of G?

Options :

1. ✔ H and F
2. ✘ H and L
3. ✘ J and F
4. ✘ L and F

Question Number : 112 Question Id : 630680227277 Option Shuffling : Yes Is Question Mandatory : No Calculator : None Response Time : N.A Think Time : N.A Minimum Instruction Time : 0

Correct Marks : 1 Wrong Marks : 0

F, G, H, I, J మరియు L అనే ఆరుగురు అబ్బాయిలు ఒక వృత్తాకార టేబుల్ చుట్టూ కేంద్రాభిముఖంగా కూర్చున్నారు. F కు ఎడమ వైపున మూడవ స్థానంలో I కూర్చున్నాడు. J మరియు H లు I యొక్క పొరుగువారు. J యొక్క తక్షణ కుడి వైపున L కూర్చున్నాడు. G యొక్క పొరుగున ఎవరు కూర్చున్నారు?

Options :

1. ✔ H మరియు F
2. ✘ H మరియు L
3. ✘ J మరియు F
4. ✘ L మరియు F

Question Number : 113 Question Id : 630680227278 Option Shuffling : Yes Is Question Mandatory : No Calculator : None Response Time : N.A Think Time : N.A Minimum Instruction Time : 0

Correct Marks : 1 Wrong Marks : 0

If today is Thursday, then what will be the day after 30 days?

Options :

1. ✘ Thursday
2. ✘ Sunday
3. ✔ Saturday
4. ✘ Friday

Question Number : 113 Question Id : 630680227278 Option Shuffling : Yes Is Question Mandatory : No Calculator : None Response Time : N.A Think Time : N.A Minimum Instruction Time : 0

Correct Marks : 1 Wrong Marks : 0

ఒకవేళ ఈరోజు గురువారం అయితే, 30 రోజుల తర్వాత ఏ రోజు వస్తుంది?

Options :

1. ✘ గురువారం
2. ✘ ఆదివారం
3. ✔ శనివారం
4. ✘ శుక్రవారం

Question Number : 114 Question Id : 630680227279 Option Shuffling : Yes Is Question Mandatory : No Calculator : None Response Time : N.A Think Time : N.A Minimum Instruction Time : 0

Correct Marks : 1 Wrong Marks : 0

Raman is standing in a row. His rank from the start of the row is 26th, and his rank from the end of the row is 27th. How many total people are there in the row?

Options :

1. ✘ 53
2. ✔ 52
3. ✘ 51
4. ✘ 54

Question Number : 114 Question Id : 630680227279 Option Shuffling : Yes Is Question Mandatory : No Calculator : None Response Time : N.A Think Time : N.A Minimum Instruction Time : 0

Correct Marks : 1 Wrong Marks : 0

రామన్ ఒక వరుసలో నిలబడి ఉన్నాడు. వరుస ప్రారంభం నుండి అతని స్థానం 26వది మరియు వరుస చివరి నుండి అతని స్థానం 27వది. అయిన వరుసలో మొత్తం ఎంత మంది ఉన్నారు?

Options :

1. ✘ 53
2. ✔ 52
3. ✘ 51
4. ✘ 54

Question Number : 115 Question Id : 630680227280 Option Shuffling : Yes Is Question Mandatory : No Calculator : None Response Time : N.A Think Time : N.A Minimum Instruction Time : 0

Correct Marks : 1 Wrong Marks : 0

Which day of the week was 3rd August 2013?

Options :

1. ✔ Saturday
2. ✘ Sunday
3. ✘ Monday
4. ✘ Friday

Question Number : 115 Question Id : 630680227280 Option Shuffling : Yes Is Question Mandatory : No Calculator : None Response Time : N.A Think Time : N.A Minimum Instruction Time : 0

Correct Marks : 1 Wrong Marks : 0

3 ఆగస్టు 2013న వారంలో ఏ రోజు వస్తుంది?

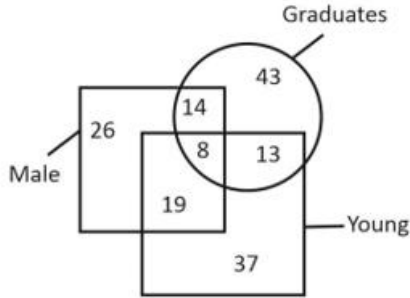
Options :

1. ✓ శనివారం
2. ✗ ఆదివారం
3. ✗ సోమవారం
4. ✗ శుక్రవారం

Question Number : 116 Question Id : 630680227281 Option Shuffling : Yes Is Question Mandatory : No Calculator : None Response Time : N.A Think Time : N.A Minimum Instruction Time : 0

Correct Marks : 1 Wrong Marks : 0

The diagram given below shows the number of persons in each area.



Arrange the following in the decreasing order of their numbers?

- I. Males
- II. Graduates
- III. Young

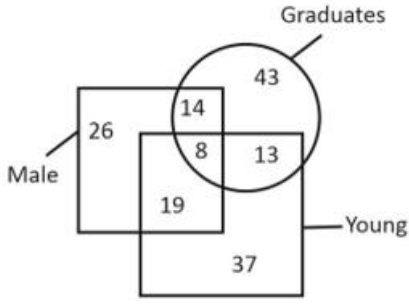
Options :

1. ✗ I > III > I
2. ✓ II > III > I
3. ✗ II > I > III
4. ✗ I > II > III

Question Number : 116 Question Id : 630680227281 Option Shuffling : Yes Is Question Mandatory : No Calculator : None Response Time : N.A Think Time : N.A Minimum Instruction Time : 0

Correct Marks : 1 Wrong Marks : 0

ఈ క్రింద ఇవ్వబడిన పటం ప్రతి ప్రాంతంలోని వ్యక్తుల సంఖ్యను చూపుతుంది.



Males - పురుషులు; Graduates - పట్టభద్రులు; Young - యువత

ఈ క్రింది వారిని వారి సంఖ్యల ప్రకారం అవరోహణ క్రమంలో అమర్చండి?

- I. పురుషులు
- II. పట్టభద్రులు
- III. యువత

Options :

1. ✘ I > III > I
2. ✔ II > III > I
3. ✘ II > I > III
4. ✘ I > II > III

Question Number : 117 Question Id : 630680227282 Option Shuffling : Yes Is Question Mandatory : No Calculator : None Response Time : N.A Think Time : N.A Minimum Instruction Time : 0

Correct Marks : 1 Wrong Marks : 0

Read the given statements and conclusions carefully. Assuming that the information given in the statements is true, even if it appears to be at variance with commonly known facts, decide which of the given conclusions logically follow from the statements.

Statements:

- I. Some A are B.
- II. Some B are C.
- III. All C are D.

Conclusions:

- I. Some B are D.
- II. Some D are B.
- III. Some A are D.

Options :

1. ✔ Both conclusions I and II follow.
2. ✘ Both conclusions II and III follow.
3. ✘ Both conclusions I and III follow.
4. ✘ All conclusions follow.

Question Number : 117 Question Id : 630680227282 Option Shuffling : Yes Is Question Mandatory : No Calculator : None Response Time : N.A Think Time : N.A Minimum Instruction Time : 0

Correct Marks : 1 Wrong Marks : 0

ఇవ్వబడిన ప్రకటనలను మరియు తీర్మానాలను జాగ్రత్తగా చదవండి. ప్రకటనల్లో ఇవ్వబడిన సమాచారం సాధారణంగా తెలిసిన వాస్తవాలతో విభేదిస్తున్నట్లు కనిపించినప్పటికీ, వాస్తవమని పరిగణించి, ఇవ్వబడిన తీర్మానాల్లో ఏది/వి ప్రకటనలను తార్కికంగా అనుసరిస్తుందో/స్తాయో నిర్ణయించండి.

ప్రకటనలు:

- I. కొన్ని A లు B లు.
- II. కొన్ని B లు C లు.

III. అన్ని C లు D లు.

తీర్మానాలు:

I. కొన్ని B లు D లు.

II. కొన్ని D లు B లు.

III. కొన్ని A లు D లు.

Options :

1. ✓ తీర్మానాలు I మరియు II రెండూ అనుసరిస్తాయి
2. ✗ తీర్మానాలు II మరియు III రెండూ అనుసరిస్తాయి
3. ✗ తీర్మానాలు I మరియు III రెండూ అనుసరిస్తాయి
4. ✗ అన్ని తీర్మానాలు అనుసరిస్తాయి

Question Number : 118 Question Id : 630680227283 Option Shuffling : Yes Is Question Mandatory : No Calculator : None Response Time : N.A Think Time : N.A Minimum Instruction Time : 0

Correct Marks : 1 Wrong Marks : 0

Consider the following array of letters and digits.

A 4 B 6 C 8 2 T U 6 O 3 N 9 I 5 J 6 X

How many numbers are preceded by a vowel when counting from left to right?

Options :

1. ✗ 5
2. ✓ 4
3. ✗ 3
4. ✗ 6

Question Number : 118 Question Id : 630680227283 Option Shuffling : Yes Is Question Mandatory : No Calculator : None Response Time : N.A Think Time : N.A Minimum Instruction Time : 0

Correct Marks : 1 Wrong Marks : 0

దిగువ ఇవ్వబడిన అక్షరాలు మరియు అంకెల శ్రేణిని పరిగణించండి

A 4 B 6 C 8 2 T U 6 O 3 N 9 I 5 J 6 X

ఎడమ నుండి కుడివైపుకి లెక్కించినప్పుడు ఎన్ని అంకెలు వాటి ముందు అచ్చులను కలిగి ఉన్నాయి?

Options :

1. ✗ 5
2. ✓ 4
3. ✗ 3
4. ✗ 6

Question Number : 119 Question Id : 630680227284 Option Shuffling : Yes Is Question Mandatory : No Calculator : None Response Time : N.A Think Time : N.A Minimum Instruction Time : 0

Correct Marks : 1 Wrong Marks : 0

The heights of Jai, Shivam, Shyam, Rohan and Raman are compared. The height of Shyam is neither more nor less than the height of Jai. The height of Jai is less than only three persons. The height of Raman is more than that of Rohan but less than that of Shivam. The height of how many persons is more than that of Shyam but less than that of Shivam?

Options :

1. ✗ 3
2. ✗ 1
3. ✗ 0
4. ✓ 2

Question Number : 119 Question Id : 630680227284 Option Shuffling : Yes Is Question Mandatory : No Calculator : None Response Time : N.A Think Time : N.A Minimum Instruction Time : 0

Correct Marks : 1 Wrong Marks : 0

జై, శివం, శ్యామ్, రోహన్ మరియు రామన్ల ఎత్తులను పోల్చడమైనది. శ్యామ్ ఎత్తు జై ఎత్తు కంటే ఎక్కువ కానీ లేదా తక్కువ కానీ

కాదు. బై ఎత్తు కేవలం ముగ్గురు వ్యక్తుల కంటే తక్కువ. రామన్ ఎత్తు రోహన్ కంటే ఎక్కువ కానీ శివమ్ కంటే తక్కువ. ఎంత మంది వ్యక్తుల ఎత్తు శ్యామ్ కంటే ఎక్కువ కానీ శివమ్ కంటే తక్కువ ఉంటుంది?

Options :

1. ✘ 3
2. ✘ 1
3. ✘ 0
4. ✔ 2

Question Number : 120 Question Id : 630680227285 Option Shuffling : Yes Is Question Mandatory : No Calculator : None Response Time : N.A Think Time : N.A Minimum Instruction Time : 0

Correct Marks : 1 Wrong Marks : 0

The speeds of six bikes B1, B2, B3, B4, B5 and B6 are compared. No two bikes have the same speed. The speed of B6 is more than that of only three bikes. The speed of B4 is more than that of B2 but less than that of B6. The speed of B3 is not less than that of B5. The speed of B2 is not the least. If the speed of B5 is not less than that of B2, then which of the following pairs of bikes have more speed than B4?

Options :

1. ✔ B5, B3
2. ✘ B1, B5
3. ✘ B2, B3
4. ✘ B6, B1

Question Number : 120 Question Id : 630680227285 Option Shuffling : Yes Is Question Mandatory : No Calculator : None Response Time : N.A Think Time : N.A Minimum Instruction Time : 0

Correct Marks : 1 Wrong Marks : 0

B1, B2, B3, B4, B5 మరియు B6 అనే ఆరు బైక్ల వేగాన్ని పోల్చడమైనది. ఏ రెండు బైక్లకు ఒకే వేగం ఉండదు. B6 యొక్క వేగం కేవలం మూడు బైక్ల కంటే ఎక్కువ. B4 వేగం B2 కంటే ఎక్కువ కానీ B6 కంటే తక్కువ. B3 వేగం B5 కంటే తక్కువ కాదు. B2 వేగం అత్యంత తక్కువ కాదు. ఒకవేళ B5 వేగం B2 కంటే తక్కువ కానట్లయితే, ఈ క్రింది ఏ జత బైక్లు B4 కంటే ఎక్కువ వేగాన్ని కలిగి ఉన్నాయి?

Options :

1. ✔ B5, B3
2. ✘ B1, B5
3. ✘ B2, B3
4. ✘ B6, B1

Question Number : 121 Question Id : 630680227286 Option Shuffling : Yes Is Question Mandatory : No Calculator : None Response Time : N.A Think Time : N.A Minimum Instruction Time : 0

Correct Marks : 1 Wrong Marks : 0

In a certain coding language, QUILT is coded as PTJKU. Match the following words with their respective codes on the basis of the above given code language?

	Words		Codes
I	DAYIS	1	QQPTE
II	PROUD	2	EZZHT
III	CAPTY	3	DZQSZ

Options :

1. ✔ I-2, II-1, III-3
2. ✘ I-2, II-3, III-1
3. ✘ I-3, II-1, III-2
4. ✘ I-3, II-2, III-1

Question Number : 121 Question Id : 630680227286 Option Shuffling : Yes Is Question Mandatory : No Calculator : None

Response Time : N.A Think Time : N.A Minimum Instruction Time : 0

Correct Marks : 1 Wrong Marks : 0

ఒక నిర్దిష్ట కోడింగ్ భాషలో, QUILT అనేది PTJKUగా కోడ్ చేయబడింది. పైన ఇచ్చిన కోడ్ భాష ఆధారంగా ఈ క్రింది పదాలను వాటి సంబంధిత కోడ్లతో జతపరచండి?

	పదాలు		కోడ్లు
I	DAYIS	1	QQPTE
II	PROUD	2	EZZHT
III	CAPTY	3	DZQSZ

Options :

1. ✓ I-2, II-1, III-3
2. ✗ I-2, II-3, III-1
3. ✗ I-3, II-1, III-2
4. ✗ I-3, II-2, III-1

Question Number : 122 Question Id : 630680227287 Option Shuffling : Yes Is Question Mandatory : No Calculator : None

Response Time : N.A Think Time : N.A Minimum Instruction Time : 0

Correct Marks : 1 Wrong Marks : 0

In a certain code language, VERBAL is coded as REVLAB. Which of the following pairs of Word : Code are correct on the basis of the above code language?

- I. RELATE : LERETA
- II. BASINT : TNISAB
- III. COLOUR : LOCRUO

Options :

1. ✗ Only I and II
2. ✓ Only I and III
3. ✗ Only II and III
4. ✗ I, II and III

Question Number : 122 Question Id : 630680227287 Option Shuffling : Yes Is Question Mandatory : No Calculator : None

Response Time : N.A Think Time : N.A Minimum Instruction Time : 0

Correct Marks : 1 Wrong Marks : 0

ఒక నిర్దిష్ట కోడ్ భాషలో, VERBAL అనేది REVLABగా కోడ్ చేయబడింది. పైన పేర్కొన్న కోడ్ భాష ఆధారంగా ఈ క్రింది జతలలో ఏ పదం : కోడ్ సరైనది/ సరైనవి?

- I. RELATE : LERETA
- II. BASINT : TNISAB
- III. COLOUR : LOCRUO

Options :

1. ✗ I మరియు II మాత్రమే
2. ✓ I మరియు III మాత్రమే
3. ✗ II మరియు III మాత్రమే
4. ✗ I, II మరియు III

Question Number : 123 Question Id : 630680227288 Option Shuffling : Yes Is Question Mandatory : No Calculator : None

Response Time : N.A Think Time : N.A Minimum Instruction Time : 0

Correct Marks : 1 Wrong Marks : 0

A person starts from point A and walks towards north for 16 km to reach point B. From B, he takes a right turn and walks 12 km to reach point C. From C, he takes a left turn and walks 4 km to reach point D. From D, he takes a right turn and walks 3 km to reach point E. Which of the following statements are correct?

- I. Distance between A and E is 25 km.
- II. E is towards the north-east of A.
- III. E is towards the south-west of B.

Options :

- 1. ✘ Only I and III
- 2. ✔ Only I and II
- 3. ✘ Only II and III
- 4. ✘ I, II and III

Question Number : 123 Question Id : 630680227288 Option Shuffling : Yes Is Question Mandatory : No Calculator : None Response Time : N.A Think Time : N.A Minimum Instruction Time : 0

Correct Marks : 1 Wrong Marks : 0

ఒక వ్యక్తి పాయింట్ A నుండి మొదలై ఉత్తరం వైపుగా 16 km నడిచి పాయింట్ B కి చేరుకుంటాడు. B నుండి, అతను కుడి మలుపు తీసుకొని 12 km నడిచి పాయింట్ C కి చేరుకుంటాడు. C నుండి ఎడమ మలుపు తీసుకుని 4 km నడిచి పాయింట్ D కి చేరుకుంటాడు. D నుండి, అతను కుడి మలుపు తీసుకుని, E పాయింట్ కి చేరుకోవడానికి 3 km నడిచాడు. ఈ క్రింది వాటిలో ఏది/ ఏవి సరైనది/ సరైనవి?

- I. A మరియు E మధ్య దూరం 25 km
- II. A కి ఈశాన్యం వైపు E ఉంది.
- III. B కి నైరుతి వైపు E ఉంది.

Options :

- 1. ✘ I మరియు III మాత్రమే
- 2. ✔ I మరియు II మాత్రమే
- 3. ✘ II మరియు III మాత్రమే
- 4. ✘ I, II మరియు III

Question Number : 124 Question Id : 630680227289 Option Shuffling : Yes Is Question Mandatory : No Calculator : None Response Time : N.A Think Time : N.A Minimum Instruction Time : 0

Correct Marks : 1 Wrong Marks : 0

Select the option that is related to the fifth letter-cluster in the same way as the second letter-cluster is related to the first letter-cluster and fourth letter-cluster is related to third letter-cluster.

PSN : SWS :: NJP : QNU :: ILZ : ?

Options :

- 1. ✘ KOF
- 2. ✔ LPE
- 3. ✘ LPF
- 4. ✘ KOE

Question Number : 124 Question Id : 630680227289 Option Shuffling : Yes Is Question Mandatory : No Calculator : None Response Time : N.A Think Time : N.A Minimum Instruction Time : 0

Correct Marks : 1 Wrong Marks : 0

రెండవ అక్షరం-సమూహం మొదటి అక్షరం-సమూహానికి మరియు నాల్గవ అక్షరం-సమూహం మూడవ అక్షరం-సమూహానికి సంబంధించిన విధంగానే ఐదవ అక్షరం-సమూహానికి సంబంధించిన ఎంపికను ఎంచుకోండి.

PSN : SWS :: NJP : QNU :: ILZ : ?

Options :

- 1. ✘ KOF
- 2. ✔ LPE
- 3. ✘ LPF
- 4. ✘ KOE

Question Number : 125 Question Id : 630680227290 Option Shuffling : Yes Is Question Mandatory : No Calculator : None Response Time : N.A Think Time : N.A Minimum Instruction Time : 0

Correct Marks : 1 Wrong Marks : 0

A group of letter-clusters is given. The letter clusters of the group are related to each other by some logic/rule/relation. From the given alternatives, select the group of letter-clusters that does NOT follow the same logic/rule/relation as the given group.

(NOP, RST, VWX)

Options :

1. ✘ (ALP, EPT, ITX)
2. ✘ (BSJ, FWN, JAR)
3. ✔ (MKT, QOX, TSB)
4. ✘ (TDN, XHR, BLV)

Question Number : 125 Question Id : 630680227290 Option Shuffling : Yes Is Question Mandatory : No Calculator : None Response Time : N.A Think Time : N.A Minimum Instruction Time : 0

Correct Marks : 1 Wrong Marks : 0

ఒక అక్షర-సమూహాల గ్రూపు ఇవ్వబడింది. గ్రూపులోని అక్షర సమూహాలు కొంత తర్కం/నియమం/సంబంధం ద్వారా ఒకదానికొకటి సంబంధం కలిగి ఉంటాయి. ఇవ్వబడిన ప్రత్యామ్నాయాల నుండి, ఇచ్చిన సమూహం వలె అదే తర్కం/నియమం/సంబంధాన్ని అనుసరించని అక్షర-సమూహాల సమూహాన్ని ఎంచుకోండి.

(NOP, RST, VWX)

Options :

1. ✘ (ALP, EPT, ITX)
2. ✘ (BSJ, FWN, JAR)
3. ✔ (MKT, QOX, TSB)
4. ✘ (TDN, XHR, BLV)

Question Number : 126 Question Id : 630680227291 Option Shuffling : Yes Is Question Mandatory : No Calculator : None Response Time : N.A Think Time : N.A Minimum Instruction Time : 0

Correct Marks : 1 Wrong Marks : 0

A question is given, followed by two statements labelled I and II. Identify which of the statements is/are sufficient/necessary to answer the question.

Question : What is the value of A?

Statements:

- I. $3A + 9 = 0$
- II. $A3 - 8 = 0$

Options :

1. ✘ The question can be answered by using one of the statements alone but cannot be answered by using the other statement alone.
2. ✔ The question can be answered by using either of the statements I or II alone.
3. ✘ The question can be answered by using both the statements together but not by either statement alone.
4. ✘ The question cannot be answered even by using both the statements together.

Question Number : 126 Question Id : 630680227291 Option Shuffling : Yes Is Question Mandatory : No Calculator : None Response Time : N.A Think Time : N.A Minimum Instruction Time : 0

Correct Marks : 1 Wrong Marks : 0

ఒక ప్రశ్న, దానిని అనుసరిస్తూ I మరియు II అని పేర్కొనబడిన రెండు ప్రకటనలు ఇవ్వబడ్డాయి. ప్రశ్నకు సమాధానం ఇవ్వడానికి ఏ ప్రకటనలు/లు సరిపోతాయి/అవసరమైనవో గుర్తించండి.

ప్రశ్న : A విలువ ఎంత?

ప్రకటనలు:

- I. $3A + 9 = 0$
- II. $A3 - 8 = 0$

Options :

1. ✘ ప్రకటనల్లో ఒకదాన్ని మాత్రమే ఉపయోగించడం ద్వారా ప్రశ్నకు సమాధానం ఇవ్వవచ్చు కానీ మరొక ప్రకటనను మాత్రమే ఉపయోగించడం ద్వారా సమాధానం ఇవ్వలేరు.

2. ✓ I లేదా II ప్రకటనల్లో దేనినైనా ఉపయోగించడం ద్వారా ప్రశ్నకు సమాధానం ఇవ్వవచ్చు.
3. ✘ రెండు ప్రకటనలను కలిపి ఉపయోగించడం ద్వారా ప్రశ్నకు సమాధానం ఇవ్వవచ్చు కానీ ఒక్క ప్రకటన ద్వారా కాదు.
4. ✘ రెండు ప్రకటనలను కలిపి ఉపయోగించడం ద్వారా కూడా ప్రశ్నకు సమాధానం ఇవ్వలేము.

Question Number : 127 Question Id : 630680227292 Option Shuffling : Yes Is Question Mandatory : No Calculator : None
Response Time : N.A Think Time : N.A Minimum Instruction Time : 0

Correct Marks : 1 Wrong Marks : 0

A question is given, followed by two statements labelled I and II. Identify which of the statements is/are sufficient/necessary to answer the question.

Question : What is the ratio of $x : y : z$?

Statements:

I. $x : y = 1 : 3$

II. $x : z = 3 : 4$

Options :

1. ✘ The question can be answered by using one of the statements alone but cannot be answered by using the other statement alone.
2. ✘ The question can be answered by using either of the statements I or II alone.
3. ✓ The question can be answered by using both the statements together but not by either statement alone.
4. ✘ The question cannot be answered even by using both the statements together.

Question Number : 127 Question Id : 630680227292 Option Shuffling : Yes Is Question Mandatory : No Calculator : None
Response Time : N.A Think Time : N.A Minimum Instruction Time : 0

Correct Marks : 1 Wrong Marks : 0

ఒక ప్రశ్న, దానిని అనుసరిస్తూ I మరియు II అని పేర్కొనబడిన రెండు ప్రకటనలు ఇవ్వబడ్డాయి. ప్రశ్నకు సమాధానం ఇవ్వడానికి ఏ ప్రకటన/లు సరిపోతాయి/అవసరమైనవో గుర్తించండి.

ప్రశ్న : $x : y : z$ యొక్క నిష్పత్తి ఎంత?

ప్రకటనలు:

I. $x : y = 1 : 3$

II. $x : z = 3 : 4$

Options :

1. ✘ ప్రకటనల్లో ఒకదాన్ని మాత్రమే ఉపయోగించడం ద్వారా ప్రశ్నకు సమాధానం ఇవ్వవచ్చు కానీ మరొక ప్రకటనను మాత్రమే ఉపయోగించడం ద్వారా సమాధానం ఇవ్వలేరు.
2. ✘ I లేదా II ప్రకటనల్లో దేనినైనా ఉపయోగించడం ద్వారా ప్రశ్నకు సమాధానం ఇవ్వవచ్చు.
3. ✓ రెండు ప్రకటనలను కలిపి ఉపయోగించడం ద్వారా ప్రశ్నకు సమాధానం ఇవ్వవచ్చు కానీ ఒక్క ప్రకటన ద్వారా కాదు.
4. ✘ రెండు ప్రకటనలను కలిపి ఉపయోగించడం ద్వారా కూడా ప్రశ్నకు సమాధానం ఇవ్వలేము.

Question Number : 128 Question Id : 630680227293 Option Shuffling : Yes Is Question Mandatory : No Calculator : None
Response Time : N.A Think Time : N.A Minimum Instruction Time : 0

Correct Marks : 1 Wrong Marks : 0

Read the given statement and courses of action carefully. Assuming that the information given in the statement is true, even if it appears to be at variance with commonly known facts, decide which of the given courses of action logically follow(s) from the statement.

Statement : Accidents due to potholes on roads have risen in the last two years.

Courses of action:

A. The authorities should appoint a team to tackle the problem and find its solutions.

B. People should not use vehicles and only walk on roads.

Options :

1. ✓ Only A follows.
2. ✘ Only B follows.
3. ✘ Both A and B follow.
4. ✘ Neither A nor B follows.

Question Number : 128 Question Id : 630680227293 Option Shuffling : Yes Is Question Mandatory : No Calculator : None

Response Time : N.A Think Time : N.A Minimum Instruction Time : 0 Negative Marks Display Text : 0.0

Correct Marks : 1 Wrong Marks : 0

ఇవ్వబడిన ప్రకటనను మరియు కృత్యాల క్రమాలను జాగ్రత్తగా చదవండి. సాధారణంగా తెలిసిన వాస్తవాలతో విభేదిస్తున్నట్లు కనిపించినప్పటికీ, ప్రకటనలో ఇవ్వబడిన సమాచారం వాస్తవంగా పరిగణించి, ప్రకటన నుండి తార్కికంగా ఏ కృత్యాల క్రమం/లను అనుసరించాలో నిర్ణయించండి.

ప్రకటన : గత రెండేళ్లుగా రోడ్లపై గుంతల కారణంగా ప్రమాదాలు ఎక్కువయ్యాయి.

కృత్యాల క్రమం :

A. సమస్యను పరిష్కరించడానికి మరియు పరిష్కారాలను కనుగొనడానికి అధికారులు ఒక బృందాన్ని నియమించాలి.

B. ప్రజలు వాహనాలను ఉపయోగించకూడదు మరియు రోడ్లపై మాత్రమే నడవకూడదు.

Options :

1. ✓ A మాత్రమే అనుసరిస్తుంది.
2. ✗ B మాత్రమే అనుసరిస్తుంది.
3. ✗ A మరియు B రెండూ అనుసరిస్తాయి.
4. ✗ A కానీ లేదా B కానీ ఏదీ అనుసరించదు.

Question Number : 129 Question Id : 630680227294 Option Shuffling : Yes Is Question Mandatory : No Calculator : None Response Time : N.A Think Time : N.A Minimum Instruction Time : 0 Negative Marks Display Text : 0.0

Correct Marks : 1 Wrong Marks : 0

The table given below shows the marks obtained by 4 students in three subjects.

	Subjects		
	S1	S2	S3
Maximum marks	100	200	300
Aman	96	136	224
Kamal	82	148	256
Sharan	88	154	242
Mayank	74	128	286

Which of the following is the correct order of the total percentage marks scored by each student?

Options :

1. ✓ Mayank > Kamal > Sharan > Aman
2. ✗ Mayank > Kamal > Aman > Sharan
3. ✗ Kamal > Mayank > Aman > Sharan
4. ✗ Kamal > Mayank > Sharan > Aman

Question Number : 129 Question Id : 630680227294 Option Shuffling : Yes Is Question Mandatory : No Calculator : None Response Time : N.A Think Time : N.A Minimum Instruction Time : 0 Negative Marks Display Text : 0.0

Correct Marks : 1 Wrong Marks : 0

ఈ క్రింద ఇవ్వబడిన పట్టిక మూడు సబ్జెక్టులలో 4 గురు విద్యార్థులు సాధించిన మార్కులను చూపుతుంది.

	సబ్జెక్టులు		
	S1	S2	S3
గరిష్ట మార్కులు	100	200	300
అమన్	96	136	224
కమల్	82	148	256
శరణ్	88	154	242
మయాంక్	74	128	286

ఈ క్రింది వాటిలో ప్రతి విద్యార్థి స్కోర్ చేసిన మొత్తం మార్కుల శాతం యొక్క సరైన క్రమం ఏది?

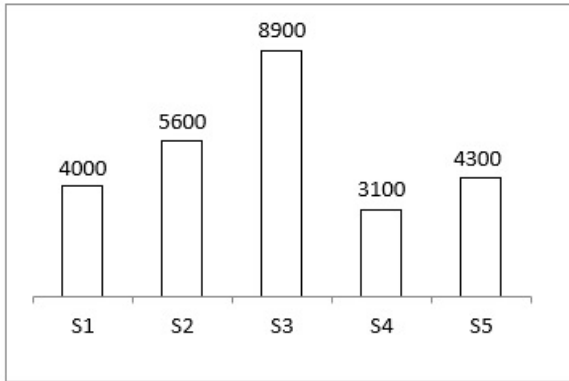
Options :

1. ✓ మయాంక్ > కమల్ > శరణ్ > అమన్
2. ✘ మయాంక్ > కమల్ > అమన్ > శరణ్
3. ✘ కమల్ > మయాంక్ > అమన్ > శరణ్
4. ✘ కమల్ > మయాంక్ > శరణ్ > అమన్

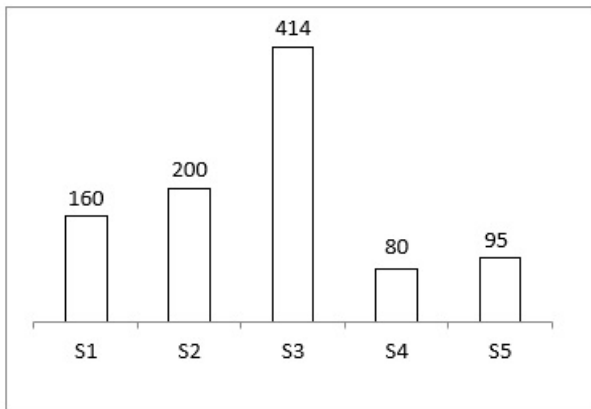
Question Number : 130 Question Id : 630680227295 Option Shuffling : Yes Is Question Mandatory : No Calculator : None Response Time : N.A Think Time : N.A Minimum Instruction Time : 0

Correct Marks : 1 Wrong Marks : 0

The bar chart given below shows the amount of wheat produced (in tonnes) by 5 states of the country.



The second bar chart given below shows the land under wheat production (in hectares) in these 5 states.



Yield = (Wheat production/Area under wheat production)

Which of the following is the correct order of the yields of the states?

Options :

1. ✘ S5 > S2 > S4 > S3 > S1

2. ✓ $S5 > S4 > S2 > S1 > S3$

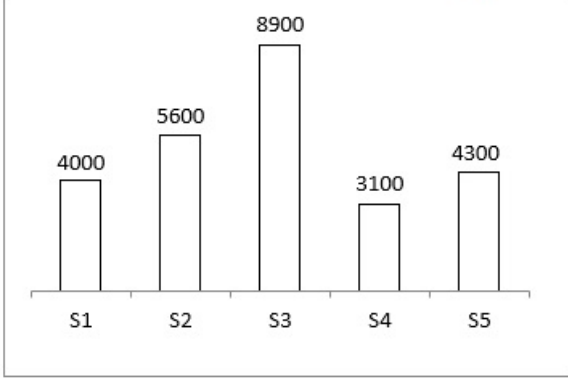
3. ✗ $S5 > S4 > S2 > S3 > S1$

4. ✗ $S5 > S2 > S4 > S1 > S3$

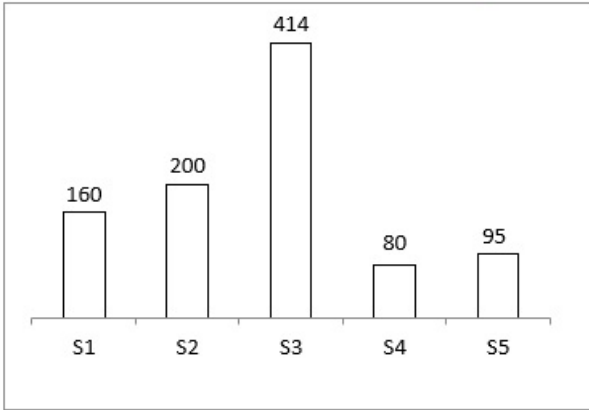
Question Number : 130 Question Id : 630680227295 Option Shuffling : Yes Is Question Mandatory : No Calculator : None
Response Time : N.A Think Time : N.A Minimum Instruction Time : 0

Correct Marks : 1 Wrong Marks : 0

దిగువ ఇవ్వబడిన బార్ చార్ట్ దేశంలోని 5 రాష్ట్రాలు ఉత్పత్తి చేసిన గోధుమ ఉత్పత్తిని (టన్నులలో) చూపుతుంది.



దిగువ ఇవ్వబడిన రెండవ బార్ చార్ట్ ఈ 5 రాష్ట్రాల్లో గోధుమలను ఉత్పత్తి చేసిన భూమిని (హెక్టార్లలో) చూపుతుంది.



దిగుబడి = (గోధుమ ఉత్పత్తి/గోధుమను ఉత్పత్తి చేస్తున్న విస్తీర్ణం)

ఈ క్రింది వాటిలో రాష్ట్రాల దిగుబడుల ఆధారంగా సరైన క్రమం ఏది?

Options :

1. ✗ $S5 > S2 > S4 > S3 > S1$

2. ✓ $S5 > S4 > S2 > S1 > S3$

3. ✗ $S5 > S4 > S2 > S3 > S1$

4. ✗ $S5 > S2 > S4 > S1 > S3$

Question Number : 131 Question Id : 630680227296 Option Shuffling : Yes Is Question Mandatory : No Calculator : None
Response Time : N.A Think Time : N.A Minimum Instruction Time : 0

Correct Marks : 1 Wrong Marks : 0

Select the most appropriate option to fill in the blank.

Ask the right question, get _____ right answer.

Options :

1. ✗ a

2. ✗ an

3. ✓ the

4. ✗ No article

Question Number : 131 Question Id : 630680227296 Option Shuffling : Yes Is Question Mandatory : No Calculator : None Response Time : N.A Think Time : N.A Minimum Instruction Time : 0

Correct Marks : 1 Wrong Marks : 0

Select the most appropriate option to fill in the blank.

Ask the right question, get _____ right answer.

Options :

1. ✘ a
2. ✘ an
3. ✔ the
4. ✘ No article

Question Number : 132 Question Id : 630680227297 Option Shuffling : Yes Is Question Mandatory : No Calculator : None Response Time : N.A Think Time : N.A Minimum Instruction Time : 0

Correct Marks : 1 Wrong Marks : 0

Select the most appropriate option to fill in the blank.

_____ administration has dispatched relief materials to _____ impacted communities.

Options :

1. ✔ The, the
2. ✘ A, an
3. ✘ The, a
4. ✘ A, the

Question Number : 132 Question Id : 630680227297 Option Shuffling : Yes Is Question Mandatory : No Calculator : None Response Time : N.A Think Time : N.A Minimum Instruction Time : 0

Correct Marks : 1 Wrong Marks : 0

Select the most appropriate option to fill in the blank.

_____ administration has dispatched relief materials to _____ impacted communities.

Options :

1. ✔ The, the
2. ✘ A, an
3. ✘ The, a
4. ✘ A, the

Question Number : 133 Question Id : 630680227298 Option Shuffling : Yes Is Question Mandatory : No Calculator : None Response Time : N.A Think Time : N.A Minimum Instruction Time : 0

Correct Marks : 1 Wrong Marks : 0

Select the most appropriate option to fill in the blank.

This was a _____ disguised swimming pool area with dry ice, giving a very nice effect.

Options :

1. ✘ clever
2. ✔ cleverly
3. ✘ cleverer
4. ✘ cleverest

Question Number : 133 Question Id : 630680227298 Option Shuffling : Yes Is Question Mandatory : No Calculator : None Response Time : N.A Think Time : N.A Minimum Instruction Time : 0

Correct Marks : 1 Wrong Marks : 0

Select the most appropriate option to fill in the blank.

This was a _____ disguised swimming pool area with dry ice, giving a very nice effect.

Options :

1. ✘ clever
2. ✔ cleverly
3. ✘ cleverer
4. ✘ cleverest

Question Number : 134 Question Id : 630680227299 Option Shuffling : Yes Is Question Mandatory : No Calculator : None Response Time : N.A Think Time : N.A Minimum Instruction Time : 0

Correct Marks : 1 Wrong Marks : 0

Select the most appropriate option to fill in the blank.

If you find things are getting too difficult, walk away _____ 15 minutes, then come back and try again.

Options :

1. ✔ for about
2. ✘ off
3. ✘ from about
4. ✘ upon for

Question Number : 134 Question Id : 630680227299 Option Shuffling : Yes Is Question Mandatory : No Calculator : None Response Time : N.A Think Time : N.A Minimum Instruction Time : 0

Correct Marks : 1 Wrong Marks : 0

Select the most appropriate option to fill in the blank.

If you find things are getting too difficult, walk away _____ 15 minutes, then come back and try again.

Options :

1. ✔ for about
2. ✘ off
3. ✘ from about
4. ✘ upon for

Question Number : 135 Question Id : 630680227300 Option Shuffling : Yes Is Question Mandatory : No Calculator : None Response Time : N.A Think Time : N.A Minimum Instruction Time : 0

Correct Marks : 1 Wrong Marks : 0

From the four sentences given below, identify the sentence(s) with a grammatical error.

- A. My son is pursuing a course on your university.
- B. Happiness happen on the way to fulfilment.
- C. I have forgotten your name.
- D. Please forgive me for my mistakes.

Options :

1. ✔ Only A and B
2. ✘ Only B and C
3. ✘ Only A and D
4. ✘ Only B, C and D

Question Number : 135 Question Id : 630680227300 Option Shuffling : Yes Is Question Mandatory : No Calculator : None Response Time : N.A Think Time : N.A Minimum Instruction Time : 0

Correct Marks : 1 Wrong Marks : 0

From the four sentences given below, identify the sentence(s) with a grammatical error.

- A. My son is pursuing a course on your university.
- B. Happiness happen on the way to fulfilment.
- C. I have forgotten your name.
- D. Please forgive me for my mistakes.

Options :

1. ✔ Only A and B
2. ✘ Only B and C
3. ✘ Only A and D

4. ✘ Only B, C and D

Question Number : 136 Question Id : 630680227301 Option Shuffling : Yes Is Question Mandatory : No Calculator : None Response Time : N.A Think Time : N.A Minimum Instruction Time : 0

Correct Marks : 1 Wrong Marks : 0

From the four sentences given below, identify the sentence(s) with a grammatical error.

- A. I force my eyes to meet his gaze despite of comparing him to my favourite guidance counsellor.
- B. I study math more harder than you do.
- C. The most successful people are the more productive people.
- D. I will not be riding anything for a long time.

Options :

- 1. ✘ Only B and D
- 2. ✘ Only C
- 3. ✘ Only A and D
- 4. ✔ Only A, B and C

Question Number : 136 Question Id : 630680227301 Option Shuffling : Yes Is Question Mandatory : No Calculator : None Response Time : N.A Think Time : N.A Minimum Instruction Time : 0

Correct Marks : 1 Wrong Marks : 0

From the four sentences given below, identify the sentence(s) with a grammatical error.

- A. I force my eyes to meet his gaze despite of comparing him to my favourite guidance counsellor.
- B. I study math more harder than you do.
- C. The most successful people are the more productive people.
- D. I will not be riding anything for a long time.

Options :

- 1. ✘ Only B and D
- 2. ✘ Only C
- 3. ✘ Only A and D
- 4. ✔ Only A, B and C

Question Number : 137 Question Id : 630680227302 Option Shuffling : Yes Is Question Mandatory : No Calculator : None Response Time : N.A Think Time : N.A Minimum Instruction Time : 0

Correct Marks : 1 Wrong Marks : 0

Identify the sentence with the correct usage of the simple past tense.

- A. Divya went to the grocery store yesterday.
- B. Last year, I bought a car.

Options :

- 1. ✘ Only A
- 2. ✘ Only B
- 3. ✔ Both A and B
- 4. ✘ Neither A nor B

Question Number : 137 Question Id : 630680227302 Option Shuffling : Yes Is Question Mandatory : No Calculator : None Response Time : N.A Think Time : N.A Minimum Instruction Time : 0

Correct Marks : 1 Wrong Marks : 0

Identify the sentence with the correct usage of the simple past tense.

- A. Divya went to the grocery store yesterday.
- B. Last year, I bought a car.

Options :

- 1. ✘ Only A
- 2. ✘ Only B
- 3. ✔ Both A and B
- 4. ✘ Neither A nor B

Question Number : 138 Question Id : 630680227303 Option Shuffling : Yes Is Question Mandatory : No Calculator : None Response Time : N.A Think Time : N.A Minimum Instruction Time : 0

Correct Marks : 1 Wrong Marks : 0

Identify the sentence with the correct usage of the present perfect tense.

- A. Many scientists have studied your theory.
B. She has been lying to you since 2013.

Options :

1. Only A
2. Only B
3. Both A and B
4. Neither A nor B

Question Number : 138 Question Id : 630680227303 Option Shuffling : Yes Is Question Mandatory : No Calculator : None Response Time : N.A Think Time : N.A Minimum Instruction Time : 0

Correct Marks : 1 Wrong Marks : 0

Identify the sentence with the correct usage of the present perfect tense.

- A. Many scientists have studied your theory.
B. She has been lying to you since 2013.

Options :

1. Only A
2. Only B
3. Both A and B
4. Neither A nor B

Question Number : 139 Question Id : 630680227304 Option Shuffling : Yes Is Question Mandatory : No Calculator : None Response Time : N.A Think Time : N.A Minimum Instruction Time : 0

Correct Marks : 1 Wrong Marks : 0

Select the most appropriate option to fill in the blank.

Sam doesn't like to eat chocolate, _____?

Options :

1. do he
2. didn't he
3. will he
4. does he

Question Number : 139 Question Id : 630680227304 Option Shuffling : Yes Is Question Mandatory : No Calculator : None Response Time : N.A Think Time : N.A Minimum Instruction Time : 0

Correct Marks : 1 Wrong Marks : 0

Select the most appropriate option to fill in the blank.

Sam doesn't like to eat chocolate, _____?

Options :

1. do he
2. didn't he
3. will he
4. does he

Question Number : 140 Question Id : 630680227305 Option Shuffling : Yes Is Question Mandatory : No Calculator : None Response Time : N.A Think Time : N.A Minimum Instruction Time : 0

Correct Marks : 1 Wrong Marks : 0

Select the most appropriate option to fill in the blank.

There is a beautiful museum on that street, _____?

Options :

1. ✘ isn't it
2. ✔ isn't there
3. ✘ is there
4. ✘ does there

Question Number : 140 Question Id : 630680227305 Option Shuffling : Yes Is Question Mandatory : No Calculator : None Response Time : N.A Think Time : N.A Minimum Instruction Time : 0

Correct Marks : 1 Wrong Marks : 0

Select the most appropriate option to fill in the blank.

There is a beautiful museum on that street, _____?

Options :

1. ✘ isn't it
2. ✔ isn't there
3. ✘ is there
4. ✘ does there

Question Number : 141 Question Id : 630680227306 Option Shuffling : Yes Is Question Mandatory : No Calculator : None Response Time : N.A Think Time : N.A Minimum Instruction Time : 0

Correct Marks : 1 Wrong Marks : 0

Select the correct passive form of the given sentence.

Rohan has called the driver.

Options :

1. ✘ Driver has called by Rohan.
2. ✘ The driver is being called by Rohan.
3. ✘ The driver was called by Rohan.
4. ✔ The driver has been called by Rohan.

Question Number : 141 Question Id : 630680227306 Option Shuffling : Yes Is Question Mandatory : No Calculator : None Response Time : N.A Think Time : N.A Minimum Instruction Time : 0

Correct Marks : 1 Wrong Marks : 0

Select the correct passive form of the given sentence.

Rohan has called the driver.

Options :

1. ✘ Driver has called by Rohan.
2. ✘ The driver is being called by Rohan.
3. ✘ The driver was called by Rohan.
4. ✔ The driver has been called by Rohan.

Question Number : 142 Question Id : 630680227307 Option Shuffling : Yes Is Question Mandatory : No Calculator : None Response Time : N.A Think Time : N.A Minimum Instruction Time : 0

Correct Marks : 1 Wrong Marks : 0

Select the option that expresses the given sentence in passive voice.

The industry will launch some new products.

Options :

1. ✘ Some new products would be launched by industry.
2. ✔ Some new products will be launched by the industry.
3. ✘ Some new products have been launched by the industry.
4. ✘ Some new products would been launched by the industry.

Question Number : 142 Question Id : 630680227307 Option Shuffling : Yes Is Question Mandatory : No Calculator : None Response Time : N.A Think Time : N.A Minimum Instruction Time : 0

Correct Marks : 1 Wrong Marks : 0

Select the option that expresses the given sentence in passive voice.

The industry will launch some new products.

Options :

1. ✘ Some new products would be launched by industry.
2. ✔ Some new products will be launched by the industry.
3. ✘ Some new products have been launched by the industry.
4. ✘ Some new products would be launched by the industry.

Question Number : 143 Question Id : 630680227308 Option Shuffling : Yes Is Question Mandatory : No Calculator : None Response Time : N.A Think Time : N.A Minimum Instruction Time : 0 Negative Marks Display Text : 0.0

Correct Marks : 1 Wrong Marks : 0

Match the idioms in column I with their meanings in column II.

	Column I		Column II
A	Off colour	1	Pleasantly brief
B	Pull one's leg	2	To control
C	Short and sweet	3	Tease someone
D	Keep in check	4	Slightly unwell

Options :

1. ✘ A-2, B-1, C-4, D-3
2. ✘ A-1, B-3, C-2, D-4
3. ✘ A-4, B-1, C-2, D-3
4. ✔ A-4, B-3, C-1, D-2

Question Number : 143 Question Id : 630680227308 Option Shuffling : Yes Is Question Mandatory : No Calculator : None Response Time : N.A Think Time : N.A Minimum Instruction Time : 0 Negative Marks Display Text : 0.0

Correct Marks : 1 Wrong Marks : 0

Match the idioms in column I with their meanings in column II.

	Column I		Column II
A	Off colour	1	Pleasantly brief
B	Pull one's leg	2	To control
C	Short and sweet	3	Tease someone
D	Keep in check	4	Slightly unwell

Options :

1. ✘ A-2, B-1, C-4, D-3
2. ✘ A-1, B-3, C-2, D-4
3. ✘ A-4, B-1, C-2, D-3
4. ✔ A-4, B-3, C-1, D-2

Question Number : 144 Question Id : 630680227309 Option Shuffling : Yes Is Question Mandatory : No Calculator : None Response Time : N.A Think Time : N.A Minimum Instruction Time : 0 Negative Marks Display Text : 0.0

Correct Marks : 1 Wrong Marks : 0

Match the idioms in column I with their meanings in column II.

	Column I		Column II
A	Lost cause	1	A person or thing that is certain to fail
B	Make a flying visit	2	Infuriate someone
C	Make someone's blood boil	3	Very small budget
D	On a shoe string	4	To make a quick trip

Options :

1. ✘ A-2, B-1, C-4, D-3
2. ✔ A-1, B-4, C-2, D-3
3. ✘ A-3, B-2, C-4, D-1
4. ✘ A-1, B-4, C-3, D-2

Question Number : 144 Question Id : 630680227309 Option Shuffling : Yes Is Question Mandatory : No Calculator : None Response Time : N.A Think Time : N.A Minimum Instruction Time : 0 Negative Marks Display Text : 0.0

Correct Marks : 1 Wrong Marks : 0

Match the idioms in column I with their meanings in column II.

	Column I		Column II
A	Lost cause	1	A person or thing that is certain to fail
B	Make a flying visit	2	Infuriate someone
C	Make someone's blood boil	3	Very small budget
D	On a shoe string	4	To make a quick trip

Options :

1. ✘ A-2, B-1, C-4, D-3
2. ✔ A-1, B-4, C-2, D-3
3. ✘ A-3, B-2, C-4, D-1
4. ✘ A-1, B-4, C-3, D-2

Question Number : 145 Question Id : 630680227310 Option Shuffling : Yes Is Question Mandatory : No Calculator : None Response Time : N.A Think Time : N.A Minimum Instruction Time : 0

Correct Marks : 1 Wrong Marks : 0

Identify the correct pair of synonyms.

- A. Cloudy : Hazy
- B. Meek : Timid
- C. Obvious : Dark
- D. Passionate : Cold

Options :

1. ✘ All A, B, C and D
2. ✔ Only A and B
3. ✘ Only C
4. ✘ Only C and D

Question Number : 145 Question Id : 630680227310 Option Shuffling : Yes Is Question Mandatory : No Calculator : None Response Time : N.A Think Time : N.A Minimum Instruction Time : 0

Correct Marks : 1 Wrong Marks : 0

Identify the correct pair of synonyms.

- A. Cloudy : Hazy
- B. Meek : Timid

- C. Obvious : Dark
- D. Passionate : Cold

Options :

1. ✘ All A, B, C and D
2. ✔ Only A and B
3. ✘ Only C
4. ✘ Only C and D

Question Number : 146 Question Id : 630680227311 Option Shuffling : Yes Is Question Mandatory : No Calculator : None Response Time : N.A Think Time : N.A Minimum Instruction Time : 0

Correct Marks : 1 Wrong Marks : 0

Identify the correct pair of antonyms.

- A. Haphazard : Erratic
- B. Lunatic : Sane
- C. Dodge : Embrace
- D. Spurious : Authentic

Options :

1. ✘ Only A and C
2. ✔ Only B, C and D
3. ✘ Only B
4. ✘ All A, B, C and D

Question Number : 146 Question Id : 630680227311 Option Shuffling : Yes Is Question Mandatory : No Calculator : None Response Time : N.A Think Time : N.A Minimum Instruction Time : 0

Correct Marks : 1 Wrong Marks : 0

Identify the correct pair of antonyms.

- A. Haphazard : Erratic
- B. Lunatic : Sane
- C. Dodge : Embrace
- D. Spurious : Authentic

Options :

1. ✘ Only A and C
2. ✔ Only B, C and D
3. ✘ Only B
4. ✘ All A, B, C and D

Question Number : 147 Question Id : 630680227312 Option Shuffling : Yes Is Question Mandatory : No Calculator : None Response Time : N.A Think Time : N.A Minimum Instruction Time : 0

Correct Marks : 1 Wrong Marks : 0

Identify the sentence(s) with no spelling errors from the given sentences.

- A. The story can explore human relationships.
- B. The pursuit of mastery bears gifts.

Options :

1. ✘ Only A
2. ✘ Only B
3. ✔ Both A and B
4. ✘ Neither A nor B

Question Number : 147 Question Id : 630680227312 Option Shuffling : Yes Is Question Mandatory : No Calculator : None Response Time : N.A Think Time : N.A Minimum Instruction Time : 0

Correct Marks : 1 Wrong Marks : 0

Identify the sentence(s) with no spelling errors from the given sentences.

- A. The story can explore human relationships.
- B. The pursuit of mastery bears gifts.

Options :

1. ✘ Only A
2. ✘ Only B
3. ✔ Both A and B
4. ✘ Neither A nor B

Question Number : 148 Question Id : 630680227313 Option Shuffling : Yes Is Question Mandatory : No Calculator : None Response Time : N.A Think Time : N.A Minimum Instruction Time : 0

Correct Marks : 1 Wrong Marks : 0

Identify the sentence(s) with no spelling errors from the given sentences.

- A. He is in danger of losing his position unless he works harder.
- B. Almond milk is another popular dairy substitute due to the popularity of almonds.

Options :

1. ✔ Only A
2. ✘ Only B
3. ✘ Both A and B
4. ✘ Neither A nor B

Question Number : 148 Question Id : 630680227313 Option Shuffling : Yes Is Question Mandatory : No Calculator : None Response Time : N.A Think Time : N.A Minimum Instruction Time : 0

Correct Marks : 1 Wrong Marks : 0

Identify the sentence(s) with no spelling errors from the given sentences.

- A. He is in danger of losing his position unless he works harder.
- B. Almond milk is another popular dairy substitute due to the popularity of almonds.

Options :

1. ✔ Only A
2. ✘ Only B
3. ✘ Both A and B
4. ✘ Neither A nor B

Question Number : 149 Question Id : 630680227314 Option Shuffling : Yes Is Question Mandatory : No Calculator : None Response Time : N.A Think Time : N.A Minimum Instruction Time : 0

Correct Marks : 1 Wrong Marks : 0

Select the most appropriate option for the given blank.

I want you to _____ me as soon as possible.

Options :

1. ✘ mete
2. ✔ meet
3. ✘ met
4. ✘ meat

Question Number : 149 Question Id : 630680227314 Option Shuffling : Yes Is Question Mandatory : No Calculator : None Response Time : N.A Think Time : N.A Minimum Instruction Time : 0

Correct Marks : 1 Wrong Marks : 0

Select the most appropriate option for the given blank.

I want you to _____ me as soon as possible.

Options :

1. ✘ mete
2. ✔ meet
3. ✘ met
4. ✘ meat

Question Number : 150 Question Id : 630680227315 Option Shuffling : Yes Is Question Mandatory : No Calculator : None Response Time : N.A Think Time : N.A Minimum Instruction Time : 0

Correct Marks : 1 Wrong Marks : 0

Select the most appropriate option for the given blank.

This outstanding book was authored by a seasoned bantam and large _____ poultry farmer and show judge.

Options :

1. ✘ foul
2. ✘ fall
3. ✔ fowl
4. ✘ frown

Question Number : 150 Question Id : 630680227315 Option Shuffling : Yes Is Question Mandatory : No Calculator : None Response Time : N.A Think Time : N.A Minimum Instruction Time : 0

Correct Marks : 1 Wrong Marks : 0

Select the most appropriate option for the given blank.

This outstanding book was authored by a seasoned bantam and large _____ poultry farmer and show judge.

Options :

1. ✘ foul
2. ✘ fall
3. ✔ fowl
4. ✘ frown