

Print

TCSiON CAE

Notations :

- Options shown in green color and with ✓ icon are correct.
- Options shown in red color and with ✗ icon are incorrect.

Question Paper Name :

PC22271 GENERAL STUDIES AND GENERAL ABILITIES AO 2227

Subject Name :

PC22271 GENERAL STUDIES AND GENERAL ABILITIES AO2227

Actual Answer Key :

Yes

Calculator :

None

Magnifying Glass Required? :

No

Ruler Required? :

No

Eraser Required? :

No

Scratch Pad Required? :

No

Rough Sketch/Notepad Required? :

No

Protractor Required? :

No

Show Watermark on Console? :

Yes

Highlighter :

No

Auto Save on Console?

Yes

Change Font Color :

No

Change Background Color :

No

Change Theme :

No

Help Button :

No

Show Reports :

No

Show Progress Bar :

No

Is this Group for Examiner? :

No

Examiner permission :

Cant View

Show Progress Bar? :

No

Enable Mark as Answered Mark for Review and Clear Response :

Yes

Maximum Instruction Time :

0

Is Section Default? :

null

Question Number : 1 Question Id : 630680220939 Option Shuffling : Yes Is Question Mandatory : No Calculator : None Response Time : N.A Think Time : N.A Minimum Instruction Time : 0

Correct Marks : 1 Wrong Marks : 0

In 2023, for which documentary did India receive an Oscar?

Options :

- ✗ Haulout
- ✓ The Elephant Whisperers
- ✗ Stanger At The Gate
- ✗ The Quiet Girl

Question Number : 1 Question Id : 630680220939 Option Shuffling : Yes Is Question Mandatory : No Calculator : None Response Time : N.A Think Time : N.A Minimum Instruction Time : 0

Correct Marks : 1 Wrong Marks : 0

2023లో, భారతదేశం ఏ డాక్యుమెంటరీకి ఆస్కార్‌ను అందుకుంది?

Options :

- ✗ హౌలౌట్
- ✓ ది ఎలిఫెంట్ విస్పర్సర్స్
- ✗ స్ట్రేంజర్ అట్ ది గేట్
- ✗ ది క్వైట్ గిర్ల్

Question Number : 2 Question Id : 630680220940 Option Shuffling : Yes Is Question Mandatory : No Calculator : None Response Time : N.A Think Time : N.A Minimum Instruction Time : 0

Correct Marks : 1 Wrong Marks : 0

What is the full form of FATF?

Options :

1. ✓ Financial Action Task Force
2. ✗ Foreign Assets Tracking Fund
3. ✗ Federal Anti-Terrorism Force
4. ✗ Fiscal Accountability and Transparency Foundation

Question Number : 2 Question Id : 630680220940 Option Shuffling : Yes Is Question Mandatory : No Calculator : None Response Time : N.A Think Time : N.A Minimum Instruction Time : 0

Correct Marks : 1 Wrong Marks : 0

FATF యొక్క విస్తరణ రూపం ఏమిటి?

Options :

1. ✓ ఫైనాన్షియల్ యాక్షన్ టాస్క్ ఫోర్స్ (Financial Action Task Force)
2. ✗ ఫారిన్ అసెట్స్ ట్రాకింగ్ ఫండ్ (Foreign Assets Tracking Fund)
3. ✗ ఫెడరల్ యాంటి టెర్రరిజం ఫోర్స్ (Federal Anti-Terrorism Force)
4. ✗ ఫిస్కల్ అకౌంటబిలిటీ అండ్ ట్రాన్స్పారెన్సీ ఫౌండేషన్ (Fiscal Accountability and Transparency Foundation)

Question Number : 3 Question Id : 630680220941 Option Shuffling : Yes Is Question Mandatory : No Calculator : None Response Time : N.A Think Time : N.A Minimum Instruction Time : 0

Correct Marks : 1 Wrong Marks : 0

In which United Nations Commission was India re-elected after a gap of two decades in April 2023?

Options :

1. ✓ UN Statistical Commission
2. ✗ UN Commission on Human Rights
3. ✗ UN Commission on International Trade Law
4. ✗ UN Commission on The Status of Women

Question Number : 3 Question Id : 630680220941 Option Shuffling : Yes Is Question Mandatory : No Calculator : None Response Time : N.A Think Time : N.A Minimum Instruction Time : 0

Correct Marks : 1 Wrong Marks : 0

రెండు దశాబ్దాల విరామం తర్వాత ఏప్రిల్ 2023లో, ఐక్యరాజ్యసమితి యొక్క ఏ కమిషన్లో భారతదేశం తిరిగి ఎన్నికైంది?

Options :

1. ✓ UN స్టాటిస్టికల్ కమిషన్
2. ✗ UN కమిషన్ ఆన్ హ్యూమన్ రైట్స్
3. ✗ UN కమిషన్ ఆన్ ఇంటర్నేషనల్ ట్రేడ్ లా
4. ✗ UN కమిషన్ ఆన్ ది స్టేటస్ ఆఫ్ ఉమెన్

Question Number : 4 Question Id : 630680220942 Option Shuffling : Yes Is Question Mandatory : No Calculator : None Response Time : N.A Think Time : N.A Minimum Instruction Time : 0

Correct Marks : 1 Wrong Marks : 0

Which option correctly matches the following pairs?

- A) NATO - North American Treaty Organisation
- B) IMF - International Monetary Fund
- C) APEC - Atlantic Pacific Economic Cooperation
- D) WTO - World Trade Organisation

Options :

1. ✗ A and C
2. ✗ B and C
3. ✗ A and D
4. ✓ B and D

Question Number : 4 Question Id : 630680220942 Option Shuffling : Yes Is Question Mandatory : No Calculator : None Response Time : N.A Think Time : N.A Minimum Instruction Time : 0 Negative Marks Display Text : 0.0

Correct Marks : 1 Wrong Marks : 0

ఏ ఎంపిక కింది సరైన జతలను సూచిస్తోంది?

- A) NATO - నార్త్ అమెరికన్ ట్రీటీ ఆర్గనైజేషన్

- B) IMF – ఇంటర్నేషనల్ మానిటరీ ఫండ్
 C) APEC - అట్లాంటిక్ పసిఫిక్ ఎకనామిక్ కోఆపరేషన్
 D) WTO – వరల్డ్ ట్రేడ్ ఆర్గనైజేషన్

Options :

1. ✘ A మరియు C
2. ✘ B మరియు C
3. ✘ A మరియు D
4. ✔ B మరియు D

Question Number : 5 Question Id : 630680220943 Option Shuffling : Yes Is Question Mandatory : No Calculator : None Response Time : N.A Think Time : N.A Minimum Instruction Time : 0

Correct Marks : 1 Wrong Marks : 0

What is the name of the first woman to orbit the moon in the Orion spacecraft, launched by NASA?

Options :

1. ✘ Sally Ride
2. ✔ Christina Koch
3. ✘ Jessica Meir
4. ✘ Anna Kikina

Question Number : 5 Question Id : 630680220943 Option Shuffling : Yes Is Question Mandatory : No Calculator : None Response Time : N.A Think Time : N.A Minimum Instruction Time : 0

Correct Marks : 1 Wrong Marks : 0

NASA ప్రవేశపెట్టిన ఓరియన్ అంతరిక్షనౌకలో చంద్రుడి కక్ష్యలో తిరిగిన మొదటి మహిళ పేరు ఏమిటి?

Options :

1. ✘ సాలీ రైడ్
2. ✔ క్రిస్టినా కోచ్
3. ✘ జెస్సికా మెయర్
4. ✘ అన్నా కికినా

Question Number : 6 Question Id : 630680220944 Option Shuffling : Yes Is Question Mandatory : No Calculator : None Response Time : N.A Think Time : N.A Minimum Instruction Time : 0

Correct Marks : 1 Wrong Marks : 0

Who won the golden boot in FIFA 2022?

Options :

1. ✘ Lionel Messi
2. ✘ Alvaro Martinez
3. ✘ Antoine Greizmann
4. ✔ Kylian Mbappe

Question Number : 6 Question Id : 630680220944 Option Shuffling : Yes Is Question Mandatory : No Calculator : None Response Time : N.A Think Time : N.A Minimum Instruction Time : 0

Correct Marks : 1 Wrong Marks : 0

FIFA 2022లో గోల్డెన్ బూటు గెలుచుకున్నది ఎవరు?

Options :

1. ✘ లియోనెల్ మెస్సి
2. ✘ అల్వారో మార్టినెజ్
3. ✘ ఆంటోయిన్ గ్రెజ్మాన్
4. ✔ కైలియన్ ఎమ్బాపె

Question Number : 7 Question Id : 630680220945 Option Shuffling : Yes Is Question Mandatory : No Calculator : None Response Time : N.A Think Time : N.A Minimum Instruction Time : 0

Correct Marks : 1 Wrong Marks : 0

Match the following terms to their appropriate categories:

A) Birds Eye Chilli	i) Karnataka
B) Purple Fest	ii) Thai Chilli
C) Zero Budget Natural Farming	iii) Millets Giveaway
D) Small Farmers' Agri-Business Consortium	iv) Goa

Options :

1. ✓ A-ii, B-iv, C-i, D-iii
2. ✗ A-iv, B-ii, C-iii, D-i
3. ✗ A-iii, B-i, C-ii, D-iv
4. ✗ A-i, B-iii, C-iv, D-ii

Question Number : 7 Question Id : 630680220945 Option Shuffling : Yes Is Question Mandatory : No Calculator : None Response Time : N.A Think Time : N.A Minimum Instruction Time : 0

Correct Marks : 1 Wrong Marks : 0

కింది పదాలను వాటికి తగిన వర్గాలతో జతపరచండి.

A) బర్డ్స్ ఐ చిల్డ్రీ	i) కర్ణాటక
B) పర్పుల్ పెన్స్	ii) డాయ్ చిల్డ్రీ
C) శూన్య బడ్జెట్ ప్రాకృతిక వ్యవసాయం	iii) సిరి డాన్యాల బహుమతి
D) సన్నకారు రైతుల వ్యవసాయ- వ్యాపార సహాయకాండ	iv) గోవా

Options :

1. ✓ A-ii, B-iv, C-i, D-iii
2. ✗ A-iv, B-ii, C-iii, D-i
3. ✗ A-iii, B-i, C-ii, D-iv
4. ✗ A-i, B-iii, C-iv, D-ii

Question Number : 8 Question Id : 630680220946 Option Shuffling : Yes Is Question Mandatory : No Calculator : None Response Time : N.A Think Time : N.A Minimum Instruction Time : 0

Correct Marks : 1 Wrong Marks : 0

Which initiative offers high-quality educational material via DTH channels throughout India?

Options :

1. ✗ Shodhganga
2. ✗ Virtual labs
3. ✓ SWAYAM Prabha
4. ✗ e-Yantra

Question Number : 8 Question Id : 630680220946 Option Shuffling : Yes Is Question Mandatory : No Calculator : None Response Time : N.A Think Time : N.A Minimum Instruction Time : 0

Correct Marks : 1 Wrong Marks : 0

భారతదేశం అంతటా DTH ఛానెల్ల ద్వారా అధిక-నాణ్యమైన విద్యా సంబంధ సామాగ్రిని అందిస్తున్న ప్రారంభ ఆఫర్ ఏది?

Options :

1. ✗ శోధంగా
2. ✗ వర్చువల్ ల్యాబ్స్
3. ✓ SWAYAM ప్రభ
4. ✗ ఇ-యాన్ట్రా

Question Number : 9 Question Id : 630680220947 Option Shuffling : Yes Is Question Mandatory : No Calculator : None Response Time : N.A Think Time : N.A Minimum Instruction Time : 0

Correct Marks : 1 Wrong Marks : 0

What is the objective of the WEST initiative under the i-STEM program?

Options :

1. ✗ To promote the welfare of women in the health sector
2. ✓ Empowering women to contribute in science, technology and innovation
3. ✗ To promote women-based startups
4. ✗ Empowering women artisans from the rural areas

Question Number : 9 Question Id : 630680220947 Option Shuffling : Yes Is Question Mandatory : No Calculator : None Response Time : N.A Think Time : N.A Minimum Instruction Time : 0

Correct Marks : 1 Wrong Marks : 0

i-STEM కార్యక్రమాన్ని WEST ప్రారంభించడానికి గల ఉద్దేశం ఏమిటి?

Options :

1. ✘ ఆరోగ్య రంగంలో మహిళల సంక్షేమాన్ని ప్రోత్సహించడం
2. ✔ విజ్ఞాన శాస్త్రం, సాంకేతికత మరియు నూతన ఆవిష్కరణలో సేవను అందించడానికి మహిళలకు సాధికారత కల్పించడం
3. ✘ మహిళా ఆధారిత ప్రారంభ వ్యాపారాలను (స్టార్టప్లను) ప్రోత్సహించడం
4. ✘ గ్రామీణ ప్రాంతాల్లోని మహిళా హస్తకళాకారులకు సాధికారత కల్పించడం

Question Number : 10 Question Id : 630680220948 Option Shuffling : Yes Is Question Mandatory : No Calculator : None
Response Time : N.A Think Time : N.A Minimum Instruction Time : 0

Correct Marks : 1 Wrong Marks : 0

Which organization is responsible for maintaining the International Liquid Mirror Telescope (ILMT) located at Devasthal Observatory?

Options :

1. ✔ Aryabhata Research Institute of Observational Sciences
2. ✘ Indian Council of Medical Research (ICMR)
3. ✘ Indian Space Research Organization (ISRO)
4. ✘ Council of Scientific and Industrial Research

Question Number : 10 Question Id : 630680220948 Option Shuffling : Yes Is Question Mandatory : No Calculator : None
Response Time : N.A Think Time : N.A Minimum Instruction Time : 0

Correct Marks : 1 Wrong Marks : 0

దేవస్థల్ అభివ్యవస్థలోని ఇంటర్నేషనల్ లిక్విడ్ మిర్రర్ టెలిస్కోప్ (ILMT) నిర్వహణకు ఏ సంస్థ బాధ్యత వహిస్తుంది?

Options :

1. ✔ ఆర్యభట్ట రీసెర్చ్ ఇన్స్టిట్యూట్ ఆఫ్ అభివ్యవస్థ సైన్సెస్
2. ✘ భారత వైద్య పరిశోధన మండలి (ఇండియన్ కౌన్సిల్ ఆఫ్ మెడికల్ రీసెర్చ్-ICMR)
3. ✘ భారతీయ అంతరిక్ష పరిశోధనా సంస్థ (ఇస్రో)
4. ✘ కౌన్సిల్ ఆఫ్ సైంటిఫిక్ అండ్ ఇండస్ట్రియల్ రీసెర్చ్

Question Number : 11 Question Id : 630680220949 Option Shuffling : Yes Is Question Mandatory : No Calculator : None
Response Time : N.A Think Time : N.A Minimum Instruction Time : 0

Correct Marks : 1 Wrong Marks : 0

What is the age group targeted for polio vaccination in India?

Options :

1. ✘ 5-10
2. ✔ 0-5
3. ✘ 10-15
4. ✘ 15-20

Question Number : 11 Question Id : 630680220949 Option Shuffling : Yes Is Question Mandatory : No Calculator : None
Response Time : N.A Think Time : N.A Minimum Instruction Time : 0

Correct Marks : 1 Wrong Marks : 0

భారతదేశంలో ఏ వయోవర్గం వారికి పోలియో చుక్కలు వేస్తారు?

Options :

1. ✘ 5-10
2. ✔ 0-5
3. ✘ 10-15
4. ✘ 15-20

Question Number : 12 Question Id : 630680220950 Option Shuffling : Yes Is Question Mandatory : No Calculator : None
Response Time : N.A Think Time : N.A Minimum Instruction Time : 0

Correct Marks : 1 Wrong Marks : 0

Under the Child Labour (Prohibition & Regulation) Amendment Act of 2016, which age group is prohibited to work in hazardous occupations and processes?

Options :

1. ✘ Children below 14 years
2. ✔ Adolescents between 14-18 years
3. ✘ Children below 18 years
4. ✘ Adolescents above 18 years

Question Number : 12 Question Id : 630680220950 Option Shuffling : Yes Is Question Mandatory : No Calculator : None Response Time : N.A Think Time : N.A Minimum Instruction Time : 0

Correct Marks : 1 Wrong Marks : 0

బాల కార్మికులు (నిషేధం మరియు నియంత్రణ) సవరణ చట్టం 2016 ప్రకారం, ప్రమాదకర వృత్తులు మరియు ప్రక్రియలలో పని చేయడానికి ఏ వయోవర్గం వారిని నిషేధించారు?

Options :

1. ✖ 14 సంవత్సరాల కంటే తక్కువ వయస్సు గల పిల్లలు
2. ✔ 14-18 సంవత్సరాల మధ్య యుక్తవయస్కులు
3. ✖ 18 సంవత్సరాల కంటే తక్కువ వయస్సు గల పిల్లలు
4. ✖ 18 ఏళ్లు పైబడిన యువకులు

Question Number : 13 Question Id : 630680220951 Option Shuffling : Yes Is Question Mandatory : No Calculator : None Response Time : N.A Think Time : N.A Minimum Instruction Time : 0

Correct Marks : 1 Wrong Marks : 0

What is the meaning of the plus sign (+) in the term LGBTQ+?

Options :

1. ✖ A symbol of love and support
2. ✖ A secret code for the LGBTQ+ community
3. ✔ Other sexual and gender identities not included in the acronym
4. ✖ A placeholder for future identities that may emerge

Question Number : 13 Question Id : 630680220951 Option Shuffling : Yes Is Question Mandatory : No Calculator : None Response Time : N.A Think Time : N.A Minimum Instruction Time : 0

Correct Marks : 1 Wrong Marks : 0

LGBTQ+ అనే పదంలోని ప్లస్ గుర్తు (+) యొక్క అర్థం ఏమిటి?

Options :

1. ✖ ప్రేమ మరియు మద్దతు యొక్క చిహ్నం
2. ✖ LGBTQ+ సంఘం యొక్క రహస్య కోడ్
3. ✔ సంక్షిప్తపదములో చేర్చబడని ఇతర లైంగిక మరియు లింగ గుర్తింపులు
4. ✖ ఉద్భవించే భవిష్యత్ గుర్తింపుల కొరకు గల ఒక ప్లేస్ హోల్డర్

Question Number : 14 Question Id : 630680220952 Option Shuffling : Yes Is Question Mandatory : No Calculator : None Response Time : N.A Think Time : N.A Minimum Instruction Time : 0

Correct Marks : 1 Wrong Marks : 0

Read the followings statements.

- A) Central Victim Compensation Fund was launched in the year 2020
 - B) The objective of the scheme is to provide financial support to the victims of Covid-19
- Which of the above statement(s) is/are correct?

Options :

1. ✖ A only
2. ✖ B only
3. ✖ Both A and B
4. ✔ Neither A nor B

Question Number : 14 Question Id : 630680220952 Option Shuffling : Yes Is Question Mandatory : No Calculator : None Response Time : N.A Think Time : N.A Minimum Instruction Time : 0

Correct Marks : 1 Wrong Marks : 0

కింది వాఖ్యాలను చదవండి.

- A) కేంద్ర బాధితుల పరిహార నిధి, 2020 వ సంవత్సరంలో ప్రారంభించబడింది
 - B) కోవిడ్-19 బాధితులకు ఆర్థిక సహాయం అందించడమే ఈ పథకం యొక్క లక్ష్యం
- పై వాక్యము (ల)లో ఏది/వి సరైనది/వి?

Options :

1. ✖ A మాత్రమే
2. ✖ B మాత్రమే
3. ✖ A మరియు B లు రెండూ
4. ✔ A కానీ లేదా B కానీ ఏదీ కాదు

Question Number : 15 Question Id : 630680220953 Option Shuffling : Yes Is Question Mandatory : No Calculator : None Response Time : N.A Think Time : N.A Minimum Instruction Time : 0

Correct Marks : 1 Wrong Marks : 0

Which of the following is an example of a negative impact of technology on the environment?

Options :

1. ✘ The implementation of recycling programs
2. ✘ The conservation of natural habitats
3. ✔ The increased use of fossil fuels
4. ✘ The development of renewable energy sources

Question Number : 15 Question Id : 630680220953 Option Shuffling : Yes Is Question Mandatory : No Calculator : None Response Time : N.A Think Time : N.A Minimum Instruction Time : 0

Correct Marks : 1 Wrong Marks : 0

కింది వాటిలో పర్యావరణంపై సాంకేతికత యొక్క ప్రతికూల ప్రభావానికి ఉదాహరణ ఏది?

Options :

1. ✘ రీసైక్లింగ్ కార్యక్రమాల అమలు
2. ✘ సహజ ఆవాసాల పరిరక్షణ
3. ✔ పెరిగిన శిలాజేందనాల వినియోగం
4. ✘ పునరుత్పాదక ఇంధన వనరుల అభివృద్ధి

Question Number : 16 Question Id : 630680220954 Option Shuffling : Yes Is Question Mandatory : No Calculator : None Response Time : N.A Think Time : N.A Minimum Instruction Time : 0

Correct Marks : 1 Wrong Marks : 0

Which of the following is an example of the negative impact of technology on public health that is difficult to predict?

Options :

1. ✘ The use of social media to promote healthy behaviours
2. ✘ The use of artificial intelligence to diagnose diseases
3. ✔ The long-term effects of exposure to radiation from electronic devices
4. ✘ The development of wearable devices to monitor health

Question Number : 16 Question Id : 630680220954 Option Shuffling : Yes Is Question Mandatory : No Calculator : None Response Time : N.A Think Time : N.A Minimum Instruction Time : 0

Correct Marks : 1 Wrong Marks : 0

కింది వాటిలో ప్రజల ఆరోగ్యంపై ముందుగానే ఊహించడానికి కష్టమైన సాంకేతికత యొక్క ప్రతికూల ప్రభావానికి ఉదాహరణ ఏమిటి?

Options :

1. ✘ మంచి ప్రవర్తనలను ప్రోత్సహించడానికి సాంఘిక ప్రసార మాధ్యమాలను ఉపయోగించడం
2. ✘ వ్యాధులను నిర్ధారించడానికి కృత్రిమ మేధస్సును ఉపయోగించడం
3. ✔ ఎలక్ట్రానిక్ పరికరాల నుండి వచ్చే రేడియేషన్‌కు గురికావడం వల్ల కలిగే దీర్ఘకాలిక ప్రభావాలు
4. ✘ ఆరోగ్యాన్ని పర్యవేక్షించడానికి ధరించ గల పరికరాల అభివృద్ధి

Question Number : 17 Question Id : 630680220955 Option Shuffling : Yes Is Question Mandatory : No Calculator : None Response Time : N.A Think Time : N.A Minimum Instruction Time : 0

Correct Marks : 1 Wrong Marks : 0

Arrange the taxonomic categories in a descending order depending upon their relative dimensions.

- A) Genus
- B) Species
- C) Class
- D) Kingdom
- E) Family
- F) Phylum
- G) Order

Options :

1. ✘ E-D-B-G-A-C-F
2. ✔ D-F-C-G-E-A-B
3. ✘ B-D-F-G-A-C-E
4. ✘ C-F-A-G-D-B-E

Question Number : 17 Question Id : 630680220955 Option Shuffling : Yes Is Question Mandatory : No Calculator : None Response Time : N.A Think Time : N.A Minimum Instruction Time : 0

Correct Marks : 1 Wrong Marks : 0

క్రింది వర్గీకరణ వర్గాలను వాటి సంబంధిత పరిమాణాలను బట్టి అవరోహణ క్రమంలో అమర్చండి.

- A) ప్రజాతులు
- B) జాతులు
- C) తరగతి
- D) రాజ్యం
- E) కుటుంబం
- F) వర్గం
- G) క్రమం

Options :

- 1. ✘ E-D-B-G-A-C-F
- 2. ✔ D-F-C-G-E-A-B
- 3. ✘ B-D-F-G-A-C-E
- 4. ✘ C-F-A-G-D-B-E

Question Number : 18 Question Id : 630680220956 Option Shuffling : Yes Is Question Mandatory : No Calculator : None Response Time : N.A Think Time : N.A Minimum Instruction Time : 0

Correct Marks : 1 Wrong Marks : 0

Arrange the following respiratory organs in the correct order from top to bottom in the body.

- A) Trachea
- B) Larynx
- C) Lungs
- D) Pharynx
- E) Bronchi
- F) Nasal Passage

Options :

- 1. ✘ F-A-E-D-B-C
- 2. ✘ C-F-B-D-A-E
- 3. ✔ F-D-B-A-E-C
- 4. ✘ C-D-B-A-E-F

Question Number : 18 Question Id : 630680220956 Option Shuffling : Yes Is Question Mandatory : No Calculator : None Response Time : N.A Think Time : N.A Minimum Instruction Time : 0

Correct Marks : 1 Wrong Marks : 0

సింద ఇవ్వబడిన శ్వాసకోశ అవయవాలను శరీరంలో అవి ఉండే పై నుండి క్రింది క్రమంలో అమర్చండి

- A) శ్వాసనాళం
- B) స్వరపేటిక
- C) ఊపిరితిత్తులు
- D) గ్రసనిక
- E) శ్వాసనాళశాఖలు
- F) నాసికాద్వారాలు

Options :

- 1. ✘ F-A-E-D-B-C
- 2. ✘ C-F-B-D-A-E
- 3. ✔ F-D-B-A-E-C
- 4. ✘ C-D-B-A-E-F

Question Number : 19 Question Id : 630680220957 Option Shuffling : Yes Is Question Mandatory : No Calculator : None Response Time : N.A Think Time : N.A Minimum Instruction Time : 0

Correct Marks : 1 Wrong Marks : 0

Which monosaccharides contains four carbon atoms?

Options :

- 1. ✔ Tetroses
- 2. ✘ Pentoses
- 3. ✘ Triose
- 4. ✘ Heptose

Question Number : 19 Question Id : 630680220957 Option Shuffling : Yes Is Question Mandatory : No Calculator : None Response Time : N.A Think Time : N.A Minimum Instruction Time : 0

Correct Marks : 1 Wrong Marks : 0

ఏ మోనోశాకరైడ్లు నాలుగు కార్బన్ పరమాణువులను కలిగి ఉంటాయి?

Options :

- 1. ✔ టెట్రోసెస్

2. ✖ పెంటోసెస్
3. ✖ ట్రయోస్
4. ✖ హెప్టోస్

Question Number : 20 Question Id : 630680220958 Option Shuffling : Yes Is Question Mandatory : No Calculator : None Response Time : N.A Think Time : N.A Minimum Instruction Time : 0

Correct Marks : 1 Wrong Marks : 0

Choose the correct pair of disease and the affected organ:

- A) Pnuemonia : Lungs
- B) Trachoma : Intestine
- C) Diarrhoea : Urinary path
- D) Sleeping sickness : Brain

Options :

1. ✔ A and D
2. ✖ A, B and D
3. ✖ A and C
4. ✖ A, C and D

Question Number : 20 Question Id : 630680220958 Option Shuffling : Yes Is Question Mandatory : No Calculator : None Response Time : N.A Think Time : N.A Minimum Instruction Time : 0

Correct Marks : 1 Wrong Marks : 0

వ్యాధి మరియు ప్రభావిత అవయవాల సరైన జతను ఎంచుకోండి:

- A) న్యూమోనియా: ఊపిరితిత్తులు
- B) ట్రాకోమా: ప్రేగు
- C) అతిసారం: మూత్ర మార్గం
- D) నిద్ర జబ్బు: మెదడు

Options :

1. ✔ A మరియు D
2. ✖ A, B మరియు D
3. ✖ A మరియు C
4. ✖ A, C మరియు D

Question Number : 21 Question Id : 630680220959 Option Shuffling : Yes Is Question Mandatory : No Calculator : None Response Time : N.A Think Time : N.A Minimum Instruction Time : 0

Correct Marks : 1 Wrong Marks : 0

There are how many types of ecological pyramids?

Options :

1. ✖ Five
2. ✔ Three
3. ✖ Two
4. ✖ Six

Question Number : 21 Question Id : 630680220959 Option Shuffling : Yes Is Question Mandatory : No Calculator : None Response Time : N.A Think Time : N.A Minimum Instruction Time : 0

Correct Marks : 1 Wrong Marks : 0

ఎన్ని రకాల పర్యావరణ పిరమిడ్లు ఉన్నాయి?

Options :

1. ✖ ఐదు
2. ✔ మూడు
3. ✖ రెండు
4. ✖ ఆరు

Question Number : 22 Question Id : 630680220960 Option Shuffling : Yes Is Question Mandatory : No Calculator : None Response Time : N.A Think Time : N.A Minimum Instruction Time : 0

Correct Marks : 1 Wrong Marks : 0

What is the type of fermentation that takes place during the process of bread rising?

Options :

1. ✖ Lactic Acid Fermentation
2. ✖ Acetic acid Fermentation

3. ✓ Alcohol Fermentation
4. ✗ Butyric acid Fermentation

Question Number : 22 Question Id : 630680220960 Option Shuffling : Yes Is Question Mandatory : No Calculator : None Response Time : N.A Think Time : N.A Minimum Instruction Time : 0

Correct Marks : 1 Wrong Marks : 0

బ్రెడ్ రైజింగ్ ప్రక్రియలో ఏ రకం కిణ్వ ప్రక్రియ జరుగుతుంది?

Options :

1. ✗ లాక్టిక్ ఆమ్ల కిణ్వ ప్రక్రియ
2. ✗ ఎసిటిక్ ఆమ్ల కిణ్వ ప్రక్రియ
3. ✓ ఆల్కహాల్ కిణ్వ ప్రక్రియ
4. ✗ బ్యూటీరిక్ ఆమ్ల కిణ్వ ప్రక్రియ

Question Number : 23 Question Id : 630680220961 Option Shuffling : Yes Is Question Mandatory : No Calculator : None Response Time : N.A Think Time : N.A Minimum Instruction Time : 0

Correct Marks : 1 Wrong Marks : 0

According to the Indian seismic zone map, Delhi falls under which seismic zone?

Options :

1. ✗ ZONE II
2. ✗ ZONE V
3. ✗ ZONE III
4. ✓ ZONE IV

Question Number : 23 Question Id : 630680220961 Option Shuffling : Yes Is Question Mandatory : No Calculator : None Response Time : N.A Think Time : N.A Minimum Instruction Time : 0

Correct Marks : 1 Wrong Marks : 0

భారత భూకంప క్షేత్రాల పటం ప్రకారం, ఢిల్లీ ఏ భూకంప క్షేత్ర పరిధిలోకి వస్తుంది?

Options :

1. ✗ క్షేత్రం II
2. ✗ క్షేత్రం V
3. ✗ క్షేత్రం III
4. ✓ క్షేత్రం IV

Question Number : 24 Question Id : 630680220962 Option Shuffling : Yes Is Question Mandatory : No Calculator : None Response Time : N.A Think Time : N.A Minimum Instruction Time : 0

Correct Marks : 1 Wrong Marks : 0

Read the following statements.

A) IFLOWS stands for Integrated flood warning system

B) It is a joint initiative between the Ministry of Earth Sciences (MoES) and Brihanmumbai Municipal Corporation (BMC)

Which of the above statement(s) is/are correct?

Options :

1. ✓ A only
2. ✗ B only
3. ✗ Both A and B
4. ✗ Neither A nor B

Question Number : 24 Question Id : 630680220962 Option Shuffling : Yes Is Question Mandatory : No Calculator : None Response Time : N.A Think Time : N.A Minimum Instruction Time : 0

Correct Marks : 1 Wrong Marks : 0

కింది వాక్యాలను చదవండి.

A) IFLOWS అంటే సమగ్ర వరదల హెచ్చరిక వ్యవస్థ

B) ఇది మినిస్ట్రీ ఆఫ్ ఎర్త్ సైన్సెస్ (MoES) మరియు బృహన్ మున్సిపల్ కార్పొరేషన్ (BMC) మధ్య ఉమ్మడి యత్నం పై ప్రకటన/ప్రకటనలలో ఏది/ఏవి సరైనది/సరైనవి?

Options :

1. ✓ A మాత్రమే
2. ✗ B మాత్రమే
3. ✗ A మరియు B లు రెండూ
4. ✗ A కానీ లేదా B కానీ ఏదీ కాదు

Question Number : 25 Question Id : 630680220963 Option Shuffling : Yes Is Question Mandatory : No Calculator : None
Response Time : N.A Think Time : N.A Minimum Instruction Time : 0

Correct Marks : 1 Wrong Marks : 0

What is the name of the GIS platform created by ISRO to aid in disaster management services?

Options :

1. ✓ Bhuvan
2. ✗ ArcGIS
3. ✗ QGIS
4. ✗ Google Earth

Question Number : 25 Question Id : 630680220963 Option Shuffling : Yes Is Question Mandatory : No Calculator : None
Response Time : N.A Think Time : N.A Minimum Instruction Time : 0

Correct Marks : 1 Wrong Marks : 0

విపత్తు నిర్వహణ సేవలలో సహాయపడటానికి ఇస్రో రూపొందించిన GIS ప్లాట్‌ఫారమ్ పేరు ఏమిటి?

Options :

1. ✓ భువన్
2. ✗ ArcGIS
3. ✗ QGIS
4. ✗ గూగుల్ ఎర్త్

Question Number : 26 Question Id : 630680220964 Option Shuffling : Yes Is Question Mandatory : No Calculator : None
Response Time : N.A Think Time : N.A Minimum Instruction Time : 0

Correct Marks : 1 Wrong Marks : 0

Which government agency is responsible for implementing the air pollution control measures in India?

Options :

1. ✗ Ministry of Environment, Forest and Climate Change
2. ✗ National Green Tribunal
3. ✗ Central Ground Water Authority
4. ✓ Central Pollution Control Board

Question Number : 26 Question Id : 630680220964 Option Shuffling : Yes Is Question Mandatory : No Calculator : None
Response Time : N.A Think Time : N.A Minimum Instruction Time : 0

Correct Marks : 1 Wrong Marks : 0

భారతదేశంలో వాయు కాలుష్య నియంత్రణ చర్యలను అమలు చేయడం ఏ ప్రభుత్వ సంస్థ బాధ్యత?

Options :

1. ✗ పర్యావరణ, అటవీ మరియు వాతావరణ మార్పు మంత్రిత్వ శాఖ
2. ✗ జాతీయ హరిత ట్రిబ్యునల్
3. ✗ కేంద్ర భూగర్భ జల సంస్థ
4. ✓ కేంద్ర కాలుష్య నియంత్రణ మండలి

Question Number : 27 Question Id : 630680220965 Option Shuffling : Yes Is Question Mandatory : No Calculator : None
Response Time : N.A Think Time : N.A Minimum Instruction Time : 0

Correct Marks : 1 Wrong Marks : 0

With which type of pollution is eutrophication associated?

Options :

1. ✗ Air pollution
2. ✓ Water pollution
3. ✗ Noise pollution
4. ✗ Light pollution

Question Number : 27 Question Id : 630680220965 Option Shuffling : Yes Is Question Mandatory : No Calculator : None
Response Time : N.A Think Time : N.A Minimum Instruction Time : 0

Correct Marks : 1 Wrong Marks : 0

యూట్రోఫికేషన్ ఏ రకమైన కాలుష్యానికి సంబంధించినది?

Options :

1. ✗ గాలి కాలుష్యం
2. ✓ నీటి కాలుష్యం

3. ✖ శబ్ద కాలుష్యం
4. ✖ కాంతి కాలుష్యం

Question Number : 28 Question Id : 630680220966 Option Shuffling : Yes Is Question Mandatory : No Calculator : None Response Time : N.A Think Time : N.A Minimum Instruction Time : 0

Correct Marks : 1 Wrong Marks : 0

Which of the following statements is/are true regarding the greenhouse effect and greenhouse gases?

- A) Water vapour is a greenhouse gas in the earth's atmosphere
- B) Greenhouse effect is caused by the absorption of short-wave infrared radiation
- C) Cfc's, Hfc's are the few examples of Greenhouse gases
- D) Burning fossil fuels, cutting down forests and farming livestock adds enormous amount of GHG's in the atmosphere leading to increased global warming

Options :

1. ✖ A, B and D
2. ✖ B and C
3. ✔ A, C and D
4. ✖ C and D

Question Number : 28 Question Id : 630680220966 Option Shuffling : Yes Is Question Mandatory : No Calculator : None Response Time : N.A Think Time : N.A Minimum Instruction Time : 0

Correct Marks : 1 Wrong Marks : 0

హరితగృహ ప్రభావం మరియు హరితగృహ వాయువులకు సంబంధించి కింది ఏ వాక్యము/లు సరైనది/సరైనవి?

- A) నీటి ఆవిరి అనేది భూమి వాతావరణంలోని హరితగృహ వాయువు
- B) పరారుణ వికిరణ లఘు తరంగాలను గ్రహించడం వలన హరితగృహ ప్రభావం ఏర్పడుతుంది
- C) Cfcలు, Hfcలు హరితగృహ వాయువులకు కొన్ని ఉదాహరణలు
- D) శిలాజ ఇంధనాలను మండించడం, అడవులను నరికివేయడం మరియు సేద్యం పశుసంపద వాతావరణంలోకి అధిక మొత్తంలో GHGలను అందిస్తుంది, ఇది భూ తాపాన్ని పెంచుతుంది

Options :

1. ✖ A, B మరియు D
2. ✖ B మరియు C
3. ✔ A, C మరియు D
4. ✖ C మరియు D

Question Number : 29 Question Id : 630680220967 Option Shuffling : Yes Is Question Mandatory : No Calculator : None Response Time : N.A Think Time : N.A Minimum Instruction Time : 0

Correct Marks : 1 Wrong Marks : 0

Which region is most impacted by ozone depletion?

Options :

1. ✔ Antarctica
2. ✖ Arctic
3. ✖ Equator
4. ✖ Tropic

Question Number : 29 Question Id : 630680220967 Option Shuffling : Yes Is Question Mandatory : No Calculator : None Response Time : N.A Think Time : N.A Minimum Instruction Time : 0

Correct Marks : 1 Wrong Marks : 0

ఓజోన్ క్షీణత వలన ఏ ప్రాంతం ఎక్కువగా ప్రభావితమవుతోంది?

Options :

1. ✔ అంటార్కిటికా
2. ✖ ఆర్కిటిక్
3. ✖ భూమధ్యరేఖ
4. ✖ ఉష్ణ మండలం

Question Number : 30 Question Id : 630680220968 Option Shuffling : Yes Is Question Mandatory : No Calculator : None Response Time : N.A Think Time : N.A Minimum Instruction Time : 0

Correct Marks : 1 Wrong Marks : 0

What are the long-term effects of deforestation?

Options :

1. ✖ Soil fertility improvement

2. ✓ Soil erosion
3. ✗ Increased water availability
4. ✗ Increased rainfall

Question Number : 30 Question Id : 630680220968 Option Shuffling : Yes Is Question Mandatory : No Calculator : None Response Time : N.A Think Time : N.A Minimum Instruction Time : 0

Correct Marks : 1 Wrong Marks : 0

అటవీ నిర్మూలన వలన ఏర్పడే దీర్ఘకాలిక ప్రభావాలు ఏమిటి?

Options :

1. ✗ భూసారము మెరుగుపడుతుంది
2. ✓ నేలకోత
3. ✗ నీటి లభ్యత పెరుగుతుంది
4. ✗ వర్షపాతం పెరుగుతుంది

Question Number : 31 Question Id : 630680220969 Option Shuffling : Yes Is Question Mandatory : No Calculator : None Response Time : N.A Think Time : N.A Minimum Instruction Time : 0

Correct Marks : 1 Wrong Marks : 0

What is the primary mechanism responsible for the depletion of ozone in the atmosphere?

Options :

1. ✓ When chlorine and bromine atoms come into contact with ozone in the stratosphere, they destroy ozone molecules
2. ✗ Infrared radiation reacts with ozone to form water vapor
3. ✗ Oxygen molecules react with ozone to form ozone-depleting substances
4. ✗ Ozone reacts with water vapor to form oxygen molecules

Question Number : 31 Question Id : 630680220969 Option Shuffling : Yes Is Question Mandatory : No Calculator : None Response Time : N.A Think Time : N.A Minimum Instruction Time : 0

Correct Marks : 1 Wrong Marks : 0

వాతావరణంలో ఓజోన్ క్షీణతకు కారణమైన ప్రాథమిక యంత్రాంగం ఏది?

Options :

1. ✓ క్లోరిన్ మరియు బ్రోమిన్ పరమాణువులు స్ట్రాటో ఆవరణలోని ఓజోన్‌ని తాకినప్పుడు, అవి ఓజోన్ అణువులను నాశనం చేస్తాయి
2. ✗ పరారుణ కిరణాలు ఓజోన్‌తో చర్య జరిపి నీటి ఆవిరిని ఏర్పరుస్తాయి
3. ✗ ఆక్సిజన్ అణువులు ఓజోన్‌తో చర్య జరిపి ఓజోన్-క్షీణించే పదార్థాలను ఏర్పరుస్తాయి
4. ✗ నీటి ఆవిరితో ఓజోన్ చర్య జరిపి ఆక్సిజన్ అణువులను ఏర్పరుస్తుంది

Question Number : 32 Question Id : 630680220970 Option Shuffling : Yes Is Question Mandatory : No Calculator : None Response Time : N.A Think Time : N.A Minimum Instruction Time : 0

Correct Marks : 1 Wrong Marks : 0

Which of the following place of India is/are correctly matched with the weather condition?

- A) Highest rainfall : Mawsynram
- B) Hottest place : Jaipur
- C) Coldest place : Dras
- D) Lowest point : Kuttanad

Options :

1. ✗ B, C and D
2. ✓ A, C and D
3. ✗ A, B and C
4. ✗ A, B and D

Question Number : 32 Question Id : 630680220970 Option Shuffling : Yes Is Question Mandatory : No Calculator : None Response Time : N.A Think Time : N.A Minimum Instruction Time : 0

Correct Marks : 1 Wrong Marks : 0

భారతదేశంలోని కింది ఏ ప్రాంతం దాని వాతావరణ పరిస్థితులతో సరిగ్గా జతపరచబడింది?

- A) అత్యధిక వర్షపాతం : మౌసినరామ్
- B) వేడి ప్రదేశం : జైపూర్
- C) చల్లని ప్రదేశం : డ్రాస్
- D) అన్నిటికంటే క్రింది స్థానం : కుట్టనాడ్

Options :

1. ✗ B, C మరియు D
2. ✓ A, C మరియు D

3. ✖ A, B మరియు C
4. ✖ A, B మరియు D

Question Number : 33 Question Id : 630680220971 Option Shuffling : Yes Is Question Mandatory : No Calculator : None Response Time : N.A Think Time : N.A Minimum Instruction Time : 0

Correct Marks : 1 Wrong Marks : 0

Read the following statements:

- A) Iron is the most abundant element in the Earth's crust/mantle
B) Hydrogen is the most abundant element in the universe

Which of the above statement(s) is/are true?

Options :

1. ✖ A only
2. ✔ B only
3. ✖ Both A and B
4. ✖ Neither A nor B

Question Number : 33 Question Id : 630680220971 Option Shuffling : Yes Is Question Mandatory : No Calculator : None Response Time : N.A Think Time : N.A Minimum Instruction Time : 0

Correct Marks : 1 Wrong Marks : 0

కింది వాక్యాలను చదవండి:

- A) భూమి యొక్క భూపటలం/ మాంటిలో అత్యంత సమృద్ధిగా ఉండే మూలకం ఇనుము
B) విశ్వంలో అత్యంత సమృద్ధిగా ఉండే మూలకం హైడ్రోజన్

పై వాక్యము/లలో ఏది/ఏవి నిజం?

Options :

1. ✖ A మాత్రమే
2. ✔ B మాత్రమే
3. ✖ A మరియు B రెండూ
4. ✖ A కానీ లేదా B కానీ ఏదీ కాదు

Question Number : 34 Question Id : 630680220972 Option Shuffling : Yes Is Question Mandatory : No Calculator : None Response Time : N.A Think Time : N.A Minimum Instruction Time : 0

Correct Marks : 1 Wrong Marks : 0

Match the glacier features and landforms.

A) U shaped valley	i) A narrow, deep inlet of the sea
B) Cirque	ii) A bowl-shaped depression at the glacier head
C) Moraine	iii) Broad, flat bottomed and steep sided
D) Fiord	iv) Sediments transported and deposited by glacier

Options :

1. ✖ A-i, B-iv, C-ii, D-iii
2. ✖ A-i, B-iv, C-iii, D-ii
3. ✖ A-iii, B-iv, C-ii, D-i
4. ✔ A-iii, B-ii, C-iv, D-i

Question Number : 34 Question Id : 630680220972 Option Shuffling : Yes Is Question Mandatory : No Calculator : None Response Time : N.A Think Time : N.A Minimum Instruction Time : 0

Correct Marks : 1 Wrong Marks : 0

హిమానీనదం లక్షణాలు మరియు భూభాగాలను జతపరచండి.

A) U ఆకారపు లోయ	i) సముద్రం లోపలి ఇరుకైన, లోతైన ప్రవేశద్వారం
B) తిన్నె	ii) హిమానీనదం పైన ఏర్పడే ఒక గిన్నె ఆకారపు మాంద్యం
C) హిమాని మృత్తిక	iii) వెడల్పుగా, చదునైన అడుగుభాగంతో నిటారుగా ఉంటుంది
D) ఇరుకుమూతి సముద్ర శాఖ	iv) హిమానీనదం ద్వారా రవాణా చేయబడిన మరియు జమ చేయబడిన అవక్షేపాలు

Options :

1. ✖ A-i, B-iv, C-ii, D-iii

2. ✘ A-i, B-iv, C-iii, D-ii
3. ✘ A-iii, B-iv, C-ii, D-i
4. ✔ A-iii, B-ii, C-iv, D-i

Question Number : 35 Question Id : 630680220973 Option Shuffling : Yes Is Question Mandatory : No Calculator : None
Response Time : N.A Think Time : N.A Minimum Instruction Time : 0
Correct Marks : 1 Wrong Marks : 0

Which of the following river is correctly paired with their place of origin?

- A) Jhelum : Gomukh
- B) Kaveri : Verinag
- C) Ganga : Brahmagiri Hills
- D) Krishna : Mahabaleshwar

Options :

1. ✘ B only
2. ✔ D only
3. ✘ A and D
4. ✘ C and D

Question Number : 35 Question Id : 630680220973 Option Shuffling : Yes Is Question Mandatory : No Calculator : None
Response Time : N.A Think Time : N.A Minimum Instruction Time : 0
Correct Marks : 1 Wrong Marks : 0

కింది వాటిలో ఏ నది అది పుట్టిన ప్రదేశంతో సరిగ్గా జత చేయబడింది

- A) జీలం : గోముఖ్
- B) కావేరి : వెరినాగ్
- C) గంగ : బ్రహ్మగిరి కొండలు
- D) కృష్ణ : మహాబలేశ్వరం

Options :

1. ✘ B మాత్రమే
2. ✔ D మాత్రమే
3. ✘ A మరియు D
4. ✘ C మరియు D

Question Number : 36 Question Id : 630680220974 Option Shuffling : Yes Is Question Mandatory : No Calculator : None
Response Time : N.A Think Time : N.A Minimum Instruction Time : 0
Correct Marks : 1 Wrong Marks : 0

Arrange the states in decreasing order of literacy rate (2011)

- A) Maharashtra
- B) Kerala
- C) Gujarat
- D) Bihar

Options :

1. ✘ D-C-A-B
2. ✘ D-A-C-B
3. ✔ B-A-C-D
4. ✘ B-C-A-D

Question Number : 36 Question Id : 630680220974 Option Shuffling : Yes Is Question Mandatory : No Calculator : None
Response Time : N.A Think Time : N.A Minimum Instruction Time : 0
Correct Marks : 1 Wrong Marks : 0

అక్షరాస్యత రేటు (2011) తగ్గే క్రమంలో రాష్ట్రాలను అమర్చండి

- A) మహారాష్ట్ర
- B) కేరళ
- C) గుజరాత్
- D) బీహార్

Options :

1. ✘ D-C-A-B
2. ✘ D-A-C-B
3. ✔ B-A-C-D
4. ✘ B-C-A-D

Question Number : 37 Question Id : 630680220975 Option Shuffling : Yes Is Question Mandatory : No Calculator : None Response Time : N.A Think Time : N.A Minimum Instruction Time : 0

Correct Marks : 1 Wrong Marks : 0

With which of the following is head count ratio is related?

Options :

1. ✓ Poverty
2. ✗ Unemployment
3. ✗ Demographics
4. ✗ Caste

Question Number : 37 Question Id : 630680220975 Option Shuffling : Yes Is Question Mandatory : No Calculator : None Response Time : N.A Think Time : N.A Minimum Instruction Time : 0

Correct Marks : 1 Wrong Marks : 0

తల గణన నిష్పత్తి (హెడ్ కౌంట్ రేషియో) ఈ క్రింది దేనికి సంబంధించినది?

Options :

1. ✓ పేదరికం
2. ✗ నిరుద్యోగం
3. ✗ జనసంఖ్యాసంబంధి
4. ✗ కులం

Question Number : 38 Question Id : 630680220976 Option Shuffling : Yes Is Question Mandatory : No Calculator : None Response Time : N.A Think Time : N.A Minimum Instruction Time : 0 Negative Marks Display Text : 0.0

Correct Marks : 1 Wrong Marks : 0

Which of the following is a correct pair of the state/UT with the dominant religion in that region (2011 Census)?

- A) Gujarat : Jainism
- B) Meghalaya : Buddhism
- C) Lakshadweep : Islam
- D) Kerala : Hinduism

Options :

1. ✗ B and D
2. ✗ A and C
3. ✗ A and B
4. ✓ C and D

Question Number : 38 Question Id : 630680220976 Option Shuffling : Yes Is Question Mandatory : No Calculator : None Response Time : N.A Think Time : N.A Minimum Instruction Time : 0 Negative Marks Display Text : 0.0

Correct Marks : 1 Wrong Marks : 0

క్రింది రాష్ట్రం/UT మరియు ఆ ప్రాంతంలోని (2011 జనాభా లెక్కలు) ఆధిపత్య మతాల సరైన జత ఏది?

- A) గుజరాత్ : జైనమతం
- B) మేఘాలయ : బౌద్ధమతం
- C) లక్షద్వీప్ : ఇస్లాం
- D) కేరళ : హిందూ మతం

Options :

1. ✗ B మరియు D
2. ✗ A మరియు C
3. ✗ A మరియు B
4. ✓ C మరియు D

Question Number : 39 Question Id : 630680220977 Option Shuffling : Yes Is Question Mandatory : No Calculator : None Response Time : N.A Think Time : N.A Minimum Instruction Time : 0

Correct Marks : 1 Wrong Marks : 0

Read the following statements and select the correct statements.

- A) Seasonal unemployment is a temporary work during certain time of the year
- B) Cyclic unemployment reflects gap between someone voluntarily leaving a job and finding another
- C) Frictional unemployment is caused by changes in business cycles
- D) Structural unemployment is caused by mismatch between skills required and skills demand

Options :

1. ✗ A and C
2. ✓ A and D
3. ✗ B and D

4. ✖ B and C

Question Number : 39 Question Id : 630680220977 Option Shuffling : Yes Is Question Mandatory : No Calculator : None Response Time : N.A Think Time : N.A Minimum Instruction Time : 0

Correct Marks : 1 Wrong Marks : 0

కింది వాక్యాలను చదివి, సరైన వాక్యాలను ఎంచుకోండి.

- A) సంవత్సరంలో నిర్దిష్ట సమయంలో తాత్కాలిక పనిని కాలానుగుణ నిరుద్యోగం అని అంటారు
 B) స్వచ్ఛందంగా ఉద్యోగాన్ని విడిచిపెట్టి మరోచోట ఉద్యోగాన్ని పొందడానికి మధ్య గల అంతరాన్ని చక్రీయ నిరుద్యోగం అని అంటారు
 C) వ్యాపార చక్రాలలో మార్పుల వల్ల ఘర్షణ నిరుద్యోగం ఏర్పడుతుంది
 D) అవసరమైన నైపుణ్యాలు మరియు వ్యక్తిగత గల నైపుణ్యాల మధ్య అసమతుల్యత కారణంగా నిర్మాణాత్మక నిరుద్యోగం ఏర్పడుతుంది

Options :

1. ✖ A మరియు C
 2. ✔ A మరియు D
 3. ✖ B మరియు D
 4. ✖ B మరియు C

Question Number : 40 Question Id : 630680220978 Option Shuffling : Yes Is Question Mandatory : No Calculator : None Response Time : N.A Think Time : N.A Minimum Instruction Time : 0

Correct Marks : 1 Wrong Marks : 0

Which country is associated with the Miyawaki method of afforestation, recently adopted by the Telangana government to grow urban forests?

Options :

1. ✔ Japan
 2. ✖ India
 3. ✖ China
 4. ✖ South Korea

Question Number : 40 Question Id : 630680220978 Option Shuffling : Yes Is Question Mandatory : No Calculator : None Response Time : N.A Think Time : N.A Minimum Instruction Time : 0

Correct Marks : 1 Wrong Marks : 0

పట్టణ అడవులను పెంచేందుకు తెలంగాణ ప్రభుత్వం ఇటీవల అనుసరించిన మియావాకీ అటవీ పెంపక పద్ధతి ఏ దేశానికి చెందినది?

Options :

1. ✔ జపాన్
 2. ✖ భారతదేశం
 3. ✖ చైనా
 4. ✖ దక్షిణ కొరియా

Question Number : 41 Question Id : 630680220979 Option Shuffling : Yes Is Question Mandatory : No Calculator : None Response Time : N.A Think Time : N.A Minimum Instruction Time : 0

Correct Marks : 1 Wrong Marks : 0

Arrange the following industries in the chronological order of the establishment.

- A) Iron, Jharkhand
 B) Jute, Kolkata
 C) Sugar, Pratappur
 D) Cement, Porbandar

Options :

1. ✖ D-C-B-A
 2. ✖ B-A-C-D
 3. ✔ B-C-D-A
 4. ✖ C-A-B-D

Question Number : 41 Question Id : 630680220979 Option Shuffling : Yes Is Question Mandatory : No Calculator : None Response Time : N.A Think Time : N.A Minimum Instruction Time : 0

Correct Marks : 1 Wrong Marks : 0

వాటి స్థాపన కాలక్రమానుసారంగా కింది పరిశ్రమలను అమర్చండి

- A) ఇనుము, జార్ఖండ్
 B) జనపనార, కోల్ కతా

- C) చక్కెర, ప్రతాపూర్
D) సిమెంటు, పోర్లందర్

Options :

1. ✘ D-C-B-A
2. ✘ B-A-C-D
3. ✔ B-C-D-A
4. ✘ C-A-B-D

Question Number : 42 Question Id : 630680220980 Option Shuffling : Yes Is Question Mandatory : No Calculator : None
Response Time : N.A Think Time : N.A Minimum Instruction Time : 0

Correct Marks : 1 Wrong Marks : 0

Which four cities are connected by the Golden Quadrilateral network of highways in India?

Options :

1. ✘ Delhi, Nagpur, Hyderabad, Kanyakumari
2. ✘ Ahmedabad, Mumbai, Mangalore, Chennai
3. ✘ Patna, Kolkata, Imphal, Chur Chandrapur
4. ✔ Delhi, Mumbai, Chennai, and Kolkata

Question Number : 42 Question Id : 630680220980 Option Shuffling : Yes Is Question Mandatory : No Calculator : None
Response Time : N.A Think Time : N.A Minimum Instruction Time : 0

Correct Marks : 1 Wrong Marks : 0

భారతదేశంలోని రహదారుల బంగారు చతుర్భుజం (గోల్డెన్ క్వాడ్రలేటరల్ నెట్వర్క్ ఆఫ్ హైవే) ద్వారా ఏ నాలుగు నగరాలు కలుస్తున్నాయి?

Options :

1. ✘ ఢిల్లీ, నాగ్ పూర్, హైదరాబాద్, కన్యాకుమారి
2. ✘ అహ్మదాబాద్, ముంబై, మంగళూరు, చెన్నై
3. ✘ పాట్నా, కోల్కతా, ఇంఫాల్, చుర్ చంద్రపూర్
4. ✔ ఢిల్లీ, ముంబై, చెన్నై మరియు కోల్కతా

Question Number : 43 Question Id : 630680220981 Option Shuffling : Yes Is Question Mandatory : No Calculator : None
Response Time : N.A Think Time : N.A Minimum Instruction Time : 0

Correct Marks : 1 Wrong Marks : 0

Which statements are correct regarding the Directive Principles of State Policy in the Indian Constitution?

- A) The Directive Principles of the State Policy (DPSP) was borrowed from the Irish constitution
- B) Part 3 of the Indian constitution constitutes all the DPSP
- C) The Directive Principles of State Policy are justifiable in nature
- D) DPSPs are placed after the fundamental rights in the constitution

Options :

1. ✘ B and C
2. ✔ A and D
3. ✘ B, C and D
4. ✘ A, B and D

Question Number : 43 Question Id : 630680220981 Option Shuffling : Yes Is Question Mandatory : No Calculator : None
Response Time : N.A Think Time : N.A Minimum Instruction Time : 0

Correct Marks : 1 Wrong Marks : 0

భారత రాజ్యాంగంలోని రాష్ట్ర విధాన నిర్దేశక సూత్రాలకు సంబంధించి కింది ఏ వాక్యాలు సరైనవి?

- A) రాష్ట్ర విధానం యొక్క ఆదేశిక సూత్రాలు (డైరెక్టివ్ ప్రిన్సిపుల్స్ ఆఫ్ ది స్టేట్ పాలిసీ-DPSP) ఐరిష్ రాజ్యాంగం నుండి తీసుకోబడింది
- B) భారత రాజ్యాంగంలోని విభాగం 3 లో అన్ని DPSPలు ఎర్పరచబడ్డాయి
- C) రాష్ట్ర విధాన నిర్దేశక సూత్రాలు స్వాభావికంగా యోగ్యమైనవి
- D) రాజ్యాంగంలోని ప్రాథమిక హక్కుల తర్వాత DPSPలు పేర్కొనబడతాయి

Options :

1. ✘ B మరియు C
2. ✔ A మరియు D
3. ✘ B, C మరియు D
4. ✘ A, B మరియు D

Question Number : 44 Question Id : 630680220982 Option Shuffling : Yes Is Question Mandatory : No Calculator : None

Response Time : N.A Think Time : N.A Minimum Instruction Time : 0

Correct Marks : 1 Wrong Marks : 0

Read the following statements:

- A) Initially, the Indian constitution did not include fundamental duties
B) To defend the country and render national service is one of the fundamental duties

Which of the given statement(s) is/are true regarding the fundamental duties?

Options :

1. ✘ A only
2. ✘ B only
3. ✔ Both A and B
4. ✘ Neither A nor B

Question Number : 44 Question Id : 630680220982 Option Shuffling : Yes Is Question Mandatory : No Calculator : None Response Time : N.A Think Time : N.A Minimum Instruction Time : 0 Negative Marks Display Text : 0.0

Correct Marks : 1 Wrong Marks : 0

కింది వాక్యాలను చదవండి:

- A) మొదట్లో భారత రాజ్యాంగం ప్రాథమిక విధులను చేర్చలేదు
B) దేశాన్ని రక్షించడం మరియు దేశ సేవను అందించడం ప్రాథమిక విధుల్లో ఒకటి.
ప్రాథమిక విధులకు సంబంధించి ఇచ్చిన ప్రకటనలలో ఏది/వి సరైనది/వి?

Options :

1. ✘ A మాత్రమే
2. ✘ B మాత్రమే
3. ✔ A మరియు B రెండూ
4. ✘ A కానీ లేదా B కానీ ఏదీ కాదు

Question Number : 45 Question Id : 630680220983 Option Shuffling : Yes Is Question Mandatory : No Calculator : None Response Time : N.A Think Time : N.A Minimum Instruction Time : 0

Correct Marks : 1 Wrong Marks : 0

Which of the following matches the fundamental rights with the corresponding article of the Indian Constitution?

A) Untouchability	i) Article 21
B) Right to education	ii) Article 14
C) Freedom of speech and expression	iii) Article 17
D) Equality before law	iv) Article 19

Options :

1. ✘ A-i, B-iv, C-iii, D-ii
2. ✘ A-iv, B-ii, C-i, D-iii
3. ✘ A-ii, B-i, C-iv, D-iii
4. ✔ A-iii, B-i, C-iv, D-ii

Question Number : 45 Question Id : 630680220983 Option Shuffling : Yes Is Question Mandatory : No Calculator : None Response Time : N.A Think Time : N.A Minimum Instruction Time : 0

Correct Marks : 1 Wrong Marks : 0

కింది వాటిలో ప్రాథమిక హక్కులు మరియు భారత రాజ్యాంగంలో దానికి సంబంధించిన ఆర్టికల్ యొక్క సరైన జత ఏది?

A) అంటరానితనం	i) ఆర్టికల్ 21
B) విద్యాహక్కు	ii) ఆర్టికల్ 14
C) వాక్కు మరియు భావ ప్రకటనా స్వేచ్ఛ	iii) ఆర్టికల్ 17
D) చట్టం ముందు సమానత్వపు హక్కు	iv) ఆర్టికల్ 19

Options :

1. ✘ A-i, B-iv, C-iii, D-ii
2. ✘ A-iv, B-ii, C-i, D-iii
3. ✘ A-ii, B-i, C-iv, D-iii
4. ✔ A-iii, B-i, C-iv, D-ii

Question Number : 46 Question Id : 630680220984 Option Shuffling : Yes Is Question Mandatory : No Calculator : None Response Time : N.A Think Time : N.A Minimum Instruction Time : 0

Correct Marks : 1 Wrong Marks : 0

Which of the following statements regarding Indian citizenship and constitutional provisions is/are true?

- A) In India, both citizens by birth and naturalization are eligible for the office of the President
- B) Articles 12 to 35 of constitution deals with citizenship
- C) The rights under Articles 15, 16, 19, 29, and 30 are granted exclusively to citizens of India and not to aliens
- D) Indian citizenship falls under Part I of the Indian Constitution

Options :

- 1. ✓ A and C
- 2. ✗ B and D
- 3. ✗ A and D
- 4. ✗ B and C

Question Number : 46 Question Id : 630680220984 Option Shuffling : Yes Is Question Mandatory : No Calculator : None Response Time : N.A Think Time : N.A Minimum Instruction Time : 0

Correct Marks : 1 Wrong Marks : 0

భారత పౌరసత్వం మరియు రాజ్యాంగ నిబంధనలకు సంబంధించి ఈ కింది ప్రకటనలలో ఏది/ఏవి నిజం?

- A) భారతదేశంలో, పుట్టిన మరియు సహజీకరణ పౌరులు ఇరువురూ రాష్ట్రపతి పదవికి అర్హులు
- B) రాజ్యాంగంలోని అర్టికల్ 12 నుండి 35 వరకు పౌరసత్వానికి సంబంధించినవి
- C) అర్టికల్ 15, 16, 19, 29, మరియు 30 లో గల హక్కులు ప్రత్యేకంగా భారతదేశ పౌరులకు మాత్రమే ఇవ్వబడ్డాయి మరియు విదేశీయులకు కాదు
- D) భారత పౌరసత్వం భారత రాజ్యాంగంలోని విభాగం I కిందకు వస్తుంది

Options :

- 1. ✓ A మరియు C
- 2. ✗ B మరియు D
- 3. ✗ A మరియు D
- 4. ✗ B మరియు C

Question Number : 47 Question Id : 630680220985 Option Shuffling : Yes Is Question Mandatory : No Calculator : None Response Time : N.A Think Time : N.A Minimum Instruction Time : 0

Correct Marks : 1 Wrong Marks : 0

Arrange the Indian presidents in chronological order based on their appointment.

- A) Shri Ram Nath Kovind
- B) Dr. Rajendra Prasad
- C) Smt. Pratibha Patil
- D) Dr. A. P. J. Abdul Kalam

Options :

- 1. ✗ B-C-A-D
- 2. ✓ B-D-C-A
- 3. ✗ D-B-A-C
- 4. ✗ D-B-C-A

Question Number : 47 Question Id : 630680220985 Option Shuffling : Yes Is Question Mandatory : No Calculator : None Response Time : N.A Think Time : N.A Minimum Instruction Time : 0 Negative Marks Display Text : 0.0

Correct Marks : 1 Wrong Marks : 0

భారత రాష్ట్రపతుల వారి నియామకం ఆధారంగా కాలక్రమానుసారంగా అమర్చండి.

- A) శ్రీ రామ్ నాథ్ కోవింద్
- B) డాక్టర్ రాజేంద్ర ప్రసాద్
- C) శ్రీమతి ప్రతిభా పాటిల్
- D) డాక్టర్ A. P. J. అబ్దుల్ కలాం

Options :

- 1. ✗ B-C-A-D
- 2. ✓ B-D-C-A
- 3. ✗ D-B-A-C
- 4. ✗ D-B-C-A

Question Number : 48 Question Id : 630680220986 Option Shuffling : Yes Is Question Mandatory : No Calculator : None Response Time : N.A Think Time : N.A Minimum Instruction Time : 0

Correct Marks : 1 Wrong Marks : 0

Which statement(s) is/are accurate out of the following?

- A) The Chief Justice of India is appointed by the President
B) The high court serves as a protector and guarantor of the fundamental rights

Options :

1. ✓ A only
2. ✗ B only
3. ✗ Both A and B
4. ✗ Neither A nor B

Question Number : 48 Question Id : 630680220986 Option Shuffling : Yes Is Question Mandatory : No Calculator : None Response Time : N.A Think Time : N.A Minimum Instruction Time : 0

Correct Marks : 1 Wrong Marks : 0

కింది ఏ ప్రకటన(లు) ఖచ్చితమైనవి?

- A) భారత ప్రధాన న్యాయమూర్తిని రాష్ట్రపతి నియమిస్తారు
B) ప్రాథమిక హక్కుల రక్షకుడు మరియు హామీదారుగా ప్రధాన న్యాయస్థానం పనిచేస్తుంది

Options :

1. ✓ A మాత్రమే
2. ✗ B మాత్రమే
3. ✗ A మరియు B రెండూ
4. ✗ A కానీ లేదా B కానీ ఏదీ కాదు

Question Number : 49 Question Id : 630680220987 Option Shuffling : Yes Is Question Mandatory : No Calculator : None Response Time : N.A Think Time : N.A Minimum Instruction Time : 0

Correct Marks : 1 Wrong Marks : 0

Which of the following statements is true?

- A) The President is a member of either house of the Parliament but does not participate in the proceedings of the Parliament
B) The Constitution has declared Hindi and English as the official languages for conducting business in the Parliament

Options :

1. ✗ A only
2. ✓ B only
3. ✗ Both A and B
4. ✗ Neither A nor B

Question Number : 49 Question Id : 630680220987 Option Shuffling : Yes Is Question Mandatory : No Calculator : None Response Time : N.A Think Time : N.A Minimum Instruction Time : 0

Correct Marks : 1 Wrong Marks : 0

కింది వాక్యాలలో ఏది నిజం?

- A) రాష్ట్రపతి పార్లమెంటులోని ఉభయ సభలలోనూ సభ్యులు అయినప్పటికీ పార్లమెంటు కార్యకలాపాల్లో పాల్గొనరు
B) పార్లమెంటులో వ్యవహారాలను నిర్వహించడానికి హిందీ మరియు ఆంగ్లము రెండింటినీ అధికారిక భాషలుగా రాజ్యాంగం ప్రకటించింది

Options :

1. ✗ A మాత్రమే
2. ✓ B మాత్రమే
3. ✗ A మరియు B రెండూ
4. ✗ A కానీ లేదా B కానీ ఏదీ కాదు

Question Number : 50 Question Id : 630680220988 Option Shuffling : Yes Is Question Mandatory : No Calculator : None Response Time : N.A Think Time : N.A Minimum Instruction Time : 0

Correct Marks : 1 Wrong Marks : 0

Which of the following statement(s) is/are correct?

- A) Governors in India are elected through an electoral process rather than appointed by the President
B) The position of state governor is not considered to be a central government employment
C) State election commissioner is appointed by the chief minister of the state
D) The President of India has the power to remove the Governor of a state from office at any time

Options :

1. ✗ A and C
2. ✗ A and B
3. ✗ C and D
4. ✓ B and D

Question Number : 50 Question Id : 630680220988 Option Shuffling : Yes Is Question Mandatory : No Calculator : None

Response Time : N.A Think Time : N.A Minimum Instruction Time : 0

Correct Marks : 1 Wrong Marks : 0

కింది వాక్యము(ల)లో ఏది/ఏవి సరైనది/సరైనవి?

- A) భారతదేశంలో గవర్నర్లు రాష్ట్రపతిచే నియమించబడకుండా ఎన్నికల ప్రక్రియ ద్వారా ఎన్నుకోబడతారు
 B) రాష్ట్ర గవర్నర్ పదవి కేంద్ర ప్రభుత్వ ఉద్యోగంగా పరిగణించబడదు
 C) రాష్ట్ర ఎన్నికల కమిషనర్ను రాష్ట్ర ముఖ్యమంత్రి నియమిస్తారు
 D) ఒక రాష్ట్ర గవర్నర్ను ఎప్పుడైనా పదవి నుండి తొలగించే అధికారం భారత రాష్ట్రపతికి ఉంటుంది

Options :

1. * A మరియు C
 2. * A మరియు B
 3. * C మరియు D
 4. ✓ B మరియు D

Question Number : 51 Question Id : 630680220989 Option Shuffling : Yes Is Question Mandatory : No Calculator : None

Response Time : N.A Think Time : N.A Minimum Instruction Time : 0

To whom does the constitution confer the power to create or abolish legislative councils under Article 169?

Options :

1. ✓ Parliament
 2. * State legislature
 3. * Chief Justice of India
 4. * Governor of the state

Question Number : 51 Question Id : 630680220989 Option Shuffling : Yes Is Question Mandatory : No Calculator : None

Response Time : N.A Think Time : N.A Minimum Instruction Time : 0

Correct Marks : 1 Wrong Marks : 0

అధికరణం 169 ప్రకారం శాసనమండలిని ఏర్పరచే లేదా రద్దు చేసే అధికారాన్ని రాజ్యాంగం ఎవరికి ఇచ్చింది?

Options :

1. ✓ పార్లమెంట్
 2. * రాష్ట్ర శాసనసభ
 3. * భారత ప్రధాన న్యాయమూర్తి
 4. * రాష్ట్ర గవర్నర్

Question Number : 52 Question Id : 630680220990 Option Shuffling : Yes Is Question Mandatory : No Calculator : None

Response Time : N.A Think Time : N.A Minimum Instruction Time : 0

Correct Marks : 1 Wrong Marks : 0

Who is the head of a Gram Panchayat?

Options :

1. * Mukhiya
 2. * Chief Minister
 3. * Pradhan Mantri
 4. ✓ Sarpanch

Question Number : 52 Question Id : 630680220990 Option Shuffling : Yes Is Question Mandatory : No Calculator : None

Response Time : N.A Think Time : N.A Minimum Instruction Time : 0

Correct Marks : 1 Wrong Marks : 0

గ్రామ పంచాయతీకి అధిపతి ఎవరు?

Options :

1. * ముఖీయా
 2. * ముఖ్యమంత్రి
 3. * ప్రధాన మంత్రి
 4. ✓ సర్పంచ్

Question Number : 53 Question Id : 630680220991 Option Shuffling : Yes Is Question Mandatory : No Calculator : None

Response Time : N.A Think Time : N.A Minimum Instruction Time : 0

Correct Marks : 1 Wrong Marks : 0

Under which part of the Constitution of India do the Municipalities come?

Options :

1. ✘ X-A
2. ✔ IX-A
3. ✘ V-A
4. ✘ VI-A

Question Number : 53 Question Id : 630680220991 Option Shuffling : Yes Is Question Mandatory : No Calculator : None Response Time : N.A Think Time : N.A Minimum Instruction Time : 0

Correct Marks : 1 Wrong Marks : 0

మున్సిపాలిటీలు భారత రాజ్యాంగంలోని ఏ భాగం కిందకు వస్తాయి?

Options :

1. ✘ X-A
2. ✔ IX-A
3. ✘ V-A
4. ✘ VI-A

Question Number : 54 Question Id : 630680220992 Option Shuffling : Yes Is Question Mandatory : No Calculator : None Response Time : N.A Think Time : N.A Minimum Instruction Time : 0

Correct Marks : 1 Wrong Marks : 0

Arrange the three-tier structure of Panchayati Raj in the correct order of hierarchy.

- A) Mandal Parishad
- B) Gram Panchayat
- C) Zilla parishad

Options :

1. ✔ B-A-C
2. ✘ A-C-B
3. ✘ C-B-A
4. ✘ B-C-A

Question Number : 54 Question Id : 630680220992 Option Shuffling : Yes Is Question Mandatory : No Calculator : None Response Time : N.A Think Time : N.A Minimum Instruction Time : 0

Correct Marks : 1 Wrong Marks : 0

పంచాయితీ రాజ్ యొక్క మూడంచెల వ్యవస్థను సరైన అధికార క్రమంలో అమర్చండి.

- A) మండల్ పరిషత్
- B) గ్రామ పంచాయితీ
- C) జిల్లా పరిషత్

Options :

1. ✔ B-A-C
2. ✘ A-C-B
3. ✘ C-B-A
4. ✘ B-C-A

Question Number : 55 Question Id : 630680220993 Option Shuffling : Yes Is Question Mandatory : No Calculator : None Response Time : N.A Think Time : N.A Minimum Instruction Time : 0

Correct Marks : 1 Wrong Marks : 0

Which social reformer led a campaign against the practice of Sati in India in early 19th century?

Options :

1. ✘ Bhagat Singh
2. ✘ Lala Lajpat Rai
3. ✔ Raja Ram Mohan Roy
4. ✘ Jawaharlal Nehru

Question Number : 55 Question Id : 630680220993 Option Shuffling : Yes Is Question Mandatory : No Calculator : None Response Time : N.A Think Time : N.A Minimum Instruction Time : 0

Correct Marks : 1 Wrong Marks : 0

19వ శతాబ్దపు ప్రారంభంలో భారతదేశంలో సతీసహగమనం ఆచారానికి వ్యతిరేకంగా ప్రచారానికి నాయకత్వం వహించిన సంఘ సంస్కర్త ఎవరు?

Options :

1. ✘ భగత్ సింగ్
2. ✘ లాలా లజపతి రాయ్

3. ✓ రాజా రామ్ మోహన్ రాయ్

4. ✗ జవహర్‌లాల్ నెహ్రూ

Question Number : 56 Question Id : 630680220994 Option Shuffling : Yes Is Question Mandatory : No Calculator : None Response Time : N.A Think Time : N.A Minimum Instruction Time : 0

Correct Marks : 1 Wrong Marks : 0

Arrange the following events in chronological order:

- A) Partition of India
- B) Non-Cooperation Movement
- C) Quit India Movement
- D) Civil Disobedience Movement

Options :

1. ✓ B-D-C-A

2. ✗ B-A-D-C

3. ✗ D-C-B-A

4. ✗ C-D-B-A

Question Number : 56 Question Id : 630680220994 Option Shuffling : Yes Is Question Mandatory : No Calculator : None Response Time : N.A Think Time : N.A Minimum Instruction Time : 0

Correct Marks : 1 Wrong Marks : 0

కింది సంఘటనలను కాలక్రమానుసారంగా అమర్చండి:

- A) భారతదేశ విభజన
- B) సహాయ నిరాకరణ ఉద్యమం
- C) క్వీట్ ఇండియా ఉద్యమం
- D) శాసనోల్లంఘన ఉద్యమం

Options :

1. ✓ B-D-C-A

2. ✗ B-A-D-C

3. ✗ D-C-B-A

4. ✗ C-D-B-A

Question Number : 57 Question Id : 630680220995 Option Shuffling : Yes Is Question Mandatory : No Calculator : None Response Time : N.A Think Time : N.A Minimum Instruction Time : 0

Correct Marks : 1 Wrong Marks : 0

Select the correct statement(s) from the following:

- A) In 1928, the Hindustan Republican Army was reorganized to Hindustan Socialist Republican Association
- B) Chandra Shekhar Azad played a crucial role in the reorganization of the Hindustan Republican Association

Options :

1. ✗ A only

2. ✗ B only

3. ✓ Both A and B

4. ✗ Neither A nor B

Question Number : 57 Question Id : 630680220995 Option Shuffling : Yes Is Question Mandatory : No Calculator : None Response Time : N.A Think Time : N.A Minimum Instruction Time : 0

Correct Marks : 1 Wrong Marks : 0

కింది వాటిలో సరైన వాక్యము(లు)ను ఎంచుకోండి:

- A) 1928లో, హిందుస్థాన్ రిపబ్లికన్ ఆర్మీని హిందూస్థాన్ సోషలిస్ట్ రిపబ్లికన్ అసోసియేషన్‌గా పునర్వ్యవస్థీకరించారు
- B) హిందుస్థాన్ రిపబ్లికన్ అసోసియేషన్ పునర్వ్యవస్థీకరణలో చంద్ర శేఖర్ ఆజాద్ కీలక పాత్రను పోషించారు

Options :

1. ✗ A మాత్రమే

2. ✗ B మాత్రమే

3. ✓ A మరియు B రెండూ

4. ✗ A కానీ లేదా B కానీ ఏదీ కాదు

Question Number : 58 Question Id : 630680220996 Option Shuffling : Yes Is Question Mandatory : No Calculator : None Response Time : N.A Think Time : N.A Minimum Instruction Time : 0

Correct Marks : 1 Wrong Marks : 0

Which of the following social reformers is/are accurately matched with their contribution?

- A) Gopal Krishna Gokhale : Widow remarriage

- B) Ishwar Chandra Vidyasagar : Sati
 C) Bal Gangadhar Tilak : Servants of India Society
 D) Mahatma Gandhi : Harijan Sevak Sangh

Options :

1. ✘ A only
 2. ✔ D only
 3. ✘ B and D
 4. ✘ A and C

Question Number : 58 Question Id : 630680220996 Option Shuffling : Yes Is Question Mandatory : No Calculator : None Response Time : N.A Think Time : N.A Minimum Instruction Time : 0

Correct Marks : 1 Wrong Marks : 0

కింది సంఘ సంస్కర్తలు మరియు వారు చేసిన సేవల సరైన జతను కనుగొనండి

- A) గోపాల్ కృష్ణ గోఖలే : వితంతు పునర్వివాహం
 B) ఈశ్వర్ చంద్ర విద్యాసాగర్ : సతీసహగమనం
 C) బాల గంగాధర్ తిలక్ : సర్వెంట్స్ ఆఫ్ ఇండియా సొసైటీ
 D) మహాత్మా గాంధీ : హరిజన సేవకుల సంఘము

Options :

1. ✘ A మాత్రమే
 2. ✔ D మాత్రమే
 3. ✘ B మరియు D
 4. ✘ A మరియు C

Question Number : 59 Question Id : 630680220997 Option Shuffling : Yes Is Question Mandatory : No Calculator : None Response Time : N.A Think Time : N.A Minimum Instruction Time : 0

Correct Marks : 1 Wrong Marks : 0

Arrange the following social and religious reform movements in India in chronological order:

- A) Prarthana samaj
 B) Ramkrishna mission
 C) Brahmo samaj
 D) Arya Samaj

Options :

1. ✘ B-A-C-D
 2. ✘ D-B-C-A
 3. ✘ A-D-B-C
 4. ✔ C-A-D-B

Question Number : 59 Question Id : 630680220997 Option Shuffling : Yes Is Question Mandatory : No Calculator : None Response Time : N.A Think Time : N.A Minimum Instruction Time : 0

Correct Marks : 1 Wrong Marks : 0

భారతదేశంలోని కింది సామాజిక మరియు మత సంస్కరణ ఉద్యమాలను కాలక్రమానుసారం అమర్చండి:

- A) ప్రార్థన సమాజం
 B) రామకృష్ణ మిషన్
 C) బ్రహ్మ సమాజం
 D) ఆర్యసమాజ్

Options :

1. ✘ B-A-C-D
 2. ✘ D-B-C-A
 3. ✘ A-D-B-C
 4. ✔ C-A-D-B

Question Number : 60 Question Id : 630680220998 Option Shuffling : Yes Is Question Mandatory : No Calculator : None Response Time : N.A Think Time : N.A Minimum Instruction Time : 0

Correct Marks : 1 Wrong Marks : 0

Arrange the given political organisation in the chronological order.

- A) British India Association
 B) Indian National Association
 C) Bangabhasha Prakashika Sabha
 D) Indian National Congress

Options :

1. ✔ C-A-B-D

2. ✖ A-B-D-C
3. ✖ C-B-A-D
4. ✖ A-D-C-B

Question Number : 60 Question Id : 630680220998 Option Shuffling : Yes Is Question Mandatory : No Calculator : None Response Time : N.A Think Time : N.A Minimum Instruction Time : 0

Correct Marks : 1 Wrong Marks : 0

ఇచ్చిన రాజకీయ సంస్థను కాలక్రమానుసారం అమర్చండి

- A) బ్రిటిష్ ఇండియా అసోసియేషన్
- B) ఇండియన్ నేషనల్ అసోసియేషన్
- C) బంగాభాష ప్రకాశిక సభ
- D) భారత జాతీయ కాంగ్రెస్

Options :

1. ✔ C-A-B-D
2. ✖ A-B-D-C
3. ✖ C-B-A-D
4. ✖ A-D-C-B

Question Number : 61 Question Id : 630680220999 Option Shuffling : Yes Is Question Mandatory : No Calculator : None Response Time : N.A Think Time : N.A Minimum Instruction Time : 0

Correct Marks : 1 Wrong Marks : 0

Which of the following revolutionary organisation is correctly matched with their founders?

A) Bharat Mata Society	i) Ashwini Kumar Dutta
B) Swadesh Bandhav Samiti	ii) Bhagat Singh
C) Mitra Mela	iii) Ajit Singh
D) Bharat Naujawan Sabha	iv) Savarkar Brothers

Options :

1. ✖ A-ii, B-i, C-iv D-iii
2. ✔ A-iii, B-i, C-iv D-ii
3. ✖ A-iii, B-ii, C-iv D-i
4. ✖ A-iii, B-iv, C-ii D-i

Question Number : 61 Question Id : 630680220999 Option Shuffling : Yes Is Question Mandatory : No Calculator : None Response Time : N.A Think Time : N.A Minimum Instruction Time : 0

Correct Marks : 1 Wrong Marks : 0

కింది విప్లవ సంస్థ మరియు దాని వ్యవస్థాపకులను సరిగ్గా జతపరచండి?

A) భారత్ మాతా సొసైటీ	i) అశ్వినీ కుమార్ దత్తా
B) స్వదేశ్ బాంధవ్ సమితి	ii) భగత్ సింగ్
C) మిత్ర మేళా	iii) అజిత్ సింగ్
D) భారత్ నౌజవాన్ సభ	iv) సావర్కర్ సోదరులు

Options :

1. ✖ A-ii, B-i, C-iv D-iii
2. ✔ A-iii, B-i, C-iv D-ii
3. ✖ A-iii, B-ii, C-iv D-i
4. ✖ A-iii, B-iv, C-ii D-i

Question Number : 62 Question Id : 630680221000 Option Shuffling : Yes Is Question Mandatory : No Calculator : None Response Time : N.A Think Time : N.A Minimum Instruction Time : 0

Correct Marks : 1 Wrong Marks : 0

Which of the following statement is/are correct regarding the fiscal policy of India?

- A) Fiscal policy refers to the management of revenue and capital expenditure by the state
- B) Financial bills can be introduced in Rajya Sabha
- C) Annual financial statement is presented by finance minister in the Parliament

Options :

1. ✓ C only
2. ✗ A only
3. ✗ A and C
4. ✗ B and C

Question Number : 62 Question Id : 630680221000 Option Shuffling : Yes Is Question Mandatory : No Calculator : None Response Time : N.A Think Time : N.A Minimum Instruction Time : 0

Correct Marks : 1 Wrong Marks : 0

భారతదేశ ఆర్థిక విధానానికి సంబంధించి కింది వాటిలో సరైనది ఏది?

- A) ఆర్థిక విధానం అనేది రాష్ట్రం యొక్క రాబడి మరియు మూలధన వ్యయాల నిర్వహణను సూచిస్తుంది
- B) రాజ్యసభలో ఆర్థిక బిల్లులను ప్రవేశపెట్టవచ్చు
- C) ఆర్థిక మంత్రి వార్షిక ఆర్థిక నివేదికను పార్లమెంటులో సమర్పిస్తారు

Options :

1. ✓ C మాత్రమే
2. ✗ A మాత్రమే
3. ✗ A మరియు C
4. ✗ B మరియు C

Question Number : 63 Question Id : 630680221001 Option Shuffling : Yes Is Question Mandatory : No Calculator : None Response Time : N.A Think Time : N.A Minimum Instruction Time : 0

Correct Marks : 1 Wrong Marks : 0

What is the main objective of the Stand Up India scheme?

Options :

1. ✗ Provide low-interest loans to existing small businesses
2. ✓ Promote entrepreneurship among women and SC/ST communities
3. ✗ Facilitate foreign direct investment in the country
4. ✗ Promote the growth of large corporations

Question Number : 63 Question Id : 630680221001 Option Shuffling : Yes Is Question Mandatory : No Calculator : None Response Time : N.A Think Time : N.A Minimum Instruction Time : 0

Correct Marks : 1 Wrong Marks : 0

స్టాండ్ అప్ ఇండియా పథకం యొక్క ప్రధాన లక్ష్యం ఏమిటి?

Options :

1. ✗ ప్రస్తుతం ఉన్న చిన్న చిన్న వ్యాపారాలకు తక్కువ వడ్డీ రుణాలను అందించడం
2. ✓ మహిళలు మరియు SC/ST వర్గాలలో పారిశ్రామికతను ప్రోత్సహించడం
3. ✗ దేశంలో విదేశీ ప్రత్యక్ష పెట్టుబడులను సులభతరం చేయడం
4. ✗ పెద్ద సంస్థల వృద్ధిని ప్రోత్సహించడం

Question Number : 64 Question Id : 630680221002 Option Shuffling : Yes Is Question Mandatory : No Calculator : None Response Time : N.A Think Time : N.A Minimum Instruction Time : 0

Correct Marks : 1 Wrong Marks : 0

Which of the given statement(s) correctly describes liberalisation?

- A) Through liberalization government control is relaxed or abolished
- B) Trade and investment policy reforms are an integral part of the liberalization process

Options :

1. ✗ A only
2. ✗ B only
3. ✓ Both A and B
4. ✗ Neither A nor B

Question Number : 64 Question Id : 630680221002 Option Shuffling : Yes Is Question Mandatory : No Calculator : None Response Time : N.A Think Time : N.A Minimum Instruction Time : 0

Correct Marks : 1 Wrong Marks : 0

ఇచ్చిన వాక్యము(ల)లో ఏది సరళీకరణను సరిగ్గా వివరిస్తుంది?

- A) సరళీకరణ ద్వారా ప్రభుత్వ నియంత్రణ సడలించబడుతుంది లేదా రద్దు చేయబడుతుంది
- B) సరళీకరణ ప్రక్రియలో అంతర్గాం వాణిజ్యం మరియు పెట్టుబడి విధాన సంస్కరణలు

Options :

1. ✗ A మాత్రమే

2. ✘ B మాత్రమే
3. ✔ A మరియు B రెండూ
4. ✘ A కానీ లేదా B కానీ ఏదీ కావు

Question Number : 65 Question Id : 630680221003 Option Shuffling : Yes Is Question Mandatory : No Calculator : None Response Time : N.A Think Time : N.A Minimum Instruction Time : 0

Correct Marks : 1 Wrong Marks : 0

Which of the following statement(s) is/are correct?

- A) Privatization was one of the key components of the economic reforms 1966 i.e., LPG (Liberalization, Privatization, and Globalization) reforms
- B) Disinvestment is a tool used for privatization of public sector undertakings (PSUs) in India

Options :

1. ✘ A only
2. ✔ B only
3. ✘ Both A and B
4. ✘ Neither A nor B

Question Number : 65 Question Id : 630680221003 Option Shuffling : Yes Is Question Mandatory : No Calculator : None Response Time : N.A Think Time : N.A Minimum Instruction Time : 0

Correct Marks : 1 Wrong Marks : 0

కింది వాక్యము(లు)లో ఏది సరైనది/వి?

- A) 1966 ఆర్థిక సంస్కరణలు, అంటే LPG (సరళీకరణ, ప్రైవేటీకరణ మరియు ప్రపంచీకరణ) సంస్కరణల యొక్క ముఖ్య భాగాలలో ఒకటి ప్రైవేటీకరణ.
- B) పెట్టుబడుల ఉపసంహరణ అనేది భారతదేశంలోని ప్రభుత్వ రంగ సంస్థల (PSU) ప్రైవేటీకరణ కొరకు ఉపయోగించబడే ఒక సాధనం

Options :

1. ✘ A మాత్రమే
2. ✔ B మాత్రమే
3. ✘ A మరియు B రెండూ
4. ✘ A కానీ లేదా B కానీ ఏదీ కావు

Question Number : 66 Question Id : 630680221004 Option Shuffling : Yes Is Question Mandatory : No Calculator : None Response Time : N.A Think Time : N.A Minimum Instruction Time : 0

Correct Marks : 1 Wrong Marks : 0

During whose tenure as Prime Minister was the first Five-Year Plan presented to the Parliament of India?

Options :

1. ✔ Jawaharlal Nehru
2. ✘ Rajiv Gandhi
3. ✘ Atal Bihari Vajpayee
4. ✘ Lal Bahadur Shastri

Question Number : 66 Question Id : 630680221004 Option Shuffling : Yes Is Question Mandatory : No Calculator : None Response Time : N.A Think Time : N.A Minimum Instruction Time : 0

Correct Marks : 1 Wrong Marks : 0

భారతదేశ పార్లమెంటుకు మొదటి పంచవర్ష ప్రణాళికను ఏ ప్రధానమంత్రి హయాంలో సమర్పించారు?

Options :

1. ✔ జవహర్‌లాల్ నెహ్రూ
2. ✘ రాజీవ్ గాంధీ
3. ✘ అటల్ బిహారీ వాజ్‌పేయి
4. ✘ లాల్ బహదూర్ శాస్త్రి

Question Number : 67 Question Id : 630680221005 Option Shuffling : Yes Is Question Mandatory : No Calculator : None Response Time : N.A Think Time : N.A Minimum Instruction Time : 0

Correct Marks : 1 Wrong Marks : 0

What was the objective of Industrial Policy Resolution of 1956?

Options :

1. ✘ To bring LPG reforms in India
2. ✘ To boost MSME sectors
3. ✘ To bring technological advancement in industries

4. ✓ To expand public sector and control private monopoly

Question Number : 67 Question Id : 630680221005 Option Shuffling : Yes Is Question Mandatory : No Calculator : None
Response Time : N.A Think Time : N.A Minimum Instruction Time : 0

Correct Marks : 1 Wrong Marks : 0

1956 పారిశ్రామిక విధాన తీర్మానం యొక్క లక్ష్యం ఏమిటి?

Options :

1. ✘ భారతదేశంలో LPG సంస్కరణలను తీసుకురావడం
2. ✘ MSME రంగాలను అభివృద్ధి చేయడం
3. ✘ పరిశ్రమలలో సాంకేతిక పురోగతిని తీసుకురావడం
4. ✓ ప్రభుత్వ రంగాన్ని విస్తరించడం మరియు వ్యక్తిగత గుత్తాధిపత్యాన్ని నియంత్రించడం

Question Number : 68 Question Id : 630680221006 Option Shuffling : Yes Is Question Mandatory : No Calculator : None
Response Time : N.A Think Time : N.A Minimum Instruction Time : 0

Correct Marks : 1 Wrong Marks : 0

Who is known as the Father of Green Revolution in India?

Options :

1. ✘ Jawahar Lal Nehru
2. ✓ Dr. M.S. Swaminathan
3. ✘ Nelson Mandela
4. ✘ Mahatma Gandhi

Question Number : 68 Question Id : 630680221006 Option Shuffling : Yes Is Question Mandatory : No Calculator : None
Response Time : N.A Think Time : N.A Minimum Instruction Time : 0

Correct Marks : 1 Wrong Marks : 0

భారతదేశంలో హరిత విప్లవ పితామహుడు ఎవరు?

Options :

1. ✘ జవహర్ లాల్ నెహ్రూ
2. ✓ డా. ఎం.ఎస్. స్వామినాథన్
3. ✘ నెల్సన్ మండేలా
4. ✘ మహాత్మా గాంధీ

Question Number : 69 Question Id : 630680221007 Option Shuffling : Yes Is Question Mandatory : No Calculator : None
Response Time : N.A Think Time : N.A Minimum Instruction Time : 0

Correct Marks : 1 Wrong Marks : 0

Which states were primarily focused during the Green Revolution in India launched in the 1960s?

Options :

1. ✓ Punjab, Haryana, and Uttar Pradesh
2. ✘ Madhya Pradesh, Bihar and Rajasthan
3. ✘ Punjab, Himachal Pradesh and Haryana
4. ✘ Karnataka, Kerala, and Tamil Nadu

Question Number : 69 Question Id : 630680221007 Option Shuffling : Yes Is Question Mandatory : No Calculator : None
Response Time : N.A Think Time : N.A Minimum Instruction Time : 0

Correct Marks : 1 Wrong Marks : 0

1960లలో భారతదేశంలో ప్రారంభించబడిన హరిత విప్లవం ఏ రాష్ట్రాలపై ప్రధానంగా దృష్టి సారించింది?

Options :

1. ✓ పంజాబ్, హర్యానా మరియు ఉత్తరప్రదేశ్
2. ✘ మధ్యప్రదేశ్, బీహార్ మరియు రాజస్థాన్
3. ✘ పంజాబ్, హిమాచల్ ప్రదేశ్ మరియు హర్యానా
4. ✘ కర్ణాటక, కేరళ మరియు తమిళనాడు

Question Number : 70 Question Id : 630680221008 Option Shuffling : Yes Is Question Mandatory : No Calculator : None
Response Time : N.A Think Time : N.A Minimum Instruction Time : 0

Correct Marks : 1 Wrong Marks : 0

Match the following tribes and their corresponding states.

A) Sentinelese	i) Assam
B) Bodo	ii) Chhattisgarh
C) Gond	iii) Andaman and Nicobar Islands
D) Siddi	iv) Goa

Options :

- ✘ A-ii, B-i, C-iii, D-iv
- ✘ A-iii, B-iv, C-ii, D-i
- ✔ A-iii, B-i, C-ii, D-iv
- ✘ A-ii, B-i, C-iv, D-iii

Question Number : 70 Question Id : 630680221008 Option Shuffling : Yes Is Question Mandatory : No Calculator : None Response Time : N.A Think Time : N.A Minimum Instruction Time : 0

Correct Marks : 1 Wrong Marks : 0

కింది తెగలు మరియు వాటి సంబంధిత రాష్ట్రాలను జతపరచండి.

A) సెంటినీస్	i) అస్సాం
B) బోడో	ii) చత్తీస్ గఢ్
C) గోండ్	iii) అండమాన్ మరియు నికోబార్ దీవులు
D) సిద్ధి	iv) గోవా

Options :

- ✘ A-ii, B-i, C-iii, D-iv
- ✘ A-iii, B-iv, C-ii, D-i
- ✔ A-iii, B-i, C-ii, D-iv
- ✘ A-ii, B-i, C-iv, D-iii

Question Number : 71 Question Id : 630680221009 Option Shuffling : Yes Is Question Mandatory : No Calculator : None Response Time : N.A Think Time : N.A Minimum Instruction Time : 0

Correct Marks : 1 Wrong Marks : 0

Which ministry launched the Pradhan Mantri Mudra Yojana?

Options :

- ✘ Ministry of Education
- ✔ Ministry of Home Affairs
- ✘ Ministry of Defence
- ✘ Ministry of Women and Child Development

Question Number : 71 Question Id : 630680221009 Option Shuffling : Yes Is Question Mandatory : No Calculator : None Response Time : N.A Think Time : N.A Minimum Instruction Time : 0

Correct Marks : 1 Wrong Marks : 0

ఏ మంత్రిత్వ శాఖ ప్రధాన మంత్రి ముద్రా యోజనను ప్రారంభించింది?

Options :

- ✘ విద్యా మంత్రిత్వ శాఖ
- ✔ హోం వ్యవహారాల మంత్రిత్వ శాఖ
- ✘ రక్షణ మంత్రిత్వ శాఖ
- ✘ మహిళా మరియు శిశు అభివృద్ధి మంత్రిత్వ శాఖ

Question Number : 72 Question Id : 630680221010 Option Shuffling : Yes Is Question Mandatory : No Calculator : None Response Time : N.A Think Time : N.A Minimum Instruction Time : 0

Correct Marks : 1 Wrong Marks : 0

Which of the following schemes are correctly matched with their objective?

- MNREGA: provide at least 100 days of guaranteed wage employment
- Pradhan Mantri Jan-Dhan Yojana: financial inclusion to ensure access to financial services
- Pradhan Mantri Employment Generation Programme: provide continuous and sustainable employment to artisans, rural and urban unemployed

Options :

1. ✘ A and B
2. ✘ B and C
3. ✘ A and C
4. ✔ A, B and C

Question Number : 72 Question Id : 630680221010 Option Shuffling : Yes Is Question Mandatory : No Calculator : None
Response Time : N.A Think Time : N.A Minimum Instruction Time : 0

Correct Marks : 1 Wrong Marks : 0

కింది ఏ పథకాలు వాటి లక్ష్యంతో సరిగ్గా జతచేయబడ్డాయి?

- A) MNREGA: కనీసం 100 రోజుల ఉపాధి హామీని అందించడం
- B) ప్రధాన మంత్రి జన్-ధన్ యోజన: ఆర్థిక సేవలకు ప్రాప్యతను నిర్ధారించే ఆర్థిక మేళవింపు
- C) ప్రధాన మంత్రి ఉపాధి కల్పన కార్యక్రమం: చేతివృత్తులకు, గ్రామీణ మరియు పట్టణ నిరుద్యోగులకు నిరంతర మరియు సుస్థిర ఉపాధిని కల్పించడం

Options :

1. ✘ A మరియు B
2. ✘ B మరియు C
3. ✘ A మరియు C
4. ✔ A, B మరియు C

Question Number : 73 Question Id : 630680221011 Option Shuffling : Yes Is Question Mandatory : No Calculator : None
Response Time : N.A Think Time : N.A Minimum Instruction Time : 0

Correct Marks : 1 Wrong Marks : 0

Which of the following is the correct statement regarding the social model of disability?

Options :

1. ✘ Disability is caused by individual impairments or differences
2. ✘ People with disabilities are dependent on charity
3. ✔ Society creates barriers that disable people with impairments
4. ✘ People with disabilities are not capable of making their own decisions

Question Number : 73 Question Id : 630680221011 Option Shuffling : Yes Is Question Mandatory : No Calculator : None
Response Time : N.A Think Time : N.A Minimum Instruction Time : 0

Correct Marks : 1 Wrong Marks : 0

వైకల్యం యొక్క సామాజిక నమూనాకు సంబంధించి కింది వాటిలో ఏది సరైన వాక్యము?

Options :

1. ✘ వ్యక్తిగత బలహీనతలు లేదా వ్యత్యాసాల వల్ల వైకల్యం ఏర్పడుతుంది
2. ✘ వైకల్యం గల వారు దాతృత్వంపై ఆధారపడతారు
3. ✔ బలహీనతలు గల వ్యక్తులను అనర్థులుగా చేసే అడ్డంకులను సమాజం సృష్టిస్తుంది
4. ✘ వైకల్యం గల వారు తమ స్వంత నిర్ణయాలు తీసుకోలేరు

Question Number : 74 Question Id : 630680221012 Option Shuffling : Yes Is Question Mandatory : No Calculator : None
Response Time : N.A Think Time : N.A Minimum Instruction Time : 0

Correct Marks : 1 Wrong Marks : 0

Which of the following state does NOT share its boundary with Telangana state?

Options :

1. ✘ Maharashtra
2. ✔ Odisha
3. ✘ Karnataka
4. ✘ Chhattisgarh

Question Number : 74 Question Id : 630680221012 Option Shuffling : Yes Is Question Mandatory : No Calculator : None
Response Time : N.A Think Time : N.A Minimum Instruction Time : 0

Correct Marks : 1 Wrong Marks : 0

ఈ కింది ఏ రాష్ట్రం తెలంగాణ రాష్ట్రంతో సరిహద్దును పంచుకోవడం లేదు?

Options :

1. ✘ మహారాష్ట్ర
2. ✔ ఒడిశా
3. ✘ కర్ణాటక

4. ✖ చత్తీస్ గడ్

Question Number : 75 Question Id : 630680221013 Option Shuffling : Yes Is Question Mandatory : No Calculator : None Response Time : N.A Think Time : N.A Minimum Instruction Time : 0

Correct Marks : 1 Wrong Marks : 0

Which of the following statement(s) regarding State symbols of Telangana is/are TRUE?

- I. Jammi Chettu (Prosopis Cineraria) is the State Tree.
II. Nemali (Pavo cristatus) is the State Bird.

Options :

1. ✖ Neither I nor II is true
2. ✖ Both I and II are true
3. ✔ Only I is true
4. ✖ Only II is true

Question Number : 75 Question Id : 630680221013 Option Shuffling : Yes Is Question Mandatory : No Calculator : None Response Time : N.A Think Time : N.A Minimum Instruction Time : 0

Correct Marks : 1 Wrong Marks : 0

తెలంగాణ రాష్ట్ర చిహ్నాలకు సంబంధించి కింది ఏ వాఖ్యము(లు) నిజం?

- I. రాష్ట్ర వృక్షం జమ్మి చెట్టు (ప్రోసోపిస్ సినారియా).
II. రాష్ట్ర పక్షి నెమలి (పావో క్రీస్టేటస్).

Options :

1. ✖ I మరియు II రెండూ నిజం కావు
2. ✖ I మరియు II రెండూ నిజం
3. ✔ I మాత్రమే నిజం
4. ✖ II మాత్రమే నిజం

Question Number : 76 Question Id : 630680221014 Option Shuffling : Yes Is Question Mandatory : No Calculator : None Response Time : N.A Think Time : N.A Minimum Instruction Time : 0

Correct Marks : 1 Wrong Marks : 0

Which of the following statement(s) is/are INCORRECT in context of forest status in Telangana in 2022?

- I. Total Forest area accounts for 30 percent of the total geographical area of Telangana.
II. There are 12 protected areas in Telangana that includes 9 wildlife sanctuaries and 3 national parks.
III. Hyderabad registered the highest decadal growth rate of forest cover between 2011-21

Options :

1. ✖ Only I and II
2. ✔ Only I
3. ✖ Only II and III
4. ✖ Only III

Question Number : 76 Question Id : 630680221014 Option Shuffling : Yes Is Question Mandatory : No Calculator : None Response Time : N.A Think Time : N.A Minimum Instruction Time : 0

Correct Marks : 1 Wrong Marks : 0

2022లో తెలంగాణలోని అటవీ స్థితికి సంబంధించి కింది ఏ ప్రకటన(లు) సరికాదు/వు?

- I. తెలంగాణలోని మొత్తం భౌగోళిక విస్తీర్ణంలో 30 శాతం అటవీ ప్రాంతం.
II. తెలంగాణలో 12 రక్షిత ప్రాంతాలు ఉన్నాయి, ఇందులో 9 వన్యప్రాణుల అభయారణ్యాలు మరియు 3 జాతీయ ఉద్యానవనములు.
III. 2011-21 మధ్య కాలంలో అడవుల విస్తీర్ణంలో హైదరాబాద్ అత్యధిక దశాబ్దాల వృద్ధి రేటును నమోదు చేసింది.

Options :

1. ✖ I మరియు II మాత్రమే
2. ✔ I మాత్రమే
3. ✖ II మరియు III మాత్రమే
4. ✖ III మాత్రమే

Question Number : 77 Question Id : 630680221015 Option Shuffling : Yes Is Question Mandatory : No Calculator : None Response Time : N.A Think Time : N.A Minimum Instruction Time : 0

Correct Marks : 1 Wrong Marks : 0

What is the geographical area of the Telangana state?

Options :

1. ✓ 112,077 Sq. kms.
2. ✗ 101,301 Sq. kms.
3. ✗ 96,085 Sq. kms.
4. ✗ 124,081 Sq. kms.

Question Number : 77 Question Id : 630680221015 Option Shuffling : Yes Is Question Mandatory : No Calculator : None Response Time : N.A Think Time : N.A Minimum Instruction Time : 0

Correct Marks : 1 Wrong Marks : 0

తెలంగాణ రాష్ట్రం యొక్క భౌగోళిక విస్తీర్ణత ఎంత?

Options :

1. ✓ 112,077 చదరపు కి.మీ.
2. ✗ 101,301 చదరపు కి.మీ.
3. ✗ 96,085 చదరపు కి.మీ.
4. ✗ 124,081 చదరపు కి.మీ.

Question Number : 78 Question Id : 630680221016 Option Shuffling : Yes Is Question Mandatory : No Calculator : None Response Time : N.A Think Time : N.A Minimum Instruction Time : 0

Correct Marks : 1 Wrong Marks : 0

Which of the following statement(s) is/are CORRECT?

- I. The Society for Elimination of Rural Poverty (SERP) works by building and nurturing Self Help Groups (SHGs) of women and their federations.
- II. The Society for Elimination of Rural Poverty (SERP) is a sensitive supportive structure to facilitate social mobilization of rural poor women in 11 rural districts.

Options :

1. ✗ Both I and II
2. ✓ Only I
3. ✗ Only II
4. ✗ Neither I nor II

Question Number : 78 Question Id : 630680221016 Option Shuffling : Yes Is Question Mandatory : No Calculator : None Response Time : N.A Think Time : N.A Minimum Instruction Time : 0

Correct Marks : 1 Wrong Marks : 0

ఈ కింది వాఖ్యం(లు)లో ఏది/ఏవి సరైనది?

- I. గ్రామీణ పేదరిక నిర్మూలన సమాజం (సొసైటీ ఫర్ ఎలిమినేషన్ ఆఫ్ రూరల్ పావర్టీ) (SERP), మహిళలు మరియు వారి సమాఖ్య స్వయం సహాయక బృందాలను (సెల్వ్ హెల్ప్ గ్రూప్స్) (SHGs) నిర్మించి వాటిని పోషిస్తుంది.
- II. గ్రామీణ పేదరిక నిర్మూలన సమాజం (సొసైటీ ఫర్ ఎలిమినేషన్ ఆఫ్ రూరల్ పావర్టీ) (SERP) అనేది 11 గ్రామీణ జిల్లాల్లోని గ్రామీణ పేద మహిళల సామాజిక సమీకరణను సులభతరం చేయడానికి ఎర్పంచబడిన ఒక సున్నితమైన సహాయక కార్యక్రమం.

Options :

1. ✗ I మరియు II రెండూ
2. ✓ I మాత్రమే
3. ✗ II మాత్రమే
4. ✗ I మరియు II రెండూ కాదు

Question Number : 79 Question Id : 630680221017 Option Shuffling : Yes Is Question Mandatory : No Calculator : None Response Time : N.A Think Time : N.A Minimum Instruction Time : 0

Correct Marks : 1 Wrong Marks : 0

Which of the following National Highway as per new Highway numbering system does NOT pass through Telangana?

Options :

1. ✗ NH 30
2. ✗ NH 150
3. ✓ NH 62
4. ✗ NH 61

Question Number : 79 Question Id : 630680221017 Option Shuffling : Yes Is Question Mandatory : No Calculator : None Response Time : N.A Think Time : N.A Minimum Instruction Time : 0

Correct Marks : 1 Wrong Marks : 0

కొత్త రహదారుల సంఖ్య వ్యవస్థ (హైవే నంబరింగ్ సిస్టమ్) ప్రకారం ఈ కింది ఏ జాతీయ రహదారి తెలంగాణ మీదుగా వెళ్లదు?

Options :

1. ✘ NH 30
2. ✘ NH 150
3. ✔ NH 62
4. ✘ NH 61

Question Number : 80 Question Id : 630680221018 Option Shuffling : Yes Is Question Mandatory : No Calculator : None Response Time : N.A Think Time : N.A Minimum Instruction Time : 0

Correct Marks : 1 Wrong Marks : 0

As per the Telangana Budget 2023-24, what is the percentage change from Revised Estimates (RE) 22-23 to Budget Estimates (BE) 23-24 for the sector 'Agriculture and Allied Activities'?

Options :

1. ✘ 10%
2. ✔ 23%
3. ✘ 14%
4. ✘ 35%

Question Number : 80 Question Id : 630680221018 Option Shuffling : Yes Is Question Mandatory : No Calculator : None Response Time : N.A Think Time : N.A Minimum Instruction Time : 0

Correct Marks : 1 Wrong Marks : 0

తెలంగాణ బడ్జెట్ 2023-24 ప్రకారం, 'వ్యవసాయం మరియు అనుబంధ కార్యకలాపాలు' రంగానికి సంబంధించి సవరించిన అంచనాలు (రివైస్డ్ ఎస్టిమేట్స్) (RE) 22-23 మరియు బడ్జెట్ అంచనాలు (బడ్జెట్ ఎస్టిమేట్స్) (BE) 23-24 మధ్య ఎంత శాతం మార్పు వచ్చింది?

Options :

1. ✘ 10%
2. ✔ 23%
3. ✘ 14%
4. ✘ 35%

Question Number : 81 Question Id : 630680221019 Option Shuffling : Yes Is Question Mandatory : No Calculator : None Response Time : N.A Think Time : N.A Minimum Instruction Time : 0

Correct Marks : 1 Wrong Marks : 0

Telangana State Renewable Energy Development Corporation Ltd., (TSREDCO) is nominated by Government of Telangana, for implementing which of the following program(s)?

- I. To provide 200 units of free electricity to each household in the state.
- II. Setting up of EV charging infrastructure for Electric vehicles.

Options :

1. ✔ Only II
2. ✘ Only I
3. ✘ I and II both
4. ✘ Neither I nor II

Question Number : 81 Question Id : 630680221019 Option Shuffling : Yes Is Question Mandatory : No Calculator : None Response Time : N.A Think Time : N.A Minimum Instruction Time : 0

Correct Marks : 1 Wrong Marks : 0

ఈ క్రింది ఏ కార్యక్రమాన్ని అమలు చేయడానికి తెలంగాణ ప్రభుత్వం 'తెలంగాణ పునరుద్ధరణీయ ఇంధన వనరుల అభివృద్ధి సంస్థ లిమిటెడ్' (తెలంగాణ స్టేట్ రెన్యూవబుల్ ఎనర్జీ డెవలప్ మెంట్ కార్పొరేషన్ లిమిటెడ్) (TSREDCO)ని నియమించింది?

- I. రాష్ట్రంలోని ప్రతి ఇంటికి 200 యూనిట్ల ఉచిత విద్యుత్ను అందించడానికి.
- II. విద్యుత్ వాహనాల కొరకు EV ఛార్జింగ్ మౌలిక సదుపాయాలను ఏర్పాటు చేయడానికి.

Options :

1. ✔ II మాత్రమే
2. ✘ I మాత్రమే
3. ✘ I మరియు II రెండూ
4. ✘ I మరియు II రెండూ కాదు

Question Number : 82 Question Id : 630680221020 Option Shuffling : Yes Is Question Mandatory : No Calculator : None Response Time : N.A Think Time : N.A Minimum Instruction Time : 0

Correct Marks : 1 Wrong Marks : 0

_____ is a popular dance form performed by the Gonds of Northern Telangana.

Options :

1. ✘ Gusadi
2. ✘ Kuchipudi
3. ✔ Dandari
4. ✘ Jhumair

Question Number : 82 Question Id : 630680221020 Option Shuffling : Yes Is Question Mandatory : No Calculator : None Response Time : N.A Think Time : N.A Minimum Instruction Time : 0

Correct Marks : 1 Wrong Marks : 0

ఉత్తర తెలంగాణలోని గోండులు ప్రదర్శించే ఒక ప్రసిద్ధ నృత్య రూపం _____.

Options :

1. ✘ గుస్సాడీ
2. ✘ కూచిపూడి
3. ✔ దండారి
4. ✘ ఝుమర్

Question Number : 83 Question Id : 630680221021 Option Shuffling : Yes Is Question Mandatory : No Calculator : None Response Time : N.A Think Time : N.A Minimum Instruction Time : 0

Correct Marks : 1 Wrong Marks : 0

_____ is a colourful floral festival of Telangana and is celebrated by womenfolk with exotic flowers of the region.

Options :

1. ✔ Bathukamma
2. ✘ Bonalu
3. ✘ Ugadi
4. ✘ Dasara

Question Number : 83 Question Id : 630680221021 Option Shuffling : Yes Is Question Mandatory : No Calculator : None Response Time : N.A Think Time : N.A Minimum Instruction Time : 0

Correct Marks : 1 Wrong Marks : 0

తెలంగాణ ప్రాంతంలో వివిధ రకాల పూలతో మహిళలు జరుపుకొనే తెలంగాణ యొక్క రంగురంగుల పూల పండుగ _____.

Options :

1. ✔ బతుకమ్మ
2. ✘ బోనాలు
3. ✘ ఉగాది
4. ✘ దసరా

Question Number : 84 Question Id : 630680221022 Option Shuffling : Yes Is Question Mandatory : No Calculator : None Response Time : N.A Think Time : N.A Minimum Instruction Time : 0

Correct Marks : 1 Wrong Marks : 0

The Kakatiya rule led to evolution of dance forms such as _____, also known as 'dance of warriors'.

Options :

1. ✘ Ponung
2. ✔ Perini Sivatandavam
3. ✘ Bardo Cham
4. ✘ Kalaripayattu

Question Number : 84 Question Id : 630680221022 Option Shuffling : Yes Is Question Mandatory : No Calculator : None Response Time : N.A Think Time : N.A Minimum Instruction Time : 0

Correct Marks : 1 Wrong Marks : 0

కాకతీయ పాలన 'యోధుల నృత్యం' అని కూడా పిలువబడే _____ వంటి నృత్య రూపాల పరిణామానికి దారితీసింది.

Options :

1. ✘ పోసుంగ్
2. ✔ పేరిణి శివతాండవం
3. ✘ బార్దో ఛామ్
4. ✘ కళరిపయట్టు

Question Number : 85 Question Id : 630680221023 Option Shuffling : Yes Is Question Mandatory : No Calculator : None Response Time : N.A Think Time : N.A Minimum Instruction Time : 0

Correct Marks : 1 Wrong Marks : 0

Which of the following statement(s) is/are CORRECT for Ramappa Temple situated in Telangana?

- I. Ramappa temple was built during the Kakatiya Dynasty in 1123 AD.
- II. Ramappa temple is an ancient temple dedicated to Lord Vishnu.
- III. Ramappa temple is inscribed as the UNESCO World Heritage Site.

Options :

1. ✘ I and II
2. ✘ I, II and III
3. ✔ Only III
4. ✘ Only I

Question Number : 85 Question Id : 630680221023 Option Shuffling : Yes Is Question Mandatory : No Calculator : None Response Time : N.A Think Time : N.A Minimum Instruction Time : 0

Correct Marks : 1 Wrong Marks : 0

తెలంగాణలోని రామప్ప ఆలయానికి సంబంధించి ఈ క్రింది వాఖ్యం(లు)లో ఏది/ఏవి సరైనది/వి?

- I. రామప్ప దేవాలయం 1123 ADలో కాకతీయ సామ్రాజ్య కాలంలో నిర్మించబడింది.
- II. రామప్ప ఆలయం మహా విష్ణువుకు అంకితం చేయబడిన ఒక పురాతన ఆలయం.
- III. రామప్ప దేవాలయం యునెస్కో(UNESCO) ప్రపంచ వారసత్వ ప్రదేశంగా గుర్తించబడింది.

Options :

1. ✘ I మరియు II
2. ✘ I, II మరియు III
3. ✔ III మాత్రమే
4. ✘ I మాత్రమే

Question Number : 86 Question Id : 630680221024 Option Shuffling : Yes Is Question Mandatory : No Calculator : None Response Time : N.A Think Time : N.A Minimum Instruction Time : 0

Correct Marks : 1 Wrong Marks : 0

Match the following:

Craft	Description
I. Bidri Craft	a. It is a form of embroidery and mirror work on fabrics.
II. Banjara Needle Craft	b. Unique art of silver engraved on metal.
III. Dokra Metal Craft	c. It also known as bell metal craft and is widely seen in Jainoor Mandal.

Choose the correct option.

Options :

1. ✘ I – a, II – c, III – b
2. ✔ I – b, II – a, III – c
3. ✘ I – c, II – a, III – b
4. ✘ I – c, II – b, III – a

Question Number : 86 Question Id : 630680221024 Option Shuffling : Yes Is Question Mandatory : No Calculator : None Response Time : N.A Think Time : N.A Minimum Instruction Time : 0

Correct Marks : 1 Wrong Marks : 0

కింది వాటిని జతచేయండి:

హస్తకళ	వివరణ
I. బిద్ది హస్తకళ	a. ఇది బట్టలపై ఎంబ్రాయిడరీ మరియు మిర్రర్ వర్క్ చేసే ఒక రూపం.
II. బంజారా సూది హస్తకళ	b. లోహంపై వెండితో చెక్కే ఒక ప్రత్యేక కళ.
III. డోక్తా లోహ హస్తకళ (డోక్తా ముఖల క్రాఫ్ట్)	c. దీనిని బెల్ ముఖల(రాగి, తీనెల మిశ్రమ లోహం) హస్తకళ అని కూడా పిలుస్తారు. ఈ కళ జైసూర్ మండలంలో ఎక్కువగా కనిపిస్తుంది.

సరైన ఎంపికను ఎంచుకోండి.

Options :

- ✘ I – a, II – c, III – b
- ✔ I – b, II – a, III – c
- ✘ I – c, II – a, III – b
- ✘ I – c, II – b, III – a

Question Number : 87 Question Id : 630680221025 Option Shuffling : Yes Is Question Mandatory : No Calculator : None Response Time : N.A Think Time : N.A Minimum Instruction Time : 0

Correct Marks : 1 Wrong Marks : 0

Identify the INCORRECTLY paired 'Site' with their respective 'District' in Telangana.

Options :

- ✘ Thousand Pillar Temple – Hanumakonda district
- ✘ Domakonda Fort – Kamareddy district
- ✔ Nandikonda – Jagtial district
- ✘ Devarakonda Fort – Nalgonda district

Question Number : 87 Question Id : 630680221025 Option Shuffling : Yes Is Question Mandatory : No Calculator : None Response Time : N.A Think Time : N.A Minimum Instruction Time : 0

Correct Marks : 1 Wrong Marks : 0

తప్పుగా జత చేయబడిన తెలంగాణలోని 'ప్రదేశం' మరియు 'జిల్లా' జతను గుర్తించండి.

Options :

- ✘ వేయి స్తంభాల గుడి – హనుమకొండ జిల్లా
- ✘ దోమకొండ కోట – కామారెడ్డి జిల్లా
- ✔ నందికొండ – జగిత్యాల జిల్లా
- ✘ దేవరకొండ కోట – నల్గొండ జిల్లా

Question Number : 88 Question Id : 630680221026 Option Shuffling : Yes Is Question Mandatory : No Calculator : None Response Time : N.A Think Time : N.A Minimum Instruction Time : 0

Correct Marks : 1 Wrong Marks : 0

Which of the following is CORRECTLY arranged in the increasing order of area of the district?

Options :

- ✘ Hanumakonda < Khammam < Medak < Jangaon
- ✘ Jangaon < Medak < Khammam < Hanumakonda
- ✘ Khammam < Hanumakonda < Medak < Jangaon
- ✔ Hanumakonda < Jangaon < Medak < Khammam

Question Number : 88 Question Id : 630680221026 Option Shuffling : Yes Is Question Mandatory : No Calculator : None Response Time : N.A Think Time : N.A Minimum Instruction Time : 0

Correct Marks : 1 Wrong Marks : 0

జిల్లా విస్తీర్ణం ఆరోహణ క్రమంలో అమర్చబడిన సరైన ఎంపికను ఎంచుకోండి?

Options :

- ✘ హనుమకొండ < ఖమ్మం < మెదక్ < జనగాం
- ✘ జనగాం < మెదక్ < ఖమ్మం < హనుమకొండ
- ✘ ఖమ్మం < హనుమకొండ < మెదక్ < జనగాం
- ✔ హనుమకొండ < జనగాం < మెదక్ < ఖమ్మం

Question Number : 89 Question Id : 630680221027 Option Shuffling : Yes Is Question Mandatory : No Calculator : None

Response Time : N.A Think Time : N.A Minimum Instruction Time : 0

Correct Marks : 1 Wrong Marks : 0

As per UDISE-2019-20, among the Non-Special Category States in the country, the Telangana state's GER for primary schools stands _____ in the country.

Options :

1. ✘ First
2. ✘ Fifth
3. ✘ Eighth
4. ✔ Second

Question Number : 89 Question Id : 630680221027 Option Shuffling : Yes Is Question Mandatory : No Calculator : None
Response Time : N.A Think Time : N.A Minimum Instruction Time : 0

Correct Marks : 1 Wrong Marks : 0

UDISE-2019-20 ప్రకారం, దేశంలోని ప్రత్యేకం హోదా లేని వర్గపు (నాన్-స్పెషల్ కేటగిరీ) రాష్ట్రాలలో తెలంగాణ రాష్ట్ర ప్రాథమిక పాఠశాలల GER _____ స్థానంలో ఉంది.

Options :

1. ✘ ప్రథమ
2. ✘ ఐదవ
3. ✘ ఎనిమిదవ
4. ✔ రెండవ

Question Number : 90 Question Id : 630680221028 Option Shuffling : Yes Is Question Mandatory : No Calculator : None
Response Time : N.A Think Time : N.A Minimum Instruction Time : 0

Correct Marks : 1 Wrong Marks : 0

Arrange the following literary works of Telangana in chronological order, from earliest to latest:

- I. Palkuriki Somanatha's Basava Purana
- II. Nannaya Bhattaraka's Andhra Mahabharatam
- III. Krishna Devaraya's Amuktamalyada

Options :

1. ✘ I – II – III
2. ✘ III – I – II
3. ✘ III – II – I
4. ✔ II – I – III

Question Number : 90 Question Id : 630680221028 Option Shuffling : Yes Is Question Mandatory : No Calculator : None
Response Time : N.A Think Time : N.A Minimum Instruction Time : 0

Correct Marks : 1 Wrong Marks : 0

కింది తెలంగాణ సాహిత్య రచనలను ప్రాచీన కాలం నుండి నూతన కాలక్రమానుసారం అమర్చండి:

- I. పాల్కురికి సోమనాథుని బసవ పురాణం
- II. నన్నయ భట్టారక ఆంధ్ర మహాభారతం
- III. కృష్ణదేవరాయల అముక్తమాల్యద

Options :

1. ✘ I – II – III
2. ✘ III – I – II
3. ✘ III – II – I
4. ✔ II – I – III

Question Number : 91 Question Id : 630680221029 Option Shuffling : Yes Is Question Mandatory : No Calculator : None
Response Time : N.A Think Time : N.A Minimum Instruction Time : 0

Correct Marks : 1 Wrong Marks : 0

Match the following:

Tribe	Traditional Occupation
I. Gonds	a. Bamboo crafts
II. Pardhan	b. Singing
III. Kolams	c. Agriculture

Options :

1. ✓ I – c, II – b, III – a
2. ✗ I – a, II – c, III – b
3. ✗ I – b, II – a, III – c
4. ✗ I – b, II – c, III – a

Question Number : 91 Question Id : 630680221029 Option Shuffling : Yes Is Question Mandatory : No Calculator : None Response Time : N.A Think Time : N.A Minimum Instruction Time : 0

Correct Marks : 1 Wrong Marks : 0

కింది వాటిని జతచేయండి:

గిరిజనులు	సాంప్రదాయక వృత్తి
I. గోండులు	a. వెదురు చేతికళలు
II. పర్దాన్	b. గానం
III. కోలాములు	c. వ్యవసాయం

Options :

1. ✓ I – c, II – b, III – a
2. ✗ I – a, II – c, III – b
3. ✗ I – b, II – a, III – c
4. ✗ I – b, II – c, III – a

Question Number : 92 Question Id : 630680221030 Option Shuffling : Yes Is Question Mandatory : No Calculator : None Response Time : N.A Think Time : N.A Minimum Instruction Time : 0

Correct Marks : 1 Wrong Marks : 0

Arrange the following tribes in increasing order of their population in Telangana state:

- I. Koya
- II. Pardhan
- III. Gonds

Options :

1. ✓ II < III < I
2. ✗ I < II < III
3. ✗ II < I < III
4. ✗ III < II < I

Question Number : 92 Question Id : 630680221030 Option Shuffling : Yes Is Question Mandatory : No Calculator : None Response Time : N.A Think Time : N.A Minimum Instruction Time : 0

Correct Marks : 1 Wrong Marks : 0

జనాభా సంఖ్య ఆరోహణ క్రమంలో తెలంగాణ రాష్ట్రంలోని గిరిజనులను అమర్చండి:

- I. కోయ
- II. పర్దాన్
- III. గోండులు

Options :

1. ✓ II < III < I
2. ✗ I < II < III
3. ✗ II < I < III
4. ✗ III < II < I

Question Number : 93 Question Id : 630680221031 Option Shuffling : Yes Is Question Mandatory : No Calculator : None Response Time : N.A Think Time : N.A Minimum Instruction Time : 0

Correct Marks : 1 Wrong Marks : 0

Amma Vodi scheme is related to:

Options :

1. ✗ Widows

2. ✘ Men
3. ✔ Pregnant women
4. ✘ Adolescent girls

Question Number : 93 Question Id : 630680221031 Option Shuffling : Yes Is Question Mandatory : No Calculator : None Response Time : N.A Think Time : N.A Minimum Instruction Time : 0

Correct Marks : 1 Wrong Marks : 0

అమ్మ ఒడి పథకం ఎవరికి సంబంధించినది?

Options :

1. ✘ వితంతువులు
2. ✘ పురుషులు
3. ✔ గర్భిణీ స్త్రీలు
4. ✘ యుక్తవయస్సులో ఉన్న అమ్మాయిలు

Question Number : 94 Question Id : 630680221032 Option Shuffling : Yes Is Question Mandatory : No Calculator : None Response Time : N.A Think Time : N.A Minimum Instruction Time : 0

Correct Marks : 1 Wrong Marks : 0

Telangana CM K Chandrasekhar Rao launched KCR Kit Scheme, which of the following is NOT one of the intentions of the given scheme?

Options :

1. ✘ To provide quality healthcare throughout pregnancy and post-delivery
2. ✘ To ensure full immunization for the new born
3. ✘ To reduce Maternal Mortality Rate and Infant Mortality Rate
4. ✔ To ensure twofold meals to homeless and beggars

Question Number : 94 Question Id : 630680221032 Option Shuffling : Yes Is Question Mandatory : No Calculator : None Response Time : N.A Think Time : N.A Minimum Instruction Time : 0

Correct Marks : 1 Wrong Marks : 0

తెలంగాణ ముఖ్యమంత్రి K చంద్రశేఖర్ రావు KCR కిట్ పథకాన్ని ప్రారంభించారు, ఈ క్రింది వాటిలో ఏది ఆ పథకం యొక్క ఉద్దేశం కాదు?

Options :

1. ✘ గర్భధారణ మరియు ప్రసవం తర్వాత నాణ్యమైన ఆరోగ్య సంరక్షణను అందించడం
2. ✘ పుట్టిన శిశువుకు పూర్తి రోగనిరోధకతను నిర్ధారించడం
3. ✘ ప్రసూతి మరణాల రేటు మరియు శిశు మరణాల రేటును తగ్గించడం
4. ✔ నిరాశ్రయులకు మరియు యాచకులకు రెండు పూటల భోజనం అందించడం

Question Number : 95 Question Id : 630680221033 Option Shuffling : Yes Is Question Mandatory : No Calculator : None Response Time : N.A Think Time : N.A Minimum Instruction Time : 0

Correct Marks : 1 Wrong Marks : 0

Which of the following statement(s) is/are TRUE for the Crop diversification index in Telangana?

- I. Karimnagar is among the top three districts in terms of crop diversification.
- II. Peddapalli is among the bottom three districts in terms of crop diversification.

Options :

1. ✔ Only II is true
2. ✘ Both I and II are true
3. ✘ Only I is true
4. ✘ Neither I nor II is true

Question Number : 95 Question Id : 630680221033 Option Shuffling : Yes Is Question Mandatory : No Calculator : None Response Time : N.A Think Time : N.A Minimum Instruction Time : 0

Correct Marks : 1 Wrong Marks : 0

తెలంగాణలో పంటల వైవిధ్య సూచికకు సంబంధించి కింది వాఖ్యం(లు)లో ఏది/ఏవి నిజం?

- I. పంటల వైవిధ్యకరణలో మొదటి స్థానంలో ఉన్న మూడు జిల్లాల్లో కరీంనగర్ ఒకటి.
- II. పంటల వైవిధ్యకరణలో చివరి స్థానంలో ఉన్న మూడు జిల్లాల్లో పెద్దపల్లి ఉంది.

Options :

1. ✔ II మాత్రమే నిజం
2. ✘ I మరియు II రెండూ నిజం

3. ✖ I మాత్రమే నిజం
4. ✖ I మరియు II రెండూ నిజం కావు

Question Number : 96 Question Id : 630680221034 Option Shuffling : Yes Is Question Mandatory : No Calculator : None Response Time : N.A Think Time : N.A Minimum Instruction Time : 0

Correct Marks : 1 Wrong Marks : 0

Telangana Movement was launched by CPI through its _____:

Options :

1. ✖ Vidroh Morcha
2. ✖ Jan Sabha
3. ✖ Yuva Sangha
4. ✔ Kisan Sabha

Question Number : 96 Question Id : 630680221034 Option Shuffling : Yes Is Question Mandatory : No Calculator : None Response Time : N.A Think Time : N.A Minimum Instruction Time : 0

Correct Marks : 1 Wrong Marks : 0

CPI దాని _____ ద్వారా తెలంగాణ ఉద్యమాన్ని ప్రారంభించింది:

Options :

1. ✖ విద్రోహ ర్యాలీ
2. ✖ జనసభ
3. ✖ యువ సంఘం
4. ✔ కిసాన్ సభ

Question Number : 97 Question Id : 630680221035 Option Shuffling : Yes Is Question Mandatory : No Calculator : None Response Time : N.A Think Time : N.A Minimum Instruction Time : 0

Correct Marks : 1 Wrong Marks : 0

After independence of India, for how long Hyderabad remained an independent princely state?

Options :

1. ✖ 18 months
2. ✔ 13 months
3. ✖ 21 months
4. ✖ 24 months

Question Number : 97 Question Id : 630680221035 Option Shuffling : Yes Is Question Mandatory : No Calculator : None Response Time : N.A Think Time : N.A Minimum Instruction Time : 0 Negative Marks Display Text : 0.0

Correct Marks : 1 Wrong Marks : 0

భారతదేశానికి స్వాతంత్ర్యం లభించిన తర్వాత, హైదరాబాద్ ఎంతకాలంపాటు స్వతంత్ర రాచరిక రాష్ట్రంగా ఉన్నది?

Options :

1. ✖ 18 నెలలు
2. ✔ 13 నెలలు
3. ✖ 21 నెలలు
4. ✖ 24 నెలలు

Question Number : 98 Question Id : 630680221036 Option Shuffling : Yes Is Question Mandatory : No Calculator : None Response Time : N.A Think Time : N.A Minimum Instruction Time : 0

Correct Marks : 1 Wrong Marks : 0

Which of the following statement(s) is/are INCORRECT with respect to the developments that took place during Telangana Movement?

- I. Razakars, a private militia was organised by Mohammad Ali Fazil.
- II. Razakars brutally started crushing the armed revolts by the peasants.

Options :

1. ✖ Neither I nor II
2. ✖ Only II
3. ✖ Both I and II
4. ✔ Only I

Question Number : 98 Question Id : 630680221036 Option Shuffling : Yes Is Question Mandatory : No Calculator : None Response Time : N.A Think Time : N.A Minimum Instruction Time : 0

Correct Marks : 1 Wrong Marks : 0

తెలంగాణ ఉద్యమ సమయంలో జరిగిన పరిణామాలకు సంబంధించి ఈ క్రింది ఏ వాఖ్యము(లు) సరికాదు/వు?

- రజాకార్లు అనే ఒక వ్యక్తిగత సైన్యాన్ని మహ్మద్ అలీ షాజీల్ నిర్వహించుకున్నారు.
- రైతుల సాయుధ తిరుగుబాట్లను రజాకార్లు క్రూరంగా అణిచివేయడం ప్రారంభించారు.

Options :

- I మరియు II రెండూ కాదు
- II మాత్రమే
- I మరియు II రెండూ
- I మాత్రమే

Question Number : 99 Question Id : 630680221037 Option Shuffling : Yes Is Question Mandatory : No Calculator : None Response Time : N.A Think Time : N.A Minimum Instruction Time : 0 Negative Marks Display Text : 0.0

Correct Marks : 1 Wrong Marks : 0

Arrange the following in the chronological order (i.e First to last) according to the year of happening of the given events.:

- Division of Telangana state to 7 zones and 2 multi zones.
- Indian government conducted a military operation called Operation Polo
- The Indian government appointed the States Reorganization Commission (Fazl Ali Commission)

Options :

- I - II - III
- I - III - II
- II - I - III
- II - III - I

Question Number : 99 Question Id : 630680221037 Option Shuffling : Yes Is Question Mandatory : No Calculator : None Response Time : N.A Think Time : N.A Minimum Instruction Time : 0

Correct Marks : 1 Wrong Marks : 0

ఇచ్చిన సంఘటనలు జరిగిన సంవత్సరం ప్రకారం కింది వాటిని కాలక్రమానుసారం (అంటే మొదటి నుండి చివరి వరకు) అమర్చండి.

- తెలంగాణ రాష్ట్ర విభజన 7 జోన్లు మరియు 2 మల్టీ జోన్లు.
- భారత ప్రభుత్వం ఆపరేషన్ పోలో అనే సైనిక చర్యను నిర్వహించింది
- భారత ప్రభుత్వం రాష్ట్రాల వునర్వ్యవస్థీకరణ కమిషన్ (ఫజల్ అలీ కమిషన్)ను నియమించింది.

Options :

- I - II - III
- I - III - II
- II - I - III
- II - III - I

Question Number : 100 Question Id : 630680221038 Option Shuffling : Yes Is Question Mandatory : No Calculator : None Response Time : N.A Think Time : N.A Minimum Instruction Time : 0 Negative Marks Display Text : 0.0

Correct Marks : 1 Wrong Marks : 0

Match the contents of Column I with Column II.

Column I	Column II
I. The first Chief Minister of Telangana	a. E.S.L. Narasimhanhan
II. The first Governor of Telangana	b. K Chandrashekar Rao
III. The first speaker of Legislative assembly of Telangana	c. S. Madhusudhanachary

Options :

- I-b, II-a, III-c
- I-a, II-b, III-c
- I-c, II-b, III-a
- I-b, II-c, III-a

Question Number : 100 Question Id : 630680221038 Option Shuffling : Yes Is Question Mandatory : No Calculator : None Response Time : N.A Think Time : N.A Minimum Instruction Time : 0 Negative Marks Display Text : 0.0

Correct Marks : 1 Wrong Marks : 0

వరస Iలోని సమాచారాన్ని, వరస IIలోని సరైన సమాచారంతో జతచేయండి.

వరస I	వరస II
I. తెలంగాణ తోలి ముఖ్యమంత్రి	a. ఇ.ఎస్.ఎల్. నరసింహాన్
II. తెలంగాణ తోలి గవర్నర్	b. కె చంద్రశేఖర రావు
III. తెలంగాణ తోలి శాసనసభ స్పీకర్	c. ఎస్. మధుసూధనాచారి

Options :

- ✓ I-b, II-a, III-c
- ✗ I-a, II-b, III-c
- ✗ I-c, II-b, III-a
- ✗ I-b, II-c, III-a

Question Number : 101 Question Id : 630680221039 Option Shuffling : Yes Is Question Mandatory : No Calculator : None Response Time : N.A Think Time : N.A Minimum Instruction Time : 0

Correct Marks : 1 Wrong Marks : 0

Arrange the following political parties in such a way that the party formed earlier comes first.

- Telangana Rashtra Samithi
- Telugu Desam Party
- All India Majilis-e-Ittehadul Muslimeen

Options :

- ✓ III – II – I
- ✗ I – II – III
- ✗ II – I – III
- ✗ II – III – I

Question Number : 101 Question Id : 630680221039 Option Shuffling : Yes Is Question Mandatory : No Calculator : None Response Time : N.A Think Time : N.A Minimum Instruction Time : 0

Correct Marks : 1 Wrong Marks : 0

ముందుగా ఏర్పడిన పార్టీలు మొదటగా వచ్చేలా కింది రాజకీయ పార్టీలు ఏర్పడిన క్రమానుసారం వాటిని అమర్చండి.

- తెలంగాణ రాష్ట్ర సమితి
- తెలుగుదేశం పార్టీ
- ఆల్ ఇండియా మజిలీస్-ఇ-ఇత్తెహాదుల్ ముస్లిమీన్

Options :

- ✓ III – II – I
- ✗ I – II – III
- ✗ II – I – III
- ✗ II – III – I

Question Number : 102 Question Id : 630680221040 Option Shuffling : Yes Is Question Mandatory : No Calculator : None Response Time : N.A Think Time : N.A Minimum Instruction Time : 0

Correct Marks : 1 Wrong Marks : 0

Arrange the following in correct chronological order (i.e first to last) according to the year of happening of the given events.

- Bifurcation of the High Court of Judicature at Hyderabad
- Formation of Telangana state
- Formulating a Six-Point Formula to safeguard Telangana's interests

Options :

- ✗ I – III – II
- ✗ II – III – I
- ✓ III – II – I
- ✗ III – I – II

Question Number : 102 Question Id : 630680221040 Option Shuffling : Yes Is Question Mandatory : No Calculator : None Response Time : N.A Think Time : N.A Minimum Instruction Time : 0

Correct Marks : 1 Wrong Marks : 0

ఇచ్చిన సంఘటనలు జరిగిన సంవత్సరం ప్రకారం కింది వాటిని సరైన కాలక్రమానుసారం (అంటే మొదటి నుండి చివరి వరకు)

అమర్చండి.

- I. హైదరాబాదులోని న్యాయవ్యవస్థ యొక్క ఉన్నత న్యాయస్థాన విభజన
- II. తెలంగాణ రాష్ట్రం ఆవిర్భావం
- III. తెలంగాణ ప్రయోజనాలను కాపాడేందుకు ఆరు సూత్రాల పథకాన్ని (సిక్స్ పాయింట్ ఫార్ములా) రూపొందించడం

Options :

1. ✘ I – III - II
2. ✘ II – III – I
3. ✔ III – II – I
4. ✘ III – I – II

Question Number : 103 Question Id : 630680221041 Option Shuffling : Yes Is Question Mandatory : No Calculator : None Response Time : N.A Think Time : N.A Minimum Instruction Time : 0

Correct Marks : 1 Wrong Marks : 0

Which city of Telangana received the 'World Green City 2022' Awards?

Options :

1. ✘ Kukatpally
2. ✘ Mallapur
3. ✘ Shamshabad
4. ✔ Hyderabad

Question Number : 103 Question Id : 630680221041 Option Shuffling : Yes Is Question Mandatory : No Calculator : None Response Time : N.A Think Time : N.A Minimum Instruction Time : 0

Correct Marks : 1 Wrong Marks : 0

'వరల్డ్ గ్రీన్ సిటీ 2022' అవార్డులను తెలంగాణలోని ఏ నగరం అందుకుంది?

Options :

1. ✘ కుకట్పల్లి
2. ✘ మల్లాపూర్
3. ✘ శంషాబాద్
4. ✔ హైదరాబాద్

Question Number : 104 Question Id : 630680221042 Option Shuffling : Yes Is Question Mandatory : No Calculator : None Response Time : N.A Think Time : N.A Minimum Instruction Time : 0

Correct Marks : 1 Wrong Marks : 0

Which of the following statement(s) is/are INCORRECT for the art and culture of Telangana?

- I. Bathukamma is a vibrant, colourful floral festival celebrated with great gusto by the women in Telegana.
- II. Medaram Jatara is a festival celebrated in Telangana to honor the goddesses Sammakka and Saralamma.
- III. Telangana's famous festival Bonalu is celebrated in honor of the Hindu goddess Laxmi.

Options :

1. ✘ I, II and III
2. ✘ I and III
3. ✔ Only III
4. ✘ Only II

Question Number : 104 Question Id : 630680221042 Option Shuffling : Yes Is Question Mandatory : No Calculator : None Response Time : N.A Think Time : N.A Minimum Instruction Time : 0

Correct Marks : 1 Wrong Marks : 0

తెలంగాణ కళలు మరియు సంస్కృతికి సంబంధించి ఈ కింది వాటిలో ఏ ప్రకటన(లు) సరికాదు/వు?

- I. బతుకమ్మ అనేది ఒక ఉత్సాహభరితమైన, రంగురంగుల పూల పండుగ, దీనిని తెలంగాణాలోని మహిళలు ఎంతో ఉత్సాహంగా జరుపుకుంటారు.
- II. తెలంగాణలో సమ్మక్క, సారలమ్మ దేవతలను గౌరవించే పండుగ మేడారం జాతర.
- III. హిందూ దేవత లక్ష్మి గౌరవార్థం జరుపుకొనే తెలంగాణ ప్రసిద్ధ పండుగ బోనాలు.

Options :

1. ✘ I, II మరియు III
2. ✘ I మరియు III
3. ✔ III మాత్రమే
4. ✘ II మాత్రమే

Question Number : 105 Question Id : 630680221043 Option Shuffling : Yes Is Question Mandatory : No Calculator : None Response Time : N.A Think Time : N.A Minimum Instruction Time : 0

Correct Marks : 1 Wrong Marks : 0

Which of the following option is NOT true for Nethanna Ku Bima scheme in Telangana?

- I. It covers handloom and powerloom weavers
- II. It provides for financial insurance of 2.5 Lakh
- III. It was launched by K T Rama Rao

Options :

1. ✘ Only I and II
2. ✔ Only II
3. ✘ Only I and III
4. ✘ Only II and III

Question Number : 105 Question Id : 630680221043 Option Shuffling : Yes Is Question Mandatory : No Calculator : None Response Time : N.A Think Time : N.A Minimum Instruction Time : 0

Correct Marks : 1 Wrong Marks : 0

తెలంగాణలోని నేతన్నకు బీమా పథకానికి సంబంధించి కింది వాటిలో ఏది నిజం కాదు?

- I. ఇది చేనేత మరియు యంత్రపుమగ్గము కార్మికులకు వర్తిస్తుంది
- II. ఇది 2.5 లక్షల ఆర్థిక బీమాను అందిస్తుంది
- III. దీనిని కె.టి. రామారావు ప్రారంభించారు

Options :

1. ✘ I మరియు II మాత్రమే
2. ✔ II మాత్రమే
3. ✘ I మరియు III మాత్రమే
4. ✘ II మరియు III మాత్రమే

Question Number : 106 Question Id : 630680221044 Option Shuffling : Yes Is Question Mandatory : No Calculator : None Response Time : N.A Think Time : N.A Minimum Instruction Time : 0

Correct Marks : 1 Wrong Marks : 0

As a part of social safety net strategy, which department of Telangana government introduced the Aasara pensions with a view to ensure secure life with dignity for the poor?

Options :

1. ✘ Minorities Welfare Department
2. ✘ Health, Medical & Family Welfare Department
3. ✔ Panchayat Raj and Rural Development Department
4. ✘ Women Development, Child Welfare and Disabled Welfare Department

Question Number : 106 Question Id : 630680221044 Option Shuffling : Yes Is Question Mandatory : No Calculator : None Response Time : N.A Think Time : N.A Minimum Instruction Time : 0

Correct Marks : 1 Wrong Marks : 0

సామాజిక భద్రతా నికర వ్యూహంలో భాగంగా, పేదలకు గౌరవప్రదమైన భద్రతా జీవితాన్ని కల్పించాలనే ఉద్దేశ్యంతో తెలంగాణ ప్రభుత్వం యొక్క ఏ శాఖ ఆసరా పంచనలను ప్రవేశపెట్టింది?

Options :

1. ✘ మైనారిటీ సంక్షేమ శాఖ
2. ✘ ఆరోగ్య, వైద్య మరియు కుటుంబ సంక్షేమ శాఖ
3. ✔ పంచాయతీ రాజ్ మరియు గ్రామీణాభివృద్ధి శాఖ
4. ✘ మహిళా అభివృద్ధి, శిశు సంక్షేమం మరియు వికలాంగుల సంక్షేమ శాఖ

Question Number : 107 Question Id : 630680221045 Option Shuffling : Yes Is Question Mandatory : No Calculator : None Response Time : N.A Think Time : N.A Minimum Instruction Time : 0

Correct Marks : 1 Wrong Marks : 0

As per the state-wise ranking on NITI Aayog's Health Index Score (2019-20), Telangana ranked _____ amongst the 19 larger states in terms of the overall performance in 2019-20.

Options :

1. ✔ Third
2. ✘ First
3. ✘ Fifth
4. ✘ Sixth

Question Number : 107 Question Id : 630680221045 Option Shuffling : Yes Is Question Mandatory : No Calculator : None
Response Time : N.A Think Time : N.A Minimum Instruction Time : 0

Correct Marks : 1 Wrong Marks : 0

నీతి (NITI) ఆయోగ్ ఆరోగ్య సూచిక స్కోర్ (2019-20) రాష్ట్రాల వారీగా పొందిన ర్యాంకు ప్రకారం, 2019-20లో మొత్తం పనితీరు పరంగా 19 పెద్ద రాష్ట్రాలలో తెలంగాణ _____ ర్యాంకును పొందింది.

Options :

1. ✓ మూడవ
2. ✗ ప్రథమ
3. ✗ ఐదవ
4. ✗ ఆరవ

Question Number : 108 Question Id : 630680221046 Option Shuffling : Yes Is Question Mandatory : No Calculator : None
Response Time : N.A Think Time : N.A Minimum Instruction Time : 0

Correct Marks : 1 Wrong Marks : 0

During the Nizam era, a regular and efficient judicial system was introduced in Hyderabad State by _____, the Prime Minister of Hyderabad State (1853-83).

Options :

1. ✓ Sir Salar Jung
2. ✗ Mehr Chand Mahajan
3. ✗ Mirza Yar Jung
4. ✗ Mir Ghazi ud-din Siddiq

Question Number : 108 Question Id : 630680221046 Option Shuffling : Yes Is Question Mandatory : No Calculator : None
Response Time : N.A Think Time : N.A Minimum Instruction Time : 0

Correct Marks : 1 Wrong Marks : 0

నిజాం కాలంలో హైదరాబాద్ రాష్ట్ర ప్రధాన మంత్రి (1853-83) _____ ఒక క్రమమైన మరియు సమర్థవంతమైన న్యాయ వ్యవస్థను ప్రవేశపెట్టారు.

Options :

1. ✓ సర్ సాలార్ జంగ్
2. ✗ మెహర్ చంద్ మహాజన్
3. ✗ మీర్జా యార్ జంగ్
4. ✗ మీర్ ఘాజీ ఉద్-దీన్ సిద్దిక్

Question Number : 109 Question Id : 630680221047 Option Shuffling : Yes Is Question Mandatory : No Calculator : None
Response Time : N.A Think Time : N.A Minimum Instruction Time : 0

Correct Marks : 1 Wrong Marks : 0

Who among the following wrote the book named October Coup?

Options :

1. ✗ Osman Ali
2. ✗ Qasim Razvi
3. ✓ Mohammed Hyder
4. ✗ Vallabh Bhai Patel

Question Number : 109 Question Id : 630680221047 Option Shuffling : Yes Is Question Mandatory : No Calculator : None
Response Time : N.A Think Time : N.A Minimum Instruction Time : 0

Correct Marks : 1 Wrong Marks : 0

అక్టోబర్ విప్లవం అనే పుస్తకాన్ని కింది వారిలో ఎవరు రాశారు?

Options :

1. ✗ ఉస్మాన్ అలీ
2. ✗ ఖాసిమ్ రజ్వీ
3. ✓ మహమ్మద్ హైదర్
4. ✗ వల్లభాయ్ పటేల్

Question Number : 110 Question Id : 630680221048 Option Shuffling : Yes Is Question Mandatory : No Calculator : None
Response Time : N.A Think Time : N.A Minimum Instruction Time : 0

Correct Marks : 1 Wrong Marks : 0

An ancient art form popular among the _____ of Telangana is Chindu Bhagavatham, performed in temples and other religious festivals.

Options :

1. ✘ Bodo sect
2. ✔ Madiga sect
3. ✘ Ghasiya sect
4. ✘ Nayadi sect

Question Number : 110 Question Id : 630680221048 Option Shuffling : Yes Is Question Mandatory : No Calculator : None Response Time : N.A Think Time : N.A Minimum Instruction Time : 0

Correct Marks : 1 Wrong Marks : 0

తెలంగాణలోని _____ లో ప్రసిద్ధి చెందిన పురాతన కళారూపం చిందు భాగవతం, దేవాలయాలు మరియు ఇతర మతపరమైన పండుగలలో ప్రదర్శించబడుతుంది.

Options :

1. ✘ బోడో వర్గం
2. ✔ మాదిగ వర్గం
3. ✘ ఘాసియా వర్గం
4. ✘ నయాది వర్గం

Question Number : 111 Question Id : 630680221049 Option Shuffling : Yes Is Question Mandatory : No Calculator : None Response Time : N.A Think Time : N.A Minimum Instruction Time : 0

Correct Marks : 1 Wrong Marks : 0

Six friends are sitting around a circular table facing the centre. Sonam is between Subham and Suresh. Sania is between Sameer and Subhash. Suresh is sitting to the immediate right of Sameer.

Which of the following statements are true based on the above conditions?

- A) Subhash is sitting to the immediate right of Subham.
- B) Sania is to the immediate left of Sameer.

Options :

1. ✘ A only
2. ✘ B only
3. ✔ Both A and B
4. ✘ Neither A nor B

Question Number : 111 Question Id : 630680221049 Option Shuffling : Yes Is Question Mandatory : No Calculator : None Response Time : N.A Think Time : N.A Minimum Instruction Time : 0

Correct Marks : 1 Wrong Marks : 0

ఆరుగురు స్నేహితులు ఒక వృత్తాకార బల్ల చుట్టూ కేంద్రాభిముఖంగా కూర్చున్నారు. సుభమ్ మరియు సురేష్ ల మధ్య సోనమ్ ఉన్నారు. సమీర్ మరియు సుభాష్ ల మధ్య సానియా ఉన్నారు. సమీర్ కి తక్షణ కుడి వైపున సురేష్ కూర్చున్నారు. పై పరతుల ఆధారంగా కింది వాక్యాలలో ఏది నిజం?

- A) సుభమ్ కు తక్షణ కుడి వైపున సుభాష్ కూర్చున్నాడు.
- B) సమీర్ కు తక్షణ ఎడమ వైపున సానియా ఉంది.

Options :

1. ✘ A మాత్రమే
2. ✘ B మాత్రమే
3. ✔ A మరియు B రెండూ
4. ✘ A కానీ లేదా B కానీ ఏదీ కాదు

Question Number : 112 Question Id : 630680221050 Option Shuffling : Yes Is Question Mandatory : No Calculator : None Response Time : N.A Think Time : N.A Minimum Instruction Time : 0

Correct Marks : 1 Wrong Marks : 0

Seven friends, Sayed, Asim, Bilal, Danish, Faisal, Junaid, and Hamid are sitting in a straight row facing North. Bilal is sitting second left to Danish. Danish is sitting third left to Hamid. Bilal and Sayed are not sitting at either end of the row. Faisal is the immediate neighbour of Junaid. Junaid is sitting second left from the right corner.

Which of the following statements are true based on the above conditions?

- A) Asim is sitting to the immediate left of Bilal.
- B) Danish is sitting to the immediate left of Sayed.
- C) Hamid is sitting at the right corner.

Options :

1. ✘ A only
2. ✘ B only
3. ✔ A and C

4. ✖ A and B

Question Number : 112 Question Id : 630680221050 Option Shuffling : Yes Is Question Mandatory : No Calculator : None Response Time : N.A Think Time : N.A Minimum Instruction Time : 0

Correct Marks : 1 Wrong Marks : 0

సయ్యద్, అసిమ్, బిలాల్, డానిష్, ఫైసల్, జునైద్ మరియు హమీద్ అను ఏడుగురు స్నేహితులు ఒక వరుసలో ఉత్తరాభిముఖంగా కూర్చున్నారు.

డానిష్కు ఎడమ వైపు రెండవ స్థానంలో బిలాల్ కూర్చున్నారు. హమీద్కు ఎడమ వైపు మూడవ స్థానంలో డానిష్ కూర్చున్నారు. బిలాల్ మరియు సయ్యద్ వరుస యొక్క ఈ చివరలో కానీ ఆ చివరలో కానీ కూర్చోలేదు. జునైద్ యొక్క తక్షణ పొరుగు వ్యక్తి ఫైసల్. కుడి చివరి నుండి రెండవ స్థానంలో జునైద్ కూర్చున్నారు.

పై పరతుల ఆధారంగా కింది వాక్యాలలో ఏది నిజం?

- బిలాల్కు తక్షణ ఎడమ వైపు అసిమ్ కూర్చున్నారు.
- సయ్యద్కి తక్షణ ఎడమ వైపు డానిష్ కూర్చున్నారు
- కుడి చివరిలో హమీద్ కూర్చున్నారు.

Options :

- ✖ A మాత్రమే
- ✖ B మాత్రమే
- ✔ A మరియు C
- ✖ A మరియు B

Question Number : 113 Question Id : 630680221051 Option Shuffling : Yes Is Question Mandatory : No Calculator : None Response Time : N.A Think Time : N.A Minimum Instruction Time : 0

Correct Marks : 1 Wrong Marks : 0

Seema's rank in a class test was 10th from the top and 25th from the bottom. Find the total number of students who appeared for the test assuming all students passed the test.

Options :

- ✖ 35
- ✔ 34
- ✖ 33
- ✖ 36

Question Number : 113 Question Id : 630680221051 Option Shuffling : Yes Is Question Mandatory : No Calculator : None Response Time : N.A Think Time : N.A Minimum Instruction Time : 0

Correct Marks : 1 Wrong Marks : 0

ఒక తరగతి పరీక్షలో సీమా ఎగువ నుండి 10వ ర్యాంకు మరియు దిగువ నుండి 25వ ర్యాంకును సాధించింది. విద్యార్థులందరూ పరీక్షలో ఉత్తీర్ణత సాధించారని భావించి పరీక్షకు హాజరైన మొత్తం విద్యార్థుల సంఖ్యను కనుగొనండి.

Options :

- ✖ 35
- ✔ 34
- ✖ 33
- ✖ 36

Question Number : 114 Question Id : 630680221052 Option Shuffling : Yes Is Question Mandatory : No Calculator : None Response Time : N.A Think Time : N.A Minimum Instruction Time : 0

Correct Marks : 1 Wrong Marks : 0

If yesterday was Saturday, what day will fall on the day after tomorrow?

Options :

- ✔ Tuesday
- ✖ Wednesday
- ✖ Monday
- ✖ Thursday

Question Number : 114 Question Id : 630680221052 Option Shuffling : Yes Is Question Mandatory : No Calculator : None Response Time : N.A Think Time : N.A Minimum Instruction Time : 0

Correct Marks : 1 Wrong Marks : 0

ఒకవేళ నిన్న శనివారం అయినట్లైతే, ఎల్లుండి ఏ రోజు వస్తుంది?

Options :

- ✔ మంగళవారం

2. ✖ బుధవారం
3. ✖ సోమవారం
4. ✖ గురువారం

Question Number : 115 Question Id : 630680221053 Option Shuffling : Yes Is Question Mandatory : No Calculator : None Response Time : N.A Think Time : N.A Minimum Instruction Time : 0

Correct Marks : 1 Wrong Marks : 0

Sourav correctly remembers that Subham's birthday is before Saturday but after Wednesday. Sashi correctly remembers that Subham's birthday is after Thursday but before Sunday. On which of the following days does Subham's birthday fall?

Options :

1. ✖ Saturday
2. ✔ Friday
3. ✖ Thursday
4. ✖ Sunday

Question Number : 115 Question Id : 630680221053 Option Shuffling : Yes Is Question Mandatory : No Calculator : None Response Time : N.A Think Time : N.A Minimum Instruction Time : 0

Correct Marks : 1 Wrong Marks : 0

సుభమ్ పుట్టినరోజు శనివారం ముందు కానీ బుధవారం తర్వాత అని సౌరవ్ సరిగ్గా గుర్తుపెట్టుకున్నాడు. శుభం పుట్టినరోజు గురువారం తర్వాత కానీ ఆదివారం ముందు అని శశి సరిగ్గా గుర్తుపెట్టుకున్నాడు. కింది ఏ రోజున సుభమ్ పుట్టినరోజు వస్తుంది?

Options :

1. ✖ శనివారం
2. ✔ శుక్రవారం
3. ✖ గురువారం
4. ✖ ఆదివారం

Question Number : 116 Question Id : 630680221054 Option Shuffling : Yes Is Question Mandatory : No Calculator : None Response Time : N.A Think Time : N.A Minimum Instruction Time : 0

Correct Marks : 1 Wrong Marks : 0

Read the given statements and conclusions carefully. Assuming that the information given in the statements is true, even if it appears to be at variance with commonly known facts, decide which of the given conclusions logically follow(s) from the statements.

Statement I: No lotus are lilies.

Statement II: No lilies are roses.

Conclusion I: No lotus is a rose.

Conclusion II: Some lotus are roses.

Options :

1. ✖ Only I follows
2. ✖ Only II follows
3. ✔ Either I or II follows
4. ✖ Neither I nor II follows

Question Number : 116 Question Id : 630680221054 Option Shuffling : Yes Is Question Mandatory : No Calculator : None Response Time : N.A Think Time : N.A Minimum Instruction Time : 0 Negative Marks Display Text : 0.0

Correct Marks : 1 Wrong Marks : 0

ఇచ్చిన ప్రకటనలు మరియు తీర్మానాలను జాగ్రత్తగా చదవండి. సాధారణంగా తెలిసిన వాస్తవాలకు భిన్నంగా కనిపిస్తున్నప్పటికీ ప్రకటనలలో ఇవ్వబడిన సమాచారాన్ని నిజమని భావిస్తూ ఇచ్చిన ప్రకటనలను ఏ తీర్మానాలు తార్కికంగా అనుసరిస్తాయో నిర్ణయించండి.

ప్రకటన I: తామరలు ఏవీ లిల్లీలు కావు.

ప్రకటన II: లిల్లీలు ఏవీ గులాబీలు కాదు.

తీర్మానం I: తామర ఏదీ గులాబీ కాదు.

తీర్మానం II: కొన్ని తామరలు గులాబీలు.

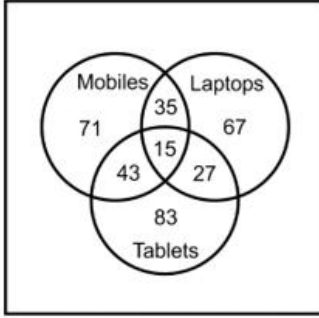
Options :

1. ✖ I మాత్రమే అనుసరిస్తుంది
2. ✖ II మాత్రమే అనుసరిస్తుంది
3. ✔ I లేదా II అనుసరిస్తుంది
4. ✖ I కానీ లేదా II కానీ ఏదీ అనుసరించదు

Question Number : 117 Question Id : 630680221055 Option Shuffling : Yes Is Question Mandatory : No Calculator : None
Response Time : N.A Think Time : N.A Minimum Instruction Time : 0

Correct Marks : 1 Wrong Marks : 0

The following Venn diagram shows the number of people using different devices in a city. Find the number of people who use only 1 device.



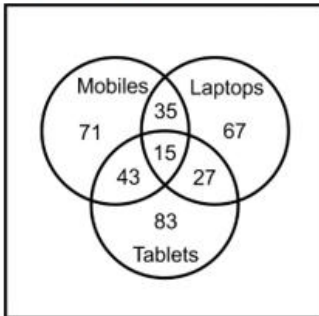
Options :

1. ✘ 236
2. ✔ 221
3. ✘ 206
4. ✘ 105

Question Number : 117 Question Id : 630680221055 Option Shuffling : Yes Is Question Mandatory : No Calculator : None
Response Time : N.A Think Time : N.A Minimum Instruction Time : 0

Correct Marks : 1 Wrong Marks : 0

కింది వేన్ చిత్రం నగరంలో వివిధ పరికరాలను ఉపయోగిస్తున్న వ్యక్తుల సంఖ్యను సూచిస్తుంది. 1 పరికరాన్ని మాత్రమే ఉపయోగించే వ్యక్తుల సంఖ్యను కనుగొనండి.



Mobiles - చరవాణులు, Laptops - ల్యాప్టాప్లు, Tablets - టాబ్లెట్లు

Options :

1. ✘ 236
2. ✔ 221
3. ✘ 206
4. ✘ 105

Question Number : 118 Question Id : 630680221056 Option Shuffling : Yes Is Question Mandatory : No Calculator : None
Response Time : N.A Think Time : N.A Minimum Instruction Time : 0

Correct Marks : 1 Wrong Marks : 0

How many 5's are there followed by 6 but not preceded by 4?

3 5 3 2 1 7 4 5 6 9 7 5 6 1 3 2 8 7 5 1 3 8 3 2 5 6 7 4 5 5 5 6 2 0 4 5 4 4 6 3

Options :

1. ✔ 3
2. ✘ 2
3. ✘ 1
4. ✘ 4

Question Number : 118 Question Id : 630680221056 Option Shuffling : Yes Is Question Mandatory : No Calculator : None
Response Time : N.A Think Time : N.A Minimum Instruction Time : 0

Correct Marks : 1 Wrong Marks : 0

6 కి తర్వాత ఉండి, కానీ 4కి ముందు లేని 5లు ఎన్ని కలవు?

3 5 3 2 1 7 4 5 6 9 7 5 6 1 3 2 8 7 5 1 3 8 3 2 5 6 7 4 5 5 5 6 2 0 4 5 4 4 6 3

Options :

1. ✓ 3
2. ✗ 2
3. ✗ 1
4. ✗ 4

Question Number : 119 Question Id : 630680221057 Option Shuffling : Yes Is Question Mandatory : No Calculator : None Response Time : N.A Think Time : N.A Minimum Instruction Time : 0

Correct Marks : 1 Wrong Marks : 0

Marks obtained by the six students of a class, M, N, O, P, Q, and R are mentioned. M scored more than Q but less than N. P scored more than O who scored more than R. R scored the least.

Which of the following options shows descending order of their marks?

Options :

1. ✗ $N > M > P > Q > O > R$
2. ✗ $N > Q > M > P > O > R$
3. ✓ $N > M > Q > P > O > R$
4. ✗ $N > M > Q > P > R > O$

Question Number : 119 Question Id : 630680221057 Option Shuffling : Yes Is Question Mandatory : No Calculator : None Response Time : N.A Think Time : N.A Minimum Instruction Time : 0

Correct Marks : 1 Wrong Marks : 0

M, N, O, P, Q మరియు R అను ఒక తరగతిలోని ఆరుగురు విద్యార్థులు సాధించిన మార్కులు ఇవ్వబడ్డాయి. M అను విద్యార్థి Q కంటే ఎక్కువ కానీ N కంటే తక్కువ మార్కులను సాధించారు. P అను విద్యార్థి R కంటే ఎక్కువ మార్కులను సాధించిన O కంటే ఎక్కువ మార్కులను సాధించారు. R అతి తక్కువ మార్కులను సాధించారు. కింది ఏ ఎంపిక వారి మార్కుల అవరోహణ క్రమాన్ని చూపుతుంది?

Options :

1. ✗ $N > M > P > Q > O > R$
2. ✗ $N > Q > M > P > O > R$
3. ✓ $N > M > Q > P > O > R$
4. ✗ $N > M > Q > P > R > O$

Question Number : 120 Question Id : 630680221058 Option Shuffling : Yes Is Question Mandatory : No Calculator : None Response Time : N.A Think Time : N.A Minimum Instruction Time : 0

Correct Marks : 1 Wrong Marks : 0

Among seven friends X, Y, Z, A, B, C and D; Y is elder than only four other friends. Z is elder than A. X is elder than C. B is elder than one person only that is D who is the youngest among all friends. Y is elder than X.

Which of the following statements are true based on the above conditions?

- A) Z is the eldest friend.
- B) Y is the second eldest friend.
- C) A is not the youngest friend.

Options :

1. ✗ A only
2. ✗ B only
3. ✓ A and C
4. ✗ A and B

Question Number : 120 Question Id : 630680221058 Option Shuffling : Yes Is Question Mandatory : No Calculator : None Response Time : N.A Think Time : N.A Minimum Instruction Time : 0

Correct Marks : 1 Wrong Marks : 0

X, Y, Z, A, B, C మరియు D అను ఏడుగురు స్నేహితులలో; ఇతర నలుగురు స్నేహితుల కంటే Y పెద్దవారు. A కంటే Z పెద్దవారు. C కంటే X పెద్దవారు. స్నేహితులందరిలో చిన్నవారైనా D కంటే మాత్రమే B పెద్దవారు. X కంటే Y పెద్దవారు.

పై షరతుల ఆధారంగా కింది ప్రకటనలలో ఏది నిజం?

- A) Z అందరికన్నా పెద్ద స్నేహితుడు.
- B) Y రెండవ పెద్ద స్నేహితుడు.
- C) A అందరికన్నా చిన్న స్నేహితుడు కాదు.

Options :

1. ✘ A మాత్రమే
2. ✘ B మాత్రమే
3. ✔ A మరియు C
4. ✘ A మరియు B

Question Number : 121 Question Id : 630680221059 Option Shuffling : Yes Is Question Mandatory : No Calculator : None
Response Time : N.A Think Time : N.A Minimum Instruction Time : 0

Correct Marks : 1 Wrong Marks : 0

In a certain code language, 'TRAIN' is written as '57', 'PANTHER' is written as '75'.

Based on the given coding, match the following:

WORD	CODE
A. CAMERA	1. 42
B. LAMINATE	2. 38
C. SICK	3. 67
D. DOVE	4. 35

Options :

1. ✘ A-1; B-3; C-2; D-4
2. ✘ A-3; B-4; C-2; D-1
3. ✔ A-4; B-3; C-2; D-1
4. ✘ A-4; B-2; C-3; D-1

Question Number : 121 Question Id : 630680221059 Option Shuffling : Yes Is Question Mandatory : No Calculator : None
Response Time : N.A Think Time : N.A Minimum Instruction Time : 0

Correct Marks : 1 Wrong Marks : 0

ఒక నిర్దిష్ట కోడ్ భాషలో, 'TRAIN'ని 57 అని, 'PANTHER'ని 75 అని వ్రాస్తారు.

ఇచ్చిన కోడ్ ఆధారంగా, కింది వాటిని జత పరచండి:

పదం	కోడు
A. CAMERA	1. 42
B. LAMINATE	2. 38
C. SICK	3. 67
D. DOVE	4. 35

Options :

1. ✘ A-1; B-3; C-2; D-4
2. ✘ A-3; B-4; C-2; D-1
3. ✔ A-4; B-3; C-2; D-1
4. ✘ A-4; B-2; C-3; D-1

Question Number : 122 Question Id : 630680221060 Option Shuffling : Yes Is Question Mandatory : No Calculator : None
Response Time : N.A Think Time : N.A Minimum Instruction Time : 0

Correct Marks : 1 Wrong Marks : 0

In a certain code language, '137' is written as 'belts are shining', '478' is written as 'shining stars revolve', and '819' is written as 'planets are round'. What is the code for the word 'are' in that language?

Options :

1. ✔ 1
2. ✘ 3
3. ✘ 8
4. ✘ 9

Question Number : 122 Question Id : 630680221060 Option Shuffling : Yes Is Question Mandatory : No Calculator : None
Response Time : N.A Think Time : N.A Minimum Instruction Time : 0

Correct Marks : 1 Wrong Marks : 0

ఒక నిర్దిష్ట కోడ్ భాషలో, '137'ని 'belts are shining' అని, '478'ని 'shining stars revolve' అని మరియు '819'ని 'planets are round' అని వ్రాస్తారు. ఆ భాషలో 'are' అనే పదానికి కోడ్ ఏమిటి?

Options :

1. ✓ 1
2. ✗ 3
3. ✗ 8
4. ✗ 9

Question Number : 123 Question Id : 630680221061 Option Shuffling : Yes Is Question Mandatory : No Calculator : None Response Time : N.A Think Time : N.A Minimum Instruction Time : 0

Correct Marks : 1 Wrong Marks : 0

Dev walks 30 km towards the South. He turns left and walks 50 km. He again turns left and walks 30 km. Finally, he moves 30 km after turning to the left. How far is he from his starting position?

Options :

1. ✗ 50 km
2. ✗ 70 km
3. ✓ 20 km
4. ✗ 40 km

Question Number : 123 Question Id : 630680221061 Option Shuffling : Yes Is Question Mandatory : No Calculator : None Response Time : N.A Think Time : N.A Minimum Instruction Time : 0

Correct Marks : 1 Wrong Marks : 0

దేవ్ అను వ్యక్తి దక్షిణం వైపు 30 km నడిచాడు. అతను ఎడమ వైపు తిరిగి 50 km నడిచాడు. అతను మళ్ళీ ఎడమ వైపుకు తిరిగి 30 km నడిచాడు. చివరగా, అతను ఎడమ వైపుకు తిరిగిన తర్వాత 30 km నడిచాడు. ప్రారంభ స్థానం నుండి అతను ఎంత దూరంలో ఉన్నాడు?

Options :

1. ✗ 50 km
2. ✗ 70 km
3. ✓ 20 km
4. ✗ 40 km

Question Number : 124 Question Id : 630680221062 Option Shuffling : Yes Is Question Mandatory : No Calculator : None Response Time : N.A Think Time : N.A Minimum Instruction Time : 0

Correct Marks : 1 Wrong Marks : 0

Select the option that is related to the fifth letter-cluster in the same way as the second letter-cluster is related to the first letter-cluster and the fourth letter-cluster is related to the third letter-cluster.

ISIS : IRIR :: STIR : ISSQ :: TILL : ?

Options :

1. ✗ LHTJ
2. ✓ LHTK
3. ✗ LTHJ
4. ✗ LTKH

Question Number : 124 Question Id : 630680221062 Option Shuffling : Yes Is Question Mandatory : No Calculator : None Response Time : N.A Think Time : N.A Minimum Instruction Time : 0

Correct Marks : 1 Wrong Marks : 0

రెండవ అక్షర-సమూహం మొదటి అక్షర-సమూహానికి సంబంధించిన విధంగా మరియు నాల్గవ అక్షర-సమూహం మూడవ అక్షర-సమూహానికి సంబంధించిన విధంగా ఐదవ అక్షర-సమూహానికి సంబంధించిన విధంగా ఎంపికను ఎంచుకోండి.

ISIS : IRIR :: STIR : ISSQ :: TILL : ?

Options :

1. ✗ LHTJ
2. ✓ LHTK
3. ✗ LTHJ
4. ✗ LTKH

Question Number : 125 Question Id : 630680221063 Option Shuffling : Yes Is Question Mandatory : No Calculator : None Response Time : N.A Think Time : N.A Minimum Instruction Time : 0

Correct Marks : 1 Wrong Marks : 0

Consider the following pairs and choose the pair which matches the given relation.

Profession Instrument

- A. Doctor : Stethoscope
B. Professor : Anvil
C. Judge : Gavel
D. Blacksmith : Hammer

Options :

1. ✘ A, B and C
2. ✔ A, C and D
3. ✘ A only
4. ✘ D only

Question Number : 125 Question Id : 630680221063 Option Shuffling : Yes Is Question Mandatory : No Calculator : None Response Time : N.A Think Time : N.A Minimum Instruction Time : 0

Correct Marks : 1 Wrong Marks : 0

ఈ క్రింది జతలను పరిగణించి ఇచ్చిన సంబంధానికి సరిపోయే జతను ఎంచుకోండి.

వృత్తి : పరికరం

- A. వైద్యుడు : స్టెథోస్కోప్
B. ఆచార్యుడు : డాగలి
C. న్యాయమూర్తి : గావెల్
D. కమ్మరి : సుత్తి

Options :

1. ✘ A, B మరియు C
2. ✔ A, C మరియు D
3. ✘ A మాత్రమే
4. ✘ D మాత్రమే

Question Number : 126 Question Id : 630680221064 Option Shuffling : Yes Is Question Mandatory : No Calculator : None Response Time : N.A Think Time : N.A Minimum Instruction Time : 0

Correct Marks : 1 Wrong Marks : 0

The question below consists of a question and two statements numbered I and II given below it. You have to decide whether the data provided in the statements are sufficient to answer the question. Read both statements and answer.

Question: What will be the day on 1st February 2025?

Statement I: 31st December 2024 will be a Sunday.

Statement II: Independence Day and Raksha Bandhan will fall on the same day in year 2025.

Options :

1. ✔ I alone is sufficient while II alone is not sufficient
2. ✘ II alone is sufficient while I alone is not sufficient
3. ✘ Both I and II together are sufficient
4. ✘ Neither I nor II is sufficient

Question Number : 126 Question Id : 630680221064 Option Shuffling : Yes Is Question Mandatory : No Calculator : None Response Time : N.A Think Time : N.A Minimum Instruction Time : 0

Correct Marks : 1 Wrong Marks : 0

ఈ ప్రశ్నలో ఒక ప్రశ్న మరియు దాని క్రింద I మరియు II అను రెండు సంఖ్యలతో రెండు ప్రకటనలు ఇవ్వబడ్డాయి. ప్రశ్నకు తగిన సమాధానం ఇవ్వడానికి ప్రకటనలలో ఇచ్చిన సమాచారం సరిపోతుందో లేదో మీరు నిర్ణయించాలి. రెండు ప్రకటనలను చదివి సమాధానం ఇవ్వండి.

ప్రశ్న: 1 ఫిబ్రవరి 2025న వచ్చే రోజు ఏది?

ప్రకటన I: 31 డిసెంబర్ 2024 ఆదివారం అవుతుంది.

ప్రకటన II: 2025 సంవత్సరంలో స్వాతంత్ర్య దినోత్సవం మరియు రాఖీ పౌర్ణమి ఒకే రోజున వస్తాయి.

Options :

1. ✔ I మాత్రమే సరిపోతుంది అయితే II మాత్రమే సరిపోదు
2. ✘ II మాత్రమే సరిపోతుంది అయితే I మాత్రమే సరిపోదు
3. ✘ I మరియు II రెండూ కలిసి సరిపోతాయి

4. ✖ I కానీ లేదా II కానీ ఏదీ సరిపోదు

Question Number : 127 Question Id : 630680221065 Option Shuffling : Yes Is Question Mandatory : No Calculator : None Response Time : N.A Think Time : N.A Minimum Instruction Time : 0

Correct Marks : 1 Wrong Marks : 0

The question below consists of a question and two statements numbered I and II given below it. You have to decide whether the data provided in the statements are sufficient to answer the question. Read both statements and answer.

Question: Five cousins are sitting in a column. Who sits in the middle?

Statement I: Nasim sits exactly in between Sahid and Mustafa.

Statement II: Iman and Imad occupy extreme positions.

Options :

1. ✖ I alone is sufficient while II alone is not sufficient
2. ✖ II alone is sufficient while I alone is not sufficient
3. ✔ Both I and II together are sufficient
4. ✖ Neither I nor II is sufficient

Question Number : 127 Question Id : 630680221065 Option Shuffling : Yes Is Question Mandatory : No Calculator : None Response Time : N.A Think Time : N.A Minimum Instruction Time : 0

Correct Marks : 1 Wrong Marks : 0

ఈ ప్రశ్నలో ఒక ప్రశ్న మరియు దాని క్రింద I మరియు II అను రెండు సంఖ్యలతో రెండు ప్రకటనలు ఇవ్వబడ్డాయి. ప్రశ్నకు తగిన సమాధానం ఇవ్వడానికి ప్రకటనలలో ఇచ్చిన సమాచారం సరిపోతుందో లేదో మీరు నిర్ణయించాలి. రెండు ప్రకటనలను చదివి సమాధానం ఇవ్వండి.

ప్రశ్న: ఒక వరుసలో ఐదుగురు సోదరులు(కజిన్స్) కూర్చున్నారు. మధ్యలో కూర్చున్నది ఎవరు?

ప్రకటన I: సరిగ్గా సాహిద్ మరియు ముస్తఫాల మధ్య నసిమ్ కూర్చున్నాడు.

ప్రకటన II: ఇమాన్ మరియు ఇమాద్ లు అత్యంత చివరులలో ఉన్నారు.

Options :

1. ✖ I మాత్రమే సరిపోతుంది అయితే II మాత్రమే సరిపోదు
2. ✖ II మాత్రమే సరిపోతుంది అయితే I మాత్రమే సరిపోదు
3. ✔ I మరియు II రెండూ కలిసి సరిపోతాయి
4. ✖ I కానీ లేదా II కానీ ఏదీ సరిపోదు

Question Number : 128 Question Id : 630680221066 Option Shuffling : Yes Is Question Mandatory : No Calculator : None Response Time : N.A Think Time : N.A Minimum Instruction Time : 0 Negative Marks Display Text : 0.0

Correct Marks : 1 Wrong Marks : 0

In this question, a statement has been given followed by two courses of action numbered I and II. Assuming that all information in the statement is true, analyse the actions together and determine whether any of them logically and definitely follow(s) from the information given in the statement.

Statement: The sales of mobile X of company Y have reduced considerably causing great concerns to the company.

Courses of Action:

(I) Company Y should immediately shut down all processes related to product X.

(II) Company Y should analyse the market scenario and make a proper study of the rival products already existing in the market.

Options :

1. ✖ Only I follows
2. ✔ Only II follows
3. ✖ Both I and II follows
4. ✖ Neither I nor II follows

Question Number : 128 Question Id : 630680221066 Option Shuffling : Yes Is Question Mandatory : No Calculator : None Response Time : N.A Think Time : N.A Minimum Instruction Time : 0 Negative Marks Display Text : 0.0

Correct Marks : 1 Wrong Marks : 0

ఈ ప్రశ్నలో, I మరియు II సంఖ్యలతో కూడిన రెండు చర్యలతో ఒక ప్రకటన ఇవ్వబడింది. ప్రకటనలలోని మొత్తం సమాచారం నిజమని భావించి, చర్యలను కలిసి విశ్లేషించండి మరియు ప్రకటనలో ఇచ్చిన సమాచారం నుండి వాటిలో ఏదైనా తార్కికంగా మరియు ఖచ్చితంగా అనుసరిస్తుందో/ స్టామో నిర్ణయించండి.

ప్రకటన: సంస్థ Y యొక్క చరవాణి X అమ్మకాలు గణనీయంగా తగ్గడం సంస్థకి తీవ్ర ఆందోళన కలిగిస్తోంది.

చర్యల క్రమము:

(I) సంస్థ Y తక్షణమే ఉత్పత్తి Xకి సంబంధించిన అన్ని ప్రక్రియలను ఆపివేయాలి.

(II) సంస్థ Y మార్కెట్ పోకడలను విశ్లేషించి, మార్కెట్లో ఇప్పటికే ఉన్న ప్రత్యర్థి ఉత్పత్తుల గురించి సరైన అధ్యయనం చేయాలి.

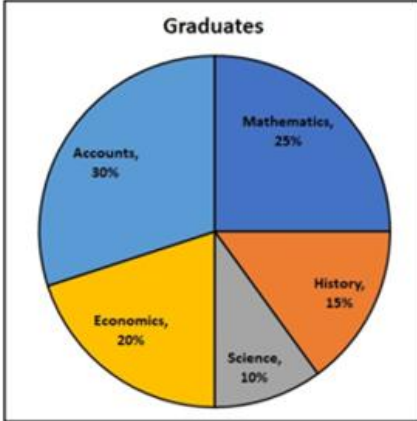
Options :

1. ✘ I మాత్రమే అనుసరిస్తుంది
2. ✔ II మాత్రమే అనుసరిస్తుంది
3. ✘ I మరియు II రెండూ అనుసరిస్తాయి
4. ✘ I కానీ లేదా II కానీ ఏదీ అనుసరించదు

Question Number : 129 Question Id : 630680221067 Option Shuffling : Yes Is Question Mandatory : No Calculator : None Response Time : N.A Think Time : N.A Minimum Instruction Time : 0

Correct Marks : 1 Wrong Marks : 0

The following pie chart shows the number of graduates from XYZ University in different subjects. If the total number of graduates were 45,000, then find the difference between Mathematics and History graduates.



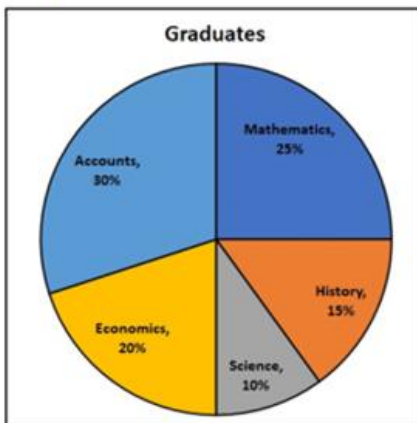
Options :

1. ✘ 5400
2. ✔ 4500
3. ✘ 6000
4. ✘ 5500

Question Number : 129 Question Id : 630680221067 Option Shuffling : Yes Is Question Mandatory : No Calculator : None Response Time : N.A Think Time : N.A Minimum Instruction Time : 0

Correct Marks : 1 Wrong Marks : 0

ఈ క్రింది పై చార్టు XYZ విశ్వవిద్యాలయం నుండి వివిధ పాఠ్యాంశములలో పట్టబడ్డల సంఖ్యను సూచిస్తుంది. మొత్తం పట్టబడ్డల సంఖ్య 45,000 అయితే, గణితం మరియు చరిత్ర పట్టబడ్డల మధ్య వ్యత్యాసాన్ని కనుగొనండి.



Graduates - పట్టబడ్డలు, Accounts - అకౌంట్స్, Mathematics - గణితం, History - చరిత్ర, Science - విజ్ఞానశాస్త్రం, Economics - ఆర్థిక శాస్త్రం

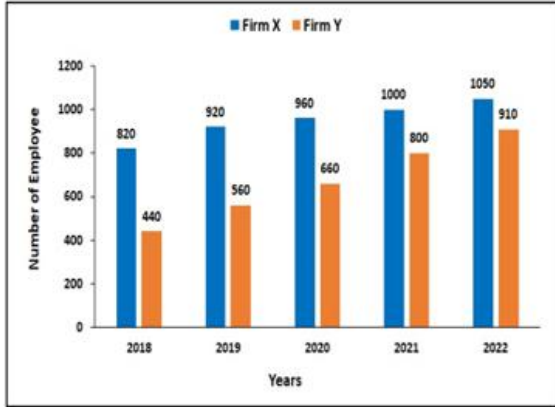
Options :

1. ✘ 5400
2. ✔ 4500
3. ✘ 6000
4. ✘ 5500

Question Number : 130 Question Id : 630680221068 Option Shuffling : Yes Is Question Mandatory : No Calculator : None
Response Time : N.A Think Time : N.A Minimum Instruction Time : 0

Correct Marks : 1 Wrong Marks : 0

The following bar graph shows the number of employees in Firm X and Firm Y in 5 years. Find the total number of employees in Firm X and Firm Y in 2018 and 2019.



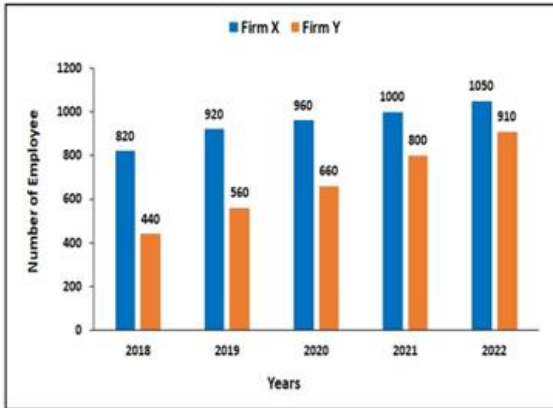
Options :

1. ✘ 2860
2. ✘ 3210
3. ✔ 2740
4. ✘ 2820

Question Number : 130 Question Id : 630680221068 Option Shuffling : Yes Is Question Mandatory : No Calculator : None
Response Time : N.A Think Time : N.A Minimum Instruction Time : 0

Correct Marks : 1 Wrong Marks : 0

కింది కమ్మీ రేఖా చిత్రము 5 సంవత్సరాలలో సంస్థ X మరియు సంస్థ Yలోని ఉద్యోగుల సంఖ్యను సూచిస్తుంది. 2018 మరియు 2019లో సంస్థ X మరియు సంస్థ Yలోని మొత్తం ఉద్యోగుల సంఖ్యను కనుగొనండి.



Firm X - సంస్థ X, Firm Y - సంస్థ Y, Number of Employee - ఉద్యోగుల సంఖ్య, Years : సంవత్సరములు

Options :

1. ✘ 2860
2. ✘ 3210
3. ✔ 2740
4. ✘ 2820

Question Number : 131 Question Id : 630680221069 Option Shuffling : Yes Is Question Mandatory : No Calculator : None
Response Time : N.A Think Time : N.A Minimum Instruction Time : 0

Correct Marks : 1 Wrong Marks : 0

Select the most appropriate option to fill in the blank.

She was _____ only child who had been very welcome.

Options :

1. ✘ an
2. ✘ a
3. ✔ the

4. ✘ No article

Question Number : 131 Question Id : 630680221069 Option Shuffling : Yes Is Question Mandatory : No Calculator : None Response Time : N.A Think Time : N.A Minimum Instruction Time : 0

Correct Marks : 1 Wrong Marks : 0

Select the most appropriate option to fill in the blank.

She was _____ only child who had been very welcome.

Options :

1. ✘ an
2. ✘ a
3. ✔ the
4. ✘ No article

Question Number : 132 Question Id : 630680221070 Option Shuffling : Yes Is Question Mandatory : No Calculator : None Response Time : N.A Think Time : N.A Minimum Instruction Time : 0

Correct Marks : 1 Wrong Marks : 0

Select the most appropriate option to fill in the blank.

One of _____ most appealing things about Leena was her _____ confidence.

Options :

1. ✘ the, a
2. ✘ a, an
3. ✔ the, no article
4. ✘ no article, the

Question Number : 132 Question Id : 630680221070 Option Shuffling : Yes Is Question Mandatory : No Calculator : None Response Time : N.A Think Time : N.A Minimum Instruction Time : 0

Correct Marks : 1 Wrong Marks : 0

Select the most appropriate option to fill in the blank.

One of _____ most appealing things about Leena was her _____ confidence.

Options :

1. ✘ the, a
2. ✘ a, an
3. ✔ the, no article
4. ✘ no article, the

Question Number : 133 Question Id : 630680221071 Option Shuffling : Yes Is Question Mandatory : No Calculator : None Response Time : N.A Think Time : N.A Minimum Instruction Time : 0

Correct Marks : 1 Wrong Marks : 0

Select the most appropriate option to fill in the blank.

I tried very _____ to teach her my sign language.

Options :

1. ✘ hardly
2. ✔ hard
3. ✘ hardness
4. ✘ hardest

Question Number : 133 Question Id : 630680221071 Option Shuffling : Yes Is Question Mandatory : No Calculator : None Response Time : N.A Think Time : N.A Minimum Instruction Time : 0

Correct Marks : 1 Wrong Marks : 0

Select the most appropriate option to fill in the blank.

I tried very _____ to teach her my sign language.

Options :

1. ✘ hardly
2. ✔ hard
3. ✘ hardness
4. ✘ hardest

Question Number : 134 Question Id : 630680221072 Option Shuffling : Yes Is Question Mandatory : No Calculator : None
Response Time : N.A Think Time : N.A Minimum Instruction Time : 0
Correct Marks : 1 Wrong Marks : 0

Select the most appropriate option to fill in the blank.

Asha Bhosle was honoured _____ the Dadasaheb Phalke Award in 2000.

Options :

1. ✓ with
2. ✗ by
3. ✗ of
4. ✗ for

Question Number : 134 Question Id : 630680221072 Option Shuffling : Yes Is Question Mandatory : No Calculator : None
Response Time : N.A Think Time : N.A Minimum Instruction Time : 0
Correct Marks : 1 Wrong Marks : 0

Select the most appropriate option to fill in the blank.

Asha Bhosle was honoured _____ the Dadasaheb Phalke Award in 2000.

Options :

1. ✓ with
2. ✗ by
3. ✗ of
4. ✗ for

Question Number : 135 Question Id : 630680221073 Option Shuffling : Yes Is Question Mandatory : No Calculator : None
Response Time : N.A Think Time : N.A Minimum Instruction Time : 0
Correct Marks : 1 Wrong Marks : 0

From the four sentences given below, identify the sentence(s) with a grammatical error.

- A. They are too young to fly.
- B. No one which is good at making excuses is also good at making money.
- C. I walk us to the nearly wall.
- D. Her courage surprise everyone.

Options :

1. ✗ Only A, B and C
2. ✗ Only B
3. ✗ Only A and D
4. ✓ Only B, C and D

Question Number : 135 Question Id : 630680221073 Option Shuffling : Yes Is Question Mandatory : No Calculator : None
Response Time : N.A Think Time : N.A Minimum Instruction Time : 0
Correct Marks : 1 Wrong Marks : 0

From the four sentences given below, identify the sentence(s) with a grammatical error.

- A. They are too young to fly.
- B. No one which is good at making excuses is also good at making money.
- C. I walk us to the nearly wall.
- D. Her courage surprise everyone.

Options :

1. ✗ Only A, B and C
2. ✗ Only B
3. ✗ Only A and D
4. ✓ Only B, C and D

Question Number : 136 Question Id : 630680221074 Option Shuffling : Yes Is Question Mandatory : No Calculator : None
Response Time : N.A Think Time : N.A Minimum Instruction Time : 0
Correct Marks : 1 Wrong Marks : 0

From the four sentences given below, identify the sentence(s) with a grammatical error.

- A. Some short stories come with illustrations.
- B. We have finite amount of willpower that becomes depleted as we use It.

- C. The government is trying to promote stability and economic growth.
D. I slip my phone on my bag.

Options :

1. ✘ Only B and C
2. ✔ Only D
3. ✘ Only A and D
4. ✘ Only A, C and D

Question Number : 136 Question Id : 630680221074 Option Shuffling : Yes Is Question Mandatory : No Calculator : None Response Time : N.A Think Time : N.A Minimum Instruction Time : 0

Correct Marks : 1 Wrong Marks : 0

From the four sentences given below, identify the sentence(s) with a grammatical error.

- A. Some short stories come with illustrations.
B. We have finite amount of willpower that becomes depleted as we use It.
C. The government is trying to promote stability and economic growth.
D. I slip my phone on my bag.

Options :

1. ✘ Only B and C
2. ✔ Only D
3. ✘ Only A and D
4. ✘ Only A, C and D

Question Number : 137 Question Id : 630680221075 Option Shuffling : Yes Is Question Mandatory : No Calculator : None Response Time : N.A Think Time : N.A Minimum Instruction Time : 0

Correct Marks : 1 Wrong Marks : 0

Identify the sentence with the correct usage of the simple past tense.

- A. I called my mother yesterday.
B. She had already spoken to me.

Options :

1. ✘ Only A
2. ✘ Only B
3. ✘ Both A and B
4. ✔ Neither A nor B

Question Number : 137 Question Id : 630680221075 Option Shuffling : Yes Is Question Mandatory : No Calculator : None Response Time : N.A Think Time : N.A Minimum Instruction Time : 0

Correct Marks : 1 Wrong Marks : 0

Identify the sentence with the correct usage of the simple past tense.

- A. I called my mother yesterday.
B. She had already spoken to me.

Options :

1. ✘ Only A
2. ✘ Only B
3. ✘ Both A and B
4. ✔ Neither A nor B

Question Number : 138 Question Id : 630680221076 Option Shuffling : Yes Is Question Mandatory : No Calculator : None Response Time : N.A Think Time : N.A Minimum Instruction Time : 0

Correct Marks : 1 Wrong Marks : 0

Identify the sentence with the correct usage of the present perfect continuous tense.

- A. They have been gardening for more than three hours.
B. John has been living in my apartment since 2012.

Options :

1. ✘ Only A
2. ✔ Only B
3. ✘ Both A and B
4. ✘ Neither A nor B

Question Number : 138 Question Id : 630680221076 Option Shuffling : Yes Is Question Mandatory : No Calculator : None Response Time : N.A Think Time : N.A Minimum Instruction Time : 0

Correct Marks : 1 Wrong Marks : 0

Identify the sentence with the correct usage of the present perfect continuous tense.

- A. They have been gardening for more than three hours.
- B. John has been living in my apartment since 2012.

Options :

- 1. ✖ Only A
- 2. ✔ Only B
- 3. ✖ Both A and B
- 4. ✖ Neither A nor B

Question Number : 139 Question Id : 630680221077 Option Shuffling : Yes Is Question Mandatory : No Calculator : None Response Time : N.A Think Time : N.A Minimum Instruction Time : 0

Correct Marks : 1 Wrong Marks : 0

Select the most appropriate option to fill in the blank.

I don't need to tell you my reason, _____?

Options :

- 1. ✔ do I
- 2. ✖ had I
- 3. ✖ hasn't I
- 4. ✖ does me

Question Number : 139 Question Id : 630680221077 Option Shuffling : Yes Is Question Mandatory : No Calculator : None Response Time : N.A Think Time : N.A Minimum Instruction Time : 0

Correct Marks : 1 Wrong Marks : 0

Select the most appropriate option to fill in the blank.

I don't need to tell you my reason, _____?

Options :

- 1. ✔ do I
- 2. ✖ had I
- 3. ✖ hasn't I
- 4. ✖ does me

Question Number : 140 Question Id : 630680221078 Option Shuffling : Yes Is Question Mandatory : No Calculator : None Response Time : N.A Think Time : N.A Minimum Instruction Time : 0

Correct Marks : 1 Wrong Marks : 0

Select the most appropriate option to fill in the blank.

Everyone wanted to celebrate her birthday, _____?

Options :

- 1. ✖ doesn't them
- 2. ✔ didn't they
- 3. ✖ hadn't they
- 4. ✖ won't them

Question Number : 140 Question Id : 630680221078 Option Shuffling : Yes Is Question Mandatory : No Calculator : None Response Time : N.A Think Time : N.A Minimum Instruction Time : 0

Correct Marks : 1 Wrong Marks : 0

Select the most appropriate option to fill in the blank.

Everyone wanted to celebrate her birthday, _____?

Options :

- 1. ✖ doesn't them
- 2. ✔ didn't they
- 3. ✖ hadn't they
- 4. ✖ won't them

Question Number : 141 Question Id : 630680221079 Option Shuffling : Yes Is Question Mandatory : No Calculator : None Response Time : N.A Think Time : N.A Minimum Instruction Time : 0

Correct Marks : 1 Wrong Marks : 0

Select the correct passive form of the given sentence.

They sew clothes.

Options :

1. ✘ Clothes have been sewn by them.
2. ✘ Clothes are sewn by some.
3. ✘ Clothes were sewn by them.
4. ✔ Clothes are sewn by them.

Question Number : 141 Question Id : 630680221079 Option Shuffling : Yes Is Question Mandatory : No Calculator : None Response Time : N.A Think Time : N.A Minimum Instruction Time : 0

Correct Marks : 1 Wrong Marks : 0

Select the correct passive form of the given sentence.

They sew clothes.

Options :

1. ✘ Clothes have been sewn by them.
2. ✘ Clothes are sewn by some.
3. ✘ Clothes were sewn by them.
4. ✔ Clothes are sewn by them.

Question Number : 142 Question Id : 630680221080 Option Shuffling : Yes Is Question Mandatory : No Calculator : None Response Time : N.A Think Time : N.A Minimum Instruction Time : 0

Correct Marks : 1 Wrong Marks : 0

Select the correct active form of the given sentence.

By whom this food was ordered?

Options :

1. ✘ Who orders this food?
2. ✔ Who ordered this food?
3. ✘ Who had ordered this food?
4. ✘ Who got ordered this food?

Question Number : 142 Question Id : 630680221080 Option Shuffling : Yes Is Question Mandatory : No Calculator : None Response Time : N.A Think Time : N.A Minimum Instruction Time : 0

Correct Marks : 1 Wrong Marks : 0

Select the correct active form of the given sentence.

By whom this food was ordered?

Options :

1. ✘ Who orders this food?
2. ✔ Who ordered this food?
3. ✘ Who had ordered this food?
4. ✘ Who got ordered this food?

Question Number : 143 Question Id : 630680221081 Option Shuffling : Yes Is Question Mandatory : No Calculator : None Response Time : N.A Think Time : N.A Minimum Instruction Time : 0

Correct Marks : 1 Wrong Marks : 0

Consider the following:

A	Below the belt	1	To provide exact information
B	Cost a bomb	2	Cruel and unfair
C	Down the drain	3	Very expensive
D	Give chapter and verse	4	Spoiled or wasted

Choose the correct option.

Options :

1. ✓ A-2, B-3, C-4, D-1
2. ✗ A-1, B-3, C-2, D-4
3. ✗ A-3, B-1, C-4, D-2
4. ✗ A-4, B-1, C-3, D-2

Question Number : 143 Question Id : 630680221081 Option Shuffling : Yes Is Question Mandatory : No Calculator : None
Response Time : N.A Think Time : N.A Minimum Instruction Time : 0

Correct Marks : 1 Wrong Marks : 0

Consider the following:

A	Below the belt	1	To provide exact information
B	Cost a bomb	2	Cruel and unfair
C	Down the drain	3	Very expensive
D	Give chapter and verse	4	Spoiled or wasted

Choose the correct option.

Options :

1. ✓ A-2, B-3, C-4, D-1
2. ✗ A-1, B-3, C-2, D-4
3. ✗ A-3, B-1, C-4, D-2
4. ✗ A-4, B-1, C-3, D-2

Question Number : 144 Question Id : 630680221082 Option Shuffling : Yes Is Question Mandatory : No Calculator : None
Response Time : N.A Think Time : N.A Minimum Instruction Time : 0

Correct Marks : 1 Wrong Marks : 0

Consider the following:

A	Have a yellow streak	1	Spending more money than you earn
B	In black and white	2	In writing
C	In the red	3	A trait of cowardice
D	Lose heart	4	To become sad or depressed

Choose the correct option.

Options :

1. ✗ A-2, B-1, C-4, D-3
2. ✗ A-1, B-3, C-2, D-4
3. ✓ A-3, B-2, C-1, D-4
4. ✗ A-4, B-1, C-3, D-2

Question Number : 144 Question Id : 630680221082 Option Shuffling : Yes Is Question Mandatory : No Calculator : None
Response Time : N.A Think Time : N.A Minimum Instruction Time : 0

Correct Marks : 1 Wrong Marks : 0

Consider the following:

A	Have a yellow streak	1	Spending more money than you earn
B	In black and white	2	In writing
C	In the red	3	A trait of cowardice
D	Lose heart	4	To become sad or depressed

Choose the correct option.

Options :

1. ✗ A-2, B-1, C-4, D-3
2. ✗ A-1, B-3, C-2, D-4

3. ✓ A-3, B-2, C-1, D-4
 4. ✗ A-4, B-1, C-3, D-2

Question Number : 145 Question Id : 630680221083 Option Shuffling : Yes Is Question Mandatory : No Calculator : None Response Time : N.A Think Time : N.A Minimum Instruction Time : 0

Correct Marks : 1 Wrong Marks : 0

Identify the correct pair of synonyms.

- A. Blend : Fusion
 B. Lean : Slim
 C. Purity : Evil
 D. Wealthy : Gigantic

Options :

1. ✗ All A, B, C and D
 2. ✓ Only A and B
 3. ✗ Only B and C
 4. ✗ Only C and D

Question Number : 145 Question Id : 630680221083 Option Shuffling : Yes Is Question Mandatory : No Calculator : None Response Time : N.A Think Time : N.A Minimum Instruction Time : 0

Correct Marks : 1 Wrong Marks : 0

Identify the correct pair of synonyms.

- A. Blend : Fusion
 B. Lean : Slim
 C. Purity : Evil
 D. Wealthy : Gigantic

Options :

1. ✗ All A, B, C and D
 2. ✓ Only A and B
 3. ✗ Only B and C
 4. ✗ Only C and D

Question Number : 146 Question Id : 630680221084 Option Shuffling : Yes Is Question Mandatory : No Calculator : None Response Time : N.A Think Time : N.A Minimum Instruction Time : 0

Correct Marks : 1 Wrong Marks : 0

Identify the correct pair of antonyms.

- A. Spacious : Cramped
 B. Accuracy : Fallacy
 C. Nasty : Laudable
 D. Profusion : Quantity

Options :

1. ✗ All A, B, C and D
 2. ✓ Only A, B and C
 3. ✗ Only B
 4. ✗ Only C and D

Question Number : 146 Question Id : 630680221084 Option Shuffling : Yes Is Question Mandatory : No Calculator : None Response Time : N.A Think Time : N.A Minimum Instruction Time : 0

Correct Marks : 1 Wrong Marks : 0

Identify the correct pair of antonyms.

- A. Spacious : Cramped
 B. Accuracy : Fallacy
 C. Nasty : Laudable
 D. Profusion : Quantity

Options :

1. ✗ All A, B, C and D
 2. ✓ Only A, B and C
 3. ✗ Only B
 4. ✗ Only C and D

Question Number : 147 Question Id : 630680221085 Option Shuffling : Yes Is Question Mandatory : No Calculator : None Response Time : N.A Think Time : N.A Minimum Instruction Time : 0

Correct Marks : 1 Wrong Marks : 0

Identify the sentence(s) with no spelling errors from the given sentences.

- A. Believe it or not, but I am absolutely yours.
B. I jump behind a large speaker as he turns his head to look around.

Options :

1. ✖ Only A
2. ✖ Only B
3. ✔ Both A and B
4. ✖ Neither A nor B

Question Number : 147 Question Id : 630680221085 Option Shuffling : Yes Is Question Mandatory : No Calculator : None Response Time : N.A Think Time : N.A Minimum Instruction Time : 0

Correct Marks : 1 Wrong Marks : 0

Identify the sentence(s) with no spelling errors from the given sentences.

- A. Believe it or not, but I am absolutely yours.
B. I jump behind a large speaker as he turns his head to look around.

Options :

1. ✖ Only A
2. ✖ Only B
3. ✔ Both A and B
4. ✖ Neither A nor B

Question Number : 148 Question Id : 630680221086 Option Shuffling : Yes Is Question Mandatory : No Calculator : None Response Time : N.A Think Time : N.A Minimum Instruction Time : 0

Correct Marks : 1 Wrong Marks : 0

Identify the sentence(s) with no spelling errors from the given sentences.

- A. Getting extraordinary results is all about creating a domino effect in your life.
B. Reports have flaged how use of over 85% fresh water in agricultrre has led to a crisis in several states.

Options :

1. ✔ Only A
2. ✖ Only B
3. ✖ Both A and B
4. ✖ Neither A nor B

Question Number : 148 Question Id : 630680221086 Option Shuffling : Yes Is Question Mandatory : No Calculator : None Response Time : N.A Think Time : N.A Minimum Instruction Time : 0

Correct Marks : 1 Wrong Marks : 0

Identify the sentence(s) with no spelling errors from the given sentences.

- A. Getting extraordinary results is all about creating a domino effect in your life.
B. Reports have flaged how use of over 85% fresh water in agricultrre has led to a crisis in several states.

Options :

1. ✔ Only A
2. ✖ Only B
3. ✖ Both A and B
4. ✖ Neither A nor B

Question Number : 149 Question Id : 630680221087 Option Shuffling : Yes Is Question Mandatory : No Calculator : None Response Time : N.A Think Time : N.A Minimum Instruction Time : 0

Correct Marks : 1 Wrong Marks : 0

Select the most appropriate option for the given blank.

I thought maybe you could _____ someone to help me.

Options :

1. ✖ higher
2. ✔ hire
3. ✖ heir

4. ✘ hare

Question Number : 149 Question Id : 630680221087 Option Shuffling : Yes Is Question Mandatory : No Calculator : None Response Time : N.A Think Time : N.A Minimum Instruction Time : 0

Correct Marks : 1 Wrong Marks : 0

Select the most appropriate option for the given blank.

I thought maybe you could _____ someone to help me.

Options :

1. ✘ higher
2. ✔ hire
3. ✘ heir
4. ✘ hare

Question Number : 150 Question Id : 630680221088 Option Shuffling : Yes Is Question Mandatory : No Calculator : None Response Time : N.A Think Time : N.A Minimum Instruction Time : 0

Correct Marks : 1 Wrong Marks : 0

Select the most appropriate option for the given blank.

_____ the sponge into the pulp tub as you go.

Options :

1. ✘ Wreath
2. ✘ Ring
3. ✔ Wring
4. ✘ Reap

Question Number : 150 Question Id : 630680221088 Option Shuffling : Yes Is Question Mandatory : No Calculator : None Response Time : N.A Think Time : N.A Minimum Instruction Time : 0

Correct Marks : 1 Wrong Marks : 0

Select the most appropriate option for the given blank.

_____ the sponge into the pulp tub as you go.

Options :

1. ✘ Wreath
2. ✘ Ring
3. ✔ Wring
4. ✘ Reap