

DO NOT OPEN THIS BOOKLET UNTIL YOU ARE ASKED TO DO SO.

2020

QUESTION BOOKLET

Time allotted : 1 hour

Full marks : 85

All questions carry equal marks.



Question Booklet Serial No.

5 0 8 8 4 5 2

INSTRUCTIONS

1. This booklet consists of 20 pages including this front page. Verify the page number of the Question Booklet on each page. If there is any discrepancy, bring it to the notice of the Invigilator. This Booklet contains 60 questions in 2 languages: Bengali and Nepali and 25 questions in English only.
2. Answers will have to be given in the Special Answer Sheet (OMR Answer Sheets) supplied for the purpose, which consists of two pages. **Do not tear or separate any leaf of the OMR Answer Sheet.**
3. Before you proceed to mark on the Answer Sheet in response to various items in the Question Booklet, you have to fill in some particulars in the OMR Sheet. You must also write the Question Booklet No. on the Attendance Sheet. **Do not fold the Answer Sheet as this will result in error in your marks.**
4. All questions have **four** probable answers (A), (B), (C) and (D). Find out which of the four answers appears to you to be correct or the best. Now darken the circle corresponding to the letter of the selected answer in the OMR Answer Sheet with **Black Ball Point Pen** as per instructions sent along with the Admit Card.
5. If more than one circle is encoded for a particular answer, it will be treated as a wrong answer.
6. **1/4th of the allotted marks (i.e. 0.25) will be deducted for each wrong answer.**
7. There are blank pages at the end of this booklet for Rough Work.
8. **The OMR Answer Sheet (both pages intact) should be handed over to the Invigilator before leaving the Examination Hall. Candidates are then permitted to leave the hall with the Question Booklet. The Special Answer Sheet (OMR) is the property of the West Bengal Police Recruitment Board and must be returned to the Invigilator.**

নির্দেশাবলী

- ১। সামনের পৃষ্ঠাসহ এই বুকলেট-এর মোট পৃষ্ঠা সংখ্যা 20। পরীক্ষার্থীরা প্রথমেই তাঁদের বুকলেটের প্রতিটি পৃষ্ঠার নম্বর মিলিয়ে দেখে নেবেন। কোনোরকম অসামঞ্জস্য থাকলে সেটি পরীক্ষাকক্ষের তত্ত্বাবধায়কের নজরে আনবেন। প্রশ্নপত্রে ৬০টি প্রশ্ন দুটি ভাষায়, বাংলা ও নেপালিতে এবং ২৫টি প্রশ্ন শুধুমাত্র ইংরেজিতে।
- ২। উত্তর কেবলমাত্র OMR উত্তরপত্রেই দিতে হবে যার দুটি পৃষ্ঠা আছে। উত্তরপত্রের পৃষ্ঠা দুটিকে ছিঁড়বেন না বা বিচ্ছিন্ন করবেন না।
- ৩। উত্তরপত্রে প্রশ্নের উত্তর লেখা শুরু করার আগে পরীক্ষার্থীদের নির্দিষ্ট কিছু বিবরণ OMR শীটের নির্দিষ্ট স্থানে পূরণ করতে হবে। অ্যাটেনড্যান্স শীট-এর নির্দিষ্ট স্থানে প্রশ্ন বুকলেটের সিরিয়াল নম্বরটি লিখতে হবে। উত্তরপত্রটি কখনোই ভাঁজ করবেন না, কারণ এতে আপনার উত্তরপত্র মূল্যায়নের সময় প্রাপ্ত নম্বরের ভুল হতে পারে।
- ৪। প্রতিটি প্রশ্নের চারটি সম্ভাব্য উত্তর দেওয়া আছে, যথা— (A), (B), (C), এবং (D)। এর মধ্যে যেটিকে আপনার সঠিক উত্তর বলে মনে হবে, OMR উত্তরপত্রে সেই নির্দিষ্ট গোলকটিকে কালো কালির বল-পয়েন্ট পেনের মাধ্যমে OMR উত্তরপত্র এবং অ্যাডমিট কার্ডে প্রদত্ত নির্দেশ অনুযায়ী কালো করে দেবেন।
- ৫। একটি প্রশ্নের উত্তর হিসাবে একাধিক গোলককে চিহ্নিত করলে সেই উত্তরটি ভুল বলে বিবেচিত হবে।
- ৬। প্রতিটি ভুল উত্তরের জন্য এক-চতুর্থাংশ নম্বর (অর্থাৎ 0.25) কেটে নেওয়া হবে।
- ৭। প্রশ্নপত্রের শেষে রাফ কাজের জন্য পৃষ্ঠা রাখা আছে।
- ৮। পরীক্ষার শেষে পরীক্ষাকক্ষ ত্যাগ করার পূর্বে দুটি পৃষ্ঠা (আলাদা না করে) পরীক্ষাকক্ষের তত্ত্বাবধায়কের হাতে জমা দেবেন। উত্তরপত্রটি জমা দেবার পরই পরীক্ষার্থীকে প্রশ্নপত্র সমেত পরীক্ষাকক্ষ ত্যাগ করার অনুমতি দেওয়া হবে। OMR উত্তরপত্রটি পশ্চিমবঙ্গ পুলিশ রিক্রুটমেন্ট বোর্ডের সম্পত্তি, সুতরাং এটিকে অবশ্যই তত্ত্বাবধায়কের নিকট জমা দেবেন।

1. In the following question, some parts in italics have been jumbled up. You are required to rearrange these parts, which are labeled P, Q, R and S to produce the correct sentence.

In life, / (P) some rules are, / (Q) as business, / (R) they seem almost instinctive, / (S) learnt so early that.

- (A) RPSQ
- (B) RSPQ
- (C) QSPR
- (D) QPSR

2. In the following question, some parts in italics have been jumbled up. You are required to rearrange these parts, which are labeled P, Q, R and S to produce the correct sentence.

Today, / (P) in the country, / (Q) offers the best connectivity, both, / (R) Kerala, among all states, / (S) in terms of telecom and data analysis.

- (A) RQPS
- (B) RPQS
- (C) SPQR
- (D) SQPR

3. নীচের অবিন্যস্ত বর্ণগুলিকে সাজিয়ে প্রথমে একটি অর্থপূর্ণ শব্দ প্রস্তুত করুন। এরপর অবিন্যস্ত শব্দটিতে প্রতি বর্ণের জন্য যে সংখ্যাগুলি দেওয়া আছে, নতুন অর্থপূর্ণ শব্দটির নিরিখে সেই সংখ্যাগুলি বসানো হলে, যে সংখ্যার সারণি পাওয়া যাবে, সেটি হল—

H	V	A	R	O	B	E	I	U
1	2	3	4	5	6	7	8	9

- (A) 345179842
- (B) 671328594
- (C) 963258714
- (D) 157392846

নিম্নলিখিত ছরিকো বর্ণহরুলাই সজাএর প্রথম পলট এডা অর্থপূর্ণ শব্দমা প্রস্তুত গর্নুহোস্। ত্যস পছি ছরিকো শব্দমা প্রত্যেক বর্ণকো লাগি জুন সংখ্যাহরু দিকো ছ, নয়া অর্থপূর্ণ শব্দকো সর্দধমা ত্যস সংখ্যাহরুলাই সজায়ো ধনে, জুন সংখ্যাকো তালিকাबद्ध पाइन्छ, त्यो संख्या हो —

H	V	A	R	O	B	E	I	U
1	2	3	4	5	6	7	8	9

- (A) 345179842
- (B) 671328594
- (C) 963258714
- (D) 157392846

4. थर मरूभूमि भारतवर्षके निम्नलिखित कौन राज्यटिठे अवस्थित ?

- (A) राजस्थान
- (B) उत्तरप्रदेश
- (C) महाराष्ट्र
- (D) बिहार

थर मरूभूमि भारतवर्षको निम्नलिखित कुनचाहिं राज्यमा अवस्थित छ ?

- (A) राजस्थान
- (B) उत्तरप्रदेश
- (C) महाराष्ट्र
- (D) बिहार

5. नीचे Number Sequence-द्विजे अमनी कतशुलि 6 आछे वार आगे । अथवा 5 ७ परे 3 अथवा 9 थाकरे ?

263756429613416391569231654321967163

- (A) 4
- (B) 2
- (C) 6
- (D) 3

निम्नलिखित संख्याकी अनुक्रममा कतिवटा 6 पाउन सकिन्छ तसका अघि । अथवा 5 एवं अछि 3 अथवा 9 पाउन सकिन्छ ?

263756429613416391569231654321967163

- (A) 4
- (B) 2
- (C) 6
- (D) 3

6. 1018-र ससे निम्नलिखित केन संख्याटि योग कराले, योगफल 23 द्वारा निःशेषे विभाज्य हरे ?

- (A) 40
- (B) 20
- (C) 50
- (D) 30

1018 मा निम्नलिखित कुनचाहि संख्यालाई योग गन्यो भने योगफललाई 23 द्वारा शेषफल नराखि विभाजन गर्न सकिन्छ ?

- (A) 40
- (B) 20
- (C) 50
- (D) 30

7. Any part of the following sentence may have error. Find out which part of the sentence has an error or no error.

Ram is / senior to / Shyam in school.

- (A) Shyam in school.
- (B) Ram is
- (C) No error
- (D) senior to

8. 'SAVOURY' शब्दटि मध्ये बाबहुत प्रतीति Vowel-एर परिवर्ते यदि इंग्रजी वर्णमालार तार परवती वर्णटि लेखा ह्ये एवं प्रतीति Consonant-एर जागुगय यदि इंग्रजी वर्णमालार तार पुरवती वर्णटि लेखा ह्ये, तबे ये नतुन वर्णशुलि पाठय्य गेल तबे इंग्रजी वर्णमालार क्रमे वामदिक थेके जानदिके साजाले, जानदिक थेके पक्षम हाने केन वर्णटि थाकरे ?

- (A) Q
- (B) U
- (C) X
- (D) R

यदि 'SAVOURY' शब्द मध्ये व्यवहार गरिने प्रत्येक Vowel को सट्टामा परवती वर्ण अंग्रेजी वर्णमाला क्रममा बदलियो भने एवं प्रत्येक Consonant लाई अंग्रेजी वर्णमालाको अधिल्लो वर्णमा बदलि गन्यो भने, तब नयाँ गरेर पाएको वर्णहरूलाई फेरि अंग्रेजी वर्णमालाको क्रममा बायाँ देखि दाहिने सजायो भने, कुन वर्ण चाहिं दाहिने तर्फ देखि पंचम स्थानमा रहनेछ ?

- (A) Q
- (B) U
- (C) X
- (D) R

9. अमरकण्टक थेके निम्नेर केन नदीटि उतपत्ति ?

- (A) माहि
- (B) नर्मदा
- (C) सबरमती
- (D) तापि

अमरकण्टकबाट उत्पन्न भएको नदी कुनचाहिं हो ?

- (A) माही
- (B) नर्मदा
- (C) सबरमती
- (D) तापि

10. Which of the given choices will be the proper word to fill the blank?

The salt spray has gradually _____ the bridge.

- (A) demolished
- (B) spoilt
- (C) eroded
- (D) ravaged

11. যদি $517*324$ সংখ্যাটি 3 দ্বারা নিঃশেষে বিভাজ্য একটি সংখ্যা হয়, তবে * স্থানের ক্ষুদ্রতম পূর্ণ সংখ্যাটি কত?

- (A) 3
(B) 1
(C) 4
(D) 2

যদি $517*324$ লাই 3 দ্বারা পূর্ণ রূপে ভাগ গন্যো গন্যে, তবে * কো স্থানে সর্বোচ্চ স্যানো পূর্ণসংখ্যা কতি হুনেছ?

- (A) 3
(B) 1
(C) 4
(D) 2

12. In the following question, some parts in italics have been jumbled up. You are required to rearrange these parts, which are labeled P, Q, R and S to produce the correct sentence.

The concept of death, / (P) that it has been reduced, / (Q) as an inevitability, / (R) is so ancient, / (S) to a cliché.

- (A) SRPQ
(B) SPRQ
(C) QPRS
(D) QRPS

13. $\left(\frac{\sqrt{625}}{11} \times \frac{14}{\sqrt{25}} \times \frac{44}{\sqrt{196}}\right) = ?$

- (A) 40
(B) 20
(C) 50
(D) 30

$\left(\frac{\sqrt{625}}{11} \times \frac{14}{\sqrt{25}} \times \frac{44}{\sqrt{196}}\right) = ?$

- (A) 40
(B) 20
(C) 50
(D) 30

14. যদি 'x' = '+', '÷' = 'x', '+' = '-' এবং '-' = '÷' হয়, তবে $21 + 36 - 12 \times 8 \div 4$ -এর মান কত?

- (A) 40
(B) 20
(C) 50
(D) 30

যদি 'x' = '+', '÷' = 'x', '+' = '-' অনি '-' = '÷' ধ্যো গন্যে, $21 + 36 - 12 \times 8 \div 4$ কো মান কতি হুনেছ?

- (A) 40
(B) 20
(C) 50
(D) 30

15. 'আইরিশ' মানব শরীরের কোন অংশে অবস্থিত?

- (A) চোখ
(B) কান
(C) হৃৎপিণ্ড
(D) নাক

'আইরিস' মানব শরীরকো কুনচাহিঁ অংশমা অবস্থিত ছ?

- (A) আঁখি
(B) কান
(C) হৃদয়
(D) নাক

16. মুঘল আমলে প্রচলিত মনসবদারী ব্যবস্থা কীসের সঙ্গে সম্পর্কিত ছিল?

- (A) ধর্ম
(B) অর্থনীতি
(C) বিচারব্যবস্থা
(D) সৈন্যবাহিনী

মুঘল কালমা প্রচলিত মনসবদারি ব্যবস্থা কে সঁগ সম্বন্ধিত থিয়ো?

- (A) ধর্ম
(B) অর্থনীতি
(C) বিচার-ব্যবস্থা
(D) সেনাবাহিনী

17. 5টি पम्प दिने 8 घण्टा काज करले 30 दिने एकटि जलाधार जलशून्य হয়। 4टि पम्प दिने 6 घण्टा काज करले कत दिने ओइ जलाधारटि जलशून्य करते पारवे ?

- (A) 40
(B) 20
(C) 50
(D) 30

5 वटा पम्पले एक दिनमा 8 घण्टा काम गन्यो भने, 30 दिनमा एउटा टैंकलाई खालि गर्न सकछ। त्यही टैंकलाई 4 वटा पम्पले प्रत्येक दिन 6 घण्टा काम गन्यो भने, कति दिनमा खालि गर्न सकछ ?

- (A) 40
(B) 20
(C) 50
(D) 30

18. In the following question, some parts in italics have been jumbled up. You are required to rearrange these parts, which are labeled P, Q, R and S to produce the correct sentence.

Keshab, / (P) left in an aeroplane, / (Q) after reading a sailing magazine, / (R) had decided, / (S) to build his own boat nine years earlier.

- (A) RQPS
(B) PRQS
(C) PSRQ
(D) RSQP

19. एकटि छात्र कोनो एकटि संख्याके $\frac{5}{3}$ -एर परिवर्ते $\frac{4}{3}$ दिने गुण करल। तार भुलेर शतांश कत ?

- (A) 40
(B) 20
(C) 50
(D) 30

एउटा छात्रले कुनै एउटा संख्यालाई $\frac{5}{3}$ को सट्टामा $\frac{4}{3}$ ले गुणा गन्यो भने, उसको हिसाबमा कति प्रतिशत त्रुटि भएको छ ?

- (A) 40
(B) 20
(C) 50
(D) 30

20. Which of the given choices is synonym of 'Cease'?

- (A) Create
(B) Begin
(C) Dull
(D) Stop

21. Choose the correct meaning of the underlined idiom from the given alternatives.

His promotion is on the cards.

- (A) certain
(B) due
(C) probable
(D) evident

22. नीचेर वर्णसारणिते परवर्ती वर्णटि की हवे ?

BBCBCDBCDEBCDEFBCDEFGBBCDEF

- (A) H
(B) B
(C) D
(D) G

निम्नलिखित वर्णको अनुक्रममा परवर्ती वर्ण के हुनेछ ?

BBCBCDBCDEBCDEFBCDEFGBBCDEF

- (A) H
(B) B
(C) D
(D) G

23. फेब्रुआरि-मार्च, 2022-ए निम्नलिखित कोन राज्यटिते विधानसभा निर्वाचन हयेछे ?

- (A) राजस्थान
(B) उत्तरप्रदेश
(C) महाराष्ट्र
(D) बिहार

फेब्रुआरि-मार्च, 2022 मा निम्नलिखित कुनचाहिं राज्यमा विधानसभा निर्वाचन भएको थियो ?

- (A) राजस्थान
(B) उत्तरप्रदेश
(C) महाराष्ट्र
(D) बिहार

24. एक फल विक्रेता का काष्ठ किछु आपेल छिल । से 40% आपेल विक्रम करार पर 30टि आपेल तार काष्ठ अवशिष्ट थाकले, प्रथमे तार काष्ठ कतगुलि आपेल छिल ?

- (A) 100
(B) 25
(C) 200
(D) 50

एउटा फल विक्रेताकोमा केही मात्रामा आइफल (Apple) थियो । उसले 40% बिक्रि गरे पछि, उसकोमा 30 वटा आइफल (Apple) अझै रहने छ । उसकोमा पहिला देखिनै कतिवटा आइफल (Apple) थियो ?

- (A) 100
(B) 25
(C) 200
(D) 50

25. What is the opposite word of 'Plausible'?

- (A) Implausible
(B) Inplausible
(C) Displausible
(D) Believable

26. P बिन्दुटि A बिन्दु 10 मिटर पश्चिमे अवस्थित । B बिन्दुटि P बिन्दु 2 मिटर दक्षिणे अवस्थित । Q बिन्दुटि B बिन्दु 6 मिटर पूर्वे अवस्थित एवं C बिन्दुटि Q बिन्दु 2 मिटर उत्तरे अवस्थित हले, निम्नोक्त कौन तिनटि बिन्दु एकै सरलरेखाय थाकबे ?

- (A) Q, C, A
(B) A, C, P
(C) A, B, Q
(D) B, C, P

P बिन्दु A बिन्दु देखि 10 मिटर पश्चिममा अवस्थित छ । B बिन्दु P बिन्दु देखि 2 मिटर दक्षिणमा अवस्थित छ । Q बिन्दु B बिन्दु देखि 6 मिटर पूर्वमा अवस्थित छ अनि C बिन्दु Q बिन्दुको 2 मिटर उत्तरमा अवस्थित छ भने, निम्नलिखित कुनचाहिं तीनवटा बिन्दु एउटै सीधा रेखामा रहनेछ ?

- (A) Q, C, A
(B) A, C, P
(C) A, B, Q
(D) B, C, P

27. Choose the correct meaning of the underlined idiom from the given alternatives.

He is a little hard of hearing.

- (A) deaf
(B) inaudible
(C) insensitive
(D) disinterested

28. Which of the given choices will be the proper word to fill the blank?

The Chairman is ill and we'll have to _____ the meeting for a day.

- (A) put off
(B) put on
(C) put out
(D) put away

29. एकटि गाडी तार प्रकृत गतिवेगेर $\frac{1}{4}$ अंश गतिते 42 किमि पथ 1 घण्टा 40 मिनिट 48 सेकेन्डे अतिक्रम करले, गाडीतिर प्रकृत गतिवेग कत किमि/घण्टा ?

- (A) 100
(B) 25
(C) 200
(D) 50

एउटा मोटर गाडीले आफ्नो असल रफतार भन्दा $\frac{1}{4}$ भागको रफतारमा यात्रा गरेर 42 कि० मि० को दूरी 1 घण्टा 40 मिनिट 48 सेकेन्डमा पूरा गर्छ । त्यस मोटर गाडीको असल रफतार कति कि० मि० प्रति घण्टा हो ?

- (A) 100
(B) 25
(C) 200
(D) 50

30. Which of the given choices will be the proper word to fill the blank?

He is very good _____ making stories.

- (A) at
(B) on
(C) for
(D) about

[Please Turn Over]

31. নীচের বাক্যদুটির পরিপ্রেক্ষিতে দুটি গৃহীত সিদ্ধান্ত দেওয়া হল—

বাক্য : (I) $S > C \geq O$; (II) $P < C$

সিদ্ধান্ত : (I) $O < P$

(II) $S > P$

- (A) (I) এবং (II) দুটি সিদ্ধান্তই সঠিক।
 (B) শুধুমাত্র (I) নং সিদ্ধান্ত সঠিক।
 (C) (I) অথবা (II) কোনো সিদ্ধান্তই সঠিক নয়।
 (D) শুধুমাত্র (II) নং সিদ্ধান্ত সঠিক।

নিম্নলিখিত কথনকো সন্দর্ভমা দুইবটা নিষ্কর্ষ দিএকো

স্ত :

কথন : (I) $S > C \geq O$; (II) $P < C$

নিষ্কর্ষ : (I) $O < P$

(II) $S > P$

- (A) (I) র (II) দুই নিষ্কর্ষ ঠিক স্ত।
 (B) খালি (I) নম্বর নিষ্কর্ষ ঠিক স্ত।
 (C) (I) অথবা (II) কুনৈ পনি নিষ্কর্ষ ঠিক স্তৈন।
 (D) খালি (II) নম্বর নিষ্কর্ষ ঠিক স্ত।

32. নিম্নলিখিত কোন রাজ্যে সহ্যাদ্রি পর্বতমালা অবস্থিত?

- (A) রাজস্থান
 (B) উত্তরপ্রদেশ
 (C) মহারাষ্ট্র
 (D) বিহার

নিম্নলিখিত কুনচার্হি রাজ্যমা সাহ্যাদ্রি পর্বতমালা
 অবস্থিত স্ত?

- (A) রাজস্থান
 (B) উত্তরপ্রদেশ
 (C) মহারাষ্ট্র
 (D) বিহার

33. Which of the given choices will be the proper word to fill the blank?

These medicines are _____ for curing cold.

- (A) effective
 (B) proper
 (C) capable
 (D) real

34. নীচের দেওয়া চারটি সংখ্যার মধ্যে তিনটি কোনো একটি যুক্তির দ্বারা আবদ্ধ, একটি সেই যুক্তির বাইরে আছে। সেই সংখ্যাটি নির্ণয় করুন।

- (A) 96
 (B) 72
 (C) 28
 (D) 82

তল দিএকো চারবটা সংখ্যা মধ্যে তীনবটা কুনৈ এডটা
 তর্কমাথি আধারিত স্ত। এডটা ত্যস তর্ক দৈখি বাহির স্ত। ত্যস
 সংখ্যাকো নির্ণয় গর্নুহোস্।

- (A) 96
 (B) 72
 (C) 28
 (D) 82

বাংলা

adda247

35. ইউরো শব্দটি নিম্নলিখিত কীসের সঙ্গে সম্পর্কিত?

- (A) ধর্ম
 (B) অর্থনীতি
 (C) বিচারব্যবস্থা
 (D) সৈন্যবাহিনী

যুরো (Euro) শব্দ নিম্নলিখিত কে সৈগ সম্বন্ধিত স্ত?

- (A) ধর্ম
 (B) অর্থনীতি
 (C) বিচার-ব্যবস্থা
 (D) সেনাবাহিনী

36. কোনো একটি নির্বাচনে দুই প্রার্থীর মধ্যে একজন মোট বৈধ ভোটের 60% পান। ওই নির্বাচনে $\frac{1}{6}$ অংশ ভোট বাতিল হিসাবে গণ্য হয়। যদি মোট ভোটারের সংখ্যা 600 হয়, তবে অন্য প্রার্থী মোট কতগুলি বৈধ ভোট পেয়েছিলেন?

- (A) 100
(B) 25
(C) 200
(D) 50

কুই এডা নির্বাচনমা, দুই জনা প্রার্থী মধ্যে একজনালে জম্মা জায়জ ভোটকো 60% পায়ো। ত্যহী নির্বাচনমা জম্মা $\frac{1}{6}$ ভোট চাহিঁ অবৈধ থিয়ো। যদি জম্মা ভোটকো সংখ্যা 600 থিয়ো भने, अर्को प्रार्थीले कतिवटा जयज भोट पायो?

- (A) 100
(B) 25
(C) 200
(D) 50

37. একই আমানতের উপর একই সরল সুদের হারে প্রাপ্ত 6 এবং 9 বছরের সুদের পরিমাণের অনুপাত কত?

- (A) 2 : 3
(B) 1 : 3
(C) তথ্য অসম্পূর্ণ
(D) 3 : 2

এডা রকমকা সাধারণ व्याजको दरले 6 वर्ष एवं 9 वर्षमा व्याजको परिमाणको अनुपात कति हो?

- (A) 2 : 3
(B) 1 : 3
(C) तथ्य अधुरो
(D) 3 : 2

38. Any part of the following sentence may have error. Find out which part of the sentence has an error or no error.

The captain along with his team / are practicing very hard / for the forthcoming match.

- (A) for the forthcoming match.
(B) The captain along with his team
(C) No error
(D) are practicing very hard

39. नीचे एकटि युक्तिनिर्भर संख्यार सिरिज देओया आछे। कौन संख्याटि नीचेर सिरिजटिके सम्पूर्ण करबे?

- 4, 6, 10, 16, 24, ?
(A) 28
(B) 40
(C) 30
(D) 34

तल दिएको संख्या श्रृङ्खलामा तर्क छ। कुनचाहिँ संख्याले निम्नलिखित श्रृङ्खलालाई पूर्ण गर्नु सक्छ?

- 4, 6, 10, 16, 24, ?
(A) 28
(B) 40
(C) 30
(D) 34

40. निम्नलिखित कौन राज्याटि आयतनेर निरिखे भारतवर्षे बृहन्तम?

- (A) राजस्थान
(B) उत्तरप्रदेश
(C) महाराष्ट्र
(D) बिहार

निम्नलिखित कुनचाहिँ राज्य क्षेत्रफल अनुसार सबैभन्दा ठूलो हो?

- (A) राजस्थान
(B) उत्तरप्रदेश
(C) महाराष्ट्र
(D) बिहार

41. पुस्तकलेखक एकैसाँ साहित्य मन्त्रालय तर्फबाट लेखक श्रेणीको रूपमा आफूलाई घोषणा गर्नुपर्ने कानूनिक प्रक्रियाको नाम के हो? तसर्थ, पुस्तकलेखकहरूको श्रेणीको रूपमा आफूलाई घोषणा गर्नका लागि लेखकले मन्त्रालय तर्फबाट लेखक श्रेणीको रूपमा आफूलाई घोषणा गर्नुपर्ने कानूनिक प्रक्रियाको नाम के हो?

- (A) ११
- (B) १२
- (C) १३
- (D) १४

42. Choose the correct meaning of the underlined idiom from the given alternatives.
At a party, he is always in high spirits.

- (A) ११
- (B) १२
- (C) १३
- (D) १४

- (A) drunk
- (B) talkative
- (C) uncontrollable
- (D) cheerful

43. 'शिशु' विनिर्दिष्ट किस प्रकारको वृक्षको उदाहरण हो?

- (A) सदाहरु
- (B) उष्णकटिबंधी वृक्ष
- (C) पर्वतीय
- (D) उष्णकटिबंधी पर्णपाती

'सिसु' वृक्ष निम्नलिखित कुनैपनि प्रकारको वृक्ष हो?

- (A) कच्छ वनस्पति वृक्ष (Mangrove Tree)
- (B) उष्णकटिबंधी तापमान राख्ने सधैं हरियो रहने वृक्ष (Tropical Evergreen Tree)
- (C) पर्वतीय वृक्ष (Mountainous Tree)
- (D) पर्णपाती वृक्ष (Deciduous Tree)

44. यदि 'Green' माने 'Yellow', 'Yellow' माने 'White', 'White' माने 'Red', 'Red' माने 'Violet', 'Violet' माने 'Black' हो, तब मानुषको रक्तको रङ्ग के हो?

- (A) Violet
- (B) Red
- (C) Black
- (D) Green

यदि 'Green' को मतलब 'Yellow', 'Yellow' को मतलब 'White', 'White' को मतलब 'Red', 'Red' को मतलब 'Violet', 'Violet' को मतलब 'Black' हो भने, मानुषको रक्तको रंग के हो?

- (A) Violet
- (B) Red
- (C) Black
- (D) Green

45. Any part of the following sentence may have error. Find out which part of the sentence has an error or no error.

Supposing if / it rains / what shall we do?

- (A) what shall we do?
- (B) Supposing if
- (C) No error
- (D) it rains

46. कत बहुरे 450 टाकाको वार्षिक 4-5% हारे सरल सुद 81 टाका हो?

- (A) 3
- (B) 1
- (C) 4
- (D) 2

450 रुपियाँ 4-5% को प्रति वर्षको साधारण व्याजको दरले कति वर्षमा 81 रुपियाँ हुन्छ?

- (A) 3
- (B) 1
- (C) 4
- (D) 2

47. Choose the correctly spelt word.

- (A) Boquett
(B) Bouquete
(C) Bouquette
(D) Bouquet

48. একটি সংকেতে BOARD হল 53169 এবং NEAR হল 2416। সেই সংকেতে NODE কী হবে?

- (A) 2934
(B) 2394
(C) 2694
(D) 2894

এটা নিশ্চিত সঙ্কেতমা BOARD লাই 53169 লেখিছ। অনি NEAR লাই 2416 লেখিছ। ত্যহী সঙ্কেতমা NODE লাই কসরী লেখিছ?

- (A) 2934
(B) 2394
(C) 2694
(D) 2894

49. Choose the correct meaning of the underlined idiom from the given alternatives.

We should guard against our green-eyed friends.

- (A) handsome
(B) poor
(C) enthusiastic
(D) jealous

50. কোন শহর 'ভারতের ম্যানচেস্টার' নামে বিখ্যাত ছিল?

- (A) আহমেদাবাদ
(B) সুরাট
(C) গান্ধীনগর
(D) ভাদোদরা

কুনচাহিঁ শহর 'ভারতকো ম্যান্‌বসটর' ধনেৰ প্রসিদ্ধ থিয়ো?

- (A) অহমদাবাদ
(B) সুরত
(C) গাঁধীনগর
(D) ভদৌদরা

51. 1853 সালে প্রথম রেলপথ নিম্নোক্ত কোন রাজ্যে স্থাপিত হয়েছিল?

- (A) রাজস্থান
(B) উত্তরপ্রদেশ
(C) মহারাষ্ট্র
(D) বিহার

1853 সালমা কুনচাহিঁ রাজ্যমা পহিলো পটক রেললাইনকো স্থাপনা গরিএকো থিয়ো?

- (A) রাজস্থান
(B) উত্তরপ্রদেশ
(C) মহারাষ্ট্র
(D) বিহার

52. নীচের বাক্যটির পরিপ্রেক্ষিতে দুটি গৃহীত সিদ্ধান্ত দেওয়া হল—

বাক্য : $H \geq I = J > K \leq L$

সিদ্ধান্ত : (I) $K < H$

(II) $L \geq I$

- (A) (I) এবং (II) দুটি সিদ্ধান্তই সঠিক।
(B) শুধুমাত্র (I) নং সিদ্ধান্ত সঠিক।
(C) (I) অথবা (II) কোনো সিদ্ধান্তই সঠিক নয়।
(D) শুধুমাত্র (II) নং সিদ্ধান্ত সঠিক।

নিম্নলিখিত কথনকো সন্দর্ভমা দুইবট নিষ্কর্ষ দিএকো

छ :

कथन : $H \geq I = J > K \leq L$

निष्कर्ष : (I) $K < H$

(II) $L \geq I$

- (A) (I) र (II) दुवै निष्कर्ष ठीक छ।
(B) खालि (I) नम्बर निष्कर्ष ठीक छ।
(C) (I) अथवा (II) कुनै पनि निष्कर्ष ठीक छैन।
(D) खालि (II) नम्बर निष्कर्ष ठीक छ।

[Please Turn Over]

53. अमर्त्या सेन निम्नलिखित কোন বিষয়ে তার অবদানের জন্য নোবেল পুরস্কার লাভ করেন?

- (A) ধর্ম
(B) অর্থনীতি
(C) বিচারব্যবস্থা
(D) সৈন্যবাহিনী

অমর্ত্য সেনকে নিম্নলিখিত কোন বিষয়মা যোগদানকো लागि নোবেল পুরস্কার পাएका थिए?

- (A) धर्म
(B) अर्थनीति
(C) विचार-व्यवस्था
(D) सेनाबाहिनी

54. ADER शब्दটি থেকে কতগুলি চার অক্ষরবিশিষ্ট অর্থপূর্ণ শব্দ পাওয়া যেতে পারে, যেখানে প্রতিটি অক্ষর শুধুমাত্র একবারই ব্যবহার করা যাবে?

- (A) 3
(B) 1
(C) 4
(D) 2

ADER শব্দबाट कतिवटा चार अक्षरको अर्थपूर्ण शब्द पाउन सकिन्छ जहाँ प्रत्येक अक्षरलाई एक पटक खालि प्रयोग गर्न सकिन्छ?

- (A) 3
(B) 1
(C) 4
(D) 2

55. अष्टांगिक मार्ग কোন ধর্মের সঙ্গে সম্পর্কিত?


- (A) हिन्दू
(B) बौद्ध
(C) इस्लाम
(D) जैन

अष्टांगिक मार्ग कुनचाहिं धर्म सँग सम्बन्धित छ?

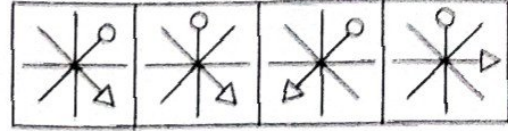
- (A) हिन्दु
(B) बौध
(C) इस्लाम
(D) जैन

56. नीचेर चित्रसारणि परवर्ती चित्रि कौनटि?

चित्रसारणि :



सम्भाव्य परवर्ती चित्र :



1. 2 3 4


- (A) 3
(B) 1
(C) 4
(D) 2

तल दिइएको चित्र तालिकामा परवर्ती चित्र के हुने छ?

चित्र तालिका :



सम्भाव्य परवर्ती चित्र :



1 2 3 4

- (A) 3
(B) 1
(C) 4
(D) 2

57. Choose the correctly spelt word.

- (A) Comittee
(B) Committee
(C) Committe
(D) Commitee

58. ইংরেজ সরকারের পেশ করা ইলবার্ট বিল কীসের সঙ্গে সম্পর্কিত ছিল?

- (A) ধর্ম
- (B) অর্থনীতি
- (C) বিচারব্যবস্থা
- (D) সৈন্যবাহিনী

অंग्रेजी सरकार द्वारा पेश गरिएको इलबर्ट बिल के संग सम्बन्धित थियो?

- (A) धर्म
- (B) अर्थनीति
- (C) विचार-व्यवस्था
- (D) सेनाबাহिनी

60. কুইনাইন নামক উপকার কোন উদ্ভিদ থেকে পাওয়া যায়?

- (A) সর্পগন্ধা
- (B) বেলেচোনা
- (C) পেনিসিলিয়াম
- (D) সিন্দোনা

ক্বিনাইন নামক নিখাদ কুইনাইন বৃক্ষচাট পাছন্ড?

- (A) সর্পগন্ধা
- (B) বেলেচোনা
- (C) পেনিসিলিয়াম
- (D) সীনকোনা

বাংলা

59. স্টেপেজে না থামলে একটি বাস 1 ঘণ্টায় 54 কিমি পথ অতিক্রম করে। স্টেপেজে দাঁড়ালে বাসটি 1 ঘণ্টায় 36 কিমি পথ অতিক্রম করলে, প্রতি ঘণ্টায় বাসটি কত মিনিট স্টেপেজের জন্য দাঁড়ায়?

- (A) 40
- (B) 20
- (C) 50
- (D) 30

बिराममा रोकेन भने एउटा बस । घण्टामा 54 कि॰मि॰ को दूरी पूरा गर्छ । बिराममा रोकेको भने, त्यही बसले 1 घण्टामा 36 कि॰मि॰ को दूरी पूरा गर्छ, त्यसोभा प्रति घण्टामा त्यस बस कति मिनट बिराममा रोकिन्छ?

- (A) 40
- (B) 20
- (C) 50
- (D) 30

61. 180 কিমি দূরত্ব অতিক্রম করতে সমীরের শ্যামের থেকে 2 ঘণ্টা বেশি সময় লাগে। যদি সমীর তার গতিবেগ দ্বিগুণ করে, তবে তার শ্যামের থেকে 1 ঘণ্টা সময় কম লাগে। সমীরের গতিবেগ ঘণ্টায় কত কিমি?

- (A) 40
- (B) 20
- (C) 50
- (D) 30

180 कि॰ मि॰ को दूरी पूर्ण गर्नुको लागि, समीरलाई श्याम भन्दा 2 घण्टा ज्यादा लाग्छ । यदि समीरले आफ्नो गति दुइगुणा बढायो भने, उसलाई श्यामभन्दा 1 घण्टा कम लाग्छ । समीर को गति कति कि॰ मि॰ प्रति घण्टा हो?

- (A) 40
- (B) 20
- (C) 50
- (D) 30

62. 'Sunny Days' কোন বিখ্যাত ক্রিকেটারের আত্মজীবনী?

- (A) সুনীল গাভাসকার
- (B) কপিল দেব
- (C) গুন্ডাম্পা বিশ্বনাথ
- (D) মহেন্দ্র সিং ধোনি

কুনচাহিঁ প্রসিদ্ধ ক্রিকেটরকো জীবন कहानी 'Sunny Days' हो?

- (A) सुनील गावस्कर
- (B) कपिल देव
- (C) गुण्डाम्पा विश्वनाथ
- (D) महेंद्र सिंह धोनि

63. $\sqrt{0.0169} x = 13$ हले, x -एर मान कत ?

- (A) 10000
- (B) 100
- (C) 100000
- (D) 1000

$\sqrt{0.0169} x = 13$ भयो भने, x को मान कति हो?

- (A) 10000
- (B) 100
- (C) 100000
- (D) 1000

64. দুটি সংখ্যার অন্তর 1365। বড়ো সংখ্যাটিকে ছোটো সংখ্যাটির দ্বারা ভাগ করলে ভাগফল 55 এবং ভাগশেষ 15 থাকলে, ছোটো সংখ্যাটি কত ?

- (A) 100
- (B) 25
- (C) 200
- (D) 50

दुइ संख्याको अन्तर 1365 हो। ठूलो संख्यालाई सानो संख्याले भाग गर्‍यो भने, भागफल 55 एवं शेषफल 15 हुनेछ। सानो संख्या कति हो?

- (A) 100
- (B) 25
- (C) 200
- (D) 50

65. नीचेर কোন রাজ्याটির मध्यप्रदेशेर सङ्गे कोनो सीमाना नेई ?

- (A) राजस्थान
- (B) उत्तरप्रदेश
- (C) महाराष्ट्र
- (D) बिहार

निम्नलिखित कुनचाहिँ राज्यको सीमाना मध्यप्रदेश सँगै छैन ?

- (A) राजस्थान
- (B) उत्तरप्रदेश
- (C) महाराष्ट्र
- (D) बिहार

66. কোন রাজ্য द्विखण্ডিত হয়ে ঝাড়খণ্ড রাজ্য গঠিত হয় ?

- (A) राजस्थान
- (B) उत्तरप्रदेश
- (C) महाराष्ट्र
- (D) बिहार

कुनचाहिँ राज्यलाई विभाजन गरेर झारखण्ड राज्यको गठित भएको हो ?

- (A) राजस्थान
- (B) उत्तरप्रदेश
- (C) महाराष्ट्र
- (D) बिहार

67. Choose the correctly spelt word.

- (A) Scisor
- (B) Scissors
- (C) Sisors
- (D) Scisorr

68. 'মেঘনাদবধ কাব্য' কে রচনা করেছিলেন?

- (A) মাইকেল মধুসূদন দত্ত
(B) রবীন্দ্রনাথ ঠাকুর
(C) জয় গোস্বামী
(D) কবি জসীমুদ্দিন

'মেঘনাদবধ কাব্য' को रचना कसले गरेका थिए?

- (A) माइकल मधुसूदन दत्त
(B) रवीन्द्रनाथ टैगोर
(C) जय गोस्वामी
(D) कवि जसीमुद्दिन

69. नाइट्रिक अ्यासिडের रासायनिक संकेत की?

- (A) HNO_3
(B) H_2SO_4
(C) C_6H_5OH
(D) HCl

नाइट्रिक एसिड को रसायनिक संकेत के हो?

- (A) HNO_3
(B) H_2SO_4
(C) C_6H_5OH
(D) HCl

70. महात्मा गांधी चम्पारण नामक ये स्थान থেকে আইন অমান্য আন্দোলন শুরু করেন, সেটি নিম্নলিখিত কোন রাজ্যটিতে অবস্থিত ছিল?

- (A) রাজস্থান
(B) উত্তরপ্রদেশ
(C) মহারাষ্ট্র
(D) বিহার

महात्मा गाँधीले चम्पारण नामक स्थानबाट शुरूगरेको आईन अमान्य आन्दोलन निम्नलिखित कुन राज्यमा अवस्थित छ?

- (A) राजस्थान
(B) उत्तरप्रदेश
(C) महाराष्ट्र
(D) बिहार

71. Which of the given choices will be the proper word to fill the blank?

He told me that he _____ watching the movie.

- (A) had finished
(B) is finished
(C) not finished
(D) was finished

72. What is the opposite word of 'Demolish'?

- (A) Repeat
(B) Shift
(C) Hide
(D) Build

73. ক্ষুদ্রতम पूर्णवर्ग संख्याটি নির্ণয় করো যা 21, 36 ও 66 দ্বারা নিঃশেষে বিভাজ্য হবে।

- (A) 214434
(B) 213444
(C) 231444
(D) 214344

सबैभन्दा स्यानो पूर्णवर्ग संख्या निर्णय गर्नुहोस् जसलाई 21, 36 अनि 66 द्वारा भाग गर्दा शेषफल रहने छैन?

- (A) 214434
(B) 213444
(C) 231444
(D) 214344

74. 'বাংলার আকবর' কাকে বলা হয়?

- (A) শশাঙ্ক
(B) প্রতাপাদিত্য
(C) ইলিয়াস শাহ
(D) হুসেন শাহ

'বঙ্গালকো অকবর' ধর্মের কমলাই চিনিব?

- (A) শশাঙ্ক
(B) প্রতাপাদিত্য
(C) ইলিয়াস শাহ
(D) হুসেন শাহ

75. স্বামী, স্ত্রী ও সন্তানের 3 বছর আগে গড় বয়স 27 বছর ছিল এবং স্ত্রী ও সন্তানের 5 বছর আগে গড় বয়স 20 বছর ছিল। স্বামীর বর্তমান বয়স কত বছর?

- (A) 40
(B) 20
(C) 50
(D) 30

3 वर्ष अघि एउटा लोमने, स्वास्नी र नानीको औसत उमेर 27 वर्ष थियो अनि 5 वर्ष अघि स्वास्नी र नानी को औसत उमेर 20 वर्ष थियो। लोमने को वर्तमान उमेर कति वर्ष हो?

- (A) 40
(B) 20
(C) 50
(D) 30

76. Any part of the following sentence may have error. Find out which part of the sentence has an error or no error.

It was him / who came running / into the classroom.

- (A) into the classroom.
(B) It was him
(C) No error
(D) who came running

77. निम्नलिखित समीकरणটির x স্থানে কী বসবে?

$$\frac{4x}{\sqrt{128}} = \frac{\sqrt{162}}{4x}$$

- (A) 3
(B) 1
(C) 4
(D) 2

নিম্নলিখিত সমীকরণমা, x को स्थानमा के आउँछ?

$$\frac{4x}{\sqrt{128}} = \frac{\sqrt{162}}{4x}$$

- (A) 3
(B) 1
(C) 4
(D) 2

78. What is the opposite word of 'Frailty'?

- (A) Vehemence
(B) Energy
(C) Strength
(D) Intensity

79. निम्नोक्त কোন রাজ্যটিতে विधान परिषद नेई?

- (A) राजस्थान
(B) उत्तरप्रदेश
(C) महाराष्ट्र
(D) बिहार

निम्नलिखित कुनचाहिं राज्यमा विधान परिषद छैन?

- (A) राजस्थान
(B) उत्तरप्रदेश
(C) महाराष्ट्र
(D) बिहार

80. 100 ঘনমিটার কত ঘনমিলিমিটার হয়?

- (A) 10000
- (B) 100
- (C) 100000
- (D) 1000

100 ঘনমিটার কত ঘনমিলিমিটার হুন্ড?

- (A) 10000
- (B) 100
- (C) 100000
- (D) 1000

82. Which of the given choices is synonym of 'Defer'?

- (A) Differ
- (B) Indifferent
- (C) Postpone
- (D) Defy



বাংলা

83. 11 জনের একটি ক্রিকেট টিমের ক্যাপ্টেনের বয়স 33 বছর ও উইকেট রক্ষক তার থেকে 3 বছরের বড়ো। যদি এই দুজনের বয়স টিমের মোট বয়স থেকে বাদ দেওয়া হয়, তবে অবশিষ্ট টিমের গড় বয়স মোট টিমের গড় বয়স থেকে 1 বছর কম হয়। টিমের গড় বয়স কত বছর?

- (A) 40
- (B) 20
- (C) 50
- (D) 30

81. লিয়োনেল মেসি বর্তমানে কোন ক্লাবটিতে ফুটবল খেলেন?

- (A) প্যারিস সাঁ জাঁ
- (B) বার্সেলোনা
- (C) জুভেন্টাস
- (D) রিয়াল মাদ্রিদ

লিয়োনেল মেসি বর্তমানমা কুনচাছি ক্লাবআট ফুটবাল খেলছন?

- (A) পেরিস সন্ত জর্মন
- (B) আর্সিলোনা
- (C) জুভেন্টস
- (D) রিয়ল মাদ্রিড

11 সদস্যকো ক্রিকেট দলকো কপ্তানকো উমের 33 বর্ষ হৌ ধনৈ অনি বিক্রেট ক্রিপ্পর চাছি 3 বর্ষ জেটৌ শু। যদি তৌ দুইজনাকো উমের দলকো জম্মা উমের দেখি আতিল গন্যৌ ধনৈ, বাকী খেলাড়ীকো ঔসত উমের পূর্ণ দলকো ঔসত উমের ধন্দা 1 বর্ষ কম হুন্ড। ত্যস দলকো ঔসত উমের কতি বর্ষ হৌ?

- (A) 40
- (B) 20
- (C) 50
- (D) 30

84. একটি শিবিরে 120 জন পুরুষ বা 200 জন বাচ্চাৰ বাবাব আছে। যদি 150 জন বাচ্চা বাবাব খেয়ে নিয়ে থাকে, তবে অবশিষ্ট বাবাব কতজন পুরুষ খেতে পারবে?

- (A) 40
- (B) 20
- (C) 50
- (D) 30

एउटा क्याम्पमा 120 जना पुरुष व्यक्ति वा 200 जना नानीहरूको लागि खाना छ। यदि 150 जना नानीहरूले खाना खायो भने, कतिजना पुरुष व्यक्तिहरूलाई बाचेको खाना खाउन सकिन्छ?

- (A) 40
- (B) 20
- (C) 50
- (D) 30

85. 'Bull and Bear' এই শব্দবহুটি নিম্নলিখিত কীসের সঙ্গে সম্পর্কিত?

- (A) ধর্ম
- (B) অর্থনীতি
- (C) বিচারব্যবস্থা
- (D) সৈন্যবাহিনী

'Bull and Bear' शब्द समूह निम्नलिखित के संग सम्बन्धित छ?

- (A) धर्म
- (B) अर्थनीति
- (C) विचार-व्यवस्था
- (D) सेनाबाहिनी



বাংলা

adda247